

Education Consultant India Ltd.

Notations :

- 1.Options shown in green color and with ✓ icon are correct.
- 2.Options shown in red color and with ✘ icon are incorrect.

| | |
|---|-------------------------------------|
| Question Paper Name: | Nursing Officer 28th August 2019 S2 |
| Subject Name: | Nursing Officer |
| Creation Date: | 2019-08-29 15:35:37 |
| Duration: | 120 |
| Total Marks: | 200 |
| Display Marks: | Yes |
| Share Answer Key With Delivery Engine: | No |
| Actual Answer Key: | Yes |
| Calculator: | None |
| Magnifying Glass Required?: | No |
| Ruler Required?: | No |
| Eraser Required?: | No |
| Scratch Pad Required?: | No |
| Rough Sketch/Notepad Required?: | No |
| Protractor Required?: | No |
| Show Watermark on Console?: | Yes |
| Highlighter: | No |
| Auto Save on Console?: | No |

Mental Ability

| | |
|--|-----------|
| Group Number : | 1 |
| Group Id : | 998367720 |
| Group Maximum Duration : | 0 |
| Group Minimum Duration : | 0 |
| Revisit allowed for view? : | No |
| Revisit allowed for edit? : | No |
| Break time: | 0 |
| Group Marks: | 20 |
| Revisit allowed for group Instructions? : | Yes |
| Maximum Instruction Time: | 0 |
| Minimum Instruction Time: | 0 |

Mental Ability

| | |
|---|-----------|
| Section Id : | 998367841 |
| Section Number : | 1 |
| Section type : | Online |
| Mandatory or Optional: | Mandatory |
| Number of Questions: | 20 |
| Number of Questions to be attempted: | 20 |
| Section Marks: | 20 |

Display Number Panel: Yes
Group All Questions: No

Sub-Section Number: 1
Sub-Section Id: 9983671067
Question Shuffling Allowed : Yes

Question Number : 1 Question Id : 99836719719 Question Type : MCQ Option Shuffling : Yes Display Question Number : Yes
Single Line Question Option : No Option Orientation : Vertical

Correct Marks : 1 Wrong Marks : 0.25

Some letters are numbered as 1,2,3,4,5 and 6. In the options, four possible arrangements of these numbers are given. Choose the option so that the letters form a meaningful word.

R E O F T S

1 2 3 4 5 6

Options :

1. ✘ 615423
2. ✔ 436521
3. ✘ 261534
4. ✘ 521364

Question Number : 1 Question Id : 99836719719 Question Type : MCQ Option Shuffling : Yes Display Question Number : Yes
Single Line Question Option : No Option Orientation : Vertical

Correct Marks : 1 Wrong Marks : 0.25

कुछ अक्षरों को 1,2,3,4,5 और 6 क्रमांक दिए गये हैं। विकल्पों में, इन संख्याओं की चार संभावित व्यवस्थाएँ दी गई हैं। उस विकल्प का चयन करें ताकि अक्षर एक सार्थक शब्द बन सकें।

R E O F T S

1 2 3 4 5 6

Options :

1. ✘ 615423
2. ✔ 436521
3. ✘ 261534
4. ✘ 521364

Question Number : 2 Question Id : 99836719720 Question Type : MCQ Option Shuffling : Yes Display Question Number : Yes
Single Line Question Option : No Option Orientation : Vertical

Correct Marks : 1 Wrong Marks : 0.25

Out of the given options, three are similar in a certain manner. However, one option is NOT like the other three. Select the option which is different from the rest.

Options :

1. ✘ FIM
2. ✔ NQT
3. ✘ DGK
4. ✘ WZD

Question Number : 2 Question Id : 99836719720 Question Type : MCQ Option Shuffling : Yes Display Question Number : Yes
Single Line Question Option : No Option Orientation : Vertical

Correct Marks : 1 Wrong Marks : 0.25

दिए गए विकल्पों में से, तीन एक निश्चित तरीके से समान हैं। हालाँकि, एक विकल्प अन्य तीन की तरह नहीं है। उस विकल्प का चयन करें जो बाकी से अलग है।

Options :

1. ✘ FIM
2. ✔ NQT
3. ✘ DGK
4. ✘ WZD

Question Number : 3 Question Id : 99836719721 Question Type : MCQ Option Shuffling : Yes Display Question Number : Yes
Single Line Question Option : No Option Orientation : Vertical

Correct Marks : 1 Wrong Marks : 0.25

Out of the given options, three are similar in a certain manner. However, one option is NOT like the other three. Select the option which is different from the rest.

Options :

1. ✔ Ostrich
2. ✘ Sparrow
3. ✘ Crow
4. ✘ Pigeon

Question Number : 3 Question Id : 99836719721 Question Type : MCQ Option Shuffling : Yes Display Question Number : Yes
Single Line Question Option : No Option Orientation : Vertical

Correct Marks : 1 Wrong Marks : 0.25

दिए गए विकल्पों में से, तीन एक निश्चित तरीके से समान हैं। हालाँकि, एक विकल्प अन्य तीन की तरह नहीं है। उस विकल्प का चयन करें जो बाकी से अलग है।

Options :

1. ✔ शतुरमुर्ग
2. ✘ गौरैया
3. ✘ कौआ
4. ✘ कबूतर

Question Number : 4 Question Id : 99836719722 Question Type : MCQ Option Shuffling : Yes Display Question Number : Yes
Single Line Question Option : No Option Orientation : Vertical

Correct Marks : 1 Wrong Marks : 0.25

Select the option that is related to the third term on the same basis as the second term is related to the first term.

VXZ : SUW :: PRT : ?

Options :

1. ✘ VTZ
2. ✘ NPS
3. ✔ MOQ
4. ✘ PNR

Question Number : 4 Question Id : 99836719722 Question Type : MCQ Option Shuffling : Yes Display Question Number : Yes
Single Line Question Option : No Option Orientation : Vertical

Correct Marks : 1 Wrong Marks : 0.25

उस विकल्प का चयन करें जो तीसरे पद से उसी प्रकार से संबंधित है जिस प्रकार से पहला पद दूसरे पद से संबंधित है।

VXZ : SUW :: PRT : ?

Options :

1. ✘ VTZ
2. ✘ NPS
3. ✔ MOQ
4. ✘ PNR

Question Number : 5 Question Id : 99836719723 Question Type : MCQ Option Shuffling : Yes Display Question Number : Yes
Single Line Question Option : No Option Orientation : Vertical

Correct Marks : 1 Wrong Marks : 0.25

If *#+ means Seema is pretty, - percent# means pretty and beautiful, -? means beautiful girl, what is the code for 'and'?

Options :

1. ✘ #
2. ✘ *
3. ✔ percent
4. ✘ -

Question Number : 5 Question Id : 99836719723 Question Type : MCQ Option Shuffling : Yes Display Question Number : Yes
Single Line Question Option : No Option Orientation : Vertical

Correct Marks : 1 Wrong Marks : 0.25

यदि *#+ का अर्थ है Seema is pretty, - प्रतिशत# का अर्थ है pretty and beautiful, -? का अर्थ है beautiful girl, तो 'and' के लिए कोड क्या है?

Options :

1. ✘ #
2. ✘ *
3. ✔ प्रतिशत
4. ✘ -

Question Number : 6 Question Id : 99836719724 Question Type : MCQ Option Shuffling : Yes Display Question Number : Yes
Single Line Question Option : No Option Orientation : Vertical

Correct Marks : 1 Wrong Marks : 0.25

If ALBUM is coded as EPFYQ, then what will BLACK be coded as?

Options :

1. ✘ CMBDL
2. ✘ EODFN
3. ✔ FPEGO
4. ✘ GQFHP

Question Number : 6 Question Id : 99836719724 Question Type : MCQ Option Shuffling : Yes Display Question Number : Yes
Single Line Question Option : No Option Orientation : Vertical

Correct Marks : 1 Wrong Marks : 0.25

यदि ALBUM को EPFYQ के रूप में कोडित किया जाता है, तो BLACK को कैसे कोडित किया जाएगा?

Options :

1. ✘ CMBDL
2. ✘ EODFN
3. ✔ FPEGO
4. ✘ GQFHP

Question Number : 7 Question Id : 99836719725 Question Type : MCQ Option Shuffling : Yes Display Question Number : Yes
Single Line Question Option : No Option Orientation : Vertical

Correct Marks : 1 Wrong Marks : 0.25

Five girls took part in a race. Rashi finished before Manisha but behind Garima. Ankita finished before Sakshi but behind Manisha. Who won the race?

Options :

1. ✘ Rashi
2. ✔ Garima
3. ✘ Manisha
4. ✘ Ankita

Question Number : 7 Question Id : 99836719725 Question Type : MCQ Option Shuffling : Yes Display Question Number : Yes Single Line Question Option : No Option Orientation : Vertical

Correct Marks : 1 Wrong Marks : 0.25

एक दौड़ में पाँच लड़कियों ने हिस्सा लिया। राशी ने मनीषा से पहले लेकिन गरिमा के बाद दौड़ पूर्ण की। अंकिता ने साक्षी से पहले लेकिन मनीषा के बाद दौड़ पूर्ण की। वह दौड़ किसने जीती?

Options :

1. ✘ राशि
2. ✔ गरिमा
3. ✘ मनीषा
4. ✘ अंकिता

Question Number : 8 Question Id : 99836719726 Question Type : MCQ Option Shuffling : Yes Display Question Number : Yes Single Line Question Option : No Option Orientation : Vertical

Correct Marks : 1 Wrong Marks : 0.25

Read the given statement and conclusions carefully. Assuming that the information in the statement is true, even if they appear to be in variance with commonly known facts, select which of the conclusions logically follow(s) from the statement beyond reasonable doubt.

Statements:

- I. Some parrots are peacocks.
- II. Some crows are peacocks.

Conclusions:

- I. Some peacocks are parrots.
- II. Some peacocks are crows.

Options :

1. ✘ Only Conclusion I follows.
2. ✘ Only Conclusion II follows.
3. ✘ Neither of the conclusion follows.
4. ✔ Both conclusion I and II follows.

Question Number : 8 Question Id : 99836719726 Question Type : MCQ Option Shuffling : Yes Display Question Number : Yes Single Line Question Option : No Option Orientation : Vertical

Correct Marks : 1 Wrong Marks : 0.25

दिए गए कथन और निष्कर्षों को ध्यान से पढ़ें। यह मानते हुए कि कथन में दी गई जानकारी सत्य है, भले ही वे सामान्यतः ज्ञात तथ्यों के साथ विचरण करते हुए दिखाई देते हों, उस निष्कर्ष का चयन करें जो उचित संदेह से परे उस कथन का तार्किक रूप से अनुसरण करें।

कथन:-

- I. कुछ तोते मोर हैं।
- II. कुछ कौवे मोर हैं।

निष्कर्ष:-

- I. कुछ मोर तोते हैं।
- II. कुछ मोर कौवे हैं।

Options :

- ✘ केवल निष्कर्ष I अनुसरण करता है
- ✘ केवल निष्कर्ष II अनुसरण करता है
- ✘ कोई भी निष्कर्ष अनुसरण नहीं करता
- ✔ I और II दोनों अनुसरण करते हैं

Question Number : 9 Question Id : 99836719727 Question Type : MCQ Option Shuffling : Yes Display Question Number : Yes
Single Line Question Option : No Option Orientation : Vertical

Correct Marks : 1 Wrong Marks : 0.25

Out of the given options, three are similar in a certain manner. However, one option is NOT like the other three. Select the option which is different from the rest.

Options :

- ✔ 651
- ✘ 729
- ✘ 529
- ✘ 441

Question Number : 9 Question Id : 99836719727 Question Type : MCQ Option Shuffling : Yes Display Question Number : Yes
Single Line Question Option : No Option Orientation : Vertical

Correct Marks : 1 Wrong Marks : 0.25

दिए गए विकल्पों में से, तीन एक निश्चित तरीके से समान हैं हालाँकि, एक विकल्प अन्य तीन की तरह नहीं है उस विकल्प का चयन करें जो बाकी से अलग है

Options :

- ✔ 651
- ✘ 729
- ✘ 529
- ✘ 441

Question Number : 10 Question Id : 99836719728 Question Type : MCQ Option Shuffling : Yes Display Question Number : Yes
Single Line Question Option : No Option Orientation : Vertical

Correct Marks : 1 Wrong Marks : 0.25

Select the option that is related to the third number on the same basis as the second number is related to the first number.

13 : 0.07692 :: 14 : ?

Options :

- ✘ 0.07569
- ✘ 0.08143
- ✔ 0.07143
- ✘ 0.7128

Question Number : 10 Question Id : 99836719728 Question Type : MCQ Option Shuffling : Yes Display Question Number : Yes
Single Line Question Option : No Option Orientation : Vertical

Correct Marks : 1 Wrong Marks : 0.25

उस विकल्प का चयन करें जो तीसरी संख्या से उसी प्रकार से संबंधित है जिस प्रकार से दूसरी संख्या पहली संख्या से संबंधित है

13 : 0.07692 :: 14 : ?

Options :

- ✘ 0.07569
- ✘ 0.08143

3. ✓ 0.07143

4. ✗ 0.7128

Question Number : 11 Question Id : 99836719729 Question Type : MCQ Option Shuffling : Yes Display Question Number : Yes Single Line Question Option : No Option Orientation : Vertical

Correct Marks : 1 Wrong Marks : 0.25

Which two signs should be interchanged to make the below equation mathematically correct?

$$(50 + 6) - 8 \times 3 \div 3 = 18$$

Options :

1. ✗ \times, \div

2. ✓ $-, \div$

3. ✗ $+, -$

4. ✗ $+, \div$

Question Number : 11 Question Id : 99836719729 Question Type : MCQ Option Shuffling : Yes Display Question Number : Yes Single Line Question Option : No Option Orientation : Vertical

Correct Marks : 1 Wrong Marks : 0.25

नीचे दिए गए समीकरण को गणितीय रूप से सही बनाने के लिए किन दो चिन्हों को परस्पर स्थानांतरित करना चाहिए?

$$(50 + 6) - 8 \times 3 \div 3 = 18$$

Options :

1. ✗ \times, \div

2. ✓ $-, \div$

3. ✗ $+, -$

4. ✗ $+, \div$

Question Number : 12 Question Id : 99836719730 Question Type : MCQ Option Shuffling : Yes Display Question Number : Yes Single Line Question Option : No Option Orientation : Vertical

Correct Marks : 1 Wrong Marks : 0.25

Which two numbers should be interchanged to make the below equation mathematically correct?

$$7 \times 2 + 12 \div 4 - 3 = 14$$

Options :

1. ✗ 7, 4

2. ✗ 12, 3

3. ✓ 4, 3

4. ✗ 7, 3

Question Number : 12 Question Id : 99836719730 Question Type : MCQ Option Shuffling : Yes Display Question Number : Yes Single Line Question Option : No Option Orientation : Vertical

Correct Marks : 1 Wrong Marks : 0.25

नीचे दिए गए समीकरण को गणितीय रूप से सही बनाने के लिए किन दो संख्याओं को स्थानांतरित किया जाना चाहिए?

$$7 \times 2 + 12 \div 4 - 3 = 14$$

Options :

1. ✗ 7, 4

2. ✗ 12, 3

3. ✓ 4, 3

4. ✗ 7, 3

Question Number : 13 Question Id : 99836719731 Question Type : MCQ Option Shuffling : Yes Display Question Number : Yes
Single Line Question Option : No Option Orientation : Vertical

Correct Marks : 1 Wrong Marks : 0.25

Find the missing number in the following number series.

243, -81, _____, -9, 3

Options :

1. ✘ -27
2. ✔ 27
3. ✘ 33
4. ✘ -33

Question Number : 13 Question Id : 99836719731 Question Type : MCQ Option Shuffling : Yes Display Question Number : Yes
Single Line Question Option : No Option Orientation : Vertical

Correct Marks : 1 Wrong Marks : 0.25

निम्नलिखित संख्या श्रेणी में गायब संख्या ज्ञात करें।

243, -81, _____, -9, 3

Options :

1. ✘ -27
2. ✔ 27
3. ✘ 33
4. ✘ -33

Question Number : 14 Question Id : 99836719732 Question Type : MCQ Option Shuffling : Yes Display Question Number : Yes
Single Line Question Option : No Option Orientation : Vertical

Correct Marks : 1 Wrong Marks : 0.25

If $12\$3 = 51$, $14\$2 = 43$, $16\$4 = 79$, then what is the value of $17\$3$?

Options :

1. ✘ 61
2. ✘ 51
3. ✔ 66
4. ✘ 54

Question Number : 14 Question Id : 99836719732 Question Type : MCQ Option Shuffling : Yes Display Question Number : Yes
Single Line Question Option : No Option Orientation : Vertical

Correct Marks : 1 Wrong Marks : 0.25

यदि $12\$3 = 51$, $14\$2 = 43$, $16\$4 = 79$, तो $17\$3$ का मूल्य क्या है?

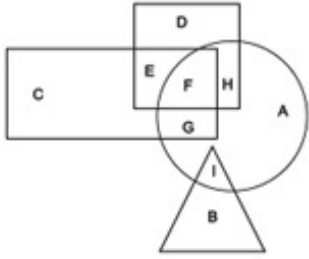
Options :

1. ✘ 61
2. ✘ 51
3. ✔ 66
4. ✘ 54

Question Number : 15 Question Id : 99836719733 Question Type : MCQ Option Shuffling : Yes Display Question Number : Yes
Single Line Question Option : No Option Orientation : Vertical

Correct Marks : 1 Wrong Marks : 0.25

In the following figure, triangle represents artists, square represents military officers, circle represents stamp collectors and rectangle represents fathers. Which set of letters represents stamp collectors who are military officers?



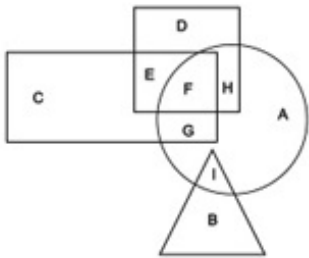
Options :

1. ✗ IG
2. ✗ GF
3. ✗ GFH
4. ✓ FH

Question Number : 15 Question Id : 99836719733 Question Type : MCQ Option Shuffling : Yes Display Question Number : Yes Single Line Question Option : No Option Orientation : Vertical

Correct Marks : 1 Wrong Marks : 0.25

निम्नलिखित आकृति में, त्रिकोण कलाकारों का प्रतिनिधित्व करता है, वर्ग सैन्य अधिकारियों का प्रतिनिधित्व करता है, वृत्त स्टैम्प कलेक्टरों का प्रतिनिधित्व करता है और आयत पिताओं का प्रतिनिधित्व करता है। अक्षरों का कौन सा सेट उन स्टैम्प कलेक्टरों का प्रतिनिधित्व करता है जो सैन्य अधिकारी हैं?



Options :

1. ✗ IG
2. ✗ GF
3. ✗ GFH
4. ✓ FH

Question Number : 16 Question Id : 99836719734 Question Type : MCQ Option Shuffling : Yes Display Question Number : Yes Single Line Question Option : No Option Orientation : Vertical

Correct Marks : 1 Wrong Marks : 0.25

Two men Kashish and Yash start from the same point. Kashish walks 0.3 km west, then turns north and walks 0.45 m, then turns to his right and walks 0.6 km. At the same time, Yash walks 0.1 km east, then turns left and walks 0.45 km. Where is Yash now with respect to the current position of Kashish?

Options :

1. ✗ 0.2 km east
2. ✓ 0.2 km west
3. ✗ 0.5 km east
4. ✗ 0.5 km west

Question Number : 16 Question Id : 99836719734 Question Type : MCQ Option Shuffling : Yes Display Question Number : Yes Single Line Question Option : No Option Orientation : Vertical

Correct Marks : 1 Wrong Marks : 0.25

दो पुरुष कशिश और यश एक ही बिंदु से चलना शुरू करते हैं। कशिश 0.3 km पश्चिम की ओर, फिर उत्तर की ओर मुड़ता है और 0.45 m चलता है, फिर अपनी दाईं ओर मुड़ता है और 0.6 km चलता है। उसी समय, यश 0.1 km पूर्व में चलता है, फिर बाएं मुड़ता है और 0.45 km चलता है। यश, कशिश के वर्तमान बिंदु से कितनी दूर और किस दिशा में है?

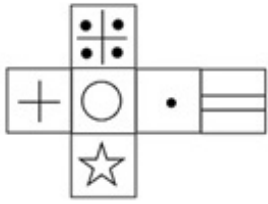
Options :

1. ✘ 0.2 km पूर्व
2. ✔ 0.2 km पश्चिम
3. ✘ 0.5 km पूर्व
4. ✘ 0.5 km पश्चिम

Question Number : 17 Question Id : 99836719735 Question Type : MCQ Option Shuffling : Yes Display Question Number : Yes Single Line Question Option : No Option Orientation : Vertical

Correct Marks : 1 Wrong Marks : 0.25

Which of the following cubes in the answer figure CANNOT be made based on the unfolded cube in the question figure?



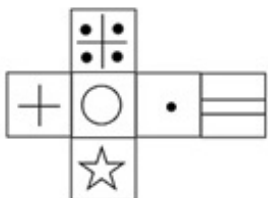
Options :



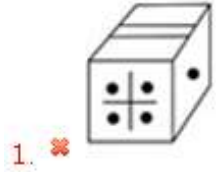
Question Number : 17 Question Id : 99836719735 Question Type : MCQ Option Shuffling : Yes Display Question Number : Yes Single Line Question Option : No Option Orientation : Vertical

Correct Marks : 1 Wrong Marks : 0.25

उत्तर आकृति में किस घन को प्रश्न आकृति में प्रकट घन के आधार पर नहीं बनाया जा सकता है?



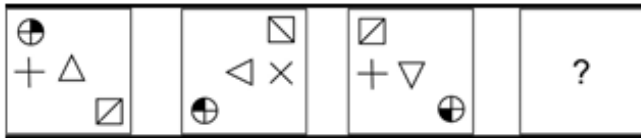
Options :



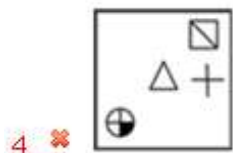
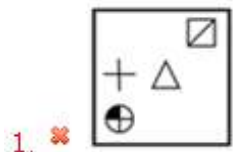
Question Number : 18 Question Id : 99836719736 Question Type : MCQ Option Shuffling : Yes Display Question Number : Yes Single Line Question Option : No Option Orientation : Vertical

Correct Marks : 1 Wrong Marks : 0.25

Which of the following answer figure completes the series of the question figure?



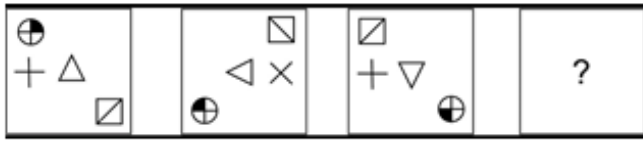
Options :



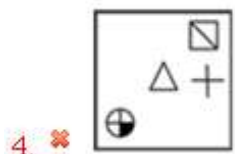
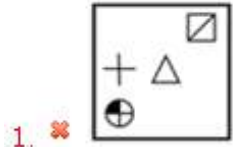
Question Number : 18 Question Id : 99836719736 Question Type : MCQ Option Shuffling : Yes Display Question Number : Yes
 Single Line Question Option : No Option Orientation : Vertical

Correct Marks : 1 Wrong Marks : 0.25

निम्नलिखित में से कौन सी उत्तर आकृति प्रश्न आकृति की श्रृंखला को पूरा करती है?



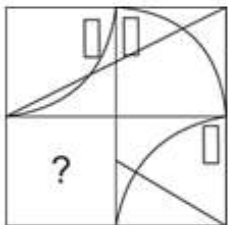
Options :



Question Number : 19 Question Id : 99836719737 Question Type : MCQ Option Shuffling : Yes Display Question Number : Yes
 Single Line Question Option : No Option Orientation : Vertical

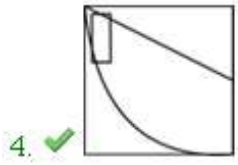
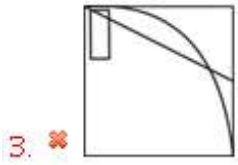
Correct Marks : 1 Wrong Marks : 0.25

Which answer figure will complete the pattern in the question figure?



Options :

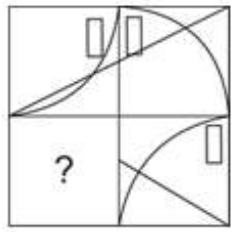




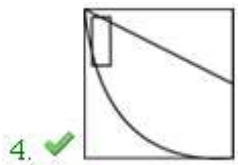
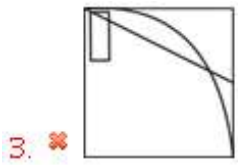
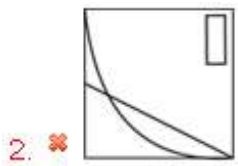
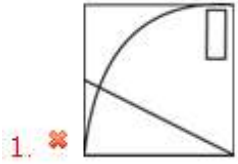
Question Number : 19 Question Id : 99836719737 Question Type : MCQ Option Shuffling : Yes Display Question Number : Yes
Single Line Question Option : No Option Orientation : Vertical

Correct Marks : 1 Wrong Marks : 0.25

कौन सी उत्तर आकृति प्रश्न आकृति में पैटर्न को पूरा करेगी?



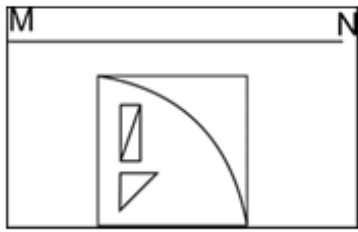
Options :



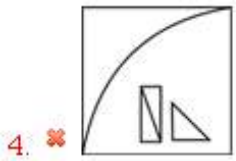
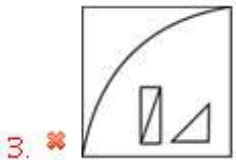
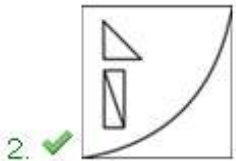
Question Number : 20 Question Id : 99836719738 Question Type : MCQ Option Shuffling : Yes Display Question Number : Yes
Single Line Question Option : No Option Orientation : Vertical

Correct Marks : 1 Wrong Marks : 0.25

If a mirror is placed on the line MN, then which of the answer figures will be the right mirror image of the given figure?



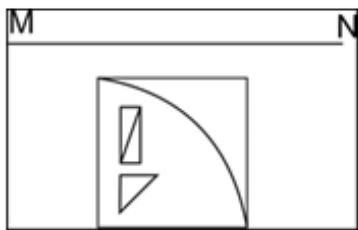
Options :



Question Number : 20 Question Id : 99836719738 Question Type : MCQ Option Shuffling : Yes Display Question Number : Yes
Single Line Question Option : No Option Orientation : Vertical

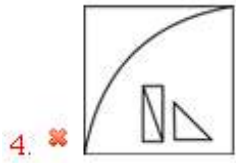
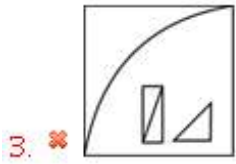
Correct Marks : 1 Wrong Marks : 0.25

यदि एक दर्पण को रेखा MN पर रखा गया है, तो कौन सी उत्तर आकृति दी गई आकृति का सही दर्पण प्रतिबिंब होगा?



Options :





General Awareness

| | |
|---|-----------|
| Group Number : | 2 |
| Group Id : | 998367721 |
| Group Maximum Duration : | 0 |
| Group Minimum Duration : | 0 |
| Revisit allowed for view? : | No |
| Revisit allowed for edit? : | No |
| Break time: | 0 |
| Group Marks: | 20 |
| Revisit allowed for group Instructions? : | Yes |
| Maximum Instruction Time: | 0 |
| Minimum Instruction Time: | 0 |

General Awareness

| | |
|--------------------------------------|-----------|
| Section Id : | 998367842 |
| Section Number : | 1 |
| Section type : | Online |
| Mandatory or Optional: | Mandatory |
| Number of Questions: | 20 |
| Number of Questions to be attempted: | 20 |
| Section Marks: | 20 |
| Display Number Panel: | Yes |
| Group All Questions: | No |

| | |
|------------------------------|------------|
| Sub-Section Number: | 1 |
| Sub-Section Id: | 9983671068 |
| Question Shuffling Allowed : | Yes |

Question Number : 21 Question Id : 99836719739 Question Type : MCQ Option Shuffling : Yes Display Question Number : Yes
Single Line Question Option : No Option Orientation : Vertical

Correct Marks : 1 Wrong Marks : 0.25

With which of the following states Bardo Chham dance is associated?

Options :

- ✘ Rajasthan
- ✘ Assam
- ✔ Arunachal Pradesh

4. ✖ Bihar

Question Number : 21 Question Id : 99836719739 Question Type : MCQ Option Shuffling : Yes Display Question Number : Yes
Single Line Question Option : No Option Orientation : Vertical

Correct Marks : 1 Wrong Marks : 0.25

बरदो छम नृत्य निम्नलिखित में से किस राज्य के साथ जुड़ा है?

Options :

1. ✖ राजस्थान
2. ✖ असम
3. ✔ अरुणाचल प्रदेश
4. ✖ बिहार

Question Number : 22 Question Id : 99836719740 Question Type : MCQ Option Shuffling : Yes Display Question Number : Yes
Single Line Question Option : No Option Orientation : Vertical

Correct Marks : 1 Wrong Marks : 0.25

With which of the following state is Tappa folk music related to?

Options :

1. ✔ Punjab
2. ✖ Uttar Pradesh
3. ✖ Himachal Pradesh
4. ✖ Assam

Question Number : 22 Question Id : 99836719740 Question Type : MCQ Option Shuffling : Yes Display Question Number : Yes
Single Line Question Option : No Option Orientation : Vertical

Correct Marks : 1 Wrong Marks : 0.25

टप्पा लोक संगीत निम्नलिखित में से किस राज्य से संबंधित है?

Options :

1. ✔ पंजाब
2. ✖ उत्तर प्रदेश
3. ✖ हिमाचल प्रदेश
4. ✖ असम

Question Number : 23 Question Id : 99836719741 Question Type : MCQ Option Shuffling : Yes Display Question Number : Yes
Single Line Question Option : No Option Orientation : Vertical

Correct Marks : 1 Wrong Marks : 0.25

Chapchar Kut, which is an annual harvest festival, is associated with which of the following states?

Options :

1. ✖ Madhya Pradesh
2. ✖ Haryana
3. ✔ Mizoram
4. ✖ Andhra Pradesh

Question Number : 23 Question Id : 99836719741 Question Type : MCQ Option Shuffling : Yes Display Question Number : Yes
Single Line Question Option : No Option Orientation : Vertical

Correct Marks : 1 Wrong Marks : 0.25

चापचर कुट, जो एक वार्षिक फसल उत्सव है, निम्नलिखित में से किस राज्य के साथ जुड़ा है?

Options :

1. ✖ मध्य प्रदेश
2. ✖ हरियाणा

3. ✓ मिज़ोरम
4. ✗ आंध्र प्रदेश

Question Number : 24 Question Id : 99836719742 Question Type : MCQ Option Shuffling : Yes Display Question Number : Yes
Single Line Question Option : No Option Orientation : Vertical

Correct Marks : 1 Wrong Marks : 0.25

Which of the following is not a method adopted by RBI to maintain the liquidity of economy?

Options :

1. ✗ Cash Reserve Ratio
2. ✗ Buying/Selling of Govt. Bonds
3. ✗ Repo rate
4. ✓ Buying/Selling of shares

Question Number : 24 Question Id : 99836719742 Question Type : MCQ Option Shuffling : Yes Display Question Number : Yes
Single Line Question Option : No Option Orientation : Vertical

Correct Marks : 1 Wrong Marks : 0.25

निम्नलिखित में से कौन सा वह तरीका नहीं है जो भारतीय रिज़र्व बैंक द्वारा अर्थव्यवस्था की तरलता को बनाए रखने के लिए अपनाया गया है?

Options :

1. ✗ नकद आरक्षित अनुपात
2. ✗ सरकारी बांड की खरीद/बिक्री
3. ✗ रेपो रेट
4. ✓ शेयरों की खरीद/बिक्री

Question Number : 25 Question Id : 99836719743 Question Type : MCQ Option Shuffling : Yes Display Question Number : Yes
Single Line Question Option : No Option Orientation : Vertical

Correct Marks : 1 Wrong Marks : 0.25

_____ is a tax imposed on imports and exports of goods.

Options :

1. ✗ Excise tax
2. ✓ Custom Duty
3. ✗ Sales tax
4. ✗ Service tax

Question Number : 25 Question Id : 99836719743 Question Type : MCQ Option Shuffling : Yes Display Question Number : Yes
Single Line Question Option : No Option Orientation : Vertical

Correct Marks : 1 Wrong Marks : 0.25

_____ माल के आयात और निर्यात पर लगाया जाने वाला कर है

Options :

1. ✗ उत्पाद कर
2. ✓ सीमा शुल्क
3. ✗ विक्री कर
4. ✗ सेवा कर

Question Number : 26 Question Id : 99836719744 Question Type : MCQ Option Shuffling : Yes Display Question Number : Yes
Single Line Question Option : No Option Orientation : Vertical

Correct Marks : 1 Wrong Marks : 0.25

According to Charle's Law, which of the following is constant?

Options :

1. ✗ PV

2. ✓ V/T

3. ✗ PT

4. ✗ P/T

Question Number : 26 Question Id : 99836719744 Question Type : MCQ Option Shuffling : Yes Display Question Number : Yes
Single Line Question Option : No Option Orientation : Vertical

Correct Marks : 1 Wrong Marks : 0.25

चार्ल के नियम के अनुसार, निम्नलिखित में से कौनसा एक स्थिरांक है?

Options :

1. ✗ PV

2. ✓ V/T

3. ✗ PT

4. ✗ P/T

Question Number : 27 Question Id : 99836719745 Question Type : MCQ Option Shuffling : Yes Display Question Number : Yes
Single Line Question Option : No Option Orientation : Vertical

Correct Marks : 1 Wrong Marks : 0.25

Which of the following kingdom does not have a nuclear membrane?

Options :

1. ✓ Monera

2. ✗ Protista

3. ✗ Fungi

4. ✗ Plantae

Question Number : 27 Question Id : 99836719745 Question Type : MCQ Option Shuffling : Yes Display Question Number : Yes
Single Line Question Option : No Option Orientation : Vertical

Correct Marks : 1 Wrong Marks : 0.25

निम्नलिखित में से किस किंगडम में परमाणु झिल्ली नहीं होती?

Options :

1. ✓ मोनेरा

2. ✗ प्रोटिस्टा

3. ✗ कवक

4. ✗ प्लांटी

Question Number : 28 Question Id : 99836719746 Question Type : MCQ Option Shuffling : Yes Display Question Number : Yes
Single Line Question Option : No Option Orientation : Vertical

Correct Marks : 1 Wrong Marks : 0.25

"Strait of Gibraltar" separates _____.

Options :

1. ✗ Algeria and Spain

2. ✗ Algeria and Portugal

3. ✗ Portugal and Morocco

4. ✓ Morocco and Spain

Question Number : 28 Question Id : 99836719746 Question Type : MCQ Option Shuffling : Yes Display Question Number : Yes
Single Line Question Option : No Option Orientation : Vertical

Correct Marks : 1 Wrong Marks : 0.25

"स्ट्रेट ऑफ जिब्राल्टर" _____ को अलग करता है।

Options :

- ✘ अल्जीरिया और स्पेन
- ✘ अल्जीरिया और पुर्तगाल
- ✘ पुर्तगाल और मोरक्को
- ✔ मोरक्को और स्पेन

Question Number : 29 Question Id : 99836719747 Question Type : MCQ Option Shuffling : Yes Display Question Number : Yes
Single Line Question Option : No Option Orientation : Vertical

Correct Marks : 1 Wrong Marks : 0.25

In which of the following states is the Panchet Dam located?

Options :

- ✘ Himachal Pradesh
- ✔ Jharkhand
- ✘ Rajasthan
- ✘ Assam

Question Number : 29 Question Id : 99836719747 Question Type : MCQ Option Shuffling : Yes Display Question Number : Yes
Single Line Question Option : No Option Orientation : Vertical

Correct Marks : 1 Wrong Marks : 0.25

पंचत बांध निम्नलिखित में से किस राज्य में स्थित है?

Options :

- ✘ हिमाचल प्रदेश
- ✔ झारखंड
- ✘ राजस्थान
- ✘ असम

Question Number : 30 Question Id : 99836719748 Question Type : MCQ Option Shuffling : Yes Display Question Number : Yes
Single Line Question Option : No Option Orientation : Vertical

Correct Marks : 1 Wrong Marks : 0.25

In which of the following states is the Khasi hills located?

Options :

- ✘ Assam
- ✘ Manipur
- ✘ Sikkim
- ✔ Meghalaya

Question Number : 30 Question Id : 99836719748 Question Type : MCQ Option Shuffling : Yes Display Question Number : Yes
Single Line Question Option : No Option Orientation : Vertical

Correct Marks : 1 Wrong Marks : 0.25

निम्नलिखित में से किस राज्य में खासी पहाड़ियाँ स्थित हैं?

Options :

- ✘ असम
- ✘ मणिपुर
- ✘ सिक्किम
- ✔ मेघालय

Question Number : 31 Question Id : 99836719749 Question Type : MCQ Option Shuffling : Yes Display Question Number : Yes
Single Line Question Option : No Option Orientation : Vertical

Correct Marks : 1 Wrong Marks : 0.25

When did the Simon Commission arrive in India?

Options :

1. ✓ 1927
2. ✗ 1925
3. ✗ 1930
4. ✗ 1935

Question Number : 31 Question Id : 99836719749 Question Type : MCQ Option Shuffling : Yes Display Question Number : Yes
Single Line Question Option : No Option Orientation : Vertical

Correct Marks : 1 Wrong Marks : 0.25

भारत में साइमन कमीशन कब आया था?

Options :

1. ✓ 1927
2. ✗ 1925
3. ✗ 1930
4. ✗ 1935

Question Number : 32 Question Id : 99836719750 Question Type : MCQ Option Shuffling : Yes Display Question Number : Yes
Single Line Question Option : No Option Orientation : Vertical

Correct Marks : 1 Wrong Marks : 0.25

At which of the following ancient Indian sites was the first astronomical observatory of the Harappan civilisation found?

Options :

1. ✗ Surkotada
2. ✗ Lothal
3. ✓ Dholavira
4. ✗ Dabarkot

Question Number : 32 Question Id : 99836719750 Question Type : MCQ Option Shuffling : Yes Display Question Number : Yes
Single Line Question Option : No Option Orientation : Vertical

Correct Marks : 1 Wrong Marks : 0.25

निम्नलिखित में से किस प्राचीन भारतीय स्थल पर हड़प्पा सभ्यता की पहली खगोलीय वेधशाला पाई गई थी?

Options :

1. ✗ सुरकोटडा
2. ✗ लोथल
3. ✓ धोलावीरा
4. ✗ डाबरकोट

Question Number : 33 Question Id : 99836719751 Question Type : MCQ Option Shuffling : Yes Display Question Number : Yes
Single Line Question Option : No Option Orientation : Vertical

Correct Marks : 1 Wrong Marks : 0.25

In the third battle of Panipat, Marathas were defeated by _____.

Options :

1. ✗ Babur
2. ✗ Humayun
3. ✗ Sher Shah Suri
4. ✓ Ahmed Shah Abdali

Question Number : 33 Question Id : 99836719751 Question Type : MCQ Option Shuffling : Yes Display Question Number : Yes
Single Line Question Option : No Option Orientation : Vertical

Correct Marks : 1 Wrong Marks : 0.25

पानीपत के तीसरे युद्ध में, मराठों को _____ द्वारा हराया गया था।

Options :

- ✘ बाबर
- ✘ हुमायूँ
- ✘ शेर शाह सूरी
- ✔ अहमद शाह अब्दाली

Question Number : 34 Question Id : 99836719752 Question Type : MCQ Option Shuffling : Yes Display Question Number : Yes
Single Line Question Option : No Option Orientation : Vertical

Correct Marks : 1 Wrong Marks : 0.25

Where is the headquarter of UN located?

Options :

- ✘ Chicago
- ✘ Boston
- ✘ Los Angeles
- ✔ New York

Question Number : 34 Question Id : 99836719752 Question Type : MCQ Option Shuffling : Yes Display Question Number : Yes
Single Line Question Option : No Option Orientation : Vertical

Correct Marks : 1 Wrong Marks : 0.25

संयुक्त राष्ट्र का मुख्यालय कहाँ स्थित है?

Options :

- ✘ शिकागो
- ✘ बोस्टन
- ✘ लॉस एंजेलिस
- ✔ न्यू यार्क

Question Number : 35 Question Id : 99836719753 Question Type : MCQ Option Shuffling : Yes Display Question Number : Yes
Single Line Question Option : No Option Orientation : Vertical

Correct Marks : 1 Wrong Marks : 0.25

Who among the following have never won an oscar?

Options :

- ✘ Resul Pookutty
- ✘ Satyajit Ray
- ✘ A.R.Rehman
- ✔ Aamir Khan

Question Number : 35 Question Id : 99836719753 Question Type : MCQ Option Shuffling : Yes Display Question Number : Yes
Single Line Question Option : No Option Orientation : Vertical

Correct Marks : 1 Wrong Marks : 0.25

निम्नलिखित में से किसने कभी भी ऑस्कर नहीं जीता है?

Options :

- ✘ रेसुल पुकुट्टी
- ✘ सत्यजित रे
- ✘ ए. आर. रहमान
- ✔ आमिर खान

Question Number : 36 Question Id : 99836719754 Question Type : MCQ Option Shuffling : Yes Display Question Number : Yes
Single Line Question Option : No Option Orientation : Vertical

Correct Marks : 1 Wrong Marks : 0.25

Which amendment introduced Goods and Service Tax (GST)?

Options :

1. ✓ 101
2. ✗ 102
3. ✗ 96
4. ✗ 97

Question Number : 36 Question Id : 99836719754 Question Type : MCQ Option Shuffling : Yes Display Question Number : Yes
Single Line Question Option : No Option Orientation : Vertical

Correct Marks : 1 Wrong Marks : 0.25

किस संशोधन ने वस्तु एवं सेवा कर (जीएसटी) का प्रारंभ किया?

Options :

1. ✓ 101
2. ✗ 102
3. ✗ 96
4. ✗ 97

Question Number : 37 Question Id : 99836719755 Question Type : MCQ Option Shuffling : Yes Display Question Number : Yes
Single Line Question Option : No Option Orientation : Vertical

Correct Marks : 1 Wrong Marks : 0.25

The ideals of Liberty, Equality and Fraternity contained in the Preamble to Indian Constitution is borrowed from the constitution of _____.

Options :

1. ✗ USSR
2. ✗ Germany
3. ✓ France
4. ✗ Canada

Question Number : 37 Question Id : 99836719755 Question Type : MCQ Option Shuffling : Yes Display Question Number : Yes
Single Line Question Option : No Option Orientation : Vertical

Correct Marks : 1 Wrong Marks : 0.25

भारतीय संविधान की प्रस्तावना में निहित स्वतंत्रता, समानता और बंधुत्व के आदर्शों को _____ के संविधान से अपनाया गया है।

Options :

1. ✗ सोवियत समाजवादी गणतंत्रों का संघ
2. ✗ जर्मनी
3. ✓ फ्रांस
4. ✗ कनाडा

Question Number : 38 Question Id : 99836719756 Question Type : MCQ Option Shuffling : Yes Display Question Number : Yes
Single Line Question Option : No Option Orientation : Vertical

Correct Marks : 1 Wrong Marks : 0.25

Who was the first Chairman of the Order of Business Committee of the Constituent Assembly?

Options :

1. ✗ Alladi Krishnaswami Ayyar
2. ✗ B. Pattabhi Sitaramayya
3. ✗ H.C. Mukherjee

4. ✓ K.M. Munsi

Question Number : 38 Question Id : 99836719756 Question Type : MCQ Option Shuffling : Yes Display Question Number : Yes
Single Line Question Option : No Option Orientation : Vertical

Correct Marks : 1 Wrong Marks : 0.25

संविधान सभा की व्यापार समिति के आदेश के पहले अध्यक्ष कौन थे?

Options :

1. ✗ अल्लादी कृष्णस्वामी अय्यर
2. ✗ बी पट्टाभि सीतारमैया
3. ✗ एच. सी. मुखर्जी
4. ✓ के. एम. मुंशी

Question Number : 39 Question Id : 99836719757 Question Type : MCQ Option Shuffling : Yes Display Question Number : Yes
Single Line Question Option : No Option Orientation : Vertical

Correct Marks : 1 Wrong Marks : 0.25

Which of the following teams was the first winner of the Pro Kabaddi League?

Options :

1. ✗ Bengal Warriors
2. ✓ Jaipur Pink Panther
3. ✗ Telgu Titans
4. ✗ Bengaluru Bulls

Question Number : 39 Question Id : 99836719757 Question Type : MCQ Option Shuffling : Yes Display Question Number : Yes
Single Line Question Option : No Option Orientation : Vertical

Correct Marks : 1 Wrong Marks : 0.25

निम्नलिखित में से कौन सी टीम प्रो कबड्डी लीग की पहली विजेता थी?

Options :

1. ✗ बंगाल वारियर्स
2. ✓ जयपुर पिंक पैन्थर
3. ✗ तेलूगू टाइटंस
4. ✗ बेंगलुरु बुल्स

Question Number : 40 Question Id : 99836719758 Question Type : MCQ Option Shuffling : Yes Display Question Number : Yes
Single Line Question Option : No Option Orientation : Vertical

Correct Marks : 1 Wrong Marks : 0.25

Which among the following teams won the Women's Cricket World Cup in 2017?

Options :

1. ✗ India
2. ✓ England
3. ✗ Australia
4. ✗ West Indies

Question Number : 40 Question Id : 99836719758 Question Type : MCQ Option Shuffling : Yes Display Question Number : Yes
Single Line Question Option : No Option Orientation : Vertical

Correct Marks : 1 Wrong Marks : 0.25

निम्नलिखित में से किस टीम ने 2017 में महिला क्रिकेट विश्व कप जीता था?

Options :

1. ✗ भारत
2. ✓ इंग्लैंड

3. ✖ ऑस्ट्रेलिया
4. ✖ वेस्ट इंडीज

Arithmetic Ability

| | |
|---|-----------|
| Group Number : | 3 |
| Group Id : | 998367722 |
| Group Maximum Duration : | 0 |
| Group Minimum Duration : | 0 |
| Revisit allowed for view? : | No |
| Revisit allowed for edit? : | No |
| Break time: | 0 |
| Group Marks: | 20 |
| Revisit allowed for group Instructions? : | Yes |
| Maximum Instruction Time: | 0 |
| Minimum Instruction Time: | 0 |

Arithmetic Ability

| | |
|--------------------------------------|-----------|
| Section Id : | 998367843 |
| Section Number : | 1 |
| Section type : | Online |
| Mandatory or Optional: | Mandatory |
| Number of Questions: | 20 |
| Number of Questions to be attempted: | 20 |
| Section Marks: | 20 |
| Display Number Panel: | Yes |
| Group All Questions: | No |

| | |
|------------------------------|------------|
| Sub-Section Number: | 1 |
| Sub-Section Id: | 9983671069 |
| Question Shuffling Allowed : | Yes |

Question Number : 41 Question Id : 99836719759 Question Type : MCQ Option Shuffling : Yes Display Question Number : Yes
Single Line Question Option : No Option Orientation : Vertical

Correct Marks : 1 Wrong Marks : 0.25

A man has Rs 85 in coins of 2-rupee, 5 - rupees and 10 - rupees. The number of coins of each denomination is equal. What is the total number of coins he has?

Options :

1. ✓ 15
2. ✖ 45
3. ✖ 30
4. ✖ 60

Question Number : 41 Question Id : 99836719759 Question Type : MCQ Option Shuffling : Yes Display Question Number : Yes
Single Line Question Option : No Option Orientation : Vertical

Correct Marks : 1 Wrong Marks : 0.25

एक आदमी के पास 2 - रुपये, 5 - रुपये और 10 - रुपये के सिक्कों के रूप में कुल 85 रुपये हैं। प्रत्येक मूल्यवर्ग के सिक्कों की संख्या बराबर है। उसके पास कुल कितने सिक्के हैं?

Options :

1. ✓ 15
2. ✗ 45
3. ✗ 30
4. ✗ 60

Question Number : 42 Question Id : 99836719760 Question Type : MCQ Option Shuffling : Yes Display Question Number : Yes Single Line Question Option : No Option Orientation : Vertical

Correct Marks : 1 Wrong Marks : 0.25

What is the least number that should be added to 2480 so that the sum is exactly divisible by 3, 4, 5 and 6?

Options :

1. ✓ 40
2. ✗ 20
3. ✗ 50
4. ✗ 60

Question Number : 42 Question Id : 99836719760 Question Type : MCQ Option Shuffling : Yes Display Question Number : Yes Single Line Question Option : No Option Orientation : Vertical

Correct Marks : 1 Wrong Marks : 0.25

वह सबसे छोटी संख्या क्या है जिसे 2480 में जोड़ा जाना चाहिए ताकि वह योग 3, 4, 5 और 6 से पूर्णतया विभाज्य हो?

Options :

1. ✓ 40
2. ✗ 20
3. ✗ 50
4. ✗ 60

Question Number : 43 Question Id : 99836719761 Question Type : MCQ Option Shuffling : Yes Display Question Number : Yes Single Line Question Option : No Option Orientation : Vertical

Correct Marks : 1 Wrong Marks : 0.25

What will be the eventual bank balance when a deposit of Rs. 900.25 and a withdrawal of Rs. 650.57 is made to an account balance of Rs. 1350.14?

Options :

1. ✗ Rs. 1499.82
2. ✗ Rs. 1549.82
3. ✓ Rs. 1599.82
4. ✗ Rs. 1649.82

Question Number : 43 Question Id : 99836719761 Question Type : MCQ Option Shuffling : Yes Display Question Number : Yes Single Line Question Option : No Option Orientation : Vertical

Correct Marks : 1 Wrong Marks : 0.25

एक खाते में 900.25 रुपये जमा करने और 650.57 रुपये की निकासी करने पर क्या धनराशि शेष रहेगी, यदि उस खाते में 1350.14 रुपये का बैलेंस है?

Options :

1. ✗ 1499.82 रुपये
2. ✗ 1549.82 रुपये
3. ✓ 1599.82 रुपये
4. ✗ 1649.82 रुपये

Question Number : 44 Question Id : 99836719762 Question Type : MCQ Option Shuffling : Yes Display Question Number : Yes Single Line Question Option : No Option Orientation : Vertical

Correct Marks : 1 Wrong Marks : 0.25

A grocer has a sale of Rs. 3200, Rs. 3250, Rs. 3280 and Rs. 3400 in 4 consecutive months. Atleast how much should the sale be in the 5th month to get an average sale of Rs. 3300?

Options :

1. ✘ Rs. 3330
2. ✘ Rs. 3340
3. ✘ Rs. 3360
4. ✔ Rs. 3370

Question Number : 44 Question Id : 99836719762 Question Type : MCQ Option Shuffling : Yes Display Question Number : Yes Single Line Question Option : No Option Orientation : Vertical

Correct Marks : 1 Wrong Marks : 0.25

एक किराने की दुकान में लगातार 4 महीनों में क्रमशः 3200 रुपये, 3250 रुपये, 3280 रुपये और 3400 रुपये की बिक्री होती है। 3300 रुपये की औसत बिक्री पाने के लिए 5 वें महीने में कम से कम कितनी बिक्री होनी चाहिए?

Options :

1. ✘ 3330 रुपये
2. ✘ 3340 रुपये
3. ✘ 3360 रुपये
4. ✔ 3370 रुपये

Question Number : 45 Question Id : 99836719763 Question Type : MCQ Option Shuffling : Yes Display Question Number : Yes Single Line Question Option : No Option Orientation : Vertical

Correct Marks : 1 Wrong Marks : 0.25

What is the total discount applied when 3 successive discounts of 25 percent, 15 percent and 12.5 percent are applicable?

Options :

1. ✔ 44.22 percent
2. ✘ 42.44 percent
3. ✘ 46.44 percent
4. ✘ 48.22 percent

Question Number : 45 Question Id : 99836719763 Question Type : MCQ Option Shuffling : Yes Display Question Number : Yes Single Line Question Option : No Option Orientation : Vertical

Correct Marks : 1 Wrong Marks : 0.25

25 प्रतिशत, 15 प्रतिशत और 12.5 प्रतिशत के 3 क्रमिक छूट लागू होने पर क्या कुल छूट लागू होती है?

Options :

1. ✔ 44.22 प्रतिशत
2. ✘ 42.44 प्रतिशत
3. ✘ 46.44 प्रतिशत
4. ✘ 48.22 प्रतिशत

Question Number : 46 Question Id : 99836719764 Question Type : MCQ Option Shuffling : Yes Display Question Number : Yes Single Line Question Option : No Option Orientation : Vertical

Correct Marks : 1 Wrong Marks : 0.25

In an election between 2 candidates, one got 60 percent of the total valid votes, 20 percent of the total votes were invalid. If the total number of votes were 8000, how many valid votes did the other candidate get?

Options :

1. ✘ 1280
2. ✘ 1920

3. ✓ 2560

4. ✗ 3200

Question Number : 46 Question Id : 99836719764 Question Type : MCQ Option Shuffling : Yes Display Question Number : Yes Single Line Question Option : No Option Orientation : Vertical

Correct Marks : 1 Wrong Marks : 0.25

2 उम्मीदवारों के बीच हुए एक चुनाव में, एक को कुल वैध मतों में से 60 प्रतिशत वोट मिले, कुल वोटों का 20 प्रतिशत अवैध था। यदि कुल मत 8000 थे, तो अन्य उम्मीदवार को कितने वैध मत मिले?

Options :

1. ✗ 1280

2. ✗ 1920

3. ✓ 2560

4. ✗ 3200

Question Number : 47 Question Id : 99836719765 Question Type : MCQ Option Shuffling : Yes Display Question Number : Yes Single Line Question Option : No Option Orientation : Vertical

Correct Marks : 1 Wrong Marks : 0.25

Two workers X and Y are paid a total of Rs. 9000 by their employer. Y received 25 percent more than the sum received by X. How much did Y receive?

Options :

1. ✗ Rs. 4000

2. ✓ Rs. 5000

3. ✗ Rs. 4500

4. ✗ Rs. 5500

Question Number : 47 Question Id : 99836719765 Question Type : MCQ Option Shuffling : Yes Display Question Number : Yes Single Line Question Option : No Option Orientation : Vertical

Correct Marks : 1 Wrong Marks : 0.25

दो श्रमिकों X और Y को उनके नियोजक द्वारा कुल 9000 रुपये का भुगतान किया जाता है। Y को X द्वारा प्राप्त धनराशि से 25 प्रतिशत अधिक प्राप्त हुआ। Y को कितनी धनराशि प्राप्त हुई?

Options :

1. ✗ 4000 रुपये

2. ✓ 5000 रुपये

3. ✗ 4500 रुपये

4. ✗ 5500 रुपये

Question Number : 48 Question Id : 99836719766 Question Type : MCQ Option Shuffling : Yes Display Question Number : Yes Single Line Question Option : No Option Orientation : Vertical

Correct Marks : 1 Wrong Marks : 0.25

Two students appeared for an examination. One of them scored 25 marks more than the other and his marks was 60 percent of the sum of their marks. What was the total marks obtained by them?

Options :

1. ✗ 100 percent

2. ✓ 125 percent

3. ✗ 120 percent

4. ✗ 75 percent

Question Number : 48 Question Id : 99836719766 Question Type : MCQ Option Shuffling : Yes Display Question Number : Yes Single Line Question Option : No Option Orientation : Vertical

Correct Marks : 1 Wrong Marks : 0.25

दो छात्र एक परीक्षा में उपस्थित हुए। उनमें से एक ने दूसरे की तुलना में 25 अंक अधिक प्राप्त किए और उसके अंक उनके अंकों के योग का 60 प्रतिशत था। उन दोनों के द्वारा प्राप्त कुल अंक क्या थे?

Options :

- ✘ 100 प्रतिशत
- ✔ 125 प्रतिशत
- ✘ 120 प्रतिशत
- ✘ 75 प्रतिशत

Question Number : 49 Question Id : 99836719767 Question Type : MCQ Option Shuffling : Yes Display Question Number : Yes Single Line Question Option : No Option Orientation : Vertical

Correct Marks : 1 Wrong Marks : 0.25

A seller expects a gain of 25 percent on his cost price. If in a week, his sale was Rs. 14,000, what was his average daily profit?

Options :

- ✘ Rs. 250
- ✘ Rs. 350
- ✘ Rs. 500
- ✔ Rs. 400

Question Number : 49 Question Id : 99836719767 Question Type : MCQ Option Shuffling : Yes Display Question Number : Yes Single Line Question Option : No Option Orientation : Vertical

Correct Marks : 1 Wrong Marks : 0.25

एक विक्रेता को अपनी लागत मूल्य पर 25 प्रतिशत का लाभ होने की उम्मीद है। यदि एक सप्ताह में, उसकी बिक्री 14,000 रुपये थी, तो उसका औसत दैनिक लाभ क्या था?

Options :

- ✘ 250 रुपये
- ✘ 350 रुपये
- ✘ 500 रुपये
- ✔ 400 रुपये

Question Number : 50 Question Id : 99836719768 Question Type : MCQ Option Shuffling : Yes Display Question Number : Yes Single Line Question Option : No Option Orientation : Vertical

Correct Marks : 1 Wrong Marks : 0.25

A sum of money is to be distributed among A, B, C and D in the ratio of 4 : 5 : 6 : 7. If C gets Rs. 200 more than B, then how much does D receive?

Options :

- ✘ Rs. 800
- ✘ Rs. 1000
- ✘ Rs. 1200
- ✔ Rs. 1400

Question Number : 50 Question Id : 99836719768 Question Type : MCQ Option Shuffling : Yes Display Question Number : Yes Single Line Question Option : No Option Orientation : Vertical

Correct Marks : 1 Wrong Marks : 0.25

A, B, C और D के बीच 4 : 5 : 6 : 7 के अनुपात में धनराशि वितरित की जानी है। यदि C को B से 200 रुपये अधिक प्राप्त होते हैं, तो D को कितनी धनराशि प्राप्त होगी?

Options :

- ✘ 800 रुपये
- ✘ 1000 रुपये

3. ✘ 1200 रुपये

4. ✔ 1400 रुपये

Question Number : 51 Question Id : 99836719769 Question Type : MCQ Option Shuffling : Yes Display Question Number : Yes Single Line Question Option : No Option Orientation : Vertical

Correct Marks : 1 Wrong Marks : 0.25

A sum of money is to be distributed among A, B, C and D in the ratio of 2 : 5 : 4 : 8. If C gets Rs. 400 more than A, then how much does D receive?

Options :

1. ✘ Rs. 400

2. ✔ Rs. 1600

3. ✘ Rs. 1000

4. ✘ Rs. 1200

Question Number : 51 Question Id : 99836719769 Question Type : MCQ Option Shuffling : Yes Display Question Number : Yes Single Line Question Option : No Option Orientation : Vertical

Correct Marks : 1 Wrong Marks : 0.25

A, B, C और D के बीच 2 : 5 : 4 : 8 के अनुपात में एक धनराशि वितरित की जानी है। यदि C को A से 400 रुपये अधिक प्राप्त होते हैं, तो D को कितनी धनराशि प्राप्त होगी?

Options :

1. ✘ 400 रुपये

2. ✔ 1600 रुपये

3. ✘ 1000 रुपये

4. ✘ 1200 रुपये

Question Number : 52 Question Id : 99836719770 Question Type : MCQ Option Shuffling : Yes Display Question Number : Yes Single Line Question Option : No Option Orientation : Vertical

Correct Marks : 1 Wrong Marks : 0.25

If Rs. 1500 is to be divided into three parts, proportional to $2/5:3/5:2/3$, then what is the value of the third part?

Options :

1. ✘ Rs. 400

2. ✔ Rs. 600

3. ✘ Rs. 360

4. ✘ Rs. 540

Question Number : 52 Question Id : 99836719770 Question Type : MCQ Option Shuffling : Yes Display Question Number : Yes Single Line Question Option : No Option Orientation : Vertical

Correct Marks : 1 Wrong Marks : 0.25

यदि 1500 रुपये को $2/5:3/5:2/3$ के अनुपात में तीन भागों में विभाजित किया जाना है, तो तीसरे भाग का मूल्य क्या है?

Options :

1. ✘ 400 रुपये

2. ✔ 600 रुपये

3. ✘ 360 रुपये

4. ✘ 540 रुपये

Question Number : 53 Question Id : 99836719771 Question Type : MCQ Option Shuffling : Yes Display Question Number : Yes Single Line Question Option : No Option Orientation : Vertical

Correct Marks : 1 Wrong Marks : 0.25

There is a 75 percent increase in an amount in 12.5 years at simple interest. What will be the compound interest of Rs. 20000 after 3 years at the same rate?

Options :

1. ✘ Rs. 3740.68
2. ✔ Rs. 3820.32
3. ✘ Rs. 3720.32
4. ✘ Rs. 3840.68

Question Number : 53 Question Id : 99836719771 Question Type : MCQ Option Shuffling : Yes Display Question Number : Yes Single Line Question Option : No Option Orientation : Vertical

Correct Marks : 1 Wrong Marks : 0.25

साधारण ब्याज पर 12.5 वर्षों में एक धनराशि में 75 प्रतिशत की वृद्धि हुई है उसी दर पर 3 वर्ष बाद 20000 रुपये का चक्रवृद्धि ब्याज क्या होगा?

Options :

1. ✘ 3740.68 रुपये
2. ✔ 3820.32 रुपये
3. ✘ 3720.32 रुपये
4. ✘ 3840.68 रुपये

Question Number : 54 Question Id : 99836719772 Question Type : MCQ Option Shuffling : Yes Display Question Number : Yes Single Line Question Option : No Option Orientation : Vertical

Correct Marks : 1 Wrong Marks : 0.25

A man completes a journey in 16 hours. He travels first half of the journey @ 16 km/h and the second half @ 24 km/h. Find the total journey.

Options :

1. ✘ 302.5 km
2. ✔ 307.2 km
3. ✘ 308.8 km
4. ✘ 311.4 km

Question Number : 54 Question Id : 99836719772 Question Type : MCQ Option Shuffling : Yes Display Question Number : Yes Single Line Question Option : No Option Orientation : Vertical

Correct Marks : 1 Wrong Marks : 0.25

एक आदमी 16 घंटे में एक यात्रा पूरी करता है वह यात्रा का पहला आधा भाग 16 km/h और दूसरा आधा भाग 24 km/h तय करता है कुल यात्रा ज्ञात करें

Options :

1. ✘ 302.5 km
2. ✔ 307.2 km
3. ✘ 308.8 km
4. ✘ 311.4 km

Question Number : 55 Question Id : 99836719773 Question Type : MCQ Option Shuffling : Yes Display Question Number : Yes Single Line Question Option : No Option Orientation : Vertical

Correct Marks : 1 Wrong Marks : 0.25

A can do a job in 12 days, B can do it in 16 days. With the help of C, they do it in 6 days. In how many days can C do the job alone?

Options :

1. ✘ 24
2. ✘ 30
3. ✘ 36

4. ✓ 48

Question Number : 55 Question Id : 99836719773 Question Type : MCQ Option Shuffling : Yes Display Question Number : Yes
Single Line Question Option : No Option Orientation : Vertical

Correct Marks : 1 Wrong Marks : 0.25

A, 12 दिनों में एक काम पूरा कर सकता है, B इसे 16 दिनों में कर सकता है। C की सहायता से, वे इसे 6 दिनों में करते हैं। C अकेले वह काम कितने दिनों में कर सकता है?

Options :

1. ✗ 24

2. ✗ 30

3. ✗ 36

4. ✓ 48

Question Number : 56 Question Id : 99836719774 Question Type : MCQ Option Shuffling : Yes Display Question Number : Yes
Single Line Question Option : No Option Orientation : Vertical

Correct Marks : 1 Wrong Marks : 0.25

A can do a piece of work in 16 hours, B and C can do it in 8 hours while A and C can do it 12 hours. How long will B alone take to do it?

Options :

1. ✗ 8.4 hour

2. ✗ 9 hour

3. ✓ 9.6 hour

4. ✗ 10.5 hour

Question Number : 56 Question Id : 99836719774 Question Type : MCQ Option Shuffling : Yes Display Question Number : Yes
Single Line Question Option : No Option Orientation : Vertical

Correct Marks : 1 Wrong Marks : 0.25

A काम का एक भाग 16 घंटे में पूरा कर सकता है, B और C इसे 8 घंटे में कर सकते हैं जबकि A और C इसे 12 घंटे में कर सकते हैं। B अकेले इसे करने में कितना समय लेगा?

Options :

1. ✗ 8.4 घंटे

2. ✗ 9 घंटे

3. ✓ 9.6 घंटे

4. ✗ 10.5 घंटे

Question Number : 57 Question Id : 99836719775 Question Type : MCQ Option Shuffling : Yes Display Question Number : Yes
Single Line Question Option : No Option Orientation : Vertical

Correct Marks : 1 Wrong Marks : 0.25

A tank is 20 m long, 15 m wide and 10 m deep. What is the cost of plastering its walls and bottom at 80 paise per sq?

Options :

1. ✗ Rs. 200

2. ✗ Rs. 400

3. ✗ Rs. 600

4. ✓ Rs. 800

Question Number : 57 Question Id : 99836719775 Question Type : MCQ Option Shuffling : Yes Display Question Number : Yes
Single Line Question Option : No Option Orientation : Vertical

Correct Marks : 1 Wrong Marks : 0.25

एक टैंक 20 m लंबा, 15 m चौड़ा और 10 मीटर गहरा है। 80 पैसे प्रति sq की दर से इसकी दीवारों और तले पर पलस्तर करवाने की लागत क्या होगी?

Options :

- ✘ 200 रुपये
- ✘ 400 रुपये
- ✘ 600 रुपये
- ✔ 800 रुपये

Question Number : 58 Question Id : 99836719776 Question Type : MCQ Option Shuffling : Yes Display Question Number : Yes Single Line Question Option : No Option Orientation : Vertical

Correct Marks : 1 Wrong Marks : 0.25

A cistern 8 m long and 6 m wide contains water upto a depth of 2 m. What is the area of the wet surface?

Options :

- ✘ 26 m^2
- ✘ 52 m^2
- ✘ 78 m^2
- ✔ 104 m^2

Question Number : 58 Question Id : 99836719776 Question Type : MCQ Option Shuffling : Yes Display Question Number : Yes Single Line Question Option : No Option Orientation : Vertical

Correct Marks : 1 Wrong Marks : 0.25

8 m लंबे और 6 m चौड़े जलाशय में 2 m की गहराई तक पानी भरा है। गीली सतह का क्षेत्रफल क्या है?

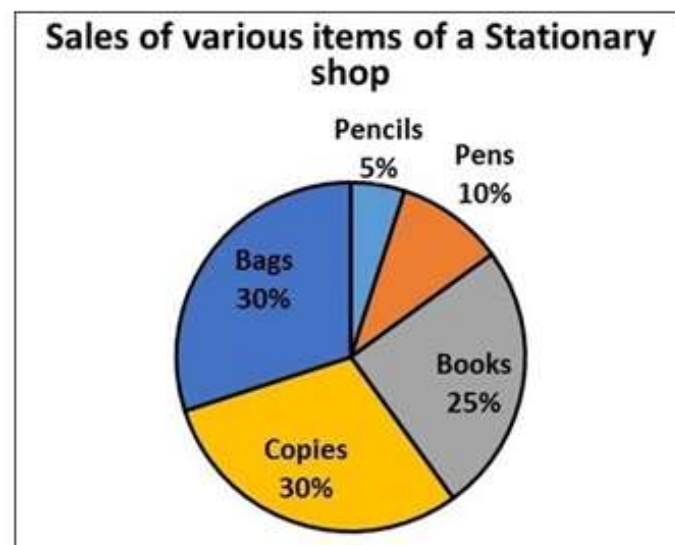
Options :

- ✘ 26 m^2
- ✘ 52 mm^2
- ✘ 78 mm^2
- ✔ 104 mm^2

Question Number : 59 Question Id : 99836719777 Question Type : MCQ Option Shuffling : Yes Display Question Number : Yes Single Line Question Option : No Option Orientation : Vertical

Correct Marks : 1 Wrong Marks : 0.25

The following pie chart shows the sales of various items of a stationary shop for a month. If the 1500 pens are sold, then how many books are sold by the shopkeeper?



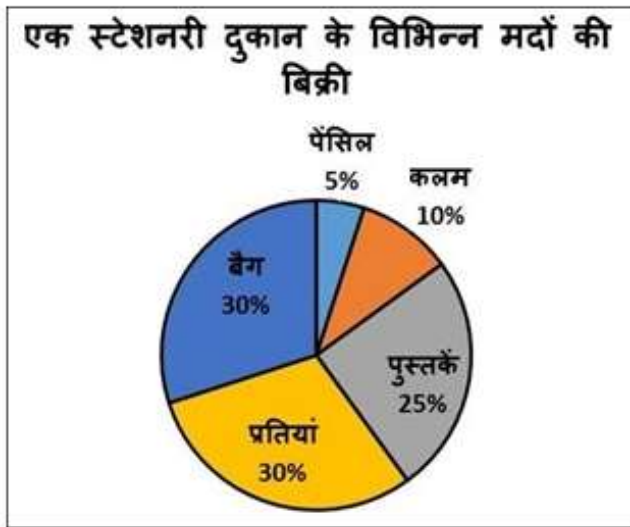
Options :

1. ✘ 15000
2. ✘ 2550
3. ✔ 3750
4. ✘ 12000

Question Number : 59 Question Id : 99836719777 Question Type : MCQ Option Shuffling : Yes Display Question Number : Yes Single Line Question Option : No Option Orientation : Vertical

Correct Marks : 1 Wrong Marks : 0.25

निम्न पाई चार्ट एक महीने में एक स्टेशनरी दुकान के विभिन्न मर्दों की बिक्री को दर्शाता है। अगर दुकानदार द्वारा 1500 पेन बेचे जाते हैं, तो उसके द्वारा कितनी किताबें बेची जाती हैं?



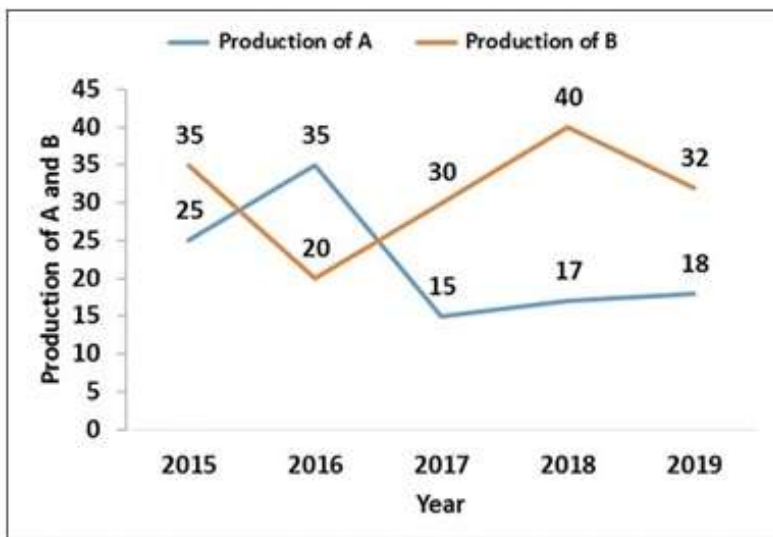
Options :

1. ✘ 15000
2. ✘ 2550
3. ✔ 3750
4. ✘ 12000

Question Number : 60 Question Id : 99836719778 Question Type : MCQ Option Shuffling : Yes Display Question Number : Yes Single Line Question Option : No Option Orientation : Vertical

Correct Marks : 1 Wrong Marks : 0.25

The following line graph shows the production of two products A and B in a company over different years. In which year, the combined production of A and B is the highest?



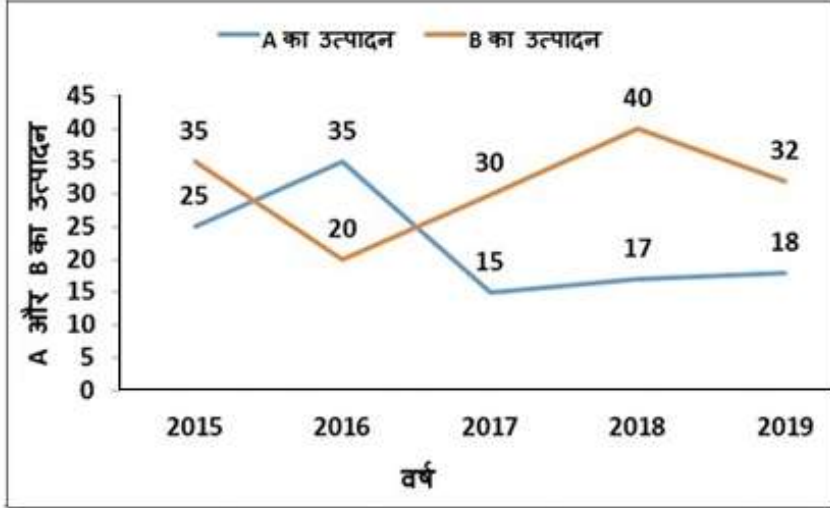
Options :

1. ✘ 2018
2. ✘ 2017
3. ✘ 2016
4. ✔ 2015

Question Number : 60 Question Id : 99836719778 Question Type : MCQ Option Shuffling : Yes Display Question Number : Yes Single Line Question Option : No Option Orientation : Vertical

Correct Marks : 1 Wrong Marks : 0.25

निम्न रेखा आरेख विभिन्न वर्षों में एक कंपनी में दो उत्पादों A और B के उत्पादन को दर्शाता है। A और B का संयुक्त उत्पादन किस वर्ष में सर्वाधिक है?



Options :

1. ✘ 2018
2. ✘ 2017
3. ✘ 2016
4. ✔ 2015

General English

| | |
|---|-----------|
| Group Number : | 4 |
| Group Id : | 998367723 |
| Group Maximum Duration : | 0 |
| Group Minimum Duration : | 0 |
| Revisit allowed for view? : | No |
| Revisit allowed for edit? : | No |
| Break time: | 0 |
| Group Marks: | 20 |
| Revisit allowed for group Instructions? : | Yes |
| Maximum Instruction Time: | 0 |
| Minimum Instruction Time: | 0 |

General English

| | |
|------------------------|-----------|
| Section Id : | 998367844 |
| Section Number : | 1 |
| Section type : | Online |
| Mandatory or Optional: | Mandatory |

| | |
|--------------------------------------|-----|
| Number of Questions: | 16 |
| Number of Questions to be attempted: | 16 |
| Section Marks: | 20 |
| Display Number Panel: | Yes |
| Group All Questions: | No |

| | |
|------------------------------|------------|
| Sub-Section Number: | 1 |
| Sub-Section Id: | 9983671070 |
| Question Shuffling Allowed : | Yes |

Question Number : 61 Question Id : 99836719779 Question Type : MCQ Option Shuffling : Yes Display Question Number : Yes
Single Line Question Option : No Option Orientation : Vertical

Correct Marks : 1 Wrong Marks : 0.25

In the following statement, one part of the sentence may have an error. Find out which part of the sentence has an error and click the button corresponding to it. If the sentence is free from error, select the "No error" option.

(A) First France, / (B) then in US, / (C) the book became a best seller. / (D) No error

Options :

- ✘ A
- ✔ B
- ✘ C
- ✘ D

Question Number : 61 Question Id : 99836719779 Question Type : MCQ Option Shuffling : Yes Display Question Number : Yes
Single Line Question Option : No Option Orientation : Vertical

Correct Marks : 1 Wrong Marks : 0.25

In the following statement, one part of the sentence may have an error. Find out which part of the sentence has an error and click the button corresponding to it. If the sentence is free from error, select the "No error" option.

(A) First France, / (B) then in US, / (C) the book became a best seller. / (D) No error

Options :

- ✘ A
- ✔ B
- ✘ C
- ✘ D

Question Number : 62 Question Id : 99836719780 Question Type : MCQ Option Shuffling : Yes Display Question Number : Yes
Single Line Question Option : No Option Orientation : Vertical

Correct Marks : 1 Wrong Marks : 0.25

The sentence below has been divided into three parts. Select the part of the sentence that has an error. If the sentence has no error, select the option 'No Error'.

Sachin Tendulkar / is the greater cricket player / that the country has ever produced. / No Error.

Options :

- ✘ Sachin Tendulkar
- ✔ is the greater cricket player
- ✘ that the world has ever seen.
- ✘ No Error

Question Number : 62 Question Id : 99836719780 Question Type : MCQ Option Shuffling : Yes Display Question Number : Yes
Single Line Question Option : No Option Orientation : Vertical

Correct Marks : 1 Wrong Marks : 0.25

The sentence below has been divided into three parts. Select the part of the sentence that has an error. If the sentence has no error, select the option 'No Error'.

Sachin Tendulkar / is the greater cricket player / that the country has ever produced. / No Error

Options :

- ✘ Sachin Tendulkar
- ✔ is the greater cricket player
- ✘ that the world has ever seen.
- ✘ No Error

Question Number : 63 Question Id : 99836719781 Question Type : MCQ Option Shuffling : Yes Display Question Number : Yes
Single Line Question Option : No Option Orientation : Vertical

Correct Marks : 1 Wrong Marks : 0.25

Replace the words in the bracket from the set of options given.

The employee was looking forward to (hear) from the boss.

Options :

- ✘ have heard
- ✘ will be hearing
- ✘ heard
- ✔ hearing

Question Number : 63 Question Id : 99836719781 Question Type : MCQ Option Shuffling : Yes Display Question Number : Yes
Single Line Question Option : No Option Orientation : Vertical

Correct Marks : 1 Wrong Marks : 0.25

Replace the words in the bracket from the set of options given.

The employee was looking forward to (hear) from the boss.

Options :

- ✘ have heard
- ✘ will be hearing
- ✘ heard
- ✔ hearing

Question Number : 64 Question Id : 99836719782 Question Type : MCQ Option Shuffling : Yes Display Question Number : Yes
Single Line Question Option : No Option Orientation : Vertical

Correct Marks : 1 Wrong Marks : 0.25

Select the option that can correctly replace the highlighted word or phrase and make the sentence grammatically correct. Select the 'No correction required' option if the sentence is correct as it is given.

Meera (sung) a patriotic song at the Independence Day function.

Options :

- ✘ singed
- ✔ sang
- ✘ sanged
- ✘ No correction required

Question Number : 64 Question Id : 99836719782 Question Type : MCQ Option Shuffling : Yes Display Question Number : Yes
Single Line Question Option : No Option Orientation : Vertical

Correct Marks : 1 Wrong Marks : 0.25

Select the option that can correctly replace the highlighted word or phrase and make the sentence grammatically correct. Select the 'No correction required' option if the sentence is correct as it is given.

Meera (sung) a patriotic song at the Independence Day function.

Options :

- ✘ **singed**
- ✔ **sang**
- ✘ **sanged**
- ✘ **No correction required**

Question Number : 65 Question Id : 99836719783 Question Type : MCQ Option Shuffling : Yes Display Question Number : Yes
Single Line Question Option : No Option Orientation : Vertical

Correct Marks : 1 Wrong Marks : 0.25

Select the option that correctly (and most appropriately) fills in the blank and completes the sentence below.

The new policy _____ radical changes.

Options :

- ✔ **recommends**
- ✘ **recommending**
- ✘ **is recommends**
- ✘ **is recommended**

Question Number : 65 Question Id : 99836719783 Question Type : MCQ Option Shuffling : Yes Display Question Number : Yes
Single Line Question Option : No Option Orientation : Vertical

Correct Marks : 1 Wrong Marks : 0.25

Select the option that correctly (and most appropriately) fills in the blank and completes the sentence below.

The new policy _____ radical changes.

Options :

- ✔ **recommends**
- ✘ **recommending**
- ✘ **is recommends**
- ✘ **is recommended**

Question Number : 66 Question Id : 99836719784 Question Type : MCQ Option Shuffling : Yes Display Question Number : Yes
Single Line Question Option : No Option Orientation : Vertical

Correct Marks : 1 Wrong Marks : 0.25

The questions below consist of a set of labelled parts of a sentence. Out of four options given, select the most logical order of the parts which form a coherent sentence.

It had

P : he could accept it

Q : Narendra's nature to test

R : something thoroughly before

S : always been in

Options :

- ✘ **RSPQ**
- ✘ **QSPR**
- ✘ **PSRQ**

4. ✓ SQRP

Question Number : 66 Question Id : 99836719784 Question Type : MCQ Option Shuffling : Yes Display Question Number : Yes
Single Line Question Option : No Option Orientation : Vertical

Correct Marks : 1 Wrong Marks : 0.25

The questions below consist of a set of labelled parts of a sentence. Out of four options given, select the most logical order of the parts which form a coherent sentence.

It had

P : he could accept it

Q : Narendra's nature to test

R : something thoroughly before

S : always been in

Options :

1. ✗ RSPQ

2. ✗ QSPR

3. ✗ PSRQ

4. ✓ SQRP

Question Number : 67 Question Id : 99836719785 Question Type : MCQ Option Shuffling : Yes Display Question Number : Yes
Single Line Question Option : No Option Orientation : Vertical

Correct Marks : 1 Wrong Marks : 0.25

Out of the four alternatives, choose the word which best expresses the meaning of the given word.

Dank

Options :

1. ✗ Annoy

2. ✗ Hot

3. ✓ Damp

4. ✗ Praise

Question Number : 67 Question Id : 99836719785 Question Type : MCQ Option Shuffling : Yes Display Question Number : Yes
Single Line Question Option : No Option Orientation : Vertical

Correct Marks : 1 Wrong Marks : 0.25

Out of the four alternatives, choose the word which best expresses the meaning of the given word.

Dank

Options :

1. ✗ Annoy

2. ✗ Hot

3. ✓ Damp

4. ✗ Praise

Question Number : 68 Question Id : 99836719786 Question Type : MCQ Option Shuffling : Yes Display Question Number : Yes
Single Line Question Option : No Option Orientation : Vertical

Correct Marks : 1 Wrong Marks : 0.25

Out of the four alternatives, choose the word which is OPPOSITE in meaning to the given word.

Wane

Options :

1. ✗ Dim

2. ✓ Rise
3. ✗ Novice
4. ✗ Decline

Question Number : 68 Question Id : 99836719786 Question Type : MCQ Option Shuffling : Yes Display Question Number : Yes
Single Line Question Option : No Option Orientation : Vertical

Correct Marks : 1 Wrong Marks : 0.25

Out of the four alternatives, choose the word which is OPPOSITE in meaning to the given word.

Wane

Options :

1. ✗ Dim
2. ✓ Rise
3. ✗ Novice
4. ✗ Decline

Question Number : 69 Question Id : 99836719787 Question Type : MCQ Option Shuffling : Yes Display Question Number : Yes
Single Line Question Option : No Option Orientation : Vertical

Correct Marks : 1 Wrong Marks : 0.25

Four words are given, out of which only one word is spelt correctly. Choose the correctly spelt word.

Options :

1. ✗ Dilirius
2. ✓ Delirious
3. ✗ Dalirius
4. ✗ Delerius

Question Number : 69 Question Id : 99836719787 Question Type : MCQ Option Shuffling : Yes Display Question Number : Yes
Single Line Question Option : No Option Orientation : Vertical

Correct Marks : 1 Wrong Marks : 0.25

Four words are given, out of which only one word is spelt correctly. Choose the correctly spelt word.

Options :

1. ✗ Dilirius
2. ✓ Delirious
3. ✗ Dalirius
4. ✗ Delerius

Question Number : 70 Question Id : 99836719788 Question Type : MCQ Option Shuffling : Yes Display Question Number : Yes
Single Line Question Option : No Option Orientation : Vertical

Correct Marks : 1 Wrong Marks : 0.25

Four words are given, out of which only one word is spelt correctly. Choose the correctly spelt word.

Options :

1. ✗ Biligerent
2. ✗ Beligerent
3. ✓ Belligerent
4. ✗ Billigerent

Question Number : 70 Question Id : 99836719788 Question Type : MCQ Option Shuffling : Yes Display Question Number : Yes
Single Line Question Option : No Option Orientation : Vertical

Correct Marks : 1 Wrong Marks : 0.25

Four words are given, out of which only one word is spelt correctly. Choose the correctly spelt word.

Options :

1. ✘ Biligerent
2. ✘ Beligerent
3. ✔ Belligerent
4. ✘ Billigerent

Question Number : 71 Question Id : 99836719789 Question Type : MCQ Option Shuffling : Yes Display Question Number : Yes
Single Line Question Option : No Option Orientation : Vertical

Correct Marks : 1 Wrong Marks : 0.25

Select the word that is spelled correctly.

Options :

1. ✘ Leiutenant
2. ✔ Lieutenant
3. ✘ Leutenant
4. ✘ Lieutenent

Question Number : 71 Question Id : 99836719789 Question Type : MCQ Option Shuffling : Yes Display Question Number : Yes
Single Line Question Option : No Option Orientation : Vertical

Correct Marks : 1 Wrong Marks : 0.25

Select the word that is spelled correctly.

Options :

1. ✘ Leiutenant
2. ✔ Lieutenant
3. ✘ Leutenant
4. ✘ Lieutenent

Question Number : 72 Question Id : 99836719790 Question Type : MCQ Option Shuffling : Yes Display Question Number : Yes
Single Line Question Option : No Option Orientation : Vertical

Correct Marks : 1 Wrong Marks : 0.25

What does the following idiom mean?

To get a cold feet

Options :

1. ✘ To grasp early
2. ✘ To catch cold
3. ✔ To be afraid
4. ✘ To misunderstand

Question Number : 72 Question Id : 99836719790 Question Type : MCQ Option Shuffling : Yes Display Question Number : Yes
Single Line Question Option : No Option Orientation : Vertical

Correct Marks : 1 Wrong Marks : 0.25

What does the following idiom mean?

To get a cold feet

Options :

1. ✘ To grasp early
2. ✘ To catch cold
3. ✔ To be afraid

4. ✘ To misunderstand

Question Number : 73 Question Id : 99836719791 Question Type : MCQ Option Shuffling : Yes Display Question Number : Yes
Single Line Question Option : No Option Orientation : Vertical

Correct Marks : 1 Wrong Marks : 0.25

What does the following idiom mean?

Haul over the coals

Options :

1. ✘ To hide from someone.
2. ✘ To pull or drag something with force.
3. ✘ To extract coal from coal mines.
4. ✔ To scold someone severely for an error.

Question Number : 73 Question Id : 99836719791 Question Type : MCQ Option Shuffling : Yes Display Question Number : Yes
Single Line Question Option : No Option Orientation : Vertical

Correct Marks : 1 Wrong Marks : 0.25

What does the following idiom mean?

Haul over the coals

Options :

1. ✘ To hide from someone.
2. ✘ To pull or drag something with force.
3. ✘ To extract coal from coal mines.
4. ✔ To scold someone severely for an error.

Question Number : 74 Question Id : 99836719792 Question Type : MCQ Option Shuffling : Yes Display Question Number : Yes
Single Line Question Option : No Option Orientation : Vertical

Correct Marks : 1 Wrong Marks : 0.25

In the following question, out of four alternatives, select the alternative which is the best substitute of the words / sentences.

A person appointed by two parties to solve a dispute

Options :

1. ✔ Arbitrator
2. ✘ Debonair
3. ✘ Ascetic
4. ✘ Fatalist

Question Number : 74 Question Id : 99836719792 Question Type : MCQ Option Shuffling : Yes Display Question Number : Yes
Single Line Question Option : No Option Orientation : Vertical

Correct Marks : 1 Wrong Marks : 0.25

In the following question, out of four alternatives, select the alternative which is the best substitute of the words / sentences.

A person appointed by two parties to solve a dispute

Options :

1. ✔ Arbitrator
2. ✘ Debonair
3. ✘ Ascetic

4. ✖ Fatalist

Question Number : 75 Question Id : 99836719793 Question Type : MCQ Option Shuffling : Yes Display Question Number : Yes
Single Line Question Option : No Option Orientation : Vertical

Correct Marks : 1 Wrong Marks : 0.25

In the following question, out of four alternatives, select the alternative which is the best substitute of the words / sentences.

Someone who studies or collects coins, paper money or medals.

Options :

1. ✖ Lunatic
2. ✖ Somnambulist
3. ✖ Narcissist
4. ✔ Numismatist

Question Number : 75 Question Id : 99836719793 Question Type : MCQ Option Shuffling : Yes Display Question Number : Yes
Single Line Question Option : No Option Orientation : Vertical

Correct Marks : 1 Wrong Marks : 0.25

In the following question, out of four alternatives, select the alternative which is the best substitute of the words / sentences.

Someone who studies or collects coins, paper money or medals.

Options :

1. ✖ Lunatic
2. ✖ Somnambulist
3. ✖ Narcissist
4. ✔ Numismatist

| | |
|------------------------------|------------|
| Sub-Section Number: | 2 |
| Sub-Section Id: | 9983671071 |
| Question Shuffling Allowed : | Yes |

Question Id : 99836719794 Question Type : COMPREHENSION Sub Question Shuffling Allowed : Yes Group Comprehension Questions : No

Question Numbers : (76 to 80)

Question Label : Comprehension

Read the passage carefully and answer the given question:

Capoeira is an Afro-Brazilian blend of martial art, game and dance created by enslaved Africans in Brazil during the 16th century. Participants form a roda (circle) and take turns in playing instruments, singing and sparring in pairs in the centre of the circle. The game is marked by fluid acrobatic play, feints, and extensive use of groundwork, as well as sweeps, kicks, and head-butts. Less frequently used techniques include elbow-strikes, slaps, punches, and body-throws. Capoeira has evolved from one main form referred to as Capoeira Angola, into other two forms known as Capoeira regional, and the ever-evolving Capoeira contemporanea. Master Birnba made a major contribution to the preservation of the art by establishing the first Capoeira academy in Brazil.

Sub questions

Question Number : 76 Question Id : 99836719795 Question Type : MCQ Option Shuffling : Yes Display Question Number : Yes
Single Line Question Option : No Option Orientation : Vertical

Correct Marks : 1 Wrong Marks : 0.25

Who created Capoeira?

Options :

1. ✓ Enslaved Africans in Brazil
2. ✗ Enslaved Americans in Brazil
3. ✗ Enslaved Brazilians in Brazil
4. ✗ Enslaved Indians in Brazil

Question Number : 77 Question Id : 99836719796 Question Type : MCQ Option Shuffling : Yes Display Question Number : Yes
Single Line Question Option : No Option Orientation : Vertical

Correct Marks : 1 Wrong Marks : 0.25

When was Capoeira created?

Options :

1. ✗ 12th century
2. ✗ 15th century
3. ✓ 16th century
4. ✗ 18th century

Question Number : 78 Question Id : 99836719797 Question Type : MCQ Option Shuffling : Yes Display Question Number : Yes
Single Line Question Option : No Option Orientation : Vertical

Correct Marks : 1 Wrong Marks : 0.25

Which among the following is a frequently used technique in Capoeira?

Options :

1. ✗ Elbow-strikes
2. ✗ Punches
3. ✗ Slaps
4. ✓ Kicks

Question Number : 79 Question Id : 99836719798 Question Type : MCQ Option Shuffling : Yes Display Question Number : Yes
Single Line Question Option : No Option Orientation : Vertical

Correct Marks : 1 Wrong Marks : 0.25

From which of the following main form has Capoeira evolved?

Options :

1. ✗ Capoeira contemporanea
2. ✗ Capoeira regional
3. ✓ Capoeira Angola
4. ✗ Capoeira Afro

Question Number : 80 Question Id : 99836719799 Question Type : MCQ Option Shuffling : Yes Display Question Number : Yes
Single Line Question Option : No Option Orientation : Vertical

Correct Marks : 1 Wrong Marks : 0.25

How did Master Bimba made a contribution to the preservation of Capoeira?

Options :

1. ✗ By creating the art form Capoeira
2. ✓ By establishing the first Capoeira academy in Brazil.
3. ✗ By spreading Capoeira in different countries
4. ✗ By blending Capoeira with other forms of art.

Question Id : 99836719794 Question Type : COMPREHENSION Sub Question Shuffling Allowed : Yes Group Comprehension
Questions : No

Question Numbers : (76 to 80)

Question Label : Comprehension

Read the passage carefully and answer the given question:

Capoeira is an Afro-Brazilian blend of martial art, game and dance created by enslaved Africans in Brazil during the 16th century. Participants form a roda (circle) and take turns in playing instruments, singing and sparring in pairs in the centre of the circle. The game is marked by fluid acrobatic play, feints, and extensive use of groundwork, as well as sweeps, kicks, and head-butts. Less frequently used techniques include elbow-strikes, slaps, punches, and body-throws. Capoeira has evolved from one main form referred to as Capoeira Angola, into other two forms known as Capoeira regional, and the ever-evolving Capoeira contemporanea. Master Bimba made a major contribution to the preservation of the art by establishing the first Capoeira academy in Brazil.

Sub questions

Question Number : 76 Question Id : 99836719795 Question Type : MCQ Option Shuffling : Yes Display Question Number : Yes Single Line Question Option : No Option Orientation : Vertical

Correct Marks : 1 Wrong Marks : 0.25

Who created Capoeira?

Options :

1. ✓ Enslaved Africans in Brazil
2. ✗ Enslaved Americans in Brazil
3. ✗ Enslaved Brazilians in Brazil
4. ✗ Enslaved Indians in Brazil

Question Number : 77 Question Id : 99836719796 Question Type : MCQ Option Shuffling : Yes Display Question Number : Yes Single Line Question Option : No Option Orientation : Vertical

Correct Marks : 1 Wrong Marks : 0.25

When was Capoeira created?

Options :

1. ✗ 12th century
2. ✗ 15th century
3. ✓ 16th century
4. ✗ 18th century

Question Number : 78 Question Id : 99836719797 Question Type : MCQ Option Shuffling : Yes Display Question Number : Yes Single Line Question Option : No Option Orientation : Vertical

Correct Marks : 1 Wrong Marks : 0.25

Which among the following is a frequently used technique in Capoeira?

Options :

1. ✗ Elbow-strikes
2. ✗ Punches
3. ✗ Slaps
4. ✓ Kicks

Question Number : 79 Question Id : 99836719798 Question Type : MCQ Option Shuffling : Yes Display Question Number : Yes Single Line Question Option : No Option Orientation : Vertical

Correct Marks : 1 Wrong Marks : 0.25

From which of the following main form has Capoeira evolved?

Options :

1. ✗ Capoeira contemporanea
2. ✗ Capoeira regional
3. ✓ Capoeira Angola

4. ✖ Capoeira Afro

Question Number : 80 Question Id : 99836719799 Question Type : MCQ Option Shuffling : Yes Display Question Number : Yes
Single Line Question Option : No Option Orientation : Vertical

Correct Marks : 1 Wrong Marks : 0.25

How did Master Bimba made a contribution to the preservation of Capoeira?

Options :

- ✖ By creating the art form Capoeira
- ✔ By establishing the first Capoeira academy in Brazil.
- ✖ By spreading Capoeira in different countries
- ✖ By blending Capoeira with other forms of art.

General Hindi

| | |
|---|-----------|
| Group Number : | 5 |
| Group Id : | 998367724 |
| Group Maximum Duration : | 0 |
| Group Minimum Duration : | 0 |
| Revisit allowed for view? : | No |
| Revisit allowed for edit? : | No |
| Break time: | 0 |
| Group Marks: | 20 |
| Revisit allowed for group Instructions? : | Yes |
| Maximum Instruction Time: | 0 |
| Minimum Instruction Time: | 0 |

General Hindi

| | |
|--------------------------------------|-----------|
| Section Id : | 998367845 |
| Section Number : | 1 |
| Section type : | Online |
| Mandatory or Optional: | Mandatory |
| Number of Questions: | 16 |
| Number of Questions to be attempted: | 16 |
| Section Marks: | 20 |
| Display Number Panel: | Yes |
| Group All Questions: | No |

| | |
|------------------------------|------------|
| Sub-Section Number: | 1 |
| Sub-Section Id: | 9983671072 |
| Question Shuffling Allowed : | Yes |

Question Number : 81 Question Id : 99836719800 Question Type : MCQ Option Shuffling : Yes Display Question Number : Yes
Single Line Question Option : No Option Orientation : Vertical

Correct Marks : 1 Wrong Marks : 0.25

निम्नलिखित प्रश्न में, चार विकल्पों में से, उस विकल्प का चयन करें जो उपसर्ग से बना है।

Options :

- ✖ रसोइया
- ✖ सुनार

3. ✓ उत्पात

4. ✗ शेरनी

Question Number : 81 Question Id : 99836719800 Question Type : MCQ Option Shuffling : Yes Display Question Number : Yes
Single Line Question Option : No Option Orientation : Vertical

Correct Marks : 1 Wrong Marks : 0.25

निम्नलिखित प्रश्न में, चार विकल्पों में से, उस विकल्प का चयन करें जो उपसर्ग से बना है।

Options :

1. ✗ रसोइया

2. ✗ सुनार

3. ✓ उत्पात

4. ✗ शेरनी

Question Number : 82 Question Id : 99836719801 Question Type : MCQ Option Shuffling : Yes Display Question Number : Yes
Single Line Question Option : No Option Orientation : Vertical

Correct Marks : 1 Wrong Marks : 0.25

निम्नलिखित प्रश्न में, चार विकल्पों में से, उस सही विकल्प का चयन करें जो प्रत्यय से बना शब्द है।

Note: For this question, discrepancy is found in question/answer. So, this question is ignored for all candidates.

Options :

1. अपवाद

2. प्रभाव

3. दुधारी

4. प्रशंसक

Question Number : 82 Question Id : 99836719801 Question Type : MCQ Option Shuffling : Yes Display Question Number : Yes
Single Line Question Option : No Option Orientation : Vertical

Correct Marks : 1 Wrong Marks : 0.25

निम्नलिखित प्रश्न में, चार विकल्पों में से, उस सही विकल्प का चयन करें जो प्रत्यय से बना शब्द है।

Note: For this question, discrepancy is found in question/answer. So, this question is ignored for all candidates.

Options :

1. अपवाद

2. प्रभाव

3. दुधारी

4. प्रशंसक

Question Number : 83 Question Id : 99836719802 Question Type : MCQ Option Shuffling : Yes Display Question Number : Yes
Single Line Question Option : No Option Orientation : Vertical

Correct Marks : 1 Wrong Marks : 0.25

निम्नलिखित प्रश्न में, चार विकल्पों में से, रिक्त स्थान के लिए निर्देशानुसार उचित विकल्प का चयन करें।

----- घर जाओ, माँ बुला रही है। (कालवाचक क्रियाविशेषण)

Options :

1. ✓ तत्काल

2. ✗ जल्दी

3. ✗ तुम

4. ✗ फटाफट

Question Number : 83 Question Id : 99836719802 Question Type : MCQ Option Shuffling : Yes Display Question Number : Yes
Single Line Question Option : No Option Orientation : Vertical

Correct Marks : 1 Wrong Marks : 0.25

निम्नलिखित प्रश्न में, चार विकल्पों में से, रिक्त स्थान के लिए निर्देशानुसार उचित विकल्प का चयन करें।

----- घर जाओ, माँ बुला रही है। (कालवाचक क्रियाविशेषण)

Options :

1. ✓ तत्काल
2. ✗ जल्दी
3. ✗ तुम
4. ✗ फटाफट

Question Number : 84 Question Id : 99836719803 Question Type : MCQ Option Shuffling : Yes Display Question Number : Yes
Single Line Question Option : No Option Orientation : Vertical

Correct Marks : 1 Wrong Marks : 0.25

निम्नलिखित प्रश्न में, चार विकल्पों में से, उस विकल्प का चयन करें जो हिंदी भाषा का विकल्प न होकर विदेशी भाषा का शब्द है।

Options :

1. ✗ मयूर
2. ✗ कपोत
3. ✓ हलवाई
4. ✗ धूम्र

Question Number : 84 Question Id : 99836719803 Question Type : MCQ Option Shuffling : Yes Display Question Number : Yes
Single Line Question Option : No Option Orientation : Vertical

Correct Marks : 1 Wrong Marks : 0.25

निम्नलिखित प्रश्न में, चार विकल्पों में से, उस विकल्प का चयन करें जो हिंदी भाषा का विकल्प न होकर विदेशी भाषा का शब्द है।

Options :

1. ✗ मयूर
2. ✗ कपोत
3. ✓ हलवाई
4. ✗ धूम्र

Question Number : 85 Question Id : 99836719804 Question Type : MCQ Option Shuffling : Yes Display Question Number : Yes
Single Line Question Option : No Option Orientation : Vertical

Correct Marks : 1 Wrong Marks : 0.25

निम्नलिखित प्रश्न में, चार विकल्पों में से, उस विकल्प का चयन करें जो समानार्थी शब्द का सही विकल्प नहीं है।

कमल

Options :

1. ✓ सुधांशु
2. ✗ अम्बुज
3. ✗ कंज
4. ✗ नलिन

Question Number : 85 Question Id : 99836719804 Question Type : MCQ Option Shuffling : Yes Display Question Number : Yes
Single Line Question Option : No Option Orientation : Vertical

Correct Marks : 1 Wrong Marks : 0.25

निम्नलिखित प्रश्न में, चार विकल्पों में से, उस विकल्प का चयन करें जो समानार्थी शब्द का सही विकल्प नहीं है।

कमल

Options :

1. ✓ सुधांशु
2. ✗ अम्बुज
3. ✗ कंज
4. ✗ नलिन

Question Number : 86 Question Id : 99836719805 Question Type : MCQ Option Shuffling : Yes Display Question Number : Yes
Single Line Question Option : No Option Orientation : Vertical

Correct Marks : 1 Wrong Marks : 0.25

निम्नलिखित प्रश्न में, चार विकल्पों में से, उस विकल्प का चयन करें जो विलोम शब्द का सबसे अच्छा विकल्प है।

कृश

Options :

1. ✗ क्षीणकाय
2. ✓ हृष्ट - पुष्ट
3. ✗ अकिंचन
4. ✗ अल्प

Question Number : 86 Question Id : 99836719805 Question Type : MCQ Option Shuffling : Yes Display Question Number : Yes
Single Line Question Option : No Option Orientation : Vertical

Correct Marks : 1 Wrong Marks : 0.25

निम्नलिखित प्रश्न में, चार विकल्पों में से, उस विकल्प का चयन करें जो विलोम शब्द का सबसे अच्छा विकल्प है।

कृश

Options :

1. ✗ क्षीणकाय
2. ✓ हृष्ट - पुष्ट
3. ✗ अकिंचन
4. ✗ अल्प

Question Number : 87 Question Id : 99836719806 Question Type : MCQ Option Shuffling : Yes Display Question Number : Yes
Single Line Question Option : No Option Orientation : Vertical

Correct Marks : 1 Wrong Marks : 0.25

निम्नलिखित प्रश्न में, चार विकल्पों में से, रिक्त स्थान के लिए निर्देशानुसार उचित विकल्प का चयन करें।

जैनियों _____ बनाए गए जैन मंदिर उत्कृष्ट वास्तु कला का उदाहरण है।

Options :

1. ✗ पर
2. ✗ का
3. ✓ के द्वारा
4. ✗ में

Question Number : 87 Question Id : 99836719806 Question Type : MCQ Option Shuffling : Yes Display Question Number : Yes
Single Line Question Option : No Option Orientation : Vertical

Correct Marks : 1 Wrong Marks : 0.25

निम्नलिखित प्रश्न में, चार विकल्पों में से, रिक्त स्थान के लिए निर्देशानुसार उचित विकल्प का चयन करें।

जैनियों _____ बनाए गए जैन मंदिर उत्कृष्ट वास्तु कला का उदाहरण है।

Options :

1. ✘ पर
2. ✘ का
3. ✔ के द्वारा
4. ✘ में

Question Number : 88 Question Id : 99836719807 Question Type : MCQ Option Shuffling : Yes Display Question Number : Yes
Single Line Question Option : No Option Orientation : Vertical

Correct Marks : 1 Wrong Marks : 0.25

निम्नलिखित प्रश्न में, चार विकल्पों में से, उस सही विकल्प का चयन करें जो वाक्यांशों के लिए एक शब्द का विकल्प हो।

जो उच्च कुल में पैदा हुआ हो।

Options :

1. ✔ कुलीन
2. ✘ मलीन
3. ✘ दुश्कुलिन
4. ✘ कुमार्गी

Question Number : 88 Question Id : 99836719807 Question Type : MCQ Option Shuffling : Yes Display Question Number : Yes
Single Line Question Option : No Option Orientation : Vertical

Correct Marks : 1 Wrong Marks : 0.25

निम्नलिखित प्रश्न में, चार विकल्पों में से, उस सही विकल्प का चयन करें जो वाक्यांशों के लिए एक शब्द का विकल्प हो।

जो उच्च कुल में पैदा हुआ हो।

Options :

1. ✔ कुलीन
2. ✘ मलीन
3. ✘ दुश्कुलिन
4. ✘ कुमार्गी

Question Number : 89 Question Id : 99836719808 Question Type : MCQ Option Shuffling : Yes Display Question Number : Yes
Single Line Question Option : No Option Orientation : Vertical

Correct Marks : 1 Wrong Marks : 0.25

निम्नलिखित प्रश्न में, चार विकल्पों में से, रिक्त स्थान के लिए निर्देशानुसार उचित विकल्प का चयन करें।

पुलिस का भारी बंदोबस्त किया _____ (कर्मवाच्य)

Options :

1. ✔ जा रहा है।
2. ✘ नहीं गया।
3. ✘ है।
4. ✘ नहीं।

Question Number : 89 Question Id : 99836719808 Question Type : MCQ Option Shuffling : Yes Display Question Number : Yes
Single Line Question Option : No Option Orientation : Vertical

Correct Marks : 1 Wrong Marks : 0.25

निम्नलिखित प्रश्न में, चार विकल्पों में से, रिक्त स्थान के लिए निर्देशानुसार उचित विकल्प का चयन करें।

पुलिस का भारी बंदोबस्त किया _____ । (कर्मवाच्य)

Options :

1. ✓ जा रहा है
2. ✗ नहीं गया
3. ✗ है
4. ✗ नहीं

Question Number : 90 Question Id : 99836719809 Question Type : MCQ Option Shuffling : Yes Display Question Number : Yes
Single Line Question Option : No Option Orientation : Vertical

Correct Marks : 1 Wrong Marks : 0.25

निम्नलिखित प्रश्न में, चार विकल्पों में से, उस विकल्प का चयन करें जो सही वाक्य भेद का विकल्प हो

हम सभी होटल में खाना खाने जा रहे हैं

Options :

1. ✓ सरल वाक्य
2. ✗ संयुक्त वाक्य
3. ✗ निषेधवाचक वाक्य
4. ✗ मिश्र वाक्य

Question Number : 90 Question Id : 99836719809 Question Type : MCQ Option Shuffling : Yes Display Question Number : Yes
Single Line Question Option : No Option Orientation : Vertical

Correct Marks : 1 Wrong Marks : 0.25

निम्नलिखित प्रश्न में, चार विकल्पों में से, उस विकल्प का चयन करें जो सही वाक्य भेद का विकल्प हो

हम सभी होटल में खाना खाने जा रहे हैं

Options :

1. ✓ सरल वाक्य
2. ✗ संयुक्त वाक्य
3. ✗ निषेधवाचक वाक्य
4. ✗ मिश्र वाक्य

Question Number : 91 Question Id : 99836719810 Question Type : MCQ Option Shuffling : Yes Display Question Number : Yes
Single Line Question Option : No Option Orientation : Vertical

Correct Marks : 1 Wrong Marks : 0.25

निम्नलिखित प्रश्न में, चार विकल्पों में से, उस विकल्प का चयन करें जो सही वाक्य भेद का विकल्प हो

दीपा वहाँ रहती है

Options :

1. ✗ संयुक्त वाक्य
2. ✓ संकेतवाचक वाक्य
3. ✗ मिश्र वाक्य
4. ✗ सरल वाक्य

Question Number : 91 Question Id : 99836719810 Question Type : MCQ Option Shuffling : Yes Display Question Number : Yes
Single Line Question Option : No Option Orientation : Vertical

Correct Marks : 1 Wrong Marks : 0.25

निम्नलिखित प्रश्न में, चार विकल्पों में से, उस विकल्प का चयन करें जो सही वाक्य भेद का विकल्प हो

दीपा वहाँ रहती है

Options :

1. ✗ संयुक्त वाक्य

2. ✓ संकेतवाचक वाक्य
3. ✗ मिश्र वाक्य
4. ✗ सरल वाक्य

Question Number : 92 Question Id : 99836719811 Question Type : MCQ Option Shuffling : Yes Display Question Number : Yes
Single Line Question Option : No Option Orientation : Vertical

Correct Marks : 1 Wrong Marks : 0.25

निम्नलिखित प्रश्न में, चार विकल्पों में से, उस विकल्प का चयन करें जो सही वाक्य भेद का विकल्प हो।

आप पहले आराम करेंगे या आपके लिए खाना ले आऊँ।

Options :

1. ✗ विधानवाचक वाक्य
2. ✗ सरल वाक्य
3. ✗ मिश्र वाक्य
4. ✓ संयुक्त वाक्य

Question Number : 92 Question Id : 99836719811 Question Type : MCQ Option Shuffling : Yes Display Question Number : Yes
Single Line Question Option : No Option Orientation : Vertical

Correct Marks : 1 Wrong Marks : 0.25

निम्नलिखित प्रश्न में, चार विकल्पों में से, उस विकल्प का चयन करें जो सही वाक्य भेद का विकल्प हो।

आप पहले आराम करेंगे या आपके लिए खाना ले आऊँ।

Options :

1. ✗ विधानवाचक वाक्य
2. ✗ सरल वाक्य
3. ✗ मिश्र वाक्य
4. ✓ संयुक्त वाक्य

Question Number : 93 Question Id : 99836719812 Question Type : MCQ Option Shuffling : Yes Display Question Number : Yes
Single Line Question Option : No Option Orientation : Vertical

Correct Marks : 1 Wrong Marks : 0.25

निम्नलिखित प्रश्न में, चार विकल्पों में से, उस विकल्प का चयन करें जो दिए गए मुहावरे का सही अर्थ वाला विकल्प है।

अंतड़ियाँ कुलबुलाना

Options :

1. ✗ तबीयत खराब होना।
2. ✗ ठण्ड लगना।
3. ✗ मन न लगना।
4. ✓ अधिक भूख लगना।

Question Number : 93 Question Id : 99836719812 Question Type : MCQ Option Shuffling : Yes Display Question Number : Yes
Single Line Question Option : No Option Orientation : Vertical

Correct Marks : 1 Wrong Marks : 0.25

निम्नलिखित प्रश्न में, चार विकल्पों में से, उस विकल्प का चयन करें जो दिए गए मुहावरे का सही अर्थ वाला विकल्प है।

अंतड़ियाँ कुलबुलाना

Options :

1. ✗ तबीयत खराब होना।
2. ✗ ठण्ड लगना।
3. ✗ मन न लगना।

4. ✓ अधिक भूख लगना

Question Number : 94 Question Id : 99836719813 Question Type : MCQ Option Shuffling : Yes Display Question Number : Yes
Single Line Question Option : No Option Orientation : Vertical

Correct Marks : 1 Wrong Marks : 0.25

निम्नलिखित प्रश्न में, चार विकल्पों में से, उस विकल्प का चयन करें जो दिए गए मुहावरे का सही अर्थ वाला विकल्प है

मत्था मारना

Options :

1. ✗ सिर फोड़ना
2. ✗ सिर पीटना
3. ✓ सोच विचार करना
4. ✗ कठिन काम

Question Number : 94 Question Id : 99836719813 Question Type : MCQ Option Shuffling : Yes Display Question Number : Yes
Single Line Question Option : No Option Orientation : Vertical

Correct Marks : 1 Wrong Marks : 0.25

निम्नलिखित प्रश्न में, चार विकल्पों में से, उस विकल्प का चयन करें जो दिए गए मुहावरे का सही अर्थ वाला विकल्प है

मत्था मारना

Options :

1. ✗ सिर फोड़ना
2. ✗ सिर पीटना
3. ✓ सोच विचार करना
4. ✗ कठिन काम

Question Number : 95 Question Id : 99836719814 Question Type : MCQ Option Shuffling : Yes Display Question Number : Yes
Single Line Question Option : No Option Orientation : Vertical

Correct Marks : 1 Wrong Marks : 0.25

निम्नलिखित प्रश्न में, चार विकल्पों में से, उस विकल्प का चयन करें जो विराम चिह्न युक्त वाक्य का सही विकल्प हो

Options :

1. ✗ हम सुबह सैर, के लिए आपके साथ चलेंगे
2. ✗ हम सुबह सैर के लिए - आपके साथ चलेंगे
3. ✗ हम सुबह सैर के लिए, आपके साथ चलेंगे
4. ✓ हम सुबह सैर के लिए आपके साथ चलेंगे

Question Number : 95 Question Id : 99836719814 Question Type : MCQ Option Shuffling : Yes Display Question Number : Yes
Single Line Question Option : No Option Orientation : Vertical

Correct Marks : 1 Wrong Marks : 0.25

निम्नलिखित प्रश्न में, चार विकल्पों में से, उस विकल्प का चयन करें जो विराम चिह्न युक्त वाक्य का सही विकल्प हो

Options :

1. ✗ हम सुबह सैर, के लिए आपके साथ चलेंगे
2. ✗ हम सुबह सैर के लिए - आपके साथ चलेंगे
3. ✗ हम सुबह सैर के लिए, आपके साथ चलेंगे
4. ✓ हम सुबह सैर के लिए आपके साथ चलेंगे

Question Id : 99836719815 Question Type : COMPREHENSION Sub Question Shuffling Allowed : Yes Group Comprehension Questions : No

Question Numbers : (96 to 100)

Question Label : Comprehension

नीचे दिए गये गद्यांश के बाद 5 प्रश्न दिए गये हैं। इस गद्यांश को ध्यानपूर्वक पढ़ें और चार विकल्पों में से प्रत्येक प्रश्न का सर्वोत्तम उत्तर चुनें।

हम जानते हैं कि साँस की अधिकतर बीमारियाँ हवा की गन्दगी के कारण होती हैं और पेट की बीमारियाँ गंदे जल के कारण। जीवन को स्वस्थ बनाये रखने के लिए साँस लेने योग्य वायु और जीने योग्य पानी दोनों ही अत्यंत महत्त्वपूर्ण हैं। हमारे कल कारखाने और तेज चलने वाले वाहन भी भीषण शोर करते हैं। उन्हें भी नियंत्रित करने की आवश्यकता है। इनके बीच रहने से मानसिक तनाव बढ़ता है। हृदय की धड़कने तेज हो जाती है। यहाँ तक कि कभी-कभी हृदय गति बंद होने से मृत्यु तक हो सकती है।

Sub questions

Question Number : 96 Question Id : 99836719816 Question Type : MCQ Option Shuffling : Yes Display Question Number : Yes Single Line Question Option : No Option Orientation : Vertical

Correct Marks : 1 Wrong Marks : 0.25

अनुच्छेद में किस समस्या के बारे में बताया गया है?

Options :

1. ✘ बीमारी
2. ✘ साँस की समस्या
3. ✔ प्रदूषण की समस्या
4. ✘ जनसंख्या वृद्धि की समस्या

Question Number : 97 Question Id : 99836719817 Question Type : MCQ Option Shuffling : Yes Display Question Number : Yes Single Line Question Option : No Option Orientation : Vertical

Correct Marks : 1 Wrong Marks : 0.25

जीवन को स्वस्थ बनाये रखने के लिए क्या जरूरी है?

Options :

1. ✘ जल
2. ✘ वायु
3. ✘ तनाव युक्त जीवन
4. ✔ स्वच्छ वायु और पानी

Question Number : 98 Question Id : 99836719818 Question Type : MCQ Option Shuffling : Yes Display Question Number : Yes Single Line Question Option : No Option Orientation : Vertical

Correct Marks : 1 Wrong Marks : 0.25

मानसिक तनाव का क्या कारण है?

Options :

1. ✔ बढ़ता शोर
2. ✘ बढ़ती बीमारी
3. ✘ अनियंत्रित कार्य
4. ✘ अस्वस्थ जीवन

Question Number : 99 Question Id : 99836719819 Question Type : MCQ Option Shuffling : Yes Display Question Number : Yes Single Line Question Option : No Option Orientation : Vertical

Correct Marks : 1 Wrong Marks : 0.25

इनमें से कौन - सा नियंत्रित का पर्यायवाची नहीं है?

Options :

1. ✘ प्रतिबद्ध
2. ✔ निरंकुश

3. ✘ नियंत्रण
4. ✘ सीमित

Question Number : 100 Question Id : 99836719820 Question Type : MCQ Option Shuffling : Yes Display Question Number : Yes
Single Line Question Option : No Option Orientation : Vertical

Correct Marks : 1 Wrong Marks : 0.25

इस अनुच्छेद का कोई उपयुक्त शीर्षक:

Options :

1. ✘ कई बीमारियाँ
2. ✔ बढ़ते प्रदूषण का असर
3. ✘ नियंत्रित वातावरण
4. ✘ अनियंत्रित जनसंख्या

Question Id : 99836719815 Question Type : COMPREHENSION Sub Question Shuffling Allowed : Yes Group Comprehension
Questions : No

Question Numbers : (96 to 100)

Question Label : Comprehension

नीचे दिए गये गद्यांश के बाद 5 प्रश्न दिए गये हैं। इस गद्यांश को ध्यानपूर्वक पढ़ें और चार विकल्पों में से प्रत्येक प्रश्न का सर्वोत्तम उत्तर चुनें:

हम जानते हैं कि साँस की अधिकतर बीमारियाँ हवा की गन्दगी के कारण होती हैं और पेट की बीमारियाँ गंदे जल के कारण। जीवन को स्वस्थ बनाये रखने के लिए साँस लेने योग्य वायु और जीने योग्य पानी दोनों ही अत्यंत महत्त्वपूर्ण हैं। हमारे कल कारखाने और तेज चलने वाले वाहन भी भीषण शोर करते हैं। उन्हें भी नियंत्रित करने की आवश्यकता है। इनके बीच रहने से मानसिक तनाव बढ़ता है। हृदय की धड़कने तेज हो जाती है। यहाँ तक कि कभी-कभी हृदय गति बंद होने से मृत्यु तक हो सकती है।

Sub questions

Question Number : 96 Question Id : 99836719816 Question Type : MCQ Option Shuffling : Yes Display Question Number : Yes
Single Line Question Option : No Option Orientation : Vertical

Correct Marks : 1 Wrong Marks : 0.25

अनुच्छेद में किस समस्या के बारे में बताया गया है?

Options :

1. ✘ बीमारी
2. ✘ साँस की समस्या
3. ✔ प्रदूषण की समस्या
4. ✘ जनसंख्या वृद्धि की समस्या

Question Number : 97 Question Id : 99836719817 Question Type : MCQ Option Shuffling : Yes Display Question Number : Yes
Single Line Question Option : No Option Orientation : Vertical

Correct Marks : 1 Wrong Marks : 0.25

जीवन को स्वस्थ बनाये रखने के लिए क्या जरूरी है?

Options :

1. ✘ जल
2. ✘ वायु
3. ✘ तनाव युक्त जीवन
4. ✔ स्वच्छ वायु और पानी

Question Number : 98 Question Id : 99836719818 Question Type : MCQ Option Shuffling : Yes Display Question Number : Yes
Single Line Question Option : No Option Orientation : Vertical

Correct Marks : 1 Wrong Marks : 0.25

मानसिक तनाव का क्या कारण है?

Options :

1. ✔ बढ़ता शोर

2. ✘ बढ़ती बीमारी
3. ✘ अनियंत्रित कार्य
4. ✘ अस्वस्थ जीवन

Question Number : 99 Question Id : 99836719819 Question Type : MCQ Option Shuffling : Yes Display Question Number : Yes
Single Line Question Option : No Option Orientation : Vertical

Correct Marks : 1 Wrong Marks : 0.25

इनमें से कौन - सा नियंत्रित का पर्यायवाची नहीं है?

Options :

1. ✘ प्रतिबद्ध
2. ✔ निरंकुश
3. ✘ नियंत्रण
4. ✘ सीमित

Question Number : 100 Question Id : 99836719820 Question Type : MCQ Option Shuffling : Yes Display Question Number : Yes
Single Line Question Option : No Option Orientation : Vertical

Correct Marks : 1 Wrong Marks : 0.25

इस अनुच्छेद का कोई उपयुक्त शीर्षक:

Options :

1. ✘ कई बीमारियाँ
2. ✔ बढ़ते प्रदूषण का असर
3. ✘ नियंत्रित वातावरण
4. ✘ अनियंत्रित जनसंख्या

Discipline1

| | |
|---|-----------|
| Group Number : | 6 |
| Group Id : | 998367725 |
| Group Maximum Duration : | 0 |
| Group Minimum Duration : | 0 |
| Revisit allowed for view? : | No |
| Revisit allowed for edit? : | No |
| Break time: | 0 |
| Group Marks: | 20 |
| Revisit allowed for group Instructions? : | Yes |
| Maximum Instruction Time: | 0 |
| Minimum Instruction Time: | 0 |

Discipline1

| | |
|--------------------------------------|-----------|
| Section Id : | 998367846 |
| Section Number : | 1 |
| Section type : | Online |
| Mandatory or Optional: | Mandatory |
| Number of Questions: | 20 |
| Number of Questions to be attempted: | 20 |
| Section Marks: | 20 |
| Display Number Panel: | Yes |
| Group All Questions: | No |

Sub-Section Number: 1
Sub-Section Id: 9983671074
Question Shuffling Allowed : Yes

Question Number : 101 Question Id : 99836719821 Question Type : MCQ Option Shuffling : Yes Display Question Number : Yes
Single Line Question Option : No Option Orientation : Vertical

Correct Marks : 1 Wrong Marks : 0.25

Individualised, comprehensive and consistent care provided by one nurse for the total period of care (24/7) is known as:

Options :

1. primary nursing
2. case method
3. functional nursing
4. team nursing

Question Number : 101 Question Id : 99836719821 Question Type : MCQ Option Shuffling : Yes Display Question Number : Yes
Single Line Question Option : No Option Orientation : Vertical

Correct Marks : 1 Wrong Marks : 0.25

एक नर्स द्वारा प्रदान की जाने वाली एक व्यक्तिगत, व्यापक और सुसंगत देखभाल, जिसकी अवधि 24/7 है, उसे निम्नलिखित के रूप में जाना जाता है:

Options :

1. प्राथमिक नर्सिंग
2. मामला (केस) विधि
3. कार्यात्मक नर्सिंग
4. टीम नर्सिंग

Question Number : 102 Question Id : 99836719822 Question Type : MCQ Option Shuffling : Yes Display Question Number : Yes
Single Line Question Option : No Option Orientation : Vertical

Correct Marks : 1 Wrong Marks : 0.25

If 500 ml of normal saline is to be infused in 4 hours, then how many drops need to be infused per minute? The drop factor is 20 mega drops per ml.

Options :

1. 21
2. 46

3. ✘ 38

4. ✔ 42

Question Number : 102 Question Id : 99836719822 Question Type : MCQ Option Shuffling : Yes Display Question Number : Yes
Single Line Question Option : No Option Orientation : Vertical

Correct Marks : 1 Wrong Marks : 0.25

यदि 500 मिलीलीटर सामान्य खारा (सेलाइन) 4 घंटे में संक्रमित किया जाना है, तो प्रति मिनट कितने बूंदों को संक्रमित करने की आवश्यकता है? ड्रॉप फैक्टर प्रति मिलीलीटर 20 मेगा ड्रॉप्स है।

Options :

1. ✘ 21

2. ✘ 46

3. ✘ 38

4. ✔ 42

Question Number : 103 Question Id : 99836719823 Question Type : MCQ Option Shuffling : Yes Display Question Number : Yes
Single Line Question Option : No Option Orientation : Vertical

Correct Marks : 1 Wrong Marks : 0.25

संचार की प्रक्रिया में यह शामिल है:

Options :

1. ✔ भेजनेवाला, संदेश, चैनल और रिसीवर

2. ✘ संदेश, मीडिया, चैनल और प्रतिक्रिया

3. ✘ रिसीवर, संदेश, भेजनेवाला और चैनल

4. ✘ मौखिक, गैर-मौखिक संदेश और चैनल

Question Number : 103 Question Id : 99836719823 Question Type : MCQ Option Shuffling : Yes Display Question Number : Yes
Single Line Question Option : No Option Orientation : Vertical

Correct Marks : 1 Wrong Marks : 0.25

The process of communication includes:

Options :

1. ✔ sender, message, channel and receiver

2. ✘ message, media, channel and feedback

3. ✘ receiver, message, sender and channel

4. ✘ verbal, non-verbal message and channel

Question Number : 104 Question Id : 99836719824 Question Type : MCQ Option Shuffling : Yes Display Question Number : Yes
Single Line Question Option : No Option Orientation : Vertical

Correct Marks : 1 Wrong Marks : 0.25

Ringer's lactate solution contains all of the following constituents, EXCEPT:

Options :

1. ✘ potassium

2. ✘ chloride

3. ✔ glucose

4. ✘ sodium

Question Number : 104 Question Id : 99836719824 Question Type : MCQ Option Shuffling : Yes Display Question Number : Yes
Single Line Question Option : No Option Orientation : Vertical

Correct Marks : 1 Wrong Marks : 0.25

रिंगर के लैक्टेट घोल में निम्नलिखित सभी घटक शामिल हैं, सिवाय इसके:

Options :

1. ✘ पोटैशियम

2. ✘ क्लोराइड

3. ✔ शर्करा (ग्लूकोज़)

4. ✘ सोडियम

Question Number : 105 Question Id : 99836719825 Question Type : MCQ Option Shuffling : Yes Display Question Number : Yes
Single Line Question Option : No Option Orientation : Vertical

Correct Marks : 1 Wrong Marks : 0.25

A cuff that is too narrow will provide what type of reading for the patient's BP?

Options :

1. ✘ True high reading

2. ✘ True low reading

3. ✓ False high reading

4. ✘ False low reading

Question Number : 105 Question Id : 99836719825 Question Type : MCQ Option Shuffling : Yes Display Question Number : Yes
Single Line Question Option : No Option Orientation : Vertical

Correct Marks : 1 Wrong Marks : 0.25

एक कफ जो बहुत संकीर्ण है, रोगी के बीपी के लिए किस प्रकार की रीडिंग प्रदान करेगा?

Options :

1. ✘ सच्चा और ऊँचा रीडिंग

2. ✘ सच्चा और निम्न रीडिंग

3. ✓ गलत और ऊँचा रीडिंग

4. ✘ गलत और निम्न रीडिंग

Question Number : 106 Question Id : 99836719826 Question Type : MCQ Option Shuffling : Yes Display Question Number : Yes
Single Line Question Option : No Option Orientation : Vertical

Correct Marks : 1 Wrong Marks : 0.25

Loud drum like high pitch sounds on percussion known as:

Options :

1. ✘ resonance

2. ✓ tympani

3. ✘ hyper resonance

4. ✘ crackles

Question Number : 106 Question Id : 99836719826 Question Type : MCQ Option Shuffling : Yes Display Question Number : Yes
Single Line Question Option : No Option Orientation : Vertical

Correct Marks : 1 Wrong Marks : 0.25

तालवाद्य पर उच्च पिच आवाज़ की तरह लगने वाले लाउड ड्रम को इस रूप में जाना जाता है:

Options :

1. ✘ प्रतिध्वनि (गूँज)

2. ✓ नगाड़ा (त्यम्पनी)

3. ✘ अति- प्रतिध्वनि

4. ✘ कर्कश ध्वनि (क्रैकल)

Question Number : 107 Question Id : 99836719827 Question Type : MCQ Option Shuffling : Yes Display Question Number : Yes
Single Line Question Option : No Option Orientation : Vertical

Correct Marks : 1 Wrong Marks : 0.25

What is fremitus?

Options :

1. ✘ Movement of the thoracic diaphragm during breathing
2. ✘ Widened costal angle
3. ✔ Perceptible vibration felt through the chest wall when the patient speaks
4. ✘ Use of accessory muscles for respiration

Question Number : 107 Question Id : 99836719827 Question Type : MCQ Option Shuffling : Yes Display Question Number : Yes
Single Line Question Option : No Option Orientation : Vertical

Correct Marks : 1 Wrong Marks : 0.25

फ्रेमिटस क्या है?

Options :

1. ✘ सांस लेने के समय वक्षीय डायफ्राम का हिलना
2. ✘ चौड़ी कोस्टल कोण
3. ✔ जब मरीज बोल रहा होता है छाती की दीवार के माध्यम से एक बोधगम्य कंपन महसूस की जाता है
4. ✘ श्वसन के लिए गौण मांसपेशियों का उपयोग

Question Number : 108 Question Id : 99836719828 Question Type : MCQ Option Shuffling : Yes Display Question Number : Yes
Single Line Question Option : No Option Orientation : Vertical

Correct Marks : 1 Wrong Marks : 0.25

What is the normal range for specific gravity of urine?

Options :

1. ✔ 1.001 to 1.060
2. ✘ 1.100 to 1.160

3. ✘ 1.006 to 1.010

4. ✘ 1.01 to 1.10

Question Number : 108 Question Id : 99836719828 Question Type : MCQ Option Shuffling : Yes Display Question Number : Yes
Single Line Question Option : No Option Orientation : Vertical

Correct Marks : 1 Wrong Marks : 0.25

मूत्र के विशिष्ट गुरुत्वाकर्षण के लिए सामान्य सीमा क्या है?

Options :

1. ✔ 1.001 से 1.060

2. ✘ 1.100 से 1.160

3. ✘ 1.006 से 1.010

4. ✘ 1.01 से 1.10

Question Number : 109 Question Id : 99836719829 Question Type : MCQ Option Shuffling : Yes Display Question Number : Yes
Single Line Question Option : No Option Orientation : Vertical

Correct Marks : 1 Wrong Marks : 0.25

Which of the following is NOT a common solution used for bladder irrigation?

Options :

1. ✘ Sodium nitrate

2. ✘ Potassium permanganate

3. ✘ Boric acid

4. ✔ Lactic acid

Question Number : 109 Question Id : 99836719829 Question Type : MCQ Option Shuffling : Yes Display Question Number : Yes
Single Line Question Option : No Option Orientation : Vertical

Correct Marks : 1 Wrong Marks : 0.25

मूत्राशय को धो कर साफ करने के लिए निम्नलिखित में से कौन सा एक सामान्य घोल नहीं है?

Options :

1. ✘ सोडियम नाइट्रेट

2. ✘ पोटेशियम परमैंगनेट

3. ✘ बोरिक अम्ल

4. ✔ लैक्टिक एसिड

Question Number : 110 Question Id : 99836719830 Question Type : MCQ Option Shuffling : Yes Display Question Number : Yes
Single Line Question Option : No Option Orientation : Vertical

Correct Marks : 1 Wrong Marks : 0.25

Which of the following actions should NOT be done as part of first aid for poison swallowing?

Options :

1. ✘ Keep checking the patient's breathing, pulse and level of consciousness.

2. ✘ Look for clues like plants, empty packets and containers.

3. ✘ If unresponsive, open the airway and check breathing.

4. ✔ Make the patient drink clear liquids and induce vomiting.

Question Number : 110 Question Id : 99836719830 Question Type : MCQ Option Shuffling : Yes Display Question Number : Yes
Single Line Question Option : No Option Orientation : Vertical

Correct Marks : 1 Wrong Marks : 0.25

ज़हर निगलने पर प्राथमिक उपचार के रूप में निम्नलिखित में से कौन सी कार्रवाई नहीं की जानी चाहिए?

Options :

1. ✘ मरीज की श्वास, नाड़ी और चेतना के स्तर की जाँच करते रहना।

2. ✘ पौधों, खाली पैकेट और कंटेनरों जैसे सुराग की तलाश करते रहना।

3. ✘ यदि प्रतिक्रियाशील नहीं है, तो वायुमार्ग खोलें और श्वास की जांच करते रहना।

4. ✔ मरीज को निर्मल तरल पिलाएं और उल्टी को प्रेरित करते रहना।

Question Number : 111 Question Id : 99836719831 Question Type : MCQ Option Shuffling : Yes Display Question Number : Yes
Single Line Question Option : No Option Orientation : Vertical

Correct Marks : 1 Wrong Marks : 0.25

One teaspoon is equal to how many drops?

Options :

1. ✘ 15 drops

2. ✘ 30 drops

3. ✘ 60 drops

4. ✔ 75 drops

Question Number : 111 Question Id : 99836719831 Question Type : MCQ Option Shuffling : Yes Display Question Number : Yes
Single Line Question Option : No Option Orientation : Vertical

Correct Marks : 1 Wrong Marks : 0.25

एक छोटा चमचा कितने बूंदों के बराबर है?

Options :

1. ✘ 15 बूँदें

2. ✘ 30 बूँदें

3. ✘ 60 बूँदें

4. ✔ 75 बूँदें

Question Number : 112 Question Id : 99836719832 Question Type : MCQ Option Shuffling : Yes Display Question Number : Yes
Single Line Question Option : No Option Orientation : Vertical

Correct Marks : 1 Wrong Marks : 0.25

What would be the dose of insulin in ml, if 24 units of insulin is given using U-40/ml insulin?

Options :

1. ✘ 0.2 ml

2. ✘ 0.4 ml

3. ✔ 0.6 ml

4. ✘ 0.8 ml

Question Number : 112 Question Id : 99836719832 Question Type : MCQ Option Shuffling : Yes Display Question Number : Yes
Single Line Question Option : No Option Orientation : Vertical

Correct Marks : 1 Wrong Marks : 0.25

अगर यू - 40 / मिलीलीटर इंसुलिन का उपयोग करके इंसुलिन की 24 इकाइयां दी जाती हैं तो मिलीलीटर में इंसुलिन की खुराक क्या होगी?

Options :

1. ✘ 0.2 मिली

2. ✘ 0.4 मिली

3. ✔ 0.6 मिली

4. ✘ 0.8 मिली

Question Number : 113 Question Id : 99836719833 Question Type : MCQ Option Shuffling : Yes Display Question Number : Yes
Single Line Question Option : No Option Orientation : Vertical

Correct Marks : 1 Wrong Marks : 0.25

Identify the Non-Essential Amino Acid from the following options.

Options :

1. ✔ Glutamic Acid

2. ✘ Histidine

3. ✘ Valine

4. ✘ Lysine

Question Number : 113 Question Id : 99836719833 Question Type : MCQ Option Shuffling : Yes Display Question Number : Yes
Single Line Question Option : No Option Orientation : Vertical

Correct Marks : 1 Wrong Marks : 0.25

निम्नलिखित विकल्पों में से गैर-आवश्यक अमीनो एसिड की पहचान करें।

Options :

1. ✔ ग्लूटामिक अम्ल

2. ✘ हिस्टीन

3. ✘ वैलिन

4. ✘ लाइसिन

Question Number : 114 Question Id : 99836719834 Question Type : MCQ Option Shuffling : Yes Display Question Number : Yes
Single Line Question Option : No Option Orientation : Vertical

Correct Marks : 1 Wrong Marks : 0.25

Pellagra is a deficiency of:

Options :

1. ✘ pyridoxine

2. ✘ pantothenic acid

3. ✔ nicotinic acid

4. ✘ biotin

Question Number : 114 Question Id : 99836719834 Question Type : MCQ Option Shuffling : Yes Display Question Number : Yes
Single Line Question Option : No Option Orientation : Vertical

Correct Marks : 1 Wrong Marks : 0.25

पेलाग्रा इस की कमी है:

Options :

1. ✘ पाइरिडोक्सिन

2. ✘ पैंटोथैनिक एसिड

3. ✔ निकोटिनिक एसिड

4. ✘ बायोटिन

Question Number : 115 Question Id : 99836719835 Question Type : MCQ Option Shuffling : Yes Display Question Number : Yes
Single Line Question Option : No Option Orientation : Vertical

Correct Marks : 1 Wrong Marks : 0.25

A patient is diagnosed with gout. What type of food should be given to the patient?

Options :

1. ✘ High iodine diet

2. ✘ Diabetic diet

3. ✔ Low purine diet

4. ✘ Iron rich diet

Question Number : 115 Question Id : 99836719835 Question Type : MCQ Option Shuffling : Yes Display Question Number : Yes
Single Line Question Option : No Option Orientation : Vertical

Correct Marks : 1 Wrong Marks : 0.25

एक मरीज को गाउट की बीमारी है। मरीज को किस प्रकार का भोजन दिया जाना चाहिए?

Options :

1. ✘ उच्च आयोडीन युक्त आहार

2. ✘ मधुमेह संबंधी आहार

3. ✔ कम प्यूरीन आहार

4. ✘ आयरन युक्त आहार

Question Number : 116 Question Id : 99836719836 Question Type : MCQ Option Shuffling : Yes Display Question Number : Yes
Single Line Question Option : No Option Orientation : Vertical

Correct Marks : 1 Wrong Marks : 0.25

When was the National Goitre Programme launched?

Options :

1. ✘ 1952

2. ✔ 1962

3. ✘ 1972

4. ✘ 1982

Question Number : 116 Question Id : 99836719836 Question Type : MCQ Option Shuffling : Yes Display Question Number : Yes
Single Line Question Option : No Option Orientation : Vertical

Correct Marks : 1 Wrong Marks : 0.25

राष्ट्रीय गाँड़टर कार्यक्रम कब शुरू किया गया था?

Options :

1. ✘ 1952

2. ✔ 1962

3. ✘ 1972

4. ✘ 1982

Question Number : 117 Question Id : 99836719837 Question Type : MCQ Option Shuffling : Yes Display Question Number : Yes
Single Line Question Option : No Option Orientation : Vertical

Correct Marks : 1 Wrong Marks : 0.25

The hormone which helps in glycogenolysis is:

Options :

1. ✔ epinephrine

2. ✘ estrogen

3. ✘ estradiol

4. ✘ trypsin

Question Number : 117 Question Id : 99836719837 Question Type : MCQ Option Shuffling : Yes Display Question Number : Yes
Single Line Question Option : No Option Orientation : Vertical

Correct Marks : 1 Wrong Marks : 0.25

हार्मोन जो ग्लाइकोजेनोलिसिस में मदद करता है:

Options :

1. ✔ एपिनेफ्रीन

2. ✘ एस्ट्रोजन

3. ✘ एस्ट्राडियोल

4. ✘ ट्रिप्सिन

Question Number : 118 Question Id : 99836719838 Question Type : MCQ Option Shuffling : Yes Display Question Number : Yes
Single Line Question Option : No Option Orientation : Vertical

Correct Marks : 1 Wrong Marks : 0.25

The immunoglobulin that can cross the placenta and transfer the mother's immunity to the developing foetus is:

Options :

1. ✘ immunoglobulin D

2. ✘ immunoglobulin M

3. ✘ immunoglobulin A

4. ✔ immunoglobulin G

Question Number : 118 Question Id : 99836719838 Question Type : MCQ Option Shuffling : Yes Display Question Number : Yes
Single Line Question Option : No Option Orientation : Vertical

Correct Marks : 1 Wrong Marks : 0.25

इम्युनोग्लोबुलिन जो गर्भनाल को पार कर सकता है और विकासशील भ्रूण में माँ की प्रतिरक्षा को स्थानांतरित कर सकता है:

Options :

1. ✘ इम्युनोग्लोबुलिन डी

2. ✘ इम्युनोग्लोबुलिन एम

3. ✘ इम्युनोग्लोबुलिन ए

4. ✔ इम्युनोग्लोबुलिन जी

Question Number : 119 Question Id : 99836719839 Question Type : MCQ Option Shuffling : Yes Display Question Number : Yes
Single Line Question Option : No Option Orientation : Vertical

Correct Marks : 1 Wrong Marks : 0.25

The pyrimidine base that is present in RNA is:

Options :

1. ✘ adenine

2. ✘ guanine

3. ✔ uracil

4. ✘ thymine

Question Number : 119 Question Id : 99836719839 Question Type : MCQ Option Shuffling : Yes Display Question Number : Yes
Single Line Question Option : No Option Orientation : Vertical

Correct Marks : 1 Wrong Marks : 0.25

आरएनए में मौजूद पाइरीमिडीन बेस कौन सा है?

Options :

1. ✘ एडीनाइन

2. ✘ गुआनिन

3. ✔ यूरासिल

4. ✘ थाइमिन

Question Number : 120 Question Id : 99836719840 Question Type : MCQ Option Shuffling : Yes Display Question Number : Yes
Single Line Question Option : No Option Orientation : Vertical

Correct Marks : 1 Wrong Marks : 0.25

Which of the following statements is NOT true of operant conditioning?

Options :

1. ✔ Responses are involuntary and automatic

2. ✘ Responses decrease when reinforcements stop
3. ✘ Learners role is active
4. ✘ Law of effect is used

Question Number : 120 Question Id : 99836719840 Question Type : MCQ Option Shuffling : Yes Display Question Number : Yes
Single Line Question Option : No Option Orientation : Vertical

Correct Marks : 1 Wrong Marks : 0.25

निम्नलिखित कथनों में से कौन सा कथन प्रभावी अनुकूलन (ऑपरैन्ट) कंडीशनिंग के बारे में सच नहीं है?

Options :

1. ✔ प्रतिक्रियाएँ अनैच्छिक और स्वचालित हैं
2. ✘ पुनर्बलन रुकने पर प्रतिक्रियाएँ कम हो जाती हैं
3. ✘ शिक्षार्थियों की भूमिका सक्रिय है
4. ✘ प्रभाव के कानून का उपयोग किया जाता है

Discipline2

| | |
|---|-----------|
| Group Number : | 7 |
| Group Id : | 998367726 |
| Group Maximum Duration : | 0 |
| Group Minimum Duration : | 0 |
| Revisit allowed for view? : | No |
| Revisit allowed for edit? : | No |
| Break time: | 0 |
| Group Marks: | 20 |
| Revisit allowed for group Instructions? : | Yes |
| Maximum Instruction Time: | 0 |
| Minimum Instruction Time: | 0 |

Discipline2

| | |
|--------------------------------------|-----------|
| Section Id : | 998367847 |
| Section Number : | 1 |
| Section type : | Online |
| Mandatory or Optional: | Mandatory |
| Number of Questions: | 20 |
| Number of Questions to be attempted: | 20 |
| Section Marks: | 20 |
| Display Number Panel: | Yes |
| Group All Questions: | No |

Sub-Section Number: 1
Sub-Section Id: 9983671075
Question Shuffling Allowed : Yes

Question Number : 121 Question Id : 99836719841 Question Type : MCQ Option Shuffling : Yes Display Question Number : Yes
Single Line Question Option : No Option Orientation : Vertical
Correct Marks : 1 Wrong Marks : 0.25

All men are mortal. Socrates is a man. Socrates is mortal. Identify the type of reasoning.

Options :

1. ✘ Dialectical reasoning
2. ✔ Deductive reasoning
3. ✘ Inductive reasoning
4. ✘ Democratic reasoning

Question Number : 121 Question Id : 99836719841 Question Type : MCQ Option Shuffling : Yes Display Question Number : Yes
Single Line Question Option : No Option Orientation : Vertical
Correct Marks : 1 Wrong Marks : 0.25

सभी आदमी नश्वर हैं। सुकरात एक आदमी है। सुकरात नश्वर है। तर्क के प्रकार को पहचानें।

Options :

1. ✘ द्वंद्वात्मक तर्क
2. ✔ निगमनात्मक तर्क
3. ✘ आगमनात्मक तर्क
4. ✘ लोकतांत्रिक तर्क

Question Number : 122 Question Id : 99836719842 Question Type : MCQ Option Shuffling : Yes Display Question Number : Yes
Single Line Question Option : No Option Orientation : Vertical
Correct Marks : 1 Wrong Marks : 0.25

Mr. X is on a diet for obesity. He wants some of his favourite dessert, ice cream, but he is also reminded of his extra calories. Identify the type of conflict.

Options :

1. ✘ Approach-approach conflict
2. ✔ Approach-avoidance conflict

3. ✘ Avoidance-avoidance conflict
4. ✘ Double approach-avoidance conflict

Question Number : 122 Question Id : 99836719842 Question Type : MCQ Option Shuffling : Yes Display Question Number : Yes
Single Line Question Option : No Option Orientation : Vertical
Correct Marks : 1 Wrong Marks : 0.25

श्रीमान एक्स मोटापे के लिए डाइट पर हैं। वह अपनी पसंदीदा मिठाई, आइसक्रीम चाहते हैं, लेकिन उन्हें अपने अतिरिक्त कैलोरी की भी याद दिलाई जाती है। द्वन्द्व के प्रकार को पहचानें।

Options :

1. ✘ दृष्टिकोण-दृष्टिकोण द्वन्द्व
2. ✔ दृष्टिकोण-परिहार द्वन्द्व
3. ✘ परिहार-परिहार द्वन्द्व
4. ✘ दोहरा दृष्टिकोण-परिहार द्वन्द्व

Question Number : 123 Question Id : 99836719843 Question Type : MCQ Option Shuffling : Yes Display Question Number : Yes
Single Line Question Option : No Option Orientation : Vertical
Correct Marks : 1 Wrong Marks : 0.25

Which enzyme is secreted by a sperm which helps in its penetration into the ovum?

Options :

1. ✔ Hyaluronidase
2. ✘ Protease
3. ✘ Glucocerebrosidase
4. ✘ Amylase

Question Number : 123 Question Id : 99836719843 Question Type : MCQ Option Shuffling : Yes Display Question Number : Yes
Single Line Question Option : No Option Orientation : Vertical
Correct Marks : 1 Wrong Marks : 0.25

एक शुक्राणु द्वारा कौन सा एंजाइम स्रावित होता है जो डिंब में प्रवेश करने में मदद करता है?

Options :

1. ✔ हयालूरोनिडेस

2. ✘ प्रोटीज

3. ✘ ग्लूकोसरेब्रोसिडेज

4. ✘ एमाइलेस

Question Number : 124 Question Id : 99836719844 Question Type : MCQ Option Shuffling : Yes Display Question Number : Yes
Single Line Question Option : No Option Orientation : Vertical

Correct Marks : 1 Wrong Marks : 0.25

For which of the following vaginal signs, increased pulsation is felt through the lateral fornices during pregnancy?

Options :

1. ✔ Oslander sign

2. ✘ Chadwick's sign

3. ✘ Jacquemier's sign

4. ✘ Hegar's sign

Question Number : 124 Question Id : 99836719844 Question Type : MCQ Option Shuffling : Yes Display Question Number : Yes
Single Line Question Option : No Option Orientation : Vertical

Correct Marks : 1 Wrong Marks : 0.25

निम्न में से किस योनि चिन्ह के लिए, गर्भावस्था के दौरान पार्श्व फोर्निस के माध्यम से वृद्धि हुई धड़कन महसूस होती है?

Options :

1. ✔ ओसियांदर का चिन्ह

2. ✘ चाडविक का चिन्ह

3. ✘ जैक्विमियर का चिन्ह

4. ✘ हेगर का चिन्ह

Question Number : 125 Question Id : 99836719845 Question Type : MCQ Option Shuffling : Yes Display Question Number : Yes
Single Line Question Option : No Option Orientation : Vertical

Correct Marks : 1 Wrong Marks : 0.25

Which of the following movements occur after delivery of the head during the mechanism of labour?

Options :

1. ✘ Flexion

2. ✘ Internal rotation

3. ✘ Crowning

4. ✔ Restitution

Question Number : 125 Question Id : 99836719845 Question Type : MCQ Option Shuffling : Yes Display Question Number : Yes
Single Line Question Option : No Option Orientation : Vertical

Correct Marks : 1 Wrong Marks : 0.25

प्रसव के तंत्र के दौरान सिर की डिलीवरी के बाद निम्नलिखित में से कौन सी क्रिया होती है?

Options :

1. ✘ फ्लेक्सियन

2. ✘ आंतरिक रोटेशन

3. ✘ क्राऊनिंग

4. ✔ प्रत्यास्थापन

Question Number : 126 Question Id : 99836719846 Question Type : MCQ Option Shuffling : Yes Display Question Number : Yes
Single Line Question Option : No Option Orientation : Vertical

Correct Marks : 1 Wrong Marks : 0.25

What is the average duration of the first stage of labour in primigravidae?

Options :

1. ✘ 2 hours

2. ✘ 6 hours

3. ✘ 8 hours

4. ✔ 12 hours

Question Number : 126 Question Id : 99836719846 Question Type : MCQ Option Shuffling : Yes Display Question Number : Yes
Single Line Question Option : No Option Orientation : Vertical

Correct Marks : 1 Wrong Marks : 0.25

प्राइमिग्रेविडे में प्रसव के पहले चरण की औसत अवधि क्या है?

Options :

1. ✘ 2 घंटे

2. ✘ 6 घंटे

3. ✖ 8 घंटे

4. ✔ 12 घंटे

Question Number : 127 Question Id : 99836719847 Question Type : MCQ Option Shuffling : Yes Display Question Number : Yes
Single Line Question Option : No Option Orientation : Vertical

Correct Marks : 1 Wrong Marks : 0.25

Which drug causes lactation suppression in a postnatal mother?

Options :

1. ✔ Bromocriptine

2. ✖ Oxytocin

3. ✖ Metoclopramide

4. ✖ Sulpiride

Question Number : 127 Question Id : 99836719847 Question Type : MCQ Option Shuffling : Yes Display Question Number : Yes
Single Line Question Option : No Option Orientation : Vertical

Correct Marks : 1 Wrong Marks : 0.25

कौन सी दवा प्रसवोत्तर माँ में स्तनपान दमन का कारण बनती है?

Options :

1. ✔ ब्रोमोक्रिप्टीन

2. ✖ ऑक्सीटोसिन

3. ✖ मेटोक्लोप्रामिड

4. ✖ सलपिराइड

Question Number : 128 Question Id : 99836719848 Question Type : MCQ Option Shuffling : Yes Display Question Number : Yes
Single Line Question Option : No Option Orientation : Vertical

Correct Marks : 1 Wrong Marks : 0.25

Which instrument is used for low rupture of membranes?

Options :

1. ✔ Kocher's forceps

2. ✖ Kielland's forceps

3. ✘ Curette

4. ✘ Ovum forceps

Question Number : 128 Question Id : 99836719848 Question Type : MCQ Option Shuffling : Yes Display Question Number : Yes
Single Line Question Option : No Option Orientation : Vertical

Correct Marks : 1 Wrong Marks : 0.25

झिल्ली के सामान्य टूटने के लिए किस उपकरण का उपयोग किया जाता है?

Options :

1. ✔ कोचर के संदंश (फॉर्सेप्स)

2. ✘ कीलेंड के संदंश

3. ✘ खुरचनी (क्यूरेट)

4. ✘ डिंब संदंश

Question Number : 129 Question Id : 99836719849 Question Type : MCQ Option Shuffling : Yes Display Question Number : Yes
Single Line Question Option : No Option Orientation : Vertical

Correct Marks : 1 Wrong Marks : 0.25

What is the drug of choice, specifically for the management of convulsions in eclampsia?

Options :

1. ✘ Ampicillin

2. ✘ Pethidine

3. ✔ Magnesium sulphate

4. ✘ Diazepam

Question Number : 129 Question Id : 99836719849 Question Type : MCQ Option Shuffling : Yes Display Question Number : Yes
Single Line Question Option : No Option Orientation : Vertical

Correct Marks : 1 Wrong Marks : 0.25

एक्लेम्पसिया में ऐंठन के प्रबंधन के लिए विशेष रूप से मुख्य मानी गई दवा क्या है?

Options :

1. ✘ एम्पीसिलीन

2. ✘ पेथिडाइन

3. ✓ मैग्नीशियम सल्फेट

4. ✘ डायजेपाम

Question Number : 130 Question Id : 99836719850 Question Type : MCQ Option Shuffling : Yes Display Question Number : Yes
Single Line Question Option : No Option Orientation : Vertical

Correct Marks : 1 Wrong Marks : 0.25

Which procedure is performed in order to prevent an abortion in case of cervical incompetence?

Options :

1. ✘ Metroplasty

2. ✘ Colpotomy

3. ✓ Cerclage

4. ✘ Induction

Question Number : 130 Question Id : 99836719850 Question Type : MCQ Option Shuffling : Yes Display Question Number : Yes
Single Line Question Option : No Option Orientation : Vertical

Correct Marks : 1 Wrong Marks : 0.25

गर्भाशय ग्रीवा की अक्षमता के मामले में गर्भपात को रोकने के लिए कौन सी प्रक्रिया की जाती है?

Options :

1. ✘ मेट्रोप्लासटी

2. ✘ योनिभित्तिछेदन

3. ✓ सरक्लेज

4. ✘ अधिष्ठापन

Question Number : 131 Question Id : 99836719851 Question Type : MCQ Option Shuffling : Yes Display Question Number : Yes
Single Line Question Option : No Option Orientation : Vertical

Correct Marks : 1 Wrong Marks : 0.25

In which position is a pregnant lady to be placed on the delivery room table for a caesarean section?

Options :

1. ✘ Trendelenburg position with the legs in stirrups

2. ✘ Semi-Fowler's position with a pillow under the knees

3. ✘ Prone position with the legs separated and elevated

4. ✔ Supine position with a wedge under the right hip

Question Number : 131 Question Id : 99836719851 Question Type : MCQ Option Shuffling : Yes Display Question Number : Yes
Single Line Question Option : No Option Orientation : Vertical

Correct Marks : 1 Wrong Marks : 0.25

सिजेरियन सेक्शन के लिए प्रसव कक्ष की मेज पर एक गर्भवती महिला को किस अवस्था में रखा जाता है?

Options :

1. ✘ रकाब में पैरों के साथ ट्रेडेलनबर्ग स्थिति

2. ✘ घुटने के नीचे एक तकिया के साथ अर्ध-फाउलर की स्थिति

3. ✘ पैरों को अलग और ऊंचा करने के साथ प्रवण स्थिति

4. ✔ दाहिने कूल्हे के नीचे एक कील के साथ सुपाइन की स्थिति

Question Number : 132 Question Id : 99836719852 Question Type : MCQ Option Shuffling : Yes Display Question Number : Yes
Single Line Question Option : No Option Orientation : Vertical

Correct Marks : 1 Wrong Marks : 0.25

Which of the following signs or symptoms would a nurse note if superficial venous thrombosis were present in a mother who delivered a healthy infant by cesarean section?

Options :

1. ✘ Palpable dorsalis pedis pulse

2. ✘ Paleness of the calf area

3. ✔ Enlarged and hardened veins

4. ✘ Coolness of the calf area

Question Number : 132 Question Id : 99836719852 Question Type : MCQ Option Shuffling : Yes Display Question Number : Yes
Single Line Question Option : No Option Orientation : Vertical

Correct Marks : 1 Wrong Marks : 0.25

निम्नलिखित में से कौन सा संकेत या लक्षण पर एक नर्स ध्यान देगा यदि सतही शिरापरक घनास्त्रता एक माँ में मौजूद थी जो सिजेरियन सेक्शन द्वारा एक स्वस्थ शिशु को जन्म देती है?

Options :

1. ✘ पैल्पेबल डोर्सलिस पेडिस पल्स

2. ✘ पिंडली क्षेत्र का पीलापन

3. ✔ बड़े हुए और सख्त नर्स

4. ✘ पिंडली क्षेत्र की शीतलता

Question Number : 133 Question Id : 99836719853 Question Type : MCQ Option Shuffling : Yes Display Question Number : Yes
Single Line Question Option : No Option Orientation : Vertical

Correct Marks : 1 Wrong Marks : 0.25

Which nursing intervention would be appropriate initially, when a nurse assessing the uterine fundus of a mother in the immediate postpartum period, notes that the uterus feels soft and boggy?

Options :

1. ✘ Elevate the patient's legs

2. ✘ Push on the uterus to assist in expressing clots

3. ✘ Encourage the patient to void

4. ✔ Massage the fundus until it is firm

Question Number : 133 Question Id : 99836719853 Question Type : MCQ Option Shuffling : Yes Display Question Number : Yes
Single Line Question Option : No Option Orientation : Vertical

Correct Marks : 1 Wrong Marks : 0.25

शुरु में कौन सा नर्सिंग देखभाल उचित होगा, जब एक नर्स तत्काल प्रसवोत्तर अवधि में माँ के गर्भाशय फंडस का आकलन करती है, और महसूस करती है, कि गर्भाशय नरम और दलदली है?

Options :

1. ✘ मरीज के पैरों को ऊपर उठाएं

2. ✘ थक्के को प्रकट करने में सहायता करने के लिए गर्भाशय पर धक्का दें

3. ✘ मरीज को खाली करने के लिए प्रोत्साहित करें

4. ✔ जब तक यह दृढ़ न हो जाए तब तक फंडस की मालिश करें

Question Number : 134 Question Id : 99836719854 Question Type : MCQ Option Shuffling : Yes Display Question Number : Yes
Single Line Question Option : No Option Orientation : Vertical

Correct Marks : 1 Wrong Marks : 0.25

Which of the following is noted on the external monitor tracing a contraction, when a nurse suspects umbilical cord compression while monitoring a mother in labour?

Options :

1. ✓ Variable decelerations
2. ✗ Variability
3. ✗ Early decelerations
4. ✗ Accelerations

Question Number : 134 Question Id : 99836719854 Question Type : MCQ Option Shuffling : Yes Display Question Number : Yes
Single Line Question Option : No Option Orientation : Vertical

Correct Marks : 1 Wrong Marks : 0.25

जब एक नर्स प्रसव में एक माँ की निगरानी करते हुए गर्भनाल संपीड़न का संदेह करती है, निम्नलिखित में से किस पर एक संकुचन का पता लगाने वाले बाहरी मॉनिटर पर ध्यान दिया जाता है?

Options :

1. ✓ परिवर्तनीय अवत्वरण
2. ✗ परिवर्तनशीलता
3. ✗ शीघ्र अवत्वरण
4. ✗ त्वरण

Question Number : 135 Question Id : 99836719855 Question Type : MCQ Option Shuffling : Yes Display Question Number : Yes
Single Line Question Option : No Option Orientation : Vertical

Correct Marks : 1 Wrong Marks : 0.25

What is the condition called where the uterus is turned inside out partially or completely?

Options :

1. ✗ Involution
2. ✗ Subinvolution
3. ✗ Retroversion
4. ✓ Inversion

Question Number : 135 Question Id : 99836719855 Question Type : MCQ Option Shuffling : Yes Display Question Number : Yes
Single Line Question Option : No Option Orientation : Vertical

Correct Marks : 1 Wrong Marks : 0.25

जहाँ गर्भाशय को आंशिक रूप से या पूरी तरह से बाहर कर दिया जाता है, उस स्थिति को क्या कहा जाता है?

Options :

1. ✘ प्रत्यावर्तन
2. ✘ आंशिक प्रत्यावर्तन
3. ✘ रेट्रोवर्जन
4. ✔ उलट देना (इनवर्जन)

Question Number : 136 Question Id : 99836719856 Question Type : MCQ Option Shuffling : Yes Display Question Number : Yes
Single Line Question Option : No Option Orientation : Vertical

Correct Marks : 1 Wrong Marks : 0.25

Which term refers to the progressive increase in skill and capacity to function?

Options :

1. ✘ Maturation
2. ✔ Development
3. ✘ Growth
4. ✘ Intelligence

Question Number : 136 Question Id : 99836719856 Question Type : MCQ Option Shuffling : Yes Display Question Number : Yes
Single Line Question Option : No Option Orientation : Vertical

Correct Marks : 1 Wrong Marks : 0.25

कौन सा शब्द कौशल और कार्य करने की क्षमता में प्रगतिशील वृद्धि को दर्शाता है?

Options :

1. ✘ परिपक्वता
2. ✔ विकसन
3. ✘ विकास
4. ✘ बुद्धि

Question Number : 137 Question Id : 99836719857 Question Type : MCQ Option Shuffling : Yes Display Question Number : Yes
Single Line Question Option : No Option Orientation : Vertical

Correct Marks : 1 Wrong Marks : 0.25

What is Caput Succedaneum?

Options :

1. ✓ Oedema of the presenting part of the scalp
2. ✘ Accumulation of blood between the periosteum and the flat skull bone
3. ✘ Wide separation of skull sutures
4. ✘ Presence of forceps marks over the scalp

Question Number : 137 Question Id : 99836719857 Question Type : MCQ Option Shuffling : Yes Display Question Number : Yes
Single Line Question Option : No Option Orientation : Vertical

Correct Marks : 1 Wrong Marks : 0.25

प्रसवशीर्षशोफ क्या है?

Options :

1. ✓ खोपड़ी के पेश भाग का एडिमा
2. ✘ पेरीओस्टेम और सपाट खोपड़ी की हड्डी के बीच रक्त का संचय
3. ✘ खोपड़ी के टांके की व्यापक पृथक्करण
4. ✘ खोपड़ी पर संदंश के निशान की उपस्थिति

Question Number : 138 Question Id : 99836719858 Question Type : MCQ Option Shuffling : Yes Display Question Number : Yes
Single Line Question Option : No Option Orientation : Vertical

Correct Marks : 1 Wrong Marks : 0.25

Which of the following classifications of Protein-Energy Malnutrition classifies a weight of more than 90% of the expected weight for that age as normal?

Options :

1. ✘ Classification by Indian Academy of Paediatrics
2. ✘ Syndromal classification
3. ✓ Gomez classification
4. ✘ WHO classification

Question Number : 138 Question Id : 99836719858 Question Type : MCQ Option Shuffling : Yes Display Question Number : Yes
Single Line Question Option : No Option Orientation : Vertical

Correct Marks : 1 Wrong Marks : 0.25

प्रोटीन-ऊर्जा कुपोषण के निम्नलिखित वर्गीकरणों में से कौन सा उस उम्र के लिए अपेक्षित वजन के 90% से अधिक वजन का सामान्य रूप में वर्गीकरण करता है?

Options :

1. ✘ भारतीय बाल चिकित्सा अकादमी द्वारा वर्गीकरण
2. ✘ सिन्ड्रोमल वर्गीकरण
3. ✔ गोमेज़ का वर्गीकरण
4. ✘ डब्ल्यूएचओ वर्गीकरण

Question Number : 139 Question Id : 99836719859 Question Type : MCQ Option Shuffling : Yes Display Question Number : Yes
Single Line Question Option : No Option Orientation : Vertical

Correct Marks : 1 Wrong Marks : 0.25

The anterior fontanelle closes in children at the age of:

Options :

1. ✘ 6 to 10 months
2. ✔ 12 to 18 months
3. ✘ 20 to 24 months
4. ✘ 26 to 30 months

Question Number : 139 Question Id : 99836719859 Question Type : MCQ Option Shuffling : Yes Display Question Number : Yes
Single Line Question Option : No Option Orientation : Vertical

Correct Marks : 1 Wrong Marks : 0.25

अग्रवर्ती फॉन्टानेल बच्चों में किस उम्र में बंद हो जाता है?

Options :

1. ✘ 6 से 10 महीने
2. ✔ 12 से 18 महीने
3. ✘ 20 से 24 महीने
4. ✘ 26 से 30 महीने

Question Number : 140 Question Id : 99836719860 Question Type : MCQ Option Shuffling : Yes Display Question Number : Yes
Single Line Question Option : No Option Orientation : Vertical

Correct Marks : 1 Wrong Marks : 0.25

The Brown Adipose Tissue (BAT) is NOT located in which of the following areas?

Options :

1. ✘ Interscapular region
2. ✘ Supraclavicular region
3. ✘ Axillary region
4. ✔ Sacral region

Question Number : 140 Question Id : 99836719860 Question Type : MCQ Option Shuffling : Yes Display Question Number : Yes
Single Line Question Option : No Option Orientation : Vertical

Correct Marks : 1 Wrong Marks : 0.25

ब्राउन एडिपोस ऊतक (BAT) निम्नलिखित में से किस क्षेत्र में स्थित नहीं होता है?

Options :

1. ✘ इंटरस्कैप्यूलर क्षेत्र
2. ✘ सुप्राक्लेविकुलर क्षेत्र
3. ✘ एक्सिलरी क्षेत्र
4. ✔ सेक्रल क्षेत्र

Discipline3

| | |
|---|-----------|
| Group Number : | 8 |
| Group Id : | 998367727 |
| Group Maximum Duration : | 0 |
| Group Minimum Duration : | 0 |
| Revisit allowed for view? : | No |
| Revisit allowed for edit? : | No |
| Break time: | 0 |
| Group Marks: | 20 |
| Revisit allowed for group Instructions? : | Yes |
| Maximum Instruction Time: | 0 |
| Minimum Instruction Time: | 0 |

Discipline3

Section Id :

998367848

| | |
|--------------------------------------|-----------|
| Section Number : | 1 |
| Section type : | Online |
| Mandatory or Optional: | Mandatory |
| Number of Questions: | 20 |
| Number of Questions to be attempted: | 20 |
| Section Marks: | 20 |
| Display Number Panel: | Yes |
| Group All Questions: | No |

| | |
|------------------------------|------------|
| Sub-Section Number: | 1 |
| Sub-Section Id: | 9983671076 |
| Question Shuffling Allowed : | Yes |

Question Number : 141 Question Id : 99836719861 Question Type : MCQ Option Shuffling : Yes Display Question Number : Yes
Single Line Question Option : No Option Orientation : Vertical

Correct Marks : 1 Wrong Marks : 0.25

Which of the following is a classic presenting symptom of Retinoblastoma?

Options :

1. ✘ Brushfield's spots
2. ✔ Cat's eye reflex
3. ✘ Reed-Sternberg cells
4. ✘ Brudzinski's sign

Question Number : 141 Question Id : 99836719861 Question Type : MCQ Option Shuffling : Yes Display Question Number : Yes
Single Line Question Option : No Option Orientation : Vertical

Correct Marks : 1 Wrong Marks : 0.25

निम्नलिखित में से कौन सा रेटिनोबलास्टोमा का एक क्लासिक पेश लक्षण है?

Options :

1. ✘ ब्रशफील्ड के धब्बे
2. ✔ बिल्ली की आँख का प्रतिबिंब (कैट'स आइ रिफ्लेक्स)
3. ✘ रीड-स्टर्नबर्ग कोशिकाएं
4. ✘ ब्रुडज़िंस्की का चिन्ह

Question Number : 142 Question Id : 99836719862 Question Type : MCQ Option Shuffling : Yes Display Question Number : Yes
Single Line Question Option : No Option Orientation : Vertical

Correct Marks : 1 Wrong Marks : 0.25

Which of the following options is also known as Bell's palsy?

Options :

1. ✘ Erb's palsy
2. ✔ Facial palsy
3. ✘ Klumpke's palsy
4. ✘ Brachial palsy

Question Number : 142 Question Id : 99836719862 Question Type : MCQ Option Shuffling : Yes Display Question Number : Yes
Single Line Question Option : No Option Orientation : Vertical

Correct Marks : 1 Wrong Marks : 0.25

निम्नलिखित में से कौन सा विकल्प बेल के पक्षाघात के रूप में भी जाना जाता है?

Options :

1. ✘ एरब का पाल्सी
2. ✔ चेहरे का पक्षाघात
3. ✘ क्लम्पके पाल्सी
4. ✘ ब्राकीअल पाल्सी

Question Number : 143 Question Id : 99836719863 Question Type : MCQ Option Shuffling : Yes Display Question Number : Yes
Single Line Question Option : No Option Orientation : Vertical

Correct Marks : 1 Wrong Marks : 0.25

For which of the following conditions can a child be advised ketogenic diet therapy?

Options :

1. ✘ Encephalitis
2. ✔ Seizures
3. ✘ Guillain-Barre syndrome
4. ✘ Cerebral palsy

Question Number : 143 Question Id : 99836719863 Question Type : MCQ Option Shuffling : Yes Display Question Number : Yes
Single Line Question Option : No Option Orientation : Vertical

Correct Marks : 1 Wrong Marks : 0.25

निम्नलिखित में से किस स्थिति के लिए बच्चे को किटोजेनिक आहार चिकित्सा की सलाह दी जा सकती है?

Options :

1. ✘ इंसेफेलाइटिस
2. ✔ दौरे
3. ✘ गिल्लन बर्न सिंड्रोम
4. ✘ मस्तिष्क पक्षाघात

Question Number : 144 Question Id : 99836719864 Question Type : MCQ Option Shuffling : Yes Display Question Number : Yes
Single Line Question Option : No Option Orientation : Vertical

Correct Marks : 1 Wrong Marks : 0.25

Which clinical staging of Wilm's tumor involves metastasis to distant organs?

Options :

1. ✘ Stage II
2. ✔ Stage IV
3. ✘ Stage III
4. ✘ Stage V

Question Number : 144 Question Id : 99836719864 Question Type : MCQ Option Shuffling : Yes Display Question Number : Yes
Single Line Question Option : No Option Orientation : Vertical

Correct Marks : 1 Wrong Marks : 0.25

विल्म के ट्यूमर के किस नैदानिक चरण में दूर के अंगों में मेटास्टेसिस शामिल हैं?

Options :

1. ✘ चरण II
2. ✔ चरण IV
3. ✘ चरण III
4. ✘ चरण V

Question Number : 145 Question Id : 99836719865 Question Type : MCQ Option Shuffling : Yes Display Question Number : Yes
Single Line Question Option : No Option Orientation : Vertical

Correct Marks : 1 Wrong Marks : 0.25

Which site is the most preferred in order to administer DPT vaccine to an infant below one year of age?

Options :

1. ✓ Vastus lateralis muscle
2. ✗ Deltoid muscle
3. ✗ Gluteal muscle
4. ✗ Biceps muscle

Question Number : 145 Question Id : 99836719865 Question Type : MCQ Option Shuffling : Yes Display Question Number : Yes
Single Line Question Option : No Option Orientation : Vertical

Correct Marks : 1 Wrong Marks : 0.25

एक वर्ष से कम उम्र के शिशु को डीपीटी वैक्सीन देने के लिए कौन सी साइट सबसे ज्यादा पसंद की जाती है?

Options :

1. ✓ वास्तु पार्श्व माँसपेशी
2. ✗ डेल्टॉइड माँसपेशी
3. ✗ ग्लुटिअल पेशी
4. ✗ बाइसेप्स की माँसपेशी

Question Number : 146 Question Id : 99836719866 Question Type : MCQ Option Shuffling : Yes Display Question Number : Yes
Single Line Question Option : No Option Orientation : Vertical

Correct Marks : 1 Wrong Marks : 0.25

Which laboratory study would confirm the diagnosis of rheumatic fever?

Options :

1. ✗ Haemoglobin estimation
2. ✓ Antistreptolysin O titre
3. ✗ Red blood cell count
4. ✗ Platelet estimation

Question Number : 146 Question Id : 99836719866 Question Type : MCQ Option Shuffling : Yes Display Question Number : Yes
Single Line Question Option : No Option Orientation : Vertical

Correct Marks : 1 Wrong Marks : 0.25

कौन सा प्रयोगशाला अध्ययन आमवाती बुखार के निदान की पुष्टि करेगा?

Options :

1. ✘ हीमोग्लोबिन का अनुमान
2. ✔ एंटीस्ट्रेप्टोलिसिन ओ टाइटे
3. ✘ लाल रक्त कोशिका की गिनती
4. ✘ प्लेटलेट का अनुमान

Question Number : 147 Question Id : 99836719867 Question Type : MCQ Option Shuffling : Yes Display Question Number : Yes
Single Line Question Option : No Option Orientation : Vertical

Correct Marks : 1 Wrong Marks : 0.25

People of which descent are more commonly affected with thalassemia?

Options :

1. ✘ Caucasian descent
2. ✔ Mediterranean descent
3. ✘ Mexican descent
4. ✘ Red Indian descent

Question Number : 147 Question Id : 99836719867 Question Type : MCQ Option Shuffling : Yes Display Question Number : Yes
Single Line Question Option : No Option Orientation : Vertical

Correct Marks : 1 Wrong Marks : 0.25

थैलेसीमिया से किस वंश के लोग अधिक प्रभावित होते हैं?

Options :

1. ✘ कोकेशियान वंश
2. ✔ भूमध्यसागरीय वंश
3. ✘ मैक्सिकन वंश
4. ✘ रेड इन्डीअन वंश

Question Number : 148 Question Id : 99836719868 Question Type : MCQ Option Shuffling : Yes Display Question Number : Yes
Single Line Question Option : No Option Orientation : Vertical

Correct Marks : 1 Wrong Marks : 0.25

The urine examination of a child with acute glomerulonephritis shows:

Options :

1. ✘ decreased specific gravity
2. ✔ brown colour urine
3. ✘ increased urine output
4. ✘ red colour urine

Question Number : 148 Question Id : 99836719868 Question Type : MCQ Option Shuffling : Yes Display Question Number : Yes
Single Line Question Option : No Option Orientation : Vertical

Correct Marks : 1 Wrong Marks : 0.25

तीव्र ग्लोमेरुलोनेफ्राइटिस वाले बच्चे की मूत्र परीक्षा से पता चलता है:

Options :

1. ✘ विशिष्ट गुरुत्वाकर्षण में कमी
2. ✔ भूरे रंग का मूत्र
3. ✘ मूत्र उत्पादन में वृद्धि
4. ✘ लाल रंग का पेशाब

Question Number : 149 Question Id : 99836719869 Question Type : MCQ Option Shuffling : Yes Display Question Number : Yes
Single Line Question Option : No Option Orientation : Vertical

Correct Marks : 1 Wrong Marks : 0.25

Which condition presents 'lock jaw' as the initial clinical feature?

Options :

1. ✘ Pertussis
2. ✔ Tetanus
3. ✘ Tuberculosis
4. ✘ Rabies

Question Number : 149 Question Id : 99836719869 Question Type : MCQ Option Shuffling : Yes Display Question Number : Yes
Single Line Question Option : No Option Orientation : Vertical

Correct Marks : 1 Wrong Marks : 0.25

प्रारंभिक नैदानिक लक्षण के रूप में कौन सी स्थिति 'लॉक जॉ' प्रस्तुत करती है?

Options :

1. ✘ काली खांसी
2. ✔ धनुस्तंभ (टेटनस)
3. ✘ तपेदिक
4. ✘ रेबीज

Question Number : 150 Question Id : 99836719870 Question Type : MCQ Option Shuffling : Yes Display Question Number : Yes
Single Line Question Option : No Option Orientation : Vertical

Correct Marks : 1 Wrong Marks : 0.25

Who introduced the Staining Technique?

Options :

1. ✘ Louis Pasteur
2. ✘ Watson and Crick
3. ✔ Robert Koch
4. ✘ Pau Ehrlich

Question Number : 150 Question Id : 99836719870 Question Type : MCQ Option Shuffling : Yes Display Question Number : Yes
Single Line Question Option : No Option Orientation : Vertical

Correct Marks : 1 Wrong Marks : 0.25

अभिरंजन (Staining) तकनीक की शुरुआत किसने की?

Options :

1. ✘ लुई पास्चर
2. ✘ वॉटसन और क्रिक
3. ✔ रॉबर्ट कोच
4. ✘ पाऊ एहर्लिच

Question Number : 151 Question Id : 99836719871 Question Type : MCQ Option Shuffling : Yes Display Question Number : Yes
Single Line Question Option : No Option Orientation : Vertical

Correct Marks : 1 Wrong Marks : 0.25

Identify an immunoglobulin present in milk, saliva and tears.

Options :

1. ✓ I_gA

2. ✗ I_gM

3. ✗ I_gG

4. ✗ I_gE

Question Number : 151 Question Id : 99836719871 Question Type : MCQ Option Shuffling : Yes Display Question Number : Yes
Single Line Question Option : No Option Orientation : Vertical

Correct Marks : 1 Wrong Marks : 0.25

कौन सा इम्युनोग्लोबुलिन दूध, लार और आँसू में मौजूद है?

Options :

1. ✓ I_gA

2. ✗ I_gM

3. ✗ I_gG

4. ✗ I_gE

Question Number : 152 Question Id : 99836719872 Question Type : MCQ Option Shuffling : Yes Display Question Number : Yes
Single Line Question Option : No Option Orientation : Vertical

Correct Marks : 1 Wrong Marks : 0.25

What does Acid-Fast Staining do?

Options :

1. ✓ Differentiates between acid-fast bacteria (red) and non acid-fast bacteria (blue)

2. ✗ Differentiates between non acid-fast bacteria (red) and acid-fast bacteria (blue)

3. ✗ Cannot differentiate between acid-fast bacteria (red) and non acid-fast bacteria (blue)

4. ✗ Cannot differentiate between non acid-fast bacteria (red) and acid-fast bacteria (blue)

Question Number : 152 Question Id : 99836719872 Question Type : MCQ Option Shuffling : Yes Display Question Number : Yes
Single Line Question Option : No Option Orientation : Vertical

Correct Marks : 1 Wrong Marks : 0.25

एसिड फास्ट स्टेनिंग क्या करता है?

Options :

1. ✓ एसिड-फास्ट बैक्टीरिया (लाल) और गैर-एसिड-फास्ट बैक्टीरिया (नीला) के बीच अंतर करता है
2. ✘ गैर एसिड-फास्ट बैक्टीरिया (लाल) और एसिड-फास्ट बैक्टीरिया (नीला) के बीच अंतर करता है
3. ✘ एसिड-फास्ट बैक्टीरिया (लाल) और गैर-एसिड-फास्ट बैक्टीरिया (नीला) के बीच अंतर नहीं कर सकता
4. ✘ गैर-एसिड फास्ट बैक्टीरिया (लाल) और एसिड-फास्ट बैक्टीरिया (नीला) के बीच अंतर नहीं कर सकता

Question Number : 153 Question Id : 99836719873 Question Type : MCQ Option Shuffling : Yes Display Question Number : Yes
Single Line Question Option : No Option Orientation : Vertical

Correct Marks : 1 Wrong Marks : 0.25

Identify the type of hypersensitivity related to cell-mediated hypersensitivity.

Options :

1. ✘ Type I
2. ✘ Type II
3. ✘ Type III
4. ✓ Type IV

Question Number : 153 Question Id : 99836719873 Question Type : MCQ Option Shuffling : Yes Display Question Number : Yes
Single Line Question Option : No Option Orientation : Vertical

Correct Marks : 1 Wrong Marks : 0.25

सेल-मध्यस्थता अतिसंवेदनशीलता से संबंधित अतिसंवेदनशीलता के प्रकार की पहचान करें।

Options :

1. ✘ टाइप I
2. ✘ टाइप II
3. ✘ टाइप III
4. ✓ टाइप IV

Question Number : 154 Question Id : 99836719874 Question Type : MCQ Option Shuffling : Yes Display Question Number : Yes
Single Line Question Option : No Option Orientation : Vertical

Correct Marks : 1 Wrong Marks : 0.25

What is the Billroth II procedure?

Options :

1. ✘ Duodeno-jejunal bypass with sleeve gastrectomy
2. ✔ Subtotal gastric resection with gastrojejunostomy anastomosis
3. ✘ Total gastrectomy with esophagojejunostomy anastomosis
4. ✘ Subtotal gastric resection with gastroduodenostomy anastomosis

Question Number : 154 Question Id : 99836719874 Question Type : MCQ Option Shuffling : Yes Display Question Number : Yes
Single Line Question Option : No Option Orientation : Vertical

Correct Marks : 1 Wrong Marks : 0.25

बिल्लरोत ॥ प्रक्रिया क्या है?

Options :

1. ✘ स्लीव गैस्ट्रेक्टोमी के साथ डुओडेनो-जेजुनल बाईपास
2. ✔ गैस्ट्रोजेन्जोस्टोमी एनास्टामोसिस के साथ सबटोटल गैस्ट्रिक रिसेक्शन
3. ✘ एसोफैगोविनाजोस्टोमी एनास्टामोसिस के साथ कुल गैस्ट्रेक्टोमी
4. ✘ गैस्ट्रोडुओडेनोस्टॉमी एनास्टामोसिस के साथ सबटोटल गैस्ट्रिक रिसेक्शन

Question Number : 155 Question Id : 99836719875 Question Type : MCQ Option Shuffling : Yes Display Question Number : Yes
Single Line Question Option : No Option Orientation : Vertical

Correct Marks : 1 Wrong Marks : 0.25

What is the ideal time to perform chest physiotherapy?

Options :

1. ✘ 30 minutes before meals and 1 to 3 hours after meals
2. ✘ 1 hour before meals and 30 minutes after meals
3. ✔ 1 hour before meals and 1 to 3 hours after meals
4. ✘ 30 minutes before meals and 30 minutes after meals

Question Number : 155 Question Id : 99836719875 Question Type : MCQ Option Shuffling : Yes Display Question Number : Yes
Single Line Question Option : No Option Orientation : Vertical

Correct Marks : 1 Wrong Marks : 0.25

छाती की फिजियोथेरेपी करने के लिए आदर्श समय क्या है?

Options :

1. ✘ भोजन से 30 मिनट पहले और भोजन के 1 से 3 घंटे बाद
2. ✘ भोजन से 1 घंटा पहले और भोजन के 30 मिनट बाद
3. ✔ भोजन से 1 घंटे पहले और भोजन के 1 से 3 घंटे बाद
4. ✘ भोजन से 30 मिनट पहले और भोजन के 30 मिनट बाद

Question Number : 156 Question Id : 99836719876 Question Type : MCQ Option Shuffling : Yes Display Question Number : Yes
Single Line Question Option : No Option Orientation : Vertical

Correct Marks : 1 Wrong Marks : 0.25

What is the use of a Cystometrogram?

Options :

1. ✔ Evaluates the bladder tone and sensation of filling
2. ✘ Records electrical activity within the muscles
3. ✘ Measures the urine volume in a single voiding
4. ✘ Evaluates the structure, function and effusion of a kidney

Question Number : 156 Question Id : 99836719876 Question Type : MCQ Option Shuffling : Yes Display Question Number : Yes
Single Line Question Option : No Option Orientation : Vertical

Correct Marks : 1 Wrong Marks : 0.25

सिस्टोमेट्रोग्राम का उपयोग क्या है?

Options :

1. ✔ मूत्राशय की टोन और भरने की संवेदना का मूल्यांकन करता है
2. ✘ मासपेशियों के भीतर विद्युत गतिविधि को रिकॉर्ड करता है
3. ✘ एकल मलत्याग में मूत्र की मात्रा को मापता है
4. ✘ गुर्दे की संरचना, कार्य और प्रवाह का मूल्यांकन करता है

Question Number : 157 Question Id : 99836719877 Question Type : MCQ Option Shuffling : Yes Display Question Number : Yes
Single Line Question Option : No Option Orientation : Vertical

Correct Marks : 1 Wrong Marks : 0.25

कमरदर्द पंचर के दौरान आदर्श स्थिति क्या है?

Options :

1. ✘ सिर के नीचे अतिरिक्त तकिए के साथ पार्श्व स्थिति
2. ✘ फाउलर की स्थिति
3. ✔ घुटनों के बल लेटा हुआ पार्श्व भारग्रस्त स्थिति
4. ✘ सुपीन स्थिति

Question Number : 157 Question Id : 99836719877 Question Type : MCQ Option Shuffling : Yes Display Question Number : Yes
Single Line Question Option : No Option Orientation : Vertical

Correct Marks : 1 Wrong Marks : 0.25

What is the ideal position during a lumbar puncture?

Options :

1. ✘ Lateral position with extra pillows under the head
2. ✘ Fowler's position
3. ✔ Lateral recumbent position with knees flexed
4. ✘ Supine position

Question Number : 158 Question Id : 99836719878 Question Type : MCQ Option Shuffling : Yes Display Question Number : Yes
Single Line Question Option : No Option Orientation : Vertical

Correct Marks : 1 Wrong Marks : 0.25

Mr. X's blood glucose level is 250 mg/dl and he has ketones in his urine. What advice should a nurse give him about exercising?

Options :

1. ✘ Exercise one to three times a week
2. ✘ Brisk walking at the same time everyday
3. ✔ Do not exercise
4. ✘ Exercise once a week

Question Number : 158 Question Id : 99836719878 Question Type : MCQ Option Shuffling : Yes Display Question Number : Yes
Single Line Question Option : No Option Orientation : Vertical

Correct Marks : 1 Wrong Marks : 0.25

मिस्टर एक्स का रक्त शर्करा स्तर 250 mg/dl है और उसके मूत्र में कीटोन्स हैं। व्यायाम के बारे में एक नर्स को उसे क्या सलाह देनी चाहिए?

Options :

1. ✘ सप्ताह में एक से तीन बार व्यायाम करें
2. ✘ रोज एक ही समय पर तेज चलना
3. ✔ व्यायाम न करें
4. ✘ सप्ताह में एक बार व्यायाम करें

Question Number : 159 Question Id : 99836719879 Question Type : MCQ Option Shuffling : Yes Display Question Number : Yes
Single Line Question Option : No Option Orientation : Vertical

Correct Marks : 1 Wrong Marks : 0.25

A nurse is caring for a patient following an endotracheal extubation. Which of the following is NOT a nursing care aspect in this case?

Options :

1. ✘ Give oxygen by a face mask
2. ✔ Do not provide mouth care to prevent bleeding
3. ✘ Do not give anything orally (NPO)
4. ✘ Monitor respiratory rate and chest excursions

Question Number : 159 Question Id : 99836719879 Question Type : MCQ Option Shuffling : Yes Display Question Number : Yes
Single Line Question Option : No Option Orientation : Vertical

Correct Marks : 1 Wrong Marks : 0.25

एक नर्स एक एंडोट्रेकल एक्सट्यूबेशन के बाद एक रोगी की देखभाल कर रही है। इस मामले में निम्नलिखित में से कौन सा एक नर्सिंग देखभाल पहलू नहीं है?

Options :

1. ✘ फेस मास्क द्वारा ऑक्सीजन दें
2. ✔ रक्तस्राव को रोकने के लिए मुंह की देखभाल न करें
3. ✘ मौखिक रूप से कुछ भी न दें (NPO)
4. ✘ श्वसन दर और छाती की गतिविधि की निगरानी करें

Question Number : 160 Question Id : 99836719880 Question Type : MCQ Option Shuffling : Yes Display Question Number : Yes
Single Line Question Option : No Option Orientation : Vertical

Correct Marks : 1 Wrong Marks : 0.25

A physician advised a viral load test for a patient with HIV. What is the purpose of this test?

Options :

1. ✓ Measures plasma HIV RNA levels
2. ✗ Identifies antibodies against HIV
3. ✗ Helps in confirming seropositivity
4. ✗ Detects antibodies for HIV

Question Number : 160 Question Id : 99836719880 Question Type : MCQ Option Shuffling : Yes Display Question Number : Yes
Single Line Question Option : No Option Orientation : Vertical

Correct Marks : 1 Wrong Marks : 0.25

एक चिकित्सक ने एचआईवी वाले मरीज के लिए वायरल लोड टेस्ट की सलाह दी। इस परीक्षण का उद्देश्य क्या है?

Options :

1. ✓ प्लाज्मा एचआईवी आरएनए स्तरों को मापता है
2. ✗ एचआईवी के खिलाफ एंटीबॉडी की पहचान करता है
3. ✗ सेरोपोसिटिविटी की पुष्टि करने में मदद करता है
4. ✗ एचआईवी के लिए एंटीबॉडी का पता लगाता है

Discipline4

| | |
|---|-----------|
| Group Number : | 9 |
| Group Id : | 998367728 |
| Group Maximum Duration : | 0 |
| Group Minimum Duration : | 0 |
| Revisit allowed for view? : | No |
| Revisit allowed for edit? : | No |
| Break time: | 0 |
| Group Marks: | 20 |
| Revisit allowed for group Instructions? : | Yes |
| Maximum Instruction Time: | 0 |
| Minimum Instruction Time: | 0 |

Discipline4

| | |
|------------------|-----------|
| Section Id : | 998367849 |
| Section Number : | 1 |
| Section type : | Online |

| | |
|--------------------------------------|-----------|
| Mandatory or Optional: | Mandatory |
| Number of Questions: | 20 |
| Number of Questions to be attempted: | 20 |
| Section Marks: | 20 |
| Display Number Panel: | Yes |
| Group All Questions: | No |

| | |
|------------------------------|------------|
| Sub-Section Number: | 1 |
| Sub-Section Id: | 9983671077 |
| Question Shuffling Allowed : | Yes |

Question Number : 161 Question Id : 99836719881 Question Type : MCQ Option Shuffling : Yes Display Question Number : Yes
Single Line Question Option : No Option Orientation : Vertical

Correct Marks : 1 Wrong Marks : 0.25

Identify a microvascular complication of diabetes mellitus from the following.

Options :

1. ✘ Stroke
2. ✔ Nephropathy
3. ✘ Peripheral vascular atherosclerosis
4. ✘ Coronary atherosclerosis

Question Number : 161 Question Id : 99836719881 Question Type : MCQ Option Shuffling : Yes Display Question Number : Yes
Single Line Question Option : No Option Orientation : Vertical

Correct Marks : 1 Wrong Marks : 0.25

निम्नलिखित में से डायबिटीज मेलिटस की सूक्ष्म संवहनी जटिलता को पहचानें।

Options :

1. ✘ आघात
2. ✔ नेफ्रोपैथी
3. ✘ परिधीय संवहनी एथोरोस्क्लेरोसिस
4. ✘ कोरोनरी एथोरोस्क्लेरोसिस

Question Number : 162 Question Id : 99836719882 Question Type : MCQ Option Shuffling : Yes Display Question Number : Yes
Single Line Question Option : No Option Orientation : Vertical

Correct Marks : 1 Wrong Marks : 0.25

Which test is used to check the collateral circulation to the hand?

Options :

1. ✘ Capillary refill test
2. ✘ Schamroth's test
3. ✔ Allen test
4. ✘ Romberg's test

Question Number : 162 Question Id : 99836719882 Question Type : MCQ Option Shuffling : Yes Display Question Number : Yes
Single Line Question Option : No Option Orientation : Vertical

Correct Marks : 1 Wrong Marks : 0.25

हाथ के संपार्श्विक परिसंचरण की जांच करने के लिए किस परीक्षण का उपयोग किया जाता है?

Options :

1. ✘ केशिका फिर से भरना परीक्षण
2. ✘ स्चमरोथ का परीक्षण
3. ✔ एलन परीक्षण
4. ✘ रोमबर्ग का परीक्षण

Question Number : 163 Question Id : 99836719883 Question Type : MCQ Option Shuffling : Yes Display Question Number : Yes
Single Line Question Option : No Option Orientation : Vertical

Correct Marks : 1 Wrong Marks : 0.25

What is the duration of the fibroblastic phase in wound healing?

Options :

1. ✔ 5 days to 3 weeks
2. ✘ 3 days to 3 weeks
3. ✘ 4 days to 1 week
4. ✘ 1 day to 4 weeks

Question Number : 163 Question Id : 99836719883 Question Type : MCQ Option Shuffling : Yes Display Question Number : Yes
Single Line Question Option : No Option Orientation : Vertical

Correct Marks : 1 Wrong Marks : 0.25

घाव भरने में फाइब्रोब्लास्टिक चरण की अवधि क्या है?

Options :

1. ✓ 5 दिन से 3 सप्ताह
2. ✗ 3 दिन से 3 सप्ताह
3. ✗ 4 दिन से 1 सप्ताह
4. ✗ 1 दिन से 4 सप्ताह

Question Number : 164 Question Id : 99836719884 Question Type : MCQ Option Shuffling : Yes Display Question Number : Yes
Single Line Question Option : No Option Orientation : Vertical

Correct Marks : 1 Wrong Marks : 0.25

Identify a degenerative disorder characterised by disseminated demyelination of nerve fibres of the brain and spinal cord.

Options :

1. ✗ Myasthenia gravis
2. ✓ Multiple sclerosis
3. ✗ Muscular dystrophy
4. ✗ Alzheimer's disease

Question Number : 164 Question Id : 99836719884 Question Type : MCQ Option Shuffling : Yes Display Question Number : Yes
Single Line Question Option : No Option Orientation : Vertical

Correct Marks : 1 Wrong Marks : 0.25

मस्तिष्क और रीढ़ की हड्डी के तंत्रिका तंतुओं के माइलिन-रहित प्रसार द्वारा वर्णित एक अपक्षयी विकार की पहचान करें।

Options :

1. ✗ मियासथीनिया ग्रेविस
2. ✓ मल्टीपल स्क्लेरोसिस
3. ✗ मांसपेशीय दुर्विकास
4. ✗ अल्जाइमर रोग

Question Number : 165 Question Id : 99836719885 Question Type : MCQ Option Shuffling : Yes Display Question Number : Yes
Single Line Question Option : No Option Orientation : Vertical

Correct Marks : 1 Wrong Marks : 0.25

The process of movement of individuals or groups from one stratum to another is called:

Options :

1. ✘ social change
2. ✘ social stratification
3. ✔ social mobility
4. ✘ social organisation

Question Number : 165 Question Id : 99836719885 Question Type : MCQ Option Shuffling : Yes Display Question Number : Yes
Single Line Question Option : No Option Orientation : Vertical

Correct Marks : 1 Wrong Marks : 0.25

व्यक्तियों या समूहों के एक स्तर से दूसरे में जाने की प्रक्रिया को क्या कहा जाता है?

Options :

1. ✘ सामाजिक बदलाव
2. ✘ सामाजिक स्तरीकरण
3. ✔ सामाजिक गतिशीलता
4. ✘ सामाजिक संगठन

Question Number : 166 Question Id : 99836719886 Question Type : MCQ Option Shuffling : Yes Display Question Number : Yes
Single Line Question Option : No Option Orientation : Vertical

Correct Marks : 1 Wrong Marks : 0.25

In which year did the Government of India pass the Dowry Prohibition Act?

Options :

1. ✔ 1961
2. ✘ 1986
3. ✘ 1968
4. ✘ 1916

Question Number : 166 Question Id : 99836719886 Question Type : MCQ Option Shuffling : Yes Display Question Number : Yes
Single Line Question Option : No Option Orientation : Vertical

Correct Marks : 1 Wrong Marks : 0.25

भारत सरकार ने किस वर्ष में दहेज निषेध अधिनियम पारित किया?

Options :

1. ✔ 1961

2. ✘ 1986

3. ✘ 1968

4. ✘ 1916

Question Number : 167 Question Id : 99836719887 Question Type : MCQ Option Shuffling : Yes Display Question Number : Yes
Single Line Question Option : No Option Orientation : Vertical

Correct Marks : 1 Wrong Marks : 0.25

Which of the following characteristics is NOT true of a primary group?

Options :

1. ✘ Small size

2. ✔ Formal rules

3. ✘ Unity

4. ✘ Direct cooperation

Question Number : 167 Question Id : 99836719887 Question Type : MCQ Option Shuffling : Yes Display Question Number : Yes
Single Line Question Option : No Option Orientation : Vertical

Correct Marks : 1 Wrong Marks : 0.25

निम्नलिखित विशेषताओं में से कौन सा एक प्राथमिक समूह का सच नहीं है?

Options :

1. ✘ छोटा आकार

2. ✔ औपचारिक नियम

3. ✘ एकता

4. ✘ प्रत्यक्ष सहयोग

Question Number : 168 Question Id : 99836719888 Question Type : MCQ Option Shuffling : Yes Display Question Number : Yes
Single Line Question Option : No Option Orientation : Vertical

Correct Marks : 1 Wrong Marks : 0.25

The recommended period for isolation for measles is:

Options :

1. ✘ 3 weeks after onset of the disease

2. ✔ from onset of the catarrhal stage till 3rd day of the rash

3. ✘ from onset of the catarrhal stage till 7th day of the rash
4. ✘ from onset of the catarrhal stage till 10th day of the rash

Question Number : 168 Question Id : 99836719888 Question Type : MCQ Option Shuffling : Yes Display Question Number : Yes
Single Line Question Option : No Option Orientation : Vertical

Correct Marks : 1 Wrong Marks : 0.25

खसरे के अलगाव के लिए अनुशंसित अवधि है:

Options :

1. ✘ रोग की शुरुआत के 3 सप्ताह बाद
2. ✔ जुकाम चरण की शुरुआत से लेकर दाने के तीसरे दिन तक
3. ✘ जुकाम चरण की शुरुआत से लेकर दाने के 7 वें दिन तक
4. ✘ जुकाम चरण की शुरुआत से लेकर दाने के 10 वें दिन तक

Question Number : 169 Question Id : 99836719889 Question Type : MCQ Option Shuffling : Yes Display Question Number : Yes
Single Line Question Option : No Option Orientation : Vertical

Correct Marks : 1 Wrong Marks : 0.25

Which of the following vaccinations is given through the intradermal route?

Options :

1. ✘ Hepatitis B
2. ✘ Measles
3. ✔ BCG
4. ✘ Japanese encephalitis

Question Number : 169 Question Id : 99836719889 Question Type : MCQ Option Shuffling : Yes Display Question Number : Yes
Single Line Question Option : No Option Orientation : Vertical

Correct Marks : 1 Wrong Marks : 0.25

निम्नलिखित में से कौन सा टीकाकरण इंटरडर्मल मार्ग के माध्यम से दिया जाता है?

Options :

1. ✘ हेपेटाइटिस बी
2. ✘ खसरा

3. ✓ बीसीजी

4. ✘ जापानी मस्तिष्ककोष

Question Number : 170 Question Id : 99836719890 Question Type : MCQ Option Shuffling : Yes Display Question Number : Yes
Single Line Question Option : No Option Orientation : Vertical

Correct Marks : 1 Wrong Marks : 0.25

Primary prevention aims to reduce the:

Options :

1. ✘ prevalence of a disease

2. ✓ incidence of a disease

3. ✘ number of cases of a disease

4. ✘ complication of a disease

Question Number : 170 Question Id : 99836719890 Question Type : MCQ Option Shuffling : Yes Display Question Number : Yes
Single Line Question Option : No Option Orientation : Vertical

Correct Marks : 1 Wrong Marks : 0.25

प्राथमिक रोकथाम का लक्ष्य _____ को कम करना है:

Options :

1. ✘ एक बीमारी का प्रसार

2. ✓ एक बीमारी की घटना

3. ✘ एक बीमारी के मामलों की संख्या

4. ✘ किसी बीमारी की जटिलता

Question Number : 171 Question Id : 99836719891 Question Type : MCQ Option Shuffling : Yes Display Question Number : Yes
Single Line Question Option : No Option Orientation : Vertical

Correct Marks : 1 Wrong Marks : 0.25

An outbreak of disease in bird population is known as:

Options :

1. ✓ epornithic

2. ✘ enzootic

3. ✘ epizootic

4. ✘ exotic

Question Number : 171 Question Id : 99836719891 Question Type : MCQ Option Shuffling : Yes Display Question Number : Yes
Single Line Question Option : No Option Orientation : Vertical

Correct Marks : 1 Wrong Marks : 0.25

पक्षी आबादी में बीमारी का प्रकोप _____ के रूप में जाना जाता है।

Options :

1. ✔ एपिनिथिक

2. ✘ स्थानिक महामारी

3. ✘ एपिज़ोोटिक

4. ✘ इग्ज़ाटिक

Question Number : 172 Question Id : 99836719892 Question Type : MCQ Option Shuffling : Yes Display Question Number : Yes
Single Line Question Option : No Option Orientation : Vertical

Correct Marks : 1 Wrong Marks : 0.25

A disease that spreads by vertical transmission is:

Options :

1. ✘ typhoid

2. ✘ diphtheria

3. ✔ hepatitis B

4. ✘ malaria

Question Number : 172 Question Id : 99836719892 Question Type : MCQ Option Shuffling : Yes Display Question Number : Yes
Single Line Question Option : No Option Orientation : Vertical

Correct Marks : 1 Wrong Marks : 0.25

एक बीमारी जो ऊर्ध्वाधर संचरण द्वारा फैलती है:

Options :

1. ✘ आंत्र ज्वर

2. ✘ डिप्थीरिया

3. ✔ हेपेटाइटिस बी

4. ✖ मलेरिया

Question Number : 173 Question Id : 99836719893 Question Type : MCQ Option Shuffling : Yes Display Question Number : Yes
Single Line Question Option : No Option Orientation : Vertical

Correct Marks : 1 Wrong Marks : 0.25

Administration of immunoglobulin is an example of:

Options :

1. ✖ active acquired immunity
2. ✖ active natural immunity
3. ✖ passive natural immunity
4. ✔ passive acquired immunity

Question Number : 173 Question Id : 99836719893 Question Type : MCQ Option Shuffling : Yes Display Question Number : Yes
Single Line Question Option : No Option Orientation : Vertical

Correct Marks : 1 Wrong Marks : 0.25

इम्युनोग्लोबुलिन का प्रशासन इसका एक उदाहरण है:

Options :

1. ✖ सक्रिय अभिगृहीत प्रतिरक्षा
2. ✖ सक्रिय प्राकृतिक प्रतिरक्षा
3. ✖ निष्क्रिय प्राकृतिक प्रतिरक्षा
4. ✔ निष्क्रिय अभिगृहीत प्रतिरक्षा

Question Number : 174 Question Id : 99836719894 Question Type : MCQ Option Shuffling : Yes Display Question Number : Yes
Single Line Question Option : No Option Orientation : Vertical

Correct Marks : 1 Wrong Marks : 0.25

The committee which was appointed in 1974 by the Government of India, under the Ministry of Health and Family Planning, for medical education and supporting man power is known as the:

Options :

1. ✔ Shrivastav Committee
2. ✖ Chadha Committee
3. ✖ Mudaliar Committee

4. ✖ Mukerjee Committee

Question Number : 174 Question Id : 99836719894 Question Type : MCQ Option Shuffling : Yes Display Question Number : Yes
Single Line Question Option : No Option Orientation : Vertical

Correct Marks : 1 Wrong Marks : 0.25

चिकित्सा शिक्षा और सहायक जन शक्ति के लिए स्वास्थ्य और परिवार नियोजन मंत्रालय के तहत भारत सरकार द्वारा 1974 में नियुक्त की गई समिति को _____ के रूप में जाना जाता है:

Options :

1. ✔ श्रीवास्तव समिति

2. ✖ चड्ढा समिति

3. ✖ मुदलियार समिति

4. ✖ मुखर्जी समिति

Question Number : 175 Question Id : 99836719895 Question Type : MCQ Option Shuffling : Yes Display Question Number : Yes
Single Line Question Option : No Option Orientation : Vertical

Correct Marks : 1 Wrong Marks : 0.25

What is the recommended period for taking a post-coital contraceptive pill after unprotected intercourse?

Options :

1. ✖ Within 5 days

2. ✖ Within 4 days

3. ✔ Within 3 days

4. ✖ Within a week

Question Number : 175 Question Id : 99836719895 Question Type : MCQ Option Shuffling : Yes Display Question Number : Yes
Single Line Question Option : No Option Orientation : Vertical

Correct Marks : 1 Wrong Marks : 0.25

असुरक्षित संभोग के बाद सहवास-पश्चात गर्भनिरोधक गोली लेने के लिए अनुशंसित अवधि क्या है?

Options :

1. ✖ 5 दिनों के भीतर

2. ✖ 4 दिनों के भीतर

3. ✓ 3 दिन के अंदर

4. ✘ एक सप्ताह के अन्दर

Question Number : 176 Question Id : 99836719896 Question Type : MCQ Option Shuffling : Yes Display Question Number : Yes
Single Line Question Option : No Option Orientation : Vertical

Correct Marks : 1 Wrong Marks : 0.25

Which of the following diseases is accompanied by hydrophobia?

Options :

1. ✘ Dengue fever

2. ✘ Rickets

3. ✘ Rubella

4. ✓ Rabies

Question Number : 176 Question Id : 99836719896 Question Type : MCQ Option Shuffling : Yes Display Question Number : Yes
Single Line Question Option : No Option Orientation : Vertical

Correct Marks : 1 Wrong Marks : 0.25

निम्नलिखित में से कौन सी बीमारी हाइड्रोफोबिया के सहित होती है?

Options :

1. ✘ डेंगू बुखार

2. ✘ बालवक्र

3. ✘ रूबेला

4. ✓ रेबीज

Question Number : 177 Question Id : 99836719897 Question Type : MCQ Option Shuffling : Yes Display Question Number : Yes
Single Line Question Option : No Option Orientation : Vertical

Correct Marks : 1 Wrong Marks : 0.25

The drug used in XDR-Tuberculosis is:

Options :

1. ✘ Ethambutol

2. ✓ Capreomycin

3. ✘ Streptomycin

4. ✘ Rifampicin

Question Number : 177 Question Id : 99836719897 Question Type : MCQ Option Shuffling : Yes Display Question Number : Yes
Single Line Question Option : No Option Orientation : Vertical

Correct Marks : 1 Wrong Marks : 0.25

एक्सडीआर-ट्यूबरोसिस में प्रयोग की जाने वाली दवा _____ है:

Options :

1. ✘ एथेमब्युटोल

2. ✔ केप्रिओमाइसिन

3. ✘ स्ट्रेप्टोमाइसिन

4. ✘ रिफैम्पिसिन

Question Number : 178 Question Id : 99836719898 Question Type : MCQ Option Shuffling : Yes Display Question Number : Yes
Single Line Question Option : No Option Orientation : Vertical

Correct Marks : 1 Wrong Marks : 0.25

A person with paucibacillary leprosy has:

Options :

1. ✘ 1 to 5 skin lesions with no nerve involvement

2. ✔ 1 to 5 skin lesions with single nerve involvement

3. ✘ more than 5 lesions with single nerve involvement

4. ✘ more than 5 lesions with multiple nerve involvement

Question Number : 178 Question Id : 99836719898 Question Type : MCQ Option Shuffling : Yes Display Question Number : Yes
Single Line Question Option : No Option Orientation : Vertical

Correct Marks : 1 Wrong Marks : 0.25

पौसीबैसिलरी कुष्ठ रोग से पीड़ित व्यक्ति को:

Options :

1. ✘ 1 से 5 त्वचा के घाव जिसमें कोई तंत्रिका शामिल नहीं है

2. ✔ एकल तंत्रिका शामिल होने के साथ 1 से 5 त्वचा के घाव

3. ✘ एकल तंत्रिका शामिल होने के साथ 5 से अधिक घाव

4. ✘ कई तंत्रिका शामिल होने के साथ 5 से अधिक घाव

Question Number : 179 Question Id : 99836719899 Question Type : MCQ Option Shuffling : Yes Display Question Number : Yes
Single Line Question Option : No Option Orientation : Vertical

Correct Marks : 1 Wrong Marks : 0.25

The MTP Act recommends termination of pregnancy by a single doctor when the pregnancy does NOT exceed:

Options :

1. ✘ 20 weeks

2. ✔ 12 weeks

3. ✘ 16 weeks

4. ✘ 14 weeks

Question Number : 179 Question Id : 99836719899 Question Type : MCQ Option Shuffling : Yes Display Question Number : Yes
Single Line Question Option : No Option Orientation : Vertical

Correct Marks : 1 Wrong Marks : 0.25

एमटीपी एक्ट एक एकल चिकित्सक द्वारा गर्भावस्था को समाप्त करने की सिफारिश करता है जब गर्भावस्था _____ से अधिक नहीं होती है:

Options :

1. ✘ 20 सप्ताह

2. ✔ 12 सप्ताह

3. ✘ 16 सप्ताह

4. ✘ 14 सप्ताह

Question Number : 180 Question Id : 99836719900 Question Type : MCQ Option Shuffling : Yes Display Question Number : Yes
Single Line Question Option : No Option Orientation : Vertical

Correct Marks : 1 Wrong Marks : 0.25

According to Sigmund Freud, which of the following options functions on the basis of the 'reality principle'?

Options :

1. ✘ Id

2. ✔ Ego

3. ✘ Super-ego

4. ✘ Apathy

Question Number : 180 Question Id : 99836719900 Question Type : MCQ Option Shuffling : Yes Display Question Number : Yes
Single Line Question Option : No Option Orientation : Vertical

Correct Marks : 1 Wrong Marks : 0.25

सिगमंड फ्रायड के अनुसार, निम्न में से कौन सा विकल्प 'वास्तविकता सिद्धांत' के आधार पर कार्य करता है?

Options :

1. ✘ आईडी

2. ✔ अहंकार

3. ✘ सुपर अहंकार

4. ✘ उदासीनता

Discipline5

| | |
|---|-----------|
| Group Number : | 10 |
| Group Id : | 998367729 |
| Group Maximum Duration : | 0 |
| Group Minimum Duration : | 120 |
| Revisit allowed for view? : | No |
| Revisit allowed for edit? : | No |
| Break time: | 0 |
| Group Marks: | 20 |
| Revisit allowed for group Instructions? : | Yes |
| Maximum Instruction Time: | 0 |
| Minimum Instruction Time: | 0 |

Discipline5

| | |
|--------------------------------------|-----------|
| Section Id : | 998367850 |
| Section Number : | 1 |
| Section type : | Online |
| Mandatory or Optional: | Mandatory |
| Number of Questions: | 20 |
| Number of Questions to be attempted: | 20 |
| Section Marks: | 20 |
| Display Number Panel: | Yes |
| Group All Questions: | No |

Sub-Section Number: 1
Sub-Section Id: 9983671078
Question Shuffling Allowed : Yes

Question Number : 181 Question Id : 99836719901 Question Type : MCQ Option Shuffling : Yes Display Question Number : Yes
Single Line Question Option : No Option Orientation : Vertical
Correct Marks : 1 Wrong Marks : 0.25

Cytogenetic tests are advised for which of the following conditions?

Options :

1. ✘ Schizophrenia
2. ✘ Mania
3. ✘ Autism
4. ✔ Mental retardation

Question Number : 181 Question Id : 99836719901 Question Type : MCQ Option Shuffling : Yes Display Question Number : Yes
Single Line Question Option : No Option Orientation : Vertical
Correct Marks : 1 Wrong Marks : 0.25

निम्नलिखित स्थितियों में से किसके लिए साइटोजेनेटिक परीक्षणों की सलाह दी जाती है?

Options :

1. ✘ एक प्रकार का पागलपन
2. ✘ उन्माद
3. ✘ स्वलीनता (ऑटिज़म)
4. ✔ मानसिक मंदता

Question Number : 182 Question Id : 99836719902 Question Type : MCQ Option Shuffling : Yes Display Question Number : Yes
Single Line Question Option : No Option Orientation : Vertical
Correct Marks : 1 Wrong Marks : 0.25

What is the absolute contraindication for ECT?

Options :

1. ✘ Severe psychosis
2. ✘ Organic mood disorders
3. ✘ Liver disorders
4. ✔ Raised ICP

Question Number : 182 Question Id : 99836719902 Question Type : MCQ Option Shuffling : Yes Display Question Number : Yes
Single Line Question Option : No Option Orientation : Vertical

Correct Marks : 1 Wrong Marks : 0.25

ईसीटी के लिए पूर्ण विपरीत संकेत क्या है?

Options :

1. ✘ गंभीर मनोविकार
2. ✘ जैव मूड विकार
3. ✘ यकृत के विकार
4. ✔ उभरा आईसीपी

Question Number : 183 Question Id : 99836719903 Question Type : MCQ Option Shuffling : Yes Display Question Number : Yes
Single Line Question Option : No Option Orientation : Vertical

Correct Marks : 1 Wrong Marks : 0.25

An intense sense of rapture is seen in:

Options :

1. ✘ euphoria
2. ✘ elation
3. ✘ exaltation
4. ✔ ecstasy

Question Number : 183 Question Id : 99836719903 Question Type : MCQ Option Shuffling : Yes Display Question Number : Yes
Single Line Question Option : No Option Orientation : Vertical

Correct Marks : 1 Wrong Marks : 0.25

_____ में उत्साह की तीव्र भावना को देखा जाता है:

Options :

1. ✘ यूफोरिया
2. ✘ इलेशन
3. ✘ उमंग (एग्ज़ॉल्टेशन)
4. ✔ परमानंद (एक्स्टेसी)

Question Number : 184 Question Id : 99836719904 Question Type : MCQ Option Shuffling : Yes Display Question Number : Yes
Single Line Question Option : No Option Orientation : Vertical

Correct Marks : 1 Wrong Marks : 0.25

Which of the following is the most appropriate nursing intervention for a patient with compulsive behaviour?

Options :

1. ✘ Set limits for the patient's compulsive acts
2. ✘ Ignore the patients activities
3. ✘ Provide positive reinforcement for the patient's non-ritualistic behavior
4. ✔ Involve the patient in various unit activities

Question Number : 184 Question Id : 99836719904 Question Type : MCQ Option Shuffling : Yes Display Question Number : Yes
Single Line Question Option : No Option Orientation : Vertical

Correct Marks : 1 Wrong Marks : 0.25

निम्नलिखित में से कौन एक बाध्यकारी व्यवहार वाले मरीज के लिए सबसे उपयुक्त नर्सिंग देखभाल है?

Options :

1. ✘ मरीज के कंपल्सिव कृत्यों के लिए सीमा निर्धारित करें
2. ✘ मरीज की गतिविधियों पर ध्यान न दें
3. ✘ मरीज के गैर-अनुष्ठानिक व्यवहार के लिए सकारात्मक सुदृढीकरण प्रदान करें
4. ✔ मरीज को विभिन्न इकाई गतिविधियों में शामिल करें

Question Number : 185 Question Id : 99836719905 Question Type : MCQ Option Shuffling : Yes Display Question Number : Yes
Single Line Question Option : No Option Orientation : Vertical

Correct Marks : 1 Wrong Marks : 0.25

Which of the following tools is used to increase self-awareness?

Options :

1. ✘ Insight and treatment attitude questionnaire
2. ✔ Johari window
3. ✘ Eysenck personality inventory
4. ✘ Rorschach inkblot test

Question Number : 185 Question Id : 99836719905 Question Type : MCQ Option Shuffling : Yes Display Question Number : Yes
Single Line Question Option : No Option Orientation : Vertical

Correct Marks : 1 Wrong Marks : 0.25

आत्म-जागरूकता बढ़ाने के लिए निम्न में से किस उपकरण का उपयोग किया जाता है?

Options :

1. ✘ अंतर्दृष्टि और उपचार रवैया प्रश्नावली
2. ✔ जोहारी खिड़की
3. ✘ आइज़ैक व्यक्तित्व तालिका
4. ✘ रोरर्च इंक्ब्लोट परीक्षण

Question Number : 186 Question Id : 99836719906 Question Type : MCQ Option Shuffling : Yes Display Question Number : Yes
Single Line Question Option : No Option Orientation : Vertical

Correct Marks : 1 Wrong Marks : 0.25

What is the best nursing approach to use when the patient thinks that his/her food is poisoned?

Options :

1. ✘ Assure the patient that all food served in the hospital is safe to eat
2. ✘ Offer food in the patient's own container
3. ✔ Allow the patient to consume packed food or food from unopened containers, fruits and eggs
4. ✘ Explain to the patient that it is a symptom of a disease

Question Number : 186 Question Id : 99836719906 Question Type : MCQ Option Shuffling : Yes Display Question Number : Yes
Single Line Question Option : No Option Orientation : Vertical

Correct Marks : 1 Wrong Marks : 0.25

जब मरीज यह सोचता है कि उसके खाने में जहर है, तो नर्सिंग का सबसे अच्छा तरीका क्या है?

Options :

1. ✘ मरीज को आश्वस्त करें कि अस्पताल में परोसा गया सभी भोजन खाने के लिए सुरक्षित है
2. ✘ मरीज के अपने कंटेनर में भोजन पेश करें
3. ✔ मरीज को पैक किये भोजन या बंद कंटेनरों से भोजन, फलों और अंडों का सेवन करने दें
4. ✘ मरीज को समझाएं कि यह एक बीमारी का लक्षण है

Question Number : 187 Question Id : 99836719907 Question Type : MCQ Option Shuffling : Yes Display Question Number : Yes
Single Line Question Option : No Option Orientation : Vertical

Correct Marks : 1 Wrong Marks : 0.25

The condition that develops after total or partial withdrawal of drugs after prolonged use is called:

Options :

1. ✘ dependence syndrome
2. ✔ withdrawal state
3. ✘ acute intoxication
4. ✘ poor input control

Question Number : 187 Question Id : 99836719907 Question Type : MCQ Option Shuffling : Yes Display Question Number : Yes
Single Line Question Option : No Option Orientation : Vertical

Correct Marks : 1 Wrong Marks : 0.25

लंबे समय तक इस्तेमाल के बाद दवाओं की कुल या आंशिक समाप्ति के बाद विकसित होने वाली स्थिति को _____ कहा जाता है:

Options :

1. ✘ निर्भरता सिंड्रोम
2. ✔ समाप्ति की स्थिति
3. ✘ तीव्र मादकता
4. ✘ खराब इनपुट नियंत्रण

Question Number : 188 Question Id : 99836719908 Question Type : MCQ Option Shuffling : Yes Display Question Number : Yes
Single Line Question Option : No Option Orientation : Vertical

Correct Marks : 1 Wrong Marks : 0.25

What is Narcolepsy?

Options :

1. ✔ Excessive day time sleep
2. ✘ Sleep walking
3. ✘ Sleep apnea
4. ✘ Sleep talking

Question Number : 188 Question Id : 99836719908 Question Type : MCQ Option Shuffling : Yes Display Question Number : Yes
Single Line Question Option : No Option Orientation : Vertical

Correct Marks : 1 Wrong Marks : 0.25

औँघाई (नार्कोलेप्सी) क्या है?

Options :

1. ✓ अत्यधिक दिन के समय नींद
2. ✗ नींद में चलना
3. ✗ स्लीप एप्निया
4. ✗ नींद में बड़बड़ाना

Question Number : 189 Question Id : 99836719909 Question Type : MCQ Option Shuffling : Yes Display Question Number : Yes
Single Line Question Option : No Option Orientation : Vertical

Correct Marks : 1 Wrong Marks : 0.25

Which of the following is NOT a characteristic of dyslexia?

Options :

1. ✗ Slow speed of reading
2. ✗ Impaired comprehension
3. ✗ Word omission
4. ✓ Attention deficit

Question Number : 189 Question Id : 99836719909 Question Type : MCQ Option Shuffling : Yes Display Question Number : Yes
Single Line Question Option : No Option Orientation : Vertical

Correct Marks : 1 Wrong Marks : 0.25

निम्नलिखित में से कौन सा विकल्प डिस्लेक्सिया का लक्षण की नहीं है?

Options :

1. ✗ पढ़ने की धीमी गति
2. ✗ बिगड़ा हुआ बोध
3. ✗ शब्द चूक
4. ✓ ध्यान की कमी

Question Number : 190 Question Id : 99836719910 Question Type : MCQ Option Shuffling : Yes Display Question Number : Yes
Single Line Question Option : No Option Orientation : Vertical

Correct Marks : 1 Wrong Marks : 0.25

A 78 year old patient, diagnosed with Alzheimer's dementia, is admitted to the psychiatric ward. Which of the following nursing interventions is appropriate in order to manage the patient's mood changes?

Options :

1. ✘ Giving too many choices in food and clothes
2. ✔ Keeping a calm environment with a fixed daily routine
3. ✘ Engage in some activity continuously
4. ✘ Provide music therapy

Question Number : 190 Question Id : 99836719910 Question Type : MCQ Option Shuffling : Yes Display Question Number : Yes
Single Line Question Option : No Option Orientation : Vertical

Correct Marks : 1 Wrong Marks : 0.25

अल्जाइमर मनोभ्रंश से पीड़ित एक 78 वर्षीय रोगी को मनोरोग वार्ड में भर्ती किया गया है। रोगी के मनोदशा में बदलाव के लिए निम्नलिखित में से कौन सा नर्सिंग देखभाल उचित है?

Options :

1. ✘ भोजन और कपड़ों में बहुत अधिक विकल्प देना
2. ✔ नियत दिनचर्या के साथ शांत वातावरण रखें
3. ✘ लगातार कुछ गतिविधि में संलग्न रहें
4. ✘ संगीत चिकित्सा प्रदान करें

Question Number : 191 Question Id : 99836719911 Question Type : MCQ Option Shuffling : Yes Display Question Number : Yes
Single Line Question Option : No Option Orientation : Vertical

Correct Marks : 1 Wrong Marks : 0.25

The General Adaptation Syndrome (GAS) model explains:

Options :

1. ✘ causes of stress
2. ✔ person's response to stress
3. ✘ conflict management

4. ✘ adaptation

Question Number : 191 Question Id : 99836719911 Question Type : MCQ Option Shuffling : Yes Display Question Number : Yes
Single Line Question Option : No Option Orientation : Vertical

Correct Marks : 1 Wrong Marks : 0.25

सामान्य अनुकूलन सिंड्रोम (GAS) मॉडल बताते हैं:

Options :

1. ✘ तनाव का कारण
2. ✔ तनाव के प्रति व्यक्ति की प्रतिक्रिया
3. ✘ विरोधाभास प्रबंधन
4. ✘ अनुकूलन

Question Number : 192 Question Id : 99836719912 Question Type : MCQ Option Shuffling : Yes Display Question Number : Yes
Single Line Question Option : No Option Orientation : Vertical

Correct Marks : 1 Wrong Marks : 0.25

A type of counselling in which the counsellor uses techniques such as reassurance and giving information is known as:

Options :

1. ✔ eclectic counselling
2. ✘ directive counselling
3. ✘ non-directive counselling
4. ✘ informal counselling

Question Number : 192 Question Id : 99836719912 Question Type : MCQ Option Shuffling : Yes Display Question Number : Yes
Single Line Question Option : No Option Orientation : Vertical

Correct Marks : 1 Wrong Marks : 0.25

एक प्रकार की परामर्श (काउंसलिंग) जिसमें काउंसलर आश्वस्तता और सूचना देने जैसी तकनीकों का उपयोग करता है:

Options :

1. ✔ संकलनात्मक परामर्श
2. ✘ निदेशात्मक परामर्श
3. ✘ गैर-निदेशात्मक परामर्श

4. ✖ अनौपचारिक परामर्श

Question Number : 193 Question Id : 99836719913 Question Type : MCQ Option Shuffling : Yes Display Question Number : Yes
Single Line Question Option : No Option Orientation : Vertical
Correct Marks : 1 Wrong Marks : 0.25

Which of the following is true regarding Symposium as a teaching method?

Options :

1. ✖ Gives live and first-hand field exposure
2. ✖ The learner learns by practice
3. ✔ Two or more persons, under the direction of the chairman, present separate speeches
4. ✖ One person speaks on a given topic

Question Number : 193 Question Id : 99836719913 Question Type : MCQ Option Shuffling : Yes Display Question Number : Yes
Single Line Question Option : No Option Orientation : Vertical
Correct Marks : 1 Wrong Marks : 0.25

एक शिक्षण पद्धति के रूप में संगोष्ठी (सिम्पोज़ीअम) के बारे में निम्नलिखित में से कौन सा सही है?

Options :

1. ✖ लाइव और फर्स्ट-हैंड फील्ड एक्सपोज़र देता है
2. ✖ सीखने वाला अभ्यास से सीखता है
3. ✔ चैयरमैन के निर्देशन में दो या दो से अधिक व्यक्ति अलग-अलग भाषण देते हैं
4. ✖ एक व्यक्ति किसी दिए गए विषय पर बोलता है

Question Number : 194 Question Id : 99836719914 Question Type : MCQ Option Shuffling : Yes Display Question Number : Yes
Single Line Question Option : No Option Orientation : Vertical
Correct Marks : 1 Wrong Marks : 0.25

The philosophy which believes that discipline is maintained through affection and sympathy and not by punishment is called:

Options :

1. ✖ naturalism
2. ✖ idealism
3. ✖ pragmatism

4. ✓ realism

Question Number : 194 Question Id : 99836719914 Question Type : MCQ Option Shuffling : Yes Display Question Number : Yes
Single Line Question Option : No Option Orientation : Vertical

Correct Marks : 1 Wrong Marks : 0.25

किस दर्शन का मानना है कि अनुशासन को स्नेह और सहानुभूति के माध्यम से बनाए रखा जाता है न कि सजा से?

Options :

1. ✗ प्रकृतिवाद

2. ✗ आदर्शवाद

3. ✗ व्यवहारवाद

4. ✓ यथार्थवाद

Question Number : 195 Question Id : 99836719915 Question Type : MCQ Option Shuffling : Yes Display Question Number : Yes
Single Line Question Option : No Option Orientation : Vertical

Correct Marks : 1 Wrong Marks : 0.25

The supervisory style in which the supervisor develops faith and confidence in his/her subordinates and involves them in the decision making is known as a:

Options :

1. ✓ democratic style

2. ✗ benevolent style

3. ✗ autocratic style

4. ✗ laissez-faire style

Question Number : 195 Question Id : 99836719915 Question Type : MCQ Option Shuffling : Yes Display Question Number : Yes
Single Line Question Option : No Option Orientation : Vertical

Correct Marks : 1 Wrong Marks : 0.25

पर्यवेक्षी शैली जिसमें पर्यवेक्षक अपने अधीनस्थों में विश्वास और आत्मविश्वास विकसित करता है और उन्हें निर्णय लेने में शामिल करता है:

Options :

1. ✓ लोकतांत्रिक शैली

2. ✗ परोपकारी शैली

3. ✘ निरंकुश शैली

4. ✘ लैसे -फेयर शैली

Question Number : 196 Question Id : 99836719916 Question Type : MCQ Option Shuffling : Yes Display Question Number : Yes
Single Line Question Option : No Option Orientation : Vertical

Correct Marks : 1 Wrong Marks : 0.25

What is the basis of ABC analysis in inventory control?

Options :

1. ✘ Unit cost

2. ✘ Critical cost

3. ✔ Annual consumption value

4. ✘ Practice standard

Question Number : 196 Question Id : 99836719916 Question Type : MCQ Option Shuffling : Yes Display Question Number : Yes
Single Line Question Option : No Option Orientation : Vertical

Correct Marks : 1 Wrong Marks : 0.25

इन्वेंट्री नियंत्रण में एबीसी विश्लेषण का आधार क्या है?

Options :

1. ✘ इकाई लागत

2. ✘ संकटपूर्ण लागत

3. ✔ वार्षिक खपत मूल्य

4. ✘ मानक का अभ्यास करना

Question Number : 197 Question Id : 99836719917 Question Type : MCQ Option Shuffling : Yes Display Question Number : Yes
Single Line Question Option : No Option Orientation : Vertical

Correct Marks : 1 Wrong Marks : 0.25

Excursions to the patient's area, involving staff and student learning experiences are known as:

Options :

1. ✘ nursing standards

2. ✘ nursing protocols

3. ✘ nursing audit

4. ✔ nursing rounds

Question Number : 197 Question Id : 99836719917 Question Type : MCQ Option Shuffling : Yes Display Question Number : Yes
Single Line Question Option : No Option Orientation : Vertical

Correct Marks : 1 Wrong Marks : 0.25

रोगी के क्षेत्र में आने वाली गतिविधियाँ, जिसमें कर्मचारी और छात्र के सीखने के अनुभव शामिल हैं, उन्हें _____ कहा जाता है:

Options :

1. ✘ नर्सिंग मानक

2. ✘ नर्सिंग प्रोटोकॉल

3. ✘ नर्सिंग ऑडिट

4. ✔ नर्सिंग राउंड

Question Number : 198 Question Id : 99836719918 Question Type : MCQ Option Shuffling : Yes Display Question Number : Yes
Single Line Question Option : No Option Orientation : Vertical

Correct Marks : 1 Wrong Marks : 0.25

The process of application of the research findings done on the nurses in Hyderabad to all the nurses in Telangana is known as:

Options :

1. ✘ randomisation

2. ✘ Hawthorne effect

3. ✔ generalisation

4. ✘ research communication

Question Number : 198 Question Id : 99836719918 Question Type : MCQ Option Shuffling : Yes Display Question Number : Yes
Single Line Question Option : No Option Orientation : Vertical

Correct Marks : 1 Wrong Marks : 0.25

हैदराबाद में नर्सों पर किए गए शोध निष्कर्षों को तेलंगाना में सभी नर्सों के लिये लागू करने की प्रक्रिया को _____ कहा जाता है:

Options :

1. ✘ यादचिह्नकीकरण

2. ✘ हावर्थोन प्रभाव
3. ✔ सामान्यकरण
4. ✘ अनुसंधान संचार

Question Number : 199 Question Id : 99836719919 Question Type : MCQ Option Shuffling : Yes Display Question Number : Yes
Single Line Question Option : No Option Orientation : Vertical
Correct Marks : 1 Wrong Marks : 0.25

No relationship exists between smoking and the incidence of lung cancer. This is an example of:

Options :

1. ✘ research hypothesis
2. ✘ complex hypothesis
3. ✔ null hypothesis
4. ✘ academic hypothesis

Question Number : 199 Question Id : 99836719919 Question Type : MCQ Option Shuffling : Yes Display Question Number : Yes
Single Line Question Option : No Option Orientation : Vertical
Correct Marks : 1 Wrong Marks : 0.25

धूम्रपान और फेफड़ों के कैंसर की घटनाओं के बीच कोई संबंध नहीं है। यह किसका उदाहरण है?

Options :

1. ✘ शोध परिकल्पना
2. ✘ जटिल परिकल्पना
3. ✔ शून्य परिकल्पना
4. ✘ अकादमिक परिकल्पना

Question Number : 200 Question Id : 99836719920 Question Type : MCQ Option Shuffling : Yes Display Question Number : Yes
Single Line Question Option : No Option Orientation : Vertical
Correct Marks : 1 Wrong Marks : 0.25

The curve that is obtained by joining the middle top points of a rectangular bar graph with a straight line is a:

Options :

1. ✘ histogram

2. ✓ frequency polygon
3. ✘ cumulative frequency curve
4. ✘ pie diagram

Question Number : 200 Question Id : 99836719920 Question Type : MCQ Option Shuffling : Yes Display Question Number : Yes
Single Line Question Option : No Option Orientation : Vertical

Correct Marks : 1 Wrong Marks : 0.25

एक सीधी रेखा के साथ एक आयताकार बार ग्राफ के मध्य शीर्ष बिंदुओं को जोड़कर प्राप्त होने वाला वक्र निम्न है:

Options :

1. ✘ हिस्टोग्राम
2. ✓ आवृत्ति बहुभुज
3. ✘ संचयी आवृत्ति वक्र
4. ✘ पाई आरेख