

Education Consultant India Ltd.

Notations :

- 1.Options shown in green color and with ✓ icon are correct.
- 2.Options shown in red color and with ✘ icon are incorrect.

Question Paper Name:	Nursing Officer 29th August 2019 S1
Subject Name:	Nursing Officer
Creation Date:	2019-08-29 12:42:20
Duration:	120
Total Marks:	200
Display Marks:	Yes
Share Answer Key With Delivery Engine:	No
Actual Answer Key:	Yes
Calculator:	None
Magnifying Glass Required?:	No
Ruler Required?:	No
Eraser Required?:	No
Scratch Pad Required?:	No
Rough Sketch/Notepad Required?:	No
Protractor Required?:	No
Show Watermark on Console?:	Yes
Highlighter:	No
Auto Save on Console?:	No

Mental Ability

Group Number :	1
Group Id :	966231204
Group Maximum Duration :	0
Group Minimum Duration :	0
Revisit allowed for view? :	No
Revisit allowed for edit? :	No
Break time:	0
Group Marks:	20
Revisit allowed for group Instructions? :	Yes
Maximum Instruction Time:	0
Minimum Instruction Time:	0

Mental Ability

Section Id :	966231319
Section Number :	1
Section type :	Online
Mandatory or Optional:	Mandatory
Number of Questions:	20
Number of Questions to be attempted:	20
Section Marks:	20

Display Number Panel: Yes
Group All Questions: No

Sub-Section Number: 1
Sub-Section Id: 966231355
Question Shuffling Allowed : Yes

Question Number : 1 Question Id : 9662318237 Question Type : MCQ Option Shuffling : Yes Display Question Number : Yes
Single Line Question Option : No Option Orientation : Vertical

Correct Marks : 1 Wrong Marks : 0.25

Some letters are numbered as 1, 2, 3, 4, 5 and 6. In the options, four possible arrangements of these numbers are given. Choose the option so that the letters form a meaningful word.

D R H L U E

1 2 3 4 5 6

Options :

1. ✘ 351624
2. ✘ 436512
3. ✔ 352146
4. ✘ 243516

Question Number : 1 Question Id : 9662318237 Question Type : MCQ Option Shuffling : Yes Display Question Number : Yes
Single Line Question Option : No Option Orientation : Vertical

Correct Marks : 1 Wrong Marks : 0.25

कुछ अक्षरों को 1, 2, 3, 4, 5 और 6 क्रमांक दिए गए हैं विकल्पों में, इन संख्याओं की चार संभावित व्यवस्थाएँ दी गई हैं। उस विकल्प का चयन करें ताकि अक्षर एक सार्थक शब्द बन सकें।

D R H L U E

1 2 3 4 5 6

Options :

1. ✘ 351624
2. ✘ 436512
3. ✔ 352146
4. ✘ 243516

Question Number : 2 Question Id : 9662318238 Question Type : MCQ Option Shuffling : Yes Display Question Number : Yes
Single Line Question Option : No Option Orientation : Vertical

Correct Marks : 1 Wrong Marks : 0.25

Out of the given options, three are similar in a certain manner. However, one option is NOT like the other three. Select the option which is different from the rest.

Options :

1. ✘ GEB
2. ✘ NLI
3. ✔ SQM
4. ✘ LJG

Question Number : 2 Question Id : 9662318238 Question Type : MCQ Option Shuffling : Yes Display Question Number : Yes
Single Line Question Option : No Option Orientation : Vertical

Correct Marks : 1 Wrong Marks : 0.25

दिए गए विकल्पों में से, तीन एक निश्चित तरीके से समान हैं। हालाँकि, एक विकल्प अन्य तीन की तरह नहीं है। उस विकल्प का चयन करें जो बाकी से अलग है।

Options :

1. ✘ GEB
2. ✘ NLI
3. ✔ SQM
4. ✘ LJG

Question Number : 3 Question Id : 9662318239 Question Type : MCQ Option Shuffling : Yes Display Question Number : Yes
Single Line Question Option : No Option Orientation : Vertical

Correct Marks : 1 Wrong Marks : 0.25

Out of the given options, three are similar in a certain manner. However, one option is NOT like the other three. Select the option which is different from the rest.

Options :

1. ✘ Venus
2. ✔ Sun
3. ✘ Jupiter
4. ✘ Earth

Question Number : 3 Question Id : 9662318239 Question Type : MCQ Option Shuffling : Yes Display Question Number : Yes
Single Line Question Option : No Option Orientation : Vertical

Correct Marks : 1 Wrong Marks : 0.25

दिए गए विकल्पों में से, तीन एक निश्चित तरीके से समान हैं। हालाँकि, एक विकल्प अन्य तीन की तरह नहीं है। उस विकल्प का चयन करें जो बाकी से अलग है।

Options :

1. ✘ शुक्र
2. ✔ सूर्य
3. ✘ बृहस्पति
4. ✘ पृथ्वी

Question Number : 4 Question Id : 9662318240 Question Type : MCQ Option Shuffling : Yes Display Question Number : Yes
Single Line Question Option : No Option Orientation : Vertical

Correct Marks : 1 Wrong Marks : 0.25

Select the option that is related to the third term on the same basis as the second term is related to the first term.

XHP : UEM :: TGP : ?

Options :

1. ✔ QDM
2. ✘ QCN
3. ✘ RDN
4. ✘ REN

Question Number : 4 Question Id : 9662318240 Question Type : MCQ Option Shuffling : Yes Display Question Number : Yes
Single Line Question Option : No Option Orientation : Vertical

Correct Marks : 1 Wrong Marks : 0.25

उस विकल्प का चयन करें जो तीसरे पद से उसी प्रकार से संबंधित है जिस प्रकार से पहला पद दूसरे पद से संबंधित है।

XHP : UEM :: TGP : ?

Options :

1. ✓ QDM
2. ✗ QCN
3. ✗ RDN
4. ✗ REN

Question Number : 5 Question Id : 9662318241 Question Type : MCQ Option Shuffling : Yes Display Question Number : Yes
Single Line Question Option : No Option Orientation : Vertical

Correct Marks : 1 Wrong Marks : 0.25

In a certain code language, FIRE = 20, FLOWER = 30, LEMON = 25, then what will be HISTORY coded as?

Options :

1. ✓ 35
2. ✗ 15
3. ✗ 40
4. ✗ 45

Question Number : 5 Question Id : 9662318241 Question Type : MCQ Option Shuffling : Yes Display Question Number : Yes
Single Line Question Option : No Option Orientation : Vertical

Correct Marks : 1 Wrong Marks : 0.25

एक निश्चित कोड भाषा में, FIRE = 20, FLOWER = 30, LEMON = 25 है, तो HISTORY का कोड क्या होगा?

Options :

1. ✓ 35
2. ✗ 15
3. ✗ 40
4. ✗ 45

Question Number : 6 Question Id : 9662318242 Question Type : MCQ Option Shuffling : Yes Display Question Number : Yes
Single Line Question Option : No Option Orientation : Vertical

Correct Marks : 1 Wrong Marks : 0.25

If CHASE is coded as FKDVH, then what will DRIVE be coded as?

Options :

1. ✓ GULYH
2. ✗ EPMZH
3. ✗ FRKXG
4. ✗ HLMXF

Question Number : 6 Question Id : 9662318242 Question Type : MCQ Option Shuffling : Yes Display Question Number : Yes
Single Line Question Option : No Option Orientation : Vertical

Correct Marks : 1 Wrong Marks : 0.25

यदि CHASE को FKDVH के रूप में कोडित किया जाता है, तो DRIVE को कैसे कोडित किया जाएगा?

Options :

1. ✓ GULYH
2. ✗ EPMZH
3. ✗ FRKXG
4. ✗ HLMXF

Question Number : 7 Question Id : 9662318243 Question Type : MCQ Option Shuffling : Yes Display Question Number : Yes
Single Line Question Option : No Option Orientation : Vertical

Correct Marks : 1 Wrong Marks : 0.25

Five employees reach the office in a particular sequence. Sanchi came before Palash but after Nishi. Anmol came before Ankit but after Palash. Who was the first one to reach the office?

Options :

- ✘ Sanchi
- ✔ Nishi
- ✘ Ankit
- ✘ Palash

Question Number : 7 Question Id : 9662318243 Question Type : MCQ Option Shuffling : Yes Display Question Number : Yes Single Line Question Option : No Option Orientation : Vertical

Correct Marks : 1 Wrong Marks : 0.25

पाँच कर्मचारी एक विशेष अनुक्रम में कार्यालय तक पहुँचते हैं। सांची पलाश से पहले लेकिन निशि के बाद आई। अनमोल अंकित से पहले लेकिन पलाश के बाद आया। कार्यालय पहुँचने वाला पहला व्यक्ति कौन था?

Options :

- ✘ सांची
- ✔ निशि
- ✘ अंकित
- ✘ पलाश

Question Number : 8 Question Id : 9662318244 Question Type : MCQ Option Shuffling : Yes Display Question Number : Yes Single Line Question Option : No Option Orientation : Vertical

Correct Marks : 1 Wrong Marks : 0.25

Read the given statement and conclusions carefully. Assuming that the information in the statement is true, even if they appear to be in variance with commonly known facts, select which of the conclusions logically follow(s) from the statement beyond reasonable doubt.

Statements:-

- I. All carrots are potatoes.
- II. No potato is onion.

Conclusions:-

- I. No onion is a carrot.
- II. No carrot is an onion.

Options :

- ✘ Only Conclusion I follows.
- ✘ Only Conclusion II follows.
- ✘ Neither of the conclusion follows.
- ✔ Both Conclusion I and II follows

Question Number : 8 Question Id : 9662318244 Question Type : MCQ Option Shuffling : Yes Display Question Number : Yes Single Line Question Option : No Option Orientation : Vertical

Correct Marks : 1 Wrong Marks : 0.25

दिए गए कथन और निष्कर्षों को ध्यान से पढ़ें। यह मानते हुए कि कथन में दी गई जानकारी सत्य है, भले ही वे सामान्यतः ज्ञात तथ्यों के साथ विचरण करते हुए दिखाई देते हों, उस निष्कर्ष का चयन करें जो उचित संदेह से परे उस कथन का तार्किक रूप से अनुसरण करें।

कथन:-

- I. सभी गाजर आलू हैं।
- II. कोई भी आलू प्याज नहीं है।

निष्कर्ष:-

- I. कोई भी प्याज गाजर नहीं है।
- II. कोई भी गाजर प्याज नहीं है।

Options :

- ✘ केवल निष्कर्ष I अनुसरण करता है
- ✘ केवल निष्कर्ष II अनुसरण करता है
- ✘ कोई भी निष्कर्ष अनुसरण नहीं करता।
- ✔ I और II दोनों अनुसरण करते हैं

Question Number : 9 Question Id : 9662318245 Question Type : MCQ Option Shuffling : Yes Display Question Number : Yes
Single Line Question Option : No Option Orientation : Vertical

Correct Marks : 1 Wrong Marks : 0.25

Out of the given options, three are similar in a certain manner. However, one option is NOT like the other three. Select the option which is different from the rest.

Options :

- ✘ 133
- ✘ 228
- ✘ 304
- ✔ 157

Question Number : 9 Question Id : 9662318245 Question Type : MCQ Option Shuffling : Yes Display Question Number : Yes
Single Line Question Option : No Option Orientation : Vertical

Correct Marks : 1 Wrong Marks : 0.25

दिए गए विकल्पों में से, तीन एक निश्चित तरीके से समान हैं। हालाँकि, एक विकल्प अन्य तीन की तरह नहीं है। उस विकल्प का चयन करें जो बाकी से अलग है।

Options :

- ✘ 133
- ✘ 228
- ✘ 304
- ✔ 157

Question Number : 10 Question Id : 9662318246 Question Type : MCQ Option Shuffling : Yes Display Question Number : Yes
Single Line Question Option : No Option Orientation : Vertical

Correct Marks : 1 Wrong Marks : 0.25

Select the option that is related to the third number on the same basis as the second number is related to the first number.

150 : -450 :: 169 : ?

Options :

- ✘ 507
- ✔ -507
- ✘ 312
- ✘ -312

Question Number : 10 Question Id : 9662318246 Question Type : MCQ Option Shuffling : Yes Display Question Number : Yes
Single Line Question Option : No Option Orientation : Vertical

Correct Marks : 1 Wrong Marks : 0.25

उस विकल्प का चयन करें जो तीसरी संख्या से उसी प्रकार से संबंधित है जिस प्रकार से दूसरी संख्या पहली संख्या से संबंधित है।

150 : -450 :: 169 : ?

Options :

- ✘ 507
- ✔ -507
- ✘ 312

4. ✘ -312

Question Number : 11 Question Id : 9662318247 Question Type : MCQ Option Shuffling : Yes Display Question Number : Yes
Single Line Question Option : No Option Orientation : Vertical

Correct Marks : 1 Wrong Marks : 0.25

Which two signs should be interchanged to make the below equation mathematically correct?

$$13 \times 12 + 4 \div 8 - 3 = 44$$

Options :

1. ✘ -, ÷
2. ✘ +, -
3. ✔ +, ÷
4. ✘ x, ÷

Question Number : 11 Question Id : 9662318247 Question Type : MCQ Option Shuffling : Yes Display Question Number : Yes
Single Line Question Option : No Option Orientation : Vertical

Correct Marks : 1 Wrong Marks : 0.25

नीचे दिए गए समीकरण को गणितीय रूप से सही बनाने के लिए किन दो चिन्हों को परस्पर स्थानांतरित करना चाहिए?

$$13 \times 12 + 4 \div 8 - 3 = 44$$

Options :

1. ✘ -, ÷
2. ✘ +, -
3. ✔ +, ÷
4. ✘ x, ÷

Question Number : 12 Question Id : 9662318248 Question Type : MCQ Option Shuffling : Yes Display Question Number : Yes
Single Line Question Option : No Option Orientation : Vertical

Correct Marks : 1 Wrong Marks : 0.25

Which two numbers should be interchanged to make the below equation mathematically correct?

$$6 \times 4 + 12 - 7 \div 2 = 25$$

Options :

1. ✔ 12, 7
2. ✘ 12, 2
3. ✘ 6, 12
4. ✘ 4, 12

Question Number : 12 Question Id : 9662318248 Question Type : MCQ Option Shuffling : Yes Display Question Number : Yes
Single Line Question Option : No Option Orientation : Vertical

Correct Marks : 1 Wrong Marks : 0.25

नीचे दिए गए समीकरण को गणितीय रूप से सही बनाने के लिए किन दो संख्याओं को स्थानांतरित किया जाना चाहिए?

$$6 \times 4 + 12 - 7 \div 2 = 25$$

Options :

1. ✔ 12, 7
2. ✘ 12, 2
3. ✘ 6, 12
4. ✘ 4, 12

Question Number : 13 Question Id : 9662318249 Question Type : MCQ Option Shuffling : Yes Display Question Number : Yes
Single Line Question Option : No Option Orientation : Vertical

Correct Marks : 1 Wrong Marks : 0.25

Find the missing number in the following number series.

9, 16, _____, 36, 49

Options :

1. ✓ 25
2. ✗ 23
3. ✗ 29
4. ✗ 27

Question Number : 13 Question Id : 9662318249 Question Type : MCQ Option Shuffling : Yes Display Question Number : Yes
Single Line Question Option : No Option Orientation : Vertical

Correct Marks : 1 Wrong Marks : 0.25

निम्नलिखित संख्या श्रेणी में गायब संख्या ज्ञात करें।

9, 16, _____, 36, 49

Options :

1. ✓ 25
2. ✗ 23
3. ✗ 29
4. ✗ 27

Question Number : 14 Question Id : 9662318250 Question Type : MCQ Option Shuffling : Yes Display Question Number : Yes
Single Line Question Option : No Option Orientation : Vertical

Correct Marks : 1 Wrong Marks : 0.25

If $3 \times 27 = 3$, $4 \times 16 = 2$, $5 \times 25 = 4$, then $6 \times 216 = ?$

Options :

1. ✓ 3
2. ✗ 4
3. ✗ 5
4. ✗ 2

Question Number : 14 Question Id : 9662318250 Question Type : MCQ Option Shuffling : Yes Display Question Number : Yes
Single Line Question Option : No Option Orientation : Vertical

Correct Marks : 1 Wrong Marks : 0.25

यदि $3 \times 27 = 3$, $4 \times 16 = 2$, $5 \times 25 = 4$, तो $6 \times 216 = ?$ ज्ञात करें।

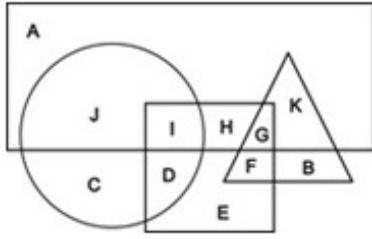
Options :

1. ✓ 3
2. ✗ 4
3. ✗ 5
4. ✗ 2

Question Number : 15 Question Id : 9662318251 Question Type : MCQ Option Shuffling : Yes Display Question Number : Yes
Single Line Question Option : No Option Orientation : Vertical

Correct Marks : 1 Wrong Marks : 0.25

In the following figure, rectangle represents runners, triangle represents scientists, circle represents Indians and square represents mothers. Which set of letters represents Indians who are runners?



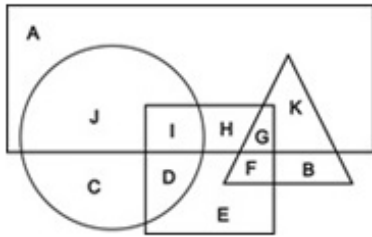
Options :

1. ✓ JI
2. ✗ IHG
3. ✗ GK
4. ✗ GF

Question Number : 15 Question Id : 9662318251 Question Type : MCQ Option Shuffling : Yes Display Question Number : Yes Single Line Question Option : No Option Orientation : Vertical

Correct Marks : 1 Wrong Marks : 0.25

निम्नलिखित आकृति में, आयत धावकों का प्रतिनिधित्व करता है, त्रिकोण वैज्ञानिकों का प्रतिनिधित्व करता है, वृत्त भारतीयों का प्रतिनिधित्व करता है और वर्ग माताओं का प्रतिनिधित्व करता है। अक्षरों का कौन सा सेट उन भारतीयों का प्रतिनिधित्व करता है जो धावक हैं?



Options :

1. ✓ JI
2. ✗ IHG
3. ✗ GK
4. ✗ GF

Question Number : 16 Question Id : 9662318252 Question Type : MCQ Option Shuffling : Yes Display Question Number : Yes Single Line Question Option : No Option Orientation : Vertical

Correct Marks : 1 Wrong Marks : 0.25

Two men Rajesh and Navin start from the same point. Rajesh walks 10 km north, then turns east and walks 5 km, then turns to his left and walks 6 km. Navin walks 8 km east, then turns north and walks 15 km, then turns to his left and walks 3 km. Where is Navin standing now with respect to the current position of Rajesh?

Options :

1. ✓ 1 km south
2. ✗ 1 km north
3. ✗ 8 km east
4. ✗ 8 km west

Question Number : 16 Question Id : 9662318252 Question Type : MCQ Option Shuffling : Yes Display Question Number : Yes Single Line Question Option : No Option Orientation : Vertical

Correct Marks : 1 Wrong Marks : 0.25

राजेश और नवीन दो आदमी एक ही बिंदु से चलना शुरू करते हैं। राजेश 10 km उत्तर की ओर चलता है, फिर पूर्व की ओर मुड़ता है और 5 km चलता है, फिर अपनी बाईं ओर मुड़ता है और 6 km चलता है। नवीन 8 km पूर्व की ओर चलता है, फिर उत्तर की ओर मुड़ता है और 15 km चलता है, फिर अपनी बाईं ओर मुड़ता है और 3 km चलता है। नवीन, राजेश के वर्तमान बिंदु से कहाँ खड़ा है?

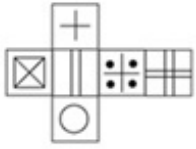
Options :

1. ✓ 1 km दक्षिण
2. ✗ 1 km उत्तर
3. ✗ 8 km पूर्व
4. ✗ 8 km पश्चिम

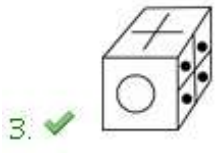
Question Number : 17 Question Id : 9662318253 Question Type : MCQ Option Shuffling : Yes Display Question Number : Yes
 Single Line Question Option : No Option Orientation : Vertical

Correct Marks : 1 Wrong Marks : 0.25

Which of the following cubes in the answer figure CANNOT be made based on the unfolded cube in the question figure?



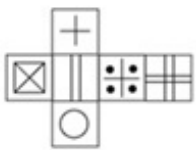
Options :



Question Number : 17 Question Id : 9662318253 Question Type : MCQ Option Shuffling : Yes Display Question Number : Yes
 Single Line Question Option : No Option Orientation : Vertical

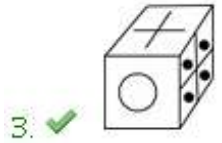
Correct Marks : 1 Wrong Marks : 0.25

उत्तर आकृति में किस घन को प्रश्न आकृति में प्रकट घन के आधार पर नहीं बनाया जा सकता है?



Options :

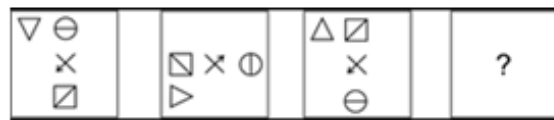




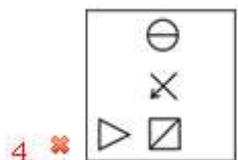
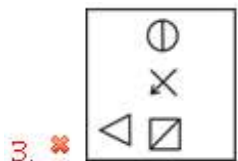
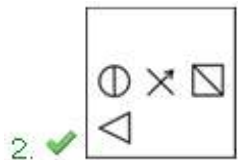
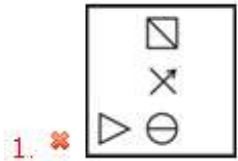
Question Number : 18 Question Id : 9662318254 Question Type : MCQ Option Shuffling : Yes Display Question Number : Yes
 Single Line Question Option : No Option Orientation : Vertical

Correct Marks : 1 Wrong Marks : 0.25

Which of the following answer figure completes the series of the question figure?



Options :



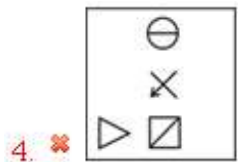
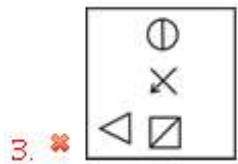
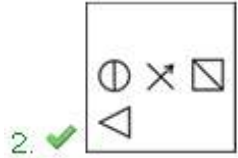
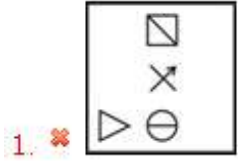
Question Number : 18 Question Id : 9662318254 Question Type : MCQ Option Shuffling : Yes Display Question Number : Yes
 Single Line Question Option : No Option Orientation : Vertical

Correct Marks : 1 Wrong Marks : 0.25

निम्नलिखित में से कौन सी उत्तर आकृति प्रश्न आकृति की श्रृंखला को पूरा करती है?



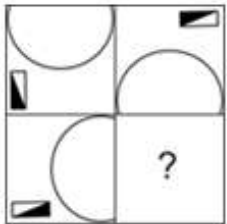
Options :



Question Number : 19 Question Id : 9662318255 Question Type : MCQ Option Shuffling : Yes Display Question Number : Yes
Single Line Question Option : No Option Orientation : Vertical

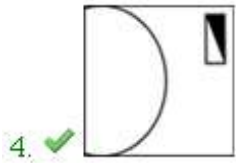
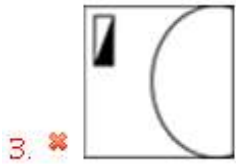
Correct Marks : 1 Wrong Marks : 0.25

Which answer figure will complete the pattern in the question figure?



Options :

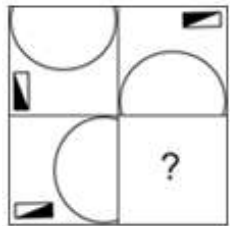




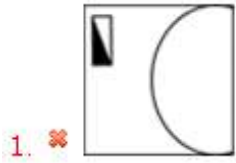
Question Number : 19 Question Id : 9662318255 Question Type : MCQ Option Shuffling : Yes Display Question Number : Yes
Single Line Question Option : No Option Orientation : Vertical

Correct Marks : 1 Wrong Marks : 0.25

कौन सी उत्तर आकृति प्रश्न आकृति में पैटर्न को पूरा करेगी?



Options :



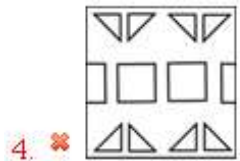
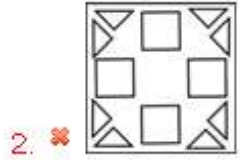
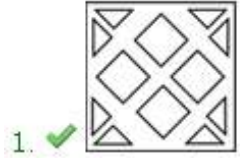
Question Number : 20 Question Id : 9662318256 Question Type : MCQ Option Shuffling : Yes Display Question Number : Yes
Single Line Question Option : No Option Orientation : Vertical

Correct Marks : 1 Wrong Marks : 0.25

A piece of paper is folded and punched as shown below in the question figures. From the given answer figures, indicate how it will appear when opened.



Options :



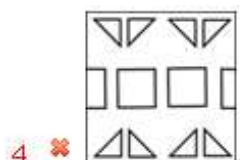
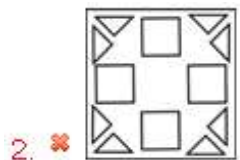
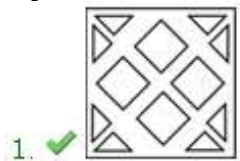
Question Number : 20 Question Id : 9662318256 Question Type : MCQ Option Shuffling : Yes Display Question Number : Yes
Single Line Question Option : No Option Orientation : Vertical

Correct Marks : 1 Wrong Marks : 0.25

प्रश्न आकृति में नीचे दिखाए अनुसार पेपर के टुकड़े को मोड़कर उसमें छेद किए गए हैं। दी गई उत्तर आकृतियों से, इंगित करें कि इसे खोले जाने पर यह कैसा दिखाई देगा।



Options :



General Awareness

Group Number :	2
Group Id :	966231205
Group Maximum Duration :	0
Group Minimum Duration :	0
Revisit allowed for view? :	No
Revisit allowed for edit? :	No
Break time:	0
Group Marks:	20
Revisit allowed for group Instructions? :	Yes
Maximum Instruction Time:	0
Minimum Instruction Time:	0

General Awareness

Section Id :	966231320
Section Number :	1
Section type :	Online
Mandatory or Optional:	Mandatory
Number of Questions:	20
Number of Questions to be attempted:	20
Section Marks:	20
Display Number Panel:	Yes
Group All Questions:	No

Sub-Section Number:	1
Sub-Section Id:	966231356
Question Shuffling Allowed :	Yes

Question Number : 21 Question Id : 9662318257 Question Type : MCQ Option Shuffling : Yes Display Question Number : Yes
Single Line Question Option : No Option Orientation : Vertical

Correct Marks : 1 Wrong Marks : 0.25

With which of the following states Nati dance is associated?

Options :

1. ✓ Himachal Pradesh
2. ✗ Arunachal Pradesh
3. ✗ Uttarakhand
4. ✗ Goa

Question Number : 21 Question Id : 9662318257 Question Type : MCQ Option Shuffling : Yes Display Question Number : Yes
Single Line Question Option : No Option Orientation : Vertical

Correct Marks : 1 Wrong Marks : 0.25

निम्नलिखित में से किस राज्य के साथ नाटी नृत्य जुड़ा हुआ है?

Options :

1. ✓ हिमाचल प्रदेश
2. ✗ अरुणाचल प्रदेश
3. ✗ उत्तराखंड

4. ✖ गोवा

Question Number : 22 Question Id : 9662318258 Question Type : MCQ Option Shuffling : Yes Display Question Number : Yes
Single Line Question Option : No Option Orientation : Vertical

Correct Marks : 1 Wrong Marks : 0.25

With which of the following state is Thadya folk music related to?

Options :

1. ✖ Sikkim
2. ✖ Karnataka
3. ✔ Uttarakhand
4. ✖ Madhya Pradesh

Question Number : 22 Question Id : 9662318258 Question Type : MCQ Option Shuffling : Yes Display Question Number : Yes
Single Line Question Option : No Option Orientation : Vertical

Correct Marks : 1 Wrong Marks : 0.25

निम्नलिखित में से किस राज्य के साथ थाट्टा लोक संगीत संबंधित है?

Options :

1. ✖ सिक्किम
2. ✖ कर्नाटक
3. ✔ उत्तराखंड
4. ✖ मध्य प्रदेश

Question Number : 23 Question Id : 9662318259 Question Type : MCQ Option Shuffling : Yes Display Question Number : Yes
Single Line Question Option : No Option Orientation : Vertical

Correct Marks : 1 Wrong Marks : 0.25

Kharchi Puja, during which 14 gods are worshipped, is associated with which of the following states?

Options :

1. ✖ Assam
2. ✖ Manipur
3. ✖ Bihar
4. ✔ Tripura

Question Number : 23 Question Id : 9662318259 Question Type : MCQ Option Shuffling : Yes Display Question Number : Yes
Single Line Question Option : No Option Orientation : Vertical

Correct Marks : 1 Wrong Marks : 0.25

खारची पूजा, जिसके दौरान 14 देवताओं की पूजा की जाती है, निम्नलिखित में से किस राज्य के साथ जुड़ा है?

Options :

1. ✖ असम
2. ✖ मणिपुर
3. ✖ बिहार
4. ✔ त्रिपुरा

Question Number : 24 Question Id : 9662318260 Question Type : MCQ Option Shuffling : Yes Display Question Number : Yes
Single Line Question Option : No Option Orientation : Vertical

Correct Marks : 1 Wrong Marks : 0.25

Which of the following banks is authorised for providing credit for the development of agriculture?

Options :

1. ✔ NABARD
2. ✖ RBI

3. ✘ SBI
4. ✘ SIDBI

Question Number : 24 Question Id : 9662318260 Question Type : MCQ Option Shuffling : Yes Display Question Number : Yes
Single Line Question Option : No Option Orientation : Vertical

Correct Marks : 1 Wrong Marks : 0.25

निम्नलिखित में से कौन सा बैंक कृषि के विकास के लिए ऋण प्रदान करने के लिए अधिकृत है?

Options :

1. ✔ राष्ट्रीय कृषि और ग्रामीण विकास बैंक
2. ✘ भारतीय रिज़र्व बैंक
3. ✘ स्टेट बैंक ऑफ इंडिया
4. ✘ भारतीय लघु उद्योग विकास बैंक

Question Number : 25 Question Id : 9662318261 Question Type : MCQ Option Shuffling : Yes Display Question Number : Yes
Single Line Question Option : No Option Orientation : Vertical

Correct Marks : 1 Wrong Marks : 0.25

Which among the following taxes is imposed on the bodies that have negative externality?

Options :

1. ✔ Pigovian tax
2. ✘ Tobin tax
3. ✘ Octroi tax
4. ✘ GST

Question Number : 25 Question Id : 9662318261 Question Type : MCQ Option Shuffling : Yes Display Question Number : Yes
Single Line Question Option : No Option Orientation : Vertical

Correct Marks : 1 Wrong Marks : 0.25

निम्नलिखित में से कौन सा कर नकारात्मक बाह्यता वाले निकायों पर लगाया गया है?

Options :

1. ✔ पिगोवियन टैक्स
2. ✘ टोबिन टैक्स
3. ✘ ओक्ट्रॉइ टैक्स
4. ✘ जीएसटी

Question Number : 26 Question Id : 9662318262 Question Type : MCQ Option Shuffling : Yes Display Question Number : Yes
Single Line Question Option : No Option Orientation : Vertical

Correct Marks : 1 Wrong Marks : 0.25

Which of the following is not an example of first class lever?

Options :

1. ✘ pliers
2. ✘ see-saw
3. ✘ scissors
4. ✔ nutcracker

Question Number : 26 Question Id : 9662318262 Question Type : MCQ Option Shuffling : Yes Display Question Number : Yes
Single Line Question Option : No Option Orientation : Vertical

Correct Marks : 1 Wrong Marks : 0.25

निम्नलिखित में से कौन प्रथम-श्रेणी के उत्तोलक का उदाहरण नहीं है?

Options :

1. ✘ चिमरा

2. ✘ सी-सॉ
3. ✘ कैची
4. ✔ सरौता

Question Number : 27 Question Id : 9662318263 Question Type : MCQ Option Shuffling : Yes Display Question Number : Yes
Single Line Question Option : No Option Orientation : Vertical

Correct Marks : 1 Wrong Marks : 0.25

Pellagra is caused due to the lack of Vitamin

Options :

1. ✔ B-3
2. ✘ D
3. ✘ B-1
4. ✘ A

Question Number : 27 Question Id : 9662318263 Question Type : MCQ Option Shuffling : Yes Display Question Number : Yes
Single Line Question Option : No Option Orientation : Vertical

Correct Marks : 1 Wrong Marks : 0.25

पेलाग्रा विटामिन की कमी के कारण होता है

Options :

1. ✔ B-3
2. ✘ D
3. ✘ B-1
4. ✘ A

Question Number : 28 Question Id : 9662318264 Question Type : MCQ Option Shuffling : Yes Display Question Number : Yes
Single Line Question Option : No Option Orientation : Vertical

Correct Marks : 1 Wrong Marks : 0.25

Gibraltar Strait connects the Mediterranean sea with

Options :

1. ✘ Antarctic Ocean
2. ✔ Atlantic Ocean
3. ✘ Indian Ocean
4. ✘ Arctic Ocean

Question Number : 28 Question Id : 9662318264 Question Type : MCQ Option Shuffling : Yes Display Question Number : Yes
Single Line Question Option : No Option Orientation : Vertical

Correct Marks : 1 Wrong Marks : 0.25

जिब्राल्टर जलसन्धि भूमध्य सागर को से जोड़ती है

Options :

1. ✘ अंटार्कटिक महासागर
2. ✔ अटलांटिक महासागर
3. ✘ हिंद महासागर
4. ✘ उत्तरध्रुवीय महासागर

Question Number : 29 Question Id : 9662318265 Question Type : MCQ Option Shuffling : Yes Display Question Number : Yes
Single Line Question Option : No Option Orientation : Vertical

Correct Marks : 1 Wrong Marks : 0.25

In which of the following states is the Dharoi Dam located?

Options :

1. ✖ Assam
2. ✖ Maharashtra
3. ✔ Gujarat
4. ✖ Himachal Pradesh

Question Number : 29 Question Id : 9662318265 Question Type : MCQ Option Shuffling : Yes Display Question Number : Yes
Single Line Question Option : No Option Orientation : Vertical

Correct Marks : 1 Wrong Marks : 0.25

धरोई बांध निम्नलिखित में से किस राज्य में स्थित है?

Options :

1. ✖ असम
2. ✖ महाराष्ट्र
3. ✔ गुजरात
4. ✖ हिमाचल प्रदेश

Question Number : 30 Question Id : 9662318266 Question Type : MCQ Option Shuffling : Yes Display Question Number : Yes
Single Line Question Option : No Option Orientation : Vertical

Correct Marks : 1 Wrong Marks : 0.25

What is the highest point of The Alps, mountain range of Europe?

Options :

1. ✖ Mount Elbert
2. ✔ Mount Blac
3. ✖ Matterhorn
4. ✖ Monte Viso

Question Number : 30 Question Id : 9662318266 Question Type : MCQ Option Shuffling : Yes Display Question Number : Yes
Single Line Question Option : No Option Orientation : Vertical

Correct Marks : 1 Wrong Marks : 0.25

यूरोप की पर्वत श्रृंखला, आल्प्स का उच्चतम बिंदु क्या है?

Options :

1. ✖ माउंट एल्बर्ट
2. ✔ माउंट ब्लैक
3. ✖ मैटरहॉर्न
4. ✖ मोंटे विसो

Question Number : 31 Question Id : 9662318267 Question Type : MCQ Option Shuffling : Yes Display Question Number : Yes
Single Line Question Option : No Option Orientation : Vertical

Correct Marks : 1 Wrong Marks : 0.25

Who became the first Governor General of Independent India?

Options :

1. ✖ Archibald Wavellin
2. ✖ Clement Attlee
3. ✖ Lord Curzon
4. ✔ Lord Mountbatten

Question Number : 31 Question Id : 9662318267 Question Type : MCQ Option Shuffling : Yes Display Question Number : Yes
Single Line Question Option : No Option Orientation : Vertical

Correct Marks : 1 Wrong Marks : 0.25

स्वतंत्र भारत के पहले महाराज्यपाल कौन बने?

Options :

- ✘ आर्चीबाल्ड वेवलिन
- ✘ क्लिमेंट एटली
- ✘ लॉर्ड कर्जन
- ✔ लॉर्ड माउंटबेटन

Question Number : 32 Question Id : 9662318268 Question Type : MCQ Option Shuffling : Yes Display Question Number : Yes
Single Line Question Option : No Option Orientation : Vertical

Correct Marks : 1 Wrong Marks : 0.25

Fa-Hien came to India under the reign of _____.

Options :

- ✘ Harshavardhana
- ✘ Chandragupta Maurya
- ✔ Chandragupta II Vikramaditya
- ✘ Muhammad-Bin-Tughlaq

Question Number : 32 Question Id : 9662318268 Question Type : MCQ Option Shuffling : Yes Display Question Number : Yes
Single Line Question Option : No Option Orientation : Vertical

Correct Marks : 1 Wrong Marks : 0.25

फ़ाहियान _____ के शासन में भारत आया था।

Options :

- ✘ हर्षवर्धन
- ✘ चंद्रगुप्त मौर्य
- ✔ चंद्रगुप्त II विक्रमादित्य
- ✘ मुहम्मद बिन तुग़लक़

Question Number : 33 Question Id : 9662318269 Question Type : MCQ Option Shuffling : Yes Display Question Number : Yes
Single Line Question Option : No Option Orientation : Vertical

Correct Marks : 1 Wrong Marks : 0.25

In the battle of Karnal, Nadir Shah defeated _____.

Options :

- ✔ Muhammad Shah
- ✘ Sikander Lodi
- ✘ Babur
- ✘ Shah Jahan

Question Number : 33 Question Id : 9662318269 Question Type : MCQ Option Shuffling : Yes Display Question Number : Yes
Single Line Question Option : No Option Orientation : Vertical

Correct Marks : 1 Wrong Marks : 0.25

करनाल के युद्ध में, नादिर शाह ने _____ को हराया था।

Options :

- ✔ मुहम्मद शाह
- ✘ सिकंदर लोदी
- ✘ बाबर
- ✘ शाह जहाँ

Question Number : 34 Question Id : 9662318270 Question Type : MCQ Option Shuffling : Yes Display Question Number : Yes
Single Line Question Option : No Option Orientation : Vertical

Correct Marks : 1 Wrong Marks : 0.25

Where was the first session of UN held?

Options :

- ✘ Denver
- ✔ London
- ✘ California
- ✘ Paris

Question Number : 34 Question Id : 9662318270 Question Type : MCQ Option Shuffling : Yes Display Question Number : Yes
Single Line Question Option : No Option Orientation : Vertical

Correct Marks : 1 Wrong Marks : 0.25

संयुक्त राष्ट्र का पहला सत्र कहाँ आयोजित किया गया था?

Options :

- ✘ डेनवर
- ✔ लंदन
- ✘ कैलिफोर्निया
- ✘ पेरिस

Question Number : 35 Question Id : 9662318271 Question Type : MCQ Option Shuffling : Yes Display Question Number : Yes
Single Line Question Option : No Option Orientation : Vertical

Correct Marks : 1 Wrong Marks : 0.25

Who received the first Param Vir Chakra award?

Options :

- ✘ Joginder Singh
- ✘ Jadunath Singh
- ✔ Somnath Sharma
- ✘ Shaitan Singh

Question Number : 35 Question Id : 9662318271 Question Type : MCQ Option Shuffling : Yes Display Question Number : Yes
Single Line Question Option : No Option Orientation : Vertical

Correct Marks : 1 Wrong Marks : 0.25

पहला परमवीर चक्र पुरस्कार किसे मिला?

Options :

- ✘ जोगिंदर सिंह
- ✘ जदुनाथ सिंह
- ✔ सोमनाथ शर्मा
- ✘ शैतान सिंह

Question Number : 36 Question Id : 9662318272 Question Type : MCQ Option Shuffling : Yes Display Question Number : Yes
Single Line Question Option : No Option Orientation : Vertical

Correct Marks : 1 Wrong Marks : 0.25

Which amendment included Daman and Diu in Indian Union as a Union Territory?

Options :

- ✘ 7
- ✘ 10
- ✔ 12
- ✘ 9

Question Number : 36 Question Id : 9662318272 Question Type : MCQ Option Shuffling : Yes Display Question Number : Yes
Single Line Question Option : No Option Orientation : Vertical

Correct Marks : 1 Wrong Marks : 0.25

किस संशोधन में दमन और दीव को केंद्र शासित प्रदेश के रूप में भारतीय संघ में शामिल किया गया?

Options :

- ✘ 7
- ✘ 10
- ✔ 12
- ✘ 9

Question Number : 37 Question Id : 9662318273 Question Type : MCQ Option Shuffling : Yes Display Question Number : Yes
Single Line Question Option : No Option Orientation : Vertical

Correct Marks : 1 Wrong Marks : 0.25

The Preamble to the constitution is a borrowed feature from the constitution of _____.

Options :

- ✔ USA
- ✘ Canada
- ✘ Ireland
- ✘ Britain

Question Number : 37 Question Id : 9662318273 Question Type : MCQ Option Shuffling : Yes Display Question Number : Yes
Single Line Question Option : No Option Orientation : Vertical

Correct Marks : 1 Wrong Marks : 0.25

संविधान की प्रस्तावना _____ के संविधान से अपनाई गई विशेषता है।

Options :

- ✔ संयुक्त राज्य अमेरीका
- ✘ कनाडा
- ✘ आयरलैंड
- ✘ ब्रिटेन

Question Number : 38 Question Id : 9662318274 Question Type : MCQ Option Shuffling : Yes Display Question Number : Yes
Single Line Question Option : No Option Orientation : Vertical

Correct Marks : 1 Wrong Marks : 0.25

The _____ schedule of the Indian Constitution contains provisions for validation of certain Acts and Regulations.

Options :

- ✔ Ninth
- ✘ Eleventh
- ✘ Seventh
- ✘ Fifth

Question Number : 38 Question Id : 9662318274 Question Type : MCQ Option Shuffling : Yes Display Question Number : Yes
Single Line Question Option : No Option Orientation : Vertical

Correct Marks : 1 Wrong Marks : 0.25

भारतीय संविधान की _____ अनुसूची में कुछ निश्चित अधिनियमों और विनियमों के सत्यापन के प्रावधान हैं।

Options :

- ✔ नौवीं
- ✘ ग्यारवीं
- ✘ सातवीं
- ✘ पांचवीं

Question Number : 39 Question Id : 9662318275 Question Type : MCQ Option Shuffling : Yes Display Question Number : Yes
Single Line Question Option : No Option Orientation : Vertical

Correct Marks : 1 Wrong Marks : 0.25

Which of the following teams was the first winner of the Indian Premier League (Cricket)?

Options :

1. ✘ Chennai Super Kings
2. ✘ Mumbai Indians
3. ✔ Rajasthan Royals
4. ✘ Kolkata Knight Riders

Question Number : 39 Question Id : 9662318275 Question Type : MCQ Option Shuffling : Yes Display Question Number : Yes
Single Line Question Option : No Option Orientation : Vertical

Correct Marks : 1 Wrong Marks : 0.25

निम्नलिखित में से कौन सी टीम इंडियन प्रीमियर लीग (क्रिकेट) की पहली विजेता थी?

Options :

1. ✘ चेन्नई सुपर किंग्स
2. ✘ मुंबई इंडियंस
3. ✔ राजस्थान रॉयल्स
4. ✘ कोलकाता नाइट राइडर्स

Question Number : 40 Question Id : 9662318276 Question Type : MCQ Option Shuffling : Yes Display Question Number : Yes
Single Line Question Option : No Option Orientation : Vertical

Correct Marks : 1 Wrong Marks : 0.25

Which among the following teams was the first one to win the World T20 Cricket Championship?

Options :

1. ✘ Australia
2. ✘ New Zealand
3. ✔ India
4. ✘ England

Question Number : 40 Question Id : 9662318276 Question Type : MCQ Option Shuffling : Yes Display Question Number : Yes
Single Line Question Option : No Option Orientation : Vertical

Correct Marks : 1 Wrong Marks : 0.25

निम्नलिखित में से कौन सी टीम विश्व टी 20 क्रिकेट चैंपियनशिप जीतने वाली पहली टीम थी?

Options :

1. ✘ ऑस्ट्रेलिया
2. ✘ न्यूजीलैंड
3. ✔ भारत
4. ✘ इंग्लैंड

Arithmetic Ability

Group Number :	3
Group Id :	966231206
Group Maximum Duration :	0
Group Minimum Duration :	0
Revisit allowed for view? :	No
Revisit allowed for edit? :	No

Break time:	0
Group Marks:	20
Revisit allowed for group Instructions? :	Yes
Maximum Instruction Time:	0
Minimum Instruction Time:	0

Arithmetic Ability

Section Id :	966231321
Section Number :	1
Section type :	Online
Mandatory or Optional:	Mandatory
Number of Questions:	20
Number of Questions to be attempted:	20
Section Marks:	20
Display Number Panel:	Yes
Group All Questions:	No

Sub-Section Number:	1
Sub-Section Id:	966231357
Question Shuffling Allowed :	Yes

Question Number : 41 Question Id : 9662318277 Question Type : MCQ Option Shuffling : Yes Display Question Number : Yes
Single Line Question Option : No Option Orientation : Vertical

Correct Marks : 1 Wrong Marks : 0.25

Find the least number by which 1440 must be divided so as to make it a perfect square?

Options :

- ✘ 2
- ✘ 5
- ✔ 10
- ✘ 12

Question Number : 41 Question Id : 9662318277 Question Type : MCQ Option Shuffling : Yes Display Question Number : Yes
Single Line Question Option : No Option Orientation : Vertical

Correct Marks : 1 Wrong Marks : 0.25

वह न्यूनतम संख्या ज्ञात करें, जिसके द्वारा 1440 को विभाजित किया जाना चाहिए ताकि इसे एक पूर्ण वर्ग बनाया जा सके?

Options :

- ✘ 2
- ✘ 5
- ✔ 10
- ✘ 12

Question Number : 42 Question Id : 9662318278 Question Type : MCQ Option Shuffling : Yes Display Question Number : Yes
Single Line Question Option : No Option Orientation : Vertical

Correct Marks : 1 Wrong Marks : 0.25

The HCF and LCM of 2 positive numbers are 2 and 132 respectively. If one of the numbers is 2 less than the double of the other, find the smaller number.

Options :

- ✘ 11

2. ✓ 12

3. ✗ 22

4. ✗ 18

Question Number : 42 Question Id : 9662318278 Question Type : MCQ Option Shuffling : Yes Display Question Number : Yes
Single Line Question Option : No Option Orientation : Vertical

Correct Marks : 1 Wrong Marks : 0.25

2 धनात्मक संख्याओं का महत्तम समापवर्तक और लघुत्तम समापवर्तक क्रमशः 2 और 132 है। यदि उन संख्याओं में से एक दूसरे के दोगुने से 2 कम है, तो छोटी संख्या का पता लगाए।

Options :

1. ✗ 11

2. ✓ 12

3. ✗ 22

4. ✗ 18

Question Number : 43 Question Id : 9662318279 Question Type : MCQ Option Shuffling : Yes Display Question Number : Yes
Single Line Question Option : No Option Orientation : Vertical

Correct Marks : 1 Wrong Marks : 0.25

If $x/y=5/8$ and $11x + 6y= 1030$, find the value of x .

Options :

1. ✓ 50

2. ✗ 100

3. ✗ 75

4. ✗ 25

Question Number : 43 Question Id : 9662318279 Question Type : MCQ Option Shuffling : Yes Display Question Number : Yes
Single Line Question Option : No Option Orientation : Vertical

Correct Marks : 1 Wrong Marks : 0.25

यदि $x/y = 5/8$ और $11x + 6y = 1030$, तो x का मूल्य ज्ञात करें।

Options :

1. ✓ 50

2. ✗ 100

3. ✗ 75

4. ✗ 25

Question Number : 44 Question Id : 9662318280 Question Type : MCQ Option Shuffling : Yes Display Question Number : Yes
Single Line Question Option : No Option Orientation : Vertical

Correct Marks : 1 Wrong Marks : 0.25

The average weight of 12 people increases by 1.5 kg when a new person replaces one of them weighing 62 kg. What is the weight of the new person?

Options :

1. ✗ 76 kg

2. ✓ 80 kg

3. ✗ 82 kg

4. ✗ 78 kg

Question Number : 44 Question Id : 9662318280 Question Type : MCQ Option Shuffling : Yes Display Question Number : Yes
Single Line Question Option : No Option Orientation : Vertical

Correct Marks : 1 Wrong Marks : 0.25

12 लोगों का औसत वजन 1.5 kg बढ़ जाता है, जब 62 kg वजन वाले एक व्यक्ति के स्थान पर एक नया व्यक्ति आ जाता है। उस नए व्यक्ति का वजन क्या है?

Options :

- ✘ 76 kg
- ✔ 80 kg
- ✘ 82 kg
- ✘ 78 kg

Question Number : 45 Question Id : 9662318281 Question Type : MCQ Option Shuffling : Yes Display Question Number : Yes Single Line Question Option : No Option Orientation : Vertical

Correct Marks : 1 Wrong Marks : 0.25

What is the total discount applied when 3 successive discounts of 15% are applicable.

Options :

- ✔ 38.59 percent
- ✘ 37.44 percent
- ✘ 36.89 percent
- ✘ 37.59 percent

Question Number : 45 Question Id : 9662318281 Question Type : MCQ Option Shuffling : Yes Display Question Number : Yes Single Line Question Option : No Option Orientation : Vertical

Correct Marks : 1 Wrong Marks : 0.25

15% के 3 क्रमिक छूट लागू होने पर कुल कितनी छूट लागू होती है।

Options :

- ✔ 38.59 प्रतिशत
- ✘ 37.44 प्रतिशत
- ✘ 36.89 प्रतिशत
- ✘ 37.59 प्रतिशत

Question Number : 46 Question Id : 9662318282 Question Type : MCQ Option Shuffling : Yes Display Question Number : Yes Single Line Question Option : No Option Orientation : Vertical

Correct Marks : 1 Wrong Marks : 0.25

Two workers X and Y are paid a total of Rs. 6000 by their employer. Y received 50% more than the sum received by X. How much did Y receive?

Options :

- ✘ Rs. 2400
- ✔ Rs. 3600
- ✘ Rs. 3000
- ✘ Rs. 4000

Question Number : 46 Question Id : 9662318282 Question Type : MCQ Option Shuffling : Yes Display Question Number : Yes Single Line Question Option : No Option Orientation : Vertical

Correct Marks : 1 Wrong Marks : 0.25

दो श्रमिकों X और Y को उनके नियोजक द्वारा कुल 6000 रुपये का भुगतान किया गया। Y को X द्वारा प्राप्त धनराशि से 50% अधिक धनराशि प्राप्त हुई। Y को कितनी रकम प्राप्त हुई?

Options :

- ✘ 2400 रुपये
- ✔ 3600 रुपये
- ✘ 3000 रुपये
- ✘ 4000 रुपये

Question Number : 47 Question Id : 9662318283 Question Type : MCQ Option Shuffling : Yes Display Question Number : Yes
Single Line Question Option : No Option Orientation : Vertical

Correct Marks : 1 Wrong Marks : 0.25

An article was sold for Rs. 3600 at a discount of 40% after 2 successive mark-ups of 25% each. Find the cost price of the article.

Options :

1. ✘ Rs. 2640
2. ✘ Rs. 3240
3. ✘ Rs. 3600
4. ✔ Rs. 3840

Question Number : 47 Question Id : 9662318283 Question Type : MCQ Option Shuffling : Yes Display Question Number : Yes
Single Line Question Option : No Option Orientation : Vertical

Correct Marks : 1 Wrong Marks : 0.25

25% प्रत्येक के 2 क्रमिक अंकन के बाद 40% की छूट देने पर एक लेख को 3600 रुपये में बेचा गया उस लेख की लागत मूल्य ज्ञात करें

Options :

1. ✘ 2640 रुपये
2. ✘ 3240 रुपये
3. ✘ 3600 रुपये
4. ✔ 3840 रुपये

Question Number : 48 Question Id : 9662318284 Question Type : MCQ Option Shuffling : Yes Display Question Number : Yes
Single Line Question Option : No Option Orientation : Vertical

Correct Marks : 1 Wrong Marks : 0.25

The population of a town increased from 520000 to 650000 in a decade. What is the average increase of population per year?

Options :

1. ✘ 2 percent
2. ✘ 2.25 percent
3. ✔ 2.5 percent
4. ✘ 2.75 percent

Question Number : 48 Question Id : 9662318284 Question Type : MCQ Option Shuffling : Yes Display Question Number : Yes
Single Line Question Option : No Option Orientation : Vertical

Correct Marks : 1 Wrong Marks : 0.25

एक कस्बे की आबादी एक दशक में 520000 से बढ़कर 650000 हो गई प्रति वर्ष जनसंख्या की औसत वृद्धि क्या है?

Options :

1. ✘ 2 प्रतिशत
2. ✘ 2.25 प्रतिशत
3. ✔ 2.5 प्रतिशत
4. ✘ 2.75 प्रतिशत

Question Number : 49 Question Id : 9662318285 Question Type : MCQ Option Shuffling : Yes Display Question Number : Yes
Single Line Question Option : No Option Orientation : Vertical

Correct Marks : 1 Wrong Marks : 0.25

Some 10 articles were bought for Rs. 8 and 8 articles were sold for Rs 10. What is the profit percentage?

Options :

1. ✘ 45 percent

2. ✘ 50 percent
3. ✘ 52.5 percent
4. ✔ 56.25 percent

Question Number : 49 Question Id : 9662318285 Question Type : MCQ Option Shuffling : Yes Display Question Number : Yes
Single Line Question Option : No Option Orientation : Vertical

Correct Marks : 1 Wrong Marks : 0.25

कुछ 10 लेख 8 रुपये के भाव से खरीदे गए और 8 वस्तु 10 रुपये के भाव से बेचे गए लाभ प्रतिशत क्या है?

Options :

1. ✘ 45 प्रतिशत
2. ✘ 50 प्रतिशत
3. ✘ 52.5 प्रतिशत
4. ✔ 56.25 प्रतिशत

Question Number : 50 Question Id : 9662318286 Question Type : MCQ Option Shuffling : Yes Display Question Number : Yes
Single Line Question Option : No Option Orientation : Vertical

Correct Marks : 1 Wrong Marks : 0.25

Salaries of X and Y are in the ratio 4:5. If the salaries are increased by Rs. 5000 each, the ratio becomes 9:11. Find the salary of X.

Options :

1. ✘ Rs. 36,000
2. ✔ Rs. 40,000
3. ✘ Rs. 44,000
4. ✘ Rs. 50,000

Question Number : 50 Question Id : 9662318286 Question Type : MCQ Option Shuffling : Yes Display Question Number : Yes
Single Line Question Option : No Option Orientation : Vertical

Correct Marks : 1 Wrong Marks : 0.25

X और Y के वेतन 4:5 के अनुपात में हैं। अगर प्रत्येक के वेतन में 5000 रुपये की बढ़ोतरी की जाती है, तो यह अनुपात 9:11 हो जाता है। X का वेतन ज्ञात करें।

Options :

1. ✘ 36,000 रुपये
2. ✔ 40,000 रुपये
3. ✘ 44,000 रुपये
4. ✘ 50,000 रुपये

Question Number : 51 Question Id : 9662318287 Question Type : MCQ Option Shuffling : Yes Display Question Number : Yes
Single Line Question Option : No Option Orientation : Vertical

Correct Marks : 1 Wrong Marks : 0.25

यदि $2/3 : 16/7 :: X/12 : 60/24$, तो X का मूल्य ज्ञात करें।

Options :

1. ✔ 8.75
2. ✘ 8.80
3. ✘ 10.00
4. ✘ 9.60

Question Number : 51 Question Id : 9662318287 Question Type : MCQ Option Shuffling : Yes Display Question Number : Yes
Single Line Question Option : No Option Orientation : Vertical

Correct Marks : 1 Wrong Marks : 0.25

If $2/3:16/7::X/12:60/24$, find the value of X.

Options :

1. ✓ 8.75
2. ✗ 8.80
3. ✗ 10.00
4. ✗ 9.60

Question Number : 52 Question Id : 9662318288 Question Type : MCQ Option Shuffling : Yes Display Question Number : Yes
Single Line Question Option : No Option Orientation : Vertical

Correct Marks : 1 Wrong Marks : 0.25

Two numbers are in the ratio 5:7, 5 is subtracted from each of the numbers and the ratio becomes 2:3. Find the smaller number.

Options :

1. ✗ 15
2. ✗ 20
3. ✓ 25
4. ✗ 30

Question Number : 52 Question Id : 9662318288 Question Type : MCQ Option Shuffling : Yes Display Question Number : Yes
Single Line Question Option : No Option Orientation : Vertical

Correct Marks : 1 Wrong Marks : 0.25

दो संख्याएँ 5:7 के अनुपात में हैं, प्रत्येक संख्या से 5 घटाया जाता है जिससे यह अनुपात 2:3 हो जाता है। न्यूनतम संख्या ज्ञात करें।

Options :

1. ✗ 15
2. ✗ 20
3. ✓ 25
4. ✗ 30

Question Number : 53 Question Id : 9662318289 Question Type : MCQ Option Shuffling : Yes Display Question Number : Yes
Single Line Question Option : No Option Orientation : Vertical

Correct Marks : 1 Wrong Marks : 0.25

A sum of 15,000 amounts to Rs. 21,000 in 4 years. What is the simple rate of interest?

Options :

1. ✗ 5 percent
2. ✗ 7.5 percent
3. ✓ 10 percent
4. ✗ 12.5 percent

Question Number : 53 Question Id : 9662318289 Question Type : MCQ Option Shuffling : Yes Display Question Number : Yes
Single Line Question Option : No Option Orientation : Vertical

Correct Marks : 1 Wrong Marks : 0.25

4 वर्षों में 15,000 की धनराशि बढ़कर 21,000 रुपये हो जाती है। ब्याज की साधारण दर क्या है?

Options :

1. ✗ 5 प्रतिशत
2. ✗ 7.5 प्रतिशत
3. ✓ 10 प्रतिशत
4. ✗ 12.5 प्रतिशत

Question Number : 54 Question Id : 9662318290 Question Type : MCQ Option Shuffling : Yes Display Question Number : Yes
Single Line Question Option : No Option Orientation : Vertical

Correct Marks : 1 Wrong Marks : 0.25

A man on a tour travels the first 200 km at 120 km/h and the next 200 km at 150 km/h. What is the average speed of the journey?

Options :

1. ✘ 135 km/hr
2. ✘ 132.27 km/hr
3. ✔ 133.33 km/hr
4. ✘ 137.5 km/hr

Question Number : 54 Question Id : 9662318290 Question Type : MCQ Option Shuffling : Yes Display Question Number : Yes
Single Line Question Option : No Option Orientation : Vertical

Correct Marks : 1 Wrong Marks : 0.25

दौरे पर स्थित एक व्यक्ति पहले 200 km की दूरी 120 km/h और अगले 200 km की दूरी 150 km/h की गति से यात्रा करता है। यात्रा की औसत गति क्या है?

Options :

1. ✘ 135 km/hr
2. ✘ 132.27 km/hr
3. ✔ 133.33 km/hr
4. ✘ 137.5 km/hr

Question Number : 55 Question Id : 9662318291 Question Type : MCQ Option Shuffling : Yes Display Question Number : Yes
Single Line Question Option : No Option Orientation : Vertical

Correct Marks : 1 Wrong Marks : 0.25

A can do a piece of work in 12 hours, B and C can do it in 8 hours while A and C can do it 9 hours. How long will B alone take to do it?

Options :

1. ✘ 10 hours
2. ✔ 10.29 hours
3. ✘ 11 hours
4. ✘ 11.29 hours

Question Number : 55 Question Id : 9662318291 Question Type : MCQ Option Shuffling : Yes Display Question Number : Yes
Single Line Question Option : No Option Orientation : Vertical

Correct Marks : 1 Wrong Marks : 0.25

A एक काम को 12 घंटे में कर सकता है, B और C इसे 8 घंटे में कर सकते हैं जबकि A और C इसे 9 घंटे में कर सकते हैं। B अकेले इसे करने में कितना समय लेगा?

Options :

1. ✘ 10 घंटे
2. ✔ 10.29 घंटे
3. ✘ 11 घंटे
4. ✘ 11.29 घंटे

Question Number : 56 Question Id : 9662318292 Question Type : MCQ Option Shuffling : Yes Display Question Number : Yes
Single Line Question Option : No Option Orientation : Vertical

Correct Marks : 1 Wrong Marks : 0.25

If A can do a work in 80 days, find the number of days in which B can do the work alone if they can together finish the work in 32 days.

Options :

1. ✘ 50.33
2. ✘ 50.71
3. ✘ 51.28
4. ✔ 53.33

Question Number : 56 Question Id : 9662318292 Question Type : MCQ Option Shuffling : Yes Display Question Number : Yes
Single Line Question Option : No Option Orientation : Vertical

Correct Marks : 1 Wrong Marks : 0.25

यदि A किसी कार्य को 80 दिनों में कर सकता है, तो उन दिनों की संख्या ज्ञात करें जिसमें B अकेले कार्य कर सकता है, यदि वे एक साथ मिलकर वह काम 32 दिनों में पूरा कर सकते हैं।

Options :

1. ✘ 50.33
2. ✘ 50.71
3. ✘ 51.28
4. ✔ 53.33

Question Number : 57 Question Id : 9662318293 Question Type : MCQ Option Shuffling : Yes Display Question Number : Yes
Single Line Question Option : No Option Orientation : Vertical

Correct Marks : 1 Wrong Marks : 0.25

A man walked diagonally in a park of which the sides measure 15 m and 20 m respectively. What percentage of walking was saved by not walking along the edges?

Options :

1. ✘ 22.71 percent
2. ✘ 25 percent
3. ✔ 28.57 percent
4. ✘ 33.33 percent

Question Number : 57 Question Id : 9662318293 Question Type : MCQ Option Shuffling : Yes Display Question Number : Yes
Single Line Question Option : No Option Orientation : Vertical

Correct Marks : 1 Wrong Marks : 0.25

एक आदमी तिरछा एक पार्क में चला जा रहा था, जिसकी दोनों भुजाएँ क्रमशः 15 m और 20 m हैं। किनारों पर नहीं चलने से कितने प्रतिशत दूरी की बचत हुई थी?

Options :

1. ✘ 22.71 प्रतिशत
2. ✘ 25 प्रतिशत
3. ✔ 28.57 प्रतिशत
4. ✘ 33.33 प्रतिशत

Question Number : 58 Question Id : 9662318294 Question Type : MCQ Option Shuffling : Yes Display Question Number : Yes
Single Line Question Option : No Option Orientation : Vertical

Correct Marks : 1 Wrong Marks : 0.25

The curved surface area and the diameter of a right circular cylinder are 352 cm^2 and 14 cm respectively. Find its height.

Options :

1. ✘ 9 cm
2. ✔ 8 cm
3. ✘ 10 cm
4. ✘ 11 cm

Question Number : 58 Question Id : 9662318294 Question Type : MCQ Option Shuffling : Yes Display Question Number : Yes
Single Line Question Option : No Option Orientation : Vertical

Correct Marks : 1 Wrong Marks : 0.25

एक समकोण वृत्ताकार सिलेंडर के घुमावदार सतह का क्षेत्रफल और व्यास क्रमशः 352 cm^2 और 14 cm है इसकी ऊँचाई ज्ञात करें

Options :

1. ✘ 9 cm
2. ✔ 8 cm
3. ✘ 10 cm
4. ✘ 11 cm

Question Number : 59 Question Id : 9662318295 Question Type : MCQ Option Shuffling : Yes Display Question Number : Yes
Single Line Question Option : No Option Orientation : Vertical

Correct Marks : 1 Wrong Marks : 0.25

The following table shows the sales of a restaurant for a week. On how many days were more pizza sold than cheeseburgers?

Day	Hamburgers	Pizza	Cheese burgers
Sunday	120	150	145
Monday	80	75	90
Tuesday	50	80	65
Wednesday	65	55	75
Thursday	75	90	85
Friday	85	75	100
Saturday	100	120	130

Options :

1. ✔ 3
2. ✘ 4
3. ✘ 5
4. ✘ 6

Question Number : 59 Question Id : 9662318295 Question Type : MCQ Option Shuffling : Yes Display Question Number : Yes
Single Line Question Option : No Option Orientation : Vertical

Correct Marks : 1 Wrong Marks : 0.25

निम्न तालिका एक सप्ताह के लिए एक रेस्तरां की बिक्री को दर्शाता है। कितने दिनों में चीज़बर्गर की तुलना में अधिक पिज़्जा बेचे गए?

दिन	हैम्बर्गर	पिज़्जा	चीज़बर्गर
रविवार	120	150	145
सोमवार	80	75	90
मंगलवार	50	80	65
बुधवार	65	55	75
गुरुवार	75	90	85
शुक्रवार	85	75	100
शनिवार	100	120	130

Options :

1. ✔ 3
2. ✘ 4

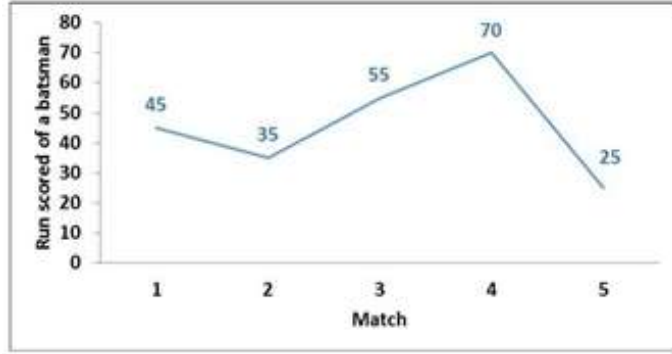
3. ✘ 5

4. ✘ 6

Question Number : 60 Question Id : 9662318296 Question Type : MCQ Option Shuffling : Yes Display Question Number : Yes Single Line Question Option : No Option Orientation : Vertical

Correct Marks : 1 Wrong Marks : 0.25

The following line graph shows the score of a batsman in five consecutive matches. In which match the highest increase in score is recorded?



Options :

1. ✘ 2nd

2. ✔ 3rd

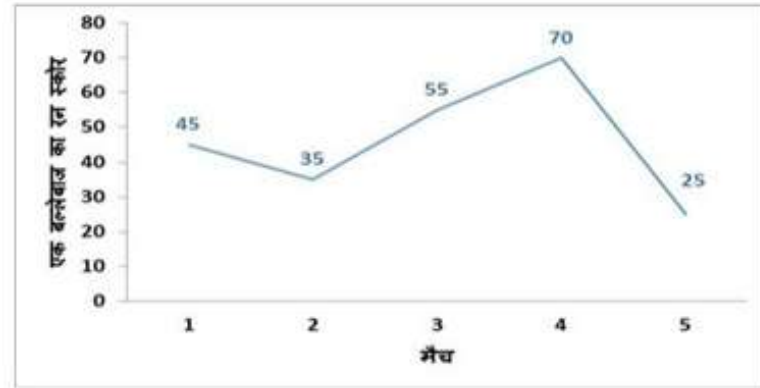
3. ✘ 4th

4. ✘ 5th

Question Number : 60 Question Id : 9662318296 Question Type : MCQ Option Shuffling : Yes Display Question Number : Yes Single Line Question Option : No Option Orientation : Vertical

Correct Marks : 1 Wrong Marks : 0.25

निम्न रेखा आरेख एक बल्लेबाज का लगातार पाँच मैचों में बनाया स्कोर दिखाता है। किस मैच में स्कोर में सर्वाधिक वृद्धि दर्ज की गई है?



Options :

1. ✘ दूसरे

2. ✔ तीसरे

3. ✘ चौथे

4. ✘ पांचवे

General English

Group Number :

4

Group Id :

966231207

Group Maximum Duration :

0

Group Minimum Duration :	0
Revisit allowed for view? :	No
Revisit allowed for edit? :	No
Break time:	0
Group Marks:	20
Revisit allowed for group Instructions? :	Yes
Maximum Instruction Time:	0
Minimum Instruction Time:	0

General English

Section Id :	966231322
Section Number :	1
Section type :	Online
Mandatory or Optional:	Mandatory
Number of Questions:	16
Number of Questions to be attempted:	16
Section Marks:	20
Display Number Panel:	Yes
Group All Questions:	No

Sub-Section Number:	1
Sub-Section Id:	966231358
Question Shuffling Allowed :	Yes

Question Number : 61 Question Id : 9662318297 Question Type : MCQ Option Shuffling : Yes Display Question Number : Yes Single Line Question Option : No Option Orientation : Vertical

Correct Marks : 1 Wrong Marks : 0.25

In the following statement, one part of the sentence may have an error. Find out which part of the sentence has an error and click the button corresponding to it. If the sentence is free from error, select the "No error" option.

(A) The population of New York / (B) is greater than any / (C) town in India. / (D) No error

Options :

1. ✘ A
2. ✔ B
3. ✘ C
4. ✘ D

Question Number : 61 Question Id : 9662318297 Question Type : MCQ Option Shuffling : Yes Display Question Number : Yes Single Line Question Option : No Option Orientation : Vertical

Correct Marks : 1 Wrong Marks : 0.25

In the following statement, one part of the sentence may have an error. Find out which part of the sentence has an error and click the button corresponding to it. If the sentence is free from error, select the "No error" option.

(A) The population of New York / (B) is greater than any / (C) town in India. / (D) No error

Options :

1. ✘ A
2. ✔ B
3. ✘ C

4. ✘ D

Question Number : 62 Question Id : 9662318298 Question Type : MCQ Option Shuffling : Yes Display Question Number : Yes
Single Line Question Option : No Option Orientation : Vertical

Correct Marks : 1 Wrong Marks : 0.25

The sentence below has been divided into three parts. Select the part of the sentence that has an error. If the sentence has no error, select the option 'No Error'.

A few days ago, / Radhika met an old friend / in the way to her office. / No Error

Options :

1. ✘ A few days ago,
2. ✘ Radhika met an old friend
3. ✔ in the way to her office.
4. ✘ No Error

Question Number : 62 Question Id : 9662318298 Question Type : MCQ Option Shuffling : Yes Display Question Number : Yes
Single Line Question Option : No Option Orientation : Vertical

Correct Marks : 1 Wrong Marks : 0.25

The sentence below has been divided into three parts. Select the part of the sentence that has an error. If the sentence has no error, select the option 'No Error'.

A few days ago, / Radhika met an old friend / in the way to her office. / No Error

Options :

1. ✘ A few days ago,
2. ✘ Radhika met an old friend
3. ✔ in the way to her office.
4. ✘ No Error

Question Number : 63 Question Id : 9662318299 Question Type : MCQ Option Shuffling : Yes Display Question Number : Yes
Single Line Question Option : No Option Orientation : Vertical

Correct Marks : 1 Wrong Marks : 0.25

Replace the words in the bracket from the set of options given.

Kailash has a house (for letting).

Options :

1. ✘ for let
2. ✘ with letting
3. ✘ to letting
4. ✔ to let

Question Number : 63 Question Id : 9662318299 Question Type : MCQ Option Shuffling : Yes Display Question Number : Yes
Single Line Question Option : No Option Orientation : Vertical

Correct Marks : 1 Wrong Marks : 0.25

Replace the words in the bracket from the set of options given.

Kailash has a house (for letting).

Options :

1. ✘ for let
2. ✘ with letting
3. ✘ to letting

4. ✓ to let

Question Number : 64 Question Id : 9662318300 Question Type : MCQ Option Shuffling : Yes Display Question Number : Yes
Single Line Question Option : No Option Orientation : Vertical

Correct Marks : 1 Wrong Marks : 0.25

Replace the words in the bracket from the set of options given.

Bhupen ran (fastest) than all the other children.

Options :

1. ✗ fast than
2. ✗ faster
3. ✓ faster than
4. ✗ fastest

Question Number : 64 Question Id : 9662318300 Question Type : MCQ Option Shuffling : Yes Display Question Number : Yes
Single Line Question Option : No Option Orientation : Vertical

Correct Marks : 1 Wrong Marks : 0.25

Replace the words in the bracket from the set of options given.

Bhupen ran (fastest) than all the other children.

Options :

1. ✗ fast than
2. ✗ faster
3. ✓ faster than
4. ✗ fastest

Question Number : 65 Question Id : 9662318301 Question Type : MCQ Option Shuffling : Yes Display Question Number : Yes
Single Line Question Option : No Option Orientation : Vertical

Correct Marks : 1 Wrong Marks : 0.25

Select the option that correctly (and most appropriately) fills in the blank and completes the sentence below.

Rahul's mother found him playing _____ the street.

Options :

1. ✗ at
2. ✗ on
3. ✓ in
4. ✗ about

Question Number : 65 Question Id : 9662318301 Question Type : MCQ Option Shuffling : Yes Display Question Number : Yes
Single Line Question Option : No Option Orientation : Vertical

Correct Marks : 1 Wrong Marks : 0.25

Select the option that correctly (and most appropriately) fills in the blank and completes the sentence below.

Rahul's mother found him playing _____ the street.

Options :

1. ✗ at
2. ✗ on
3. ✓ in
4. ✗ about

Question Number : 66 Question Id : 9662318302 Question Type : MCQ Option Shuffling : Yes Display Question Number : Yes
Single Line Question Option : No Option Orientation : Vertical

Correct Marks : 1 Wrong Marks : 0.25

The questions below consist of a set of labelled parts of a sentence. Out of four options given, select the most logical order of the parts which form a coherent sentence.

Environmental degradation
P : of the environment through
Q : such as air, water and soil
R : is the deterioration
S : depletion of resources

Options :

1. ✘ PSRQ
2. ✔ RPSQ
3. ✘ RSQP
4. ✘ PRSQ

Question Number : 66 Question Id : 9662318302 Question Type : MCQ Option Shuffling : Yes Display Question Number : Yes
Single Line Question Option : No Option Orientation : Vertical

Correct Marks : 1 Wrong Marks : 0.25

The questions below consist of a set of labelled parts of a sentence. Out of four options given, select the most logical order of the parts which form a coherent sentence.

Environmental degradation
P : of the environment through
Q : such as air, water and soil
R : is the deterioration
S : depletion of resources

Options :

1. ✘ PSRQ
2. ✔ RPSQ
3. ✘ RSQP
4. ✘ PRSQ

Question Number : 67 Question Id : 9662318303 Question Type : MCQ Option Shuffling : Yes Display Question Number : Yes
Single Line Question Option : No Option Orientation : Vertical

Correct Marks : 1 Wrong Marks : 0.25

Out of the four alternatives, choose the word which best expresses the meaning of the given word.

Muffle

Options :

1. ✘ Juggle
2. ✘ Cruel
3. ✔ Wrap
4. ✘ Mix

Question Number : 67 Question Id : 9662318303 Question Type : MCQ Option Shuffling : Yes Display Question Number : Yes
Single Line Question Option : No Option Orientation : Vertical

Correct Marks : 1 Wrong Marks : 0.25

Out of the four alternatives, choose the word which best expresses the meaning of the given word.

Muffle

Options :

1. ✘ Juggle
2. ✘ Cruel
3. ✔ Wrap
4. ✘ Mix

Question Number : 68 Question Id : 9662318304 Question Type : MCQ Option Shuffling : Yes Display Question Number : Yes Single Line Question Option : No Option Orientation : Vertical

Correct Marks : 1 Wrong Marks : 0.25

Out of the four alternatives, choose the word which is OPPOSITE in meaning to the given word.

Murky

Options :

1. ✔ Bright
2. ✘ Dusky
3. ✘ Nasty
4. ✘ Joint

Question Number : 68 Question Id : 9662318304 Question Type : MCQ Option Shuffling : Yes Display Question Number : Yes Single Line Question Option : No Option Orientation : Vertical

Correct Marks : 1 Wrong Marks : 0.25

Out of the four alternatives, choose the word which is OPPOSITE in meaning to the given word.

Murky

Options :

1. ✔ Bright
2. ✘ Dusky
3. ✘ Nasty
4. ✘ Joint

Question Number : 69 Question Id : 9662318305 Question Type : MCQ Option Shuffling : Yes Display Question Number : Yes Single Line Question Option : No Option Orientation : Vertical

Correct Marks : 1 Wrong Marks : 0.25

Four words are given, out of which only one word is spelt correctly. Choose the correctly spelt word.

Options :

1. ✔ Maverick
2. ✘ Mavireck
3. ✘ Mavereck
4. ✘ Mavericek

Question Number : 69 Question Id : 9662318305 Question Type : MCQ Option Shuffling : Yes Display Question Number : Yes Single Line Question Option : No Option Orientation : Vertical

Correct Marks : 1 Wrong Marks : 0.25

Four words are given, out of which only one word is spelt correctly. Choose the correctly spelt word.

Options :

1. ✔ Maverick
2. ✘ Mavireck
3. ✘ Mavereck
4. ✘ Mavericek

Question Number : 70 Question Id : 9662318306 Question Type : MCQ Option Shuffling : Yes Display Question Number : Yes
Single Line Question Option : No Option Orientation : Vertical

Correct Marks : 1 Wrong Marks : 0.25

Four words are given, out of which only one word is spelt correctly. Choose the correctly spelt word.

Options :

1. ✘ Labyrint
2. ✘ Labirinth
3. ✔ Labyrinth
4. ✘ Labyrith

Question Number : 70 Question Id : 9662318306 Question Type : MCQ Option Shuffling : Yes Display Question Number : Yes
Single Line Question Option : No Option Orientation : Vertical

Correct Marks : 1 Wrong Marks : 0.25

Four words are given, out of which only one word is spelt correctly. Choose the correctly spelt word.

Options :

1. ✘ Labyrint
2. ✘ Labirinth
3. ✔ Labyrinth
4. ✘ Labyrith

Question Number : 71 Question Id : 9662318307 Question Type : MCQ Option Shuffling : Yes Display Question Number : Yes
Single Line Question Option : No Option Orientation : Vertical

Correct Marks : 1 Wrong Marks : 0.25

Four words are given, out of which only one word is spelt correctly. Choose the correctly spelt word.

Options :

1. ✘ Punctilous
2. ✘ Punctilos
3. ✔ Punctilious
4. ✘ Punctilius

Question Number : 71 Question Id : 9662318307 Question Type : MCQ Option Shuffling : Yes Display Question Number : Yes
Single Line Question Option : No Option Orientation : Vertical

Correct Marks : 1 Wrong Marks : 0.25

Four words are given, out of which only one word is spelt correctly. Choose the correctly spelt word.

Options :

1. ✘ Punctilous
2. ✘ Punctilos
3. ✔ Punctilious
4. ✘ Punctilius

Question Number : 72 Question Id : 9662318308 Question Type : MCQ Option Shuffling : Yes Display Question Number : Yes
Single Line Question Option : No Option Orientation : Vertical

Correct Marks : 1 Wrong Marks : 0.25

What does the following idiom mean?

Hue and cry

Options :

1. ✘ Expressing calmness
2. ✘ To be silent

3. ✓ Loud clamour
4. ✗ To fight

Question Number : 72 Question Id : 9662318308 Question Type : MCQ Option Shuffling : Yes Display Question Number : Yes
Single Line Question Option : No Option Orientation : Vertical

Correct Marks : 1 Wrong Marks : 0.25

What does the following idiom mean?

Hue and cry

Options :

1. ✗ Expressing calmness
2. ✗ To be silent
3. ✓ Loud clamour
4. ✗ To fight

Question Number : 73 Question Id : 9662318309 Question Type : MCQ Option Shuffling : Yes Display Question Number : Yes
Single Line Question Option : No Option Orientation : Vertical

Correct Marks : 1 Wrong Marks : 0.25

What does the following idiom mean?

Palmy days

Options :

1. ✗ Extremely hot days
2. ✗ Difficult times
3. ✗ Long days
4. ✓ Prosperous times

Question Number : 73 Question Id : 9662318309 Question Type : MCQ Option Shuffling : Yes Display Question Number : Yes
Single Line Question Option : No Option Orientation : Vertical

Correct Marks : 1 Wrong Marks : 0.25

What does the following idiom mean?

Palmy days

Options :

1. ✗ Extremely hot days
2. ✗ Difficult times
3. ✗ Long days
4. ✓ Prosperous times

Question Number : 74 Question Id : 9662318310 Question Type : MCQ Option Shuffling : Yes Display Question Number : Yes
Single Line Question Option : No Option Orientation : Vertical

Correct Marks : 1 Wrong Marks : 0.25

In the following question, out of four alternatives, select the alternative which is the best substitute of the words / sentences.

A large bedroom for a number of people in a school or institution

Options :

1. ✗ Hangar
2. ✓ Dormitory
3. ✗ Kennel

4. ✖ Infirmary

Question Number : 74 Question Id : 9662318310 Question Type : MCQ Option Shuffling : Yes Display Question Number : Yes
Single Line Question Option : No Option Orientation : Vertical

Correct Marks : 1 Wrong Marks : 0.25

In the following question, out of four alternatives, select the alternative which is the best substitute of the words / sentences.

A large bedroom for a number of people in a school or institution

Options :

1. ✖ Hangar
2. ✔ Dormitory
3. ✖ Kennel
4. ✖ Infirmary

Question Number : 75 Question Id : 9662318311 Question Type : MCQ Option Shuffling : Yes Display Question Number : Yes
Single Line Question Option : No Option Orientation : Vertical

Correct Marks : 1 Wrong Marks : 0.25

In the following question, out of four alternatives, select the alternative which is the best substitute of the words / sentences.

A person or thing that is likely to cause harm; a threat or danger.

Options :

1. ✖ Henpeck
2. ✖ Epicure
3. ✖ Debonair
4. ✔ Menace

Question Number : 75 Question Id : 9662318311 Question Type : MCQ Option Shuffling : Yes Display Question Number : Yes
Single Line Question Option : No Option Orientation : Vertical

Correct Marks : 1 Wrong Marks : 0.25

In the following question, out of four alternatives, select the alternative which is the best substitute of the words / sentences.

A person or thing that is likely to cause harm; a threat or danger.

Options :

1. ✖ Henpeck
2. ✖ Epicure
3. ✖ Debonair
4. ✔ Menace

Sub-Section Number:	2
Sub-Section Id:	966231359
Question Shuffling Allowed :	Yes

Question Id : 9662318312 Question Type : COMPREHENSION Sub Question Shuffling Allowed : Yes Group Comprehension
Questions : No

Question Numbers : (76 to 80)

Question Label : Comprehension

Read the passage carefully and answer the given question:

Rajneesh Chandra Mohan Jain, calling himself Bhagwan Shree Rajneesh during the 1970s and 1980s and taking the name Osho in 1989, was a provocative Indian mystic, guru and philosopher. A professor of philosophy, he travelled throughout India in 1960s as a public speaker. He raised controversy by speaking against socialism, Mahatma Gandhi and institutionalized religion, and by advocating a more open attitude towards sexuality. Towards the end of the 1960s, he settled for a while in Mumbai. In 1970, he began initiating disciples and took on the role of a spiritual teacher. In his discourses, he reinterpreted the writings of religious traditions, mystics and philosophers from around the world. Moving from Mumbai to Pune in 1974, he established an Ashram in Pune that began to attract increasing numbers of Westerners.

Sub questions

Question Number : 76 Question Id : 9662318313 Question Type : MCQ Option Shuffling : Yes Display Question Number : Yes
Single Line Question Option : No Option Orientation : Vertical

Correct Marks : 1 Wrong Marks : 0.25

Rajneesh Chandra Mohan Jain was not a _____.

Options :

1. ✘ public speaker
2. ✘ philosopher
3. ✘ spiritual teacher
4. ✔ yoga guru

Question Number : 77 Question Id : 9662318314 Question Type : MCQ Option Shuffling : Yes Display Question Number : Yes
Single Line Question Option : No Option Orientation : Vertical

Correct Marks : 1 Wrong Marks : 0.25

When did Rajneesh travel throughout India?

Options :

1. ✘ 1970
2. ✘ 1980
3. ✔ 1960
4. ✘ 1950

Question Number : 78 Question Id : 9662318315 Question Type : MCQ Option Shuffling : Yes Display Question Number : Yes
Single Line Question Option : No Option Orientation : Vertical

Correct Marks : 1 Wrong Marks : 0.25

When did Rajneesh become a spiritual teacher?

Options :

1. ✔ 1970
2. ✘ 1960
3. ✘ 1974
4. ✘ 1989

Question Number : 79 Question Id : 9662318316 Question Type : MCQ Option Shuffling : Yes Display Question Number : Yes
Single Line Question Option : No Option Orientation : Vertical

Correct Marks : 1 Wrong Marks : 0.25

When did Rajneesh Chandra Mohan Jain move to Pune?

Options :

1. ✘ 1970
2. ✔ 1974
3. ✘ 1989
4. ✘ 1960

Question Number : 80 Question Id : 9662318317 Question Type : MCQ Option Shuffling : Yes Display Question Number : Yes
Single Line Question Option : No Option Orientation : Vertical

Correct Marks : 1 Wrong Marks : 0.25

Who was attracted by the Ashram established by Rajneesh?

Options :

- ✘ Osho
- ✘ Spiritual teachers
- ✘ Mahatma Gandhi
- ✔ Westerners

Question Id : 9662318312 Question Type : COMPREHENSION Sub Question Shuffling Allowed : Yes Group Comprehension
Questions : No

Question Numbers : (76 to 80)

Question Label : Comprehension

Read the passage carefully and answer the given question:

Rajneesh Chandra Mohan Jain, calling himself Bhagwan Shree Rajneesh during the 1970s and 1980s and taking the name Osho in 1989, was a provocative Indian mystic, guru and philosopher. A professor of philosophy, he travelled throughout India in 1960s as a public speaker. He raised controversy by speaking against socialism, Mahatma Gandhi and institutionalized religion, and by advocating a more open attitude towards sexuality. Towards the end of the 1960s, he settled for a while in Mumbai. In 1970, he began initiating disciples and took on the role of a spiritual teacher. In his discourses, he reinterpreted the writings of religious traditions, mystics and philosophers from around the world. Moving from Mumbai to Pune in 1974, he established an Ashram in Pune that began to attract increasing numbers of Westerners.

Sub questions

Question Number : 76 Question Id : 9662318313 Question Type : MCQ Option Shuffling : Yes Display Question Number : Yes
Single Line Question Option : No Option Orientation : Vertical

Correct Marks : 1 Wrong Marks : 0.25

Rajneesh Chandra Mohan Jain was not a _____.

Options :

- ✘ public speaker
- ✘ philosopher
- ✘ spiritual teacher
- ✔ yoga guru

Question Number : 77 Question Id : 9662318314 Question Type : MCQ Option Shuffling : Yes Display Question Number : Yes
Single Line Question Option : No Option Orientation : Vertical

Correct Marks : 1 Wrong Marks : 0.25

When did Rajneesh travel throughout India?

Options :

- ✘ 1970
- ✘ 1980
- ✔ 1960
- ✘ 1950

Question Number : 78 Question Id : 9662318315 Question Type : MCQ Option Shuffling : Yes Display Question Number : Yes
Single Line Question Option : No Option Orientation : Vertical

Correct Marks : 1 Wrong Marks : 0.25

When did Rajneesh become a spiritual teacher?

Options :

1. ✓ 1970
2. ✗ 1960
3. ✗ 1974
4. ✗ 1989

Question Number : 79 Question Id : 9662318316 Question Type : MCQ Option Shuffling : Yes Display Question Number : Yes
Single Line Question Option : No Option Orientation : Vertical

Correct Marks : 1 Wrong Marks : 0.25

When did Rajneesh Chandra Mohan Jain move to Pune?

Options :

1. ✗ 1970
2. ✓ 1974
3. ✗ 1989
4. ✗ 1960

Question Number : 80 Question Id : 9662318317 Question Type : MCQ Option Shuffling : Yes Display Question Number : Yes
Single Line Question Option : No Option Orientation : Vertical

Correct Marks : 1 Wrong Marks : 0.25

Who was attracted by the Ashram established by Rajneesh?

Options :

1. ✗ Osho
2. ✗ Spiritual teachers
3. ✗ Mahatma Gandhi
4. ✓ Westerners

General Hindi

Group Number :	5
Group Id :	966231208
Group Maximum Duration :	0
Group Minimum Duration :	0
Revisit allowed for view? :	No
Revisit allowed for edit? :	No
Break time:	0
Group Marks:	20
Revisit allowed for group Instructions? :	Yes
Maximum Instruction Time:	0
Minimum Instruction Time:	0

General Hindi

Section Id :	966231323
Section Number :	1
Section type :	Online
Mandatory or Optional:	Mandatory
Number of Questions:	16
Number of Questions to be attempted:	16
Section Marks:	20
Display Number Panel:	Yes

Group All Questions:

No

Sub-Section Number:

1

Sub-Section Id:

966231360

Question Shuffling Allowed :

Yes

Question Number : 81 Question Id : 9662318318 Question Type : MCQ Option Shuffling : Yes Display Question Number : Yes
Single Line Question Option : No Option Orientation : Vertical

Correct Marks : 1 Wrong Marks : 0.25

निम्नलिखित प्रश्न में, चार विकल्पों में से, उस विकल्प का चयन करें जो उपसर्ग से बना है।

Options :

1. ✓ प्रतिशत
2. ✗ बाजीगर
3. ✗ इकहरा
4. ✗ सपेरा

Question Number : 81 Question Id : 9662318318 Question Type : MCQ Option Shuffling : Yes Display Question Number : Yes
Single Line Question Option : No Option Orientation : Vertical

Correct Marks : 1 Wrong Marks : 0.25

निम्नलिखित प्रश्न में, चार विकल्पों में से, उस विकल्प का चयन करें जो उपसर्ग से बना है।

Options :

1. ✓ प्रतिशत
2. ✗ बाजीगर
3. ✗ इकहरा
4. ✗ सपेरा

Question Number : 82 Question Id : 9662318319 Question Type : MCQ Option Shuffling : Yes Display Question Number : Yes
Single Line Question Option : No Option Orientation : Vertical

Correct Marks : 1 Wrong Marks : 0.25

निम्नलिखित प्रश्न में, चार विकल्पों में से, उस सही विकल्प का चयन करें जो प्रत्यय से बना शब्द है।

Options :

1. ✗ संपादक
2. ✗ प्रभात
3. ✗ दुविधा
4. ✓ आलोकित

Question Number : 82 Question Id : 9662318319 Question Type : MCQ Option Shuffling : Yes Display Question Number : Yes
Single Line Question Option : No Option Orientation : Vertical

Correct Marks : 1 Wrong Marks : 0.25

निम्नलिखित प्रश्न में, चार विकल्पों में से, उस सही विकल्प का चयन करें जो प्रत्यय से बना शब्द है।

Options :

1. ✗ संपादक
2. ✗ प्रभात
3. ✗ दुविधा
4. ✓ आलोकित

Question Number : 83 Question Id : 9662318320 Question Type : MCQ Option Shuffling : Yes Display Question Number : Yes
Single Line Question Option : No Option Orientation : Vertical

Correct Marks : 1 Wrong Marks : 0.25

निम्नलिखित प्रश्न में, चार विकल्पों में से, रिक्त स्थान के लिए निर्देशानुसार उचित विकल्प का चयन करें।

चाय _____ मेरा दिन नहीं गुजरता। (हेतुसूचक)

Options :

1. ✖ के साथ
2. ✔ के बिना
3. ✖ के पहले
4. ✖ के बाद

Question Number : 83 Question Id : 9662318320 Question Type : MCQ Option Shuffling : Yes Display Question Number : Yes
Single Line Question Option : No Option Orientation : Vertical

Correct Marks : 1 Wrong Marks : 0.25

निम्नलिखित प्रश्न में, चार विकल्पों में से, रिक्त स्थान के लिए निर्देशानुसार उचित विकल्प का चयन करें।

चाय _____ मेरा दिन नहीं गुजरता। (हेतुसूचक)

Options :

1. ✖ के साथ
2. ✔ के बिना
3. ✖ के पहले
4. ✖ के बाद

Question Number : 84 Question Id : 9662318321 Question Type : MCQ Option Shuffling : Yes Display Question Number : Yes
Single Line Question Option : No Option Orientation : Vertical

Correct Marks : 1 Wrong Marks : 0.25

निम्नलिखित प्रश्न में, चार विकल्पों में से, उस विकल्प का चयन करें जो दिए गए शब्द से बनी भाववाचक संज्ञा का सही विकल्प हो।

समाज

Options :

1. ✖ सामाजिक
2. ✖ समाजी
3. ✖ समाजिकत्व
4. ✔ सामाजिकता

Question Number : 84 Question Id : 9662318321 Question Type : MCQ Option Shuffling : Yes Display Question Number : Yes
Single Line Question Option : No Option Orientation : Vertical

Correct Marks : 1 Wrong Marks : 0.25

निम्नलिखित प्रश्न में, चार विकल्पों में से, उस विकल्प का चयन करें जो दिए गए शब्द से बनी भाववाचक संज्ञा का सही विकल्प हो।

समाज

Options :

1. ✖ सामाजिक
2. ✖ समाजी
3. ✖ समाजिकत्व
4. ✔ सामाजिकता

Question Number : 85 Question Id : 9662318322 Question Type : MCQ Option Shuffling : Yes Display Question Number : Yes
Single Line Question Option : No Option Orientation : Vertical

Correct Marks : 1 Wrong Marks : 0.25

निम्नलिखित प्रश्न में, चार विकल्पों में से, उस विकल्प का चयन करें जो समानार्थी शब्द का सही विकल्प नहीं है।

तनिक

Options :

1. ✘ लवलेश
2. ✘ किंचित
3. ✘ थोड़ा
4. ✔ त्वरा

Question Number : 85 Question Id : 9662318322 Question Type : MCQ Option Shuffling : Yes Display Question Number : Yes
Single Line Question Option : No Option Orientation : Vertical

Correct Marks : 1 Wrong Marks : 0.25

निम्नलिखित प्रश्न में, चार विकल्पों में से, उस विकल्प का चयन करें जो समानार्थी शब्द का सही विकल्प नहीं है।

तनिक

Options :

1. ✘ लवलेश
2. ✘ किंचित
3. ✘ थोड़ा
4. ✔ त्वरा

Question Number : 86 Question Id : 9662318323 Question Type : MCQ Option Shuffling : Yes Display Question Number : Yes
Single Line Question Option : No Option Orientation : Vertical

Correct Marks : 1 Wrong Marks : 0.25

निम्नलिखित प्रश्न में, चार विकल्पों में से, उस विकल्प का चयन करें जो विलोम शब्द का सबसे अच्छा विकल्प है।

आर्य

Options :

1. ✘ उत्तम
2. ✘ पूज्य
3. ✘ योग्य
4. ✔ अनार्य

Question Number : 86 Question Id : 9662318323 Question Type : MCQ Option Shuffling : Yes Display Question Number : Yes
Single Line Question Option : No Option Orientation : Vertical

Correct Marks : 1 Wrong Marks : 0.25

निम्नलिखित प्रश्न में, चार विकल्पों में से, उस विकल्प का चयन करें जो विलोम शब्द का सबसे अच्छा विकल्प है।

आर्य

Options :

1. ✘ उत्तम
2. ✘ पूज्य
3. ✘ योग्य
4. ✔ अनार्य

Question Number : 87 Question Id : 9662318324 Question Type : MCQ Option Shuffling : Yes Display Question Number : Yes
Single Line Question Option : No Option Orientation : Vertical

Correct Marks : 1 Wrong Marks : 0.25

निम्नलिखित प्रश्न में, चार विकल्पों में से, रिक्त स्थान के लिए निर्देशानुसार उचित विकल्प का चयन करें

हममें से _____ को उससे बात करनी होगी

Options :

1. ✓ किसी
2. ✗ कोई
3. ✗ उन्हें
4. ✗ कौन

Question Number : 87 Question Id : 9662318324 Question Type : MCQ Option Shuffling : Yes Display Question Number : Yes
Single Line Question Option : No Option Orientation : Vertical

Correct Marks : 1 Wrong Marks : 0.25

निम्नलिखित प्रश्न में, चार विकल्पों में से, रिक्त स्थान के लिए निर्देशानुसार उचित विकल्प का चयन करें

हममें से _____ को उससे बात करनी होगी

Options :

1. ✓ किसी
2. ✗ कोई
3. ✗ उन्हें
4. ✗ कौन

Question Number : 88 Question Id : 9662318325 Question Type : MCQ Option Shuffling : Yes Display Question Number : Yes
Single Line Question Option : No Option Orientation : Vertical

Correct Marks : 1 Wrong Marks : 0.25

निम्नलिखित प्रश्न में, चार विकल्पों में से, उस सही विकल्प का चयन करें जो वाक्यांशों के लिए एक शब्द का विकल्प हो

जो क्षमा करने योग्य हो

Options :

1. ✗ अक्षम्य
2. ✗ खंडित
3. ✗ क्षमता
4. ✓ क्षम्य

Question Number : 88 Question Id : 9662318325 Question Type : MCQ Option Shuffling : Yes Display Question Number : Yes
Single Line Question Option : No Option Orientation : Vertical

Correct Marks : 1 Wrong Marks : 0.25

निम्नलिखित प्रश्न में, चार विकल्पों में से, उस सही विकल्प का चयन करें जो वाक्यांशों के लिए एक शब्द का विकल्प हो

जो क्षमा करने योग्य हो

Options :

1. ✗ अक्षम्य
2. ✗ खंडित
3. ✗ क्षमता
4. ✓ क्षम्य

Question Number : 89 Question Id : 9662318326 Question Type : MCQ Option Shuffling : Yes Display Question Number : Yes
Single Line Question Option : No Option Orientation : Vertical

Correct Marks : 1 Wrong Marks : 0.25

निम्नलिखित प्रश्न में, चार विकल्पों में से, रिक्त स्थान के लिए निर्देशानुसार उचित विकल्प का चयन करें।

मेरे _____ जहाज से विदेश जाया गया। (कर्मवाच्य)

Options :

1. ✓ द्वारा
2. ✗ से
3. ✗ को
4. ✗ पर

Question Number : 89 Question Id : 9662318326 Question Type : MCQ Option Shuffling : Yes Display Question Number : Yes
Single Line Question Option : No Option Orientation : Vertical

Correct Marks : 1 Wrong Marks : 0.25

निम्नलिखित प्रश्न में, चार विकल्पों में से, रिक्त स्थान के लिए निर्देशानुसार उचित विकल्प का चयन करें।

मेरे _____ जहाज से विदेश जाया गया। (कर्मवाच्य)

Options :

1. ✓ द्वारा
2. ✗ से
3. ✗ को
4. ✗ पर

Question Number : 90 Question Id : 9662318327 Question Type : MCQ Option Shuffling : Yes Display Question Number : Yes
Single Line Question Option : No Option Orientation : Vertical

Correct Marks : 1 Wrong Marks : 0.25

निम्नलिखित प्रश्न में, चार विकल्पों में से, उस विकल्प का चयन करें जो स्त्रीलिंग शब्द का सबसे अच्छा विकल्प है।

Options :

1. ✓ छिपकली
2. ✗ पक्षी
3. ✗ बिच्छु
4. ✗ खरगोश

Question Number : 90 Question Id : 9662318327 Question Type : MCQ Option Shuffling : Yes Display Question Number : Yes
Single Line Question Option : No Option Orientation : Vertical

Correct Marks : 1 Wrong Marks : 0.25

निम्नलिखित प्रश्न में, चार विकल्पों में से, उस विकल्प का चयन करें जो स्त्रीलिंग शब्द का सबसे अच्छा विकल्प है।

Options :

1. ✓ छिपकली
2. ✗ पक्षी
3. ✗ बिच्छु
4. ✗ खरगोश

Question Number : 91 Question Id : 9662318328 Question Type : MCQ Option Shuffling : Yes Display Question Number : Yes
Single Line Question Option : No Option Orientation : Vertical

Correct Marks : 1 Wrong Marks : 0.25

निम्नलिखित प्रश्न में, चार विकल्पों में से, उस विकल्प का चयन करें जो दिए गए शब्द का सही स्त्रीलिंग वाला शब्द है।

तपस्वी

Options :

1. ✗ तपस्विन
2. ✗ तपी

3. ✓ तपस्विनी

4. ✗ तपस्वीनी

Question Number : 91 Question Id : 9662318328 Question Type : MCQ Option Shuffling : Yes Display Question Number : Yes
Single Line Question Option : No Option Orientation : Vertical

Correct Marks : 1 Wrong Marks : 0.25

निम्नलिखित प्रश्न में, चार विकल्पों में से, उस विकल्प का चयन करें जो दिए गए शब्द का सही स्त्रीलिंग वाला शब्द है।

तपस्वी

Options :

1. ✗ तपस्विन

2. ✗ तपी

3. ✓ तपस्विनी

4. ✗ तपस्वीनी

Question Number : 92 Question Id : 9662318329 Question Type : MCQ Option Shuffling : Yes Display Question Number : Yes
Single Line Question Option : No Option Orientation : Vertical

Correct Marks : 1 Wrong Marks : 0.25

निम्नलिखित प्रश्न में, चार विकल्पों में से, उस विकल्प का चयन करें जो पुल्लिंग शब्द का सबसे अच्छा विकल्प है।

Options :

1. ✗ धूल

2. ✓ व्याख्यान

3. ✗ तलवार

4. ✗ पंचायत

Question Number : 92 Question Id : 9662318329 Question Type : MCQ Option Shuffling : Yes Display Question Number : Yes
Single Line Question Option : No Option Orientation : Vertical

Correct Marks : 1 Wrong Marks : 0.25

निम्नलिखित प्रश्न में, चार विकल्पों में से, उस विकल्प का चयन करें जो पुल्लिंग शब्द का सबसे अच्छा विकल्प है।

Options :

1. ✗ धूल

2. ✓ व्याख्यान

3. ✗ तलवार

4. ✗ पंचायत

Question Number : 93 Question Id : 9662318330 Question Type : MCQ Option Shuffling : Yes Display Question Number : Yes
Single Line Question Option : No Option Orientation : Vertical

Correct Marks : 1 Wrong Marks : 0.25

निम्नलिखित प्रश्न में, चार विकल्पों में से, उस विकल्प का चयन करें जो दिए गए मुहावरे का सही अर्थ वाला विकल्प है।

आँख फेरना।

Options :

1. ✗ कतराना।

2. ✗ मुंह छिपाना।

3. ✓ विरुद्ध होना।

4. ✗ बात न करना।

Question Number : 93 Question Id : 9662318330 Question Type : MCQ Option Shuffling : Yes Display Question Number : Yes
Single Line Question Option : No Option Orientation : Vertical

Correct Marks : 1 Wrong Marks : 0.25

निम्नलिखित प्रश्न में, चार विकल्पों में से, उस विकल्प का चयन करें जो दिए गए मुहावरे का सही अर्थ वाला विकल्प है।

आँख फेरना

Options :

1. ✘ कतराना
2. ✘ मुंह छिपाना
3. ✔ विरुद्ध होना
4. ✘ बात न करना

Question Number : 94 Question Id : 9662318331 Question Type : MCQ Option Shuffling : Yes Display Question Number : Yes
Single Line Question Option : No Option Orientation : Vertical

Correct Marks : 1 Wrong Marks : 0.25

निम्नलिखित प्रश्न में, चार विकल्पों में से, उस विकल्प का चयन करें जो दिए गए मुहावरे का सही अर्थ वाला विकल्प है।

हौसला बढ़ाना

Options :

1. ✘ आगे बढ़ाना
2. ✘ उत्साहित होना
3. ✘ काम करना
4. ✔ उत्साहित करना

Question Number : 94 Question Id : 9662318331 Question Type : MCQ Option Shuffling : Yes Display Question Number : Yes
Single Line Question Option : No Option Orientation : Vertical

Correct Marks : 1 Wrong Marks : 0.25

निम्नलिखित प्रश्न में, चार विकल्पों में से, उस विकल्प का चयन करें जो दिए गए मुहावरे का सही अर्थ वाला विकल्प है।

हौसला बढ़ाना

Options :

1. ✘ आगे बढ़ाना
2. ✘ उत्साहित होना
3. ✘ काम करना
4. ✔ उत्साहित करना

Question Number : 95 Question Id : 9662318332 Question Type : MCQ Option Shuffling : Yes Display Question Number : Yes
Single Line Question Option : No Option Orientation : Vertical

Correct Marks : 1 Wrong Marks : 0.25

निम्नलिखित प्रश्न में, चार विकल्पों में से, उस विकल्प का चयन करें जो विराम चिह्न युक्त वाक्य का सही विकल्प हो।

Options :

1. ✘ नेता जी ने कहा, तुम मुझे खून दो, मैं तुम्हें आज़ादी दूँगा
2. ✘ नेता जी ने कहा, " तुम मुझे खून दो मैं तुम्हें आज़ादी दूँगा"
3. ✔ नेता जी ने कहा, " तुम मुझे खून दो, मैं तुम्हें आज़ादी दूँगा"
4. ✘ नेता जी ने कहा - तुम मुझे खून दो, मैं तुम्हें आज़ादी दूँगा

Question Number : 95 Question Id : 9662318332 Question Type : MCQ Option Shuffling : Yes Display Question Number : Yes
Single Line Question Option : No Option Orientation : Vertical

Correct Marks : 1 Wrong Marks : 0.25

निम्नलिखित प्रश्न में, चार विकल्पों में से, उस विकल्प का चयन करें जो विराम चिह्न युक्त वाक्य का सही विकल्प हो।

Options :

1. ✘ नेता जी ने कहा, तुम मुझे खून दो, मैं तुम्हें आज़ादी दूँगा
2. ✘ नेता जी ने कहा, " तुम मुझे खून दो मैं तुम्हें आज़ादी दूँगा"

3. ✓ नेता जी ने कहा, " तुम मुझे खून दो, मैं तुम्हें आज़ादी दूँगा।"

4. ✗ नेता जी ने कहा - तुम मुझे खून दो, मैं तुम्हें आज़ादी दूँगा।

Sub-Section Number: 2
Sub-Section Id: 966231361
Question Shuffling Allowed : Yes

Question Id : 9662318333 Question Type : COMPREHENSION Sub Question Shuffling Allowed : Yes Group Comprehension Questions : No

Question Numbers : (96 to 100)

Question Label : Comprehension

नीचे दिए गये गद्यांश के बाद 5 प्रश्न दिए गये हैं। इस गद्यांश को ध्यानपूर्वक पढ़ें और चार विकल्पों में से प्रत्येक प्रश्न का सर्वोत्तम उत्तर चुनें।
नर्मदा का पुराना नाम रेवा भी था। इसका अर्थ है कूदना। इसका दूसरा नाम था नर्मदा। नर्म यानि आनंद। दा अर्थात् देना। नर्मदा आनंद देने वाली नदी थी। इसी कारण उसका यह नाम रखा गया। नर्मदा भारत की सात प्रमुख नदियों में से एक है। पौराणिक गाथाओं में भी इस नदी का वर्णन है। भारत की अधिकांश नदियाँ पूर्व की ओर बहती हैं, पर यह नदी पश्चिम की ओर बहती है। उसके अनेक रूप हैं, जब मुसलाधार वर्षा होती है तब उसमें बाढ़ आ जाती है। वह उफन पड़ती है। वसंत ऋतु में उसकी चल धीमी हो जाती है और गरमियों में उसमें पानी बहुत कम हो जाता है।

Sub questions

Question Number : 96 Question Id : 9662318334 Question Type : MCQ Option Shuffling : Yes Display Question Number : Yes
Single Line Question Option : No Option Orientation : Vertical

Correct Marks : 1 Wrong Marks : 0.25

अनुच्छेद में रेवा का क्या अर्थ बताया गया है?

Options :

1. ✗ देना
2. ✓ कूदना
3. ✗ आनंद
4. ✗ प्रमुख

Question Number : 97 Question Id : 9662318335 Question Type : MCQ Option Shuffling : Yes Display Question Number : Yes
Single Line Question Option : No Option Orientation : Vertical

Correct Marks : 1 Wrong Marks : 0.25

नर्मदा को कैसी नदी कहा जाता है?

Options :

1. ✓ प्रसन्नता प्रदान करने वाली
2. ✗ पीड़ा देने वाली
3. ✗ कूदने वाली
4. ✗ बहाने वाली

Question Number : 98 Question Id : 9662318336 Question Type : MCQ Option Shuffling : Yes Display Question Number : Yes
Single Line Question Option : No Option Orientation : Vertical

Correct Marks : 1 Wrong Marks : 0.25

अन्य नदियों के मुकाबले नर्मदा नदी कैसे भिन्न है?

Options :

1. ✗ प्राचीन काल से चर्चित होने के कारण
2. ✗ सात प्रमुख नदियों में आने के कारण
3. ✓ अलग दिशा में बहाव के कारण
4. ✗ आनंद के कारण

Question Number : 99 Question Id : 9662318337 Question Type : MCQ Option Shuffling : Yes Display Question Number : Yes
Single Line Question Option : No Option Orientation : Vertical

Correct Marks : 1 Wrong Marks : 0.25

इनमें से कौन - सा पौराणिक का पर्यायवाची नहीं है?

Options :

1. ✘ पुराण संबंधित
2. ✘ प्राचीन
3. ✘ पुराना
4. ✔ समकालीन

Question Number : 100 Question Id : 9662318338 Question Type : MCQ Option Shuffling : Yes Display Question Number : Yes
Single Line Question Option : No Option Orientation : Vertical

Correct Marks : 1 Wrong Marks : 0.25

इस अनुच्छेद का कोई उपयुक्त शीर्षक:

Options :

1. ✘ भारत की नदियाँ
2. ✔ नर्मदा की गाथा
3. ✘ सात नदियों में से एक
4. ✘ पौराणिक कथा

Question Id : 9662318333 Question Type : COMPREHENSION Sub Question Shuffling Allowed : Yes Group Comprehension
Questions : No

Question Numbers : (96 to 100)

Question Label : Comprehension

नीचे दिए गये गद्यांश के बाद 5 प्रश्न दिए गये हैं। इस गद्यांश को ध्यानपूर्वक पढ़ें और चार विकल्पों में से प्रत्येक प्रश्न का सर्वोत्तम उत्तर चुनें।
नर्मदा का पुराना नाम रेवा भी था। इसका अर्थ है कूदना। इसका दूसरा नाम था नर्मदा। नर्म यानि आनंद। दा अर्थात् देना। नर्मदा आनंद देने वाली नदी थी।
इसी कारण उसका यह नाम रखा गया। नर्मदा भारत की सात प्रमुख नदियों में से एक है। पौराणिक गाथाओं में भी इस नदी का वर्णन है। भारत की
अधिकांश नदियाँ पूर्व की ओर बहती हैं, पर यह नदी पश्चिम की ओर बहती है। उसके अनेक रूप हैं, जब मुसलाधार वर्षा होती है तब उसमें बाढ़ आ जाती है।
वह उफन पड़ती है। वसंत ऋतु में उसकी चाल धीमी हो जाती है और गरमियों में उसमें पानी बहुत कम हो जाता है।

Sub questions

Question Number : 96 Question Id : 9662318334 Question Type : MCQ Option Shuffling : Yes Display Question Number : Yes
Single Line Question Option : No Option Orientation : Vertical

Correct Marks : 1 Wrong Marks : 0.25

अनुच्छेद में रेवा का क्या अर्थ बताया गया है?

Options :

1. ✘ देना
2. ✔ कूदना
3. ✘ आनंद
4. ✘ प्रमुख

Question Number : 97 Question Id : 9662318335 Question Type : MCQ Option Shuffling : Yes Display Question Number : Yes
Single Line Question Option : No Option Orientation : Vertical

Correct Marks : 1 Wrong Marks : 0.25

नर्मदा को कैसी नदी कहा जाता है?

Options :

1. ✔ प्रसन्नता प्रदान करने वाली
2. ✘ पीड़ा देने वाली
3. ✘ कूदने वाली
4. ✘ बहाने वाली

Question Number : 98 Question Id : 9662318336 Question Type : MCQ Option Shuffling : Yes Display Question Number : Yes
Single Line Question Option : No Option Orientation : Vertical

Correct Marks : 1 Wrong Marks : 0.25

अन्य नदियों के मुकाबले नर्मदा नदी कैसे भिन्न है?

Options :

- ✘ प्राचीन काल से चर्चित होने के कारण
- ✘ सात प्रमुख नदियों में आने के कारण
- ✔ अलग दिशा में बहाव के कारण
- ✘ आनंद के कारण

Question Number : 99 Question Id : 9662318337 Question Type : MCQ Option Shuffling : Yes Display Question Number : Yes
Single Line Question Option : No Option Orientation : Vertical

Correct Marks : 1 Wrong Marks : 0.25

इनमें से कौन - सा पौराणिक का पर्यायवाची नहीं है?

Options :

- ✘ पुराण संबंधित
- ✘ प्राचीन
- ✘ पुराना
- ✔ समकालीन

Question Number : 100 Question Id : 9662318338 Question Type : MCQ Option Shuffling : Yes Display Question Number : Yes
Single Line Question Option : No Option Orientation : Vertical

Correct Marks : 1 Wrong Marks : 0.25

इस अनुच्छेद का कोई उपयुक्त शीर्षक:

Options :

- ✘ भारत की नदियाँ
- ✔ नर्मदा की गाथा
- ✘ सात नदियों में से एक
- ✘ पौराणिक कथा

Discipline 1

Group Number :	6
Group Id :	966231209
Group Maximum Duration :	0
Group Minimum Duration :	0
Revisit allowed for view? :	No
Revisit allowed for edit? :	No
Break time:	0
Group Marks:	20
Revisit allowed for group Instructions? :	Yes
Maximum Instruction Time:	0
Minimum Instruction Time:	0

Discipline 1

Section Id :	966231324
Section Number :	1

Section type :	Online
Mandatory or Optional:	Mandatory
Number of Questions:	20
Number of Questions to be attempted:	20
Section Marks:	20
Display Number Panel:	Yes
Group All Questions:	No

Sub-Section Number:	1
Sub-Section Id:	966231362
Question Shuffling Allowed :	Yes

Question Number : 101 Question Id : 9662318339 Question Type : MCQ Option Shuffling : Yes Display Question Number : Yes
Single Line Question Option : No Option Orientation : Vertical

Correct Marks : 1 Wrong Marks : 0.25

Innate immunity means the:

Options :

1. ✓ resistance that an individual possesses by birth
2. ✗ resistance acquired by an individual during the course of his/her life
3. ✗ immunity that is transferred to a recipient in the readymade form
4. ✗ resistance transferred from mother to her fetus

Question Number : 101 Question Id : 9662318339 Question Type : MCQ Option Shuffling : Yes Display Question Number : Yes
Single Line Question Option : No Option Orientation : Vertical

Correct Marks : 1 Wrong Marks : 0.25

जन्मजात प्रतिरोधक रोग प्रतिरोधक शक्ति का मतलब क्या है?

Options :

1. ✓ इंसान को जन्म से मिलनेवाली प्रतिरोधक शक्ति
2. ✗ किसी भी व्यक्ति द्वारा उसके जीवनकाल में प्राप्त की हुई प्रतिरोधक शक्ति
3. ✗ प्रापक को अंतरित की हुई बनी बनाई प्रतिकार शक्ति
4. ✗ माँ से भ्रूण को अंतरित हुई प्रतिरोधक शक्ति

Question Number : 102 Question Id : 9662318340 Question Type : MCQ Option Shuffling : Yes Display Question Number : Yes
Single Line Question Option : No Option Orientation : Vertical

Correct Marks : 1 Wrong Marks : 0.25

What is an autonomy?

Options :

1. ✘ Concern for the welfare & wellbeing
2. ✘ Acting in accordance with the code of ethics
3. ✔ Right to self-determination
4. ✘ Acting in accordance with a fair treatment

Question Number : 102 Question Id : 9662318340 Question Type : MCQ Option Shuffling : Yes Display Question Number : Yes
Single Line Question Option : No Option Orientation : Vertical

Correct Marks : 1 Wrong Marks : 0.25

ऑटोनोमी का अर्थ क्या है?

Options :

1. ✘ कुशलता और स्वास्थ्य की चिंता
2. ✘ आचारसंहिता के अनुसार काम करना
3. ✔ स्वनिर्णय का अधिकार
4. ✘ उचित उपचार के अनुसार काम करना

Question Number : 103 Question Id : 9662318341 Question Type : MCQ Option Shuffling : Yes Display Question Number : Yes
Single Line Question Option : No Option Orientation : Vertical

Correct Marks : 1 Wrong Marks : 0.25

What are the physiological barriers of communication of the following points mentioned?

- a. Vision defects
- b. Excessive noise
- c. Excessive light
- d. Hearing defects

Options :

1. ✔ a & d
2. ✘ b & c
3. ✘ a & c
4. ✘ d & c

Question Number : 103 Question Id : 9662318341 Question Type : MCQ Option Shuffling : Yes Display Question Number : Yes
Single Line Question Option : No Option Orientation : Vertical

Correct Marks : 1 Wrong Marks : 0.25

निम्नलिखित में से कौन से तर्कों के आधार पर शरीरक्रियात्मक बाधाएँ उल्लेखित हैं?

- दृष्टि दोष
- अत्यधिक शोर
- अत्यधिक रौशनी
- श्रवण दोष

Options :

- a और d
- b और c
- a और c
- d और c

Question Number : 104 Question Id : 9662318342 Question Type : MCQ Option Shuffling : Yes Display Question Number : Yes
Single Line Question Option : No Option Orientation : Vertical

Correct Marks : 1 Wrong Marks : 0.25

While implementing a nursing intervention, the nurse should perform which of the following actions first?

Options :

- Carrying out nursing intervention
- Documenting interventions
- Determining the need for assistance
- Reassessing the client

Question Number : 104 Question Id : 9662318342 Question Type : MCQ Option Shuffling : Yes Display Question Number : Yes
Single Line Question Option : No Option Orientation : Vertical

Correct Marks : 1 Wrong Marks : 0.25

शुश्रूषा का परिपालन करते समय परिचारिका को निम्नलिखित क्रियाओं में से कौन सी क्रिया सर्वप्रथम करनी चाहिए?

Options :

- शुश्रूषा का व्यवधान रखना
- शुश्रूषा की क्रिया का प्रलेखन तैयार करना

3. ✘ सहायता की आवश्यकता का निर्धारण करना

4. ✔ मरीज की पुनःजाँच करना

Question Number : 105 Question Id : 9662318343 Question Type : MCQ Option Shuffling : Yes Display Question Number : Yes
Single Line Question Option : No Option Orientation : Vertical

Correct Marks : 1 Wrong Marks : 0.25

An 80-year-old elderly women brought to the emergency department with C/O right hip pain. On inspection, the nurse observes what appears to be cigarette burns on the client's inner thighs. Choose the option that shows the most appropriate documentation.

Options :

1. ✔ Six round skin lesions partially healed on the inner thighs bilaterally

2. ✘ Many burned areas on both inner thighs of the victim

3. ✘ Number of lesions on inner thighs possibly related to elder abuse

4. ✘ Multiple lesions on inner thighs similar to cigarette burns

Question Number : 105 Question Id : 9662318343 Question Type : MCQ Option Shuffling : Yes Display Question Number : Yes
Single Line Question Option : No Option Orientation : Vertical

Correct Marks : 1 Wrong Marks : 0.25

एक 80 साल की वृद्ध महिला को कमर के दाएं नीचले हिस्से में दर्द के लिए आपातकालीन विभाग में लाया गया। जाँच करने पर परिचारिका ने मरीज के जाँघ के अर्तभाग पर सिगरेट्स के जलाने के निशान देखे हैं। इसका वह विकल्प चुनें जो सबसे उपयुक्त प्रलेखन दिखाता है।

Options :

1. ✔ आंतरिक जाँघों पर दोनों तरफ़ की त्वचा पर अंशतः ठीक हुए छह गोलाकार जख्म

2. ✘ पीड़िता के दोनों आंतरिक जाँघों पर बहुत सारे जलने के निशान

3. ✘ आंतरिक जाँघों पर घावों की संख्या संभवतः बड़े व्यक्ति द्वारा किए गए दूर्यवहार से संबंधित है

4. ✘ आंतरिक जाँघों के अर्तभाग पर सिगरेट से जलने के निशानों जैसे बहुत सारे जख्म

Question Number : 106 Question Id : 9662318344 Question Type : MCQ Option Shuffling : Yes Display Question Number : Yes
Single Line Question Option : No Option Orientation : Vertical

Correct Marks : 1 Wrong Marks : 0.25

A rectal thermometer is inserted _____ into the anus of an adult client.

Options :

1. ✘ 1 inch
2. ✔ 1.5 inch
3. ✘ 2 inch
4. ✘ 2.5 inch

Question Number : 106 Question Id : 9662318344 Question Type : MCQ Option Shuffling : Yes Display Question Number : Yes
Single Line Question Option : No Option Orientation : Vertical

Correct Marks : 1 Wrong Marks : 0.25

मलमार्ग का थर्मामीटर प्रौढ़ मरीज़ के मलद्वार से _____ तक अंदर प्रविष्ट किया जाता है।

Options :

1. ✘ 1 इंच
2. ✔ 1.5 इंच
3. ✘ 2 इंच
4. ✘ 2.5 इंच

Question Number : 107 Question Id : 9662318345 Question Type : MCQ Option Shuffling : Yes Display Question Number : Yes
Single Line Question Option : No Option Orientation : Vertical

Correct Marks : 1 Wrong Marks : 0.25

Which pulse site requires the location of Point of Maximal Impulse (PMI)?

Options :

1. ✘ Radial
2. ✘ Carotid
3. ✔ Apical
4. ✘ Femoral

Question Number : 107 Question Id : 9662318345 Question Type : MCQ Option Shuffling : Yes Display Question Number : Yes
Single Line Question Option : No Option Orientation : Vertical

Correct Marks : 1 Wrong Marks : 0.25

कौन से स्पंदन स्थल को अधिकतम (PMI) आवेग बिंदु की स्थान की जरूरत होती है?

Options :

1. ✘ अरीय

2. ✘ गर्दन

3. ✔ सिर

4. ✘ ऊरु

Question Number : 108 Question Id : 9662318346 Question Type : MCQ Option Shuffling : Yes Display Question Number : Yes
Single Line Question Option : No Option Orientation : Vertical

Correct Marks : 1 Wrong Marks : 0.25

What is the angle of Louis?

Options :

1. ✘ The landmark of sternum

2. ✘ The angle between clavicle and sternum

3. ✔ The junction between sternum and manubrium

4. ✘ The superior border of second rib

Question Number : 108 Question Id : 9662318346 Question Type : MCQ Option Shuffling : Yes Display Question Number : Yes
Single Line Question Option : No Option Orientation : Vertical

Correct Marks : 1 Wrong Marks : 0.25

एंगल ऑफ़ लुई क्या होता है?

Options :

1. ✘ उरोस्थि के सीमा का निशान

2. ✘ कंठ की हड्डी और उरोस्थि के बीच वाला कोना

3. ✔ उरोस्थि और मेन्यूब्रियम की संधि

4. ✘ दूसरी पसली की सबसे ऊपरी सीमा

Question Number : 109 Question Id : 9662318347 Question Type : MCQ Option Shuffling : Yes Display Question Number : Yes
Single Line Question Option : No Option Orientation : Vertical

Correct Marks : 1 Wrong Marks : 0.25

What is the normal colour of the tympanic membrane?

Options :

1. ✓ Pearly gray
2. ✗ Pink
3. ✗ Red
4. ✗ Yellow amber

Question Number : 109 Question Id : 9662318347 Question Type : MCQ Option Shuffling : Yes Display Question Number : Yes
Single Line Question Option : No Option Orientation : Vertical

Correct Marks : 1 Wrong Marks : 0.25

कर्णपटह का सर्वसाधारण रंग क्या होता है?

Options :

1. ✓ मोतिया भूरा
2. ✗ गुलाबी
3. ✗ लाल
4. ✗ पीला अम्बर

Question Number : 110 Question Id : 9662318348 Question Type : MCQ Option Shuffling : Yes Display Question Number : Yes
Single Line Question Option : No Option Orientation : Vertical

Correct Marks : 1 Wrong Marks : 0.25

What is the most appropriate time for a nurse to obtain a sputum specimen for culture?

Options :

1. ✓ Early in the morning
2. ✗ After aerosol therapy
3. ✗ After the breakfast
4. ✗ After chest physiotherapy

Question Number : 110 Question Id : 9662318348 Question Type : MCQ Option Shuffling : Yes Display Question Number : Yes
Single Line Question Option : No Option Orientation : Vertical

Correct Marks : 1 Wrong Marks : 0.25

परिचारिका के लिए जीवाणुओं की वृद्धि देखने (कल्चर) के लिए थूंक का नमूना लेने का सर्वोत्तम समय कौन सा है?

Options :

1. ✓ प्रातःकाल

2. ✘ एयरोसोल चिकित्सा (थेरेपी) के बाद
3. ✘ नाशते के बाद
4. ✘ छाती के भौतिक चिकित्सा के बाद

Question Number : 111 Question Id : 9662318349 Question Type : MCQ Option Shuffling : Yes Display Question Number : Yes
Single Line Question Option : No Option Orientation : Vertical
Correct Marks : 1 Wrong Marks : 0.25

Which position is best to place the patient who is in shock?

Options :

1. ✘ Fowler's position
2. ✘ Supine position
3. ✔ Head low position
4. ✘ Left lateral position

Question Number : 111 Question Id : 9662318349 Question Type : MCQ Option Shuffling : Yes Display Question Number : Yes
Single Line Question Option : No Option Orientation : Vertical
Correct Marks : 1 Wrong Marks : 0.25

जो मरीज़ सदमे में है उसके के लिए सर्वोत्तम स्थिति कौन सी होती है?

Options :

1. ✘ फाउलर की स्थिति
2. ✘ चित लेटने की स्थिति
3. ✔ अधोगामी सिर रखने की स्थिति
4. ✘ बाएं की ओर लेटने की स्थिति

Question Number : 112 Question Id : 9662318350 Question Type : MCQ Option Shuffling : Yes Display Question Number : Yes
Single Line Question Option : No Option Orientation : Vertical
Correct Marks : 1 Wrong Marks : 0.25

When the physician orders erythromycin 5 mg oral suspension, how many teaspoons the nurse will administer from oral suspension of 25 mg per 5 ml?

Note: For this question, discrepancy is found in question/answer. So, this question is ignored for all candidates.

Options :

1. 1

2. 2

3. 3

4. 4

Question Number : 112 Question Id : 9662318350 Question Type : MCQ Option Shuffling : Yes Display Question Number : Yes
Single Line Question Option : No Option Orientation : Vertical

Correct Marks : 1 Wrong Marks : 0.25

जब डॉक्टर इरिथ्रोमाइसिन 5 mg मौखिक तरल मिश्रण सेवन के लिए देते हैं, तब परिचारिका को प्रति 5 ml में 25 mg मौखिक तरल मिश्रण के कितने चमच्चों का प्रबंध करने की जरूरत है?

Note: For this question, discrepancy is found in question/answer. So, this question is ignored for all candidates.

Options :

1. 1

2. 2

3. 3

4. 4

Question Number : 113 Question Id : 9662318351 Question Type : MCQ Option Shuffling : Yes Display Question Number : Yes
Single Line Question Option : No Option Orientation : Vertical

Correct Marks : 1 Wrong Marks : 0.25

How to straighten the ear canal for proper administration of an optic medication to a 2-year-old child?

Options :

1. ✘ Pull the ear straight back

2. ✔ Pull the ear down and back

3. ✘ Pull the ear up and back

4. ✘ Pull the ear straight upward

Question Number : 113 Question Id : 9662318351 Question Type : MCQ Option Shuffling : Yes Display Question Number : Yes
Single Line Question Option : No Option Orientation : Vertical

Correct Marks : 1 Wrong Marks : 0.25

2 साल के बच्चे के कान में ठीक तरह से दवाई डालने के लिए कर्ण नलिका को कैसे सीधा करते हैं?

Options :

1. ✘ कान सीधा पीछे खींचो
2. ✔ कान नीचे और पीछे की तरफ खींचो
3. ✘ कान ऊपर और पीछे की तरफ खींचो
4. ✘ कान सीधा ऊपर की तरफ खींचो

Question Number : 114 Question Id : 9662318352 Question Type : MCQ Option Shuffling : Yes Display Question Number : Yes
Single Line Question Option : No Option Orientation : Vertical

Correct Marks : 1 Wrong Marks : 0.25

What is the best route to administer insulin?

Options :

1. ✘ Intradermal
2. ✔ Subcutaneous
3. ✘ Intramuscular
4. ✘ Intravenous

Question Number : 114 Question Id : 9662318352 Question Type : MCQ Option Shuffling : Yes Display Question Number : Yes
Single Line Question Option : No Option Orientation : Vertical

Correct Marks : 1 Wrong Marks : 0.25

इन्सुलिन देने का सर्वोत्तम तरीका कौन सा है?

Options :

1. ✘ त्वचा के अंदर
2. ✔ त्वचा के नीचे
3. ✘ पेशियों के अंदर
4. ✘ नस के अंदर

Question Number : 115 Question Id : 9662318353 Question Type : MCQ Option Shuffling : Yes Display Question Number : Yes
Single Line Question Option : No Option Orientation : Vertical

Correct Marks : 1 Wrong Marks : 0.25

Identify a condition where low protein diet is advised?

Options :

1. ✘ Post-operative patients
2. ✘ Liver cirrhosis
3. ✔ Chronic renal failure
4. ✘ Burns

Question Number : 115 Question Id : 9662318353 Question Type : MCQ Option Shuffling : Yes Display Question Number : Yes
Single Line Question Option : No Option Orientation : Vertical

Correct Marks : 1 Wrong Marks : 0.25

वह स्थिति पहचानिये जिस में प्रोटीन की जहाँ अल्प मात्रावाला खाना खाने की सलाह दी जाती है?

Options :

1. ✘ जिन मरीजों का ऑपरेशन किया हो
2. ✘ यकृत का सिरोसिस
3. ✔ बहुत पुरानी गुर्दे की बीमारी
4. ✘ जलना

Question Number : 116 Question Id : 9662318354 Question Type : MCQ Option Shuffling : Yes Display Question Number : Yes
Single Line Question Option : No Option Orientation : Vertical

Correct Marks : 1 Wrong Marks : 0.25

Mr. X is suffering from cardiovascular disease.

Identify an ideal type of diet to prescribe?

Options :

1. ✔ Low fat, low cholesterol, high fibre diet
2. ✘ Low fat, low cholesterol, low fibre diet
3. ✘ Low fat, high protein, high fibre diet
4. ✘ Low fat, low protein, high fibre diet

Question Number : 116 Question Id : 9662318354 Question Type : MCQ Option Shuffling : Yes Display Question Number : Yes
Single Line Question Option : No Option Orientation : Vertical

Correct Marks : 1 Wrong Marks : 0.25

श्री X हृदयरोग से पीड़ित है। उन्हें खाने की सलाह देने के लिए योग्य आहार चुनिए।

Options :

1. ✓ कम चर्बी, कम कोलेस्ट्रॉल, ज्यादा फाइबर वाला खाना
2. ✘ कम चर्बी, कम कोलेस्ट्रॉल, कम फाइबर वाला खाना
3. ✘ कम चर्बी, ज्यादा प्रोटीन, कम फाइबर वाला खाना
4. ✘ कम चर्बी, कम प्रोटीन, ज्यादा फाइबर वाला खाना

Question Number : 117 Question Id : 9662318355 Question Type : MCQ Option Shuffling : Yes Display Question Number : Yes
Single Line Question Option : No Option Orientation : Vertical

Correct Marks : 1 Wrong Marks : 0.25

Which vitamin deficiency causes Wernicke Encephalopathy?

Options :

1. ✘ Riboflavin
2. ✓ Thiamine
3. ✘ Pyridoxine
4. ✘ Niacin

Question Number : 117 Question Id : 9662318355 Question Type : MCQ Option Shuffling : Yes Display Question Number : Yes
Single Line Question Option : No Option Orientation : Vertical

Correct Marks : 1 Wrong Marks : 0.25

किस पोषकों (विटामिन) के अभाव से वर्निक की मस्तिष्क की बीमारी (वर्निक एन्सेफालोपैथी) होती है?

Options :

1. ✘ राइबोफ्लाविन
2. ✓ थायामिन
3. ✘ पिरिडॉक्सिन
4. ✘ नायसिन

Question Number : 118 Question Id : 9662318356 Question Type : MCQ Option Shuffling : Yes Display Question Number : Yes
Single Line Question Option : No Option Orientation : Vertical

Correct Marks : 1 Wrong Marks : 0.25

Which one of the following amino acids is used for the synthesis of thyroid hormones?

Options :

1. ✘ Glycine
2. ✘ Alanine
3. ✔ Phenylalanine
4. ✘ Glutamine

Question Number : 118 Question Id : 9662318356 Question Type : MCQ Option Shuffling : Yes Display Question Number : Yes
Single Line Question Option : No Option Orientation : Vertical

Correct Marks : 1 Wrong Marks : 0.25

निम्नलिखित विकल्पों में से कौन से एक एमिनो एसिड का उपयोग थाइरोइड हॉर्मोन संश्लेषण के लिए किया जाता है?

Options :

1. ✘ ग्लाइसिन
2. ✘ अलानाइन
3. ✔ फिनाइललनीन
4. ✘ ग्लुटामिन

Question Number : 119 Question Id : 9662318357 Question Type : MCQ Option Shuffling : Yes Display Question Number : Yes
Single Line Question Option : No Option Orientation : Vertical

Correct Marks : 1 Wrong Marks : 0.25

The enzyme that is elevated in myocardial infarction is:

Options :

1. ✘ Alanine transaminase
2. ✘ Alkaline phosphatase
3. ✘ Acid phosphatase
4. ✔ Lactate dehydrogenase

Question Number : 119 Question Id : 9662318357 Question Type : MCQ Option Shuffling : Yes Display Question Number : Yes
Single Line Question Option : No Option Orientation : Vertical

Correct Marks : 1 Wrong Marks : 0.25

हृदयपेशियों के रोधगलन क्रिया में यह एंजाइम बढ़ती मात्रा में होता है:

Options :

1. ✘ अलानाइन ट्रांसमीनेज
2. ✘ अल्कलाइन फ़ोस्फ़टेज
3. ✘ एसिड फ़ोस्फ़टेज
4. ✔ लैक्टेट डीहाइड्रोजिनेज

Question Number : 120 Question Id : 9662318358 Question Type : MCQ Option Shuffling : Yes Display Question Number : Yes
Single Line Question Option : No Option Orientation : Vertical

Correct Marks : 1 Wrong Marks : 0.25

Which of the following is a function of prostaglandins?

Options :

1. ✔ Inhibit platelet aggregation
2. ✘ Increase platelet aggregation
3. ✘ Promote vasoconstriction
4. ✘ Inhibit capillary permeability

Question Number : 120 Question Id : 9662318358 Question Type : MCQ Option Shuffling : Yes Display Question Number : Yes
Single Line Question Option : No Option Orientation : Vertical

Correct Marks : 1 Wrong Marks : 0.25

निम्नलिखित विकल्पों में से प्रोस्टाग्लेन्डिंस का कार्य क्या है?

Options :

1. ✔ प्लेटलेट के एकत्रीकरण होने से रोकना
2. ✘ प्लेटलेट का एकत्रीकरण बढ़ाना
3. ✘ नसों के संकुचन को बढ़ावा देना
4. ✘ केशिका नलियों को भेदने से रोकना

Discipline2

Group Number :

7

Group Id :

966231210

Group Maximum Duration :

0

Group Minimum Duration :	0
Revisit allowed for view? :	No
Revisit allowed for edit? :	No
Break time:	0
Group Marks:	20
Revisit allowed for group Instructions? :	Yes
Maximum Instruction Time:	0
Minimum Instruction Time:	0

Discipline2

Section Id :	966231325
Section Number :	1
Section type :	Online
Mandatory or Optional:	Mandatory
Number of Questions:	20
Number of Questions to be attempted:	20
Section Marks:	20
Display Number Panel:	Yes
Group All Questions:	No

Sub-Section Number:	1
Sub-Section Id:	966231363
Question Shuffling Allowed :	Yes

Question Number : 121 Question Id : 9662318359 Question Type : MCQ Option Shuffling : Yes Display Question Number : Yes
Single Line Question Option : No Option Orientation : Vertical

Correct Marks : 1 Wrong Marks : 0.25

You are working in a kitchen and find some human figure and perceive it to be a ghost.

Identify the type of perception.

Options :

1. ✘ Hallucination
2. ✔ Illusion
3. ✘ Perceptual constancy
4. ✘ Motion parallax

Question Number : 121 Question Id : 9662318359 Question Type : MCQ Option Shuffling : Yes Display Question Number : Yes
Single Line Question Option : No Option Orientation : Vertical

Correct Marks : 1 Wrong Marks : 0.25

आप किचन में काम कर रहे हैं और आपको एक मानवी आकृति दिखती है जिसे आप भूत समझ लेते हैं। अनुभूति के इस प्रकार को पहचानिये।

Options :

1. ✘ मतिभ्रम
2. ✔ आभास
3. ✘ अवधारणात्मक निरंतरता
4. ✘ गति के लंबन का प्रभाव

Question Number : 122 Question Id : 9662318360 Question Type : MCQ Option Shuffling : Yes Display Question Number : Yes
Single Line Question Option : No Option Orientation : Vertical
Correct Marks : 1 Wrong Marks : 0.25

Who proposed theory of classical conditioning?

Options :

1. ✔ Ivan Pavlov
2. ✘ Albert Bandura
3. ✘ Wolfgang Kohler
4. ✘ Gestalt

Question Number : 122 Question Id : 9662318360 Question Type : MCQ Option Shuffling : Yes Display Question Number : Yes
Single Line Question Option : No Option Orientation : Vertical
Correct Marks : 1 Wrong Marks : 0.25

क्लासिकल कंडीशनिंग के सिद्धांत का प्रस्ताव किसने रखा?

Options :

1. ✔ इवान पावलोव
2. ✘ अल्बर्ट बंदुरा
3. ✘ वोल्टगैंग कोहलर
4. ✘ गेस्टाल्ट

Question Number : 123 Question Id : 9662318361 Question Type : MCQ Option Shuffling : Yes Display Question Number : Yes
Single Line Question Option : No Option Orientation : Vertical
Correct Marks : 1 Wrong Marks : 0.25

The meaning of semantic memory is:

Options :

1. ✘ storing to perform different skills
2. ✘ storing high emotional events
3. ✔ storing factual information
4. ✘ storing personal memories

Question Number : 123 Question Id : 9662318361 Question Type : MCQ Option Shuffling : Yes Display Question Number : Yes
Single Line Question Option : No Option Orientation : Vertical

Correct Marks : 1 Wrong Marks : 0.25

शब्दार्थ वैज्ञानिक स्मृति (सिमेंटिक मेमोरी) का मतलब है:

Options :

1. ✘ विविध कौशल क्रियाओं का संग्रह करना
2. ✘ अति भावुक घटनाओं का संग्रह करना
3. ✔ तथ्यात्मक जानकारी का संग्रह करना
4. ✘ निजी स्मृतियों का संग्रह करना

Question Number : 124 Question Id : 9662318362 Question Type : MCQ Option Shuffling : Yes Display Question Number : Yes
Single Line Question Option : No Option Orientation : Vertical

Correct Marks : 1 Wrong Marks : 0.25

Identify correct statement from the following with regard to extrinsic motivation?

Options :

1. ✔ It is based on reward and punishments
2. ✘ It is the desire to exert influence over others
3. ✘ It is the desire to harm or injure others
4. ✘ It results from personal enjoyment of task

Question Number : 124 Question Id : 9662318362 Question Type : MCQ Option Shuffling : Yes Display Question Number : Yes
Single Line Question Option : No Option Orientation : Vertical

Correct Marks : 1 Wrong Marks : 0.25

निम्नलिखित विधानों में से बाह्यप्रेरणा से सम्बंधित योग्य विधान चुनिए:

Options :

1. ✓ वह इनाम और दंड पर निर्भर है।
2. ✘ वह दुसरो पर प्रभाव डालने की इच्छा है।
3. ✘ वह दुसरो को धोखा पहुंचाने की या जखमी करने की इच्छा है।
4. ✘ किसी भी कार्य का व्यक्तिगत आनंद लेने से वह निर्माण होती है।

Question Number : 125 Question Id : 9662318363 Question Type : MCQ Option Shuffling : Yes Display Question Number : Yes
 Single Line Question Option : No Option Orientation : Vertical
 Correct Marks : 1 Wrong Marks : 0.25

Which sutures are present between parietal and frontal bones?

Options :

1. ✘ Frontal sutures
2. ✘ Sagittal sutures
3. ✘ Lambdoid sutures
4. ✓ Coronal sutures

Question Number : 125 Question Id : 9662318363 Question Type : MCQ Option Shuffling : Yes Display Question Number : Yes
 Single Line Question Option : No Option Orientation : Vertical
 Correct Marks : 1 Wrong Marks : 0.25

पार्श्विका और ललाट की हड्डी के बीच कौन से टाँके दिए जाते हैं?

Options :

1. ✘ ललाट टाँके
2. ✘ सजाइटल टाँके
3. ✘ लम्बोदर टाँके
4. ✓ शिखर टाँके

Question Number : 126 Question Id : 9662318364 Question Type : MCQ Option Shuffling : Yes Display Question Number : Yes
 Single Line Question Option : No Option Orientation : Vertical
 Correct Marks : 1 Wrong Marks : 0.25

Which is the longest anteroposterior diameter of the fetal skull?

Options :

1. ✘ Suboccipito-frontal diameter
2. ✘ Suboccipito-bregmatic diameter
3. ✘ Submento-vertical diameter
4. ✔ Mento-vertical diameter

Question Number : 126 Question Id : 9662318364 Question Type : MCQ Option Shuffling : Yes Display Question Number : Yes
Single Line Question Option : No Option Orientation : Vertical

Correct Marks : 1 Wrong Marks : 0.25

भ्रूण की करोटि का सबसे लम्बा अग्रपश्च व्यास क्या है?

Options :

1. ✘ सबोसीपिटो-फ्रंटल व्यास
2. ✘ सबोसीपिटो-ब्रेगमैटिक व्यास
3. ✘ सबमेंटो-वर्टीकल व्यास
4. ✔ मेंटो-वर्टीकल व्यास

Question Number : 127 Question Id : 9662318365 Question Type : MCQ Option Shuffling : Yes Display Question Number : Yes
Single Line Question Option : No Option Orientation : Vertical

Correct Marks : 1 Wrong Marks : 0.25

In which condition does the vaginal bleeding appear as "white currant in red currant juice?"

Options :

1. ✔ Hydatidiform mole
2. ✘ Septic abortion
3. ✘ Tubal rupture
4. ✘ Cervical incompetence

Question Number : 127 Question Id : 9662318365 Question Type : MCQ Option Shuffling : Yes Display Question Number : Yes
Single Line Question Option : No Option Orientation : Vertical

Correct Marks : 1 Wrong Marks : 0.25

किस स्थिति में योनि से "लाल चिपचिपा में सफ़ेद चिपचिपा साव" प्रकार का खून बहता है?

Options :

1. ✓ हैडॉटिडीफॉर्म तिल
2. ✗ पूतिक (सेप्टिक) गर्भपात
3. ✗ (फैलोपियन ट्यूब) नलिका का टूटना
4. ✗ गर्भाशय ग्रीवा की अक्षमता

Question Number : 128 Question Id : 9662318366 Question Type : MCQ Option Shuffling : Yes Display Question Number : Yes
Single Line Question Option : No Option Orientation : Vertical

Correct Marks : 1 Wrong Marks : 0.25

In which year was the Medical Termination of Pregnancy Act implemented in India?

Options :

1. ✓ 1972
2. ✗ 1983
3. ✗ 1995
4. ✗ 2001

Question Number : 128 Question Id : 9662318366 Question Type : MCQ Option Shuffling : Yes Display Question Number : Yes
Single Line Question Option : No Option Orientation : Vertical

Correct Marks : 1 Wrong Marks : 0.25

कौन से वर्ष में गर्भावस्था के वैद्यकिय निष्कासन (मेडिकल टर्मिनेशन ऑफ प्रेगनेंसी एक्ट) का कानून भारत में कार्यान्वित किया गया?

Options :

1. ✓ 1972
2. ✗ 1983
3. ✗ 1995
4. ✗ 2001

Question Number : 129 Question Id : 9662318367 Question Type : MCQ Option Shuffling : Yes Display Question Number : Yes
Single Line Question Option : No Option Orientation : Vertical

Correct Marks : 1 Wrong Marks : 0.25

Which position is preferred for pregnant mother with cardiac disease to minimise aortocaval compression?

Options :

1. ✘ Supine position
2. ✘ Prone position
3. ✔ Lateral recumbent position
4. ✘ Fowlers position

Question Number : 129 Question Id : 9662318367 Question Type : MCQ Option Shuffling : Yes Display Question Number : Yes
Single Line Question Option : No Option Orientation : Vertical

Correct Marks : 1 Wrong Marks : 0.25

महाधमनी संपीडन को कम करने के लिए हृदयविकार से पीड़ित गर्भवती माता को कौन सी स्थिति योग्य होती है ?

Options :

1. ✘ चित लेटना
2. ✘ पेट के बल लेटना
3. ✔ पार्श्व भाग पे लेटना
4. ✘ फाउलर स्थिति

Question Number : 130 Question Id : 9662318368 Question Type : MCQ Option Shuffling : Yes Display Question Number : Yes
Single Line Question Option : No Option Orientation : Vertical

Correct Marks : 1 Wrong Marks : 0.25

In which of the following cases does the erythroblastosis fetalis occur?

Options :

1. ✘ Mother is Rh+ve; fetus is Rh-ve
2. ✘ Both mother and fetus are Rh-ve
3. ✔ Mother is Rh-ve; fetus is Rh+ve
4. ✘ Both mother and fetus are Rh+ve

Question Number : 130 Question Id : 9662318368 Question Type : MCQ Option Shuffling : Yes Display Question Number : Yes
Single Line Question Option : No Option Orientation : Vertical

Correct Marks : 1 Wrong Marks : 0.25

निम्नलिखित घटनाओ में से किस में एरिथ्रोब्लास्टोसिस फेटलिस होता है?

Options :

1. ✘ माता आर एच पॉजिटिव (Rh+ve) है; भ्रूण आर एच नेगेटिव (Rh-ve) है
2. ✘ माता और भ्रूण दोनों आर एच नेगेटिव (Rh-ve) है
3. ✔ माता आर एच नेगेटिव (Rh-ve) है; भ्रूण आर एच पॉजिटिव (Rh+ve) है
4. ✘ माता और भ्रूण दोनों आर एच पॉजिटिव (Rh+ve) है

Question Number : 131 Question Id : 9662318369 Question Type : MCQ Option Shuffling : Yes Display Question Number : Yes
Single Line Question Option : No Option Orientation : Vertical

Correct Marks : 1 Wrong Marks : 0.25

Which condition gives the baby “an old man look?”

Options :

1. ✘ Prematurity
2. ✔ Intra-uterine growth restriction
3. ✘ Post-maturity
4. ✘ Low birth weight

Question Number : 131 Question Id : 9662318369 Question Type : MCQ Option Shuffling : Yes Display Question Number : Yes
Single Line Question Option : No Option Orientation : Vertical

Correct Marks : 1 Wrong Marks : 0.25

कौन सी स्थिति शिशु को बूढ़े आदमी का रूप देती है?

Options :

1. ✘ जल्दी पैदा होना
2. ✔ गर्भाशय के अंदर विकास के लिए बंधन आना
3. ✘ उत्तर प्रौढ़ता (पोस्ट मैच्युरिटी)
4. ✘ जन्म के समय वजन कम होना

Question Number : 132 Question Id : 9662318370 Question Type : MCQ Option Shuffling : Yes Display Question Number : Yes
Single Line Question Option : No Option Orientation : Vertical

Correct Marks : 1 Wrong Marks : 0.25

Which of the following conditions is a contraindication to ergometrin, which is prescribed for a mother with postpartum hemorrhage?

Options :

1. ✘ Hypotension
2. ✘ Hypothyroidism
3. ✘ Diabetes mellitus
4. ✔ Peripheral vascular disease

Question Number : 132 Question Id : 9662318370 Question Type : MCQ Option Shuffling : Yes Display Question Number : Yes Single Line Question Option : No Option Orientation : Vertical

Correct Marks : 1 Wrong Marks : 0.25

प्रसवोत्तर रक्तस्राव होने वाली माता के लिए एर्गोमेट्रिन लेने की सलाह दी जाती है उसके लिए निम्नलिखित स्थितियों में से कौनसी स्थिति अंतर्विरोध है?

Options :

1. ✘ अल्प रक्त-चाप (हाइपोटेंशन)
2. ✘ अवटु-अल्पक्रियता (हाइपोथायरायडिज़्म)
3. ✘ मधुमेह
4. ✔ परिधीय संवाहिनी रोग जब कोई परिचारिका

Question Number : 133 Question Id : 9662318371 Question Type : MCQ Option Shuffling : Yes Display Question Number : Yes Single Line Question Option : No Option Orientation : Vertical

Correct Marks : 1 Wrong Marks : 0.25

Which of the following assessment findings would alert the nurse to a compromise when she is monitoring a pregnant mother with dysfunctional labour for signs of fetal or maternal compromise?

Options :

1. ✘ Coordinated uterine contractions
2. ✔ Persistent non-reassuring fetal heart rate
3. ✘ Maternal fatigue
4. ✘ Progressive changes in the cervix

Question Number : 133 Question Id : 9662318371 Question Type : MCQ Option Shuffling : Yes Display Question Number : Yes
Single Line Question Option : No Option Orientation : Vertical

Correct Marks : 1 Wrong Marks : 0.25

अकाली प्रसव वेदना से पीड़ित महिला की जब कोई परिचारिका माता या उसके भ्रूण की जान को धोखा है यह जाँचने के लिए चिकित्सा करती है, तब निम्नलिखित में से कौनसी चीज उसे सतर्क करती है?

Options :

1. ✘ गर्भाशय के समन्वित संकुचन की क्रिया
2. ✔ भ्रूण की दिल की धड़कन लगातार बदलना
3. ✘ माँ की थकान
4. ✘ गर्भाशय की ग्रीवा में ज्यादा मात्रा में बदलाव

Question Number : 134 Question Id : 9662318372 Question Type : MCQ Option Shuffling : Yes Display Question Number : Yes
Single Line Question Option : No Option Orientation : Vertical

Correct Marks : 1 Wrong Marks : 0.25

Which risk has to be monitored for by the nurse in the mother who has just delivered a newborn infant following a pregnancy with a placenta previa?

Options :

1. ✘ Infection
2. ✘ Chronic hypertension
3. ✔ Hemorrhage
4. ✘ Disseminated intravascular coagulation

Question Number : 134 Question Id : 9662318372 Question Type : MCQ Option Shuffling : Yes Display Question Number : Yes
Single Line Question Option : No Option Orientation : Vertical

Correct Marks : 1 Wrong Marks : 0.25

गर्भनाल (प्लेसेंटा) प्रिविआ की गर्भवस्था से जिस माता ने अभी अभी शिशु को जन्म दिया है उसके लिए परिचारिका को निम्नलिखित में से किस धोखे का ध्यान रखना पड़ता है?

Options :

1. ✘ संक्रमण
2. ✘ बहुत चिरकारी उच्च रक्तचाप
3. ✔ रक्तस्राव

4. ✘ नसों के अंदर रक्त गुठलियों का संकलन

Question Number : 135 Question Id : 9662318373 Question Type : MCQ Option Shuffling : Yes Display Question Number : Yes
Single Line Question Option : No Option Orientation : Vertical

Correct Marks : 1 Wrong Marks : 0.25

The area lying in front of the anterior fontanelle corresponding to the area of brow is called:

Options :

1. ✔ Sinciput

2. ✘ Vertex

3. ✘ Mentum

4. ✘ Occiput

Question Number : 135 Question Id : 9662318373 Question Type : MCQ Option Shuffling : Yes Display Question Number : Yes
Single Line Question Option : No Option Orientation : Vertical

Correct Marks : 1 Wrong Marks : 0.25

भृकुटि के क्षेत्र में अग्रगामी शिशुकरोटि (एंटीरियर फॉन्टनेल) के सामने वाले क्षेत्र को क्या कहते हैं?

Options :

1. ✔ खोपड़ी का अग्रभाग (सिन्कीपुट)

2. ✘ शिखर (वर्टेक्स)

3. ✘ मेंटम

4. ✘ पश्चकपाल (ऑक्सिपुट)

Question Number : 136 Question Id : 9662318374 Question Type : MCQ Option Shuffling : Yes Display Question Number : Yes
Single Line Question Option : No Option Orientation : Vertical

Correct Marks : 1 Wrong Marks : 0.25

The children in which age group exhibit parallel play?

Options :

1. ✘ < 1 year

2. ✔ 2 – 3 years

3. ✘ 4 – 5 years

4. ✘ > 5 years

Question Number : 136 Question Id : 9662318374 Question Type : MCQ Option Shuffling : Yes Display Question Number : Yes
Single Line Question Option : No Option Orientation : Vertical
Correct Marks : 1 Wrong Marks : 0.25

कौन से उम्र के बच्चे समान्तर खेल का प्रदर्शन करते हैं?

Options :

1. ✘ < 1 साल

2. ✔ 2 – 3 साल

3. ✘ 4 – 5 साल

4. ✘ > 5 साल

Question Number : 137 Question Id : 9662318375 Question Type : MCQ Option Shuffling : Yes Display Question Number : Yes
Single Line Question Option : No Option Orientation : Vertical
Correct Marks : 1 Wrong Marks : 0.25

In which of the following conditions does a child pass red currant jelly stool?

Options :

1. ✔ Intussusception

2. ✘ Hernia

3. ✘ Crohn's disease

4. ✘ Acute abdomen

Question Number : 137 Question Id : 9662318375 Question Type : MCQ Option Shuffling : Yes Display Question Number : Yes
Single Line Question Option : No Option Orientation : Vertical
Correct Marks : 1 Wrong Marks : 0.25

निम्नलिखित कौन सी स्थिति में शिशु चिपचिपे लाल रंग के जेली की तरह मलनिःसारण करता है?

Options :

1. ✔ अंतर्रोका द्रव का अवशोषण

2. ✘ हर्निया

3. ✘ क्रोहन रोग

4. ✖ तीब्र उदर

Question Number : 138 Question Id : 9662318376 Question Type : MCQ Option Shuffling : Yes Display Question Number : Yes Single Line Question Option : No Option Orientation : Vertical

Correct Marks : 1 Wrong Marks : 0.25

The depth of compression while giving cardio-pulmonary resuscitation for an infant is:

Options :

1. ✓ $\frac{1}{2}$ to $\frac{3}{4}$ th inch

2. ✖ 1 to 1.1/5 inch

3. ✖ 2 inch

4. ✖ 3 inch

Question Number : 138 Question Id : 9662318376 Question Type : MCQ Option Shuffling : Yes Display Question Number : Yes Single Line Question Option : No Option Orientation : Vertical

Correct Marks : 1 Wrong Marks : 0.25

शिशु के हृदय और फेफड़ों को पुनर्जीवन देने के लिए दबाव की गहराई कितनी होनी चाहिए?

Options :

1. ✓ $\frac{1}{2}$ से $\frac{3}{4}$ inch

2. ✖ 1 से 1.1/5 inch

3. ✖ 2 inch

4. ✖ 3 inch

Question Number : 139 Question Id : 9662318377 Question Type : MCQ Option Shuffling : Yes Display Question Number : Yes Single Line Question Option : No Option Orientation : Vertical

Correct Marks : 1 Wrong Marks : 0.25

The deficiency of which factor causes Hemophilia B?

Options :

1. ✖ VIII

2. ✓ IX

3. ✖ XII

4. ✖ XIII

Question Number : 139 Question Id : 9662318377 Question Type : MCQ Option Shuffling : Yes Display Question Number : Yes
Single Line Question Option : No Option Orientation : Vertical

Correct Marks : 1 Wrong Marks : 0.25

किस घटक की मात्रा के अभाव के कारण हीमोफिलिया बी होता है?

Options :

1. ✘ VIII

2. ✔ IX

3. ✘ XII

4. ✘ XIII

Question Number : 140 Question Id : 9662318378 Question Type : MCQ Option Shuffling : Yes Display Question Number : Yes
Single Line Question Option : No Option Orientation : Vertical

Correct Marks : 1 Wrong Marks : 0.25

Which sign is elicited by the forced abduction of hip causing a clicking sound?

Options :

1. ✘ Kernig's sign

2. ✘ Barlow's sign

3. ✘ Pronator sign

4. ✔ Ortolani sign

Question Number : 140 Question Id : 9662318378 Question Type : MCQ Option Shuffling : Yes Display Question Number : Yes
Single Line Question Option : No Option Orientation : Vertical

Correct Marks : 1 Wrong Marks : 0.25

कमर की हड्डी के अपावर्तन के वजह से होने वाले क्लिक ऐसे आवाज से कौन सा लक्षण दिखता है?

Options :

1. ✘ कर्निग के लक्षण

2. ✘ बार्लो के लक्षण

3. ✘ प्रजनक (प्रोनेटर) लक्षण

4. ✔ ऑर्टोलनी लक्षण

Discipline3

Group Number :	8
Group Id :	966231211
Group Maximum Duration :	0
Group Minimum Duration :	0
Revisit allowed for view? :	No
Revisit allowed for edit? :	No
Break time:	0
Group Marks:	20
Revisit allowed for group Instructions? :	Yes
Maximum Instruction Time:	0
Minimum Instruction Time:	0

Discipline3

Section Id :	966231326
Section Number :	1
Section type :	Online
Mandatory or Optional:	Mandatory
Number of Questions:	20
Number of Questions to be attempted:	20
Section Marks:	20
Display Number Panel:	Yes
Group All Questions:	No

Sub-Section Number:	1
Sub-Section Id:	966231364
Question Shuffling Allowed :	Yes

Question Number : 141 Question Id : 9662318379 Question Type : MCQ Option Shuffling : Yes Display Question Number : Yes
Single Line Question Option : No Option Orientation : Vertical
Correct Marks : 1 Wrong Marks : 0.25

Which of the following diseases has Koplik's spots as the important characteristic feature?

Options :

1. ✘ Diphtheria
2. ✘ Mumps
3. ✘ Chickenpox
4. ✔ Measles

Question Number : 141 Question Id : 9662318379 Question Type : MCQ Option Shuffling : Yes Display Question Number : Yes
Single Line Question Option : No Option Orientation : Vertical
Correct Marks : 1 Wrong Marks : 0.25

निम्नलिखित रोगों में से कौन से रोग का विशेष लक्षण कोपलिक बिंदु होता है?

Options :

1. ✘ गलझिल्ली का प्रदाह (डिफ्थीरिया)
2. ✘ कंठमाला का रोग
3. ✘ चेचक रोग
4. ✔ खसरा

Question Number : 142 Question Id : 9662318380 Question Type : MCQ Option Shuffling : Yes Display Question Number : Yes
Single Line Question Option : No Option Orientation : Vertical

Correct Marks : 1 Wrong Marks : 0.25

Which type of fracture does NOT produce open wound in the skin?

Options :

1. ✔ Closed fracture
2. ✘ Open fracture
3. ✘ Spiral fracture
4. ✘ Epiphyseal fracture

Question Number : 142 Question Id : 9662318380 Question Type : MCQ Option Shuffling : Yes Display Question Number : Yes
Single Line Question Option : No Option Orientation : Vertical

Correct Marks : 1 Wrong Marks : 0.25

कौन से प्रकार के अस्थिभंग में त्वचा में खुली जखम नहीं होती?

Options :

1. ✔ बंद अस्थिभंग
2. ✘ खुला अस्थिभंग
3. ✘ घुमावदार अस्थिभंग
4. ✘ अस्थिवर्धि अस्थिभंग

Question Number : 143 Question Id : 9662318381 Question Type : MCQ Option Shuffling : Yes Display Question Number : Yes
Single Line Question Option : No Option Orientation : Vertical

Correct Marks : 1 Wrong Marks : 0.25

Which among the following is a killed vaccine?

Options :

1. ✘ BCG
2. ✘ OPV
3. ✘ Rubella
4. ✔ IPV

Question Number : 143 Question Id : 9662318381 Question Type : MCQ Option Shuffling : Yes Display Question Number : Yes
Single Line Question Option : No Option Orientation : Vertical
Correct Marks : 1 Wrong Marks : 0.25

निम्नलिखित विकल्पों में से कौन सा निष्प्रभावी टीका है?

Options :

1. ✘ बीसीजी
2. ✘ ओपीवी
3. ✘ रूबेला
4. ✔ आयपीवी

Question Number : 144 Question Id : 9662318382 Question Type : MCQ Option Shuffling : Yes Display Question Number : Yes
Single Line Question Option : No Option Orientation : Vertical
Correct Marks : 1 Wrong Marks : 0.25

Which of the following observations of a child with cast does NOT require any intervention?

Options :

1. ✘ Swelling or unusual coldness of toes or fingers of casted extremity
2. ✘ Tightness of cast
3. ✘ Weak or absent peripheral pulse in a casted extremity
4. ✔ Ability to move toes or fingers of casted extremity

Question Number : 144 Question Id : 9662318382 Question Type : MCQ Option Shuffling : Yes Display Question Number : Yes
Single Line Question Option : No Option Orientation : Vertical
Correct Marks : 1 Wrong Marks : 0.25

निम्नलिखित में से कौन से लक्षण में प्लास्टर का साँचा डाले हुए बच्चे को जाँच की जरूरत नहीं है?

Options :

1. ✘ सूजन या साँचा डाले हुए पैर की उंगलियाँ अचानक से ठंडी गिरना
2. ✘ साँचे का खिचाव
3. ✘ साँचा डाले हुए पैर में स्पंदन कम या बिल्कुल नहीं आना
4. ✔ साँचा डाले हुए पैर में उंगलियाँ घुमाने की शक्ति

Question Number : 145 Question Id : 9662318383 Question Type : MCQ Option Shuffling : Yes Display Question Number : Yes
Single Line Question Option : No Option Orientation : Vertical
Correct Marks : 1 Wrong Marks : 0.25

Which is the most common type of club foot?

Options :

1. ✘ Talipes varus
2. ✘ Talipes valgus
3. ✔ Talipes equinovarus
4. ✘ Talipes calcaneovalgus

Question Number : 145 Question Id : 9662318383 Question Type : MCQ Option Shuffling : Yes Display Question Number : Yes
Single Line Question Option : No Option Orientation : Vertical
Correct Marks : 1 Wrong Marks : 0.25

वक्र पैर (क्लब फुट) का सबसे साधारण प्रकार कौन सा है?

Options :

1. ✘ टेलिपस वेरस
2. ✘ टेलिपस वर्गास
3. ✔ टेलिपस एक्विनोवेरस
4. ✘ टिलपेस कैल्केनोवलगस

Question Number : 146 Question Id : 9662318384 Question Type : MCQ Option Shuffling : Yes Display Question Number : Yes
Single Line Question Option : No Option Orientation : Vertical
Correct Marks : 1 Wrong Marks : 0.25

जिस बच्चे को गुर्दे का रोग है उस में कौन से लक्षण दिखाई देते हैं?

Options :

1. ✘ सूजन, रक्त में एल्ब्यूमिन की कमी, रक्त में प्रोटीन का अभाव (एडिमा, हाइपोएल्ब्यूमिनमिया, प्रोटीनमिया)
2. ✔ रक्त में एल्ब्यूमिन की कमी, रक्त में चर्बी की ज्यादा मात्रा, सूजन हाइपोएल्ब्यूमिनमिया, हाइपरलिपिडिमिया, एडिमा
3. ✘ मूत्र से प्रोटीन बहना, बढ़ा हुआ जीएफआर, मूत्र से खून बहना
4. ✘ उच्च रक्तदाब, कम होता हुआ जीएफआर, रक्त में प्रोटीन का अभाव

Question Number : 146 Question Id : 9662318384 Question Type : MCQ Option Shuffling : Yes Display Question Number : Yes
Single Line Question Option : No Option Orientation : Vertical

Correct Marks : 1 Wrong Marks : 0.25

Which clinical findings are observed in a child with nephrotic syndrome?

Options :

1. ✘ Edema, hypoalbuminemia, proteinemia
2. ✔ Hypoalbuminemia, hyperlipidemia, edema
3. ✘ Proteinuria, increased GFR, hematuria
4. ✘ Hypertension, decreased GFR, proteinemia

Question Number : 147 Question Id : 9662318385 Question Type : MCQ Option Shuffling : Yes Display Question Number : Yes
Single Line Question Option : No Option Orientation : Vertical

Correct Marks : 1 Wrong Marks : 0.25

Which condition is surgically corrected by the Kasai procedure?

Options :

1. ✘ Imperforate anus
2. ✘ Trachea-esophageal fistula
3. ✔ Biliary atresia
4. ✘ Gastroesophageal reflux

Question Number : 147 Question Id : 9662318385 Question Type : MCQ Option Shuffling : Yes Display Question Number : Yes
Single Line Question Option : No Option Orientation : Vertical

Correct Marks : 1 Wrong Marks : 0.25

कसाई शस्त्रक्रिया से कौन सी स्थिति का उपचार किया जाता है?

Options :

1. ✘ गुद में छिद्र न होना
2. ✘ ट्रेकिआ एसोफजिअल नासूर
3. ✔ पित्त की अविवरता
4. ✘ गैस्ट्रोइसोफेजिअल रिफ्लक्स

Question Number : 148 Question Id : 9662318386 Question Type : MCQ Option Shuffling : Yes Display Question Number : Yes
Single Line Question Option : No Option Orientation : Vertical

Correct Marks : 1 Wrong Marks : 0.25

Identify false statement from the following with regard to prokaryotes?

Options :

1. ✔ Mitochondria, Golgi apparatus are present
2. ✘ Deoxyribonucleoprotein is absent
3. ✘ One chromosome is present
4. ✘ Muramic acid is present

Question Number : 148 Question Id : 9662318386 Question Type : MCQ Option Shuffling : Yes Display Question Number : Yes
Single Line Question Option : No Option Orientation : Vertical

Correct Marks : 1 Wrong Marks : 0.25

निम्नलिखित विधानों में से प्रोकैरियोट्स के लिए कौन सा विधान गलत है?

Options :

1. ✔ माइटोकॉन्ड्रिया और गोलगी उपकरण मौजूद रहते हैं
2. ✘ डिऑक्सीबोन्यूक्लीओप्रोटीन गैरहाजिर होता है
3. ✘ एक गुणसूत्र मौजूद रहता है
4. ✘ मुरामिक आम्ल मौजूद होता है

Question Number : 149 Question Id : 9662318387 Question Type : MCQ Option Shuffling : Yes Display Question Number : Yes
Single Line Question Option : No Option Orientation : Vertical

Correct Marks : 1 Wrong Marks : 0.25

A nurse assisted in cerebro-spinal tapping. What is the wrong statement related to the sample?

Options :

1. ✘ Transport the sample immediately to the lab
2. ✔ Refrigerate the sample in case of any delay in transport
3. ✘ Collect cerebro-spinal fluid in sterile vials
4. ✘ The minimum recommended volume of sample is 1 ml

Question Number : 149 Question Id : 9662318387 Question Type : MCQ Option Shuffling : Yes Display Question Number : Yes
Single Line Question Option : No Option Orientation : Vertical

Correct Marks : 1 Wrong Marks : 0.25

एक परिचारिका मेरू मस्तिष्क टैपिंग की विधि में सहायता कर रही थी। नमूने से संबंधित गलत विधान कौन सा है?

Options :

1. ✘ नमूने को तुरंत प्रयोगशाला ले के जाओ
2. ✔ यातायात में अगर कोई विलम्ब हो रहा है तो नमूने को फ्रिज में रखिये
3. ✘ मेरू मस्तिष्क द्राव को जीवाणुरहित शिशि यों में इकट्ठा कीजिये
4. ✘ नमूने की अल्पतम मात्रा 1 ml होनी चाहिए

Question Number : 150 Question Id : 9662318388 Question Type : MCQ Option Shuffling : Yes Display Question Number : Yes
Single Line Question Option : No Option Orientation : Vertical

Correct Marks : 1 Wrong Marks : 0.25

What is the recommended dose series for Hepatitis B vaccination for health care workers?

Options :

1. ✔ 0,1,6
2. ✘ 0,1,7
3. ✘ 0,1,5
4. ✘ 0,1,8

Question Number : 150 Question Id : 9662318388 Question Type : MCQ Option Shuffling : Yes Display Question Number : Yes
Single Line Question Option : No Option Orientation : Vertical

Correct Marks : 1 Wrong Marks : 0.25

स्वास्थ्य कर्मचारी के लिए हेपटाइटिस बी के टीके की मात्रा कितनी होनी चाहिए?

Options :

1. ✓ 0, 1, 6

2. ✘ 0, 1, 7

3. ✘ 0, 1, 5

4. ✘ 0, 1, 8

Question Number : 151 Question Id : 9662318389 Question Type : MCQ Option Shuffling : Yes Display Question Number : Yes
Single Line Question Option : No Option Orientation : Vertical

Correct Marks : 1 Wrong Marks : 0.25

Mr. X is admitted to the ward with right lower quadrant pain in the abdomen. The patient is having severe pain on assessment.

What intervention the nurse can perform till the doctor arrives?

Options :

1. ✘ The nurse can start enema to relieve abdominal pain

2. ✘ Hot water bag can be applied to the right lower quadrant

3. ✘ The nurse can start analgesics to control pain

4. ✓ The nurse can apply ice bag to the lower quadrant

Question Number : 151 Question Id : 9662318389 Question Type : MCQ Option Shuffling : Yes Display Question Number : Yes
Single Line Question Option : No Option Orientation : Vertical

Correct Marks : 1 Wrong Marks : 0.25

श्री X पेट के दाएं निचले हिस्से में गंभीर दर्द होने के कारण अस्पताल में भर्ती हुए हैं। डॉक्टर के आने तक परिचारिका क्या उपचार कर सकती है?

Options :

1. ✘ पेट के दर्द से छुटकारा देने के लिए परिचारिका एनीमा शुरू कर सकती है।

2. ✘ पेट की दाहिनी की तरफ़ के निचले हिस्से पर गरम पानी की थैली रख सकती है।

3. ✘ दर्द को नियंत्रण में लाने के लिए परिचारिका पीड़ाहारी दवाई शुरू कर सकती है।

4. ✓ परिचारिका निचले हिस्से में बर्फ की थैली रख सकती है।

Question Number : 152 Question Id : 9662318390 Question Type : MCQ Option Shuffling : Yes Display Question Number : Yes
Single Line Question Option : No Option Orientation : Vertical

Correct Marks : 1 Wrong Marks : 0.25

Identify hypertonic solution from the following?

Options :

1. ✘ 0.45% Nacl
2. ✔ 10% Dextrose in Water
3. ✘ 5% Dextrose in 0.225% Saline
4. ✘ Lactate Ringers Solution

Question Number : 152 Question Id : 9662318390 Question Type : MCQ Option Shuffling : Yes Display Question Number : Yes
Single Line Question Option : No Option Orientation : Vertical

Correct Marks : 1 Wrong Marks : 0.25

नीचे दिए हुए विकल्पों में से अतितनावी द्रावण कौन सा है?

Options :

1. ✘ 0.45% सोडियम क्लोराइड
2. ✔ पानी में 10% डेक्सट्रोज
3. ✘ 0.225% सलाइन में 5% डेक्सट्रोज
4. ✘ लैक्टेट रिंगर्स द्रावण

Question Number : 153 Question Id : 9662318391 Question Type : MCQ Option Shuffling : Yes Display Question Number : Yes
Single Line Question Option : No Option Orientation : Vertical

Correct Marks : 1 Wrong Marks : 0.25

The Nurse is giving discharge advice to the patient after intra-ocular lens implant.

Which of the following would be a wrong advice?

Options :

1. ✘ Wear metal eye shield at all times
2. ✘ Wash hands before touching or cleaning eye
3. ✔ Lie down on the side of affected eye
4. ✘ Bathe or shampoo hair cautiously

Question Number : 153 Question Id : 9662318391 Question Type : MCQ Option Shuffling : Yes Display Question Number : Yes
Single Line Question Option : No Option Orientation : Vertical

Correct Marks : 1 Wrong Marks : 0.25

इंद्राओक्युलर लेंस प्रत्यारोपण के बाद परिचारिका मरीज़ को अस्पताल से मुक्ति (डिस्चार्ज) के वक़्त सलाह दे रही है। निम्नलिखित विधानों में से कौन सी सलाह गलत होगी?

Options :

1. ✘ पुरे वक़्त धातु का आँख का कवच पहनो।
2. ✘ आँख को स्पर्श करने से या साफ़ करने से पहले हाथ धो लो।
3. ✔ प्रभावित आँख की तरफ़ लेट जाएं।
4. ✘ स्नान करते वक़्त या शैम्पू लगाते वक़्त ध्यान रखना।

Question Number : 154 Question Id : 9662318392 Question Type : MCQ Option Shuffling : Yes Display Question Number : Yes
Single Line Question Option : No Option Orientation : Vertical

Correct Marks : 1 Wrong Marks : 0.25

A nurse is caring for a patient with renal failure. The nurse monitors the client for which acid base balance?

Options :

1. ✘ Respiratory acidosis
2. ✘ Respiratory alkalosis
3. ✔ Metabolic acidosis
4. ✘ Metabolic alkalosis

Question Number : 154 Question Id : 9662318392 Question Type : MCQ Option Shuffling : Yes Display Question Number : Yes
Single Line Question Option : No Option Orientation : Vertical

Correct Marks : 1 Wrong Marks : 0.25

किडनी खराब हुए एक मरीज़ का परिचारिका खयाल रख रही है। कौन से आम्ल की मात्रा के संतुलन का ध्यान परिचारिक को रखना चाहिए?

Options :

1. ✘ श्वसन प्रणाली की अम्लमयता
2. ✘ श्वसन प्रणाली की क्षारमयता
3. ✔ पचन प्रणाली की अम्लमयता
4. ✘ पचन प्रणाली की क्षारमयता

Question Number : 155 Question Id : 9662318393 Question Type : MCQ Option Shuffling : Yes Display Question Number : Yes
Single Line Question Option : No Option Orientation : Vertical

Correct Marks : 1 Wrong Marks : 0.25

What is the side effect of drug ethambutol?

Options :

1. Optic neuritis
2. Hepatotoxicity
3. Deafness
4. Hypersensitivity

Question Number : 155 Question Id : 9662318393 Question Type : MCQ Option Shuffling : Yes Display Question Number : Yes
Single Line Question Option : No Option Orientation : Vertical

Correct Marks : 1 Wrong Marks : 0.25

इथाम्बुटोल दवाई का दुष्प्रभाव क्या होता है?

Options :

1. आँख के नसों की सूजन
2. यकृत में विषाक्तता
3. बहरापन
4. अतिसंवेदनशीलता

Question Number : 156 Question Id : 9662318394 Question Type : MCQ Option Shuffling : Yes Display Question Number : Yes
Single Line Question Option : No Option Orientation : Vertical

Correct Marks : 1 Wrong Marks : 0.25

Cor pulmonale can be described as the enlargement of:

Options :

1. left atrium of the heart
2. left ventricle of the heart
3. right atrium of the heart
4. right ventricle of the heart

Question Number : 156 Question Id : 9662318394 Question Type : MCQ Option Shuffling : Yes Display Question Number : Yes
Single Line Question Option : No Option Orientation : Vertical

Correct Marks : 1 Wrong Marks : 0.25

इस भाग के बढ़ने से फुफ्फुस और हृदय का रोग होता है:

Options :

1. ✘ हृदय का बायाँ आलिंद
2. ✘ दिल का बायाँ निचला भाग
3. ✘ हृदय का दायाँ आलिंद
4. ✔ दिल का दायाँ निचला भाग

Question Number : 157 Question Id : 9662318395 Question Type : MCQ Option Shuffling : Yes Display Question Number : Yes
Single Line Question Option : No Option Orientation : Vertical

Correct Marks : 1 Wrong Marks : 0.25

How long does it take for Troponin –I to return to normal after an episode of acute myocardial infarction?

Options :

1. ✔ 1-3 weeks
2. ✘ 3-6 Weeks
3. ✘ 12 hours
4. ✘ 3-4 days

Question Number : 157 Question Id : 9662318395 Question Type : MCQ Option Shuffling : Yes Display Question Number : Yes
Single Line Question Option : No Option Orientation : Vertical

Correct Marks : 1 Wrong Marks : 0.25

तीव्र रोधगलन की स्थिति के बाद ट्रोपोनिन। को सामान्य होने के लिए कितना समय लगता है?

Options :

1. ✔ 1-3 हफ्ते
2. ✘ 3-6 हफ्ते
3. ✘ 12 घंटे
4. ✘ 3-4 दिन

Question Number : 158 Question Id : 9662318396 Question Type : MCQ Option Shuffling : Yes Display Question Number : Yes
Single Line Question Option : No Option Orientation : Vertical

Correct Marks : 1 Wrong Marks : 0.25

What is the correct nursing intervention after renal arteriogram?

Options :

1. ✘ Administer radio-opaque dye
2. ✔ Check peripheral pulses every 30-60 minutes
3. ✘ Administer sedatives
4. ✘ Encourage ambulation to increase circulation

Question Number : 158 Question Id : 9662318396 Question Type : MCQ Option Shuffling : Yes Display Question Number : Yes
Single Line Question Option : No Option Orientation : Vertical

Correct Marks : 1 Wrong Marks : 0.25

किडनी की धमनिलेख के बाद परिचारिका के द्वारा योग्य उपचार क्या है?

Options :

1. ✘ रेडियो अपारदर्शी रंग का प्रबंध करना
2. ✔ हर 30-60 मिनिट में परिधीय नाड़ी की चिकित्सा करना
3. ✘ नींद आनेवाली दवाई देना
4. ✘ परिसंचरण बढ़ाने के लिए अभिलाषा बढ़ावा देना

Question Number : 159 Question Id : 9662318397 Question Type : MCQ Option Shuffling : Yes Display Question Number : Yes
Single Line Question Option : No Option Orientation : Vertical

Correct Marks : 1 Wrong Marks : 0.25

A patient is posted for cataract surgery.

Which type of eye drops are to be prescribed?

Options :

1. ✔ Mydriatics
2. ✘ Prostaglandins
3. ✘ Carbonic anhydrase inhibitors
4. ✘ B-blockers

Question Number : 159 Question Id : 9662318397 Question Type : MCQ Option Shuffling : Yes Display Question Number : Yes
Single Line Question Option : No Option Orientation : Vertical

Correct Marks : 1 Wrong Marks : 0.25

मरीज को मोतियाबिंद की शस्त्रक्रिया बताई गयी है। आँखों में कौन से ड्रॉप्स डालने की सलाह देनी चाहिए?

Options :

1. ✓ मैड्रिआटिक्स
2. ✗ प्रोस्टाग्लेन्डिंस
3. ✗ कार्बन एनहाइड्रेज इन्हिबिटर्स
4. ✗ बीटा अवरोधक (बी-ब्लॉकर्स)

Question Number : 160 Question Id : 9662318398 Question Type : MCQ Option Shuffling : Yes Display Question Number : Yes
Single Line Question Option : No Option Orientation : Vertical

Correct Marks : 1 Wrong Marks : 0.25

Watch tick test, Weber Test, Rinne test are done to assess which cranial nerve?

Options :

1. ✗ Cranial Nerve XI
2. ✗ Cranial Nerve VI
3. ✗ Cranial Nerve III
4. ✓ Cranial Nerve VIII

Question Number : 160 Question Id : 9662318398 Question Type : MCQ Option Shuffling : Yes Display Question Number : Yes
Single Line Question Option : No Option Orientation : Vertical

Correct Marks : 1 Wrong Marks : 0.25

कौन सी क्रैनियल नस की चिकित्सा के लिए वॉच टिक टेस्ट, वेबर टेस्ट, रिंने टेस्ट किये जाते हैं ?

Options :

1. ✗ क्रैनियल नस XI
2. ✗ क्रैनियल नस VI
3. ✗ क्रैनियल नस III
4. ✓ क्रैनियल नस VIII

Group Id :	966231212
Group Maximum Duration :	0
Group Minimum Duration :	0
Revisit allowed for view? :	No
Revisit allowed for edit? :	No
Break time:	0
Group Marks:	20
Revisit allowed for group Instructions? :	Yes
Maximum Instruction Time:	0
Minimum Instruction Time:	0

Discipline4

Section Id :	966231327
Section Number :	1
Section type :	Online
Mandatory or Optional:	Mandatory
Number of Questions:	20
Number of Questions to be attempted:	20
Section Marks:	20
Display Number Panel:	Yes
Group All Questions:	No

Sub-Section Number:	1
Sub-Section Id:	966231365
Question Shuffling Allowed :	Yes

Question Number : 161 Question Id : 9662318399 Question Type : MCQ Option Shuffling : Yes Display Question Number : Yes
Single Line Question Option : No Option Orientation : Vertical

Correct Marks : 1 Wrong Marks : 0.25

Battles sign is an indicator of:

Options :

1. ✘ Stroke
2. ✘ Brain tumour
3. ✔ Skull fracture
4. ✘ Viral meningitis

Question Number : 161 Question Id : 9662318399 Question Type : MCQ Option Shuffling : Yes Display Question Number : Yes
Single Line Question Option : No Option Orientation : Vertical

Correct Marks : 1 Wrong Marks : 0.25

बैटल्स साइन इसका निर्देशक होता है:

Options :

1. ✘ स्ट्रोक

2. ✘ मस्तिष्क का ट्यूमर
3. ✔ खोपड़ी का अस्थिभंग
4. ✘ वायरल मेनिन्जाइटिस

Question Number : 162 Question Id : 9662318400 Question Type : MCQ Option Shuffling : Yes Display Question Number : Yes
Single Line Question Option : No Option Orientation : Vertical

Correct Marks : 1 Wrong Marks : 0.25

What is enuresis?

Options :

1. ✘ Involuntary urination with increased pressure
2. ✔ Involuntary nocturnal urination
3. ✘ Inability to voluntarily control urine
4. ✘ Painful urination

Question Number : 162 Question Id : 9662318400 Question Type : MCQ Option Shuffling : Yes Display Question Number : Yes
Single Line Question Option : No Option Orientation : Vertical

Correct Marks : 1 Wrong Marks : 0.25

शय्या मूत्रण क्या होता है?

Options :

1. ✘ ज्यादा दबाव के वजह से अनैच्छिक पेशाब होना
2. ✔ रात में होने वाला अनैच्छिक पेशाब
3. ✘ मूत्र को स्वेच्छा से नियंत्रित करने में असमर्थता
4. ✘ मूत्र विसर्जन करते समय दर्द होना

Question Number : 163 Question Id : 9662318401 Question Type : MCQ Option Shuffling : Yes Display Question Number : Yes
Single Line Question Option : No Option Orientation : Vertical

Correct Marks : 1 Wrong Marks : 0.25

A nurse is giving discharge advice for patient with hypothyroidism.

Which one of the following would be a wrong advice to give?

Options :

1. ✘ Avoid exposure to cold temperature
2. ✘ Plan diet intake with high fibre, low calorie diet
3. ✔ Stop medical regimen when the values are normal
4. ✘ Mandatorily have follow up visits

Question Number : 163 Question Id : 9662318401 Question Type : MCQ Option Shuffling : Yes Display Question Number : Yes
Single Line Question Option : No Option Orientation : Vertical

Correct Marks : 1 Wrong Marks : 0.25

हाइपोथायरायडिज़्म के मरीज़ को परिचारिका डिस्चार्ज के समय सलाह दे रही है। निम्नलिखित हुए विधानों में से कौन सी सलाह गलत साबित होगी?

Options :

1. ✘ ठण्डे तापमान का संपर्क वर्जित है।
2. ✘ ज्यादा फ़ाइबर और कम कैलरीयुक्त आहार लीजिये।
3. ✔ जब मान सामान्य हो जाए तब चिकित्सिय पथ्या-पथ्य रोक दीजिये।
4. ✘ डॉक्टर से लगातार चिकित्सा करवाएँ।

Question Number : 164 Question Id : 9662318402 Question Type : MCQ Option Shuffling : Yes Display Question Number : Yes
Single Line Question Option : No Option Orientation : Vertical

Correct Marks : 1 Wrong Marks : 0.25

Who proposed the population theory?

Options :

1. ✘ Kolb and Brunner
2. ✘ J.F.Cuber
3. ✘ Ibbotson
4. ✔ Robert Malthus

Question Number : 164 Question Id : 9662318402 Question Type : MCQ Option Shuffling : Yes Display Question Number : Yes
Single Line Question Option : No Option Orientation : Vertical

Correct Marks : 1 Wrong Marks : 0.25

जनसंख्या सिद्धांत का प्रस्ताव किसने रखा?

Options :

1. ✘ कोल्ब और ब्रूनर
2. ✘ जे. एफ. क्यूबर
3. ✘ इबोटसन
4. ✔ रोबर्ट माल्थस

Question Number : 165 Question Id : 9662318403 Question Type : MCQ Option Shuffling : Yes Display Question Number : Yes
Single Line Question Option : No Option Orientation : Vertical

Correct Marks : 1 Wrong Marks : 0.25

The horizontal division of society into higher and lower social units is called:

Options :

1. ✔ Social stratification
2. ✘ Social change
3. ✘ Social disorganisation
4. ✘ Social mobility

Question Number : 165 Question Id : 9662318403 Question Type : MCQ Option Shuffling : Yes Display Question Number : Yes
Single Line Question Option : No Option Orientation : Vertical

Correct Marks : 1 Wrong Marks : 0.25

समाज का उच्च और निम्न सामाजिक भागों में समस्तरीय विभाजन को क्या कहते हैं?

Options :

1. ✔ सामाजिक स्तर विन्यास
2. ✘ सामाजिक बदलाव
3. ✘ सामाजिक विप्लव
4. ✘ सामाजिक गतिशीलता

Question Number : 166 Question Id : 9662318404 Question Type : MCQ Option Shuffling : Yes Display Question Number : Yes
Single Line Question Option : No Option Orientation : Vertical

Correct Marks : 1 Wrong Marks : 0.25

The National Rural Health Mission (NRHM) was launched in the year:

Options :

1. ✘ 2000

2. ✘ 2010

3. ✔ 2005

4. ✘ 2012

Question Number : 166 Question Id : 9662318404 Question Type : MCQ Option Shuffling : Yes Display Question Number : Yes
Single Line Question Option : No Option Orientation : Vertical

Correct Marks : 1 Wrong Marks : 0.25

राष्ट्रीय ग्रामीण स्वास्थ्य मिशन का संगठन कौन से साल में हुआ?

Options :

1. ✘ 2000

2. ✘ 2010

3. ✔ 2005

4. ✘ 2012

Question Number : 167 Question Id : 9662318405 Question Type : MCQ Option Shuffling : Yes Display Question Number : Yes
Single Line Question Option : No Option Orientation : Vertical

Correct Marks : 1 Wrong Marks : 0.25

Secondary prevention aims to reduce the:

Options :

1. ✘ incidence

2. ✘ compilation

3. ✔ prevalence

4. ✘ secondary cases

Question Number : 167 Question Id : 9662318405 Question Type : MCQ Option Shuffling : Yes Display Question Number : Yes
Single Line Question Option : No Option Orientation : Vertical

Correct Marks : 1 Wrong Marks : 0.25

माध्यमिक रोकथाम का उद्देश्य क्या कम करना होता है?

Options :

1. ✘ घटना

2. ✘ संकलन

3. ✔ प्रसार

4. ✘ माध्यमिक मामले

Question Number : 168 Question Id : 9662318406 Question Type : MCQ Option Shuffling : Yes Display Question Number : Yes
Single Line Question Option : No Option Orientation : Vertical

Correct Marks : 1 Wrong Marks : 0.25

Prevalence refers to the total number of:

Options :

1. ✘ new cases

2. ✘ old cases

3. ✔ new and old cases

4. ✘ deaths

Question Number : 168 Question Id : 9662318406 Question Type : MCQ Option Shuffling : Yes Display Question Number : Yes
Single Line Question Option : No Option Orientation : Vertical

Correct Marks : 1 Wrong Marks : 0.25

प्रसार का संदर्भ किन मामलो मे कुल संख्या पर होता है?

Options :

1. ✘ नये मामले

2. ✘ पुराने मामले

3. ✔ नये और पुराने मामले

4. ✘ मृत्यु

Question Number : 169 Question Id : 9662318407 Question Type : MCQ Option Shuffling : Yes Display Question Number : Yes
Single Line Question Option : No Option Orientation : Vertical

Correct Marks : 1 Wrong Marks : 0.25

A sudden outbreak of disease in the entire country is known as:

Options :

1. ✘ Sporadic

2. ✓ Pandemic

3. ✗ Endemic

4. ✗ Epidemic

Question Number : 169 Question Id : 9662318407 Question Type : MCQ Option Shuffling : Yes Display Question Number : Yes
Single Line Question Option : No Option Orientation : Vertical

Correct Marks : 1 Wrong Marks : 0.25

पुरे देश में बीमारी के अचानक प्रकोप को क्या कहते हैं?

Options :

1. ✗ फैलाव

2. ✓ सर्वव्यापी महामारी (पेंडेमिक)

3. ✗ स्थानिक

4. ✗ जानपदिक रोग (एपिडेमिक)

Question Number : 170 Question Id : 9662318408 Question Type : MCQ Option Shuffling : Yes Display Question Number : Yes
Single Line Question Option : No Option Orientation : Vertical

Correct Marks : 1 Wrong Marks : 0.25

Which disease of the following is spread by drinking contaminated water?

Options :

1. ✓ Typhoid

2. ✗ Malaria

3. ✗ Hepatitis 'B'

4. ✗ Diphtheria

Question Number : 170 Question Id : 9662318408 Question Type : MCQ Option Shuffling : Yes Display Question Number : Yes
Single Line Question Option : No Option Orientation : Vertical

Correct Marks : 1 Wrong Marks : 0.25

दूषित पानी पिने की वजह से निम्नलिखित विकल्पों में से कौनसा रोग होता है?

Options :

1. ✓ आंत्र ज्वर

2. ✘ विषमज्वर
3. ✘ यकृतशोथ (हेपेटाइटिस) बी
4. ✘ गलझिल्ली का प्रदाह (डिफ्थीरिया)

Question Number : 171 Question Id : 9662318409 Question Type : MCQ Option Shuffling : Yes Display Question Number : Yes
Single Line Question Option : No Option Orientation : Vertical

Correct Marks : 1 Wrong Marks : 0.25

Live vaccines should not be administered to persons with the issue of:

Options :

1. ✘ Vomiting
2. ✘ Diarrhoea
3. ✔ Leukemia
4. ✘ Fever

Question Number : 171 Question Id : 9662318409 Question Type : MCQ Option Shuffling : Yes Display Question Number : Yes
Single Line Question Option : No Option Orientation : Vertical

Correct Marks : 1 Wrong Marks : 0.25

निम्नलिखित कौन सी बीमारी वाले इंसान को जीवित दुर्बल टीका (लाइव) टीका नहीं दिया जा सकता?

Options :

1. ✘ उल्टियाँ
2. ✘ दस्त
3. ✔ पाण्डु रोग
4. ✘ बुखार

Question Number : 172 Question Id : 9662318410 Question Type : MCQ Option Shuffling : Yes Display Question Number : Yes
Single Line Question Option : No Option Orientation : Vertical

Correct Marks : 1 Wrong Marks : 0.25

The recommendation of Chadha committee is:

Options :

1. ✘ One PHC/40,000 population

2. ✓ One basic health worker/10,000 population
3. ✘ One basic health worker/5000 population
4. ✘ One CHC/40,000 population

Question Number : 172 Question Id : 9662318410 Question Type : MCQ Option Shuffling : Yes Display Question Number : Yes
Single Line Question Option : No Option Orientation : Vertical

Correct Marks : 1 Wrong Marks : 0.25

चढ़ा समिति का सुझाव क्या है?

Options :

1. ✘ प्रति 40,000 लोकसंख्या के लिए एक (PHC) पीएचसी
2. ✓ प्रति 10,000 लोकसंख्या के लिए एक प्राथमिक स्वास्थ्य कार्यकर्ता
3. ✘ प्रति 5,000 लोकसंख्या के लिए एक प्राथमिक स्वास्थ्य कार्यकर्ता
4. ✘ प्रति 40,000 लोकसंख्या के लिए एक (CHC) सीएचसी

Question Number : 173 Question Id : 9662318411 Question Type : MCQ Option Shuffling : Yes Display Question Number : Yes
Single Line Question Option : No Option Orientation : Vertical

Correct Marks : 1 Wrong Marks : 0.25

The reconstituted measles vaccine has to be used within:

Options :

1. ✓ 4 hours
2. ✘ 6 hours
3. ✘ 8 hours
4. ✘ 2 hours

Question Number : 173 Question Id : 9662318411 Question Type : MCQ Option Shuffling : Yes Display Question Number : Yes
Single Line Question Option : No Option Orientation : Vertical

Correct Marks : 1 Wrong Marks : 0.25

खसरे के पुनर्गठित टीके का उपयोग कितने समय में होना चाहिए?

Options :

1. ✓ 4 घंटे

2. ✖ 6 घंटे

3. ✖ 8 घंटे

4. ✖ 2 घंटे

Question Number : 174 Question Id : 9662318412 Question Type : MCQ Option Shuffling : Yes Display Question Number : Yes
Single Line Question Option : No Option Orientation : Vertical

Correct Marks : 1 Wrong Marks : 0.25

The contraceptive that affects sperm motility, capacitation and survival is:

Options :

1. ✖ Mala D

2. ✔ Copper T

3. ✖ Vaginal Ring

4. ✖ Progesterone only pill

Question Number : 174 Question Id : 9662318412 Question Type : MCQ Option Shuffling : Yes Display Question Number : Yes
Single Line Question Option : No Option Orientation : Vertical

Correct Marks : 1 Wrong Marks : 0.25

कौन सा गर्भनिरोधक शुक्राणु की गतिशीलता, क्षमता और उत्तरजीवन पे असर करता है?

Options :

1. ✖ माला डी

2. ✔ कॉपर टी

3. ✖ योनि में डाली हुई रिंग

4. ✖ प्रोजेस्टेरोन की गोली

Question Number : 175 Question Id : 9662318413 Question Type : MCQ Option Shuffling : Yes Display Question Number : Yes
Single Line Question Option : No Option Orientation : Vertical

Correct Marks : 1 Wrong Marks : 0.25

The best measure to control the spread of influenza is:

Options :

1. ✖ Administering influenza vaccination

2. ✓ Avoiding crowded places
3. ✘ Taking plenty of oral fluids
4. ✘ Administering influenza immunoglobulin

Question Number : 175 Question Id : 9662318413 Question Type : MCQ Option Shuffling : Yes Display Question Number : Yes
Single Line Question Option : No Option Orientation : Vertical

Correct Marks : 1 Wrong Marks : 0.25

इन्फ्लुएंजा का प्रसार नियंत्रित करने का सर्वोत्तम उपाय कौन सा है?

Options :

1. ✘ इन्फ्लुएंजा का टीका लगाना
2. ✓ भीड़ भाड़ वाली जगहों से बचना
3. ✘ बहुत सारे द्रव पदार्थों का प्राशन करना
4. ✘ इन्फ्लुएंजा इन्मुनोग्लोबुलीन का प्रबंध करना

Question Number : 176 Question Id : 9662318414 Question Type : MCQ Option Shuffling : Yes Display Question Number : Yes
Single Line Question Option : No Option Orientation : Vertical

Correct Marks : 1 Wrong Marks : 0.25

The reservoir of infection for ascariasis is found only in:

Options :

1. ✘ Dog
2. ✘ Cattle
3. ✓ Man
4. ✘ Pig

Question Number : 176 Question Id : 9662318414 Question Type : MCQ Option Shuffling : Yes Display Question Number : Yes
Single Line Question Option : No Option Orientation : Vertical

Correct Marks : 1 Wrong Marks : 0.25

अस्करीयसिस संक्रमण का संचयन इनमे से किस में पाया जाता है?

Options :

1. ✘ कुत्ता

2. ✘ गाय भैंस

3. ✔ इंसान

4. ✘ सूअर

Question Number : 177 Question Id : 9662318415 Question Type : MCQ Option Shuffling : Yes Display Question Number : Yes
Single Line Question Option : No Option Orientation : Vertical

Correct Marks : 1 Wrong Marks : 0.25

In which of the following situations a woman from the community is referred to First Referral Unit (FRU) for further management?

Options :

1. ✘ Contractions once in 5 minutes

2. ✘ Fresh bleeding per vagina

3. ✔ Horizontal ridge across the lower abdomen

4. ✘ Labour first stage lasting for more than six hours

Question Number : 177 Question Id : 9662318415 Question Type : MCQ Option Shuffling : Yes Display Question Number : Yes
Single Line Question Option : No Option Orientation : Vertical

Correct Marks : 1 Wrong Marks : 0.25

निम्नलिखित में से किस स्थिति में किसी भी समाज की महिला को प्राथमिक उपचार केंद्र में अगले उपाययोजन के लिए लाया जाता है?

Options :

1. ✘ हर 5 मिनट में गर्भाशय आकुंचन

2. ✘ योनिमार्ग से खून बहना

3. ✔ पेट के निचले हिस्से में समस्तरीय उभाड़ आना

4. ✘ पहले चरण में प्रसव पीड़ा छह घंटों से अधिक समयतक कायम रहना

Question Number : 178 Question Id : 9662318416 Question Type : MCQ Option Shuffling : Yes Display Question Number : Yes
Single Line Question Option : No Option Orientation : Vertical

Correct Marks : 1 Wrong Marks : 0.25

Disagreement between the therapist and the client results in:

Options :

1. ✘ Resistance
2. ✘ Reluctance
3. ✘ Therapeutic relationship
4. ✔ Therapeutic impasse

Question Number : 178 Question Id : 9662318416 Question Type : MCQ Option Shuffling : Yes Display Question Number : Yes
Single Line Question Option : No Option Orientation : Vertical

Correct Marks : 1 Wrong Marks : 0.25

इस परिस्थिति में डॉक्टर और मरीज के बीच बहस उत्पन्न होती है:

Options :

1. ✘ प्रतिरोध
2. ✘ अनिच्छा
3. ✘ चिकित्सीय सम्बन्ध
4. ✔ चिकित्सीय गतिरोध

Question Number : 179 Question Id : 9662318417 Question Type : MCQ Option Shuffling : Yes Display Question Number : Yes
Single Line Question Option : No Option Orientation : Vertical

Correct Marks : 1 Wrong Marks : 0.25

The IQ range of a profound mentally retarded client is:

Options :

1. ✘ 50-70
2. ✘ 35-50
3. ✘ 20-35
4. ✔ Less than 20

Question Number : 179 Question Id : 9662318417 Question Type : MCQ Option Shuffling : Yes Display Question Number : Yes
Single Line Question Option : No Option Orientation : Vertical

Correct Marks : 1 Wrong Marks : 0.25

मानसिक रूप से मंद इंसान का बुद्धि गुणांक क्या होता है?

Options :

1. ✘ 50-70

2. ✘ 35-50
3. ✘ 20-35
4. ✔ 20 से कम

Question Number : 180 Question Id : 9662318418 Question Type : MCQ Option Shuffling : Yes Display Question Number : Yes
Single Line Question Option : No Option Orientation : Vertical

Correct Marks : 1 Wrong Marks : 0.25

A surgeon whose patient doesn't respond as he anticipated may tend to criticise the theatre nurse who helped the surgeon at the time of operation. This behaviour is an example of:

Options :

1. ✘ Rationalisation
2. ✘ Compensation
3. ✘ Regression
4. ✔ Projection

Question Number : 180 Question Id : 9662318418 Question Type : MCQ Option Shuffling : Yes Display Question Number : Yes
Single Line Question Option : No Option Orientation : Vertical

Correct Marks : 1 Wrong Marks : 0.25

अगर एक शल्य चिकित्सक को मरीज उसकी इच्छा के अनुसार प्रतिक्रिया नहीं देता है तो वह ऑपरेशन के वक्त मौजूद परिचारिका की आलोचना कर सकता है। यह व्यवहार इसका एक उदाहरण है:

Options :

1. ✘ युक्तिकरण
2. ✘ मुआवजा
3. ✘ वापसी
4. ✔ प्रक्षेपण

Discipline5

Group Number :	10
Group Id :	966231213
Group Maximum Duration :	0
Group Minimum Duration :	120
Revisit allowed for view? :	No

Revisit allowed for edit? :	No
Break time:	0
Group Marks:	20
Revisit allowed for group Instructions? :	Yes
Maximum Instruction Time:	0
Minimum Instruction Time:	0

	Discipline5
Section Id :	966231328
Section Number :	1
Section type :	Online
Mandatory or Optional:	Mandatory
Number of Questions:	20
Number of Questions to be attempted:	20
Section Marks:	20
Display Number Panel:	Yes
Group All Questions:	No

Sub-Section Number:	1
Sub-Section Id:	966231366
Question Shuffling Allowed :	Yes

Question Number : 181 Question Id : 9662318419 Question Type : MCQ Option Shuffling : Yes Display Question Number : Yes
Single Line Question Option : No Option Orientation : Vertical
Correct Marks : 1 Wrong Marks : 0.25

Which one of the following is a technique of behavioural therapy?

Options :

- ✘ Imitation
- ✔ Aversion therapy
- ✘ Psychodrama
- ✘ Sharing experience

Question Number : 181 Question Id : 9662318419 Question Type : MCQ Option Shuffling : Yes Display Question Number : Yes
Single Line Question Option : No Option Orientation : Vertical
Correct Marks : 1 Wrong Marks : 0.25

निम्नलिखित विकल्पों में से कौन सी व्यवहार चिकित्सा की एक तकनीक है?

Options :

- ✘ नक़ल करना
- ✔ विरोध चिकित्सा

3. ✘ साइकोड्रामा

4. ✘ अनुभव बाटना

Question Number : 182 Question Id : 9662318420 Question Type : MCQ Option Shuffling : Yes Display Question Number : Yes
Single Line Question Option : No Option Orientation : Vertical

Correct Marks : 1 Wrong Marks : 0.25

Which of the following is a priority component in nursing assessment of a client with depression?

Options :

1. ✘ Marital and family status

2. ✘ Nutritional status

3. ✔ Suicidal ideation

4. ✘ Sleep disturbances

Question Number : 182 Question Id : 9662318420 Question Type : MCQ Option Shuffling : Yes Display Question Number : Yes
Single Line Question Option : No Option Orientation : Vertical

Correct Marks : 1 Wrong Marks : 0.25

निम्नलिखित में से अवसाद (डिप्रेशन) से घिरे हुए मरीज के लिए चिकित्सा मूल्यांकन में कौन सा घटक महत्वपूर्ण है?

Options :

1. ✘ वैवाहिक और पारिवारिक स्थिति

2. ✘ पोषण स्थिति

3. ✔ आत्महत्या की कल्पना

4. ✘ अशांत निद्रा

Question Number : 183 Question Id : 9662318421 Question Type : MCQ Option Shuffling : Yes Display Question Number : Yes
Single Line Question Option : No Option Orientation : Vertical

Correct Marks : 1 Wrong Marks : 0.25

What is the somatisation disorder?

Options :

1. ✘ Persistent pre-occupation with fear

2. ✔ Multiple somatic symptoms in absence of physical disorder

3. ✖ Multiple neurological disorders
4. ✖ Combination of psychotic and neurotic disorders

Question Number : 183 Question Id : 9662318421 Question Type : MCQ Option Shuffling : Yes Display Question Number : Yes
Single Line Question Option : No Option Orientation : Vertical

Correct Marks : 1 Wrong Marks : 0.25

सोमटाइज़ेशन डिसऑर्डर का मतलब क्या है?

Options :

1. ✖ डर के साथ दृढ़ मानसिक व्यस्तता
2. ✔ शारीरिक विकार के अभाव में कई शारीरिक लक्षण
3. ✖ एकाधिक मस्तिष्क सम्बन्धी विकार
4. ✖ मानसिक और मस्तिष्क विकारों का मेल

Question Number : 184 Question Id : 9662318422 Question Type : MCQ Option Shuffling : Yes Display Question Number : Yes
Single Line Question Option : No Option Orientation : Vertical

Correct Marks : 1 Wrong Marks : 0.25

Which of the following is a contra-indication for group therapy?

Options :

1. ✖ Adolescents
2. ✖ Patients with personality disorders
3. ✔ Anti-social patients
4. ✖ Families and couples

Question Number : 184 Question Id : 9662318422 Question Type : MCQ Option Shuffling : Yes Display Question Number : Yes
Single Line Question Option : No Option Orientation : Vertical

Correct Marks : 1 Wrong Marks : 0.25

निम्नलिखित विकल्पों में से कौनसा विकल्प समूह चिकित्सा का विपरीत संकेत होता है?

Options :

1. ✖ किशोर
2. ✖ व्यक्तित्व विकार से बाधित मरीज

3. ✓ असामाजिक मरीज

4. ✘ परिवार और युगल

Question Number : 185 Question Id : 9662318423 Question Type : MCQ Option Shuffling : Yes Display Question Number : Yes
Single Line Question Option : No Option Orientation : Vertical

Correct Marks : 1 Wrong Marks : 0.25

What is substance abuse?

Options :

1. ✘ Certain physiological and psychological phenomena induced by repeated consumption/intake of a substance

2. ✓ Maladaptive pattern of substance use

3. ✘ Developing drug tolerance

4. ✘ Experiencing withdrawal symptoms

Question Number : 185 Question Id : 9662318423 Question Type : MCQ Option Shuffling : Yes Display Question Number : Yes
Single Line Question Option : No Option Orientation : Vertical

Correct Marks : 1 Wrong Marks : 0.25

मादक द्रव्यों का सेवन क्या होता है?

Options :

1. ✘ मादक द्रव्य बार बार सेवन से प्रेरित कुछ शारीरिक, और मानसिक घटनाएं होती हैं

2. ✓ मादक द्रव्यों के सेवन का अपअनुकूलित तरीका

3. ✘ दवा की सहनशीलता की मात्रा बढ़ाना

4. ✘ वापसी के लक्षणों का अनुभव

Question Number : 186 Question Id : 9662318424 Question Type : MCQ Option Shuffling : Yes Display Question Number : Yes
Single Line Question Option : No Option Orientation : Vertical

Correct Marks : 1 Wrong Marks : 0.25

A child who shows language competence, and speaks at home but is mute at school is known as:

Options :

1. ✓ Elective mutism

2. ✘ Atypical autism

3. ✖ Rett's syndrome

4. ✖ Social anxiety disorder

Question Number : 186 Question Id : 9662318424 Question Type : MCQ Option Shuffling : Yes Display Question Number : Yes
Single Line Question Option : No Option Orientation : Vertical

Correct Marks : 1 Wrong Marks : 0.25

जो बच्चा घर में बोलते समय भाषा का प्रभुत्व दिखाता है पर स्कूल में मूक के रूप में जाना जाता है उसे क्या कहते हैं?

Options :

1. ✔ वैकल्पिक शांतता

2. ✖ असामान्य आत्मकेंद्रित स्वाभाव

3. ✖ जटिल न्यूरोबायोलॉजिकल विकार के कई लक्षण (रेट सिंड्रोम) +

4. ✖ सामाजिक चिंता विकार

Question Number : 187 Question Id : 9662318425 Question Type : MCQ Option Shuffling : Yes Display Question Number : Yes
Single Line Question Option : No Option Orientation : Vertical

Correct Marks : 1 Wrong Marks : 0.25

Which of the following is the most important assessment data a nurse could gather from a patient who is in crisis?

Options :

1. ✖ Socioeconomic status

2. ✖ Nutritional status

3. ✔ Strengths and support system

4. ✖ Family health status

Question Number : 187 Question Id : 9662318425 Question Type : MCQ Option Shuffling : Yes Display Question Number : Yes
Single Line Question Option : No Option Orientation : Vertical

Correct Marks : 1 Wrong Marks : 0.25

निम्नलिखित में से कौन सा सबसे महत्वपूर्ण तथ्य है जब मरीज तकलीफ में है तब चिकित्सा के वक़्त परिचारिका उससे प्राप्त कर सकती है?

Options :

1. ✖ सामाजिक और आर्थिक स्थिति

2. ✘ पोषण स्थिति

3. ✔ ताकत और आधार प्रणाली

4. ✘ पारिवारिक स्वास्थ्य की स्थिति

Question Number : 188 Question Id : 9662318426 Question Type : MCQ Option Shuffling : Yes Display Question Number : Yes
Single Line Question Option : No Option Orientation : Vertical

Correct Marks : 1 Wrong Marks : 0.25

What is the substitute consent?

Options :

1. ✔ The consent given by an authorised person when a patient is not capable of giving their own consent

2. ✘ The consent given by patient's relatives when the patient is not willing for treatment

3. ✘ The consent given by the police for a patient who is a state prisoner

4. ✘ The consent given by spouse to admit a patient

Question Number : 188 Question Id : 9662318426 Question Type : MCQ Option Shuffling : Yes Display Question Number : Yes
Single Line Question Option : No Option Orientation : Vertical

Correct Marks : 1 Wrong Marks : 0.25

प्रतिस्थापन सहमति का मतलब क्या है?

Options :

1. ✔ जब मरीज खुद सहमति देने के लिए सक्षम नहीं है तब किसी अधिकृत व्यक्तित्व ने दी हुई सहमति

2. ✘ जब मरीज की उपचार लेने की इच्छा नहीं है तब उसके परिजनों ने दी हुई सहमति

3. ✘ मरीज जब राज बंदी हो तब पुलिस ने दी हुई सहमति

4. ✘ मरीज के पति या पत्नी ने प्रवेश के लिए दी हुई सहमति

Question Number : 189 Question Id : 9662318427 Question Type : MCQ Option Shuffling : Yes Display Question Number : Yes
Single Line Question Option : No Option Orientation : Vertical

Correct Marks : 1 Wrong Marks : 0.25

What is cluttering?

Options :

1. ✘ Disturbance in language output

2. ✓ Erratic dysrhythmic speech
3. ✘ Repeating words and phrases
4. ✘ Feeling of intense rapture

Question Number : 189 Question Id : 9662318427 Question Type : MCQ Option Shuffling : Yes Display Question Number : Yes
Single Line Question Option : No Option Orientation : Vertical

Correct Marks : 1 Wrong Marks : 0.25

वाणी दोष क्या होता है?

Options :

1. ✘ भाषा संरचना में बाधा
2. ✓ अनियमित भाषण
3. ✘ शब्द और वाक्य दोहराना
4. ✘ तीव्र उत्तेजना होना

Question Number : 190 Question Id : 9662318428 Question Type : MCQ Option Shuffling : Yes Display Question Number : Yes
Single Line Question Option : No Option Orientation : Vertical

Correct Marks : 1 Wrong Marks : 0.25

The philosophy that believes that the students must be guided for cultivation of higher values of life through moral and religious instructions is:

Options :

1. ✘ Realism
2. ✘ Naturalism
3. ✓ Idealism
4. ✘ Pragmatism

Question Number : 190 Question Id : 9662318428 Question Type : MCQ Option Shuffling : Yes Display Question Number : Yes
Single Line Question Option : No Option Orientation : Vertical

Correct Marks : 1 Wrong Marks : 0.25

जीवन में मानसिक और धार्मिक संस्कार के माध्यम से उच्च जीवन मूल्यों विकास करने के लिए विद्यार्थियों को हमेशा बढ़ावा देना चाहिए इस तत्त्व का मतलब क्या है

Options :

1. ✘ यथार्थवाद

2. ✘ प्रकृतिवाद
3. ✔ आदर्शवाद
4. ✘ व्यवहारवाद

Question Number : 191 Question Id : 9662318429 Question Type : MCQ Option Shuffling : Yes Display Question Number : Yes
Single Line Question Option : No Option Orientation : Vertical

Correct Marks : 1 Wrong Marks : 0.25

The evaluation done at the end of the term/course/programmes is known as:

Options :

1. ✘ Formative evaluation
2. ✘ Formal evaluation
3. ✘ Interrogative evaluation
4. ✔ Summative evaluation

Question Number : 191 Question Id : 9662318429 Question Type : MCQ Option Shuffling : Yes Display Question Number : Yes
Single Line Question Option : No Option Orientation : Vertical

Correct Marks : 1 Wrong Marks : 0.25

अवधि / पाठ्यक्रम / कार्यक्रम के अंत में किये जाने वाले मूल्यांकन को क्या कहते हैं?

Options :

1. ✘ रचनात्मक मूल्यांकन
2. ✘ औपचारिक मूल्यांकन
3. ✘ प्रश्नवाचक मूल्यांकन
4. ✔ सारांशित मूल्यांकन

Question Number : 192 Question Id : 9662318430 Question Type : MCQ Option Shuffling : Yes Display Question Number : Yes
Single Line Question Option : No Option Orientation : Vertical

Correct Marks : 1 Wrong Marks : 0.25

The type of motivation that is concerned with inner gratification and feeling of fulfillment is called:

Options :

1. ✔ Intrinsic motivation

2. ✘ Extrinsic motivation

3. ✘ Self-esteem

4. ✘ Adjourning

Question Number : 192 Question Id : 9662318430 Question Type : MCQ Option Shuffling : Yes Display Question Number : Yes
Single Line Question Option : No Option Orientation : Vertical

Correct Marks : 1 Wrong Marks : 0.25

आंतरिक संतुष्टि और तृप्ति की भावना से संबंधित प्रेरणा के प्रकार को क्या कहते हैं?

Options :

1. ✔ आंतरिक प्रेरणा

2. ✘ बाह्य प्रेरणा

3. ✘ आत्म सम्मान

4. ✘ आसन्न अवस्था

Question Number : 193 Question Id : 9662318431 Question Type : MCQ Option Shuffling : Yes Display Question Number : Yes
Single Line Question Option : No Option Orientation : Vertical

Correct Marks : 1 Wrong Marks : 0.25

Which one of the following is a two-dimensional teaching aid?

Options :

1. ✔ Puppet

2. ✘ Chalk board

3. ✘ Chart

4. ✘ Poster

Question Number : 193 Question Id : 9662318431 Question Type : MCQ Option Shuffling : Yes Display Question Number : Yes
Single Line Question Option : No Option Orientation : Vertical

Correct Marks : 1 Wrong Marks : 0.25

निम्नलिखित विकल्पों में से कौन सा द्विआयामी शैक्षणिक सहायक साधन है?

Options :

1. ✔ कठपुतली

2. ✘ फलक (चॉक बोर्ड)

3. ✘ लेखाचित्र

4. ✘ पोस्टर

Question Number : 194 Question Id : 9662318432 Question Type : MCQ Option Shuffling : Yes Display Question Number : Yes
Single Line Question Option : No Option Orientation : Vertical

Correct Marks : 1 Wrong Marks : 0.25

The Trained Nurses Association Of India (TNAI) is associated with:

Options :

1. ✘ World bank

2. ✔ Common Wealth Federation

3. ✘ Nurses Federation

4. ✘ WHO

Question Number : 194 Question Id : 9662318432 Question Type : MCQ Option Shuffling : Yes Display Question Number : Yes
Single Line Question Option : No Option Orientation : Vertical

Correct Marks : 1 Wrong Marks : 0.25

प्रशिक्षित परिचारिका संगठन, भारत (ट्रैंड नर्स एसोसिएशन ऑफ इंडिया (TNAI) से संबद्ध है

Options :

1. ✘ जागतिक बैंक

2. ✔ सामान्य धन महासंघ

3. ✘ परिचारिका महासंघ

4. ✘ विश्व स्वास्थ्य संगठन

Question Number : 195 Question Id : 9662318433 Question Type : MCQ Option Shuffling : Yes Display Question Number : Yes
Single Line Question Option : No Option Orientation : Vertical

Correct Marks : 1 Wrong Marks : 0.25

The supervisory style in which a supervisor will NOT interfere till subordinate asks owing to the faith and confidence in subordinate is known as _____ style.

Options :

1. ✔ democratic

2. ✘ benevolent

3. ✘ autocratic

4. ✘ laissez-faire

Question Number : 195 Question Id : 9662318433 Question Type : MCQ Option Shuffling : Yes Display Question Number : Yes
Single Line Question Option : No Option Orientation : Vertical

Correct Marks : 1 Wrong Marks : 0.25

अधीनस्थ व्यक्ति पर भरोसा और विश्वास होने के कारण पर्यवेक्षक उसके काम में दखल नहीं देता जब तक वह पूछता नहीं, इस प्रकार को क्या कहते हैं?

Options :

1. ✔ लोकतान्त्रिक

2. ✘ उदार

3. ✘ निरंकुश

4. ✘ अहस्तक्षेप निति

Question Number : 196 Question Id : 9662318434 Question Type : MCQ Option Shuffling : Yes Display Question Number : Yes
Single Line Question Option : No Option Orientation : Vertical

Correct Marks : 1 Wrong Marks : 0.25

The hospitals run by limited companies formed under Companies Act are called:

Options :

1. ✘ Private hospitals

2. ✔ Corporate hospitals

3. ✘ Voluntary hospitals

4. ✘ Public hospitals

Question Number : 196 Question Id : 9662318434 Question Type : MCQ Option Shuffling : Yes Display Question Number : Yes
Single Line Question Option : No Option Orientation : Vertical

Correct Marks : 1 Wrong Marks : 0.25

कंपनी अधिनियम अंतर्गत सीमित स्थापित कंपनियों द्वारा चलाये गए अस्पतालों को क्या कहते हैं?

Options :

1. ✘ निजी अस्पताल

2. ✓ कॉर्पोरेट अस्पताल

3. ✗ स्वैच्छिक अस्पताल

4. ✗ सार्वजनिक अस्पताल

Question Number : 197 Question Id : 9662318435 Question Type : MCQ Option Shuffling : Yes Display Question Number : Yes
Single Line Question Option : No Option Orientation : Vertical

Correct Marks : 1 Wrong Marks : 0.25

The research design that investigates the live experiences of people is called:

Options :

1. ✗ Case study

2. ✗ Action research

3. ✗ Quasi-experimental research

4. ✓ Phenomenological research

Question Number : 197 Question Id : 9662318435 Question Type : MCQ Option Shuffling : Yes Display Question Number : Yes
Single Line Question Option : No Option Orientation : Vertical

Correct Marks : 1 Wrong Marks : 0.25

लोगों के जिवंत अनुभव को चित्रण करनेवाली अनुसंधान प्रणाली को क्या कहते हैं?

Options :

1. ✗ मामले का अध्ययन

2. ✗ क्रिया का अनुसंधान

3. ✗ अर्ध-प्रायोगिक अनुसंधान

4. ✓ घटना संबंधी अनुसंधान

Question Number : 198 Question Id : 9662318436 Question Type : MCQ Option Shuffling : Yes Display Question Number : Yes
Single Line Question Option : No Option Orientation : Vertical

Correct Marks : 1 Wrong Marks : 0.25

The degree of consistency with which an instrument measures the attribute is called:

Options :

1. ✗ Variance

2. ✓ Reliability

3. ✗ Validity

4. ✗ Regression

Question Number : 198 Question Id : 9662318436 Question Type : MCQ Option Shuffling : Yes Display Question Number : Yes
Single Line Question Option : No Option Orientation : Vertical

Correct Marks : 1 Wrong Marks : 0.25

जिस सुसंगति से कोई भी उपकरण गुण का नाप लेता है उसके प्रमाण को क्या कहते हैं?

Options :

1. ✗ परिवर्तन

2. ✓ विश्वसनीयता

3. ✗ वैधता

4. ✗ वापसी

Question Number : 199 Question Id : 9662318437 Question Type : MCQ Option Shuffling : Yes Display Question Number : Yes
Single Line Question Option : No Option Orientation : Vertical

Correct Marks : 1 Wrong Marks : 0.25

Which of the following biophysiological tests is an example of in vivo data?

Options :

1. ✓ Blood pressure

2. ✗ Blood glucose

3. ✗ Bacterial count

4. ✗ Bone marrow biopsy

Question Number : 199 Question Id : 9662318437 Question Type : MCQ Option Shuffling : Yes Display Question Number : Yes
Single Line Question Option : No Option Orientation : Vertical

Correct Marks : 1 Wrong Marks : 0.25

निम्नलिखित विकल्पों में से कौन सा जैवभौतिकीयपरिक्षण इन-वीवो डाटा का उदाहरण है?

Options :

1. ✓ रक्तदाब

2. ✘ मधुमेह
3. ✘ जीवाणु की संख्या
4. ✘ अस्थि मज्जा के जीवित ऊतकों की जांच (बोन मैरो बायोप्सी)

Question Number : 200 Question Id : 9662318438 Question Type : MCQ Option Shuffling : Yes Display Question Number : Yes
Single Line Question Option : No Option Orientation : Vertical

Correct Marks : 1 Wrong Marks : 0.25

The variables that are not of interest to the researcher and are not part of the research, but may effect on the measurement of the study variable, are called:

Options :

1. ✘ Attribute variables
2. ✘ Dependent variables
3. ✔ Extraneous variables
4. ✘ Independent variables

Question Number : 200 Question Id : 9662318438 Question Type : MCQ Option Shuffling : Yes Display Question Number : Yes
Single Line Question Option : No Option Orientation : Vertical

Correct Marks : 1 Wrong Marks : 0.25

अध्ययन चर जो शोधकर्ता के लिए महत्वपूर्ण नहीं है और अनुसंधान का हिस्सा नहीं हैं, पर जो अध्ययन चर पर प्रभाव डाल सकता है उसे क्या कहते हैं?

Options :

1. ✘ गुण चर
2. ✘ निर्भर चर
3. ✔ अत्यधिक चर
4. ✘ स्वतंत्र चर