

Education Consultant India Ltd.

Notations :

- 1.Options shown in green color and with ✓ icon are correct.
- 2.Options shown in red color and with ✖ icon are incorrect.

Question Paper Name:	Lower Division Clerk 25th August 2019 S1
Subject Name:	LOWER DIVISION CLERK
Creation Date:	2019-08-25 15:41:26
Duration:	120
Total Marks:	200
Display Marks:	Yes
Share Answer Key With Delivery Engine:	No
Actual Answer Key:	Yes
Calculator:	None
Magnifying Glass Required?:	No
Ruler Required?:	No
Eraser Required?:	No
Scratch Pad Required?:	No
Rough Sketch/Notepad Required?:	No
Protractor Required?:	No
Show Watermark on Console?:	Yes
Highlighter:	No
Auto Save on Console?:	No

Mental Ability 1

Group Number :	1
Group Id :	545927471
Group Maximum Duration :	0
Group Minimum Duration :	0
Revisit allowed for view? :	No
Revisit allowed for edit? :	No
Break time:	0
Group Marks:	20
Revisit allowed for group Instructions? :	Yes
Maximum Instruction Time:	0
Minimum Instruction Time:	0

Mental Ability 1

Section Id :	545927471
Section Number :	1
Section type :	Online
Mandatory or Optional:	Mandatory
Number of Questions:	20
Number of Questions to be attempted:	20
Section Marks:	20

Display Number Panel: Yes
Group All Questions: No

Sub-Section Number: 1
Sub-Section Id: 545927565
Question Shuffling Allowed : Yes

Question Number : 1 Question Id : 5459279495 Question Type : MCQ Option Shuffling : Yes Display Question Number : Yes
Single Line Question Option : No Option Orientation : Vertical

Correct Marks : 1 Wrong Marks : 0.25

Select the term that will come next in the following series.

ABC, FGH, KLM, PQR, _____

Options :

1. ✓ UVW
2. ✗ TUV
3. ✗ VWX
4. ✗ TUW

Question Number : 1 Question Id : 5459279495 Question Type : MCQ Option Shuffling : Yes Display Question Number : Yes
Single Line Question Option : No Option Orientation : Vertical

Correct Marks : 1 Wrong Marks : 0.25

श्रृंखला में अगला आने वाला पद का चयन का

ABC, FGH, KLM, PQR, _____

Options :

1. ✓ UVW
2. ✗ TUV
3. ✗ VWX
4. ✗ TUW

Question Number : 2 Question Id : 5459279496 Question Type : MCQ Option Shuffling : Yes Display Question Number : Yes
Single Line Question Option : No Option Orientation : Vertical

Correct Marks : 1 Wrong Marks : 0.25

Select the term that will come next in the following series.

A, B, F, O, E, _____

Options :

1. ✓ D
2. ✗ E
3. ✗ F
4. ✗ C

Question Number : 2 Question Id : 5459279496 Question Type : MCQ Option Shuffling : Yes Display Question Number : Yes
Single Line Question Option : No Option Orientation : Vertical

Correct Marks : 1 Wrong Marks : 0.25

श्रृंखला में अगला आने वाला पद का चयन का

A, B, F, O, E, _____

Options :

1. ✓ D
2. ✗ E
3. ✗ F
4. ✗ C

Question Number : 3 Question Id : 5459279497 Question Type : MCQ Option Shuffling : Yes Display Question Number : Yes
Single Line Question Option : No Option Orientation : Vertical

Correct Marks : 1 Wrong Marks : 0.25

Select the term that will come next in the following series.

A1, D4, I9, P16, Y25, J36, _____

Options :

1. ✗ U49
2. ✗ X49
3. ✗ V49
4. ✓ W49

Question Number : 3 Question Id : 5459279497 Question Type : MCQ Option Shuffling : Yes Display Question Number : Yes
Single Line Question Option : No Option Orientation : Vertical

Correct Marks : 1 Wrong Marks : 0.25

श्रृंखला में अगला आने वाला पद का चयन करो

A1, D4, I9, P16, Y25, J36, _____

Options :

1. ✗ U49
2. ✗ X49
3. ✗ V49
4. ✓ W49

Question Number : 4 Question Id : 5459279498 Question Type : MCQ Option Shuffling : Yes Display Question Number : Yes
Single Line Question Option : No Option Orientation : Vertical

Correct Marks : 1 Wrong Marks : 0.25

Out of the given options, three are similar in a certain manner. However, one option is NOT like the other three. Select the option which is different from the rest.

Options :

1. ✗ Bat
2. ✗ Ball
3. ✗ Stumps
4. ✓ Player

Question Number : 4 Question Id : 5459279498 Question Type : MCQ Option Shuffling : Yes Display Question Number : Yes
Single Line Question Option : No Option Orientation : Vertical

Correct Marks : 1 Wrong Marks : 0.25

दिए गए विकल्पों में से, तीन एक निश्चित तरीके से समान हैं। हालाँकि, एक विकल्प अन्य तीन की तरह नहीं है। उस विकल्प का चयन करें जो बाकी से अलग है।

Options :

1. ✗ बल्ला
2. ✗ गेंद
3. ✗ स्टंप

4. ✓ खिलाड़ी

Question Number : 5 Question Id : 5459279499 Question Type : MCQ Option Shuffling : Yes Display Question Number : Yes
Single Line Question Option : No Option Orientation : Vertical

Correct Marks : 1 Wrong Marks : 0.25

In the given options 3 pair of words are similarly related and one pair is differently related. Find the pair which is differently related.

Options :

1. ✗ Bat: Ball
2. ✗ Cup: Saucer
3. ✓ Disk: Floppy
4. ✗ Remote: Battery

Question Number : 5 Question Id : 5459279499 Question Type : MCQ Option Shuffling : Yes Display Question Number : Yes
Single Line Question Option : No Option Orientation : Vertical

Correct Marks : 1 Wrong Marks : 0.25

दिए गए विकल्पों में शब्दों की 3 जोड़ी समान रूप से सम्बंधित हैं, और एक जोड़ी अलग तरह से संबंधित है। उस जोड़ी को ज्ञात करें जो अलग तरह से संबंधित है।

Options :

1. ✗ बल्ला: गेंद
2. ✗ कप: तश्तरी
3. ✓ डिस्क: फ्लॉपी
4. ✗ रिमोट: बैटरी

Question Number : 6 Question Id : 5459279500 Question Type : MCQ Option Shuffling : Yes Display Question Number : Yes
Single Line Question Option : No Option Orientation : Vertical

Correct Marks : 1 Wrong Marks : 0.25

Select the set of words that are analogous to the given set of words.

Drawer : Wardrobe : Room

Options :

1. ✓ Thread : Needle : Machine
2. ✗ Lace : Left Shoe : Right Shoe
3. ✗ Spoon : Fork : Knife
4. ✗ CD: Floppy : Drive

Question Number : 6 Question Id : 5459279500 Question Type : MCQ Option Shuffling : Yes Display Question Number : Yes
Single Line Question Option : No Option Orientation : Vertical

Correct Marks : 1 Wrong Marks : 0.25

उन शब्दों के सेट का चयन करें जो शब्दों के दिए गए सेट के अनुरूप हैं।

दराज : अलमारी : कमरा

Options :

1. ✓ धागा: सुई: मशीन
2. ✗ लेस: बायां जूता : दायां जूता
3. ✗ चम्मच : कांटा : चाकू
4. ✗ सीडी: फ्लॉपी: ड्राइव

Question Number : 7 Question Id : 5459279501 Question Type : MCQ Option Shuffling : Yes Display Question Number : Yes
Single Line Question Option : No Option Orientation : Vertical

Correct Marks : 1 Wrong Marks : 0.25

Find the pair of words that is analogous to the given pair.

Tea : Coffee

Options :

- ✘ Doctor: Medicine
- ✘ Bat: Ball
- ✔ Laptop: Tablet
- ✘ Door: Key

Question Number : 7 Question Id : 5459279501 Question Type : MCQ Option Shuffling : Yes Display Question Number : Yes
Single Line Question Option : No Option Orientation : Vertical

Correct Marks : 1 Wrong Marks : 0.25

उन शब्दों की जोड़ी को ज्ञात करें जो दी गई जोड़ी के अनुरूप है।

चाय : कॉफी

Options :

- ✘ चिकित्सक: दवा
- ✘ बल्ला: गेंद
- ✔ लैपटॉप: टैबलेट
- ✘ दरवाजा : चाबी

Question Number : 8 Question Id : 5459279502 Question Type : MCQ Option Shuffling : Yes Display Question Number : Yes
Single Line Question Option : No Option Orientation : Vertical

Correct Marks : 1 Wrong Marks : 0.25

Which of the given options can be a part of the group to which the given words belong?

Nokia, Samsung, Apple

Options :

- ✘ Galaxy
- ✘ MacBook
- ✘ iPad
- ✔ OnePlus

Question Number : 8 Question Id : 5459279502 Question Type : MCQ Option Shuffling : Yes Display Question Number : Yes
Single Line Question Option : No Option Orientation : Vertical

Correct Marks : 1 Wrong Marks : 0.25

दिए गए विकल्पों में से कौन सा समूह उस समूह का हिस्सा हो सकता है जिसमें दिए गए शब्द हैं?

नोकिया, सैमसंग, एप्पल

Options :

- ✘ आकाशगंगा
- ✘ मैकबुक
- ✘ आईपैड
- ✔ वन प्लस

Question Number : 9 Question Id : 5459279503 Question Type : MCQ Option Shuffling : Yes Display Question Number : Yes
Single Line Question Option : No Option Orientation : Vertical

Correct Marks : 1 Wrong Marks : 0.25

Select the set of words that are analogous to the given set of words.

Tea : Milk : Sugar

Options :

1. ✓ Story : Characters : Plots
2. ✗ Milk : Sugar : Water
3. ✗ Class : Cycles : Students
4. ✗ Maths : Hindi : English

Question Number : 9 Question Id : 5459279503 Question Type : MCQ Option Shuffling : Yes Display Question Number : Yes
Single Line Question Option : No Option Orientation : Vertical

Correct Marks : 1 Wrong Marks : 0.25

उन शब्दों के सेट का चयन करें जो शब्दों के दिए गए सेट के अनुरूप हैं।

चाय : दूध : चीनी

Options :

1. ✓ कहानी : पात्र : भूखंड
2. ✗ दूध : चीनी : पानी
3. ✗ कक्षा : साइकिल : छात्र
4. ✗ गणित : हिंदी : अंग्रेजी

Question Number : 10 Question Id : 5459279504 Question Type : MCQ Option Shuffling : Yes Display Question Number : Yes
Single Line Question Option : No Option Orientation : Vertical

Correct Marks : 1 Wrong Marks : 0.25

In a coding system, 1357 is coded as 2468. In the same system, how is 2468 coded as?

Options :

1. ✓ 3579
2. ✗ 3571
3. ✗ 9357
4. ✗ 1357

Question Number : 10 Question Id : 5459279504 Question Type : MCQ Option Shuffling : Yes Display Question Number : Yes
Single Line Question Option : No Option Orientation : Vertical

Correct Marks : 1 Wrong Marks : 0.25

एक कोडिंग प्रणाली में, 1357 को 2468 के रूप में कोडित किया गया है। उसी प्रणाली में, 2468 को कैसे कोडित जाएगा?

Options :

1. ✓ 3579
2. ✗ 3571
3. ✗ 9357
4. ✗ 1357

Question Number : 11 Question Id : 5459279505 Question Type : MCQ Option Shuffling : Yes Display Question Number : Yes
Single Line Question Option : No Option Orientation : Vertical

Correct Marks : 1 Wrong Marks : 0.25

If in a certain code, BROOM is coded as EURRP, then how is EURRP coded?

Options :

1. ✗ HXUUR
2. ✓ HXUUS
3. ✗ HXVVS

4. ✖ GXUUS

Question Number : 11 Question Id : 5459279505 Question Type : MCQ Option Shuffling : Yes Display Question Number : Yes
Single Line Question Option : No Option Orientation : Vertical

Correct Marks : 1 Wrong Marks : 0.25

यदि एक निश्चित कोड में, BROOM को EURRP के रूप में कोडित किया गया है, तो EURRP को कैसे कोडित किया जाएगा?

Options :

1. ✖ HXUUR

2. ✔ HXUUS

3. ✖ HXVVS

4. ✖ GXUUS

Question Number : 12 Question Id : 5459279506 Question Type : MCQ Option Shuffling : Yes Display Question Number : Yes
Single Line Question Option : No Option Orientation : Vertical

Correct Marks : 1 Wrong Marks : 0.25

If CAT = 60, DART = 1440, then how much is BART equal to?

Options :

1. ✖ 360

2. ✖ 480

3. ✖ 540

4. ✔ 720

Question Number : 12 Question Id : 5459279506 Question Type : MCQ Option Shuffling : Yes Display Question Number : Yes
Single Line Question Option : No Option Orientation : Vertical

Correct Marks : 1 Wrong Marks : 0.25

यदि CAT = 60, DART = 1440 है, तो BART कितने के बराबर है?

Options :

1. ✖ 360

2. ✖ 480

3. ✖ 540

4. ✔ 720

Question Number : 13 Question Id : 5459279507 Question Type : MCQ Option Shuffling : Yes Display Question Number : Yes
Single Line Question Option : No Option Orientation : Vertical

Correct Marks : 1 Wrong Marks : 0.25

X remembers that his mother's birthday falls after August 8th but before August 20th. His sister, Y, remembers that her mother's birthday is after 18th August but before August 28th. When is the mother's birthday?

Note: For this question, discrepancy is found in question/answer. So, this question is ignored for all candidates.

Options :

1. 43695

2. 43696

3. 43697

4. 43698

Question Number : 13 Question Id : 5459279507 Question Type : MCQ Option Shuffling : Yes Display Question Number : Yes
Single Line Question Option : No Option Orientation : Vertical

Correct Marks : 1 Wrong Marks : 0.25

X को याद है कि उसकी माता का जन्मदिन 8 अगस्त के बाद लेकिन 20 अगस्त से पहले पड़ता है उसकी बहन Y को याद है कि उसकी माता का जन्मदिन 18 अगस्त के बाद लेकिन 28 अगस्त से पहले है। माता का जन्मदिन कब है?

Note: For this question, discrepancy is found in question/answer. So, this question is ignored for all candidates.

Options :

1. 18 अगस्त
2. 19 अगस्त
3. 20 अगस्त
4. 21 अगस्त

Question Number : 14 Question Id : 5459279508 Question Type : MCQ Option Shuffling : Yes Display Question Number : Yes Single Line Question Option : No Option Orientation : Vertical

Correct Marks : 1 Wrong Marks : 0.25

According to the examination results of a class, X ranked 11th from the top and 30th from the bottom amongst those who passed the examination. 6 students did not give the examination whereas 4 failed in it. How many students are there in the class?

Options :

1. ✘ 49
2. ✘ 51
3. ✔ 50
4. ✘ 52

Question Number : 14 Question Id : 5459279508 Question Type : MCQ Option Shuffling : Yes Display Question Number : Yes Single Line Question Option : No Option Orientation : Vertical

Correct Marks : 1 Wrong Marks : 0.25

एक कक्षा के परीक्षा परिणामों के अनुसार, परीक्षा में उत्तीर्ण होने वालों में X शीर्ष से 11 वें और नीचे से 30 वें स्थान पर था। 6 छात्रों ने परीक्षा नहीं दी जबकि 4 इसमें असफल रहे। कक्षा में कितने छात्र हैं?

Options :

1. ✘ 49
2. ✘ 51
3. ✔ 50
4. ✘ 52

Question Number : 15 Question Id : 5459279509 Question Type : MCQ Option Shuffling : Yes Display Question Number : Yes Single Line Question Option : No Option Orientation : Vertical

Correct Marks : 1 Wrong Marks : 0.25

A, B, C, D, E and F are 6 people in a meeting. A and D are from Chennai while the others are from Mumbai. B and D are tall while the others are short. B, C and E are males while A, D and F are females. Who is the tall male from Mumbai?

Options :

1. ✘ A
2. ✔ B
3. ✘ C
4. ✘ D

Question Number : 15 Question Id : 5459279509 Question Type : MCQ Option Shuffling : Yes Display Question Number : Yes Single Line Question Option : No Option Orientation : Vertical

Correct Marks : 1 Wrong Marks : 0.25

A, B, C, D, E और F एक बैठक में 6 लोग हैं। A और D चेन्नई से हैं जबकि अन्य मुंबई से हैं। B और D लम्बे हैं जबकि अन्य छोटे हैं। B, C और E पुरुष हैं जबकि A, D और F महिला हैं। मुंबई से लंबा पुरुष कौन है?

Options :

1. ✘ A
2. ✔ B
3. ✘ C
4. ✘ D

Question Number : 16 Question Id : 5459279510 Question Type : MCQ Option Shuffling : Yes Display Question Number : Yes
Single Line Question Option : No Option Orientation : Vertical

Correct Marks : 1 Wrong Marks : 0.25

छह लोग एक बगीचे में बैठे हैं, जिनमें से 3 का मुँह अन्य 3 के सामने है। A, B के उत्तर में बैठा है, जबकि B, C के ठीक पश्चिम में है। E, F की ओर बैठा है, जो C के पूर्व में बैठा है। D, C के किस दिशा में बैठा है?

Options :

1. ✔ उत्तर
2. ✘ दक्षिण
3. ✘ उत्तर-पूर्व
4. ✘ दक्षिण-पश्चिम

Question Number : 16 Question Id : 5459279510 Question Type : MCQ Option Shuffling : Yes Display Question Number : Yes
Single Line Question Option : No Option Orientation : Vertical

Correct Marks : 1 Wrong Marks : 0.25

Six people are sitting in a garden with 3 of them facing the other 3. A is sitting to the north of B whereas B is to the immediate west of C. E sits across F who sits to the east of C. In what direction does D sit with respect to C?

Options :

1. ✔ North
2. ✘ South
3. ✘ North-East
4. ✘ South-West

Question Number : 17 Question Id : 5459279511 Question Type : MCQ Option Shuffling : Yes Display Question Number : Yes
Single Line Question Option : No Option Orientation : Vertical

Correct Marks : 1 Wrong Marks : 0.25

A woman says to another, you are the daughter of my husband' brother's mother's husband. How are the women related?

Options :

1. ✘ Sister
2. ✘ Aunt
3. ✘ Daughter
4. ✔ Sister-in-law

Question Number : 17 Question Id : 5459279511 Question Type : MCQ Option Shuffling : Yes Display Question Number : Yes
Single Line Question Option : No Option Orientation : Vertical

Correct Marks : 1 Wrong Marks : 0.25

एक महिला दूसरे से कहती है, तुम मेरे पति के भाई की माता के पति की बेटी हो। महिलाओं में कौन-सा रिश्ता है?

Options :

1. ✘ बहन
2. ✘ चाची/मौसी
3. ✘ बेटी
4. ✔ ननद

Question Number : 18 Question Id : 5459279512 Question Type : MCQ Option Shuffling : Yes Display Question Number : Yes
Single Line Question Option : No Option Orientation : Vertical

Correct Marks : 1 Wrong Marks : 0.25

The statements below are followed by two conclusions labelled I and II . Assuming that the information in the statements is true, even if it appears to be at variance with reality, decide which conclusion(s) logically and definitely follow(s) from the information given in the statements.

Statements:

All pencils are pens.

Some erasers are pencils.

Conclusions:

I. Some erasers are pens.

II. Some pens are erasers.

Options :

- ✘ Only conclusion I follows.
- ✘ Only conclusion II follows.
- ✔ Both conclusions I and II follow.
- ✘ Neither conclusion I or II follows.

Question Number : 18 Question Id : 5459279512 Question Type : MCQ Option Shuffling : Yes Display Question Number : Yes
Single Line Question Option : No Option Orientation : Vertical

Correct Marks : 1 Wrong Marks : 0.25

नीचे दिए गए कथनों में I और II के दो निष्कर्ष लेबल किए गए हैं। यह मानते हुए कि कथनों में दी गई जानकारी सत्य है, भले ही वह वास्तविकता से अलग प्रतीत हों, निर्णय लें कि कौन-सा निष्कर्ष तार्किक रूप से दिया गया है और निश्चित रूप से कथनों में दी गई जानकारी का अनुसरण करता है।

कथन:

सभी पेंसिल पेन हैं।

कुछ रबड़ पेंसिल हैं।

निष्कर्ष:

I. कुछ रबड़ पेन हैं।

II. कुछ पेन रबड़ हैं।

Options :

- ✘ केवल निष्कर्ष I अनुसरण करता है।
- ✘ केवल निष्कर्ष II अनुसरण करता है।
- ✔ दोनों निष्कर्ष I और II अनुसरण करते हैं।
- ✘ न तो निष्कर्ष I या II अनुसरण करते हैं।

Question Number : 19 Question Id : 5459279513 Question Type : MCQ Option Shuffling : Yes Display Question Number : Yes
Single Line Question Option : No Option Orientation : Vertical

Correct Marks : 1 Wrong Marks : 0.25

The statements below are followed by two assumptions labelled I and II . Assuming that the information in the statements is true, even if it appears to be at variance with reality, decide which assumption(s) logically and definitely valid from the information given in the statements.

Statements:

Some water is polluted.

Pollution is caused by dirt.

Assumptions:

I. People throw dirt in the water.

II. Factories release dirt in the water.

Options :

- ✘ Only assumption I is valid

2. ✘ Only assumption II is valid
3. ✔ Both assumptions are valid
4. ✘ Neither assumptions are valid

Question Number : 19 Question Id : 5459279513 Question Type : MCQ Option Shuffling : Yes Display Question Number : Yes
Single Line Question Option : No Option Orientation : Vertical

Correct Marks : 1 Wrong Marks : 0.25

नीचे दिए गए कथनों में I और II लेबल वाली दो धारणाएं हैं। यह मानते हुए कि कथनों में दी गई जानकारी सत्य है, भले ही वह वास्तविकता से अलग प्रतीत हो, निर्णय लें कि कथन में दी गई जानकारी तार्किक रूप से और निश्चित रूप से मान्य है।

कथन:

कुछ पानी प्रदूषित है
प्रदूषण गंदगी के कारण होता है।

धारणाएं:

- I. लोग पानी में गंदगी फेंकते हैं।
- II. फैक्ट्रियां पानी में गंदगी छोड़ती हैं।

Options :

1. ✘ केवल धारणा I मान्य है
2. ✘ केवल धारणा II मान्य है
3. ✔ दोनों धारणाएं मान्य हैं
4. ✘ कोई भी धारणाएं नहीं मान्य हैं

Question Number : 20 Question Id : 5459279514 Question Type : MCQ Option Shuffling : Yes Display Question Number : Yes
Single Line Question Option : No Option Orientation : Vertical

Correct Marks : 1 Wrong Marks : 0.25

Which two signs should be interchanged to make the below equation mathematically correct?

$$18 \times 6 \div 9 + 3 - 25 = 5$$

Options :

1. ✘ $\times, +$
2. ✔ \times, \div
3. ✘ $+, \div$
4. ✘ $-, +$

Question Number : 20 Question Id : 5459279514 Question Type : MCQ Option Shuffling : Yes Display Question Number : Yes
Single Line Question Option : No Option Orientation : Vertical

Correct Marks : 1 Wrong Marks : 0.25

नीचे दिए गए समीकरण को गणितीय रूप से सही बनाने के लिए, किन दो चिन्हों को परस्पर स्थानांतरित करना चाहिए?

$$18 \times 6 \div 9 + 3 - 25 = 5$$

Options :

1. ✘ $\times, +$
2. ✔ \times, \div
3. ✘ $+, \div$
4. ✘ $-, +$

Group Maximum Duration :	0
Group Minimum Duration :	0
Revisit allowed for view? :	No
Revisit allowed for edit? :	No
Break time:	0
Group Marks:	20
Revisit allowed for group Instructions? :	Yes
Maximum Instruction Time:	0
Minimum Instruction Time:	0

Mental Ability2

Section Id :	545927472
Section Number :	1
Section type :	Online
Mandatory or Optional:	Mandatory
Number of Questions:	20
Number of Questions to be attempted:	20
Section Marks:	20
Display Number Panel:	Yes
Group All Questions:	No

Sub-Section Number:	1
Sub-Section Id:	545927566
Question Shuffling Allowed :	Yes

Question Number : 21 Question Id : 5459279515 Question Type : MCQ Option Shuffling : Yes Display Question Number : Yes
Single Line Question Option : No Option Orientation : Vertical

Correct Marks : 1 Wrong Marks : 0.25

Complete the following number series?

10000, 2000, 800, 480, 384, 384, _____

Options :

1. ✓ 460.8
2. ✗ 440.8
3. ✗ 450.8
4. ✗ 484

Question Number : 21 Question Id : 5459279515 Question Type : MCQ Option Shuffling : Yes Display Question Number : Yes
Single Line Question Option : No Option Orientation : Vertical

Correct Marks : 1 Wrong Marks : 0.25

निम्नलिखित संख्या श्रृंखला को पूरा करें

10000, 2000, 800, 480, 384, 384, _____

Options :

1. ✓ 460.8
2. ✗ 440.8
3. ✗ 450.8
4. ✗ 484

Question Number : 22 Question Id : 5459279516 Question Type : MCQ Option Shuffling : Yes Display Question Number : Yes
Single Line Question Option : No Option Orientation : Vertical

Correct Marks : 1 Wrong Marks : 0.25

Which of the numbers should be interchanged so as to make the equation correct?

$$49 \times 7 \div 14 + 25 - 27 = 0$$

Options :

1. ✓ 14, 49
2. ✗ 25, 27
3. ✗ 25, 49
4. ✗ 27, 14

Question Number : 22 Question Id : 5459279516 Question Type : MCQ Option Shuffling : Yes Display Question Number : Yes
Single Line Question Option : No Option Orientation : Vertical

Correct Marks : 1 Wrong Marks : 0.25

समीकरण को सही बनाने के लिए किन संख्याओं को परस्पर स्थानांतरित करना चाहिए।

$$49 \times 7 \div 14 + 25 - 27 = 0$$

Options :

1. ✓ 14, 49
2. ✗ 25, 27
3. ✗ 25, 49
4. ✗ 27, 14

Question Number : 23 Question Id : 5459279517 Question Type : MCQ Option Shuffling : Yes Display Question Number : Yes
Single Line Question Option : No Option Orientation : Vertical

Correct Marks : 1 Wrong Marks : 0.25

Out of the given options, three are similar in a certain manner. However, one option is NOT like the other three. Select the option which is different from the rest.

Options :

1. ✗ 125
2. ✓ 216
3. ✗ 343
4. ✗ 8

Question Number : 23 Question Id : 5459279517 Question Type : MCQ Option Shuffling : Yes Display Question Number : Yes
Single Line Question Option : No Option Orientation : Vertical

Correct Marks : 1 Wrong Marks : 0.25

दिए गए विकल्पों में से, तीन एक निश्चित तरीके से समान हैं। हालाँकि, एक विकल्प अन्य तीन की तरह नहीं है। उस विकल्प का चयन करें जो बाकी से अलग है।

Options :

1. ✗ 125
2. ✓ 216
3. ✗ 343
4. ✗ 8

Question Number : 24 Question Id : 5459279518 Question Type : MCQ Option Shuffling : Yes Display Question Number : Yes
Single Line Question Option : No Option Orientation : Vertical

Correct Marks : 1 Wrong Marks : 0.25

Find the incorrect term in the following series:

10, 10, 10, 20, 60, 240, 2400, 31200

Options :

1. ✘ 20
2. ✘ 60
3. ✔ 240
4. ✘ 31200

Question Number : 24 Question Id : 5459279518 Question Type : MCQ Option Shuffling : Yes Display Question Number : Yes
Single Line Question Option : No Option Orientation : Vertical

Correct Marks : 1 Wrong Marks : 0.25

निम्नलिखित श्रृंखला में गलत पद ज्ञात करें

10, 10, 10, 20, 60, 240, 2400, 31200

Options :

1. ✘ 20
2. ✘ 60
3. ✔ 240
4. ✘ 31200

Question Number : 25 Question Id : 5459279519 Question Type : MCQ Option Shuffling : Yes Display Question Number : Yes
Single Line Question Option : No Option Orientation : Vertical

Correct Marks : 1 Wrong Marks : 0.25

Out of the given number pairs, three are similar in a certain manner. However, one pair is NOT like the other three. Select the pair which is different from the rest.

Options :

1. ✘ 64:512
2. ✘ 25:125
3. ✔ 49:280
4. ✘ 0.39375

Question Number : 25 Question Id : 5459279519 Question Type : MCQ Option Shuffling : Yes Display Question Number : Yes
Single Line Question Option : No Option Orientation : Vertical

Correct Marks : 1 Wrong Marks : 0.25

दिए गए संख्या जोड़ियों में से, तीन एक निश्चित तरीके से समान हैं। हालाँकि, एक जोड़ी अन्य तीन की तरह नहीं है। उस जोड़ी का चयन करें जो बाकियों से अलग है।

Options :

1. ✘ 64:512
2. ✘ 25:125
3. ✔ 49:280
4. ✘ 0.39375

Question Number : 26 Question Id : 5459279520 Question Type : MCQ Option Shuffling : Yes Display Question Number : Yes
Single Line Question Option : No Option Orientation : Vertical

Correct Marks : 1 Wrong Marks : 0.25

Choose the option that relates to the third term in the same way as the second term relates to the first term.

21 : 28 :: 42 : ?

Options :

- ✘ 49
- ✔ 56
- ✘ 63
- ✘ 35

Question Number : 26 Question Id : 5459279520 Question Type : MCQ Option Shuffling : Yes Display Question Number : Yes
Single Line Question Option : No Option Orientation : Vertical

Correct Marks : 1 Wrong Marks : 0.25

उस विकल्प का चयन करें जो तीसरे पद से उसी प्रकार से संबंधित है जिस प्रकार से पहला पद दुसरे पद से संबंधित है

21 : 28 :: 42 : ?

Options :

- ✘ 49
- ✔ 56
- ✘ 63
- ✘ 35

Question Number : 27 Question Id : 5459279521 Question Type : MCQ Option Shuffling : Yes Display Question Number : Yes
Single Line Question Option : No Option Orientation : Vertical

Correct Marks : 1 Wrong Marks : 0.25

Find the set of numbers that is similar to the given set.

(5, 25, 75)

Options :

- ✔ (4, 16, 48)
- ✘ (8, 32, 64)
- ✘ (4, 16, 64)
- ✘ (8, 64, 96)

Question Number : 27 Question Id : 5459279521 Question Type : MCQ Option Shuffling : Yes Display Question Number : Yes
Single Line Question Option : No Option Orientation : Vertical

Correct Marks : 1 Wrong Marks : 0.25

उन संख्याओं के समूह को ज्ञात करें जो दिए गए सेट के समान है

(5, 25, 75)

Options :

- ✔ (4, 16, 48)
- ✘ (8, 32, 64)
- ✘ (4, 16, 64)
- ✘ (8, 64, 96)

Question Number : 28 Question Id : 5459279522 Question Type : MCQ Option Shuffling : Yes Display Question Number : Yes
Single Line Question Option : No Option Orientation : Vertical

Correct Marks : 1 Wrong Marks : 0.25

Choose the option that can appropriately replace the '?'.

$$3^3 + 4^3 + 5^3 ? 6^3$$

Options :

- ✘ >
- ✘ <

3. ✓ =

4. ✗

Question Number : 28 Question Id : 5459279522 Question Type : MCQ Option Shuffling : Yes Display Question Number : Yes
Single Line Question Option : No Option Orientation : Vertical

Correct Marks : 1 Wrong Marks : 0.25

उस विकल्प का चयन करें जो उचित रूप से '?' की जगह ले सके।

$$3^3 + 4^3 + 5^3 ? 6^3$$

Options :

1. ✗ >

2. ✗ <

3. ✓ =

4. ✗

Question Number : 29 Question Id : 5459279523 Question Type : MCQ Option Shuffling : Yes Display Question Number : Yes
Single Line Question Option : No Option Orientation : Vertical

Correct Marks : 1 Wrong Marks : 0.25

Find the missing term in the following series:

2, 4, 12, ?, 240, 1440, 10080

Options :

1. ✗ 30

2. ✗ 36

3. ✗ 54

4. ✓ 48

Question Number : 29 Question Id : 5459279523 Question Type : MCQ Option Shuffling : Yes Display Question Number : Yes
Single Line Question Option : No Option Orientation : Vertical

Correct Marks : 1 Wrong Marks : 0.25

निम्नलिखित श्रृंखला में लुप्त पद को ज्ञात करें।

2, 4, 12, ?, 240, 1440, 10080

Options :

1. ✗ 30

2. ✗ 36

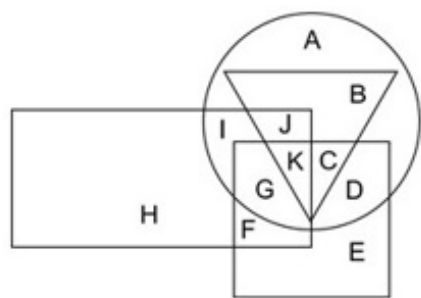
3. ✗ 54

4. ✓ 48

Question Number : 30 Question Id : 5459279524 Question Type : MCQ Option Shuffling : Yes Display Question Number : Yes
Single Line Question Option : No Option Orientation : Vertical

Correct Marks : 1 Wrong Marks : 0.25

In the following figure, triangle represents chef, square represents fathers, circle represents poets and rectangle represents Americans. Which set of letters represents fathers who are poets?



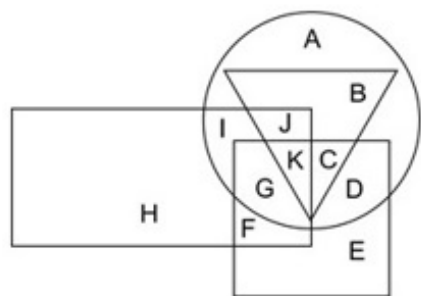
Options :

1. ✓ GKCD
2. ✗ JBKC
3. ✗ IJJK
4. ✗ FGK

Question Number : 30 Question Id : 5459279524 Question Type : MCQ Option Shuffling : Yes Display Question Number : Yes Single Line Question Option : No Option Orientation : Vertical

Correct Marks : 1 Wrong Marks : 0.25

निम्नलिखित आकृति में, त्रिकोण शेफ को दर्शाता है, वर्ग पिता को दर्शाता है, वृत्त कवियों को दर्शाता है और आयत अमेरिकियों को दर्शाता है। अक्षरों का कौन सा सेट पिता को दर्शाता है जो कवि हैं?



Options :

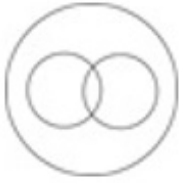
1. ✓ GKCD
2. ✗ JBKC
3. ✗ IJJK
4. ✗ FGK

Question Number : 31 Question Id : 5459279525 Question Type : MCQ Option Shuffling : Yes Display Question Number : Yes Single Line Question Option : No Option Orientation : Vertical

Correct Marks : 1 Wrong Marks : 0.25

Which of the following Venn diagrams best represents the relationship between Rose, flowers and Lily?

Options :



1. ✘



2. ✔



3. ✘



4. ✘

Question Number : 31 Question Id : 5459279525 Question Type : MCQ Option Shuffling : Yes Display Question Number : Yes
Single Line Question Option : No Option Orientation : Vertical

Correct Marks : 1 Wrong Marks : 0.25

निम्न में से कौन सा वेन आरेख गुलाब, फूल और लिली के बीच के संबंध को सबसे अच्छा दर्शाता है?

Options :



1. ✘



2. ✔



3. ✘



4. ✘

Question Number : 32 Question Id : 5459279526 Question Type : MCQ Option Shuffling : Yes Display Question Number : Yes
Single Line Question Option : No Option Orientation : Vertical

Correct Marks : 1 Wrong Marks : 0.25

A man walks 50 m North, 30 m East and 50 m South. Lastly he walks 20 m West. In which direction is he from the starting point?

Options :

1. ✘ North
2. ✔ East
3. ✘ North-East
4. ✘ South-West

Question Number : 32 Question Id : 5459279526 Question Type : MCQ Option Shuffling : Yes Display Question Number : Yes
Single Line Question Option : No Option Orientation : Vertical

Correct Marks : 1 Wrong Marks : 0.25

एक आदमी 50 m उत्तर, 30 m पूर्व और 50 m दक्षिण में चलता है। अंत में वह 20 m पश्चिम में चलता है। वह शुरुआती बिंदु के संदर्भ में किस दिशा में है?

Options :

1. ✘ उत्तर
2. ✔ पूर्व
3. ✘ उत्तर-पूर्व
4. ✘ दक्षिण-पश्चिम

Question Number : 33 Question Id : 5459279527 Question Type : MCQ Option Shuffling : Yes Display Question Number : Yes
Single Line Question Option : No Option Orientation : Vertical

Correct Marks : 1 Wrong Marks : 0.25

In search of a treasure, a man roams around on an island. He starts by walking East for 8 kms and then goes South for 6 kms. There he finds the treasure and wants to go back to his starting point. What is the shortest distance he should cover to reach the starting point?

Options :

1. ✘ 6 km
2. ✔ 10 km
3. ✘ 8 km
4. ✘ 14 km

Question Number : 33 Question Id : 5459279527 Question Type : MCQ Option Shuffling : Yes Display Question Number : Yes
Single Line Question Option : No Option Orientation : Vertical

Correct Marks : 1 Wrong Marks : 0.25

खजाने की खोज में, एक व्यक्ति एक द्वीप पर घूमता रहता है। वह शुरू में 8 km पूर्व की ओर चलता है और फिर 6 km दक्षिण की ओर जाता है। वहाँ उसे खजाना मिलता है और वह अपने शुरुआती बिंदु पर वापस जाना चाहता है। शुरुआती बिंदु तक पहुंचने के लिए उसे सबसे कम कितनी दूरी तय करनी चाहिए?

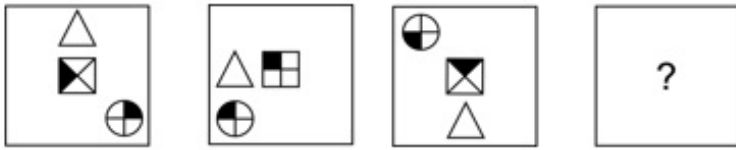
Options :

- ✘ 6 km
- ✔ 10 km
- ✘ 8 km
- ✘ 14 km

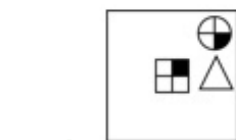
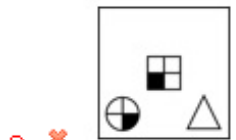
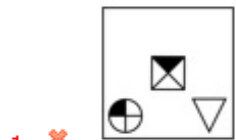
Question Number : 34 Question Id : 5459279528 Question Type : MCQ Option Shuffling : Yes Display Question Number : Yes Single Line Question Option : No Option Orientation : Vertical

Correct Marks : 1 Wrong Marks : 0.25

Choose the option which completes the series given in the question figure.



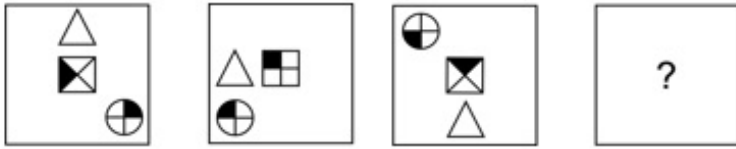
Options :



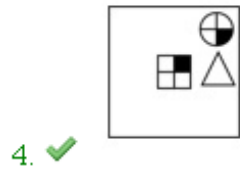
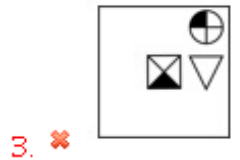
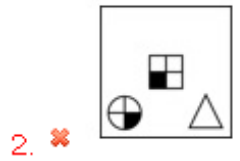
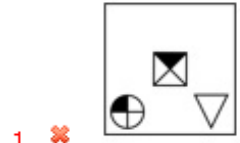
Question Number : 34 Question Id : 5459279528 Question Type : MCQ Option Shuffling : Yes Display Question Number : Yes Single Line Question Option : No Option Orientation : Vertical

Correct Marks : 1 Wrong Marks : 0.25

वह विकल्प चुनें जो प्रश्न आकृति में दी गई श्रृंखला को पूरा करती है।



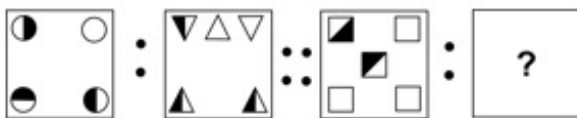
Options :



Question Number : 35 Question Id : 5459279529 Question Type : MCQ Option Shuffling : Yes Display Question Number : Yes Single Line Question Option : No Option Orientation : Vertical

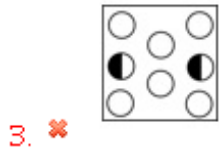
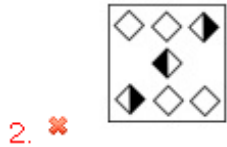
Correct Marks : 1 Wrong Marks : 0.25

Select the image that is related to the third image on the same basis as the second image is related to the first image.



Options :

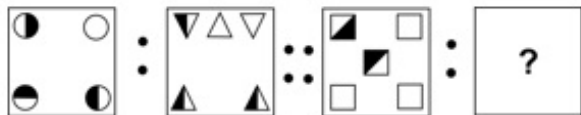




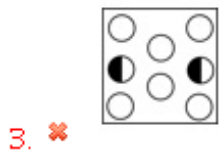
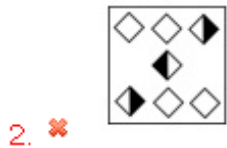
Question Number : 35 Question Id : 5459279529 Question Type : MCQ Option Shuffling : Yes Display Question Number : Yes
 Single Line Question Option : No Option Orientation : Vertical

Correct Marks : 1 Wrong Marks : 0.25

उस छवि का चयन करें जो तीसरी छवि से उसी प्रकार से संबंधित है जिस प्रकार से पहली छवि दूसरी छवि से संबंधित है।



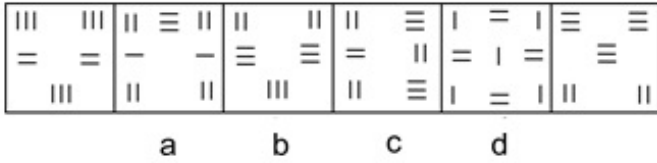
Options :



Question Number : 36 Question Id : 5459279530 Question Type : MCQ Option Shuffling : Yes Display Question Number : Yes
 Single Line Question Option : No Option Orientation : Vertical

Correct Marks : 1 Wrong Marks : 0.25

A figure series of 6 parts is given. Out these 4 parts are labelled A,B, C and D. One of these 4 parts is incorrect. Find the incorrect part.



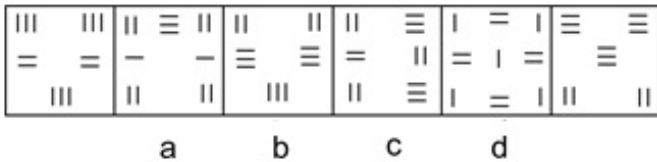
Options :

1. ✘ A
2. ✘ B
3. ✔ C
4. ✘ D

Question Number : 36 Question Id : 5459279530 Question Type : MCQ Option Shuffling : Yes Display Question Number : Yes Single Line Question Option : No Option Orientation : Vertical

Correct Marks : 1 Wrong Marks : 0.25

6 भागों की एक आकृति श्रृंखला दी गई है इन 4 भागों में से A, B, C और D को लेबल किया गया है इन 4 भागों में से एक गलत है गलत भाग को ज्ञात करें



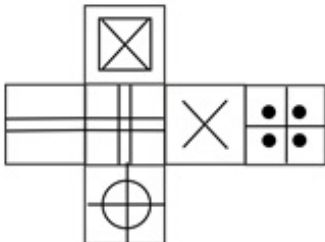
Options :

1. ✘ A
2. ✘ B
3. ✔ C
4. ✘ D

Question Number : 37 Question Id : 5459279531 Question Type : MCQ Option Shuffling : Yes Display Question Number : Yes Single Line Question Option : No Option Orientation : Vertical

Correct Marks : 1 Wrong Marks : 0.25

Which of the following cubes in the answer figure CANNOT be made based on the unfolded cube in the question figure?



Options :



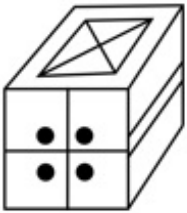
1. ✓



2. ✗



3. ✗

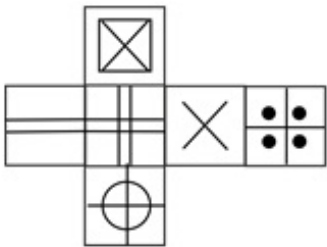


4. ✗

Question Number : 37 Question Id : 5459279531 Question Type : MCQ Option Shuffling : Yes Display Question Number : Yes Single Line Question Option : No Option Orientation : Vertical

Correct Marks : 1 Wrong Marks : 0.25

उत्तर आकृति में किस घन को प्रश्न आकृति में प्रकट घन के आधार पर नहीं बनाया जा सकता है?



Options :



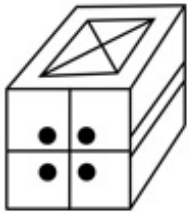
1. ✓



2. ✘



3. ✘

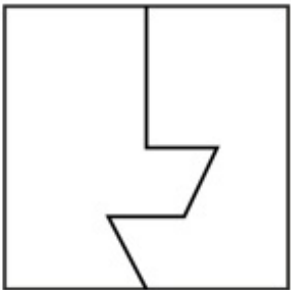


4. ✘

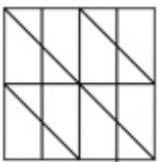
Question Number : 38 Question Id : 5459279532 Question Type : MCQ Option Shuffling : Yes Display Question Number : Yes Single Line Question Option : No Option Orientation : Vertical

Correct Marks : 1 Wrong Marks : 0.25

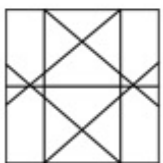
From the given answer figures, select the one in which the question figure is hidden/embedded.



Options :

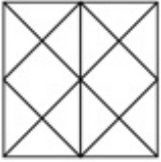


1. ✘

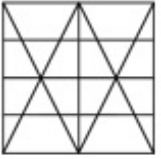


2. ✘

3. ✘



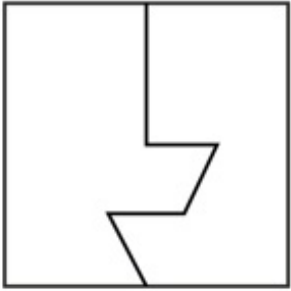
4. ✔



Question Number : 38 Question Id : 5459279532 Question Type : MCQ Option Shuffling : Yes Display Question Number : Yes
Single Line Question Option : No Option Orientation : Vertical

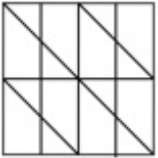
Correct Marks : 1 Wrong Marks : 0.25

दी गई उत्तर आकृतियों में से, उस एक का चयन करें जिसमें प्रश्न आकृति निहित है

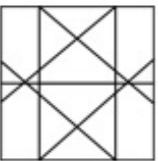


Options :

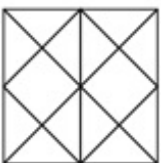
1. ✘



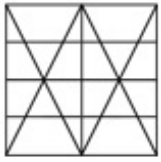
2. ✘



3. ✘



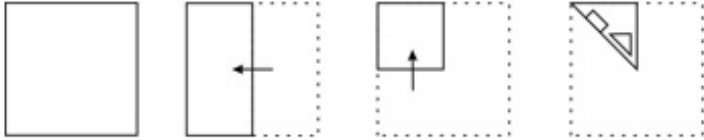
4. ✓



Question Number : 39 Question Id : 5459279533 Question Type : MCQ Option Shuffling : Yes Display Question Number : Yes Single Line Question Option : No Option Orientation : Vertical

Correct Marks : 1 Wrong Marks : 0.25

A piece of paper is folded and punched as shown below in the question figures. From the given answer figures, indicate how it will appear when opened.

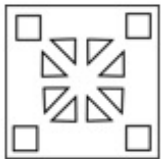


Options :

1. ✓



2. ✗



3. ✗



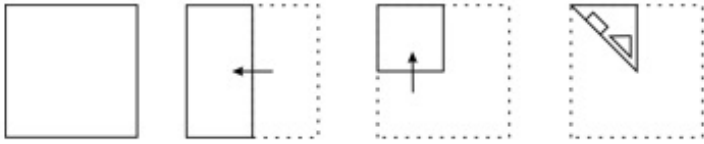
4. ✗



Question Number : 39 Question Id : 5459279533 Question Type : MCQ Option Shuffling : Yes Display Question Number : Yes Single Line Question Option : No Option Orientation : Vertical

Correct Marks : 1 Wrong Marks : 0.25

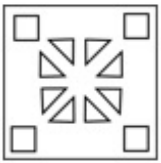
प्रश्न आकृति में नीचे दिखाए अनुसार पेपर के टुकड़े को मोड़कर उसमें छेद किए गए हैं। दी गई उत्तर आकृतियों से, इंगित करें कि इसे खोले जाने पर यह कैसा दिखाई देगा।



Options :



1. ✓



2. ✗



3. ✗

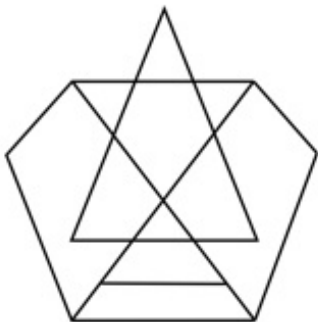


4. ✗

Question Number : 40 Question Id : 5459279534 Question Type : MCQ Option Shuffling : Yes Display Question Number : Yes
Single Line Question Option : No Option Orientation : Vertical

Correct Marks : 1 Wrong Marks : 0.25

What is the minimum number of straight lines required to draw the given figure?



Options :

1. ✘ 9
2. ✘ 10
3. ✘ 11
4. ✔ 12

Question Number : 40 Question Id : 5459279534 Question Type : MCQ Option Shuffling : Yes Display Question Number : Yes
Single Line Question Option : No Option Orientation : Vertical

Correct Marks : 1 Wrong Marks : 0.25

दी गई आकृति को बनाने के लिए आवश्यक सीधी रेखाओं की न्यूनतम संख्या क्या है?



Options :

1. ✘ 9
2. ✘ 10
3. ✘ 11
4. ✔ 12

General Awareness1

Group Number :	3
Group Id :	545927473
Group Maximum Duration :	0
Group Minimum Duration :	0
Revisit allowed for view? :	No
Revisit allowed for edit? :	No
Break time:	0
Group Marks:	20
Revisit allowed for group Instructions? :	Yes
Maximum Instruction Time:	0
Minimum Instruction Time:	0

General Awareness1

Section Id :	545927473
Section Number :	1
Section type :	Online
Mandatory or Optional:	Mandatory
Number of Questions:	20
Number of Questions to be attempted:	20
Section Marks:	20
Display Number Panel:	Yes

Group All Questions:

No

Sub-Section Number:

1

Sub-Section Id:

545927567

Question Shuffling Allowed :

Yes

Question Number : 41 Question Id : 5459279535 Question Type : MCQ Option Shuffling : Yes Display Question Number : Yes
Single Line Question Option : No Option Orientation : Vertical

Correct Marks : 1 Wrong Marks : 0.25

Keisabadi is a popular dance form of _____.

Options :

1. ✘ Gujarat

2. ✔ Odisha

3. ✘ Maharashtra

4. ✘ Kerala

Question Number : 41 Question Id : 5459279535 Question Type : MCQ Option Shuffling : Yes Display Question Number : Yes
Single Line Question Option : No Option Orientation : Vertical

Correct Marks : 1 Wrong Marks : 0.25

कीसाबादी _____ का एक लोकप्रिय नृत्य रूप है।

Options :

1. ✘ गुजरात

2. ✔ ओडिशा

3. ✘ महाराष्ट्र

4. ✘ केरल

Question Number : 42 Question Id : 5459279536 Question Type : MCQ Option Shuffling : Yes Display Question Number : Yes
Single Line Question Option : No Option Orientation : Vertical

Correct Marks : 1 Wrong Marks : 0.25

_____ is a song used to mourn the death of the loved ones.

Options :

1. ✔ Banvarh

2. ✘ Deknni

3. ✘ Fughri

4. ✘ Mando

Question Number : 42 Question Id : 5459279536 Question Type : MCQ Option Shuffling : Yes Display Question Number : Yes
Single Line Question Option : No Option Orientation : Vertical

Correct Marks : 1 Wrong Marks : 0.25

_____ एक गीत है जो प्रियजनों की मृत्यु पर शोक व्यक्त करने के लिए गाया जाता है।

Options :

1. ✔ बनवारह

2. ✘ देकणी

3. ✘ फुगरी

4. ✘ मांडो

Question Number : 43 Question Id : 5459279537 Question Type : MCQ Option Shuffling : Yes Display Question Number : Yes
Single Line Question Option : No Option Orientation : Vertical

Correct Marks : 1 Wrong Marks : 0.25

Mahabalipuram Rathas is situated along the shores of the _____.

Options :

1. ✘ Atlantic Ocean
2. ✘ Arabian Sea
3. ✘ Indian Ocean
4. ✔ Bay of Bengal

Question Number : 43 Question Id : 5459279537 Question Type : MCQ Option Shuffling : Yes Display Question Number : Yes
Single Line Question Option : No Option Orientation : Vertical

Correct Marks : 1 Wrong Marks : 0.25

महाबलीपुरम रथ _____ के किनारे पर स्थित है।

Options :

1. ✘ अटलांटिक महासागर
2. ✘ अरब सागर
3. ✘ हिंद महासागर
4. ✔ बंगाल की खाड़ी

Question Number : 44 Question Id : 5459279538 Question Type : MCQ Option Shuffling : Yes Display Question Number : Yes
Single Line Question Option : No Option Orientation : Vertical

Correct Marks : 1 Wrong Marks : 0.25

Hornbill festival is celebrated from _____.

Options :

1. ✔ 1st December
2. ✘ 1st November
3. ✘ 12th December
4. ✘ 15th November

Question Number : 44 Question Id : 5459279538 Question Type : MCQ Option Shuffling : Yes Display Question Number : Yes
Single Line Question Option : No Option Orientation : Vertical

Correct Marks : 1 Wrong Marks : 0.25

हॉर्नबिल त्यौहार _____ से मनाया जाता है।

Options :

1. ✔ 1 दिसंबर
2. ✘ 1 नवंबर
3. ✘ 12 दिसंबर
4. ✘ 15 नवंबर

Question Number : 45 Question Id : 5459279539 Question Type : MCQ Option Shuffling : Yes Display Question Number : Yes
Single Line Question Option : No Option Orientation : Vertical

Correct Marks : 1 Wrong Marks : 0.25

_____ measures the market value of all final goods and services produced by a country's citizens or residents.

Options :

1. ✔ Gross National Product
2. ✘ Gross Domestic Product
3. ✘ Net National Product
4. ✘ Net Domestic Product

Question Number : 45 Question Id : 5459279539 Question Type : MCQ Option Shuffling : Yes Display Question Number : Yes
Single Line Question Option : No Option Orientation : Vertical

Correct Marks : 1 Wrong Marks : 0.25

देश के नागरिकों या निवासियों द्वारा उत्पादित सभी अंतिम वस्तुओं और सेवाओं के बाजार मूल्य को मापता है

Options :

- ✓ सकल राष्ट्रीय उत्पाद
- ✗ सकल घरेलू उत्पाद
- ✗ निवल राष्ट्रीय उत्पाद
- ✗ निवल देशीय उत्पाद

Question Number : 46 Question Id : 5459279540 Question Type : MCQ Option Shuffling : Yes Display Question Number : Yes
Single Line Question Option : No Option Orientation : Vertical

Correct Marks : 1 Wrong Marks : 0.25

CAR stands for _____.

Options :

- ✓ Capital Adequacy Ratio
- ✗ Credit Adequacy ratio
- ✗ Cash Adequacy Ratio
- ✗ Core Adequacy Ratio

Question Number : 46 Question Id : 5459279540 Question Type : MCQ Option Shuffling : Yes Display Question Number : Yes
Single Line Question Option : No Option Orientation : Vertical

Correct Marks : 1 Wrong Marks : 0.25

CAR का संक्षिप्तकरण _____ है

Options :

- ✓ कैपिटल एडीकुएसी रेश्यो
- ✗ क्रेडिट एडीकुएसी रेश्यो
- ✗ कैश एडीकुएसी रेश्यो
- ✗ कोर एडीकुएसी रेश्यो

Question Number : 47 Question Id : 5459279541 Question Type : MCQ Option Shuffling : Yes Display Question Number : Yes
Single Line Question Option : No Option Orientation : Vertical

Correct Marks : 1 Wrong Marks : 0.25

Who presented the Interim Budget of 2019-20?

Options :

- ✗ Shanmukham Chetty
- ✗ Amit Shah
- ✓ Piyush Goyal
- ✗ Arun Jaitley

Question Number : 47 Question Id : 5459279541 Question Type : MCQ Option Shuffling : Yes Display Question Number : Yes
Single Line Question Option : No Option Orientation : Vertical

Correct Marks : 1 Wrong Marks : 0.25

2019-20 के अंतरिम बजट को किसने प्रस्तुत किया?

Options :

- ✗ शनमुखम चेट्टी
- ✗ अमित शाह
- ✓ पीयूष गोयल

4. ✖ अरुण जेटली

Question Number : 48 Question Id : 5459279542 Question Type : MCQ Option Shuffling : Yes Display Question Number : Yes
Single Line Question Option : No Option Orientation : Vertical

Correct Marks : 1 Wrong Marks : 0.25

The SI unit of electric current is _____.

Options :

1. ✖ kelvin
2. ✖ candela
3. ✖ mole
4. ✔ ampere

Question Number : 48 Question Id : 5459279542 Question Type : MCQ Option Shuffling : Yes Display Question Number : Yes
Single Line Question Option : No Option Orientation : Vertical

Correct Marks : 1 Wrong Marks : 0.25

विद्युत धारा की SI इकाई _____ है।

Options :

1. ✖ केल्विन
2. ✖ कैडिला
3. ✖ मोल
4. ✔ एम्पियर

Question Number : 49 Question Id : 5459279543 Question Type : MCQ Option Shuffling : Yes Display Question Number : Yes
Single Line Question Option : No Option Orientation : Vertical

Correct Marks : 1 Wrong Marks : 0.25

_____ is a non-prescription drug used for relief from acid indigestion and heartburn.

Options :

1. ✖ Aspirin
2. ✖ Sodium Chloride
3. ✔ Calcium Carbonate
4. ✖ Sodium Carbonate

Question Number : 49 Question Id : 5459279543 Question Type : MCQ Option Shuffling : Yes Display Question Number : Yes
Single Line Question Option : No Option Orientation : Vertical

Correct Marks : 1 Wrong Marks : 0.25

_____ एक गैर पर्से की दवा है जिसका उपयोग अम्ल अपच और दिल की जलन से राहत के लिए किया जाता है।

Options :

1. ✖ एस्पिरिन
2. ✖ सोडियम क्लोराइड
3. ✔ कैल्सियम कार्बोनेट
4. ✖ सोडियम कार्बोनेट

Question Number : 50 Question Id : 5459279544 Question Type : MCQ Option Shuffling : Yes Display Question Number : Yes
Single Line Question Option : No Option Orientation : Vertical

Correct Marks : 1 Wrong Marks : 0.25

At the district level, _____ Committee has been constituted to monitor Swachh Bharat mission (Urban) activities.

Options :

1. ✔ District Level Review and Monitoring

- ✘ District High Powered
- ✘ Designated Urban Local
- ✘ District Project Management

Question Number : 50 Question Id : 5459279544 Question Type : MCQ Option Shuffling : Yes Display Question Number : Yes
Single Line Question Option : No Option Orientation : Vertical

Correct Marks : 1 Wrong Marks : 0.25

स्वच्छ भारत मिशन (शहरी) की गतिविधियों की निगरानी के लिए जिला स्तर पर _____ समिति का गठन किया गया है।

Options :

- ✔ जिला स्तरीय समीक्षा और निगरानी
- ✘ जिला उच्चाधिकार
- ✘ नामित शहरी स्थानीय
- ✘ जिला परियोजना प्रबंधन

Question Number : 51 Question Id : 5459279545 Question Type : MCQ Option Shuffling : Yes Display Question Number : Yes
Single Line Question Option : No Option Orientation : Vertical

Correct Marks : 1 Wrong Marks : 0.25

The layer of very rare air above the mesosphere is called the _____.

Options :

- ✘ exosphere
- ✔ thermosphere
- ✘ stratosphere
- ✘ troposphere

Question Number : 51 Question Id : 5459279545 Question Type : MCQ Option Shuffling : Yes Display Question Number : Yes
Single Line Question Option : No Option Orientation : Vertical

Correct Marks : 1 Wrong Marks : 0.25

मध्यमण्डल के ऊपर बहुत दुर्लभ हवा की परत को _____ कहा जाता है।

Options :

- ✘ बाह्यमण्डल
- ✔ तापमण्डल
- ✘ समतापमण्डल
- ✘ क्षोभमण्डल

Question Number : 52 Question Id : 5459279546 Question Type : MCQ Option Shuffling : Yes Display Question Number : Yes
Single Line Question Option : No Option Orientation : Vertical

Correct Marks : 1 Wrong Marks : 0.25

Taenia is an example of _____ phylum.

Options :

- ✔ Platyhelminthes
- ✘ Coelenterata
- ✘ Ctenophora
- ✘ Porifera

Question Number : 52 Question Id : 5459279546 Question Type : MCQ Option Shuffling : Yes Display Question Number : Yes
Single Line Question Option : No Option Orientation : Vertical

Correct Marks : 1 Wrong Marks : 0.25

टीनिया _____ संघ का एक उदाहरण है।

Options :

1. ✓ प्लैटीहेल्मिन्थेस
2. ✗ सीलेन्टेरेटा
3. ✗ टेनोफोरा
4. ✗ पोरीफेरा

Question Number : 53 Question Id : 5459279547 Question Type : MCQ Option Shuffling : Yes Display Question Number : Yes
Single Line Question Option : No Option Orientation : Vertical

Correct Marks : 1 Wrong Marks : 0.25

Fusion of two gametes dissimilar in size, as in some species of Chlamydomonas is termed as

Options :

1. ✓ anisogamous
2. ✗ isogamous
3. ✗ oogamous
4. ✗ zoospores

Question Number : 53 Question Id : 5459279547 Question Type : MCQ Option Shuffling : Yes Display Question Number : Yes
Single Line Question Option : No Option Orientation : Vertical

Correct Marks : 1 Wrong Marks : 0.25

आकार में दो युग्मकों का संलयन, जैसा कि क्लैमाइडोमोनस की कुछ प्रजातियों में _____ के रूप में कहा जाता है

Options :

1. ✓ अनीसोगामोउस
2. ✗ इसोगामोउस
3. ✗ ओगामोउस
4. ✗ जूसपोरेस

Question Number : 54 Question Id : 5459279548 Question Type : MCQ Option Shuffling : Yes Display Question Number : Yes
Single Line Question Option : No Option Orientation : Vertical

Correct Marks : 1 Wrong Marks : 0.25

_____ is a water purification method that utilizes heat to collect pure water in the form of vapour.

Options :

1. ✗ Boiling
2. ✗ Chlorination
3. ✗ Filtration
4. ✓ Distillation

Question Number : 54 Question Id : 5459279548 Question Type : MCQ Option Shuffling : Yes Display Question Number : Yes
Single Line Question Option : No Option Orientation : Vertical

Correct Marks : 1 Wrong Marks : 0.25

_____ एक जल शोधन विधि है जो वाष्प के रूप में शुद्ध पानी इकट्ठा करने के लिए ताप का उपयोग करती है

Options :

1. ✗ क्वथन
2. ✗ क्लोरीनीकरण
3. ✗ निस्पंदन
4. ✓ आसवन

Question Number : 55 Question Id : 5459279549 Question Type : MCQ Option Shuffling : Yes Display Question Number : Yes
Single Line Question Option : No Option Orientation : Vertical

Correct Marks : 1 Wrong Marks : 0.25

Which among the following is not an infectious viral disease?

Options :

1. ✘ Dengue
2. ✘ Mumps
3. ✘ Influenza
4. ✔ Typhoid

Question Number : 55 Question Id : 5459279549 Question Type : MCQ Option Shuffling : Yes Display Question Number : Yes
Single Line Question Option : No Option Orientation : Vertical

Correct Marks : 1 Wrong Marks : 0.25

निम्नलिखित में से कौनसी संक्रामक वायरल बीमारी नहीं है?

Options :

1. ✘ डेंगू
2. ✘ गलसुआ
3. ✘ इनफ्लुएंज़ा
4. ✔ आंत्र

Question Number : 56 Question Id : 5459279550 Question Type : MCQ Option Shuffling : Yes Display Question Number : Yes
Single Line Question Option : No Option Orientation : Vertical

Correct Marks : 1 Wrong Marks : 0.25

_____ is the largest concrete gravity dam in Kerala.

Options :

1. ✔ Cheruthoni Dam
2. ✘ Indira Sagar Dam
3. ✘ Krishnarajasagar Dam
4. ✘ Mettur Dam

Question Number : 56 Question Id : 5459279550 Question Type : MCQ Option Shuffling : Yes Display Question Number : Yes
Single Line Question Option : No Option Orientation : Vertical

Correct Marks : 1 Wrong Marks : 0.25

_____ केरल का सबसे बड़ा कंक्रीट गुरुत्वाकर्षण बांध है।

Options :

1. ✔ चेरुथोनी बांध
2. ✘ इंदिरा सागर बांध
3. ✘ कृष्णाराजसागर बांध
4. ✘ मेट्टूर बांध

Question Number : 57 Question Id : 5459279551 Question Type : MCQ Option Shuffling : Yes Display Question Number : Yes
Single Line Question Option : No Option Orientation : Vertical

Correct Marks : 1 Wrong Marks : 0.25

Godavari river originates from _____ state.

Options :

1. ✘ Himachal Pradesh
2. ✘ Karnataka
3. ✔ Maharashtra
4. ✘ Madhya Pradesh

Question Number : 57 Question Id : 5459279551 Question Type : MCQ Option Shuffling : Yes Display Question Number : Yes
Single Line Question Option : No Option Orientation : Vertical

Correct Marks : 1 Wrong Marks : 0.25

गोदावरी नदी _____ राज्य से निकलती है।

Options :

- ✘ हिमाचल प्रदेश
- ✘ कर्नाटक
- ✔ महाराष्ट्र
- ✘ मध्य प्रदेश

Question Number : 58 Question Id : 5459279552 Question Type : MCQ Option Shuffling : Yes Display Question Number : Yes
Single Line Question Option : No Option Orientation : Vertical

Correct Marks : 1 Wrong Marks : 0.25

Which among the following soils requires least use of fertilisers?

Options :

- ✔ Alluvial Soil
- ✘ Laterite Soil
- ✘ Black Soil
- ✘ Red Soil

Question Number : 58 Question Id : 5459279552 Question Type : MCQ Option Shuffling : Yes Display Question Number : Yes
Single Line Question Option : No Option Orientation : Vertical

Correct Marks : 1 Wrong Marks : 0.25

निम्नलिखित में से किस मृदा में उर्वरकों के कम से कम उपयोग की आवश्यकता होती है?

Options :

- ✔ एल्यूवियल मृदा
- ✘ लैटेराइट मृदा
- ✘ काली मृदा
- ✘ लाल मृदा

Question Number : 59 Question Id : 5459279553 Question Type : MCQ Option Shuffling : Yes Display Question Number : Yes
Single Line Question Option : No Option Orientation : Vertical

Correct Marks : 1 Wrong Marks : 0.25

The present capital of Burma is _____.

Options :

- ✔ Naypyidaw
- ✘ Dhaka
- ✘ Thimphu
- ✘ Kathmandu

Question Number : 59 Question Id : 5459279553 Question Type : MCQ Option Shuffling : Yes Display Question Number : Yes
Single Line Question Option : No Option Orientation : Vertical

Correct Marks : 1 Wrong Marks : 0.25

बर्मा की वर्तमान राजधानी _____ है।

Options :

- ✔ नेपीडॉ
- ✘ ढाका
- ✘ थिम्फू
- ✘ काठमाण्डु

Question Number : 60 Question Id : 5459279554 Question Type : MCQ Option Shuffling : Yes Display Question Number : Yes
Single Line Question Option : No Option Orientation : Vertical

Correct Marks : 1 Wrong Marks : 0.25

Who is called the "Father of Green Revolution in India"?

Options :

1. ✓ Mankombu Sambasivan Swaminathan
2. ✗ Vikram Sarabhai
3. ✗ Jawaharlal Nehru
4. ✗ Bal Gangadhar Tilak

Question Number : 60 Question Id : 5459279554 Question Type : MCQ Option Shuffling : Yes Display Question Number : Yes
Single Line Question Option : No Option Orientation : Vertical

Correct Marks : 1 Wrong Marks : 0.25

"भारत में हरित क्रांति का जनक" किसे कहा जाता है?

Options :

1. ✓ मनकोम्बु साम्बशिवन स्वामीनाथन
2. ✗ विक्रम साराभाई
3. ✗ जवाहरलाल नेहरू
4. ✗ बाल गंगाधर तिलक

General Awareness2

Group Number :	4
Group Id :	545927474
Group Maximum Duration :	0
Group Minimum Duration :	0
Revisit allowed for view? :	No
Revisit allowed for edit? :	No
Break time:	0
Group Marks:	20
Revisit allowed for group Instructions? :	Yes
Maximum Instruction Time:	0
Minimum Instruction Time:	0

General Awareness2

Section Id :	545927474
Section Number :	1
Section type :	Online
Mandatory or Optional:	Mandatory
Number of Questions:	20
Number of Questions to be attempted:	20
Section Marks:	20
Display Number Panel:	Yes
Group All Questions:	No

Sub-Section Number:	1
Sub-Section Id:	545927568
Question Shuffling Allowed :	Yes

Question Number : 61 Question Id : 5459279555 Question Type : MCQ Option Shuffling : Yes Display Question Number : Yes
Single Line Question Option : No Option Orientation : Vertical

Correct Marks : 1 Wrong Marks : 0.25

Guru Shikhar, the highest point of Rajasthan, lies on the _____.

Options :

1. ✘ Western Ghats
2. ✘ Eastern Ghats
3. ✘ Karakoram Range
4. ✔ Aravalli Range

Question Number : 61 Question Id : 5459279555 Question Type : MCQ Option Shuffling : Yes Display Question Number : Yes
Single Line Question Option : No Option Orientation : Vertical

Correct Marks : 1 Wrong Marks : 0.25

राजस्थान का सबसे ऊंचा स्थान, गुरु शिखर, _____ पर स्थित है

Options :

1. ✘ पश्चिमी घाट
2. ✘ पूर्वी घाट
3. ✘ काराकोरम रेंज
4. ✔ अरावली रेंज

Question Number : 62 Question Id : 5459279556 Question Type : MCQ Option Shuffling : Yes Display Question Number : Yes
Single Line Question Option : No Option Orientation : Vertical

Correct Marks : 1 Wrong Marks : 0.25

People were gathered at Jallianwala Bagh in Amritsar to protest against arrest on Saifuddin Kitchlew and Satyapal on _____.

Options :

1. ✔ 13th April 1919
2. ✘ 12th May 1918
3. ✘ 15th April 1920
4. ✘ 16th May 1921

Question Number : 62 Question Id : 5459279556 Question Type : MCQ Option Shuffling : Yes Display Question Number : Yes
Single Line Question Option : No Option Orientation : Vertical

Correct Marks : 1 Wrong Marks : 0.25

लोग _____ को सैफुद्दीन किचलू और सत्यपाल की गिरफ्तारी के विरोध में अमृतसर के जलियांवाला बाग में इकट्ठा हुए थे।

Options :

1. ✔ 13 अप्रैल 1919
2. ✘ 12 मई 1918
3. ✘ 15 अप्रैल 1920
4. ✘ 16 मई 1921

Question Number : 63 Question Id : 5459279557 Question Type : MCQ Option Shuffling : Yes Display Question Number : Yes
Single Line Question Option : No Option Orientation : Vertical

Correct Marks : 1 Wrong Marks : 0.25

Who was the first woman president of Indian National Congress?

Options :

1. ✔ Annie Besant
2. ✘ Sarojini Naidu

3. ✘ Indira Gandhi
4. ✘ Sonia Gandhi

Question Number : 63 Question Id : 5459279557 Question Type : MCQ Option Shuffling : Yes Display Question Number : Yes
Single Line Question Option : No Option Orientation : Vertical

Correct Marks : 1 Wrong Marks : 0.25

भारतीय राष्ट्रीय कांग्रेस की पहली महिला अध्यक्ष कौन थी?

Options :

1. ✔ एनी बेसेंट
2. ✘ सरोजिनी नायडू
3. ✘ इंदिरा गांधी
4. ✘ सोनिया गांधी

Question Number : 64 Question Id : 5459279558 Question Type : MCQ Option Shuffling : Yes Display Question Number : Yes
Single Line Question Option : No Option Orientation : Vertical

Correct Marks : 1 Wrong Marks : 0.25

Who was the founder of Utpala dynasty?

Options :

1. ✘ Alakhana
2. ✔ Avantivarman
3. ✘ Gopalavarman
4. ✘ Sankaravarman

Question Number : 64 Question Id : 5459279558 Question Type : MCQ Option Shuffling : Yes Display Question Number : Yes
Single Line Question Option : No Option Orientation : Vertical

Correct Marks : 1 Wrong Marks : 0.25

उत्पल वंश का संस्थापक कौन था?

Options :

1. ✘ अलखना
2. ✔ अवन्तिवर्मन
3. ✘ गोपालवर्मन
4. ✘ संकरवर्मन

Question Number : 65 Question Id : 5459279559 Question Type : MCQ Option Shuffling : Yes Display Question Number : Yes
Single Line Question Option : No Option Orientation : Vertical

Correct Marks : 1 Wrong Marks : 0.25

Ibrahim Lodi, the last Lodhi ruler, was defeated by _____.

Options :

1. ✘ Humayun
2. ✔ Babur
3. ✘ Jahangir
4. ✘ Iltutmish

Question Number : 65 Question Id : 5459279559 Question Type : MCQ Option Shuffling : Yes Display Question Number : Yes
Single Line Question Option : No Option Orientation : Vertical

Correct Marks : 1 Wrong Marks : 0.25

अंतिम लोधी शासक इब्राहिम लोदी, _____ से हार गया था।

Options :

1. ✘ हुमायूँ

2. ✓ बाबर
3. ✗ जहाँगीर
4. ✗ इल्तुतमिश

Question Number : 66 Question Id : 5459279560 Question Type : MCQ Option Shuffling : Yes Display Question Number : Yes
Single Line Question Option : No Option Orientation : Vertical

Correct Marks : 1 Wrong Marks : 0.25

Who among the following Mughal Emperors built Moti Masjid?

Options :

1. ✓ Shah Jahan
2. ✗ Akbar
3. ✗ Humayun
4. ✗ Babur

Question Number : 66 Question Id : 5459279560 Question Type : MCQ Option Shuffling : Yes Display Question Number : Yes
Single Line Question Option : No Option Orientation : Vertical

Correct Marks : 1 Wrong Marks : 0.25

निम्नलिखित में से किस मुगल सम्राट ने मोती मस्जिद का निर्माण किया था?

Options :

1. ✓ शाहजहाँ
2. ✗ अकबर
3. ✗ हुमायूँ
4. ✗ बाबर

Question Number : 67 Question Id : 5459279561 Question Type : MCQ Option Shuffling : Yes Display Question Number : Yes
Single Line Question Option : No Option Orientation : Vertical

Correct Marks : 1 Wrong Marks : 0.25

_____, popularly known as 'Ali Gauhar', was defeated in the Battle of Buxar.

Options :

1. ✗ Bahadur Shah II
2. ✗ Akbar II
3. ✗ Shah Alam I
4. ✓ Shah Alam II

Question Number : 67 Question Id : 5459279561 Question Type : MCQ Option Shuffling : Yes Display Question Number : Yes
Single Line Question Option : No Option Orientation : Vertical

Correct Marks : 1 Wrong Marks : 0.25

_____, लोकप्रिय रूप से 'अली गौहर' के नाम से जाना जाता है, बक्सर के युद्ध में हार गया था।

Options :

1. ✗ बहादुर शाह II
2. ✗ अकबर II
3. ✗ शाह आलम I
4. ✓ शाह आलम II

Question Number : 68 Question Id : 5459279562 Question Type : MCQ Option Shuffling : Yes Display Question Number : Yes
Single Line Question Option : No Option Orientation : Vertical

Correct Marks : 1 Wrong Marks : 0.25

Which among the following books were not written by Rabindranath Tagore?

Options :

1. ✘ Gora
2. ✘ The Post Office
3. ✘ Gardener
4. ✔ Magic Seeds

Question Number : 68 Question Id : 5459279562 Question Type : MCQ Option Shuffling : Yes Display Question Number : Yes
Single Line Question Option : No Option Orientation : Vertical

Correct Marks : 1 Wrong Marks : 0.25

निम्नलिखित पुस्तकों में से कौनसी रवींद्रनाथ टैगोर द्वारा नहीं लिखी गई थी?

Options :

1. ✘ गोरा
2. ✘ दा पोस्ट ऑफिस
3. ✘ गार्डनर
4. ✔ मैजिक सीड्स

Question Number : 69 Question Id : 5459279563 Question Type : MCQ Option Shuffling : Yes Display Question Number : Yes
Single Line Question Option : No Option Orientation : Vertical

Correct Marks : 1 Wrong Marks : 0.25

The headquarters of Food and Agricultural Organisation is located in _____.

Options :

1. ✘ Paris
2. ✔ Rome
3. ✘ London
4. ✘ New York

Question Number : 69 Question Id : 5459279563 Question Type : MCQ Option Shuffling : Yes Display Question Number : Yes
Single Line Question Option : No Option Orientation : Vertical

Correct Marks : 1 Wrong Marks : 0.25

खाद्य और कृषि संगठन का मुख्यालय _____ में स्थित है

Options :

1. ✘ पेरिस
2. ✔ रोम
3. ✘ लंदन
4. ✘ न्यूयॉर्क

Question Number : 70 Question Id : 5459279564 Question Type : MCQ Option Shuffling : Yes Display Question Number : Yes
Single Line Question Option : No Option Orientation : Vertical

Correct Marks : 1 Wrong Marks : 0.25

Woomera, rocket launch station, is located in _____.

Options :

1. ✘ China
2. ✔ Australia
3. ✘ Iraq
4. ✘ Russia

Question Number : 70 Question Id : 5459279564 Question Type : MCQ Option Shuffling : Yes Display Question Number : Yes
Single Line Question Option : No Option Orientation : Vertical

Correct Marks : 1 Wrong Marks : 0.25

वूमैरा, रॉकेट लॉन्च स्टेशन, _____ में स्थित है

Options :

1. ✘ चीन
2. ✔ ऑस्ट्रेलिया
3. ✘ इराक
4. ✘ रूस

Question Number : 71 Question Id : 5459279565 Question Type : MCQ Option Shuffling : Yes Display Question Number : Yes
Single Line Question Option : No Option Orientation : Vertical

Correct Marks : 1 Wrong Marks : 0.25

Vijay Ghat is the memorial of _____.

Options :

1. ✘ Indira Gandhi
2. ✘ Mahatma Gandhi
3. ✘ Jawaharlal Nehru
4. ✔ Lal Bahadur Shastri

Question Number : 71 Question Id : 5459279565 Question Type : MCQ Option Shuffling : Yes Display Question Number : Yes
Single Line Question Option : No Option Orientation : Vertical

Correct Marks : 1 Wrong Marks : 0.25

विजय घाट _____ का स्मारक है।

Options :

1. ✘ इंदिरा गांधी
2. ✘ महात्मा गांधी
3. ✘ जवाहरलाल नेहरू
4. ✔ लाल बहादुर शास्त्री

Question Number : 72 Question Id : 5459279566 Question Type : MCQ Option Shuffling : Yes Display Question Number : Yes
Single Line Question Option : No Option Orientation : Vertical

Correct Marks : 1 Wrong Marks : 0.25

_____ ने सर्वश्रेष्ठ पॉप वोकल एल्बम के लिए ग्रैमी पुरस्कार 2019 जीता।

Options :

1. ✘ शॉन मेंडेस
2. ✔ एरियाना ग्रान्डे
3. ✘ टोनी बेनेट
4. ✘ डेविड बायरन

Question Number : 72 Question Id : 5459279566 Question Type : MCQ Option Shuffling : Yes Display Question Number : Yes
Single Line Question Option : No Option Orientation : Vertical

Correct Marks : 1 Wrong Marks : 0.25

_____ won the Grammy Award 2019 for the best pop vocal album.

Options :

1. ✘ Shawn Mendes
2. ✔ Ariana Grande
3. ✘ Tony Bennett
4. ✘ David Byrne

Question Number : 73 Question Id : 5459279567 Question Type : MCQ Option Shuffling : Yes Display Question Number : Yes
Single Line Question Option : No Option Orientation : Vertical

Correct Marks : 1 Wrong Marks : 0.25

Balwant Moreshwar Purandare received Padma Vibhusan in 2019 for his contribution in the field of

Options :

1. ✓ Art-Acting-Theatre
2. ✗ Trade & Industry-Infrastructure
3. ✗ Art-Vocals-Folk
4. ✗ Public Affairs

Question Number : 73 Question Id : 5459279567 Question Type : MCQ Option Shuffling : Yes Display Question Number : Yes
Single Line Question Option : No Option Orientation : Vertical

Correct Marks : 1 Wrong Marks : 0.25

बलवंत मोरेश्वर पुरंदरे को _____ के क्षेत्र में उनके योगदान के लिए 2019 में पद्म विभूषण मिला।

Options :

1. ✓ कला-अभिनय-थियेटर
2. ✗ व्यापार और उद्योग-बुनियादी ढांचा
3. ✗ कला-वोकल्स-लोक
4. ✗ सार्वजनिक मामलों

Question Number : 74 Question Id : 5459279568 Question Type : MCQ Option Shuffling : Yes Display Question Number : Yes
Single Line Question Option : No Option Orientation : Vertical

Correct Marks : 1 Wrong Marks : 0.25

_____ of the Indian Constitution talks about the fundamental rights.

Options :

1. ✗ Part IV
2. ✗ Part VI
3. ✗ Part I
4. ✓ Part III

Question Number : 74 Question Id : 5459279568 Question Type : MCQ Option Shuffling : Yes Display Question Number : Yes
Single Line Question Option : No Option Orientation : Vertical

Correct Marks : 1 Wrong Marks : 0.25

भारतीय संविधान का _____ मौलिक अधिकारों के बारे में बात करता है।

Options :

1. ✗ भाग IV
2. ✗ भाग VI
3. ✗ भाग I
4. ✓ भाग III

Question Number : 75 Question Id : 5459279569 Question Type : MCQ Option Shuffling : Yes Display Question Number : Yes
Single Line Question Option : No Option Orientation : Vertical

Correct Marks : 1 Wrong Marks : 0.25

Which among the following is not a Fundamental Right?

Options :

1. ✗ Right to Equality
2. ✗ Right to Freedom
3. ✓ Right against Criminal Injustice
4. ✗ Right against Exploitation

Question Number : 75 Question Id : 5459279569 Question Type : MCQ Option Shuffling : Yes Display Question Number : Yes
Single Line Question Option : No Option Orientation : Vertical

Correct Marks : 1 Wrong Marks : 0.25

निम्नलिखित में से कौनसा एक मौलिक अधिकार नहीं है?

Options :

- ✘ समानता का अधिकार
- ✘ स्वतंत्रता का अधिकार
- ✔ आपराधिक अन्याय के खिलाफ अधिकार
- ✘ शोषण के खिलाफ अधिकार

Question Number : 76 Question Id : 5459279570 Question Type : MCQ Option Shuffling : Yes Display Question Number : Yes
Single Line Question Option : No Option Orientation : Vertical

Correct Marks : 1 Wrong Marks : 0.25

The constituent assembly adopted the national song on _____.

Options :

- ✔ Jan 24, 1950
- ✘ March 25, 1951
- ✘ Jan 25, 1952
- ✘ July 22, 1950

Question Number : 76 Question Id : 5459279570 Question Type : MCQ Option Shuffling : Yes Display Question Number : Yes
Single Line Question Option : No Option Orientation : Vertical

Correct Marks : 1 Wrong Marks : 0.25

संविधान सभा ने _____ को राष्ट्रीय गीत अपनाया

Options :

- ✔ 24 जनवरी, 1950
- ✘ 25 मार्च, 1951
- ✘ 25 जनवरी, 1952
- ✘ 22 जुलाई, 1950

Question Number : 77 Question Id : 5459279571 Question Type : MCQ Option Shuffling : Yes Display Question Number : Yes
Single Line Question Option : No Option Orientation : Vertical

Correct Marks : 1 Wrong Marks : 0.25

According to which Article of the Indian Constitution states that the State shall endeavour to secure for the citizens a uniform civil code throughout the territory of India?

Options :

- ✘ Article 40
- ✘ Article 55
- ✘ Article 52
- ✔ Article 44

Question Number : 77 Question Id : 5459279571 Question Type : MCQ Option Shuffling : Yes Display Question Number : Yes
Single Line Question Option : No Option Orientation : Vertical

Correct Marks : 1 Wrong Marks : 0.25

भारतीय संविधान के किस अनुच्छेद के अनुसार राज्य यह बताता है कि भारत के पूरे क्षेत्र में नागरिकों के लिए समान नागरिक संहिता के लिए राज्य सुरक्षित करने का प्रयास करेगा?

Options :

- ✘ अनुच्छेद 40
- ✘ अनुच्छेद 55

3. ✘ अनुच्छेद 52

4. ✔ अनुच्छेद 44

Question Number : 78 Question Id : 5459279572 Question Type : MCQ Option Shuffling : Yes Display Question Number : Yes
Single Line Question Option : No Option Orientation : Vertical

Correct Marks : 1 Wrong Marks : 0.25

The Indian pair of G. Sathiyam and _____ won bronze in Men's Doubles at World Tour Platinum Australian Open Table Tennis 2019.

Options :

1. ✘ Srikanth Kidambi

2. ✔ Anthony Amalraj

3. ✘ Achanta Sharath Kamal

4. ✘ Soumyajit Ghosh

Question Number : 78 Question Id : 5459279572 Question Type : MCQ Option Shuffling : Yes Display Question Number : Yes
Single Line Question Option : No Option Orientation : Vertical

Correct Marks : 1 Wrong Marks : 0.25

जी. साथियाम और _____ की भारतीय जोड़ी ने वर्ल्ड टूर प्लेटिनम ऑस्ट्रेलियन ओपन टेबल टेनिस 2019 में पुरुष युगल में कांस्य जीता

Options :

1. ✘ श्रीकांत किदम्बी

2. ✔ एंथोनी अमलराज

3. ✘ अचंत शरत कमल

4. ✘ सौम्यजीत घोष

Question Number : 79 Question Id : 5459279573 Question Type : MCQ Option Shuffling : Yes Display Question Number : Yes
Single Line Question Option : No Option Orientation : Vertical

Correct Marks : 1 Wrong Marks : 0.25

Who is the first Indian sprinter to win gold medal in women's 100m in World Universiade, 30th Summer University Games?

Options :

1. ✔ Dutee Chand

2. ✘ Suresh Sathya

3. ✘ Jata Shankar

4. ✘ Anand Shetty

Question Number : 79 Question Id : 5459279573 Question Type : MCQ Option Shuffling : Yes Display Question Number : Yes
Single Line Question Option : No Option Orientation : Vertical

Correct Marks : 1 Wrong Marks : 0.25

30 वें ग्रीष्मकालीन विश्वविद्यालय खेल, वर्ल्ड यूनिवर्सिड में महिलाओं के 100 मीटर में स्वर्ण पदक जीतने वाले पहले भारतीय धावक कौन हैं?

Options :

1. ✔ दूती चंद

2. ✘ सुरेश सत्य

3. ✘ जटा शंकर

4. ✘ आनंद शेटी

Question Number : 80 Question Id : 5459279574 Question Type : MCQ Option Shuffling : Yes Display Question Number : Yes
Single Line Question Option : No Option Orientation : Vertical

Correct Marks : 1 Wrong Marks : 0.25

Which among the following Indian boxer is nicknamed 'Ahir boxer'?

Options :

1. ✘ Vijender Singh
2. ✘ Akhil Kumar
3. ✔ Vaibhav Yadav
4. ✘ Shiva Thapa

Question Number : 80 Question Id : 5459279574 Question Type : MCQ Option Shuffling : Yes Display Question Number : Yes
Single Line Question Option : No Option Orientation : Vertical

Correct Marks : 1 Wrong Marks : 0.25

निम्नलिखित में से किस भारतीय मुक्केबाज का उपनाम 'अहीर बॉक्सर' है?

Options :

1. ✘ विजेन्द्र सिंह
2. ✘ अखिल कुमार
3. ✔ वैभव यादव
4. ✘ शिवा थापा

Arithmetic Ability1

Group Number :	5
Group Id :	545927475
Group Maximum Duration :	0
Group Minimum Duration :	0
Revisit allowed for view? :	No
Revisit allowed for edit? :	No
Break time:	0
Group Marks:	20
Revisit allowed for group Instructions? :	Yes
Maximum Instruction Time:	0
Minimum Instruction Time:	0

Arithmetic Ability1

Section Id :	545927475
Section Number :	1
Section type :	Online
Mandatory or Optional:	Mandatory
Number of Questions:	20
Number of Questions to be attempted:	20
Section Marks:	20
Display Number Panel:	Yes
Group All Questions:	No

Sub-Section Number:	1
Sub-Section Id:	545927569
Question Shuffling Allowed :	Yes

Question Number : 81 Question Id : 5459279575 Question Type : MCQ Option Shuffling : Yes Display Question Number : Yes
Single Line Question Option : No Option Orientation : Vertical

Correct Marks : 1 Wrong Marks : 0.25

Convert 48 decimal to binary.

Options :

1. ✓ 110000
2. ✗ 101110
3. ✗ 101000
4. ✗ 101100

Question Number : 81 Question Id : 5459279575 Question Type : MCQ Option Shuffling : Yes Display Question Number : Yes
Single Line Question Option : No Option Orientation : Vertical

Correct Marks : 1 Wrong Marks : 0.25

48 दशमलव को बाइनरी में बदलो

Options :

1. ✓ 110000
2. ✗ 101110
3. ✗ 101000
4. ✗ 101100

Question Number : 82 Question Id : 5459279576 Question Type : MCQ Option Shuffling : Yes Display Question Number : Yes
Single Line Question Option : No Option Orientation : Vertical

Correct Marks : 1 Wrong Marks : 0.25

A gym has 6 different bells for 6 different exercises which ring at the end of each exercise. The duration of the exercises are 40, 45, 50, 60, 75 and 125 seconds. If the bells ring together at 9 AM, then at what time next will they ring together?

Options :

1. ✗ 10:30 AM
2. ✓ 11:30 AM
3. ✗ 11:40 AM
4. ✗ 10:45 AM

Question Number : 82 Question Id : 5459279576 Question Type : MCQ Option Shuffling : Yes Display Question Number : Yes
Single Line Question Option : No Option Orientation : Vertical

Correct Marks : 1 Wrong Marks : 0.25

एक जिम में 6 अलग-अलग व्यायाम के लिए 6 अलग-अलग घंटियाँ हैं जो प्रत्येक व्यायाम के अंत में बजती हैं। व्यायाम की अवधि 40, 45, 50, 60, 75 और 125 सेकंड है। यदि घंटी पूर्वाह्न 9 बजे एक साथ बजती है, तो अगली बार किस समय वे एक साथ बजेंगी?

Options :

1. ✗ 10:30 पूर्वाह्न
2. ✓ 11:30 पूर्वाह्न
3. ✗ 11:40 पूर्वाह्न
4. ✗ 10:45 पूर्वाह्न

Question Number : 83 Question Id : 5459279577 Question Type : MCQ Option Shuffling : Yes Display Question Number : Yes
Single Line Question Option : No Option Orientation : Vertical

Correct Marks : 1 Wrong Marks : 0.25

A building has 2 elevators. X gets on one of them and Y on another. X takes the elevator from the 2nd floor which goes up at 15 floors a minute. Y takes the elevator from 107th floor which comes down at 20 floor a minute. At which floor do X and Y meet?

Options :

1. ✗ 45
2. ✗ 46

3. ✓ 47

4. ✗ 48

Question Number : 83 Question Id : 5459279577 Question Type : MCQ Option Shuffling : Yes Display Question Number : Yes
Single Line Question Option : No Option Orientation : Vertical

Correct Marks : 1 Wrong Marks : 0.25

एक इमारत में 2 लिफ्ट हैं। X उनमें से एक में और Y दूसरे में जाता है। X दूसरी मंजिल से लिफ्ट लेता है जो एक मिनट में 15 मंजिल तक जाती है। Y 107 वीं मंजिल से लिफ्ट लेता है जो एक मिनट में 20 मंजिल पर आता है। X और Y किस मंजिल पर मिलते हैं?

Options :

1. ✗ 45

2. ✗ 46

3. ✓ 47

4. ✗ 48

Question Number : 84 Question Id : 5459279578 Question Type : MCQ Option Shuffling : Yes Display Question Number : Yes
Single Line Question Option : No Option Orientation : Vertical

Correct Marks : 1 Wrong Marks : 0.25

What is the sum of the digits of the smallest number divisible by 4, 14, 18 and 25?

Options :

1. ✓ 9

2. ✗ 12

3. ✗ 15

4. ✗ 18

Question Number : 84 Question Id : 5459279578 Question Type : MCQ Option Shuffling : Yes Display Question Number : Yes
Single Line Question Option : No Option Orientation : Vertical

Correct Marks : 1 Wrong Marks : 0.25

4, 14, 18 और 25 द्वारा विभाजित सबसे छोटी संख्या के अंकों का योग क्या है?

Options :

1. ✓ 9

2. ✗ 12

3. ✗ 15

4. ✗ 18

Question Number : 85 Question Id : 5459279579 Question Type : MCQ Option Shuffling : Yes Display Question Number : Yes
Single Line Question Option : No Option Orientation : Vertical

Correct Marks : 1 Wrong Marks : 0.25

Find the LCM of $4/125$, $7/100$ and $2/25$.

Options :

1. ✗ 1.04

2. ✗ 1.2

3. ✗ 1.5

4. ✓ 1.12

Question Number : 85 Question Id : 5459279579 Question Type : MCQ Option Shuffling : Yes Display Question Number : Yes
Single Line Question Option : No Option Orientation : Vertical

Correct Marks : 1 Wrong Marks : 0.25

$4/125$, $7/100$ और $2/25$ के लघुतम समापवर्तक को ज्ञात करें।

Options :

- ✘ 1.04
- ✘ 1.2
- ✘ 1.5
- ✔ 1.12

Question Number : 86 Question Id : 5459279580 Question Type : MCQ Option Shuffling : Yes Display Question Number : Yes
Single Line Question Option : No Option Orientation : Vertical

Correct Marks : 1 Wrong Marks : 0.25

A number $727X44$ is divisible by 88. Find the value of X.

Options :

- ✔ 1
- ✘ 2
- ✘ 3
- ✘ 4

Question Number : 86 Question Id : 5459279580 Question Type : MCQ Option Shuffling : Yes Display Question Number : Yes
Single Line Question Option : No Option Orientation : Vertical

Correct Marks : 1 Wrong Marks : 0.25

संख्या $727X44$, 88 से विभाज्य है X का मूल्य ज्ञात करें।

Options :

- ✔ 1
- ✘ 2
- ✘ 3
- ✘ 4

Question Number : 87 Question Id : 5459279581 Question Type : MCQ Option Shuffling : Yes Display Question Number : Yes
Single Line Question Option : No Option Orientation : Vertical

Correct Marks : 1 Wrong Marks : 0.25

A child gets 1 random coin out of Re 1, Rs 2 and Rs 5 coins daily. He starts on 1st April and at the end of the month, he has coins in the ratio 5:4:6. Find the value of the coins with him.

Options :

- ✘ Rs 94
- ✘ Rs 96
- ✘ Rs 84
- ✔ Rs 86

Question Number : 87 Question Id : 5459279581 Question Type : MCQ Option Shuffling : Yes Display Question Number : Yes
Single Line Question Option : No Option Orientation : Vertical

Correct Marks : 1 Wrong Marks : 0.25

एक बच्चे को प्रतिदिन 1 रुपए, 2 रुपए और 5 रुपए के सिक्के में से कोई भी एक सिक्का मिलता है। वह 1 अप्रैल से शुरू करता है और महीने के अंत में उसके पास 5:4:6 के अनुपात में सिक्के होते हैं। उसके पास के सिक्कों का मूल्य ज्ञात करें।

Options :

- ✘ 94 रुपए
- ✘ 96 रुपए
- ✘ 84 रुपए
- ✔ 86 रुपए

Question Number : 88 Question Id : 5459279582 Question Type : MCQ Option Shuffling : Yes Display Question Number : Yes
Single Line Question Option : No Option Orientation : Vertical

Correct Marks : 1 Wrong Marks : 0.25

4 bikes can be bought at the same price instead of 3 cars. If the total price of 7 bikes and 5 cars is Rs 4100000, then what is the price of a bike?

Options :

1. ✘ Rs 60000
2. ✘ Rs 120000
3. ✔ Rs 300000
4. ✘ Rs 240000

Question Number : 88 Question Id : 5459279582 Question Type : MCQ Option Shuffling : Yes Display Question Number : Yes
Single Line Question Option : No Option Orientation : Vertical

Correct Marks : 1 Wrong Marks : 0.25

3 कारों के बदले 4 बाइक उसी कीमत पर खरीदी जा सकती हैं। यदि 7 बाइक और 5 कारों की कुल कीमत 4100000 रुपए है, तो बाइक की कीमत क्या है?

Options :

1. ✘ 60000 रुपए
2. ✘ 120000 रुपए
3. ✔ 300000 रुपए
4. ✘ 240000 रुपए

Question Number : 89 Question Id : 5459279583 Question Type : MCQ Option Shuffling : Yes Display Question Number : Yes
Single Line Question Option : No Option Orientation : Vertical

Correct Marks : 1 Wrong Marks : 0.25

What is the product of the digits of the smallest number exactly divisible by 6, 16, 22 and 28?

Options :

1. ✘ 486
2. ✘ 1458
3. ✘ 729
4. ✔ 972

Question Number : 89 Question Id : 5459279583 Question Type : MCQ Option Shuffling : Yes Display Question Number : Yes
Single Line Question Option : No Option Orientation : Vertical

Correct Marks : 1 Wrong Marks : 0.25

6, 16, 22 और 28 द्वारा विभाज्य सबसे छोटी संख्या के विभाजनों का गुणनफल क्या है?

Options :

1. ✘ 486
2. ✘ 1458
3. ✘ 729
4. ✔ 972

Question Number : 90 Question Id : 5459279584 Question Type : MCQ Option Shuffling : Yes Display Question Number : Yes
Single Line Question Option : No Option Orientation : Vertical

Correct Marks : 1 Wrong Marks : 0.25

A number's square multiplied by 50 is exactly divisible by 40, 45, 50 and 60. Find the minimum possible value of the number.

Options :

1. ✔ 6
2. ✘ 8
3. ✘ 9

4. ✖ 5

Question Number : 90 Question Id : 5459279584 Question Type : MCQ Option Shuffling : Yes Display Question Number : Yes
Single Line Question Option : No Option Orientation : Vertical

Correct Marks : 1 Wrong Marks : 0.25

किसी संख्या का वर्ग 50 से गुणा करने पर 40, 45, 50 और 60 से विभाज्य होता है। संख्या का न्यूनतम संभव मूल्य ज्ञात करें।

Options :

1. ✔ 6

2. ✖ 8

3. ✖ 9

4. ✖ 5

Question Number : 91 Question Id : 5459279585 Question Type : MCQ Option Shuffling : Yes Display Question Number : Yes
Single Line Question Option : No Option Orientation : Vertical

Correct Marks : 1 Wrong Marks : 0.25

What is the average of the cube root of the first 5 positive numbers having a perfect cube root?

Options :

1. ✖ 2

2. ✔ 3

3. ✖ 4

4. ✖ 3.5

Question Number : 91 Question Id : 5459279585 Question Type : MCQ Option Shuffling : Yes Display Question Number : Yes
Single Line Question Option : No Option Orientation : Vertical

Correct Marks : 1 Wrong Marks : 0.25

पहले 5 धनात्मक संख्या वाले घनमूल का उत्तम घनमूल क्या है?

Options :

1. ✖ 2

2. ✔ 3

3. ✖ 4

4. ✖ 3.5

Question Number : 92 Question Id : 5459279586 Question Type : MCQ Option Shuffling : Yes Display Question Number : Yes
Single Line Question Option : No Option Orientation : Vertical

Correct Marks : 1 Wrong Marks : 0.25

A car has to cover 125 kms in 5 hours. What will be the average speed of the car if it has covered 90 kms in the first 3 hours?

Options :

1. ✖ 20 km/h

2. ✔ 25 km/h

3. ✖ 28 km/h

4. ✖ 24 km/h

Question Number : 92 Question Id : 5459279586 Question Type : MCQ Option Shuffling : Yes Display Question Number : Yes
Single Line Question Option : No Option Orientation : Vertical

Correct Marks : 1 Wrong Marks : 0.25

एक कार को 5 घंटे में 125 km की दूरी तय करनी है। कार की औसत गति क्या होगी, यदि उसने पहले 3 घंटों में 90 km की दूरी तय कर ली है?

Options :

1. ✖ 20 km/h

2. ✓ 25 km/h
3. ✗ 28 km/h
4. ✗ 24 km/h

Question Number : 93 Question Id : 5459279587 Question Type : MCQ Option Shuffling : Yes Display Question Number : Yes
Single Line Question Option : No Option Orientation : Vertical

Correct Marks : 1 Wrong Marks : 0.25

X sells goods to Y at a profit of 20 percent and Y sells the same goods to Z at a profit of 50 percent. If the cost price for Z is Rs 9000, then what is the cost of the goods for X?

Options :

1. ✓ Rs 5000
2. ✗ Rs 5400
3. ✗ Rs 4500
4. ✗ Rs 4000

Question Number : 93 Question Id : 5459279587 Question Type : MCQ Option Shuffling : Yes Display Question Number : Yes
Single Line Question Option : No Option Orientation : Vertical

Correct Marks : 1 Wrong Marks : 0.25

X, Y को 20 प्रतिशत के लाभ पर सामान बेचता है और Y उसी सामान को Z को 50 प्रतिशत के लाभ पर बेचता है। यदि Z के लिए लागत मूल्य 9000 रुपए है, तो X के लिए माल की लागत क्या है?

Options :

1. ✓ 5000 रुपए
2. ✗ 5400 रुपए
3. ✗ 4500 रुपए
4. ✗ 4000 रुपए

Question Number : 94 Question Id : 5459279588 Question Type : MCQ Option Shuffling : Yes Display Question Number : Yes
Single Line Question Option : No Option Orientation : Vertical

Correct Marks : 1 Wrong Marks : 0.25

The area of a square increase by 69 percent when the side is increased. Find the increase in the side of the square.

Options :

1. ✗ 25 percent
2. ✗ 27.50 percent
3. ✓ 30 percent
4. ✗ 32.50 percent

Question Number : 94 Question Id : 5459279588 Question Type : MCQ Option Shuffling : Yes Display Question Number : Yes
Single Line Question Option : No Option Orientation : Vertical

Correct Marks : 1 Wrong Marks : 0.25

वर्ग का भाग बढ़ने उसका क्षेत्रफल 69 प्रतिशत बढ़ जाता है। वर्ग के भाग में कितनी वृद्धि की गई है?

Options :

1. ✗ 25 प्रतिशत
2. ✗ 27.50 प्रतिशत
3. ✓ 30 प्रतिशत
4. ✗ 32.50 प्रतिशत

Question Number : 95 Question Id : 5459279589 Question Type : MCQ Option Shuffling : Yes Display Question Number : Yes
Single Line Question Option : No Option Orientation : Vertical

Correct Marks : 1 Wrong Marks : 0.25

X has a basic salary of Rs 10000. He earns commission 5 percent on sales above Rs 40000. How much sales should he make to get a total pay of Rs 40000?

Options :

- ✘ Rs 600000
- ✘ Rs 720000
- ✘ Rs 560000
- ✔ Rs 640000

Question Number : 95 Question Id : 5459279589 Question Type : MCQ Option Shuffling : Yes Display Question Number : Yes
Single Line Question Option : No Option Orientation : Vertical

Correct Marks : 1 Wrong Marks : 0.25

X का मूल वेतन 10000 रुपए है वह 40000 रुपए से अधिक की बिक्री पर 5 प्रतिशत कमीशन कमाता है 40000 रुपए का कुल वेतन पाने के लिए उसे कितनी बिक्री करनी पड़ेगी?

Options :

- ✘ 600000 रुपए
- ✘ 720000 रुपए
- ✘ 560000 रुपए
- ✔ 640000 रुपए

Question Number : 96 Question Id : 5459279590 Question Type : MCQ Option Shuffling : Yes Display Question Number : Yes
Single Line Question Option : No Option Orientation : Vertical

Correct Marks : 1 Wrong Marks : 0.25

X scored 52 percent in a test and failed by 15 marks. Y scored 62 percent in the same test and passed by 35 marks. What is the passing score?

Options :

- ✔ 275
- ✘ 250
- ✘ 300
- ✘ 350

Question Number : 96 Question Id : 5459279590 Question Type : MCQ Option Shuffling : Yes Display Question Number : Yes
Single Line Question Option : No Option Orientation : Vertical

Correct Marks : 1 Wrong Marks : 0.25

X ने एक टेस्ट में 52 प्रतिशत स्कोर किया और 15 अंकों से असफल रहा। Y ने एक ही टेस्ट में 62 प्रतिशत स्कोर किया और 35 अंकों से उत्तीर्ण हुआ। उत्तीर्ण स्कोर क्या है?

Options :

- ✔ 275
- ✘ 250
- ✘ 300
- ✘ 350

Question Number : 97 Question Id : 5459279591 Question Type : MCQ Option Shuffling : Yes Display Question Number : Yes
Single Line Question Option : No Option Orientation : Vertical

Correct Marks : 1 Wrong Marks : 0.25

X bought a machine for Rs 10000 and Y bought it for 5 percent less. X sold the machine for 12000 and Y sold it for 15 percent more. How much more profit did Y make?

Options :

- ✔ Rs 2300
- ✘ Rs 1800

3. ✘ Rs 2400

4. ✘ Rs 2100

Question Number : 97 Question Id : 5459279591 Question Type : MCQ Option Shuffling : Yes Display Question Number : Yes
Single Line Question Option : No Option Orientation : Vertical

Correct Marks : 1 Wrong Marks : 0.25

X ने 10000 रुपए में एक मशीन खरीदी जबकि Y ने इसे 5 प्रतिशत कम में खरीदी। X ने मशीन को 12000 में बेच दिया और Y ने इसे 15 प्रतिशत अधिक में बेच दिया। Y ने कितना अधिक लाभ कमाया?

Options :

1. ✔ 2300 रुपए

2. ✘ 1800 रुपए

3. ✘ 2400 रुपए

4. ✘ 2100 रुपए

Question Number : 98 Question Id : 5459279592 Question Type : MCQ Option Shuffling : Yes Display Question Number : Yes
Single Line Question Option : No Option Orientation : Vertical

Correct Marks : 1 Wrong Marks : 0.25

A gadget was bought at a discount of 25 percent on MRP and was sold for 10 percent discount on MRP. What is the profit percentage?

Options :

1. ✔ 20 percent

2. ✘ 25 percent

3. ✘ 30 percent

4. ✘ 35 percent

Question Number : 98 Question Id : 5459279592 Question Type : MCQ Option Shuffling : Yes Display Question Number : Yes
Single Line Question Option : No Option Orientation : Vertical

Correct Marks : 1 Wrong Marks : 0.25

MRP पर 25 प्रतिशत की छूट पर एक गैजेट खरीदा गया था और MRP पर 10 प्रतिशत की छूट पर बेचा गया था। लाभ प्रतिशत क्या है?

Options :

1. ✔ 20 प्रतिशत

2. ✘ 25 प्रतिशत

3. ✘ 30 प्रतिशत

4. ✘ 35 प्रतिशत

Question Number : 99 Question Id : 5459279593 Question Type : MCQ Option Shuffling : Yes Display Question Number : Yes
Single Line Question Option : No Option Orientation : Vertical

Correct Marks : 1 Wrong Marks : 0.25

A school has 400 students. The annual fees was increased by 50 percent. 20 students were then offered a scholarship of 50 percent. By how much did the profits of the school increase?

Options :

1. ✘ 42.75 percent

2. ✘ 44.75 percent

3. ✘ 45.25 percent

4. ✔ 46.25 percent

Question Number : 99 Question Id : 5459279593 Question Type : MCQ Option Shuffling : Yes Display Question Number : Yes
Single Line Question Option : No Option Orientation : Vertical

Correct Marks : 1 Wrong Marks : 0.25

एक विद्यालय में 400 छात्र हैं। उसके वार्षिक शुल्क में 50 प्रतिशत की वृद्धि की गई जबकि 20 छात्रों को 50 प्रतिशत की छात्रवृत्ति प्रदान की गई। विद्यालय का मुनाफा कितना बढ़ा?

Options :

1. ✘ 42.75 प्रतिशत
2. ✘ 44.75 प्रतिशत
3. ✘ 45.25 प्रतिशत
4. ✔ 46.25 प्रतिशत

Question Number : 100 Question Id : 5459279594 Question Type : MCQ Option Shuffling : Yes Display Question Number : Yes
Single Line Question Option : No Option Orientation : Vertical

Correct Marks : 1 Wrong Marks : 0.25

Find the proportion equivalent to M:N:O:P if M:N = 8:15, N:O = 5:9 and O:P is 18:19?

Options :

1. ✔ 16:30:54:57
2. ✘ 16:28:54:57
3. ✘ 16:30:51:57
4. ✘ 16:30:54:76

Question Number : 100 Question Id : 5459279594 Question Type : MCQ Option Shuffling : Yes Display Question Number : Yes
Single Line Question Option : No Option Orientation : Vertical

Correct Marks : 1 Wrong Marks : 0.25

M:N:O:P के बराबर का अनुपात ज्ञात करें, यदि M:N = 8:15, N:O = 5:9 और O:P 18:19 है?

Options :

1. ✔ 16:30:54:57
2. ✘ 16:28:54:57
3. ✘ 16:30:51:57
4. ✘ 16:30:54:76

Arithmetic Ability2

Group Number :	6
Group Id :	545927476
Group Maximum Duration :	0
Group Minimum Duration :	0
Revisit allowed for view? :	No
Revisit allowed for edit? :	No
Break time:	0
Group Marks:	20
Revisit allowed for group Instructions? :	Yes
Maximum Instruction Time:	0
Minimum Instruction Time:	0

Arithmetic Ability2

Section Id :	545927476
Section Number :	1
Section type :	Online
Mandatory or Optional:	Mandatory

Number of Questions:	20
Number of Questions to be attempted:	20
Section Marks:	20
Display Number Panel:	Yes
Group All Questions:	No

Sub-Section Number:	1
Sub-Section Id:	545927570
Question Shuffling Allowed :	Yes

Question Number : 101 Question Id : 5459279595 Question Type : MCQ Option Shuffling : Yes Display Question Number : Yes
Single Line Question Option : No Option Orientation : Vertical

Correct Marks : 1 Wrong Marks : 0.25

If $x/y = 5/8$, then what is the value of $8x/5y$?

Options :

- ✘ 1:2
- ✔ 1:1
- ✘ 1:4
- ✘ 1:5

Question Number : 101 Question Id : 5459279595 Question Type : MCQ Option Shuffling : Yes Display Question Number : Yes
Single Line Question Option : No Option Orientation : Vertical

Correct Marks : 1 Wrong Marks : 0.25

यदि $x/y = 5/8$, तो $8x/5y$ का मूल्य क्या है?

Options :

- ✘ 1:2
- ✔ 1:1
- ✘ 1:4
- ✘ 1:5

Question Number : 102 Question Id : 5459279596 Question Type : MCQ Option Shuffling : Yes Display Question Number : Yes
Single Line Question Option : No Option Orientation : Vertical

Correct Marks : 1 Wrong Marks : 0.25

A number is 20 percent smaller than a second number. However, the second number now increases by 20 percent with no change in the first number. What is the ratio of the two numbers now?

Options :

- ✘ 3:5
- ✘ 5:3
- ✔ 2:3
- ✘ 3:2

Question Number : 102 Question Id : 5459279596 Question Type : MCQ Option Shuffling : Yes Display Question Number : Yes
Single Line Question Option : No Option Orientation : Vertical

Correct Marks : 1 Wrong Marks : 0.25

एक संख्या दूसरी संख्या से 20 प्रतिशत छोटी है। हालांकि, पहली संख्या में कोई बदलाव नहीं होने से अब दूसरी संख्या 20 प्रतिशत से बढ़ जाती है। अब दो संख्याओं का अनुपात क्या है?

Options :

- ✘ 3:5
- ✘ 5:3

3. ✓ 2:3

4. ✗ 3:2

Question Number : 103 Question Id : 5459279597 Question Type : MCQ Option Shuffling : Yes Display Question Number : Yes Single Line Question Option : No Option Orientation : Vertical

Correct Marks : 1 Wrong Marks : 0.25

A bank offers simple interest and a certain portion of the principal as bonus. A principal of Rs 25000 amounted to Rs 30000 when the interest rate was 10 percent. What was the rate of bonus?

Options :

1. ✓ 10 percent

2. ✗ 15 percent

3. ✗ 20 percent

4. ✗ 25 percent

Question Number : 103 Question Id : 5459279597 Question Type : MCQ Option Shuffling : Yes Display Question Number : Yes Single Line Question Option : No Option Orientation : Vertical

Correct Marks : 1 Wrong Marks : 0.25

एक बैंक साधारण ब्याज और मूलधन का एक निश्चित भाग बोनस के रूप में प्रदान करता है। ब्याज दर 10 प्रतिशत होने पर 25000 रुपए का मूलधन 30000 रुपए हो गया। बोनस की दर क्या थी?

Options :

1. ✓ 10 प्रतिशत

2. ✗ 15 प्रतिशत

3. ✗ 20 प्रतिशत

4. ✗ 25 प्रतिशत

Question Number : 104 Question Id : 5459279598 Question Type : MCQ Option Shuffling : Yes Display Question Number : Yes Single Line Question Option : No Option Orientation : Vertical

Correct Marks : 1 Wrong Marks : 0.25

A sum of Rs 12000 amounts to Rs 16000 in 3 years at the rate of simple interest. What is the rate of interest?

Options :

1. ✗ 8.00 percent

2. ✗ 9.09 percent

3. ✓ 11.11 percent

4. ✗ 10.00 percent

Question Number : 104 Question Id : 5459279598 Question Type : MCQ Option Shuffling : Yes Display Question Number : Yes Single Line Question Option : No Option Orientation : Vertical

Correct Marks : 1 Wrong Marks : 0.25

साधारण ब्याज की दर से 3 वर्षों में 12000 रुपए से 16000 रुपए हो जाती है। ब्याज दर क्या है?

Options :

1. ✗ 8.00 प्रतिशत

2. ✗ 9.09 प्रतिशत

3. ✓ 11.11 प्रतिशत

4. ✗ 10.00 प्रतिशत

Question Number : 105 Question Id : 5459279599 Question Type : MCQ Option Shuffling : Yes Display Question Number : Yes Single Line Question Option : No Option Orientation : Vertical

Correct Marks : 1 Wrong Marks : 0.25

An investment opportunity offers 200 percent p.a. compound interest compounded quarterly. What is the effective annual interest rate?

Options :

- ✘ 200 percent
- ✘ 250 percent
- ✔ 406.25 percent
- ✘ 506.25 percent

Question Number : 105 Question Id : 5459279599 Question Type : MCQ Option Shuffling : Yes Display Question Number : Yes
Single Line Question Option : No Option Orientation : Vertical

Correct Marks : 1 Wrong Marks : 0.25

200 प्रतिशत प्रति वर्ष चक्रवृद्धि ब्याज दर से चक्रवृद्धि त्रैमासिक निवेश का अवसर देती है। प्रभावी वार्षिक ब्याज दर क्या है?

Options :

- ✘ 200 प्रतिशत
- ✘ 250 प्रतिशत
- ✔ 406.25 प्रतिशत
- ✘ 506.25 प्रतिशत

Question Number : 106 Question Id : 5459279600 Question Type : MCQ Option Shuffling : Yes Display Question Number : Yes
Single Line Question Option : No Option Orientation : Vertical

Correct Marks : 1 Wrong Marks : 0.25

A shooter hits 2 targets at speeds of 750 km/h and 900 km/h. If the target is 100 m away, what is the ratio of the time taken to hit the target?

Options :

- ✘ 5:6
- ✔ 6:5
- ✘ 7:9
- ✘ 9:7

Question Number : 106 Question Id : 5459279600 Question Type : MCQ Option Shuffling : Yes Display Question Number : Yes
Single Line Question Option : No Option Orientation : Vertical

Correct Marks : 1 Wrong Marks : 0.25

एक शूटर 750 km/h और 900 km/h की गति से 2 निशाने लगाता है। यदि लक्ष्य 100 m दूर है, तो लक्ष्य को हिट करने में लगने वाले समय का अनुपात क्या है?

Options :

- ✘ 5:6
- ✔ 6:5
- ✘ 7:9
- ✘ 9:7

Question Number : 107 Question Id : 5459279601 Question Type : MCQ Option Shuffling : Yes Display Question Number : Yes
Single Line Question Option : No Option Orientation : Vertical

Correct Marks : 1 Wrong Marks : 0.25

A runner can complete a distance of 100 m in 15 seconds. If his speeds reduces by $\frac{1}{5}$ th, then how much distance can he cover in the next 30 seconds?

Options :

- ✔ 160 m
- ✘ 200 m
- ✘ 175 m
- ✘ 210 m

Question Number : 107 Question Id : 5459279601 Question Type : MCQ Option Shuffling : Yes Display Question Number : Yes
Single Line Question Option : No Option Orientation : Vertical

Correct Marks : 1 Wrong Marks : 0.25

एक धावक 15 सेकंड में 100 m की दूरी पूरी कर सकता है। यदि उसकी गति $1/5$ कम हो जाती है, तो वह अगले 30 सेकंड में कितनी दूरी तय कर सकता है?

Options :

1. ✓ 160 m
2. ✗ 200 m
3. ✗ 175 m
4. ✗ 210 m

Question Number : 108 Question Id : 5459279602 Question Type : MCQ Option Shuffling : Yes Display Question Number : Yes
Single Line Question Option : No Option Orientation : Vertical

Correct Marks : 1 Wrong Marks : 0.25

Two runners finish a 20 km marathon race in a difference of 30 mins. What is the winner's speed if their speeds differ by 2 km/h?

Options :

1. ✗ 12.5 km/h
2. ✗ 5 km/h
3. ✗ 8 km/h
4. ✓ 10 km/h

Question Number : 108 Question Id : 5459279602 Question Type : MCQ Option Shuffling : Yes Display Question Number : Yes
Single Line Question Option : No Option Orientation : Vertical

Correct Marks : 1 Wrong Marks : 0.25

दो धावक 30 मिनट के अंतर में 20 km की मैराथन दौड़ पूरी करते हैं। यदि विजेता की गति 2 km/h से भिन्न होती है तो विजेता की गति क्या है?

Options :

1. ✗ 12.5 km/h
2. ✗ 5 km/h
3. ✗ 8 km/h
4. ✓ 10 km/h

Question Number : 109 Question Id : 5459279603 Question Type : MCQ Option Shuffling : Yes Display Question Number : Yes
Single Line Question Option : No Option Orientation : Vertical

Correct Marks : 1 Wrong Marks : 0.25

X, Y and Z can complete a task in 240, 300 and 360 days respectively. In how many days can the work be finished if it is started by X and he is assisted by Y and Z on every third and second day respectively?

Options :

1. ✗ 120
2. ✗ 132
3. ✗ 144
4. ✓ 150

Question Number : 109 Question Id : 5459279603 Question Type : MCQ Option Shuffling : Yes Display Question Number : Yes
Single Line Question Option : No Option Orientation : Vertical

Correct Marks : 1 Wrong Marks : 0.25

X, Y और Z क्रमशः 240, 300 और 360 दिनों में एक कार्य पूरा कर सकते हैं। यदि X द्वारा शुरू किया गया है और उसे क्रमशः Y और Z द्वारा प्रत्येक तीसरे और दूसरे दिन सहायता प्रदान की जाती है तो कितने दिनों में कार्य समाप्त किया जा सकता है?

Options :

1. ✗ 120

2. ✘ 132
3. ✘ 144
4. ✔ 150

Question Number : 110 Question Id : 5459279604 Question Type : MCQ Option Shuffling : Yes Display Question Number : Yes
Single Line Question Option : No Option Orientation : Vertical

Correct Marks : 1 Wrong Marks : 0.25

X can type 25 words in a minute and Y can type 30 words in a minute. If an essay of 550 words is to be typed, then in how much time will both of them finish the essay while typing together?

Options :

1. ✘ 1/4 hour
2. ✔ 1/6 hour
3. ✘ 1/3 hour
4. ✘ 2/5 hour

Question Number : 110 Question Id : 5459279604 Question Type : MCQ Option Shuffling : Yes Display Question Number : Yes
Single Line Question Option : No Option Orientation : Vertical

Correct Marks : 1 Wrong Marks : 0.25

X एक मिनट में 25 शब्द टाइप कर सकता है और Y एक मिनट में 30 शब्द टाइप कर सकता है। यदि 550 शब्दों का निबंध टाइप करना है, तो दोनों कितने समय में एक साथ टाइप करते हुए निबंध खत्म करेंगे?

Options :

1. ✘ 1/4 घंटा
2. ✔ 1/6 घंटा
3. ✘ 1/3 घंटा
4. ✘ 2/5 घंटा

Question Number : 111 Question Id : 5459279605 Question Type : MCQ Option Shuffling : Yes Display Question Number : Yes
Single Line Question Option : No Option Orientation : Vertical

Correct Marks : 1 Wrong Marks : 0.25

X can complete 1/2 the task in 8 days and Y can complete 1/4th of the task in 16 days. In how many days together can they finish the task?

Options :

1. ✘ 12.5
2. ✘ 13.2
3. ✘ 10.8
4. ✔ 12.8

Question Number : 111 Question Id : 5459279605 Question Type : MCQ Option Shuffling : Yes Display Question Number : Yes
Single Line Question Option : No Option Orientation : Vertical

Correct Marks : 1 Wrong Marks : 0.25

X 1/2 कार्य को 18 दिन में पूरा कर सकता है और Y 16 दिनों में 1/4 कार्य पूरा कर सकता है। एक साथ कितने दिनों में वे कार्य पूरा कर सकते हैं?

Options :

1. ✘ 12.5
2. ✘ 13.2
3. ✘ 10.8
4. ✔ 12.8

Question Number : 112 Question Id : 5459279606 Question Type : MCQ Option Shuffling : Yes Display Question Number : Yes
Single Line Question Option : No Option Orientation : Vertical

Correct Marks : 1 Wrong Marks : 0.25

The total surface area of a cylinder measures 2992 sq cm and the radius is 14 cm. Find the height of the cylinder.

Options :

- ✘ 5 cm
- ✘ 10 cm
- ✘ 15 cm
- ✔ 20 cm

Question Number : 112 Question Id : 5459279606 Question Type : MCQ Option Shuffling : Yes Display Question Number : Yes
Single Line Question Option : No Option Orientation : Vertical

Correct Marks : 1 Wrong Marks : 0.25

एक सिलेंडर का कुल सतह क्षेत्र 2992 sq cm और त्रिज्या 14 cm है। सिलेंडर की ऊंचाई ज्ञात करें।

Options :

- ✘ 5 cm
- ✘ 10 cm
- ✘ 15 cm
- ✔ 20 cm

Question Number : 113 Question Id : 5459279607 Question Type : MCQ Option Shuffling : Yes Display Question Number : Yes
Single Line Question Option : No Option Orientation : Vertical

Correct Marks : 1 Wrong Marks : 0.25

Find the total surface area of the cone if the radius and height of the cone measure 42 cm and 56 cm respectively.

Options :

- ✘ 7392 sq cm
- ✔ 14784 sq cm
- ✘ 11088 sq cm
- ✘ 22176 sq cm

Question Number : 113 Question Id : 5459279607 Question Type : MCQ Option Shuffling : Yes Display Question Number : Yes
Single Line Question Option : No Option Orientation : Vertical

Correct Marks : 1 Wrong Marks : 0.25

यदि शंकु की त्रिज्या और ऊंचाई क्रमशः 42 cm और 56 cm है तो शंकु की कुल सतह का क्षेत्रफल ज्ञात करें।

Options :

- ✘ 7392 sq cm
- ✔ 14784 sq cm
- ✘ 11088 sq cm
- ✘ 22176 sq cm

Question Number : 114 Question Id : 5459279608 Question Type : MCQ Option Shuffling : Yes Display Question Number : Yes
Single Line Question Option : No Option Orientation : Vertical

Correct Marks : 1 Wrong Marks : 0.25

A conical figure is reformed where the radius is increased by 20 percent and the height is reduced by 20 percent. What is the change in the volume of the figure?

Options :

- ✘ 15.2 percent decrease
- ✔ 15.2 percent increase
- ✘ 20 percent decrease

4. ✘ 20 percent increase

Question Number : 114 Question Id : 5459279608 Question Type : MCQ Option Shuffling : Yes Display Question Number : Yes Single Line Question Option : No Option Orientation : Vertical

Correct Marks : 1 Wrong Marks : 0.25

एक शंकाकार आकृति में बदलाव किया जाता है जिसमें त्रिज्या में 20 प्रतिशत की वृद्धि होती है और ऊंचाई में 20 प्रतिशत की कमी होती है। आकृति के आयतन में क्या परिवर्तन होता है?

Options :

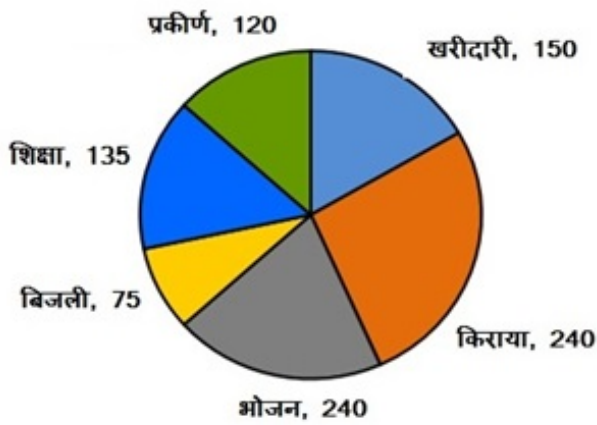
1. ✘ 15.2 प्रतिशत कमी
2. ✔ 15.2 प्रतिशत वृद्धि
3. ✘ 20 प्रतिशत कमी
4. ✘ 20 प्रतिशत वृद्धि

Question Number : 115 Question Id : 5459279609 Question Type : MCQ Option Shuffling : Yes Display Question Number : Yes Single Line Question Option : No Option Orientation : Vertical

Correct Marks : 1 Wrong Marks : 0.25

पाई चार्ट एक महीने के लिए एक विशेष परिवार के विभिन्न प्रकार के खर्चों को दर्शाता है। यदि बिजली पर खर्च की गई राशि 2250 रूपए है, तो किराए और खाने पर खर्च की गई राशि में कितना अंतर है? पाई चार्ट में दी गई संख्या परिवार के खर्च के अनुपात में है।

एक विशेष परिवार के खर्च



Options :

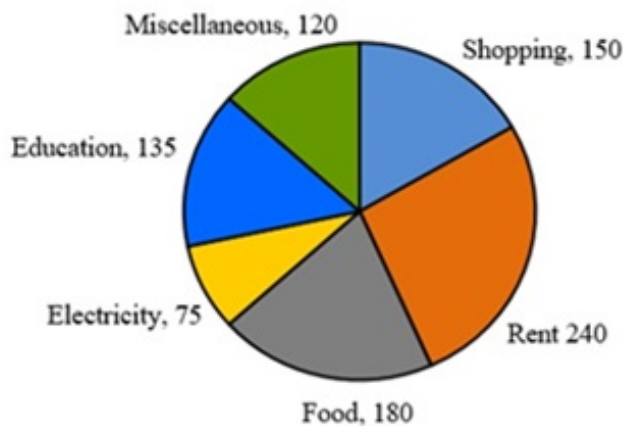
1. ✔ 1800 रूपए
2. ✘ 1600 रूपए
3. ✘ 2400 रूपए
4. ✘ 2700 रूपए

Question Number : 115 Question Id : 5459279609 Question Type : MCQ Option Shuffling : Yes Display Question Number : Yes Single Line Question Option : No Option Orientation : Vertical

Correct Marks : 1 Wrong Marks : 0.25

The pie chart shows the different kinds of expenses of a particular family for a month. If the amount spent on electricity is Rs 2250, then what is the difference between the amounts spent on Rent and Food? The numbers given in the pie chart are in proportion to the expenses of the family.

Expenses of a Particular Family



Options :

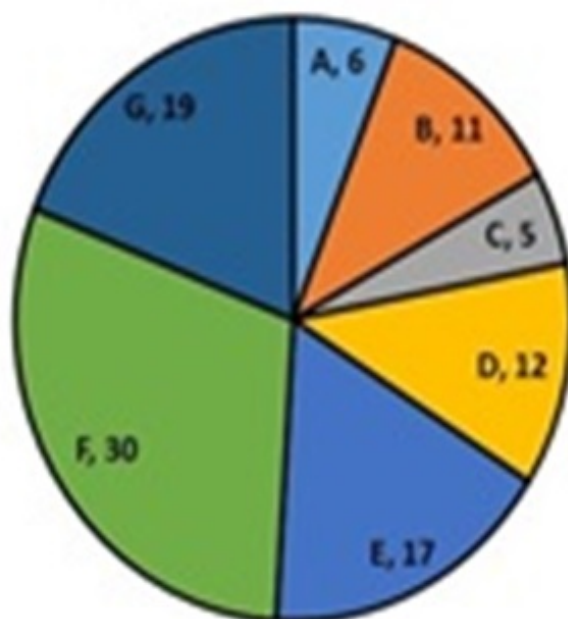
1. ✓ Rs 1800
2. ✗ Rs 1600
3. ✗ Rs 2400
4. ✗ Rs 2700

Question Number : 116 Question Id : 5459279610 Question Type : MCQ Option Shuffling : Yes Display Question Number : Yes Single Line Question Option : No Option Orientation : Vertical

Correct Marks : 1 Wrong Marks : 0.25

The pie chart shows the proportionate population of 7 districts. The 7 districts make up a town. If the population of Districts B, D and E add upto 80,000, then what is the total population of the other districts?

Population of Districts



Options :

1. ✗ 80000
2. ✗ 100000

3. ✘ 160000

4. ✔ 120000

Question Number : 116 Question Id : 5459279610 Question Type : MCQ Option Shuffling : Yes Display Question Number : Yes Single Line Question Option : No Option Orientation : Vertical

Correct Marks : 1 Wrong Marks : 0.25

पाई चार्ट 7 जिलों की आनुपातिक आबादी को दर्शाता है। 7 जिले एक शहर बनाते हैं। यदि जिलों B, D और E की जनसंख्या 80,000 तक है, तो अन्य जिलों की कुल जनसंख्या कितनी है?



Options :

1. ✘ 80000

2. ✘ 100000

3. ✘ 160000

4. ✔ 120000

Question Number : 117 Question Id : 5459279611 Question Type : MCQ Option Shuffling : Yes Display Question Number : Yes Single Line Question Option : No Option Orientation : Vertical

Correct Marks : 1 Wrong Marks : 0.25

The table shows the various annual expenses of a firm (in '000s of rupees) from 2002-2006. By how much is the average expenditure on Delivery is more than the average expenditure on Interest?

Year	Particulars				
	Purchases	Wages	Rent	Interest	Delivery
2002	62500	87500	100000	40000	40000
2003	75000	60000	85000	35000	45000
2004	100000	75000	90000	55000	55000
2005	110000	90000	50000	45000	55000
2006	125000	100000	70000	50000	75000

Options :

1. ✔ 20 percent

2. ✘ 12.50 percent
3. ✘ 10 percent
4. ✘ 25 percent

Question Number : 117 Question Id : 5459279611 Question Type : MCQ Option Shuffling : Yes Display Question Number : Yes Single Line Question Option : No Option Orientation : Vertical

Correct Marks : 1 Wrong Marks : 0.25

तालिका 2002-2006 तक एक फर्म (1000 रुपये में) के विभिन्न वार्षिक खर्चों को दर्शाती है। ब्याज और वितरण पर औसत व्यय कितना है?

वर्ष	विशेष				
	खरीद	वेतन	किराया	ब्याज	वितरण
2002	62500	87500	100000	40000	40000
2003	75000	60000	85000	35000	45000
2004	100000	75000	90000	55000	55000
2005	110000	90000	50000	45000	55000
2006	125000	100000	70000	50000	75000

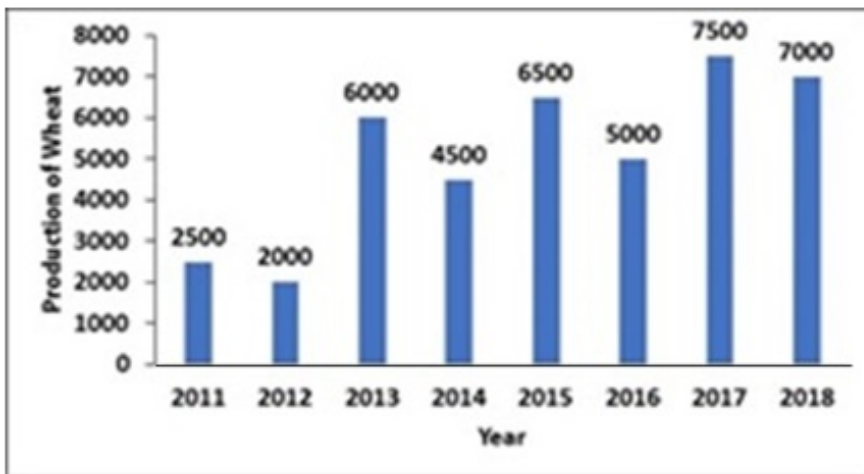
Options :

1. ✔ 20 प्रतिशत
2. ✘ 12.50 प्रतिशत
3. ✘ 10 प्रतिशत
4. ✘ 25 प्रतिशत

Question Number : 118 Question Id : 5459279612 Question Type : MCQ Option Shuffling : Yes Display Question Number : Yes Single Line Question Option : No Option Orientation : Vertical

Correct Marks : 1 Wrong Marks : 0.25

The bar graph below shows the production of wheat (in tonnes) by a big farm over the years 2011-2018. In how many of the given years was the production of wheat less than the previous year if the production in the year 2010 was 3000 tonnes?



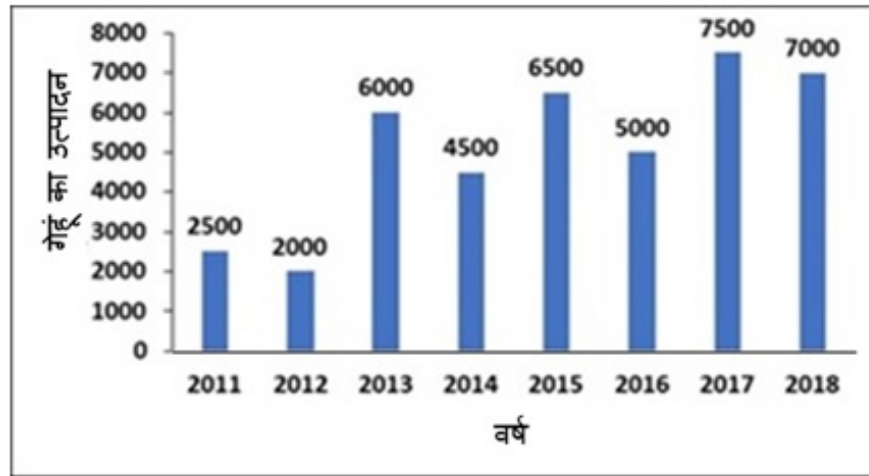
Options :

1. ✘ 4
2. ✔ 5
3. ✘ 6
4. ✘ 3

Question Number : 118 Question Id : 5459279612 Question Type : MCQ Option Shuffling : Yes Display Question Number : Yes Single Line Question Option : No Option Orientation : Vertical

Correct Marks : 1 Wrong Marks : 0.25

नीचे दिया गया बार ग्राफ वर्ष 2011-2018 में एक बड़े खेत में गेहूं (टन में) का उत्पादन दिखाता है। यदि वर्ष 2010 में उत्पादन 3000 टन था तो दिए गए वर्षों में से कितना टन गेहूं पिछले वर्ष की तुलना में कम था?



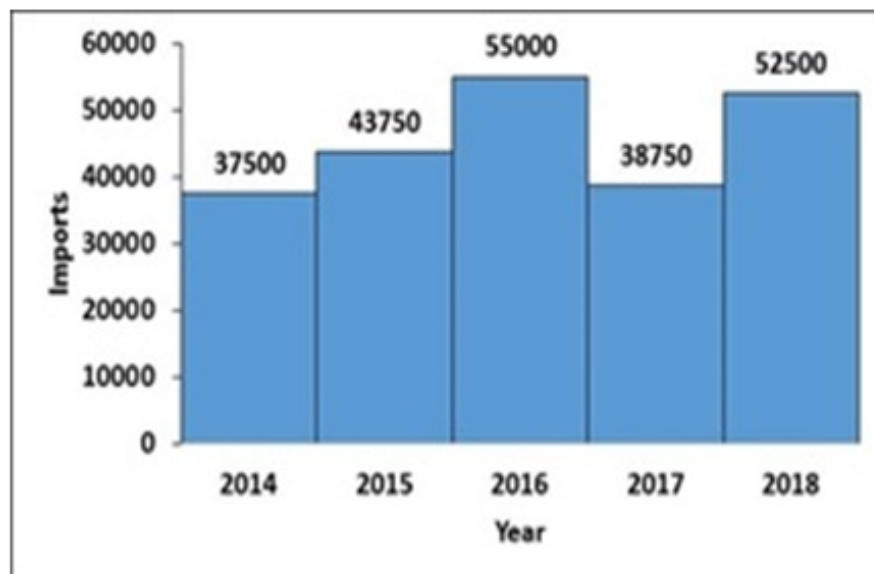
Options :

- ✘ 4
- ✔ 5
- ✘ 6
- ✘ 3

Question Number : 119 Question Id : 5459279613 Question Type : MCQ Option Shuffling : Yes Display Question Number : Yes Single Line Question Option : No Option Orientation : Vertical

Correct Marks : 1 Wrong Marks : 0.25

The following histogram shows the quantity of cement (in million kg) imported by India from 2014-2018. What is the ratio of the number of years having less than average imports to the number of years having more than average imports during the given period?



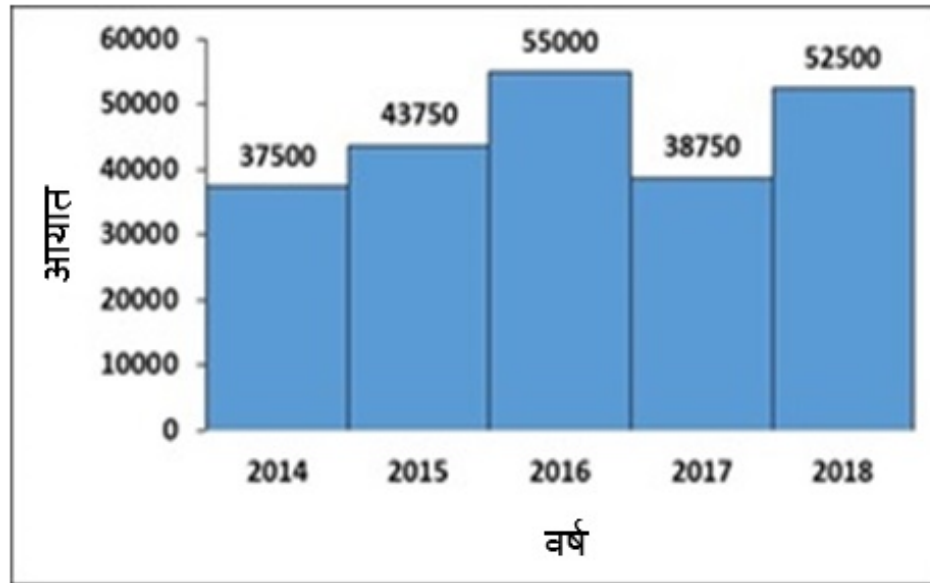
Options :

- ✘ 1:4
- ✘ 4:1
- ✘ 2:3
- ✔ 3:2

Question Number : 119 Question Id : 5459279613 Question Type : MCQ Option Shuffling : Yes Display Question Number : Yes
Single Line Question Option : No Option Orientation : Vertical

Correct Marks : 1 Wrong Marks : 0.25

नीचे दिया गया आयतचित्र 2014-2018 से भारत द्वारा आयातित (मिलियन kg में) सीमेंट की मात्रा को दर्शाता है। दी गई अवधि के दौरान औसत आयात से अधिक वर्षों की संख्या के औसत आयात से कम होने वाले वर्षों की संख्या का अनुपात क्या होगा?



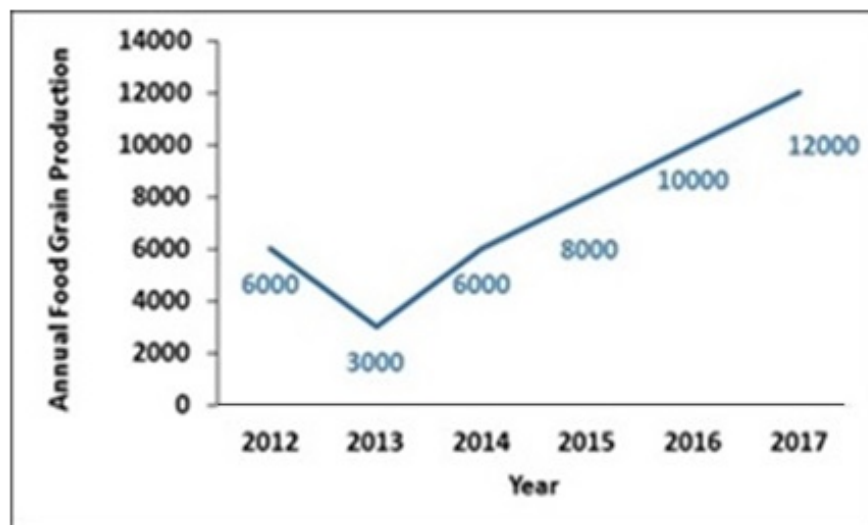
Options :

- ✘ 1:4
- ✘ 4:1
- ✘ 2:3
- ✔ 3:2

Question Number : 120 Question Id : 5459279614 Question Type : MCQ Option Shuffling : Yes Display Question Number : Yes
Single Line Question Option : No Option Orientation : Vertical

Correct Marks : 1 Wrong Marks : 0.25

The line chart shows the annual food grain production (in million tonnes) for years 2012-2017. By how much has the average production in 2015-2017 has increased from the average production in 2012-2014?



Options :

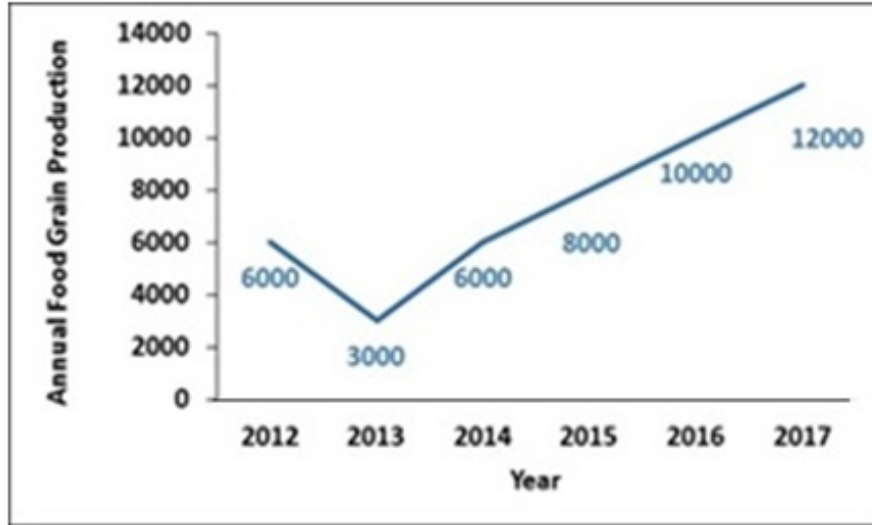
- ✔ 100 percent
- ✘ 25 percent
- ✘ 50 percent

4. ✘ 66.67 percent

Question Number : 120 Question Id : 5459279614 Question Type : MCQ Option Shuffling : Yes Display Question Number : Yes Single Line Question Option : No Option Orientation : Vertical

Correct Marks : 1 Wrong Marks : 0.25

लाइन चार्ट वर्ष 2012-2017 के लिए वार्षिक खाद्यान्न उत्पादन (मिलियन टन में) दर्शाता है। 2015-2017 में औसत उत्पादन 2012-2014 से कितना बढ़ा है?



Options :

- ✔ 100 प्रतिशत
- ✘ 25 प्रतिशत
- ✘ 50 प्रतिशत
- ✘ 66.67 प्रतिशत

General English 1

Group Number :	7
Group Id :	545927477
Group Maximum Duration :	0
Group Minimum Duration :	0
Revisit allowed for view? :	No
Revisit allowed for edit? :	No
Break time:	0
Group Marks:	20
Revisit allowed for group Instructions? :	Yes
Maximum Instruction Time:	0
Minimum Instruction Time:	0

General English 1

Section Id :	545927477
Section Number :	1
Section type :	Online
Mandatory or Optional:	Mandatory
Number of Questions:	20
Number of Questions to be attempted:	20
Section Marks:	20
Display Number Panel:	Yes

Group All Questions:

No

Sub-Section Number:

1

Sub-Section Id:

545927571

Question Shuffling Allowed :

Yes

Question Number : 121 Question Id : 5459279615 Question Type : MCQ Option Shuffling : Yes Display Question Number : Yes
Single Line Question Option : No Option Orientation : Vertical

Correct Marks : 1 Wrong Marks : 0.25

In the following statement, one part of the sentence may have an error. Find out which part of the sentence has an error and click the button corresponding to it. If the sentence is free from error, select the "No error" option.

(A) They wanted to / (B) build a new / (C) shed in the garden. / (D) No error

Options :

1. ✘ A
2. ✘ B
3. ✘ C
4. ✔ D

Question Number : 121 Question Id : 5459279615 Question Type : MCQ Option Shuffling : Yes Display Question Number : Yes
Single Line Question Option : No Option Orientation : Vertical

Correct Marks : 1 Wrong Marks : 0.25

In the following statement, one part of the sentence may have an error. Find out which part of the sentence has an error and click the button corresponding to it. If the sentence is free from error, select the "No error" option.

(A) They wanted to / (B) build a new / (C) shed in the garden. / (D) No error

Options :

1. ✘ A
2. ✘ B
3. ✘ C
4. ✔ D

Question Number : 122 Question Id : 5459279616 Question Type : MCQ Option Shuffling : Yes Display Question Number : Yes
Single Line Question Option : No Option Orientation : Vertical

Correct Marks : 1 Wrong Marks : 0.25

In the following statement, one part of the sentence may have an error. Find out which part of the sentence has an error and click the button corresponding to it. If the sentence is free from error, select the "No error" option.

(A) Their meeting / (B) lasted for / (C) almost a hour. / (D) No error

Options :

1. ✘ A
2. ✘ B
3. ✔ C
4. ✘ D

Question Number : 122 Question Id : 5459279616 Question Type : MCQ Option Shuffling : Yes Display Question Number : Yes
Single Line Question Option : No Option Orientation : Vertical

Correct Marks : 1 Wrong Marks : 0.25

In the following statement, one part of the sentence may have an error. Find out which part of the sentence has an error and click the button corresponding to it. If the sentence is free from error, select the "No error" option.

(A) Their meeting / (B) lasted for / (C) almost a hour. / (D) No error

Options :

1. ✘ A
2. ✘ B
3. ✔ C
4. ✘ D

Question Number : 123 Question Id : 5459279617 Question Type : MCQ Option Shuffling : Yes Display Question Number : Yes Single Line Question Option : No Option Orientation : Vertical

Correct Marks : 1 Wrong Marks : 0.25

In the following statement, one part of the sentence may have an error. Find out which part of the sentence has an error and click the button corresponding to it. If the sentence is free from error, select the "No error" option.

(A) Many cafes / (B) serve complimentary / (C) mocktail with the meal. / (D) No error

Options :

1. ✘ A
2. ✘ B
3. ✘ C
4. ✔ D

Question Number : 123 Question Id : 5459279617 Question Type : MCQ Option Shuffling : Yes Display Question Number : Yes Single Line Question Option : No Option Orientation : Vertical

Correct Marks : 1 Wrong Marks : 0.25

In the following statement, one part of the sentence may have an error. Find out which part of the sentence has an error and click the button corresponding to it. If the sentence is free from error, select the "No error" option.

(A) Many cafes / (B) serve complimentary / (C) mocktail with the meal. / (D) No error

Options :

1. ✘ A
2. ✘ B
3. ✘ C
4. ✔ D

Question Number : 124 Question Id : 5459279618 Question Type : MCQ Option Shuffling : Yes Display Question Number : Yes Single Line Question Option : No Option Orientation : Vertical

Correct Marks : 1 Wrong Marks : 0.25

In the following statement, one part of the sentence may have an error. Find out which part of the sentence has an error and click the button corresponding to it. If the sentence is free from error, select the "No error" option.

(A) My friends moved / (B) to a small house / (C) at the sea. / (D) No error

Options :

1. ✘ A
2. ✘ B
3. ✔ C

4. ✘ D

Question Number : 124 Question Id : 5459279618 Question Type : MCQ Option Shuffling : Yes Display Question Number : Yes
Single Line Question Option : No Option Orientation : Vertical

Correct Marks : 1 Wrong Marks : 0.25

In the following statement, one part of the sentence may have an error. Find out which part of the sentence has an error and click the button corresponding to it. If the sentence is free from error, select the "No error" option.

(A) My friends moved / (B) to a small house / (C) at the sea. / (D) No error

Options :

1. ✘ A

2. ✘ B

3. ✔ C

4. ✘ D

Question Number : 125 Question Id : 5459279619 Question Type : MCQ Option Shuffling : Yes Display Question Number : Yes
Single Line Question Option : No Option Orientation : Vertical

Correct Marks : 1 Wrong Marks : 0.25

In the following statement, one part of the sentence may have an error. Find out which part of the sentence has an error and click the button corresponding to it. If the sentence is free from error, select the "No error" option.

(A) One of the colleague / (B) was unsure / (C) about the plan of action. / (D) No error

Options :

1. ✔ A

2. ✘ B

3. ✘ C

4. ✘ D

Question Number : 125 Question Id : 5459279619 Question Type : MCQ Option Shuffling : Yes Display Question Number : Yes
Single Line Question Option : No Option Orientation : Vertical

Correct Marks : 1 Wrong Marks : 0.25

In the following statement, one part of the sentence may have an error. Find out which part of the sentence has an error and click the button corresponding to it. If the sentence is free from error, select the "No error" option.

(A) One of the colleague / (B) was unsure / (C) about the plan of action. / (D) No error

Options :

1. ✔ A

2. ✘ B

3. ✘ C

4. ✘ D

Question Number : 126 Question Id : 5459279620 Question Type : MCQ Option Shuffling : Yes Display Question Number : Yes
Single Line Question Option : No Option Orientation : Vertical

Correct Marks : 1 Wrong Marks : 0.25

Select the word segment that substitutes (replaces) the bracketed word segment correctly and completes the sentence meaningfully.

(Though) of the hardwork, Harsh could not succeed.

Options :

1. ✓ Inspite
2. ✗ Although
3. ✗ With
4. ✗ No correction

Question Number : 126 Question Id : 5459279620 Question Type : MCQ Option Shuffling : Yes Display Question Number : Yes Single Line Question Option : No Option Orientation : Vertical

Correct Marks : 1 Wrong Marks : 0.25

Select the word segment that substitutes (replaces) the bracketed word segment correctly and completes the sentence meaningfully.(Though) of the hardwork, Harsh could not succeed.

Options :

1. ✓ Inspite
2. ✗ Although
3. ✗ With
4. ✗ No correction

Question Number : 127 Question Id : 5459279621 Question Type : MCQ Option Shuffling : Yes Display Question Number : Yes Single Line Question Option : No Option Orientation : Vertical

Correct Marks : 1 Wrong Marks : 0.25

Select the word segment that substitutes (replaces) the bracketed word segment correctly and completes the sentence meaningfully.

The new manager is bound to (effect) positive changes in the office.

Options :

1. ✗ have effecting
2. ✓ affect
3. ✗ is affecting
4. ✗ No correction

Question Number : 127 Question Id : 5459279621 Question Type : MCQ Option Shuffling : Yes Display Question Number : Yes Single Line Question Option : No Option Orientation : Vertical

Correct Marks : 1 Wrong Marks : 0.25

Select the word segment that substitutes (replaces) the bracketed word segment correctly and completes the sentence meaningfully.

The new manager is bound to (effect) positive changes in the office.

Options :

1. ✗ have effecting
2. ✓ affect
3. ✗ is affecting
4. ✗ No correction

Question Number : 128 Question Id : 5459279622 Question Type : MCQ Option Shuffling : Yes Display Question Number : Yes Single Line Question Option : No Option Orientation : Vertical

Correct Marks : 1 Wrong Marks : 0.25

Select the word segment that substitutes (replaces) the bracketed word segment correctly and completes the sentence meaningfully.

Prachi is the (most pretty) girl in the college.

Options :

1. ✗ most prettiest

2. ✘ more pretty
3. ✔ prettiest
4. ✘ No correction

Question Number : 128 Question Id : 5459279622 Question Type : MCQ Option Shuffling : Yes Display Question Number : Yes
Single Line Question Option : No Option Orientation : Vertical

Correct Marks : 1 Wrong Marks : 0.25

Select the word segment that substitutes (replaces) the bracketed word segment correctly and completes the sentence meaningfully.

Prachi is the (most pretty) girl in the college.

Options :

1. ✘ most prettiest
2. ✘ more pretty
3. ✔ prettiest
4. ✘ No correction

Question Number : 129 Question Id : 5459279623 Question Type : MCQ Option Shuffling : Yes Display Question Number : Yes
Single Line Question Option : No Option Orientation : Vertical

Correct Marks : 1 Wrong Marks : 0.25

Select the word segment that substitutes (replaces) the bracketed word segment correctly and completes the sentence meaningfully.

Shami is (best) than Chahal.

Options :

1. ✘ good
2. ✘ more good
3. ✔ better
4. ✘ No correction

Question Number : 129 Question Id : 5459279623 Question Type : MCQ Option Shuffling : Yes Display Question Number : Yes
Single Line Question Option : No Option Orientation : Vertical

Correct Marks : 1 Wrong Marks : 0.25

Select the word segment that substitutes (replaces) the bracketed word segment correctly and completes the sentence meaningfully.

Shami is (best) than Chahal.

Options :

1. ✘ good
2. ✘ more good
3. ✔ better
4. ✘ No correction

Question Number : 130 Question Id : 5459279624 Question Type : MCQ Option Shuffling : Yes Display Question Number : Yes
Single Line Question Option : No Option Orientation : Vertical

Correct Marks : 1 Wrong Marks : 0.25

Select the word segment that substitutes (replaces) the bracketed word segment correctly and completes the sentence meaningfully.

The lane which (connecting) the two cities is deserted.

Options :

1. ✘ connected
2. ✔ connects
3. ✘ has connecting
4. ✘ No correction

Question Number : 130 Question Id : 5459279624 Question Type : MCQ Option Shuffling : Yes Display Question Number : Yes Single Line Question Option : No Option Orientation : Vertical

Correct Marks : 1 Wrong Marks : 0.25

Select the word segment that substitutes (replaces) the bracketed word segment correctly and completes the sentence meaningfully.

The lane which (connecting) the two cities is deserted.

Options :

1. ✘ connected
2. ✔ connects
3. ✘ has connecting
4. ✘ No correction

Question Number : 131 Question Id : 5459279625 Question Type : MCQ Option Shuffling : Yes Display Question Number : Yes Single Line Question Option : No Option Orientation : Vertical

Correct Marks : 1 Wrong Marks : 0.25

Select the word that fills in the blank correctly and completes the sentence meaningfully.

Veena was _____ to bed with fever.

Options :

1. ✘ attached
2. ✔ confined
3. ✘ sticking
4. ✘ lying

Question Number : 131 Question Id : 5459279625 Question Type : MCQ Option Shuffling : Yes Display Question Number : Yes Single Line Question Option : No Option Orientation : Vertical

Correct Marks : 1 Wrong Marks : 0.25

Select the word that fills in the blank correctly and completes the sentence meaningfully.

Veena was _____ to bed with fever.

Options :

1. ✘ attached
2. ✔ confined
3. ✘ sticking
4. ✘ lying

Question Number : 132 Question Id : 5459279626 Question Type : MCQ Option Shuffling : Yes Display Question Number : Yes Single Line Question Option : No Option Orientation : Vertical

Correct Marks : 1 Wrong Marks : 0.25

Select the word that fills in the blank correctly and completes the sentence meaningfully.

Sakshi _____ one son and one daughter.

Options :

1. ✘ are

2. ✘ is
3. ✔ has
4. ✘ have

Question Number : 132 Question Id : 5459279626 Question Type : MCQ Option Shuffling : Yes Display Question Number : Yes
Single Line Question Option : No Option Orientation : Vertical

Correct Marks : 1 Wrong Marks : 0.25

Select the word that fills in the blank correctly and completes the sentence meaningfully.

Sakshi _____ one son and one daughter.

Options :

1. ✘ are
2. ✘ is
3. ✔ has
4. ✘ have

Question Number : 133 Question Id : 5459279627 Question Type : MCQ Option Shuffling : Yes Display Question Number : Yes
Single Line Question Option : No Option Orientation : Vertical

Correct Marks : 1 Wrong Marks : 0.25

Select the word that fills in the blank correctly and completes the sentence meaningfully.

Rakhi was content _____ her gifts.

Options :

1. ✔ with
2. ✘ at
3. ✘ on
4. ✘ to

Question Number : 133 Question Id : 5459279627 Question Type : MCQ Option Shuffling : Yes Display Question Number : Yes
Single Line Question Option : No Option Orientation : Vertical

Correct Marks : 1 Wrong Marks : 0.25

Select the word that fills in the blank correctly and completes the sentence meaningfully.

Rakhi was content _____ her gifts.

Options :

1. ✔ with
2. ✘ at
3. ✘ on
4. ✘ to

Question Number : 134 Question Id : 5459279628 Question Type : MCQ Option Shuffling : Yes Display Question Number : Yes
Single Line Question Option : No Option Orientation : Vertical

Correct Marks : 1 Wrong Marks : 0.25

Select the word that fills in the blank correctly and completes the sentence meaningfully.

Shamita is absorbed _____ reading.

Options :

1. ✘ on
2. ✘ to
3. ✘ at

4. ✓ in

Question Number : 134 Question Id : 5459279628 Question Type : MCQ Option Shuffling : Yes Display Question Number : Yes
Single Line Question Option : No Option Orientation : Vertical

Correct Marks : 1 Wrong Marks : 0.25

Select the word that fills in the blank correctly and completes the sentence meaningfully.

Shamita is absorbed ____ reading.

Options :

1. ✗ on

2. ✗ to

3. ✗ at

4. ✓ in

Question Number : 135 Question Id : 5459279629 Question Type : MCQ Option Shuffling : Yes Display Question Number : Yes
Single Line Question Option : No Option Orientation : Vertical

Correct Marks : 1 Wrong Marks : 0.25

Select the word that fills in the blank correctly and completes the sentence meaningfully.

Mahika jumped ____ from the bed.

Options :

1. ✗ up

2. ✗ in

3. ✗ at

4. ✓ on

Question Number : 135 Question Id : 5459279629 Question Type : MCQ Option Shuffling : Yes Display Question Number : Yes
Single Line Question Option : No Option Orientation : Vertical

Correct Marks : 1 Wrong Marks : 0.25

Select the word that fills in the blank correctly and completes the sentence meaningfully.

Mahika jumped ____ from the bed.

Options :

1. ✗ up

2. ✗ in

3. ✗ at

4. ✓ on

Question Number : 136 Question Id : 5459279630 Question Type : MCQ Option Shuffling : Yes Display Question Number : Yes
Single Line Question Option : No Option Orientation : Vertical

Correct Marks : 1 Wrong Marks : 0.25

Select the word that fills in the blank correctly and completes the sentence meaningfully.

Vani's manager was doubtful _____ her success.

Options :

1. ✗ in

2. ✗ at

3. ✓ of

4. ✗ on

Question Number : 136 Question Id : 5459279630 Question Type : MCQ Option Shuffling : Yes Display Question Number : Yes
Single Line Question Option : No Option Orientation : Vertical

Correct Marks : 1 Wrong Marks : 0.25

Select the word that fills in the blank correctly and completes the sentence meaningfully.

Vani's manager was doubtful _____ her success.

Options :

1. ✘ in
2. ✘ at
3. ✔ of
4. ✘ on

Question Number : 137 Question Id : 5459279631 Question Type : MCQ Option Shuffling : Yes Display Question Number : Yes
Single Line Question Option : No Option Orientation : Vertical

Correct Marks : 1 Wrong Marks : 0.25

Select the word that fills in the blank correctly and completes the sentence meaningfully.

The manager thought that Vikash _____ fail.

Options :

1. ✘ will
2. ✔ would
3. ✘ must
4. ✘ should

Question Number : 137 Question Id : 5459279631 Question Type : MCQ Option Shuffling : Yes Display Question Number : Yes
Single Line Question Option : No Option Orientation : Vertical

Correct Marks : 1 Wrong Marks : 0.25

Select the word that fills in the blank correctly and completes the sentence meaningfully.

The manager thought that Vikash _____ fail.

Options :

1. ✘ will
2. ✔ would
3. ✘ must
4. ✘ should

Question Number : 138 Question Id : 5459279632 Question Type : MCQ Option Shuffling : Yes Display Question Number : Yes
Single Line Question Option : No Option Orientation : Vertical

Correct Marks : 1 Wrong Marks : 0.25

Select the word that fills in the blank correctly and completes the sentence meaningfully.

Harsh was _____ in the army.

Options :

1. ✘ endowed
2. ✘ eager
3. ✘ engaged
4. ✔ enlisted

Question Number : 138 Question Id : 5459279632 Question Type : MCQ Option Shuffling : Yes Display Question Number : Yes
Single Line Question Option : No Option Orientation : Vertical

Correct Marks : 1 Wrong Marks : 0.25

Select the word that fills in the blank correctly and completes the sentence meaningfully.

Harsh was _____ in the army.

Options :

1. ✘ endowed
2. ✘ eager
3. ✘ engaged
4. ✔ enlisted

Question Number : 139 Question Id : 5459279633 Question Type : MCQ Option Shuffling : Yes Display Question Number : Yes
Single Line Question Option : No Option Orientation : Vertical

Correct Marks : 1 Wrong Marks : 0.25

The questions below consist of a set of labelled parts of a sentence. Out of four options given, select the most logical order of the parts which form a coherent sentence.

It has been

P : has a detrimental

Q : found that the

R : effect on the ozone layer

S : use of body spray

Options :

1. ✘ SPQR
2. ✘ PQSR
3. ✔ QSPR
4. ✘ RSQP

Question Number : 139 Question Id : 5459279633 Question Type : MCQ Option Shuffling : Yes Display Question Number : Yes
Single Line Question Option : No Option Orientation : Vertical

Correct Marks : 1 Wrong Marks : 0.25

The questions below consist of a set of labelled parts of a sentence. Out of four options given, select the most logical order of the parts which form a coherent sentence.

It has been

P : has a detrimental

Q : found that the

R : effect on the ozone layer

S : use of body spray

Options :

1. ✘ SPQR
2. ✘ PQSR
3. ✔ QSPR
4. ✘ RSQP

Question Number : 140 Question Id : 5459279634 Question Type : MCQ Option Shuffling : Yes Display Question Number : Yes
Single Line Question Option : No Option Orientation : Vertical

Correct Marks : 1 Wrong Marks : 0.25

The questions below consist of a set of labelled parts of a sentence. Out of four options given, select the most logical order of the parts which form a coherent sentence.

The city police
P : department reported
Q : of all petty crimes
R : go unreported
S : that approximately 80 percent

Options :

1. ✘ QSRP
2. ✘ PRSQ
3. ✔ PSQR
4. ✘ SQRP

Question Number : 140 Question Id : 5459279634 Question Type : MCQ Option Shuffling : Yes Display Question Number : Yes
Single Line Question Option : No Option Orientation : Vertical

Correct Marks : 1 Wrong Marks : 0.25

The questions below consist of a set of labelled parts of a sentence. Out of four options given, select the most logical order of the parts which form a coherent sentence.

The city police
P : department reported
Q : of all petty crimes
R : go unreported
S : that approximately 80 percent

Options :

1. ✘ QSRP
2. ✘ PRSQ
3. ✔ PSQR
4. ✘ SQRP

General English2

Group Number :	8
Group Id :	545927478
Group Maximum Duration :	0
Group Minimum Duration :	0
Revisit allowed for view? :	No
Revisit allowed for edit? :	No
Break time:	0
Group Marks:	20
Revisit allowed for group Instructions? :	Yes
Maximum Instruction Time:	0
Minimum Instruction Time:	0

General English2

Section Id :	545927478
Section Number :	1
Section type :	Online
Mandatory or Optional:	Mandatory
Number of Questions:	16

Number of Questions to be attempted:	16
Section Marks:	20
Display Number Panel:	Yes
Group All Questions:	No

Sub-Section Number:	1
Sub-Section Id:	545927572
Question Shuffling Allowed :	Yes

Question Number : 141 Question Id : 5459279635 Question Type : MCQ Option Shuffling : Yes Display Question Number : Yes Single Line Question Option : No Option Orientation : Vertical

Correct Marks : 1 Wrong Marks : 0.25

The sentences of a paragraph have been jumbled up, and labelled P, Q, R and S. Select the option that gives the correct sequence in which these sentences should be rearranged to form a meaningful paragraph.

The breadth of experimentation must be related to the degree of unknowability that confronts the firm.

P : But the goal is not just to develop perfect strategies that take us in the right direction and then, progressively refine them by rapid experimentation and adjustment.

Q : The more the experimentation, the faster a company can understand precisely which strategies are likely to work.

R : We should spend less time working on strategy as a thing and more time working to understand the secret preconditions that give rise to it.

S : The best way to create wealth for employees and stockholders is to renew our commitment to developing and executing innovative strategies.

Science is closing in on the deep secrets of our life; we must redouble our efforts to close in on the deep secrets of corporate vitality.

Options :

1. ✓ QSPR
2. ✗ PQRS
3. ✗ SQPR
4. ✗ RSQP

Question Number : 141 Question Id : 5459279635 Question Type : MCQ Option Shuffling : Yes Display Question Number : Yes Single Line Question Option : No Option Orientation : Vertical

Correct Marks : 1 Wrong Marks : 0.25

The sentences of a paragraph have been jumbled up, and labelled P, Q, R and S. Select the option that gives the correct sequence in which these sentences should be rearranged to form a meaningful paragraph.

The breadth of experimentation must be related to the degree of unknowability that confronts the firm.

P : But the goal is not just to develop perfect strategies that take us in the right direction and then, progressively refine them by rapid experimentation and adjustment.

Q : The more the experimentation, the faster a company can understand precisely which strategies are likely to work.

R : We should spend less time working on strategy as a thing and more time working to understand the secret preconditions that give rise to it.

S : The best way to create wealth for employees and stockholders is to renew our commitment to developing and executing innovative strategies.

Science is closing in on the deep secrets of our life; we must redouble our efforts to close in on the deep secrets of corporate vitality.

Options :

1. ✓ QSPR
2. ✗ PQRS
3. ✗ SQPR

4. ✘ RSQP

Question Number : 142 Question Id : 5459279636 Question Type : MCQ Option Shuffling : Yes Display Question Number : Yes
Single Line Question Option : No Option Orientation : Vertical

Correct Marks : 1 Wrong Marks : 0.25

Select the word that is closest in meaning SYNONYM to the word given below.

ABATE

Options :

1. ✘ Increase
2. ✔ Decrease
3. ✘ Approve
4. ✘ Flexible

Question Number : 142 Question Id : 5459279636 Question Type : MCQ Option Shuffling : Yes Display Question Number : Yes
Single Line Question Option : No Option Orientation : Vertical

Correct Marks : 1 Wrong Marks : 0.25

Select the word that is closest in meaning SYNONYM to the word given below.

ABATE

Options :

1. ✘ Increase
2. ✔ Decrease
3. ✘ Approve
4. ✘ Flexible

Question Number : 143 Question Id : 5459279637 Question Type : MCQ Option Shuffling : Yes Display Question Number : Yes
Single Line Question Option : No Option Orientation : Vertical

Correct Marks : 1 Wrong Marks : 0.25

Select the word that is closest in meaning SYNONYM to the word given below.

PERTURE

Options :

1. ✔ Worry
2. ✘ Happy
3. ✘ Smart
4. ✘ Fixed

Question Number : 143 Question Id : 5459279637 Question Type : MCQ Option Shuffling : Yes Display Question Number : Yes
Single Line Question Option : No Option Orientation : Vertical

Correct Marks : 1 Wrong Marks : 0.25

Select the word that is closest in meaning SYNONYM to the word given below.

PERTURE

Options :

1. ✔ Worry
2. ✘ Happy
3. ✘ Smart
4. ✘ Fixed

Question Number : 144 Question Id : 5459279638 Question Type : MCQ Option Shuffling : Yes Display Question Number : Yes
Single Line Question Option : No Option Orientation : Vertical

Correct Marks : 1 Wrong Marks : 0.25

Select the word that is opposite in meaning ANTONYM to the word given below.

ADJUNCT

Options :

1. ✓ Subtracted
2. ✗ Added
3. ✗ Fortune
4. ✗ Forgive

Question Number : 144 Question Id : 5459279638 Question Type : MCQ Option Shuffling : Yes Display Question Number : Yes
Single Line Question Option : No Option Orientation : Vertical

Correct Marks : 1 Wrong Marks : 0.25

Select the word that is opposite in meaning ANTONYM to the word given below.

ADJUNCT

Options :

1. ✓ Subtracted
2. ✗ Added
3. ✗ Fortune
4. ✗ Forgive

Question Number : 145 Question Id : 5459279639 Question Type : MCQ Option Shuffling : Yes Display Question Number : Yes
Single Line Question Option : No Option Orientation : Vertical

Correct Marks : 1 Wrong Marks : 0.25

Select the word that is opposite in meaning ANTONYM to the word given below.

EFFACE

Options :

1. ✓ Maintain
2. ✗ Uncertain
3. ✗ Cease
4. ✗ Destroy

Question Number : 145 Question Id : 5459279639 Question Type : MCQ Option Shuffling : Yes Display Question Number : Yes
Single Line Question Option : No Option Orientation : Vertical

Correct Marks : 1 Wrong Marks : 0.25

Select the word that is opposite in meaning ANTONYM to the word given below.

EFFACE

Options :

1. ✓ Maintain
2. ✗ Uncertain
3. ✗ Cease
4. ✗ Destroy

Question Number : 146 Question Id : 5459279640 Question Type : MCQ Option Shuffling : Yes Display Question Number : Yes
Single Line Question Option : No Option Orientation : Vertical

Correct Marks : 1 Wrong Marks : 0.25

Select the word that is opposite in meaning ANTONYM to the word given below.

DEFILE

Options :

1. ✘ Smart
2. ✘ Spend
3. ✘ Contaminate
4. ✔ Purify

Question Number : 146 Question Id : 5459279640 Question Type : MCQ Option Shuffling : Yes Display Question Number : Yes
Single Line Question Option : No Option Orientation : Vertical

Correct Marks : 1 Wrong Marks : 0.25

Select the word that is opposite in meaning ANTONYM to the word given below.

DEFILE

Options :

1. ✘ Smart
2. ✘ Spend
3. ✘ Contaminate
4. ✔ Purify

Question Number : 147 Question Id : 5459279641 Question Type : MCQ Option Shuffling : Yes Display Question Number : Yes
Single Line Question Option : No Option Orientation : Vertical

Correct Marks : 1 Wrong Marks : 0.25

Four words are given, out of which only one word is spelt correctly. Choose the correctly spelt word.

Options :

1. ✔ Accommodation
2. ✘ Acommodation
3. ✘ Accomodation
4. ✘ Acomodation

Question Number : 147 Question Id : 5459279641 Question Type : MCQ Option Shuffling : Yes Display Question Number : Yes
Single Line Question Option : No Option Orientation : Vertical

Correct Marks : 1 Wrong Marks : 0.25

Four words are given, out of which only one word is spelt correctly. Choose the correctly spelt word.

Options :

1. ✔ Accommodation
2. ✘ Acommodation
3. ✘ Accomodation
4. ✘ Acomodation

Question Number : 148 Question Id : 5459279642 Question Type : MCQ Option Shuffling : Yes Display Question Number : Yes
Single Line Question Option : No Option Orientation : Vertical

Correct Marks : 1 Wrong Marks : 0.25

Four words are given, out of which only one word is spelt correctly. Choose the correctly spelt word.

Options :

1. ✔ Guillotine
2. ✘ Guliotine
3. ✘ Guilotine

4. ✘ Guillotine

Question Number : 148 Question Id : 5459279642 Question Type : MCQ Option Shuffling : Yes Display Question Number : Yes
Single Line Question Option : No Option Orientation : Vertical

Correct Marks : 1 Wrong Marks : 0.25

Four words are given, out of which only one word is spelt correctly. Choose the correctly spelt word.

Options :

1. ✔ Guillotine
2. ✘ Guliotine
3. ✘ Guilotine
4. ✘ Gulliotine

Question Number : 149 Question Id : 5459279643 Question Type : MCQ Option Shuffling : Yes Display Question Number : Yes
Single Line Question Option : No Option Orientation : Vertical

Correct Marks : 1 Wrong Marks : 0.25

Four words are given, out of which only one word is spelt correctly. Choose the correctly spelt word.

Options :

1. ✔ Luminescence
2. ✘ Luminescine
3. ✘ Luminiscene
4. ✘ Luminesense

Question Number : 149 Question Id : 5459279643 Question Type : MCQ Option Shuffling : Yes Display Question Number : Yes
Single Line Question Option : No Option Orientation : Vertical

Correct Marks : 1 Wrong Marks : 0.25

Four words are given, out of which only one word is spelt correctly. Choose the correctly spelt word.

Options :

1. ✔ Luminescence
2. ✘ Luminescine
3. ✘ Luminiscene
4. ✘ Luminesense

Question Number : 150 Question Id : 5459279644 Question Type : MCQ Option Shuffling : Yes Display Question Number : Yes
Single Line Question Option : No Option Orientation : Vertical

Correct Marks : 1 Wrong Marks : 0.25

Select the option that best expresses the meaning of the idiom or phrase given below.

To accept the gauntlet

Options :

1. ✘ To be furious
2. ✘ To try hard
3. ✘ To take reckless risks
4. ✔ To accept or respond to a challenge

Question Number : 150 Question Id : 5459279644 Question Type : MCQ Option Shuffling : Yes Display Question Number : Yes
Single Line Question Option : No Option Orientation : Vertical

Correct Marks : 1 Wrong Marks : 0.25

Select the option that best expresses the meaning of the idiom or phrase given below.

To accept the gauntlet

Options :

1. ✘ To be furious
2. ✘ To try hard
3. ✘ To take reckless risks
4. ✔ To accept or respond to a challenge

Question Number : 151 Question Id : 5459279645 Question Type : MCQ Option Shuffling : Yes Display Question Number : Yes
Single Line Question Option : No Option Orientation : Vertical

Correct Marks : 1 Wrong Marks : 0.25

Select the option that best expresses the meaning of the idiom or phrase given below.

To turn the cover

Options :

1. ✘ To be quick
2. ✔ To pass the crisis
3. ✘ To stop talking and start
4. ✘ To keep out of debt

Question Number : 151 Question Id : 5459279645 Question Type : MCQ Option Shuffling : Yes Display Question Number : Yes
Single Line Question Option : No Option Orientation : Vertical

Correct Marks : 1 Wrong Marks : 0.25

Select the option that best expresses the meaning of the idiom or phrase given below.

To turn the cover

Options :

1. ✘ To be quick
2. ✔ To pass the crisis
3. ✘ To stop talking and start
4. ✘ To keep out of debt

Question Number : 152 Question Id : 5459279646 Question Type : MCQ Option Shuffling : Yes Display Question Number : Yes
Single Line Question Option : No Option Orientation : Vertical

Correct Marks : 1 Wrong Marks : 0.25

Select the option that best expresses the meaning of the idiom or phrase given below.

To strike one's colours

Options :

1. ✔ To surrender
2. ✘ To be victorious
3. ✘ To listen carefully
4. ✘ To make a guess

Question Number : 152 Question Id : 5459279646 Question Type : MCQ Option Shuffling : Yes Display Question Number : Yes
Single Line Question Option : No Option Orientation : Vertical

Correct Marks : 1 Wrong Marks : 0.25

Select the option that best expresses the meaning of the idiom or phrase given below.

To strike one's colours

Options :

1. ✔ To surrender

- ✘ To be victorious
- ✘ To listen carefully
- ✘ To make a guess

Question Number : 153 Question Id : 5459279647 Question Type : MCQ Option Shuffling : Yes Display Question Number : Yes
Single Line Question Option : No Option Orientation : Vertical

Correct Marks : 1 Wrong Marks : 0.25

Select the most appropriate 'one word ' for the expressions given below.

A person appointed by two parties to solve a dispute

Options :

- ✔ Arbitrator
- ✘ Ascetic
- ✘ Atheist
- ✘ Amateur

Question Number : 153 Question Id : 5459279647 Question Type : MCQ Option Shuffling : Yes Display Question Number : Yes
Single Line Question Option : No Option Orientation : Vertical

Correct Marks : 1 Wrong Marks : 0.25

Select the most appropriate 'one word ' for the expressions given below.

A person appointed by two parties to solve a dispute

Options :

- ✔ Arbitrator
- ✘ Ascetic
- ✘ Atheist
- ✘ Amateur

Question Number : 154 Question Id : 5459279648 Question Type : MCQ Option Shuffling : Yes Display Question Number : Yes
Single Line Question Option : No Option Orientation : Vertical

Correct Marks : 1 Wrong Marks : 0.25

Select the most appropriate 'one word ' for the expressions given below.

A strong and fast-moving stream of water or other liquid

Options :

- ✘ Hamlet
- ✘ Posse
- ✘ Current
- ✔ Torrent

Question Number : 154 Question Id : 5459279648 Question Type : MCQ Option Shuffling : Yes Display Question Number : Yes
Single Line Question Option : No Option Orientation : Vertical

Correct Marks : 1 Wrong Marks : 0.25

Select the most appropriate 'one word ' for the expressions given below.

A strong and fast-moving stream of water or other liquid

Options :

- ✘ Hamlet
- ✘ Posse
- ✘ Current

4. ✓ Torrent

Question Number : 155 Question Id : 5459279649 Question Type : MCQ Option Shuffling : Yes Display Question Number : Yes
Single Line Question Option : No Option Orientation : Vertical

Correct Marks : 1 Wrong Marks : 0.25

Select the most appropriate 'one word ' for the expressions given below.

A collection of weapons and military equipment

Options :

1. ✗ Arena
2. ✓ Arsenal
3. ✗ Archives
4. ✗ Creche

Question Number : 155 Question Id : 5459279649 Question Type : MCQ Option Shuffling : Yes Display Question Number : Yes
Single Line Question Option : No Option Orientation : Vertical

Correct Marks : 1 Wrong Marks : 0.25

Select the most appropriate 'one word ' for the expressions given below.

A collection of weapons and military equipment

Options :

1. ✗ Arena
2. ✓ Arsenal
3. ✗ Archives
4. ✗ Creche

Sub-Section Number:	2
Sub-Section Id:	545927573
Question Shuffling Allowed :	Yes

Question Id : 5459279650 Question Type : COMPREHENSION Sub Question Shuffling Allowed : Yes Group Comprehension
Questions : No

Question Numbers : (156 to 160)

Question Label : Comprehension

Read the passage carefully and answer the given questions.

Miss Martha Meacham kept the little bakery on the corner (the one where you go up three steps, and the bell tinkles when you open the door). Miss Martha was forty, her bank-book showed a credit of two thousand dollars, and she possessed two false teeth and a sympathetic heart. Many people have married whose chances to do so were much inferior to Miss Martha's.

Two or three times a week a customer came in whom she began to take an interest. He was a middle-aged man, wearing spectacles and a brown beard trimmed to a careful point. He spoke English with a strong German accent. His clothes were worn and darned in places, and wrinkled and baggy in others. But he looked neat, and had very good manners. He always bought two loaves of stale bread. Fresh bread was five cents a loaf. Stale ones were two for five. Never did he call for anything but stale bread. Once, Miss Martha saw a red and brown stain on his fingers. She was sure then that he was an artist and very poor. No doubt he lived in a garret, where he painted pictures and ate stale bread and thought of the good things to eat in Miss Martha's bakery. Often when Miss Martha sat down to her chops and light rolls and jam and tea she would sigh, and wish that the gentle-mannered artist might share her tasty meal instead of eating his dry crust in that draughty attic. Miss Martha's heart, as you have been told, was a sympathetic one.

Sub questions

Question Number : 156 Question Id : 5459279651 Question Type : MCQ Option Shuffling : Yes Display Question Number : Yes
Single Line Question Option : No Option Orientation : Vertical

Correct Marks : 1 Wrong Marks : 0.25

Miss Martha was _____ years old.

Options :

- ✘ thirty
- ✔ forty
- ✘ fifty
- ✘ thirty-five

Question Number : 157 Question Id : 5459279652 Question Type : MCQ Option Shuffling : Yes Display Question Number : Yes
Single Line Question Option : No Option Orientation : Vertical

Correct Marks : 1 Wrong Marks : 0.25

Which among the following statements are not true about Miss Martha?

Options :

- ✘ She owned a little bakery
- ✔ Her bank-book showed a credit of one thousand dollars
- ✘ She possessed two false teeth
- ✘ She had a sympathetic heart

Question Number : 158 Question Id : 5459279653 Question Type : MCQ Option Shuffling : Yes Display Question Number : Yes
Single Line Question Option : No Option Orientation : Vertical

Correct Marks : 1 Wrong Marks : 0.25

The customer who came two or three times a week had a strong _____ accent.

Options :

- ✘ French
- ✘ Chinese
- ✔ German
- ✘ Indian

Question Number : 159 Question Id : 5459279654 Question Type : MCQ Option Shuffling : Yes Display Question Number : Yes
Single Line Question Option : No Option Orientation : Vertical

Correct Marks : 1 Wrong Marks : 0.25

What was the price of the stale bread?

Options :

- ✔ Two for five
- ✘ Five for one
- ✘ Three for five
- ✘ Six for two

Question Number : 160 Question Id : 5459279655 Question Type : MCQ Option Shuffling : Yes Display Question Number : Yes
Single Line Question Option : No Option Orientation : Vertical

Correct Marks : 1 Wrong Marks : 0.25

Why did the customer buy stale bread?

Options :

- ✔ He was poor and stale breads were cheaper.
- ✘ He used to buy them for his dog.
- ✘ He loved the taste of it.

4. ✘ He was an artist and artists preferred stale bread

Question Id : 5459279650 Question Type : COMPREHENSION Sub Question Shuffling Allowed : Yes Group Comprehension Questions : No

Question Numbers : (156 to 160)

Question Label : Comprehension

Read the passage carefully and answer the given questions.

Miss Martha Meacham kept the little bakery on the corner (the one where you go up three steps, and the bell tinkles when you open the door). Miss Martha was forty, her bank-book showed a credit of two thousand dollars, and she possessed two false teeth and a sympathetic heart. Many people have married whose chances to do so were much inferior to Miss Martha's.

Two or three times a week a customer came in whom she began to take an interest. He was a middle-aged man, wearing spectacles and a brown beard trimmed to a careful point. He spoke English with a strong German accent. His clothes were worn and darned in places, and wrinkled and baggy in others. But he looked neat, and had very good manners. He always bought two loaves of stale bread. Fresh bread was five cents a loaf. Stale ones were two for five. Never did he call for anything but stale bread. Once, Miss Martha saw a red and brown stain on his fingers. She was sure then that he was an artist and very poor. No doubt he lived in a garret, where he painted pictures and ate stale bread and thought of the good things to eat in Miss Martha's bakery. Often when Miss Martha sat down to her chops and light rolls and jam and tea she would sigh, and wish that the gentle-mannered artist might share her tasty meal instead of eating his dry crust in that draughty attic. Miss Martha's heart, as you have been told, was a sympathetic one.

Sub questions

Question Number : 156 Question Id : 5459279651 Question Type : MCQ Option Shuffling : Yes Display Question Number : Yes Single Line Question Option : No Option Orientation : Vertical

Correct Marks : 1 Wrong Marks : 0.25

Miss Martha was _____ years old.

Options :

1. ✘ thirty
2. ✔ forty
3. ✘ fifty
4. ✘ thirty-five

Question Number : 157 Question Id : 5459279652 Question Type : MCQ Option Shuffling : Yes Display Question Number : Yes Single Line Question Option : No Option Orientation : Vertical

Correct Marks : 1 Wrong Marks : 0.25

Which among the following statements are not true about Miss Martha?

Options :

1. ✘ She owned a little bakery
2. ✔ Her bank-book showed a credit of one thousand dollars
3. ✘ She possessed two false teeth
4. ✘ She had a sympathetic heart

Question Number : 158 Question Id : 5459279653 Question Type : MCQ Option Shuffling : Yes Display Question Number : Yes Single Line Question Option : No Option Orientation : Vertical

Correct Marks : 1 Wrong Marks : 0.25

The customer who came two or three times a week had a strong _____ accent.

Options :

1. ✘ French
2. ✘ Chinese
3. ✔ German

4. ❌ Indian

Question Number : 159 Question Id : 5459279654 Question Type : MCQ Option Shuffling : Yes Display Question Number : Yes
Single Line Question Option : No Option Orientation : Vertical

Correct Marks : 1 Wrong Marks : 0.25

What was the price of the stale bread?

Options :

1. ✔ Two for five
2. ❌ Five for one
3. ❌ Three for five
4. ❌ Six for two

Question Number : 160 Question Id : 5459279655 Question Type : MCQ Option Shuffling : Yes Display Question Number : Yes
Single Line Question Option : No Option Orientation : Vertical

Correct Marks : 1 Wrong Marks : 0.25

Why did the customer buy stale bread?

Options :

1. ✔ He was poor and stale breads were cheaper.
2. ❌ He used to buy them for his dog.
3. ❌ He loved the taste of it.
4. ❌ He was an artist and artists preferred stale bread

General Hindi 1

Group Number :	9
Group Id :	545927479
Group Maximum Duration :	0
Group Minimum Duration :	0
Revisit allowed for view? :	No
Revisit allowed for edit? :	No
Break time:	0
Group Marks:	20
Revisit allowed for group Instructions? :	Yes
Maximum Instruction Time:	0
Minimum Instruction Time:	0

General Hindi 1

Section Id :	545927479
Section Number :	1
Section type :	Online
Mandatory or Optional:	Mandatory
Number of Questions:	20
Number of Questions to be attempted:	20
Section Marks:	20
Display Number Panel:	Yes
Group All Questions:	No

Sub-Section Number: 1
Sub-Section Id: 545927574
Question Shuffling Allowed : Yes

Question Number : 161 Question Id : 5459279656 Question Type : MCQ Option Shuffling : Yes Display Question Number : Yes
Single Line Question Option : No Option Orientation : Vertical

Correct Marks : 1 Wrong Marks : 0.25

निम्नलिखित प्रश्न में, चार विकल्पों में से, उस विकल्प का चयन करें जो दिए गए सही संधि विच्छेद की संधि का सही विकल्प हो।

श्रद्धा + आनंद

Options :

1. ✘ श्रद्धाआनंद
2. ✔ श्रद्धानंद
3. ✘ श्राद्धानंद
4. ✘ श्राद्धंद

Question Number : 161 Question Id : 5459279656 Question Type : MCQ Option Shuffling : Yes Display Question Number : Yes
Single Line Question Option : No Option Orientation : Vertical

Correct Marks : 1 Wrong Marks : 0.25

निम्नलिखित प्रश्न में, चार विकल्पों में से, उस विकल्प का चयन करें जो दिए गए सही संधि विच्छेद की संधि का सही विकल्प हो।

श्रद्धा + आनंद

Options :

1. ✘ श्रद्धाआनंद
2. ✔ श्रद्धानंद
3. ✘ श्राद्धानंद
4. ✘ श्राद्धंद

Question Number : 162 Question Id : 5459279657 Question Type : MCQ Option Shuffling : Yes Display Question Number : Yes
Single Line Question Option : No Option Orientation : Vertical

Correct Marks : 1 Wrong Marks : 0.25

निम्नलिखित प्रश्न में, चार विकल्पों में से, उस विकल्प का चयन करें जो दिए गए शब्द के सही संधि विच्छेद का विकल्प हो।

अधिकांश

Options :

1. ✘ अधि + कांश
2. ✘ अधिक + आंश
3. ✔ अधिक+ अंश
4. ✘ अधि + कंश

Question Number : 162 Question Id : 5459279657 Question Type : MCQ Option Shuffling : Yes Display Question Number : Yes
Single Line Question Option : No Option Orientation : Vertical

Correct Marks : 1 Wrong Marks : 0.25

निम्नलिखित प्रश्न में, चार विकल्पों में से, उस विकल्प का चयन करें जो दिए गए शब्द के सही संधि विच्छेद का विकल्प हो।

अधिकांश

Options :

1. ✘ अधि + कांश
2. ✘ अधिक + आंश
3. ✔ अधिक+ अंश

4. ✖ अधि + कंश

Question Number : 163 Question Id : 5459279658 Question Type : MCQ Option Shuffling : Yes Display Question Number : Yes
Single Line Question Option : No Option Orientation : Vertical

Correct Marks : 1 Wrong Marks : 0.25

निम्नलिखित प्रश्न में, चार विकल्पों में से, उस विकल्प का चयन करें जो समूहवाचक संज्ञा का सही विकल्प है।

Options :

1. ✖ गर्व
2. ✖ सौंदर्य
3. ✖ पानी
4. ✔ कर्मचारी

Question Number : 163 Question Id : 5459279658 Question Type : MCQ Option Shuffling : Yes Display Question Number : Yes
Single Line Question Option : No Option Orientation : Vertical

Correct Marks : 1 Wrong Marks : 0.25

निम्नलिखित प्रश्न में, चार विकल्पों में से, उस विकल्प का चयन करें जो समूहवाचक संज्ञा का सही विकल्प है।

Options :

1. ✖ गर्व
2. ✖ सौंदर्य
3. ✖ पानी
4. ✔ कर्मचारी

Question Number : 164 Question Id : 5459279659 Question Type : MCQ Option Shuffling : Yes Display Question Number : Yes
Single Line Question Option : No Option Orientation : Vertical

Correct Marks : 1 Wrong Marks : 0.25

निम्नलिखित प्रश्न में, चार विकल्पों में से, उस विकल्प का चयन करें जो कोष्ठक में दिए गए शब्द के अनुसार सर्वनाम के भेद का सही विकल्प हो।

(जो) अच्छा काम करेगा (वो) पुरस्कार पाएगा।

Options :

1. ✔ संबंधवाचक सर्वनाम
2. ✖ अनिश्चयवाचक सर्वनाम
3. ✖ प्रश्नवाचक सर्वनाम
4. ✖ निश्चय वाचक सर्वनाम

Question Number : 164 Question Id : 5459279659 Question Type : MCQ Option Shuffling : Yes Display Question Number : Yes
Single Line Question Option : No Option Orientation : Vertical

Correct Marks : 1 Wrong Marks : 0.25

निम्नलिखित प्रश्न में, चार विकल्पों में से, उस विकल्प का चयन करें जो कोष्ठक में दिए गए शब्द के अनुसार सर्वनाम के भेद का सही विकल्प हो।

(जो) अच्छा काम करेगा (वो) पुरस्कार पाएगा।

Options :

1. ✔ संबंधवाचक सर्वनाम
2. ✖ अनिश्चयवाचक सर्वनाम
3. ✖ प्रश्नवाचक सर्वनाम
4. ✖ निश्चय वाचक सर्वनाम

Question Number : 165 Question Id : 5459279660 Question Type : MCQ Option Shuffling : Yes Display Question Number : Yes
Single Line Question Option : No Option Orientation : Vertical

Correct Marks : 1 Wrong Marks : 0.25

निम्नलिखित प्रश्न में, चार विकल्पों में से, उस विकल्प का चयन करें जो कोष्ठक में दिए गए शब्द के अनुसार विशेषण के भेद वाला विकल्प हो

(थोड़ा) आटा गरीबों को दे दो

Options :

1. ✘ संख्यावाचक
2. ✔ परिमाणवाचक
3. ✘ गुणवाचक
4. ✘ सार्वनामिक

Question Number : 165 Question Id : 5459279660 Question Type : MCQ Option Shuffling : Yes Display Question Number : Yes
Single Line Question Option : No Option Orientation : Vertical

Correct Marks : 1 Wrong Marks : 0.25

निम्नलिखित प्रश्न में, चार विकल्पों में से, उस विकल्प का चयन करें जो कोष्ठक में दिए गए शब्द के अनुसार विशेषण के भेद वाला विकल्प हो

(थोड़ा) आटा गरीबों को दे दो

Options :

1. ✘ संख्यावाचक
2. ✔ परिमाणवाचक
3. ✘ गुणवाचक
4. ✘ सार्वनामिक

Question Number : 166 Question Id : 5459279661 Question Type : MCQ Option Shuffling : Yes Display Question Number : Yes
Single Line Question Option : No Option Orientation : Vertical

Correct Marks : 1 Wrong Marks : 0.25

निम्नलिखित प्रश्न में, चार विकल्पों में से, उस विकल्प का चयन करें जो दिए गए शब्द के पर्यायवाची शब्द का सही विकल्प नहीं है

अंक

Options :

1. ✘ चिन्ह
2. ✔ कोशिश
3. ✘ संख्या
4. ✘ गोद

Question Number : 166 Question Id : 5459279661 Question Type : MCQ Option Shuffling : Yes Display Question Number : Yes
Single Line Question Option : No Option Orientation : Vertical

Correct Marks : 1 Wrong Marks : 0.25

निम्नलिखित प्रश्न में, चार विकल्पों में से, उस विकल्प का चयन करें जो दिए गए शब्द के पर्यायवाची शब्द का सही विकल्प नहीं है

अंक

Options :

1. ✘ चिन्ह
2. ✔ कोशिश
3. ✘ संख्या
4. ✘ गोद

Question Number : 167 Question Id : 5459279662 Question Type : MCQ Option Shuffling : Yes Display Question Number : Yes
Single Line Question Option : No Option Orientation : Vertical

Correct Marks : 1 Wrong Marks : 0.25

निम्नलिखित प्रश्न में, चार विकल्पों में से, उस विकल्प का चयन करें जो दिए गए शब्द के पर्यायवाची शब्द का सही विकल्प नहीं है

अध्ययन

Options :

1. ✘ अनुशीलन
2. ✘ परायण
3. ✔ विलक्षण
4. ✘ अवलोकन

Question Number : 167 Question Id : 5459279662 Question Type : MCQ Option Shuffling : Yes Display Question Number : Yes
Single Line Question Option : No Option Orientation : Vertical

Correct Marks : 1 Wrong Marks : 0.25

निम्नलिखित प्रश्न में, चार विकल्पों में से, उस विकल्प का चयन करें जो दिए गए शब्द के पर्यायवाची शब्द का सही विकल्प नहीं है।

अध्ययन

Options :

1. ✘ अनुशीलन
2. ✘ परायण
3. ✔ विलक्षण
4. ✘ अवलोकन

Question Number : 168 Question Id : 5459279663 Question Type : MCQ Option Shuffling : Yes Display Question Number : Yes
Single Line Question Option : No Option Orientation : Vertical

Correct Marks : 1 Wrong Marks : 0.25

निम्नलिखित प्रश्न में, चार विकल्पों में से, उस विकल्प का चयन करें जो दिए गए शब्द के विलोम शब्द का सही विकल्प है।

प्रवृत्ति

Options :

1. ✔ निवृत्ति
2. ✘ निवारण
3. ✘ रुझान
4. ✘ बहाव

Question Number : 168 Question Id : 5459279663 Question Type : MCQ Option Shuffling : Yes Display Question Number : Yes
Single Line Question Option : No Option Orientation : Vertical

Correct Marks : 1 Wrong Marks : 0.25

निम्नलिखित प्रश्न में, चार विकल्पों में से, उस विकल्प का चयन करें जो दिए गए शब्द के विलोम शब्द का सही विकल्प है।

प्रवृत्ति

Options :

1. ✔ निवृत्ति
2. ✘ निवारण
3. ✘ रुझान
4. ✘ बहाव

Question Number : 169 Question Id : 5459279664 Question Type : MCQ Option Shuffling : Yes Display Question Number : Yes
Single Line Question Option : No Option Orientation : Vertical

Correct Marks : 1 Wrong Marks : 0.25

निम्नलिखित प्रश्न में, चार विकल्पों में से, उस विकल्प का चयन करें जो दिए गए शब्द के विलोम शब्द का सही विकल्प है।

सामिष

Options :

1. ✘ अमिश

2. ✘ आमिष
3. ✘ सहित
4. ✔ निरामिष

Question Number : 169 Question Id : 5459279664 Question Type : MCQ Option Shuffling : Yes Display Question Number : Yes
Single Line Question Option : No Option Orientation : Vertical

Correct Marks : 1 Wrong Marks : 0.25

निम्नलिखित प्रश्न में, चार विकल्पों में से, उस विकल्प का चयन करें जो दिए गए शब्द के विलोम शब्द का सही विकल्प है।

सामिष

Options :

1. ✘ अमिश
2. ✘ आमिष
3. ✘ सहित
4. ✔ निरामिष

Question Number : 170 Question Id : 5459279665 Question Type : MCQ Option Shuffling : Yes Display Question Number : Yes
Single Line Question Option : No Option Orientation : Vertical

Correct Marks : 1 Wrong Marks : 0.25

निम्नलिखित प्रश्न में, चार विकल्पों में से, उस सही विकल्प का चयन करें जो दिए गए शब्द-युग्म के अर्थ का सही विकल्प हो।

अमर्ष-अवमर्ष

Options :

1. ✘ आवश्यकता और आलोचना
2. ✘ सलाह और आलोचना
3. ✔ क्रोध और आलोचना
4. ✘ क्रोध और सलाह

Question Number : 170 Question Id : 5459279665 Question Type : MCQ Option Shuffling : Yes Display Question Number : Yes
Single Line Question Option : No Option Orientation : Vertical

Correct Marks : 1 Wrong Marks : 0.25

निम्नलिखित प्रश्न में, चार विकल्पों में से, उस सही विकल्प का चयन करें जो दिए गए शब्द-युग्म के अर्थ का सही विकल्प हो।

अमर्ष-अवमर्ष

Options :

1. ✘ आवश्यकता और आलोचना
2. ✘ सलाह और आलोचना
3. ✔ क्रोध और आलोचना
4. ✘ क्रोध और सलाह

Question Number : 171 Question Id : 5459279666 Question Type : MCQ Option Shuffling : Yes Display Question Number : Yes
Single Line Question Option : No Option Orientation : Vertical

Correct Marks : 1 Wrong Marks : 0.25

निम्नलिखित प्रश्न में, चार विकल्पों में से, उस विकल्प का चयन करें जो दिए गए वाक्यांश के लिए एक शब्द का सही विकल्प है।

अनिश्चित जीविका वाला

Options :

1. ✘ आकस्मिक
2. ✔ आकाशवृत्ति
3. ✘ आडम्बर

4. ✘ असपृश्य

Question Number : 171 Question Id : 5459279666 Question Type : MCQ Option Shuffling : Yes Display Question Number : Yes
Single Line Question Option : No Option Orientation : Vertical

Correct Marks : 1 Wrong Marks : 0.25

निम्नलिखित प्रश्न में, चार विकल्पों में से, उस विकल्प का चयन करें जो दिए गए वाक्यांश के लिए एक शब्द का सही विकल्प है।

अनिश्चित जीविका वाला

Options :

1. ✘ आकस्मिक
2. ✔ आकाशवृत्ति
3. ✘ आडम्बर
4. ✘ असपृश्य

Question Number : 172 Question Id : 5459279667 Question Type : MCQ Option Shuffling : Yes Display Question Number : Yes
Single Line Question Option : No Option Orientation : Vertical

Correct Marks : 1 Wrong Marks : 0.25

निम्नलिखित प्रश्न में, चार विकल्पों में से, उस सही विकल्प का चयन करें जो रिक्त स्थान के लिए उचित विकल्प हो

वह _____ बहुत मेहनती लगता है।

Options :

1. ✔ पुरुष
2. ✘ परुष
3. ✘ पौरुष
4. ✘ पूरुष

Question Number : 172 Question Id : 5459279667 Question Type : MCQ Option Shuffling : Yes Display Question Number : Yes
Single Line Question Option : No Option Orientation : Vertical

Correct Marks : 1 Wrong Marks : 0.25

निम्नलिखित प्रश्न में, चार विकल्पों में से, उस सही विकल्प का चयन करें जो रिक्त स्थान के लिए उचित विकल्प हो

वह _____ बहुत मेहनती लगता है।

Options :

1. ✔ पुरुष
2. ✘ परुष
3. ✘ पौरुष
4. ✘ पूरुष

Question Number : 173 Question Id : 5459279668 Question Type : MCQ Option Shuffling : Yes Display Question Number : Yes
Single Line Question Option : No Option Orientation : Vertical

Correct Marks : 1 Wrong Marks : 0.25

निम्नलिखित प्रश्न में, चार विकल्पों में से, उस विकल्प का चयन करें जो दिए गए शब्द के समानार्थी शब्द का विकल्प नहीं है।

पहेली

Options :

1. ✘ प्रहेलिका
2. ✔ अभिमत
3. ✘ मुकरी
4. ✘ कूटप्रश्न

Question Number : 173 Question Id : 5459279668 Question Type : MCQ Option Shuffling : Yes Display Question Number : Yes
Single Line Question Option : No Option Orientation : Vertical

Correct Marks : 1 Wrong Marks : 0.25

निम्नलिखित प्रश्न में, चार विकल्पों में से, उस विकल्प का चयन करें जो दिए गए शब्द के समानार्थी शब्द का विकल्प नहीं है।

पहेली

Options :

1. ✘ प्रहेलिका
2. ✔ अभिमत
3. ✘ मुकरी
4. ✘ कूटप्रश्न

Question Number : 174 Question Id : 5459279669 Question Type : MCQ Option Shuffling : Yes Display Question Number : Yes
Single Line Question Option : No Option Orientation : Vertical

Correct Marks : 1 Wrong Marks : 0.25

निम्नलिखित प्रश्न में, चार विकल्पों में से, उस सही विकल्प का चयन करें जो रिक्त स्थान के लिए उपयुक्त शब्द का सही विकल्प है।

आठ बजने _____ दस मिनट है।

Options :

1. ✘ से
2. ✘ पर
3. ✘ को
4. ✔ में

Question Number : 174 Question Id : 5459279669 Question Type : MCQ Option Shuffling : Yes Display Question Number : Yes
Single Line Question Option : No Option Orientation : Vertical

Correct Marks : 1 Wrong Marks : 0.25

निम्नलिखित प्रश्न में, चार विकल्पों में से, उस सही विकल्प का चयन करें जो रिक्त स्थान के लिए उपयुक्त शब्द का सही विकल्प है।

आठ बजने _____ दस मिनट है।

Options :

1. ✘ से
2. ✘ पर
3. ✘ को
4. ✔ में

Question Number : 175 Question Id : 5459279670 Question Type : MCQ Option Shuffling : Yes Display Question Number : Yes
Single Line Question Option : No Option Orientation : Vertical

Correct Marks : 1 Wrong Marks : 0.25

निम्नलिखित प्रश्न में, चार विकल्पों में से, उस विकल्प का चयन करें जो शुद्ध शब्द का सही विकल्प है।

Options :

1. ✘ सहस्त्रबाहू
2. ✘ सहसताबहू
3. ✔ सहस्रबाहु
4. ✘ सहस्रबहू

Question Number : 175 Question Id : 5459279670 Question Type : MCQ Option Shuffling : Yes Display Question Number : Yes
Single Line Question Option : No Option Orientation : Vertical

Correct Marks : 1 Wrong Marks : 0.25

निम्नलिखित प्रश्न में, चार विकल्पों में से, उस विकल्प का चयन करें जो शुद्ध शब्द का सही विकल्प है।

Options :

1. ✘ सहस्त्रबाहू
2. ✘ सहसताबहू
3. ✔ सहस्त्रबाहु
4. ✘ सहस्त्रबहू

Question Number : 176 Question Id : 5459279671 Question Type : MCQ Option Shuffling : Yes Display Question Number : Yes
Single Line Question Option : No Option Orientation : Vertical

Correct Marks : 1 Wrong Marks : 0.25

निम्नलिखित प्रश्न में, चार विकल्पों में से, उस विकल्प का चयन करें जो सदा पुल्लिंग वाला शब्द है।

Options :

1. ✔ समाज
2. ✘ अग्रजा
3. ✘ मगही
4. ✘ तमिल

Question Number : 176 Question Id : 5459279671 Question Type : MCQ Option Shuffling : Yes Display Question Number : Yes
Single Line Question Option : No Option Orientation : Vertical

Correct Marks : 1 Wrong Marks : 0.25

निम्नलिखित प्रश्न में, चार विकल्पों में से, उस विकल्प का चयन करें जो सदा पुल्लिंग वाला शब्द है।

Options :

1. ✔ समाज
2. ✘ अग्रजा
3. ✘ मगही
4. ✘ तमिल

Question Number : 177 Question Id : 5459279672 Question Type : MCQ Option Shuffling : Yes Display Question Number : Yes
Single Line Question Option : No Option Orientation : Vertical

Correct Marks : 1 Wrong Marks : 0.25

निम्नलिखित प्रश्न में, चार विकल्पों में से, उस विकल्प का चयन करें जो दिए गए शब्द का स्त्रीलिंग शब्द वाला विकल्प है।

वृद्ध

Options :

1. ✘ वृद्धी
2. ✘ वृद्धिय
3. ✘ वृद्धि
4. ✔ वृद्धा

Question Number : 177 Question Id : 5459279672 Question Type : MCQ Option Shuffling : Yes Display Question Number : Yes
Single Line Question Option : No Option Orientation : Vertical

Correct Marks : 1 Wrong Marks : 0.25

निम्नलिखित प्रश्न में, चार विकल्पों में से, उस विकल्प का चयन करें जो दिए गए शब्द का स्त्रीलिंग शब्द वाला विकल्प है।

वृद्ध

Options :

1. ✘ वृद्धी
2. ✘ वृद्धिय
3. ✘ वृद्धि
4. ✔ वृद्धा

Question Number : 178 Question Id : 5459279673 Question Type : MCQ Option Shuffling : Yes Display Question Number : Yes
Single Line Question Option : No Option Orientation : Vertical

Correct Marks : 1 Wrong Marks : 0.25

निम्नलिखित प्रश्न में, चार विकल्पों में से, उस विकल्प का चयन करें जो सदा एकवचन शब्द का सबसे अच्छा विकल्प है।

Options :

1. ✘ दाम
2. ✘ अश्रु
3. ✔ पानी
4. ✘ आशीर्वाद

Question Number : 178 Question Id : 5459279673 Question Type : MCQ Option Shuffling : Yes Display Question Number : Yes
Single Line Question Option : No Option Orientation : Vertical

Correct Marks : 1 Wrong Marks : 0.25

निम्नलिखित प्रश्न में, चार विकल्पों में से, उस विकल्प का चयन करें जो सदा एकवचन शब्द का सबसे अच्छा विकल्प है।

Options :

1. ✘ दाम
2. ✘ अश्रु
3. ✔ पानी
4. ✘ आशीर्वाद

Question Number : 179 Question Id : 5459279674 Question Type : MCQ Option Shuffling : Yes Display Question Number : Yes
Single Line Question Option : No Option Orientation : Vertical

Correct Marks : 1 Wrong Marks : 0.25

निम्नलिखित प्रश्न में, चार विकल्पों में से, उस विकल्प का चयन करें जो दिए गए शब्द के बहुवचन शब्द का सबसे अच्छा विकल्प है।

गाथा

Options :

1. ✘ गाथाये
2. ✔ गाथाएँ
3. ✘ गाथाओ
4. ✘ गाथावों

Question Number : 179 Question Id : 5459279674 Question Type : MCQ Option Shuffling : Yes Display Question Number : Yes
Single Line Question Option : No Option Orientation : Vertical

Correct Marks : 1 Wrong Marks : 0.25

निम्नलिखित प्रश्न में, चार विकल्पों में से, उस विकल्प का चयन करें जो दिए गए शब्द के बहुवचन शब्द का सबसे अच्छा विकल्प है।

गाथा

Options :

1. ✘ गाथाये
2. ✔ गाथाएँ
3. ✘ गाथाओ
4. ✘ गाथावों

Question Number : 180 Question Id : 5459279675 Question Type : MCQ Option Shuffling : Yes Display Question Number : Yes
Single Line Question Option : No Option Orientation : Vertical

Correct Marks : 1 Wrong Marks : 0.25

निम्नलिखित प्रश्न में, चार विकल्पों में से, उस विकल्प का चयन करें जो कोष्ठक में दिए गए शब्द के अनुसार अन्य पुरुष वाचक सर्वनाम का सही विकल्प हो।

Options :

1. ✓ (वे लोग) कभी भी आते होंगे
2. ✗ (मैं) सोने जा रहा हूँ
3. ✗ (मैंने) आज बहुत काम किया है
4. ✗ (तुम) जल्दी करो

Question Number : 180 Question Id : 5459279675 Question Type : MCQ Option Shuffling : Yes Display Question Number : Yes
Single Line Question Option : No Option Orientation : Vertical

Correct Marks : 1 Wrong Marks : 0.25

निम्नलिखित प्रश्न में, चार विकल्पों में से, उस विकल्प का चयन करें जो कोष्ठक में दिए गए शब्द के अनुसार अन्य पुरुष वाचक सर्वनाम का सही विकल्प हो

Options :

1. ✓ (वे लोग) कभी भी आते होंगे
2. ✗ (मैं) सोने जा रहा हूँ
3. ✗ (मैंने) आज बहुत काम किया है
4. ✗ (तुम) जल्दी करो

General Hindi2

Group Number :	10
Group Id :	545927480
Group Maximum Duration :	0
Group Minimum Duration :	120
Revisit allowed for view? :	No
Revisit allowed for edit? :	No
Break time:	0
Group Marks:	20
Revisit allowed for group Instructions? :	Yes
Maximum Instruction Time:	0
Minimum Instruction Time:	0

General Hindi2

Section Id :	545927480
Section Number :	1
Section type :	Online
Mandatory or Optional:	Mandatory
Number of Questions:	16
Number of Questions to be attempted:	16
Section Marks:	20
Display Number Panel:	Yes
Group All Questions:	No

Sub-Section Number:	1
Sub-Section Id:	545927575
Question Shuffling Allowed :	Yes

Question Number : 181 Question Id : 5459279676 Question Type : MCQ Option Shuffling : Yes Display Question Number : Yes
Single Line Question Option : No Option Orientation : Vertical

Correct Marks : 1 Wrong Marks : 0.25

निम्नलिखित प्रश्न में, चार विकल्पों में से, उस विकल्प का चयन करें जो दिए गए वाक्य के काल के भेद का सही विकल्प हो।

दीपा ने खीर बनाई।

Options :

1. ✘ हेतुहेतु मद् भूतकाल
2. ✔ पूर्ण भूतकाल
3. ✘ अपूर्ण भूतकाल
4. ✘ हेतुहेतुमद् भविष्यत् काल

Question Number : 181 Question Id : 5459279676 Question Type : MCQ Option Shuffling : Yes Display Question Number : Yes
Single Line Question Option : No Option Orientation : Vertical

Correct Marks : 1 Wrong Marks : 0.25

निम्नलिखित प्रश्न में, चार विकल्पों में से, उस विकल्प का चयन करें जो दिए गए वाक्य के काल के भेद का सही विकल्प हो।

दीपा ने खीर बनाई।

Options :

1. ✘ हेतुहेतु मद् भूतकाल
2. ✔ पूर्ण भूतकाल
3. ✘ अपूर्ण भूतकाल
4. ✘ हेतुहेतुमद् भविष्यत् काल

Question Number : 182 Question Id : 5459279677 Question Type : MCQ Option Shuffling : Yes Display Question Number : Yes
Single Line Question Option : No Option Orientation : Vertical

Correct Marks : 1 Wrong Marks : 0.25

निम्नलिखित प्रश्न में, चार विकल्पों में से, उस विकल्प का चयन करें जो दिए गए वाक्य के लिए वृत्ति के भेद का सबसे अच्छा विकल्प है।

खाना तैयार हो चुका है।

Options :

1. ✘ विध्यर्थ
2. ✘ संकेतार्थ
3. ✘ संदेहार्थ
4. ✔ निश्चयार्थ

Question Number : 182 Question Id : 5459279677 Question Type : MCQ Option Shuffling : Yes Display Question Number : Yes
Single Line Question Option : No Option Orientation : Vertical

Correct Marks : 1 Wrong Marks : 0.25

निम्नलिखित प्रश्न में, चार विकल्पों में से, उस विकल्प का चयन करें जो दिए गए वाक्य के लिए वृत्ति के भेद का सबसे अच्छा विकल्प है।

खाना तैयार हो चुका है।

Options :

1. ✘ विध्यर्थ
2. ✘ संकेतार्थ
3. ✘ संदेहार्थ
4. ✔ निश्चयार्थ

Question Number : 183 Question Id : 5459279678 Question Type : MCQ Option Shuffling : Yes Display Question Number : Yes
Single Line Question Option : No Option Orientation : Vertical

Correct Marks : 1 Wrong Marks : 0.25

निम्नलिखित प्रश्न में, चार विकल्पों में से, उस विकल्प का चयन करें जो दिए गए वाक्य के लिए पक्ष के भेद का सबसे अच्छा विकल्प है।

अब सब्जियाँ सस्ती होने लगी हैं।

Options :

1. ✘ सातप्यबोधक
2. ✘ नित्यताद्योतक
3. ✘ प्रगतिद्योतक
4. ✔ आरंभद्योतक

Question Number : 183 Question Id : 5459279678 Question Type : MCQ Option Shuffling : Yes Display Question Number : Yes
Single Line Question Option : No Option Orientation : Vertical

Correct Marks : 1 Wrong Marks : 0.25

निम्नलिखित प्रश्न में, चार विकल्पों में से, उस विकल्प का चयन करें जो दिए गए वाक्य के लिए पक्ष के भेद का सबसे अच्छा विकल्प है।

अब सब्जियाँ सस्ती होने लगी हैं।

Options :

1. ✘ सातप्यबोधक
2. ✘ नित्यताद्योतक
3. ✘ प्रगतिद्योतक
4. ✔ आरंभद्योतक

Question Number : 184 Question Id : 5459279679 Question Type : MCQ Option Shuffling : Yes Display Question Number : Yes
Single Line Question Option : No Option Orientation : Vertical

Correct Marks : 1 Wrong Marks : 0.25

निम्न विकल्पों में से निर्देशानुसार वाच्य परिवर्तन का विकल्प चुनिए।

मानसी दिल्ली जा रही है (कर्मवाच्य)

Options :

1. ✘ मानसी दिल्ली गई
2. ✘ दिल्ली मानसी गई
3. ✔ मानसी द्वारा दिल्ली जाया जा रहा है
4. ✘ दिल्ली मानसी जा रही है

Question Number : 184 Question Id : 5459279679 Question Type : MCQ Option Shuffling : Yes Display Question Number : Yes
Single Line Question Option : No Option Orientation : Vertical

Correct Marks : 1 Wrong Marks : 0.25

निम्न विकल्पों में से निर्देशानुसार वाच्य परिवर्तन का विकल्प चुनिए।

मानसी दिल्ली जा रही है (कर्मवाच्य)

Options :

1. ✘ मानसी दिल्ली गई
2. ✘ दिल्ली मानसी गई
3. ✔ मानसी द्वारा दिल्ली जाया जा रहा है
4. ✘ दिल्ली मानसी जा रही है

Question Number : 185 Question Id : 5459279680 Question Type : MCQ Option Shuffling : Yes Display Question Number : Yes
Single Line Question Option : No Option Orientation : Vertical

Correct Marks : 1 Wrong Marks : 0.25

निम्नलिखित प्रश्न में, चार विकल्पों में से, उस विकल्प का चयन करें जो सही वाक्य भेद का विकल्प हो

कल हम खेलने जाएँगे

Options :

1. ✘ मिश्र वाक्य
2. ✘ संयुक्त वाक्य
3. ✘ निषेधवाचक वाक्य
4. ✔ सरल वाक्य

Question Number : 185 Question Id : 5459279680 Question Type : MCQ Option Shuffling : Yes Display Question Number : Yes
Single Line Question Option : No Option Orientation : Vertical

Correct Marks : 1 Wrong Marks : 0.25

निम्नलिखित प्रश्न में, चार विकल्पों में से, उस विकल्प का चयन करें जो सही वाक्य भेद का विकल्प हो

कल हम खेलने जाएँगे

Options :

1. ✘ मिश्र वाक्य
2. ✘ संयुक्त वाक्य
3. ✘ निषेधवाचक वाक्य
4. ✔ सरल वाक्य

Question Number : 186 Question Id : 5459279681 Question Type : MCQ Option Shuffling : Yes Display Question Number : Yes
Single Line Question Option : No Option Orientation : Vertical

Correct Marks : 1 Wrong Marks : 0.25

निम्नलिखित प्रश्न में, चार विकल्पों में से, उस विकल्प का चयन करें जो सही वाक्य भेद का विकल्प हो

जो मेहनत करता है, वह सब कुछ पा सकता है

Options :

1. ✘ संयुक्त वाक्य
2. ✔ मिश्र वाक्य
3. ✘ संदेहवाचक वाक्य
4. ✘ संकेतवाचक वाक्य

Question Number : 186 Question Id : 5459279681 Question Type : MCQ Option Shuffling : Yes Display Question Number : Yes
Single Line Question Option : No Option Orientation : Vertical

Correct Marks : 1 Wrong Marks : 0.25

निम्नलिखित प्रश्न में, चार विकल्पों में से, उस विकल्प का चयन करें जो सही वाक्य भेद का विकल्प हो

जो मेहनत करता है, वह सब कुछ पा सकता है

Options :

1. ✘ संयुक्त वाक्य
2. ✔ मिश्र वाक्य
3. ✘ संदेहवाचक वाक्य
4. ✘ संकेतवाचक वाक्य

Question Number : 187 Question Id : 5459279682 Question Type : MCQ Option Shuffling : Yes Display Question Number : Yes
Single Line Question Option : No Option Orientation : Vertical

Correct Marks : 1 Wrong Marks : 0.25

निम्नलिखित प्रश्न में, चार विकल्पों में से, उस विकल्प का चयन करें जो सही वाक्य भेद का विकल्प हो

दीपा ने उसे बहुत दूँदा पर वह नहीं मिला

Options :

- ❌ विधानवाचक वाक्य
- ❌ सरल वाक्य
- ❌ मिश्र वाक्य
- ✅ संयुक्त वाक्य

Question Number : 187 Question Id : 5459279682 Question Type : MCQ Option Shuffling : Yes Display Question Number : Yes
Single Line Question Option : No Option Orientation : Vertical

Correct Marks : 1 Wrong Marks : 0.25

निम्नलिखित प्रश्न में, चार विकल्पों में से, उस विकल्प का चयन करें जो सही वाक्य भेद का विकल्प हो

दीपा ने उसे बहुत दूँदा पर वह नहीं मिला

Options :

- ❌ विधानवाचक वाक्य
- ❌ सरल वाक्य
- ❌ मिश्र वाक्य
- ✅ संयुक्त वाक्य

Question Number : 188 Question Id : 5459279683 Question Type : MCQ Option Shuffling : Yes Display Question Number : Yes
Single Line Question Option : No Option Orientation : Vertical

Correct Marks : 1 Wrong Marks : 0.25

निम्नलिखित प्रश्न में, चार विकल्पों में से, उस विकल्प का चयन करें जो विराम चिह्न युक्त वाक्य का सही विकल्प हो

Options :

- ❌ खेलना तो मुझे भी था; "परंतु थकान की वजह से खेल नहीं सकी"
- ❌ खेलना तो मुझे भी था? परंतु थकान की वजह से खेल नहीं सकी
- ✅ खेलना तो मुझे भी था; परंतु थकान की वजह से खेल नहीं सकी
- ❌ खेलना तो मुझे भी था! परंतु थकान की वजह से खेल नहीं सकी

Question Number : 188 Question Id : 5459279683 Question Type : MCQ Option Shuffling : Yes Display Question Number : Yes
Single Line Question Option : No Option Orientation : Vertical

Correct Marks : 1 Wrong Marks : 0.25

निम्नलिखित प्रश्न में, चार विकल्पों में से, उस विकल्प का चयन करें जो विराम चिह्न युक्त वाक्य का सही विकल्प हो

Options :

- ❌ खेलना तो मुझे भी था; "परंतु थकान की वजह से खेल नहीं सकी"
- ❌ खेलना तो मुझे भी था? परंतु थकान की वजह से खेल नहीं सकी
- ✅ खेलना तो मुझे भी था; परंतु थकान की वजह से खेल नहीं सकी
- ❌ खेलना तो मुझे भी था! परंतु थकान की वजह से खेल नहीं सकी

Question Number : 189 Question Id : 5459279684 Question Type : MCQ Option Shuffling : Yes Display Question Number : Yes
Single Line Question Option : No Option Orientation : Vertical

Correct Marks : 1 Wrong Marks : 0.25

निम्नलिखित प्रश्न में, चार विकल्पों में से, उस विकल्प का चयन करें जो विराम चिह्न युक्त वाक्य का सही विकल्प हो

Options :

- ✅ वह अपराधी है फिर भी, उसे सजा नहीं मिली
- ❌ वह अपराधी है फिर भी, उसे सजा नहीं मिली?
- ❌ वह अपराधी है! फिर भी, उसे सजा नहीं मिली!

4. ✖ वह अपराधी है? फिर भी, उसे सजा नहीं मिली?

Question Number : 189 Question Id : 5459279684 Question Type : MCQ Option Shuffling : Yes Display Question Number : Yes
Single Line Question Option : No Option Orientation : Vertical

Correct Marks : 1 Wrong Marks : 0.25

निम्नलिखित प्रश्न में, चार विकल्पों में से, उस विकल्प का चयन करें जो विराम चिह्न युक्त वाक्य का सही विकल्प हो।

Options :

1. ✔ वह अपराधी है फिर भी, उसे सजा नहीं मिली।
2. ✖ वह अपराधी है फिर भी, उसे सजा नहीं मिली?
3. ✖ वह अपराधी है! फिर भी, उसे सजा नहीं मिली!
4. ✖ वह अपराधी है? फिर भी, उसे सजा नहीं मिली?

Question Number : 190 Question Id : 5459279685 Question Type : MCQ Option Shuffling : Yes Display Question Number : Yes
Single Line Question Option : No Option Orientation : Vertical

Correct Marks : 1 Wrong Marks : 0.25

निम्नलिखित प्रश्न में, चार विकल्पों में से, उस विकल्प का चयन करें जो दिए गए मुहावरे के लिए सही अर्थ वाला विकल्प है।

अंकुश रखना

Options :

1. ✖ विकसित होना
2. ✖ अविकसित
3. ✔ दबाव में रखना
4. ✖ थक जाना

Question Number : 190 Question Id : 5459279685 Question Type : MCQ Option Shuffling : Yes Display Question Number : Yes
Single Line Question Option : No Option Orientation : Vertical

Correct Marks : 1 Wrong Marks : 0.25

निम्नलिखित प्रश्न में, चार विकल्पों में से, उस विकल्प का चयन करें जो दिए गए मुहावरे के लिए सही अर्थ वाला विकल्प है।

अंकुश रखना

Options :

1. ✖ विकसित होना
2. ✖ अविकसित
3. ✔ दबाव में रखना
4. ✖ थक जाना

Question Number : 191 Question Id : 5459279686 Question Type : MCQ Option Shuffling : Yes Display Question Number : Yes
Single Line Question Option : No Option Orientation : Vertical

Correct Marks : 1 Wrong Marks : 0.25

निम्नलिखित प्रश्न में, चार विकल्पों में से, उस विकल्प का चयन करें जो दिए गए मुहावरे के लिए सही अर्थ वाला विकल्प है।

अंतड़ियाँ कुलबुलाना

Options :

1. ✔ अधिक भूख लगाना
2. ✖ दर्द होना
3. ✖ खुजली होना
4. ✖ पीछे हटना

Question Number : 191 Question Id : 5459279686 Question Type : MCQ Option Shuffling : Yes Display Question Number : Yes
Single Line Question Option : No Option Orientation : Vertical

Correct Marks : 1 Wrong Marks : 0.25

निम्नलिखित प्रश्न में, चार विकल्पों में से, उस विकल्प का चयन करें जो दिए गए मुहावरे के लिए सही अर्थ वाला विकल्प है

अंतड़ियाँ कुलबुलाना

Options :

1. ✓ अधिक भूख लगना
2. ✗ दर्द होना
3. ✗ खुजली होना
4. ✗ पीछे हटना

Question Number : 192 Question Id : 5459279687 Question Type : MCQ Option Shuffling : Yes Display Question Number : Yes
Single Line Question Option : No Option Orientation : Vertical

Correct Marks : 1 Wrong Marks : 0.25

निम्नलिखित प्रश्न में, चार विकल्पों में से, उस विकल्प का चयन करें जो दिए गए मुहावरे के लिए सही अर्थ वाला विकल्प है

आपे से बाहर होना

Options :

1. ✗ बाहर जाना
2. ✓ क्रोधित होना
3. ✗ होश ठिकाने आना
4. ✗ बिना सोचे काम करना

Question Number : 192 Question Id : 5459279687 Question Type : MCQ Option Shuffling : Yes Display Question Number : Yes
Single Line Question Option : No Option Orientation : Vertical

Correct Marks : 1 Wrong Marks : 0.25

निम्नलिखित प्रश्न में, चार विकल्पों में से, उस विकल्प का चयन करें जो दिए गए मुहावरे के लिए सही अर्थ वाला विकल्प है

आपे से बाहर होना

Options :

1. ✗ बाहर जाना
2. ✓ क्रोधित होना
3. ✗ होश ठिकाने आना
4. ✗ बिना सोचे काम करना

Question Number : 193 Question Id : 5459279688 Question Type : MCQ Option Shuffling : Yes Display Question Number : Yes
Single Line Question Option : No Option Orientation : Vertical

Correct Marks : 1 Wrong Marks : 0.25

निम्नलिखित प्रश्न में, चार विकल्पों में से, उस विकल्प का चयन करें जो दी गई लोकोक्ति के लिए सही अर्थ वाला विकल्प है

आगे कुआँ पीछे खाई

Options :

1. ✗ दोहरा लाभ
2. ✗ अच्छे के साथ अच्छा
3. ✓ चारों तरफ से विपत्ति आना
4. ✗ कमियाँ होना

Question Number : 193 Question Id : 5459279688 Question Type : MCQ Option Shuffling : Yes Display Question Number : Yes
Single Line Question Option : No Option Orientation : Vertical

Correct Marks : 1 Wrong Marks : 0.25

निम्नलिखित प्रश्न में, चार विकल्पों में से, उस विकल्प का चयन करें जो दी गई लोकोक्ति के लिए सही अर्थ वाला विकल्प है।

आगे कुआँ पीछे खाई

Options :

1. ✘ दोहरा लाभ
2. ✘ अच्छे के साथ अच्छा
3. ✔ चारों तरफ से विपत्ति आना
4. ✘ कमियाँ होना

Question Number : 194 Question Id : 5459279689 Question Type : MCQ Option Shuffling : Yes Display Question Number : Yes
Single Line Question Option : No Option Orientation : Vertical

Correct Marks : 1 Wrong Marks : 0.25

निम्नलिखित प्रश्न में, चार विकल्पों में से, उस विकल्प का चयन करें जो दी गई लोकोक्ति के लिए सही अर्थ वाला विकल्प है।

थोथा चना बाजे घना

Options :

1. ✘ बलवान की ही जीत होती है
2. ✔ ओछा व्यक्ति सदा दिखावा करता है
3. ✘ कंजूस होना
4. ✘ अधिक परिश्रम कम फल

Question Number : 194 Question Id : 5459279689 Question Type : MCQ Option Shuffling : Yes Display Question Number : Yes
Single Line Question Option : No Option Orientation : Vertical

Correct Marks : 1 Wrong Marks : 0.25

निम्नलिखित प्रश्न में, चार विकल्पों में से, उस विकल्प का चयन करें जो दी गई लोकोक्ति के लिए सही अर्थ वाला विकल्प है।

थोथा चना बाजे घना

Options :

1. ✘ बलवान की ही जीत होती है
2. ✔ ओछा व्यक्ति सदा दिखावा करता है
3. ✘ कंजूस होना
4. ✘ अधिक परिश्रम कम फल

Question Number : 195 Question Id : 5459279690 Question Type : MCQ Option Shuffling : Yes Display Question Number : Yes
Single Line Question Option : No Option Orientation : Vertical

Correct Marks : 1 Wrong Marks : 0.25

निम्नलिखित प्रश्न में, चार विकल्पों में से, उस सही विकल्प का चयन करें जो दी गई लोकोक्ति के लिए सही अर्थ वाला विकल्प है।

बीती ताहि बिसार दे

Options :

1. ✔ जो बीत गया, उसे भूल जाना चाहिए
2. ✘ सबको भूल जाना
3. ✘ कुछ भी भूलता नहीं
4. ✘ किसी से भी शत्रुता न करना

Question Number : 195 Question Id : 5459279690 Question Type : MCQ Option Shuffling : Yes Display Question Number : Yes
Single Line Question Option : No Option Orientation : Vertical

Correct Marks : 1 Wrong Marks : 0.25

निम्नलिखित प्रश्न में, चार विकल्पों में से, उस सही विकल्प का चयन करें जो दी गई लोकोक्ति के लिए सही अर्थ वाला विकल्प है।

बीती ताहि बिसार दे

Options :

1. ✓ जो बीत गया, उसे भूल जाना चाहिए
2. ✗ सबको भूल जाना
3. ✗ कुछ भी भूलता नहीं
4. ✗ किसी से भी शत्रुता न करना

Sub-Section Number: 2
Sub-Section Id: 545927576
Question Shuffling Allowed : Yes

Question Id : 5459279691 Question Type : COMPREHENSION Sub Question Shuffling Allowed : Yes Group Comprehension Questions : No

Question Numbers : (196 to 200)

Question Label : Comprehension

नीचे दिए गये गद्यांश को ध्यानपूर्वक पढ़ें और प्रश्न का सर्वोत्तम उत्तर चुनें

भारतीय दर्शन सिखाता है कि जीवन एक आशय और लक्ष्य है, उस आशय की खोज हमारा दायित्व है और अंत में उस लक्ष्य को प्राप्त कर लेना हमारा विशेष अधिकार है। इस प्रकार दर्शन वह है जो कि आशय को उद्घाटित करने की कोशिश करता है और जहाँ तक उसे इसमें सफलता मिलती है, वह इस लक्ष्य तक अग्रसर होने की प्रक्रिया करता है, कुल मिलाकर आखिर यह लक्ष्य क्या है? इस अर्थ में यथार्थ की प्राप्ति वह है जिसमें पा लेना, केवल जानना नहीं है, बल्कि उसी का अंश हो जाना है। इस उपलब्धि में बाधा क्या है? बाधाएँ कई हैं, पर इनमें प्रमुख है—अज्ञान। अशिक्षित आत्मा नहीं है, यहाँ तक कि यथार्थ संसार भी नहीं है। यह दर्शन ही है जो उसे शिक्षित करता है और अपनी शिक्षा से उसे उस अज्ञान से मुक्ति दिलाता है, जो यथार्थ दर्शन नहीं होने देता। इस प्रकार एक दार्शनिक होना एक बौद्धिक अनुगमन करना नहीं, बल्कि एक शक्तिप्रद अनुशासन पर चलना है, क्योंकि सत्य की खोज में लगे हुए सही दार्शनिक को अपने जीवन को इस प्रकार आचारित करना पड़ता है ताकि उस यथार्थ से एकाकार हो जाए जिसे वह खोज रहा है। वास्तव में, यही जीवन का एकमात्र सही मार्ग है और सभी दार्शनिकों को ही नहीं, बल्कि सभी मनुष्यों को, इसका पालन करना होता है, क्योंकि सभी मनुष्यों के दायित्व और नियति एक ही हैं।

Sub questions

Question Number : 196 Question Id : 5459279692 Question Type : MCQ Option Shuffling : Yes Display Question Number : Yes Single Line Question Option : No Option Orientation : Vertical

Correct Marks : 1 Wrong Marks : 0.25

भारतीय दर्शन किस लक्ष्य की ओर संकेत करता है?

Options :

1. ✗ यथार्थ की प्राप्ति कर लेना
2. ✗ यथार्थ के साथ एकाकार हो जाना
3. ✓ जीवन का एक आशय और एक लक्ष्य है
4. ✗ शिक्षित हो जाना

Question Number : 197 Question Id : 5459279693 Question Type : MCQ Option Shuffling : Yes Display Question Number : Yes Single Line Question Option : No Option Orientation : Vertical

Correct Marks : 1 Wrong Marks : 0.25

लक्ष्य प्राप्त करने में प्रमुख बाँधा क्या है?

Options :

1. ✗ शिक्षित होना
2. ✗ यथार्थ दर्शन
3. ✗ अनुशासनहीनता
4. ✓ ज्ञान का अभाव

Question Number : 198 Question Id : 5459279694 Question Type : MCQ Option Shuffling : Yes Display Question Number : Yes Single Line Question Option : No Option Orientation : Vertical

Correct Marks : 1 Wrong Marks : 0.25

जीवन का एकमात्र उद्देश्य क्या है?

Options :

1. ✘ बौद्धिक अनुगमन करना
2. ✘ शिक्षित होना
3. ✔ शक्तिप्रद अनुशासन पर चलना
4. ✘ अज्ञान से मुक्त होना

Question Number : 199 Question Id : 5459279695 Question Type : MCQ Option Shuffling : Yes Display Question Number : Yes Single Line Question Option : No Option Orientation : Vertical

Correct Marks : 1 Wrong Marks : 0.25

इनमें से कौन - सा आशय शब्द का पर्यायवाची शब्द नहीं है?

Options :

1. ✘ तात्पर्य
2. ✔ एकाकार
3. ✘ अभिप्राय
4. ✘ उद्देश्य

Question Number : 200 Question Id : 5459279696 Question Type : MCQ Option Shuffling : Yes Display Question Number : Yes Single Line Question Option : No Option Orientation : Vertical

Correct Marks : 1 Wrong Marks : 0.25

इस अनुच्छेद का कोई उपयुक्त शीर्षक:

Options :

1. ✘ दर्शन
2. ✘ दार्शनिकता
3. ✘ सत्य की खोज
4. ✔ भारतीय दर्शन

Question Id : 5459279691 Question Type : COMPREHENSION Sub Question Shuffling Allowed : Yes Group Comprehension Questions : No

Question Numbers : (196 to 200)

Question Label : Comprehension

नीचे दिए गये गद्यांश को ध्यानपूर्वक पढ़ें और प्रश्न का सर्वोत्तम उत्तर चुनें

भारतीय दर्शन सिखाता है कि जीवन एक आशय और लक्ष्य है, उस आशय की खोज हमारा दायित्व है और अंत में उस लक्ष्य को प्राप्त कर लेना हमारा विशेष अधिकार है। इस प्रकार दर्शन वह है जो कि आशय को उद्घाटित करने की कोशिश करता है और जहाँ तक उसे इसमें सफलता मिलती है, वह इस लक्ष्य तक अग्रसर होने की प्रक्रिया करता है, कुल मिलाकर आखिर यह लक्ष्य क्या है? इस अर्थ में यथार्थ की प्राप्ति वह है जिसमें पा लेना, केवल जानना नहीं है, बल्कि उसी का अंश हो जाना है। इस उपलब्धि में बाधा क्या है? बाधाएँ कई हैं, पर इनमें प्रमुख है-अज्ञान। अशिक्षित आत्मा नहीं है, यहाँ तक कि यथार्थ संसार भी नहीं है। यह दर्शन ही है जो उसे शिक्षित करता है और अपनी शिक्षा से उसे उस अज्ञान से मुक्ति दिलाता है, जो यथार्थ दर्शन नहीं होने देता। इस प्रकार एक दार्शनिक होना एक बौद्धिक अनुगमन करना नहीं, बल्कि एक शक्तिप्रद अनुशासन पर चलना है, क्योंकि सत्य की खोज में लगे हुए सही दार्शनिक को अपने जीवन को इस प्रकार आचारित करना पड़ता है ताकि उस यथार्थ से एकाकार हो जाए जिसे वह खोज रहा है। वास्तव में, यही जीवन का एकमात्र सही मार्ग है और सभी दार्शनिकों को ही नहीं, बल्कि सभी मनुष्यों को, इसका पालन करना होता है, क्योंकि सभी मनुष्यों के दायित्व और निर्यात एक ही हैं।

Sub questions

Question Number : 196 Question Id : 5459279692 Question Type : MCQ Option Shuffling : Yes Display Question Number : Yes Single Line Question Option : No Option Orientation : Vertical

Correct Marks : 1 Wrong Marks : 0.25

भारतीय दर्शन किस लक्ष्य की ओर संकेत करता है?

Options :

1. ✘ यथार्थ की प्राप्ति का लेना
2. ✘ यथार्थ के साथ एकाकार हो जाना

3. ✓ जीवन का एक आशय और एक लक्ष्य है

4. ✗ शिक्षित हो जाना

Question Number : 197 Question Id : 5459279693 Question Type : MCQ Option Shuffling : Yes Display Question Number : Yes
Single Line Question Option : No Option Orientation : Vertical

Correct Marks : 1 Wrong Marks : 0.25

लक्ष्य प्राप्त करने में प्रमुख बाँधा क्या है?

Options :

1. ✗ शिक्षित होना

2. ✗ यथार्थ दर्शन

3. ✗ अनुशासनहीनता

4. ✓ ज्ञान का अभाव

Question Number : 198 Question Id : 5459279694 Question Type : MCQ Option Shuffling : Yes Display Question Number : Yes
Single Line Question Option : No Option Orientation : Vertical

Correct Marks : 1 Wrong Marks : 0.25

जीवन का एकमात्र उद्देश्य क्या है?

Options :

1. ✗ बौद्धिक अनुगमन करना

2. ✗ शिक्षित होना

3. ✓ शक्तिप्रद अनुशासन पर चलना

4. ✗ अज्ञान से मुक्त होना

Question Number : 199 Question Id : 5459279695 Question Type : MCQ Option Shuffling : Yes Display Question Number : Yes
Single Line Question Option : No Option Orientation : Vertical

Correct Marks : 1 Wrong Marks : 0.25

इनमें से कौन - सा आशय शब्द का पर्यायवाची शब्द नहीं है?

Options :

1. ✗ तात्पर्य

2. ✓ एकाकार

3. ✗ अभिप्राय

4. ✗ उद्देश्य

Question Number : 200 Question Id : 5459279696 Question Type : MCQ Option Shuffling : Yes Display Question Number : Yes
Single Line Question Option : No Option Orientation : Vertical

Correct Marks : 1 Wrong Marks : 0.25

इस अनुच्छेद का कोई उपयुक्त शीर्षक:

Options :

1. ✗ दर्शन

2. ✗ दार्शनिकता

3. ✗ सत्य की खोज

4. ✓ भारतीय दर्शन