

Education Consultant India Ltd.

Notations :

- 1.Options shown in green color and with ✓ icon are correct.
- 2.Options shown in red color and with ✖ icon are incorrect.

Question Paper Name:	Lower Division Clerk 23rd August 2019 S1
Subject Name:	LOWER DIVISION CLERK
Creation Date:	2019-08-23 12:07:47
Duration:	120
Total Marks:	200
Display Marks:	Yes
Share Answer Key With Delivery Engine:	No
Actual Answer Key:	Yes
Calculator:	None
Magnifying Glass Required?:	No
Ruler Required?:	No
Eraser Required?:	No
Scratch Pad Required?:	No
Rough Sketch/Notepad Required?:	No
Protractor Required?:	No
Show Watermark on Console?:	Yes
Highlighter:	No
Auto Save on Console?:	No

Mental Ability 1

Group Number :	1
Group Id :	545927611
Group Maximum Duration :	0
Group Minimum Duration :	0
Revisit allowed for view? :	No
Revisit allowed for edit? :	No
Break time:	0
Group Marks:	20
Revisit allowed for group Instructions? :	Yes
Maximum Instruction Time:	0
Minimum Instruction Time:	0

Mental Ability 1

Section Id :	545927611
Section Number :	1
Section type :	Online
Mandatory or Optional:	Mandatory
Number of Questions:	20
Number of Questions to be attempted:	20
Section Marks:	20

Display Number Panel: Yes
Group All Questions: No

Sub-Section Number: 1
Sub-Section Id: 545927733
Question Shuffling Allowed : Yes

Question Number : 1 Question Id : 54592712323 Question Type : MCQ Option Shuffling : Yes Display Question Number : Yes
Single Line Question Option : No Option Orientation : Vertical

Correct Marks : 1 Wrong Marks : 0.25

A series is given with one term wrong. Select that wrong term from the given alternatives.

FH12, HK60, JN240, LQ640, NT1440

Options :

1. ✘ FH12
2. ✘ NT1440
3. ✘ JN240
4. ✔ LQ640

Question Number : 1 Question Id : 54592712323 Question Type : MCQ Option Shuffling : Yes Display Question Number : Yes
Single Line Question Option : No Option Orientation : Vertical

Correct Marks : 1 Wrong Marks : 0.25

एक अनुक्रम दिया गया है, जिसमें से एक पद गलत है। दिए गए विकल्पों में से उस गलत पद को चुनिए।

FH12, HK60, JN240, LQ640, NT1440

Options :

1. ✘ FH12
2. ✘ NT1440
3. ✘ JN240
4. ✔ LQ640

Question Number : 2 Question Id : 54592712324 Question Type : MCQ Option Shuffling : Yes Display Question Number : Yes
Single Line Question Option : No Option Orientation : Vertical

Correct Marks : 1 Wrong Marks : 0.25

A series is given with one term missing. Select the correct alternative from the given ones that will complete the series.

A4, D7, G10, J13, ?

Options :

1. ✘ N16
2. ✘ M15
3. ✔ M16
4. ✘ N15

Question Number : 2 Question Id : 54592712324 Question Type : MCQ Option Shuffling : Yes Display Question Number : Yes
Single Line Question Option : No Option Orientation : Vertical

Correct Marks : 1 Wrong Marks : 0.25

एक अनुक्रम दिया गया है, जिसमें से एक पद लुप्त है। दिए गए विकल्पों में से वह सही विकल्प चुनिए, जो अनुक्रम को पूरा करे।

A4, D7, G10, J13, ?

Options :

1. ✘ N16
2. ✘ M15
3. ✔ M16
4. ✘ N15

Question Number : 3 Question Id : 54592712325 Question Type : MCQ Option Shuffling : Yes Display Question Number : Yes
Single Line Question Option : No Option Orientation : Vertical

Correct Marks : 1 Wrong Marks : 0.25

A series is given with one term missing. Select the correct alternative from the given ones that will complete the series.

CIO, ZDL, WYI, ?

Options :

1. ✘ TFT
2. ✘ TSO
3. ✔ TTF
4. ✘ TST

Question Number : 3 Question Id : 54592712325 Question Type : MCQ Option Shuffling : Yes Display Question Number : Yes
Single Line Question Option : No Option Orientation : Vertical

Correct Marks : 1 Wrong Marks : 0.25

एक अनुक्रम दिया गया है, जिसमें से एक पद लुप्त है। दिए गए विकल्पों में से वह सही विकल्प चुनिए, जो अनुक्रम को पूरा करे।

CIO, ZDL, WYI, ?

Options :

1. ✘ TFT
2. ✘ TSO
3. ✔ TTF
4. ✘ TST

Question Number : 4 Question Id : 54592712326 Question Type : MCQ Option Shuffling : Yes Display Question Number : Yes
Single Line Question Option : No Option Orientation : Vertical

Correct Marks : 1 Wrong Marks : 0.25

In the following question, select the odd letter /letters from the given alternatives.

Options :

1. ✘ AEI
2. ✔ GLP
3. ✘ IMQ
4. ✘ RVZ

Question Number : 4 Question Id : 54592712326 Question Type : MCQ Option Shuffling : Yes Display Question Number : Yes
Single Line Question Option : No Option Orientation : Vertical

Correct Marks : 1 Wrong Marks : 0.25

निम्नलिखित प्रश्न में दिए गए विकल्पों में से विषम अक्षर/अक्षरों को चुनिए।

Options :

1. ✘ AEI
2. ✔ GLP
3. ✘ IMQ

4. ✖ RVZ

Question Number : 5 Question Id : 54592712327 Question Type : MCQ Option Shuffling : Yes Display Question Number : Yes
Single Line Question Option : No Option Orientation : Vertical

Correct Marks : 1 Wrong Marks : 0.25

In the following question, select the odd word from the given alternatives.

Options :

1. ✖ Angle
2. ✖ Power
3. ✖ Force
4. ✔ Tesla

Question Number : 5 Question Id : 54592712327 Question Type : MCQ Option Shuffling : Yes Display Question Number : Yes
Single Line Question Option : No Option Orientation : Vertical

Correct Marks : 1 Wrong Marks : 0.25

निम्नलिखित प्रश्न में दिए गए विकल्पों में से विषम शब्द को चुनिए।

Options :

1. ✖ कोण
2. ✖ शक्ति
3. ✖ बल
4. ✔ टैस्ला

Question Number : 6 Question Id : 54592712328 Question Type : MCQ Option Shuffling : Yes Display Question Number : Yes
Single Line Question Option : No Option Orientation : Vertical

Correct Marks : 1 Wrong Marks : 0.25

In the following question, select the odd word pair from the given alternatives.

Options :

1. ✖ Boxing : Ring
2. ✖ Race : Track
3. ✔ Pitch : Cricket
4. ✖ Tennis : Court

Question Number : 6 Question Id : 54592712328 Question Type : MCQ Option Shuffling : Yes Display Question Number : Yes
Single Line Question Option : No Option Orientation : Vertical

Correct Marks : 1 Wrong Marks : 0.25

निम्नलिखित प्रश्न में दिए गए विकल्पों में से विषम शब्द युग्म को चुनिए।

Options :

1. ✖ बॉक्सिंग : रिंग
2. ✖ दौड़ : ट्रैक
3. ✔ पिच : क्रिकेट
4. ✖ टेनिस : कोर्ट

Question Number : 7 Question Id : 54592712329 Question Type : MCQ Option Shuffling : Yes Display Question Number : Yes
Single Line Question Option : No Option Orientation : Vertical

Correct Marks : 1 Wrong Marks : 0.25

In the following question, select the related word pair from the given alternatives.

Calendar : Date :: ?

Options :

1. ✓ Dictionary : Words
2. ✗ Work : Joule
3. ✗ Power : Watt
4. ✗ Chemistry : Subject

Question Number : 7 Question Id : 54592712329 Question Type : MCQ Option Shuffling : Yes Display Question Number : Yes
Single Line Question Option : No Option Orientation : Vertical

Correct Marks : 1 Wrong Marks : 0.25

निम्नलिखित प्रश्न में दिए गए विकल्पों में से संबंधित शब्द युग्म को चुनिए।

कैलेण्डर : तिथि :: ?

Options :

1. ✓ शब्दकोष : शब्द
2. ✗ कार्य : जूल
3. ✗ विद्युत शक्ति : वॉट
4. ✗ रसायनशास्त्र : विषय

Question Number : 8 Question Id : 54592712330 Question Type : MCQ Option Shuffling : Yes Display Question Number : Yes
Single Line Question Option : No Option Orientation : Vertical

Correct Marks : 1 Wrong Marks : 0.25

In the following question, select the related words from the given alternatives.

Malaria : Mosquitos :: Cholera : ?

Options :

1. ✗ Air
2. ✓ Water
3. ✗ Medicine
4. ✗ Touch

Question Number : 8 Question Id : 54592712330 Question Type : MCQ Option Shuffling : Yes Display Question Number : Yes
Single Line Question Option : No Option Orientation : Vertical

Correct Marks : 1 Wrong Marks : 0.25

निम्नलिखित प्रश्न में दिए गए विकल्पों में से संबंधित शब्दों को चुनिए।

मलेरिया : मच्छर :: कॉलरा : ?

Options :

1. ✗ वायु
2. ✓ पानी
3. ✗ दवाई
4. ✗ छुना

Question Number : 9 Question Id : 54592712331 Question Type : MCQ Option Shuffling : Yes Display Question Number : Yes
Single Line Question Option : No Option Orientation : Vertical

Correct Marks : 1 Wrong Marks : 0.25

In the following question, select the related letter pair from the given alternatives.

KLPQ : PQKL :: ?

Options :

1. ✓ FGKL : KLFG
2. ✗ MNOP : POMN

3. ✖ YMZO : OZMY
4. ✖ NOQR : RQNO

Question Number : 9 Question Id : 54592712331 Question Type : MCQ Option Shuffling : Yes Display Question Number : Yes
Single Line Question Option : No Option Orientation : Vertical

Correct Marks : 1 Wrong Marks : 0.25

निम्नलिखित प्रश्न में दिए गए विकल्पों में से संबंधित अक्षर युग्म को चुनिए।

KLPQ : PQKL :: ?

Options :

1. ✔ FGKL : KLFG
2. ✖ MNOP : POMN
3. ✖ YMZO : OZMY
4. ✖ NOQR : RQNO

Question Number : 10 Question Id : 54592712332 Question Type : MCQ Option Shuffling : Yes Display Question Number : Yes
Single Line Question Option : No Option Orientation : Vertical

Correct Marks : 1 Wrong Marks : 0.25

In a certain code language, 'DEMO' is called as 'EASY', 'EASY' is called as 'BOOK', 'BOOK' is called as 'COLD', 'COLD' is called as 'WINTER', 'WINTER' is called as 'DRY'. What do we read?

Options :

1. ✖ BOOK
2. ✔ COLD
3. ✖ WINTER
4. ✖ DRY

Question Number : 10 Question Id : 54592712332 Question Type : MCQ Option Shuffling : Yes Display Question Number : Yes
Single Line Question Option : No Option Orientation : Vertical

Correct Marks : 1 Wrong Marks : 0.25

एक विशिष्ट कोड भाषा में, 'डेमो' को 'सरल' कहा जाता है, 'सरल' को 'किताब' कहा जाता है, 'किताब' को 'ठंडा' कहा जाता है, 'ठंडा' को 'सर्दी' कहा जाता है, 'सर्दी' को 'सूखा' कहा जाता है। हम क्या पढ़ते हैं?

Options :

1. ✖ किताब
2. ✔ ठंडा
3. ✖ सर्दी
4. ✖ सूखा

Question Number : 11 Question Id : 54592712333 Question Type : MCQ Option Shuffling : Yes Display Question Number : Yes
Single Line Question Option : No Option Orientation : Vertical

Correct Marks : 1 Wrong Marks : 0.25

In a certain code language, 'DRAW' is written as '23', 'DUET' is written as '25'. What is the code for 'EGOS' in that code language?

Options :

1. ✖ 24
2. ✖ 25
3. ✔ 23
4. ✖ 26

Question Number : 11 Question Id : 54592712333 Question Type : MCQ Option Shuffling : Yes Display Question Number : Yes
Single Line Question Option : No Option Orientation : Vertical

Correct Marks : 1 Wrong Marks : 0.25

एक विशिष्ट कोड भाषा में, 'DRAW' को '23' लिखा जाता है, 'DUET' को '25' लिखा जाता है। इस कोड भाषा में 'EGOS' का कोड क्या है?

Options :

1. ✘ 24
2. ✘ 25
3. ✔ 23
4. ✘ 26

Question Number : 12 Question Id : 54592712334 Question Type : MCQ Option Shuffling : Yes Display Question Number : Yes
Single Line Question Option : No Option Orientation : Vertical

Correct Marks : 1 Wrong Marks : 0.25

In a certain code language, 'DEFUSE' is written as 'FHJZYL'. What is the code for 'CHEW' in that code language?

Options :

1. ✔ EKIB
2. ✘ EKBT
3. ✘ EKJB
4. ✘ EKIC

Question Number : 12 Question Id : 54592712334 Question Type : MCQ Option Shuffling : Yes Display Question Number : Yes
Single Line Question Option : No Option Orientation : Vertical

Correct Marks : 1 Wrong Marks : 0.25

एक विशिष्ट कोड भाषा में, 'DEFUSE' को 'FHJZYL' लिखा जाता है। इस कोड भाषा में 'CHEW' का कोड क्या है?

Options :

1. ✔ EKIB
2. ✘ EKBT
3. ✘ EKJB
4. ✘ EKIC

Question Number : 13 Question Id : 54592712335 Question Type : MCQ Option Shuffling : Yes Display Question Number : Yes
Single Line Question Option : No Option Orientation : Vertical

Correct Marks : 1 Wrong Marks : 0.25

Six persons Ajay, Sanjay, Rajeev, Shyam, Vivek and Arun are sitting around a circular table facing towards the centre. Only Sanjay is sitting between Arun and Ajay. Rajeev is second to the right of Vivek. Only Vivek is sitting between Arun and Shyam. Which of the following statement(s) is/are correct?

- I. Sanjay is sitting to the immediate right of Ajay.
- II. Vivek is sitting to the immediate right of Shyam.
- III. Shyam is second to the left of Ajay.
- IV. Arun is not opposite to Rajeev.

Options :

1. ✘ I and II
2. ✔ I and III
3. ✘ Only III
4. ✘ III and IV

Question Number : 13 Question Id : 54592712335 Question Type : MCQ Option Shuffling : Yes Display Question Number : Yes
Single Line Question Option : No Option Orientation : Vertical

Correct Marks : 1 Wrong Marks : 0.25

छ: व्यक्ति अजय, संजय, राजीव, श्याम, विवेक तथा अरुण केन्द्र की ओर मुख करके एक वृत्ताकार मेज के ईर्द - गिर्द बैठे हैं। अरुण तथा अजय के मध्य केवल संजय बैठा है। राजीव, विवेक के दायीं ओर दूसरा है। अरुण तथा श्याम के मध्य केवल विवेक बैठा है। निम्नलिखित में से कौन सा/से कथन सही है/हैं?

- I. संजय, अजय के तुरंत दायीं ओर बैठा है।
- II. विवेक, श्याम के तुरंत दायीं ओर बैठा है।
- III. श्याम, अजय के बायीं ओर दूसरा है।
- IV. अरुण, राजीव के विपरीत नहीं है।

Options :

1. ✘ I और II
2. ✔ I और III
3. ✘ केवल III
4. ✘ III और IV

Question Number : 14 Question Id : 54592712336 Question Type : MCQ Option Shuffling : Yes Display Question Number : Yes Single Line Question Option : No Option Orientation : Vertical

Correct Marks : 1 Wrong Marks : 0.25

A, B, C, D, E, F and G are seven students of a class. Three of them are girls. Among all these students, two students study physics, two study chemistry, two study biology and one studies mathematics. None of the girls study Chemistry. C is a girl. A studies physics. G studies chemistry. E and F studies same subject. B studies mathematics. Which subject does C study?

Options :

1. ✔ Physics
2. ✘ Biology
3. ✘ Mathematics
4. ✘ Chemistry

Question Number : 14 Question Id : 54592712336 Question Type : MCQ Option Shuffling : Yes Display Question Number : Yes Single Line Question Option : No Option Orientation : Vertical

Correct Marks : 1 Wrong Marks : 0.25

A, B, C, D, E, F और G एक कक्षा के सात छात्र हैं। इनमें से तीन लड़कियाँ हैं। इन सभी छात्रों में से, दो छात्र भौतिकी पढ़ते हैं, दो रसायन विज्ञान पढ़ते हैं, दो जीवविज्ञान पढ़ते हैं और एक गणित पढ़ता है। कोई भी लड़की रसायन विज्ञान नहीं पढ़ती है। C एक लड़की है। A भौतिकी पढ़ता है। G रसायन विज्ञान पढ़ता है। E और F समान विषय पढ़ते हैं। B गणित पढ़ता है। C कौन सा विषय पढ़ती है?

Options :

1. ✔ भौतिकी
2. ✘ जीवविज्ञान
3. ✘ गणित
4. ✘ रसायन विज्ञान

Question Number : 15 Question Id : 54592712337 Question Type : MCQ Option Shuffling : Yes Display Question Number : Yes Single Line Question Option : No Option Orientation : Vertical

Correct Marks : 1 Wrong Marks : 0.25

A is mother of B. D is C's sister. C is the only son of his father E. If D is paternal aunt of B, then how D and C respectively are related to each other?

Options :

1. ✘ Father and Daughter
2. ✘ Husband and Wife
3. ✔ Sister and Brother
4. ✘ Mother and son

Question Number : 15 Question Id : 54592712337 Question Type : MCQ Option Shuffling : Yes Display Question Number : Yes
Single Line Question Option : No Option Orientation : Vertical

Correct Marks : 1 Wrong Marks : 0.25

A, B की माता है D, C की बहन है। C, अपने पिता E का इकलौता पुत्र है। यदि D, B की बुआ है, तो क्रमशः D और C एक दूसरे से कैसे संबंधित हैं?

Options :

1. ✘ पिता और पुत्री
2. ✘ पति और पत्नी
3. ✔ बहन और भाई
4. ✘ माता और पुत्र

Question Number : 16 Question Id : 54592712338 Question Type : MCQ Option Shuffling : Yes Display Question Number : Yes
Single Line Question Option : No Option Orientation : Vertical

Correct Marks : 1 Wrong Marks : 0.25

B is the son of A. B's sister C has a son D and a daughter E. How is D related to A?

Options :

1. ✘ Nephew
2. ✘ Brother
3. ✘ Maternal Uncle
4. ✔ Grandson

Question Number : 16 Question Id : 54592712338 Question Type : MCQ Option Shuffling : Yes Display Question Number : Yes
Single Line Question Option : No Option Orientation : Vertical

Correct Marks : 1 Wrong Marks : 0.25

B, A का पुत्र है। B की बहन C का एक पुत्र D और एक पुत्री E है। D, A से कैसे संबंधित है?

Options :

1. ✘ भतीजा
2. ✘ भाई
3. ✘ मामा
4. ✔ पौत्र

Question Number : 17 Question Id : 54592712339 Question Type : MCQ Option Shuffling : Yes Display Question Number : Yes
Single Line Question Option : No Option Orientation : Vertical

Correct Marks : 1 Wrong Marks : 0.25

Five children A, B, C, D and E have five articles bottle, ball, bat, bag, and car. These articles are of green, blue, orange, pink and yellow colour. Each child has only one of those articles. No two children has the same article. The bottle is green and is owned by neither E nor A. D has a yellow article. C has a bat. E has a car which is not blue. The bag is pink. Which of the following statement(s) is/are correct?

- I. A has green colour bag.
- II. C has yellow colour bat.
- III. E has orange colour car.
- IV. C has blue colour bat.

Options :

1. ✘ I and III
2. ✔ III and IV
3. ✘ Only III
4. ✘ Only I

Question Number : 17 Question Id : 54592712339 Question Type : MCQ Option Shuffling : Yes Display Question Number : Yes
Single Line Question Option : No Option Orientation : Vertical

Correct Marks : 1 Wrong Marks : 0.25

पाँच बच्चों A, B, C, D और E के पास पाँच वस्तुएँ बोटल, गेंद, बल्ला, बस्ता और गाड़ी है। यह वस्तुएँ हरे, नीले, नारंगी, गुलाबी और पीले रंग की हैं। प्रत्येक बच्चे के पास उनमें से केवल एक वस्तु है। कोई भी दो बच्चों के पास समान वस्तु नहीं है। बोटल हरी है और न तो E के पास है और न ही A के पास है। D के पास पीले रंग की वस्तु है। C के पास बल्ला है। E के पास गाड़ी है, जो नीली नहीं है। बस्ता गुलाबी है। निम्नलिखित में से कौन सा/से कथन सही है/हैं?

- I. A के पास हरे रंग का बस्ता है
- II. C के पास पीले रंग का बल्ला है
- III. E के पास नारंगी रंग की गाड़ी है
- IV. C के पास नीले रंग का बल्ला है

Options :

- 1. ✘ I और III
- 2. ✔ III और IV
- 3. ✘ केवल III
- 4. ✘ केवल I

Question Number : 18 Question Id : 54592712340 Question Type : MCQ Option Shuffling : Yes Display Question Number : Yes Single Line Question Option : No Option Orientation : Vertical

Correct Marks : 1 Wrong Marks : 0.25

In the following question below are given some statements followed by some conclusions based on those statements. Taking the given statements to be true even if they seem to be at variance from commonly known facts. Read all the conclusions and then decide which of the given conclusion logically follows the given statements.

Statements:

- I. All pens are chairs.
- II. All chairs are books.

Conclusions:

- I. Some books are chairs.
- II. Some chairs are pens.

Options :

- 1. ✘ Only conclusion I follow
- 2. ✘ Only conclusion II follow
- 3. ✔ Both conclusion I and II follow
- 4. ✘ Neither conclusion follow

Question Number : 18 Question Id : 54592712340 Question Type : MCQ Option Shuffling : Yes Display Question Number : Yes Single Line Question Option : No Option Orientation : Vertical

Correct Marks : 1 Wrong Marks : 0.25

नीचे दिए गए प्रश्न में कुछ कथन और उनके बाद उन कथनों पर आधारित कुछ निष्कर्ष दिए गए हैं। दिए गए कथनों को सही माने, चाहे उनमें सामान्य ज्ञात तथ्यों से भिन्नता हो। सभी निष्कर्ष पढ़ें और फिर निर्धारित करें कि दिए गए कौन से निष्कर्ष, दिए गए कथनों के आधार पर युक्तिसंगत हैं।

कथन:

- I. सभी कलम कुर्सियाँ हैं।
- II. सभी कुर्सियाँ किताब हैं।

निष्कर्ष:

- I. कुछ किताब कुर्सियाँ हैं।
- II. कुछ कुर्सियाँ कलम हैं।

Options :

- 1. ✘ केवल निष्कर्ष I अनुसरण करता है
- 2. ✘ केवल निष्कर्ष II अनुसरण करता है
- 3. ✔ दोनों निष्कर्ष I तथा II अनुसरण करते हैं
- 4. ✘ कोई भी निष्कर्ष अनुसरण नहीं करता है

Question Number : 19 Question Id : 54592712341 Question Type : MCQ Option Shuffling : Yes Display Question Number : Yes
Single Line Question Option : No Option Orientation : Vertical

Correct Marks : 1 Wrong Marks : 0.25

In the following question below are given some statements followed by some conclusions based on those statements. Taking the given statements to be true even if they seem to be at variance from commonly known facts. Read all the conclusions and then decide which of the given conclusion logically follows the given statements.

Statements:

- I. Some T are P.
- II. No T is M.
- III. All M are K.

Conclusions:

- I. No M is T.
- II. Some P are T.
- III. Some K are P.

Options :

1. ✖ Both conclusion I and III follow
2. ✖ Both conclusion II and III follow
3. ✔ Both conclusion I and II follow
4. ✖ Neither conclusion follow

Question Number : 19 Question Id : 54592712341 Question Type : MCQ Option Shuffling : Yes Display Question Number : Yes
Single Line Question Option : No Option Orientation : Vertical

Correct Marks : 1 Wrong Marks : 0.25

नीचे दिए गए प्रश्न में कुछ कथन और उनके बाद उन कथनों पर आधारित कुछ निष्कर्ष दिए गए हैं। दिए गए कथनों को सही माने, चाहे उनमें सामान्य ज्ञात तथ्यों से भिन्नता हो। सभी निष्कर्ष पढ़ें और फिर निर्धारित करें कि दिए गए कौन से निष्कर्ष, दिए गए कथनों के आधार पर युक्तिसंगत हैं।

कथन:

- I. कुछ T, P हैं।
- II. कोई T, M नहीं है।
- III. सभी M, K हैं।

निष्कर्ष:

- I. कोई M, T नहीं है।
- II. कुछ P, T हैं।
- III. कुछ K, P हैं।

Options :

1. ✖ दोनों निष्कर्ष I तथा III अनुसरण करते हैं।
2. ✖ दोनों निष्कर्ष II तथा III अनुसरण करते हैं।
3. ✔ दोनों निष्कर्ष I तथा II अनुसरण करते हैं।
4. ✖ कोई भी निष्कर्ष अनुसरण नहीं करता है।

Question Number : 20 Question Id : 54592712342 Question Type : MCQ Option Shuffling : Yes Display Question Number : Yes
Single Line Question Option : No Option Orientation : Vertical

Correct Marks : 1 Wrong Marks : 0.25

In the following question, select the related number from the given alternatives.

216 : 225 :: 438 : ?

Options :

1. ✖ 563
2. ✔ 603
3. ✖ 457

4. ✖ 653

Question Number : 20 Question Id : 54592712342 Question Type : MCQ Option Shuffling : Yes Display Question Number : Yes
Single Line Question Option : No Option Orientation : Vertical

Correct Marks : 1 Wrong Marks : 0.25

निम्नलिखित प्रश्न में दिए गए विकल्पों में से संबंधित संख्या को चुनिए।

216 : 225 :: 438 : ?

Options :

1. ✖ 563

2. ✔ 603

3. ✖ 457

4. ✖ 653

Mental Ability2

Group Number :	2
Group Id :	545927612
Group Maximum Duration :	0
Group Minimum Duration :	0
Revisit allowed for view? :	No
Revisit allowed for edit? :	No
Break time:	0
Group Marks:	20
Revisit allowed for group Instructions? :	Yes
Maximum Instruction Time:	0
Minimum Instruction Time:	0

Mental Ability2

Section Id :	545927612
Section Number :	1
Section type :	Online
Mandatory or Optional:	Mandatory
Number of Questions:	20
Number of Questions to be attempted:	20
Section Marks:	20
Display Number Panel:	Yes
Group All Questions:	No

Sub-Section Number:	1
Sub-Section Id:	545927734
Question Shuffling Allowed :	Yes

Question Number : 21 Question Id : 54592712343 Question Type : MCQ Option Shuffling : Yes Display Question Number : Yes
Single Line Question Option : No Option Orientation : Vertical

Correct Marks : 1 Wrong Marks : 0.25

In the following question, select the related number from the given alternatives.

7658 : 4408 :: 6439 : ?

Options :

1. ✘ 2986
2. ✘ 4786
3. ✘ 3276
4. ✔ 2496

Question Number : 21 Question Id : 54592712343 Question Type : MCQ Option Shuffling : Yes Display Question Number : Yes
Single Line Question Option : No Option Orientation : Vertical

Correct Marks : 1 Wrong Marks : 0.25

निम्नलिखित प्रश्न में दिए गए विकल्पों में से संबंधित संख्या को चुनिए।

7658 : 4408 :: 6439 : ?

Options :

1. ✘ 2986
2. ✘ 4786
3. ✘ 3276
4. ✔ 2496

Question Number : 22 Question Id : 54592712344 Question Type : MCQ Option Shuffling : Yes Display Question Number : Yes
Single Line Question Option : No Option Orientation : Vertical

Correct Marks : 1 Wrong Marks : 0.25

In the following question, select the number which can be placed at the sign of question mark (?) from the given alternatives.

12	16
13	2496

21	26
18	9828

15	11
20	?

Options :

1. ✘ 4320
2. ✘ 6920
3. ✘ 2700
4. ✔ 3300

Question Number : 22 Question Id : 54592712344 Question Type : MCQ Option Shuffling : Yes Display Question Number : Yes
Single Line Question Option : No Option Orientation : Vertical

Correct Marks : 1 Wrong Marks : 0.25

निम्नलिखित प्रश्न में दिए गए विकल्पों में से प्रश्न चिन्ह (?) के स्थान पर आने वाली संख्या को चुनिए।

12	16
13	2496

21	26
18	9828

15	11
20	?

Options :

1. ✘ 4320
2. ✘ 6920
3. ✘ 2700
4. ✔ 3300

Question Number : 23 Question Id : 54592712345 Question Type : MCQ Option Shuffling : Yes Display Question Number : Yes
Single Line Question Option : No Option Orientation : Vertical

Correct Marks : 1 Wrong Marks : 0.25

In the following question, select the number which can be placed at the sign of question mark (?) from the given alternatives.

34	86	56	73
82	98	94	90
57	72	67	81
9	60	?	64

Options :

- ✘ 39
- ✔ 29
- ✘ 49
- ✘ 68

Question Number : 23 Question Id : 54592712345 Question Type : MCQ Option Shuffling : Yes Display Question Number : Yes Single Line Question Option : No Option Orientation : Vertical

Correct Marks : 1 Wrong Marks : 0.25

निम्नलिखित प्रश्न में दिए गए विकल्पों में से प्रश्न चिन्ह (?) के स्थान पर आने वाली संख्या को चुनिए

34	86	56	73
82	98	94	90
57	72	67	81
9	60	?	64

Options :

- ✘ 39
- ✔ 29
- ✘ 49
- ✘ 68

Question Number : 24 Question Id : 54592712346 Question Type : MCQ Option Shuffling : Yes Display Question Number : Yes Single Line Question Option : No Option Orientation : Vertical

Correct Marks : 1 Wrong Marks : 0.25

If 'A' means '×', 'B' means '÷', 'C' means '+' and 'D' means '-', then 20 C 8 A 12 B 24 A 16 C 3 D 15 = ?

Options :

- ✘ 38
- ✘ 28
- ✔ 72
- ✘ 64

Question Number : 24 Question Id : 54592712346 Question Type : MCQ Option Shuffling : Yes Display Question Number : Yes Single Line Question Option : No Option Orientation : Vertical

Correct Marks : 1 Wrong Marks : 0.25

यदि 'A' का अर्थ '×', 'B' का अर्थ '÷', 'C' का अर्थ '+' तथा 'D' का अर्थ '-' हो, तो 20 C 8 A 12 B 24 A 16 C 3 D 15 = ?

Options :

- ✘ 38
- ✘ 28
- ✔ 72
- ✘ 64

Question Number : 25 Question Id : 54592712347 Question Type : MCQ Option Shuffling : Yes Display Question Number : Yes
Single Line Question Option : No Option Orientation : Vertical

Correct Marks : 1 Wrong Marks : 0.25

If 'P' means '+', 'Q' means '×', 'R' means '+' and 'S' means '-', then $15 R 12 Q 34 P 17 Q 4 R 8 S 80 = ?$

Options :

1. ✘ 17
2. ✔ 39
3. ✘ 49
4. ✘ 53

Question Number : 25 Question Id : 54592712347 Question Type : MCQ Option Shuffling : Yes Display Question Number : Yes
Single Line Question Option : No Option Orientation : Vertical

Correct Marks : 1 Wrong Marks : 0.25

यदि 'P' का अर्थ '+', 'Q' का अर्थ '×', 'R' का अर्थ '+' तथा 'S' का अर्थ '-' हो, तो $15 R 12 Q 34 P 17 Q 4 R 8 S 80 = ?$

Options :

1. ✘ 17
2. ✔ 39
3. ✘ 49
4. ✘ 53

Question Number : 26 Question Id : 54592712348 Question Type : MCQ Option Shuffling : Yes Display Question Number : Yes
Single Line Question Option : No Option Orientation : Vertical

Correct Marks : 1 Wrong Marks : 0.25

In the following question, select the related number from the given alternatives.

$217121 : 96 :: 851369 : ?$

Options :

1. ✘ 278
2. ✘ 636
3. ✘ 592
4. ✔ 482

Question Number : 26 Question Id : 54592712348 Question Type : MCQ Option Shuffling : Yes Display Question Number : Yes
Single Line Question Option : No Option Orientation : Vertical

Correct Marks : 1 Wrong Marks : 0.25

निम्नलिखित प्रश्न में दिए गए विकल्पों में से संबंधित संख्या को चुनिए।

$217121 : 96 :: 851369 : ?$

Options :

1. ✘ 278
2. ✘ 636
3. ✘ 592
4. ✔ 482

Question Number : 27 Question Id : 54592712349 Question Type : MCQ Option Shuffling : Yes Display Question Number : Yes
Single Line Question Option : No Option Orientation : Vertical

Correct Marks : 1 Wrong Marks : 0.25

In the following question, select the related number from the given alternatives.

179 : 131 :: 248 : ?

Options :

1. ✘ 72
2. ✔ 84
3. ✘ 96
4. ✘ 108

Question Number : 27 Question Id : 54592712349 Question Type : MCQ Option Shuffling : Yes Display Question Number : Yes
Single Line Question Option : No Option Orientation : Vertical

Correct Marks : 1 Wrong Marks : 0.25

निम्नलिखित प्रश्न में दिए गए विकल्पों में से संबंधित संख्या को चुनिए।

179 : 131 :: 248 : ?

Options :

1. ✘ 72
2. ✔ 84
3. ✘ 96
4. ✘ 108

Question Number : 28 Question Id : 54592712350 Question Type : MCQ Option Shuffling : Yes Display Question Number : Yes
Single Line Question Option : No Option Orientation : Vertical

Correct Marks : 1 Wrong Marks : 0.25

In the following question, select the missing number from the given series.

2, 4, 16, 256, ?

Options :

1. ✘ 24766
2. ✔ 65536
3. ✘ 76286
4. ✘ 98766

Question Number : 28 Question Id : 54592712350 Question Type : MCQ Option Shuffling : Yes Display Question Number : Yes
Single Line Question Option : No Option Orientation : Vertical

Correct Marks : 1 Wrong Marks : 0.25

निम्नलिखित प्रश्न में दी गई श्रृंखला में से लुप्त अंक ज्ञात कीजिए।

2, 4, 16, 256, ?

Options :

1. ✘ 24766
2. ✔ 65536
3. ✘ 76286
4. ✘ 98766

Question Number : 29 Question Id : 54592712351 Question Type : MCQ Option Shuffling : Yes Display Question Number : Yes
Single Line Question Option : No Option Orientation : Vertical

Correct Marks : 1 Wrong Marks : 0.25

In the following question, select the missing number from the given series.

2, 8, 18, 32, 50, ?

Options :

1. ✘ 60
2. ✘ 74
3. ✘ 80
4. ✔ 72

Question Number : 29 Question Id : 54592712351 Question Type : MCQ Option Shuffling : Yes Display Question Number : Yes
Single Line Question Option : No Option Orientation : Vertical

Correct Marks : 1 Wrong Marks : 0.25

निम्नलिखित प्रश्न में दी गई श्रृंखला में से लुप्त अंक ज्ञात कीजिए।

2, 8, 18, 32, 50, ?

Options :

1. ✘ 60
2. ✘ 74
3. ✘ 80
4. ✔ 72

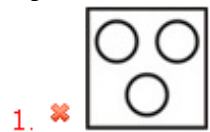
Question Number : 30 Question Id : 54592712352 Question Type : MCQ Option Shuffling : Yes Display Question Number : Yes
Single Line Question Option : No Option Orientation : Vertical

Correct Marks : 1 Wrong Marks : 0.25

Identify the diagram that best represents the relationship among the given classes.

Women, Teacher, Doctor

Options :



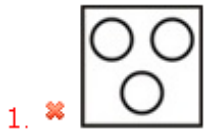
Question Number : 30 Question Id : 54592712352 Question Type : MCQ Option Shuffling : Yes Display Question Number : Yes
Single Line Question Option : No Option Orientation : Vertical

Correct Marks : 1 Wrong Marks : 0.25

वह आरेख चुनिए जो नीचे दिए गए वर्गों के बीच के संबंध का सही निरूपण करता है।

महिलाएँ, शिक्षक, डॉक्टर

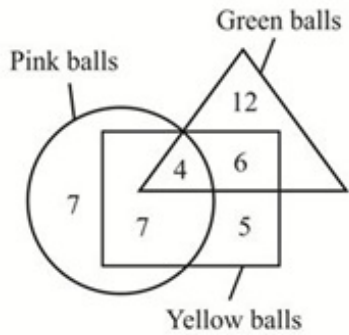
Options :



Question Number : 31 Question Id : 54592712353 Question Type : MCQ Option Shuffling : Yes Display Question Number : Yes
Single Line Question Option : No Option Orientation : Vertical

Correct Marks : 1 Wrong Marks : 0.25

In the given figure, how many balls are pink and yellow both but not green?



Options :

1. ✘ 6

2. ✔ 7

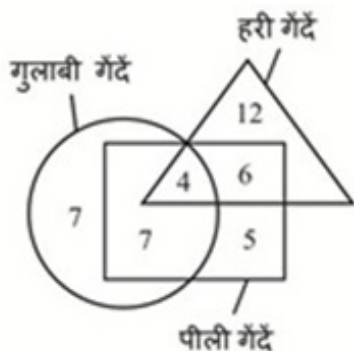
3. ✘ 4

4. ✘ 5

Question Number : 31 Question Id : 54592712353 Question Type : MCQ Option Shuffling : Yes Display Question Number : Yes
Single Line Question Option : No Option Orientation : Vertical

Correct Marks : 1 Wrong Marks : 0.25

दी गई आकृति में कितनी गेंदें गुलाबी और पीली दोनों हैं, परंतु हरी नहीं है?



Options :

1. ✘ 6
2. ✔ 7
3. ✘ 4
4. ✘ 5

Question Number : 32 Question Id : 54592712354 Question Type : MCQ Option Shuffling : Yes Display Question Number : Yes
Single Line Question Option : No Option Orientation : Vertical

Correct Marks : 1 Wrong Marks : 0.25

Shivam walks 10 km in west direction, then he turns left and walks 16 km. He again turns left and walks 10 km. He finally turns left and walks 10 km. How far is he now from his starting point?

Options :

1. ✔ 6 km
2. ✘ 10 km
3. ✘ 26 km
4. ✘ 15 km

Question Number : 32 Question Id : 54592712354 Question Type : MCQ Option Shuffling : Yes Display Question Number : Yes
Single Line Question Option : No Option Orientation : Vertical

Correct Marks : 1 Wrong Marks : 0.25

शिवम पश्चिम दिशा में 10 कि.मी. चलता है, फिर वह बाएं मुड़ता है और 16 कि.मी. चलता है। वह पुनः बाएं मुड़ता है और 10 कि.मी. चलता है। वह अंततः बाएं मुड़ता है तथा 10 कि.मी. चलता है। वह अपने प्रारंभिक बिंदु से अब कितना दूर है?

Options :

1. ✔ 6 कि.मी.
2. ✘ 10 कि.मी.
3. ✘ 26 कि.मी.
4. ✘ 15 कि.मी.

Question Number : 33 Question Id : 54592712355 Question Type : MCQ Option Shuffling : Yes Display Question Number : Yes
Single Line Question Option : No Option Orientation : Vertical

Correct Marks : 1 Wrong Marks : 0.25

Ishaan travels 10 km towards north, then turns right and travels 24 km. He again moves right and travels 3 km. How far and in which direction is ishaan now from the initial point?

Options :

1. ✘ 27 km, North
2. ✘ 25 km, North - west
3. ✔ 25 km, North - east
4. ✘ 27 km, South

Question Number : 33 Question Id : 54592712355 Question Type : MCQ Option Shuffling : Yes Display Question Number : Yes
Single Line Question Option : No Option Orientation : Vertical

Correct Marks : 1 Wrong Marks : 0.25

ईशान उत्तर की ओर 10 कि.मी. यात्रा करता है, फिर दाईं ओर मुड़ता है और 24 कि.मी. यात्रा करता है। वह फिर दाईं ओर मुड़ता है और 3 कि.मी. यात्रा करता है। ईशान आरंभिक बिंदु से अब कितना दूर तथा किस दिशा में है?

Options :

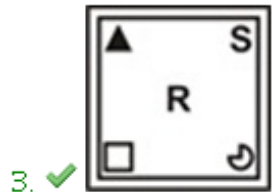
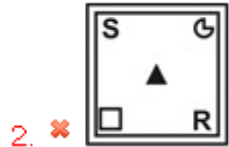
1. ✘ 27 कि.मी., उत्तर
2. ✘ 25 कि.मी., उत्तर - पश्चिम
3. ✔ 25 कि.मी., उत्तर - पूर्व
4. ✘ 27 कि.मी., दक्षिण

Question Number : 34 Question Id : 54592712356 Question Type : MCQ Option Shuffling : Yes Display Question Number : Yes
Single Line Question Option : No Option Orientation : Vertical

Correct Marks : 1 Wrong Marks : 0.25

In the following question, select the odd figure from the given alternatives.

Options :



Question Number : 34 Question Id : 54592712356 Question Type : MCQ Option Shuffling : Yes Display Question Number : Yes
Single Line Question Option : No Option Orientation : Vertical

Correct Marks : 1 Wrong Marks : 0.25

निम्नलिखित प्रश्न में, दिए गए विकल्पों में से विषम आकृति को चुनिए।

Options :

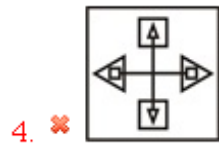
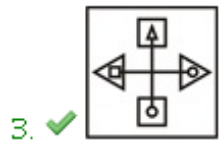
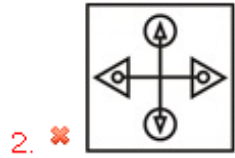
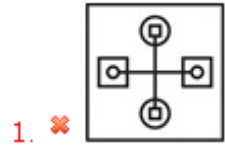


Question Number : 35 Question Id : 54592712357 Question Type : MCQ Option Shuffling : Yes Display Question Number : Yes
Single Line Question Option : No Option Orientation : Vertical

Correct Marks : 1 Wrong Marks : 0.25

In the following question, select the odd figure from the given alternatives.

Options :

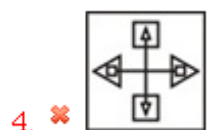
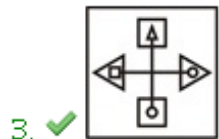
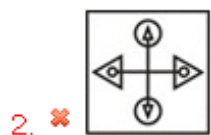
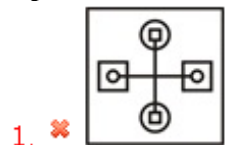


Question Number : 35 Question Id : 54592712357 Question Type : MCQ Option Shuffling : Yes Display Question Number : Yes
Single Line Question Option : No Option Orientation : Vertical

Correct Marks : 1 Wrong Marks : 0.25

निम्नलिखित प्रश्न में, दिए गए विकल्पों में से विषम आकृति को चुनिए।

Options :

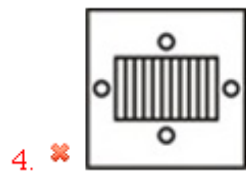
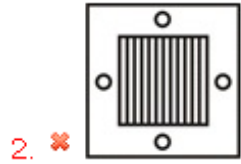


Question Number : 36 Question Id : 54592712358 Question Type : MCQ Option Shuffling : Yes Display Question Number : Yes
Single Line Question Option : No Option Orientation : Vertical

Correct Marks : 1 Wrong Marks : 0.25

In the following question, select the odd figure from the given alternatives.

Options :

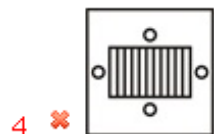
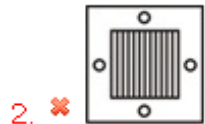


Question Number : 36 Question Id : 54592712358 Question Type : MCQ Option Shuffling : Yes Display Question Number : Yes
Single Line Question Option : No Option Orientation : Vertical

Correct Marks : 1 Wrong Marks : 0.25

निम्नलिखित प्रश्न में, दिए गए विकल्पों में से विषम आकृति को चुनिए।

Options :



Question Number : 37 Question Id : 54592712359 Question Type : MCQ Option Shuffling : Yes Display Question Number : Yes
Single Line Question Option : No Option Orientation : Vertical

Correct Marks : 1 Wrong Marks : 0.25

If a mirror is placed on the line AB, then which of the answer figures is the right image of the given figure?



A  B

Options :

1. ✘



2. ✔



3. ✘



4. ✘




Question Number : 37 Question Id : 54592712359 Question Type : MCQ Option Shuffling : Yes Display Question Number : Yes Single Line Question Option : No Option Orientation : Vertical

Correct Marks : 1 Wrong Marks : 0.25

यदि एक दर्पण को AB रेखा पर रखा जाए, तो दी गई उत्तर आकृतियों में से कौन सी आकृति प्रश्न आकृति 'का' सही प्रतिबिंब होगी?



A  B

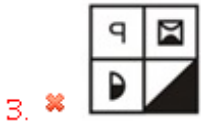
Options :

1. ✘



2. ✔





Question Number : 38 Question Id : 54592712360 Question Type : MCQ Option Shuffling : Yes Display Question Number : Yes
Single Line Question Option : No Option Orientation : Vertical

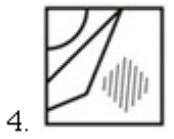
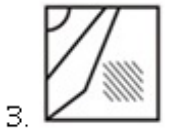
Correct Marks : 1 Wrong Marks : 0.25

Which answer figure will complete the pattern in the question figure?



Note: For this question, discrepancy is found in question/answer. So, this question is ignored for all candidates.

Options :



Question Number : 38 Question Id : 54592712360 Question Type : MCQ Option Shuffling : Yes Display Question Number : Yes
Single Line Question Option : No Option Orientation : Vertical

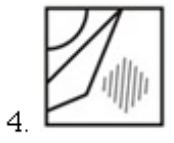
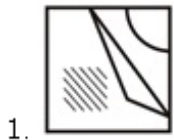
Correct Marks : 1 Wrong Marks : 0.25

कौन सी उत्तर आकृति प्रश्न आकृति के प्रतिरूप को पूरा करेगी?



Note: For this question, discrepancy is found in question/answer. So, this question is ignored for all candidates.

Options :



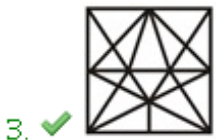
Question Number : 39 Question Id : 54592712361 Question Type : MCQ Option Shuffling : Yes Display Question Number : Yes
Single Line Question Option : No Option Orientation : Vertical

Correct Marks : 1 Wrong Marks : 0.25

From the given answer figures, select the one in which the question figure is hidden/embedded.



Options :



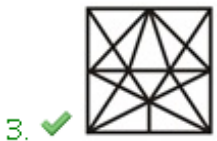
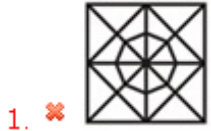
Question Number : 39 Question Id : 54592712361 Question Type : MCQ Option Shuffling : Yes Display Question Number : Yes
Single Line Question Option : No Option Orientation : Vertical

Correct Marks : 1 Wrong Marks : 0.25

दी गई उत्तर आकृतियों में से उस उत्तर आकृति को चुनिए जिस में प्रश्न आकृति निहित है।



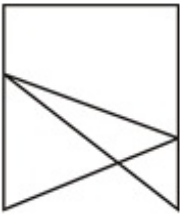
Options :



Question Number : 40 Question Id : 54592712362 Question Type : MCQ Option Shuffling : Yes Display Question Number : Yes
Single Line Question Option : No Option Orientation : Vertical

Correct Marks : 1 Wrong Marks : 0.25

How many quadrilaterals are in the given figure?



Options :

1. ✔ 3

2. ✘ 5

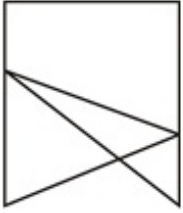
3. ✘ 1

4. ✘ 2

Question Number : 40 Question Id : 54592712362 Question Type : MCQ Option Shuffling : Yes Display Question Number : Yes
Single Line Question Option : No Option Orientation : Vertical

Correct Marks : 1 Wrong Marks : 0.25

दी गयी आकृति में कितने चतुर्भुज हैं?



Options :

1. ✓ 3
2. ✗ 5
3. ✗ 1
4. ✗ 2

General Awareness 1

Group Number :	3
Group Id :	545927613
Group Maximum Duration :	0
Group Minimum Duration :	0
Revisit allowed for view? :	No
Revisit allowed for edit? :	No
Break time:	0
Group Marks:	20
Revisit allowed for group Instructions? :	Yes
Maximum Instruction Time:	0
Minimum Instruction Time:	0

General Awareness 1

Section Id :	545927613
Section Number :	1
Section type :	Online
Mandatory or Optional:	Mandatory
Number of Questions:	20
Number of Questions to be attempted:	20
Section Marks:	20
Display Number Panel:	Yes
Group All Questions:	No

Sub-Section Number:	1
Sub-Section Id:	545927735
Question Shuffling Allowed :	Yes

Question Number : 41 Question Id : 54592712363 Question Type : MCQ Option Shuffling : Yes Display Question Number : Yes
Single Line Question Option : No Option Orientation : Vertical

Correct Marks : 1 Wrong Marks : 0.25

Bhangra is the folk dance of which of the following State?

Options :

1. ✗ Gujarat

2. ✓ Punjab
3. ✗ Haryana
4. ✗ Jammu and Kashmir

Question Number : 41 Question Id : 54592712363 Question Type : MCQ Option Shuffling : Yes Display Question Number : Yes
Single Line Question Option : No Option Orientation : Vertical

Correct Marks : 1 Wrong Marks : 0.25

भांगड़ा निम्नलिखित में से किस राज्य का लोक नृत्य है?

Options :

1. ✗ गुजरात
2. ✓ पंजाब
3. ✗ हरियाणा
4. ✗ जम्मू तथा कश्मीर

Question Number : 42 Question Id : 54592712364 Question Type : MCQ Option Shuffling : Yes Display Question Number : Yes
Single Line Question Option : No Option Orientation : Vertical

Correct Marks : 1 Wrong Marks : 0.25

In which state of India, Janjira fort is situated?

Options :

1. ✗ Tamil Nadu
2. ✗ Uttar Pradesh
3. ✓ Maharashtra
4. ✗ Madhya Pradesh

Question Number : 42 Question Id : 54592712364 Question Type : MCQ Option Shuffling : Yes Display Question Number : Yes
Single Line Question Option : No Option Orientation : Vertical

Correct Marks : 1 Wrong Marks : 0.25

जंजीरा किला भारत के किस राज्य में स्थित है?

Options :

1. ✗ तमिलनाडु
2. ✗ उत्तर प्रदेश
3. ✓ महाराष्ट्र
4. ✗ मध्य प्रदेश

Question Number : 43 Question Id : 54592712365 Question Type : MCQ Option Shuffling : Yes Display Question Number : Yes
Single Line Question Option : No Option Orientation : Vertical

Correct Marks : 1 Wrong Marks : 0.25

Which of the following is a Nepali folk dance?

Options :

1. ✗ Maruni
2. ✗ Tamang Selo
3. ✗ Garba
4. ✓ Both Maruni and Tamang Selo

Question Number : 43 Question Id : 54592712365 Question Type : MCQ Option Shuffling : Yes Display Question Number : Yes
Single Line Question Option : No Option Orientation : Vertical

Correct Marks : 1 Wrong Marks : 0.25

निम्नलिखित में से कौन सा नृत्य एक नेपाली लोक नृत्य है?

Options :

- ✘ मारुनी
- ✘ तामांग सेलो
- ✘ गरबा
- ✔ मारुनी तथा तामांग सेलो दोनों

Question Number : 44 Question Id : 54592712366 Question Type : MCQ Option Shuffling : Yes Display Question Number : Yes
Single Line Question Option : No Option Orientation : Vertical

Correct Marks : 1 Wrong Marks : 0.25

"Nishagandhi Nritya Utsav" is celebrated in _____.

Options :

- ✘ Tamil Nadu
- ✔ Kerala
- ✘ West Bengal
- ✘ Telangana

Question Number : 44 Question Id : 54592712366 Question Type : MCQ Option Shuffling : Yes Display Question Number : Yes
Single Line Question Option : No Option Orientation : Vertical

Correct Marks : 1 Wrong Marks : 0.25

"निशागांधी नृत्य उत्सव" _____में मनाया जाता है।

Options :

- ✘ तमिल नाडु
- ✔ केरला
- ✘ पश्चिम बंगाल
- ✘ तेलंगना

Question Number : 45 Question Id : 54592712367 Question Type : MCQ Option Shuffling : Yes Display Question Number : Yes
Single Line Question Option : No Option Orientation : Vertical

Correct Marks : 1 Wrong Marks : 0.25

Which of the following is central banking institution of 'India'?

Options :

- ✘ Punjab National Bank
- ✔ Reserve Bank of India
- ✘ Indian Overseas Bank
- ✘ Axis Bank

Question Number : 45 Question Id : 54592712367 Question Type : MCQ Option Shuffling : Yes Display Question Number : Yes
Single Line Question Option : No Option Orientation : Vertical

Correct Marks : 1 Wrong Marks : 0.25

निम्नलिखित में से कौन भारत की केंद्रीय बैंकिंग संस्था है?

Options :

- ✘ पंजाब नेशनल बैंक
- ✔ भारतीय रिज़र्व बैंक
- ✘ इंडियन ओवरसीज़ बैंक
- ✘ एक्सिस बैंक

Question Number : 46 Question Id : 54592712368 Question Type : MCQ Option Shuffling : Yes Display Question Number : Yes
Single Line Question Option : No Option Orientation : Vertical

Correct Marks : 1 Wrong Marks : 0.25

Banks are required to keep some reserves in liquid form in the short period before providing credit to customer. This is called _____.

Options :

1. ✘ Bank Rate
2. ✘ Cash Reserve Ratio
3. ✔ Statutory Liquidity Ratio
4. ✘ Repo Rate

Question Number : 46 Question Id : 54592712368 Question Type : MCQ Option Shuffling : Yes Display Question Number : Yes
Single Line Question Option : No Option Orientation : Vertical

Correct Marks : 1 Wrong Marks : 0.25

ग्राहकों को उधार देने से पहले, बैंकों को अल्पावधि में कुछ चल आरक्षित निधियाँ रखने की आवश्यकता होती है। इस अनुपात को _____ कहा जाता है।

Options :

1. ✘ बैंक दर
2. ✘ आरक्षित नकदी निधि अनुपात
3. ✔ सांविधिक चलनिधि अनुपात
4. ✘ रेपो दर

Question Number : 47 Question Id : 54592712369 Question Type : MCQ Option Shuffling : Yes Display Question Number : Yes
Single Line Question Option : No Option Orientation : Vertical

Correct Marks : 1 Wrong Marks : 0.25

Who manages Foreign Exchange in India?

Options :

1. ✔ Reserve Bank of India
2. ✘ SEBI
3. ✘ Finance Ministry
4. ✘ RERA

Question Number : 47 Question Id : 54592712369 Question Type : MCQ Option Shuffling : Yes Display Question Number : Yes
Single Line Question Option : No Option Orientation : Vertical

Correct Marks : 1 Wrong Marks : 0.25

भारत में विदेशी मुद्रा का प्रबंधन कौन करता है?

Options :

1. ✔ भारतीय रिज़र्व बैंक
2. ✘ सेबी
3. ✘ वित्त मंत्रालय
4. ✘ रेरा

Question Number : 48 Question Id : 54592712370 Question Type : MCQ Option Shuffling : Yes Display Question Number : Yes
Single Line Question Option : No Option Orientation : Vertical

Correct Marks : 1 Wrong Marks : 0.25

Which of the following is not a natural indicator?

Options :

1. ✘ Litmus
2. ✘ Turmeric
3. ✔ Phenolphthalein
4. ✘ Hibiscus

Question Number : 48 Question Id : 54592712370 Question Type : MCQ Option Shuffling : Yes Display Question Number : Yes
Single Line Question Option : No Option Orientation : Vertical

Correct Marks : 1 Wrong Marks : 0.25

निम्नलिखित में से क्या एक प्राकृतिक सूचक नहीं है?

Options :

1. ✘ लिटमस
2. ✘ हल्दी
3. ✔ फीनॉलपथेलिन
4. ✘ हिबिस्कस

Question Number : 49 Question Id : 54592712371 Question Type : MCQ Option Shuffling : Yes Display Question Number : Yes
Single Line Question Option : No Option Orientation : Vertical

Correct Marks : 1 Wrong Marks : 0.25

_____ objects give out their own light.

Options :

1. ✘ Opaque
2. ✔ Luminous
3. ✘ Transparent
4. ✘ Translucent

Question Number : 49 Question Id : 54592712371 Question Type : MCQ Option Shuffling : Yes Display Question Number : Yes
Single Line Question Option : No Option Orientation : Vertical

Correct Marks : 1 Wrong Marks : 0.25

_____ वस्तुएं अपना प्रकाश स्वयं देती हैं।

Options :

1. ✘ अपारदर्शी
2. ✔ दीप्त
3. ✘ पारदर्शी
4. ✘ पारभासी

Question Number : 50 Question Id : 54592712372 Question Type : MCQ Option Shuffling : Yes Display Question Number : Yes
Single Line Question Option : No Option Orientation : Vertical

Correct Marks : 1 Wrong Marks : 0.25

An odometer reads 4600km and after 1 hour, it reads 4800km. What does the speedometer read, considering uniform motion?

Options :

1. ✘ 100 km/h
2. ✔ 200 km/h
3. ✘ 300 km/h
4. ✘ 20 km/h

Question Number : 50 Question Id : 54592712372 Question Type : MCQ Option Shuffling : Yes Display Question Number : Yes
Single Line Question Option : No Option Orientation : Vertical

Correct Marks : 1 Wrong Marks : 0.25

एक पथमापी (ओडोमीटर) 4600 कि.मी. दर्शाता है, और 1 घंटे के बाद 4800 कि.मी. दर्शाता है तो एकसमान गति को देखते हुए चालमापी (स्पीडोमीटर) क्या दर्शाता है?

Options :

1. ✘ 100 कि.मी./घंटा
2. ✔ 200 कि.मी./घंटा

3. ✖ 300 कि.मी./घंटा

4. ✖ 20 कि.मी./घंटा

Question Number : 51 Question Id : 54592712373 Question Type : MCQ Option Shuffling : Yes Display Question Number : Yes
Single Line Question Option : No Option Orientation : Vertical

Correct Marks : 1 Wrong Marks : 0.25

Which of the following is an undesirable effect of friction?

- I. Friction in ball bearings
- II. Friction between road and wheels
- III. Friction between nail and wall

Options :

1. ✔ Only I

2. ✖ Only II

3. ✖ Only II and III

4. ✖ Only I and III

Question Number : 51 Question Id : 54592712373 Question Type : MCQ Option Shuffling : Yes Display Question Number : Yes
Single Line Question Option : No Option Orientation : Vertical

Correct Marks : 1 Wrong Marks : 0.25

निम्नलिखित में से क्या घर्षण का एक अवांछनीय प्रभाव है?

- I. बॉल बेयरिंग में घर्षण
- II. सड़क और पहियों के बीच घर्षण
- III. कील और दीवार के बीच घर्षण

Options :

1. ✔ केवल I

2. ✖ केवल II

3. ✖ केवल II तथा III

4. ✖ केवल I तथा III

Question Number : 52 Question Id : 54592712374 Question Type : MCQ Option Shuffling : Yes Display Question Number : Yes
Single Line Question Option : No Option Orientation : Vertical

Correct Marks : 1 Wrong Marks : 0.25

कौन सी ग्रंथी से निकले हार्मोन वृषण को टेस्टोस्टेरोन को उत्पन्न करने के लिए प्रेरित करता है?

Options :

1. ✖ यकृत

2. ✔ पीयूष ग्रंथि

3. ✖ एड्रिनल ग्रंथि

4. ✖ अग्न्याशय

Question Number : 52 Question Id : 54592712374 Question Type : MCQ Option Shuffling : Yes Display Question Number : Yes
Single Line Question Option : No Option Orientation : Vertical

Correct Marks : 1 Wrong Marks : 0.25

Hormones released from which gland stimulate testes to release testosterone?

Options :

1. ✖ Liver

2. ✔ Pituitary gland

3. ✖ Adrenal gland

4. ✖ Pancreas

Question Number : 53 Question Id : 54592712375 Question Type : MCQ Option Shuffling : Yes Display Question Number : Yes
Single Line Question Option : No Option Orientation : Vertical

Correct Marks : 1 Wrong Marks : 0.25

Anabaena is a _____.

Options :

1. ✓ Monera
2. ✗ Protista
3. ✗ Fungi
4. ✗ Plantae

Question Number : 53 Question Id : 54592712375 Question Type : MCQ Option Shuffling : Yes Display Question Number : Yes
Single Line Question Option : No Option Orientation : Vertical

Correct Marks : 1 Wrong Marks : 0.25

एनाबीना एक _____ है।

Options :

1. ✓ मोनेरा
2. ✗ प्रोटिस्टा
3. ✗ फंजाई
4. ✗ प्लांटी

Question Number : 54 Question Id : 54592712376 Question Type : MCQ Option Shuffling : Yes Display Question Number : Yes
Single Line Question Option : No Option Orientation : Vertical

Correct Marks : 1 Wrong Marks : 0.25

Who are known as "Amphibians" of Plant Kingdom?

Options :

1. ✗ Thallophyta
2. ✗ Pteridophyta
3. ✓ Bryophyta
4. ✗ Gymnosperms

Question Number : 54 Question Id : 54592712376 Question Type : MCQ Option Shuffling : Yes Display Question Number : Yes
Single Line Question Option : No Option Orientation : Vertical

Correct Marks : 1 Wrong Marks : 0.25

"पादप वर्ग का उभयचर" किसे कहा जाता है?

Options :

1. ✗ थैलोप्राइटा
2. ✗ टेरेडोप्राइटा
3. ✓ ब्रायोफाईटा
4. ✗ जिम्नोस्पर्म

Question Number : 55 Question Id : 54592712377 Question Type : MCQ Option Shuffling : Yes Display Question Number : Yes
Single Line Question Option : No Option Orientation : Vertical

Correct Marks : 1 Wrong Marks : 0.25

Which enzyme is responsible for breakdown of starch into simple sugars inside the mouth?

Options :

1. ✗ Pepsin
2. ✗ Trypsin
3. ✓ Salivary Amylase

4. ✖ Pancreatic Amylase

Question Number : 55 Question Id : 54592712377 Question Type : MCQ Option Shuffling : Yes Display Question Number : Yes
Single Line Question Option : No Option Orientation : Vertical

Correct Marks : 1 Wrong Marks : 0.25

मुँह के अंदर मंड को सरल शर्करा में परिवर्तित करने के लिए कौन सा एंजाइम जिम्मेदार होता है?

Options :

1. ✖ पेप्सिन
2. ✖ ट्रिप्सिन
3. ✓ लार एमिलेस
4. ✖ अग्न्याशयिक एमिलेस

Question Number : 56 Question Id : 54592712378 Question Type : MCQ Option Shuffling : Yes Display Question Number : Yes
Single Line Question Option : No Option Orientation : Vertical

Correct Marks : 1 Wrong Marks : 0.25

Which of the following crops are oilseeds?

- I. Groundnut
- II. Mustard
- III. Sunflower

Options :

1. ✖ I and II
2. ✖ II and III
3. ✖ I and III
4. ✓ I, II and III

Question Number : 56 Question Id : 54592712378 Question Type : MCQ Option Shuffling : Yes Display Question Number : Yes
Single Line Question Option : No Option Orientation : Vertical

Correct Marks : 1 Wrong Marks : 0.25

निम्नलिखित में से कौन सी फसल तिलहन है?

- I. मूंगफली
- II. सरसों
- III. सूरजमुखी

Options :

1. ✖ I तथा II
2. ✖ II तथा III
3. ✖ I तथा III
4. ✓ I, II तथा III

Question Number : 57 Question Id : 54592712379 Question Type : MCQ Option Shuffling : Yes Display Question Number : Yes
Single Line Question Option : No Option Orientation : Vertical

Correct Marks : 1 Wrong Marks : 0.25

____ river rises in Brahmagiri Hills.

Options :

1. ✓ Kaveri
2. ✖ Krishna
3. ✖ Narmada
4. ✖ Luni

Question Number : 57 Question Id : 54592712379 Question Type : MCQ Option Shuffling : Yes Display Question Number : Yes
Single Line Question Option : No Option Orientation : Vertical

Correct Marks : 1 Wrong Marks : 0.25

_____ नदी का उद्गम ब्रह्मगिरि पहाड़ियों में होता है।

Options :

1. ✓ कावेरी
2. ✗ कृष्णा
3. ✗ नर्मदा
4. ✗ लूनी

Question Number : 58 Question Id : 54592712380 Question Type : MCQ Option Shuffling : Yes Display Question Number : Yes
Single Line Question Option : No Option Orientation : Vertical

Correct Marks : 1 Wrong Marks : 0.25

The southernmost range of Himalayas is known as _____.

Options :

1. ✗ Purvanchal
2. ✗ Himadri
3. ✓ Shivalik
4. ✗ Greater Himalayas

Question Number : 58 Question Id : 54592712380 Question Type : MCQ Option Shuffling : Yes Display Question Number : Yes
Single Line Question Option : No Option Orientation : Vertical

Correct Marks : 1 Wrong Marks : 0.25

हिमालय की सबसे दक्षिणी श्रेणी को _____ के रूप में जाना जाता है।

Options :

1. ✗ पूर्वचल
2. ✗ हिमाद्री
3. ✓ शिवालिक
4. ✗ महान हिमालय

Question Number : 59 Question Id : 54592712381 Question Type : MCQ Option Shuffling : Yes Display Question Number : Yes
Single Line Question Option : No Option Orientation : Vertical

Correct Marks : 1 Wrong Marks : 0.25

Udagamandalam (Ooty) is situated on _____ hills.

Options :

1. ✗ Anantagiri
2. ✓ Nilgiri
3. ✗ Rajmahal
4. ✗ Khasi

Question Number : 59 Question Id : 54592712381 Question Type : MCQ Option Shuffling : Yes Display Question Number : Yes
Single Line Question Option : No Option Orientation : Vertical

Correct Marks : 1 Wrong Marks : 0.25

उदगमंडलम (ऊटी) _____ पहाड़ियों पर स्थित है।

Options :

1. ✗ अनंतगिरि
2. ✓ नीलगिरि
3. ✗ राजमहल
4. ✗ खासी

Question Number : 60 Question Id : 54592712382 Question Type : MCQ Option Shuffling : Yes Display Question Number : Yes
Single Line Question Option : No Option Orientation : Vertical

Correct Marks : 1 Wrong Marks : 0.25

Which of the following are rivers of Ganga basin?

- I. Kosi
- II. Gomti
- III. Gandak

Options :

- 1. ✘ I and II
- 2. ✘ II and III
- 3. ✘ III and I
- 4. ✔ I, II and III

Question Number : 60 Question Id : 54592712382 Question Type : MCQ Option Shuffling : Yes Display Question Number : Yes
Single Line Question Option : No Option Orientation : Vertical

Correct Marks : 1 Wrong Marks : 0.25

निम्नलिखित नदियों में से गंगा तट की नदियाँ कौन सी हैं?

- I. कोसी
- II. गोमती
- III. गंडक

Options :

- 1. ✘ I तथा II
- 2. ✘ II तथा III
- 3. ✘ III तथा I
- 4. ✔ I, II तथा III

General Awareness2

Group Number :	4
Group Id :	545927614
Group Maximum Duration :	0
Group Minimum Duration :	0
Revisit allowed for view? :	No
Revisit allowed for edit? :	No
Break time:	0
Group Marks:	20
Revisit allowed for group Instructions? :	Yes
Maximum Instruction Time:	0
Minimum Instruction Time:	0

General Awareness2

Section Id :	545927614
Section Number :	1
Section type :	Online
Mandatory or Optional:	Mandatory
Number of Questions:	20
Number of Questions to be attempted:	20

Section Marks:	20
Display Number Panel:	Yes
Group All Questions:	No

Sub-Section Number:	1
Sub-Section Id:	545927736
Question Shuffling Allowed :	Yes

Question Number : 61 Question Id : 54592712383 Question Type : MCQ Option Shuffling : Yes Display Question Number : Yes
Single Line Question Option : No Option Orientation : Vertical

Correct Marks : 1 Wrong Marks : 0.25

Dhauladhar range is located in which state?

Options :

- Himachal Pradesh
- Uttar Pradesh
- Arunachal Pradesh
- Sikkim

Question Number : 61 Question Id : 54592712383 Question Type : MCQ Option Shuffling : Yes Display Question Number : Yes
Single Line Question Option : No Option Orientation : Vertical

Correct Marks : 1 Wrong Marks : 0.25

धौलाधार रेंज किस राज्य में स्थित है?

Options :

- हिमाचल प्रदेश
- उत्तर प्रदेश
- अरुणाचल प्रदेश
- सिक्किम

Question Number : 62 Question Id : 54592712384 Question Type : MCQ Option Shuffling : Yes Display Question Number : Yes
Single Line Question Option : No Option Orientation : Vertical

Correct Marks : 1 Wrong Marks : 0.25

'Tirthankaras' are associated with which religion?

Options :

- Judaism
- Sikhism
- Jainism
- Buddhism

Question Number : 62 Question Id : 54592712384 Question Type : MCQ Option Shuffling : Yes Display Question Number : Yes
Single Line Question Option : No Option Orientation : Vertical

Correct Marks : 1 Wrong Marks : 0.25

'तीर्थंकर' किस धर्म से संबंधित है?

Options :

- यहूदी धर्म
- सिख धर्म
- जैन धर्म
- बौद्ध धर्म

Question Number : 63 Question Id : 54592712385 Question Type : MCQ Option Shuffling : Yes Display Question Number : Yes
Single Line Question Option : No Option Orientation : Vertical

Correct Marks : 1 Wrong Marks : 0.25

Which of the following ruler belonged to Lodi Dynasty?

Options :

1. ✘ Alam Shah
2. ✔ Ibrahim Lodi
3. ✘ Jahandar Lodi
4. ✘ Muhammad Shah

Question Number : 63 Question Id : 54592712385 Question Type : MCQ Option Shuffling : Yes Display Question Number : Yes
Single Line Question Option : No Option Orientation : Vertical

Correct Marks : 1 Wrong Marks : 0.25

निम्नलिखित में से कौन सा शासक लोदी वंश का था?

Options :

1. ✘ आलम शाह
2. ✔ इब्राहिम लोदी
3. ✘ जहाँदार लोदी
4. ✘ मुहम्मद शाह

Question Number : 64 Question Id : 54592712386 Question Type : MCQ Option Shuffling : Yes Display Question Number : Yes
Single Line Question Option : No Option Orientation : Vertical

Correct Marks : 1 Wrong Marks : 0.25

Who deciphered Brahmi script?

Options :

1. ✘ John Marshall
2. ✘ Howard Carter
3. ✔ James Prinsep
4. ✘ Arthur Evans

Question Number : 64 Question Id : 54592712386 Question Type : MCQ Option Shuffling : Yes Display Question Number : Yes
Single Line Question Option : No Option Orientation : Vertical

Correct Marks : 1 Wrong Marks : 0.25

ब्राह्मी लिपि का अर्थ किसने निकाला?

Options :

1. ✘ जॉन मार्शल
2. ✘ हॉवर्ड कार्टर
3. ✔ जेम्स प्रिंसेप
4. ✘ आर्थर ईवंस

Question Number : 65 Question Id : 54592712387 Question Type : MCQ Option Shuffling : Yes Display Question Number : Yes
Single Line Question Option : No Option Orientation : Vertical

Correct Marks : 1 Wrong Marks : 0.25

Which of the following played an important role in the formation of Indian National Congress?

Options :

1. ✔ A.O. Hume
2. ✘ Warren Hastings
3. ✘ John Nicholson
4. ✘ Alexander Lawrence

Question Number : 65 Question Id : 54592712387 Question Type : MCQ Option Shuffling : Yes Display Question Number : Yes
Single Line Question Option : No Option Orientation : Vertical

Correct Marks : 1 Wrong Marks : 0.25

भारतीय राष्ट्रीय कांग्रेस के गठन में निम्नलिखित में से किसने महत्वपूर्ण भूमिका निभाई?

Options :

1. ✓ ए.ओ. ह्यूम
2. ✗ वॉरेन हेस्टिंग्स
3. ✗ जॉन निकोलसन
4. ✗ अलेक्जेंडर लॉरेस

Question Number : 66 Question Id : 54592712388 Question Type : MCQ Option Shuffling : Yes Display Question Number : Yes
Single Line Question Option : No Option Orientation : Vertical

Correct Marks : 1 Wrong Marks : 0.25

Which nationalist leader propounded the 'Drain Theory'?

Options :

1. ✗ Romesh Chandra Dutt
2. ✗ Jawahar Lal Nehru
3. ✗ Mahatma Gandhi
4. ✓ Dadabhai Naoroji

Question Number : 66 Question Id : 54592712388 Question Type : MCQ Option Shuffling : Yes Display Question Number : Yes
Single Line Question Option : No Option Orientation : Vertical

Correct Marks : 1 Wrong Marks : 0.25

'धन का निष्कासन सिद्धांत (ड्रेन थ्योरी)' किस राष्ट्रवादी नेता ने दिया?

Options :

1. ✗ रमेश चंद्र दत्त
2. ✗ जवाहर लाल नेहरू
3. ✗ महात्मा गांधी
4. ✓ दादाभाई नौरोजी

Question Number : 67 Question Id : 54592712389 Question Type : MCQ Option Shuffling : Yes Display Question Number : Yes
Single Line Question Option : No Option Orientation : Vertical

Correct Marks : 1 Wrong Marks : 0.25

The Second Battle of Panipat was fought between Hem Chandra Vikramaditya and _____.

Options :

1. ✗ Shah Jahan
2. ✗ Babur
3. ✓ Akbar
4. ✗ Mir Qasim

Question Number : 67 Question Id : 54592712389 Question Type : MCQ Option Shuffling : Yes Display Question Number : Yes
Single Line Question Option : No Option Orientation : Vertical

Correct Marks : 1 Wrong Marks : 0.25

पानीपत का द्वितीय युद्ध हेम चंद्र विक्रमादित्य तथा _____ के बीच लड़ा गया था।

Options :

1. ✗ शाहजहाँ
2. ✗ बाबर
3. ✓ अकबर

4. ✘ मीर कासिम

Question Number : 68 Question Id : 54592712390 Question Type : MCQ Option Shuffling : Yes Display Question Number : Yes
Single Line Question Option : No Option Orientation : Vertical

Correct Marks : 1 Wrong Marks : 0.25

Which is the fourth-highest civilian honor in India?

Options :

1. ✘ Padma Vibhushan

2. ✔ Padma Shri

3. ✘ Arjuna

4. ✘ Padma Bhushan

Question Number : 68 Question Id : 54592712390 Question Type : MCQ Option Shuffling : Yes Display Question Number : Yes
Single Line Question Option : No Option Orientation : Vertical

Correct Marks : 1 Wrong Marks : 0.25

भारत में चौथा सबसे बड़ा नागरिक सम्मान कौन सा है?

Options :

1. ✘ पद्म विभूषण

2. ✔ पद्म श्री

3. ✘ अर्जुन

4. ✘ पद्म भूषण

Question Number : 69 Question Id : 54592712391 Question Type : MCQ Option Shuffling : Yes Display Question Number : Yes
Single Line Question Option : No Option Orientation : Vertical

Correct Marks : 1 Wrong Marks : 0.25

The book "The Accidental Prime Minister" is based on the life of _____.

Options :

1. ✘ Atal Bihari Vajpayee

2. ✘ Narendra Modi

3. ✔ Manmohan Singh

4. ✘ Inder Kumar Gujral

Question Number : 69 Question Id : 54592712391 Question Type : MCQ Option Shuffling : Yes Display Question Number : Yes
Single Line Question Option : No Option Orientation : Vertical

Correct Marks : 1 Wrong Marks : 0.25

"द एक्सीडेंटल प्राइम मिनिस्टर" पुस्तक _____ के जीवन पर आधारित है।

Options :

1. ✘ अटल बिहारी वाजपेयी

2. ✘ नरेंद्र मोदी

3. ✔ मनमोहन सिंह

4. ✘ इंदर कुमार गुजराल

Question Number : 70 Question Id : 54592712392 Question Type : MCQ Option Shuffling : Yes Display Question Number : Yes
Single Line Question Option : No Option Orientation : Vertical

Correct Marks : 1 Wrong Marks : 0.25

Whom among the following has been honoured with the Padma Shri 2019 in the field of art-dance?

Options :

1. ✘ Tiger Shroff

2. ✘ Remo D'souza

3. ✓ Prabhu Deva
4. ✗ Madhuri Dixit

Question Number : 70 Question Id : 54592712392 Question Type : MCQ Option Shuffling : Yes Display Question Number : Yes
Single Line Question Option : No Option Orientation : Vertical

Correct Marks : 1 Wrong Marks : 0.25

निम्नलिखित में से किसे कला-नृत्य के क्षेत्र में पद्म श्री 2019 से सम्मानित किया गया है?

Options :

1. ✗ राइगर श्रॉफ
2. ✗ रेमो डीसूज़ा
3. ✓ प्रभु देवा
4. ✗ माधुरी दिक्षित

Question Number : 71 Question Id : 54592712393 Question Type : MCQ Option Shuffling : Yes Display Question Number : Yes
Single Line Question Option : No Option Orientation : Vertical

Correct Marks : 1 Wrong Marks : 0.25

Central Salt & Marine Chemicals Research Institute is situated in _____.

Options :

1. ✓ Gujarat
2. ✗ Chhattisgarh
3. ✗ Punjab
4. ✗ Uttrakhand

Question Number : 71 Question Id : 54592712393 Question Type : MCQ Option Shuffling : Yes Display Question Number : Yes
Single Line Question Option : No Option Orientation : Vertical

Correct Marks : 1 Wrong Marks : 0.25

केंद्रीय नमक व समुद्री रसायन अनुसंधान संस्थान _____ में स्थित है।

Options :

1. ✓ गुजरात
2. ✗ छत्तीसगढ़
3. ✗ पंजाब
4. ✗ उत्तराखंड

Question Number : 72 Question Id : 54592712394 Question Type : MCQ Option Shuffling : Yes Display Question Number : Yes
Single Line Question Option : No Option Orientation : Vertical

Correct Marks : 1 Wrong Marks : 0.25

Who has been appointed as Director of Research and Analysis Wing (RAW), in June 2019?

Options :

1. ✗ Sharad Kumar Saraf
2. ✗ Arvind Kumar
3. ✓ Samant Kumar Goel
4. ✗ Shefali Juneja

Question Number : 72 Question Id : 54592712394 Question Type : MCQ Option Shuffling : Yes Display Question Number : Yes
Single Line Question Option : No Option Orientation : Vertical

Correct Marks : 1 Wrong Marks : 0.25

जून 2019 में, अनुसंधान और विश्लेषण विंग (राॅ) के निदेशक के रूप में किसे नियुक्त किया गया?

Options :

1. ✗ शरद कुमार सराफ

2. ✘ अरविंद कुमार
3. ✔ सामंत कुमार गोयल
4. ✘ शेफाली जुनेजा

Question Number : 73 Question Id : 54592712395 Question Type : MCQ Option Shuffling : Yes Display Question Number : Yes
Single Line Question Option : No Option Orientation : Vertical

Correct Marks : 1 Wrong Marks : 0.25

The novel "Celestial Bodies" is written by _____.

Options :

1. ✘ Han Kang
2. ✔ Jokha Alharthi
3. ✘ David Grossman
4. ✘ Lydia Davis

Question Number : 73 Question Id : 54592712395 Question Type : MCQ Option Shuffling : Yes Display Question Number : Yes
Single Line Question Option : No Option Orientation : Vertical

Correct Marks : 1 Wrong Marks : 0.25

"सेलेस्टियल बॉडीज" उपन्यास _____ द्वारा लिखा गया है।

Options :

1. ✘ हान कांग
2. ✔ जोखा अल्हार्थी
3. ✘ डेविड ग्रॉसमैन
4. ✘ लिडिया डेविस

Question Number : 74 Question Id : 54592712396 Question Type : MCQ Option Shuffling : Yes Display Question Number : Yes
Single Line Question Option : No Option Orientation : Vertical

Correct Marks : 1 Wrong Marks : 0.25

Which of the following word is NOT mentioned in the Preamble?

Options :

1. ✘ Justice
2. ✔ Solidarity
3. ✘ Equality
4. ✘ Fraternity

Question Number : 74 Question Id : 54592712396 Question Type : MCQ Option Shuffling : Yes Display Question Number : Yes
Single Line Question Option : No Option Orientation : Vertical

Correct Marks : 1 Wrong Marks : 0.25

निम्नलिखित में से कौन सा शब्द उद्देशिका में उल्लिखित नहीं है?

Options :

1. ✘ न्याय
2. ✔ एकजुटता
3. ✘ समता
4. ✘ बंधुता

Question Number : 75 Question Id : 54592712397 Question Type : MCQ Option Shuffling : Yes Display Question Number : Yes
Single Line Question Option : No Option Orientation : Vertical

Correct Marks : 1 Wrong Marks : 0.25

Part I of the Indian Constitution deals with?

Options :

1. ✓ The union and its territory
2. ✗ Citizenship
3. ✗ Fundamental Rights
4. ✗ Directive Principles of State Policy

Question Number : 75 Question Id : 54592712397 Question Type : MCQ Option Shuffling : Yes Display Question Number : Yes
Single Line Question Option : No Option Orientation : Vertical

Correct Marks : 1 Wrong Marks : 0.25

भारतीय संविधान का भाग I किससे संबंधित है?

Options :

1. ✓ संघ और उसके क्षेत्र
2. ✗ नागरिकता
3. ✗ मूल अधिकार
4. ✗ राज्य के नीति निर्देशक तत्व

Question Number : 76 Question Id : 54592712398 Question Type : MCQ Option Shuffling : Yes Display Question Number : Yes
Single Line Question Option : No Option Orientation : Vertical

Correct Marks : 1 Wrong Marks : 0.25

Article 52 of the Indian Constitution deals with which of the following?

Options :

1. ✗ Lok Sabha Speaker
2. ✗ Vice President
3. ✗ Prime Minister
4. ✓ President

Question Number : 76 Question Id : 54592712398 Question Type : MCQ Option Shuffling : Yes Display Question Number : Yes
Single Line Question Option : No Option Orientation : Vertical

Correct Marks : 1 Wrong Marks : 0.25

भारतीय संविधान का अनुच्छेद 52 निम्नलिखित में से किससे संबंधित है?

Options :

1. ✗ लोकसभा अध्यक्ष
2. ✗ उपराष्ट्रपति
3. ✗ प्रधानमंत्री
4. ✓ राष्ट्रपति

Question Number : 77 Question Id : 54592712399 Question Type : MCQ Option Shuffling : Yes Display Question Number : Yes
Single Line Question Option : No Option Orientation : Vertical

Correct Marks : 1 Wrong Marks : 0.25

Through 14th Constitutional Amendment Act to the Indian Constitution, which UT was added to the Indian Union?

Options :

1. ✗ Daman & Diu
2. ✗ Goa
3. ✓ Pondicherry
4. ✗ Dadra & Nagar Haveli

Question Number : 77 Question Id : 54592712399 Question Type : MCQ Option Shuffling : Yes Display Question Number : Yes
Single Line Question Option : No Option Orientation : Vertical

Correct Marks : 1 Wrong Marks : 0.25

भारतीय संविधान में 14 वें संशोधन अधिनियम के माध्यम से, किस केंद्र शासित प्रदेश को भारतीय संघ में जोड़ा गया था?

Options :

1. ✘ दमन और दीव
2. ✘ गोवा
3. ✔ पांडिचेरी
4. ✘ दादरा और नगर हवेली

Question Number : 78 Question Id : 54592712400 Question Type : MCQ Option Shuffling : Yes Display Question Number : Yes
Single Line Question Option : No Option Orientation : Vertical

Correct Marks : 1 Wrong Marks : 0.25

Which of the following pair of player- sport is NOT correct?

Options :

1. ✔ Harika Dronavalli- Hockey
2. ✘ Sunil Chhetri - Football
3. ✘ Gautam Gambhir- Cricket
4. ✘ Sharath Kamal- Table Tennis

Question Number : 78 Question Id : 54592712400 Question Type : MCQ Option Shuffling : Yes Display Question Number : Yes
Single Line Question Option : No Option Orientation : Vertical

Correct Marks : 1 Wrong Marks : 0.25

निम्नलिखित में से कौन सा खिलाड़ी-खेल का युग्म सही नहीं है?

Options :

1. ✔ हरिका द्रोणावल्ली- हॉकी
2. ✘ सुनील छेत्री - फुटबॉल
3. ✘ गौतम गंभीर- क्रिकेट
4. ✘ शरथ कमल- टेबल टेनिस

Question Number : 79 Question Id : 54592712401 Question Type : MCQ Option Shuffling : Yes Display Question Number : Yes
Single Line Question Option : No Option Orientation : Vertical

Correct Marks : 1 Wrong Marks : 0.25

Which is the first country to win Cricket World Cup, Football World Cup and Rugby World Cup?

Options :

1. ✘ South Africa
2. ✔ England
3. ✘ Australia
4. ✘ New Zealand

Question Number : 79 Question Id : 54592712401 Question Type : MCQ Option Shuffling : Yes Display Question Number : Yes
Single Line Question Option : No Option Orientation : Vertical

Correct Marks : 1 Wrong Marks : 0.25

क्रिकेट विश्व कप, फुटबॉल वर्ल्ड कप तथा रग्बी वर्ल्ड कप जीतने वाला पहला देश कौन सा है?

Options :

1. ✘ दक्षिण अफ्रीका
2. ✔ इंग्लैंड
3. ✘ ऑस्ट्रेलिया
4. ✘ न्यूजीलैंड

Question Number : 80 Question Id : 54592712402 Question Type : MCQ Option Shuffling : Yes Display Question Number : Yes
Single Line Question Option : No Option Orientation : Vertical

Correct Marks : 1 Wrong Marks : 0.25

The WBC Asia silver welterweight championship was held in _____.

Options :

1. ✘ Switzerland
2. ✔ Thailand
3. ✘ South Korea
4. ✘ Singapore

Question Number : 80 Question Id : 54592712402 Question Type : MCQ Option Shuffling : Yes Display Question Number : Yes
Single Line Question Option : No Option Orientation : Vertical

Correct Marks : 1 Wrong Marks : 0.25

डब्ल्यूबीसी एशिया सिल्वर वेल्टरवेट चैंपियनशिप _____ में आयोजित की गई थी।

Options :

1. ✘ स्विट्जरलैंड
2. ✔ थाईलैंड
3. ✘ दक्षिण कोरिया
4. ✘ सिंगापुर

Arithmetic Ability1

Group Number :	5
Group Id :	545927615
Group Maximum Duration :	0
Group Minimum Duration :	0
Revisit allowed for view? :	No
Revisit allowed for edit? :	No
Break time:	0
Group Marks:	20
Revisit allowed for group Instructions? :	Yes
Maximum Instruction Time:	0
Minimum Instruction Time:	0

Arithmetic Ability1

Section Id :	545927615
Section Number :	1
Section type :	Online
Mandatory or Optional:	Mandatory
Number of Questions:	20
Number of Questions to be attempted:	20
Section Marks:	20
Display Number Panel:	Yes
Group All Questions:	No

Sub-Section Number:	1
Sub-Section Id:	545927737
Question Shuffling Allowed :	Yes

Question Number : 81 Question Id : 54592712403 Question Type : MCQ Option Shuffling : Yes Display Question Number : Yes
Single Line Question Option : No Option Orientation : Vertical

Correct Marks : 1 Wrong Marks : 0.25

If $N = 432 \times 457$, then what is the unit's digit of N ?

Options :

1. ✘ 2

2. ✔ 4

3. ✘ 6

4. ✘ 7

Question Number : 81 Question Id : 54592712403 Question Type : MCQ Option Shuffling : Yes Display Question Number : Yes
Single Line Question Option : No Option Orientation : Vertical

Correct Marks : 1 Wrong Marks : 0.25

यदि $N = 432 \times 457$ है, तो N का इकाई अंक क्या है?

Options :

1. ✘ 2

2. ✔ 4

3. ✘ 6

4. ✘ 7

Question Number : 82 Question Id : 54592712404 Question Type : MCQ Option Shuffling : Yes Display Question Number : Yes
Single Line Question Option : No Option Orientation : Vertical

Correct Marks : 1 Wrong Marks : 0.25

If $A = 2 + \frac{1}{3 + \frac{1}{2 + \frac{1}{3}}}$ and $B = 3 + \frac{1}{2 + \frac{1}{3 + \frac{1}{2}}}$, then what is the value of $A + B$?

Options :

1. ✔ 275/48

2. ✘ 285/37

3. ✘ 295/31

4. ✘ 265/41

Question Number : 82 Question Id : 54592712404 Question Type : MCQ Option Shuffling : Yes Display Question Number : Yes
Single Line Question Option : No Option Orientation : Vertical

Correct Marks : 1 Wrong Marks : 0.25

यदि $A = 2 + \frac{1}{3 + \frac{1}{2 + \frac{1}{3}}}$ तथा $B = 3 + \frac{1}{2 + \frac{1}{3 + \frac{1}{2}}}$ है, तो $A + B$ का मान क्या है?

Options :

1. ✔ 275/48

2. ✘ 285/37

3. ✘ 295/31

4. ✘ 265/41

Question Number : 83 Question Id : 54592712405 Question Type : MCQ Option Shuffling : Yes Display Question Number : Yes
Single Line Question Option : No Option Orientation : Vertical

Correct Marks : 1 Wrong Marks : 0.25

K when divided by 3, 4 and 5 leaves a remainder 2, 3 and 4 respectively. What can be the value of K?

Options :

1. ✘ 4839 and 2729
2. ✘ 1249 and 2439
3. ✔ 1559 and 1799
4. ✘ 5449 and 5689

Question Number : 83 Question Id : 54592712405 Question Type : MCQ Option Shuffling : Yes Display Question Number : Yes
Single Line Question Option : No Option Orientation : Vertical

Correct Marks : 1 Wrong Marks : 0.25

3, 4 तथा 5 से विभाजित करने पर शेषफल क्रमशः 2, 3 तथा 4 देता है K का मान क्या हो सकता है?

Options :

1. ✘ 4839 तथा 2729
2. ✘ 1249 तथा 2439
3. ✔ 1559 तथा 1799
4. ✘ 5449 तथा 5689

Question Number : 84 Question Id : 54592712406 Question Type : MCQ Option Shuffling : Yes Display Question Number : Yes
Single Line Question Option : No Option Orientation : Vertical

Correct Marks : 1 Wrong Marks : 0.25

9341X82Y is divisible by 72. What is the value of $XY + 2(X + Y)$?

Options :

1. ✔ 38
2. ✘ 18
3. ✘ 24
4. ✘ 26

Question Number : 84 Question Id : 54592712406 Question Type : MCQ Option Shuffling : Yes Display Question Number : Yes
Single Line Question Option : No Option Orientation : Vertical

Correct Marks : 1 Wrong Marks : 0.25

9341X82Y, 72 से विभाजित है $XY + 2(X + Y)$ का मान क्या है?

Options :

1. ✔ 38
2. ✘ 18
3. ✘ 24
4. ✘ 26

Question Number : 85 Question Id : 54592712407 Question Type : MCQ Option Shuffling : Yes Display Question Number : Yes
Single Line Question Option : No Option Orientation : Vertical

Correct Marks : 1 Wrong Marks : 0.25

Which of the following statement(s) is/are correct? I. 999999999 is divisible by 7, 11 and 13. II. 333333 is divisible by 7 and 11 but not 13. III. 444444 is divisible by 7 and 13 but not 11. IV 555555 is divisible by 7, 11 and 13.

Options :

1. ✘ II, III
2. ✘ I, IV

3. ✓ IV

4. ✗ I

Question Number : 85 Question Id : 54592712407 Question Type : MCQ Option Shuffling : Yes Display Question Number : Yes
Single Line Question Option : No Option Orientation : Vertical

Correct Marks : 1 Wrong Marks : 0.25

निम्नलिखित में से कौन सा/से कथन सही है/हैं? I. 999999999, 7, 11 तथा 13 से विभाजित है II. 333333, 7 तथा 11 से विभाजित है परंतु 13 से नहीं III. 444444, 7 तथा 13 से विभाजित है परंतु 11 से नहीं IV. 55555, 7, 11 तथा 13 से विभाजित है

Options :

1. ✗ II, III

2. ✗ I, IV

3. ✓ IV

4. ✗ I

Question Number : 86 Question Id : 54592712408 Question Type : MCQ Option Shuffling : Yes Display Question Number : Yes
Single Line Question Option : No Option Orientation : Vertical

Correct Marks : 1 Wrong Marks : 0.25

What is the value of $0.4 + 0.16 \times 0.32 \div 0.8 - 0.16 \div 0.32 \times 0.64 + 0.32 \div 0.96 \times 0.48$?

Options :

1. ✗ 0.326

2. ✓ 0.304

3. ✗ 0.288

4. ✗ 0.276

Question Number : 86 Question Id : 54592712408 Question Type : MCQ Option Shuffling : Yes Display Question Number : Yes
Single Line Question Option : No Option Orientation : Vertical

Correct Marks : 1 Wrong Marks : 0.25

$0.4 + 0.16 \times 0.32 \div 0.8 - 0.16 \div 0.32 \times 0.64 + 0.32 \div 0.96 \times 0.48$ का मान क्या है?

Options :

1. ✗ 0.326

2. ✓ 0.304

3. ✗ 0.288

4. ✗ 0.276

Question Number : 87 Question Id : 54592712409 Question Type : MCQ Option Shuffling : Yes Display Question Number : Yes
Single Line Question Option : No Option Orientation : Vertical

Correct Marks : 1 Wrong Marks : 0.25

K when divided by 7, 8, 9 leaves a remainder 2 in each case. What can be the value of K? I. 6058 II. 7058 III. 6050 IV. 9084

Options :

1. ✗ I, II and III

2. ✓ II and III

3. ✗ II and IV

4. ✗ III and IV

Question Number : 87 Question Id : 54592712409 Question Type : MCQ Option Shuffling : Yes Display Question Number : Yes
Single Line Question Option : No Option Orientation : Vertical

Correct Marks : 1 Wrong Marks : 0.25

7, 8, 9 से विभाजित करने पर K प्रत्येक स्थिति में शेषफल 2 देता है K का मान क्या है? I. 6058 II. 7058 III. 6050 IV. 9084

Options :

1. ✘ I, II तथा III
2. ✔ II तथा III
3. ✘ II तथा IV
4. ✘ III तथा IV

Question Number : 88 Question Id : 54592712410 Question Type : MCQ Option Shuffling : Yes Display Question Number : Yes
Single Line Question Option : No Option Orientation : Vertical

Correct Marks : 1 Wrong Marks : 0.25

What is the value of $(5 \times 6 \times 9 \div 10 - 15 + 14) / (18 \times 15 \div 3 + 33 - 21)$?

Options :

1. ✘ 14/27
2. ✘ 14/61
3. ✘ 13/61
4. ✔ 13/51

Question Number : 88 Question Id : 54592712410 Question Type : MCQ Option Shuffling : Yes Display Question Number : Yes
Single Line Question Option : No Option Orientation : Vertical

Correct Marks : 1 Wrong Marks : 0.25

$(5 \times 6 \times 9 \div 10 - 15 + 14) / (18 \times 15 \div 3 + 33 - 21)$ का मान क्या है?

Options :

1. ✘ 14/27
2. ✘ 14/61
3. ✘ 13/61
4. ✔ 13/51

Question Number : 89 Question Id : 54592712411 Question Type : MCQ Option Shuffling : Yes Display Question Number : Yes
Single Line Question Option : No Option Orientation : Vertical

Correct Marks : 1 Wrong Marks : 0.25

If A = Least Common Multiple of $(2/3)$, $(4/9)$, $(5/6)$, $(7/12)$ and B = Highest Common Factor of $(3/8)$, $(6/7)$, then what the value of $(A + B) \times A$?

Options :

1. ✔ 2180.27
2. ✘ 2570.79
3. ✘ 2350.24
4. ✘ 2220.63

Question Number : 89 Question Id : 54592712411 Question Type : MCQ Option Shuffling : Yes Display Question Number : Yes
Single Line Question Option : No Option Orientation : Vertical

Correct Marks : 1 Wrong Marks : 0.25

यदि A = $(2/3)$, $(4/9)$, $(5/6)$, $(7/12)$ का लघुत्तम समापवर्त्य तथा B = $(3/8)$, $(6/7)$ का महत्तम समापवर्तक, तो $(A + B) \times A$ का मान क्या है?

Options :

1. ✔ 2180.27
2. ✘ 2570.79
3. ✘ 2350.24
4. ✘ 2220.63

Question Number : 90 Question Id : 54592712412 Question Type : MCQ Option Shuffling : Yes Display Question Number : Yes
Single Line Question Option : No Option Orientation : Vertical

Correct Marks : 1 Wrong Marks : 0.25

If $A = \frac{20}{8} + \frac{2}{5} - \frac{9}{8}$, $B = \frac{16}{15} \div \frac{6}{5} + \frac{20}{6}$ and $C = \frac{7}{2} \times \frac{3}{8} - \frac{2}{8}$, then what is the value of $(A + B) + C$?

Options :

1. ✘ 4365/632
2. ✘ 4169/810
3. ✔ 5083/720
4. ✘ 5661/219

Question Number : 90 Question Id : 54592712412 Question Type : MCQ Option Shuffling : Yes Display Question Number : Yes
Single Line Question Option : No Option Orientation : Vertical

Correct Marks : 1 Wrong Marks : 0.25

यदि $A = \frac{20}{8} + \frac{2}{5} - \frac{9}{8}$, $B = \frac{16}{15} \div \frac{6}{5} + \frac{20}{6}$ तथा $C = \frac{7}{2} \times \frac{3}{8} - \frac{2}{8}$ है, तो $(A + B) + C$ का मान क्या है?

Options :

1. ✘ 4365/632
2. ✘ 4169/810
3. ✔ 5083/720
4. ✘ 5661/219

Question Number : 91 Question Id : 54592712413 Question Type : MCQ Option Shuffling : Yes Display Question Number : Yes
Single Line Question Option : No Option Orientation : Vertical

Correct Marks : 1 Wrong Marks : 0.25

Marked price of a calculator is Rs 3600. If a discount of 42 percent is given, then what is the selling price of the calculator?

Options :

1. ✘ Rs 2068
2. ✘ Rs 2052
3. ✘ Rs 2044
4. ✔ Rs 2088

Question Number : 91 Question Id : 54592712413 Question Type : MCQ Option Shuffling : Yes Display Question Number : Yes
Single Line Question Option : No Option Orientation : Vertical

Correct Marks : 1 Wrong Marks : 0.25

एक कैलकुलेटर का अंकित मूल्य 3600 रुपये है। यदि 42 प्रतिशत की एक छूट दी गयी है, तो कैलकुलेटर का विक्रय मूल्य क्या है?

Options :

1. ✘ 2068 रुपये
2. ✘ 2052 रुपये
3. ✘ 2044 रुपये
4. ✔ 2088 रुपये

Question Number : 92 Question Id : 54592712414 Question Type : MCQ Option Shuffling : Yes Display Question Number : Yes
Single Line Question Option : No Option Orientation : Vertical

Correct Marks : 1 Wrong Marks : 0.25

The average of N1, N2, N3 and N4 is 30. If the average of N2 and N3 is 40, then what will be the average of N1 and N4?

Options :

1. ✓ 20
2. ✗ 40
3. ✗ 30
4. ✗ 15

Question Number : 92 Question Id : 54592712414 Question Type : MCQ Option Shuffling : Yes Display Question Number : Yes
Single Line Question Option : No Option Orientation : Vertical

Correct Marks : 1 Wrong Marks : 0.25

N1, N2, N3 तथा N4 का औसत 30 है यदि N2 तथा N3 का औसत 40 है, तो N1 तथा N4 का औसत क्या होगा?

Options :

1. ✓ 20
2. ✗ 40
3. ✗ 30
4. ✗ 15

Question Number : 93 Question Id : 54592712415 Question Type : MCQ Option Shuffling : Yes Display Question Number : Yes
Single Line Question Option : No Option Orientation : Vertical

Correct Marks : 1 Wrong Marks : 0.25

Average of 18 values is 40. If two values 42 and 28 are removed and five values 60, 75, 85, 16 and 80 are added, then what will be the new average?

Options :

1. ✗ 56
2. ✓ 46
3. ✗ 41
4. ✗ 53

Question Number : 93 Question Id : 54592712415 Question Type : MCQ Option Shuffling : Yes Display Question Number : Yes
Single Line Question Option : No Option Orientation : Vertical

Correct Marks : 1 Wrong Marks : 0.25

18 मानों का औसत 40 है यदि दो मान 42 तथा 28 हटा दिए गए हैं तथा पाँच मान 60, 75, 85, 16 तथा 80 जोड़ दिए गए हैं, तो नया औसत क्या होगा?

Options :

1. ✗ 56
2. ✓ 46
3. ✗ 41
4. ✗ 53

Question Number : 94 Question Id : 54592712416 Question Type : MCQ Option Shuffling : Yes Display Question Number : Yes
Single Line Question Option : No Option Orientation : Vertical

Correct Marks : 1 Wrong Marks : 0.25

If 75 percent of L = $\frac{7}{4}$ of R, then what is L : R?

Options :

1. ✗ 1 : 1
2. ✗ 7 : 4
3. ✗ 4 : 9
4. ✓ 7 : 3

Question Number : 94 Question Id : 54592712416 Question Type : MCQ Option Shuffling : Yes Display Question Number : Yes
Single Line Question Option : No Option Orientation : Vertical

Correct Marks : 1 Wrong Marks : 0.25

यदि L का 75 प्रतिशत = R का $\frac{7}{4}$, तो L : R क्या है?

Options :

- ✘ 1 : 1
- ✘ 7 : 4
- ✘ 4 : 9
- ✔ 7 : 3

Question Number : 95 Question Id : 54592712417 Question Type : MCQ Option Shuffling : Yes Display Question Number : Yes
Single Line Question Option : No Option Orientation : Vertical

Correct Marks : 1 Wrong Marks : 0.25

If K is 230 percent of T, then T is how much percent less than K?

Options :

- ✘ 54.28 percent
- ✘ 59.62 percent
- ✘ 58.38 percent
- ✔ 56.52 percent

Question Number : 95 Question Id : 54592712417 Question Type : MCQ Option Shuffling : Yes Display Question Number : Yes
Single Line Question Option : No Option Orientation : Vertical

Correct Marks : 1 Wrong Marks : 0.25

K, T का 230 प्रतिशत है, तो T, K से कितने प्रतिशत कम है?

Options :

- ✘ 54.28 प्रतिशत
- ✘ 59.62 प्रतिशत
- ✘ 58.38 प्रतिशत
- ✔ 56.52 प्रतिशत

Question Number : 96 Question Id : 54592712418 Question Type : MCQ Option Shuffling : Yes Display Question Number : Yes
Single Line Question Option : No Option Orientation : Vertical

Correct Marks : 1 Wrong Marks : 0.25

The weight of K and M are in the ratio of 3 : 4 respectively. Sum of their weights is 140 kg. If the weight of K is increased by 50 percent and the weight of M is decreased by 20 percent, then what will be the percentage change in the sum of their weights?

Options :

- ✘ 20 percent
- ✘ 12.5 percent
- ✘ 9.09 percent
- ✔ 10 percent

Question Number : 96 Question Id : 54592712418 Question Type : MCQ Option Shuffling : Yes Display Question Number : Yes
Single Line Question Option : No Option Orientation : Vertical

Correct Marks : 1 Wrong Marks : 0.25

K तथा M का भार क्रमशः 3 : 4 के अनुपात में है। उनके भारों का योग 140 कि.ग्रा. है। यदि K का भार 50 प्रतिशत से बढ़ाया गया है तथा M का भार 20 प्रतिशत से घटाया गया है, तो उनके भारों के योग में कितना प्रतिशत बदलाव होगा?

Options :

- ✘ 20 प्रतिशत
- ✘ 12.5 प्रतिशत
- ✘ 9.09 प्रतिशत

4. ✓ 10 प्रतिशत

Question Number : 97 Question Id : 54592712419 Question Type : MCQ Option Shuffling : Yes Display Question Number : Yes
Single Line Question Option : No Option Orientation : Vertical

Correct Marks : 1 Wrong Marks : 0.25

The cost price of a book is $\frac{5}{9}$ of the selling price. What is the profit percentage?

Options :

1. ✗ 120 percent
2. ✗ 125 percent
3. ✓ 80 percent
4. ✗ 75 percent

Question Number : 97 Question Id : 54592712419 Question Type : MCQ Option Shuffling : Yes Display Question Number : Yes
Single Line Question Option : No Option Orientation : Vertical

Correct Marks : 1 Wrong Marks : 0.25

एक पुस्तक का क्रय मूल्य विक्रय मूल्य का $\frac{5}{9}$ है। लाभ प्रतिशत क्या है?

Options :

1. ✗ 120 प्रतिशत
2. ✗ 125 प्रतिशत
3. ✓ 80 प्रतिशत
4. ✗ 75 प्रतिशत

Question Number : 98 Question Id : 54592712420 Question Type : MCQ Option Shuffling : Yes Display Question Number : Yes
Single Line Question Option : No Option Orientation : Vertical

Correct Marks : 1 Wrong Marks : 0.25

The loss incurred on selling an article for Rs 980 is twice of the profit earned on selling the same article for Rs 1310. What is the cost price of this article?

Options :

1. ✗ Rs 1400
2. ✗ Rs 1250
3. ✓ Rs 1200
4. ✗ Rs 1320

Question Number : 98 Question Id : 54592712420 Question Type : MCQ Option Shuffling : Yes Display Question Number : Yes
Single Line Question Option : No Option Orientation : Vertical

Correct Marks : 1 Wrong Marks : 0.25

980 रुपये में एक वस्तु को बेचने पर हुई हानि, उसी वस्तु को 1310 रुपये में बेचने पर कमाये गये लाभ की दोगुनी है। वस्तु का क्रय मूल्य क्या है?

Options :

1. ✗ 1400 रुपये
2. ✗ 1250 रुपये
3. ✓ 1200 रुपये
4. ✗ 1320 रुपये

Question Number : 99 Question Id : 54592712421 Question Type : MCQ Option Shuffling : Yes Display Question Number : Yes
Single Line Question Option : No Option Orientation : Vertical

Correct Marks : 1 Wrong Marks : 0.25

A watch is sold at a profit of 33.33 percent. If its cost price and selling price increase by Rs 10 and Rs 25 respectively, then the profit percentage increases to 50 percent. What is the original cost price of the article?

Options :

1. ✘ Rs 70
2. ✘ Rs 80
3. ✘ Rs 90
4. ✔ Rs 60

Question Number : 99 Question Id : 54592712421 Question Type : MCQ Option Shuffling : Yes Display Question Number : Yes Single Line Question Option : No Option Orientation : Vertical

Correct Marks : 1 Wrong Marks : 0.25

एक घड़ी 33.33 प्रतिशत के लाभ पर बेची गयी है। यदि इसका क्रय मूल्य तथा विक्रय मूल्य क्रमशः 10 रुपये तथा 25 रुपये से बढ़ जाता है, तो लाभ प्रतिशत बढ़कर 50 प्रतिशत हो जाता है। घड़ी का मूल क्रय मूल्य क्या है?

Options :

1. ✘ 70 रुपये
2. ✘ 80 रुपये
3. ✘ 90 रुपये
4. ✔ 60 रुपये

Question Number : 100 Question Id : 54592712422 Question Type : MCQ Option Shuffling : Yes Display Question Number : Yes Single Line Question Option : No Option Orientation : Vertical

Correct Marks : 1 Wrong Marks : 0.25

A and B invest in a business in the ratio 12 : 15 and their annual profit were in ratio 4 : 3 . If A invested the money for 10 months, then for how many months did B invest his money?

Options :

1. ✔ 6 months
2. ✘ 8 months
3. ✘ 9 months
4. ✘ 7 months

Question Number : 100 Question Id : 54592712422 Question Type : MCQ Option Shuffling : Yes Display Question Number : Yes Single Line Question Option : No Option Orientation : Vertical

Correct Marks : 1 Wrong Marks : 0.25

A तथा B ने एक व्यापार में 12 : 15 के अनुपात में निवेश किया तथा उनका वार्षिक लाभ 4 : 3 के अनुपात में था। यदि A ने 10 माह के लिए पैसे निवेश किये तो, B ने कितने माह के लिए पैसे निवेश किये?

Options :

1. ✔ 6 माह
2. ✘ 8 माह
3. ✘ 9 माह
4. ✘ 7 माह

Arithmetic Ability2

Group Number :	6
Group Id :	545927616
Group Maximum Duration :	0
Group Minimum Duration :	0
Revisit allowed for view? :	No
Revisit allowed for edit? :	No
Break time:	0
Group Marks:	20
Revisit allowed for group Instructions? :	Yes

Maximum Instruction Time: 0
Minimum Instruction Time: 0

Arithmetic Ability2

Section Id : 545927616
Section Number : 1
Section type : Online
Mandatory or Optional: Mandatory
Number of Questions: 20
Number of Questions to be attempted: 20
Section Marks: 20
Display Number Panel: Yes
Group All Questions: No

Sub-Section Number: 1
Sub-Section Id: 545927738
Question Shuffling Allowed : Yes

Question Number : 101 Question Id : 54592712423 Question Type : MCQ Option Shuffling : Yes Display Question Number : Yes
Single Line Question Option : No Option Orientation : Vertical

Correct Marks : 1 Wrong Marks : 0.25

If two numbers are in the ratio 1 : 4. If their sum is 20, then what is the sum of the squares of the two numbers?

Options :

1. ✘ 232
2. ✘ 256
3. ✘ 264
4. ✔ 272

Question Number : 101 Question Id : 54592712423 Question Type : MCQ Option Shuffling : Yes Display Question Number : Yes
Single Line Question Option : No Option Orientation : Vertical

Correct Marks : 1 Wrong Marks : 0.25

यदि दो संख्याएँ 1 : 4 के अनुपात में हैं। यदि उनका योग 20 है, तो दोनों संख्याओं के वर्गों का योग क्या है?

Options :

1. ✘ 232
2. ✘ 256
3. ✘ 264
4. ✔ 272

Question Number : 102 Question Id : 54592712424 Question Type : MCQ Option Shuffling : Yes Display Question Number : Yes
Single Line Question Option : No Option Orientation : Vertical

Correct Marks : 1 Wrong Marks : 0.25

Prasad starts a business with Rs 3600. After 4 months Roy joins Prasad as his partner. If the profit after a year is divided in the ratio 2 : 3, then how much money Roy invested?

Options :

1. ✘ Rs 8100
2. ✘ Rs 6400
3. ✔ Rs 7200

4. ✖ Rs 7800

Question Number : 102 Question Id : 54592712424 Question Type : MCQ Option Shuffling : Yes Display Question Number : Yes
Single Line Question Option : No Option Orientation : Vertical

Correct Marks : 1 Wrong Marks : 0.25

प्रसाद ने 3600 रुपये के साथ एक व्यापार शुरू किया। 4 माह बाद रॉय, प्रसाद के साथ पार्टनर की तरह जुड़ गया। यदि एक वर्ष के बाद लाभ 2 : 3 के अनुपात में बंटा तो रॉय ने कितने पैसे लगाए?

Options :

1. ✖ 8100 रुपये
2. ✖ 6400 रुपये
3. ✔ 7200 रुपये
4. ✖ 7800 रुपये

Question Number : 103 Question Id : 54592712425 Question Type : MCQ Option Shuffling : Yes Display Question Number : Yes
Single Line Question Option : No Option Orientation : Vertical

Correct Marks : 1 Wrong Marks : 0.25

Rs 9000 gives Rs 13050 as simple interest in 5 years. What is the per annum rate of interest?

Options :

1. ✖ 20 percent
2. ✖ 24 percent
3. ✖ 22 percent
4. ✔ 29 percent

Question Number : 103 Question Id : 54592712425 Question Type : MCQ Option Shuffling : Yes Display Question Number : Yes
Single Line Question Option : No Option Orientation : Vertical

Correct Marks : 1 Wrong Marks : 0.25

9000 रुपये 5 वर्षों में 13050 रुपये साधारण ब्याज देते हैं। प्रति वर्ष ब्याज की दर क्या है?

Options :

1. ✖ 20 प्रतिशत
2. ✖ 24 प्रतिशत
3. ✖ 22 प्रतिशत
4. ✔ 29 प्रतिशत

Question Number : 104 Question Id : 54592712426 Question Type : MCQ Option Shuffling : Yes Display Question Number : Yes
Single Line Question Option : No Option Orientation : Vertical

Correct Marks : 1 Wrong Marks : 0.25

When kept at compound interest (compounding annually), a sum of money becomes Rs 29160 in 2 years. If the rate of interest is 8 percent per annum, then what is the interest for 2 years?

Options :

1. ✖ Rs 3310
2. ✔ Rs 4160
3. ✖ Rs 4380
4. ✖ Rs 3940

Question Number : 104 Question Id : 54592712426 Question Type : MCQ Option Shuffling : Yes Display Question Number : Yes
Single Line Question Option : No Option Orientation : Vertical

Correct Marks : 1 Wrong Marks : 0.25

चक्रवृद्धि ब्याज (वार्षिक संयोजन) पर धनराशि 2 वर्षों में 29160 रुपये हो जाती है। यदि ब्याज की दर 8 प्रतिशत प्रति वर्ष है, तो 2 वर्ष का ब्याज कितना है?

Options :

1. ✘ 3310 रुपये
2. ✔ 4160 रुपये
3. ✘ 4380 रुपये
4. ✘ 3940 रुपये

Question Number : 105 Question Id : 54592712427 Question Type : MCQ Option Shuffling : Yes Display Question Number : Yes
Single Line Question Option : No Option Orientation : Vertical

Correct Marks : 1 Wrong Marks : 0.25

Rs 45000 are kept at a rate of 18 percent per annum. What is the difference in compound interest and simple interest for 2 years?

Options :

1. ✘ Rs 1048
2. ✘ Rs 1636
3. ✔ Rs 1458
4. ✘ Rs 1244

Question Number : 105 Question Id : 54592712427 Question Type : MCQ Option Shuffling : Yes Display Question Number : Yes
Single Line Question Option : No Option Orientation : Vertical

Correct Marks : 1 Wrong Marks : 0.25

45000 रुपये को 18 प्रतिशत प्रति वर्ष की दर से रखा जाता है। 2 वर्ष के चक्रवृद्धि ब्याज तथा साधारण ब्याज का अंतर क्या है?

Options :

1. ✘ 1048 रुपये
2. ✘ 1636 रुपये
3. ✔ 1458 रुपये
4. ✘ 1244 रुपये

Question Number : 106 Question Id : 54592712428 Question Type : MCQ Option Shuffling : Yes Display Question Number : Yes
Single Line Question Option : No Option Orientation : Vertical

Correct Marks : 1 Wrong Marks : 0.25

Arnav crosses a 420 metres wide road in 35 seconds. What is the speed of Arnav?

Options :

1. ✔ 43.2 km/hr
2. ✘ 44.6 km/hr
3. ✘ 36.4 km/hr
4. ✘ 24.2 km/hr

Question Number : 106 Question Id : 54592712428 Question Type : MCQ Option Shuffling : Yes Display Question Number : Yes
Single Line Question Option : No Option Orientation : Vertical

Correct Marks : 1 Wrong Marks : 0.25

अरनव एक 420 मीटर चौड़ी सड़क को 35 सेकण्ड में पार करता है। अरनव की गति क्या है?

Options :

1. ✔ 43.2 कि.मी/घंटा
2. ✘ 44.6 कि.मी/घंटा
3. ✘ 36.4 कि.मी/घंटा
4. ✘ 24.2 कि.मी/घंटा

Question Number : 107 Question Id : 54592712429 Question Type : MCQ Option Shuffling : Yes Display Question Number : Yes
Single Line Question Option : No Option Orientation : Vertical

Correct Marks : 1 Wrong Marks : 0.25

A 560 metres long train crosses a 700 metres long platform in 84 seconds. How much time will it take to cross a bridge of length 1300 metres?

Options :

- ✗ 136 seconds
- ✗ 84 seconds
- ✗ 96 seconds
- ✓ 124 seconds

Question Number : 107 Question Id : 54592712429 Question Type : MCQ Option Shuffling : Yes Display Question Number : Yes Single Line Question Option : No Option Orientation : Vertical

Correct Marks : 1 Wrong Marks : 0.25

एक 560 मीटर लम्बी रेलगाड़ी एक 700 मीटर लम्बे प्लेटफॉर्म को 84 सेकण्ड में पार कर लेती है। 1300 मीटर लम्बाई वाले पुल को पार करने में वह कितना समय लेगी?

Options :

- ✗ 136 सेकण्ड
- ✗ 84 सेकण्ड
- ✗ 96 सेकण्ड
- ✓ 124 सेकण्ड

Question Number : 108 Question Id : 54592712430 Question Type : MCQ Option Shuffling : Yes Display Question Number : Yes Single Line Question Option : No Option Orientation : Vertical

Correct Marks : 1 Wrong Marks : 0.25

Vinod leaves from Delhi at 8:00 a.m. and reaches Mumbai at 12:00 p.m. on the same day. Raghav leaves Mumbai at 9:00 a.m. and reaches Delhi at 5:00 p.m. on the same day. At what time do they meet?

Options :

- ✓ 11:00 a.m.
- ✗ 11:30 a.m.
- ✗ 12:00 p.m.
- ✗ 1:00 p.m.

Question Number : 108 Question Id : 54592712430 Question Type : MCQ Option Shuffling : Yes Display Question Number : Yes Single Line Question Option : No Option Orientation : Vertical

Correct Marks : 1 Wrong Marks : 0.25

विनोद दिल्ली से 8:00 पूर्वाह्न पर निकलता है तथा उसी दिन मुंबई 12:00 अपराह्न पर पहुँचता है। राघव मुंबई से 9:00 पूर्वाह्न पर निकलता है तथा उसी दिन दिल्ली पर 5:00 अपराह्न पर पहुँचता है। वह किस समय मिलते हैं?

Options :

- ✓ 11:00 पूर्वाह्न
- ✗ 11:30 पूर्वाह्न
- ✗ 12:00 अपराह्न
- ✗ 1:00 अपराह्न

Question Number : 109 Question Id : 54592712431 Question Type : MCQ Option Shuffling : Yes Display Question Number : Yes Single Line Question Option : No Option Orientation : Vertical

Correct Marks : 1 Wrong Marks : 0.25

6 men or 18 boys can do a work in 60 days. In how many days 4 men and 24 boys can together complete the same work?

Options :

- ✗ 24 days
- ✓ 30 days

3. ✖ 36 days
4. ✖ 40 days

Question Number : 109 Question Id : 54592712431 Question Type : MCQ Option Shuffling : Yes Display Question Number : Yes
Single Line Question Option : No Option Orientation : Vertical

Correct Marks : 1 Wrong Marks : 0.25

6 पुरुष अथवा 18 लडके एक कार्य को 60 दिन में कर सकते हैं उसी कार्य को 4 पुरुष तथा 24 लडके कितने दिन में पूरा कर सकते हैं?

Options :

1. ✖ 24 दिन
2. ✔ 30 दिन
3. ✖ 36 दिन
4. ✖ 40 दिन

Question Number : 110 Question Id : 54592712432 Question Type : MCQ Option Shuffling : Yes Display Question Number : Yes
Single Line Question Option : No Option Orientation : Vertical

Correct Marks : 1 Wrong Marks : 0.25

P alone can do $\frac{7}{10}$ of a work in 14 days. With the help of Q he can complete the work in 15 days. In how many days can Q alone do the same work?

Options :

1. ✖ 70 days
2. ✔ 60 days
3. ✖ 80 days
4. ✖ 90 days

Question Number : 110 Question Id : 54592712432 Question Type : MCQ Option Shuffling : Yes Display Question Number : Yes
Single Line Question Option : No Option Orientation : Vertical

Correct Marks : 1 Wrong Marks : 0.25

P अकेला एक कार्य का $\frac{7}{10}$, 14 दिन में कर सकता है Q की सहायता से वह कार्य 15 दिन में पूरा कर सकता है Q अकेला उसी कार्य को कितने दिन में कर सकता है?

Options :

1. ✖ 70 दिन
2. ✔ 60 दिन
3. ✖ 80 दिन
4. ✖ 90 दिन

Question Number : 111 Question Id : 54592712433 Question Type : MCQ Option Shuffling : Yes Display Question Number : Yes
Single Line Question Option : No Option Orientation : Vertical

Correct Marks : 1 Wrong Marks : 0.25

Ram can do half of a work in 5 days. Raju can do $\frac{3}{5}$ of the same work in 12 days. Vivek can do $\frac{2}{3}$ of the same work in 10 days. If they work together, then how much time will they take to complete the work?

Options :

1. ✖ 5 days
2. ✔ $\frac{60}{13}$ days
3. ✖ $\frac{60}{17}$ days
4. ✖ 4 days

Question Number : 111 Question Id : 54592712433 Question Type : MCQ Option Shuffling : Yes Display Question Number : Yes
Single Line Question Option : No Option Orientation : Vertical

Correct Marks : 1 Wrong Marks : 0.25

राम 5 दिनों में आधा काम कर सकता है। राजू 12 दिनों में एक ही काम के $\frac{3}{5}$ कर सकता है। विवेक 10 दिनों में एक ही काम के $\frac{2}{3}$ कर सकता है। यदि वे एक साथ काम करते हैं, तो उन्हें काम पूरा करने में कितना समय लगेगा?

Options :

- ✘ 5 दिन
- ✔ 60/13 दिन
- ✘ 60/17 दिन
- ✘ 4 दिन

Question Number : 112 Question Id : 54592712434 Question Type : MCQ Option Shuffling : Yes Display Question Number : Yes Single Line Question Option : No Option Orientation : Vertical

Correct Marks : 1 Wrong Marks : 0.25

The diameter of a sphere is 42 cm. What is the volume of the sphere?

Options :

- ✘ 36808 cm^3
- ✘ 34808 cm^3
- ✔ 38808 cm^3
- ✘ 36878 cm^3

Question Number : 112 Question Id : 54592712434 Question Type : MCQ Option Shuffling : Yes Display Question Number : Yes Single Line Question Option : No Option Orientation : Vertical

Correct Marks : 1 Wrong Marks : 0.25

एक गोले की त्रिज्या 42 से.मी. है। गोले का आयतन क्या है?

Options :

- ✘ 36808 से.मी.^3
- ✘ 34808 से.मी.^3
- ✔ 38808 से.मी.^3
- ✘ 36878 से.मी.^3

Question Number : 113 Question Id : 54592712435 Question Type : MCQ Option Shuffling : Yes Display Question Number : Yes Single Line Question Option : No Option Orientation : Vertical

Correct Marks : 1 Wrong Marks : 0.25

The sides of a triangle are 10 cm, 13 cm and 13 cm. What is the area of triangle?

Options :

- ✘ 48 cm^2

2. ✓ 60 cm²

3. ✗ 54 cm²

4. ✗ 56 cm²

Question Number : 113 Question Id : 54592712435 Question Type : MCQ Option Shuffling : Yes Display Question Number : Yes
Single Line Question Option : No Option Orientation : Vertical

Correct Marks : 1 Wrong Marks : 0.25

एक त्रिभुज की भुजाएँ 10 से.मी., 13 से.मी., तथा 13 से.मी. हैं। त्रिभुज का क्षेत्रफल क्या है?

Options :

1. ✗ 48 से.मी.²

2. ✓ 60 से.मी.²

3. ✗ 54 से.मी.²

4. ✗ 56 से.मी.²

Question Number : 114 Question Id : 54592712436 Question Type : MCQ Option Shuffling : Yes Display Question Number : Yes
Single Line Question Option : No Option Orientation : Vertical

Correct Marks : 1 Wrong Marks : 0.25

A brick measures 20 cm × 12.5 cm × 15 cm. How many bricks will be required for a well 50 metre long, 4 metre high and 1.5 metre thick?

Options :

1. ✗ 100000

2. ✓ 80000

3. ✗ 84000

4. ✗ 96000

Question Number : 114 Question Id : 54592712436 Question Type : MCQ Option Shuffling : Yes Display Question Number : Yes
Single Line Question Option : No Option Orientation : Vertical

Correct Marks : 1 Wrong Marks : 0.25

एक ईंट का माप 20 से.मी × 12.5 से.मी × 15 से.मी. है। 50 मीटर लम्बे, 4 मीटर ऊँचे तथा 1.5 मीटर मोटे एक कुँए के लिए कितनी ईंटों की आवश्यकता होगी?

Options :

1. ✗ 100000

2. ✓ 80000

3. ✗ 84000

4. ✗ 96000

Question Number : 115 Question Id : 54592712437 Question Type : MCQ Option Shuffling : Yes Display Question Number : Yes
Single Line Question Option : No Option Orientation : Vertical

Correct Marks : 1 Wrong Marks : 0.25

The table given below shows the number of female workers working in different factories.

Factories	Number of female workers
F1	800
F2	900
F3	950
F4	1120
F5	1220

What are the average number of female workers working per factory?

Options :

- ✓ 998
- ✗ 1000
- ✗ 1002
- ✗ 1004

Question Number : 115 Question Id : 54592712437 Question Type : MCQ Option Shuffling : Yes Display Question Number : Yes
Single Line Question Option : No Option Orientation : Vertical

Correct Marks : 1 Wrong Marks : 0.25

नीचे दी गई तालिका विभिन्न फैक्ट्रियों में काम कर रही महिला कर्मचारियों की संख्या को दर्शाती है।

फैक्ट्री	महिला कर्मचारियों की संख्या
F1	800
F2	900
F3	950
F4	1120
F5	1220

प्रति फैक्ट्री काम कर रही महिला कर्मचारियों की औसत संख्या क्या है?

Options :

- ✓ 998
- ✗ 1000
- ✗ 1002
- ✗ 1004

Question Number : 116 Question Id : 54592712438 Question Type : MCQ Option Shuffling : Yes Display Question Number : Yes
Single Line Question Option : No Option Orientation : Vertical

Correct Marks : 1 Wrong Marks : 0.25

The table given below shows the number of shirts washed by a washerman on different days of a week.

Days	Number of shirts
D1	126
D2	149
D3	178
D4	195
D5	203
D6	214

The number of shirts washed by washerman on day D3 is how much more than the average of shirts washed by washerman per day?

Options :

- ✘ 0.1
- ✔ 0.5
- ✘ 5
- ✘ 6.3

Question Number : 116 Question Id : 54592712438 Question Type : MCQ Option Shuffling : Yes Display Question Number : Yes Single Line Question Option : No Option Orientation : Vertical

Correct Marks : 1 Wrong Marks : 0.25

नीचे दी गई तालिका हफ्ते के विभिन्न दिनों पर धोबी द्वारा धोयी गयी कमीज़ो की संख्या को दर्शाती है।

दिन	कमीज़ो की संख्या
D1	126
D2	149
D3	178
D4	195
D5	203
D6	214

दिन D3 पर धोबी द्वारा धोयी गई कमीज़ो की संख्या प्रतिदिन धोबी द्वारा धोयी गई कमीज़ो की औसत से कितनी अधिक है?

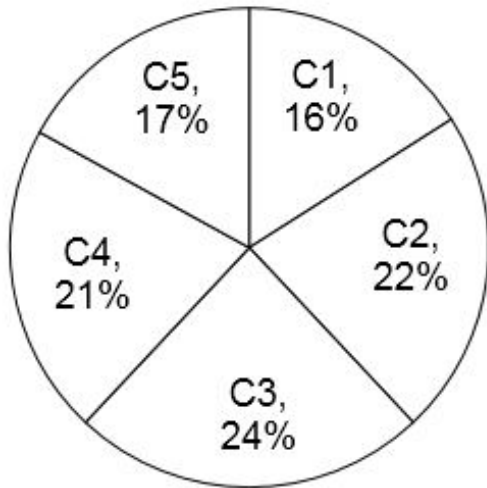
Options :

- ✘ 0.1
- ✔ 0.5
- ✘ 5
- ✘ 6.3

Question Number : 117 Question Id : 54592712439 Question Type : MCQ Option Shuffling : Yes Display Question Number : Yes Single Line Question Option : No Option Orientation : Vertical

Correct Marks : 1 Wrong Marks : 0.25

The pie chart given below shows the number of flowers of different colours in a shop. The number is shown as a percentage of total number of flowers in the shop.



What is the difference in central angle of sectors for C1 and C4?

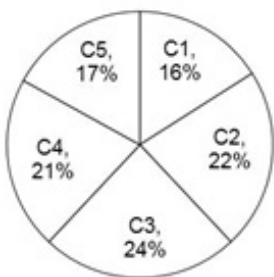
Options :

- ✘ 12°
- ✘ 14°
- ✘ 16°
- ✔ 18°

Question Number : 117 Question Id : 54592712439 Question Type : MCQ Option Shuffling : Yes Display Question Number : Yes Single Line Question Option : No Option Orientation : Vertical

Correct Marks : 1 Wrong Marks : 0.25

नीचे दिया गया वृत्त चित्र एक दुकान में विभिन्न रंगों के फूलों की संख्या को दर्शाता है। संख्या, दुकान में फूलों की कुल संख्या के प्रतिशत के रूप में दर्शायी गयी है।



C1 तथा C4 के खण्ड का केंद्रीय कोण अंतर क्या है?

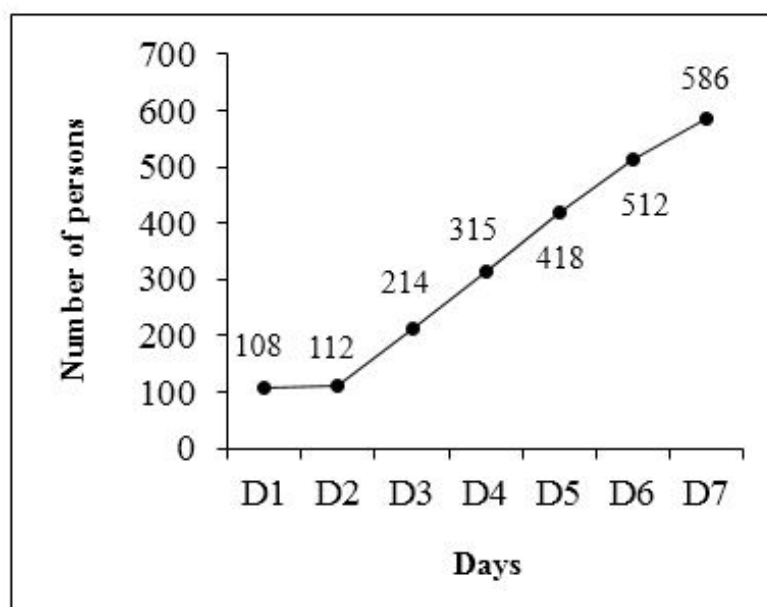
Options :

- ✘ 12°
- ✘ 14°
- ✘ 16°
- ✔ 18°

Question Number : 118 Question Id : 54592712440 Question Type : MCQ Option Shuffling : Yes Display Question Number : Yes Single Line Question Option : No Option Orientation : Vertical

Correct Marks : 1 Wrong Marks : 0.25

The line graph given below shows the number of persons visiting the hotel on different days of a week.



What is the percentage increase in number of persons visiting the hotel on day D3 to day D6?

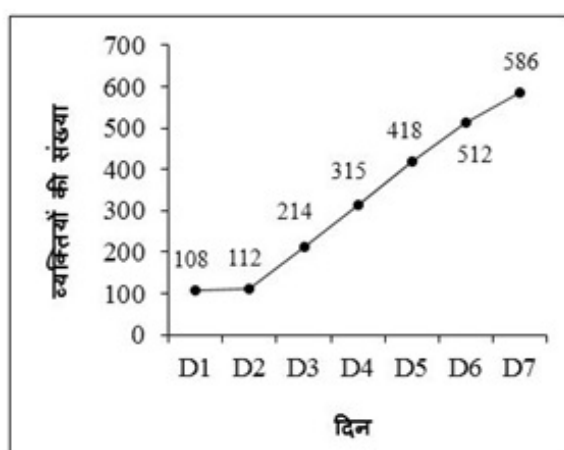
Options :

- ✘ 119.25 percent
- ✘ 129.25 percent
- ✔ 139.25 percent
- ✘ 149.25 percent

Question Number : 118 Question Id : 54592712440 Question Type : MCQ Option Shuffling : Yes Display Question Number : Yes Single Line Question Option : No Option Orientation : Vertical

Correct Marks : 1 Wrong Marks : 0.25

नीचे दिया गया रेखा चित्र हफ्ते के विभिन्न दिनों पर होटल आने वाले व्यक्तियों की संख्या को दर्शाता है।



दिन D3 से दिन D6 तक होटल आने वाले व्यक्तियों की संख्या प्रतिशत में वृद्धि क्या है?

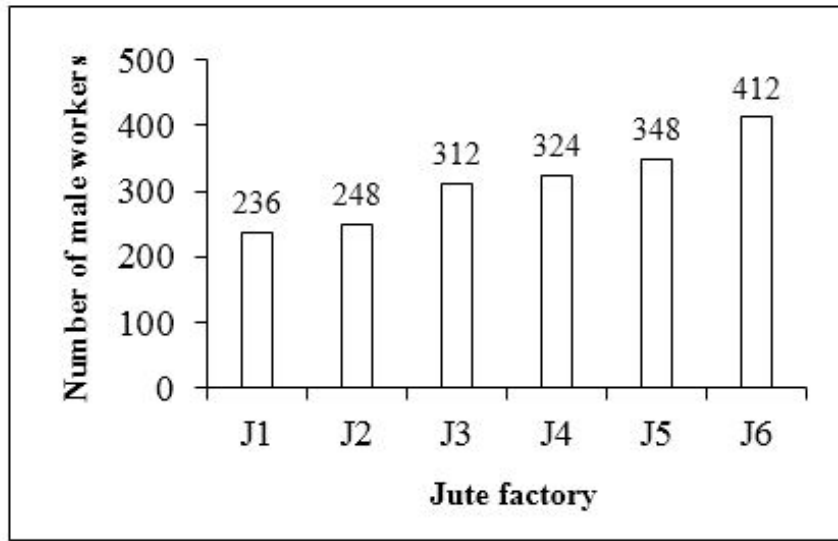
Options :

- ✘ 119.25 प्रतिशत
- ✘ 129.25 प्रतिशत
- ✔ 139.25 प्रतिशत
- ✘ 149.25 प्रतिशत

Question Number : 119 Question Id : 54592712441 Question Type : MCQ Option Shuffling : Yes Display Question Number : Yes
Single Line Question Option : No Option Orientation : Vertical

Correct Marks : 1 Wrong Marks : 0.25

The bar graph given below shows the number of male workers working in a different Jute factories.



What is the average number of male workers working per Jute factory?

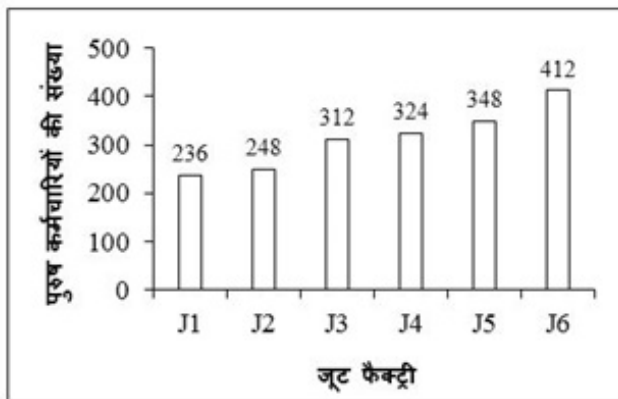
Options :

- ✓ 313.33
- ✗ 333.33
- ✗ 353.33
- ✗ 373.33

Question Number : 119 Question Id : 54592712441 Question Type : MCQ Option Shuffling : Yes Display Question Number : Yes
Single Line Question Option : No Option Orientation : Vertical

Correct Marks : 1 Wrong Marks : 0.25

नीचे दिया गया दण्ड चित्र एक विभिन्न जूट कंपनियों में काम कर रहे पुरुष कर्मचारियों की संख्या को दर्शाता है।



प्रति जूट फैक्ट्री में काम कर रहे पुरुष कर्मचारियों की औसत संख्या का क्या है?

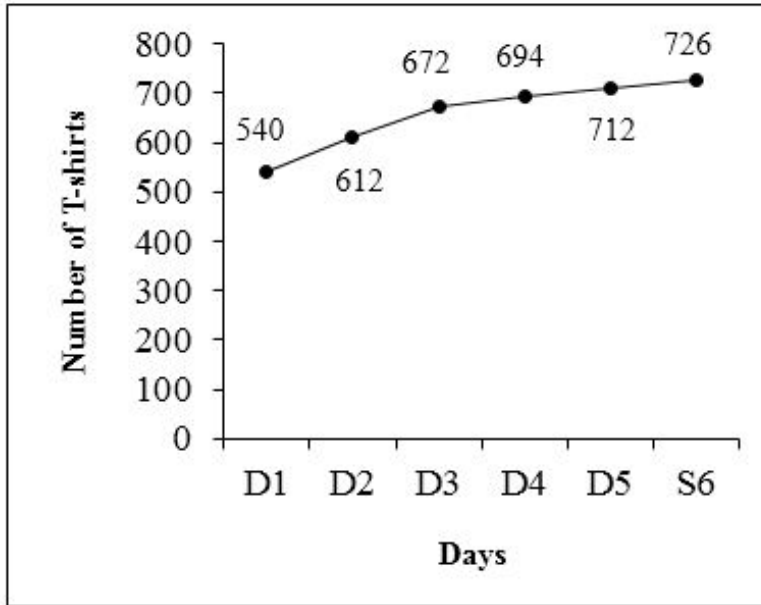
Options :

- ✓ 313.33
- ✗ 333.33
- ✗ 353.33
- ✗ 373.33

Question Number : 120 Question Id : 54592712442 Question Type : MCQ Option Shuffling : Yes Display Question Number : Yes
Single Line Question Option : No Option Orientation : Vertical

Correct Marks : 1 Wrong Marks : 0.25

The line graph given below shows the number of T-shirts sold by a shopkeeper on different days.



What is the total number of T-shirts sold by shopkeeper on all the 5 days?

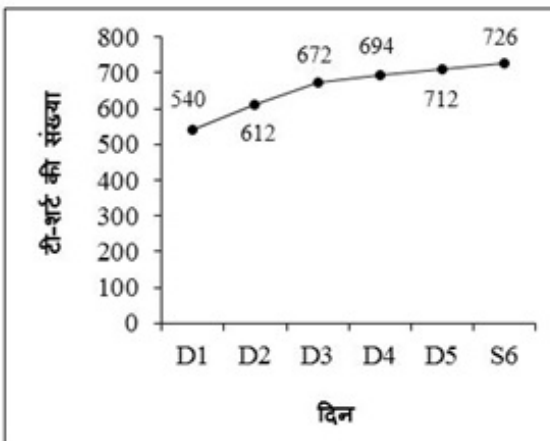
Options :

- ✘ 3436
- ✘ 3446
- ✘ 3846
- ✔ 3956

Question Number : 120 Question Id : 54592712442 Question Type : MCQ Option Shuffling : Yes Display Question Number : Yes Single Line Question Option : No Option Orientation : Vertical

Correct Marks : 1 Wrong Marks : 0.25

नीचे दिया गया रेखा चित्र एक दुकानदार द्वारा विभिन्न दिनों पर बेची गयी टी-शर्ट की संख्या को दर्शाता है।



सभी 5 दिनों पर दुकानदार द्वारा बेची गयी टी-शर्ट की कुल संख्या क्या है?

Options :

- ✘ 3436
- ✘ 3446
- ✘ 3846
- ✔ 3956

Group Number :	7
Group Id :	545927617
Group Maximum Duration :	0
Group Minimum Duration :	0
Revisit allowed for view? :	No
Revisit allowed for edit? :	No
Break time:	0
Group Marks:	20
Revisit allowed for group Instructions? :	Yes
Maximum Instruction Time:	0
Minimum Instruction Time:	0

General English1

Section Id :	545927617
Section Number :	1
Section type :	Online
Mandatory or Optional:	Mandatory
Number of Questions:	20
Number of Questions to be attempted:	20
Section Marks:	20
Display Number Panel:	Yes
Group All Questions:	No

Sub-Section Number:	1
Sub-Section Id:	545927739
Question Shuffling Allowed :	Yes

Question Number : 121 Question Id : 54592712443 Question Type : MCQ Option Shuffling : Yes Display Question Number : Yes Single Line Question Option : No Option Orientation : Vertical

Correct Marks : 1 Wrong Marks : 0.25

Find the part of the given sentence that has an error in it. If there is no error, choose 'No error'.

The swimming (1) / emerged (2) / from the water (3) /. No error (4)

Options :

1. ✓ 1

2. ✗ 2

3. ✗ 3

4. ✗ 4

Question Number : 121 Question Id : 54592712443 Question Type : MCQ Option Shuffling : Yes Display Question Number : Yes Single Line Question Option : No Option Orientation : Vertical

Correct Marks : 1 Wrong Marks : 0.25

Find the part of the given sentence that has an error in it. If there is no error, choose 'No error'.

The swimming (1) / emerged (2) / from the water (3) /. No error (4)

Options :

1. ✓ 1

2. ✗ 2

3. ✗ 3

4. ✘ 4

Question Number : 122 Question Id : 54592712444 Question Type : MCQ Option Shuffling : Yes Display Question Number : Yes
Single Line Question Option : No Option Orientation : Vertical

Correct Marks : 1 Wrong Marks : 0.25

Find the part of the given sentence that has an error in it. If there is no error, choose 'No error'.

I have no (1) / monetary motives (2) / to helping you (3) /. No error (4)

Options :

1. ✘ 1

2. ✘ 2

3. ✔ 3

4. ✘ 4

Question Number : 122 Question Id : 54592712444 Question Type : MCQ Option Shuffling : Yes Display Question Number : Yes
Single Line Question Option : No Option Orientation : Vertical

Correct Marks : 1 Wrong Marks : 0.25

Find the part of the given sentence that has an error in it. If there is no error, choose 'No error'.

I have no (1) / monetary motives (2) / to helping you (3) /. No error (4)

Options :

1. ✘ 1

2. ✘ 2

3. ✔ 3

4. ✘ 4

Question Number : 123 Question Id : 54592712445 Question Type : MCQ Option Shuffling : Yes Display Question Number : Yes
Single Line Question Option : No Option Orientation : Vertical

Correct Marks : 1 Wrong Marks : 0.25

Find the part of the given sentence that has an error in it. If there is no error, choose 'No error'.

Love of (1) / money is the (2) / route of all evil (3) /. No error (4)

Options :

1. ✘ 1

2. ✘ 2

3. ✔ 3

4. ✘ 4

Question Number : 123 Question Id : 54592712445 Question Type : MCQ Option Shuffling : Yes Display Question Number : Yes
Single Line Question Option : No Option Orientation : Vertical

Correct Marks : 1 Wrong Marks : 0.25

Find the part of the given sentence that has an error in it. If there is no error, choose 'No error'.

Love of (1) / money is the (2) / route of all evil (3) /. No error (4)

Options :

1. ✘ 1

2. ✘ 2

3. ✔ 3

4. ✘ 4

Question Number : 124 Question Id : 54592712446 Question Type : MCQ Option Shuffling : Yes Display Question Number : Yes
Single Line Question Option : No Option Orientation : Vertical

Correct Marks : 1 Wrong Marks : 0.25

Find the part of the given sentence that has an error in it. If there is no error, choose 'No error'.

Let us (1) proceed with (2) the work (3) / No error (4)

Options :

1. ✘ 1
2. ✘ 2
3. ✘ 3
4. ✔ 4

Question Number : 124 Question Id : 54592712446 Question Type : MCQ Option Shuffling : Yes Display Question Number : Yes
Single Line Question Option : No Option Orientation : Vertical

Correct Marks : 1 Wrong Marks : 0.25

Find the part of the given sentence that has an error in it. If there is no error, choose 'No error'.

Let us (1) proceed with (2) the work (3) / No error (4)

Options :

1. ✘ 1
2. ✘ 2
3. ✘ 3
4. ✔ 4

Question Number : 125 Question Id : 54592712447 Question Type : MCQ Option Shuffling : Yes Display Question Number : Yes
Single Line Question Option : No Option Orientation : Vertical

Correct Marks : 1 Wrong Marks : 0.25

Find the part of the given sentence that has an error in it. If there is no error, choose 'No error'.

He both won (1) / a prize and (2) / a scholarship (3) / . No error (4)

Options :

1. ✔ 1
2. ✘ 2
3. ✘ 3
4. ✘ 4

Question Number : 125 Question Id : 54592712447 Question Type : MCQ Option Shuffling : Yes Display Question Number : Yes
Single Line Question Option : No Option Orientation : Vertical

Correct Marks : 1 Wrong Marks : 0.25

Find the part of the given sentence that has an error in it. If there is no error, choose 'No error'.

He both won (1) / a prize and (2) / a scholarship (3) / . No error (4)

Options :

1. ✔ 1
2. ✘ 2
3. ✘ 3
4. ✘ 4

Question Number : 126 Question Id : 54592712448 Question Type : MCQ Option Shuffling : Yes Display Question Number : Yes
Single Line Question Option : No Option Orientation : Vertical

Correct Marks : 1 Wrong Marks : 0.25

Improve the bracketed part of the sentence.

One may accomplish (much) things by a little effort.

Options :

1. ✘ most
2. ✔ many
3. ✘ any
4. ✘ No Improvement

Question Number : 126 Question Id : 54592712448 Question Type : MCQ Option Shuffling : Yes Display Question Number : Yes
Single Line Question Option : No Option Orientation : Vertical

Correct Marks : 1 Wrong Marks : 0.25

Improve the bracketed part of the sentence.

One may accomplish (much) things by a little effort.

Options :

1. ✘ most
2. ✔ many
3. ✘ any
4. ✘ No Improvement

Question Number : 127 Question Id : 54592712449 Question Type : MCQ Option Shuffling : Yes Display Question Number : Yes
Single Line Question Option : No Option Orientation : Vertical

Correct Marks : 1 Wrong Marks : 0.25

Improve the bracketed part of the sentence.

The enemies (have) defeated our army.

Options :

1. ✘ has
2. ✘ is
3. ✘ are
4. ✔ No Improvement

Question Number : 127 Question Id : 54592712449 Question Type : MCQ Option Shuffling : Yes Display Question Number : Yes
Single Line Question Option : No Option Orientation : Vertical

Correct Marks : 1 Wrong Marks : 0.25

Improve the bracketed part of the sentence.

The enemies (have) defeated our army.

Options :

1. ✘ has
2. ✘ is
3. ✘ are
4. ✔ No Improvement

Question Number : 128 Question Id : 54592712450 Question Type : MCQ Option Shuffling : Yes Display Question Number : Yes
Single Line Question Option : No Option Orientation : Vertical

Correct Marks : 1 Wrong Marks : 0.25

Improve the bracketed part of the sentence.

The teacher was pleased (from) the boy's work.

Options :

1. ✓ with
2. ✗ to
3. ✗ at
4. ✗ No Improvement

Question Number : 128 Question Id : 54592712450 Question Type : MCQ Option Shuffling : Yes Display Question Number : Yes
Single Line Question Option : No Option Orientation : Vertical

Correct Marks : 1 Wrong Marks : 0.25

Improve the bracketed part of the sentence.

The teacher was pleased (from) the boy's work.

Options :

1. ✓ with
2. ✗ to
3. ✗ at
4. ✗ No Improvement

Question Number : 129 Question Id : 54592712451 Question Type : MCQ Option Shuffling : Yes Display Question Number : Yes
Single Line Question Option : No Option Orientation : Vertical

Correct Marks : 1 Wrong Marks : 0.25

Improve the bracketed part of the sentence.

The legend (tell) us how the castle received its name.

Options :

1. ✗ telling
2. ✓ tells
3. ✗ will telling
4. ✗ No Improvement

Question Number : 129 Question Id : 54592712451 Question Type : MCQ Option Shuffling : Yes Display Question Number : Yes
Single Line Question Option : No Option Orientation : Vertical

Correct Marks : 1 Wrong Marks : 0.25

Improve the bracketed part of the sentence.

The legend (tell) us how the castle received its name.

Options :

1. ✗ telling
2. ✓ tells
3. ✗ will telling
4. ✗ No Improvement

Question Number : 130 Question Id : 54592712452 Question Type : MCQ Option Shuffling : Yes Display Question Number : Yes
Single Line Question Option : No Option Orientation : Vertical

Correct Marks : 1 Wrong Marks : 0.25

Improve the bracketed part of the sentence.

All desire wealth (also) some acquire it.

Options :

1. ✓ and

2. ✘ so
3. ✘ even
4. ✘ No Improvement

Question Number : 130 Question Id : 54592712452 Question Type : MCQ Option Shuffling : Yes Display Question Number : Yes
Single Line Question Option : No Option Orientation : Vertical

Correct Marks : 1 Wrong Marks : 0.25

Improve the bracketed part of the sentence.

All desire wealth (also) some acquire it.

Options :

1. ✔ and
2. ✘ so
3. ✘ even
4. ✘ No Improvement

Question Number : 131 Question Id : 54592712453 Question Type : MCQ Option Shuffling : Yes Display Question Number : Yes
Single Line Question Option : No Option Orientation : Vertical

Correct Marks : 1 Wrong Marks : 0.25

A sentence has been given with a blank to be filled with an appropriate word. Choose the correct alternative.

He dived _____ the river.

Options :

1. ✘ in
2. ✔ into
3. ✘ at
4. ✘ under

Question Number : 131 Question Id : 54592712453 Question Type : MCQ Option Shuffling : Yes Display Question Number : Yes
Single Line Question Option : No Option Orientation : Vertical

Correct Marks : 1 Wrong Marks : 0.25

A sentence has been given with a blank to be filled with an appropriate word. Choose the correct alternative.

He dived _____ the river.

Options :

1. ✘ in
2. ✔ into
3. ✘ at
4. ✘ under

Question Number : 132 Question Id : 54592712454 Question Type : MCQ Option Shuffling : Yes Display Question Number : Yes
Single Line Question Option : No Option Orientation : Vertical

Correct Marks : 1 Wrong Marks : 0.25

A sentence has been given with a blank to be filled with an appropriate word. Choose the correct alternative.

The wheel came _____.

Options :

1. ✔ off
2. ✘ in
3. ✘ over

4. ✘ down

Question Number : 132 Question Id : 54592712454 Question Type : MCQ Option Shuffling : Yes Display Question Number : Yes
Single Line Question Option : No Option Orientation : Vertical

Correct Marks : 1 Wrong Marks : 0.25

A sentence has been given with a blank to be filled with an appropriate word. Choose the correct alternative.

The wheel came _____.

Options :

1. ✔ off
2. ✘ in
3. ✘ over
4. ✘ down

Question Number : 133 Question Id : 54592712455 Question Type : MCQ Option Shuffling : Yes Display Question Number : Yes
Single Line Question Option : No Option Orientation : Vertical

Correct Marks : 1 Wrong Marks : 0.25

A sentence has been given with a blank to be filled with an appropriate word. Choose the correct alternative.

I have not slept _____ yesterday.

Options :

1. ✘ for
2. ✘ in
3. ✔ since
4. ✘ on

Question Number : 133 Question Id : 54592712455 Question Type : MCQ Option Shuffling : Yes Display Question Number : Yes
Single Line Question Option : No Option Orientation : Vertical

Correct Marks : 1 Wrong Marks : 0.25

A sentence has been given with a blank to be filled with an appropriate word. Choose the correct alternative.

I have not slept _____ yesterday.

Options :

1. ✘ for
2. ✘ in
3. ✔ since
4. ✘ on

Question Number : 134 Question Id : 54592712456 Question Type : MCQ Option Shuffling : Yes Display Question Number : Yes
Single Line Question Option : No Option Orientation : Vertical

Correct Marks : 1 Wrong Marks : 0.25

A sentence has been given with a blank to be filled with an appropriate word. Choose the correct alternative.

The path leads _____ the woods.

Options :

1. ✘ through
2. ✘ though
3. ✔ into
4. ✘ at

Question Number : 134 Question Id : 54592712456 Question Type : MCQ Option Shuffling : Yes Display Question Number : Yes
Single Line Question Option : No Option Orientation : Vertical

Correct Marks : 1 Wrong Marks : 0.25

A sentence has been given with a blank to be filled with an appropriate word. Choose the correct alternative.

The path leads _____ the woods.

Options :

1. ✘ through
2. ✘ though
3. ✔ into
4. ✘ at

Question Number : 135 Question Id : 54592712457 Question Type : MCQ Option Shuffling : Yes Display Question Number : Yes
Single Line Question Option : No Option Orientation : Vertical

Correct Marks : 1 Wrong Marks : 0.25

A sentence has been given with a blank to be filled with an appropriate word. Choose the correct alternative.

The carriage _____ on.

Options :

1. ✔ moved
2. ✘ move
3. ✘ moving
4. ✘ has move

Question Number : 135 Question Id : 54592712457 Question Type : MCQ Option Shuffling : Yes Display Question Number : Yes
Single Line Question Option : No Option Orientation : Vertical

Correct Marks : 1 Wrong Marks : 0.25

A sentence has been given with a blank to be filled with an appropriate word. Choose the correct alternative.

The carriage _____ on.

Options :

1. ✔ moved
2. ✘ move
3. ✘ moving
4. ✘ has move

Question Number : 136 Question Id : 54592712458 Question Type : MCQ Option Shuffling : Yes Display Question Number : Yes
Single Line Question Option : No Option Orientation : Vertical

Correct Marks : 1 Wrong Marks : 0.25

A sentence has been given with a blank to be filled with an appropriate word. Choose the correct alternative.

It was his _____ chance.

Options :

1. ✘ ones
2. ✔ only
3. ✘ such
4. ✘ while

Question Number : 136 Question Id : 54592712458 Question Type : MCQ Option Shuffling : Yes Display Question Number : Yes
Single Line Question Option : No Option Orientation : Vertical

Correct Marks : 1 Wrong Marks : 0.25

A sentence has been given with a blank to be filled with an appropriate word. Choose the correct alternative.

It was his _____ chance.

Options :

1. ✘ ones
2. ✔ only
3. ✘ such
4. ✘ while

Question Number : 137 Question Id : 54592712459 Question Type : MCQ Option Shuffling : Yes Display Question Number : Yes
Single Line Question Option : No Option Orientation : Vertical

Correct Marks : 1 Wrong Marks : 0.25

A sentence has been given with a blank to be filled with an appropriate word. Choose the correct alternative.

_____ that day I have not seen her.

Options :

1. ✘ From
2. ✘ For
3. ✘ Still
4. ✔ Since

Question Number : 137 Question Id : 54592712459 Question Type : MCQ Option Shuffling : Yes Display Question Number : Yes
Single Line Question Option : No Option Orientation : Vertical

Correct Marks : 1 Wrong Marks : 0.25

A sentence has been given with a blank to be filled with an appropriate word. Choose the correct alternative.

_____ that day I have not seen her.

Options :

1. ✘ From
2. ✘ For
3. ✘ Still
4. ✔ Since

Question Number : 138 Question Id : 54592712460 Question Type : MCQ Option Shuffling : Yes Display Question Number : Yes
Single Line Question Option : No Option Orientation : Vertical

Correct Marks : 1 Wrong Marks : 0.25

A sentence has been given with a blank to be filled with an appropriate word. Choose the correct alternative.

We must find _____ way out of it.

Options :

1. ✘ still
2. ✔ some
3. ✘ well
4. ✘ up

Question Number : 138 Question Id : 54592712460 Question Type : MCQ Option Shuffling : Yes Display Question Number : Yes
Single Line Question Option : No Option Orientation : Vertical

Correct Marks : 1 Wrong Marks : 0.25

A sentence has been given with a blank to be filled with an appropriate word. Choose the correct alternative.

We must find _____ way out of it.

Options :

1. ✘ still
2. ✔ some
3. ✘ well
4. ✘ up

Question Number : 139 Question Id : 54592712461 Question Type : MCQ Option Shuffling : Yes Display Question Number : Yes
Single Line Question Option : No Option Orientation : Vertical

Correct Marks : 1 Wrong Marks : 0.25

The question below consists of a set of labeled sentences. Out of the four options given, select the most logical order of the sentences to form a coherent paragraph.

P: nothing can happen
Q: will and sanction
R: god is the supreme
S: power without whose

Options :

1. ✔ RSQP
2. ✘ PQRS
3. ✘ SRQP
4. ✘ RQPS

Question Number : 139 Question Id : 54592712461 Question Type : MCQ Option Shuffling : Yes Display Question Number : Yes
Single Line Question Option : No Option Orientation : Vertical

Correct Marks : 1 Wrong Marks : 0.25

The question below consists of a set of labeled sentences. Out of the four options given, select the most logical order of the sentences to form a coherent paragraph.

P: nothing can happen
Q: will and sanction
R: god is the supreme
S: power without whose

Options :

1. ✔ RSQP
2. ✘ PQRS
3. ✘ SRQP
4. ✘ RQPS

Question Number : 140 Question Id : 54592712462 Question Type : MCQ Option Shuffling : Yes Display Question Number : Yes
Single Line Question Option : No Option Orientation : Vertical

Correct Marks : 1 Wrong Marks : 0.25

The question below consists of a set of labeled sentences. Out of the four options given, select the most logical order of the sentences to form a coherent paragraph.

P: colours were so beautifully
Q: the different shades of
R: laid that they deceived
S: even the sharpest eyes

Options :

1. ✘ PQRS
2. ✘ SRQP
3. ✔ QPRS

4. ✘ QRPS

Question Number : 140 Question Id : 54592712462 Question Type : MCQ Option Shuffling : Yes Display Question Number : Yes
Single Line Question Option : No Option Orientation : Vertical

Correct Marks : 1 Wrong Marks : 0.25

The question below consists of a set of labeled sentences. Out of the four options given, select the most logical order of the sentences to form a coherent paragraph.

P: colours were so beautifully

Q: the different shades of

R: laid that they deceived

S: even the sharpest eyes

Options :

1. ✘ PQRS

2. ✘ SRQP

3. ✔ QPRS

4. ✘ QRPS

General English2

Group Number :	8
Group Id :	545927618
Group Maximum Duration :	0
Group Minimum Duration :	0
Revisit allowed for view? :	No
Revisit allowed for edit? :	No
Break time:	0
Group Marks:	20
Revisit allowed for group Instructions? :	Yes
Maximum Instruction Time:	0
Minimum Instruction Time:	0

General English2

Section Id :	545927618
Section Number :	1
Section type :	Online
Mandatory or Optional:	Mandatory
Number of Questions:	16
Number of Questions to be attempted:	16
Section Marks:	20
Display Number Panel:	Yes
Group All Questions:	No

Sub-Section Number:	1
Sub-Section Id:	545927740
Question Shuffling Allowed :	Yes

Question Number : 141 Question Id : 54592712463 Question Type : MCQ Option Shuffling : Yes Display Question Number : Yes
Single Line Question Option : No Option Orientation : Vertical

Correct Marks : 1 Wrong Marks : 0.25

The question below consists of a set of labeled sentences. Out of the four options given, select the most logical order of the sentences to form a coherent paragraph.

P: every situation of life has a blending of good and evil.

Q: there is nothing absolutely bad as there is nothing absolutely good.

R: our sorrows and sufferings purify our soul.

S: even the worst and the darkest situations of life have some elements of goodness in it.

Options :

1. ✘ PQRS

2. ✘ SRQP

3. ✔ PQSR

4. ✘ PRSQ

Question Number : 141 Question Id : 54592712463 Question Type : MCQ Option Shuffling : Yes Display Question Number : Yes Single Line Question Option : No Option Orientation : Vertical

Correct Marks : 1 Wrong Marks : 0.25

The question below consists of a set of labeled sentences. Out of the four options given, select the most logical order of the sentences to form a coherent paragraph.

P: every situation of life has a blending of good and evil.

Q: there is nothing absolutely bad as there is nothing absolutely good.

R: our sorrows and sufferings purify our soul.

S: even the worst and the darkest situations of life have some elements of goodness in it.

Options :

1. ✘ PQRS

2. ✘ SRQP

3. ✔ PQSR

4. ✘ PRSQ

Question Number : 142 Question Id : 54592712464 Question Type : MCQ Option Shuffling : Yes Display Question Number : Yes Single Line Question Option : No Option Orientation : Vertical

Correct Marks : 1 Wrong Marks : 0.25

Choose the word that means the same as the given word.

Crave

Options :

1. ✘ Whisper

2. ✔ Yearn

3. ✘ Plead

4. ✘ Control

Question Number : 142 Question Id : 54592712464 Question Type : MCQ Option Shuffling : Yes Display Question Number : Yes Single Line Question Option : No Option Orientation : Vertical

Correct Marks : 1 Wrong Marks : 0.25

Choose the word that means the same as the given word.

Crave

Options :

1. ✘ Whisper

2. ✔ Yearn

3. ✘ Plead

4. ✖ Control

Question Number : 143 Question Id : 54592712465 Question Type : MCQ Option Shuffling : Yes Display Question Number : Yes
Single Line Question Option : No Option Orientation : Vertical

Correct Marks : 1 Wrong Marks : 0.25

Choose the word that is opposite in meaning to the given word.

Vice

Options :

1. ✔ Virtue
2. ✖ Flaw
3. ✖ Blemish
4. ✖ Sick

Question Number : 143 Question Id : 54592712465 Question Type : MCQ Option Shuffling : Yes Display Question Number : Yes
Single Line Question Option : No Option Orientation : Vertical

Correct Marks : 1 Wrong Marks : 0.25

Choose the word that is opposite in meaning to the given word.

Vice

Options :

1. ✔ Virtue
2. ✖ Flaw
3. ✖ Blemish
4. ✖ Sick

Question Number : 144 Question Id : 54592712466 Question Type : MCQ Option Shuffling : Yes Display Question Number : Yes
Single Line Question Option : No Option Orientation : Vertical

Correct Marks : 1 Wrong Marks : 0.25

Choose the word that means the same as the given word.

Wane

Options :

1. ✖ Stable
2. ✖ Increase
3. ✖ Rise
4. ✔ Decline

Question Number : 144 Question Id : 54592712466 Question Type : MCQ Option Shuffling : Yes Display Question Number : Yes
Single Line Question Option : No Option Orientation : Vertical

Correct Marks : 1 Wrong Marks : 0.25

Choose the word that means the same as the given word.

Wane

Options :

1. ✖ Stable
2. ✖ Increase
3. ✖ Rise
4. ✔ Decline

Question Number : 145 Question Id : 54592712467 Question Type : MCQ Option Shuffling : Yes Display Question Number : Yes
Single Line Question Option : No Option Orientation : Vertical

Correct Marks : 1 Wrong Marks : 0.25

Choose the word that is opposite in meaning to the given word.

Sacred

Options :

1. ✘ Loved
2. ✘ Divine
3. ✔ Profane
4. ✘ Revered

Question Number : 145 Question Id : 54592712467 Question Type : MCQ Option Shuffling : Yes Display Question Number : Yes
Single Line Question Option : No Option Orientation : Vertical

Correct Marks : 1 Wrong Marks : 0.25

Choose the word that is opposite in meaning to the given word.

Sacred

Options :

1. ✘ Loved
2. ✘ Divine
3. ✔ Profane
4. ✘ Revered

Question Number : 146 Question Id : 54592712468 Question Type : MCQ Option Shuffling : Yes Display Question Number : Yes
Single Line Question Option : No Option Orientation : Vertical

Correct Marks : 1 Wrong Marks : 0.25

Choose the word that means the same as the given word.

Placid

Options :

1. ✔ Tranquil
2. ✘ Jazzy
3. ✘ Loud
4. ✘ Turbulent

Question Number : 146 Question Id : 54592712468 Question Type : MCQ Option Shuffling : Yes Display Question Number : Yes
Single Line Question Option : No Option Orientation : Vertical

Correct Marks : 1 Wrong Marks : 0.25

Choose the word that means the same as the given word.

Placid

Options :

1. ✔ Tranquil
2. ✘ Jazzy
3. ✘ Loud
4. ✘ Turbulent

Question Number : 147 Question Id : 54592712469 Question Type : MCQ Option Shuffling : Yes Display Question Number : Yes
Single Line Question Option : No Option Orientation : Vertical

Correct Marks : 1 Wrong Marks : 0.25

In the given question, four words are given out of which one word is correctly spelt. Choose the correctly spelt word.

Options :

1. ✘ Medeival
2. ✘ Medievel
3. ✔ Medieval
4. ✘ Medival

Question Number : 147 Question Id : 54592712469 Question Type : MCQ Option Shuffling : Yes Display Question Number : Yes
Single Line Question Option : No Option Orientation : Vertical

Correct Marks : 1 Wrong Marks : 0.25

In the given question, four words are given out of which one word is correctly spelt. Choose the correctly spelt word.

Options :

1. ✘ Medeival
2. ✘ Medievel
3. ✔ Medieval
4. ✘ Medival

Question Number : 148 Question Id : 54592712470 Question Type : MCQ Option Shuffling : Yes Display Question Number : Yes
Single Line Question Option : No Option Orientation : Vertical

Correct Marks : 1 Wrong Marks : 0.25

In the given question, four words are given out of which one word is correctly spelt. Choose the correctly spelt word.

Options :

1. ✔ License
2. ✘ Lisense
3. ✘ Lisence
4. ✘ Laisence

Question Number : 148 Question Id : 54592712470 Question Type : MCQ Option Shuffling : Yes Display Question Number : Yes
Single Line Question Option : No Option Orientation : Vertical

Correct Marks : 1 Wrong Marks : 0.25

In the given question, four words are given out of which one word is correctly spelt. Choose the correctly spelt word.

Options :

1. ✔ License
2. ✘ Lisense
3. ✘ Lisence
4. ✘ Laisence

Question Number : 149 Question Id : 54592712471 Question Type : MCQ Option Shuffling : Yes Display Question Number : Yes
Single Line Question Option : No Option Orientation : Vertical

Correct Marks : 1 Wrong Marks : 0.25

In the given question, four words are given out of which one word is correctly spelt. Choose the correctly spelt word.

Options :

1. ✘ Maintinance
2. ✘ Maintanance

3. ✘ Maintenance
4. ✔ Maintenance

Question Number : 149 Question Id : 54592712471 Question Type : MCQ Option Shuffling : Yes Display Question Number : Yes
Single Line Question Option : No Option Orientation : Vertical

Correct Marks : 1 Wrong Marks : 0.25

In the given question, four words are given out of which one word is correctly spelt. Choose the correctly spelt word.

Options :

1. ✘ Maintinance
2. ✘ Maintanance
3. ✘ Mantainance
4. ✔ Maintenance

Question Number : 150 Question Id : 54592712472 Question Type : MCQ Option Shuffling : Yes Display Question Number : Yes
Single Line Question Option : No Option Orientation : Vertical

Correct Marks : 1 Wrong Marks : 0.25

In the following question, out of the given four alternatives, select the alternative which best expresses the meaning of the Idiom/Phrase.

Black sheep

Options :

1. ✘ An imminent danger
2. ✘ To abuse
3. ✔ An undesirable company
4. ✘ A useless search

Question Number : 150 Question Id : 54592712472 Question Type : MCQ Option Shuffling : Yes Display Question Number : Yes
Single Line Question Option : No Option Orientation : Vertical

Correct Marks : 1 Wrong Marks : 0.25

In the following question, out of the given four alternatives, select the alternative which best expresses the meaning of the Idiom/Phrase.

Black sheep

Options :

1. ✘ An imminent danger
2. ✘ To abuse
3. ✔ An undesirable company
4. ✘ A useless search

Question Number : 151 Question Id : 54592712473 Question Type : MCQ Option Shuffling : Yes Display Question Number : Yes
Single Line Question Option : No Option Orientation : Vertical

Correct Marks : 1 Wrong Marks : 0.25

In the following question, out of the given four alternatives, select the alternative which best expresses the meaning of the Idiom/Phrase.

Let bygones be bygones

Options :

1. ✘ To go somewhere
2. ✔ To forgive and forget
3. ✘ Neat and tidy

4. ✘ An honour

Question Number : 151 Question Id : 54592712473 Question Type : MCQ Option Shuffling : Yes Display Question Number : Yes
Single Line Question Option : No Option Orientation : Vertical

Correct Marks : 1 Wrong Marks : 0.25

In the following question, out of the given four alternatives, select the alternative which best expresses the meaning of the Idiom/Phrase.

Let bygones be bygones

Options :

1. ✘ To go somewhere
2. ✔ To forgive and forget
3. ✘ Neat and tidy
4. ✘ An honour

Question Number : 152 Question Id : 54592712474 Question Type : MCQ Option Shuffling : Yes Display Question Number : Yes
Single Line Question Option : No Option Orientation : Vertical

Correct Marks : 1 Wrong Marks : 0.25

In the following question, out of the given four alternatives, select the alternative which best expresses the meaning of the Idiom/Phrase.

To take one's hat off

Options :

1. ✔ To praise someone
2. ✘ To blunder
3. ✘ Put your hat down
4. ✘ A close thing/experience

Question Number : 152 Question Id : 54592712474 Question Type : MCQ Option Shuffling : Yes Display Question Number : Yes
Single Line Question Option : No Option Orientation : Vertical

Correct Marks : 1 Wrong Marks : 0.25

In the following question, out of the given four alternatives, select the alternative which best expresses the meaning of the Idiom/Phrase.

To take one's hat off

Options :

1. ✔ To praise someone
2. ✘ To blunder
3. ✘ Put your hat down
4. ✘ A close thing/experience

Question Number : 153 Question Id : 54592712475 Question Type : MCQ Option Shuffling : Yes Display Question Number : Yes
Single Line Question Option : No Option Orientation : Vertical

Correct Marks : 1 Wrong Marks : 0.25

Choose the word that can substitute the given sentence.

Fit to be eaten

Options :

1. ✘ Drawn
2. ✘ Fragile
3. ✔ Edible

4. ✖ Inedible

Question Number : 153 Question Id : 54592712475 Question Type : MCQ Option Shuffling : Yes Display Question Number : Yes
Single Line Question Option : No Option Orientation : Vertical

Correct Marks : 1 Wrong Marks : 0.25

Choose the word that can substitute the given sentence.

Fit to be eaten

Options :

1. ✖ Drawn
2. ✖ Fragile
3. ✔ Edible
4. ✖ Inedible

Question Number : 154 Question Id : 54592712476 Question Type : MCQ Option Shuffling : Yes Display Question Number : Yes
Single Line Question Option : No Option Orientation : Vertical

Correct Marks : 1 Wrong Marks : 0.25

Choose the word that can substitute the given sentence.

One, too strong to be overcome

Options :

1. ✖ Illegible
2. ✖ Inaudible
3. ✖ Indelible
4. ✔ Invincible

Question Number : 154 Question Id : 54592712476 Question Type : MCQ Option Shuffling : Yes Display Question Number : Yes
Single Line Question Option : No Option Orientation : Vertical

Correct Marks : 1 Wrong Marks : 0.25

Choose the word that can substitute the given sentence.

One, too strong to be overcome

Options :

1. ✖ Illegible
2. ✖ Inaudible
3. ✖ Indelible
4. ✔ Invincible

Question Number : 155 Question Id : 54592712477 Question Type : MCQ Option Shuffling : Yes Display Question Number : Yes
Single Line Question Option : No Option Orientation : Vertical

Correct Marks : 1 Wrong Marks : 0.25

Choose the word that can substitute the given sentence.

One, who offers one's services

Options :

1. ✖ Servant
2. ✖ Virgin
3. ✔ Volunteer
4. ✖ Secretary

Question Number : 155 Question Id : 54592712477 Question Type : MCQ Option Shuffling : Yes Display Question Number : Yes
Single Line Question Option : No Option Orientation : Vertical

Correct Marks : 1 Wrong Marks : 0.25

Choose the word that can substitute the given sentence.

One, who offers one's services

Options :

1. ✘ Servant
2. ✘ Virgin
3. ✔ Volunteer
4. ✘ Secretary

Sub-Section Number:	2
Sub-Section Id:	545927741
Question Shuffling Allowed :	Yes

Question Id : 54592712478 Question Type : COMPREHENSION Sub Question Shuffling Allowed : Yes Group Comprehension
Questions : No

Question Numbers : (156 to 160)

Question Label : Comprehension

Read the following information carefully and answer the given questions.

There is a pressing need to evaluate the quality of arts and teaching in formal education and for curriculum development. An initial survey of the arts in normal education in member states was conducted in the preliminary phase of the "culture", creativity and the young project. This provided valuable information on the structures of provision for the arts in formal educations in schools. It confirmed that existing patterns of provision for the arts in schools vary considerably between member states. An important factor is the extent to which the school curriculum, in general, is specified centrally. In some countries, there are strict prescriptions in content and assessment criteria to be followed by schools and teachers in all subjects.

In others, there is freedom within national frameworks for schools and teachers to develop their own curricular content and teaching methods. In some countries, the arts are given a positive profile in national policy statements and schools are strongly encouraged to develop them both within and outside the formal curriculum. In general terms, this is not the case. All policy statements on national education routinely emphasize the importance of the cultural dimension and of promoting creative abilities. The necessity of engaging children in the practice and study of the arts is also emphasized. For the most part, the main disciplines taught are art and music.

In the majority of national systems, they are compulsory in primary education and for the first two or three years of secondary education. Beyond that point they almost universally, become optional. In all cases, the arts have a lower status than mathematics and science. In all countries, significant processes of reform in hand in the substance and the management of educational systems. In some serious attempts are being made to re-evaluate the place and significance of the arts and in particular the relations of children, teachers, and artists. There is a need for further information and debate on the content, style, and quality of arts teaching in schools and on its perceived value and effects for young people themselves.

Sub questions

Question Number : 156 Question Id : 54592712479 Question Type : MCQ Option Shuffling : Yes Display Question Number : Yes
Single Line Question Option : No Option Orientation : Vertical

Correct Marks : 1 Wrong Marks : 0.25

Which of the following is opposite in meaning to provision?

Options :

1. ✘ Catering
2. ✘ Outline
3. ✔ Removal

4. ✘ Foundation

Question Number : 157 Question Id : 54592712480 Question Type : MCQ Option Shuffling : Yes Display Question Number : Yes
Single Line Question Option : No Option Orientation : Vertical

Correct Marks : 1 Wrong Marks : 0.25

Why is it demanded to stress the quality of arts education in curriculum development?

Options :

1. ✘ Young people are misguided in their conception
2. ✘ To engage youth in a productive manner
3. ✘ With the help of youth, the arts can be developed further
4. ✔ No option is correct

Question Number : 158 Question Id : 54592712481 Question Type : MCQ Option Shuffling : Yes Display Question Number : Yes
Single Line Question Option : No Option Orientation : Vertical

Correct Marks : 1 Wrong Marks : 0.25

How do the existing patterns of provision for the arts in schools vary considerably between the member states?

Options :

1. ✔ The most important factor is the extent to which the school curriculum in general is specified centrally
2. ✘ There is a lack of funding in art education at various levels
3. ✘ The most important factor is the extent to which the school curriculum in general is specified centrally and There is a lack of funding in art education at various levels.
4. ✘ No option is correct

Question Number : 159 Question Id : 54592712482 Question Type : MCQ Option Shuffling : Yes Display Question Number : Yes
Single Line Question Option : No Option Orientation : Vertical

Correct Marks : 1 Wrong Marks : 0.25

Which of the following statements is false?

Options :

1. ✘ Arts have lower status than the science
2. ✘ Education curriculum can be developed through art education
3. ✘ Arts have lower status than the science and Education curriculum can be developed through art education.
4. ✔ No option is correct

Question Number : 160 Question Id : 54592712483 Question Type : MCQ Option Shuffling : Yes Display Question Number : Yes
Single Line Question Option : No Option Orientation : Vertical

Correct Marks : 1 Wrong Marks : 0.25

The passage thematically centres on:

Options :

1. ✔ Inclusion of art education in main curriculum framework
2. ✘ Drawbacks of the education system on the younger generation
3. ✘ Inclusion of art education in main curriculum framework and Drawbacks of the education system on the younger generation.
4. ✘ No option is correct

Question Id : 54592712478 Question Type : COMPREHENSION Sub Question Shuffling Allowed : Yes Group Comprehension
Questions : No

Question Numbers : (156 to 160)

Question Label : Comprehension

Read the following information carefully and answer the given questions.

There is a pressing need to evaluate the quality of arts and teaching in formal education and for curriculum development. An initial survey of the arts in normal education in member states was conducted in the preliminary phase of the "culture", creativity and the young project. This provided valuable information on the structures of provision for the arts in formal educations in schools. It confirmed that existing patterns of provision for the arts in schools vary considerably between member states. An important factor is the extent to which the school curriculum, in general, is specified centrally. In some countries, there are strict prescriptions in content and assessment criteria to be followed by schools and teachers in all subjects.

In others, there is freedom within national frameworks for schools and teachers to develop their own curricular content and teaching methods. In some countries, the arts are given a positive profile in national policy statements and schools are strongly encouraged to develop them both within and outside the formal curriculum. In general terms, this is not the case. All policy statements on national education routinely emphasize the importance of the cultural dimension and of promoting creative abilities. The necessity of engaging children in the practice and study of the arts is also emphasized. For the most part, the main disciplines taught are art and music.

In the majority of national systems, they are compulsory in primary education and for the first two or three years of secondary education. Beyond that point they almost universally, become optional. In all cases, the arts have a lower status than mathematics and science. In all countries, significant processes of reform in hand in the substance and the management of educational systems. In some serious attempts are being made to re-evaluate the place and significance of the arts and in particular the relations of children, teachers, and artists. There is a need for further information and debate on the content, style, and quality of arts teaching in schools and on its perceived value and effects for young people themselves.

Sub questions

Question Number : 156 Question Id : 54592712479 Question Type : MCQ Option Shuffling : Yes Display Question Number : Yes Single Line Question Option : No Option Orientation : Vertical

Correct Marks : 1 Wrong Marks : 0.25

Which of the following is opposite in meaning to provision?

Options :

1. ✘ Catering
2. ✘ Outline
3. ✔ Removal
4. ✘ Foundation

Question Number : 157 Question Id : 54592712480 Question Type : MCQ Option Shuffling : Yes Display Question Number : Yes Single Line Question Option : No Option Orientation : Vertical

Correct Marks : 1 Wrong Marks : 0.25

Why is it demanded to stress the quality of arts education in curriculum development?

Options :

1. ✘ Young people are misguided in their conception
2. ✘ To engage youth in a productive manner
3. ✘ With the help of youth, the arts can be developed further
4. ✔ No option is correct

Question Number : 158 Question Id : 54592712481 Question Type : MCQ Option Shuffling : Yes Display Question Number : Yes Single Line Question Option : No Option Orientation : Vertical

Correct Marks : 1 Wrong Marks : 0.25

How do the existing patterns of provision for the arts in schools vary considerably between the member states?

Options :

1. ✔ The most important factor is the extent to which the school curriculum in general is specified centrally
2. ✘ There is a lack of funding in art education at various levels
3. ✘ The most important factor is the extent to which the school curriculum in general is specified centrally and There is a lack of funding in art education at various levels.

4. ✘ No option is correct

Question Number : 159 Question Id : 54592712482 Question Type : MCQ Option Shuffling : Yes Display Question Number : Yes
Single Line Question Option : No Option Orientation : Vertical

Correct Marks : 1 Wrong Marks : 0.25

Which of the following statements is false?

Options :

1. ✘ Arts have lower status than the science

2. ✘ Education curriculum can be developed through art education

3. ✘ Arts have lower status than the science and Education curriculum can be developed through art education.

4. ✔ No option is correct

Question Number : 160 Question Id : 54592712483 Question Type : MCQ Option Shuffling : Yes Display Question Number : Yes
Single Line Question Option : No Option Orientation : Vertical

Correct Marks : 1 Wrong Marks : 0.25

The passage thematically centres on:

Options :

1. ✔ Inclusion of art education in main curriculum framework

2. ✘ Drawbacks of the education system on the younger generation

3. ✘ Inclusion of art education in main curriculum framework and Drawbacks of the education system on the younger generation.

4. ✘ No option is correct

General Hindi 1

Group Number :	9
Group Id :	545927619
Group Maximum Duration :	0
Group Minimum Duration :	0
Revisit allowed for view? :	No
Revisit allowed for edit? :	No
Break time:	0
Group Marks:	20
Revisit allowed for group Instructions? :	Yes
Maximum Instruction Time:	0
Minimum Instruction Time:	0

General Hindi 1

Section Id :	545927619
Section Number :	1
Section type :	Online
Mandatory or Optional:	Mandatory
Number of Questions:	20
Number of Questions to be attempted:	20
Section Marks:	20
Display Number Panel:	Yes
Group All Questions:	No

Sub-Section Number: 1
Sub-Section Id: 545927742
Question Shuffling Allowed : Yes

Question Number : 161 Question Id : 54592712484 Question Type : MCQ Option Shuffling : Yes Display Question Number : Yes
Single Line Question Option : No Option Orientation : Vertical

Correct Marks : 1 Wrong Marks : 0.25

दिए गए शब्द में प्रत्यय ज्ञात कीजिए।

आमदनी

Options :

1. ✓ ई
2. ✗ दनी
3. ✗ आ
4. ✗ नी

Question Number : 161 Question Id : 54592712484 Question Type : MCQ Option Shuffling : Yes Display Question Number : Yes
Single Line Question Option : No Option Orientation : Vertical

Correct Marks : 1 Wrong Marks : 0.25

दिए गए शब्द में प्रत्यय ज्ञात कीजिए।

आमदनी

Options :

1. ✓ ई
2. ✗ दनी
3. ✗ आ
4. ✗ नी

Question Number : 162 Question Id : 54592712485 Question Type : MCQ Option Shuffling : Yes Display Question Number : Yes
Single Line Question Option : No Option Orientation : Vertical

Correct Marks : 1 Wrong Marks : 0.25

दिया गया वाक्य किस क्रिया का उदाहरण है ज्ञात कीजिए।

विपुल दूध पीता है।

Options :

1. ✗ अकर्मक
2. ✓ सकर्मक
3. ✗ प्रेरणार्थक
4. ✗ नामधातु

Question Number : 162 Question Id : 54592712485 Question Type : MCQ Option Shuffling : Yes Display Question Number : Yes
Single Line Question Option : No Option Orientation : Vertical

Correct Marks : 1 Wrong Marks : 0.25

दिया गया वाक्य किस क्रिया का उदाहरण है ज्ञात कीजिए।

विपुल दूध पीता है।

Options :

1. ✗ अकर्मक
2. ✓ सकर्मक
3. ✗ प्रेरणार्थक
4. ✗ नामधातु

Question Number : 163 Question Id : 54592712486 Question Type : MCQ Option Shuffling : Yes Display Question Number : Yes
Single Line Question Option : No Option Orientation : Vertical

Correct Marks : 1 Wrong Marks : 0.25

दिए गए वाक्य में उचित संज्ञा का प्रयोग करके रिक्त स्थान की पूर्ति कीजिए।

चल चलकर मुझे तो बहुत _____ महसूस हो रही है।

Options :

1. ✘ आदर
2. ✔ थकावट
3. ✘ ममत्व
4. ✘ श्रेष्ठता

Question Number : 163 Question Id : 54592712486 Question Type : MCQ Option Shuffling : Yes Display Question Number : Yes
Single Line Question Option : No Option Orientation : Vertical

Correct Marks : 1 Wrong Marks : 0.25

दिए गए वाक्य में उचित संज्ञा का प्रयोग करके रिक्त स्थान की पूर्ति कीजिए।

चल चलकर मुझे तो बहुत _____ महसूस हो रही है।

Options :

1. ✘ आदर
2. ✔ थकावट
3. ✘ ममत्व
4. ✘ श्रेष्ठता

Question Number : 164 Question Id : 54592712487 Question Type : MCQ Option Shuffling : Yes Display Question Number : Yes
Single Line Question Option : No Option Orientation : Vertical

Correct Marks : 1 Wrong Marks : 0.25

दिए गए समुच्चयबोधक शब्द किसके लिए प्रयोग किये जाते हैं ज्ञात कीजिए।

इसलिए, अतः, अतएव

Options :

1. ✘ संकेत के लिए
2. ✔ परिणाम दिखाने
3. ✘ कारण बताने
4. ✘ विरोध दिखाने

Question Number : 164 Question Id : 54592712487 Question Type : MCQ Option Shuffling : Yes Display Question Number : Yes
Single Line Question Option : No Option Orientation : Vertical

Correct Marks : 1 Wrong Marks : 0.25

दिए गए समुच्चयबोधक शब्द किसके लिए प्रयोग किये जाते हैं ज्ञात कीजिए।

इसलिए, अतः, अतएव

Options :

1. ✘ संकेत के लिए
2. ✔ परिणाम दिखाने
3. ✘ कारण बताने
4. ✘ विरोध दिखाने

Question Number : 165 Question Id : 54592712488 Question Type : MCQ Option Shuffling : Yes Display Question Number : Yes
Single Line Question Option : No Option Orientation : Vertical

Correct Marks : 1 Wrong Marks : 0.25

दिए गए शब्द का संधि विच्छेद कीजिए

बहुदेश्य

Options :

1. ✘ बहु + उदेश्य
2. ✘ बह + उदेश्य
3. ✘ बहू + देश्य
4. ✔ बहु + देश्य

Question Number : 165 Question Id : 54592712488 Question Type : MCQ Option Shuffling : Yes Display Question Number : Yes
Single Line Question Option : No Option Orientation : Vertical

Correct Marks : 1 Wrong Marks : 0.25

दिए गए शब्द का संधि विच्छेद कीजिए

बहुदेश्य

Options :

1. ✘ बहु + उदेश्य
2. ✘ बह + उदेश्य
3. ✘ बहू + देश्य
4. ✔ बहु + देश्य

Question Number : 166 Question Id : 54592712489 Question Type : MCQ Option Shuffling : Yes Display Question Number : Yes
Single Line Question Option : No Option Orientation : Vertical

Correct Marks : 1 Wrong Marks : 0.25

दिए गए शब्द युग्म का अर्थ ज्ञात कीजिए

द्विप - द्वीप

Options :

1. ✘ पहाड़ - पुराना
2. ✔ हाथी - रापू
3. ✘ सुंदर - माता
4. ✘ सेना - कारा

Question Number : 166 Question Id : 54592712489 Question Type : MCQ Option Shuffling : Yes Display Question Number : Yes
Single Line Question Option : No Option Orientation : Vertical

Correct Marks : 1 Wrong Marks : 0.25

दिए गए शब्द युग्म का अर्थ ज्ञात कीजिए

द्विप - द्वीप

Options :

1. ✘ पहाड़ - पुराना
2. ✔ हाथी - रापू
3. ✘ सुंदर - माता
4. ✘ सेना - कारा

Question Number : 167 Question Id : 54592712490 Question Type : MCQ Option Shuffling : Yes Display Question Number : Yes
Single Line Question Option : No Option Orientation : Vertical

Correct Marks : 1 Wrong Marks : 0.25

दिए गए वाक्यांश के लिए उचित शब्द का चयन कीजिए।

ऊपर की ओर आना।

Options :

1. ✘ निम्नगामी
2. ✘ पोथगामी
3. ✘ आगामी
4. ✔ उर्ध्वगामी

Question Number : 167 Question Id : 54592712490 Question Type : MCQ Option Shuffling : Yes Display Question Number : Yes
Single Line Question Option : No Option Orientation : Vertical

Correct Marks : 1 Wrong Marks : 0.25

दिए गए वाक्यांश के लिए उचित शब्द का चयन कीजिए।

ऊपर की ओर आना।

Options :

1. ✘ निम्नगामी
2. ✘ पोथगामी
3. ✘ आगामी
4. ✔ उर्ध्वगामी

Question Number : 168 Question Id : 54592712491 Question Type : MCQ Option Shuffling : Yes Display Question Number : Yes
Single Line Question Option : No Option Orientation : Vertical

Correct Marks : 1 Wrong Marks : 0.25

दिए गए वाक्यांश के लिए उचित शब्द का चयन कीजिए।

जिसे देश से निकाल दिया गया हो।

Options :

1. ✔ निर्वासित
2. ✘ देश प्रेमी
3. ✘ देश निकाला
4. ✘ देश द्रोही

Question Number : 168 Question Id : 54592712491 Question Type : MCQ Option Shuffling : Yes Display Question Number : Yes
Single Line Question Option : No Option Orientation : Vertical

Correct Marks : 1 Wrong Marks : 0.25

दिए गए वाक्यांश के लिए उचित शब्द का चयन कीजिए।

जिसे देश से निकाल दिया गया हो।

Options :

1. ✔ निर्वासित
2. ✘ देश प्रेमी
3. ✘ देश निकाला
4. ✘ देश द्रोही

Question Number : 169 Question Id : 54592712492 Question Type : MCQ Option Shuffling : Yes Display Question Number : Yes
Single Line Question Option : No Option Orientation : Vertical

Correct Marks : 1 Wrong Marks : 0.25

दिए गए शब्द का समानार्थी शब्द ज्ञात कीजिए।

आवर्त

Options :

1. ✘ पहाड़
2. ✔ भँवर
3. ✘ बादल
4. ✘ घर

Question Number : 169 Question Id : 54592712492 Question Type : MCQ Option Shuffling : Yes Display Question Number : Yes
Single Line Question Option : No Option Orientation : Vertical

Correct Marks : 1 Wrong Marks : 0.25

दिए गए शब्द का समानार्थी शब्द ज्ञात कीजिए।

आवर्त

Options :

1. ✘ पहाड़
2. ✔ भँवर
3. ✘ बादल
4. ✘ घर

Question Number : 170 Question Id : 54592712493 Question Type : MCQ Option Shuffling : Yes Display Question Number : Yes
Single Line Question Option : No Option Orientation : Vertical

Correct Marks : 1 Wrong Marks : 0.25

दिए गए शब्दों में शुद्ध वर्तनी का चयन कीजिए।

Options :

1. ✔ निझीरिणी
2. ✘ निझरीणी
3. ✘ नीझीरिणी
4. ✘ निझीरिणि

Question Number : 170 Question Id : 54592712493 Question Type : MCQ Option Shuffling : Yes Display Question Number : Yes
Single Line Question Option : No Option Orientation : Vertical

Correct Marks : 1 Wrong Marks : 0.25

दिए गए शब्दों में शुद्ध वर्तनी का चयन कीजिए।

Options :

1. ✔ निझीरिणी
2. ✘ निझरीणी
3. ✘ नीझीरिणी
4. ✘ निझीरिणि

Question Number : 171 Question Id : 54592712494 Question Type : MCQ Option Shuffling : Yes Display Question Number : Yes
Single Line Question Option : No Option Orientation : Vertical

Correct Marks : 1 Wrong Marks : 0.25

दिए गए शब्द का विलोम शब्द ज्ञात कीजिए।

आभ्यन्तर

Options :

1. ✔ बाह्य
2. ✘ ऊपर
3. ✘ अंदर
4. ✘ नीचे

Question Number : 171 Question Id : 54592712494 Question Type : MCQ Option Shuffling : Yes Display Question Number : Yes
Single Line Question Option : No Option Orientation : Vertical

Correct Marks : 1 Wrong Marks : 0.25

दिए गए शब्द का विलोम शब्द ज्ञात कीजिए।

आभ्यन्तर

Options :

1. ✓ बाह्य
2. ✗ ऊपर
3. ✗ अंदर
4. ✗ नीचे

Question Number : 172 Question Id : 54592712495 Question Type : MCQ Option Shuffling : Yes Display Question Number : Yes
Single Line Question Option : No Option Orientation : Vertical

Correct Marks : 1 Wrong Marks : 0.25

दिए गए वाक्य में रिक्त स्थान की पूर्ति कीजिए।

सविता छत के _____ खेल रही है।

Options :

1. ✓ ऊपर
2. ✗ अंदर
3. ✗ बाहर
4. ✗ भीतर

Question Number : 172 Question Id : 54592712495 Question Type : MCQ Option Shuffling : Yes Display Question Number : Yes
Single Line Question Option : No Option Orientation : Vertical

Correct Marks : 1 Wrong Marks : 0.25

दिए गए वाक्य में रिक्त स्थान की पूर्ति कीजिए।

सविता छत के _____ खेल रही है।

Options :

1. ✓ ऊपर
2. ✗ अंदर
3. ✗ बाहर
4. ✗ भीतर

Question Number : 173 Question Id : 54592712496 Question Type : MCQ Option Shuffling : Yes Display Question Number : Yes
Single Line Question Option : No Option Orientation : Vertical

Correct Marks : 1 Wrong Marks : 0.25

दिए गए शब्द का पर्यायवाची ज्ञात कीजिए।

पुष्प

Options :

1. ✓ प्रसून
2. ✗ सूर्य
3. ✗ पवि
4. ✗ शेषाव

Question Number : 173 Question Id : 54592712496 Question Type : MCQ Option Shuffling : Yes Display Question Number : Yes
Single Line Question Option : No Option Orientation : Vertical

Correct Marks : 1 Wrong Marks : 0.25

दिए गए शब्द का पर्यायवाची ज्ञात कीजिए।

पुष्प

Options :

1. ✓ प्रसून
2. ✗ सूरा
3. ✗ पवि
4. ✗ शेषाव

Question Number : 174 Question Id : 54592712497 Question Type : MCQ Option Shuffling : Yes Display Question Number : Yes
Single Line Question Option : No Option Orientation : Vertical

Correct Marks : 1 Wrong Marks : 0.25

दिए गए शब्दों में से अशुद्ध शब्द का चयन कीजिए।

Options :

1. ✓ करम
2. ✗ कक्षा
3. ✗ कलश
4. ✗ कारण

Question Number : 174 Question Id : 54592712497 Question Type : MCQ Option Shuffling : Yes Display Question Number : Yes
Single Line Question Option : No Option Orientation : Vertical

Correct Marks : 1 Wrong Marks : 0.25

दिए गए शब्दों में से अशुद्ध शब्द का चयन कीजिए।

Options :

1. ✓ करम
2. ✗ कक्षा
3. ✗ कलश
4. ✗ कारण

Question Number : 175 Question Id : 54592712498 Question Type : MCQ Option Shuffling : Yes Display Question Number : Yes
Single Line Question Option : No Option Orientation : Vertical

Correct Marks : 1 Wrong Marks : 0.25

दिए गए वाक्यांश के लिए उचित शब्द का चयन कीजिए।

किसी बात पर सहमत होने की प्रार्थना

Note: For this question, discrepancy is found in question/answer. So, this question is ignored for all candidates.

Options :

1. विनय
2. प्रार्थना
3. आवेदन
4. अनुनय

Question Number : 175 Question Id : 54592712498 Question Type : MCQ Option Shuffling : Yes Display Question Number : Yes
Single Line Question Option : No Option Orientation : Vertical

Correct Marks : 1 Wrong Marks : 0.25

दिए गए वाक्यांश के लिए उचित शब्द का चयन कीजिए।

किसी बात पर सहमत होने की प्रार्थना

Note: For this question, discrepancy is found in question/answer. So, this question is ignored for all candidates.

Options :

1. विनय
2. प्रार्थना
3. आवेदन
4. अनुनय

Question Number : 176 Question Id : 54592712499 Question Type : MCQ Option Shuffling : Yes Display Question Number : Yes
Single Line Question Option : No Option Orientation : Vertical

Correct Marks : 1 Wrong Marks : 0.25

दिए गए वाक्य के शुद्ध रूप का चयन कीजिए।

मैंने जाना है।

Options :

1. ✘ मैं जाना है।
2. ✘ मैं जाना चाहिए था।
3. ✘ मैंने जाना था।
4. ✔ मुझे जाना है।

Question Number : 176 Question Id : 54592712499 Question Type : MCQ Option Shuffling : Yes Display Question Number : Yes
Single Line Question Option : No Option Orientation : Vertical

Correct Marks : 1 Wrong Marks : 0.25

दिए गए वाक्य के शुद्ध रूप का चयन कीजिए।

मैंने जाना है।

Options :

1. ✘ मैं जाना है।
2. ✘ मैं जाना चाहिए था।
3. ✘ मैंने जाना था।
4. ✔ मुझे जाना है।

Question Number : 177 Question Id : 54592712500 Question Type : MCQ Option Shuffling : Yes Display Question Number : Yes
Single Line Question Option : No Option Orientation : Vertical

Correct Marks : 1 Wrong Marks : 0.25

दिए गए वाक्य का काल ज्ञात कीजिए। प्राधानाचार्य ने भाषण दिया।

Options :

1. ✔ सामान्य भूतकाल
2. ✘ अपूर्ण भूतकाल
3. ✘ संदिग्ध भूतकाल
4. ✘ आसन्न भूतकाल

Question Number : 177 Question Id : 54592712500 Question Type : MCQ Option Shuffling : Yes Display Question Number : Yes
Single Line Question Option : No Option Orientation : Vertical

Correct Marks : 1 Wrong Marks : 0.25

दिए गए वाक्य का काल ज्ञात कीजिए। प्राधानाचार्य ने भाषण दिया।

Options :

1. ✔ सामान्य भूतकाल
2. ✘ अपूर्ण भूतकाल
3. ✘ संदिग्ध भूतकाल

4. ✖ आसन्न भूतकाल

Question Number : 178 Question Id : 54592712501 Question Type : MCQ Option Shuffling : Yes Display Question Number : Yes
Single Line Question Option : No Option Orientation : Vertical

Correct Marks : 1 Wrong Marks : 0.25

दिए गए वाक्यों में से शुद्ध वाक्य का चयन कीजिए

Options :

1. ✖ महादेवी वर्मा करुणा - वेदना की कवि है
2. ✔ महादेवी वर्मा करुणा - वेदना की कवयित्री है
3. ✖ महादेवी वर्मा करुणा - वेदना की कवित्री है
4. ✖ महादेवी वर्मा करुणा - वेदना की कवियित्री है

Question Number : 178 Question Id : 54592712501 Question Type : MCQ Option Shuffling : Yes Display Question Number : Yes
Single Line Question Option : No Option Orientation : Vertical

Correct Marks : 1 Wrong Marks : 0.25

दिए गए वाक्यों में से शुद्ध वाक्य का चयन कीजिए

Options :

1. ✖ महादेवी वर्मा करुणा - वेदना की कवि है
2. ✔ महादेवी वर्मा करुणा - वेदना की कवयित्री है
3. ✖ महादेवी वर्मा करुणा - वेदना की कवित्री है
4. ✖ महादेवी वर्मा करुणा - वेदना की कवियित्री है

Question Number : 179 Question Id : 54592712502 Question Type : MCQ Option Shuffling : Yes Display Question Number : Yes
Single Line Question Option : No Option Orientation : Vertical

Correct Marks : 1 Wrong Marks : 0.25

दिए गए वाक्य में रेखांकित भाग कारक की किस प्रकार की विभक्ति है ज्ञात कीजिए

राहुल ने खाना खाया।

Options :

1. ✔ कर्ता
2. ✖ कर्म
3. ✖ अधिकरण
4. ✖ करण

Question Number : 179 Question Id : 54592712502 Question Type : MCQ Option Shuffling : Yes Display Question Number : Yes
Single Line Question Option : No Option Orientation : Vertical

Correct Marks : 1 Wrong Marks : 0.25

दिए गए वाक्य में रेखांकित भाग कारक की किस प्रकार की विभक्ति है ज्ञात कीजिए

राहुल ने खाना खाया।

Options :

1. ✔ कर्ता
2. ✖ कर्म
3. ✖ अधिकरण
4. ✖ करण

Question Number : 180 Question Id : 54592712503 Question Type : MCQ Option Shuffling : Yes Display Question Number : Yes
Single Line Question Option : No Option Orientation : Vertical

Correct Marks : 1 Wrong Marks : 0.25

निम्नलिखित में से कौन सा शब्द बहुवचन नहीं है?

Options :

1. ✘ केश
2. ✘ दाम
3. ✘ होश
4. ✔ पुस्तक

Question Number : 180 Question Id : 54592712503 Question Type : MCQ Option Shuffling : Yes Display Question Number : Yes
Single Line Question Option : No Option Orientation : Vertical

Correct Marks : 1 Wrong Marks : 0.25

निम्नलिखित में से कौन सा शब्द बहुवचन नहीं है?

Options :

1. ✘ केश
2. ✘ दाम
3. ✘ होश
4. ✔ पुस्तक

General Hindi2

Group Number :	10
Group Id :	545927620
Group Maximum Duration :	0
Group Minimum Duration :	120
Revisit allowed for view? :	No
Revisit allowed for edit? :	No
Break time:	0
Group Marks:	20
Revisit allowed for group Instructions? :	Yes
Maximum Instruction Time:	0
Minimum Instruction Time:	0

General Hindi2

Section Id :	545927620
Section Number :	1
Section type :	Online
Mandatory or Optional:	Mandatory
Number of Questions:	16
Number of Questions to be attempted:	16
Section Marks:	20
Display Number Panel:	Yes
Group All Questions:	No

Sub-Section Number:	1
Sub-Section Id:	545927743
Question Shuffling Allowed :	Yes

Question Number : 181 Question Id : 54592712504 Question Type : MCQ Option Shuffling : Yes Display Question Number : Yes
Single Line Question Option : No Option Orientation : Vertical

Correct Marks : 1 Wrong Marks : 0.25

दिए गए वाक्य में वृत्ति के रूप की पहचान कीजिए।

यदि तुम कुछ देर पहले आते तो सुनील से मिल पाते।

Options :

1. ✘ आज्ञार्थक
2. ✘ निश्चयार्थक
3. ✘ संभावार्थक
4. ✔ संकेतार्थक

Question Number : 181 Question Id : 54592712504 Question Type : MCQ Option Shuffling : Yes Display Question Number : Yes
Single Line Question Option : No Option Orientation : Vertical

Correct Marks : 1 Wrong Marks : 0.25

दिए गए वाक्य में वृत्ति के रूप की पहचान कीजिए।

यदि तुम कुछ देर पहले आते तो सुनील से मिल पाते।

Options :

1. ✘ आज्ञार्थक
2. ✘ निश्चयार्थक
3. ✘ संभावार्थक
4. ✔ संकेतार्थक

Question Number : 182 Question Id : 54592712505 Question Type : MCQ Option Shuffling : Yes Display Question Number : Yes
Single Line Question Option : No Option Orientation : Vertical

Correct Marks : 1 Wrong Marks : 0.25

दिए गए वाक्य के रूप की पहचान कीजिए।

रॉकी द्वारा मोटर साईकिल चलाई जाती है।

Options :

1. ✔ कर्म वाच्य
2. ✘ भाव वाच्य
3. ✘ कर्तृवाच्य
4. ✘ द्रव्यवाच्य

Question Number : 182 Question Id : 54592712505 Question Type : MCQ Option Shuffling : Yes Display Question Number : Yes
Single Line Question Option : No Option Orientation : Vertical

Correct Marks : 1 Wrong Marks : 0.25

दिए गए वाक्य के रूप की पहचान कीजिए।

रॉकी द्वारा मोटर साईकिल चलाई जाती है।

Options :

1. ✔ कर्म वाच्य
2. ✘ भाव वाच्य
3. ✘ कर्तृवाच्य
4. ✘ द्रव्यवाच्य

Question Number : 183 Question Id : 54592712506 Question Type : MCQ Option Shuffling : Yes Display Question Number : Yes
Single Line Question Option : No Option Orientation : Vertical

Correct Marks : 1 Wrong Marks : 0.25

दिए गए वाक्य के रूप की पहचान कीजिए।

माँ ने खाना बना लिया है।

Options :

1. ✘ स्थित्यात्मक पक्ष
2. ✔ पूर्ण पक्ष
3. ✘ अपूर्ण पक्ष
4. ✘ नित्य पक्ष

Question Number : 183 Question Id : 54592712506 Question Type : MCQ Option Shuffling : Yes Display Question Number : Yes
Single Line Question Option : No Option Orientation : Vertical

Correct Marks : 1 Wrong Marks : 0.25

दिए गए में पक्ष के रूप की पहचान कीजिए

माँ ने खाना बना लिया है।

Options :

1. ✘ स्थित्यात्मक पक्ष
2. ✔ पूर्ण पक्ष
3. ✘ अपूर्ण पक्ष
4. ✘ नित्य पक्ष

Question Number : 184 Question Id : 54592712507 Question Type : MCQ Option Shuffling : Yes Display Question Number : Yes
Single Line Question Option : No Option Orientation : Vertical

Correct Marks : 1 Wrong Marks : 0.25

दिए गए वाक्य में रेखांकित भाग किस प्रकार का पुरुष है ज्ञात कीजिए।

मैंने तुम्हें कई बार चेतावनी दी है।

Options :

1. ✘ प्रथम पुरुष
2. ✔ मध्यम पुरुष
3. ✘ अन्य पुरुष
4. ✘ उत्तम पुरुष

Question Number : 184 Question Id : 54592712507 Question Type : MCQ Option Shuffling : Yes Display Question Number : Yes
Single Line Question Option : No Option Orientation : Vertical

Correct Marks : 1 Wrong Marks : 0.25

दिए गए वाक्य में रेखांकित भाग किस प्रकार का पुरुष है ज्ञात कीजिए।

मैंने तुम्हें कई बार चेतावनी दी है।

Options :

1. ✘ प्रथम पुरुष
2. ✔ मध्यम पुरुष
3. ✘ अन्य पुरुष
4. ✘ उत्तम पुरुष

Question Number : 185 Question Id : 54592712508 Question Type : MCQ Option Shuffling : Yes Display Question Number : Yes
Single Line Question Option : No Option Orientation : Vertical

Correct Marks : 1 Wrong Marks : 0.25

निम्नलिखित में से कौन सा वाक्य मिश्र वाक्य का उदाहरण नहीं है?

Options :

1. ✘ उसने वह खाना खाया जो उसके भाई का था।
2. ✘ जो खेल कूद रहे हैं वे अभी तथा दीपक है।

3. ✘ जैसे ही सूरज पढ़ा, वह अधिकारी बन गया।
4. ✔ ईमानदार व्यक्ति का सभी सम्मान करते हैं।

Question Number : 185 Question Id : 54592712508 Question Type : MCQ Option Shuffling : Yes Display Question Number : Yes
Single Line Question Option : No Option Orientation : Vertical

Correct Marks : 1 Wrong Marks : 0.25

निम्नलिखित में से कौन सा वाक्य मिश्र वाक्य का उदाहरण नहीं है?

Options :

1. ✘ उसने वह खाना खाया जो उसके भाई का था।
2. ✘ जो खेल कूद रहे हैं वे अभी तथा दीपक है।
3. ✘ जैसे ही सूरज पढ़ा, वह अधिकारी बन गया।
4. ✔ ईमानदार व्यक्ति का सभी सम्मान करते हैं।

Question Number : 186 Question Id : 54592712509 Question Type : MCQ Option Shuffling : Yes Display Question Number : Yes
Single Line Question Option : No Option Orientation : Vertical

Correct Marks : 1 Wrong Marks : 0.25

दिए गए वाक्य के रूप की पहचान कीजिए।

हमारे बस से उतरते ही रिक्शे वाले दौड़ पड़े।

Options :

1. ✔ सरल
2. ✘ संयुक्त
3. ✘ मिश्र
4. ✘ आज्ञार्थक

Question Number : 186 Question Id : 54592712509 Question Type : MCQ Option Shuffling : Yes Display Question Number : Yes
Single Line Question Option : No Option Orientation : Vertical

Correct Marks : 1 Wrong Marks : 0.25

दिए गए वाक्य के रूप की पहचान कीजिए।

हमारे बस से उतरते ही रिक्शे वाले दौड़ पड़े।

Options :

1. ✔ सरल
2. ✘ संयुक्त
3. ✘ मिश्र
4. ✘ आज्ञार्थक

Question Number : 187 Question Id : 54592712510 Question Type : MCQ Option Shuffling : Yes Display Question Number : Yes
Single Line Question Option : No Option Orientation : Vertical

Correct Marks : 1 Wrong Marks : 0.25

निम्नलिखित में से कौन सा शब्द स्त्रीलिंग नहीं है?

Options :

1. ✘ सुबह
2. ✘ फसल
3. ✘ जनता
4. ✔ उपहार

Question Number : 187 Question Id : 54592712510 Question Type : MCQ Option Shuffling : Yes Display Question Number : Yes
Single Line Question Option : No Option Orientation : Vertical

Correct Marks : 1 Wrong Marks : 0.25

निम्नलिखित में से कौन सा शब्द स्त्रीलिंग नहीं है?

Options :

1. ✘ सुबह
2. ✘ फसल
3. ✘ जनता
4. ✔ उपहार

Question Number : 188 Question Id : 54592712511 Question Type : MCQ Option Shuffling : Yes Display Question Number : Yes
Single Line Question Option : No Option Orientation : Vertical

Correct Marks : 1 Wrong Marks : 0.25

निम्नलिखित प्रश्न में, दिए गए चार विकल्पों में से, उस विकल्प का चयन करें जो दिए गए मुहावरे के अर्थ को सर्वश्रेष्ठ रूप से व्यक्त करता है।

इन तिलों में तेल नहीं निकलता।

Options :

1. ✘ अपनी प्रशंसा स्वयं करना
2. ✘ सबसे अलग रहना
3. ✘ बेवकूफ व्यक्ति
4. ✔ ऐसे कंजूसों से कुछ प्राप्ति नहीं होता।

Question Number : 188 Question Id : 54592712511 Question Type : MCQ Option Shuffling : Yes Display Question Number : Yes
Single Line Question Option : No Option Orientation : Vertical

Correct Marks : 1 Wrong Marks : 0.25

निम्नलिखित प्रश्न में, दिए गए चार विकल्पों में से, उस विकल्प का चयन करें जो दिए गए मुहावरे के अर्थ को सर्वश्रेष्ठ रूप से व्यक्त करता है।

इन तिलों में तेल नहीं निकलता।

Options :

1. ✘ अपनी प्रशंसा स्वयं करना
2. ✘ सबसे अलग रहना
3. ✘ बेवकूफ व्यक्ति
4. ✔ ऐसे कंजूसों से कुछ प्राप्ति नहीं होता।

Question Number : 189 Question Id : 54592712512 Question Type : MCQ Option Shuffling : Yes Display Question Number : Yes
Single Line Question Option : No Option Orientation : Vertical

Correct Marks : 1 Wrong Marks : 0.25

निम्नलिखित प्रश्न में, दिए गए चार विकल्पों में से, उस विकल्प का चयन करें जो दिए गए मुहावरे के अर्थ को सर्वश्रेष्ठ रूप से व्यक्त करता है।

जो गुड़ खायो वही कान छिदावे।

Options :

1. ✔ जो आनंद लेता है वही परिश्रम करता है।
2. ✘ विरोध प्रकट करना
3. ✘ झगड़ा पैदा करके खुश होना।
4. ✘ किस्मत उल्टी होना।

Question Number : 189 Question Id : 54592712512 Question Type : MCQ Option Shuffling : Yes Display Question Number : Yes
Single Line Question Option : No Option Orientation : Vertical

Correct Marks : 1 Wrong Marks : 0.25

निम्नलिखित प्रश्न में, दिए गए चार विकल्पों में से, उस विकल्प का चयन करें जो दिए गए मुहावरे के अर्थ को सर्वश्रेष्ठ रूप से व्यक्त करता है।

जो गुड़ खायो वही कान छिदावे।

Options :

1. ✓ जो आनंद लेता है वही परिश्रम करता है
2. ✗ विरोध प्रकट करना
3. ✗ झगड़ा पैदा करके खुश होना
4. ✗ किस्मत उल्टी होना

Question Number : 190 Question Id : 54592712513 Question Type : MCQ Option Shuffling : Yes Display Question Number : Yes
Single Line Question Option : No Option Orientation : Vertical

Correct Marks : 1 Wrong Marks : 0.25

निम्नलिखित प्रश्न में, दिए गए चार विकल्पों में से, उस विकल्प का चयन करें जो दिए गए मुहावरे के अर्थ को सर्वश्रेष्ठ रूप से व्यक्त करता है।

आँखों का पानी ढलना

Options :

1. ✓ निर्लज्ज बन जाना
2. ✗ अनहोनी बात
3. ✗ बहुत ऊँचा होना
4. ✗ मुसीबत में सहायता करना

Question Number : 190 Question Id : 54592712513 Question Type : MCQ Option Shuffling : Yes Display Question Number : Yes
Single Line Question Option : No Option Orientation : Vertical

Correct Marks : 1 Wrong Marks : 0.25

निम्नलिखित प्रश्न में, दिए गए चार विकल्पों में से, उस विकल्प का चयन करें जो दिए गए मुहावरे के अर्थ को सर्वश्रेष्ठ रूप से व्यक्त करता है।

आँखों का पानी ढलना

Options :

1. ✓ निर्लज्ज बन जाना
2. ✗ अनहोनी बात
3. ✗ बहुत ऊँचा होना
4. ✗ मुसीबत में सहायता करना

Question Number : 191 Question Id : 54592712514 Question Type : MCQ Option Shuffling : Yes Display Question Number : Yes
Single Line Question Option : No Option Orientation : Vertical

Correct Marks : 1 Wrong Marks : 0.25

दिए गए वाक्य की सही लोकोक्ति का चयन कीजिए।

शक्तिशाली की ही जीत होती है।

Options :

1. ✗ आधा तीतर आधा बटेरा
2. ✗ आठ - आठ आँसू रोना
3. ✓ जिसकी लाठी उसकी भैंस
4. ✗ आग लगने पर कुआँ खोदना

Question Number : 191 Question Id : 54592712514 Question Type : MCQ Option Shuffling : Yes Display Question Number : Yes
Single Line Question Option : No Option Orientation : Vertical

Correct Marks : 1 Wrong Marks : 0.25

दिए गए वाक्य की सही लोकोक्ति का चयन कीजिए।

शक्तिशाली की ही जीत होती है।

Options :

1. ✗ आधा तीतर आधा बटेरा
2. ✗ आठ - आठ आँसू रोना

3. ✓ जिसकी लाठी उसकी भैंसा
4. ✗ आग लगने पर कुआँ खोदना

Question Number : 192 Question Id : 54592712515 Question Type : MCQ Option Shuffling : Yes Display Question Number : Yes
Single Line Question Option : No Option Orientation : Vertical

Correct Marks : 1 Wrong Marks : 0.25

निम्नलिखित प्रश्न में, दिए गए चार विकल्पों में से, उस विकल्प का चयन करें जो दिए गए मुहावरे के अर्थ को सर्वश्रेष्ठ रूप से व्यक्त करता है।

साफ इनकार करना।

Options :

1. ✗ आसन डोलना
2. ✗ आपे से बाहर होना
3. ✗ आग बबूला होना
4. ✓ टका सा जवाब देना

Question Number : 192 Question Id : 54592712515 Question Type : MCQ Option Shuffling : Yes Display Question Number : Yes
Single Line Question Option : No Option Orientation : Vertical

Correct Marks : 1 Wrong Marks : 0.25

निम्नलिखित प्रश्न में, दिए गए चार विकल्पों में से, उस विकल्प का चयन करें जो दिए गए मुहावरे के अर्थ को सर्वश्रेष्ठ रूप से व्यक्त करता है।

साफ इनकार करना।

Options :

1. ✗ आसन डोलना
2. ✗ आपे से बाहर होना
3. ✗ आग बबूला होना
4. ✓ टका सा जवाब देना

Question Number : 193 Question Id : 54592712516 Question Type : MCQ Option Shuffling : Yes Display Question Number : Yes
Single Line Question Option : No Option Orientation : Vertical

Correct Marks : 1 Wrong Marks : 0.25

शब्दों को संक्षिप्त रूप में लिखने के लिए किस विराम चिह्न का प्रयोग किया जाता है?

Options :

1. ✓ लाघव
2. ✗ कोष्ठक
3. ✗ उद्धरण
4. ✗ निर्देशक

Question Number : 193 Question Id : 54592712516 Question Type : MCQ Option Shuffling : Yes Display Question Number : Yes
Single Line Question Option : No Option Orientation : Vertical

Correct Marks : 1 Wrong Marks : 0.25

शब्दों को संक्षिप्त रूप में लिखने के लिए किस विराम चिह्न का प्रयोग किया जाता है?

Options :

1. ✓ लाघव
2. ✗ कोष्ठक
3. ✗ उद्धरण
4. ✗ निर्देशक

Question Number : 194 Question Id : 54592712517 Question Type : MCQ Option Shuffling : Yes Display Question Number : Yes
Single Line Question Option : No Option Orientation : Vertical

Correct Marks : 1 Wrong Marks : 0.25

दिए गए विराम चिह्न के रूप की पहचान कीजिए।

(-)

Options :

1. ✘ प्रश्नवाचक
2. ✘ अद्धविराम
3. ✘ पूर्ण विराम
4. ✔ संयोजक

Question Number : 194 Question Id : 54592712517 Question Type : MCQ Option Shuffling : Yes Display Question Number : Yes
Single Line Question Option : No Option Orientation : Vertical

Correct Marks : 1 Wrong Marks : 0.25

दिए गए विराम चिह्न के रूप की पहचान कीजिए।

(-)

Options :

1. ✘ प्रश्नवाचक
2. ✘ अद्धविराम
3. ✘ पूर्ण विराम
4. ✔ संयोजक

Question Number : 195 Question Id : 54592712518 Question Type : MCQ Option Shuffling : Yes Display Question Number : Yes
Single Line Question Option : No Option Orientation : Vertical

Correct Marks : 1 Wrong Marks : 0.25

'स्वराज्य हमारा जन्म सिद्ध अधिकार है' तिलक में कौन सा विराम चिह्न होगा?

Options :

1. ✔ -
2. ✘ ,
3. ✘ :-
4. ✘ !

Question Number : 195 Question Id : 54592712518 Question Type : MCQ Option Shuffling : Yes Display Question Number : Yes
Single Line Question Option : No Option Orientation : Vertical

Correct Marks : 1 Wrong Marks : 0.25

'स्वराज्य हमारा जन्म सिद्ध अधिकार है' तिलक में कौन सा विराम चिह्न होगा?

Options :

1. ✔ -
2. ✘ ,
3. ✘ :-
4. ✘ !

Sub-Section Number: 2
Sub-Section Id: 545927744
Question Shuffling Allowed : Yes

Question Id : 54592712519 Question Type : COMPREHENSION Sub Question Shuffling Allowed : Yes Group Comprehension
Questions : No

Question Numbers : (196 to 200)

Question Label : Comprehension

एक गद्यांश दिया गया है। गद्यांश के आधार पर पाँच प्रश्न दिए गए हैं। गद्यांश को ध्यानपूर्वक पढ़ें तथा प्रत्येक प्रश्न में चार विकल्पों में से सही विकल्प चुनें।

भाई और बहन का प्रेम भरा रिश्ता अलग ही तरह का होता है। माता पिता के आंगन में संग-संग खेलते-कूदते, लड़ते-झगड़ते, रूठते-मनाते, पढ़ते-पढ़ाते, खुशियों भरे दिन कैसे निकल जाते हैं पता ही नहीं चलता। इन दिनों भाई बहन सोच भी नहीं सकते कि एक दिन वे अलग-अलग हो जाएंगे। एक ही छत के नीचे पले-बड़े अलग-अलग घर बसा कर रहने लगते हैं। अपनी-अपनी गृहस्थी बसा लेते हैं। राखी और भैया दूज दो ऐसे त्योहार हैं जो दोनों को मिला देते हैं। बहनें भाइयों की कलाई पर बांधने के लिए बड़े चाव से सुंदर से सुंदर राखियाँ खरीदती हैं। फल, मिठाई लाती हैं। भैया-दूज पर उन्हें तिलक लगाकर उनकी दीर्घायु की कामना करती हैं। भाई बहन के ऐसे अद्भुत त्योहार विश्व में और कहीं नहीं बनाए जाते। भारतीय समाज में सभी संबंधों को बहुत महत्व दिया जाता है। भाई और बहन के अनूठे और अटूट संबंध सदा बने रहेंगे, उनके बीच का स्नेह भाव सदा बना रहेगा।

Sub questions

Question Number : 196 Question Id : 54592712520 Question Type : MCQ Option Shuffling : Yes Display Question Number : Yes
Single Line Question Option : No Option Orientation : Vertical

Correct Marks : 1 Wrong Marks : 0.25

भाई-बहन कहाँ बड़े होते हैं?

Options :

1. ✓ माता-पिता के घर
2. ✗ पार्क में
3. ✗ शहर में
4. ✗ नानी के घर

Question Number : 197 Question Id : 54592712521 Question Type : MCQ Option Shuffling : Yes Display Question Number : Yes
Single Line Question Option : No Option Orientation : Vertical

Correct Marks : 1 Wrong Marks : 0.25

कौन से त्योहार भाई-बहन को मिला देते हैं?

Options :

1. ✗ राखी
2. ✗ भैया दूज
3. ✗ दिवाली
4. ✓ राखी व भैया दूज

Question Number : 198 Question Id : 54592712522 Question Type : MCQ Option Shuffling : Yes Display Question Number : Yes
Single Line Question Option : No Option Orientation : Vertical

Correct Marks : 1 Wrong Marks : 0.25

उपर्युक्त गद्यांश का शीर्षक क्या है?

Options :

1. ✗ राखी का त्योहार
2. ✓ भाई बहन का स्नेह
3. ✗ मिलन दिवस
4. ✗ प्यारा बचपन

Question Number : 199 Question Id : 54592712523 Question Type : MCQ Option Shuffling : Yes Display Question Number : Yes
Single Line Question Option : No Option Orientation : Vertical

Correct Marks : 1 Wrong Marks : 0.25

दीर्घायु की कामना करने से क्या तात्पर्य है?

Options :

1. ✓ भाई की लम्बी आयु
2. ✗ स्वयं की लम्बी आयु की कामना
3. ✗ माता-पिता की लम्बी आयु
4. ✗ अपने प्यार की लम्बी आयु

Question Number : 200 Question Id : 54592712524 Question Type : MCQ Option Shuffling : Yes Display Question Number : Yes
Single Line Question Option : No Option Orientation : Vertical

Correct Marks : 1 Wrong Marks : 0.25

भाई बहन कब अलग-अलग घर बसा लेते हैं?

Options :

1. ✓ शादी करके
2. ✗ मर के
3. ✗ भाग कर
4. ✗ ज्यादा मकान लेकर

Question Id : 54592712519 Question Type : COMPREHENSION Sub Question Shuffling Allowed : Yes Group Comprehension
Questions : No

Question Numbers : (196 to 200)

Question Label : Comprehension

एक गद्यांश दिया गया है। गद्यांश के आधार पर पाँच प्रश्न दिए गए हैं। गद्यांश को ध्यानपूर्वक पढ़ें तथा प्रत्येक प्रश्न में चार विकल्पों में से सही विकल्प चुनें।

भाई और बहन का प्रेम भरा रिश्ता अलग ही तरह का होता है। माता पिता के आंगन में संग-संग खेलते-कूदते, लड़ते-झगड़ते, रूठते-मनाते, पढ़ते-पढ़ाते, खुशियों भरे दिन कैसे निकल जाते हैं पता ही नहीं चलता। इन दिनों भाई बहन सोच भी नहीं सकते कि एक दिन वे अलग-अलग हो जाएंगे। एक ही छत के नीचे पले-बढ़े अलग-अलग घर बसा कर रहने लगते हैं। अपनी-अपनी गृहस्थी बसा लेते हैं। राखी और भैया दूज दो ऐसे त्योहार हैं जो दोनों को मिला देते हैं। बहनें भाइयों की कलाई पर बांधने के लिए बड़े चाव से सुंदर से सुंदर राखियां खरीदती हैं। फल, मिठाई लाती हैं। भैया-दूज पर उन्हें तिलक लगाकर उनकी दीर्घायु की कामना करती हैं। भाई बहन के ऐसे अद्भुत त्योहार विश्व में और कहीं नहीं बनाए जाते। भारतीय समाज में सभी संबंधों को बहुत महत्व दिया जाता है। भाई और बहन के अनूठे और अटूट संबंध सदा बने रहेंगे, उनके बीच का स्नेह भाव सदा बना रहेगा।

Sub questions

Question Number : 196 Question Id : 54592712520 Question Type : MCQ Option Shuffling : Yes Display Question Number : Yes
Single Line Question Option : No Option Orientation : Vertical

Correct Marks : 1 Wrong Marks : 0.25

भाई-बहन कहाँ बड़े होते हैं?

Options :

1. ✓ माता-पिता के घर
2. ✗ पार्क में
3. ✗ शहर में
4. ✗ नानी के घर

Question Number : 197 Question Id : 54592712521 Question Type : MCQ Option Shuffling : Yes Display Question Number : Yes
Single Line Question Option : No Option Orientation : Vertical

Correct Marks : 1 Wrong Marks : 0.25

कौन से त्योहार भाई-बहन को मिला देते हैं?

Options :

1. ✗ राखी
2. ✗ भैया दूज
3. ✗ दिवाली
4. ✓ राखी व भैया दूज

Question Number : 198 Question Id : 54592712522 Question Type : MCQ Option Shuffling : Yes Display Question Number : Yes
Single Line Question Option : No Option Orientation : Vertical

Correct Marks : 1 Wrong Marks : 0.25

उपर्युक्त गद्यांश का शीर्षक क्या है?

Options :

1. ✗ राखी का त्योहार

2. ✓ भाई बहन का स्नेह
3. ✗ मिलन दिवस
4. ✗ प्यारा बचपन

Question Number : 199 Question Id : 54592712523 Question Type : MCQ Option Shuffling : Yes Display Question Number : Yes
Single Line Question Option : No Option Orientation : Vertical

Correct Marks : 1 Wrong Marks : 0.25

दीर्घायु की कामना करने से क्या तात्पर्य है?

Options :

1. ✓ भाई की लम्बी आयु
2. ✗ स्वयं की लम्बी आयु की कामना
3. ✗ माता-पिता की लम्बी आयु
4. ✗ अपने प्यार की लम्बी आयु

Question Number : 200 Question Id : 54592712524 Question Type : MCQ Option Shuffling : Yes Display Question Number : Yes
Single Line Question Option : No Option Orientation : Vertical

Correct Marks : 1 Wrong Marks : 0.25

भाई बहन कब अलग-अलग घर बसा लेते हैं?

Options :

1. ✓ शादी करके
2. ✗ मर के
3. ✗ भाग कर
4. ✗ ज्यादा मकान लेकर