

Education Consultant India Ltd.

Notations :

- 1.Options shown in green color and with ✓ icon are correct.
- 2.Options shown in red color and with ✗ icon are incorrect.

Question Paper Name:	Lower Division Clerk 17th August 2019 S1
Subject Name:	LOWER DIVISION CLERK
Creation Date:	2019-08-17 12:26:56
Duration:	120
Total Marks:	200
Display Marks:	Yes
Share Answer Key With Delivery Engine:	No
Actual Answer Key:	Yes
Calculator:	None
Magnifying Glass Required?:	No
Ruler Required?:	No
Eraser Required?:	No
Scratch Pad Required?:	No
Rough Sketch/Notepad Required?:	No
Protractor Required?:	No
Show Watermark on Console?:	Yes
Highlighter:	No
Auto Save on Console?:	No

Mental Ability 1

Group Number :	1
Group Id :	545927271
Group Maximum Duration :	0
Group Minimum Duration :	0
Revisit allowed for view? :	No
Revisit allowed for edit? :	No
Break time:	0
Group Marks:	20
Revisit allowed for group Instructions? :	Yes
Maximum Instruction Time:	0
Minimum Instruction Time:	0

Mental Ability 1

Section Id :	545927271
Section Number :	1
Section type :	Online
Mandatory or Optional:	Mandatory
Number of Questions:	20
Number of Questions to be attempted:	20
Section Marks:	20

Display Number Panel: Yes
Group All Questions: No

Sub-Section Number: 1
Sub-Section Id: 545927325
Question Shuffling Allowed : Yes

Question Number : 1 Question Id : 5459275455 Question Type : MCQ Option Shuffling : Yes Display Question Number : Yes
Single Line Question Option : No Option Orientation : Vertical

Correct Marks : 1 Wrong Marks : 0.25

A series is given with one term missing. Select the correct alternative from the given ones that will complete the series.

E100, G81, J64, N49, ?

Options :

1. ✘ R25
2. ✘ R36
3. ✔ S36
4. ✘ S25

Question Number : 1 Question Id : 5459275455 Question Type : MCQ Option Shuffling : Yes Display Question Number : Yes
Single Line Question Option : No Option Orientation : Vertical

Correct Marks : 1 Wrong Marks : 0.25

एक अनुक्रम दिया गया है, जिसमें से एक पद लुप्त है। दिए गए विकल्पों में से वह सही विकल्प चुनिए, जो अनुक्रम को पूरा करे।

E100, G81, J64, N49, ?

Options :

1. ✘ R25
2. ✘ R36
3. ✔ S36
4. ✘ S25

Question Number : 2 Question Id : 5459275456 Question Type : MCQ Option Shuffling : Yes Display Question Number : Yes
Single Line Question Option : No Option Orientation : Vertical

Correct Marks : 1 Wrong Marks : 0.25

A series is given with one term missing. Select the correct alternative from the given ones that will complete the series.

QXM, SUN, URO, ?

Options :

1. ✘ VOP
2. ✘ WOR
3. ✘ WOQ
4. ✔ WOP

Question Number : 2 Question Id : 5459275456 Question Type : MCQ Option Shuffling : Yes Display Question Number : Yes
Single Line Question Option : No Option Orientation : Vertical

Correct Marks : 1 Wrong Marks : 0.25

एक अनुक्रम दिया गया है, जिसमें से एक पद लुप्त है। दिए गए विकल्पों में से वह सही विकल्प चुनिए, जो अनुक्रम को पूरा करे।

QXM, SUN, URO, ?

Options :

1. ✘ VOP
2. ✘ WOR
3. ✘ WOQ
4. ✔ WOP

Question Number : 3 Question Id : 5459275457 Question Type : MCQ Option Shuffling : Yes Display Question Number : Yes
Single Line Question Option : No Option Orientation : Vertical

Correct Marks : 1 Wrong Marks : 0.25

Arrange the given words in the sequence in which they occur in the dictionary.

1. DAIRY
2. DAMP
3. DWARF
4. DRAFT
5. DRAIN

Options :

1. ✔ 12453
2. ✘ 12435
3. ✘ 12534
4. ✘ 12543

Question Number : 3 Question Id : 5459275457 Question Type : MCQ Option Shuffling : Yes Display Question Number : Yes
Single Line Question Option : No Option Orientation : Vertical

Correct Marks : 1 Wrong Marks : 0.25

निम्नलिखित शब्दों को शब्दकोश में आने वाले क्रम के अनुसार लिखें।

1. DAIRY
2. DAMP
3. DWARF
4. DRAFT
5. DRAIN

Options :

1. ✔ 12453
2. ✘ 12435
3. ✘ 12534
4. ✘ 12543

Question Number : 4 Question Id : 5459275458 Question Type : MCQ Option Shuffling : Yes Display Question Number : Yes
Single Line Question Option : No Option Orientation : Vertical

Correct Marks : 1 Wrong Marks : 0.25

In the following question, select the odd letter /letters from the given alternatives.

Options :

1. ✘ LJH
2. ✔ RPO
3. ✘ NLJ
4. ✘ TRP

Question Number : 4 Question Id : 5459275458 Question Type : MCQ Option Shuffling : Yes Display Question Number : Yes
Single Line Question Option : No Option Orientation : Vertical

Correct Marks : 1 Wrong Marks : 0.25

निम्नलिखित प्रश्न में दिए गए विकल्पों में से विषम अक्षर / अक्षरों को चुनिए।

Options :

1. ✘ LJH
2. ✔ RPO
3. ✘ NLJ
4. ✘ TRP

Question Number : 5 Question Id : 5459275459 Question Type : MCQ Option Shuffling : Yes Display Question Number : Yes
Single Line Question Option : No Option Orientation : Vertical

Correct Marks : 1 Wrong Marks : 0.25

In the following question, select the odd word from the given alternatives.

Options :

1. ✘ Axe
2. ✘ Chisel
3. ✘ Knife
4. ✔ Shoes

Question Number : 5 Question Id : 5459275459 Question Type : MCQ Option Shuffling : Yes Display Question Number : Yes
Single Line Question Option : No Option Orientation : Vertical

Correct Marks : 1 Wrong Marks : 0.25

निम्नलिखित प्रश्न में दिए गए विकल्पों में से विषम शब्द को चुनिए।

Options :

1. ✘ कुल्हाड़ी
2. ✘ छेनी
3. ✘ चाकू
4. ✔ जूते

Question Number : 6 Question Id : 5459275460 Question Type : MCQ Option Shuffling : Yes Display Question Number : Yes
Single Line Question Option : No Option Orientation : Vertical

Correct Marks : 1 Wrong Marks : 0.25

In the following question, four letters pairs are given. The letters on left side of (-) is related to the letters on the right side of (-) with some Logic/Rule/Relation. Three are similar on basis of same Logic/Rule/Relation. Select the odd one out from the given alternatives.

Options :

1. ✘ BE - UZ
2. ✔ PS - JN
3. ✘ RO - KJ
4. ✘ LQ - EL

Question Number : 6 Question Id : 5459275460 Question Type : MCQ Option Shuffling : Yes Display Question Number : Yes
Single Line Question Option : No Option Orientation : Vertical

Correct Marks : 1 Wrong Marks : 0.25

नीचे दिए गए प्रश्न में, चार अक्षर युग्म दिए गए हैं। (-) के बायीं ओर दिये गए अक्षर (-) के दायीं ओर दिये गये अक्षरों संख्या से किसी तर्क/नियम/संबंध से संबंधित है। तीन उसी एक तर्क/नियम/संबंध के आधार पर समान हैं। दिए गए विकल्पों में से विषम को चुनिए।

Options :

1. ✘ BE - UZ
2. ✔ PS - JN

3. ✖ RO - KJ

4. ✖ LQ - EL

Question Number : 7 Question Id : 5459275461 Question Type : MCQ Option Shuffling : Yes Display Question Number : Yes
Single Line Question Option : No Option Orientation : Vertical

Correct Marks : 1 Wrong Marks : 0.25

In the following question, select the related words from the given alternatives.

Animal : Rabbit :: Stationery : ?

Options :

1. ✖ Write

2. ✖ Author

3. ✔ Pen

4. ✖ Black

Question Number : 7 Question Id : 5459275461 Question Type : MCQ Option Shuffling : Yes Display Question Number : Yes
Single Line Question Option : No Option Orientation : Vertical

Correct Marks : 1 Wrong Marks : 0.25

निम्नलिखित प्रश्न में दिए गए विकल्पों में से संबंधित शब्दों को चुनिए।

जानवर : खरगोश :: लेखन-सामग्री : ?

Options :

1. ✖ लिखना

2. ✖ लेखक

3. ✔ कलम

4. ✖ काला

Question Number : 8 Question Id : 5459275462 Question Type : MCQ Option Shuffling : Yes Display Question Number : Yes
Single Line Question Option : No Option Orientation : Vertical

Correct Marks : 1 Wrong Marks : 0.25

In the following question, select the related word pair from the given alternatives.

Doctor : Profession :: ?

Options :

1. ✖ Colour : Red

2. ✖ Paper : White

3. ✔ Hexagon : Figure

4. ✖ Figure : Big

Question Number : 8 Question Id : 5459275462 Question Type : MCQ Option Shuffling : Yes Display Question Number : Yes
Single Line Question Option : No Option Orientation : Vertical

Correct Marks : 1 Wrong Marks : 0.25

निम्नलिखित प्रश्न में दिए गए विकल्पों में से संबंधित शब्द युग्म को चुनिए।

डॉक्टर : व्यवसाय :: ?

Options :

1. ✖ रंग : लाल

2. ✖ कागज़ : सफेद

3. ✔ षट्भुज : आकृति

4. ✖ आकृति : बड़ा

Question Number : 9 Question Id : 5459275463 Question Type : MCQ Option Shuffling : Yes Display Question Number : Yes
Single Line Question Option : No Option Orientation : Vertical

Correct Marks : 1 Wrong Marks : 0.25

In the following question, select the related letters from the given alternatives.

BEGK : ADFJ :: PSVY : ?

Options :

1. ✘ LOQT
2. ✘ ROVX
3. ✘ OTUZ
4. ✔ ORUX

Question Number : 9 Question Id : 5459275463 Question Type : MCQ Option Shuffling : Yes Display Question Number : Yes
Single Line Question Option : No Option Orientation : Vertical

Correct Marks : 1 Wrong Marks : 0.25

निम्नलिखित प्रश्न में दिए गए विकल्पों में से संबंधित अक्षरों को चुनिए।

BEGK : ADFJ :: PSVY : ?

Options :

1. ✘ LOQT
2. ✘ ROVX
3. ✘ OTUZ
4. ✔ ORUX

Question Number : 10 Question Id : 5459275464 Question Type : MCQ Option Shuffling : Yes Display Question Number : Yes
Single Line Question Option : No Option Orientation : Vertical

Correct Marks : 1 Wrong Marks : 0.25

In a certain code language, 'RAT' is written as '78', 'LAP' is written as '58'. What is the code for 'TEN' in that code language?

Options :

1. ✘ 76
2. ✘ 37
3. ✔ 78
4. ✘ 39

Question Number : 10 Question Id : 5459275464 Question Type : MCQ Option Shuffling : Yes Display Question Number : Yes
Single Line Question Option : No Option Orientation : Vertical

Correct Marks : 1 Wrong Marks : 0.25

एक विशिष्ट कोड भाषा में, 'RAT' को '78' लिखा जाता है, 'LAP' को '58' लिखा जाता है। इस कोड भाषा में 'TEN' का कोड क्या है?

Options :

1. ✘ 76
2. ✘ 37
3. ✔ 78
4. ✘ 39

Question Number : 11 Question Id : 5459275465 Question Type : MCQ Option Shuffling : Yes Display Question Number : Yes
Single Line Question Option : No Option Orientation : Vertical

Correct Marks : 1 Wrong Marks : 0.25

In a certain code language, 'Red is heat' is written as 'ip ta km', 'Heat are worm' is written as 'sp uk km', 'Worm are cold' is written as 'sp qm uk'. What is the code for 'Red' in that code language?

Options :

- ✘ ip
- ✘ ta
- ✘ km
- ✔ ip or ta

Question Number : 11 Question Id : 5459275465 Question Type : MCQ Option Shuffling : Yes Display Question Number : Yes
Single Line Question Option : No Option Orientation : Vertical

Correct Marks : 1 Wrong Marks : 0.25

एक विशिष्ट कोड भाषा में, 'Red is heat' को 'ip ta km' लिखा जाता है, 'Heat are worm' को 'sp uk km' लिखा जाता है 'Worm are cold' को 'sp qm uk' लिखा जाता है। इस कोड भाषा में 'Red' का कोड क्या है?

Options :

- ✘ ip
- ✘ ta
- ✘ km
- ✔ ip या ta

Question Number : 12 Question Id : 5459275466 Question Type : MCQ Option Shuffling : Yes Display Question Number : Yes
Single Line Question Option : No Option Orientation : Vertical

Correct Marks : 1 Wrong Marks : 0.25

In a certain code language, 'CHAIR' is written as 'EJCKT'. What is the code for 'MANY' in that code language?

Options :

- ✔ OCPA
- ✘ OBQA
- ✘ OBPA
- ✘ PCPB

Question Number : 12 Question Id : 5459275466 Question Type : MCQ Option Shuffling : Yes Display Question Number : Yes
Single Line Question Option : No Option Orientation : Vertical

Correct Marks : 1 Wrong Marks : 0.25

एक विशिष्ट कोड भाषा में, 'CHAIR' को 'EJCKT' लिखा जाता है। इस कोड भाषा में 'MANY' का कोड क्या है?

Options :

- ✔ OCPA
- ✘ OBQA
- ✘ OBPA
- ✘ PCPB

Question Number : 13 Question Id : 5459275467 Question Type : MCQ Option Shuffling : Yes Display Question Number : Yes
Single Line Question Option : No Option Orientation : Vertical

Correct Marks : 1 Wrong Marks : 0.25

A, B, C, D, E, F and G are sitting round a circular table facing towards the center. Only A is between E and D. Only F is between B and C. B is second to the right of E. Who is sitting to the immediate right of E?

Options :

- ✘ E
- ✘ D
- ✘ F
- ✔ G

Question Number : 13 Question Id : 5459275467 Question Type : MCQ Option Shuffling : Yes Display Question Number : Yes
Single Line Question Option : No Option Orientation : Vertical

Correct Marks : 1 Wrong Marks : 0.25

A, B, C, D, E, F और G केंद्र की ओर मुख करके एक वृत्ताकार मेज़ के इर्द-गिर्द बैठे हुए हैं। E और D के बीच में केवल A है। B और C के बीच में केवल F है। B, E के दायीं ओर दूसरा है। E के तुरंत दायीं ओर कौन बैठा है?

Options :

1. ✘ E
2. ✘ D
3. ✘ F
4. ✔ G

Question Number : 14 Question Id : 5459275468 Question Type : MCQ Option Shuffling : Yes Display Question Number : Yes
Single Line Question Option : No Option Orientation : Vertical

Correct Marks : 1 Wrong Marks : 0.25

Five person are standing in a row facing towards south. One of the two persons standing at the ends of the row is a Scientist and the other is a Teacher. The Merchant is to right of the Teacher. The Doctor is standing between the Scientist and the Model. If the Model and the Teacher interchange their positions, then who will be towards the immediate right of the Model?

Options :

1. ✘ Doctor
2. ✔ Merchant
3. ✘ Teacher
4. ✘ Scientist

Question Number : 14 Question Id : 5459275468 Question Type : MCQ Option Shuffling : Yes Display Question Number : Yes
Single Line Question Option : No Option Orientation : Vertical

Correct Marks : 1 Wrong Marks : 0.25

पांच व्यक्ति दक्षिण की ओर मुख कर एक पंक्ति में खड़े हैं। पंक्ति के सिरों पर खड़े हुए दोनों व्यक्तियों में से एक वैज्ञानिक है और दूसरा एक शिक्षक है। व्यापारी, शिक्षक के दायीं ओर है। डॉक्टर, वैज्ञानिक और मॉडल के बीच में खड़ा है। यदि मॉडल तथा शिक्षक अपना स्थान आपस में परस्पर बदल लेते हैं, तो मॉडल के तुरंत दायीं ओर कौन होगा?

Options :

1. ✘ डॉक्टर
2. ✔ व्यापारी
3. ✘ शिक्षक
4. ✘ वैज्ञानिक

Question Number : 15 Question Id : 5459275469 Question Type : MCQ Option Shuffling : Yes Display Question Number : Yes
Single Line Question Option : No Option Orientation : Vertical

Correct Marks : 1 Wrong Marks : 0.25

P is taller than Q but shorter than R. S is shorter than Q. T is shorter than Q but taller than S.
Who is the third tallest?

Options :

1. ✘ P
2. ✘ S
3. ✔ Q
4. ✘ T

Question Number : 15 Question Id : 5459275469 Question Type : MCQ Option Shuffling : Yes Display Question Number : Yes
Single Line Question Option : No Option Orientation : Vertical

Correct Marks : 1 Wrong Marks : 0.25

P, Q से लंबा है, लेकिन R से छोटा है S, Q से छोटा है T, Q से छोटा है, लेकिन S से लंबा है तीसरा सबसे लंबा कौन है?

Options :

- ✗ P
- ✗ S
- ✓ Q
- ✗ T

Question Number : 16 Question Id : 5459275470 Question Type : MCQ Option Shuffling : Yes Display Question Number : Yes Single Line Question Option : No Option Orientation : Vertical

Correct Marks : 1 Wrong Marks : 0.25

A, B, C, D, E and F are six students. Among them, E is taller than C. D is taller than B. E is shorter than F. A is shorter than B. D is shorter than C. If the height of E is 156 cm, then which of the following cannot be the heights of B and F respectively in cm?

Options :

- ✗ 134, 160
- ✓ 151, 154
- ✗ 150, 158
- ✗ 114, 172

Question Number : 16 Question Id : 5459275470 Question Type : MCQ Option Shuffling : Yes Display Question Number : Yes Single Line Question Option : No Option Orientation : Vertical

Correct Marks : 1 Wrong Marks : 0.25

A, B, C, D, E, और F छः छात्र हैं उनमें से, E, C से लंबा है D, B से लंबा है E, F से छोटा है A, B से छोटा है D, C से छोटा है यदि E की ऊँचाई 156 से.मी. है, तो निम्नलिखित में से कौन सी क्रमशः B तथा F की ऊँचाईयाँ से.मी. में नहीं हो सकती है?

Options :

- ✗ 134, 160
- ✓ 151, 154
- ✗ 150, 158
- ✗ 114, 172

Question Number : 17 Question Id : 5459275471 Question Type : MCQ Option Shuffling : Yes Display Question Number : Yes Single Line Question Option : No Option Orientation : Vertical

Correct Marks : 1 Wrong Marks : 0.25

Five students A, B, C, D and E study in a class. A and B study Biology and Physics both. C and D study Biology and Chemistry both. D and A study Mathematics and Physics both. E and B study Botany and Zoology both. E and D study Biology and Chemistry both. Which subject is studied by maximum number of students?

Options :

- ✗ Physics
- ✗ Chemistry
- ✓ Biology
- ✗ Mathematics

Question Number : 17 Question Id : 5459275471 Question Type : MCQ Option Shuffling : Yes Display Question Number : Yes Single Line Question Option : No Option Orientation : Vertical

Correct Marks : 1 Wrong Marks : 0.25

एक कक्षा में पाँच छात्र A, B, C, D और E पढ़ते हैं। A और B जीवविज्ञान और भौतिकी दोनों पढ़ते हैं। C और D जीवविज्ञान और रसायन विज्ञान दोनों पढ़ते हैं। D और A गणित और भौतिकी दोनों पढ़ते हैं। E और B वनस्पति विज्ञान और जूलॉजी दोनों पढ़ते हैं। E तथा D जीवविज्ञान और रसायन विज्ञान दोनों पढ़ते हैं। कौन सा विषय अधिकतम छात्रों द्वारा पढ़ा गया है?

Options :

1. ✘ भौतिकी
2. ✘ रसायन विज्ञान
3. ✔ जीवविज्ञान
4. ✘ गणित

Question Number : 18 Question Id : 5459275472 Question Type : MCQ Option Shuffling : Yes Display Question Number : Yes Single Line Question Option : No Option Orientation : Vertical

Correct Marks : 1 Wrong Marks : 0.25

In the following question below are given some statements followed by some conclusions based on those statements. Taking the given statements to be true even if they seem to be at variance from commonly known facts. Read all the conclusions and then decide which of the given conclusion logically follows the given statements.

Statements:

- I. Some tables are chairs.
- II. All chairs are pens.

Conclusions:

- I. Some tables are pens.
- II. All pens are chairs.

Options :

1. ✔ Only conclusion I follow
2. ✘ Only conclusion II follow
3. ✘ Both conclusion I and II follow
4. ✘ Neither conclusion follow

Question Number : 18 Question Id : 5459275472 Question Type : MCQ Option Shuffling : Yes Display Question Number : Yes Single Line Question Option : No Option Orientation : Vertical

Correct Marks : 1 Wrong Marks : 0.25

नीचे दिए गए प्रश्न में कुछ कथन और उनके बाद उन कथनों पर आधारित कुछ निष्कर्ष दिए गए हैं। दिए गए कथनों को सही माने, चाहे उनमें सामान्य ज्ञात तथ्यों से भिन्नता हो। सभी निष्कर्ष पढ़ें और फिर निर्धारित करें कि दिए गए कौन से निष्कर्ष, दिए गए कथनों के आधार पर युक्तिसंगत हैं।

कथन:

- I. कुछ मेज कुर्सियाँ हैं।
- II. सभी कुर्सियाँ कलम हैं।

निष्कर्ष:

- I. कुछ मेज कलम हैं।
- II. सभी कलम कुर्सियाँ हैं।

Options :

1. ✔ केवल निष्कर्ष I अनुसरण करता है
2. ✘ केवल निष्कर्ष II अनुसरण करता है
3. ✘ दोनों निष्कर्ष I तथा II अनुसरण करते हैं
4. ✘ कोई भी निष्कर्ष अनुसरण नहीं करता है

Question Number : 19 Question Id : 5459275473 Question Type : MCQ Option Shuffling : Yes Display Question Number : Yes Single Line Question Option : No Option Orientation : Vertical

Correct Marks : 1 Wrong Marks : 0.25

In the following question below are given some statements followed by some conclusions based on those statements. Taking the given statements to be true even if they seem to be at variance from commonly known facts. Read all the conclusions and then decide which of the given conclusion logically follows the given statements.

Statements:

- I. All pens are pencils.
- II. All pencils are cups.
- III. Some cups are chairs.

Conclusions:

- I. Some chairs are pens.
- II. Some pens are cups.
- III. Some pencils are chairs

Options :

1. ✓ Only conclusion II follow
2. ✗ Both conclusion II and III follow
3. ✗ Only conclusion III follow
4. ✗ Neither conclusion follow

Question Number : 19 Question Id : 5459275473 Question Type : MCQ Option Shuffling : Yes Display Question Number : Yes
Single Line Question Option : No Option Orientation : Vertical

Correct Marks : 1 Wrong Marks : 0.25

नीचे दिए गए प्रश्न में कुछ कथन और उनके बाद उन कथनों पर आधारित कुछ निष्कर्ष दिए गए हैं। दिए गए कथनों को सही माने, चाहे उनमें सामान्य ज्ञात तथ्यों से भिन्नता हो। सभी निष्कर्ष पढ़ें और फिर निर्धारित करें कि दिए गए कौन से निष्कर्ष, दिए गए कथनों के आधार पर युक्तिसंगत हैं।

कथन:

- I. सभी कलम पेंसिल हैं।
- II. सभी पेंसिल कप हैं।
- III. कुछ कप कुर्सियां हैं।

निष्कर्ष:

- I. कुछ कुर्सियां कलम हैं।
- II. कुछ कलम कप हैं।
- III. कुछ पेंसिल कुर्सियां हैं।

Options :

1. ✓ केवल निष्कर्ष II अनुसरण करता है
2. ✗ दोनों निष्कर्ष II तथा III अनुसरण करते हैं
3. ✗ केवल निष्कर्ष III अनुसरण करता है
4. ✗ कोई भी निष्कर्ष अनुसरण नहीं करता है

Question Number : 20 Question Id : 5459275474 Question Type : MCQ Option Shuffling : Yes Display Question Number : Yes
Single Line Question Option : No Option Orientation : Vertical

Correct Marks : 1 Wrong Marks : 0.25

In the following question, select the missing number from the given series.

7, 15, 29, 59, 117, ?

Options :

1. ✗ 230
2. ✓ 235
3. ✗ 239
4. ✗ 241

Question Number : 20 Question Id : 5459275474 Question Type : MCQ Option Shuffling : Yes Display Question Number : Yes
Single Line Question Option : No Option Orientation : Vertical

Correct Marks : 1 Wrong Marks : 0.25

निम्नलिखित प्रश्न में दी गई श्रृंखला में से लुप्त अंक ज्ञात कीजिए।

7, 15, 29, 59, 117, ?

Options :

1. ✘ 230

2. ✔ 235

3. ✘ 239

4. ✘ 241

Mental Ability2

Group Number :	2
Group Id :	545927272
Group Maximum Duration :	0
Group Minimum Duration :	0
Revisit allowed for view? :	No
Revisit allowed for edit? :	No
Break time:	0
Group Marks:	20
Revisit allowed for group Instructions? :	Yes
Maximum Instruction Time:	0
Minimum Instruction Time:	0

Mental Ability2

Section Id :	545927272
Section Number :	1
Section type :	Online
Mandatory or Optional:	Mandatory
Number of Questions:	20
Number of Questions to be attempted:	20
Section Marks:	20
Display Number Panel:	Yes
Group All Questions:	No

Sub-Section Number:	1
Sub-Section Id:	545927326
Question Shuffling Allowed :	Yes

Question Number : 21 Question Id : 5459275475 Question Type : MCQ Option Shuffling : Yes Display Question Number : Yes
Single Line Question Option : No Option Orientation : Vertical

Correct Marks : 1 Wrong Marks : 0.25

In the following question, select the related number from the given alternatives.

13 : 2210 :: 15 : ?

Options :

1. ✘ 3350

2. ✖ 1340

3. ✔ 3390

4. ✖ 1390

Question Number : 21 Question Id : 5459275475 Question Type : MCQ Option Shuffling : Yes Display Question Number : Yes
Single Line Question Option : No Option Orientation : Vertical

Correct Marks : 1 Wrong Marks : 0.25

निम्नलिखित प्रश्न में दिए गए विकल्पों में से संबंधित संख्या को चुनिए।

13 : 2210 :: 15 : ?

Options :

1. ✖ 3350

2. ✖ 1340

3. ✔ 3390

4. ✖ 1390

Question Number : 22 Question Id : 5459275476 Question Type : MCQ Option Shuffling : Yes Display Question Number : Yes
Single Line Question Option : No Option Orientation : Vertical

Correct Marks : 1 Wrong Marks : 0.25

In the following question, select the number which can be placed at the sign of question mark (?) from the given alternatives.

7	3	11
9	6	5
5	8	4
44	30	?

Options :

1. ✖ 50

2. ✖ 52

3. ✔ 49

4. ✖ 47

Question Number : 22 Question Id : 5459275476 Question Type : MCQ Option Shuffling : Yes Display Question Number : Yes
Single Line Question Option : No Option Orientation : Vertical

Correct Marks : 1 Wrong Marks : 0.25

निम्नलिखित प्रश्न में दिए गए विकल्पों में से प्रश्न चिन्ह (?) के स्थान पर आने वाली संख्या को चुनिए।

7	3	11
9	6	5
5	8	4
44	30	?

Options :

1. ✖ 50

2. ✖ 52

3. ✔ 49

4. ✖ 47

Question Number : 23 Question Id : 5459275477 Question Type : MCQ Option Shuffling : Yes Display Question Number : Yes
Single Line Question Option : No Option Orientation : Vertical

Correct Marks : 1 Wrong Marks : 0.25

In the following question, select the number which can be placed at the sign of question mark (?) from the given alternatives.

11	7
5	6

8	9
7	5

12	7
3	?

Options :

- ✘ 4
- ✘ 5
- ✘ 6
- ✔ 7

Question Number : 23 Question Id : 5459275477 Question Type : MCQ Option Shuffling : Yes Display Question Number : Yes
Single Line Question Option : No Option Orientation : Vertical

Correct Marks : 1 Wrong Marks : 0.25

निम्नलिखित प्रश्न में दिए गए विकल्पों में से प्रश्न चिन्ह (?) के स्थान पर आने वाली संख्या को चुनिए।

11	7
5	6

8	9
7	5

12	7
3	?

Options :

- ✘ 4
- ✘ 5
- ✘ 6
- ✔ 7

Question Number : 24 Question Id : 5459275478 Question Type : MCQ Option Shuffling : Yes Display Question Number : Yes
Single Line Question Option : No Option Orientation : Vertical

Correct Marks : 1 Wrong Marks : 0.25

If $a*b*c = ab + bc$, then what is the value of $(3 * 4 * 6) + (2 * 7 * 9)$?

Options :

- ✔ 113
- ✘ 119
- ✘ 203
- ✘ 209

Question Number : 24 Question Id : 5459275478 Question Type : MCQ Option Shuffling : Yes Display Question Number : Yes
Single Line Question Option : No Option Orientation : Vertical

Correct Marks : 1 Wrong Marks : 0.25

यदि $a*b*c = ab + bc$ है, तो $(3 * 4 * 6) + (2 * 7 * 9)$ का मान क्या है?

Options :

- ✔ 113
- ✘ 119
- ✘ 203
- ✘ 209

Question Number : 25 Question Id : 5459275479 Question Type : MCQ Option Shuffling : Yes Display Question Number : Yes
Single Line Question Option : No Option Orientation : Vertical

Correct Marks : 1 Wrong Marks : 0.25

In the following question, four number pairs are given. The number on left side of (-) is related to the number on the right side of (-) with some Logic/Rule/Relation. Three are similar on basis of same Logic/Rule/Relation. Select the odd one out from the given alternatives.

Options :

1. ✘ 125 - 150
2. ✘ 113 - 122
3. ✔ 119 - 128
4. ✘ 115 - 140

Question Number : 25 Question Id : 5459275479 Question Type : MCQ Option Shuffling : Yes Display Question Number : Yes
Single Line Question Option : No Option Orientation : Vertical

Correct Marks : 1 Wrong Marks : 0.25

नीचे दिए गए प्रश्न में, चार संख्या युग्म दिए गए हैं (-) के बायीं ओर दी गई संख्या (-) के दायीं ओर दी गई संख्या से किसी तर्क/नियम/संबंध से संबंधित है। तीन उसी एक तर्क/नियम/संबंध के आधार पर समान हैं। दिए गए विकल्पों में से विषम को चुनिए।

Options :

1. ✘ 125 - 150
2. ✘ 113 - 122
3. ✔ 119 - 128
4. ✘ 115 - 140

Question Number : 26 Question Id : 5459275480 Question Type : MCQ Option Shuffling : Yes Display Question Number : Yes
Single Line Question Option : No Option Orientation : Vertical

Correct Marks : 1 Wrong Marks : 0.25

In the following question, select the missing number from the given series.

13, 17, 25, 34, 61, 77, ?

Options :

1. ✘ 140
2. ✔ 141
3. ✘ 151
4. ✘ 152

Question Number : 26 Question Id : 5459275480 Question Type : MCQ Option Shuffling : Yes Display Question Number : Yes
Single Line Question Option : No Option Orientation : Vertical

Correct Marks : 1 Wrong Marks : 0.25

निम्नलिखित प्रश्न में दी गई श्रृंखला में से लुप्त अंक ज्ञात कीजिए।

13, 17, 25, 34, 61, 77, ?

Options :

1. ✘ 140
2. ✔ 141
3. ✘ 151
4. ✘ 152

Question Number : 27 Question Id : 5459275481 Question Type : MCQ Option Shuffling : Yes Display Question Number : Yes
Single Line Question Option : No Option Orientation : Vertical

Correct Marks : 1 Wrong Marks : 0.25

In the following question, select the number which can be placed at the sign of question mark (?) from the given alternatives.

3	6	7	60
8	5	11	?
9	4	8	68

Options :

- ✘ 75
- ✘ 105
- ✘ 85
- ✔ 95

Question Number : 27 Question Id : 5459275481 Question Type : MCQ Option Shuffling : Yes Display Question Number : Yes Single Line Question Option : No Option Orientation : Vertical

Correct Marks : 1 Wrong Marks : 0.25

निम्नलिखित प्रश्न में दिए गए विकल्पों में से प्रश्न चिन्ह (?) के स्थान पर आने वाली संख्या को चुनिए

3	6	7	60
8	5	11	?
9	4	8	68

Options :

- ✘ 75
- ✘ 105
- ✘ 85
- ✔ 95

Question Number : 28 Question Id : 5459275482 Question Type : MCQ Option Shuffling : Yes Display Question Number : Yes Single Line Question Option : No Option Orientation : Vertical

Correct Marks : 1 Wrong Marks : 0.25

In the following question, select the related number from the given alternatives.

217642 : 139 :: 518624 : ?

Options :

- ✘ 191
- ✘ 221
- ✘ 231
- ✔ 161

Question Number : 28 Question Id : 5459275482 Question Type : MCQ Option Shuffling : Yes Display Question Number : Yes Single Line Question Option : No Option Orientation : Vertical

Correct Marks : 1 Wrong Marks : 0.25

निम्नलिखित प्रश्न में दिए गए विकल्पों में से संबंधित संख्या को चुनिए

217642 : 139 :: 518624 : ?

Options :

- ✘ 191

- 2. ✘ 221
- 3. ✘ 231
- 4. ✔ 161

Question Number : 29 Question Id : 5459275483 Question Type : MCQ Option Shuffling : Yes Display Question Number : Yes
Single Line Question Option : No Option Orientation : Vertical

Correct Marks : 1 Wrong Marks : 0.25

In the following question, select the missing number from the given series.

2, 10, 30, 68, ?

Options :

- 1. ✘ 115
- 2. ✘ 105
- 3. ✔ 130
- 4. ✘ 175

Question Number : 29 Question Id : 5459275483 Question Type : MCQ Option Shuffling : Yes Display Question Number : Yes
Single Line Question Option : No Option Orientation : Vertical

Correct Marks : 1 Wrong Marks : 0.25

निम्नलिखित प्रश्न में दी गई श्रृंखला में से लुप्त अंक ज्ञात कीजिए

2, 10, 30, 68, ?

Options :

- 1. ✘ 115
- 2. ✘ 105
- 3. ✔ 130
- 4. ✘ 175

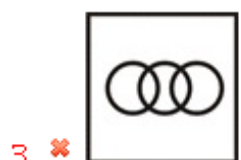
Question Number : 30 Question Id : 5459275484 Question Type : MCQ Option Shuffling : Yes Display Question Number : Yes
Single Line Question Option : No Option Orientation : Vertical

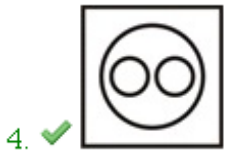
Correct Marks : 1 Wrong Marks : 0.25

Identify the diagram that best represents the relationship among the given classes.

Rose, Lotus, Flower

Options :





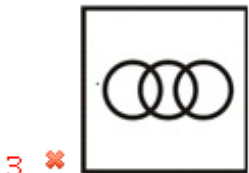
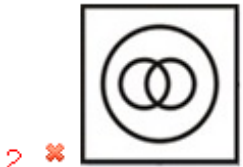
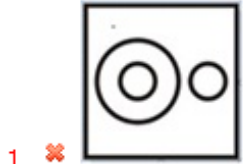
Question Number : 30 Question Id : 5459275484 Question Type : MCQ Option Shuffling : Yes Display Question Number : Yes
Single Line Question Option : No Option Orientation : Vertical

Correct Marks : 1 Wrong Marks : 0.25

वह आरेख चुनिए जो नीचे दिए गए वर्गों के बीच के संबंध का सही निरूपण करता है।

गुलाब, कमल, फूल

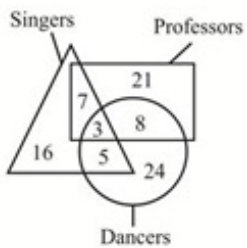
Options :



Question Number : 31 Question Id : 5459275485 Question Type : MCQ Option Shuffling : Yes Display Question Number : Yes
Single Line Question Option : No Option Orientation : Vertical

Correct Marks : 1 Wrong Marks : 0.25

In the given figure, how many professors are singers but not dancers?



Options :

1. ✓ 7

2. ✗ 3

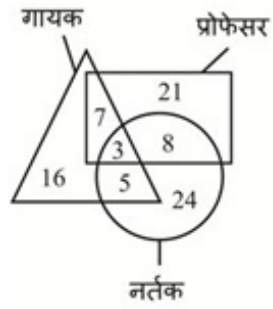
3. ✗ 5

4. ✗ 8

Question Number : 31 Question Id : 5459275485 Question Type : MCQ Option Shuffling : Yes Display Question Number : Yes
Single Line Question Option : No Option Orientation : Vertical

Correct Marks : 1 Wrong Marks : 0.25

दी गई आकृति में कितने प्रोफेसर गायक हैं, लेकिन नर्तक नहीं हैं?



Options :

- ✓ 7
- ✗ 3
- ✗ 5
- ✗ 8

Question Number : 32 Question Id : 5459275486 Question Type : MCQ Option Shuffling : Yes Display Question Number : Yes
Single Line Question Option : No Option Orientation : Vertical

Correct Marks : 1 Wrong Marks : 0.25

Kishore walked 12 km towards east from a point A. After turning right he walked 9 km. Now he turned towards west and walked 3 km. Finally he turned right and walked 9 km. How far is Kishore from point A?

Options :

- ✓ 9 km
- ✗ 14 km
- ✗ 13 km
- ✗ 15 km

Question Number : 32 Question Id : 5459275486 Question Type : MCQ Option Shuffling : Yes Display Question Number : Yes
Single Line Question Option : No Option Orientation : Vertical

Correct Marks : 1 Wrong Marks : 0.25

किशोर एक बिंदु A से 12 कि.मी. पूर्व की ओर चला दायें मुड़ने के बाद वह 9 कि.मी. चला अब वह पश्चिम की ओर मुड़ा तथा 3 कि.मी. चला अंततः वह दायीं ओर मुड़ा तथा 9 कि.मी. चला किशोर बिंदु A से कितनी दूर है?

Options :

- ✓ 9 कि.मी.
- ✗ 14 कि.मी.
- ✗ 13 कि.मी.
- ✗ 15 कि.मी.

Question Number : 33 Question Id : 5459275487 Question Type : MCQ Option Shuffling : Yes Display Question Number : Yes
Single Line Question Option : No Option Orientation : Vertical

Correct Marks : 1 Wrong Marks : 0.25

Rohit walks 5 km towards south. Then he walks 9 km towards north. He finally walks 3 km towards west. How far (straight line distance) and in which direction is he now from his starting point?

Options :

- ✗ 5 km, South-west
- ✗ 4 km, North-east

3. ✓ 5 km, North-west

4. ✗ 4 km, North-west

Question Number : 33 Question Id : 5459275487 Question Type : MCQ Option Shuffling : Yes Display Question Number : Yes
Single Line Question Option : No Option Orientation : Vertical

Correct Marks : 1 Wrong Marks : 0.25

रोहित दक्षिण की ओर 5 कि.मी. चलता है। फिर वह 9 कि.मी. उत्तर की ओर चलता है। अंततः वह पश्चिम की ओर 3 किमी चलता है। वह अपने प्रारंभिक बिंदु से अब कितनी दूर (सीधी रेखा दूरी) और किस दिशा में है?

Options :

1. ✗ 5 कि.मी., दक्षिण-पश्चिम

2. ✗ 4 कि.मी., उत्तर-पूर्व

3. ✓ 5 कि.मी., उत्तर-पश्चिम

4. ✗ 4 कि.मी., उत्तर-पश्चिम

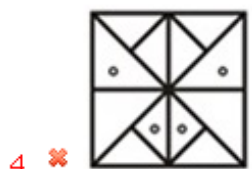
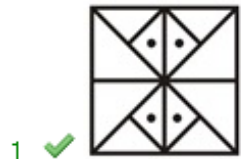
Question Number : 34 Question Id : 5459275488 Question Type : MCQ Option Shuffling : Yes Display Question Number : Yes
Single Line Question Option : No Option Orientation : Vertical

Correct Marks : 1 Wrong Marks : 0.25

In the following question, select the figure which can be placed at the sign of question mark (?) from the given alternatives.



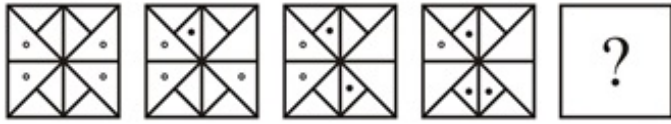
Options :



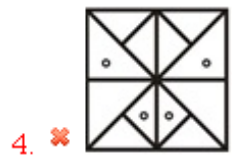
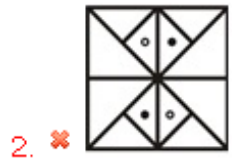
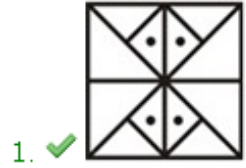
Question Number : 34 Question Id : 5459275488 Question Type : MCQ Option Shuffling : Yes Display Question Number : Yes
Single Line Question Option : No Option Orientation : Vertical

Correct Marks : 1 Wrong Marks : 0.25

निम्नलिखित प्रश्न में दिए गए विकल्पों में से प्रश्न चिन्ह (?) के स्थान पर आने वाली आकृति को चुनिए।



Options :



Question Number : 35 Question Id : 5459275489 Question Type : MCQ Option Shuffling : Yes Display Question Number : Yes Single Line Question Option : No Option Orientation : Vertical

Correct Marks : 1 Wrong Marks : 0.25

In the following question, select the odd figure from the given alternatives.

Options :



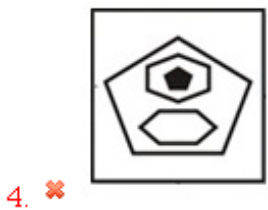



Question Number : 35 Question Id : 5459275489 Question Type : MCQ Option Shuffling : Yes Display Question Number : Yes
Single Line Question Option : No Option Orientation : Vertical

Correct Marks : 1 Wrong Marks : 0.25

निम्नलिखित प्रश्न में दिए गए विकल्पों में से विषम आकृति को चुनिए।

Options :



Question Number : 36 Question Id : 5459275490 Question Type : MCQ Option Shuffling : Yes Display Question Number : Yes
Single Line Question Option : No Option Orientation : Vertical

Correct Marks : 1 Wrong Marks : 0.25

In the following question, select the wrong figure from the given series.



Options :



2. ✘

R	A
M	S

3. ✘

M	R
S	A

4. ✔

M	S
A	R

Question Number : 36 Question Id : 5459275490 Question Type : MCQ Option Shuffling : Yes Display Question Number : Yes Single Line Question Option : No Option Orientation : Vertical

Correct Marks : 1 Wrong Marks : 0.25

निम्नलिखित प्रश्न में, दी गयी श्रृंखला में से गलत आकृति को चुनिए

M	R
S	A

R	A
M	S

A	S
R	M

M	S
A	R

M	R
S	A

Options :

1. ✘

M	R
S	A

2. ✘

R	A
M	S

3. ✘

A	S
R	M

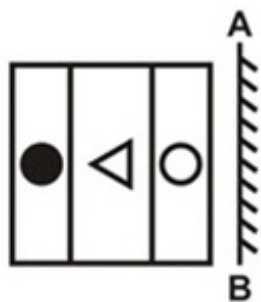
4. ✔

M	S
A	R

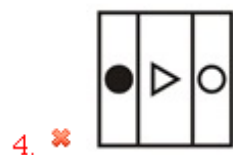
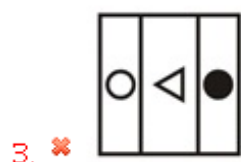
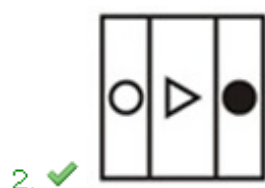
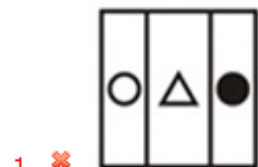
Question Number : 37 Question Id : 5459275491 Question Type : MCQ Option Shuffling : Yes Display Question Number : Yes Single Line Question Option : No Option Orientation : Vertical

Correct Marks : 1 Wrong Marks : 0.25

If a mirror is placed on the line AB, then which of the answer figures is the right image of the given figure?



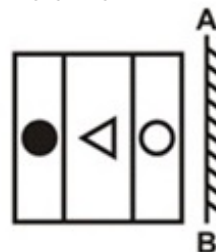
Options :



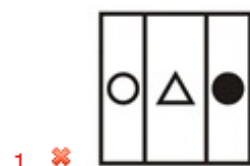
Question Number : 37 Question Id : 5459275491 Question Type : MCQ Option Shuffling : Yes Display Question Number : Yes Single Line Question Option : No Option Orientation : Vertical

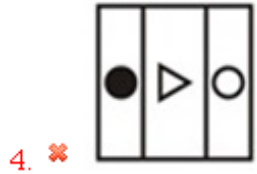
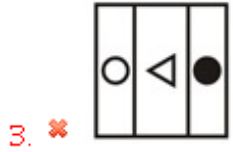
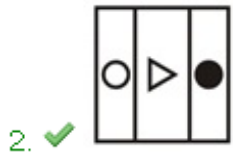
Correct Marks : 1 Wrong Marks : 0.25

यदि एक दर्पण को AB रेखा पर रखा जाए, तो दी गई उत्तर आकृतियों में से कौन सी आकृति प्रश्न आकृति की सही प्रतिबिंब होगी?



Options :






Question Number : 38 Question Id : 5459275492 Question Type : MCQ Option Shuffling : Yes Display Question Number : Yes
 Single Line Question Option : No Option Orientation : Vertical

Correct Marks : 1 Wrong Marks : 0.25

If a mirror is placed on the line AB, then which of the answer figures is the right image of the given figure?



Options :





4. ✘

Question Number : 38 Question Id : 5459275492 Question Type : MCQ Option Shuffling : Yes Display Question Number : Yes Single Line Question Option : No Option Orientation : Vertical

Correct Marks : 1 Wrong Marks : 0.25

यदि एक दर्पण को AB रेखा पर रखा जाए, तो दी गई उत्तर आकृतियों में से कौन सी आकृति प्रश्न आकृति की सही प्रतिबिंब होगी?

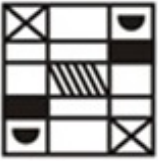


A  B

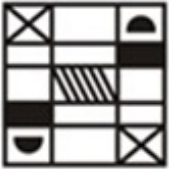
Options :



1. ✘



2. ✘



3. ✔



4. ✘

Question Number : 39 Question Id : 5459275493 Question Type : MCQ Option Shuffling : Yes Display Question Number : Yes Single Line Question Option : No Option Orientation : Vertical

Correct Marks : 1 Wrong Marks : 0.25

How many triangles are in the given figure?



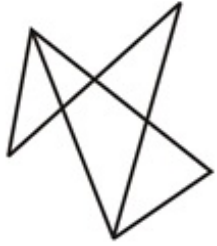
Options :

- ✘ 6
- ✘ 7
- ✔ 8
- ✘ 9

Question Number : 39 Question Id : 5459275493 Question Type : MCQ Option Shuffling : Yes Display Question Number : Yes
Single Line Question Option : No Option Orientation : Vertical

Correct Marks : 1 Wrong Marks : 0.25

दी गयी आकृति में कितने त्रिभुज हैं?



Options :

- ✘ 6
- ✘ 7
- ✔ 8
- ✘ 9

Question Number : 40 Question Id : 5459275494 Question Type : MCQ Option Shuffling : Yes Display Question Number : Yes
Single Line Question Option : No Option Orientation : Vertical

Correct Marks : 1 Wrong Marks : 0.25

Three positions of a dice are given below. What will come opposite to the face containing 'C'?



Options :

- ✘ K
- ✘ F
- ✔ D
- ✘ B

Question Number : 40 Question Id : 5459275494 Question Type : MCQ Option Shuffling : Yes Display Question Number : Yes
Single Line Question Option : No Option Orientation : Vertical

Correct Marks : 1 Wrong Marks : 0.25

नीचे एक पासे की तीन अवस्थाएँ दी गयी हैं। 'C' युक्त फलक के विपरीत क्या आएगा?



Options :

- ✘ K
- ✘ F

3. ✓ D

4. ✗ B

General Awareness1

Group Number :	3
Group Id :	545927273
Group Maximum Duration :	0
Group Minimum Duration :	0
Revisit allowed for view? :	No
Revisit allowed for edit? :	No
Break time:	0
Group Marks:	20
Revisit allowed for group Instructions? :	Yes
Maximum Instruction Time:	0
Minimum Instruction Time:	0

General Awareness1

Section Id :	545927273
Section Number :	1
Section type :	Online
Mandatory or Optional:	Mandatory
Number of Questions:	20
Number of Questions to be attempted:	20
Section Marks:	20
Display Number Panel:	Yes
Group All Questions:	No

Sub-Section Number:	1
Sub-Section Id:	545927327
Question Shuffling Allowed :	Yes

Question Number : 41 Question Id : 5459275495 Question Type : MCQ Option Shuffling : Yes Display Question Number : Yes
Single Line Question Option : No Option Orientation : Vertical

Correct Marks : 1 Wrong Marks : 0.25

Which of the following pair of state - dance styles is NOT correct?

Options :

1. ✗ Rajasthan-Suisini
2. ✗ Tamil Nadu- Bharatanatyam
3. ✓ Tripura- Raslila
4. ✗ Punjab- Bhangra

Question Number : 41 Question Id : 5459275495 Question Type : MCQ Option Shuffling : Yes Display Question Number : Yes
Single Line Question Option : No Option Orientation : Vertical

Correct Marks : 1 Wrong Marks : 0.25

निम्नलिखित में से राज्य - नृत्य शैली का कौन सा युग्म सही नहीं है?

Options :

1. ✗ राजस्थान-सुइसिनी

2. ✘ तमिलनाडु- भरतनाच्यम

3. ✔ त्रिपुरा- रासलीला

4. ✘ पंजाब- भांगड़ा

Question Number : 42 Question Id : 5459275496 Question Type : MCQ Option Shuffling : Yes Display Question Number : Yes
Single Line Question Option : No Option Orientation : Vertical

Correct Marks : 1 Wrong Marks : 0.25

In which city is the Kashi Vishwanath temple situated?

Options :

1. ✘ Chennai

2. ✘ Dehradun

3. ✔ Varanasi

4. ✘ New Delhi

Question Number : 42 Question Id : 5459275496 Question Type : MCQ Option Shuffling : Yes Display Question Number : Yes
Single Line Question Option : No Option Orientation : Vertical

Correct Marks : 1 Wrong Marks : 0.25

काशी विश्वनाथ मंदिर किस शहर में स्थित है?

Options :

1. ✘ चेन्नई

2. ✘ देहरादून

3. ✔ वाराणसी

4. ✘ नई दिल्ली

Question Number : 43 Question Id : 5459275497 Question Type : MCQ Option Shuffling : Yes Display Question Number : Yes
Single Line Question Option : No Option Orientation : Vertical

Correct Marks : 1 Wrong Marks : 0.25

The Nabakalebara festival is celebrated in the _____ temple.

Options :

1. ✔ Jagannath

2. ✘ Kashi Vishwanath

3. ✘ Meenakshi

4. ✘ Konark

Question Number : 43 Question Id : 5459275497 Question Type : MCQ Option Shuffling : Yes Display Question Number : Yes
Single Line Question Option : No Option Orientation : Vertical

Correct Marks : 1 Wrong Marks : 0.25

नवकलेवर उत्सव _____ मंदिर में मनाया जाता है।

Options :

1. ✔ जगन्नाथ

2. ✘ काशी विश्वनाथ

3. ✘ मीनाक्षी

4. ✘ कोणार्क

Question Number : 44 Question Id : 5459275498 Question Type : MCQ Option Shuffling : Yes Display Question Number : Yes
Single Line Question Option : No Option Orientation : Vertical

Correct Marks : 1 Wrong Marks : 0.25

Hojagiri dance form is associated with which state?

Options :

- ✘ Mizoram
- ✔ Tripura
- ✘ Jharkhand
- ✘ Tamil Nadu

Question Number : 44 Question Id : 5459275498 Question Type : MCQ Option Shuffling : Yes Display Question Number : Yes
Single Line Question Option : No Option Orientation : Vertical

Correct Marks : 1 Wrong Marks : 0.25

होजागिरि नृत्य किस राज्य से संबंधित है?

Options :

- ✘ मिजोरम
- ✔ त्रिपुरा
- ✘ झारखंड
- ✘ तमिलनाडु

Question Number : 45 Question Id : 5459275499 Question Type : MCQ Option Shuffling : Yes Display Question Number : Yes
Single Line Question Option : No Option Orientation : Vertical

Correct Marks : 1 Wrong Marks : 0.25

In Interim Budget 2019-20, the government has announced formation of which new portal?

Options :

- ✘ New Artificial Portal
- ✘ National Science Portal
- ✔ National Artificial Intelligence Portal
- ✘ National Technology Portal

Question Number : 45 Question Id : 5459275499 Question Type : MCQ Option Shuffling : Yes Display Question Number : Yes
Single Line Question Option : No Option Orientation : Vertical

Correct Marks : 1 Wrong Marks : 0.25

अंतरिम बजट 2019-20 में सरकार ने किस नए पोर्टल के गठन की घोषणा की है?

Options :

- ✘ न्यू आर्टिफिशियल पोर्टल
- ✘ नेशनल साइंस पोर्टल
- ✔ नेशनल आर्टिफिशियल इंटेलिजेंस पोर्टल
- ✘ नेशनल टेक्नोलॉजी पोर्टल

Question Number : 46 Question Id : 5459275500 Question Type : MCQ Option Shuffling : Yes Display Question Number : Yes
Single Line Question Option : No Option Orientation : Vertical

Correct Marks : 1 Wrong Marks : 0.25

Which of the following contributes to GDP?

- I. Agriculture
- II. Industries
- III. Services

Options :

- ✘ I and II
- ✘ II and III
- ✘ I and III
- ✔ I, II and III

Question Number : 46 Question Id : 5459275500 Question Type : MCQ Option Shuffling : Yes Display Question Number : Yes
Single Line Question Option : No Option Orientation : Vertical

Correct Marks : 1 Wrong Marks : 0.25

निम्न में से क्या जीडीपी में योगदान देता है?

- I. कृषि
- II. उद्योग
- III. सेवाएँ

Options :

1. ✘ I तथा II
2. ✘ II तथा III
3. ✘ I तथा III
4. ✔ I, II तथा III

Question Number : 47 Question Id : 5459275501 Question Type : MCQ Option Shuffling : Yes Display Question Number : Yes
Single Line Question Option : No Option Orientation : Vertical

Correct Marks : 1 Wrong Marks : 0.25

Annual Financial Statement, presented by government during budget is mandated under which article of the constitution of India?

Options :

1. ✘ Article 113
2. ✔ Article 112
3. ✘ Article 110
4. ✘ Article 114

Question Number : 47 Question Id : 5459275501 Question Type : MCQ Option Shuffling : Yes Display Question Number : Yes
Single Line Question Option : No Option Orientation : Vertical

Correct Marks : 1 Wrong Marks : 0.25

बजट के दौरान सरकार द्वारा प्रस्तुत वार्षिक वित्तीय वितरण भारत के संविधान के किस अनुच्छेद के तहत अनिवार्य है?

Options :

1. ✘ अनुच्छेद 113
2. ✔ अनुच्छेद 112
3. ✘ अनुच्छेद 110
4. ✘ अनुच्छेद 114

Question Number : 48 Question Id : 5459275502 Question Type : MCQ Option Shuffling : Yes Display Question Number : Yes
Single Line Question Option : No Option Orientation : Vertical

Correct Marks : 1 Wrong Marks : 0.25

In a test tube hydrochloric acid and phenolphthalein are present. When sodium hydroxide solution is added (drop by drop), what is the change in colour?

Options :

1. ✘ Pink to colourless
2. ✔ Colourless to pink
3. ✘ Pink to orange
4. ✘ No change in colour

Question Number : 48 Question Id : 5459275502 Question Type : MCQ Option Shuffling : Yes Display Question Number : Yes
Single Line Question Option : No Option Orientation : Vertical

Correct Marks : 1 Wrong Marks : 0.25

एक परीक्षण नली में हाइड्रोक्लोरिक अम्ल और फिनॉलफथेलिन है। जब सोडियम हाइड्रॉक्साइड विलयन डाला जाता है (बूँद दर बूँद), तो रंग में क्या परिवर्तन होगा?

Options :

- ✘ गुलाबी से रंगहीन
- ✔ रंगहीन से गुलाबी
- ✘ गुलाबी से नारंगी
- ✘ रंग में कोई परिवर्तन नहीं होगा

Question Number : 49 Question Id : 5459275503 Question Type : MCQ Option Shuffling : Yes Display Question Number : Yes
Single Line Question Option : No Option Orientation : Vertical

Correct Marks : 1 Wrong Marks : 0.25

Which of the following has a stream lined body?

- I. Fish
- II. Crab
- III. Snail

Options :

- ✘ Crab
- ✘ Snail
- ✔ Fish
- ✘ Crab and Fish

Question Number : 49 Question Id : 5459275503 Question Type : MCQ Option Shuffling : Yes Display Question Number : Yes
Single Line Question Option : No Option Orientation : Vertical

Correct Marks : 1 Wrong Marks : 0.25

निम्नलिखित में से किसका शरीर धारारेखी होता है?

- I. मछली
- II. केकड़ा
- III. घोंघा

Options :

- ✘ केकड़ा
- ✘ घोंघा
- ✔ मछली
- ✘ केकड़ा तथा मछली

Question Number : 50 Question Id : 5459275504 Question Type : MCQ Option Shuffling : Yes Display Question Number : Yes
Single Line Question Option : No Option Orientation : Vertical

Correct Marks : 1 Wrong Marks : 0.25

Which of the following are in motion?

- I. The hands of a working wall clock.
- II. The blades of a ceiling fan which is ON

Options :

- ✘ Only I
- ✘ Only II
- ✔ Both I and II
- ✘ Neither I nor II

Question Number : 50 Question Id : 5459275504 Question Type : MCQ Option Shuffling : Yes Display Question Number : Yes
Single Line Question Option : No Option Orientation : Vertical

Correct Marks : 1 Wrong Marks : 0.25

निम्नलिखित में से कौन गति में है?

- I. एक काम करने वाली घड़ी की सूइयां
- II. एक चलते हुए पंखे के ब्लेड

Options :

1. ✘ केवल I
2. ✘ केवल II
3. ✔ I तथा II दोनों
4. ✘ ना तो I ना तो II

Question Number : 51 Question Id : 5459275505 Question Type : MCQ Option Shuffling : Yes Display Question Number : Yes
Single Line Question Option : No Option Orientation : Vertical

Correct Marks : 1 Wrong Marks : 0.25

Sourness in tamarind is due to which acid?

Options :

1. ✔ Tartaric acid
2. ✘ Citric acid
3. ✘ Ascorbic acid
4. ✘ Both Tartaric and citric acid

Question Number : 51 Question Id : 5459275505 Question Type : MCQ Option Shuffling : Yes Display Question Number : Yes
Single Line Question Option : No Option Orientation : Vertical

Correct Marks : 1 Wrong Marks : 0.25

इमली में खट्टापन किस अम्ल के कारण होता है?

Options :

1. ✔ टार्टरिक अम्ल
2. ✘ सिट्रिक अम्ल
3. ✘ ऐस्कॉर्बिक अम्ल
4. ✘ टार्टरिक और सिट्रिक अम्ल दोनों

Question Number : 52 Question Id : 5459275506 Question Type : MCQ Option Shuffling : Yes Display Question Number : Yes
Single Line Question Option : No Option Orientation : Vertical

Correct Marks : 1 Wrong Marks : 0.25

जंग लगने पर लवण जल का जंग पे क्या असर होता है?

Options :

1. ✘ जंग घटता है
2. ✔ जंग बढ़ता है
3. ✘ जंग पहले घटता है फिर बढ़ता है
4. ✘ कोई परिवर्तन नहीं

Question Number : 52 Question Id : 5459275506 Question Type : MCQ Option Shuffling : Yes Display Question Number : Yes
Single Line Question Option : No Option Orientation : Vertical

Correct Marks : 1 Wrong Marks : 0.25

What is the effect of salt water on rusting?

Options :

1. ✘ Rusting decreases
2. ✔ Rusting increases
3. ✘ Rusting first decreases then increases
4. ✘ No change

Question Number : 53 Question Id : 5459275507 Question Type : MCQ Option Shuffling : Yes Display Question Number : Yes
Single Line Question Option : No Option Orientation : Vertical

Correct Marks : 1 Wrong Marks : 0.25

Copper vessel acquires a green coating on exposure to moist air. Which of the following does coating contain?

Options :

- ✘ CuSO_4
- ✔ CuCO_3
- ✘ CuO
- ✘ $\text{Cu}_2(\text{OH})_2\text{CO}_3$

Question Number : 53 Question Id : 5459275507 Question Type : MCQ Option Shuffling : Yes Display Question Number : Yes
Single Line Question Option : No Option Orientation : Vertical

Correct Marks : 1 Wrong Marks : 0.25

ताम्र पात्र नम हवा के संपर्क में एक हरी कोटिंग प्राप्त करता है। कोटिंग में निम्नलिखित में से क्या होता है?

Options :

- ✘ CuSO_4
- ✔ CuCO_3
- ✘ CuO
- ✘ $\text{Cu}_2(\text{OH})_2\text{CO}_3$

Question Number : 54 Question Id : 5459275508 Question Type : MCQ Option Shuffling : Yes Display Question Number : Yes
Single Line Question Option : No Option Orientation : Vertical

Correct Marks : 1 Wrong Marks : 0.25

Leishmania reproduces by -----.

Options :

- ✘ spore formation
- ✘ fragmentation
- ✘ budding
- ✔ binary fission

Question Number : 54 Question Id : 5459275508 Question Type : MCQ Option Shuffling : Yes Display Question Number : Yes
Single Line Question Option : No Option Orientation : Vertical

Correct Marks : 1 Wrong Marks : 0.25

लेस्मानिया ----- से जनन करता है।

Options :

- ✘ बीजाणु समासंघ
- ✘ खंडन
- ✘ मुकुलन
- ✔ द्विखंडन

Question Number : 55 Question Id : 5459275509 Question Type : MCQ Option Shuffling : Yes Display Question Number : Yes
Single Line Question Option : No Option Orientation : Vertical

Correct Marks : 1 Wrong Marks : 0.25

Which part of human eye controls the size of pupil?

Options :

- ✘ Cornea
- ✔ Iris

3. ✖ Retina
4. ✖ Aqueous Humour

Question Number : 55 Question Id : 5459275509 Question Type : MCQ Option Shuffling : Yes Display Question Number : Yes
Single Line Question Option : No Option Orientation : Vertical

Correct Marks : 1 Wrong Marks : 0.25

मानव नेत्र का कौन सा हिस्सा पुतली के आकार को नियंत्रित करता है?

Options :

1. ✖ स्वच्छ मंडल
2. ✔ परितारिका
3. ✖ दृष्टिपटल
4. ✖ नेत्रोद

Question Number : 56 Question Id : 5459275510 Question Type : MCQ Option Shuffling : Yes Display Question Number : Yes
Single Line Question Option : No Option Orientation : Vertical

Correct Marks : 1 Wrong Marks : 0.25

Soil formation primarily depends on _____.

Options :

1. ✖ volcanoes
2. ✖ clouds
3. ✔ weathering
4. ✖ rainfall

Question Number : 56 Question Id : 5459275510 Question Type : MCQ Option Shuffling : Yes Display Question Number : Yes
Single Line Question Option : No Option Orientation : Vertical

Correct Marks : 1 Wrong Marks : 0.25

मृदा का निर्माण मुख्य रूप से _____ पर निर्भर करता है।

Options :

1. ✖ ज्वालामुखी
2. ✖ बादल
3. ✔ अपक्षय
4. ✖ वर्षा

Question Number : 57 Question Id : 5459275511 Question Type : MCQ Option Shuffling : Yes Display Question Number : Yes
Single Line Question Option : No Option Orientation : Vertical

Correct Marks : 1 Wrong Marks : 0.25

_____ is also known as 'Usara' soil.

Options :

1. ✖ Alluvial soil
2. ✔ Saline soil
3. ✖ Red soil
4. ✖ Laterite soil

Question Number : 57 Question Id : 5459275511 Question Type : MCQ Option Shuffling : Yes Display Question Number : Yes
Single Line Question Option : No Option Orientation : Vertical

Correct Marks : 1 Wrong Marks : 0.25

_____ को 'उसारा' मृदा के नाम से भी जाना जाता है।

Options :

1. ✖ जलोढ़ मृदा

2. ✓ लवण मृदा
3. ✗ लाल मृदा
4. ✗ लैटेराइट मृदा

Question Number : 58 Question Id : 5459275512 Question Type : MCQ Option Shuffling : Yes Display Question Number : Yes
Single Line Question Option : No Option Orientation : Vertical

Correct Marks : 1 Wrong Marks : 0.25

वैतरणी नदी _____ पहाड़ियों से निकलती है।

Options :

1. ✓ त्रिम्बक
2. ✗ राजमहल
3. ✗ जावादी
4. ✗ नीलगिरि

Question Number : 58 Question Id : 5459275512 Question Type : MCQ Option Shuffling : Yes Display Question Number : Yes
Single Line Question Option : No Option Orientation : Vertical

Correct Marks : 1 Wrong Marks : 0.25

Vaitarna river rises from _____ hills.

Options :

1. ✓ Trimbak
2. ✗ Rajmahal
3. ✗ Javadi
4. ✗ Nilgiri

Question Number : 59 Question Id : 5459275513 Question Type : MCQ Option Shuffling : Yes Display Question Number : Yes
Single Line Question Option : No Option Orientation : Vertical

Correct Marks : 1 Wrong Marks : 0.25

Purvanchal comprises of which of the following hills?

- I. Patkai
- II. Naga
- III. Manipur

Options :

1. ✗ I and II
2. ✗ I and III
3. ✗ II and III
4. ✓ I, II and III

Question Number : 59 Question Id : 5459275513 Question Type : MCQ Option Shuffling : Yes Display Question Number : Yes
Single Line Question Option : No Option Orientation : Vertical

Correct Marks : 1 Wrong Marks : 0.25

पूर्वांचल में निम्नलिखित में से कौन सी पहाड़ियाँ शामिल हैं?

- I. पटकाई
- II. नागा
- III. मणिपुर

Options :

1. ✗ I तथा II
2. ✗ I तथा III
3. ✗ II तथा III

4. ✓ I, II तथा III

Question Number : 60 Question Id : 5459275514 Question Type : MCQ Option Shuffling : Yes Display Question Number : Yes
Single Line Question Option : No Option Orientation : Vertical

Correct Marks : 1 Wrong Marks : 0.25

National Food Security Mission was launched in India to enhance the production of which of the following crops?

Options :

1. ✗ Cotton
2. ✗ Jowar
3. ✓ Pulses
4. ✗ Oilseeds

Question Number : 60 Question Id : 5459275514 Question Type : MCQ Option Shuffling : Yes Display Question Number : Yes
Single Line Question Option : No Option Orientation : Vertical

Correct Marks : 1 Wrong Marks : 0.25

निम्नलिखित में से किस फसल का उत्पादन बढ़ाने के लिए भारत में राष्ट्रीय खाद्य सुरक्षा मिशन शुरू किया गया था?

Options :

1. ✗ कपास
2. ✗ ज्वार
3. ✓ दालें
4. ✗ तिलहन

General Awareness2

Group Number :	4
Group Id :	545927274
Group Maximum Duration :	0
Group Minimum Duration :	0
Revisit allowed for view? :	No
Revisit allowed for edit? :	No
Break time:	0
Group Marks:	20
Revisit allowed for group Instructions? :	Yes
Maximum Instruction Time:	0
Minimum Instruction Time:	0

General Awareness2

Section Id :	545927274
Section Number :	1
Section type :	Online
Mandatory or Optional:	Mandatory
Number of Questions:	20
Number of Questions to be attempted:	20
Section Marks:	20
Display Number Panel:	Yes
Group All Questions:	No

Sub-Section Number: 1
Sub-Section Id: 545927328
Question Shuffling Allowed : Yes

Question Number : 61 Question Id : 5459275515 Question Type : MCQ Option Shuffling : Yes Display Question Number : Yes
Single Line Question Option : No Option Orientation : Vertical

Correct Marks : 1 Wrong Marks : 0.25

_____ are surfaces marking old valley floors.

Options :

1. ✓ River terraces
2. ✗ Alluvial fans
3. ✗ Meanders
4. ✗ Potholes

Question Number : 61 Question Id : 5459275515 Question Type : MCQ Option Shuffling : Yes Display Question Number : Yes
Single Line Question Option : No Option Orientation : Vertical

Correct Marks : 1 Wrong Marks : 0.25

_____ पुरानी नदी घाटियों के तलों को चिह्नित करती है।

Options :

1. ✓ नदी वेदिकाएँ
2. ✗ जलोढ़ पंख
3. ✗ विसर्प
4. ✗ जलगर्तिका

Question Number : 62 Question Id : 5459275516 Question Type : MCQ Option Shuffling : Yes Display Question Number : Yes
Single Line Question Option : No Option Orientation : Vertical

Correct Marks : 1 Wrong Marks : 0.25

In 1877, which Viceroy organized a 'Durbar' to acknowledge Queen Victoria as Empress of India?

Options :

1. ✗ Lord Mayo
2. ✓ Lord Lytton
3. ✗ Sir John Lawrence
4. ✗ Lord Ripon

Question Number : 62 Question Id : 5459275516 Question Type : MCQ Option Shuffling : Yes Display Question Number : Yes
Single Line Question Option : No Option Orientation : Vertical

Correct Marks : 1 Wrong Marks : 0.25

1877 में, किस वायसराय ने महारानी विक्टोरिया को भारत की महारानी के रूप में स्वीकार करने के लिए 'दरबार' का आयोजन किया था?

Options :

1. ✗ लॉर्ड मेयो
2. ✓ लॉर्ड लिटन
3. ✗ सर जॉन लॉरेंस
4. ✗ लॉर्ड रिपन

Question Number : 63 Question Id : 5459275517 Question Type : MCQ Option Shuffling : Yes Display Question Number : Yes
Single Line Question Option : No Option Orientation : Vertical

Correct Marks : 1 Wrong Marks : 0.25

Wood's Despatch was issued in which year?

Options :

1. ✗ 1859

2. ✘ 1759
3. ✘ 1754
4. ✔ 1854

Question Number : 63 Question Id : 5459275517 Question Type : MCQ Option Shuffling : Yes Display Question Number : Yes
Single Line Question Option : No Option Orientation : Vertical

Correct Marks : 1 Wrong Marks : 0.25

बुड डिस्पैच किस वर्ष में जारी किया गया था?

Options :

1. ✘ 1859
2. ✘ 1759
3. ✘ 1754
4. ✔ 1854

Question Number : 64 Question Id : 5459275518 Question Type : MCQ Option Shuffling : Yes Display Question Number : Yes
Single Line Question Option : No Option Orientation : Vertical

Correct Marks : 1 Wrong Marks : 0.25

Who among the following looted temples of India?

Options :

1. ✔ Mahmud Ghazni
2. ✘ Shah Jahan
3. ✘ Qutbuddin Aibak
4. ✘ Iltutmish

Question Number : 64 Question Id : 5459275518 Question Type : MCQ Option Shuffling : Yes Display Question Number : Yes
Single Line Question Option : No Option Orientation : Vertical

Correct Marks : 1 Wrong Marks : 0.25

निम्नलिखित में से किसने भारत के मंदिरों को लूटा?

Options :

1. ✔ महमूद गज़नी
2. ✘ शाहजहाँ
3. ✘ कुतुबुद्दीन ऐबक
4. ✘ इल्तुतमिश

Question Number : 65 Question Id : 5459275519 Question Type : MCQ Option Shuffling : Yes Display Question Number : Yes
Single Line Question Option : No Option Orientation : Vertical

Correct Marks : 1 Wrong Marks : 0.25

In medieval India, 'Jital' and 'Dang' were types of _____.

Options :

1. ✘ army rank
2. ✘ tools
3. ✘ weapons
4. ✔ coins

Question Number : 65 Question Id : 5459275519 Question Type : MCQ Option Shuffling : Yes Display Question Number : Yes
Single Line Question Option : No Option Orientation : Vertical

Correct Marks : 1 Wrong Marks : 0.25

मध्यकालीन भारत में, 'जितल' और 'डांग' _____ के प्रकार थे।

Options :

- ✘ सेना के पद
- ✘ उपकरणों
- ✘ हथियारों
- ✔ सिक्कों

Question Number : 66 Question Id : 5459275520 Question Type : MCQ Option Shuffling : Yes Display Question Number : Yes
Single Line Question Option : No Option Orientation : Vertical

Correct Marks : 1 Wrong Marks : 0.25

Which of the following Act established Board of Control?

Options :

- ✔ Pitt's India Act
- ✘ Regulating Act
- ✘ Press Act
- ✘ Newspapers Act

Question Number : 66 Question Id : 5459275520 Question Type : MCQ Option Shuffling : Yes Display Question Number : Yes
Single Line Question Option : No Option Orientation : Vertical

Correct Marks : 1 Wrong Marks : 0.25

निम्नलिखित में से किस अधिनियम (एक्ट) के द्वारा बोर्ड ऑफ कंट्रोल की स्थापना की गई?

Options :

- ✔ पिट्स इंडिया एक्ट
- ✘ रेगुलेटिंग एक्ट
- ✘ प्रेस एक्ट
- ✘ समाचार पत्र एक्ट

Question Number : 67 Question Id : 5459275521 Question Type : MCQ Option Shuffling : Yes Display Question Number : Yes
Single Line Question Option : No Option Orientation : Vertical

Correct Marks : 1 Wrong Marks : 0.25

Which act abolished the British East India Company's monopoly of trade except with China?

Options :

- ✔ Charter Act of 1813
- ✘ Regulating Act of 1773
- ✘ Charter Act of 1854
- ✘ Charter Act of 1835

Question Number : 67 Question Id : 5459275521 Question Type : MCQ Option Shuffling : Yes Display Question Number : Yes
Single Line Question Option : No Option Orientation : Vertical

Correct Marks : 1 Wrong Marks : 0.25

किस अधिनियम ने चीन के अलावा ब्रिटिश ईस्ट इंडिया कंपनी व्यापार के एकाधिकार को समाप्त कर दिया था?

Options :

- ✔ 1813 का चार्टर अधिनियम
- ✘ 1773 का विनियमन अधिनियम
- ✘ 1854 का चार्टर अधिनियम
- ✘ 1835 का चार्टर अधिनियम

Question Number : 68 Question Id : 5459275522 Question Type : MCQ Option Shuffling : Yes Display Question Number : Yes
Single Line Question Option : No Option Orientation : Vertical

Correct Marks : 1 Wrong Marks : 0.25

Arjuna Award is given for outstanding performance in _____.

Options :

1. ✘ singing
2. ✔ sports
3. ✘ acting
4. ✘ bravery

Question Number : 68 Question Id : 5459275522 Question Type : MCQ Option Shuffling : Yes Display Question Number : Yes
Single Line Question Option : No Option Orientation : Vertical

Correct Marks : 1 Wrong Marks : 0.25

_____ में उत्कृष्ट प्रदर्शन के लिए अर्जुन पुरस्कार दिया जाता है।

Options :

1. ✘ गायन
2. ✔ खेल
3. ✘ अभिनय
4. ✘ वीरता

Question Number : 69 Question Id : 5459275523 Question Type : MCQ Option Shuffling : Yes Display Question Number : Yes
Single Line Question Option : No Option Orientation : Vertical

Correct Marks : 1 Wrong Marks : 0.25

The book "All the Names They Used for God" is written by _____.

Options :

1. ✘ Amish Tripathi
2. ✔ Anjali Sachdeva
3. ✘ Durjoy Datta
4. ✘ Chetan Bhagat

Question Number : 69 Question Id : 5459275523 Question Type : MCQ Option Shuffling : Yes Display Question Number : Yes
Single Line Question Option : No Option Orientation : Vertical

Correct Marks : 1 Wrong Marks : 0.25

"ऑल द नेम्स दे यूस्ड फॉर गॉड" पुस्तक _____ द्वारा लिखी गई है।

Options :

1. ✘ अमीश त्रिपाठी
2. ✔ अंजलि सचदेवा
3. ✘ दुर्जोय दत्ता
4. ✘ चेतन भगत

Question Number : 70 Question Id : 5459275524 Question Type : MCQ Option Shuffling : Yes Display Question Number : Yes
Single Line Question Option : No Option Orientation : Vertical

Correct Marks : 1 Wrong Marks : 0.25

Headquarter of World Bank is located in _____.

Options :

1. ✔ United States
2. ✘ Switzerland
3. ✘ Japan
4. ✘ China

Question Number : 70 Question Id : 5459275524 Question Type : MCQ Option Shuffling : Yes Display Question Number : Yes
Single Line Question Option : No Option Orientation : Vertical

Correct Marks : 1 Wrong Marks : 0.25

विश्व बैंक का मुख्यालय _____ में स्थित है

Options :

1. ✓ संयुक्त राज्य अमेरिका
2. ✗ स्विट्जरलैंड
3. ✗ जापान
4. ✗ चीन

Question Number : 71 Question Id : 5459275525 Question Type : MCQ Option Shuffling : Yes Display Question Number : Yes
Single Line Question Option : No Option Orientation : Vertical

Correct Marks : 1 Wrong Marks : 0.25

In March 2019, which bank has been awarded with Best Bank award by Tamil Nadu?

Options :

1. ✗ Bank of Baroda
2. ✗ Andhra Bank
3. ✓ Indian Bank
4. ✗ State Bank of India

Question Number : 71 Question Id : 5459275525 Question Type : MCQ Option Shuffling : Yes Display Question Number : Yes
Single Line Question Option : No Option Orientation : Vertical

Correct Marks : 1 Wrong Marks : 0.25

मार्च 2019 में, किस बैंक को तमिलनाडु द्वारा सर्वश्रेष्ठ बैंक पुरस्कार से सम्मानित किया गया है?

Options :

1. ✗ बैंक ऑफ बड़ौदा
2. ✗ आंध्र बैंक
3. ✓ इंडियन बैंक
4. ✗ भारतीय स्टेट बैंक

Question Number : 72 Question Id : 5459275526 Question Type : MCQ Option Shuffling : Yes Display Question Number : Yes
Single Line Question Option : No Option Orientation : Vertical

Correct Marks : 1 Wrong Marks : 0.25

Which cricket player has been awarded with the title of Knighthood in 2019?

Options :

1. ✗ Kane Williamson
2. ✗ Ben Stokes
3. ✓ Alastair Cook
4. ✗ Virat Kohli

Question Number : 72 Question Id : 5459275526 Question Type : MCQ Option Shuffling : Yes Display Question Number : Yes
Single Line Question Option : No Option Orientation : Vertical

Correct Marks : 1 Wrong Marks : 0.25

किस क्रिकेट खिलाड़ी को 2019 में नाइटहुड की उपाधि से सम्मानित किया गया है?

Options :

1. ✗ केन विलियमसन
2. ✗ बेन स्टोकस
3. ✓ एलिस्टर कुक
4. ✗ विराट कोहली

Question Number : 73 Question Id : 5459275527 Question Type : MCQ Option Shuffling : Yes Display Question Number : Yes
Single Line Question Option : No Option Orientation : Vertical

Correct Marks : 1 Wrong Marks : 0.25

ISRO has planned a mission to _____ in 2023.

Options :

1. ✘ Mars
2. ✔ Venus
3. ✘ Jupiter
4. ✘ Moon

Question Number : 73 Question Id : 5459275527 Question Type : MCQ Option Shuffling : Yes Display Question Number : Yes
Single Line Question Option : No Option Orientation : Vertical

Correct Marks : 1 Wrong Marks : 0.25

इसरो ने 2023 में _____ का एकमिशन नियोजित किया है।

Options :

1. ✘ मंगल
2. ✔ शुक्र
3. ✘ बृहस्पति
4. ✘ चंद्रमा

Question Number : 74 Question Id : 5459275528 Question Type : MCQ Option Shuffling : Yes Display Question Number : Yes
Single Line Question Option : No Option Orientation : Vertical

Correct Marks : 1 Wrong Marks : 0.25

President exercises his powers on the advice of _____.

Options :

1. ✘ Vice President
2. ✔ Council of Ministers
3. ✘ Cabinet Secretary
4. ✘ Army Chief

Question Number : 74 Question Id : 5459275528 Question Type : MCQ Option Shuffling : Yes Display Question Number : Yes
Single Line Question Option : No Option Orientation : Vertical

Correct Marks : 1 Wrong Marks : 0.25

राष्ट्रपति _____ की सलाह पर अपनी शक्तियों का प्रयोग करता है।

Options :

1. ✘ उपराष्ट्रपति
2. ✔ मंत्रीपरिषद्
3. ✘ कैबिनेट सेक्रेटरी
4. ✘ थलसेलना अध्यक्ष

Question Number : 75 Question Id : 5459275529 Question Type : MCQ Option Shuffling : Yes Display Question Number : Yes
Single Line Question Option : No Option Orientation : Vertical

Correct Marks : 1 Wrong Marks : 0.25

Who constitutes Finance Commission?

Options :

1. ✘ Vice President
2. ✔ President
3. ✘ Prime Minister
4. ✘ Chief Minister

Question Number : 75 Question Id : 5459275529 Question Type : MCQ Option Shuffling : Yes Display Question Number : Yes
Single Line Question Option : No Option Orientation : Vertical

Correct Marks : 1 Wrong Marks : 0.25

वित्त आयोग का गठन कौन करता है?

Options :

1. ✘ उपराष्ट्रपति
2. ✔ राष्ट्रपति
3. ✘ प्रधानमंत्री
4. ✘ मुख्यमंत्री

Question Number : 76 Question Id : 5459275530 Question Type : MCQ Option Shuffling : Yes Display Question Number : Yes
Single Line Question Option : No Option Orientation : Vertical

Correct Marks : 1 Wrong Marks : 0.25

Voting age was reduced from 21 to 18 years through which Amendment Act of Indian constitution?

Options :

1. ✘ 50th
2. ✘ 66th
3. ✔ 61st
4. ✘ 56th

Question Number : 76 Question Id : 5459275530 Question Type : MCQ Option Shuffling : Yes Display Question Number : Yes
Single Line Question Option : No Option Orientation : Vertical

Correct Marks : 1 Wrong Marks : 0.25

भारतीय संविधान के किस संशोधन अधिनियम के ज़रिये मतदान की आयु 21 से घटाकर 18 वर्ष की गई थी?

Options :

1. ✘ 50वां
2. ✘ 66वां
3. ✔ 61वां
4. ✘ 56वां

Question Number : 77 Question Id : 5459275531 Question Type : MCQ Option Shuffling : Yes Display Question Number : Yes
Single Line Question Option : No Option Orientation : Vertical

Correct Marks : 1 Wrong Marks : 0.25

Who among the following are part of Electoral College for elections of President?

- I. Elected members of Lok Sabha
- II. Elected members of Rajya Sabha
- III. Elected members of Legislative Assembly of state

Options :

1. ✘ I and II
2. ✘ II and III
3. ✘ III and I
4. ✔ I, II and III

Question Number : 77 Question Id : 5459275531 Question Type : MCQ Option Shuffling : Yes Display Question Number : Yes
Single Line Question Option : No Option Orientation : Vertical

Correct Marks : 1 Wrong Marks : 0.25

निम्नलिखित में से कौन राष्ट्रपति के चुनाव के लिए निर्वाचक मंडल का हिस्सा होते हैं?

- I. लोकसभा के निर्वाचित सदस्य
- II. राज्यसभा के निर्वाचित सदस्य
- III. राज्य की विधान सभा के निर्वाचित सदस्य

Options :

1. ✘ I तथा II
2. ✘ II तथा III
3. ✘ III तथा I
4. ✔ I, II तथा III

Question Number : 78 Question Id : 5459275532 Question Type : MCQ Option Shuffling : Yes Display Question Number : Yes
Single Line Question Option : No Option Orientation : Vertical

Correct Marks : 1 Wrong Marks : 0.25

Who became the world's first female player to win 6 gold medals in the World Championship of boxing?

Options :

1. ✔ Mary Kom
2. ✘ Laila Ali
3. ✘ Katie Taylor
4. ✘ Ann Wolfe

Question Number : 78 Question Id : 5459275532 Question Type : MCQ Option Shuffling : Yes Display Question Number : Yes
Single Line Question Option : No Option Orientation : Vertical

Correct Marks : 1 Wrong Marks : 0.25

विश्व मुक्केबाजी चैम्पियनशिप में 6 स्वर्ण पदक जीतने वाली विश्व की पहली महिला खिलाड़ी कौन बनीं?

Options :

1. ✔ मैरी कॉम
2. ✘ लैला अली
3. ✘ केटी टेलर
4. ✘ एन वुल्फ

Question Number : 79 Question Id : 5459275533 Question Type : MCQ Option Shuffling : Yes Display Question Number : Yes
Single Line Question Option : No Option Orientation : Vertical

Correct Marks : 1 Wrong Marks : 0.25

Who is the first Indian player to score a century in women T20 cricket?

Options :

1. ✘ Mithali Raj
2. ✘ Smriti Mandhana
3. ✘ Poonam Yadav
4. ✔ Harmanpreet Kaur

Question Number : 79 Question Id : 5459275533 Question Type : MCQ Option Shuffling : Yes Display Question Number : Yes
Single Line Question Option : No Option Orientation : Vertical

Correct Marks : 1 Wrong Marks : 0.25

महिला टी 20 में शतक बनाने वाली पहली भारतीय महिला क्रिकेटर कौन हैं?

Options :

1. ✘ मिताली राज
2. ✘ स्मृति मंधाना
3. ✘ पूनम यादव

4. ✓ हरमनप्रीत कौर

Question Number : 80 Question Id : 5459275534 Question Type : MCQ Option Shuffling : Yes Display Question Number : Yes
Single Line Question Option : No Option Orientation : Vertical

Correct Marks : 1 Wrong Marks : 0.25

_____ was awarded Rajiv Gandhi Khel Ratna 2018 in field of Cricket.

Options :

1. ✓ Virat Kohli
2. ✗ Mahendra Singh Dhoni
3. ✗ Rohit Sharma
4. ✗ Hardik Pandya

Question Number : 80 Question Id : 5459275534 Question Type : MCQ Option Shuffling : Yes Display Question Number : Yes
Single Line Question Option : No Option Orientation : Vertical

Correct Marks : 1 Wrong Marks : 0.25

_____ को क्रिकेट के क्षेत्र में 2018 में राजीव गांधी खेल रत्न से सम्मानित किया गया था।

Options :

1. ✓ विराट कोहली
2. ✗ महेन्द्र सिंह धोनी
3. ✗ रोहित शर्मा
4. ✗ हार्दिक पांड्या

Arithmetic Ability1

Group Number :	5
Group Id :	545927275
Group Maximum Duration :	0
Group Minimum Duration :	0
Revisit allowed for view? :	No
Revisit allowed for edit? :	No
Break time:	0
Group Marks:	20
Revisit allowed for group Instructions? :	Yes
Maximum Instruction Time:	0
Minimum Instruction Time:	0

Arithmetic Ability1

Section Id :	545927275
Section Number :	1
Section type :	Online
Mandatory or Optional:	Mandatory
Number of Questions:	20
Number of Questions to be attempted:	20
Section Marks:	20
Display Number Panel:	Yes
Group All Questions:	No

Sub-Section Number: 1
Sub-Section Id: 545927329
Question Shuffling Allowed : Yes

Question Number : 81 Question Id : 5459275535 Question Type : MCQ Option Shuffling : Yes Display Question Number : Yes
Single Line Question Option : No Option Orientation : Vertical

Correct Marks : 1 Wrong Marks : 0.25

Evaluate:

$$(x + y)^2 = ?$$

Options :

1. ✓ $x^2 + y^2 + 2xy$
2. ✗ $x^2 - y^2 - 2xy$
3. ✗ $2x + 2y + 2xy$
4. ✗ $x + y + 2xy$

Question Number : 81 Question Id : 5459275535 Question Type : MCQ Option Shuffling : Yes Display Question Number : Yes
Single Line Question Option : No Option Orientation : Vertical

Correct Marks : 1 Wrong Marks : 0.25

मूल्यांकन करें:

$$(x + y)^2 = ?$$

Options :

1. ✓ $x^2 + y^2 + 2xy$
2. ✗ $x^2 - y^2 - 2xy$
3. ✗ $2x + 2y + 2xy$
4. ✗ $x + y + 2xy$

Question Number : 82 Question Id : 5459275536 Question Type : MCQ Option Shuffling : Yes Display Question Number : Yes
Single Line Question Option : No Option Orientation : Vertical

Correct Marks : 1 Wrong Marks : 0.25

34XX is a four digit number which is divisible by 9. What is the value of X?

Options :

1. ✓ 1
2. ✗ 8
3. ✗ 9
4. ✗ 2

Question Number : 82 Question Id : 5459275536 Question Type : MCQ Option Shuffling : Yes Display Question Number : Yes
Single Line Question Option : No Option Orientation : Vertical

Correct Marks : 1 Wrong Marks : 0.25

34XX एक चार अंको की संख्या है जो 9 से विभाज्य है। X का मान क्या है?

Options :

1. ✓ 1
2. ✗ 8
3. ✗ 9
4. ✗ 2

Question Number : 83 Question Id : 5459275537 Question Type : MCQ Option Shuffling : Yes Display Question Number : Yes
Single Line Question Option : No Option Orientation : Vertical

Correct Marks : 1 Wrong Marks : 0.25

How many numbers are there from 72 to 300 which are divisible by both 3 and 7?

Options :

1. ✘ 9

2. ✘ 12

3. ✔ 11

4. ✘ 10

Question Number : 83 Question Id : 5459275537 Question Type : MCQ Option Shuffling : Yes Display Question Number : Yes
Single Line Question Option : No Option Orientation : Vertical

Correct Marks : 1 Wrong Marks : 0.25

72 से 300 तक ऐसी कितनी संख्याएँ हैं जो 3 तथा 7 दोनों से विभाज्य होती हैं?

Options :

1. ✘ 9

2. ✘ 12

3. ✔ 11

4. ✘ 10

Question Number : 84 Question Id : 5459275538 Question Type : MCQ Option Shuffling : Yes Display Question Number : Yes
Single Line Question Option : No Option Orientation : Vertical

Correct Marks : 1 Wrong Marks : 0.25

How many even numbers are there from 1 to 347 which are divisible by 7?

Options :

1. ✔ 24

2. ✘ 23

3. ✘ 21

4. ✘ 22

Question Number : 84 Question Id : 5459275538 Question Type : MCQ Option Shuffling : Yes Display Question Number : Yes
Single Line Question Option : No Option Orientation : Vertical

Correct Marks : 1 Wrong Marks : 0.25

1 से 347 तक कितनी सम संख्याएँ हैं जो 7 से विभाज्य हैं?

Options :

1. ✔ 24

2. ✘ 23

3. ✘ 21

4. ✘ 22

Question Number : 85 Question Id : 5459275539 Question Type : MCQ Option Shuffling : Yes Display Question Number : Yes
Single Line Question Option : No Option Orientation : Vertical

Correct Marks : 1 Wrong Marks : 0.25

What is the value of $\frac{1}{2} + \frac{1}{6} + \frac{1}{12} + \frac{1}{30} + \frac{1}{42} + \frac{1}{56}$?

Options :

1. ✘ 11/15

2. ✘ 13/20

3. ✘ 21/40

4. ✔ 33/40

Question Number : 85 Question Id : 5459275539 Question Type : MCQ Option Shuffling : Yes Display Question Number : Yes
Single Line Question Option : No Option Orientation : Vertical

Correct Marks : 1 Wrong Marks : 0.25

$\frac{1}{2} + \frac{1}{6} + \frac{1}{12} + \frac{1}{30} + \frac{1}{42} + \frac{1}{56}$ का मान क्या है?

Options :

1. ✘ 11/15

2. ✘ 13/20

3. ✘ 21/40

4. ✔ 33/40

Question Number : 86 Question Id : 5459275540 Question Type : MCQ Option Shuffling : Yes Display Question Number : Yes
Single Line Question Option : No Option Orientation : Vertical

Correct Marks : 1 Wrong Marks : 0.25

If $A = -\frac{1}{3} - \frac{1}{35} - \frac{1}{99}$ and $B = \frac{1}{15} + \frac{1}{63} + \frac{1}{143}$ then what is the value of $B - A$?

Options :

1. ✘ 2/11

2. ✔ 6/13

3. ✘ 4/9

4. ✘ 5/11

Question Number : 86 Question Id : 5459275540 Question Type : MCQ Option Shuffling : Yes Display Question Number : Yes
Single Line Question Option : No Option Orientation : Vertical

Correct Marks : 1 Wrong Marks : 0.25

यदि $A = -\frac{1}{3} - \frac{1}{35} - \frac{1}{99}$ तथा $B = \frac{1}{15} + \frac{1}{63} + \frac{1}{143}$ है, तो $B - A$ का मान क्या है?

Options :

1. ✘ 2/11

2. ✔ 6/13

3. ✘ 4/9

4. ✘ 5/11

Question Number : 87 Question Id : 5459275541 Question Type : MCQ Option Shuffling : Yes Display Question Number : Yes
Single Line Question Option : No Option Orientation : Vertical

Correct Marks : 1 Wrong Marks : 0.25

What is the value of $\frac{1}{1 \times 3 \times 5} + \frac{1}{3 \times 5 \times 7} + \frac{1}{5 \times 7 \times 9}$?

Options :

1. ✘ 5/27

2. ✘ 2/33

3. ✘ 4/27

4. ✓ 5/63

Question Number : 87 Question Id : 5459275541 Question Type : MCQ Option Shuffling : Yes Display Question Number : Yes
Single Line Question Option : No Option Orientation : Vertical

Correct Marks : 1 Wrong Marks : 0.25

$\frac{1}{1 \times 3 \times 5} + \frac{1}{3 \times 5 \times 7} + \frac{1}{5 \times 7 \times 9}$ का मान क्या है?

Options :

1. ✗ 5/27

2. ✗ 2/33

3. ✗ 4/27

4. ✓ 5/63

Question Number : 88 Question Id : 5459275542 Question Type : MCQ Option Shuffling : Yes Display Question Number : Yes
Single Line Question Option : No Option Orientation : Vertical

Correct Marks : 1 Wrong Marks : 0.25

What is the value of $\frac{72 \div 18 + 6 \div 3 \times 2 + 5 \div 25 \times 5 \div 25}{24 \div 8 + 8 \div 4 \times 3 + 5 \times 25 - 10}$?

Options :

1. ✓ 201/3100

2. ✗ 111/2900

3. ✗ 153/3100

4. ✗ 147/2600

Question Number : 88 Question Id : 5459275542 Question Type : MCQ Option Shuffling : Yes Display Question Number : Yes
Single Line Question Option : No Option Orientation : Vertical

Correct Marks : 1 Wrong Marks : 0.25

$\frac{72 \div 18 + 6 \div 3 \times 2 + 5 \div 25 \times 5 \div 25}{24 \div 8 + 8 \div 4 \times 3 + 5 \times 25 - 10}$ का मान क्या है?

Options :

1. ✓ 201/3100

2. ✗ 111/2900

3. ✗ 153/3100

4. ✗ 147/2600

Question Number : 89 Question Id : 5459275543 Question Type : MCQ Option Shuffling : Yes Display Question Number : Yes
Single Line Question Option : No Option Orientation : Vertical

Correct Marks : 1 Wrong Marks : 0.25

How many four digit numbers are there which when divided by 6, 5 and 4 leaves remainder 1 in each case?

Options :

1. ✗ 148

2. ✗ 149

3. ✓ 150

4. ✗ 151

Question Number : 89 Question Id : 5459275543 Question Type : MCQ Option Shuffling : Yes Display Question Number : Yes
Single Line Question Option : No Option Orientation : Vertical

Correct Marks : 1 Wrong Marks : 0.25

चार अंको की ऐसी कितनी संख्याएँ हैं, जो 6, 5 तथा 4 से विभाजित करने पर प्रत्येक केस में शेषफल 1 देंगे?

Options :

1. ✘ 148
2. ✘ 149
3. ✔ 150
4. ✘ 151

Question Number : 90 Question Id : 5459275544 Question Type : MCQ Option Shuffling : Yes Display Question Number : Yes
Single Line Question Option : No Option Orientation : Vertical

Correct Marks : 1 Wrong Marks : 0.25

If $A = 6 \div 3 \times 2 + 5 - 2 \div 4 \times 2$ and $B = 5 \times 2 \div 8 \times 5 - 4 \div 2 \times 5$, then what is the value of $A - B$?

Options :

1. ✘ 41/4
2. ✔ 47/4
3. ✘ 43/4
4. ✘ 51/4

Question Number : 90 Question Id : 5459275544 Question Type : MCQ Option Shuffling : Yes Display Question Number : Yes
Single Line Question Option : No Option Orientation : Vertical

Correct Marks : 1 Wrong Marks : 0.25

यदि $A = 6 \div 3 \times 2 + 5 - 2 \div 4 \times 2$ तथा $B = 5 \times 2 \div 8 \times 5 - 4 \div 2 \times 5$ है, तो $A - B$ का मान क्या है?

Options :

1. ✘ 41/4
2. ✔ 47/4
3. ✘ 43/4
4. ✘ 51/4

Question Number : 91 Question Id : 5459275545 Question Type : MCQ Option Shuffling : Yes Display Question Number : Yes
Single Line Question Option : No Option Orientation : Vertical

Correct Marks : 1 Wrong Marks : 0.25

An article is sold at a discount of 30%. If the marked price of the article is Rs 1300, then what will be the selling price of the article?

Options :

1. ✔ Rs 910
2. ✘ Rs 390
3. ✘ Rs 790
4. ✘ Rs 870

Question Number : 91 Question Id : 5459275545 Question Type : MCQ Option Shuffling : Yes Display Question Number : Yes
Single Line Question Option : No Option Orientation : Vertical

Correct Marks : 1 Wrong Marks : 0.25

एक वस्तु को 30% की छूट पर बेचा गया है। यदि वस्तु का अंकित मूल्य 1300 रुपये है, तो वस्तु का विक्रय मूल्य क्या होगा?

Options :

1. ✔ 910 रुपये
2. ✘ 390 रुपये
3. ✘ 790 रुपये

4. ✖ 870 रुपये

Question Number : 92 Question Id : 5459275546 Question Type : MCQ Option Shuffling : Yes Display Question Number : Yes
Single Line Question Option : No Option Orientation : Vertical

Correct Marks : 1 Wrong Marks : 0.25

What will be the net discount on giving two successive discounts of 35% and 20%?

Options :

1. ✔ 48 percent

2. ✖ 52 percent

3. ✖ 55 percent

4. ✖ 65 percent

Question Number : 92 Question Id : 5459275546 Question Type : MCQ Option Shuffling : Yes Display Question Number : Yes
Single Line Question Option : No Option Orientation : Vertical

Correct Marks : 1 Wrong Marks : 0.25

35% तथा 20% की दो क्रमिक छूट देने पर निवल (नेट) छूट क्या होगी?

Options :

1. ✔ 48 प्रतिशत

2. ✖ 52 प्रतिशत

3. ✖ 55 प्रतिशत

4. ✖ 65 प्रतिशत

Question Number : 93 Question Id : 5459275547 Question Type : MCQ Option Shuffling : Yes Display Question Number : Yes
Single Line Question Option : No Option Orientation : Vertical

Correct Marks : 1 Wrong Marks : 0.25

The ratio of marked price to cost price is 9 : 7. If the cost price is Rs 161 and 10% discount is offered, then what will be the selling price?

Options :

1. ✖ Rs 196.1

2. ✔ Rs 186.3

3. ✖ Rs 187.4

4. ✖ Rs 178.6

Question Number : 93 Question Id : 5459275547 Question Type : MCQ Option Shuffling : Yes Display Question Number : Yes
Single Line Question Option : No Option Orientation : Vertical

Correct Marks : 1 Wrong Marks : 0.25

अंकित मूल्य का क्रय मूल्य से अनुपात 9 : 7 है। यदि क्रय मूल्य 161 रुपये है तथा 10% की छूट दी गयी है, तो विक्रय मूल्य क्या होगा?

Options :

1. ✖ 196.1 रुपये

2. ✔ 186.3 रुपये

3. ✖ 187.4 रुपये

4. ✖ 178.6 रुपये

Question Number : 94 Question Id : 5459275548 Question Type : MCQ Option Shuffling : Yes Display Question Number : Yes
Single Line Question Option : No Option Orientation : Vertical

Correct Marks : 1 Wrong Marks : 0.25

If the price of wheat is reduced by 14.28% then it becomes Rs 378. What is the initial price of sugar?

Options :

1. ✖ Rs 504

2. ✘ Rs 461
3. ✘ Rs 531
4. ✔ Rs 441

Question Number : 94 Question Id : 5459275548 Question Type : MCQ Option Shuffling : Yes Display Question Number : Yes
Single Line Question Option : No Option Orientation : Vertical

Correct Marks : 1 Wrong Marks : 0.25

यदि गेहूँ के मूल्य को 14.28% से घटाया गया है, तो यह 378 रुपये हो जाता है। गेहूँ का आरंभिक मूल्य क्या है?

Options :

1. ✘ 504 रुपये
2. ✘ 461 रुपये
3. ✘ 531 रुपये
4. ✔ 441 रुपये

Question Number : 95 Question Id : 5459275549 Question Type : MCQ Option Shuffling : Yes Display Question Number : Yes
Single Line Question Option : No Option Orientation : Vertical

Correct Marks : 1 Wrong Marks : 0.25

Radius of a hemisphere is increased by 30%. What will be the percentage increase in its curved surface area?

Options :

1. ✘ 62 percent
2. ✘ 6 percent
3. ✘ 67 percent
4. ✔ 69 percent

Question Number : 95 Question Id : 5459275549 Question Type : MCQ Option Shuffling : Yes Display Question Number : Yes
Single Line Question Option : No Option Orientation : Vertical

Correct Marks : 1 Wrong Marks : 0.25

एक अर्धगोले की त्रिज्या 30% से बढ़ायी गयी है। उसके वक्र पृष्ठीय क्षेत्रफल में कितने प्रतिशत की वृद्धि होगी?

Options :

1. ✘ 62 प्रतिशत
2. ✘ 6 प्रतिशत
3. ✘ 67 प्रतिशत
4. ✔ 69 प्रतिशत

Question Number : 96 Question Id : 5459275550 Question Type : MCQ Option Shuffling : Yes Display Question Number : Yes
Single Line Question Option : No Option Orientation : Vertical

Correct Marks : 1 Wrong Marks : 0.25

The monthly income of a person is Rs 35000 and his monthly expenditure is Rs 15000. Next year his monthly income increases by 40% and his monthly expenditure decreases by 70%. What is the percentage increase in his savings?

Options :

1. ✘ 125%
2. ✘ 127.5%
3. ✘ 130%
4. ✔ 122.5%

Question Number : 96 Question Id : 5459275550 Question Type : MCQ Option Shuffling : Yes Display Question Number : Yes
Single Line Question Option : No Option Orientation : Vertical

Correct Marks : 1 Wrong Marks : 0.25

एक व्यक्ति की मासिक आय 35000 रुपये है तथा उसका मासिक व्यय 15000 रुपये है। अगले वर्ष उसकी मासिक आय 40% से बढ़ जाती है तथा उसका मासिक व्यय 70% से कम हो जाता है उसकी बचत में कितने प्रतिशत की वृद्धि हुई है?

Options :

- ✘ 125%
- ✘ 127.5%
- ✘ 130%
- ✔ 122.5%

Question Number : 97 Question Id : 5459275551 Question Type : MCQ Option Shuffling : Yes Display Question Number : Yes Single Line Question Option : No Option Orientation : Vertical

Correct Marks : 1 Wrong Marks : 0.25

Selling price of an article is Rs 1680. If the loss percentage is 25%, then what is the cost price of the article?

Options :

- ✘ Rs 1940
- ✘ Rs 2080
- ✔ Rs 2240
- ✘ Rs 2460

Question Number : 97 Question Id : 5459275551 Question Type : MCQ Option Shuffling : Yes Display Question Number : Yes Single Line Question Option : No Option Orientation : Vertical

Correct Marks : 1 Wrong Marks : 0.25

एक वस्तु का विक्रय मूल्य 1680 रुपये है। यदि हानि प्रतिशत 25% है, तो वस्तु का क्रय मूल्य क्या है?

Options :

- ✘ 1940 रुपये
- ✘ 2080 रुपये
- ✔ 2240 रुपये
- ✘ 2460 रुपये

Question Number : 98 Question Id : 5459275552 Question Type : MCQ Option Shuffling : Yes Display Question Number : Yes Single Line Question Option : No Option Orientation : Vertical

Correct Marks : 1 Wrong Marks : 0.25

एक टायर को 1500 रुपये में बेचने पर रमन को 40% की हानि होती है। 35% लाभ प्राप्त करने के लिए उसे टायर को किस मूल्य पर बेचना चाहिए?

Options :

- ✘ 3225 रुपये
- ✘ 3045 रुपये
- ✔ 3375 रुपये
- ✘ 3125 रुपये

Question Number : 98 Question Id : 5459275552 Question Type : MCQ Option Shuffling : Yes Display Question Number : Yes Single Line Question Option : No Option Orientation : Vertical

Correct Marks : 1 Wrong Marks : 0.25

By selling a tyre for Rs 1500 Raman loses 40%. At what price should he sell the tyre to gain 35%?

Options :

- ✘ Rs 3225
- ✘ Rs 3045
- ✔ Rs 3375
- ✘ Rs 3125

Question Number : 99 Question Id : 5459275553 Question Type : MCQ Option Shuffling : Yes Display Question Number : Yes
Single Line Question Option : No Option Orientation : Vertical

Correct Marks : 1 Wrong Marks : 0.25

Aman sells an article to Bharat at a profit of 15% and Bharat sells it to Chetan at a loss of 20%. If Chetan pays Rs 736, then what was the cost price for Aman?

Options :

1. ✓ Rs 800
2. ✗ Rs 850
3. ✗ Rs 750
4. ✗ Rs 900

Question Number : 99 Question Id : 5459275553 Question Type : MCQ Option Shuffling : Yes Display Question Number : Yes
Single Line Question Option : No Option Orientation : Vertical

Correct Marks : 1 Wrong Marks : 0.25

अमन, भरत को 15% के लाभ पर एक वस्तु बेचता है तथा भरत उसे चेतन को 20% की हानि पर बेचता है। यदि चेतन, 736 रुपये देता है, तो अमन के लिए क्रय मूल्य क्या था?

Options :

1. ✓ 800 रुपये
2. ✗ 850 रुपये
3. ✗ 750 रुपये
4. ✗ 900 रुपये

Question Number : 100 Question Id : 5459275554 Question Type : MCQ Option Shuffling : Yes Display Question Number : Yes
Single Line Question Option : No Option Orientation : Vertical

Correct Marks : 1 Wrong Marks : 0.25

If $X1 : X2 = 3 : 5$ and $X1 + X2 = 40$, then what is the value of $X2$?

Options :

1. ✗ 15
2. ✗ 20
3. ✓ 25
4. ✗ 30

Question Number : 100 Question Id : 5459275554 Question Type : MCQ Option Shuffling : Yes Display Question Number : Yes
Single Line Question Option : No Option Orientation : Vertical

Correct Marks : 1 Wrong Marks : 0.25

यदि $X1 : X2 = 3 : 5$ तथा $X1 + X2 = 40$ है, तो $X2$ का मान क्या है?

Options :

1. ✗ 15
2. ✗ 20
3. ✓ 25
4. ✗ 30

Arithmetic Ability2

Group Number :	6
Group Id :	545927276
Group Maximum Duration :	0
Group Minimum Duration :	0
Revisit allowed for view? :	No

Revisit allowed for edit? :	No
Break time:	0
Group Marks:	20
Revisit allowed for group Instructions? :	Yes
Maximum Instruction Time:	0
Minimum Instruction Time:	0

Arithmetic Ability2

Section Id :	545927276
Section Number :	1
Section type :	Online
Mandatory or Optional:	Mandatory
Number of Questions:	20
Number of Questions to be attempted:	20
Section Marks:	20
Display Number Panel:	Yes
Group All Questions:	No

Sub-Section Number:	1
Sub-Section Id:	545927330
Question Shuffling Allowed :	Yes

Question Number : 101 Question Id : 5459275555 Question Type : MCQ Option Shuffling : Yes Display Question Number : Yes
 Single Line Question Option : No Option Orientation : Vertical
 Correct Marks : 1 Wrong Marks : 0.25

The ratio of the three numbers is 2 : 3 : 1 and the sum of their square is 224. What is the value of the smallest number of the three numbers?

Options :

1. ✘ 8
2. ✘ 6
3. ✔ 4
4. ✘ 2

Question Number : 101 Question Id : 5459275555 Question Type : MCQ Option Shuffling : Yes Display Question Number : Yes
 Single Line Question Option : No Option Orientation : Vertical

Correct Marks : 1 Wrong Marks : 0.25

तीन संख्याओं का अनुपात 2 : 3 : 1 है तथा उनके वर्गों का योग 224 है। तीनों संख्याओं में से सबसे छोटी संख्या का मान क्या है?

Options :

1. ✘ 8
2. ✘ 6
3. ✔ 4
4. ✘ 2

Question Number : 102 Question Id : 5459275556 Question Type : MCQ Option Shuffling : Yes Display Question Number : Yes
 Single Line Question Option : No Option Orientation : Vertical

Correct Marks : 1 Wrong Marks : 0.25

Ram and Shyam started a business by investing in the ratio of 2 : 3. After 4 months, Ram withdrew his investment. If they receive profits in ratio of 1 : 6, then for how many months was Shyam in the business?

Options :

- ✘ 12 months
- ✘ 14 months
- ✘ 18 months
- ✔ 16 months

Question Number : 102 Question Id : 5459275556 Question Type : MCQ Option Shuffling : Yes Display Question Number : Yes
Single Line Question Option : No Option Orientation : Vertical

Correct Marks : 1 Wrong Marks : 0.25

राम तथा श्याम, 2 : 3 के अनुपात में निवेश करके एक व्यापार आरंभ करते हैं। 4 महीने पश्चात, राम अपना निवेश निकाल लेता है। यदि उन्हें 1 : 6 के अनुपात में लाभ प्राप्त हो, तो श्याम कितने महीने तक व्यापार में रहा?

Options :

- ✘ 12 महीने
- ✘ 14 महीने
- ✘ 18 महीने
- ✔ 16 महीने

Question Number : 103 Question Id : 5459275557 Question Type : MCQ Option Shuffling : Yes Display Question Number : Yes
Single Line Question Option : No Option Orientation : Vertical

Correct Marks : 1 Wrong Marks : 0.25

Rs 9000 are kept at simple interest. If the rate of interest is 12% per annum, then what is the interest after 4 years?

Options :

- ✘ Rs 4240
- ✘ Rs 4180
- ✔ Rs 4320
- ✘ Rs 4640

Question Number : 103 Question Id : 5459275557 Question Type : MCQ Option Shuffling : Yes Display Question Number : Yes
Single Line Question Option : No Option Orientation : Vertical

Correct Marks : 1 Wrong Marks : 0.25

9000 रुपये को साधारण ब्याज पर रखा गया। यदि ब्याज की दर 12% प्रति वर्ष है, तो 4 वर्ष बाद ब्याज कितना होगा?

Options :

- ✘ 4240 रुपये
- ✘ 4180 रुपये
- ✔ 4320 रुपये
- ✘ 4640 रुपये

Question Number : 104 Question Id : 5459275558 Question Type : MCQ Option Shuffling : Yes Display Question Number : Yes
Single Line Question Option : No Option Orientation : Vertical

Correct Marks : 1 Wrong Marks : 0.25

Rs 15000 becomes Rs 20400 in 3 years when kept at simple interest. How much will it becomes in 7 years?

Options :

- ✘ Rs 26800
- ✔ Rs 27600
- ✘ Rs 25400
- ✘ Rs 28200

Question Number : 104 Question Id : 5459275558 Question Type : MCQ Option Shuffling : Yes Display Question Number : Yes
Single Line Question Option : No Option Orientation : Vertical

Correct Marks : 1 Wrong Marks : 0.25

साधारण ब्याज पर रखे जाने पर 15000 रुपये 3 वर्षों में 20400 रुपये हो जाते हैं वह 7 वर्षों में कितने हो जाएँगे?

Options :

- ✘ 26800 रुपये
- ✔ 27600 रुपये
- ✘ 25400 रुपये
- ✘ 28200 रुपये

Question Number : 105 Question Id : 5459275559 Question Type : MCQ Option Shuffling : Yes Display Question Number : Yes
Single Line Question Option : No Option Orientation : Vertical

Correct Marks : 1 Wrong Marks : 0.25

Compound interest on a certain sum of money for 2 years at a rate of $r\%$ per annum is Rs 3870. Simple interest on the same sum at the same rate for 2 years is Rs 3600. What is the value of r ?

Options :

- ✔ 15 percent
- ✘ 12 percent
- ✘ 1 percent
- ✘ 18 percent

Question Number : 105 Question Id : 5459275559 Question Type : MCQ Option Shuffling : Yes Display Question Number : Yes
Single Line Question Option : No Option Orientation : Vertical

Correct Marks : 1 Wrong Marks : 0.25

एक निश्चित धनराशि पर $r\%$ प्रति वर्ष की दर से 2 वर्ष का चक्रवृद्धि ब्याज 3870 रुपये है। उसी धनराशि पर उसी दर से 2 वर्ष का साधारण ब्याज 3600 रुपये है। r का मान क्या है?

Options :

- ✔ 15 प्रतिशत
- ✘ 12 प्रतिशत
- ✘ 1 प्रतिशत
- ✘ 18 प्रतिशत

Question Number : 106 Question Id : 5459275560 Question Type : MCQ Option Shuffling : Yes Display Question Number : Yes
Single Line Question Option : No Option Orientation : Vertical

Correct Marks : 1 Wrong Marks : 0.25

The speed of a boat in upstream and downstream is 20 km/hr and 28 km/hr respectively. What is the speed of boat in still water?

Options :

- ✘ 22 km/hr
- ✔ 24 km/hr
- ✘ 20 km/hr
- ✘ 18 km/hr

Question Number : 106 Question Id : 5459275560 Question Type : MCQ Option Shuffling : Yes Display Question Number : Yes
Single Line Question Option : No Option Orientation : Vertical

Correct Marks : 1 Wrong Marks : 0.25

एक नाव की गति धारा के प्रतिकूल तथा धारा के अनुकूल क्रमशः 20 कि.मी./घंटा तथा 28 कि.मी./घंटा है। स्थिर जल में नाव की गति क्या है?

Options :

- ✘ 22 कि.मी./घंटा
- ✔ 24 कि.मी./घंटा
- ✘ 20 कि.मी./घंटा

4. ✘ 18 कि.मी./घंटा

Question Number : 107 Question Id : 5459275561 Question Type : MCQ Option Shuffling : Yes Display Question Number : Yes
Single Line Question Option : No Option Orientation : Vertical

Correct Marks : 1 Wrong Marks : 0.25

A boy covers one - fourth of the journey at the speed of 25 km/hr and the rest at the speed of 60 km/hr. If he travels for 9 hours, then for how many hours he has travelled at the speed of 25 km/hr?

Options :

1. ✘ 3 hours
2. ✘ 6 hours
3. ✔ 4 hours
4. ✘ 5 hours

Question Number : 107 Question Id : 5459275561 Question Type : MCQ Option Shuffling : Yes Display Question Number : Yes
Single Line Question Option : No Option Orientation : Vertical

Correct Marks : 1 Wrong Marks : 0.25

एक लडका एक - चौथाई यात्रा 25 कि.मी./घंटा की गति से तथा शेष 60 कि.मी./घंटा की गति से तय करता है। यदि वह 9 घंटे के लिए यात्रा करता है, तो उसने 25 कि.मी./घंटा की गति से कितने घंटे यात्रा की?

Options :

1. ✘ 3 घंटे
2. ✘ 6 घंटे
3. ✔ 4 घंटे
4. ✘ 5 घंटे

Question Number : 108 Question Id : 5459275562 Question Type : MCQ Option Shuffling : Yes Display Question Number : Yes
Single Line Question Option : No Option Orientation : Vertical

Correct Marks : 1 Wrong Marks : 0.25

A sports car travels 16 km, 40 km, 60 km and 120 km at speeds of 32 km/hr, 8 km/hr, 120 km/hr and 40 km/hr respectively. What is the average speed of the sports car?

Options :

1. ✔ 26.2 km/hr
2. ✘ 22.4 km/hr
3. ✘ 28.6 km/hr
4. ✘ 32.8 km/hr

Question Number : 108 Question Id : 5459275562 Question Type : MCQ Option Shuffling : Yes Display Question Number : Yes
Single Line Question Option : No Option Orientation : Vertical

Correct Marks : 1 Wrong Marks : 0.25

एक स्पोर्ट्स कार 16 कि.मी., 40 कि.मी., 60 कि.मी. तथा 120 कि.मी. की दूरी क्रमशः 32 कि.मी./घंटा, 8 कि.मी./घंटा, 120 कि.मी./घंटा तथा 40 कि.मी./घंटा की गति से यात्रा करती है। स्पोर्ट्स कार की औसत गति क्या है?

Options :

1. ✔ 26.2 कि.मी./घंटा
2. ✘ 22.4 कि.मी./घंटा
3. ✘ 28.6 कि.मी./घंटा
4. ✘ 32.8 कि.मी./घंटा

Question Number : 109 Question Id : 5459275563 Question Type : MCQ Option Shuffling : Yes Display Question Number : Yes
Single Line Question Option : No Option Orientation : Vertical

Correct Marks : 1 Wrong Marks : 0.25

Suresh alone can complete a work in 50 days. Mahesh alone can complete the same work in 20 days. If they together complete the work and get Rs 49000, then what is the share of Suresh?

Options :

1. ✓ Rs 14000
2. ✗ Rs 35000
3. ✗ Rs 21000
4. ✗ Rs 28000

Question Number : 109 Question Id : 5459275563 Question Type : MCQ Option Shuffling : Yes Display Question Number : Yes Single Line Question Option : No Option Orientation : Vertical

Correct Marks : 1 Wrong Marks : 0.25

सुरेश अकेला एक कार्य को 50 दिन में कर सकता है। महेश अकेला उसी कार्य को 20 दिन में कर सकता है। यदि वे मिलकर कार्य पूरा करते हैं तथा उन्हें 49000 रुपये मिलते हैं, तो सुरेश का हिस्सा क्या है?

Options :

1. ✓ 14000 रुपये
2. ✗ 35000 रुपये
3. ✗ 21000 रुपये
4. ✗ 28000 रुपये

Question Number : 110 Question Id : 5459275564 Question Type : MCQ Option Shuffling : Yes Display Question Number : Yes Single Line Question Option : No Option Orientation : Vertical

Correct Marks : 1 Wrong Marks : 0.25

X1 and X2 can complete a work in 60 days. X2 and X3 can complete the same work in 24 days. X1 and X3 can complete the same work in 24 days. In how many days can X1, X2 and X3 together complete the same work?

Options :

1. ✗ 15 days
2. ✗ 10 days
3. ✓ 20 days
4. ✗ 18 days

Question Number : 110 Question Id : 5459275564 Question Type : MCQ Option Shuffling : Yes Display Question Number : Yes Single Line Question Option : No Option Orientation : Vertical

Correct Marks : 1 Wrong Marks : 0.25

X1 तथा X2 एक कार्य को 60 दिन में पूरा कर सकते हैं। X1 तथा X2 उसी कार्य को 24 दिन में पूरा कर सकते हैं। X1 तथा X3 उसी कार्य को 24 दिन में पूरा कर सकते हैं। X1, X2 तथा X3 मिलकर उसी कार्य को कितने दिन में पूरा कर सकते हैं?

Options :

1. ✗ 15 दिन
2. ✗ 10 दिन
3. ✓ 20 दिन
4. ✗ 18 दिन

Question Number : 111 Question Id : 5459275565 Question Type : MCQ Option Shuffling : Yes Display Question Number : Yes Single Line Question Option : No Option Orientation : Vertical

Correct Marks : 1 Wrong Marks : 0.25

Manav alone can do a work in 24 days and Rohit alone can do the same work in 48 days. They both started working together but Rohit left 3 days before the completion of work. For how many days did Manav do the work?

Options :

1. ✗ 15 days
2. ✓ 17 days

3. ✘ 16 days

4. ✘ 14 days

Question Number : 111 Question Id : 5459275565 Question Type : MCQ Option Shuffling : Yes Display Question Number : Yes
Single Line Question Option : No Option Orientation : Vertical

Correct Marks : 1 Wrong Marks : 0.25

मानव अकेला एक कार्य को 24 दिन में करता है तथा रोहित अकेला उसी कार्य को 48 दिन में करता है। वे दोनों एक साथ कार्य शुरू करते हैं लेकिन रोहित कार्य पूरा होने से 3 दिन पहले कार्य छोड़ देता है। मानव ने कितने दिन के लिए कार्य किया?

Options :

1. ✘ 15 दिन

2. ✔ 17 दिन

3. ✘ 16 दिन

4. ✘ 14 दिन

Question Number : 112 Question Id : 5459275566 Question Type : MCQ Option Shuffling : Yes Display Question Number : Yes
Single Line Question Option : No Option Orientation : Vertical

Correct Marks : 1 Wrong Marks : 0.25

The perimeter of a rectangle is 14 cm. If the diagonal of the rectangle is 5 cm, then what is the area of the rectangle?

Options :

1. ✔ 12 cm²

2. ✘ 14 cm²

3. ✘ 16 cm²

4. ✘ 10 cm²

Question Number : 112 Question Id : 5459275566 Question Type : MCQ Option Shuffling : Yes Display Question Number : Yes
Single Line Question Option : No Option Orientation : Vertical

Correct Marks : 1 Wrong Marks : 0.25

एक आयत का परिमाप 14 से.मी. है। यदि आयत की विकर्ण 5 से.मी. है, तो आयत का क्षेत्रफल क्या है?

Options :

1. ✔ 12 से.मी.²

2. ✘ 14 से.मी.²

3. ✘ 16 से.मी.²

4. ✘ 10 से.मी.²

Question Number : 113 Question Id : 5459275567 Question Type : MCQ Option Shuffling : Yes Display Question Number : Yes
Single Line Question Option : No Option Orientation : Vertical

Correct Marks : 1 Wrong Marks : 0.25

The sum of length, breadth and height of a cuboid is 68 cm. If length is $\frac{2}{3}$ of breadth and height is $\frac{7}{4}$ of length, then what is the total surface area of the cuboid?

Note: For this question, discrepancy is found in question/answer. So, this question is ignored for all candidates.

Options :

1. 1372 cm^2
2. 1664 cm^2
3. 1504 cm^2
4. 1468 cm^2

Question Number : 113 Question Id : 5459275567 Question Type : MCQ Option Shuffling : Yes Display Question Number : Yes Single Line Question Option : No Option Orientation : Vertical

Correct Marks : 1 Wrong Marks : 0.25

एक घनाभ की लम्बाई, चौड़ाई तथा ऊँचाई का जोड़ 68 से.मी. है। यदि लम्बाई, चौड़ाई का $\frac{2}{3}$ है तथा ऊँचाई, लम्बाई का $\frac{7}{4}$ है, तो घनाभ कुल पृष्ठिय क्षेत्रफल क्या है?

Note: For this question, discrepancy is found in question/answer. So, this question is ignored for all candidates.

Options :

1. 1372 से.मी.^2
2. 1664 से.मी.^2
3. 1504 से.मी.^2
4. 1468 से.मी.^2

Question Number : 114 Question Id : 5459275568 Question Type : MCQ Option Shuffling : Yes Display Question Number : Yes Single Line Question Option : No Option Orientation : Vertical

Correct Marks : 1 Wrong Marks : 0.25

The radius of a sphere is 2.1 cm. What is the cost of painting the curved surface area of the sphere at the rate of Rs 85 per cm^2 ?

Options :

1. ✘ Rs 3946.8
2. ✘ Rs 4162.6
3. ✘ Rs 4516.2
4. ✔ Rs 4712.4

Question Number : 114 Question Id : 5459275568 Question Type : MCQ Option Shuffling : Yes Display Question Number : Yes Single Line Question Option : No Option Orientation : Vertical

Correct Marks : 1 Wrong Marks : 0.25

एक गोले की त्रिज्या 2.1 से.मी. है। 85 रुपये प्रति से.मी.² की दर से गोले के वक्र पृष्ठिय क्षेत्रफल को रंगने का मूल्य क्या है?

Options :

- ✘ 3946.8 रुपये
- ✘ 4162.6 रुपये
- ✘ 4516.2 रुपये
- ✔ 4712.4 रुपये

Question Number : 115 Question Id : 5459275569 Question Type : MCQ Option Shuffling : Yes Display Question Number : Yes Single Line Question Option : No Option Orientation : Vertical

Correct Marks : 1 Wrong Marks : 0.25

The pie chart given below shows the number of shirts of different colours in a ward robe. The number is shown as a percentage of total shirts in the ward robe.



If the total number of shirts in the ward robe are 3600, then how many red shirts are less than blue shirts?

Options :

- ✘ 210
- ✔ 216
- ✘ 222
- ✘ 228

Question Number : 115 Question Id : 5459275569 Question Type : MCQ Option Shuffling : Yes Display Question Number : Yes Single Line Question Option : No Option Orientation : Vertical

Correct Marks : 1 Wrong Marks : 0.25

नीचे दिया गया वृत्त चित्र एक अलमारी में विभिन्न रंगों की कमीज़ों की संख्या को दर्शाता है। संख्या को अलमारी में कुल कमीज़ों के प्रतिशत के रूप में दर्शाया गया है।



यदि अलमारी में कमीज़ों की संख्या 3600 है, तो लाल कमीज़, नीली कमीज़ से कितनी कम है?

Options :

- ✘ 210
- ✔ 216
- ✘ 222
- ✘ 228

Question Number : 116 Question Id : 5459275570 Question Type : MCQ Option Shuffling : Yes Display Question Number : Yes Single Line Question Option : No Option Orientation : Vertical

Correct Marks : 1 Wrong Marks : 0.25

The table given below shows the salary of various employees working in a company.

Employee	Salary
E1	50000
E2	60000
E3	55000
E4	52000
E5	56000
E6	62000

The salary of employee E6 is how much percent more than the salary of employee E2?

Options :

- ✔ 3.33 percentage
- ✘ 4.33 percentage
- ✘ 5.33 percentage
- ✘ 6.33 percentage

Question Number : 116 Question Id : 5459275570 Question Type : MCQ Option Shuffling : Yes Display Question Number : Yes Single Line Question Option : No Option Orientation : Vertical

Correct Marks : 1 Wrong Marks : 0.25

नीचे दी गयी तालिका एक कंपनी में काम कर रहे विभिन्न कर्मचारियों के वेतन को दर्शाती है।

कर्मचारी	वेतन
E1	50000
E2	60000
E3	55000
E4	52000
E5	56000
E6	62000

कर्मचारी E6 का वेतन कर्मचारी E2 के वेतन से कितने प्रतिशत अधिक है?

Options :

- ✓ 3.33 प्रतिशत
- ✗ 4.33 प्रतिशत
- ✗ 5.33 प्रतिशत
- ✗ 6.33 प्रतिशत

Question Number : 117 Question Id : 5459275571 Question Type : MCQ Option Shuffling : Yes Display Question Number : Yes Single Line Question Option : No Option Orientation : Vertical

Correct Marks : 1 Wrong Marks : 0.25

The table given below shows the number of clocks sold of different companies.

Company	Number of clocks
C1	22
C2	24
C3	28
C4	31
C5	35

A = Average clocks sold per company. Clocks of C1 is how much less than A?

Options :

- ✗ 2
- ✗ 4
- ✗ 5
- ✓ 6

Question Number : 117 Question Id : 5459275571 Question Type : MCQ Option Shuffling : Yes Display Question Number : Yes Single Line Question Option : No Option Orientation : Vertical

Correct Marks : 1 Wrong Marks : 0.25

नीचे दी गयी तालिका विभिन्न कंपनियों की बेची गई घड़ियों की संख्या को दर्शाती है।

कंपनी	घड़ी की संख्या
C1	22
C2	24
C3	28
C4	31
C5	35

A = प्रति कंपनी बेची गई औसत घड़ियाँ C1 की घड़ियाँ A से कितनी कम हैं?

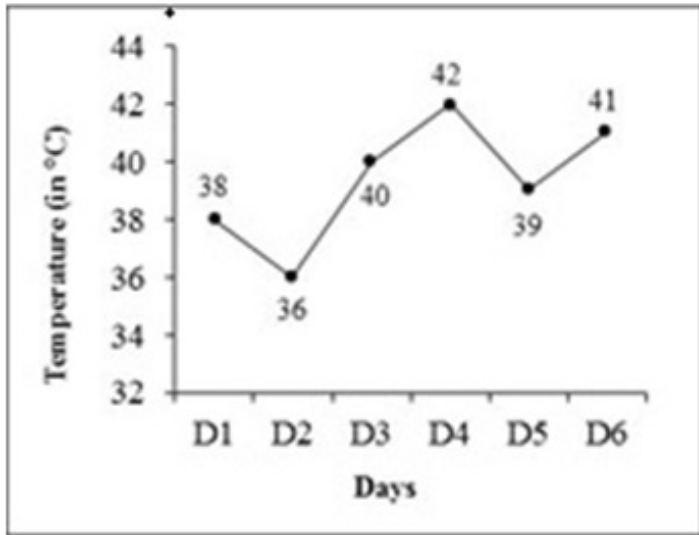
Options :

- ✘ 2
- ✘ 4
- ✘ 5
- ✔ 6

Question Number : 118 Question Id : 5459275572 Question Type : MCQ Option Shuffling : Yes Display Question Number : Yes Single Line Question Option : No Option Orientation : Vertical

Correct Marks : 1 Wrong Marks : 0.25

The line graph given below shows the temperature (in °C) on different days of a week.



What is the average temperature per day?

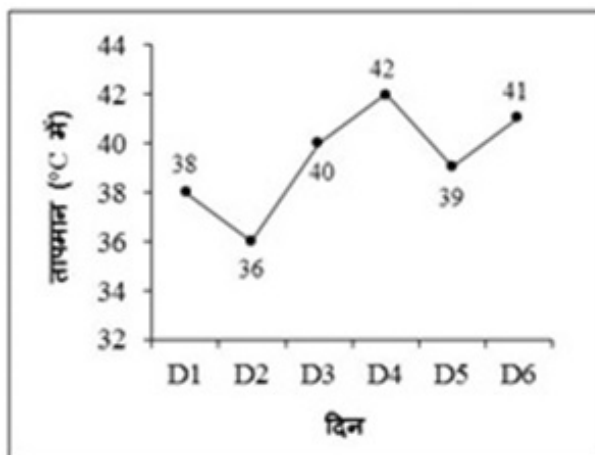
Options :

- ✔ 39.33°C
- ✘ 40.33°C
- ✘ 41.33°C
- ✘ 42.33°C

Question Number : 118 Question Id : 5459275572 Question Type : MCQ Option Shuffling : Yes Display Question Number : Yes Single Line Question Option : No Option Orientation : Vertical

Correct Marks : 1 Wrong Marks : 0.25

नीचे दिया गया रेखा चित्र हफ्ते के विभिन्न दिनों पर तापमान (°C में) को दर्शाता है।



प्रतिदिन औसत तापमान क्या है?

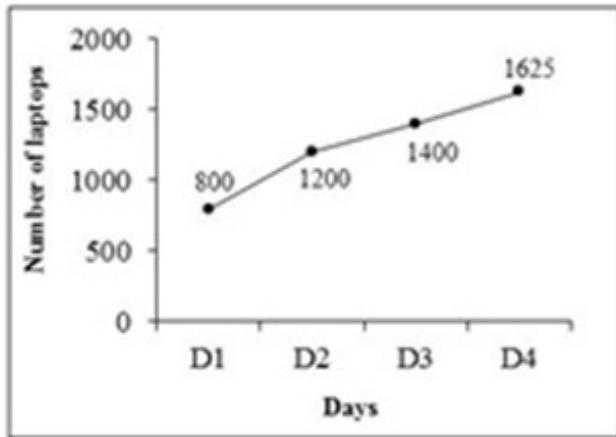
Options :

1. ✓ 39.33°C
2. ✗ 40.33°C
3. ✗ 41.33°C
4. ✗ 42.33°C

Question Number : 119 Question Id : 5459275573 Question Type : MCQ Option Shuffling : Yes Display Question Number : Yes Single Line Question Option : No Option Orientation : Vertical

Correct Marks : 1 Wrong Marks : 0.25

The line graph given below shows the number of laptops manufactured by a company on different days of a week.



What is the percentage increase in laptops manufactured by company from day D1 to Day D4?

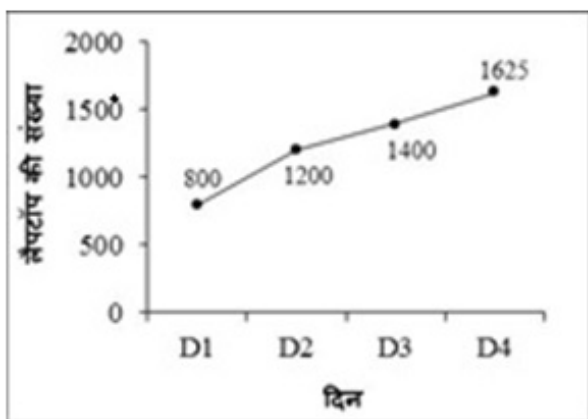
Options :

1. ✗ 104.15 percentage
2. ✗ 107.125 percentage
3. ✗ 100.125 percentage
4. ✓ 103.125 percentage

Question Number : 119 Question Id : 5459275573 Question Type : MCQ Option Shuffling : Yes Display Question Number : Yes Single Line Question Option : No Option Orientation : Vertical

Correct Marks : 1 Wrong Marks : 0.25

नीचे दिया गया रेखा चित्र हफ्ते के विभिन्न दिनों पर एक कंपनी द्वारा निर्मित लैपटॉप की संख्या को दर्शाता है।



दिन D1 से दिन D4 तक कंपनी द्वारा निर्मित लैपटॉप में कितने प्रतिशत वृद्धि हुई है?

Options :


1. ✗ 104.15 प्रतिशत
2. ✗ 107.125 प्रतिशत
3. ✗ 100.125 प्रतिशत

4. ✓ 103.125 प्रतिशत

Question Number : 120 Question Id : 5459275574 Question Type : MCQ Option Shuffling : Yes Display Question Number : Yes Single Line Question Option : No Option Orientation : Vertical

Correct Marks : 1 Wrong Marks : 0.25

The bar graph given below shows the number of shirts sold by the shopkeeper in different months of a year.



The number of shirts sold in month M1 is what percent less than the number of shirt sold in month M5?


Options :

- ✗ 45.72 percent
- ✓ 50.72 percent
- ✗ 55.72 percent
- ✗ 60.72 percent

Question Number : 120 Question Id : 5459275574 Question Type : MCQ Option Shuffling : Yes Display Question Number : Yes Single Line Question Option : No Option Orientation : Vertical

Correct Marks : 1 Wrong Marks : 0.25

नीचे दिया गया दण्ड चित्र एक वर्ष के विभिन्न महीनों में दुकानदार द्वारा बेची गयी कमीज़ो की संख्या को दर्शाता है।



महीने M1 में बेची गयी कमीज़ो की संख्या महीने M5 में बेची गयी कमीज़ो की संख्या से कितने प्रतिशत कम है?

Options :

- ✗ 45.72 प्रतिशत
- ✓ 50.72 प्रतिशत
- ✗ 55.72 प्रतिशत
- ✗ 60.72 प्रतिशत

General English 1

Group Number :	7
Group Id :	545927277
Group Maximum Duration :	0
Group Minimum Duration :	0
Revisit allowed for view? :	No
Revisit allowed for edit? :	No
Break time:	0
Group Marks:	20
Revisit allowed for group Instructions? :	Yes
Maximum Instruction Time:	0
Minimum Instruction Time:	0

General English 1

Section Id :	545927277
Section Number :	1
Section type :	Online
Mandatory or Optional:	Mandatory
Number of Questions:	20
Number of Questions to be attempted:	20
Section Marks:	20
Display Number Panel:	Yes
Group All Questions:	No

Sub-Section Number:	1
Sub-Section Id:	545927331
Question Shuffling Allowed :	Yes

Question Number : 121 Question Id : 5459275575 Question Type : MCQ Option Shuffling : Yes Display Question Number : Yes
Single Line Question Option : No Option Orientation : Vertical
Correct Marks : 1 Wrong Marks : 0.25

Find the part of the given sentence that has an error in it. If there is no error, choose 'No error'.

My brother (1) / is elder (2) / than me (3) /. No error (4)

Options :

1. ✘ 1
2. ✘ 2
3. ✔ 3
4. ✘ 4

Question Number : 121 Question Id : 5459275575 Question Type : MCQ Option Shuffling : Yes Display Question Number : Yes
Single Line Question Option : No Option Orientation : Vertical
Correct Marks : 1 Wrong Marks : 0.25

Find the part of the given sentence that has an error in it. If there is no error, choose 'No error'.

My brother (1) / is elder (2) / than me (3) /. No error (4)

Options :

1. ✘ 1
2. ✘ 2

3. ✓ 3

4. ✗ 4

Question Number : 122 Question Id : 5459275576 Question Type : MCQ Option Shuffling : Yes Display Question Number : Yes Single Line Question Option : No Option Orientation : Vertical

Correct Marks : 1 Wrong Marks : 0.25

Find the part of the given sentence that has an error in it. If there is no error, choose 'No error'.

The price of (1) / progressed has (2) / been rather heavy (3) /. No error (4)

Options :

1. ✗ 1

2. ✓ 2

3. ✗ 3

4. ✗ 4

Question Number : 122 Question Id : 5459275576 Question Type : MCQ Option Shuffling : Yes Display Question Number : Yes Single Line Question Option : No Option Orientation : Vertical

Correct Marks : 1 Wrong Marks : 0.25

Find the part of the given sentence that has an error in it. If there is no error, choose 'No error'.

The price of (1) / progressed has (2) / been rather heavy (3) /. No error (4)

Options :

1. ✗ 1

2. ✓ 2

3. ✗ 3

4. ✗ 4

Question Number : 123 Question Id : 5459275577 Question Type : MCQ Option Shuffling : Yes Display Question Number : Yes Single Line Question Option : No Option Orientation : Vertical

Correct Marks : 1 Wrong Marks : 0.25

Find the part of the given sentence that has an error in it. If there is no error, choose 'No error'.

The rain stopped (1) / when she (2) / arrived (3) /. No error (4)

Options :

1. ✓ 1

2. ✗ 2

3. ✗ 3

4. ✗ 4

Question Number : 123 Question Id : 5459275577 Question Type : MCQ Option Shuffling : Yes Display Question Number : Yes Single Line Question Option : No Option Orientation : Vertical

Correct Marks : 1 Wrong Marks : 0.25

Find the part of the given sentence that has an error in it. If there is no error, choose 'No error'.

The rain stopped (1) / when she (2) / arrived (3) /. No error (4)

Options :

1. ✓ 1

2. ✗ 2

3. ✗ 3

4. ✗ 4

Question Number : 124 Question Id : 5459275578 Question Type : MCQ Option Shuffling : Yes Display Question Number : Yes
Single Line Question Option : No Option Orientation : Vertical

Correct Marks : 1 Wrong Marks : 0.25

Find the part of the given sentence that has an error in it. If there is no error, choose 'No error'.

The sun (1) / do not (2) / set in the East (3) / . No error (4)

Options :

1. ✘ 1

2. ✔ 2

3. ✘ 3

4. ✘ 4

Question Number : 124 Question Id : 5459275578 Question Type : MCQ Option Shuffling : Yes Display Question Number : Yes
Single Line Question Option : No Option Orientation : Vertical

Correct Marks : 1 Wrong Marks : 0.25

Find the part of the given sentence that has an error in it. If there is no error, choose 'No error'.

The sun (1) / do not (2) / set in the East (3) / . No error (4)

Options :

1. ✘ 1

2. ✔ 2

3. ✘ 3

4. ✘ 4

Question Number : 125 Question Id : 5459275579 Question Type : MCQ Option Shuffling : Yes Display Question Number : Yes
Single Line Question Option : No Option Orientation : Vertical

Correct Marks : 1 Wrong Marks : 0.25

Find the part of the given sentence that has an error in it. If there is no error, choose 'No error'.

That group of (1) / students is going (2) / on a picnic (3) / . No error (4)

Options :

1. ✘ 1

2. ✘ 2

3. ✘ 3

4. ✔ 4

Question Number : 125 Question Id : 5459275579 Question Type : MCQ Option Shuffling : Yes Display Question Number : Yes
Single Line Question Option : No Option Orientation : Vertical

Correct Marks : 1 Wrong Marks : 0.25

Find the part of the given sentence that has an error in it. If there is no error, choose 'No error'.

That group of (1) / students is going (2) / on a picnic (3) / . No error (4)

Options :

1. ✘ 1

2. ✘ 2

3. ✘ 3

4. ✔ 4

Question Number : 126 Question Id : 5459275580 Question Type : MCQ Option Shuffling : Yes Display Question Number : Yes
Single Line Question Option : No Option Orientation : Vertical

Correct Marks : 1 Wrong Marks : 0.25

Improve the bracketed part of the sentence.

She (dares) not come before me.

Options :

1. ✓ dare
2. ✗ dared
3. ✗ daring
4. ✗ No Improvement

Question Number : 126 Question Id : 5459275580 Question Type : MCQ Option Shuffling : Yes Display Question Number : Yes
Single Line Question Option : No Option Orientation : Vertical

Correct Marks : 1 Wrong Marks : 0.25

Improve the bracketed part of the sentence.

She (dares) not come before me.

Options :

1. ✓ dare
2. ✗ dared
3. ✗ daring
4. ✗ No Improvement

Question Number : 127 Question Id : 5459275581 Question Type : MCQ Option Shuffling : Yes Display Question Number : Yes
Single Line Question Option : No Option Orientation : Vertical

Correct Marks : 1 Wrong Marks : 0.25

Improve the bracketed part of the sentence.

All his sheep (have) grazing in the field.

Options :

1. ✗ is
2. ✓ are
3. ✗ had
4. ✗ No Improvement

Question Number : 127 Question Id : 5459275581 Question Type : MCQ Option Shuffling : Yes Display Question Number : Yes
Single Line Question Option : No Option Orientation : Vertical

Correct Marks : 1 Wrong Marks : 0.25

Improve the bracketed part of the sentence.

All his sheep (have) grazing in the field.

Options :

1. ✗ is
2. ✓ are
3. ✗ had
4. ✗ No Improvement

Question Number : 128 Question Id : 5459275582 Question Type : MCQ Option Shuffling : Yes Display Question Number : Yes
Single Line Question Option : No Option Orientation : Vertical

Correct Marks : 1 Wrong Marks : 0.25

Improve the bracketed part of the sentence.

The great warrior and patriot (is) being honoured.

Options :

- ✘ are
- ✘ have
- ✘ were
- ✔ No Improvement

Question Number : 128 Question Id : 5459275582 Question Type : MCQ Option Shuffling : Yes Display Question Number : Yes
Single Line Question Option : No Option Orientation : Vertical

Correct Marks : 1 Wrong Marks : 0.25

Improve the bracketed part of the sentence.

The great warrior and patriot (is) being honoured.

Options :

- ✘ are
- ✘ have
- ✘ were
- ✔ No Improvement

Question Number : 129 Question Id : 5459275583 Question Type : MCQ Option Shuffling : Yes Display Question Number : Yes
Single Line Question Option : No Option Orientation : Vertical

Correct Marks : 1 Wrong Marks : 0.25

Improve the bracketed part of the sentence.

He behaved as if he (was) our master.

Options :

- ✔ were
- ✘ is
- ✘ has
- ✘ No Improvement

Question Number : 129 Question Id : 5459275583 Question Type : MCQ Option Shuffling : Yes Display Question Number : Yes
Single Line Question Option : No Option Orientation : Vertical

Correct Marks : 1 Wrong Marks : 0.25

Improve the bracketed part of the sentence.

He behaved as if he (was) our master.

Options :

- ✔ were
- ✘ is
- ✘ has
- ✘ No Improvement

Question Number : 130 Question Id : 5459275584 Question Type : MCQ Option Shuffling : Yes Display Question Number : Yes
Single Line Question Option : No Option Orientation : Vertical

Correct Marks : 1 Wrong Marks : 0.25

Improve the bracketed part of the sentence.

The father and son (works) in the field.

Options :

1. ✘ working
2. ✔ work
3. ✘ were work
4. ✘ No Improvement

Question Number : 130 Question Id : 5459275584 Question Type : MCQ Option Shuffling : Yes Display Question Number : Yes
Single Line Question Option : No Option Orientation : Vertical

Correct Marks : 1 Wrong Marks : 0.25

Improve the bracketed part of the sentence.

The father and son (works) in the field.

Options :

1. ✘ working
2. ✔ work
3. ✘ were work
4. ✘ No Improvement

Question Number : 131 Question Id : 5459275585 Question Type : MCQ Option Shuffling : Yes Display Question Number : Yes
Single Line Question Option : No Option Orientation : Vertical

Correct Marks : 1 Wrong Marks : 0.25

A sentence has been given with a blank to be filled with an appropriate word. Choose the correct alternative.

_____ giving him advice, he gave him some money.

Options :

1. ✘ For
2. ✔ On
3. ✘ To
4. ✘ At

Question Number : 131 Question Id : 5459275585 Question Type : MCQ Option Shuffling : Yes Display Question Number : Yes
Single Line Question Option : No Option Orientation : Vertical

Correct Marks : 1 Wrong Marks : 0.25

A sentence has been given with a blank to be filled with an appropriate word. Choose the correct alternative.

_____ giving him advice, he gave him some money.

Options :

1. ✘ For
2. ✔ On
3. ✘ To
4. ✘ At

Question Number : 132 Question Id : 5459275586 Question Type : MCQ Option Shuffling : Yes Display Question Number : Yes
Single Line Question Option : No Option Orientation : Vertical

Correct Marks : 1 Wrong Marks : 0.25

A sentence has been given with a blank to be filled with an appropriate word. Choose the correct alternative.

The cat sprang _____ the table.

Options :

1. ✔ upon

2. ✘ on
3. ✘ in
4. ✘ for

Question Number : 132 Question Id : 5459275586 Question Type : MCQ Option Shuffling : Yes Display Question Number : Yes
Single Line Question Option : No Option Orientation : Vertical

Correct Marks : 1 Wrong Marks : 0.25

A sentence has been given with a blank to be filled with an appropriate word. Choose the correct alternative.

The cat sprang _____ the table.

Options :

1. ✔ upon
2. ✘ on
3. ✘ in
4. ✘ for

Question Number : 133 Question Id : 5459275587 Question Type : MCQ Option Shuffling : Yes Display Question Number : Yes
Single Line Question Option : No Option Orientation : Vertical

Correct Marks : 1 Wrong Marks : 0.25

A sentence has been given with a blank to be filled with an appropriate word. Choose the correct alternative.

The tree was cut by the man _____ an axe.

Options :

1. ✔ by
2. ✘ along
3. ✘ during
4. ✘ towards

Question Number : 133 Question Id : 5459275587 Question Type : MCQ Option Shuffling : Yes Display Question Number : Yes
Single Line Question Option : No Option Orientation : Vertical

Correct Marks : 1 Wrong Marks : 0.25

A sentence has been given with a blank to be filled with an appropriate word. Choose the correct alternative.

The tree was cut by the man _____ an axe.

Options :

1. ✔ by
2. ✘ along
3. ✘ during
4. ✘ towards

Question Number : 134 Question Id : 5459275588 Question Type : MCQ Option Shuffling : Yes Display Question Number : Yes
Single Line Question Option : No Option Orientation : Vertical

Correct Marks : 1 Wrong Marks : 0.25

A sentence has been given with a blank to be filled with an appropriate word. Choose the correct alternative.

It was a case of a miser _____ his money.

Options :

1. ✘ also
2. ✘ but
3. ✘ because

4. ✓ and

Question Number : 134 Question Id : 5459275588 Question Type : MCQ Option Shuffling : Yes Display Question Number : Yes
Single Line Question Option : No Option Orientation : Vertical

Correct Marks : 1 Wrong Marks : 0.25

A sentence has been given with a blank to be filled with an appropriate word. Choose the correct alternative.
It was a case of a miser _____ his money.

Options :

1. ✗ also
2. ✗ but
3. ✗ because
4. ✓ and

Question Number : 135 Question Id : 5459275589 Question Type : MCQ Option Shuffling : Yes Display Question Number : Yes
Single Line Question Option : No Option Orientation : Vertical

Correct Marks : 1 Wrong Marks : 0.25

A sentence has been given with a blank to be filled with an appropriate word. Choose the correct alternative.

He _____ his sister is guilty.

Options :

1. ✗ both
2. ✓ no less than
3. ✗ not only
4. ✗ so

Question Number : 135 Question Id : 5459275589 Question Type : MCQ Option Shuffling : Yes Display Question Number : Yes
Single Line Question Option : No Option Orientation : Vertical

Correct Marks : 1 Wrong Marks : 0.25

A sentence has been given with a blank to be filled with an appropriate word. Choose the correct alternative.

He _____ his sister is guilty.

Options :

1. ✗ both
2. ✓ no less than
3. ✗ not only
4. ✗ so

Question Number : 136 Question Id : 5459275590 Question Type : MCQ Option Shuffling : Yes Display Question Number : Yes
Single Line Question Option : No Option Orientation : Vertical

Correct Marks : 1 Wrong Marks : 0.25

A sentence has been given with a blank to be filled with an appropriate word. Choose the correct alternative.

She is slow _____ she is steady.

Options :

1. ✗ because
2. ✗ even
3. ✓ but
4. ✗ only

Question Number : 136 Question Id : 5459275590 Question Type : MCQ Option Shuffling : Yes Display Question Number : Yes
Single Line Question Option : No Option Orientation : Vertical

Correct Marks : 1 Wrong Marks : 0.25

A sentence has been given with a blank to be filled with an appropriate word. Choose the correct alternative.

She is slow _____ she is steady.

Options :

1. ✘ because
2. ✘ even
3. ✔ but
4. ✘ only

Question Number : 137 Question Id : 5459275591 Question Type : MCQ Option Shuffling : Yes Display Question Number : Yes
Single Line Question Option : No Option Orientation : Vertical

Correct Marks : 1 Wrong Marks : 0.25

A sentence has been given with a blank to be filled with an appropriate word. Choose the correct alternative.

Many things have happened here _____ you left.

Options :

1. ✔ since
2. ✘ while
3. ✘ until
4. ✘ therefore

Question Number : 137 Question Id : 5459275591 Question Type : MCQ Option Shuffling : Yes Display Question Number : Yes
Single Line Question Option : No Option Orientation : Vertical

Correct Marks : 1 Wrong Marks : 0.25

A sentence has been given with a blank to be filled with an appropriate word. Choose the correct alternative.

Many things have happened here _____ you left.

Options :

1. ✔ since
2. ✘ while
3. ✘ until
4. ✘ therefore

Question Number : 138 Question Id : 5459275592 Question Type : MCQ Option Shuffling : Yes Display Question Number : Yes
Single Line Question Option : No Option Orientation : Vertical

Correct Marks : 1 Wrong Marks : 0.25

A sentence has been given with a blank to be filled with an appropriate word. Choose the correct alternative.

The noted actor and musician _____ giving a demonstration.

Options :

1. ✘ are
2. ✔ is
3. ✘ has
4. ✘ have

Question Number : 138 Question Id : 5459275592 Question Type : MCQ Option Shuffling : Yes Display Question Number : Yes
Single Line Question Option : No Option Orientation : Vertical

Correct Marks : 1 Wrong Marks : 0.25

A sentence has been given with a blank to be filled with an appropriate word. Choose the correct alternative.

The noted actor and musician _____ giving a demonstration.

Options :

1. ✘ are
2. ✔ is
3. ✘ has
4. ✘ have

Question Number : 139 Question Id : 5459275593 Question Type : MCQ Option Shuffling : Yes Display Question Number : Yes
Single Line Question Option : No Option Orientation : Vertical

Correct Marks : 1 Wrong Marks : 0.25

The question below consists of a set of labeled sentences. Out of the four options given, select the most logical order of the sentences to form a coherent paragraph.

P: on her own
Q: she is
R: to carry the box
S: too weak

Options :

1. ✘ PQRS
2. ✔ QSRP
3. ✘ QRPS
4. ✘ QPSR

Question Number : 139 Question Id : 5459275593 Question Type : MCQ Option Shuffling : Yes Display Question Number : Yes
Single Line Question Option : No Option Orientation : Vertical

Correct Marks : 1 Wrong Marks : 0.25

The question below consists of a set of labeled sentences. Out of the four options given, select the most logical order of the sentences to form a coherent paragraph.

P: on her own
Q: she is
R: to carry the box
S: too weak

Options :

1. ✘ PQRS
2. ✔ QSRP
3. ✘ QRPS
4. ✘ QPSR

Question Number : 140 Question Id : 5459275594 Question Type : MCQ Option Shuffling : Yes Display Question Number : Yes
Single Line Question Option : No Option Orientation : Vertical

Correct Marks : 1 Wrong Marks : 0.25

The question below consists of a set of labeled sentences. Out of the four options given, select the most logical order of the sentences to form a coherent paragraph.

P: so dark
Q: that I can
R: It is
S: see nothing

Options :

1. ✘ QSRP

- 2. ✘ PQRS
- 3. ✔ RPQS
- 4. ✘ RQSP

Question Number : 140 Question Id : 5459275594 Question Type : MCQ Option Shuffling : Yes Display Question Number : Yes
Single Line Question Option : No Option Orientation : Vertical

Correct Marks : 1 Wrong Marks : 0.25

The question below consists of a set of labeled sentences. Out of the four options given, select the most logical order of the sentences to form a coherent paragraph.

- P: so dark
- Q: that I can
- R: It is
- S: see nothing

Options :

- 1. ✘ QSRP
- 2. ✘ PQRS
- 3. ✔ RPQS
- 4. ✘ RQSP

General English2

Group Number :	8
Group Id :	545927278
Group Maximum Duration :	0
Group Minimum Duration :	0
Revisit allowed for view? :	No
Revisit allowed for edit? :	No
Break time:	0
Group Marks:	20
Revisit allowed for group Instructions? :	Yes
Maximum Instruction Time:	0
Minimum Instruction Time:	0

General English2

Section Id :	545927278
Section Number :	1
Section type :	Online
Mandatory or Optional:	Mandatory
Number of Questions:	16
Number of Questions to be attempted:	16
Section Marks:	20
Display Number Panel:	Yes
Group All Questions:	No

Sub-Section Number:	1
Sub-Section Id:	545927332
Question Shuffling Allowed :	Yes

Question Number : 141 Question Id : 5459275595 Question Type : MCQ Option Shuffling : Yes Display Question Number : Yes
Single Line Question Option : No Option Orientation : Vertical

Correct Marks : 1 Wrong Marks : 0.25

The question below consists of a set of labeled sentences. Out of the four options given, select the most logical order of the sentences to form a coherent paragraph.

P: There was much uproar and high excitement.

Q: Last evening, while passing through Chandni Chowk,

R: I proceeded towards the crowd and asked an old man what had happened.

S: I saw a large crowd gathered in front of the shop of a general merchant.

Options :

1. ✓ QSPR
2. ✗ PQRS
3. ✗ QRSP
4. ✗ QPRS

Question Number : 141 Question Id : 5459275595 Question Type : MCQ Option Shuffling : Yes Display Question Number : Yes
Single Line Question Option : No Option Orientation : Vertical

Correct Marks : 1 Wrong Marks : 0.25

The question below consists of a set of labeled sentences. Out of the four options given, select the most logical order of the sentences to form a coherent paragraph.

P: There was much uproar and high excitement.

Q: Last evening, while passing through Chandni Chowk,

R: I proceeded towards the crowd and asked an old man what had happened.

S: I saw a large crowd gathered in front of the shop of a general merchant.

Options :

1. ✓ QSPR
2. ✗ PQRS
3. ✗ QRSP
4. ✗ QPRS

Question Number : 142 Question Id : 5459275596 Question Type : MCQ Option Shuffling : Yes Display Question Number : Yes
Single Line Question Option : No Option Orientation : Vertical

Correct Marks : 1 Wrong Marks : 0.25

Choose the word that means the same as the given word.

Abolish

Options :

1. ✗ Collocate
2. ✗ Create
3. ✓ Destroy
4. ✗ Insinuate

Question Number : 142 Question Id : 5459275596 Question Type : MCQ Option Shuffling : Yes Display Question Number : Yes
Single Line Question Option : No Option Orientation : Vertical

Correct Marks : 1 Wrong Marks : 0.25

Choose the word that means the same as the given word.

Abolish

Options :

1. ✘ Collocate
2. ✘ Create
3. ✔ Destroy
4. ✘ Insinuate

Question Number : 143 Question Id : 5459275597 Question Type : MCQ Option Shuffling : Yes Display Question Number : Yes
Single Line Question Option : No Option Orientation : Vertical

Correct Marks : 1 Wrong Marks : 0.25

Choose the word that means the same as the given word.

Support

Options :

1. ✔ Aid
2. ✘ Oppose
3. ✘ Hamper
4. ✘ Break

Question Number : 143 Question Id : 5459275597 Question Type : MCQ Option Shuffling : Yes Display Question Number : Yes
Single Line Question Option : No Option Orientation : Vertical

Correct Marks : 1 Wrong Marks : 0.25

Choose the word that means the same as the given word.

Support

Options :

1. ✔ Aid
2. ✘ Oppose
3. ✘ Hamper
4. ✘ Break

Question Number : 144 Question Id : 5459275598 Question Type : MCQ Option Shuffling : Yes Display Question Number : Yes
Single Line Question Option : No Option Orientation : Vertical

Correct Marks : 1 Wrong Marks : 0.25

Choose the word that is opposite in meaning to the given word.

Enlarge

Options :

1. ✘ Concrete
2. ✘ Augment
3. ✔ Abridge
4. ✘ Accumulate

Question Number : 144 Question Id : 5459275598 Question Type : MCQ Option Shuffling : Yes Display Question Number : Yes
Single Line Question Option : No Option Orientation : Vertical

Correct Marks : 1 Wrong Marks : 0.25

Choose the word that is opposite in meaning to the given word.

Enlarge

Options :

1. ✘ Concrete
2. ✘ Augment

3. ✓ Abridge

4. ✗ Accumulate

Question Number : 145 Question Id : 5459275599 Question Type : MCQ Option Shuffling : Yes Display Question Number : Yes
Single Line Question Option : No Option Orientation : Vertical

Correct Marks : 1 Wrong Marks : 0.25

Choose the word that is opposite in meaning to the given word.

Desolate

Options :

1. ✗ Quiet

2. ✗ Dreary

3. ✗ Considerate

4. ✓ Improve

Question Number : 145 Question Id : 5459275599 Question Type : MCQ Option Shuffling : Yes Display Question Number : Yes
Single Line Question Option : No Option Orientation : Vertical

Correct Marks : 1 Wrong Marks : 0.25

Choose the word that is opposite in meaning to the given word.

Desolate

Options :

1. ✗ Quiet

2. ✗ Dreary

3. ✗ Considerate

4. ✓ Improve

Question Number : 146 Question Id : 5459275600 Question Type : MCQ Option Shuffling : Yes Display Question Number : Yes
Single Line Question Option : No Option Orientation : Vertical

Correct Marks : 1 Wrong Marks : 0.25

Choose the word that is opposite in meaning to the given word.

Cowardice

Note: For this question, discrepancy is found in question/answer. So, this question is ignored for all candidates.

Options :

1. Audacity

2. Boldness

3. Fear

4. Humility

Question Number : 146 Question Id : 5459275600 Question Type : MCQ Option Shuffling : Yes Display Question Number : Yes
Single Line Question Option : No Option Orientation : Vertical

Correct Marks : 1 Wrong Marks : 0.25

Choose the word that is opposite in meaning to the given word.

Cowardice

Note: For this question, discrepancy is found in question/answer. So, this question is ignored for all candidates.

Options :

1. Audacity

2. Boldness
3. Fear
4. Humility

Question Number : 147 Question Id : 5459275601 Question Type : MCQ Option Shuffling : Yes Display Question Number : Yes
Single Line Question Option : No Option Orientation : Vertical

Correct Marks : 1 Wrong Marks : 0.25

In the given question, four words are given out of which one word is correctly spelt. Choose the correctly spelt word.

Options :

1. ✓ Acceptable
2. ✗ Exceptabel
3. ✗ Acceptable
4. ✗ Acceptabal

Question Number : 147 Question Id : 5459275601 Question Type : MCQ Option Shuffling : Yes Display Question Number : Yes
Single Line Question Option : No Option Orientation : Vertical

Correct Marks : 1 Wrong Marks : 0.25

In the given question, four words are given out of which one word is correctly spelt. Choose the correctly spelt word.

Options :

1. ✓ Acceptable
2. ✗ Exceptabel
3. ✗ Acceptable
4. ✗ Acceptabal

Question Number : 148 Question Id : 5459275602 Question Type : MCQ Option Shuffling : Yes Display Question Number : Yes
Single Line Question Option : No Option Orientation : Vertical

Correct Marks : 1 Wrong Marks : 0.25

In the given question, four words are given out of which one word is correctly spelt. Choose the correctly spelt word.

Options :

1. ✗ Acuire
2. ✗ Aquire
3. ✓ Acquire
4. ✗ Ecquire

Question Number : 148 Question Id : 5459275602 Question Type : MCQ Option Shuffling : Yes Display Question Number : Yes
Single Line Question Option : No Option Orientation : Vertical

Correct Marks : 1 Wrong Marks : 0.25

In the given question, four words are given out of which one word is correctly spelt. Choose the correctly spelt word.

Options :

1. ✗ Acuire
2. ✗ Aquire
3. ✓ Acquire
4. ✗ Ecquire

Question Number : 149 Question Id : 5459275603 Question Type : MCQ Option Shuffling : Yes Display Question Number : Yes
Single Line Question Option : No Option Orientation : Vertical

Correct Marks : 1 Wrong Marks : 0.25

In the given question, four words are given out of which one word is correctly spelt. Choose the correctly spelt word.

Options :

1. ✘ Allott
2. ✘ Alaut
3. ✘ Ollot
4. ✔ Allot

Question Number : 149 Question Id : 5459275603 Question Type : MCQ Option Shuffling : Yes Display Question Number : Yes Single Line Question Option : No Option Orientation : Vertical

Correct Marks : 1 Wrong Marks : 0.25

In the given question, four words are given out of which one word is correctly spelt. Choose the correctly spelt word.

Options :

1. ✘ Allott
2. ✘ Alaut
3. ✘ Ollot
4. ✔ Allot

Question Number : 150 Question Id : 5459275604 Question Type : MCQ Option Shuffling : Yes Display Question Number : Yes Single Line Question Option : No Option Orientation : Vertical

Correct Marks : 1 Wrong Marks : 0.25

In the following question, out of the given four alternatives, select the alternative which best expresses the meaning of the Idiom/Phrase.

On board

Options :

1. ✘ Never
2. ✔ Joined
3. ✘ Work hard
4. ✘ A little

Question Number : 150 Question Id : 5459275604 Question Type : MCQ Option Shuffling : Yes Display Question Number : Yes Single Line Question Option : No Option Orientation : Vertical

Correct Marks : 1 Wrong Marks : 0.25

In the following question, out of the given four alternatives, select the alternative which best expresses the meaning of the Idiom/Phrase.

On board

Options :

1. ✘ Never
2. ✔ Joined
3. ✘ Work hard
4. ✘ A little

Question Number : 151 Question Id : 5459275605 Question Type : MCQ Option Shuffling : Yes Display Question Number : Yes Single Line Question Option : No Option Orientation : Vertical

Correct Marks : 1 Wrong Marks : 0.25

In the following question, out of the given four alternatives, select the alternative which best expresses the meaning of the Idiom/Phrase.

By fits and starts

Options :

1. ✓ In short period
2. ✗ Between two dangers
3. ✗ Under his control
4. ✗ Without hope

Question Number : 151 Question Id : 5459275605 Question Type : MCQ Option Shuffling : Yes Display Question Number : Yes Single Line Question Option : No Option Orientation : Vertical

Correct Marks : 1 Wrong Marks : 0.25

In the following question, out of the given four alternatives, select the alternative which best expresses the meaning of the Idiom/Phrase.

By fits and starts

Options :

1. ✓ In short period
2. ✗ Between two dangers
3. ✗ Under his control
4. ✗ Without hope

Question Number : 152 Question Id : 5459275606 Question Type : MCQ Option Shuffling : Yes Display Question Number : Yes Single Line Question Option : No Option Orientation : Vertical

Correct Marks : 1 Wrong Marks : 0.25

In the following question, out of the given four alternatives, select the alternative which best expresses the meaning of the Idiom/Phrase.

Cry for the moon

Options :

1. ✗ Cery nervous
2. ✗ Keep one at a distance
3. ✓ Ask for the impossible
4. ✗ Run away

Question Number : 152 Question Id : 5459275606 Question Type : MCQ Option Shuffling : Yes Display Question Number : Yes Single Line Question Option : No Option Orientation : Vertical

Correct Marks : 1 Wrong Marks : 0.25

In the following question, out of the given four alternatives, select the alternative which best expresses the meaning of the Idiom/Phrase.

Cry for the moon

Options :

1. ✗ Cery nervous
2. ✗ Keep one at a distance
3. ✓ Ask for the impossible
4. ✗ Run away

Question Number : 153 Question Id : 5459275607 Question Type : MCQ Option Shuffling : Yes Display Question Number : Yes Single Line Question Option : No Option Orientation : Vertical

Correct Marks : 1 Wrong Marks : 0.25

Choose the word that can substitute the given sentence.

One who studies the evolution of mankind

Options :

1. ✘ Archaeologist
2. ✔ Anthropologist
3. ✘ Pathologist
4. ✘ Ophthalmologist

Question Number : 153 Question Id : 5459275607 Question Type : MCQ Option Shuffling : Yes Display Question Number : Yes Single Line Question Option : No Option Orientation : Vertical

Correct Marks : 1 Wrong Marks : 0.25

Choose the word that can substitute the given sentence.

One who studies the evolution of mankind

Options :

1. ✘ Archaeologist
2. ✔ Anthropologist
3. ✘ Pathologist
4. ✘ Ophthalmologist

Question Number : 154 Question Id : 5459275608 Question Type : MCQ Option Shuffling : Yes Display Question Number : Yes Single Line Question Option : No Option Orientation : Vertical

Correct Marks : 1 Wrong Marks : 0.25

Choose the word that can substitute the given sentence.

A self-governing country or region

Options :

1. ✔ Autonomy
2. ✘ Democracy
3. ✘ Republic
4. ✘ Union

Question Number : 154 Question Id : 5459275608 Question Type : MCQ Option Shuffling : Yes Display Question Number : Yes Single Line Question Option : No Option Orientation : Vertical

Correct Marks : 1 Wrong Marks : 0.25

Choose the word that can substitute the given sentence.

A self-governing country or region

Options :

1. ✔ Autonomy
2. ✘ Democracy
3. ✘ Republic
4. ✘ Union

Question Number : 155 Question Id : 5459275609 Question Type : MCQ Option Shuffling : Yes Display Question Number : Yes Single Line Question Option : No Option Orientation : Vertical

Correct Marks : 1 Wrong Marks : 0.25

Choose the word that can substitute the given sentence.

A secret or disguised way of writing

Options :

1. ✘ Calligraphy
2. ✘ Cartography
3. ✔ Cipher
4. ✘ Lexicography

Question Number : 155 Question Id : 5459275609 Question Type : MCQ Option Shuffling : Yes Display Question Number : Yes
Single Line Question Option : No Option Orientation : Vertical

Correct Marks : 1 Wrong Marks : 0.25

Choose the word that can substitute the given sentence.

A secret or disguised way of writing

Options :

1. ✘ Calligraphy
2. ✘ Cartography
3. ✔ Cipher
4. ✘ Lexicography

Sub-Section Number:	2
Sub-Section Id:	545927333
Question Shuffling Allowed :	Yes

Question Id : 5459275610 Question Type : COMPREHENSION Sub Question Shuffling Allowed : Yes Group Comprehension
Questions : No

Question Numbers : (156 to 160)

Question Label : Comprehension

Read the following information carefully and answer the given questions.

The most important reason for this state of affairs, perhaps, is that India was the only country in the world to truly recognize the achievements of the Soviet Union rather than merely focus on the debilitating faults that communism brought to its people. The people of India realized that the achievement of one hundred percent literacy in a country, much larger than its own and with similarly complicated ethnic, and religious groupings the rapid industrialization of the nation that was a primarily agrarian society when the Bolshevik revolution took place in 1917. The attendant revolutionary steps in science and technology the accessibility of health care to the general population and despite the prohibition of the government of the time the vast, outpourings in literature, music, art, etc are momentous and remarkable in any country. In contrast, all that the West focuses on where the massive human rights violations by the Soviet State on its people, the deliberate uprooting and mass migrations of ethnic peoples from one part of the country to another in the name of industrialization, the end of religion. In short, all the tools of information were employed to condemn the ideology of communism, so much at variance with capitalist thinking.

The difference between the Indian perception. I think here is, while the Indians reacted as negatively to what the Soviet Government's did to its people in the name of good governance(witness the imprisonment of Boris Pasternak and the formation of an International committee to put pressure for his release with Jawaharlal Nehru at its head), they took the pain not to condemn the people of that broad country in black and white terms, the understood that mingled in the shades of grey were grains of uniqueness (the Russians have never failed that characteristic in themselves, they have twice experimented with completely different ideologies, communism, and capitalism both in the space of country).

Sub questions

Question Number : 156 Question Id : 5459275611 Question Type : MCQ Option Shuffling : Yes Display Question Number : Yes
Single Line Question Option : No Option Orientation : Vertical

Correct Marks : 1 Wrong Marks : 0.25

Choose a word from the passage which means the same as phenomenal.

Options :

1. ✘ Perception
2. ✘ Imprisonment
3. ✔ Remarkable
4. ✘ Capitalism

Question Number : 157 Question Id : 5459275612 Question Type : MCQ Option Shuffling : Yes Display Question Number : Yes
Single Line Question Option : No Option Orientation : Vertical

Correct Marks : 1 Wrong Marks : 0.25

Choose a word which means the same as prohibition.

Options :

1. ✔ Prevention
2. ✘ Allowance
3. ✘ Approval
4. ✘ Help

Question Number : 158 Question Id : 5459275613 Question Type : MCQ Option Shuffling : Yes Display Question Number : Yes
Single Line Question Option : No Option Orientation : Vertical

Correct Marks : 1 Wrong Marks : 0.25

Which of the following statements is true?

Options :

1. ✘ India took heed about the weak faults of Russian policies and system
2. ✔ India seriously commended the achievement of Russia
3. ✘ The process of industrialization had already started, when Russian Revolution took place in 1917
4. ✘ The literature, music and art received a set back during the communist regime in Russia

Question Number : 159 Question Id : 5459275614 Question Type : MCQ Option Shuffling : Yes Display Question Number : Yes
Single Line Question Option : No Option Orientation : Vertical

Correct Marks : 1 Wrong Marks : 0.25

The West did not focus on:

Options :

1. ✘ Rapid growth of nuclear weapon in Russia
2. ✘ Massive human rights violation by the Soviet State on its people
3. ✘ Deliberate uprooting and mass migration of ethnic people in the name of industrialization
4. ✔ Massive human rights violation by the Soviet State on its people and Deliberate uprooting and mass migration of ethnic people in the name of industrialization

Question Number : 160 Question Id : 5459275615 Question Type : MCQ Option Shuffling : Yes Display Question Number : Yes
Single Line Question Option : No Option Orientation : Vertical

Correct Marks : 1 Wrong Marks : 0.25

Indian perception of the USSR was always:

Options :

1. ✘ Negative
2. ✘ Neutral
3. ✘ Counter reactionary

4. ✓ Applauding

Question Id : 5459275610 Question Type : COMPREHENSION Sub Question Shuffling Allowed : Yes Group Comprehension Questions : No

Question Numbers : (156 to 160)

Question Label : Comprehension

Read the following information carefully and answer the given questions.

The most important reason for this state of affairs, perhaps, is that India was the only country in the world to truly recognize the achievements of the Soviet Union rather than merely focus on the debilitating faults that communism brought to its people. The people of India realized that the achievement of one hundred percent literacy in a country, much larger than its own and with similarly complicated ethnic, and religious groupings the rapid industrialization of the nation that was a primarily agrarian society when the Bolshevik revolution took place in 1917. The attendant revolutionary steps in science and technology the accessibility of health care to the general population and despite the prohibition of the government of the time the vast, outpourings in literature, music, art, etc are momentous and remarkable in any country. In contrast, all that the West focuses on where the massive human rights violations by the Soviet State on its people, the deliberate uprooting and mass migrations of ethnic peoples from one part of the country to another in the name of industrialization, the end of religion. In short, all the tools of information were employed to condemn the ideology of communism, so much at variance with capitalist thinking.

The difference between the Indian perception. I think here is, while the Indians reacted as negatively to what the Soviet Government's did to its people in the name of good governance(witness the imprisonment of Boris Pasternak and the formation of an International committee to put pressure for his release with Jawaharlal Nehru at its head), they took the pain not to condemn the people of that broad country in black and white terms, the understood that mingled in the shades of grey were grains of uniqueness (the Russians have never failed that characteristic in themselves, they have twice experimented with completely different ideologies, communism, and capitalism both in the space of country).

Sub questions

Question Number : 156 Question Id : 5459275611 Question Type : MCQ Option Shuffling : Yes Display Question Number : Yes Single Line Question Option : No Option Orientation : Vertical

Correct Marks : 1 Wrong Marks : 0.25

Choose a word from the passage which means the same as phenomenal.

Options :

1. ✗ Perception
2. ✗ Imprisonment
3. ✓ Remarkable
4. ✗ Capitalism

Question Number : 157 Question Id : 5459275612 Question Type : MCQ Option Shuffling : Yes Display Question Number : Yes Single Line Question Option : No Option Orientation : Vertical

Correct Marks : 1 Wrong Marks : 0.25

Choose a word which means the same as prohibition.

Options :

1. ✓ Prevention
2. ✗ Allowance
3. ✗ Approval
4. ✗ Help

Question Number : 158 Question Id : 5459275613 Question Type : MCQ Option Shuffling : Yes Display Question Number : Yes Single Line Question Option : No Option Orientation : Vertical

Correct Marks : 1 Wrong Marks : 0.25

Which of the following statements is true?

Options :

1. ✘ India took heed about the weak faults of Russian policies and system
2. ✔ India seriously commended the achievement of Russia
3. ✘ The process of industrialization had already started, when Russian Revolution took place in 1917
4. ✘ The literature, music and art received a set back during the communist regime in Russia

Question Number : 159 Question Id : 5459275614 Question Type : MCQ Option Shuffling : Yes Display Question Number : Yes
Single Line Question Option : No Option Orientation : Vertical

Correct Marks : 1 Wrong Marks : 0.25

The West did not focus on:

Options :

1. ✘ Rapid growth of nuclear weapon in Russia
2. ✘ Massive human rights violation by the Soviet State on its people
3. ✘ Deliberate uprooting and mass migration of ethnic people in the name of industrialization
4. ✔ Massive human rights violation by the Soviet State on its people and Deliberate uprooting and mass migration of ethnic people in the name of industrialization

Question Number : 160 Question Id : 5459275615 Question Type : MCQ Option Shuffling : Yes Display Question Number : Yes
Single Line Question Option : No Option Orientation : Vertical

Correct Marks : 1 Wrong Marks : 0.25

Indian perception of the USSR was always:

Options :

1. ✘ Negative
2. ✘ Neutral
3. ✘ Counter reactionary
4. ✔ Applauding

General Hindi 1

Group Number :	9
Group Id :	545927279
Group Maximum Duration :	0
Group Minimum Duration :	0
Revisit allowed for view? :	No
Revisit allowed for edit? :	No
Break time:	0
Group Marks:	20
Revisit allowed for group Instructions? :	Yes
Maximum Instruction Time:	0
Minimum Instruction Time:	0

General Hindi 1

Section Id :	545927279
Section Number :	1
Section type :	Online
Mandatory or Optional:	Mandatory
Number of Questions:	20
Number of Questions to be attempted:	20
Section Marks:	20

Display Number Panel: Yes
Group All Questions: No

Sub-Section Number: 1
Sub-Section Id: 545927334
Question Shuffling Allowed : Yes

Question Number : 161 Question Id : 5459275616 Question Type : MCQ Option Shuffling : Yes Display Question Number : Yes
Single Line Question Option : No Option Orientation : Vertical

Correct Marks : 1 Wrong Marks : 0.25

दिए गए शब्द में प्रत्यय ज्ञात कीजिए।

लघुता

Options :

1. ✓ ता
2. ✗ घुता
3. ✗ ल
4. ✗ लघू

Question Number : 161 Question Id : 5459275616 Question Type : MCQ Option Shuffling : Yes Display Question Number : Yes
Single Line Question Option : No Option Orientation : Vertical

Correct Marks : 1 Wrong Marks : 0.25

दिए गए शब्द में प्रत्यय ज्ञात कीजिए।

लघुता

Options :

1. ✓ ता
2. ✗ घुता
3. ✗ ल
4. ✗ लघू

Question Number : 162 Question Id : 5459275617 Question Type : MCQ Option Shuffling : Yes Display Question Number : Yes
Single Line Question Option : No Option Orientation : Vertical

Correct Marks : 1 Wrong Marks : 0.25

दिए गए शब्द में उपसर्ग का चयन कीजिए।

अधिष्ठता

Options :

1. ✗ ता
2. ✗ अ
3. ✓ अधि
4. ✗ ठता

Question Number : 162 Question Id : 5459275617 Question Type : MCQ Option Shuffling : Yes Display Question Number : Yes
Single Line Question Option : No Option Orientation : Vertical

Correct Marks : 1 Wrong Marks : 0.25

दिए गए शब्द में उपसर्ग का चयन कीजिए।

अधिष्ठता

Options :

1. ✘ ता
2. ✘ अ
3. ✔ अधि
4. ✘ ठता

Question Number : 163 Question Id : 5459275618 Question Type : MCQ Option Shuffling : Yes Display Question Number : Yes
Single Line Question Option : No Option Orientation : Vertical

Correct Marks : 1 Wrong Marks : 0.25

दिए गए शब्दों की संधि ज्ञात कीजिए

सरस्वती + अराधना

Options :

1. ✔ सरस्वत्याराधना
2. ✘ सरस्वतीअराधना
3. ✘ सरस्वतिधना
4. ✘ सरस्वतीराधना

Question Number : 163 Question Id : 5459275618 Question Type : MCQ Option Shuffling : Yes Display Question Number : Yes
Single Line Question Option : No Option Orientation : Vertical

Correct Marks : 1 Wrong Marks : 0.25

दिए गए शब्दों की संधि ज्ञात कीजिए

सरस्वती + अराधना

Options :

1. ✔ सरस्वत्याराधना
2. ✘ सरस्वतीअराधना
3. ✘ सरस्वतिधना
4. ✘ सरस्वतीराधना

Question Number : 164 Question Id : 5459275619 Question Type : MCQ Option Shuffling : Yes Display Question Number : Yes
Single Line Question Option : No Option Orientation : Vertical

Correct Marks : 1 Wrong Marks : 0.25

दिए गए शब्द की संज्ञा ज्ञात कीजिए

प्रेम

Options :

1. ✘ जातिवाचक
2. ✘ द्रव्यवाचक
3. ✘ व्यक्तिवाचक
4. ✔ भाववाचक

Question Number : 164 Question Id : 5459275619 Question Type : MCQ Option Shuffling : Yes Display Question Number : Yes
Single Line Question Option : No Option Orientation : Vertical

Correct Marks : 1 Wrong Marks : 0.25

दिए गए शब्द की संज्ञा ज्ञात कीजिए

प्रेम

Options :

1. ✘ जातिवाचक
2. ✘ द्रव्यवाचक

3. ✘ व्यक्तिवाचक

4. ✔ भाववाचक

Question Number : 165 Question Id : 5459275620 Question Type : MCQ Option Shuffling : Yes Display Question Number : Yes
Single Line Question Option : No Option Orientation : Vertical

Correct Marks : 1 Wrong Marks : 0.25

निम्नलिखित शब्दों में से तत्सम शब्द का चयन कीजिए।

Options :

1. ✔ दिवस

2. ✘ लाख

3. ✘ बंदर

4. ✘ घड़ा

Question Number : 165 Question Id : 5459275620 Question Type : MCQ Option Shuffling : Yes Display Question Number : Yes
Single Line Question Option : No Option Orientation : Vertical

Correct Marks : 1 Wrong Marks : 0.25

निम्नलिखित शब्दों में से तत्सम शब्द का चयन कीजिए।

Options :

1. ✔ दिवस

2. ✘ लाख

3. ✘ बंदर

4. ✘ घड़ा

Question Number : 166 Question Id : 5459275621 Question Type : MCQ Option Shuffling : Yes Display Question Number : Yes
Single Line Question Option : No Option Orientation : Vertical

Correct Marks : 1 Wrong Marks : 0.25

दिए गए शब्द का विलोम शब्द ज्ञात कीजिए।

अनिवार्य

Options :

1. ✘ जरूरी

2. ✘ निश्चित

3. ✔ एच्छिक

4. ✘ अनिश्चित

Question Number : 166 Question Id : 5459275621 Question Type : MCQ Option Shuffling : Yes Display Question Number : Yes
Single Line Question Option : No Option Orientation : Vertical

Correct Marks : 1 Wrong Marks : 0.25

दिए गए शब्द का विलोम शब्द ज्ञात कीजिए।

अनिवार्य

Options :

1. ✘ जरूरी

2. ✘ निश्चित

3. ✔ एच्छिक

4. ✘ अनिश्चित

Question Number : 167 Question Id : 5459275622 Question Type : MCQ Option Shuffling : Yes Display Question Number : Yes
Single Line Question Option : No Option Orientation : Vertical

Correct Marks : 1 Wrong Marks : 0.25

दिए गए शब्द का विलोम शब्द ज्ञात कीजिए।

नख

Options :

1. ✘ भीख
2. ✘ नग
3. ✘ अनख
4. ✔ शिख

Question Number : 167 Question Id : 5459275622 Question Type : MCQ Option Shuffling : Yes Display Question Number : Yes
Single Line Question Option : No Option Orientation : Vertical

Correct Marks : 1 Wrong Marks : 0.25

दिए गए शब्द का विलोम शब्द ज्ञात कीजिए।

नख

Options :

1. ✘ भीख
2. ✘ नग
3. ✘ अनख
4. ✔ शिख

Question Number : 168 Question Id : 5459275623 Question Type : MCQ Option Shuffling : Yes Display Question Number : Yes
Single Line Question Option : No Option Orientation : Vertical

Correct Marks : 1 Wrong Marks : 0.25

दिए गए वाक्यांश के लिए उचित शब्द का चयन कीजिए।

जिस वस्तु का मूल्यांकन न किया जा सके।

Options :

1. ✘ बहुमूल्य
2. ✘ अनमोल
3. ✔ अमूल्य
4. ✘ अधिमोल

Question Number : 168 Question Id : 5459275623 Question Type : MCQ Option Shuffling : Yes Display Question Number : Yes
Single Line Question Option : No Option Orientation : Vertical

Correct Marks : 1 Wrong Marks : 0.25

दिए गए वाक्यांश के लिए उचित शब्द का चयन कीजिए।

जिस वस्तु का मूल्यांकन न किया जा सके।

Options :

1. ✘ बहुमूल्य
2. ✘ अनमोल
3. ✔ अमूल्य
4. ✘ अधिमोल

Question Number : 169 Question Id : 5459275624 Question Type : MCQ Option Shuffling : Yes Display Question Number : Yes
Single Line Question Option : No Option Orientation : Vertical

Correct Marks : 1 Wrong Marks : 0.25

दिए गए वाक्यांश के लिए उचित शब्द का चयन कीजिए।

जो मापा न जा सके।

Options :

1. ✓ अपरिमेय
2. ✗ अमाप
3. ✗ मापान
4. ✗ अपरमेय

Question Number : 169 Question Id : 5459275624 Question Type : MCQ Option Shuffling : Yes Display Question Number : Yes
Single Line Question Option : No Option Orientation : Vertical

Correct Marks : 1 Wrong Marks : 0.25

दिए गए वाक्यांश के लिए उचित शब्द का चयन कीजिए।

जो मापा न जा सके।

Options :

1. ✓ अपरिमेय
2. ✗ अमाप
3. ✗ मापान
4. ✗ अपरमेय

Question Number : 170 Question Id : 5459275625 Question Type : MCQ Option Shuffling : Yes Display Question Number : Yes
Single Line Question Option : No Option Orientation : Vertical

Correct Marks : 1 Wrong Marks : 0.25

निम्नलिखित में से कौन सा शब्द युग्म पुनरुक्त का युग्म है?

Options :

1. ✗ लिखना - पढ़ना
2. ✓ रातों - रात
3. ✗ जैसे - तैसे
4. ✗ दिन - दोपहर

Question Number : 170 Question Id : 5459275625 Question Type : MCQ Option Shuffling : Yes Display Question Number : Yes
Single Line Question Option : No Option Orientation : Vertical

Correct Marks : 1 Wrong Marks : 0.25

निम्नलिखित में से कौन सा शब्द युग्म पुनरुक्त का युग्म है?

Options :

1. ✗ लिखना - पढ़ना
2. ✓ रातों - रात
3. ✗ जैसे - तैसे
4. ✗ दिन - दोपहर

Question Number : 171 Question Id : 5459275626 Question Type : MCQ Option Shuffling : Yes Display Question Number : Yes
Single Line Question Option : No Option Orientation : Vertical

Correct Marks : 1 Wrong Marks : 0.25

दिए गए शब्द युग्म में सही शब्द युग्म का चयन कीजिए।

अवलंब - अविलंब

Options :

1. ✗ चित्र - प्रमाण
2. ✓ सहारा - शीघ्र
3. ✗ कपट - शोक
4. ✗ शीघ्र - सहारा

Question Number : 171 Question Id : 5459275626 Question Type : MCQ Option Shuffling : Yes Display Question Number : Yes
Single Line Question Option : No Option Orientation : Vertical

Correct Marks : 1 Wrong Marks : 0.25

दिए गए शब्द युग्म में सही शब्द युग्म का चयन कीजिए।

अवलंब - अविलंब

Options :

- ✘ चित्र - प्रमाण
- ✔ सहारा - शीघ्र
- ✘ कपट - शोक
- ✘ शीघ्र - सहारा

Question Number : 172 Question Id : 5459275627 Question Type : MCQ Option Shuffling : Yes Display Question Number : Yes
Single Line Question Option : No Option Orientation : Vertical

Correct Marks : 1 Wrong Marks : 0.25

दिए गए वाक्य में रिक्त स्थान की पूर्ति कीजिए।

इस वर्ष वर्षा अच्छी नहीं हुई है _____ अनाज महंगा है।

Options :

- ✘ क्योंकि
- ✘ ताकि
- ✘ परंतु
- ✔ इसलिए

Question Number : 172 Question Id : 5459275627 Question Type : MCQ Option Shuffling : Yes Display Question Number : Yes
Single Line Question Option : No Option Orientation : Vertical

Correct Marks : 1 Wrong Marks : 0.25

दिए गए वाक्य में रिक्त स्थान की पूर्ति कीजिए।

इस वर्ष वर्षा अच्छी नहीं हुई है _____ अनाज महंगा है।

Options :

- ✘ क्योंकि
- ✘ ताकि
- ✘ परंतु
- ✔ इसलिए

Question Number : 173 Question Id : 5459275628 Question Type : MCQ Option Shuffling : Yes Display Question Number : Yes
Single Line Question Option : No Option Orientation : Vertical

Correct Marks : 1 Wrong Marks : 0.25

दिए गए शब्द का पर्यायवाची ज्ञात कीजिए।

अरि

Options :

- ✔ शत्रु
- ✘ मौत
- ✘ आरी
- ✘ पहाड़

Question Number : 173 Question Id : 5459275628 Question Type : MCQ Option Shuffling : Yes Display Question Number : Yes
Single Line Question Option : No Option Orientation : Vertical

Correct Marks : 1 Wrong Marks : 0.25

दिए गए शब्द का पर्यायवाची ज्ञात कीजिए।

अरि

Options :

1. ✓ शत्रु
2. ✗ मौत
3. ✗ आरी
4. ✗ पहाड़

Question Number : 174 Question Id : 5459275629 Question Type : MCQ Option Shuffling : Yes Display Question Number : Yes
Single Line Question Option : No Option Orientation : Vertical

Correct Marks : 1 Wrong Marks : 0.25

निम्नलिखित में से शुद्ध वर्तनी का चयन कीजिए।

Options :

1. ✗ सुसुमि
2. ✗ सुसमि
3. ✗ सुषमि
4. ✓ सुषुमि

Question Number : 174 Question Id : 5459275629 Question Type : MCQ Option Shuffling : Yes Display Question Number : Yes
Single Line Question Option : No Option Orientation : Vertical

Correct Marks : 1 Wrong Marks : 0.25

निम्नलिखित में से शुद्ध वर्तनी का चयन कीजिए।

Options :

1. ✗ सुसुमि
2. ✗ सुसमि
3. ✗ सुषमि
4. ✓ सुषुमि

Question Number : 175 Question Id : 5459275630 Question Type : MCQ Option Shuffling : Yes Display Question Number : Yes
Single Line Question Option : No Option Orientation : Vertical

Correct Marks : 1 Wrong Marks : 0.25

दिए गए वाक्य में रिक्त स्थान की पूर्ति कीजिए।

ध्यान से पढ़ो _____ असफल हो जाओगे।

Options :

1. ✗ या
2. ✗ परंतु
3. ✗ अथवा
4. ✓ अन्यथा

Question Number : 175 Question Id : 5459275630 Question Type : MCQ Option Shuffling : Yes Display Question Number : Yes
Single Line Question Option : No Option Orientation : Vertical

Correct Marks : 1 Wrong Marks : 0.25

दिए गए वाक्य में रिक्त स्थान की पूर्ति कीजिए।

ध्यान से पढ़ो _____ असफल हो जाओगे।

Options :

1. ✗ या

2. ✘ परंतु
3. ✘ अथवा
4. ✔ अन्यथा

Question Number : 176 Question Id : 5459275631 Question Type : MCQ Option Shuffling : Yes Display Question Number : Yes
Single Line Question Option : No Option Orientation : Vertical

Correct Marks : 1 Wrong Marks : 0.25

दिए गए वाक्यों में से कर्तृवाच्य वाक्य का चयन कीजिए।

Options :

1. ✘ लेख लिखा गया
2. ✔ बच्चा खेलता है
3. ✘ बच्चों ने शेर को देखा
4. ✘ कान्हा से पढ़ा नहीं जाता

Question Number : 176 Question Id : 5459275631 Question Type : MCQ Option Shuffling : Yes Display Question Number : Yes
Single Line Question Option : No Option Orientation : Vertical

Correct Marks : 1 Wrong Marks : 0.25

दिए गए वाक्यों में से कर्तृवाच्य वाक्य का चयन कीजिए।

Options :

1. ✘ लेख लिखा गया
2. ✔ बच्चा खेलता है
3. ✘ बच्चों ने शेर को देखा
4. ✘ कान्हा से पढ़ा नहीं जाता

Question Number : 177 Question Id : 5459275632 Question Type : MCQ Option Shuffling : Yes Display Question Number : Yes
Single Line Question Option : No Option Orientation : Vertical

Correct Marks : 1 Wrong Marks : 0.25

निम्नलिखित में से पुल्लिंग शब्द का चयन कीजिए।

Options :

1. ✘ सन्तान
2. ✔ वर्जन
3. ✘ विजय
4. ✘ शक्कर

Question Number : 177 Question Id : 5459275632 Question Type : MCQ Option Shuffling : Yes Display Question Number : Yes
Single Line Question Option : No Option Orientation : Vertical

Correct Marks : 1 Wrong Marks : 0.25

निम्नलिखित में से पुल्लिंग शब्द का चयन कीजिए।

Options :

1. ✘ सन्तान
2. ✔ वर्जन
3. ✘ विजय
4. ✘ शक्कर

Question Number : 178 Question Id : 5459275633 Question Type : MCQ Option Shuffling : Yes Display Question Number : Yes
Single Line Question Option : No Option Orientation : Vertical

Correct Marks : 1 Wrong Marks : 0.25

दिए गए वाक्य के रूप की पहचान कीजिए।

राम की रुचि खेल में नहीं है, किन्तु पढ़ाई में उसकी बड़ी दिलचस्पी है।

Options :

1. ✘ सरल वाक्य
2. ✘ मिश्रित वाक्य
3. ✔ संयुक्त वाक्य
4. ✘ आज्ञार्थक वाक्य

Question Number : 178 Question Id : 5459275633 Question Type : MCQ Option Shuffling : Yes Display Question Number : Yes
Single Line Question Option : No Option Orientation : Vertical

Correct Marks : 1 Wrong Marks : 0.25

दिए गए वाक्य के रूप की पहचान कीजिए।

राम की रुचि खेल में नहीं है, किन्तु पढ़ाई में उसकी बड़ी दिलचस्पी है।

Options :

1. ✘ सरल वाक्य
2. ✘ मिश्रित वाक्य
3. ✔ संयुक्त वाक्य
4. ✘ आज्ञार्थक वाक्य

Question Number : 179 Question Id : 5459275634 Question Type : MCQ Option Shuffling : Yes Display Question Number : Yes
Single Line Question Option : No Option Orientation : Vertical

Correct Marks : 1 Wrong Marks : 0.25

निम्नलिखित में से कौन सा युग्म असंगत है?

Options :

1. ✔ पेड़ से फल गिरा (करण)
2. ✘ मैंने उसे पढ़ाया है (कर्ता)
3. ✘ प्रतिज्ञा प्रेमचंद का उपन्यास है (सम्बन्ध)
4. ✘ आजकल वह घर पर ही है (अधिकरण)

Question Number : 179 Question Id : 5459275634 Question Type : MCQ Option Shuffling : Yes Display Question Number : Yes
Single Line Question Option : No Option Orientation : Vertical

Correct Marks : 1 Wrong Marks : 0.25

निम्नलिखित में से कौन सा युग्म असंगत है?

Options :

1. ✔ पेड़ से फल गिरा (करण)
2. ✘ मैंने उसे पढ़ाया है (कर्ता)
3. ✘ प्रतिज्ञा प्रेमचंद का उपन्यास है (सम्बन्ध)
4. ✘ आजकल वह घर पर ही है (अधिकरण)

Question Number : 180 Question Id : 5459275635 Question Type : MCQ Option Shuffling : Yes Display Question Number : Yes
Single Line Question Option : No Option Orientation : Vertical

Correct Marks : 1 Wrong Marks : 0.25

दिए गए वाक्यों में से अशुद्ध वाक्य का चयन कीजिए।

Options :

1. ✘ आप बुद्धिमान व्यक्ति हो।
2. ✔ माधुरी गुणवान नायिका है।
3. ✘ गुड़िया तेज नाचती है।

4. ✖ अमित चतुर बालक है

Question Number : 180 Question Id : 5459275635 Question Type : MCQ Option Shuffling : Yes Display Question Number : Yes
Single Line Question Option : No Option Orientation : Vertical

Correct Marks : 1 Wrong Marks : 0.25

दिए गए वाक्यों में से अशुद्ध वाक्य का चयन कीजिए

Options :

1. ✖ आप बुद्धिमान व्यक्ति हो
2. ✔ माधुरी गुणवान नायिका है
3. ✖ गुड़िया तेज नाचती है
4. ✖ अमित चतुर बालक है

General Hindi2

Group Number :	10
Group Id :	545927280
Group Maximum Duration :	0
Group Minimum Duration :	120
Revisit allowed for view? :	No
Revisit allowed for edit? :	No
Break time:	0
Group Marks:	20
Revisit allowed for group Instructions? :	Yes
Maximum Instruction Time:	0
Minimum Instruction Time:	0

General Hindi2

Section Id :	545927280
Section Number :	1
Section type :	Online
Mandatory or Optional:	Mandatory
Number of Questions:	16
Number of Questions to be attempted:	16
Section Marks:	20
Display Number Panel:	Yes
Group All Questions:	No

Sub-Section Number:	1
Sub-Section Id:	545927335
Question Shuffling Allowed :	Yes

Question Number : 181 Question Id : 5459275636 Question Type : MCQ Option Shuffling : Yes Display Question Number : Yes
Single Line Question Option : No Option Orientation : Vertical

Correct Marks : 1 Wrong Marks : 0.25

दिए गए वाक्य में वर्तमान काल के प्रकार की पहचान कीजिए

वह पढ़ रहा है

Options :

1. ✖ सामान्य वर्तमान

2. ✘ पूर्ण वर्तमान
3. ✔ अपूर्ण वर्तमान
4. ✘ संदिग्ध वर्तमान

Question Number : 181 Question Id : 5459275636 Question Type : MCQ Option Shuffling : Yes Display Question Number : Yes
Single Line Question Option : No Option Orientation : Vertical

Correct Marks : 1 Wrong Marks : 0.25

दिए गए वाक्य में वर्तमान काल के प्रकार की पहचान कीजिए।

वह पढ़ रहा है।

Options :

1. ✘ सामान्य वर्तमान
2. ✘ पूर्ण वर्तमान
3. ✔ अपूर्ण वर्तमान
4. ✘ संदिग्ध वर्तमान

Question Number : 182 Question Id : 5459275637 Question Type : MCQ Option Shuffling : Yes Display Question Number : Yes
Single Line Question Option : No Option Orientation : Vertical

Correct Marks : 1 Wrong Marks : 0.25

दिए गए वाक्य में पक्ष के प्रकार की पहचान कीजिए।

वर्षा हो रही थी।

Options :

1. ✔ सातत्य बोधक पक्ष
2. ✘ पूर्ण पक्ष
3. ✘ नित्य पक्ष
4. ✘ स्थित्यामक पक्ष

Question Number : 182 Question Id : 5459275637 Question Type : MCQ Option Shuffling : Yes Display Question Number : Yes
Single Line Question Option : No Option Orientation : Vertical

Correct Marks : 1 Wrong Marks : 0.25

दिए गए वाक्य में पक्ष के प्रकार की पहचान कीजिए।

वर्षा हो रही थी।

Options :

1. ✔ सातत्य बोधक पक्ष
2. ✘ पूर्ण पक्ष
3. ✘ नित्य पक्ष
4. ✘ स्थित्यामक पक्ष

Question Number : 183 Question Id : 5459275638 Question Type : MCQ Option Shuffling : Yes Display Question Number : Yes
Single Line Question Option : No Option Orientation : Vertical

Correct Marks : 1 Wrong Marks : 0.25

दिए गए वाक्य में वृत्ति के प्रकार का चयन कीजिए।

तुमने यह फिल्म देख ली होगी।

Options :

1. ✘ बाध्यता सूचक
2. ✘ सामर्थ्य सूचक
3. ✘ संभावनार्थक

4. ✓ संदेहार्थक वृत्ति

Question Number : 183 Question Id : 5459275638 Question Type : MCQ Option Shuffling : Yes Display Question Number : Yes
Single Line Question Option : No Option Orientation : Vertical

Correct Marks : 1 Wrong Marks : 0.25

दिए गए वाक्य में वृत्ति के प्रकार का चयन कीजिए।

तुमने यह फिल्म देख ली होगी।

Options :

1. ✗ बाध्यता सूचक
2. ✗ सामर्थ्य सूचक
3. ✗ संभावनार्थक
4. ✓ संदेहार्थक वृत्ति

Question Number : 184 Question Id : 5459275639 Question Type : MCQ Option Shuffling : Yes Display Question Number : Yes
Single Line Question Option : No Option Orientation : Vertical

Correct Marks : 1 Wrong Marks : 0.25

निम्नलिखित वाक्यों में से शुद्ध वाक्य का चयन कीजिए।

Options :

1. ✗ नागपुर के संतरे मुम्बई से ज्यादा मीठे हैं।
2. ✗ नागपुर से ज्यादा संतरे मुम्बई के मीठे हैं।
3. ✓ नागपुर के संतरे मुम्बई के संतरे से ज्यादा मीठे हैं।
4. ✗ नागपुर के संतरे मुम्बई से ज्यादा मीठे नहीं हैं।

Question Number : 184 Question Id : 5459275639 Question Type : MCQ Option Shuffling : Yes Display Question Number : Yes
Single Line Question Option : No Option Orientation : Vertical

Correct Marks : 1 Wrong Marks : 0.25

निम्नलिखित वाक्यों में से शुद्ध वाक्य का चयन कीजिए।

Options :

1. ✗ नागपुर के संतरे मुम्बई से ज्यादा मीठे हैं।
2. ✗ नागपुर से ज्यादा संतरे मुम्बई के मीठे हैं।
3. ✓ नागपुर के संतरे मुम्बई के संतरे से ज्यादा मीठे हैं।
4. ✗ नागपुर के संतरे मुम्बई से ज्यादा मीठे नहीं हैं।

Question Number : 185 Question Id : 5459275640 Question Type : MCQ Option Shuffling : Yes Display Question Number : Yes
Single Line Question Option : No Option Orientation : Vertical

Correct Marks : 1 Wrong Marks : 0.25

निम्नलिखित में से कौन सा वाक्य उत्तम पुरुष का उदाहरण नहीं है?

Options :

1. ✗ मेरे बहुत सारे दोस्त हैं।
2. ✗ मेरा घर मुंबई में है।
3. ✗ मुझको बारिश अच्छी लगती है।
4. ✓ तू बोलता है तो ठीक ही होगा।

Question Number : 185 Question Id : 5459275640 Question Type : MCQ Option Shuffling : Yes Display Question Number : Yes
Single Line Question Option : No Option Orientation : Vertical

Correct Marks : 1 Wrong Marks : 0.25

निम्नलिखित में से कौन सा वाक्य उत्तम पुरुष का उदाहरण नहीं है?

Options :

1. ✘ मेरे बहुत सारे दोस्त हैं।
2. ✘ मेरा घर मुंबई में है।
3. ✘ मुझको बारिश अच्छी लगती है।
4. ✔ तू बोलता है तो ठीक ही होगा।

Question Number : 186 Question Id : 5459275641 Question Type : MCQ Option Shuffling : Yes Display Question Number : Yes
Single Line Question Option : No Option Orientation : Vertical

Correct Marks : 1 Wrong Marks : 0.25

दिए गए वाक्य के रूप की पहचान कीजिए।

आप चाय लेंगे या कॉफी

Options :

1. ✔ संयुक्त
2. ✘ सरल
3. ✘ मिश्र
4. ✘ आज्ञार्थक

Question Number : 186 Question Id : 5459275641 Question Type : MCQ Option Shuffling : Yes Display Question Number : Yes
Single Line Question Option : No Option Orientation : Vertical

Correct Marks : 1 Wrong Marks : 0.25

दिए गए वाक्य के रूप की पहचान कीजिए।

आप चाय लेंगे या कॉफी

Options :

1. ✔ संयुक्त
2. ✘ सरल
3. ✘ मिश्र
4. ✘ आज्ञार्थक

Question Number : 187 Question Id : 5459275642 Question Type : MCQ Option Shuffling : Yes Display Question Number : Yes
Single Line Question Option : No Option Orientation : Vertical

Correct Marks : 1 Wrong Marks : 0.25

निम्नलिखित प्रश्न में, दिए गए चार विकल्पों में से, उस विकल्प का चयन करें जो दिए गए मुहावरे के अर्थ को सर्वश्रेष्ठ रूप से व्यक्त करता है।

अकल चरने जाना।

Options :

1. ✘ भैस अकल खा जाती है।
2. ✘ अकल खराब हो जाना।
3. ✔ समझ का आभाव होना।
4. ✘ सब कुछ भूल जाना।

Question Number : 187 Question Id : 5459275642 Question Type : MCQ Option Shuffling : Yes Display Question Number : Yes
Single Line Question Option : No Option Orientation : Vertical

Correct Marks : 1 Wrong Marks : 0.25

निम्नलिखित प्रश्न में, दिए गए चार विकल्पों में से, उस विकल्प का चयन करें जो दिए गए मुहावरे के अर्थ को सर्वश्रेष्ठ रूप से व्यक्त करता है।

अकल चरने जाना।

Options :

1. ✘ भैस अकल खा जाती है।
2. ✘ अकल खराब हो जाना।

3. ✓ समझ का आभाव होना

4. ✗ सब कुछ भूल जाना

Question Number : 188 Question Id : 5459275643 Question Type : MCQ Option Shuffling : Yes Display Question Number : Yes
Single Line Question Option : No Option Orientation : Vertical

Correct Marks : 1 Wrong Marks : 0.25

निम्नलिखित प्रश्न में, दिए गए चार विकल्पों में से, उस विकल्प का चयन करें जो दिए गए मुहावरे के अर्थ को सर्वश्रेष्ठ रूप से व्यक्त करता है।

अधजल गगरी छलकत जाए।

Options :

1. ✓ मुख व्यक्ति अधिक चिल्लाता है।

2. ✗ गगरी में कम पानी भरना चाहिए।

3. ✗ भरी गगरी में से पानी गिर जाता है।

4. ✗ मुख व्यक्ति सदा चुप रहता है।

Question Number : 188 Question Id : 5459275643 Question Type : MCQ Option Shuffling : Yes Display Question Number : Yes
Single Line Question Option : No Option Orientation : Vertical

Correct Marks : 1 Wrong Marks : 0.25

निम्नलिखित प्रश्न में, दिए गए चार विकल्पों में से, उस विकल्प का चयन करें जो दिए गए मुहावरे के अर्थ को सर्वश्रेष्ठ रूप से व्यक्त करता है।

अधजल गगरी छलकत जाए।

Options :

1. ✓ मुख व्यक्ति अधिक चिल्लाता है।

2. ✗ गगरी में कम पानी भरना चाहिए।

3. ✗ भरी गगरी में से पानी गिर जाता है।

4. ✗ मुख व्यक्ति सदा चुप रहता है।

Question Number : 189 Question Id : 5459275644 Question Type : MCQ Option Shuffling : Yes Display Question Number : Yes
Single Line Question Option : No Option Orientation : Vertical

Correct Marks : 1 Wrong Marks : 0.25

निम्नलिखित प्रश्न में, दिए गए चार विकल्पों में से, उस विकल्प का चयन करें जो दिए गए मुहावरे के अर्थ को सर्वश्रेष्ठ रूप से व्यक्त करता है।

ना नौ मन तेल होगा ना राधा नाचेगी।

Options :

1. ✗ राधा तेल पर नाचती है।

2. ✗ तेल हमेशा नौ लीटर लेना चाहिए।

3. ✗ राधा कृष्ण रास लीला तेल पर करते हैं।

4. ✓ कारण समाप्त हो जाने पर परिणामस्वतः ही समाप्त हो जायेगी।

Question Number : 189 Question Id : 5459275644 Question Type : MCQ Option Shuffling : Yes Display Question Number : Yes
Single Line Question Option : No Option Orientation : Vertical

Correct Marks : 1 Wrong Marks : 0.25

निम्नलिखित प्रश्न में, दिए गए चार विकल्पों में से, उस विकल्प का चयन करें जो दिए गए मुहावरे के अर्थ को सर्वश्रेष्ठ रूप से व्यक्त करता है।

ना नौ मन तेल होगा ना राधा नाचेगी।

Options :

1. ✗ राधा तेल पर नाचती है।

2. ✗ तेल हमेशा नौ लीटर लेना चाहिए।

3. ✗ राधा कृष्ण रास लीला तेल पर करते हैं।

4. ✓ कारण समाप्त हो जाने पर परिणामस्वतः ही समाप्त हो जायेगी।

Question Number : 190 Question Id : 5459275645 Question Type : MCQ Option Shuffling : Yes Display Question Number : Yes
Single Line Question Option : No Option Orientation : Vertical

Correct Marks : 1 Wrong Marks : 0.25

उस लोकोक्ति को चुनें जो दिए गए शब्द समूहों के लिए उचित है।

जरूरत के अनुसार चीज न होना

Options :

- ✘ ऊँची दूकान फ़ीका पकवान
- ✘ बन्दर क्या जाने अदरक का स्वाद
- ✔ ऊँट के मुँह में जीरा
- ✘ नाँच न जाने आँगन टेढा

Question Number : 190 Question Id : 5459275645 Question Type : MCQ Option Shuffling : Yes Display Question Number : Yes
Single Line Question Option : No Option Orientation : Vertical

Correct Marks : 1 Wrong Marks : 0.25

उस लोकोक्ति को चुनें जो दिए गए शब्द समूहों के लिए उचित है।

जरूरत के अनुसार चीज न होना

Options :

- ✘ ऊँची दूकान फ़ीका पकवान
- ✘ बन्दर क्या जाने अदरक का स्वाद
- ✔ ऊँट के मुँह में जीरा
- ✘ नाँच न जाने आँगन टेढा

Question Number : 191 Question Id : 5459275646 Question Type : MCQ Option Shuffling : Yes Display Question Number : Yes
Single Line Question Option : No Option Orientation : Vertical

Correct Marks : 1 Wrong Marks : 0.25

दिए गए शब्द के लिए सही मुहावरे का चयन कीजिए।

बेइच्छती करना।

Options :

- ✘ कान काटना
- ✔ नाक काटना
- ✘ मुँह खोलना
- ✘ दाँत का कच्चा

Question Number : 191 Question Id : 5459275646 Question Type : MCQ Option Shuffling : Yes Display Question Number : Yes
Single Line Question Option : No Option Orientation : Vertical

Correct Marks : 1 Wrong Marks : 0.25

दिए गए शब्द के लिए सही मुहावरे का चयन कीजिए।

बेइच्छती करना।

Options :

- ✘ कान काटना
- ✔ नाक काटना
- ✘ मुँह खोलना
- ✘ दाँत का कच्चा

Question Number : 192 Question Id : 5459275647 Question Type : MCQ Option Shuffling : Yes Display Question Number : Yes
Single Line Question Option : No Option Orientation : Vertical

Correct Marks : 1 Wrong Marks : 0.25

जब एक ही तरह के शब्द इकट्ठे आ जाएँ तो कौन सा विराम चिह्न लगेगा?

Options :

1. ✓ अल्पविराम
2. ✗ पूर्णविराम
3. ✗ अर्द्धविराम
4. ✗ प्रश्न चिह्न

Question Number : 192 Question Id : 5459275647 Question Type : MCQ Option Shuffling : Yes Display Question Number : Yes
Single Line Question Option : No Option Orientation : Vertical

Correct Marks : 1 Wrong Marks : 0.25

जब एक ही तरह के शब्द इकट्ठे आ जाएँ तो कौन सा विराम चिह्न लगेगा?

Options :

1. ✓ अल्पविराम
2. ✗ पूर्णविराम
3. ✗ अर्द्धविराम
4. ✗ प्रश्न चिह्न

Question Number : 193 Question Id : 5459275648 Question Type : MCQ Option Shuffling : Yes Display Question Number : Yes
Single Line Question Option : No Option Orientation : Vertical

Correct Marks : 1 Wrong Marks : 0.25

दिए गए विराम चिह्न के रूप की पहचान कीजिए।

‘।’

Options :

1. ✗ निर्देशक
2. ✓ विस्मयबोधक
3. ✗ अवतरण
4. ✗ लाघव

Question Number : 193 Question Id : 5459275648 Question Type : MCQ Option Shuffling : Yes Display Question Number : Yes
Single Line Question Option : No Option Orientation : Vertical

Correct Marks : 1 Wrong Marks : 0.25

दिए गए विराम चिह्न के रूप की पहचान कीजिए।

‘।’

Options :

1. ✗ निर्देशक
2. ✓ विस्मयबोधक
3. ✗ अवतरण
4. ✗ लाघव

Question Number : 194 Question Id : 5459275649 Question Type : MCQ Option Shuffling : Yes Display Question Number : Yes
Single Line Question Option : No Option Orientation : Vertical

Correct Marks : 1 Wrong Marks : 0.25

दिए गए वाक्य में कौन सा विराम चिह्न का उपयोग होगा चयन कीजिए।

तुम कल कहाँ गए थे।

Options :

1. ✗ -

2. ✓ ?

3. ✗ |

4. ✗ ,

Question Number : 194 Question Id : 5459275649 Question Type : MCQ Option Shuffling : Yes Display Question Number : Yes
Single Line Question Option : No Option Orientation : Vertical

Correct Marks : 1 Wrong Marks : 0.25

दिए गए वाक्य में कौन सा विराम चिह्न का उपयोग होगा चयन कीजिए।

तुम कल कहाँ गए थे।

Options :

1. ✗ -

2. ✓ ?

3. ✗ |

4. ✗ ,

Question Number : 195 Question Id : 5459275650 Question Type : MCQ Option Shuffling : Yes Display Question Number : Yes
Single Line Question Option : No Option Orientation : Vertical

Correct Marks : 1 Wrong Marks : 0.25

निम्नलिखित प्रश्न में, दिए गए चार विकल्पों में से, उस विकल्प का चयन करें जो दिए गए मुहावरे के अर्थ को सर्वश्रेष्ठ रूप से व्यक्त करता है।

लोहे के चने चबाना।

Options :

1. ✗ कार्य को बहुत सरल बनाना।

2. ✗ लोहे के टुकड़े करना।

3. ✓ बहुत कठिन परिश्रम का कार्य करना।

4. ✗ धातु की गेंद बनाना।

Question Number : 195 Question Id : 5459275650 Question Type : MCQ Option Shuffling : Yes Display Question Number : Yes
Single Line Question Option : No Option Orientation : Vertical

Correct Marks : 1 Wrong Marks : 0.25

निम्नलिखित प्रश्न में, दिए गए चार विकल्पों में से, उस विकल्प का चयन करें जो दिए गए मुहावरे के अर्थ को सर्वश्रेष्ठ रूप से व्यक्त करता है।

लोहे के चने चबाना।

Options :

1. ✗ कार्य को बहुत सरल बनाना।

2. ✗ लोहे के टुकड़े करना।

3. ✓ बहुत कठिन परिश्रम का कार्य करना।

4. ✗ धातु की गेंद बनाना।

Sub-Section Number:	2
Sub-Section Id:	545927336
Question Shuffling Allowed :	Yes

Question Id : 5459275651 Question Type : COMPREHENSION Sub Question Shuffling Allowed : Yes Group Comprehension
Questions : No

Question Numbers : (196 to 200)

Question Label : Comprehension

एक गद्यांश दिया गया है। गद्यांश के आधार पर पाँच प्रश्न दिए गए हैं। गद्यांश को ध्यानपूर्वक पढ़ें तथा प्रत्येक प्रश्न में चार विकल्पों में से सही विकल्प चुनो।

चाहे कितनी भी गर्मी हो पर मेरा पवित्र जल शीतलता देता रहेगा। यही है पक्का इरादा, दृढ़ निश्चय। सुदूर पहाड़ियों के ऊपर सफेद बर्फ देख रहे हो ना वही बरफ मेरी जन्म दात्री है। मैं निडरता से ऊँची-ऊँची पहाड़ियों से नीचे की ओर दौड़ती चली आती हूँ। अठखेलियां करती कल-कल करती अपनी सहेलियों के साथ भागने में मुझे बहुत आनंद आता है। अरे! यह क्या देवी मानकर हमारी पूजा की जा रही है, आरती उतारी गई, पूजा अर्चना की गई अपने पर बड़ा गर्व हुआ। पत्थरों से टकराकर और जोश पैदा होता है। बड़ी-बड़ी चट्टानें मेरे मार्ग को अवरुद्ध करती हैं पर मेरा उत्साह दुगुना हो जाता है। जब बीमारियाँ फैलने लगी तब कुछ लोगों को हमारा ख्याल आया हमारी स्वतंत्रता के लिए कई अभियान चलाए जाने लगे। मोती जैसा पानी पानी के लिए अभी तो मानव को कुछ और पीढ़ियों तक अपने प्राणों का प्रायश्चित्त करना होगा। आप दो हाथ आगे बढ़ाएंगे तो हम 10 हाथ आगे आएंगे फिर वैसा ही शीतल पवित्र और मीठा जल लेकर।

Sub questions

Question Number : 196 Question Id : 5459275652 Question Type : MCQ Option Shuffling : Yes Display Question Number : Yes
Single Line Question Option : No Option Orientation : Vertical

Correct Marks : 1 Wrong Marks : 0.25

उर्युक्त गद्यांश का शीर्षक क्या है?

Options :

1. ✘ नदी की व्यथा
2. ✔ नदी की आत्मकथा
3. ✘ नदी की यात्रा
4. ✘ नदी का दर्द

Question Number : 197 Question Id : 5459275653 Question Type : MCQ Option Shuffling : Yes Display Question Number : Yes
Single Line Question Option : No Option Orientation : Vertical

Correct Marks : 1 Wrong Marks : 0.25

नदी के जन्मदात्री कौन हैं?

Options :

1. ✘ समुद्र
2. ✘ तालाब
3. ✔ बरफ
4. ✘ पहाड़

Question Number : 198 Question Id : 5459275654 Question Type : MCQ Option Shuffling : Yes Display Question Number : Yes
Single Line Question Option : No Option Orientation : Vertical

Correct Marks : 1 Wrong Marks : 0.25

पत्थरों और चट्टानों से टकराकर नदियों में क्या पैदा होता है?

Options :

1. ✘ पेड़-पौधे
2. ✘ सव्जियाँ
3. ✔ जोश व उत्साह
4. ✘ कुड़ा-करकट

Question Number : 199 Question Id : 5459275655 Question Type : MCQ Option Shuffling : Yes Display Question Number : Yes
Single Line Question Option : No Option Orientation : Vertical

Correct Marks : 1 Wrong Marks : 0.25

'स्वतंत्रता के लिए कई अभियान चलाना' का क्या अर्थ है?

Options :

1. ✘ नदी को बांध देना
2. ✔ नदी की सफाई करना
3. ✘ नदी का रास्ता बदल देना
4. ✘ नदी से बिजली बनाना

Question Number : 200 Question Id : 5459275656 Question Type : MCQ Option Shuffling : Yes Display Question Number : Yes
Single Line Question Option : No Option Orientation : Vertical

Correct Marks : 1 Wrong Marks : 0.25

इनमें से कौन सा वाक्य सही नहीं है?

Options :

1. ✘ नदी निडर है
2. ✘ नदी को देवी माना जाता है
3. ✘ नदी बड़ी - बड़ी चट्टानों से टकराती है
4. ✔ नदी बिमारियाँ पैदा करती हैं

Question Id : 5459275651 Question Type : COMPREHENSION Sub Question Shuffling Allowed : Yes Group Comprehension
Questions : No

Question Numbers : (196 to 200)

Question Label : Comprehension

एक गद्यांश दिया गया है। गद्यांश के आधार पर पाँच प्रश्न दिए गए हैं। गद्यांश को ध्यानपूर्वक पढ़ें तथा प्रत्येक प्रश्न में चार विकल्पों में से सही विकल्प चुनें।

चाहे कितनी भी गर्मी हो पर मेरा पवित्र जल शीतलता देता रहेगा। यही है पक्का इरादा, दृढ़ निश्चय। सुदूर पहाड़ियों के ऊपर सफेद बर्फ देख रहे हो ना वही बरफ मेरी जन्म दात्री है। मैं निडरता से ऊँची-ऊँची पहाड़ियों से नीचे की ओर दौड़ती चली आती हूँ। अठखेलियाँ करती कल-कल करती अपनी सहेलियों के साथ भागने में मुझे बहुत आनंद आता है। अरे! यह क्या देवी मानकर हमारी पूजा की जा रही है, आरती उतारी गई, पूजा अर्चना की गई अपने पर बड़ा गर्व हुआ। पत्थरों से टकराकर और जोश पैदा होता है। बड़ी-बड़ी चट्टानें मेरे मार्ग को अवरुद्ध करती हैं पर मेरा उत्साह दुगुना हो जाता है। जब बीमारियाँ फैलने लगीं तब कुछ लोगों को हमारा ख्याल आया हमारी स्वतंत्रता के लिए कई अभियान चलाए जाने लगे। मोती जैसा पानी पानी के लिए अभी तो मानव को कुछ और पीढ़ियों तक अपने प्राणों का प्रायश्चित्त करना होगा। आप दो हाथ आगे बढ़ाएंगे तो हम 10 हाथ आगे आएंगे फिर वैसा ही शीतल पवित्र और मीठा जल लेकर।

Sub questions

Question Number : 196 Question Id : 5459275652 Question Type : MCQ Option Shuffling : Yes Display Question Number : Yes
Single Line Question Option : No Option Orientation : Vertical

Correct Marks : 1 Wrong Marks : 0.25

उर्युक्त गद्यांश का शीर्षक क्या है?

Options :

1. ✘ नदी की व्यथा
2. ✔ नदी की आत्मकथा
3. ✘ नदी की यात्रा
4. ✘ नदी का दर्द

Question Number : 197 Question Id : 5459275653 Question Type : MCQ Option Shuffling : Yes Display Question Number : Yes
Single Line Question Option : No Option Orientation : Vertical

Correct Marks : 1 Wrong Marks : 0.25

नदी के जन्मदात्री कौन हैं?

Options :

1. ✘ समुद्र
2. ✘ तालाब
3. ✔ बरफ
4. ✘ पहाड़

Question Number : 198 Question Id : 5459275654 Question Type : MCQ Option Shuffling : Yes Display Question Number : Yes
Single Line Question Option : No Option Orientation : Vertical

Correct Marks : 1 Wrong Marks : 0.25

पत्थरों और चट्टानों से टकराकर नदियों में क्या पैदा होता है?

Options :

1. ✘ पेड़-पौधे

2. ✘ सब्जियाँ
3. ✔ जोश व उत्साह
4. ✘ कुड़ा-करकट

Question Number : 199 Question Id : 5459275655 Question Type : MCQ Option Shuffling : Yes Display Question Number : Yes
Single Line Question Option : No Option Orientation : Vertical

Correct Marks : 1 Wrong Marks : 0.25

'स्वतंत्रता के लिए कई अभियान चलाना' का क्या अर्थ है?

Options :

1. ✘ नदी को बांध देना
2. ✔ नदी की सफाई करना
3. ✘ नदी का रास्ता बदल देना
4. ✘ नदी से बिजली बनाना

Question Number : 200 Question Id : 5459275656 Question Type : MCQ Option Shuffling : Yes Display Question Number : Yes
Single Line Question Option : No Option Orientation : Vertical

Correct Marks : 1 Wrong Marks : 0.25

इनमें से कौन सा वाक्य सही नहीं है?

Options :

1. ✘ नदी निडर है
2. ✘ नदी को देवी माना जाता है
3. ✘ नदी बड़ी - बड़ी चट्टानों से टकराती है
4. ✔ नदी बिमारियाँ पैदा करती हैं