

Education Consultant India Ltd.

Notations :

- 1.Options shown in green color and with ✓ icon are correct.
- 2.Options shown in red color and with ✘ icon are incorrect.

Question Paper Name:	Dental Hygenist
Subject Name:	Dental Hygenist
Creation Date:	2019-08-28 13:45:05
Duration:	120
Total Marks:	200
Display Marks:	Yes
Share Answer Key With Delivery Engine:	No
Actual Answer Key:	Yes
Calculator:	None
Magnifying Glass Required?:	No
Ruler Required?:	No
Eraser Required?:	No
Scratch Pad Required?:	No
Rough Sketch/Notepad Required?:	No
Protractor Required?:	No
Show Watermark on Console?:	Yes
Highlighter:	No
Auto Save on Console?:	No

Mental Ability

Group Number :	1
Group Id :	966231134
Group Maximum Duration :	0
Group Minimum Duration :	0
Revisit allowed for view? :	No
Revisit allowed for edit? :	No
Break time:	0
Group Marks:	20
Revisit allowed for group Instructions? :	Yes
Maximum Instruction Time:	0
Minimum Instruction Time:	0

Mental Ability

Section Id :	966231249
Section Number :	1
Section type :	Online
Mandatory or Optional:	Mandatory
Number of Questions:	20
Number of Questions to be attempted:	20
Section Marks:	20

Display Number Panel: Yes
Group All Questions: No

Sub-Section Number: 1
Sub-Section Id: 966231271
Question Shuffling Allowed : Yes

Question Number : 1 Question Id : 9662316823 Question Type : MCQ Option Shuffling : Yes Display Question Number : Yes
Single Line Question Option : No Option Orientation : Vertical

Correct Marks : 1 Wrong Marks : 0.25

A series is given with one term missing. Select the correct alternative from the given ones that will complete the series.

J, M, Q, V, B, ?

Options :

1. ✘ H
2. ✔ I
3. ✘ J
4. ✘ G

Question Number : 1 Question Id : 9662316823 Question Type : MCQ Option Shuffling : Yes Display Question Number : Yes
Single Line Question Option : No Option Orientation : Vertical

Correct Marks : 1 Wrong Marks : 0.25

एक अनुक्रम दिया गया है, जिसमें से एक पद लुप्त है। दिए गए विकल्पों में से वह सही विकल्प चुनिए, जो अनुक्रम को पूरा करे।

J, M, Q, V, B, ?

Options :

1. ✘ H
2. ✔ I
3. ✘ J
4. ✘ G

Question Number : 2 Question Id : 9662316824 Question Type : MCQ Option Shuffling : Yes Display Question Number : Yes
Single Line Question Option : No Option Orientation : Vertical

Correct Marks : 1 Wrong Marks : 0.25

In the following question, select the odd word from the given alternatives.

Options :

1. ✘ Sword
2. ✘ Pen
3. ✔ Knife
4. ✘ Dagger

Question Number : 2 Question Id : 9662316824 Question Type : MCQ Option Shuffling : Yes Display Question Number : Yes
Single Line Question Option : No Option Orientation : Vertical

Correct Marks : 1 Wrong Marks : 0.25

निम्नलिखित प्रश्न में दिए गए विकल्पों में से विषम शब्द को चुनिए।

Options :

1. ✘ तलवार
2. ✘ पेन

3. ✓ चाकू
4. ✗ कटार

Question Number : 3 Question Id : 9662316825 Question Type : MCQ Option Shuffling : Yes Display Question Number : Yes
Single Line Question Option : No Option Orientation : Vertical

Correct Marks : 1 Wrong Marks : 0.25

In the following question, select the odd letter /letters from the given alternatives.

Options :

1. ✗ JNTB
2. ✗ BFLT
3. ✗ MQWE
4. ✓ FJPU

Question Number : 3 Question Id : 9662316825 Question Type : MCQ Option Shuffling : Yes Display Question Number : Yes
Single Line Question Option : No Option Orientation : Vertical

Correct Marks : 1 Wrong Marks : 0.25

निम्नलिखित प्रश्न में दिए गए विकल्पों में से विषम अक्षर/अक्षरों को चुनिए।

Options :

1. ✗ JNTB
2. ✗ BFLT
3. ✗ MQWE
4. ✓ FJPU

Question Number : 4 Question Id : 9662316826 Question Type : MCQ Option Shuffling : Yes Display Question Number : Yes
Single Line Question Option : No Option Orientation : Vertical

Correct Marks : 1 Wrong Marks : 0.25

In the following question, select the related letters from the given alternatives.

NS : JO :: HJ : ?

Options :

1. ✓ DF
2. ✗ DG
3. ✗ EF
4. ✗ EG

Question Number : 4 Question Id : 9662316826 Question Type : MCQ Option Shuffling : Yes Display Question Number : Yes
Single Line Question Option : No Option Orientation : Vertical

Correct Marks : 1 Wrong Marks : 0.25

निम्नलिखित प्रश्न में दिए गए विकल्पों में से संबंधित अक्षरों को चुनिए।

NS : JO :: HJ : ?

Options :

1. ✓ DF
2. ✗ DG
3. ✗ EF
4. ✗ EG

Question Number : 5 Question Id : 9662316827 Question Type : MCQ Option Shuffling : Yes Display Question Number : Yes
Single Line Question Option : No Option Orientation : Vertical

Correct Marks : 1 Wrong Marks : 0.25

In a certain code language, 'MIN' is written as '3', 'LIFT' is written as '4'. What is the code for 'MORGAT' in that code language?

Options :

1. ✘ 7
2. ✘ 5
3. ✔ 6
4. ✘ 8

Question Number : 5 Question Id : 9662316827 Question Type : MCQ Option Shuffling : Yes Display Question Number : Yes Single Line Question Option : No Option Orientation : Vertical

Correct Marks : 1 Wrong Marks : 0.25

एक विशिष्ट कोड भाषा में, 'MIN' को '3' लिखा जाता है, 'LIFT' को '4' लिखा जाता है। इस कोड भाषा में 'MORGAT' का कोड क्या है?

Options :

1. ✘ 7
2. ✘ 5
3. ✔ 6
4. ✘ 8

Question Number : 6 Question Id : 9662316828 Question Type : MCQ Option Shuffling : Yes Display Question Number : Yes Single Line Question Option : No Option Orientation : Vertical

Correct Marks : 1 Wrong Marks : 0.25

In a certain code language, 'POT' is written as '53', 'GET' is written as '34'. What is the code for 'HIN' in that code language?

Options :

1. ✘ 31
2. ✔ 33
3. ✘ 29
4. ✘ 27

Question Number : 6 Question Id : 9662316828 Question Type : MCQ Option Shuffling : Yes Display Question Number : Yes Single Line Question Option : No Option Orientation : Vertical

Correct Marks : 1 Wrong Marks : 0.25

एक विशिष्ट कोड भाषा में, 'POT' को '53' लिखा जाता है, 'GET' को '34' लिखा जाता है। इस कोड भाषा में 'HIN' का कोड क्या है?

Options :

1. ✘ 31
2. ✔ 33
3. ✘ 29
4. ✘ 27

Question Number : 7 Question Id : 9662316829 Question Type : MCQ Option Shuffling : Yes Display Question Number : Yes Single Line Question Option : No Option Orientation : Vertical

Correct Marks : 1 Wrong Marks : 0.25

P is the sister of Z. B is the brother of A. K is the brother of Z. A is the mother of K. How is K related to B?

Options :

1. ✘ Son
2. ✘ Father
3. ✔ Nephew
4. ✘ Husband

Question Number : 7 Question Id : 9662316829 Question Type : MCQ Option Shuffling : Yes Display Question Number : Yes
Single Line Question Option : No Option Orientation : Vertical

Correct Marks : 1 Wrong Marks : 0.25

P, Z की बहन है B, A का भाई है K, Z का भाई है A, K की माता है K, B से किस प्रकार संबंधित है?

Options :

1. ✘ पुत्र
2. ✘ पिता
3. ✔ भांजा
4. ✘ पति

Question Number : 8 Question Id : 9662316830 Question Type : MCQ Option Shuffling : Yes Display Question Number : Yes
Single Line Question Option : No Option Orientation : Vertical

Correct Marks : 1 Wrong Marks : 0.25

In the following question below are given some statements followed by some conclusions based on those statements. Taking the given statements to be true even if they seem to be at variance from commonly known facts. Read all the conclusions and then decide which of the given conclusion logically follows the given statements.

Statements:

- I. All H are K.
- II. No K is T.

Conclusions:

- I. No T is K.
- II. No H is T.
- III. Some T are H.

Options :

1. ✘ Only conclusion III follows
2. ✘ Both conclusion I and III follows
3. ✔ Both conclusion I and II follows
4. ✘ Neither conclusion follows

Question Number : 8 Question Id : 9662316830 Question Type : MCQ Option Shuffling : Yes Display Question Number : Yes
Single Line Question Option : No Option Orientation : Vertical

Correct Marks : 1 Wrong Marks : 0.25

नीचे दिए गए प्रश्न में कुछ कथन और उनके बाद उन कथनों पर आधारित कुछ निष्कर्ष दिए गए हैं। दिए गए कथनों को सही माने, चाहे उनमें सामान्य ज्ञात तथ्यों से भिन्नता हो। सभी निष्कर्ष पढ़ें और फिर निर्धारित करें कि दिए गए कौन से निष्कर्ष, दिए गए कथनों के आधार पर युक्तिसंगत हैं।

कथन:

- I. सभी H, K हैं।
- II. कोई K, T नहीं है।

निष्कर्ष:

- I. कोई T, K नहीं है।
- II. कोई H, T नहीं है।
- III. कुछ T, H हैं।

Options :

1. ✘ केवल निष्कर्ष III अनुसरण करता है।
2. ✘ दोनों निष्कर्ष I तथा III अनुसरण करते हैं।
3. ✔ दोनों निष्कर्ष I तथा II अनुसरण करते हैं।
4. ✘ कोई भी निष्कर्ष अनुसरण नहीं करता है।

Question Number : 9 Question Id : 9662316831 Question Type : MCQ Option Shuffling : Yes Display Question Number : Yes
Single Line Question Option : No Option Orientation : Vertical

Correct Marks : 1 Wrong Marks : 0.25

In the following question, select the missing number from the given series.

8, 27, 103, 407, ?

Options :

1. ✘ 1429
2. ✔ 1623
3. ✘ 1531
4. ✘ 1679

Question Number : 9 Question Id : 9662316831 Question Type : MCQ Option Shuffling : Yes Display Question Number : Yes
Single Line Question Option : No Option Orientation : Vertical

Correct Marks : 1 Wrong Marks : 0.25

निम्नलिखित प्रश्न में दी गई श्रृंखला में से लुप्त अंक ज्ञात कीजिए

8, 27, 103, 407, ?

Options :

1. ✘ 1429
2. ✔ 1623
3. ✘ 1531
4. ✘ 1679

Question Number : 10 Question Id : 9662316832 Question Type : MCQ Option Shuffling : Yes Display Question Number : Yes
Single Line Question Option : No Option Orientation : Vertical

Correct Marks : 1 Wrong Marks : 0.25

In the following question, select the related number from the given alternatives.

6 : 40 :: 9 : ?

Options :

1. ✘ 74
2. ✘ 70
3. ✔ 61
4. ✘ 65

Question Number : 10 Question Id : 9662316832 Question Type : MCQ Option Shuffling : Yes Display Question Number : Yes
Single Line Question Option : No Option Orientation : Vertical

Correct Marks : 1 Wrong Marks : 0.25

निम्नलिखित प्रश्न में दिए गए विकल्पों में से संबंधित संख्या को चुनिए

6 : 40 :: 9 : ?

Options :

1. ✘ 74
2. ✘ 70
3. ✔ 61
4. ✘ 65

Question Number : 11 Question Id : 9662316833 Question Type : MCQ Option Shuffling : Yes Display Question Number : Yes
Single Line Question Option : No Option Orientation : Vertical

Correct Marks : 1 Wrong Marks : 0.25

By interchanging which two numbers the equation will be correct?

$$4 \times 2 \div 3 - 1 = 5$$

Options :

1. ✘ 4 and 1
2. ✘ 4 and 3
3. ✔ 3 and 2
4. ✘ 3 and 1

Question Number : 11 Question Id : 9662316833 Question Type : MCQ Option Shuffling : Yes Display Question Number : Yes
Single Line Question Option : No Option Orientation : Vertical

Correct Marks : 1 Wrong Marks : 0.25

किन दो संख्याओं को आपस में परस्पर बदलने पर समीकरण सही हो जाएगा?

$$4 \times 2 \div 3 - 1 = 5$$

Options :

1. ✘ 4 तथा 1
2. ✘ 4 तथा 3
3. ✔ 3 तथा 2
4. ✘ 3 तथा 1

Question Number : 12 Question Id : 9662316834 Question Type : MCQ Option Shuffling : Yes Display Question Number : Yes
Single Line Question Option : No Option Orientation : Vertical

Correct Marks : 1 Wrong Marks : 0.25

By interchanging the given two signs which of the following equation will be correct?

÷ and +

Options :

1. ✘ $3 + 9 \times 6 \div 3 = 21$
2. ✔ $14 \div 13 + 26 \times 2 = 14$
3. ✘ $4 \times 3 \div 6 + 2 = 15$
4. ✘ $3 \div 9 \times 2 + 2 = 11$

Question Number : 12 Question Id : 9662316834 Question Type : MCQ Option Shuffling : Yes Display Question Number : Yes
Single Line Question Option : No Option Orientation : Vertical

Correct Marks : 1 Wrong Marks : 0.25

दिए गए दो चिह्नों को आपस में परस्पर बदलने पर निम्नलिखित में से कौन सा समीकरण सही होगा?

÷ तथा +

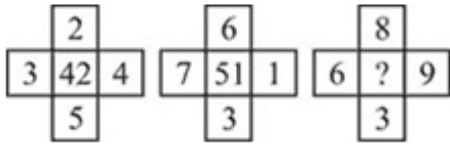
Options :

1. ✘ $3 + 9 \times 6 \div 3 = 21$
2. ✔ $14 \div 13 + 26 \times 2 = 14$
3. ✘ $4 \times 3 \div 6 + 2 = 15$
4. ✘ $3 \div 9 \times 2 + 2 = 11$

Question Number : 13 Question Id : 9662316835 Question Type : MCQ Option Shuffling : Yes Display Question Number : Yes
Single Line Question Option : No Option Orientation : Vertical

Correct Marks : 1 Wrong Marks : 0.25

In the following question, select the number which can be placed at the sign of question mark (?) from the given alternatives.



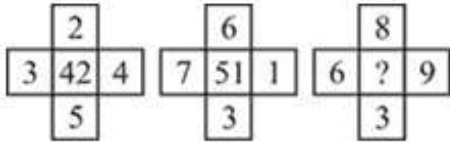
Options :

1. ✘ 82
2. ✔ 78
3. ✘ 84
4. ✘ 72

Question Number : 13 Question Id : 9662316835 Question Type : MCQ Option Shuffling : Yes Display Question Number : Yes Single Line Question Option : No Option Orientation : Vertical

Correct Marks : 1 Wrong Marks : 0.25

निम्नलिखित प्रश्न में दिए गए विकल्पों में से प्रश्न चिन्ह (?) के स्थान पर आने वाली संख्या को चुनिए



Options :

1. ✘ 82
2. ✔ 78
3. ✘ 84
4. ✘ 72

Question Number : 14 Question Id : 9662316836 Question Type : MCQ Option Shuffling : Yes Display Question Number : Yes Single Line Question Option : No Option Orientation : Vertical

Correct Marks : 1 Wrong Marks : 0.25

If $7 P 3 P 6 = 16$ and $9 P 2 P 4 = 15$, then $3 P 0 P 7 = ?$

Options :

1. ✔ 10
2. ✘ 11
3. ✘ 9
4. ✘ 8

Question Number : 14 Question Id : 9662316836 Question Type : MCQ Option Shuffling : Yes Display Question Number : Yes Single Line Question Option : No Option Orientation : Vertical

Correct Marks : 1 Wrong Marks : 0.25

यदि $7 P 3 P 6 = 16$ तथा $9 P 2 P 4 = 15$ हो, तो $3 P 0 P 7 = ?$

Options :

1. ✔ 10
2. ✘ 11
3. ✘ 9
4. ✘ 8


Question Number : 15 Question Id : 9662316837 Question Type : MCQ Option Shuffling : Yes Display Question Number : Yes Single Line Question Option : No Option Orientation : Vertical

Correct Marks : 1 Wrong Marks : 0.25

Identify the diagram that best represents the relationship among the given classes.

Leopard, Elephant, Animal

Options :



Question Number : 15 Question Id : 9662316837 Question Type : MCQ Option Shuffling : Yes Display Question Number : Yes
Single Line Question Option : No Option Orientation : Vertical

Correct Marks : 1 Wrong Marks : 0.25

वह आरेख चुनिए जो नीचे दिए गए वर्गों के बीच के संबंध का सही निरूपण करता है।

तेंदुआ, हाथी, जानवर

Options :



Question Number : 16 Question Id : 9662316838 Question Type : MCQ Option Shuffling : Yes Display Question Number : Yes
Single Line Question Option : No Option Orientation : Vertical

Correct Marks : 1 Wrong Marks : 0.25

Mamta starts walking from her house towards North to go for shopping. She walks 600 metre and reaches shop A. She then turns right and walks 300 metre to reach shop B. She again turns right and walks 200 metre to reach shop C. What is the distance between shop A and C?

Options :

- ✘ 600 metre
- ✔ 500 metre
- ✘ 400 metre
- ✘ 800 metre

Question Number : 16 Question Id : 9662316838 Question Type : MCQ Option Shuffling : Yes Display Question Number : Yes
Single Line Question Option : No Option Orientation : Vertical

Correct Marks : 1 Wrong Marks : 0.25

ममता खरीददारी करने के लिए अपने घर से उत्तर की ओर चलना आरंभ करती है। वह 600 मीटर चलती है तथा दुकान A पर पहुँचती है। वह फिर दायें मुड़ती है तथा 300 मीटर चलकर दुकान B पर पहुँचती है। वह पुनः दायें मुड़ती है तथा 200 मीटर चलकर दुकान C पर पहुँचती है। दुकान A तथा C के मध्य की दूरी क्या है?

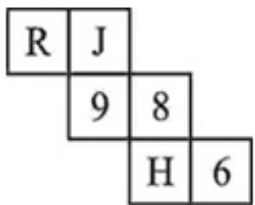
Options :

- ✘ 600 मीटर
- ✔ 500 मीटर
- ✘ 400 मीटर
- ✘ 800 मीटर

Question Number : 17 Question Id : 9662316839 Question Type : MCQ Option Shuffling : Yes Display Question Number : Yes
Single Line Question Option : No Option Orientation : Vertical

Correct Marks : 1 Wrong Marks : 0.25

By folding the given paper, which of the following cube cannot be formed?



Options :

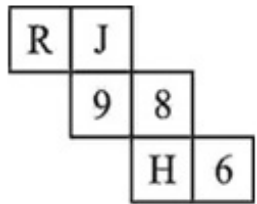





Question Number : 17 Question Id : 9662316839 Question Type : MCQ Option Shuffling : Yes Display Question Number : Yes
Single Line Question Option : No Option Orientation : Vertical

Correct Marks : 1 Wrong Marks : 0.25

दिए गए कागज को मोड़ने पर, निम्नलिखित में से कौन सा घन नहीं बनाया जा सकता है?



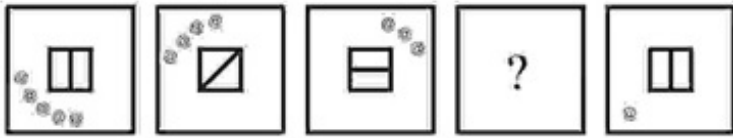
Options :



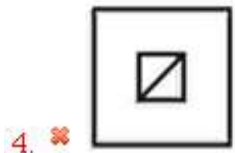
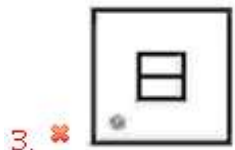
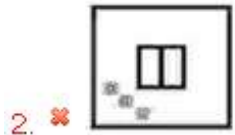
Question Number : 18 Question Id : 9662316840 Question Type : MCQ Option Shuffling : Yes Display Question Number : Yes
Single Line Question Option : No Option Orientation : Vertical

Correct Marks : 1 Wrong Marks : 0.25

In the following question, select the figure which can be placed at the sign of question mark (?) from the given alternatives.



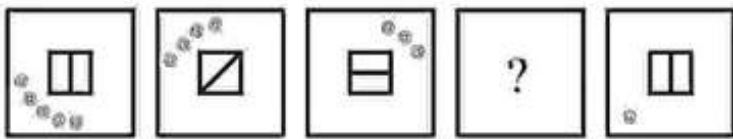
Options :



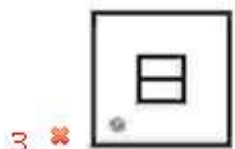
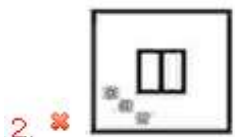
Question Number : 18 Question Id : 9662316840 Question Type : MCQ Option Shuffling : Yes Display Question Number : Yes
Single Line Question Option : No Option Orientation : Vertical

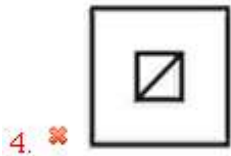
Correct Marks : 1 Wrong Marks : 0.25

निम्नलिखित प्रश्न में दिए गए विकल्पों में से प्रश्न चिन्ह (?) के स्थान पर आने वाली आकृति को चुनिए।



Options :



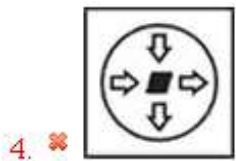


Question Number : 19 Question Id : 9662316841 Question Type : MCQ Option Shuffling : Yes Display Question Number : Yes
Single Line Question Option : No Option Orientation : Vertical

Correct Marks : 1 Wrong Marks : 0.25

In the following question, select the odd figure from the given alternatives.

Options :



Question Number : 19 Question Id : 9662316841 Question Type : MCQ Option Shuffling : Yes Display Question Number : Yes
Single Line Question Option : No Option Orientation : Vertical

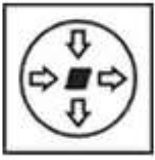
Correct Marks : 1 Wrong Marks : 0.25

निम्नलिखित प्रश्न में, दिए गए विकल्पों में से विषम आकृति को चुनिए।

Options :



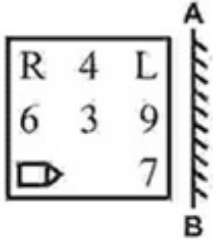
4. ✘



Question Number : 20 Question Id : 9662316842 Question Type : MCQ Option Shuffling : Yes Display Question Number : Yes Single Line Question Option : No Option Orientation : Vertical

Correct Marks : 1 Wrong Marks : 0.25

If a mirror is placed on the line AB, then which of the answer figures is the right image of the given figure?



Options :

1. ✔



2. ✘



3. ✘



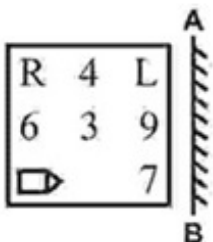
4. ✘



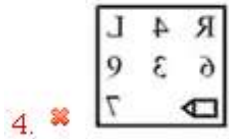
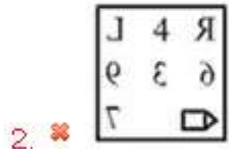
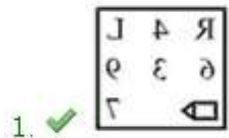
Question Number : 20 Question Id : 9662316842 Question Type : MCQ Option Shuffling : Yes Display Question Number : Yes Single Line Question Option : No Option Orientation : Vertical

Correct Marks : 1 Wrong Marks : 0.25

यदि एक दर्पण को AB रेखा पर रखा जाए, तो दी गई उत्तर आकृतियों में से कौन सी आकृति प्रश्न आकृति की सही प्रतिबिंब होगी?



Options :



General Awareness

Group Number :	2
Group Id :	966231135
Group Maximum Duration :	0
Group Minimum Duration :	0
Revisit allowed for view? :	No
Revisit allowed for edit? :	No
Break time:	0
Group Marks:	20
Revisit allowed for group Instructions? :	Yes
Maximum Instruction Time:	0
Minimum Instruction Time:	0

General Awareness

Section Id :	966231250
Section Number :	1
Section type :	Online
Mandatory or Optional:	Mandatory
Number of Questions:	20
Number of Questions to be attempted:	20
Section Marks:	20
Display Number Panel:	Yes
Group All Questions:	No

Sub-Section Number:	1
Sub-Section Id:	966231272
Question Shuffling Allowed :	Yes

Question Number : 21 Question Id : 9662316843 Question Type : MCQ Option Shuffling : Yes Display Question Number : Yes
Single Line Question Option : No Option Orientation : Vertical

Correct Marks : 1 Wrong Marks : 0.25

Festival of Baisakhi is celebrated in which month?

Options :

1. ✘ March
2. ✔ April
3. ✘ February
4. ✘ January

Question Number : 21 Question Id : 9662316843 Question Type : MCQ Option Shuffling : Yes Display Question Number : Yes
Single Line Question Option : No Option Orientation : Vertical

Correct Marks : 1 Wrong Marks : 0.25

बैसाखी का त्यौहार किस महीने में मनाया जाता है?

Options :

1. ✘ मार्च
2. ✔ अप्रैल
3. ✘ फरवरी
4. ✘ जनवरी

Question Number : 22 Question Id : 9662316844 Question Type : MCQ Option Shuffling : Yes Display Question Number : Yes
Single Line Question Option : No Option Orientation : Vertical

Correct Marks : 1 Wrong Marks : 0.25

Elephanta Cave Temple is dedicated to Lord _____.

Options :

1. ✘ Vishnu
2. ✔ Shiva
3. ✘ Hanuman
4. ✘ Brahma

Question Number : 22 Question Id : 9662316844 Question Type : MCQ Option Shuffling : Yes Display Question Number : Yes
Single Line Question Option : No Option Orientation : Vertical

Correct Marks : 1 Wrong Marks : 0.25

एलीफेंटा गुफा मंदिर भगवान _____ को समर्पित है।

Options :

1. ✘ विष्णु
2. ✔ शिव
3. ✘ हनुमान
4. ✘ ब्रह्मा

Question Number : 23 Question Id : 9662316845 Question Type : MCQ Option Shuffling : Yes Display Question Number : Yes
Single Line Question Option : No Option Orientation : Vertical

Correct Marks : 1 Wrong Marks : 0.25

Which of the following pair of Dance - State is not correct?

- I. Bharatnatyam - Tamil Nadu
- II. Kathakali - Kerala
- III. Kuchipudi - Karnataka
- IV. Sattriya - Assam

Options :

1. ✘ II
2. ✘ III
3. ✔ IV
4. ✘ I

Question Number : 23 Question Id : 9662316845 Question Type : MCQ Option Shuffling : Yes Display Question Number : Yes
Single Line Question Option : No Option Orientation : Vertical

Correct Marks : 1 Wrong Marks : 0.25

निम्नलिखित में से कौन सा नृत्य - राज्य का युग सही नहीं है?

- I. भरतनाट्यम - तमिलनाडु
- II. कथकली - केरल
- III. कुचिपुड़ी - कर्नाटक
- IV. सतत्रिया - असम

Options :

1. ✘ II
2. ✘ III
3. ✔ IV
4. ✘ I

Question Number : 24 Question Id : 9662316846 Question Type : MCQ Option Shuffling : Yes Display Question Number : Yes
Single Line Question Option : No Option Orientation : Vertical

Correct Marks : 1 Wrong Marks : 0.25

_____ is the total sum of the value of the final goods and services of 3 sectors of economy of a country produced during a year.

Options :

1. ✔ Gross Domestic Product
2. ✘ Gross Value Product
3. ✘ Total Value Product
4. ✘ Gross Domestic Means

Question Number : 24 Question Id : 9662316846 Question Type : MCQ Option Shuffling : Yes Display Question Number : Yes
Single Line Question Option : No Option Orientation : Vertical

Correct Marks : 1 Wrong Marks : 0.25

_____ एक वर्ष के दौरान उत्पादित देश की अर्थव्यवस्था के 3 क्षेत्रों की अंतिम वस्तुओं और सेवाओं के मूल्य का कुल योग है।

Options :

1. ✔ सकल घरेलू उत्पाद
2. ✘ सकल मूल्य उत्पाद
3. ✘ कुल मूल्य उत्पाद
4. ✘ सकल घरेलू साधन

Question Number : 25 Question Id : 9662316847 Question Type : MCQ Option Shuffling : Yes Display Question Number : Yes
Single Line Question Option : No Option Orientation : Vertical

Correct Marks : 1 Wrong Marks : 0.25

Who publishes Financial Stability Report in India?

Options :

1. ✘ NITI Aayog
2. ✘ Finance Ministry
3. ✔ Reserve Bank of India

4. ✖ Chamber of Commerce

Question Number : 25 Question Id : 9662316847 Question Type : MCQ Option Shuffling : Yes Display Question Number : Yes
Single Line Question Option : No Option Orientation : Vertical

Correct Marks : 1 Wrong Marks : 0.25

भारत में वित्तीय स्थिरता रिपोर्ट कौन प्रकाशित करता है?

Options :

1. ✖ नीति आयोग
2. ✖ वित्त मंत्रालय
3. ✔ भारतीय रिजर्व बैंक
4. ✖ वाणिज्य मण्डल

Question Number : 26 Question Id : 9662316848 Question Type : MCQ Option Shuffling : Yes Display Question Number : Yes
Single Line Question Option : No Option Orientation : Vertical

Correct Marks : 1 Wrong Marks : 0.25

Acids and bases react to give _____.

Options :

1. ✔ Salt
2. ✖ Esters
3. ✖ Protein
4. ✖ Fats

Question Number : 26 Question Id : 9662316848 Question Type : MCQ Option Shuffling : Yes Display Question Number : Yes
Single Line Question Option : No Option Orientation : Vertical

Correct Marks : 1 Wrong Marks : 0.25

अम्ल और क्षार प्रतिक्रिया करके _____ प्रदान करते हैं।

Options :

1. ✔ नमक
2. ✖ एस्टर
3. ✖ प्रोटीन
4. ✖ वसा

Question Number : 27 Question Id : 9662316849 Question Type : MCQ Option Shuffling : Yes Display Question Number : Yes
Single Line Question Option : No Option Orientation : Vertical

Correct Marks : 1 Wrong Marks : 0.25

Which of the following diseases does NOT spread from drinking water?

Options :

1. ✖ Typhoid
2. ✖ Cholera
3. ✔ Anemia
4. ✖ Dysentery

Question Number : 27 Question Id : 9662316849 Question Type : MCQ Option Shuffling : Yes Display Question Number : Yes
Single Line Question Option : No Option Orientation : Vertical

Correct Marks : 1 Wrong Marks : 0.25

निम्नलिखित में से कौन सी बीमारी पीने के पानी से नहीं फैलती है?

Options :

1. ✖ राइफाइड
2. ✖ हैज़ा

3. ✓ रूकाल्पता

4. ✗ पेशिश

Question Number : 28 Question Id : 9662316850 Question Type : MCQ Option Shuffling : Yes Display Question Number : Yes
Single Line Question Option : No Option Orientation : Vertical

Correct Marks : 1 Wrong Marks : 0.25

Which of the following is an ocean?

- I. Pacific
- II. Indian
- III. Atlantic

Options :

- 1. ✗ I and II
- 2. ✗ II and III
- 3. ✗ I and III
- 4. ✓ I, II and III

Question Number : 28 Question Id : 9662316850 Question Type : MCQ Option Shuffling : Yes Display Question Number : Yes
Single Line Question Option : No Option Orientation : Vertical

Correct Marks : 1 Wrong Marks : 0.25

निम्नलिखित में से कौन सा एक महासागर है?

- I. प्रशांत
- II. भारतीय
- III. अटलांटिक

Options :

- 1. ✗ I तथा II
- 2. ✗ II तथा III
- 3. ✗ I तथा III
- 4. ✓ I, II तथा III

Question Number : 29 Question Id : 9662316851 Question Type : MCQ Option Shuffling : Yes Display Question Number : Yes
Single Line Question Option : No Option Orientation : Vertical

Correct Marks : 1 Wrong Marks : 0.25

Which of the following river drains into Arabian Sea?

Options :

- 1. ✗ Ganga
- 2. ✗ Brahmaputra
- 3. ✗ Yamuna
- 4. ✓ Narmada

Question Number : 29 Question Id : 9662316851 Question Type : MCQ Option Shuffling : Yes Display Question Number : Yes
Single Line Question Option : No Option Orientation : Vertical

Correct Marks : 1 Wrong Marks : 0.25

निम्न में से कौन सी नदी अरब सागर में गिरती है?

Options :

- 1. ✗ गंगा
- 2. ✗ ब्रह्मपुत्र
- 3. ✗ यमुना
- 4. ✓ नर्मदा

Question Number : 30 Question Id : 9662316852 Question Type : MCQ Option Shuffling : Yes Display Question Number : Yes
Single Line Question Option : No Option Orientation : Vertical

Correct Marks : 1 Wrong Marks : 0.25

Which of the following area has MOST of the Black Soil?

Options :

1. ✘ Northern Plains
2. ✘ Desert Areas
3. ✔ Deccan Plateau
4. ✘ Himalayas

Question Number : 30 Question Id : 9662316852 Question Type : MCQ Option Shuffling : Yes Display Question Number : Yes
Single Line Question Option : No Option Orientation : Vertical

Correct Marks : 1 Wrong Marks : 0.25

ज्यादातर काली मिट्टी निम्नलिखित में से किस क्षेत्र में है?

Options :

1. ✘ उत्तरी मैदान
2. ✘ रेगिस्तानी इलाके
3. ✔ दक्कन के पठार
4. ✘ हिमालय

Question Number : 31 Question Id : 9662316853 Question Type : MCQ Option Shuffling : Yes Display Question Number : Yes
Single Line Question Option : No Option Orientation : Vertical

Correct Marks : 1 Wrong Marks : 0.25

Who built the Taj Mahal?

Options :

1. ✘ Akbar
2. ✘ Babur
3. ✘ Aurangzeb
4. ✔ Shah Jahan

Question Number : 31 Question Id : 9662316853 Question Type : MCQ Option Shuffling : Yes Display Question Number : Yes
Single Line Question Option : No Option Orientation : Vertical

Correct Marks : 1 Wrong Marks : 0.25

ताजमहल किसने बनवाया था?

Options :

1. ✘ अकबर
2. ✘ बाबर
3. ✘ औरंगजेब
4. ✔ शाहजहाँ

Question Number : 32 Question Id : 9662316854 Question Type : MCQ Option Shuffling : Yes Display Question Number : Yes
Single Line Question Option : No Option Orientation : Vertical

Correct Marks : 1 Wrong Marks : 0.25

Jallianwalla Bagh incident took place in which year?

Options :

1. ✔ 1919
2. ✘ 1911
3. ✘ 1920

4. ✘ 1918

Question Number : 32 Question Id : 9662316854 Question Type : MCQ Option Shuffling : Yes Display Question Number : Yes
Single Line Question Option : No Option Orientation : Vertical

Correct Marks : 1 Wrong Marks : 0.25

जलियांवाला बाग की घटना किस वर्ष में हुई?

Options :

1. ✔ 1919

2. ✘ 1911

3. ✘ 1920

4. ✘ 1918

Question Number : 33 Question Id : 9662316855 Question Type : MCQ Option Shuffling : Yes Display Question Number : Yes
Single Line Question Option : No Option Orientation : Vertical

Correct Marks : 1 Wrong Marks : 0.25

Vedic Civilization is associated with coming of _____.

Options :

1. ✘ Buddhists

2. ✔ Aryans

3. ✘ Mongols

4. ✘ Jains

Question Number : 33 Question Id : 9662316855 Question Type : MCQ Option Shuffling : Yes Display Question Number : Yes
Single Line Question Option : No Option Orientation : Vertical

Correct Marks : 1 Wrong Marks : 0.25

वैदिक सभ्यता _____ के आने से जुड़ी है

Options :

1. ✘ बौद्धों

2. ✔ आर्यों

3. ✘ मंगोलों

4. ✘ जैन

Question Number : 34 Question Id : 9662316856 Question Type : MCQ Option Shuffling : Yes Display Question Number : Yes
Single Line Question Option : No Option Orientation : Vertical

Correct Marks : 1 Wrong Marks : 0.25

In which state the central government has approved setting up of E - Foreigners Tribunals in May 2019?

Options :

1. ✘ Rajasthan

2. ✔ Assam

3. ✘ New Delhi

4. ✘ Punjab

Question Number : 34 Question Id : 9662316856 Question Type : MCQ Option Shuffling : Yes Display Question Number : Yes
Single Line Question Option : No Option Orientation : Vertical

Correct Marks : 1 Wrong Marks : 0.25

मई 2019 में केंद्र सरकार ने किस राज्य में ई-विदेशी ट्रिब्यूनल स्थापित करने को मंजूरी दी है?

Options :

1. ✘ राजस्थान

2. ✔ असम

3. ✘ नई दिल्ली

4. ✘ पंजाब

Question Number : 35 Question Id : 9662316857 Question Type : MCQ Option Shuffling : Yes Display Question Number : Yes
Single Line Question Option : No Option Orientation : Vertical

Correct Marks : 1 Wrong Marks : 0.25

The book 'Maharana Pratap: The Invincible Warrior' is authored by _____.

Options :

1. ✔ Dr Murali Mohan Chuntharu

2. ✘ Mansi Gulati

3. ✘ Rima Hooja

4. ✘ Anita Desai

Question Number : 35 Question Id : 9662316857 Question Type : MCQ Option Shuffling : Yes Display Question Number : Yes
Single Line Question Option : No Option Orientation : Vertical

Correct Marks : 1 Wrong Marks : 0.25

'महाराणा प्रताप: द अजेय वारियर' पुस्तक _____ द्वारा लिखी गई है।

Options :

1. ✔ डॉ मुरली मोहन चून्थरु

2. ✘ मानसी गुलाटी

3. ✘ रीमा हूजा

4. ✘ अनीता देसाई

Question Number : 36 Question Id : 9662316858 Question Type : MCQ Option Shuffling : Yes Display Question Number : Yes
Single Line Question Option : No Option Orientation : Vertical

Correct Marks : 1 Wrong Marks : 0.25

What is the minimum age to contest Lok Sabha elections?

Options :

1. ✘ 35

2. ✘ 21

3. ✘ 40

4. ✔ 25

Question Number : 36 Question Id : 9662316858 Question Type : MCQ Option Shuffling : Yes Display Question Number : Yes
Single Line Question Option : No Option Orientation : Vertical

Correct Marks : 1 Wrong Marks : 0.25

लोक सभा चुनाव लड़ने के लिए न्यूनतम आयु क्या है?

Options :

1. ✘ 35

2. ✘ 21

3. ✘ 40

4. ✔ 25

Question Number : 37 Question Id : 9662316859 Question Type : MCQ Option Shuffling : Yes Display Question Number : Yes
Single Line Question Option : No Option Orientation : Vertical

Correct Marks : 1 Wrong Marks : 0.25

Preamble to the Indian Constitution mentions 'Equality of_____'.
Options :

Options :

1. ✔ Status and Opportunity

2. ✘ Liberty of profession
3. ✘ Empowerment and justice
4. ✘ Happiness and life

Question Number : 37 Question Id : 9662316859 Question Type : MCQ Option Shuffling : Yes Display Question Number : Yes
Single Line Question Option : No Option Orientation : Vertical

Correct Marks : 1 Wrong Marks : 0.25

भारतीय संविधान की उद्देशिका में ' _____ की समानता' का उल्लेख है।

Options :

1. ✔ प्रतिष्ठा और अवसर की समता
2. ✘ व्यवसाय की स्वतंत्रता
3. ✘ सशक्तीकरण तथा न्याय
4. ✘ सुख तथा जीवन

Question Number : 38 Question Id : 9662316860 Question Type : MCQ Option Shuffling : Yes Display Question Number : Yes
Single Line Question Option : No Option Orientation : Vertical

Correct Marks : 1 Wrong Marks : 0.25

Who was the President of Constituent Assembly?

Options :

1. ✘ K M Munshi
2. ✘ Jawaharlal Nehru
3. ✔ Rajendra Prasad
4. ✘ B. R. Ambedkar

Question Number : 38 Question Id : 9662316860 Question Type : MCQ Option Shuffling : Yes Display Question Number : Yes
Single Line Question Option : No Option Orientation : Vertical

Correct Marks : 1 Wrong Marks : 0.25

संविधान सभा के अध्यक्ष कौन थे?

Options :

1. ✘ के एम मुंशी
2. ✘ जवाहरलाल नेहरू
3. ✔ राजेन्द्र प्रसाद
4. ✘ बी आर अम्बेडकर

Question Number : 39 Question Id : 9662316861 Question Type : MCQ Option Shuffling : Yes Display Question Number : Yes
Single Line Question Option : No Option Orientation : Vertical

Correct Marks : 1 Wrong Marks : 0.25

Lakshya Sen is related to which of the following sport?

Options :

1. ✘ Kho-Kho
2. ✔ Badminton
3. ✘ Chess
4. ✘ Snooker

Question Number : 39 Question Id : 9662316861 Question Type : MCQ Option Shuffling : Yes Display Question Number : Yes
Single Line Question Option : No Option Orientation : Vertical

Correct Marks : 1 Wrong Marks : 0.25

लक्ष्य सेन निम्नलिखित में से किस खेल से संबंधित है?

Options :

1. ✘ खो-खो
2. ✔ बैडमिंटन
3. ✘ शतरंज
4. ✘ खूकर

Question Number : 40 Question Id : 9662316862 Question Type : MCQ Option Shuffling : Yes Display Question Number : Yes
Single Line Question Option : No Option Orientation : Vertical

Correct Marks : 1 Wrong Marks : 0.25

The Rugby World Cup 2019 will be held in which country?

Options :

1. ✔ Japan
2. ✘ Afghanistan
3. ✘ Germany
4. ✘ New Zealand

Question Number : 40 Question Id : 9662316862 Question Type : MCQ Option Shuffling : Yes Display Question Number : Yes
Single Line Question Option : No Option Orientation : Vertical

Correct Marks : 1 Wrong Marks : 0.25

रग्बी विश्व कप 2019 किस देश में आयोजित किया जाएगा?

Options :

1. ✔ जापान
2. ✘ अफगानिस्तान
3. ✘ जर्मनी
4. ✘ न्यूजीलैंड

Arithmetic Ability

Group Number :	3
Group Id :	966231136
Group Maximum Duration :	0
Group Minimum Duration :	0
Revisit allowed for view? :	No
Revisit allowed for edit? :	No
Break time:	0
Group Marks:	20
Revisit allowed for group Instructions? :	Yes
Maximum Instruction Time:	0
Minimum Instruction Time:	0

Arithmetic Ability

Section Id :	966231251
Section Number :	1
Section type :	Online
Mandatory or Optional:	Mandatory
Number of Questions:	20
Number of Questions to be attempted:	20
Section Marks:	20
Display Number Panel:	Yes

Group All Questions:

No

Sub-Section Number:

1

Sub-Section Id:

966231273

Question Shuffling Allowed :

Yes

Question Number : 41 Question Id : 9662316863 Question Type : MCQ Option Shuffling : Yes Display Question Number : Yes
Single Line Question Option : No Option Orientation : Vertical

Correct Marks : 1 Wrong Marks : 0.25

What is the Highest Common Factor of 42, 56, 98, 112 and 126?

Options :

1. ✘ 16

2. ✘ 7

3. ✔ 14

4. ✘ 18

Question Number : 41 Question Id : 9662316863 Question Type : MCQ Option Shuffling : Yes Display Question Number : Yes
Single Line Question Option : No Option Orientation : Vertical

Correct Marks : 1 Wrong Marks : 0.25

42, 56, 98, 112 तथा 126 का महत्तम समापवर्तक क्या है?

Options :

1. ✘ 16

2. ✘ 7

3. ✔ 14

4. ✘ 18

Question Number : 42 Question Id : 9662316864 Question Type : MCQ Option Shuffling : Yes Display Question Number : Yes
Single Line Question Option : No Option Orientation : Vertical

Correct Marks : 1 Wrong Marks : 0.25

$$1 + \frac{1}{1 + \frac{1}{2 + \frac{1}{3 + \frac{1}{2}}}}$$

What is the value of:

Options :

$$\frac{8}{3}$$

1. ✘

$$\frac{15}{11}$$

2. ✔

$$\frac{17}{6}$$

3. ✖

$$\frac{11}{3}$$

4. ✖

Question Number : 42 Question Id : 9662316864 Question Type : MCQ Option Shuffling : Yes Display Question Number : Yes
Single Line Question Option : No Option Orientation : Vertical

Correct Marks : 1 Wrong Marks : 0.25

$$1 + \frac{1}{1 + \frac{1}{2 + \frac{1}{3 + \frac{1}{2}}}}$$
 का मान क्या है?

Options :

$$\frac{8}{3}$$

1. ✖

$$\frac{15}{11}$$

2. ✔

$$\frac{17}{6}$$

3. ✖

$$\frac{11}{3}$$

4. ✖

Question Number : 43 Question Id : 9662316865 Question Type : MCQ Option Shuffling : Yes Display Question Number : Yes
Single Line Question Option : No Option Orientation : Vertical

Correct Marks : 1 Wrong Marks : 0.25

What is the value of: $\left(\frac{2}{15} - \frac{1}{6} \div \frac{35}{3}\right) \times \frac{20}{9} - \frac{1}{30}$

Options :

$$\frac{86}{19999}$$

1. ✘

$$\frac{437}{1890}$$

2. ✔

$$\frac{541}{2230}$$

3. ✘

$$\frac{93}{1640}$$

4. ✘

Question Number : 43 Question Id : 9662316865 Question Type : MCQ Option Shuffling : Yes Display Question Number : Yes Single Line Question Option : No Option Orientation : Vertical

Correct Marks : 1 Wrong Marks : 0.25

$$\left(\frac{2}{15} - \frac{1}{6} \div \frac{35}{3} \right) \times \frac{20}{9} - \frac{1}{30} \text{ का मान क्या है?}$$

Options :

$$\frac{86}{19999}$$

1. ✘

$$\frac{437}{1890}$$

2. ✔

$$\frac{541}{2230}$$

3. ✘

$$\frac{93}{1640}$$

4. ✘

Question Number : 44 Question Id : 9662316866 Question Type : MCQ Option Shuffling : Yes Display Question Number : Yes Single Line Question Option : No Option Orientation : Vertical

Correct Marks : 1 Wrong Marks : 0.25

What is the average of first 15 multiplies of 4?

Options :

1. ✘ 30
2. ✔ 32
3. ✘ 28
4. ✘ 35

Question Number : 44 Question Id : 9662316866 Question Type : MCQ Option Shuffling : Yes Display Question Number : Yes
Single Line Question Option : No Option Orientation : Vertical

Correct Marks : 1 Wrong Marks : 0.25

4 के पहले 15 गुणकों का औसत क्या है?

Options :

1. ✘ 30
2. ✔ 32
3. ✘ 28
4. ✘ 35

Question Number : 45 Question Id : 9662316867 Question Type : MCQ Option Shuffling : Yes Display Question Number : Yes
Single Line Question Option : No Option Orientation : Vertical

Correct Marks : 1 Wrong Marks : 0.25

A vendor sells 70% of goods at 10% profit and remaining at 5% loss. If he had sold all the goods at 6% profit, then he would have gained Rs. 500 more. What is the cost price of the goods?

Options :

1. ✘ Rs. 50000
2. ✔ Rs. 100000
3. ✘ Rs. 70000
4. ✘ Rs. 80000

Question Number : 45 Question Id : 9662316867 Question Type : MCQ Option Shuffling : Yes Display Question Number : Yes
Single Line Question Option : No Option Orientation : Vertical

Correct Marks : 1 Wrong Marks : 0.25

एक विक्रेता वस्तुओं का 70%, 10% के लाभ पर तथा शेष को 5% हानि पर बेचता है। यदि वह सभी वस्तुओं को 6% के लाभ पर बेचता, तो उसे 500 रुपये का अधिक लाभ होता। वस्तुओं का क्रय मूल्य क्या है?

Options :

1. ✘ 50000 रुपये
2. ✔ 100000 रुपये
3. ✘ 70000 रुपये
4. ✘ 80000 रुपये

Question Number : 46 Question Id : 9662316868 Question Type : MCQ Option Shuffling : Yes Display Question Number : Yes
Single Line Question Option : No Option Orientation : Vertical

Correct Marks : 1 Wrong Marks : 0.25

If Ajay's income is increased from Rs. 2040 to Rs. 2720, then what is the percentage increase in the income?

Options :

1. ✘ 30 percent
2. ✔ 33.3 percent
3. ✘ 25 percent
4. ✘ 37.5 percent

Question Number : 46 Question Id : 9662316868 Question Type : MCQ Option Shuffling : Yes Display Question Number : Yes
Single Line Question Option : No Option Orientation : Vertical

Correct Marks : 1 Wrong Marks : 0.25

यदि अजय की आय 2040 रुपये से बढ़ाकर 2720 रुपये कर दी गई है, तो आय में कितने प्रतिशत की वृद्धि हुई है?

Options :

1. ✘ 30 प्रतिशत
2. ✔ 33.3 प्रतिशत
3. ✘ 25 प्रतिशत
4. ✘ 37.5 प्रतिशत

Question Number : 47 Question Id : 9662316869 Question Type : MCQ Option Shuffling : Yes Display Question Number : Yes
Single Line Question Option : No Option Orientation : Vertical

Correct Marks : 1 Wrong Marks : 0.25

The value of a machine appreciates by 30% in first year and appreciates by 20% in second year. If the value of machine becomes Rs. 17160 after 2 years, then what was its initial value?

Options :

1. ✘ Rs. 11200
2. ✔ Rs. 11000
3. ✘ Rs. 10900
4. ✘ Rs. 11300

Question Number : 47 Question Id : 9662316869 Question Type : MCQ Option Shuffling : Yes Display Question Number : Yes
Single Line Question Option : No Option Orientation : Vertical

Correct Marks : 1 Wrong Marks : 0.25

एक मशीन का मूल्य पहले वर्ष 30% से बढ़ता है तथा दूसरे वर्ष 20% से बढ़ता है। यदि दो वर्ष पश्चात मशीन का मूल्य 17160 रुपये हो जाता है, तो शुरुआत में इसका मूल्य क्या था?

Options :

1. ✘ 11200 रुपये
2. ✔ 11000 रुपये
3. ✘ 10900 रुपये
4. ✘ 11300 रुपये

Question Number : 48 Question Id : 9662316870 Question Type : MCQ Option Shuffling : Yes Display Question Number : Yes
Single Line Question Option : No Option Orientation : Vertical

Correct Marks : 1 Wrong Marks : 0.25

A number is decreased successively by 10%, 20% and then 30%. What will be the net decrease in percentage?

Options :

1. ✘ 50 percent
2. ✘ 48 percent
3. ✔ 49.6 percent
4. ✘ 47.2 percent

Question Number : 48 Question Id : 9662316870 Question Type : MCQ Option Shuffling : Yes Display Question Number : Yes
Single Line Question Option : No Option Orientation : Vertical

Correct Marks : 1 Wrong Marks : 0.25

एक संख्या को क्रमानुसार 10%, 20% तथा फिर 30% से घटाया गया है। प्रतिशत में निवल कमी क्या होगी?

Options :

1. ✘ 50 प्रतिशत
2. ✘ 48 प्रतिशत

3. ✓ 49.6 प्रतिशत

4. ✗ 47.2 प्रतिशत

Question Number : 49 Question Id : 9662316871 Question Type : MCQ Option Shuffling : Yes Display Question Number : Yes
Single Line Question Option : No Option Orientation : Vertical

Correct Marks : 1 Wrong Marks : 0.25

The ratio of cost price and selling price of an article is 8 : 13 and total profit is Rs. 225. What is the selling price of the article?

Options :

1. ✗ Rs. 615

2. ✓ Rs. 585

3. ✗ Rs. 715

4. ✗ Rs. 635

Question Number : 49 Question Id : 9662316871 Question Type : MCQ Option Shuffling : Yes Display Question Number : Yes
Single Line Question Option : No Option Orientation : Vertical

Correct Marks : 1 Wrong Marks : 0.25

एक वस्तु के क्रय मूल्य तथा विक्रय मूल्य का अनुपात 8 : 13 है तथा कुल लाभ 225 रुपये है। वस्तु का विक्रय मूल्य क्या है?

Options :

1. ✗ 615 रुपये

2. ✓ 585 रुपये

3. ✗ 715 रुपये

4. ✗ 635 रुपये

Question Number : 50 Question Id : 9662316872 Question Type : MCQ Option Shuffling : Yes Display Question Number : Yes
Single Line Question Option : No Option Orientation : Vertical

Correct Marks : 1 Wrong Marks : 0.25

The sum of two numbers is 44 and their difference is 8. What is the ratio of these numbers?

Options :

1. ✗ 8 : 15

2. ✗ 7 : 13

3. ✓ 9 : 13

4. ✗ 11 : 9

Question Number : 50 Question Id : 9662316872 Question Type : MCQ Option Shuffling : Yes Display Question Number : Yes
Single Line Question Option : No Option Orientation : Vertical

Correct Marks : 1 Wrong Marks : 0.25

दो संख्याओं का योग 44 है तथा उनका अंतर 8 है। संख्याओं का अनुपात क्या है?

Options :

1. ✗ 8 : 15

2. ✗ 7 : 13

3. ✓ 9 : 13

4. ✗ 11 : 9

Question Number : 51 Question Id : 9662316873 Question Type : MCQ Option Shuffling : Yes Display Question Number : Yes
Single Line Question Option : No Option Orientation : Vertical

Correct Marks : 1 Wrong Marks : 0.25

If $a : b = 1 : 2$, $b : c = 3 : 2$ and $c : d = 1 : 5$, then what is $a : b : c : d$?

Options :

1. ✘ 1 : 4 : 5 : 12
2. ✘ 2 : 6 : 3 : 8
3. ✔ 3 : 6 : 4 : 20
4. ✘ 4 : 3 : 10 : 8

Question Number : 51 Question Id : 9662316873 Question Type : MCQ Option Shuffling : Yes Display Question Number : Yes
Single Line Question Option : No Option Orientation : Vertical

Correct Marks : 1 Wrong Marks : 0.25

यदि $a : b = 1 : 2$, $b : c = 3 : 2$ तथा $c : d = 1 : 5$ है, तो $a : b : c : d$ क्या है?

Options :

1. ✘ 1 : 4 : 5 : 12
2. ✘ 2 : 6 : 3 : 8
3. ✔ 3 : 6 : 4 : 20
4. ✘ 4 : 3 : 10 : 8

Question Number : 52 Question Id : 9662316874 Question Type : MCQ Option Shuffling : Yes Display Question Number : Yes
Single Line Question Option : No Option Orientation : Vertical

Correct Marks : 1 Wrong Marks : 0.25

The angles of a triangle are in the ratio 5 : 15 : 16. What should be subtracted from each angle so that their ratio becomes 3 : 13 : 14?

Options :

1. ✔ 10
2. ✘ 8
3. ✘ 12
4. ✘ 5

Question Number : 52 Question Id : 9662316874 Question Type : MCQ Option Shuffling : Yes Display Question Number : Yes
Single Line Question Option : No Option Orientation : Vertical

Correct Marks : 1 Wrong Marks : 0.25

एक त्रिभुज के कोण 5 : 15 : 16 के अनुपात में हैं। प्रत्येक कोण में क्या घटाया जाना चाहिए ताकि उनका अनुपात 3 : 13 : 14 हो जाए?

Options :

1. ✔ 10
2. ✘ 8
3. ✘ 12
4. ✘ 5

Question Number : 53 Question Id : 9662316875 Question Type : MCQ Option Shuffling : Yes Display Question Number : Yes
Single Line Question Option : No Option Orientation : Vertical

Correct Marks : 1 Wrong Marks : 0.25

A sum is kept on simple interest. It gives an amount of Rs. 5760 and Rs. 7920 after 2 years and 4 years respectively. What is the sum?

Options :

1. ✘ Rs. 3800
2. ✔ Rs. 3600
3. ✘ Rs. 4000
4. ✘ Rs. 4200

Question Number : 53 Question Id : 9662316875 Question Type : MCQ Option Shuffling : Yes Display Question Number : Yes
Single Line Question Option : No Option Orientation : Vertical

Correct Marks : 1 Wrong Marks : 0.25

एक धनराशी को साधारण ब्याज पर रखा गया वह 2 वर्ष तथा 4 वर्ष पश्चात् क्रमशः 5760 रुपये तथा 7920 रुपये का मिश्रधन देती है धनराशी क्या है?

Options :

- ✘ 3800 रुपये
- ✔ 3600 रुपये
- ✘ 4000 रुपये
- ✘ 4200 रुपये

Question Number : 54 Question Id : 9662316876 Question Type : MCQ Option Shuffling : Yes Display Question Number : Yes Single Line Question Option : No Option Orientation : Vertical

Correct Marks : 1 Wrong Marks : 0.25

A man covers a certain distance in 3 hours at his original speed. If he walks at $(5/4)$ th of original speed, then he can cover additional 6 km in that time. What is the original speed of the man?

Options :

- ✘ 6 km/hr
- ✘ 9 km/hr
- ✔ 8 km/hr
- ✘ 10 km/hr

Question Number : 54 Question Id : 9662316876 Question Type : MCQ Option Shuffling : Yes Display Question Number : Yes Single Line Question Option : No Option Orientation : Vertical

Correct Marks : 1 Wrong Marks : 0.25

एक आदमी अपनी वास्तविक गति से एक निश्चित दूरी को 3 घंटे में तय कर लेता है यदि वह अपनी वास्तविक गति के $(5/4)$ से चलता है, तो वह 6 कि. मी. की अतिरिक्त दूरी तय कर सकता है। आदमी की वास्तविक गति क्या है?

Options :

- ✘ 6 कि.मी./घंटा
- ✘ 9 कि.मी./घंटा
- ✔ 8 कि.मी./घंटा
- ✘ 10 कि.मी./घंटा

Question Number : 55 Question Id : 9662316877 Question Type : MCQ Option Shuffling : Yes Display Question Number : Yes Single Line Question Option : No Option Orientation : Vertical

Correct Marks : 1 Wrong Marks : 0.25

A, B and C can do a work in 10, 12 and 15 days respectively. How many days A, B and C together will take to complete the same work?

Options :

- ✘ 3 days
- ✘ 6 days
- ✔ 4 days
- ✘ $17/5$ days

Question Number : 55 Question Id : 9662316877 Question Type : MCQ Option Shuffling : Yes Display Question Number : Yes Single Line Question Option : No Option Orientation : Vertical

Correct Marks : 1 Wrong Marks : 0.25

A, B तथा C एक कार्य को क्रमशः 10, 12 तथा 15 दिन में पूरा कर सकते हैं। A, B तथा C साथ मिलकर कार्य को पूरा करने के लिए कितना समय लेंगे?

Options :

- ✘ 3 दिन
- ✘ 6 दिन

3. ✓ 4 दिन

4. ✗ 17/5 दिन

Question Number : 56 Question Id : 9662316878 Question Type : MCQ Option Shuffling : Yes Display Question Number : Yes Single Line Question Option : No Option Orientation : Vertical

Correct Marks : 1 Wrong Marks : 0.25

If 45 binders bind 4800 books in 16 days, then how many binders will be required to bind 1500 books in 45 days?

Options :

1. ✓ 5

2. ✗ 9

3. ✗ 15

4. ✗ 10

Question Number : 56 Question Id : 9662316878 Question Type : MCQ Option Shuffling : Yes Display Question Number : Yes Single Line Question Option : No Option Orientation : Vertical

Correct Marks : 1 Wrong Marks : 0.25

यदि 45 जिल्द बाँधने वाले 16 दिन में 4800 किताबों पर जिल्द बाँधते हैं, तो 1500 किताबों पर 45 दिन में जिल्द बाँधने के लिए कितने जिल्द बाँधने वालों की आवश्यकता होगी?

Options :

1. ✓ 5

2. ✗ 9

3. ✗ 15

4. ✗ 10

Question Number : 57 Question Id : 9662316879 Question Type : MCQ Option Shuffling : Yes Display Question Number : Yes Single Line Question Option : No Option Orientation : Vertical

Correct Marks : 1 Wrong Marks : 0.25

If the volume of a cube is $16\sqrt{2} \text{ cm}^3$, then what is the total surface area of the cube?

Options :

24 cm²

1. ✗

48 cm²

2. ✓

72 cm²

3. ✗

96 cm²

4. ✗

Question Number : 57 Question Id : 9662316879 Question Type : MCQ Option Shuffling : Yes Display Question Number : Yes Single Line Question Option : No Option Orientation : Vertical

Correct Marks : 1 Wrong Marks : 0.25

यदि एक घन का आयतन $16\sqrt{2} \text{ cm}^3$ है, तो घन का कुल पृष्ठीय क्षेत्रफल क्या है?

Options :

24 से.मी.²

1. ✘

48 से.मी.²

2. ✔

72 से.मी.²

3. ✘

96 से.मी.²

4. ✘

Question Number : 58 Question Id : 9662316880 Question Type : MCQ Option Shuffling : Yes Display Question Number : Yes
Single Line Question Option : No Option Orientation : Vertical

Correct Marks : 1 Wrong Marks : 0.25

If the volume of a sphere is 38808 cm^3 , then what is the total surface area of the sphere?

Options :

5536 cm^2

1. ✘

5518 cm^2

2. ✘

5544 cm^2

3. ✔

5550 cm^2

4. ✘

Question Number : 58 Question Id : 9662316880 Question Type : MCQ Option Shuffling : Yes Display Question Number : Yes
Single Line Question Option : No Option Orientation : Vertical

Correct Marks : 1 Wrong Marks : 0.25

यदि एक गोले का आयतन 38808 से.मी.^3 है, तो गोले का कुल पृष्ठीय क्षेत्रफल क्या है?

Options :

5536 से.मी.²

1. ✘

5518 से.मी.²

2. ✘

5544 से.मी.²

3. ✔

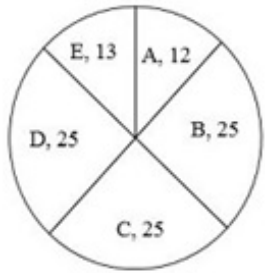
5550 से.मी.²

4. ✘

Question Number : 59 Question Id : 9662316881 Question Type : MCQ Option Shuffling : Yes Display Question Number : Yes
Single Line Question Option : No Option Orientation : Vertical

Correct Marks : 1 Wrong Marks : 0.25

The pie chart given below shows the various expenses incurred by a family. The various expenses are shown as the percentage of total expenses incurred.



If the expenses incurred on B is 100, then what is the total expenses incurred by the family?

Options :

1. ✘ 200

2. ✘ 300

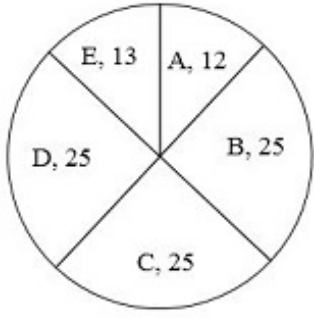
3. ✔ 400

4. ✘ 500

Question Number : 59 Question Id : 9662316881 Question Type : MCQ Option Shuffling : Yes Display Question Number : Yes
Single Line Question Option : No Option Orientation : Vertical

Correct Marks : 1 Wrong Marks : 0.25

नीचे दिया गया वृत्त चित्र एक परिवार द्वारा किए गए विभिन्न प्रकार के खर्चों को दर्शाता है। विभिन्न प्रकार के खर्चों को कुल किए गए खर्चों के प्रतिशत के रूप में दर्शाया गया है?



यदि B पर किया गया खर्चा 100 है, तो परिवार द्वारा किया गया कुल खर्चा क्या है?

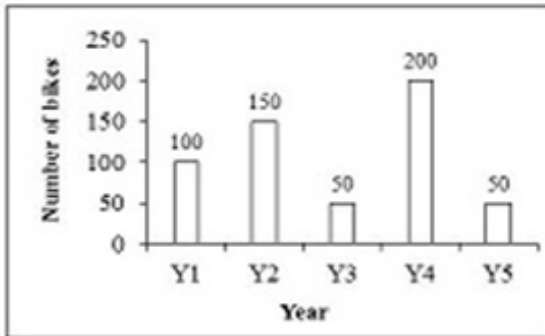
Options :

- ✘ 200
- ✘ 300
- ✔ 400
- ✘ 500

Question Number : 60 Question Id : 9662316882 Question Type : MCQ Option Shuffling : Yes Display Question Number : Yes Single Line Question Option : No Option Orientation : Vertical

Correct Marks : 1 Wrong Marks : 0.25

The bar graph given below shows the number of bikes sold by a businessman in five years.



Number of bikes sold in year Y2 is how much percentage less than the number of bikes sold in year Y4?

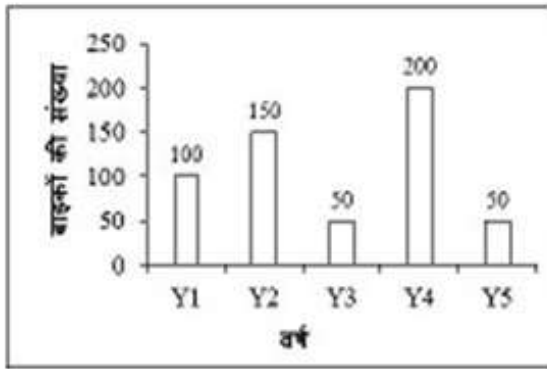
Options :

- ✔ 25 percent
- ✘ 50 percent
- ✘ 75 percent
- ✘ 100 percent

Question Number : 60 Question Id : 9662316882 Question Type : MCQ Option Shuffling : Yes Display Question Number : Yes Single Line Question Option : No Option Orientation : Vertical

Correct Marks : 1 Wrong Marks : 0.25

नीचे दिया गाय दण्ड चित्र पाँच वर्षों में एक व्यापारी द्वारा बेची गई बाइकों की संख्या को दर्शाता है।



वर्ष Y2 में बेची गई बाइकों की संख्या, वर्ष Y4 में बेची गई बाइकों की संख्या से कितनी प्रतिशत कम है?

Options :

- ✓ 25 प्रतिशत
- ✗ 50 प्रतिशत
- ✗ 75 प्रतिशत
- ✗ 100 प्रतिशत

General English

Group Number :	4
Group Id :	966231137
Group Maximum Duration :	0
Group Minimum Duration :	0
Revisit allowed for view? :	No
Revisit allowed for edit? :	No
Break time:	0
Group Marks:	20
Revisit allowed for group Instructions? :	Yes
Maximum Instruction Time:	0
Minimum Instruction Time:	0

General English

Section Id :	966231252
Section Number :	1
Section type :	Online
Mandatory or Optional:	Mandatory
Number of Questions:	16
Number of Questions to be attempted:	16
Section Marks:	20
Display Number Panel:	Yes
Group All Questions:	No

Sub-Section Number:	1
Sub-Section Id:	966231274
Question Shuffling Allowed :	Yes

Question Number : 61 Question Id : 9662316883 Question Type : MCQ Option Shuffling : Yes Display Question Number : Yes
Single Line Question Option : No Option Orientation : Vertical

Correct Marks : 1 Wrong Marks : 0.25

Choose an option that contains an error.

Options :

1. ✘ The rain came pouring down in torrents
2. ✘ Lesson learnt easily are soon forgotten
3. ✔ Being dissatisfied, he resigned from her position
4. ✘ I saw the storm approaching

Question Number : 61 Question Id : 9662316883 Question Type : MCQ Option Shuffling : Yes Display Question Number : Yes
Single Line Question Option : No Option Orientation : Vertical

Correct Marks : 1 Wrong Marks : 0.25

Choose an option that contains an error.

Options :

1. ✘ The rain came pouring down in torrents
2. ✘ Lesson learnt easily are soon forgotten
3. ✔ Being dissatisfied, he resigned from her position
4. ✘ I saw the storm approaching

Question Number : 62 Question Id : 9662316884 Question Type : MCQ Option Shuffling : Yes Display Question Number : Yes
Single Line Question Option : No Option Orientation : Vertical

Correct Marks : 1 Wrong Marks : 0.25

Find the part of the given sentence that has an error in it. If there is no error, choose 'No error'.

There is still (1) / no cure to (2) / the common cold (3) /. No error (4)

Options :

1. ✘ 1
2. ✔ 2
3. ✘ 3
4. ✘ 4

Question Number : 62 Question Id : 9662316884 Question Type : MCQ Option Shuffling : Yes Display Question Number : Yes
Single Line Question Option : No Option Orientation : Vertical

Correct Marks : 1 Wrong Marks : 0.25

Find the part of the given sentence that has an error in it. If there is no error, choose 'No error'.

There is still (1) / no cure to (2) / the common cold (3) /. No error (4)

Options :

1. ✘ 1
2. ✔ 2
3. ✘ 3
4. ✘ 4

Question Number : 63 Question Id : 9662316885 Question Type : MCQ Option Shuffling : Yes Display Question Number : Yes
Single Line Question Option : No Option Orientation : Vertical

Correct Marks : 1 Wrong Marks : 0.25

Improve the bracketed part of the sentence.

Mumbai is famous (with) its textiles.

Options :

1. ✘ to
2. ✘ along
3. ✔ for
4. ✘ No improvement

Question Number : 63 Question Id : 9662316885 Question Type : MCQ Option Shuffling : Yes Display Question Number : Yes
Single Line Question Option : No Option Orientation : Vertical

Correct Marks : 1 Wrong Marks : 0.25

Improve the bracketed part of the sentence.

Mumbai is famous (with) its textiles.

Options :

1. ✘ to
2. ✘ along
3. ✔ for
4. ✘ No improvement

Question Number : 64 Question Id : 9662316886 Question Type : MCQ Option Shuffling : Yes Display Question Number : Yes
Single Line Question Option : No Option Orientation : Vertical

Correct Marks : 1 Wrong Marks : 0.25

Improve the bracketed part of the sentence.

The African elephant is now confined (as) Central Africa.

Options :

1. ✔ to
2. ✘ by
3. ✘ with
4. ✘ No improvement

Question Number : 64 Question Id : 9662316886 Question Type : MCQ Option Shuffling : Yes Display Question Number : Yes
Single Line Question Option : No Option Orientation : Vertical

Correct Marks : 1 Wrong Marks : 0.25

Improve the bracketed part of the sentence.

The African elephant is now confined (as) Central Africa.

Options :

1. ✔ to
2. ✘ by
3. ✘ with
4. ✘ No improvement

Question Number : 65 Question Id : 9662316887 Question Type : MCQ Option Shuffling : Yes Display Question Number : Yes
Single Line Question Option : No Option Orientation : Vertical

Correct Marks : 1 Wrong Marks : 0.25

A sentence has been given with a blank to be filled with an appropriate word. Choose the correct alternative.

He is proficient _____ Mathematics.

Options :

1. ✘ by
2. ✘ into

3. ✘ to

4. ✔ in

Question Number : 65 Question Id : 9662316887 Question Type : MCQ Option Shuffling : Yes Display Question Number : Yes Single Line Question Option : No Option Orientation : Vertical

Correct Marks : 1 Wrong Marks : 0.25

A sentence has been given with a blank to be filled with an appropriate word. Choose the correct alternative.

He is proficient _____ Mathematics.

Options :

1. ✘ by

2. ✘ into

3. ✘ to

4. ✔ in

Question Number : 66 Question Id : 9662316888 Question Type : MCQ Option Shuffling : Yes Display Question Number : Yes Single Line Question Option : No Option Orientation : Vertical

Correct Marks : 1 Wrong Marks : 0.25

The question below consists of a set of labeled parts. Out of the four options given, select the most logical order of the parts to form a coherent sentence.

P: a lawn

Q: are not fit

R: some grasses

S: for developing

Options :

1. ✘ RPSQ

2. ✔ RQSP

3. ✘ PQRS

4. ✘ RSPQ

Question Number : 66 Question Id : 9662316888 Question Type : MCQ Option Shuffling : Yes Display Question Number : Yes Single Line Question Option : No Option Orientation : Vertical

Correct Marks : 1 Wrong Marks : 0.25

The question below consists of a set of labeled parts. Out of the four options given, select the most logical order of the parts to form a coherent sentence.

P: a lawn

Q: are not fit

R: some grasses

S: for developing

Options :

1. ✘ RPSQ

2. ✔ RQSP

3. ✘ PQRS

4. ✘ RSPQ

Question Number : 67 Question Id : 9662316889 Question Type : MCQ Option Shuffling : Yes Display Question Number : Yes Single Line Question Option : No Option Orientation : Vertical

Correct Marks : 1 Wrong Marks : 0.25

Choose the word that is opposite in meaning to the given word.

Courteous

Options :

1. ✘ Scour
2. ✘ Reliant
3. ✔ Sarcastic
4. ✘ Dry

Question Number : 67 Question Id : 9662316889 Question Type : MCQ Option Shuffling : Yes Display Question Number : Yes
Single Line Question Option : No Option Orientation : Vertical

Correct Marks : 1 Wrong Marks : 0.25

Choose the word that is opposite in meaning to the given word.

Courteous

Options :

1. ✘ Scour
2. ✘ Reliant
3. ✔ Sarcastic
4. ✘ Dry

Question Number : 68 Question Id : 9662316890 Question Type : MCQ Option Shuffling : Yes Display Question Number : Yes
Single Line Question Option : No Option Orientation : Vertical

Correct Marks : 1 Wrong Marks : 0.25

Choose the word that means the same as the given word.

Tedious

Options :

1. ✘ Athlete
2. ✔ Tiresome
3. ✘ Charge
4. ✘ Evidence

Question Number : 68 Question Id : 9662316890 Question Type : MCQ Option Shuffling : Yes Display Question Number : Yes
Single Line Question Option : No Option Orientation : Vertical

Correct Marks : 1 Wrong Marks : 0.25

Choose the word that means the same as the given word.

Tedious

Options :

1. ✘ Athlete
2. ✔ Tiresome
3. ✘ Charge
4. ✘ Evidence

Question Number : 69 Question Id : 9662316891 Question Type : MCQ Option Shuffling : Yes Display Question Number : Yes
Single Line Question Option : No Option Orientation : Vertical

Correct Marks : 1 Wrong Marks : 0.25

In the given question, four words are given out of which one word is correctly spelt. Choose the correctly spelt word.

Options :

1. ✓ Fluorescent
2. ✗ Fluoroscent
3. ✗ Fluoresent
4. ✗ Florescent

Question Number : 69 Question Id : 9662316891 Question Type : MCQ Option Shuffling : Yes Display Question Number : Yes Single Line Question Option : No Option Orientation : Vertical

Correct Marks : 1 Wrong Marks : 0.25

In the given question, four words are given out of which one word is correctly spelt. Choose the correctly spelt word.

Options :

1. ✓ Fluorescent
2. ✗ Fluoroscent
3. ✗ Fluoresent
4. ✗ Florescent

Question Number : 70 Question Id : 9662316892 Question Type : MCQ Option Shuffling : Yes Display Question Number : Yes Single Line Question Option : No Option Orientation : Vertical

Correct Marks : 1 Wrong Marks : 0.25

In the given question, four words are given out of which one word is correctly spelt. Choose the correctly spelt word.

Options :

1. ✓ Admissible
2. ✗ Admiscible
3. ✗ Admissibel
4. ✗ Admisibal

Question Number : 70 Question Id : 9662316892 Question Type : MCQ Option Shuffling : Yes Display Question Number : Yes Single Line Question Option : No Option Orientation : Vertical

Correct Marks : 1 Wrong Marks : 0.25

In the given question, four words are given out of which one word is correctly spelt. Choose the correctly spelt word.

Options :

1. ✓ Admissible
2. ✗ Admiscible
3. ✗ Admissibel
4. ✗ Admisibal

Question Number : 71 Question Id : 9662316893 Question Type : MCQ Option Shuffling : Yes Display Question Number : Yes Single Line Question Option : No Option Orientation : Vertical

Correct Marks : 1 Wrong Marks : 0.25

In the given question, four words are given out of which one word is correctly spelt. Choose the correctly spelt word.

Options :

1. ✗ Accpactable
2. ✓ Dissociate
3. ✗ Calender
4. ✗ Acheive

Question Number : 71 Question Id : 9662316893 Question Type : MCQ Option Shuffling : Yes Display Question Number : Yes
Single Line Question Option : No Option Orientation : Vertical

Correct Marks : 1 Wrong Marks : 0.25

In the given question, four words are given out of which one word is correctly spelt. Choose the correctly spelt word.

Options :

1. ✘ Acceptable
2. ✔ Dissociate
3. ✘ Calender
4. ✘ Acheive

Question Number : 72 Question Id : 9662316894 Question Type : MCQ Option Shuffling : Yes Display Question Number : Yes
Single Line Question Option : No Option Orientation : Vertical

Correct Marks : 1 Wrong Marks : 0.25

In the following question, out of the given four alternatives, select the alternative which best expresses the meaning of the Idiom / Phrase.

To lead by the nose

Options :

1. ✘ In the final analysis
2. ✘ To forgive and forget
3. ✔ To make one obey him/her
4. ✘ Not on good terms with someone

Question Number : 72 Question Id : 9662316894 Question Type : MCQ Option Shuffling : Yes Display Question Number : Yes
Single Line Question Option : No Option Orientation : Vertical

Correct Marks : 1 Wrong Marks : 0.25

In the following question, out of the given four alternatives, select the alternative which best expresses the meaning of the Idiom / Phrase.

To lead by the nose

Options :

1. ✘ In the final analysis
2. ✘ To forgive and forget
3. ✔ To make one obey him/her
4. ✘ Not on good terms with someone

Question Number : 73 Question Id : 9662316895 Question Type : MCQ Option Shuffling : Yes Display Question Number : Yes
Single Line Question Option : No Option Orientation : Vertical

Correct Marks : 1 Wrong Marks : 0.25

In the following question, out of the given four alternatives, select the alternative which best expresses the meaning of the Idiom / Phrase.

To face the music

Options :

1. ✘ Truly; as it happens
2. ✔ To face some criticism
3. ✘ To strike when the situation is favourable
4. ✘ Incidentally/accordingly

Question Number : 73 Question Id : 9662316895 Question Type : MCQ Option Shuffling : Yes Display Question Number : Yes
Single Line Question Option : No Option Orientation : Vertical

Correct Marks : 1 Wrong Marks : 0.25

In the following question, out of the given four alternatives, select the alternative which best expresses the meaning of the Idiom / Phrase.

To face the music

Options :

- ✘ Truly; as it happens
- ✔ To face some criticism
- ✘ To strike when the situation is favourable
- ✘ Incidentally /accordingly

Question Number : 74 Question Id : 9662316896 Question Type : MCQ Option Shuffling : Yes Display Question Number : Yes
Single Line Question Option : No Option Orientation : Vertical

Correct Marks : 1 Wrong Marks : 0.25

Choose the word that can substitute the given sentence.

Change ordinary metal into gold

Options :

- ✔ Alchemy
- ✘ Namesake
- ✘ Copy
- ✘ Sanctuary

Question Number : 74 Question Id : 9662316896 Question Type : MCQ Option Shuffling : Yes Display Question Number : Yes
Single Line Question Option : No Option Orientation : Vertical

Correct Marks : 1 Wrong Marks : 0.25

Choose the word that can substitute the given sentence.

Change ordinary metal into gold

Options :

- ✔ Alchemy
- ✘ Namesake
- ✘ Copy
- ✘ Sanctuary

Question Number : 75 Question Id : 9662316897 Question Type : MCQ Option Shuffling : Yes Display Question Number : Yes
Single Line Question Option : No Option Orientation : Vertical

Correct Marks : 1 Wrong Marks : 0.25

Choose the word that can substitute the given sentence.

The act of misappropriation of money

Options :

- ✘ Lease
- ✘ Verbose
- ✘ Aquatic
- ✔ Embezzlement

Question Number : 75 Question Id : 9662316897 Question Type : MCQ Option Shuffling : Yes Display Question Number : Yes
Single Line Question Option : No Option Orientation : Vertical

Correct Marks : 1 Wrong Marks : 0.25

Choose the word that can substitute the given sentence.

The act of misappropriation of money

Options :

1. ✘ Lease
2. ✘ Verbose
3. ✘ Aquatic
4. ✔ Embezzlement

Sub-Section Number: 2
Sub-Section Id: 966231275
Question Shuffling Allowed : Yes

Question Id : 9662316898 Question Type : COMPREHENSION Sub Question Shuffling Allowed : Yes Group Comprehension Questions : No

Question Numbers : (76 to 80)

Question Label : Comprehension

Read the following information carefully and answer the given questions:

Denise Coates CBE is a British billionaire businesswoman, the founder, and joint chief executive of online gambling company Bet365. As of May 2018, Forbes magazine estimated her net worth at \$4.6 billion. Coates paid herself £265 million in compensation in 2018, in a record-breaking pay deal for the chief executive of a British company. The significant pay package, which equates to approximately £726,000 a day, dwarfs the previous UK record set by Coates when she collected £217m a year earlier. Coates was paid a base salary of £220,004,000 in the year to March 2018, accounts filed at Companies House reveal. Furthermore, she collected dividend payments of £45m from her more than 50% shareholding in the Stoke-based company. Coates' pay is more than 9,500 times the average UK salary, 1,700 times that collected by the prime minister and more than double that paid to the entire Stoke City football team, which Bet365 owns. Coates's pay is also 27 times that earned by Tim Cook, the chief executive of Apple, the world's most valuable company. Denise Coates is the eldest daughter of Peter Coates, chairman of Stoke City F.C. and the director of Bet365, and is married to Richard Smith, a director at Stoke City Football Club. She earned a first class degree in econometrics from the University of Sheffield.

While at school, Coates started work in the cashiers' department within the family bookmaking firm, Provincial Racing, where she would mark up bets. After leaving university she trained as an accountant within the family business, before being given the opportunity to take over the small chain of shops. Having turned around the shops' fortunes, Coates obtained a loan from Barclays to acquire a neighbouring chain. In 1995, she became the managing director of the betting shop estate.

Sub questions

Question Number : 76 Question Id : 9662316899 Question Type : MCQ Option Shuffling : Yes Display Question Number : Yes Single Line Question Option : No Option Orientation : Vertical

Correct Marks : 1 Wrong Marks : 0.25

In which year did Devise pay herself £265 million in compensation?

Options :

1. ✘ 2017
2. ✘ 2016
3. ✔ 2018
4. ✘ 2015

Question Number : 77 Question Id : 9662316900 Question Type : MCQ Option Shuffling : Yes Display Question Number : Yes Single Line Question Option : No Option Orientation : Vertical

Correct Marks : 1 Wrong Marks : 0.25

_____ magazine estimated her net worth at \$4.6 billion.

Options :

1. ✘ Fortune
2. ✘ Time
3. ✔ Forbes
4. ✘ No option is correct

Question Number : 78 Question Id : 9662316901 Question Type : MCQ Option Shuffling : Yes Display Question Number : Yes
Single Line Question Option : No Option Orientation : Vertical

Correct Marks : 1 Wrong Marks : 0.25

Coates' pay is more than _____ times the average UK salary.

Options :

1. ✘ Double
2. ✔ 9500
3. ✘ 1700
4. ✘ 27

Question Number : 79 Question Id : 9662316902 Question Type : MCQ Option Shuffling : Yes Display Question Number : Yes
Single Line Question Option : No Option Orientation : Vertical

Correct Marks : 1 Wrong Marks : 0.25

The director of Bet 365 is in what relation to Denise Coates?

Options :

1. ✔ Father
2. ✘ Husband
3. ✘ Brother
4. ✘ Friend

Question Number : 80 Question Id : 9662316903 Question Type : MCQ Option Shuffling : Yes Display Question Number : Yes
Single Line Question Option : No Option Orientation : Vertical

Correct Marks : 1 Wrong Marks : 0.25

Which word from the passage is opposite in meaning to trivial?

Options :

1. ✘ Dwarfs
2. ✔ Significant
3. ✘ Estimated
4. ✘ Degree

Question Id : 9662316898 Question Type : COMPREHENSION Sub Question Shuffling Allowed : Yes Group Comprehension
Questions : No

Question Numbers : (76 to 80)

Question Label : Comprehension

Read the following information carefully and answer the given questions:

Denise Coates CBE is a British billionaire businesswoman, the founder, and joint chief executive of online gambling company Bet365. As of May 2018, Forbes magazine estimated her net worth at \$4.6 billion. Coates paid herself £265 million in compensation in 2018, in a record-breaking pay deal for the chief executive of a British company. The significant pay package, which equates to approximately £726,000 a day, dwarfs the previous UK record set by Coates when she collected £217m a year earlier. Coates was paid a base salary of £220,004,000 in the year to March 2018, accounts filed at Companies House reveal. Furthermore, she collected dividend payments of £45m from her more than 50% shareholding in the Stoke-based company. Coates' pay is more than 9,500 times the average UK salary, 1,700 times that collected by the prime minister and more than double that paid to the entire Stoke City football team, which Bet365 owns. Coates's pay is also 27 times that earned by Tim Cook, the chief executive of Apple, the world's most valuable company. Denise Coates is the eldest daughter of Peter Coates, chairman of Stoke City F.C. and the director of Bet365, and is married to Richard Smith, a director at Stoke City Football Club. She earned a first class degree in econometrics from the University of Sheffield.

While at school, Coates started work in the cashiers' department within the family bookmaking firm, Provincial Racing, where she would mark up bets. After leaving university she trained as an accountant within the family business, before being given the opportunity to take over the small chain of shops. Having turned around the shops' fortunes, Coates obtained a loan from Barclays to acquire a neighbouring chain. In 1995, she became the managing director of the betting shop estate.

Sub questions

Question Number : 76 Question Id : 9662316899 Question Type : MCQ Option Shuffling : Yes Display Question Number : Yes Single Line Question Option : No Option Orientation : Vertical

Correct Marks : 1 Wrong Marks : 0.25

In which year did Devise pay herself £265 million in compensation?

Options :

1. ✘ 2017
2. ✘ 2016
3. ✔ 2018
4. ✘ 2015

Question Number : 77 Question Id : 9662316900 Question Type : MCQ Option Shuffling : Yes Display Question Number : Yes Single Line Question Option : No Option Orientation : Vertical

Correct Marks : 1 Wrong Marks : 0.25

_____ magazine estimated her net worth at \$4.6 billion.

Options :

1. ✘ Fortune
2. ✘ Time
3. ✔ Forbes
4. ✘ No option is correct

Question Number : 78 Question Id : 9662316901 Question Type : MCQ Option Shuffling : Yes Display Question Number : Yes Single Line Question Option : No Option Orientation : Vertical

Correct Marks : 1 Wrong Marks : 0.25

Coates' pay is more than _____ times the average UK salary.

Options :

1. ✘ Double
2. ✔ 9500
3. ✘ 1700
4. ✘ 27

Question Number : 79 Question Id : 9662316902 Question Type : MCQ Option Shuffling : Yes Display Question Number : Yes Single Line Question Option : No Option Orientation : Vertical

Correct Marks : 1 Wrong Marks : 0.25

The director of Bet 365 is in what relation to Denise Coates?

Options :

1. ✓ Father
2. ✗ Husband
3. ✗ Brother
4. ✗ Friend

Question Number : 80 Question Id : 9662316903 Question Type : MCQ Option Shuffling : Yes Display Question Number : Yes
Single Line Question Option : No Option Orientation : Vertical

Correct Marks : 1 Wrong Marks : 0.25

Which word from the passage is opposite in meaning to trivial?

Options :

1. ✗ Dwarfs
2. ✓ Significant
3. ✗ Estimated
4. ✗ Degree

General Hindi

Group Number :	5
Group Id :	966231138
Group Maximum Duration :	0
Group Minimum Duration :	0
Revisit allowed for view? :	No
Revisit allowed for edit? :	No
Break time:	0
Group Marks:	20
Revisit allowed for group Instructions? :	Yes
Maximum Instruction Time:	0
Minimum Instruction Time:	0

General Hindi

Section Id :	966231253
Section Number :	1
Section type :	Online
Mandatory or Optional:	Mandatory
Number of Questions:	16
Number of Questions to be attempted:	16
Section Marks:	20
Display Number Panel:	Yes
Group All Questions:	No

Sub-Section Number:	1
Sub-Section Id:	966231276
Question Shuffling Allowed :	Yes

Question Number : 81 Question Id : 9662316904 Question Type : MCQ Option Shuffling : Yes Display Question Number : Yes
Single Line Question Option : No Option Orientation : Vertical

Correct Marks : 1 Wrong Marks : 0.25

निम्नलिखित में से कौन सा शब्द देशज है?

Options :

1. ✘ कोर
2. ✘ स्कूटर
3. ✘ बस
4. ✔ खिड़की

Question Number : 81 Question Id : 9662316904 Question Type : MCQ Option Shuffling : Yes Display Question Number : Yes
Single Line Question Option : No Option Orientation : Vertical

Correct Marks : 1 Wrong Marks : 0.25

निम्नलिखित में से कौन सा शब्द देशज है?

Options :

1. ✘ कोर
2. ✘ स्कूटर
3. ✘ बस
4. ✔ खिड़की

Question Number : 82 Question Id : 9662316905 Question Type : MCQ Option Shuffling : Yes Display Question Number : Yes
Single Line Question Option : No Option Orientation : Vertical

Correct Marks : 1 Wrong Marks : 0.25

दिए गए वाक्य में रेखांकित भाग किस प्रकार का सर्वनाम है ज्ञात कीजिए।

यह मेरी पतंग है।

Options :

1. ✘ संबंधवाचक
2. ✘ प्रश्नवाचक
3. ✔ निश्चयवाचक
4. ✘ अनिश्चयवाचक

Question Number : 82 Question Id : 9662316905 Question Type : MCQ Option Shuffling : Yes Display Question Number : Yes
Single Line Question Option : No Option Orientation : Vertical

Correct Marks : 1 Wrong Marks : 0.25

दिए गए वाक्य में रेखांकित भाग किस प्रकार का सर्वनाम है ज्ञात कीजिए।

यह मेरी पतंग है।

Options :

1. ✘ संबंधवाचक
2. ✘ प्रश्नवाचक
3. ✔ निश्चयवाचक
4. ✘ अनिश्चयवाचक

Question Number : 83 Question Id : 9662316906 Question Type : MCQ Option Shuffling : Yes Display Question Number : Yes
Single Line Question Option : No Option Orientation : Vertical

Correct Marks : 1 Wrong Marks : 0.25

दिए गए शब्द का संधि विच्छेद कीजिए।

महोर्मि

Options :

1. ✘ महा: + ऊर्मिं
2. ✔ महा + ऊर्मिं
3. ✘ मह + ओर्मिं
4. ✘ मह + और्मिं

Question Number : 83 Question Id : 9662316906 Question Type : MCQ Option Shuffling : Yes Display Question Number : Yes
Single Line Question Option : No Option Orientation : Vertical

Correct Marks : 1 Wrong Marks : 0.25

दिए गए शब्द का संधि विच्छेद कीजिए

महोर्मिं

Options :

1. ✘ महा: + ऊर्मिं
2. ✔ महा + ऊर्मिं
3. ✘ मह + ओर्मिं
4. ✘ मह + और्मिं

Question Number : 84 Question Id : 9662316907 Question Type : MCQ Option Shuffling : Yes Display Question Number : Yes
Single Line Question Option : No Option Orientation : Vertical

Correct Marks : 1 Wrong Marks : 0.25

दिए गए शब्द के समास का चयन कीजिए

दानवीर

Options :

1. ✔ तत्पुरुष
2. ✘ कर्मधारय
3. ✘ अव्ययीभाव
4. ✘ द्विगु

Question Number : 84 Question Id : 9662316907 Question Type : MCQ Option Shuffling : Yes Display Question Number : Yes
Single Line Question Option : No Option Orientation : Vertical

Correct Marks : 1 Wrong Marks : 0.25

दिए गए शब्द के समास का चयन कीजिए

दानवीर

Options :

1. ✔ तत्पुरुष
2. ✘ कर्मधारय
3. ✘ अव्ययीभाव
4. ✘ द्विगु

Question Number : 85 Question Id : 9662316908 Question Type : MCQ Option Shuffling : Yes Display Question Number : Yes
Single Line Question Option : No Option Orientation : Vertical

Correct Marks : 1 Wrong Marks : 0.25

दिए गए शब्द का समानार्थी शब्द ज्ञात कीजिए

कामदेव

Options :

1. ✘ सुरपति
2. ✘ देवेश

3. ✘ वासव

4. ✔ मनोज

Question Number : 85 Question Id : 9662316908 Question Type : MCQ Option Shuffling : Yes Display Question Number : Yes
Single Line Question Option : No Option Orientation : Vertical

Correct Marks : 1 Wrong Marks : 0.25

दिए गए शब्द का समानार्थी शब्द ज्ञात कीजिए।

कामदेव

Options :

1. ✘ सुरपति

2. ✘ देवेश

3. ✘ वासव

4. ✔ मनोज

Question Number : 86 Question Id : 9662316909 Question Type : MCQ Option Shuffling : Yes Display Question Number : Yes
Single Line Question Option : No Option Orientation : Vertical

Correct Marks : 1 Wrong Marks : 0.25

दिए गए शब्द समूह के लिए उचित शब्द का चयन कीजिए।

जिसका जन्म अंडे से हो।

Options :

1. ✘ अंडाधारी

2. ✘ अंडमान

3. ✘ अंडज

4. ✔ अण्डज

Question Number : 86 Question Id : 9662316909 Question Type : MCQ Option Shuffling : Yes Display Question Number : Yes
Single Line Question Option : No Option Orientation : Vertical

Correct Marks : 1 Wrong Marks : 0.25

दिए गए शब्द समूह के लिए उचित शब्द का चयन कीजिए।

जिसका जन्म अंडे से हो।

Options :

1. ✘ अंडाधारी

2. ✘ अंडमान

3. ✘ अंडज

4. ✔ अण्डज

Question Number : 87 Question Id : 9662316910 Question Type : MCQ Option Shuffling : Yes Display Question Number : Yes
Single Line Question Option : No Option Orientation : Vertical

Correct Marks : 1 Wrong Marks : 0.25

निम्नलिखित में से कौन सा युग्म विपरीतार्थक है?

Options :

1. ✔ अज्ञ - पज्ञ

2. ✘ मयंक - मृगांक

3. ✘ पादप - विटप

4. ✘ ज्ञानी - विज्ञ

Question Number : 87 Question Id : 9662316910 Question Type : MCQ Option Shuffling : Yes Display Question Number : Yes
Single Line Question Option : No Option Orientation : Vertical

Correct Marks : 1 Wrong Marks : 0.25

निम्नलिखित में से कौन सा युग्म विपरीतार्थक है?

Options :

1. ✓ अज्ञ - पज्ञ
2. ✗ मयंक - मृगांक
3. ✗ पादप - विटप
4. ✗ ज्ञानी - विज्ञ

Question Number : 88 Question Id : 9662316911 Question Type : MCQ Option Shuffling : Yes Display Question Number : Yes
Single Line Question Option : No Option Orientation : Vertical

Correct Marks : 1 Wrong Marks : 0.25

दिए गए वाक्य के रिक्त स्थान की पूर्ति कीजिए।

संगीत द्वारा व्यक्ति का _____ प्रभावित होता है।

Options :

1. ✗ शरीर
2. ✓ आचरण
3. ✗ अधिकार
4. ✗ कर्तव्य

Question Number : 88 Question Id : 9662316911 Question Type : MCQ Option Shuffling : Yes Display Question Number : Yes
Single Line Question Option : No Option Orientation : Vertical

Correct Marks : 1 Wrong Marks : 0.25

दिए गए वाक्य के रिक्त स्थान की पूर्ति कीजिए।

संगीत द्वारा व्यक्ति का _____ प्रभावित होता है।

Options :

1. ✗ शरीर
2. ✓ आचरण
3. ✗ अधिकार
4. ✗ कर्तव्य

Question Number : 89 Question Id : 9662316912 Question Type : MCQ Option Shuffling : Yes Display Question Number : Yes
Single Line Question Option : No Option Orientation : Vertical

Correct Marks : 1 Wrong Marks : 0.25

दिए गए शब्दों के समूह में वाच्य का रूप ज्ञात कीजिए।

राम आम खाता है।

Options :

1. ✓ कर्तृवाच्य
2. ✗ कर्मवाच्य
3. ✗ उभयवाच्य
4. ✗ भाववाच्य

Question Number : 89 Question Id : 9662316912 Question Type : MCQ Option Shuffling : Yes Display Question Number : Yes
Single Line Question Option : No Option Orientation : Vertical

Correct Marks : 1 Wrong Marks : 0.25

दिए गए शब्दों के समूह में वाच्य का रूप ज्ञात कीजिए।

राम आम खाता है।

Options :

1. ✓ कर्तृवाच्य
2. ✗ कर्मवाच्य
3. ✗ उभयवाच्य
4. ✗ भाववाच्य

Question Number : 90 Question Id : 9662316913 Question Type : MCQ Option Shuffling : Yes Display Question Number : Yes
Single Line Question Option : No Option Orientation : Vertical

Correct Marks : 1 Wrong Marks : 0.25

निम्नलिखित में से अशुद्ध वाक्य का चयन कीजिए।

Options :

1. ✗ अध्यक्ष महोदय मुस्कुराने लगे।
2. ✗ ईश्वर आप का भला करो।
3. ✓ यह ग्रन्थ हिंदी लिपि में है।
4. ✗ ओह! तुम कल जाओगे।

Question Number : 90 Question Id : 9662316913 Question Type : MCQ Option Shuffling : Yes Display Question Number : Yes
Single Line Question Option : No Option Orientation : Vertical

Correct Marks : 1 Wrong Marks : 0.25

निम्नलिखित में से अशुद्ध वाक्य का चयन कीजिए।

Options :

1. ✗ अध्यक्ष महोदय मुस्कुराने लगे।
2. ✗ ईश्वर आप का भला करो।
3. ✓ यह ग्रन्थ हिंदी लिपि में है।
4. ✗ ओह! तुम कल जाओगे।

Question Number : 91 Question Id : 9662316914 Question Type : MCQ Option Shuffling : Yes Display Question Number : Yes
Single Line Question Option : No Option Orientation : Vertical

Correct Marks : 1 Wrong Marks : 0.25

'गृह प्रवेश' में कौन सा कारक है?

Options :

1. ✓ अधिकरण तत्पुरुष
2. ✗ सम्प्रदान तत्पुरुष
3. ✗ अपादान तत्पुरुष
4. ✗ सम्बन्ध तत्पुरुष

Question Number : 91 Question Id : 9662316914 Question Type : MCQ Option Shuffling : Yes Display Question Number : Yes
Single Line Question Option : No Option Orientation : Vertical

Correct Marks : 1 Wrong Marks : 0.25

'गृह प्रवेश' में कौन सा कारक है?

Options :

1. ✓ अधिकरण तत्पुरुष
2. ✗ सम्प्रदान तत्पुरुष
3. ✗ अपादान तत्पुरुष
4. ✗ सम्बन्ध तत्पुरुष

Question Number : 92 Question Id : 9662316915 Question Type : MCQ Option Shuffling : Yes Display Question Number : Yes
Single Line Question Option : No Option Orientation : Vertical

Correct Marks : 1 Wrong Marks : 0.25

दिए गए वाक्यों में से मिश्र वाक्य का चयन कीजिए।

Options :

- ✘ यह सब मेरी अनुपस्थिति में हुआ
- ✘ वह धनी है पर लोग ऐसा नहीं समझते
- ✘ वह दण्ड से बचना चाहता था इसलिए भाग गया
- ✔ आशा है कि वह दो चार दिन में आ जाए

Question Number : 92 Question Id : 9662316915 Question Type : MCQ Option Shuffling : Yes Display Question Number : Yes
Single Line Question Option : No Option Orientation : Vertical

Correct Marks : 1 Wrong Marks : 0.25

दिए गए वाक्यों में से मिश्र वाक्य का चयन कीजिए।

Options :

- ✘ यह सब मेरी अनुपस्थिति में हुआ
- ✘ वह धनी है पर लोग ऐसा नहीं समझते
- ✘ वह दण्ड से बचना चाहता था इसलिए भाग गया
- ✔ आशा है कि वह दो चार दिन में आ जाए

Question Number : 93 Question Id : 9662316916 Question Type : MCQ Option Shuffling : Yes Display Question Number : Yes
Single Line Question Option : No Option Orientation : Vertical

Correct Marks : 1 Wrong Marks : 0.25

निम्नलिखित प्रश्न में, दिए गए चार विकल्पों में से, उस विकल्प का चयन करें जो दिए गए मुहावरे के अर्थ को सर्वश्रेष्ठ रूप से व्यक्त करता है।

आ बैल मुझे मार

Options :

- ✘ किसी को मारना
- ✘ बैल से छेड़छाड़ करना
- ✔ जान-बूझकर झगड़ा मोल लेना
- ✘ बैल से कहना कि मुझे मार दो

Question Number : 93 Question Id : 9662316916 Question Type : MCQ Option Shuffling : Yes Display Question Number : Yes
Single Line Question Option : No Option Orientation : Vertical

Correct Marks : 1 Wrong Marks : 0.25

निम्नलिखित प्रश्न में, दिए गए चार विकल्पों में से, उस विकल्प का चयन करें जो दिए गए मुहावरे के अर्थ को सर्वश्रेष्ठ रूप से व्यक्त करता है।

आ बैल मुझे मार

Options :

- ✘ किसी को मारना
- ✘ बैल से छेड़छाड़ करना
- ✔ जान-बूझकर झगड़ा मोल लेना
- ✘ बैल से कहना कि मुझे मार दो

Question Number : 94 Question Id : 9662316917 Question Type : MCQ Option Shuffling : Yes Display Question Number : Yes
Single Line Question Option : No Option Orientation : Vertical

Correct Marks : 1 Wrong Marks : 0.25

दिए गए वाक्य के लिए सही विराम चिह्न ज्ञात कीजिए।

विनीत - रघु - भरत और यदु खेल रहे हैं।

Options :

1. ✓ विनीत, रघु, भरत और यदु खेल रहे हैं।
2. ✗ विनीत - रघु - भरत - यदु खेल रहे हैं।
3. ✗ विनीत, रघु - भरत और यदु खेल रहे हैं।
4. ✗ विनीत - रघु, भरत - यदु खेल रहे हैं।

Question Number : 94 Question Id : 9662316917 Question Type : MCQ Option Shuffling : Yes Display Question Number : Yes
Single Line Question Option : No Option Orientation : Vertical

Correct Marks : 1 Wrong Marks : 0.25

दिए गए वाक्य के लिए सही विराम चिह्न ज्ञात कीजिए।

विनीत - रघु - भरत और यदु खेल रहे हैं।

Options :

1. ✓ विनीत, रघु, भरत और यदु खेल रहे हैं।
2. ✗ विनीत - रघु - भरत - यदु खेल रहे हैं।
3. ✗ विनीत, रघु - भरत और यदु खेल रहे हैं।
4. ✗ विनीत - रघु, भरत - यदु खेल रहे हैं।

Question Number : 95 Question Id : 9662316918 Question Type : MCQ Option Shuffling : Yes Display Question Number : Yes
Single Line Question Option : No Option Orientation : Vertical

Correct Marks : 1 Wrong Marks : 0.25

निम्नलिखित प्रश्न में, दिए गए चार विकल्पों में से, उस विकल्प का चयन करें जो दिए गए मुहावरे के अर्थ को सर्वश्रेष्ठ रूप से व्यक्त करता है।

मुँह में राम बगल में लुरी

Options :

1. ✗ संदेह की बात होना।
2. ✗ धोखे से कत्ल कर देना।
3. ✗ नष्ट - भ्रष्ट कर देना।
4. ✓ ऊपर से मित्रता अंदर से कपट होना।

Question Number : 95 Question Id : 9662316918 Question Type : MCQ Option Shuffling : Yes Display Question Number : Yes
Single Line Question Option : No Option Orientation : Vertical

Correct Marks : 1 Wrong Marks : 0.25

निम्नलिखित प्रश्न में, दिए गए चार विकल्पों में से, उस विकल्प का चयन करें जो दिए गए मुहावरे के अर्थ को सर्वश्रेष्ठ रूप से व्यक्त करता है।

मुँह में राम बगल में लुरी

Options :

1. ✗ संदेह की बात होना।
2. ✗ धोखे से कत्ल कर देना।
3. ✗ नष्ट - भ्रष्ट कर देना।
4. ✓ ऊपर से मित्रता अंदर से कपट होना।

Sub-Section Number:

2

Sub-Section Id:

966231277

Question Shuffling Allowed :

Yes

Question Id : 9662316919 Question Type : COMPREHENSION Sub Question Shuffling Allowed : Yes Group Comprehension Questions : No

Question Numbers : (96 to 100)

Question Label : Comprehension

एक गद्यांश दिया गया है। गद्यांश के आधार पर पाँच प्रश्न दिए गए हैं। गद्यांश को ध्यानपूर्वक पढ़ें तथा प्रत्येक प्रश्न में चार विकल्पों में से सही विकल्प चुनें:

विज्ञापनों मुख्यतः दो प्रकार के होते हैं - सरकारी विज्ञापन तथा निजी कंपनियों के विज्ञापन। सरकारी विज्ञापन में सरकार द्वारा जारी की गई सूचनाएं व जनहित के संदेश होते हैं, जैसे - पोलियो नामक घातक बीमारी से अपने बच्चे को बचाने के लिए जनता के नाम पर 'पल्स पोलियो दिवस' की सूचना देना हुआ विज्ञापन, पुलिस विभाग द्वारा बम, चोरी, हत्याओं आदि से बचने के लिए दी गई जानकारी पर आधारित विज्ञापन आदि। निजी कंपनी द्वारा जारी किए गए विज्ञापन केवल उनके द्वारा बनाई गई वस्तु की बिक्री बढ़ाकर आर्थिक लाभ कमाने के लिए ही होते हैं। इनका उद्देश्य लुभावने, सुंदर, रंगीन विज्ञापनों द्वारा उपभोक्ताओं को अपनी ओर आकर्षित करना होता है। निजी कंपनियाँ बड़े-बड़े फिल्मी सितारों को विज्ञापन में लेती हैं, ताकि उन से आकर्षित होकर लोग उनके उत्पाद का अधिक उपयोग करें। विज्ञापन के अनेक लाभ हैं - जैसे घर पर बैठे-बैठे ही जानकारी प्राप्त हो जाती है, बाजार में यहाँ-वहाँ भटकना नहीं पड़ता आदि। चित्र द्वारा वस्तु के रूप रंग व आकार का अनुमान भी हो जाता है। कई बार उत्पादक बिक्री बढ़ाने के लिए छूट तथा उपहार आदि का भी सहारा लेते हैं, जिससे ग्राहकों को दोहरा लाभ होता है। इतना कुछ होने पर भी कई बार आकर्षक ढंग से प्रचारित किए गए घटिया उत्पाद को खरीदकर भोला-भाला उपभोक्ता फँस भी जाता है। ऐसा ना हो, इसके लिए आवश्यक है कि दिखावे पर ना जाकर, शब्द जाल में ना फँस कर अपने विवेक का इस्तेमाल करें और वही वस्तु खरीदें, जो उत्तम और अच्छी साख वाली हो।

Sub questions

Question Number : 96 Question Id : 9662316920 Question Type : MCQ Option Shuffling : Yes Display Question Number : Yes Single Line Question Option : No Option Orientation : Vertical

Correct Marks : 1 Wrong Marks : 0.25

विज्ञापन मुख्यतः कितने प्रकार के होते हैं?

Options :

- दो
- तीन
- चार
- पाँच

Question Number : 97 Question Id : 9662316921 Question Type : MCQ Option Shuffling : Yes Display Question Number : Yes Single Line Question Option : No Option Orientation : Vertical

Correct Marks : 1 Wrong Marks : 0.25

विज्ञापनों का क्या उद्देश्य होता है?

Options :

- उपभोक्ताओं को अपनी ओर आकर्षित करना
- उपभोक्ताओं का मनोरंजन करना
- उपभोक्ताओं का चित्र बनाना
- उपभोक्ताओं को धोखा देना

Question Number : 98 Question Id : 9662316922 Question Type : MCQ Option Shuffling : Yes Display Question Number : Yes Single Line Question Option : No Option Orientation : Vertical

Correct Marks : 1 Wrong Marks : 0.25

उपर्युक्त गद्यांश का शीर्षक क्या है?

Options :

- विज्ञापन एक अभिशाप
- विज्ञापन का विवेक
- उत्पादक बिक्री
- विज्ञापन की अनोखी दुनिया

Question Number : 99 Question Id : 9662316923 Question Type : MCQ Option Shuffling : Yes Display Question Number : Yes Single Line Question Option : No Option Orientation : Vertical

Correct Marks : 1 Wrong Marks : 0.25

उत्पादक बिक्री बढ़ाने के लिए क्या करते हैं?

Options :

1. ✘ सामान फ्री में बाँट देते हैं
2. ✘ नाचते हैं
3. ✔ छूट तथा उपहार देते हैं
4. ✘ दिखावा करते हैं

Question Number : 100 Question Id : 9662316924 Question Type : MCQ Option Shuffling : Yes Display Question Number : Yes
Single Line Question Option : No Option Orientation : Vertical

Correct Marks : 1 Wrong Marks : 0.25

हमें विवेक का इस्तेमाल करना चाहिए' का क्या तात्पर्य है?

Options :

1. ✘ विवेक नामक व्यक्ति से ही सामान लेना चाहिए
2. ✔ हमें बुद्धि का इस्तेमाल करना चाहिए
3. ✘ हमें शब्दों के जाल में फँस जाना चाहिए
4. ✘ घटिया उत्पाद सस्ते दामों पर खरीद लेना चाहिए

Question Id : 9662316919 Question Type : COMPREHENSION Sub Question Shuffling Allowed : Yes Group Comprehension
Questions : No

Question Numbers : (96 to 100)

Question Label : Comprehension

एक गद्यांश दिया गया है। गद्यांश के आधार पर पाँच प्रश्न दिए गए हैं। गद्यांश को ध्यानपूर्वक पढ़ें तथा प्रत्येक प्रश्न में चार विकल्पों में से सही विकल्प चुनें:

विज्ञापनों मुख्यतः दो प्रकार के होते हैं - सरकारी विज्ञापन तथा निजी कंपनियों के विज्ञापन। सरकारी विज्ञापन में सरकार द्वारा जारी की गई सूचनाएं व जनहित के संदेश होते हैं, जैसे - पोलियो नामक घातक बीमारी से अपने बच्चे को बचाने के लिए जनता के नाम पर 'पल्स पोलियो दिवस' की सूचना देना हुआ विज्ञापन, पुलिस विभाग द्वारा बम, चोरी, हत्यारों आदि से बचने के लिए दी गई जानकारी पर आधारित विज्ञापन आदि। निजी कंपनी द्वारा जारी किए गए विज्ञापन केवल उनके द्वारा बनाई गई वस्तु की बिक्री बढ़ाकर आर्थिक लाभ कमाने के लिए ही होते हैं। इनका उद्देश्य लुभावने, सुंदर, रंगीन विज्ञापनों द्वारा उपभोक्ताओं को अपनी ओर आकर्षित करना होता है। निजी कंपनियाँ बड़े-बड़े फिल्मी सितारों को विज्ञापन में लेती हैं, ताकि उन से आकर्षित होकर लोग उनके उत्पाद का अधिक उपयोग करें। विज्ञापन के अनेक लाभ हैं - जैसे घर पर बैठे-बैठे ही जानकारी प्राप्त हो जाती है, बाजार में यहाँ-वहाँ भटकना नहीं पड़ता आदि। चित्र द्वारा वस्तु के रूप रंग व आकार का अनुमान भी हो जाता है। कई बार उत्पादक बिक्री बढ़ाने के लिए छूट तथा उपहार आदि का भी सहारा लेते हैं, जिससे ग्राहकों को दोहरा लाभ होता है। इतना कुछ होने पर भी कई बार आकर्षक ढंग से प्रचारित किए गए घटिया उत्पाद को खरीदकर भोला-भाला उपभोक्ता फँस भी जाता है। ऐसा ना हो, इसके लिए आवश्यक है कि दिखावे पर ना जाकर, शब्द जाल में ना फँस कर अपने विवेक का इस्तेमाल करें और वही वस्तु खरीदें, जो उत्तम और अच्छी साख वाली हो।

Sub questions

Question Number : 96 Question Id : 9662316920 Question Type : MCQ Option Shuffling : Yes Display Question Number : Yes
Single Line Question Option : No Option Orientation : Vertical

Correct Marks : 1 Wrong Marks : 0.25

विज्ञापन मुख्यतः कितने प्रकार के होते हैं?

Options :

1. ✔ दो
2. ✘ तीन
3. ✘ चार
4. ✘ पाँच

Question Number : 97 Question Id : 9662316921 Question Type : MCQ Option Shuffling : Yes Display Question Number : Yes
Single Line Question Option : No Option Orientation : Vertical

Correct Marks : 1 Wrong Marks : 0.25

विज्ञापनों का क्या उद्देश्य होता है?

Options :

1. ✔ उपभोक्ताओं को अपनी ओर आकर्षित करना
2. ✘ उपभोक्ताओं का मनोरंजन करना

3. ✘ उपभोक्ताओं का चित्र बनाना
4. ✘ उपभोक्ताओं को धोखा देना

Question Number : 98 Question Id : 9662316922 Question Type : MCQ Option Shuffling : Yes Display Question Number : Yes
Single Line Question Option : No Option Orientation : Vertical

Correct Marks : 1 Wrong Marks : 0.25

उपर्युक्त गद्यांश का शीर्षक क्या है?

Options :

1. ✘ विज्ञापन एक अभिशाप
2. ✘ विज्ञापन का विवेक
3. ✘ उत्पादक बिक्री
4. ✔ विज्ञापन की अनोखी दुनिया

Question Number : 99 Question Id : 9662316923 Question Type : MCQ Option Shuffling : Yes Display Question Number : Yes
Single Line Question Option : No Option Orientation : Vertical

Correct Marks : 1 Wrong Marks : 0.25

उत्पादक बिक्री बढ़ाने के लिए क्या करते हैं?

Options :

1. ✘ सामान फ्री में बाँट देते हैं
2. ✘ नाचते हैं
3. ✔ छूट तथा उपहार देते हैं
4. ✘ दिखावा करते हैं

Question Number : 100 Question Id : 9662316924 Question Type : MCQ Option Shuffling : Yes Display Question Number : Yes
Single Line Question Option : No Option Orientation : Vertical

Correct Marks : 1 Wrong Marks : 0.25

हमें विवेक का इस्तेमाल करना चाहिए' का क्या तात्पर्य है?

Options :

1. ✘ विवेक नामक व्यक्ति से ही सामान लेना चाहिए
2. ✔ हमें बुद्धि का इस्तेमाल करना चाहिए
3. ✘ हमें शब्दों के जाल में फँस जाना चाहिए
4. ✘ घटिया उत्पाद सस्ते दामों पर खरीद लेना चाहिए

Discipline1

Group Number :	6
Group Id :	966231139
Group Maximum Duration :	0
Group Minimum Duration :	0
Revisit allowed for view? :	No
Revisit allowed for edit? :	No
Break time:	0
Group Marks:	20
Revisit allowed for group Instructions? :	Yes
Maximum Instruction Time:	0
Minimum Instruction Time:	0

Discipline 1

Section Id :	966231254
Section Number :	1
Section type :	Online
Mandatory or Optional:	Mandatory
Number of Questions:	20
Number of Questions to be attempted:	20
Section Marks:	20
Display Number Panel:	Yes
Group All Questions:	No

Sub-Section Number:	1
Sub-Section Id:	966231278
Question Shuffling Allowed :	Yes

Question Number : 101 Question Id : 9662316925 Question Type : MCQ Option Shuffling : Yes Display Question Number : Yes
Single Line Question Option : No Option Orientation : Vertical

Correct Marks : 1 Wrong Marks : 0.25

Which among the following is NOT a major salivary gland?

Options :

1. ✓ Glossopalatine gland
2. ✗ Parotid gland
3. ✗ Submandibular gland
4. ✗ Sublingual gland

Question Number : 101 Question Id : 9662316925 Question Type : MCQ Option Shuffling : Yes Display Question Number : Yes
Single Line Question Option : No Option Orientation : Vertical

Correct Marks : 1 Wrong Marks : 0.25

निम्नलिखित में से कौन सी एक प्रमुख लार ग्रंथि नहीं है?

Options :

1. ✓ जिह्वतालु (ग्लोसोपैलेटाइन) ग्रंथि
2. ✗ उपकर्ण (पैरोटिड) ग्रंथि
3. ✗ अवचिबुकीय (सबमैंडीबुलर) ग्रंथि
4. ✗ अधोजिहवा (सबलिंगुअल) ग्रंथि

Question Number : 102 Question Id : 9662316926 Question Type : MCQ Option Shuffling : Yes Display Question Number : Yes
Single Line Question Option : No Option Orientation : Vertical

Correct Marks : 1 Wrong Marks : 0.25

What is the predominant sequence of eruption of the primary teeth in the individual jaw?

Options :

1. ✘ A-D-C-B-E
2. ✘ A-C-E-D-B
3. ✔ A-B-D-C-E
4. ✘ A-E-C-D-E

Question Number : 102 Question Id : 9662316926 Question Type : MCQ Option Shuffling : Yes Display Question Number : Yes
Single Line Question Option : No Option Orientation : Vertical

Correct Marks : 1 Wrong Marks : 0.25

किसी व्यक्ति के जबड़े में प्राथमिक दांतों के प्रस्फुटन का प्रधान क्रम क्या है?

Options :

1. ✘ A-D-C-B-E
2. ✘ A-C-E-D-B
3. ✔ A-B-D-C-E
4. ✘ A-E-C-D-E

Question Number : 103 Question Id : 9662316927 Question Type : MCQ Option Shuffling : Yes Display Question Number : Yes
Single Line Question Option : No Option Orientation : Vertical

Correct Marks : 1 Wrong Marks : 0.25

Which of the following is NOT a muscle of facial expression?

Options :

1. ✘ Mentalis
2. ✔ Masseter
3. ✘ Orbicularis oris
4. ✘ Buccinator

Question Number : 103 Question Id : 9662316927 Question Type : MCQ Option Shuffling : Yes Display Question Number : Yes
Single Line Question Option : No Option Orientation : Vertical

Correct Marks : 1 Wrong Marks : 0.25

इनमें से कौन सी मुखाभिव्यक्ति (फेशियल एक्सप्रेसन) की मांसपेशी नहीं है?

Options :

1. ✘ अधर उन्नमनिका (मेंटालिस)
2. ✔ चर्वणी (मैसेटर)
3. ✘ वक्त्र मंडलिका (ऑर्बिक्युलैरिस ओरिस)
4. ✘ कपोलिका (बक्सिनेटर)

Question Number : 104 Question Id : 9662316928 Question Type : MCQ Option Shuffling : Yes Display Question Number : Yes
Single Line Question Option : No Option Orientation : Vertical

Correct Marks : 1 Wrong Marks : 0.25

Identify a branch of mandibular division of the trigeminal nerve from the following:

Options :

1. ✘ frontal nerve
2. ✘ zygomatic nerve
3. ✘ infraorbital nerve
4. ✔ inferior alveolar nerve

Question Number : 104 Question Id : 9662316928 Question Type : MCQ Option Shuffling : Yes Display Question Number : Yes
Single Line Question Option : No Option Orientation : Vertical

Correct Marks : 1 Wrong Marks : 0.25

निम्नलिखित में से त्रिपृष्ठी तंत्रिका (ट्राइजेमिनल नर्व) के चिबुकीय (मेंडीबुलर) प्रभाग की एक शाखा की पहचान करें:

Options :

1. ✘ ललाट (फ्रंटल) तंत्रिका
2. ✘ गण्डास्थि (ज़ाइगोमैटिक) तंत्रिका
3. ✘ अवनेत्रगुहा (इंफ्राऑर्बिटल) तंत्रिका
4. ✔ अवर वायुकोशीय (इंफ्रीरियर एल्बियोलर) तंत्रिका

Question Number : 105 Question Id : 9662316929 Question Type : MCQ Option Shuffling : Yes Display Question Number : Yes
Single Line Question Option : No Option Orientation : Vertical

Correct Marks : 1 Wrong Marks : 0.25

Which among the given options is NOT a ligament of the temporomandibular joint?

Options :

1. ✘ Temporomandibular
2. ✘ Stylomandibular
3. ✔ Stylohyoid
4. ✘ Sphenomandibular

Question Number : 105 Question Id : 9662316929 Question Type : MCQ Option Shuffling : Yes Display Question Number : Yes
Single Line Question Option : No Option Orientation : Vertical

Correct Marks : 1 Wrong Marks : 0.25

दिये गए विकल्पों में से क्या टेम्पोरोमैंडीबुलर संधि का अस्थिबंध (लिगामेंट) नहीं है?

Options :

1. ✘ कर्णपट-चिबुकीय (टेम्पोरोमैंडीबुलर)
2. ✘ शर-चिबुकीय (स्टाइलोमैंडीबुलर)
3. ✔ शर-कंठिका (स्टाइलोहायाँइड)
4. ✘ फ्रान-चिबुकीय (स्फेनोमैंडीबुलर)

Question Number : 106 Question Id : 9662316930 Question Type : MCQ Option Shuffling : Yes Display Question Number : Yes
Single Line Question Option : No Option Orientation : Vertical

Correct Marks : 1 Wrong Marks : 0.25

Which of the following is a branch of the external carotid artery?

Options :

1. ✔ Lingual artery
2. ✘ Suprascapular artery
3. ✘ Subclavian artery
4. ✘ Inferior thyroid artery

Question Number : 106 Question Id : 9662316930 Question Type : MCQ Option Shuffling : Yes Display Question Number : Yes
Single Line Question Option : No Option Orientation : Vertical

Correct Marks : 1 Wrong Marks : 0.25

निम्नलिखित में से कौन सी वाह्य ग्रीवा (कैरोटिड) धमनी की एक शाखा है?

Options :

1. ✓ जिहवा (लिंगुअल) धमनी
2. ✗ अध्यंसफलक (सुप्रास्कैपुलर) धमनी
3. ✗ अधोजत्रुक (सबक्लेवियन) धमनी
4. ✗ अवर थाइरॉइड धमनी

Question Number : 107 Question Id : 9662316931 Question Type : MCQ Option Shuffling : Yes Display Question Number : Yes
Single Line Question Option : No Option Orientation : Vertical

Correct Marks : 1 Wrong Marks : 0.25

Which among the following is NOT a process of the maxilla?

Options :

1. ✗ Frontal
2. ✗ Palatine
3. ✗ Zygomatic
4. ✓ Coronoid

Question Number : 107 Question Id : 9662316931 Question Type : MCQ Option Shuffling : Yes Display Question Number : Yes
Single Line Question Option : No Option Orientation : Vertical

Correct Marks : 1 Wrong Marks : 0.25

निम्नलिखित में से कौन सी ऊर्ध्व हनु (मैक्सिला) की एक प्रक्रिया नहीं है?

Options :

1. ✗ ललाट (फ्रंटल)
2. ✗ तालु (पैलेटाइन)
3. ✗ गण्डास्थि (ज़ाइगोमैटिक)
4. ✓ चंचुभ (कोरोनाइड)

Question Number : 108 Question Id : 9662316932 Question Type : MCQ Option Shuffling : Yes Display Question Number : Yes
Single Line Question Option : No Option Orientation : Vertical

Correct Marks : 1 Wrong Marks : 0.25

Stapedius muscle is supplied by the _____ nerve.

Options :

1. facial
2. mandibular
3. vestibulocochlear
4. trochlear

Question Number : 108 Question Id : 9662316932 Question Type : MCQ Option Shuffling : Yes Display Question Number : Yes
Single Line Question Option : No Option Orientation : Vertical

Correct Marks : 1 Wrong Marks : 0.25

रकाबिका (स्टेपीडियस) पेशी को _____ तंत्रिका द्वारा आपूर्ति की जाती है।

Options :

1. मुखीय (फेशियल)
2. चिबुकीय (मैंडीबुलर)
3. प्रघाणीय-कर्णावर्ती (वेस्टिबुलोकॉक्लियर)
4. चक्रक (ट्रॉक्लियर)

Question Number : 109 Question Id : 9662316933 Question Type : MCQ Option Shuffling : Yes Display Question Number : Yes
Single Line Question Option : No Option Orientation : Vertical

Correct Marks : 1 Wrong Marks : 0.25

In normal dentition, which of the following teeth have only one antagonist in the opposing jaw?

Options :

1. Mandibular canines
2. Maxillary central incisors
3. Mandibular central incisors
4. Maxillary canines

Question Number : 109 Question Id : 9662316933 Question Type : MCQ Option Shuffling : Yes Display Question Number : Yes
Single Line Question Option : No Option Orientation : Vertical

Correct Marks : 1 Wrong Marks : 0.25

दाँत निकलने की सामान्य प्रक्रिया में, निम्नलिखित में से किस दाँत में विपरीत जबड़े में केवल एक प्रतिपक्षी होता है?

Options :

1. ✘ चिबुकीय श्वदंत (मैंडीबुलर कैनाइन)
2. ✘ जंभिका केंद्रीय कृतक दाँत (मैक्सिलरी सेंट्रल इन्सिज़र्स)
3. ✔ चिबुकीय केंद्रीय कृतक दाँत (मैंडीबुलर सेंट्रल इन्सिज़र्स)
4. ✘ जंभिका श्वदंत (मैक्सिलरी कैनाइन)

Question Number : 110 Question Id : 9662316934 Question Type : MCQ Option Shuffling : Yes Display Question Number : Yes
Single Line Question Option : No Option Orientation : Vertical

Correct Marks : 1 Wrong Marks : 0.25

The chorda tympani nerve supplies taste sensation to the anterior two-thirds of the tongue. Which cranial nerve gives rise to the chorda tympani nerve?

Options :

1. ✘ Trigeminal
2. ✘ Abducens
3. ✔ Facial
4. ✘ Vestibulocochlear

Question Number : 110 Question Id : 9662316934 Question Type : MCQ Option Shuffling : Yes Display Question Number : Yes
Single Line Question Option : No Option Orientation : Vertical

Correct Marks : 1 Wrong Marks : 0.25

काँडा टिंपनी तंत्रिका जीभ के अग्रवर्ती दो-तिहाई भाग में स्वाद संवेदना पहुँचाती है। काँडा टिंपनी तंत्रिका की उत्पत्ति किस कपाल तंत्रिका से होती है?

Options :

1. ✘ त्रिपृष्ठी (ट्राइजेमिनल)
2. ✘ अपवर्तनी (ऐब्डूसेन्ज़)
3. ✔ मुखीय (फ़ेशियल)
4. ✘ प्रघाणीय-कर्णावर्ती (वेस्टिबुलोकॉक्लियर)

Question Number : 111 Question Id : 9662316935 Question Type : MCQ Option Shuffling : Yes Display Question Number : Yes
Single Line Question Option : No Option Orientation : Vertical

Correct Marks : 1 Wrong Marks : 0.25

What does the Latin abbreviation 'qid' stand for in prescription writing?

Options :

1. ✘ Once a day
2. ✘ Twice a day
3. ✘ Three times a day
4. ✔ Four times a day

Question Number : 111 Question Id : 9662316935 Question Type : MCQ Option Shuffling : Yes Display Question Number : Yes
Single Line Question Option : No Option Orientation : Vertical

Correct Marks : 1 Wrong Marks : 0.25

नुस्खा लिखते समय लैटिन के संक्षिप्त नाम 'qid' का अर्थ क्या होता है?

Options :

1. ✘ दिन में एक बार
2. ✘ दिन में दो बार
3. ✘ दिन में तीन बार
4. ✔ दिन में चार बार

Question Number : 112 Question Id : 9662316936 Question Type : MCQ Option Shuffling : Yes Display Question Number : Yes
Single Line Question Option : No Option Orientation : Vertical

Correct Marks : 1 Wrong Marks : 0.25

Which of the following is NOT a stage of tooth development?

Options :

1. ✘ Bud stage
2. ✔ Flower stage
3. ✘ Cap stage
4. ✘ Bell stage

Question Number : 112 Question Id : 9662316936 Question Type : MCQ Option Shuffling : Yes Display Question Number : Yes
Single Line Question Option : No Option Orientation : Vertical

Correct Marks : 1 Wrong Marks : 0.25

इनमें से क्या दंत विकास का चरण नहीं है?

Options :

1. ✘ कलिका अवस्था (बड स्टेज)
2. ✔ पुष्प अवस्था (फ़लावर स्टेज)
3. ✘ आवरण अवस्था (कैप स्टेज)
4. ✘ घंटिका-रूप अवस्था (बेल स्टेज)

Question Number : 113 Question Id : 9662316937 Question Type : MCQ Option Shuffling : Yes Display Question Number : Yes
Single Line Question Option : No Option Orientation : Vertical

Correct Marks : 1 Wrong Marks : 0.25

_____ is the hardest calcified tissue in the human body.

Options :

1. ✔ Enamel
2. ✘ Dentin
3. ✘ Cementum
4. ✘ Alveolar bone

Question Number : 113 Question Id : 9662316937 Question Type : MCQ Option Shuffling : Yes Display Question Number : Yes
Single Line Question Option : No Option Orientation : Vertical

Correct Marks : 1 Wrong Marks : 0.25

_____ मानव शरीर में कठोरतम कैल्शियमयुक्त ऊतक है।

Options :

1. ✔ दंतवल्क (एनामेल)
2. ✘ दंतधातु (डेंटिन)
3. ✘ दंतबज्र (सीमेंटम)
4. ✘ दंतउलूखलीय (एल्वियोलर) अस्थि

Question Number : 114 Question Id : 9662316938 Question Type : MCQ Option Shuffling : Yes Display Question Number : Yes
Single Line Question Option : No Option Orientation : Vertical

Correct Marks : 1 Wrong Marks : 0.25

Which among the following CANNOT be classified as simple epithelium?

Options :

1. ✓ Stratified squamous
2. ✗ Squamous
3. ✗ Cuboidal
4. ✗ Columnar

Question Number : 114 Question Id : 9662316938 Question Type : MCQ Option Shuffling : Yes Display Question Number : Yes
Single Line Question Option : No Option Orientation : Vertical

Correct Marks : 1 Wrong Marks : 0.25

निम्नलिखित में से किस को साधारण उपकला (एपिथीलियम) के रूप में वर्गीकृत नहीं किया जा सकता है?

Options :

1. ✓ स्तरीकृत शल्की (स्ट्रेटीफाइड स्क्वैमस)
2. ✗ शल्की (स्क्वैमस)
3. ✗ घनाभ (क्यूबॉइडल)
4. ✗ स्तंभाकार (कॉलमनर)

Question Number : 115 Question Id : 9662316939 Question Type : MCQ Option Shuffling : Yes Display Question Number : Yes
Single Line Question Option : No Option Orientation : Vertical

Correct Marks : 1 Wrong Marks : 0.25

Which of the following does NOT have a nucleus?

Options :

1. ✗ Leucocyte
2. ✓ Erythrocyte
3. ✗ Lymphocyte
4. ✗ Monocyte

Question Number : 115 Question Id : 9662316939 Question Type : MCQ Option Shuffling : Yes Display Question Number : Yes
Single Line Question Option : No Option Orientation : Vertical

Correct Marks : 1 Wrong Marks : 0.25

निम्नलिखित में से किसमें नाभिक (न्यूक्लियस) नहीं होता है?

Options :

1. ✘ श्वेत कोशिका (ल्यूकोसाइट) में
2. ✔ रक्त कोशिका (एरिथ्रोसाइट) में
3. ✘ लसीका कोशिका (लिम्फोसाइट) में
4. ✘ एकल केंद्रक श्वेत कोशिका (मोनोसाइट) में

Question Number : 116 Question Id : 9662316940 Question Type : MCQ Option Shuffling : Yes Display Question Number : Yes
Single Line Question Option : No Option Orientation : Vertical

Correct Marks : 1 Wrong Marks : 0.25

Which is NOT a parenteral route of drug administration?

Options :

1. ✔ Oral
2. ✘ Subcutaneous
3. ✘ Intramuscular
4. ✘ Intravenous

Question Number : 116 Question Id : 9662316940 Question Type : MCQ Option Shuffling : Yes Display Question Number : Yes
Single Line Question Option : No Option Orientation : Vertical

Correct Marks : 1 Wrong Marks : 0.25

इनमें से कौन सा दवा देने का एक आंत्रेतर (पैरेंटरल) मार्ग नहीं है?

Options :

1. ✔ मौखिक (ओरल)
2. ✘ अधस्त्वचीय (सबक्युटेनियस)
3. ✘ अंतर्पेशीय (इंट्रामस्क्युलर)
4. ✘ अंतःशिरा (इंट्रावीनस)

Question Number : 117 Question Id : 9662316941 Question Type : MCQ Option Shuffling : Yes Display Question Number : Yes
Single Line Question Option : No Option Orientation : Vertical

Correct Marks : 1 Wrong Marks : 0.25

During the development of face, the maxillary prominence arises from proximal part of which pharyngeal arch?

Options :

1. First pharyngeal arch
2. Second pharyngeal arch
3. Third pharyngeal arch
4. Fourth pharyngeal arch

Question Number : 117 Question Id : 9662316941 Question Type : MCQ Option Shuffling : Yes Display Question Number : Yes
Single Line Question Option : No Option Orientation : Vertical

Correct Marks : 1 Wrong Marks : 0.25

चेहरे के विकास के दौरान, जंभिका (मैक्सिलरी) उभार किस ग्रसनी चाप (फैरिंजियल आर्च) के समीपस्थ भाग से उत्पन्न होता है?

Options :

1. प्रथम ग्रसनी चाप
2. द्विती ग्रसनी चाप
3. तृतीय ग्रसनी चाप
4. चतुर्थ ग्रसनी चाप

Question Number : 118 Question Id : 9662316942 Question Type : MCQ Option Shuffling : Yes Display Question Number : Yes
Single Line Question Option : No Option Orientation : Vertical

Correct Marks : 1 Wrong Marks : 0.25

Which among the following salivary glands is a pure serous gland?

Options :

1. Glossopalatine gland
2. Lingual gland
3. Parotid gland
4. Sublingual gland

Question Number : 118 Question Id : 9662316942 Question Type : MCQ Option Shuffling : Yes Display Question Number : Yes
Single Line Question Option : No Option Orientation : Vertical

Correct Marks : 1 Wrong Marks : 0.25

निम्नलिखित तार ग्रंथियों में से कौन सी पूर्णतः तरल (सीरस) ग्रंथि है?

Options :

1. ✘ जिह्वतालु (ग्लोसोपैलेटाइन) ग्रंथि
2. ✘ जिह्वा (लिंगुअल) ग्रंथि
3. ✔ उपकर्ण (पैरोटिड) ग्रंथि
4. ✘ अधोजिह्वा (सबलिंगुअल) ग्रंथि

Question Number : 119 Question Id : 9662316943 Question Type : MCQ Option Shuffling : Yes Display Question Number : Yes
Single Line Question Option : No Option Orientation : Vertical

Correct Marks : 1 Wrong Marks : 0.25

From the given examples of orofacial pain, identify the one that can be classified as nociceptive pain.

Options :

1. ✘ Trigeminal neuralgia
2. ✘ Post-herpetic neuralgia
3. ✘ Fibromyalgia
4. ✔ Toothache (pulpitis)

Question Number : 119 Question Id : 9662316943 Question Type : MCQ Option Shuffling : Yes Display Question Number : Yes
Single Line Question Option : No Option Orientation : Vertical

Correct Marks : 1 Wrong Marks : 0.25

मुख-आनन (ओरोफेशियल) दर्द के दिये गए उदाहरणों से, उसकी पहचान करें जिसे दर्द के कारण(नॉसीसेप्टिव) के रूप में वर्गीकृत किया जा सकता है।

Options :

1. ✘ त्रिपृष्ठी तंत्रिकाशूल (ट्राइजेमिनल न्यूराल्जिया)
2. ✘ दर्द-पश्चात् तंत्रिकाशूल (पोस्ट-हर्पेटिक न्यूराल्जिया)
3. ✘ फाइब्रोमायल्जिया
4. ✔ दाँत दर्द (पल्पाइटिस)

Question Number : 120 Question Id : 9662316944 Question Type : MCQ Option Shuffling : Yes Display Question Number : Yes
Single Line Question Option : No Option Orientation : Vertical

Correct Marks : 1 Wrong Marks : 0.25

Which of these groups does NOT belong to the principal fibres of the periodontal ligament?

Options :

1. ✘ Oblique group
2. ✔ Circular group
3. ✘ Horizontal group
4. ✘ Apical group

Question Number : 120 Question Id : 9662316944 Question Type : MCQ Option Shuffling : Yes Display Question Number : Yes
Single Line Question Option : No Option Orientation : Vertical

Correct Marks : 1 Wrong Marks : 0.25

इनमें से कौन सा समूह परिदंतिका (पैरियोडॉन्टल) स्नायु (लिगामेंट) के प्रमुख तंतुओं से संबंधित नहीं है?

Options :

1. ✘ तिर्यक् (ऑब्लीक) समूह
2. ✔ वृत्तीय (सर्कुलर) समूह
3. ✘ क्षैतिज (हॉरिज़ॉन्टल) समूह
4. ✘ शीर्षस्थ (एपिकल) समूह

Discipline2

Group Number :	7
Group Id :	966231140
Group Maximum Duration :	0
Group Minimum Duration :	0
Revisit allowed for view? :	No
Revisit allowed for edit? :	No
Break time:	0
Group Marks:	20
Revisit allowed for group Instructions? :	Yes
Maximum Instruction Time:	0
Minimum Instruction Time:	0

Discipline2

Section Id :	966231255
Section Number :	1
Section type :	Online
Mandatory or Optional:	Mandatory
Number of Questions:	20
Number of Questions to be attempted:	20
Section Marks:	20
Display Number Panel:	Yes
Group All Questions:	No

Sub-Section Number:	1
Sub-Section Id:	966231279
Question Shuffling Allowed :	Yes

Question Number : 121 Question Id : 9662316945 Question Type : MCQ Option Shuffling : Yes Display Question Number : Yes
Single Line Question Option : No Option Orientation : Vertical

Correct Marks : 1 Wrong Marks : 0.25

During the development of jaws, which teeth arise directly from the distal extension of dental lamina?

Options :

- ✘ Permanent incisors
- ✘ Permanent canines
- ✘ Permanent premolars
- ✔ Permanent molars

Question Number : 121 Question Id : 9662316945 Question Type : MCQ Option Shuffling : Yes Display Question Number : Yes
Single Line Question Option : No Option Orientation : Vertical

Correct Marks : 1 Wrong Marks : 0.25

जबड़े के विकास के दौरान, कौन से दाँत सीधे दंत्य फलक (डेंटल लैमिना) के दूरस्थ विस्तार से निकलते हैं?

Options :

- ✘ स्थायी कृतक (इन्सिज़र)
- ✘ स्थायी श्वदंत (कैनाइन)
- ✘ स्थायी अग्रचर्वणक (प्रीमोलर्स)
- ✔ स्थायी दाढ़ (मोलर)

Question Number : 122 Question Id : 9662316946 Question Type : MCQ Option Shuffling : Yes Display Question Number : Yes
Single Line Question Option : No Option Orientation : Vertical

Correct Marks : 1 Wrong Marks : 0.25

Which of the following antibiotics are known to cause permanent discoloration of teeth during tooth development?

Options :

1. Tetracyclines
2. Penicillins
3. Cephalosporins
4. Fluoroquinolones

Question Number : 122 Question Id : 9662316946 Question Type : MCQ Option Shuffling : Yes Display Question Number : Yes
Single Line Question Option : No Option Orientation : Vertical

Correct Marks : 1 Wrong Marks : 0.25

निम्नलिखित में से किस प्रतिजैविक (एंटीबायोटिक्स) को दंत विकास के दौरान दाँतों के स्थायी मलिनीकरण (डिस्कलरेशन) का कारण माना जाता है?

Options :

1. टेट्रासाइक्लिन को
2. पेनिसिलिन को
3. सिफ़ैलोस्पोरिन को
4. फ़्लोरोक्विनोलोन को

Question Number : 123 Question Id : 9662316947 Question Type : MCQ Option Shuffling : Yes Display Question Number : Yes
Single Line Question Option : No Option Orientation : Vertical

Correct Marks : 1 Wrong Marks : 0.25

Which of the following is an antiviral drug?

Options :

1. Ketoconazole
2. Amoxicillin
3. Zidovudine
4. Nystatin

Question Number : 123 Question Id : 9662316947 Question Type : MCQ Option Shuffling : Yes Display Question Number : Yes
Single Line Question Option : No Option Orientation : Vertical

Correct Marks : 1 Wrong Marks : 0.25

इनमें से क्या एक विषाणुरोधी (एंटीवायरल) दवा है?

Options :

1. ✘ केटोकोनेज़ोल
2. ✘ एमोक्सिसिलिन
3. ✔ जिडोवुडीन
4. ✘ निस्टैटीन

Question Number : 124 Question Id : 9662316948 Question Type : MCQ Option Shuffling : Yes Display Question Number : Yes
Single Line Question Option : No Option Orientation : Vertical

Correct Marks : 1 Wrong Marks : 0.25

Which of the following is INCORRECT about chlorhexidine mouthwash?

Options :

1. ✘ It is a second-generation topical antimicrobial mouth rinse.
2. ✘ Yellow, brownish extrinsic staining of the teeth is a common adverse effect.
3. ✘ It is recommended to rinse twice a day for 30 seconds.
4. ✔ It does not exhibit substantivity.

Question Number : 124 Question Id : 9662316948 Question Type : MCQ Option Shuffling : Yes Display Question Number : Yes
Single Line Question Option : No Option Orientation : Vertical

Correct Marks : 1 Wrong Marks : 0.25

क्लोरहेक्सिडीन मुख-धावन (माउथवॉश) के बारे में इनमें से कौन सा विकल्प असत्य है?

Options :

1. ✘ यह द्वितीय पीढ़ी का सामयिक सूक्ष्मजीवरोधी (एंटीमाइक्रोबियल) मुख-कुल्ला है।
2. ✘ दांतों का पीला, भूरे रंग का बाह्य धुंधलापन एक सामान्य प्रतिकूल प्रभाव है।
3. ✘ दिन में दो बार 30 sec तक कुल्ला करने की संस्तुति की जाती है।
4. ✔ यह स्वतः रंजकता (सबस्टैंटिविटी) प्रदर्शित नहीं करता है।

Question Number : 125 Question Id : 9662316949 Question Type : MCQ Option Shuffling : Yes Display Question Number : Yes
Single Line Question Option : No Option Orientation : Vertical

Correct Marks : 1 Wrong Marks : 0.25

Which of the following is an opioid analgesic?

Options :

1. Tramadol
2. Aspirin
3. Acetaminophen
4. Ketorolac

Question Number : 125 Question Id : 9662316949 Question Type : MCQ Option Shuffling : Yes Display Question Number : Yes
Single Line Question Option : No Option Orientation : Vertical

Correct Marks : 1 Wrong Marks : 0.25

इनमें से क्या एक अफीमसम (ओपिऑइड) पीड़ाहारी (एनाल्जेसिक) है?

Options :

1. ट्रामाडोल
2. एस्पिरिन
3. एसिटामिनोफेन
4. केटोरोलैक

Question Number : 126 Question Id : 9662316950 Question Type : MCQ Option Shuffling : Yes Display Question Number : Yes
Single Line Question Option : No Option Orientation : Vertical

Correct Marks : 1 Wrong Marks : 0.25

Which among the following local anaesthetic agents is usually used for lengthy dental procedures?

Options :

1. Cocaine
2. Bupivacaine
3. Lidocaine
4. Mepivacaine

Question Number : 126 Question Id : 9662316950 Question Type : MCQ Option Shuffling : Yes Display Question Number : Yes
Single Line Question Option : No Option Orientation : Vertical

Correct Marks : 1 Wrong Marks : 0.25

इनमें से किस स्थानीय संवेदनाहारी (एनेस्थेटिक) अभिकर्ता का सामान्यतः दीर्घकालिक दंत-चिकित्सा प्रक्रियाओं में प्रयोग किया जाता है?

Options :

1. ✘ कोकेन का
2. ✔ बुपिवकेन
3. ✘ लिडोकेन
4. ✘ मेपीवकेन

Question Number : 127 Question Id : 9662316951 Question Type : MCQ Option Shuffling : Yes Display Question Number : Yes Single Line Question Option : No Option Orientation : Vertical

Correct Marks : 1 Wrong Marks : 0.25

Which of the following is a drug of choice for anaphylaxis?

Options :

1. ✘ Diazepam
2. ✘ Nitroglycerin
3. ✘ Glucagon
4. ✔ Epinephrine

Question Number : 127 Question Id : 9662316951 Question Type : MCQ Option Shuffling : Yes Display Question Number : Yes Single Line Question Option : No Option Orientation : Vertical

Correct Marks : 1 Wrong Marks : 0.25

एनाफिलेक्सिस के लिए इनमें से कौन सी दवा वैकल्पिक है?

Options :

1. ✘ डायजेपाम
2. ✘ नाइट्रोग्लिसरीन
3. ✘ ग्लूकागॉन
4. ✔ एपिनेफ्रीन

Question Number : 128 Question Id : 9662316952 Question Type : MCQ Option Shuffling : Yes Display Question Number : Yes Single Line Question Option : No Option Orientation : Vertical

Correct Marks : 1 Wrong Marks : 0.25

Antibiotic prophylaxis is NOT recommended for which of the following dental procedures?

Options :

1. ✘ Placement of orthodontic bands
2. ✘ Scaling and root planing
3. ✔ Taking oral impressions or radiographs
4. ✘ Dental extractions

Question Number : 128 Question Id : 9662316952 Question Type : MCQ Option Shuffling : Yes Display Question Number : Yes
Single Line Question Option : No Option Orientation : Vertical

Correct Marks : 1 Wrong Marks : 0.25

इनमें से किस दंत प्रक्रिया के लिए प्रतिजैविक (एंटीबायोटिक) प्रॉफ़िलैक्सिस अनुशंसित नहीं है?

Options :

1. ✘ दंत संशोधन पट्टिका (ऑर्थोडॉन्टिक बैंड) का संस्थापन
2. ✘ शल्कन (स्केलिंग) और दंत-मूल समतलीकरण (रूट प्लानिंग)
3. ✔ मौखिक छाप (ओरल इंप्रेशन) या क्ष-किरण चित्र (रेडियोग्राफ) लेना
4. ✘ दाँत निकालना

Question Number : 129 Question Id : 9662316953 Question Type : MCQ Option Shuffling : Yes Display Question Number : Yes
Single Line Question Option : No Option Orientation : Vertical

Correct Marks : 1 Wrong Marks : 0.25

Which of the following statements about aspirin is INCORRECT?

Options :

1. ✘ It is known to possess antiplatelet effects.
2. ✘ It has anti-inflammatory, analgesic and antipyretic effects.
3. ✔ It is a selective COX-2 inhibitor.
4. ✘ Its adverse effects include gastrointestinal bleeding and peptic ulcers.

Question Number : 129 Question Id : 9662316953 Question Type : MCQ Option Shuffling : Yes Display Question Number : Yes
Single Line Question Option : No Option Orientation : Vertical

Correct Marks : 1 Wrong Marks : 0.25

एस्पिरिन के बारे में इनमें से कौन सा कथन ग़लत है?

Options :

- ✘ यह बिंबाणुरोधी (एंटीप्लेटलेट) प्रभाव रखने के लिए जाना जाता है।
- ✘ इसमें दाहक-रोधी (एंटी-इन्फ्लेमेटरी), पीड़ाहारी (एनाल्जेसिक) और ज्वर निवारक (एंटीपायरेटिक) प्रभाव होता है।
- ✔ यह एक चयनात्मक COX-2 अवरोधक है।
- ✘ इसके प्रतिकूल प्रभावों में जठर-आंत्रिय (गैस्ट्रोइंटेस्टाइनल) रक्तस्राव और आमाशयी व्रण (पेप्टिक अल्सर) सम्मिलित हैं।

Question Number : 130 Question Id : 9662316954 Question Type : MCQ Option Shuffling : Yes Display Question Number : Yes
Single Line Question Option : No Option Orientation : Vertical

Correct Marks : 1 Wrong Marks : 0.25

Which of these drugs CANNOT be classified as the first line of drugs for the treatment of tuberculosis?

Options :

- ✔ Streptomycin
- ✘ Isoniazid
- ✘ Rifampin
- ✘ Ethambutol

Question Number : 130 Question Id : 9662316954 Question Type : MCQ Option Shuffling : Yes Display Question Number : Yes
Single Line Question Option : No Option Orientation : Vertical

Correct Marks : 1 Wrong Marks : 0.25

इनमें से किस दवा को तपेदिक (टी.बी.) के उपचार के लिए प्राथमिक दवा के रूप में वर्गीकृत नहीं किया जा सकता है?

Options :

- ✔ स्ट्रेप्टोमाइसिन
- ✘ आइसोनियाज़िड
- ✘ रिफैम्पिन
- ✘ एथेम्ब्युटॉल

Question Number : 131 Question Id : 9662316955 Question Type : MCQ Option Shuffling : Yes Display Question Number : Yes
Single Line Question Option : No Option Orientation : Vertical

Correct Marks : 1 Wrong Marks : 0.25

Which of the following terms refers to an increase in the size of cells?

Options :

1. ✘ Atrophy
2. ✔ Hypertrophy
3. ✘ Hyperplasia
4. ✘ Aplasia

Question Number : 131 Question Id : 9662316955 Question Type : MCQ Option Shuffling : Yes Display Question Number : Yes
Single Line Question Option : No Option Orientation : Vertical

Correct Marks : 1 Wrong Marks : 0.25

निम्नलिखित में से कौन सा शब्द कोशिकाओं के आकार में वृद्धि को संदर्भित करता है?

Options :

1. ✘ अपक्षय (ऐट्रॉफी)
2. ✔ अतिवृद्धि (हाइपरट्रॉफी)
3. ✘ अतिवर्धन (हाइपरप्लासिया)
4. ✘ अविकसन (एप्लासिया)

Question Number : 132 Question Id : 9662316956 Question Type : MCQ Option Shuffling : Yes Display Question Number : Yes
Single Line Question Option : No Option Orientation : Vertical

Correct Marks : 1 Wrong Marks : 0.25

When referring to the cardinal signs of inflammation, what does the term 'dolor' mean?

Options :

1. ✘ Redness
2. ✘ Swelling
3. ✘ Heat
4. ✔ Pain

Question Number : 132 Question Id : 9662316956 Question Type : MCQ Option Shuffling : Yes Display Question Number : Yes
Single Line Question Option : No Option Orientation : Vertical

Correct Marks : 1 Wrong Marks : 0.25

जब प्रदाह के प्रमुख संकेतों का उल्लेख किया जाता है, तो 'डोलर' (dolor) शब्द का क्या अर्थ है?

Options :

1. ✘ लाली
2. ✘ सूजन
3. ✘ ऊष्मा
4. ✔ दर्द

Question Number : 133 Question Id : 9662316957 Question Type : MCQ Option Shuffling : Yes Display Question Number : Yes
Single Line Question Option : No Option Orientation : Vertical

Correct Marks : 1 Wrong Marks : 0.25

Which of the following is a chemical agent used in sterilization and disinfection?

Options :

1. ✘ Dry Heat
2. ✔ Aldehydes
3. ✘ Filtration
4. ✘ Radiation

Question Number : 133 Question Id : 9662316957 Question Type : MCQ Option Shuffling : Yes Display Question Number : Yes
Single Line Question Option : No Option Orientation : Vertical

Correct Marks : 1 Wrong Marks : 0.25

इनमें से क्या एक रासायनिक अभिकर्ता है जिसका प्रयोग रोगाणुनाशन (स्टेरिलाइजेशन) और विसंक्रमण (डिसइन्फेक्शन) में किया जाता है?

Options :

1. ✘ शुष्क ऊष्मा
2. ✔ एल्डिहाइड्स
3. ✘ निस्पंदन (फिल्टरेशन)
4. ✘ विकिरण (रेडिएशन)

Question Number : 134 Question Id : 9662316958 Question Type : MCQ Option Shuffling : Yes Display Question Number : Yes
Single Line Question Option : No Option Orientation : Vertical

Correct Marks : 1 Wrong Marks : 0.25

Tuberculosis is an infectious disease caused by _____.

Options :

1. ✓ bacteria
2. ✗ virus
3. ✗ fungi
4. ✗ protozoa

Question Number : 134 Question Id : 9662316958 Question Type : MCQ Option Shuffling : Yes Display Question Number : Yes
Single Line Question Option : No Option Orientation : Vertical

Correct Marks : 1 Wrong Marks : 0.25

तपेदिक _____ के कारण होने वाला एक संक्रामक रोग है।

Options :

1. ✓ जीवाणु (बैक्टीरिया)
2. ✗ वायरस (विषाणु)
3. ✗ कवक (फंजाई)
4. ✗ प्रोटोज़ोआ (एक-कोशिकीय)

Question Number : 135 Question Id : 9662316959 Question Type : MCQ Option Shuffling : Yes Display Question Number : Yes
Single Line Question Option : No Option Orientation : Vertical

Correct Marks : 1 Wrong Marks : 0.25

Which of the following is NOT a type of necrosis?

Options :

1. ✗ Coagulative
2. ✗ Liquefactive
3. ✓ Hyperplastic
4. ✗ Caseous

Question Number : 135 Question Id : 9662316959 Question Type : MCQ Option Shuffling : Yes Display Question Number : Yes
Single Line Question Option : No Option Orientation : Vertical

Correct Marks : 1 Wrong Marks : 0.25

निम्नलिखित में से क्या एक प्रकार का परिगलन (नेक्रोसिस) नहीं है?

Options :

1. ✘ स्कंदक (कोएगुलेटिव)
2. ✘ द्रवीकरण (लिक्विफैक्टिव)
3. ✔ अतिवर्धक (हाइपरप्लास्टिक)
4. ✘ पनीरवत् (केसियस)

Question Number : 136 Question Id : 9662316960 Question Type : MCQ Option Shuffling : Yes Display Question Number : Yes
Single Line Question Option : No Option Orientation : Vertical

Correct Marks : 1 Wrong Marks : 0.25

Which of the following is a fat-soluble vitamin?

Options :

1. ✘ Thiamine
2. ✔ Retinol
3. ✘ Riboflavin
4. ✘ Ascorbic Acid

Question Number : 136 Question Id : 9662316960 Question Type : MCQ Option Shuffling : Yes Display Question Number : Yes
Single Line Question Option : No Option Orientation : Vertical

Correct Marks : 1 Wrong Marks : 0.25

निम्नलिखित में से क्या वसा में घुलनशील विटामिन है?

Options :

1. ✘ थायमिन
2. ✔ रेटिनॉल
3. ✘ राइबोफ्लेविन
4. ✘ एस्कोर्बिक अम्ल

Question Number : 137 Question Id : 9662316961 Question Type : MCQ Option Shuffling : Yes Display Question Number : Yes
Single Line Question Option : No Option Orientation : Vertical

Correct Marks : 1 Wrong Marks : 0.25

Which of these is NOT an example of viral vaccine?

Options :

1. ✘ Oral polio vaccine-Salk
2. ✘ Injectable polio vaccine-Sabin
3. ✘ Hepatitis B vaccine
4. ✔ BCG vaccine

Question Number : 137 Question Id : 9662316961 Question Type : MCQ Option Shuffling : Yes Display Question Number : Yes
Single Line Question Option : No Option Orientation : Vertical

Correct Marks : 1 Wrong Marks : 0.25

इनमें से क्या विषाणुजनित टीके (वायरल वैक्सीन) का उदाहरण नहीं है?

Options :

1. ✘ मौखिक पोलियो टीका साल्क
2. ✘ इंजेक्शन द्वारा दिए जाने योग्य पोलियो टीका (वैक्सीन)-साबिन
3. ✘ हेपेटाइटिस B टीका (वैक्सीन)
4. ✔ बी.सी.जी. (BCG) टीका (वैक्सीन)

Question Number : 138 Question Id : 9662316962 Question Type : MCQ Option Shuffling : Yes Display Question Number : Yes
Single Line Question Option : No Option Orientation : Vertical

Correct Marks : 1 Wrong Marks : 0.25

Which of the following are gram-negative cocci?

Options :

1. ✔ Neisseria
2. ✘ Staphylococcus
3. ✘ Streptococcus
4. ✘ Mycobacterium

Question Number : 138 Question Id : 9662316962 Question Type : MCQ Option Shuffling : Yes Display Question Number : Yes
Single Line Question Option : No Option Orientation : Vertical

Correct Marks : 1 Wrong Marks : 0.25

निम्नलिखित में से क्या ग्राम-ऋणात्मक गोलाणु (काँकसाई) है?

Options :

1. ✓ नीसेरिया
2. ✗ गुच्छाणु (स्टेफिलोकाँकस)
3. ✗ मालाणु (स्ट्रेप्टोकाँकस)
4. ✗ दंडाणु (माइकोबैक्टीरियम)

Question Number : 139 Question Id : 9662316963 Question Type : MCQ Option Shuffling : Yes Display Question Number : Yes
Single Line Question Option : No Option Orientation : Vertical

Correct Marks : 1 Wrong Marks : 0.25

Which of the following is NOT a sexually transmitted virus?

Options :

1. ✗ Herpes simplex virus
2. ✗ HIV
3. ✓ Hepatitis A virus
4. ✗ Hepatitis B virus

Question Number : 139 Question Id : 9662316963 Question Type : MCQ Option Shuffling : Yes Display Question Number : Yes
Single Line Question Option : No Option Orientation : Vertical

Correct Marks : 1 Wrong Marks : 0.25

इनमें से क्या यौन संचारित विषाणु नहीं है?

Options :

1. ✗ सरल परिसर्प विषाणु (हर्पीज़ सिम्प्लेक्स वायरस)
2. ✗ एच.आई.वी.(HIV)
3. ✓ हेपेटाइटिस A विषाणु
4. ✗ हेपेटाइटिस B विषाणु

Question Number : 140 Question Id : 9662316964 Question Type : MCQ Option Shuffling : Yes Display Question Number : Yes
Single Line Question Option : No Option Orientation : Vertical

Correct Marks : 1 Wrong Marks : 0.25

Which of the following is also known as Christmas Disease?

Options :

1. ✘ Hemophilia A
2. ✔ Hemophilia B
3. ✘ Hemophilia C
4. ✘ Hemophilia D

Question Number : 140 Question Id : 9662316964 Question Type : MCQ Option Shuffling : Yes Display Question Number : Yes
Single Line Question Option : No Option Orientation : Vertical

Correct Marks : 1 Wrong Marks : 0.25

इनमें से किसे क्रिसमस रोग के रूप में भी जाना जाता है?

Options :

1. ✘ अधिक रक्त-स्राव (हीमोफीलिया) A
2. ✔ अधिक रक्त-स्राव (हीमोफीलिया) B
3. ✘ अधिक रक्त-स्राव (हीमोफीलिया) C
4. ✘ अधिक रक्त-स्राव (हीमोफीलिया) D

Discipline3

Group Number :	8
Group Id :	966231141
Group Maximum Duration :	0
Group Minimum Duration :	0
Revisit allowed for view? :	No
Revisit allowed for edit? :	No
Break time:	0
Group Marks:	20
Revisit allowed for group Instructions? :	Yes
Maximum Instruction Time:	0
Minimum Instruction Time:	0

Discipline3

Section Id :

966231256

Section Number :	1
Section type :	Online
Mandatory or Optional:	Mandatory
Number of Questions:	20
Number of Questions to be attempted:	20
Section Marks:	20
Display Number Panel:	Yes
Group All Questions:	No

Sub-Section Number:	1
Sub-Section Id:	966231280
Question Shuffling Allowed :	Yes

Question Number : 141 Question Id : 9662316965 Question Type : MCQ Option Shuffling : Yes Display Question Number : Yes
Single Line Question Option : No Option Orientation : Vertical

Correct Marks : 1 Wrong Marks : 0.25

Hay Fever and Bronchial Asthma can be classified into which type hypersensitivity reaction?

Options :

1. ✓ Type I
2. ✗ Type II
3. ✗ Type III
4. ✗ Type IV

Question Number : 141 Question Id : 9662316965 Question Type : MCQ Option Shuffling : Yes Display Question Number : Yes
Single Line Question Option : No Option Orientation : Vertical

Correct Marks : 1 Wrong Marks : 0.25

परागज-ज्वर (हे फीवर) और दमा (ब्रॉन्कियल अस्थमा) को किस प्रकार की अतिसंवेदनशीलता प्रतिक्रिया में वर्गीकृत किया जा सकता है?

Options :

1. ✓ लक्षण चिह्न (टाइप) I
2. ✗ लक्षण चिह्न (टाइप) II
3. ✗ लक्षण चिह्न (टाइप) III
4. ✗ लक्षण चिह्न (टाइप) IV

Question Number : 142 Question Id : 9662316966 Question Type : MCQ Option Shuffling : Yes Display Question Number : Yes
Single Line Question Option : No Option Orientation : Vertical

Correct Marks : 1 Wrong Marks : 0.25

Which of the following imaging techniques uses non-ionizing radiation for image acquisition instead of x-rays?

Options :

1. ✘ CBCT
2. ✘ Computed tomography (CT)
3. ✘ Intra-oral periapical radiography
4. ✔ MRI

Question Number : 142 Question Id : 9662316966 Question Type : MCQ Option Shuffling : Yes Display Question Number : Yes
Single Line Question Option : No Option Orientation : Vertical

Correct Marks : 1 Wrong Marks : 0.25

निम्नलिखित में से कौन सी प्रतिबिंबन (इमेजिंग) तकनीक क्ष-किरण (एक्स-रे) के स्थान पर चित्र प्राप्त करने के लिए गैर-आयनीकरण विकिरण का प्रयोग करती है?

Options :

1. ✘ सी.बी.सी.टी.(CBCT)
2. ✘ परिकल्पित शिरालेखन (कंप्यूटेड टोमोग्राफी/CT)
3. ✘ अंतः-मुखगुहीय परिशीर्ष विकिरणी चित्रण (इंट्रा-ओरल पेरीएपिकल रेडियोग्राफी)
4. ✔ चुंबकीय अनुनाद प्रतिबिंबन (मैग्नेटिक रेज़ोनेंस इमेजिंग/MRI)

Question Number : 143 Question Id : 9662316967 Question Type : MCQ Option Shuffling : Yes Display Question Number : Yes
Single Line Question Option : No Option Orientation : Vertical

Correct Marks : 1 Wrong Marks : 0.25

In which of the following conditions does the tooth appear smaller than normal?

Options :

1. ✘ Macrodonia
2. ✘ Fusion
3. ✘ Gemination
4. ✔ Microdonia

Question Number : 143 Question Id : 9662316967 Question Type : MCQ Option Shuffling : Yes Display Question Number : Yes
Single Line Question Option : No Option Orientation : Vertical

Correct Marks : 1 Wrong Marks : 0.25

निम्नलिखित में से किस स्थिति में दाँत सामान्य से छोटा प्रतीत होता है?

Options :

1. ✘ वृहद् दंतता (मैक्रोडॉन्शिया)
2. ✘ संगलन (फ्र्यूजन)
3. ✘ द्विगुणन (जेमिनेशन)
4. ✔ छुद्र दंतता (माइक्रोडॉन्शिया)

Question Number : 144 Question Id : 9662316968 Question Type : MCQ Option Shuffling : Yes Display Question Number : Yes
Single Line Question Option : No Option Orientation : Vertical

Correct Marks : 1 Wrong Marks : 0.25

Which of the following is NOT an advantage of digital imaging over conventional film-based radiography?

Options :

1. ✘ There is a reduction in patient exposure.
2. ✘ It eliminates chemical processing and hazardous wastes.
3. ✘ It allows enhancements, corrections and measurements.
4. ✔ The initial expense of digital imaging set up is high.

Question Number : 144 Question Id : 9662316968 Question Type : MCQ Option Shuffling : Yes Display Question Number : Yes
Single Line Question Option : No Option Orientation : Vertical

Correct Marks : 1 Wrong Marks : 0.25

इनमें से कौन सा विकल्प पारंपरिक फिल्म-आधारित विकिरण चित्रण (रेडियोग्राफी) की तुलना में अंकीय प्रतिबिंबन (डिजिटल इमेजिंग) का लाभ नहीं है?

Options :

1. ✘ इससे रोगी के अनावरण में कमी होती है।
2. ✘ यह रासायनिक प्रसंस्करण और खतरनाक अपशिष्टों को निष्कासित करता है।
3. ✘ यह वृद्धि, सुधारों और मापों का अवसर देता है।
4. ✔ अंकीय प्रतिबिंबन व्यवस्था (डिजिटल इमेजिंग सेटअप) की आरंभिक लागत अधिक है।

Question Number : 145 Question Id : 9662316969 Question Type : MCQ Option Shuffling : Yes Display Question Number : Yes
Single Line Question Option : No Option Orientation : Vertical

Correct Marks : 1 Wrong Marks : 0.25

Which of the following statements is INCORRECT about collimation of x-rays?

Options :

1. ✘ Restricts the size of the x-ray beam
2. ✘ Reduces patient exposure
3. ✔ Reduces image quality
4. ✘ Improves image quality

Question Number : 145 Question Id : 9662316969 Question Type : MCQ Option Shuffling : Yes Display Question Number : Yes
Single Line Question Option : No Option Orientation : Vertical

Correct Marks : 1 Wrong Marks : 0.25

इनमें से कौन सा कथन क्ष-किरण (एक्स-रे) के समरेखण (कोलिमेशन) के बारे में ग़लत है?

Options :

1. ✘ क्ष-किरण (एक्स-रे) के प्रसारण के आकार को सीमित करता है।
2. ✘ रोगी के अनावरण को कम करता है।
3. ✔ छवि की गुणवत्ता को कम करता है।
4. ✘ छवि की गुणवत्ता में सुधार करता है।

Question Number : 146 Question Id : 9662316970 Question Type : MCQ Option Shuffling : Yes Display Question Number : Yes
Single Line Question Option : No Option Orientation : Vertical

Correct Marks : 1 Wrong Marks : 0.25

Which of the following structures normally appears radiopaque on an intra-oral periapical radiograph?

Options :

1. ✔ Lamina Dura
2. ✘ Dental Pulp
3. ✘ Mental Foramen
4. ✘ Periodontal ligament space

Question Number : 146 Question Id : 9662316970 Question Type : MCQ Option Shuffling : Yes Display Question Number : Yes
Single Line Question Option : No Option Orientation : Vertical

Correct Marks : 1 Wrong Marks : 0.25

निम्नलिखित में से कौन सी संरचना सामान्यतः एक अंतः मुखगुह्य परिशीर्ष विकिरणी चित्र (इंट्रा-ओरल पेरीएपिकल रेडियोग्राफ) पर विकिरण अपार्य (रेडियोपेक) प्रतीत होती है?

Options :

1. ✓ परिदंतमूलक फलक लैमिना इयूरा
2. ✗ दंत मज्जा (डेंटल पल्प)
3. ✗ चिबुक रंध्र (मेंटल फोरामेन)
4. ✗ परिदंती स्नायु स्थान (पेरियोडॉन्टल लिगामेंट स्पेस)

Question Number : 147 Question Id : 9662316971 Question Type : MCQ Option Shuffling : Yes Display Question Number : Yes
Single Line Question Option : No Option Orientation : Vertical

Correct Marks : 1 Wrong Marks : 0.25

Which of the following would NOT be helpful in reducing patient exposure while obtaining an x-ray?

Options :

1. ✗ Using faster speed films
2. ✗ Using intensifying screens
3. ✓ Decreasing focal spot to film distance
4. ✗ Using lead aprons and collars

Question Number : 147 Question Id : 9662316971 Question Type : MCQ Option Shuffling : Yes Display Question Number : Yes
Single Line Question Option : No Option Orientation : Vertical

Correct Marks : 1 Wrong Marks : 0.25

इनमें से क्या क्ष-किरण (एक्स-रे) प्राप्त करते समय रोगी के अनावरण को कम करने में सहायक नहीं होगा?

Options :

1. ✗ तीव्र गति की फ़िल्मों का प्रयोग करना
2. ✗ गहन चित्र-पटलों का प्रयोग करना
3. ✓ फ़िल्म की दूरी के लिए केंद्रीय बिंदु को घटाना

4. ✖ सीसा तहबंदों (एप्रन्स) और ग्रीवा पट्टों (कॉलर्स) का प्रयोग करना

Question Number : 148 Question Id : 9662316972 Question Type : MCQ Option Shuffling : Yes Display Question Number : Yes
Single Line Question Option : No Option Orientation : Vertical

Correct Marks : 1 Wrong Marks : 0.25

Considering the normal anatomy of the alveolar bone, the height of the alveolar crest lies approximately at what level with respect to the cemento-enamel junctions (CEJs) of the adjacent teeth?

Options :

1. ✖ 2 - 2.5mm below the level of CEJ
2. ✔ 1 - 1.5mm below the level of CEJ
3. ✖ 1 - 1.5mm above the level of CEJ
4. ✖ 2 - 2.5mm above the level of CEJ

Question Number : 148 Question Id : 9662316972 Question Type : MCQ Option Shuffling : Yes Display Question Number : Yes
Single Line Question Option : No Option Orientation : Vertical

Correct Marks : 1 Wrong Marks : 0.25

दंतउलूखलीय (एल्वीओलर) अस्थि की सामान्य आकारिकी को ध्यान में रखते हुए, दंतउलूखलीय शिखर की ऊँचाई आसन्न दांतों के दंतमूलीय दंतवल्क (सीमेंटोइनामेल) संधियों (सी.ई.जे./CEJs) के सापेक्ष लगभग किस स्तर पर होती है?

Options :

1. ✖ सी.ई.जे. के स्तर से 2 - 2.5मिमी नीचे
2. ✔ सी.ई.जे. के स्तर से 1 - 1.5मिमी नीचे
3. ✖ सी.ई.जे. के स्तर से 1 - 1.5मिमी ऊपर
4. ✖ सी.ई.जे. के स्तर से 2 - 2.5मिमी ऊपर

Question Number : 149 Question Id : 9662316973 Question Type : MCQ Option Shuffling : Yes Display Question Number : Yes
Single Line Question Option : No Option Orientation : Vertical

Correct Marks : 1 Wrong Marks : 0.25

Which was the first direct digital image receptor to be adapted for intra-oral digital imaging and introduced to dentistry in 1987?

Options :

1. ✖ Flat panel detectors
2. ✖ Complementary metal oxide semiconductors

3. ✓ Charge-coupled device

4. ✘ Photostimulable phosphor

Question Number : 149 Question Id : 9662316973 Question Type : MCQ Option Shuffling : Yes Display Question Number : Yes
Single Line Question Option : No Option Orientation : Vertical

Correct Marks : 1 Wrong Marks : 0.25

अंतः-मुखगुह्य अंकीय प्रतिबिंबन (इंद्रा-ओरल डिजिटल इमेजिंग) में अपनाए जाने के लिए और 1987 में प्रस्तुत किया गया वह पहला प्रत्यक्ष अंकीय प्रतिबिंबन कौन सा था?

Options :

1. ✘ सपाट पट्टिका संसूचक (फ्लैट पैनल डिटेक्टर्स)

2. ✘ अनुपूरक धातु ऑक्साइड अर्द्ध चालक (कॉम्प्लिमेंटरी मेटल ऑक्साइड सेमीकंडक्टर्स)

3. ✓ आवेश युग्मित उपकरण (चार्ज-कपल्ड डिवाइस)

4. ✘ प्रकाशोद्दीप्य (फोटोस्टिमुलेबल) फॉस्फर

Question Number : 150 Question Id : 9662316974 Question Type : MCQ Option Shuffling : Yes Display Question Number : Yes
Single Line Question Option : No Option Orientation : Vertical

Correct Marks : 1 Wrong Marks : 0.25

Identify the technique of choice for visualizing internal derangements of the TMJ from the following.

Options :

1. ✘ Conventional radiography

2. ✓ MRI

3. ✘ CT scan

4. ✘ CBCT

Question Number : 150 Question Id : 9662316974 Question Type : MCQ Option Shuffling : Yes Display Question Number : Yes
Single Line Question Option : No Option Orientation : Vertical

Correct Marks : 1 Wrong Marks : 0.25

निम्नलिखित में से कर्णपटी-अधोहनु संधि (टी.एम.जे./TMJ) की आंतरिक अव्यवस्था का अवलोकन करने के लिए वैकल्पिक तकनीक की पहचान करें।

Options :

1. ✘ परंपरागत विकिरणी चित्रण (कन्वेंशनल रेडियोग्राफी)

2. ✓ चुंबकीय अनुनाद प्रतिबिंबन (मैग्नेटिक रेज़ोनेंस इमेजिंग/MRI/)
3. ✘ परिकलित शिरालेखन अनुवीक्षण (कंप्यूटेड टोमोग्राफी/CT स्कैन)
4. ✘ शंकुवत् प्रकाश-प्रसारण परिकलित शिरालेखन (सी.बी.सी.टी./CBCT)

Question Number : 151 Question Id : 9662316975 Question Type : MCQ Option Shuffling : Yes Display Question Number : Yes
Single Line Question Option : No Option Orientation : Vertical

Correct Marks : 1 Wrong Marks : 0.25

In the early 20th century, who created the first dental hygiene school?

Options :

1. ✓ Alfred C. Fones
2. ✘ Irene Newman
3. ✘ Frank Lamons
4. ✘ Edward H. Angle

Question Number : 151 Question Id : 9662316975 Question Type : MCQ Option Shuffling : Yes Display Question Number : Yes
Single Line Question Option : No Option Orientation : Vertical

Correct Marks : 1 Wrong Marks : 0.25

20वीं शताब्दी के आरंभ में, पहला दंत स्वच्छता (डेंटल हाइजिन) विद्यालय किसने स्थापित किया था?

Options :

1. ✓ अल्फ्रेड सी. फॉस ने
2. ✘ आइरीन न्यूमैन ने
3. ✘ फ्रैंक लैमन्स ने
4. ✘ एडवर्ड एच. एंगल ने

Question Number : 152 Question Id : 9662316976 Question Type : MCQ Option Shuffling : Yes Display Question Number : Yes
Single Line Question Option : No Option Orientation : Vertical

Correct Marks : 1 Wrong Marks : 0.25

Which of the following tooth brushing methods is considered to be detrimental as it may cause tooth abrasion?

Options :

1. ✘ Charters method

2. ✘ Modified Stillman method

3. ✔ Horizontal method

4. ✘ Bass method

Question Number : 152 Question Id : 9662316976 Question Type : MCQ Option Shuffling : Yes Display Question Number : Yes
Single Line Question Option : No Option Orientation : Vertical

Correct Marks : 1 Wrong Marks : 0.25

दांतों पर ब्रश करने की निम्नलिखित में से किस विधि को हानिकारक माना जाता है क्योंकि इससे दाँत घिस सकते हैं?

Options :

1. ✘ चार्टर्स विधि

2. ✘ संशोधित स्टिलमैन विधि

3. ✔ क्षैतिज विधि

4. ✘ बास विधि

Question Number : 153 Question Id : 9662316977 Question Type : MCQ Option Shuffling : Yes Display Question Number : Yes
Single Line Question Option : No Option Orientation : Vertical

Correct Marks : 1 Wrong Marks : 0.25

Which of the following is NOT true regarding dental hygiene care for a patient undergoing orthodontic treatment?

Options :

1. ✘ A special bilevel orthodontic tooth brush can be applied directly over the orthodontic appliance.

2. ✘ Orthodontic appliances retain biofilm and debris.

3. ✘ Dental biofilm retention around orthodontic appliances leads to gingivitis.

4. ✔ Irregularly positioned teeth are less susceptible to the retention of dental biofilms.

Question Number : 153 Question Id : 9662316977 Question Type : MCQ Option Shuffling : Yes Display Question Number : Yes
Single Line Question Option : No Option Orientation : Vertical

Correct Marks : 1 Wrong Marks : 0.25

दंत संशोधन (ऑर्थोडॉन्टिक) उपचार प्राप्त कर रहे रोगी के लिए दंत स्वच्छता देखभाल के बारे में इनमें से कौन सा विकल्प सत्य नहीं है?

Options :

एक विशेष द्विस्तरीय (बाईलेवल) दंत संशोधन (ऑर्थोडॉन्टिक) दाँत के ब्रश को सीधे दंत संशोधन (ऑर्थोडॉन्टिक)

1. ✘ उपकरण के ऊपर लगाया जा सकता है।

2. ✘ दंत संशोधन (ऑर्थोडॉन्टिक) उपकरण सूक्ष्म जैविकीय संक्रमण (बायोफ़िल्म) और अवशेषों को बनाए रखते हैं।
3. ✘ दंत संशोधन (ऑर्थोडॉन्टिक) उपकरणों के आसपास दंत्य सूक्ष्म जैविकीय संक्रमण (डेंटल बायोफ़िल्म) का अवधारण होने से मसूदाशोथ (जिंजिवाइटिस) हो सकता है।
4. ✔ अनियमित ढंग से निकले दाँत दंत्य सूक्ष्म जैविकीय संक्रमण (डेंटल बायोफ़िल्म) के अवधारण के प्रति कम संवेदनशील होते हैं।

Question Number : 154 Question Id : 9662316978 Question Type : MCQ Option Shuffling : Yes Display Question Number : Yes
Single Line Question Option : No Option Orientation : Vertical
Correct Marks : 1 Wrong Marks : 0.25

What is the working end of a curet or a scalar called?

Options :

1. ✘ Blank
2. ✔ Blade
3. ✘ Shank
4. ✘ Handle

Question Number : 154 Question Id : 9662316978 Question Type : MCQ Option Shuffling : Yes Display Question Number : Yes
Single Line Question Option : No Option Orientation : Vertical
Correct Marks : 1 Wrong Marks : 0.25

क्यूरेट या स्केलर का कार्यकारी सिरा (वर्किंग एंड) क्या कहलाता है?

Options :

1. ✘ ब्लैंक
2. ✔ ब्लेड
3. ✘ शैंक
4. ✘ हैंडल

Question Number : 155 Question Id : 9662316979 Question Type : MCQ Option Shuffling : Yes Display Question Number : Yes
Single Line Question Option : No Option Orientation : Vertical
Correct Marks : 1 Wrong Marks : 0.25

Which of the following is INCORRECT about sonic scalars when compared to ultrasonic scalars?

Options :

1. ✘ Less powerful than ultrasonic scalars

2. ✓ More powerful than ultrasonic scalars
3. ✗ Calculus removal is more difficult with sonic scalars
4. ✗ Frequency of vibration is less than ultrasonic scalars

Question Number : 155 Question Id : 9662316979 Question Type : MCQ Option Shuffling : Yes Display Question Number : Yes
Single Line Question Option : No Option Orientation : Vertical

Correct Marks : 1 Wrong Marks : 0.25

अतिध्वनिक (अल्ट्रासोनिक) स्केलर्स से तुलना करने पर ध्वनिक (सोनिक) स्केलर्स के बारे में इनमें से कौन सा विकल्प ग़लत है?

Options :

1. ✗ अतिध्वनिक (अल्ट्रासोनिक) स्केलर्स की तुलना में कम शक्तिशाली है
2. ✓ अतिध्वनिक (अल्ट्रासोनिक) स्केलर्स की तुलना में अधिक शक्तिशाली है
3. ✗ ध्वनिक (सोनिक) स्केलर्स से अश्म (कैलकुलस) निकालना अधिक कठिन है
4. ✗ कंपन की आवृत्ति अतिध्वनिक (अल्ट्रासोनिक) स्केलर्स से कम होती है

Question Number : 156 Question Id : 9662316980 Question Type : MCQ Option Shuffling : Yes Display Question Number : Yes
Single Line Question Option : No Option Orientation : Vertical

Correct Marks : 1 Wrong Marks : 0.25

Plaque control and calculus removal constitute which phase of periodontal therapy?

Options :

1. ✓ Phase I
2. ✗ Phase II
3. ✗ Phase III
4. ✗ Phase IV

Question Number : 156 Question Id : 9662316980 Question Type : MCQ Option Shuffling : Yes Display Question Number : Yes
Single Line Question Option : No Option Orientation : Vertical

Correct Marks : 1 Wrong Marks : 0.25

परिदंतिका (पेरियोडॉन्टल) रोगोपचार (थेरापी) के किस चरण में दंत-मल (प्लाक) नियंत्रण और अश्म (कैलकुलस) हटाया जाता है?

Options :

1. ✓ चरण I में
2. ✗ चरण II में
3. ✗ चरण III में
4. ✗ चरण IV में

Question Number : 157 Question Id : 9662316981 Question Type : MCQ Option Shuffling : Yes Display Question Number : Yes
Single Line Question Option : No Option Orientation : Vertical

Correct Marks : 1 Wrong Marks : 0.25

Which among the following is NOT true regarding instrumentation during oral prophylaxis around a dental implant?

Options :

1. ✗ Traditional non-metal plastic instruments are safe for use.
2. ✗ Confine manual instrument strokes to the prosthesis and the supragingival area of the abutment.
3. ✗ Care is taken not to scratch or alter in any way the surfaces of titanium.
4. ✓ Use high power when instrumenting implant abutments with an ultrasonic device.

Question Number : 157 Question Id : 9662316981 Question Type : MCQ Option Shuffling : Yes Display Question Number : Yes
Single Line Question Option : No Option Orientation : Vertical

Correct Marks : 1 Wrong Marks : 0.25

दंत प्रत्यारोपण के समय मौखिक रोगनिरोध (ओरल प्रोफ़िलैक्सिस) के दौरान यंत्रिकरण (इंस्ट्रूमेंटेशन) के बारे में निम्नलिखित में से कौन सा विकल्प सही नहीं है?

Options :

1. ✗ प्रयोग के लिए परंपरागत गैर-धात्विक प्लास्टिक उपकरण सुरक्षित होते हैं।
2. ✗ सीमित हस्त-चालित (मैनुअल) उपकरण, कृत्रिम (प्रोस्थेसिस) और अंत्याधार (एबटमेंट) के मसूढ़ों के ऊपरी क्षेत्र (सुप्राजिंजिवल एरिया) पर आघात करता है।
3. ✗ किसी भी प्रकार की खरोंच या परिवर्तन से बचाव के लिए टाइटेनियम की सतहों के प्रति सावधानी रखी जाती है।
4. ✓ अतिध्वनिक (अल्ट्रासोनिक) उपकरण के साथ आरोपित अंत्याधार (ट एबटमेंट) पर उपकरण का प्रयोग करते समय उच्च शक्ति का प्रयोग करें।

Question Number : 158 Question Id : 9662316982 Question Type : MCQ Option Shuffling : Yes Display Question Number : Yes
Single Line Question Option : No Option Orientation : Vertical

Correct Marks : 1 Wrong Marks : 0.25

Which of the following periodontal probes has probe markings (in mm) at 3.5 - 5.5 - 8.5 - 11.5?

Options :

1. ✘ William's probe
2. ✘ Glickman probe
3. ✔ WHO probe
4. ✘ Merritt B probe

Question Number : 158 Question Id : 9662316982 Question Type : MCQ Option Shuffling : Yes Display Question Number : Yes
Single Line Question Option : No Option Orientation : Vertical

Correct Marks : 1 Wrong Marks : 0.25

इनमें से किस परिदंतिका (पेरियोडॉन्टल) की जाँचों (प्रोब्स) में 3.5 - 5.5 - 8.5 - 11.5 पर जाँच चिह्न (mm में) होते हैं?

Options :

1. ✘ विलियम की जाँच में
2. ✘ ग्लिकमैन की जाँच में
3. ✔ डब्ल्यू.एच.ओ.(WHO) की जाँच में
4. ✘ मेरिट बी. की जाँच में

Question Number : 159 Question Id : 9662316983 Question Type : MCQ Option Shuffling : Yes Display Question Number : Yes
Single Line Question Option : No Option Orientation : Vertical

Correct Marks : 1 Wrong Marks : 0.25

Use of sickle scalars subgingivally is contraindicated due to all of the following except:

Options :

1. ✔ curved blade with rounded ends permits access to the base of the sulcus or pocket
2. ✘ causes undue trauma to the gingival tissue because of the large size, thickness and length of the blade
3. ✘ tactile sensitivity decreases with larger, heavier blades
4. ✘ pointed tip and straight cutting edges cannot be adapted to the curved root surfaces

Question Number : 159 Question Id : 9662316983 Question Type : MCQ Option Shuffling : Yes Display Question Number : Yes
Single Line Question Option : No Option Orientation : Vertical

Correct Marks : 1 Wrong Marks : 0.25

निम्नलिखित में से किसके अतिरिक्त अन्य सभी के कारण रूप से हँसिया स्केलर्स सबजिंजिवली का प्रयोग निषिद्ध होता है?

Options :

1. ✓ गोल छोरों के साथ घुमावदार ब्लेड द्वारा खाँचे या कोटरिका के आधार तक पहुँचा जाता है
2. ✘ ब्लेड के बड़े आकार, मोटाई और लंबाई के कारण मसूढ़ों के ऊतकों को अनावश्यक आघात पहुँचता है
3. ✘ बड़े, भारी ब्लेड के साथ स्पर्श संवेदनशीलता घट जाती है
4. ✘ नुकीले सिरे और सीधी काट वाले किनारों को घुमावदार मूल सतहों के अनुकूल नहीं बनाया जा सकता है

Question Number : 160 Question Id : 9662316984 Question Type : MCQ Option Shuffling : Yes Display Question Number : Yes
Single Line Question Option : No Option Orientation : Vertical

Correct Marks : 1 Wrong Marks : 0.25

Which among the following is NOT a mass approach for health education?

Options :

1. ✘ Newspaper
2. ✘ Television
3. ✘ Radio
4. ✓ Personal contact

Question Number : 160 Question Id : 9662316984 Question Type : MCQ Option Shuffling : Yes Display Question Number : Yes
Single Line Question Option : No Option Orientation : Vertical

Correct Marks : 1 Wrong Marks : 0.25

निम्नलिखित में से क्या स्वास्थ्य शिक्षा का एक व्यापक दृष्टिकोण नहीं है?

Options :

1. ✘ समाचार-पत्र
2. ✘ टेलीविज़न
3. ✘ रेडियो
4. ✓ व्यक्तिगत सम्पर्क

Group Number : 9
Group Id : 966231142
Group Maximum Duration : 0
Group Minimum Duration : 0
Revisit allowed for view? : No
Revisit allowed for edit? : No
Break time: 0
Group Marks: 20
Revisit allowed for group Instructions? : Yes
Maximum Instruction Time: 0
Minimum Instruction Time: 0

Discipline4

Section Id : 966231257
Section Number : 1
Section type : Online
Mandatory or Optional: Mandatory
Number of Questions: 20
Number of Questions to be attempted: 20
Section Marks: 20
Display Number Panel: Yes
Group All Questions: No

Sub-Section Number: 1
Sub-Section Id: 966231281
Question Shuffling Allowed : Yes

Question Number : 161 Question Id : 9662316985 Question Type : MCQ Option Shuffling : Yes Display Question Number : Yes
Single Line Question Option : No Option Orientation : Vertical

Correct Marks : 1 Wrong Marks : 0.25

Which of the following is a positive oral health habit?

Options :

1. ✘ Tobacco chewing
2. ✘ Smoking cigarettes
3. ✔ Regular flossing
4. ✘ Anorexia nervosa

Question Number : 161 Question Id : 9662316985 Question Type : MCQ Option Shuffling : Yes Display Question Number : Yes
Single Line Question Option : No Option Orientation : Vertical

Correct Marks : 1 Wrong Marks : 0.25

निम्नलिखित में से क्या एक सकारात्मक मुख संबंधी स्वास्थ्य आदत है?

Options :

1. ✘ तंबाकू चबाना
2. ✘ सिगरेट पीना
3. ✔ नियमित रूप से दाँत साफ़ करना
4. ✘ क्षुधा-अभाव (एनोरेक्सिया नर्वोसा)

Question Number : 162 Question Id : 9662316986 Question Type : MCQ Option Shuffling : Yes Display Question Number : Yes
Single Line Question Option : No Option Orientation : Vertical

Correct Marks : 1 Wrong Marks : 0.25

'Expectant parents possessing no knowledge of early childhood caries' is an example of which step of the learning ladder model?

Options :

1. ✔ Unawareness
2. ✘ Awareness
3. ✘ Involvement
4. ✘ Action

Question Number : 162 Question Id : 9662316986 Question Type : MCQ Option Shuffling : Yes Display Question Number : Yes
Single Line Question Option : No Option Orientation : Vertical

Correct Marks : 1 Wrong Marks : 0.25

'संभावित माता-पिता को बाल्यावस्था की देखभाल के बारे में कोई जानकारी नहीं होती है' - यह अधिगम सोपान प्रतिमान लर्निंग लैडर मॉडल के किस चरण का उदाहरण है?

Options :

1. ✔ अनभिज्ञता
2. ✘ जागरूकता
3. ✘ भागीदारी
4. ✘ कार्य (एक्शन)

Question Number : 163 Question Id : 9662316987 Question Type : MCQ Option Shuffling : Yes Display Question Number : Yes
Single Line Question Option : No Option Orientation : Vertical

Correct Marks : 1 Wrong Marks : 0.25

Which of the following learning material is an example of high-tech media used by oral health educators?

Options :

1. ✘ Story boards
2. ✘ Display boards
3. ✔ Video recording
4. ✘ White boards

Question Number : 163 Question Id : 9662316987 Question Type : MCQ Option Shuffling : Yes Display Question Number : Yes
Single Line Question Option : No Option Orientation : Vertical

Correct Marks : 1 Wrong Marks : 0.25

इनमें से कौन सी अधिगम सामग्री मौखिक स्वास्थ्य शिक्षकों द्वारा प्रयोग किए जाने वाले उच्च तकनीक संचार माध्यम (मीडिया) का एक उदाहरण है?

Options :

1. ✘ संक्षिप्त रेखाचित्र-टिप्पणीयुक्त कथा पटल (स्टोरी बोर्ड)
2. ✘ प्रदर्शन पटल (डिस्प्ले बोर्ड)
3. ✔ दृश्य अभिलेखन (वीडियो रेकॉर्डिंग)
4. ✘ श्वेत पटल (व्हाइट बोर्ड)

Question Number : 164 Question Id : 9662316988 Question Type : MCQ Option Shuffling : Yes Display Question Number : Yes
Single Line Question Option : No Option Orientation : Vertical

Correct Marks : 1 Wrong Marks : 0.25

Which type of health need is based on what the patient feels that they require in relation to their own assessment?

Options :

1. ✘ Normative need
2. ✔ Perceived need
3. ✘ Expressed need
4. ✘ Comparative need

Question Number : 164 Question Id : 9662316988 Question Type : MCQ Option Shuffling : Yes Display Question Number : Yes
Single Line Question Option : No Option Orientation : Vertical

Correct Marks : 1 Wrong Marks : 0.25

निम्नलिखित में से किस प्रकार की स्वास्थ्य आवश्यकता इस पर आधारित है कि रोगियों को अपने स्वयं के मूल्यांकन के संबंध में क्या आवश्यक लगता है, इसकी अनुभूति होती है?

Options :

1. ✘ मानकीय आवश्यकता
2. ✔ कथित आवश्यकता
3. ✘ व्यक्त आवश्यकता
4. ✘ तुलनात्मक आवश्यकता

Question Number : 165 Question Id : 9662316989 Question Type : MCQ Option Shuffling : Yes Display Question Number : Yes
Single Line Question Option : No Option Orientation : Vertical

Correct Marks : 1 Wrong Marks : 0.25

Which of the following is NOT a stage of the 'Stages of Change' model given by Prochaska and DiClemente (1984) to explain health related behaviour in health education?

Options :

1. ✘ Precontemplation
2. ✘ Contemplation
3. ✔ Preoccupation
4. ✘ Maintenance

Question Number : 165 Question Id : 9662316989 Question Type : MCQ Option Shuffling : Yes Display Question Number : Yes
Single Line Question Option : No Option Orientation : Vertical

Correct Marks : 1 Wrong Marks : 0.25

स्वास्थ्य शिक्षा में स्वास्थ्य संबंधी व्यवहार के बारे में बताने के लिए इनमें से कौन सा विकल्प प्रोचस्का और डायक्लेमेंट (1984) द्वारा दिये गए 'स्टेजेज़ ऑफ़ चेंज' प्रतिमान का चरण नहीं है?

Options :

1. ✘ पूर्व-चिंतन (प्रीकंटेम्प्लेशन)
2. ✘ चिंतन (कंटेम्प्लेशन)
3. ✔ अन्यमनस्कता (प्रीऑक्युपेशन)
4. ✘ अनुरक्षण (मेंटेनेंस)

Question Number : 166 Question Id : 9662316990 Question Type : MCQ Option Shuffling : Yes Display Question Number : Yes
Single Line Question Option : No Option Orientation : Vertical

Correct Marks : 1 Wrong Marks : 0.25

What are questions with 'Yes or No' answers in a questionnaire known as?

Options :

1. ✘ Open-ended questions
2. ✔ Closed-ended questions
3. ✘ Irrelevant questions
4. ✘ Offensive questions

Question Number : 166 Question Id : 9662316990 Question Type : MCQ Option Shuffling : Yes Display Question Number : Yes
Single Line Question Option : No Option Orientation : Vertical

Correct Marks : 1 Wrong Marks : 0.25

एक प्रश्नावली में 'हाँ या नहीं' उत्तरों वाले प्रश्नों को क्या कहा जाता है?

Options :

1. ✘ ओपन-एंडेड प्रश्न
2. ✔ क्लोज-एंडेड प्रश्न
3. ✘ अप्रासंगिक प्रश्न
4. ✘ आपत्तिजनक प्रश्न

Question Number : 167 Question Id : 9662316991 Question Type : MCQ Option Shuffling : Yes Display Question Number : Yes
Single Line Question Option : No Option Orientation : Vertical

Correct Marks : 1 Wrong Marks : 0.25

When comparing health education to propaganda, which among the following is NOT true about health education?

Options :

1. ✘ It is a behaviour-centred process.
2. ✘ It aims at developing favourable attitudes, habits and skills.
3. ✔ Knowledge is spoon-fed and passively received.
4. ✘ It makes people think for themselves.

Question Number : 167 Question Id : 9662316991 Question Type : MCQ Option Shuffling : Yes Display Question Number : Yes
Single Line Question Option : No Option Orientation : Vertical

Correct Marks : 1 Wrong Marks : 0.25

स्वास्थ्य शिक्षा की तुलना प्रचार से करने पर, स्वास्थ्य शिक्षा के बारे में निम्नलिखित में से कौन सा विकल्प सही नहीं है?

Options :

1. ✘ यह एक व्यवहार-केंद्रित प्रक्रिया है।
2. ✘ इसका उद्देश्य अनुकूल व्यवहार, आदतें और कौशल विकसित करना है।
3. ✔ ज्ञान अस्वाभाविक रूप से प्रोत्साहित किया जाता है और निश्चेष्टता से प्राप्त किया जाता है।
4. ✘ यह लोगों को स्वचिंतन के लिए विवश करता है।

Question Number : 168 Question Id : 9662316992 Question Type : MCQ Option Shuffling : Yes Display Question Number : Yes
Single Line Question Option : No Option Orientation : Vertical

Correct Marks : 1 Wrong Marks : 0.25

Which of the following is at the top-most level in Maslow's Hierarchy of Needs?

Options :

1. ✘ Social needs
2. ✔ Self-actualization
3. ✘ Security and safety needs
4. ✘ Physiological needs

Question Number : 168 Question Id : 9662316992 Question Type : MCQ Option Shuffling : Yes Display Question Number : Yes
Single Line Question Option : No Option Orientation : Vertical

Correct Marks : 1 Wrong Marks : 0.25

इनमें से क्या मास्लो के आवश्यकताओं के पदानुक्रम में शीर्षतम स्तर पर है?

Options :

1. ✘ सामाजिक आवश्यकताएँ
2. ✔ आत्म-विश्लेषण
3. ✘ सुरक्षा और संरक्षा आवश्यकताएँ
4. ✘ शरीर-क्रियात्मक आवश्यकताएँ

Question Number : 169 Question Id : 9662316993 Question Type : MCQ Option Shuffling : Yes Display Question Number : Yes
Single Line Question Option : No Option Orientation : Vertical

Correct Marks : 1 Wrong Marks : 0.25

Which type of evaluations of a health program helps to point out problems and make improvements during the implementation process?

Options :

1. Formative evaluation
2. Summative evaluation
3. Outcome evaluation
4. Indirect evaluation

Question Number : 169 Question Id : 9662316993 Question Type : MCQ Option Shuffling : Yes Display Question Number : Yes
Single Line Question Option : No Option Orientation : Vertical

Correct Marks : 1 Wrong Marks : 0.25

एक स्वास्थ्य कार्यक्रम के किस प्रकार के मूल्यांकन समस्याओं को संकेतित करने और कार्यान्वयन प्रक्रिया के दौरान सुधार करने में सहायता करते हैं?

Options :

1. निर्माणात्मक (फॉर्मेटिव) मूल्यांकन
2. योगात्मक (समेटिव) मूल्यांकन
3. परिणामपरक मूल्यांकन
4. अप्रत्यक्ष मूल्यांकन

Question Number : 170 Question Id : 9662316994 Question Type : MCQ Option Shuffling : Yes Display Question Number : Yes
Single Line Question Option : No Option Orientation : Vertical

Correct Marks : 1 Wrong Marks : 0.25

Who developed the Social Cognitive Theory of health behaviours in the 1970's?

Options :

1. Sigmund Freud
2. Erik Erikson
3. Albert Bandura
4. Jean Piaget

Question Number : 170 Question Id : 9662316994 Question Type : MCQ Option Shuffling : Yes Display Question Number : Yes
Single Line Question Option : No Option Orientation : Vertical

Correct Marks : 1 Wrong Marks : 0.25

1970 में सामाजिक व्यवहार से संबंधित सामाजिक संज्ञानात्मक सिद्धांत का विकास किसने किया था?

Options :

1. ✘ सिग्मंड फ्रायड ने
2. ✘ एरिक एरिक्सन ने
3. ✔ अल्बर्ट बंडुरा ने
4. ✘ जीन पियाजे

Question Number : 171 Question Id : 9662316995 Question Type : MCQ Option Shuffling : Yes Display Question Number : Yes
Single Line Question Option : No Option Orientation : Vertical

Correct Marks : 1 Wrong Marks : 0.25

Which among the following is NOT a mechanism of action of fluorides for prevention of dental caries?

Options :

1. ✘ Inhibits demineralisation
2. ✔ Inhibits remineralisation
3. ✘ Enhances remineralisation
4. ✘ Inhibits bacterial growth

Question Number : 171 Question Id : 9662316995 Question Type : MCQ Option Shuffling : Yes Display Question Number : Yes
Single Line Question Option : No Option Orientation : Vertical

Correct Marks : 1 Wrong Marks : 0.25

इनमें से कौन सा विकल्प दंत क्षय की रोकथाम के लिए फ्लोराइड्स का कार्य तंत्र नहीं है?

Options :

1. ✘ विखनिजीकरण (डिमिनरलाइज़ेशन) को रोकता है
2. ✔ पुनर्खनिजीकरण (रीमिनरलाइज़ेशन) को रोकता है
3. ✘ पुनर्खनिजीकरण (रीमिनरलाइज़ेशन) को बढ़ाता है
4. ✘ जीवाणु वृद्धि को रोकता है

Question Number : 172 Question Id : 9662316996 Question Type : MCQ Option Shuffling : Yes Display Question Number : Yes
Single Line Question Option : No Option Orientation : Vertical

Correct Marks : 1 Wrong Marks : 0.25

Which of the following correctly describes the 'M' component of the DMFT index used to determine total caries experience of an individual?

Options :

1. ✘ Mineralized
2. ✘ Molar
3. ✔ Missing
4. ✘ Memory

Question Number : 172 Question Id : 9662316996 Question Type : MCQ Option Shuffling : Yes Display Question Number : Yes
Single Line Question Option : No Option Orientation : Vertical

Correct Marks : 1 Wrong Marks : 0.25

किसी व्यक्ति के कुल क्षय अनुभव को निर्धारित करने हेतु प्रयोग करने के लिए इनमें से क्या डी.एम.एफ.टी.(DMFT) सूचकांक के 'M' घटक का सही ढंग से वर्णन करता है

Options :

1. ✘ खनिजित (मिनरलाइज़्ड)
2. ✘ चर्वणक (मोलर)
3. ✔ लुप्त (मिसिंग)
4. ✘ स्मृति (मेमोरी)

Question Number : 173 Question Id : 9662316997 Question Type : MCQ Option Shuffling : Yes Display Question Number : Yes
Single Line Question Option : No Option Orientation : Vertical

Correct Marks : 1 Wrong Marks : 0.25

Which of the following is NOT a part of the epidemiological triangle?

Options :

1. ✘ Host
2. ✔ Goal
3. ✘ Agent
4. ✘ Environment

Question Number : 173 Question Id : 9662316997 Question Type : MCQ Option Shuffling : Yes Display Question Number : Yes
Single Line Question Option : No Option Orientation : Vertical

Correct Marks : 1 Wrong Marks : 0.25

इनमें से क्या महामारी विज्ञान त्रिकोण (एपिडेमियोलॉजिकल ट्राइएंगल) का भाग नहीं है?

Options :

1. ✘ पोषक (होस्ट)
2. ✔ लक्ष्य (गोल)
3. ✘ अभिकर्ता (एजेंट)
4. ✘ वातावरण (एन्वाएन्मेंट)

Question Number : 174 Question Id : 9662316998 Question Type : MCQ Option Shuffling : Yes Display Question Number : Yes
Single Line Question Option : No Option Orientation : Vertical

Correct Marks : 1 Wrong Marks : 0.25

The proportion of people in a population that have a disease at any given time is known as:

Options :

1. ✘ Incidence
2. ✘ Mortality
3. ✔ Prevalence
4. ✘ Sensitivity

Question Number : 174 Question Id : 9662316998 Question Type : MCQ Option Shuffling : Yes Display Question Number : Yes
Single Line Question Option : No Option Orientation : Vertical

Correct Marks : 1 Wrong Marks : 0.25

किसी प्रदत्त समयावधि में रोग से ग्रस्त जनसंख्या में लोगों के अनुपात को किस रूप में जाना जाता है?

Options :

1. ✘ घटना
2. ✘ मृत्यु-दर
3. ✔ प्रसार
4. ✘ संवेदनशीलता

Question Number : 175 Question Id : 9662316999 Question Type : MCQ Option Shuffling : Yes Display Question Number : Yes
Single Line Question Option : No Option Orientation : Vertical

Correct Marks : 1 Wrong Marks : 0.25

Which of the following is NOT a part of the 5A's protocol for the tobacco cessation program?

Options :

1. ✘ Ask
2. ✔ Apply
3. ✘ Advise
4. ✘ Assist

Question Number : 175 Question Id : 9662316999 Question Type : MCQ Option Shuffling : Yes Display Question Number : Yes
Single Line Question Option : No Option Orientation : Vertical

Correct Marks : 1 Wrong Marks : 0.25

निम्नलिखित में से क्या तंबाकू निषेध कार्यक्रम के 5A के संलेख (प्रोटोकॉल) का भाग नहीं है?

Options :

1. ✘ पूछना
2. ✔ लागू करें
3. ✘ सलाह देना
4. ✘ सहायता करना

Question Number : 176 Question Id : 9662317000 Question Type : MCQ Option Shuffling : Yes Display Question Number : Yes
Single Line Question Option : No Option Orientation : Vertical

Correct Marks : 1 Wrong Marks : 0.25

According to Dean's Fluorosis Index, white opacity of the enamel covering more than 25% but less than 50% of the tooth surface belongs to which category?

Options :

1. ✘ Normal enamel
2. ✘ Questionable fluorosis
3. ✔ Mild fluorosis
4. ✘ Moderate fluorosis

Question Number : 176 Question Id : 9662317000 Question Type : MCQ Option Shuffling : Yes Display Question Number : Yes
Single Line Question Option : No Option Orientation : Vertical

Correct Marks : 1 Wrong Marks : 0.25

डीन के फ्लोरोसिस सूचकांक के अनुसार, दंत-वल्क (एनामेल) की श्वेत अपारदर्शिता द्वारा दंत-सतह का 25% से अधिक किंतु 50% से कम आच्छादित भाग किस श्रेणी में आता है?

Options :

1. ✘ सामान्य दंत-वल्क
2. ✘ संदिग्ध फ्लोरोसिस
3. ✔ हल्का फ्लोरोसिस
4. ✘ मध्यम फ्लोरोसिस

Question Number : 177 Question Id : 9662317001 Question Type : MCQ Option Shuffling : Yes Display Question Number : Yes
Single Line Question Option : No Option Orientation : Vertical

Correct Marks : 1 Wrong Marks : 0.25

The objectives of a dental health program should be based on 'SMART' criteria. What does SMART stand for?

Options :

1. ✘ Sustainable, Measurable, Authentic, Realistic, Time bound
2. ✘ Specific, Measurable, Appealing, Realistic, Time bound
3. ✘ Sustainable, Memorable, Appropriate, Realistic, Time bound
4. ✔ Specific, Measurable, Appropriate, Realistic, Time bound

Question Number : 177 Question Id : 9662317001 Question Type : MCQ Option Shuffling : Yes Display Question Number : Yes
Single Line Question Option : No Option Orientation : Vertical

Correct Marks : 1 Wrong Marks : 0.25

दंत स्वास्थ्य कार्यक्रम का उद्देश्य 'SMART' मानदंडों पर आधारित होना चाहिए। यहाँ SMART से क्या आशय है?

Options :

1. ✘ सस्टेनेबल(धारणीय), मेज़रेबल (मापने योग्य), ऑथेंटिक(प्रामाणिक), रिअलिस्टिक(वास्तविक), टाइम बाउंड(समय-बद्ध)
2. ✘ स्पेसिफिक (विशिष्ट), मेज़रेबल(मापने योग्य), अपीलिंग(आकर्षक), रिअलिस्टिक(वास्तविक), टाइम बाउंड(समय-बद्ध)
3. ✘ सस्टेनेबल(धारणीय), मेमोरेबल(स्मरणीय), एप्रोप्रिएट(यथोचित), रिअलिस्टिक(वास्तविक), टाइम बाउंड(समय-बद्ध)
4. ✔ स्पेसिफिक (विशिष्ट), मेज़रेबल(मापने योग्य), एप्रोप्रिएट(यथोचित), रिअलिस्टिक(वास्तविक), टाइम बाउंड(समय-बद्ध)

Question Number : 178 Question Id : 9662317002 Question Type : MCQ Option Shuffling : Yes Display Question Number : Yes
Single Line Question Option : No Option Orientation : Vertical

Correct Marks : 1 Wrong Marks : 0.25

Which among the following can be allocated a score of '1' in the simplified calculus index (CI-S) component of Simplified Oral Hygiene Index (OHI-S)?

Options :

1. ✘ No calculus is present.
2. ✔ Supragingival calculus covering is not more than one-third of the exposed tooth surface being examined.
3. ✘ Supragingival calculus covering is more than one-third but not more than two-thirds of the exposed tooth surface.
4. ✘ Supragingival calculus covering is more than two-thirds of the exposed tooth surface.

Question Number : 178 Question Id : 9662317002 Question Type : MCQ Option Shuffling : Yes Display Question Number : Yes Single Line Question Option : No Option Orientation : Vertical

Correct Marks : 1 Wrong Marks : 0.25

इनमें से किसे सरलीकृत मौखिक स्वच्छता सूचकांक (ओरल हाइजिन इंडेक्स) (OHI-S) के सरलीकृत अंश सूचकांक (कैलकुलस इंडेक्स) (CI-S) घटक में '1' का अंक (स्कोर) आवंटित किया जा सकता है?

Options :

1. ✘ कोई अंश (कैलकुलस) विद्यमान नहीं है।
2. ✔ ऊपरी मसूढ़े का अंश आवरण (सुप्राजिंजिवल कैलकुलस कवरिंग) जो अनावृत दांत की सतह के एक तिहाई भाग से अधिक नहीं है, जाँचा गया।
3. ✘ ऊपरी मसूढ़े का अंश आवरण (सुप्राजिंजिवल कैलकुलस कवरिंग), अनावृत दांत की सतह के एक तिहाई भाग से अधिक है किंतु दो-तिहाई से अधिक नहीं है।
4. ✘ ऊपरी मसूढ़े का अंश आवरण (सुप्राजिंजिवल कैलकुलस कवरिंग), अनावृत दांत की सतह के दो-तिहाई भाग से अधिक है।

Question Number : 179 Question Id : 9662317003 Question Type : MCQ Option Shuffling : Yes Display Question Number : Yes Single Line Question Option : No Option Orientation : Vertical

Correct Marks : 1 Wrong Marks : 0.25

Identify the statement which correctly describes 'predictive value' of a screening test.

Options :

1. ✔ It is a measure of the usefulness of a test in classifying people with disease.
2. ✘ It is the proportion of those who truly have the disease that are correctly classified as having it.
3. ✘ It is the proportion of those who truly do not have the disease that are correctly classified as not having it.
4. ✘ It is the proportion of those who truly do not have the disease but are classified as having it.

Question Number : 179 Question Id : 9662317003 Question Type : MCQ Option Shuffling : Yes Display Question Number : Yes
Single Line Question Option : No Option Orientation : Vertical

Correct Marks : 1 Wrong Marks : 0.25

उस कथन की पहचान करें जो अनुवीक्षण परीक्षण (स्क्रीनिंग टेस्ट) के 'अनुमानित मान' को सही ढंग से वर्णित करता है।

Options :

1. ✓ यह रोगग्रस्त लोगों को वर्गीकृत करने में परीक्षण की उपयोगिता का माप है।
2. ✗ यह उन लोगों का अनुपात है जिन्हें वास्तव में रोग है, और जो सही ढंग से वर्गीकृत किये गए हैं कि उन्हें रोग है।
3. ✗ यह उन लोगों का अनुपात है जिन्हें वास्तव में कोई रोग नहीं है, और जो सही ढंग से वर्गीकृत किये गए हैं कि उन्हें रोग नहीं है।
4. ✗ यह उन लोगों का अनुपात है जिन्हें वास्तव में कोई रोग नहीं है, किंतु जो इस ढंग से वर्गीकृत किये गए हैं कि उन्हें रोग है।

Question Number : 180 Question Id : 9662317004 Question Type : MCQ Option Shuffling : Yes Display Question Number : Yes
Single Line Question Option : No Option Orientation : Vertical

Correct Marks : 1 Wrong Marks : 0.25

Which among the following is NOT a characteristic of a confounding factor when studying disease causation?

Options :

1. ✗ It must be associated with exposure.
2. ✓ It must not be associated with disease.
3. ✗ It must be associated with disease, even among the unexposed.
4. ✗ It must not be an intermediate on the causal pathway between exposure and disease.

Question Number : 180 Question Id : 9662317004 Question Type : MCQ Option Shuffling : Yes Display Question Number : Yes
Single Line Question Option : No Option Orientation : Vertical

Correct Marks : 1 Wrong Marks : 0.25

रोग-कारण का अध्ययन करते समय इनमें से क्या एक उलझाने वाले कारक (कॉन्फाउंडिंग फैक्टर) की विशेषता नहीं है?

Options :

1. ✗ इसे अनावरण से संबद्ध अवश्य किया जाना चाहिए।
2. ✓ इसे रोग से संबद्ध बिल्कुल नहीं होना चाहिए।
3. ✗ यह रोग से संबद्ध होना चाहिए, यहाँ तक कि आवृत के साथ भी।

4. ✘ यह अनावरण और रोग के बीच करणीय मार्ग पर मध्यवर्ती नहीं होना चाहिए।

Discipline5

Group Number :	10
Group Id :	966231143
Group Maximum Duration :	0
Group Minimum Duration :	120
Revisit allowed for view? :	No
Revisit allowed for edit? :	No
Break time:	0
Group Marks:	20
Revisit allowed for group Instructions? :	Yes
Maximum Instruction Time:	0
Minimum Instruction Time:	0

Discipline5

Section Id :	966231258
Section Number :	1
Section type :	Online
Mandatory or Optional:	Mandatory
Number of Questions:	20
Number of Questions to be attempted:	20
Section Marks:	20
Display Number Panel:	Yes
Group All Questions:	No

Sub-Section Number:	1
Sub-Section Id:	966231282
Question Shuffling Allowed :	Yes

Question Number : 181 Question Id : 9662317005 Question Type : MCQ Option Shuffling : Yes Display Question Number : Yes
Single Line Question Option : No Option Orientation : Vertical

Correct Marks : 1 Wrong Marks : 0.25

Fluoridation of community water supply falls under which level of prevention for dental caries?

Options :

1. ✘ Not a preventive measure
2. ✔ Primary prevention
3. ✘ Secondary prevention
4. ✘ Tertiary prevention

Question Number : 181 Question Id : 9662317005 Question Type : MCQ Option Shuffling : Yes Display Question Number : Yes
Single Line Question Option : No Option Orientation : Vertical

Correct Marks : 1 Wrong Marks : 0.25

सामुदायिक जलापूर्ति का फ्लोरिडीकरण 'दंत क्षय' की रोकथाम के किस स्तर के अंतर्गत आता है?

Options :

1. ✘ निवारक उपाय नहीं
2. ✔ प्राथमिक रोकथाम
3. ✘ द्वितीयक रोकथाम
4. ✘ तृतीयक रोकथाम

Question Number : 182 Question Id : 9662317006 Question Type : MCQ Option Shuffling : Yes Display Question Number : Yes
Single Line Question Option : No Option Orientation : Vertical

Correct Marks : 1 Wrong Marks : 0.25

What is the critical pH below which initial demineralization of enamel begins?

Options :

1. ✔ 5.2 - 5.5
2. ✘ 6.2 - 6.5
3. ✘ 7.2 - 7.5
4. ✘ 8.2 - 8.5

Question Number : 182 Question Id : 9662317006 Question Type : MCQ Option Shuffling : Yes Display Question Number : Yes
Single Line Question Option : No Option Orientation : Vertical

Correct Marks : 1 Wrong Marks : 0.25

वह कौन सा महत्वपूर्ण pH है जिसके कम होने पर दंत-वल्क (एनामेल) का प्रारंभिक विखनिजीकरण (डिमिनरलाइजेशन) आरंभ हो जाता है?

Options :

1. ✔ 5.2 - 5.5
2. ✘ 6.2 - 6.5
3. ✘ 7.2 - 7.5
4. ✘ 8.2 - 8.5

Question Number : 183 Question Id : 9662317007 Question Type : MCQ Option Shuffling : Yes Display Question Number : Yes
Single Line Question Option : No Option Orientation : Vertical

Correct Marks : 1 Wrong Marks : 0.25

What is a secondary level for prevention of oral cancer?

Options :

1. ✘ Patient education
2. ✘ Avoidance of known irritants
3. ✔ Early diagnosis and prompt treatment
4. ✘ Surgery/chemotherapy

Question Number : 183 Question Id : 9662317007 Question Type : MCQ Option Shuffling : Yes Display Question Number : Yes
Single Line Question Option : No Option Orientation : Vertical

Correct Marks : 1 Wrong Marks : 0.25

मुख कैंसर की रोकथाम के लिए द्वितीयक स्तर क्या है?

Options :

1. ✘ रोगी शिक्षा
2. ✘ ज्ञात क्षोभक (इरिटेंट्स) का परिहार
3. ✔ शीघ्र निदान और तत्क्षण उपचार
4. ✘ शल्य-क्रिया (सर्जरी)/रसायन-चिकित्सा (कीमोथेरेपी)

Question Number : 184 Question Id : 9662317008 Question Type : MCQ Option Shuffling : Yes Display Question Number : Yes
Single Line Question Option : No Option Orientation : Vertical

Correct Marks : 1 Wrong Marks : 0.25

Identify the topical fluoride among the following.

Options :

1. ✘ Community water fluoridation
2. ✘ Milk fluoridation
3. ✘ Fluoride supplements
4. ✔ Fluoride varnish

Question Number : 184 Question Id : 9662317008 Question Type : MCQ Option Shuffling : Yes Display Question Number : Yes
Single Line Question Option : No Option Orientation : Vertical

Correct Marks : 1 Wrong Marks : 0.25

इनमें से सामयिक (टॉपिकल) फ्लोराइड की पहचान करें।

Options :

1. ✘ सामुदायिक जल फ्लोरिडीकरण
2. ✘ दूध फ्लोरिडीकरण
3. ✘ फ्लोराइड संपूरक
4. ✔ फ्लोराइड वॉर्निश

Question Number : 185 Question Id : 9662317009 Question Type : MCQ Option Shuffling : Yes Display Question Number : Yes
Single Line Question Option : No Option Orientation : Vertical

Correct Marks : 1 Wrong Marks : 0.25

Who among the following would benefit the most from professional topical fluoride application?

Options :

1. ✔ Individuals undergoing radiation therapy
2. ✘ Individuals with normal salivary flow
3. ✘ Individuals with low caries rate in the family
4. ✘ Individuals with low biofilm scores

Question Number : 185 Question Id : 9662317009 Question Type : MCQ Option Shuffling : Yes Display Question Number : Yes
Single Line Question Option : No Option Orientation : Vertical

Correct Marks : 1 Wrong Marks : 0.25

इनमें से कौन व्यावसायिक सामयिक (टॉपिकल) फ्लोराइड के अनुप्रयोग से सबसे अधिक लाभान्वित होगा?

Options :

1. ✔ विकिरण रोगोपचार (रेडिएशन थेरपी) से गुजरने वाले व्यक्ति
2. ✘ सामान्य लार प्रवाह वाले व्यक्ति
3. ✘ परिवार में कम क्षरण दर वाले व्यक्ति
4. ✘ कम जैवीय संक्रमण (बायोफ़िल्म) गणना वाले व्यक्ति

Question Number : 186 Question Id : 9662317010 Question Type : MCQ Option Shuffling : Yes Display Question Number : Yes
Single Line Question Option : No Option Orientation : Vertical

Correct Marks : 1 Wrong Marks : 0.25

Which among the following is NOT a contraindication for pit and fissure sealant placement?

Options :

1. ✘ Radiographic evidence of adjacent proximal dental caries
2. ✘ Tooth not completely erupted
3. ✔ Frequent sugar intake
4. ✘ Pit and fissures are well coalesced and self-cleansing

Question Number : 186 Question Id : 9662317010 Question Type : MCQ Option Shuffling : Yes Display Question Number : Yes
Single Line Question Option : No Option Orientation : Vertical

Correct Marks : 1 Wrong Marks : 0.25

इनमें से कौन सा गर्त (पिट) और विदर (फिशर) सीलेंट स्थानन (प्लेसमेंट) का विपरीत संकेत नहीं है?

Options :

1. ✘ आसन्न समीपस्थ दंत क्षय के विकिरण रेखाचित्रिय (रेडियोग्राफिक) साक्ष्य
2. ✘ दाँत पूर्णतः प्रस्फुटित नहीं होते हैं
3. ✔ शर्करा का अधिक सेवन
4. ✘ गर्त और विदर भलीभाँति संयुक्त हो जाते हैं और स्वयं-शोधित होते हैं

Question Number : 187 Question Id : 9662317011 Question Type : MCQ Option Shuffling : Yes Display Question Number : Yes
Single Line Question Option : No Option Orientation : Vertical

Correct Marks : 1 Wrong Marks : 0.25

Which of the following is true about fluoride varnishes?

Options :

1. ✘ It is a part of systemic fluoride therapy.
2. ✔ Varnish prolongs the contact time of fluoride with the tooth surface.
3. ✘ Application is recommended at least every 3–4 days per week.
4. ✘ Varnish has a lower concentration of fluoride than gel or foam.

Question Number : 187 Question Id : 9662317011 Question Type : MCQ Option Shuffling : Yes Display Question Number : Yes
Single Line Question Option : No Option Orientation : Vertical

Correct Marks : 1 Wrong Marks : 0.25

फ़्लोराइड वॉर्निश के बारे में इनमें से कौन सा विकल्प सही है?

Options :

1. ✘ यह प्रणालीगत फ़्लोराइड रोगोपचार का एक भाग है।
2. ✔ वॉर्निश से दाँत की सतह के साथ फ़्लोराइड के संपर्क समय में बढ़ोत्तरी होती है।
3. ✘ प्रति सप्ताह कम से कम 3 से 4 दिनों तक अनुप्रयोग की अनुशंसा की जाती है।
4. ✘ वॉर्निश में ज़ेल या झाग की तुलना में फ़्लोराइड की सांद्रता कम होती है।

Question Number : 188 Question Id : 9662317012 Question Type : MCQ Option Shuffling : Yes Display Question Number : Yes
Single Line Question Option : No Option Orientation : Vertical

Correct Marks : 1 Wrong Marks : 0.25

Which of the following individuals do NOT fall into low risk category during Caries Risk Assessment?

Options :

1. ✘ Those who drink fluoridated water
2. ✘ Those who use fluoride mouth rinse regularly
3. ✘ Those who use sugar-free xylitol gum between meals
4. ✔ Those who have xerostomia due to a systemic disease

Question Number : 188 Question Id : 9662317012 Question Type : MCQ Option Shuffling : Yes Display Question Number : Yes
Single Line Question Option : No Option Orientation : Vertical

Correct Marks : 1 Wrong Marks : 0.25

इनमें से कौन लोग क्षय जोखिम आकलन के दौरान कम जोखिम श्रेणी में नहीं आते हैं?

Options :

1. ✘ वो लोग जो फ़्लोराइड युक्त पानी पीते हैं।
2. ✘ वो लोग जो नियमित रूप से फ़्लोराइड मुख कुल्ला (माउथ रिस) का उपयोग करते हैं।
3. ✘ वो लोग जो भोजनों के बीच शर्करा-मुक्त ज़ाइलीटॉल गम का उपयोग करते हैं।
4. ✔ वो लोग जिन्हें प्रणालीगत रोग के कारण मुख-शुष्कता (ज़ेरोस्टोमिया) है।

Question Number : 189 Question Id : 9662317013 Question Type : MCQ Option Shuffling : Yes Display Question Number : Yes
Single Line Question Option : No Option Orientation : Vertical

Correct Marks : 1 Wrong Marks : 0.25

What is the recommended dose of dietary fluoride supplement for a 5-year old child living in an area where primary water supply contains less than 0.3 ppm of fluoride?

Options :

1. ✘ 0 mg
2. ✘ 0.25 mg
3. ✔ 0.50 mg
4. ✘ 1.0 mg

Question Number : 189 Question Id : 9662317013 Question Type : MCQ Option Shuffling : Yes Display Question Number : Yes
Single Line Question Option : No Option Orientation : Vertical

Correct Marks : 1 Wrong Marks : 0.25

एक 5 वर्ष के बच्चे के लिए आहारपरक फ्लोराइड की अनुशंसित खुराक क्या है जो ऐसे क्षेत्र में रहता है जहाँ प्राथमिक जलापूर्ति में 0.3 ppm से कम फ्लोराइड होता है?

Options :

1. ✘ 0 mg
2. ✘ 0.25 mg
3. ✔ 0.50 mg
4. ✘ 1.0 mg

Question Number : 190 Question Id : 9662317014 Question Type : MCQ Option Shuffling : Yes Display Question Number : Yes
Single Line Question Option : No Option Orientation : Vertical

Correct Marks : 1 Wrong Marks : 0.25

PACE represents the four interrelated elements of the spirit of motivational interviewing. The full form of PACE is:

Options :

1. ✘ Partnership, Allocation, Comparison and Evocation.
2. ✘ Partnership, Acceptance, Comparison and Empowerment.
3. ✔ Partnership, Acceptance, Compassion and Evocation.
4. ✘ Partnership, Allocation, Compassion, and Empowerment.

Question Number : 190 Question Id : 9662317014 Question Type : MCQ Option Shuffling : Yes Display Question Number : Yes
Single Line Question Option : No Option Orientation : Vertical

Correct Marks : 1 Wrong Marks : 0.25

PACE प्रेरक साक्षात्कार की भावना के चार परस्पर संबंधित तत्वों को प्रदर्शित करता है। PACE का पूर्ण रूप क्या है?

Options :

1. ✘ पार्टनरशिप (साझेदारी), एलोकेशन (आवंटन), कॅम्पेरिज़न (तुलना) और इवोकेशन (पुनर्रचना)।
2. ✘ पार्टनरशिप(साझेदारी), एक्सेप्टेन्स (स्वीकृति), कॅम्पेरिज़न(तुलना) और एम्पावरमेंट (सशक्तिकरण)।
3. ✔ पार्टनरशिप(साझेदारी), एक्सेप्टेन्स(स्वीकृति), कॅम्पैशन (सहानुभूति) और इवोकेशन(पुनर्रचना)।
4. ✘ पार्टनरशिप(साझेदारी), एलोकेशन(आवंटन), कम्पैशन(सहानुभूति) और एम्पावरमेंट(सशक्तिकरण)।

Question Number : 191 Question Id : 9662317015 Question Type : MCQ Option Shuffling : Yes Display Question Number : Yes
Single Line Question Option : No Option Orientation : Vertical

Correct Marks : 1 Wrong Marks : 0.25

'Above all, do no harm'. Which of the following ethical principles best encompasses this statement in the health care environment?

Options :

1. ✘ Autonomy
2. ✘ Confidentiality
3. ✔ Nonmaleficence
4. ✘ Veracity

Question Number : 191 Question Id : 9662317015 Question Type : MCQ Option Shuffling : Yes Display Question Number : Yes
Single Line Question Option : No Option Orientation : Vertical

Correct Marks : 1 Wrong Marks : 0.25

'सबसे बढ़कर, कोई अनिष्ट नहीं'। इनमें से कौन सा नैतिक सिद्धांत स्वास्थ्य सेवा वातावरण में इस कथन को सर्वोत्तम रूप से सम्मिलित करता/ती है?

Options :

1. ✘ स्वायत्तता
2. ✘ गोपनीयता
3. ✔ वीर-अनिष्टता
4. ✘ सत्यता

Question Number : 192 Question Id : 9662317016 Question Type : MCQ Option Shuffling : Yes Display Question Number : Yes
Single Line Question Option : No Option Orientation : Vertical

Correct Marks : 1 Wrong Marks : 0.25

'A violation of an agreement or promise between two persons to do or not to do something.' Which law under private or civil laws concerning health care providers is best described in this statement?

Options :

1. Contract law
2. Property law
3. Family law
4. Corporate law

Question Number : 192 Question Id : 9662317016 Question Type : MCQ Option Shuffling : Yes Display Question Number : Yes
Single Line Question Option : No Option Orientation : Vertical

Correct Marks : 1 Wrong Marks : 0.25

'कुछ करने या न करने के लिए दो व्यक्तियों के बीच एक समझौते या वचन का उल्लंघन।' स्वास्थ्य देखभाल प्रदाताओं के विषय में निजी या नागरिक कानूनों के अंतर्गत कौन सा कानून इस कथन में सर्वोत्तम ढंग से वर्णित है?

Options :

1. अनुबंध कानून
2. संपत्ति कानून
3. परिवार कानून
4. निगम कानून

Question Number : 193 Question Id : 9662317017 Question Type : MCQ Option Shuffling : Yes Display Question Number : Yes
Single Line Question Option : No Option Orientation : Vertical

Correct Marks : 1 Wrong Marks : 0.25

Which of the following is NOT true when obtaining an informed consent prior to treatment?

Options :

1. Inform about risks and limitations of the proposed treatment including probability of risk occurring.
2. Simplify the terminology so that the patient can understand.
3. Do not answer questions asked by the patient and family.

4. ✘ Document all relevant factors and include the signed form in the patient's records.

Question Number : 193 Question Id : 9662317017 Question Type : MCQ Option Shuffling : Yes Display Question Number : Yes
Single Line Question Option : No Option Orientation : Vertical

Correct Marks : 1 Wrong Marks : 0.25

उपचार से पहले सूचित सहमति प्राप्त करते समय इनमें से कौन सा विकल्प सही नहीं है?

Options :

1. ✘ जोखिम होने की संभावना सहित प्रस्तावित उपचार के जोखिमों और सीमाओं के बारे में सूचित करना।
2. ✘ शब्दावली को सरल बनाना ताकि रोगी समझ सके।
3. ✔ रोगी और परिवार द्वारा पूछे गए प्रश्नों के उत्तर न देना।

सभी प्रासंगिक कारकों को प्रलेखित करना और रोगी के अभिलेख (रिकॉर्ड) में हस्ताक्षरित प्रपत्र (फॉर्म) सम्मिलित

4. ✘ करना।

Question Number : 194 Question Id : 9662317018 Question Type : MCQ Option Shuffling : Yes Display Question Number : Yes
Single Line Question Option : No Option Orientation : Vertical

Correct Marks : 1 Wrong Marks : 0.25

Which of the following is a branch of dentistry which deals with the alignment of teeth and the jaw structure?

Options :

1. ✘ Periodontics
2. ✔ Orthodontics
3. ✘ Prosthodontics
4. ✘ Endodontics

Question Number : 194 Question Id : 9662317018 Question Type : MCQ Option Shuffling : Yes Display Question Number : Yes
Single Line Question Option : No Option Orientation : Vertical

Correct Marks : 1 Wrong Marks : 0.25

इनमें से क्या दंत चिकित्सा की एक शाखा है जो दाँतों के संरेखण और जबड़े की संरचना से संबंधित है?

Options :

1. ✘ परीदंत्य (पेरियोडॉन्टिक्स)
2. ✔ दंत-संशोधन (ऑर्थोडॉन्टिक्स)
3. ✘ कृत्रिम उपकरण और दंत संरचना (प्रॉस्थोडॉन्टिक्स)

4. ✘ अंतः दंत्य (एंडोडॉन्टिक्स)

Question Number : 195 Question Id : 9662317019 Question Type : MCQ Option Shuffling : Yes Display Question Number : Yes
Single Line Question Option : No Option Orientation : Vertical

Correct Marks : 1 Wrong Marks : 0.25

Which of the following does NOT belong to the profile of a dental hygienist?

Options :

1. ✘ Prevention of dental disease
2. ✘ Specialization in cleaning and polishing of teeth
3. ✘ Patient education
4. ✔ Surgical repair of cleft palate

Question Number : 195 Question Id : 9662317019 Question Type : MCQ Option Shuffling : Yes Display Question Number : Yes
Single Line Question Option : No Option Orientation : Vertical

Correct Marks : 1 Wrong Marks : 0.25

इनमें से क्या दंत रोग विशेषज्ञ की रूपरेखा (प्रोफाइल) से संबंधित नहीं है?

Options :

1. ✘ दंत रोग की रोकथाम
2. ✘ दाँतों की स्वच्छता और परिमार्जन (पॉलिशिंग) में विशेषज्ञता
3. ✘ रोगी शिक्षा
4. ✔ खण्डतालु (क्लेफ्ट पैलेट) का शल्य-क्रिया सुधार (सर्जिकल रिपेयर)

Question Number : 196 Question Id : 9662317020 Question Type : MCQ Option Shuffling : Yes Display Question Number : Yes
Single Line Question Option : No Option Orientation : Vertical

Correct Marks : 1 Wrong Marks : 0.25

Which of the following best describes the meaning of an implied contract?

Options :

1. ✔ It is an agreement that is shown by inference through signs, inaction, or silence.
2. ✘ It is an agreement that is explicitly stated, either orally or in writing.
3. ✘ It is an agreement that is made in the court of law.

4. ✘ It is an agreement which involves a written treatment plan and expenses given before treatment.

Question Number : 196 Question Id : 9662317020 Question Type : MCQ Option Shuffling : Yes Display Question Number : Yes
Single Line Question Option : No Option Orientation : Vertical

Correct Marks : 1 Wrong Marks : 0.25

इनमें से क्या एक निहित अनुबंध का सर्वोत्तम वर्णन करता है?

Options :

1. ✔ यह एक समझौता है जो संकेतों, निष्क्रियता या मौन के माध्यम से निष्कर्ष (इंफेरेंस) द्वारा दर्शाया जाता है।
2. ✘ यह एक ऐसा समझौता है जो स्पष्ट रूप से, मौखिक या लिखित रूप से, व्यक्त किया जाता है।
3. ✘ यह एक ऐसा समझौता है जिसे न्यायालय में बनाया जाता है।

यह एक ऐसा समझौता है जिसमें उपचार से पहले एक लिखित उपचार योजना और व्यय का विवरण सम्मिलित होता है।

4. ✘ है।

Question Number : 197 Question Id : 9662317021 Question Type : MCQ Option Shuffling : Yes Display Question Number : Yes
Single Line Question Option : No Option Orientation : Vertical

Correct Marks : 1 Wrong Marks : 0.25

Who wrote the first dental hygienist oath?

Options :

1. ✔ Frank Lamons
2. ✘ Alfred C. Fones
3. ✘ Irene Newman
4. ✘ John Snow

Question Number : 197 Question Id : 9662317021 Question Type : MCQ Option Shuffling : Yes Display Question Number : Yes
Single Line Question Option : No Option Orientation : Vertical

Correct Marks : 1 Wrong Marks : 0.25

पहली दंत स्वच्छता (डेंटल हाइजिनिस्ट) शपथ किसने लिखी थी?

Options :

1. ✔ फ्रैंक लेमन्स ने
2. ✘ अल्फ्रेड सी. फॉस ने
3. ✘ आइरीन न्यूमैन ने

4. ✖ जॉन स्नो ने

Question Number : 198 Question Id : 9662317022 Question Type : MCQ Option Shuffling : Yes Display Question Number : Yes
Single Line Question Option : No Option Orientation : Vertical

Correct Marks : 1 Wrong Marks : 0.25

Which of the following tooth number denotes permanent maxillary right central incisor, according to Fédération Dentaire Internationale (FDI) system of tooth numbering?

Options :

1. ✖ 21

2. ✔ 11

3. ✖ 12

4. ✖ 31

Question Number : 198 Question Id : 9662317022 Question Type : MCQ Option Shuffling : Yes Display Question Number : Yes
Single Line Question Option : No Option Orientation : Vertical

Correct Marks : 1 Wrong Marks : 0.25

दंत संख्यांकन (टूथ नंबरिंग) की फ़ेडरेशन डेंटायर इंटरनेशनल (एफ.डी.आई./FDI) प्रणाली के अनुसार, इनमें से किस दंत संख्या द्वारा स्थायी ऊर्ध्वहनु दायाँ केंद्रीय कृतक दर्शाया जाता है?

Options :

1. ✖ 21

2. ✔ 11

3. ✖ 12

4. ✖ 31

Question Number : 199 Question Id : 9662317023 Question Type : MCQ Option Shuffling : Yes Display Question Number : Yes
Single Line Question Option : No Option Orientation : Vertical

Correct Marks : 1 Wrong Marks : 0.25

Regarding the two parties in a lawsuit, the individual bringing charges in the lawsuit is known as _____.

Options :

1. ✖ the jury

2. ✖ the defendant

3. ✔ the plaintiff

4. ✖ the judge

Question Number : 199 Question Id : 9662317023 Question Type : MCQ Option Shuffling : Yes Display Question Number : Yes
Single Line Question Option : No Option Orientation : Vertical

Correct Marks : 1 Wrong Marks : 0.25

एक मुकदमे में दो पक्षों के संबंध में, मुकदमे में आरोप लगाने वाले व्यक्ति को _____ के रूप में जाना जाता है।

Options :

1. ✖ निर्णायक समिति (जूरी)

2. ✖ प्रतिवादी

3. ✔ वादी

4. ✖ न्यायाधीश

Question Number : 200 Question Id : 9662317024 Question Type : MCQ Option Shuffling : Yes Display Question Number : Yes
Single Line Question Option : No Option Orientation : Vertical

Correct Marks : 1 Wrong Marks : 0.25

Which of the following ethical theory proposed by John Stuart Mill, suggests that the rightness of an Act is measured by the outcome?

Options :

1. ✔ Utilitarian ethics

2. ✖ Virtue ethics

3. ✖ Deontological ethics

4. ✖ Derived ethics

Question Number : 200 Question Id : 9662317024 Question Type : MCQ Option Shuffling : Yes Display Question Number : Yes
Single Line Question Option : No Option Orientation : Vertical

Correct Marks : 1 Wrong Marks : 0.25

जॉन स्टुअर्ट मिल द्वारा प्रस्तावित वह नैतिक सिद्धांत कौन सा है जो यह बताता है कि किसी कार्य की उपयुक्तता उसके परिणाम से मापी जाती है?

Options :

1. ✔ उपयोगितावादी (यूटिलिटेरियन) नैतिकता

2. ✖ सदाचार (वर्च्यू) नैतिकता

3. ✖ आचार-विषयक (डॉन्टोलॉजिकल) नैतिकता

4. ✖ व्युत्पन्न (डिराइव्ड) नैतिकता