

Education Consultant India Ltd.

Notations :

- 1.Options shown in green color and with ✓ icon are correct.
- 2.Options shown in red color and with ✘ icon are incorrect.

Question Paper Name:	Auxiliary Nurse Midwife
Subject Name:	Auxiliary Nurse Midwife
Creation Date:	2019-08-30 15:52:57
Duration:	120
Total Marks:	200
Display Marks:	Yes
Share Answer Key With Delivery Engine:	No
Actual Answer Key:	Yes
Calculator:	None
Magnifying Glass Required?:	No
Ruler Required?:	No
Eraser Required?:	No
Scratch Pad Required?:	No
Rough Sketch/Notepad Required?:	No
Protractor Required?:	No
Show Watermark on Console?:	Yes
Highlighter:	No
Auto Save on Console?:	No

Mental Ability

Group Number :	1
Group Id :	998367790
Group Maximum Duration :	0
Group Minimum Duration :	0
Revisit allowed for view? :	No
Revisit allowed for edit? :	No
Break time:	0
Group Marks:	20
Revisit allowed for group Instructions? :	Yes
Maximum Instruction Time:	0
Minimum Instruction Time:	0

Mental Ability

Section Id :	998367911
Section Number :	1
Section type :	Online
Mandatory or Optional:	Mandatory
Number of Questions:	20
Number of Questions to be attempted:	20
Section Marks:	20

Display Number Panel: Yes
Group All Questions: No

Sub-Section Number: 1
Sub-Section Id: 9983671151
Question Shuffling Allowed : Yes

Question Number : 1 Question Id : 99836721133 Question Type : MCQ Option Shuffling : Yes Display Question Number : Yes
Single Line Question Option : No Option Orientation : Vertical

Correct Marks : 1 Wrong Marks : 0.25

From the given alternatives, select the word which CAN be formed using the letters of the given word.

DRAMTICS

Options :

1. ✘ RAIN
2. ✘ CARE
3. ✘ SAME
4. ✔ MAID

Question Number : 1 Question Id : 99836721133 Question Type : MCQ Option Shuffling : Yes Display Question Number : Yes
Single Line Question Option : No Option Orientation : Vertical

Correct Marks : 1 Wrong Marks : 0.25

दिए गए विकल्पों में से वह शब्द चुनिए जो दिए गए शब्द के अक्षरों का प्रयोग करके बनाया जा सकता है।

DRAMTICS

Options :

1. ✘ RAIN
2. ✘ CARE
3. ✘ SAME
4. ✔ MAID

Question Number : 2 Question Id : 99836721134 Question Type : MCQ Option Shuffling : Yes Display Question Number : Yes
Single Line Question Option : No Option Orientation : Vertical

Correct Marks : 1 Wrong Marks : 0.25

In the following question, select the odd word pair from the given alternatives.

Options :

1. ✘ Mango : Fruit
2. ✘ Sharpener : Stationery
3. ✔ Game : Cricket
4. ✘ Computer : Gadget

Question Number : 2 Question Id : 99836721134 Question Type : MCQ Option Shuffling : Yes Display Question Number : Yes
Single Line Question Option : No Option Orientation : Vertical

Correct Marks : 1 Wrong Marks : 0.25

निम्नलिखित प्रश्न में दिए गए विकल्पों में से विषम शब्द युग्म को चुनिए।

Options :

1. ✘ आम : फल
2. ✘ शार्पेनर : लेखन-सामग्री
3. ✔ खेल : क्रिकेट

4. ✖ कम्प्यूटर : उपकरण

Question Number : 3 Question Id : 99836721135 Question Type : MCQ Option Shuffling : Yes Display Question Number : Yes
Single Line Question Option : No Option Orientation : Vertical

Correct Marks : 1 Wrong Marks : 0.25

In the following question, select the odd letter /letters from the given alternatives.

Options :

1. ✖ YWTP
2. ✖ XVSQ
3. ✓ LJGD
4. ✖ RPMI

Question Number : 3 Question Id : 99836721135 Question Type : MCQ Option Shuffling : Yes Display Question Number : Yes
Single Line Question Option : No Option Orientation : Vertical

Correct Marks : 1 Wrong Marks : 0.25

निम्नलिखित प्रश्न में दिए गए विकल्पों में से विषम अक्षर/अक्षरों को चुनिए

Options :

1. ✖ YWTP
2. ✖ XVSQ
3. ✓ LJGD
4. ✖ RPMI

Question Number : 4 Question Id : 99836721136 Question Type : MCQ Option Shuffling : Yes Display Question Number : Yes
Single Line Question Option : No Option Orientation : Vertical

Correct Marks : 1 Wrong Marks : 0.25

In the following question, select the related letters from the given alternatives.

NS: MH :: KI : ?

Options :

1. ✖ TN
2. ✓ PR
3. ✖ XU
4. ✖ SQ

Question Number : 4 Question Id : 99836721136 Question Type : MCQ Option Shuffling : Yes Display Question Number : Yes
Single Line Question Option : No Option Orientation : Vertical

Correct Marks : 1 Wrong Marks : 0.25

निम्नलिखित प्रश्न में दिए गए विकल्पों में से संबंधित अक्षरों को चुनिए

NS: MH :: KI : ?

Options :

1. ✖ TN
2. ✓ PR
3. ✖ XU
4. ✖ SQ

Question Number : 5 Question Id : 99836721137 Question Type : MCQ Option Shuffling : Yes Display Question Number : Yes
Single Line Question Option : No Option Orientation : Vertical

Correct Marks : 1 Wrong Marks : 0.25

In a certain code language, 'WATER' is written as 'TXQBO'. What is the code for 'GOMTI' in that code language?

Options :

- ✘ EMLRG
- ✘ DLJQE
- ✘ EMKRG
- ✔ DLJQF

Question Number : 5 Question Id : 99836721137 Question Type : MCQ Option Shuffling : Yes Display Question Number : Yes
Single Line Question Option : No Option Orientation : Vertical

Correct Marks : 1 Wrong Marks : 0.25

एक विशिष्ट कोड भाषा में, 'WATER' को 'TXQBO' लिखा जाता है। इस कोड भाषा में 'GOMTI' का कोड क्या है?

Options :

- ✘ EMLRG
- ✘ DLJQE
- ✘ EMKRG
- ✔ DLJQF

Question Number : 6 Question Id : 99836721138 Question Type : MCQ Option Shuffling : Yes Display Question Number : Yes
Single Line Question Option : No Option Orientation : Vertical

Correct Marks : 1 Wrong Marks : 0.25

In a certain code language, 'Heaven is lord' is written as '@ # R', 'Lord are great' is written as 'H R 9', 'Humans are heaven' is written as 'T 9 @'. What is the code for 'is' in that code language?

Options :

- ✔ #
- ✘ R
- ✘ 9
- ✘ @

Question Number : 6 Question Id : 99836721138 Question Type : MCQ Option Shuffling : Yes Display Question Number : Yes
Single Line Question Option : No Option Orientation : Vertical

Correct Marks : 1 Wrong Marks : 0.25

एक विशिष्ट कोड भाषा में, 'Heaven is lord' को '@ # R' लिखा जाता है, 'Lord are great' को 'H R 9' लिखा जाता है, 'Humans are heaven' को 'T 9 @' लिखा जाता है। इस कोड भाषा में 'is' का कोड क्या है?

Options :

- ✔ #
- ✘ R
- ✘ 9
- ✘ @

Question Number : 7 Question Id : 99836721139 Question Type : MCQ Option Shuffling : Yes Display Question Number : Yes
Single Line Question Option : No Option Orientation : Vertical

Correct Marks : 1 Wrong Marks : 0.25

Six customers C, F, K, L, M and R are sitting in a row facing towards south (not necessarily in the same order). K is sitting second to the left of C. Only R is sitting between L and C. M is sitting to the immediate right of K. L is sitting at one of the end. Who is sitting second to the right of F?

Options :

- ✘ R
- ✔ M
- ✘ K
- ✘ C

Question Number : 7 Question Id : 99836721139 Question Type : MCQ Option Shuffling : Yes Display Question Number : Yes
Single Line Question Option : No Option Orientation : Vertical

Correct Marks : 1 Wrong Marks : 0.25

छह ग्राहक C, F, K, L, M तथा R एक पंक्ति में दक्षिण की ओर मुख करके बैठे हुए हैं (जरूरी नहीं की इसी क्रम में हो)। K, C के बाएं ओर दूसरे स्थान पर बैठा हुआ है L तथा C के मध्य केवल R बैठा हुआ है। M, K के तुरंत दाईं ओर बैठा हुआ है। L किसी एक छोर पर बैठा हुआ है। F के दाईं ओर दूसरे स्थान पर कौन बैठा हुआ है?

Options :

- ✘ R
- ✔ M
- ✘ K
- ✘ C

Question Number : 8 Question Id : 99836721140 Question Type : MCQ Option Shuffling : Yes Display Question Number : Yes
Single Line Question Option : No Option Orientation : Vertical

Correct Marks : 1 Wrong Marks : 0.25

In the following question below are given some statements followed by some conclusions based on those statements. Taking the given statements to be true even if they seem to be at variance from commonly known facts. Read all the conclusions and then decide which of the given conclusion logically follows the given statements.

Statements:

- I. Some black are dog.
- II. All dog are white.
- III. All red are white.

Conclusions:

- I. Some red are black.
- II. Some white are black.
- III. No white is black.

Options :

- ✔ Only conclusion II follow
- ✘ Both conclusion II and III follow
- ✘ Both conclusion I and III follow
- ✘ Only conclusion III follow

Question Number : 8 Question Id : 99836721140 Question Type : MCQ Option Shuffling : Yes Display Question Number : Yes
Single Line Question Option : No Option Orientation : Vertical

Correct Marks : 1 Wrong Marks : 0.25

नीचे दिए गए प्रश्न में कुछ कथन और उनके बाद उन कथनों पर आधारित कुछ निष्कर्ष दिए गए हैं। दिए गए कथनों को सही माने, चाहे उनमें सामान्य ज्ञात तथ्यों से भिन्नता हो। सभी निष्कर्ष पढ़ें और फिर निर्धारित करें कि दिए गए कौन से निष्कर्ष, दिए गए कथनों के आधार पर युक्तिसंगत हैं।

कथन:

- I. कुछ काले कुत्ते हैं।
- II. सभी कुत्ते सफेद हैं।
- III. सभी लाल सफेद हैं।

निष्कर्ष:

- I. कुछ लाल काला हैं।
- II. कुछ सफेद काला हैं।
- III. कोई सफेद काला नहीं है।

Options :

- ✔ केवल निष्कर्ष II अनुसरण करता है।
- ✘ दोनों निष्कर्ष II तथा III अनुसरण करते हैं।

3. ✘ दोनों निष्कर्ष I तथा III अनुसरण करते हैं।

4. ✘ केवल निष्कर्ष III अनुसरण करता है।

Question Number : 9 Question Id : 99836721141 Question Type : MCQ Option Shuffling : Yes Display Question Number : Yes
Single Line Question Option : No Option Orientation : Vertical

Correct Marks : 1 Wrong Marks : 0.25

In the following question, select the missing number from the given series.

293, 301, 308, 314, 319, ?

Options :

1. ✘ 327

2. ✘ 321

3. ✔ 323

4. ✘ 325

Question Number : 9 Question Id : 99836721141 Question Type : MCQ Option Shuffling : Yes Display Question Number : Yes
Single Line Question Option : No Option Orientation : Vertical

Correct Marks : 1 Wrong Marks : 0.25

निम्नलिखित प्रश्न में दी गई श्रृंखला में से लुप्त अंक ज्ञात कीजिए।

293, 301, 308, 314, 319, ?

Options :

1. ✘ 327

2. ✘ 321

3. ✔ 323

4. ✘ 325

Question Number : 10 Question Id : 99836721142 Question Type : MCQ Option Shuffling : Yes Display Question Number : Yes
Single Line Question Option : No Option Orientation : Vertical

Correct Marks : 1 Wrong Marks : 0.25

In the following question, select the related number from the given alternatives.

5 : 15 :: 7 : ?

Options :

1. ✘ 20

2. ✔ 21

3. ✘ 22

4. ✘ 13

Question Number : 10 Question Id : 99836721142 Question Type : MCQ Option Shuffling : Yes Display Question Number : Yes
Single Line Question Option : No Option Orientation : Vertical

Correct Marks : 1 Wrong Marks : 0.25

निम्नलिखित प्रश्न में दिए गए विकल्पों में से संबंधित संख्या को चुनिए।

5 : 15 :: 7 : ?

Options :

1. ✘ 20

2. ✔ 21

3. ✘ 22

4. ✘ 13

Question Number : 11 Question Id : 99836721143 Question Type : MCQ Option Shuffling : Yes Display Question Number : Yes
Single Line Question Option : No Option Orientation : Vertical

Correct Marks : 1 Wrong Marks : 0.25

By interchanging which two numbers the equation will be correct?

$$6 + 3 - 5 \times 2 \div 4 = -1$$

Options :

1. ✘ 3 and 2
2. ✔ 2 and 4
3. ✘ 5 and 6
4. ✘ 6 and 4

Question Number : 11 Question Id : 99836721143 Question Type : MCQ Option Shuffling : Yes Display Question Number : Yes
Single Line Question Option : No Option Orientation : Vertical

Correct Marks : 1 Wrong Marks : 0.25

किन दो संख्याओं को आपस में परस्पर बदलने पर समीकरण सही हो जाएगा?

$$6 + 3 - 5 \times 2 \div 4 = -1$$

Options :

1. ✘ 3 तथा 2
2. ✔ 2 तथा 4
3. ✘ 5 तथा 6
4. ✘ 6 तथा 4

Question Number : 12 Question Id : 99836721144 Question Type : MCQ Option Shuffling : Yes Display Question Number : Yes
Single Line Question Option : No Option Orientation : Vertical

Correct Marks : 1 Wrong Marks : 0.25

By interchanging the given two signs which of the following equation will be correct?

+ and ×

Options :

1. ✘ $7 + 3 \times 2 - 6 = 7$
2. ✘ $4 \times 3 - 2 + 6 = 16$
3. ✔ $13 \times 6 - 14 + 2 = -9$
4. ✘ $5 + 7 \times 16 - 2 = -20$

Question Number : 12 Question Id : 99836721144 Question Type : MCQ Option Shuffling : Yes Display Question Number : Yes
Single Line Question Option : No Option Orientation : Vertical

Correct Marks : 1 Wrong Marks : 0.25

दिए गए दो चिह्नों को आपस में परस्पर बदलने पर निम्नलिखित में से कौन सा समीकरण सही होगा?

+ तथा ×

Options :

1. ✘ $7 + 3 \times 2 - 6 = 7$
2. ✘ $4 \times 3 - 2 + 6 = 16$
3. ✔ $13 \times 6 - 14 + 2 = -9$
4. ✘ $5 + 7 \times 16 - 2 = -20$

Question Number : 13 Question Id : 99836721145 Question Type : MCQ Option Shuffling : Yes Display Question Number : Yes
Single Line Question Option : No Option Orientation : Vertical

Correct Marks : 1 Wrong Marks : 0.25

In the following question, select the number which can be placed at the sign of question mark (?) from the given alternatives.



Options :

1. ✓ 54
2. ✗ 58
3. ✗ 56
4. ✗ 52

Question Number : 13 Question Id : 99836721145 Question Type : MCQ Option Shuffling : Yes Display Question Number : Yes Single Line Question Option : No Option Orientation : Vertical

Correct Marks : 1 Wrong Marks : 0.25

निम्नलिखित प्रश्न में दिए गए विकल्पों में से प्रश्न चिन्ह (?) के स्थान पर आने वाली संख्या को चुनिए।



Options :

1. ✓ 54
2. ✗ 58
3. ✗ 56
4. ✗ 52

Question Number : 14 Question Id : 99836721146 Question Type : MCQ Option Shuffling : Yes Display Question Number : Yes Single Line Question Option : No Option Orientation : Vertical

Correct Marks : 1 Wrong Marks : 0.25

If 'H' means '×', 'J' means '+', 'K' means '-' and 'M' means '÷', then $13 J 16 M 9 H 27 K 2 = ?$

Options :

1. ✗ 61
2. ✗ 49
3. ✓ 59
4. ✗ 51

Question Number : 14 Question Id : 99836721146 Question Type : MCQ Option Shuffling : Yes Display Question Number : Yes Single Line Question Option : No Option Orientation : Vertical

Correct Marks : 1 Wrong Marks : 0.25

यदि 'H' का अर्थ '×', 'J' का अर्थ '+', 'K' का अर्थ '-' तथा 'M' का अर्थ '÷' हो, तो $13 J 16 M 9 H 27 K 2 = ?$

Options :

1. ✗ 61
2. ✗ 49
3. ✓ 59
4. ✗ 51

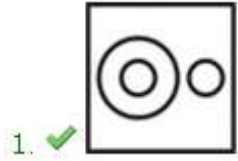
Question Number : 15 Question Id : 99836721147 Question Type : MCQ Option Shuffling : Yes Display Question Number : Yes Single Line Question Option : No Option Orientation : Vertical

Correct Marks : 1 Wrong Marks : 0.25

Identify the diagram that best represents the relationship among the given classes.

Pen, Stationery, Wood

Options :



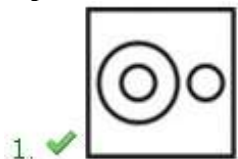
Question Number : 15 Question Id : 99836721147 Question Type : MCQ Option Shuffling : Yes Display Question Number : Yes Single Line Question Option : No Option Orientation : Vertical

Correct Marks : 1 Wrong Marks : 0.25

वह आरेख चुनिए जो नीचे दिए गए वर्गों के बीच के संबंध का सही निरूपण करता है।

कलम, लेखन - सामग्री, लकड़ी

Options :



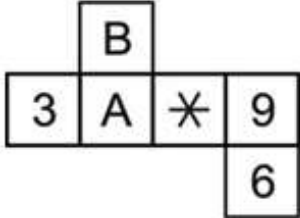


4. ✖

Question Number : 16 Question Id : 99836721148 Question Type : MCQ Option Shuffling : Yes Display Question Number : Yes Single Line Question Option : No Option Orientation : Vertical

Correct Marks : 1 Wrong Marks : 0.25

What will come opposite to face containing 3?



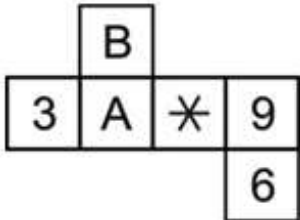
Options :

1. ✖ B
2. ✔ *
3. ✖ 9
4. ✖ 6

Question Number : 16 Question Id : 99836721148 Question Type : MCQ Option Shuffling : Yes Display Question Number : Yes Single Line Question Option : No Option Orientation : Vertical

Correct Marks : 1 Wrong Marks : 0.25

3 युक्त फलक के विपरीत क्या आएगा?



Options :

1. ✖ B
2. ✔ *
3. ✖ 9
4. ✖ 6

Question Number : 17 Question Id : 99836721149 Question Type : MCQ Option Shuffling : Yes Display Question Number : Yes Single Line Question Option : No Option Orientation : Vertical

Correct Marks : 1 Wrong Marks : 0.25

Aman starts walking towards south. He walks 40 km and takes a right turn. He then walks 50 km and takes a left turn. He then walks 60 km and takes a right turn. He then walks another 50 km before coming to stop. How far and in which direction is he from his starting point?

Options :

1. ✖ $50\sqrt{2}$ km, South-East

2. ✘ $100\sqrt{2}$ km, South-East
3. ✘ $50\sqrt{2}$ km, South-West
4. ✔ $100\sqrt{2}$ km, South-West

Question Number : 17 Question Id : 99836721149 Question Type : MCQ Option Shuffling : Yes Display Question Number : Yes
Single Line Question Option : No Option Orientation : Vertical

Correct Marks : 1 Wrong Marks : 0.25

अमन दक्षिण की ओर चलना प्रारंभ करता है वह 40 कि.मी. चलता है तथा फिर दाएँ मुड़ता है। वह फिर 50 कि.मी. चलता है तथा बाएँ मुड़ता है। वह फिर 60 कि.मी. चलता है तथा दाएँ मुड़ता है। वह रुकने से पहले फिर 50 कि.मी. और चलता है। वह अपने आरंभिक बिंदू से कितनी दूर तथा किस दिशा में है?

Options :


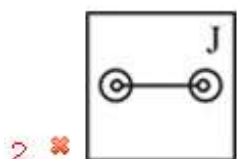
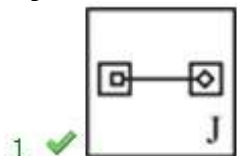
1. ✘ $50\sqrt{2}$ कि.मी., दक्षिण-पूर्व
2. ✘ $100\sqrt{2}$ कि.मी., दक्षिण-पूर्व
3. ✘ $50\sqrt{2}$ कि.मी., दक्षिण-पश्चिम
4. ✔ $100\sqrt{2}$ कि.मी., दक्षिण-पश्चिम

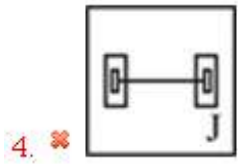
Question Number : 18 Question Id : 99836721150 Question Type : MCQ Option Shuffling : Yes Display Question Number : Yes
Single Line Question Option : No Option Orientation : Vertical

Correct Marks : 1 Wrong Marks : 0.25

In the following question, select the odd figure from the given alternatives.

Options :



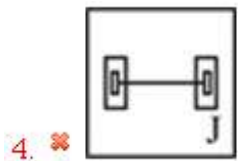
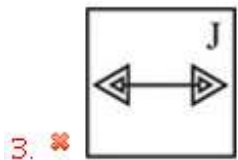
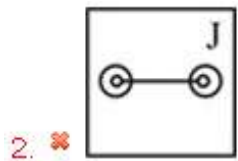
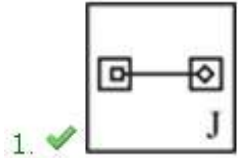


Question Number : 18 Question Id : 99836721150 Question Type : MCQ Option Shuffling : Yes Display Question Number : Yes
Single Line Question Option : No Option Orientation : Vertical

Correct Marks : 1 Wrong Marks : 0.25

निम्नलिखित प्रश्न में, दिए गए विकल्पों में से विषम आकृति को चुनिए।

Options :

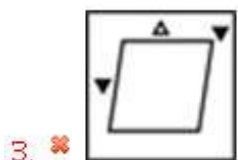


Question Number : 19 Question Id : 99836721151 Question Type : MCQ Option Shuffling : Yes Display Question Number : Yes
Single Line Question Option : No Option Orientation : Vertical

Correct Marks : 1 Wrong Marks : 0.25

In the following question, select the odd figure from the given alternatives.

Options :



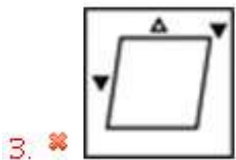
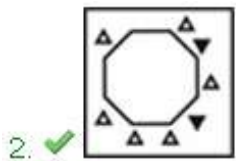


Question Number : 19 Question Id : 99836721151 Question Type : MCQ Option Shuffling : Yes Display Question Number : Yes Single Line Question Option : No Option Orientation : Vertical

Correct Marks : 1 Wrong Marks : 0.25

निम्नलिखित प्रश्न में, दिए गए विकल्पों में से विषम आकृति को चुनिए।

Options :



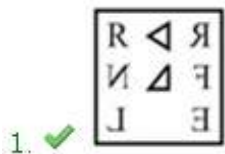
Question Number : 20 Question Id : 99836721152 Question Type : MCQ Option Shuffling : Yes Display Question Number : Yes Single Line Question Option : No Option Orientation : Vertical

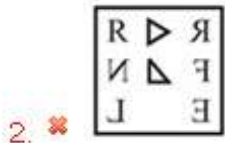
Correct Marks : 1 Wrong Marks : 0.25

If a mirror is placed on the line AB, then which of the answer figures is the right image of the given figure?



Options :

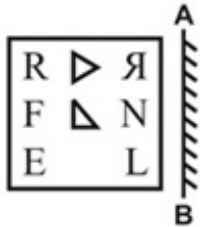




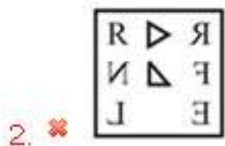
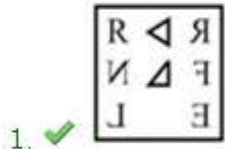
Question Number : 20 Question Id : 99836721152 Question Type : MCQ Option Shuffling : Yes Display Question Number : Yes Single Line Question Option : No Option Orientation : Vertical

Correct Marks : 1 Wrong Marks : 0.25

यदि एक दर्पण को AB रेखा पर रखा जाए, तो दी गई उत्तर आकृतियों में से कौन सी आकृति प्रश्न आकृति की सही प्रतिबिंब होगी?



Options :



Group Id :	998367791
Group Maximum Duration :	0
Group Minimum Duration :	0
Revisit allowed for view? :	No
Revisit allowed for edit? :	No
Break time:	0
Group Marks:	20
Revisit allowed for group Instructions? :	Yes
Maximum Instruction Time:	0
Minimum Instruction Time:	0

General Awareness

Section Id :	998367912
Section Number :	1
Section type :	Online
Mandatory or Optional:	Mandatory
Number of Questions:	20
Number of Questions to be attempted:	20
Section Marks:	20
Display Number Panel:	Yes
Group All Questions:	No

Sub-Section Number:	1
Sub-Section Id:	9983671152
Question Shuffling Allowed :	Yes

Question Number : 21 Question Id : 99836721153 Question Type : MCQ Option Shuffling : Yes Display Question Number : Yes
Single Line Question Option : No Option Orientation : Vertical

Correct Marks : 1 Wrong Marks : 0.25

Which of the following pair of Dance - State is NOT correct?

- I. Garba - Gujarat
- II. Lavani - Chhattisgarh
- III. Bhangra - Punjab

Options :

- 1. ✘ I and II
- 2. ✘ II and III
- 3. ✔ II
- 4. ✘ III

Question Number : 21 Question Id : 99836721153 Question Type : MCQ Option Shuffling : Yes Display Question Number : Yes
Single Line Question Option : No Option Orientation : Vertical

Correct Marks : 1 Wrong Marks : 0.25

निम्नलिखित में से कौन सी जोड़ी नृत्य - राज्य सही नहीं है?

- I. गरबा - गुजरात
- II. लावणी - छत्तीसगढ़
- III. भांगड़ा - पंजाब

Options :

- 1. ✘ I तथा II

2. ✘ II तथा III

3. ✔ II

4. ✘ III

Question Number : 22 Question Id : 99836721154 Question Type : MCQ Option Shuffling : Yes Display Question Number : Yes
Single Line Question Option : No Option Orientation : Vertical

Correct Marks : 1 Wrong Marks : 0.25

Amir Khusrau's name is associated with the invention of which musical instrument?

Options :

1. ✘ Sitar

2. ✘ Tabla

3. ✔ Both Sitar and Tabla

4. ✘ Guitar

Question Number : 22 Question Id : 99836721154 Question Type : MCQ Option Shuffling : Yes Display Question Number : Yes
Single Line Question Option : No Option Orientation : Vertical

Correct Marks : 1 Wrong Marks : 0.25

अमीर खुसरो का नाम किस वाद्य यंत्र के आविष्कार से जुड़ा है?

Options :

1. ✘ सितार

2. ✘ तबला

3. ✔ सितार और तबला दोनों

4. ✘ गिटार

Question Number : 23 Question Id : 99836721155 Question Type : MCQ Option Shuffling : Yes Display Question Number : Yes
Single Line Question Option : No Option Orientation : Vertical

Correct Marks : 1 Wrong Marks : 0.25

Gupt Godavari caves are in _____.

Options :

1. ✘ Bhopal

2. ✔ Chitrakoot

3. ✘ Lucknow

4. ✘ Kanpur

Question Number : 23 Question Id : 99836721155 Question Type : MCQ Option Shuffling : Yes Display Question Number : Yes
Single Line Question Option : No Option Orientation : Vertical

Correct Marks : 1 Wrong Marks : 0.25

गुप्त गोदावरी गुफाएँ _____ में हैं।

Options :

1. ✘ भोपाल

2. ✔ चित्रकूट

3. ✘ लखनऊ

4. ✘ कानपुर

Question Number : 24 Question Id : 99836721156 Question Type : MCQ Option Shuffling : Yes Display Question Number : Yes
Single Line Question Option : No Option Orientation : Vertical

Correct Marks : 1 Wrong Marks : 0.25

What is the full form of FII?

Options :

- ✘ Foreign Industrial Investor
- ✘ Foreign Institute Investor
- ✘ Foreign Indian Investor
- ✔ Foreign Institutional Investor

Question Number : 24 Question Id : 99836721156 Question Type : MCQ Option Shuffling : Yes Display Question Number : Yes
Single Line Question Option : No Option Orientation : Vertical

Correct Marks : 1 Wrong Marks : 0.25

FII का असंक्षिप्त रूप क्या है?

Options :

- ✘ फॉरेन इंडस्ट्रियल इन्वेस्टर
- ✘ फॉरेन इंस्टिट्यूट इन्वेस्टर
- ✘ फॉरेन इंडियन इन्वेस्टर
- ✔ फॉरेन इंस्टीट्यूशनल इन्वेस्टर

Question Number : 25 Question Id : 99836721157 Question Type : MCQ Option Shuffling : Yes Display Question Number : Yes
Single Line Question Option : No Option Orientation : Vertical

Correct Marks : 1 Wrong Marks : 0.25

Which of the following scheme was launched in Interim Budget 2019-20?

Options :

- ✘ Nirmal Bharat Abhiyan
- ✔ PradhanMantri Kisan Samman Nidhi
- ✘ MGNREGA
- ✘ UJJWALA

Question Number : 25 Question Id : 99836721157 Question Type : MCQ Option Shuffling : Yes Display Question Number : Yes
Single Line Question Option : No Option Orientation : Vertical

Correct Marks : 1 Wrong Marks : 0.25

निम्नलिखित में से कौन सी योजना अंतरिम बजट 2019-20 में शुरू की गई थी?

Options :

- ✘ निर्मल भारत अभियान
- ✔ प्रधानमंत्री किसान सम्मान निधि
- ✘ MGNREGA
- ✘ UJJWALA

Question Number : 26 Question Id : 99836721158 Question Type : MCQ Option Shuffling : Yes Display Question Number : Yes
Single Line Question Option : No Option Orientation : Vertical

Correct Marks : 1 Wrong Marks : 0.25

Which of the following motion is followed by a pendulum?

Options :

- ✘ Rectilinear
- ✘ Circular
- ✔ Periodic
- ✘ Simple

Question Number : 26 Question Id : 99836721158 Question Type : MCQ Option Shuffling : Yes Display Question Number : Yes
Single Line Question Option : No Option Orientation : Vertical

Correct Marks : 1 Wrong Marks : 0.25

निम्नलिखित में से कौन सी गति एक पेंडुलम द्वारा होती है?

Options :

1. ✘ आयताकार
2. ✘ वृताकार
3. ✔ सामयिक
4. ✘ सरल

Question Number : 27 Question Id : 99836721159 Question Type : MCQ Option Shuffling : Yes Display Question Number : Yes
Single Line Question Option : No Option Orientation : Vertical

Correct Marks : 1 Wrong Marks : 0.25

To prepare compost out of waste and garbage by the method of Vermicomposting, _____ are used.

Options :

1. ✔ Earthworms
2. ✘ Tapeworms
3. ✘ Leeches
4. ✘ Ants

Question Number : 27 Question Id : 99836721159 Question Type : MCQ Option Shuffling : Yes Display Question Number : Yes
Single Line Question Option : No Option Orientation : Vertical

Correct Marks : 1 Wrong Marks : 0.25

वर्मीकम्पोस्टिंग की विधि द्वारा कचरे से कम्पोस्ट तैयार करने के लिए, _____ का उपयोग किया जाता है।

Options :

1. ✔ केंचुआ
2. ✘ टैपवार्म
3. ✘ जोंक
4. ✘ चींटियाँ

Question Number : 28 Question Id : 99836721160 Question Type : MCQ Option Shuffling : Yes Display Question Number : Yes
Single Line Question Option : No Option Orientation : Vertical

Correct Marks : 1 Wrong Marks : 0.25

Which of the following gives red soil its colour?

Options :

1. ✔ Iron
2. ✘ Phosphorus
3. ✘ Silica
4. ✘ Nitrogen

Question Number : 28 Question Id : 99836721160 Question Type : MCQ Option Shuffling : Yes Display Question Number : Yes
Single Line Question Option : No Option Orientation : Vertical

Correct Marks : 1 Wrong Marks : 0.25

निम्नलिखित में से कौन सा लाल मृदा को उसका रंग देता है?

Options :

1. ✔ लोहा
2. ✘ फॉस्फोरस
3. ✘ सिलिका
4. ✘ नाइट्रोजन

Question Number : 29 Question Id : 99836721161 Question Type : MCQ Option Shuffling : Yes Display Question Number : Yes
Single Line Question Option : No Option Orientation : Vertical

Correct Marks : 1 Wrong Marks : 0.25

Which is the largest peninsular river of India?

Options :

1. ✘ Mahanadi
2. ✘ Narmada
3. ✔ Godavari
4. ✘ Krishna

Question Number : 29 Question Id : 99836721161 Question Type : MCQ Option Shuffling : Yes Display Question Number : Yes
Single Line Question Option : No Option Orientation : Vertical

Correct Marks : 1 Wrong Marks : 0.25

भारत की सबसे बड़ी प्रायद्वीपीय नदी कौन सी है?

Options :

1. ✘ महानदी
2. ✘ नर्मदा
3. ✔ गोदावरी
4. ✘ कृष्णा

Question Number : 30 Question Id : 99836721162 Question Type : MCQ Option Shuffling : Yes Display Question Number : Yes
Single Line Question Option : No Option Orientation : Vertical

Correct Marks : 1 Wrong Marks : 0.25

What is the shallowest part of an ocean called?

Options :

1. ✘ Continental slope
2. ✘ Deep sea plain
3. ✘ Oceanic deeps
4. ✔ Continental Shelf

Question Number : 30 Question Id : 99836721162 Question Type : MCQ Option Shuffling : Yes Display Question Number : Yes
Single Line Question Option : No Option Orientation : Vertical

Correct Marks : 1 Wrong Marks : 0.25

एक महासागर के सबसे उथले भाग को क्या कहा जाता है?

Options :

1. ✘ महाद्वीपीय ढाल
2. ✘ गहरे समुद्र का मैदान
3. ✘ महासागरीय गहरे
4. ✔ महाद्वीपीय जलसीमा

Question Number : 31 Question Id : 99836721163 Question Type : MCQ Option Shuffling : Yes Display Question Number : Yes
Single Line Question Option : No Option Orientation : Vertical

Correct Marks : 1 Wrong Marks : 0.25

Chauri Chaura incident took place in which year?

Options :

1. ✔ 1922
2. ✘ 1929
3. ✘ 1930
4. ✘ 1918

Question Number : 31 Question Id : 99836721163 Question Type : MCQ Option Shuffling : Yes Display Question Number : Yes
Single Line Question Option : No Option Orientation : Vertical

Correct Marks : 1 Wrong Marks : 0.25

चौरी चौरा की घटना किस वर्ष में हुई थी?

Options :

- ✓ 1922
- ✗ 1929
- ✗ 1930
- ✗ 1918

Question Number : 32 Question Id : 99836721164 Question Type : MCQ Option Shuffling : Yes Display Question Number : Yes
Single Line Question Option : No Option Orientation : Vertical

Correct Marks : 1 Wrong Marks : 0.25

What is the study of inscriptions called?

Options :

- ✗ Palaeography
- ✗ Numismatics
- ✓ Epigraphy
- ✗ Archaeology

Question Number : 32 Question Id : 99836721164 Question Type : MCQ Option Shuffling : Yes Display Question Number : Yes
Single Line Question Option : No Option Orientation : Vertical

Correct Marks : 1 Wrong Marks : 0.25

शिलालेखों के अध्ययन को क्या कहा जाता है?

Options :

- ✗ पुरालेखविद्या (पलेओग्राफी)
- ✗ मुद्राशास्त्र (नुमिस्मैटिक्स)
- ✓ अभिलेख (एपिग्राफी)
- ✗ पुरातत्वशास्त्र (आर्केयोलोजी)

Question Number : 33 Question Id : 99836721165 Question Type : MCQ Option Shuffling : Yes Display Question Number : Yes
Single Line Question Option : No Option Orientation : Vertical

Correct Marks : 1 Wrong Marks : 0.25

In which session of Congress, the resolution for Purna Swaraj was adopted?

Options :

- ✓ Lahore Session
- ✗ Gaya Session
- ✗ Karachi Session
- ✗ Calcutta Session

Question Number : 33 Question Id : 99836721165 Question Type : MCQ Option Shuffling : Yes Display Question Number : Yes
Single Line Question Option : No Option Orientation : Vertical

Correct Marks : 1 Wrong Marks : 0.25

कांग्रेस के किस अधिवेशन में पूर्ण स्वराज का प्रस्ताव अपनाया गया था?

Options :

- ✓ लाहौर अधिवेशन
- ✗ गया अधिवेशन
- ✗ कराची अधिवेशन
- ✗ कलकत्ता अधिवेशन

Question Number : 34 Question Id : 99836721166 Question Type : MCQ Option Shuffling : Yes Display Question Number : Yes
Single Line Question Option : No Option Orientation : Vertical

Correct Marks : 1 Wrong Marks : 0.25

In which country the headquarter of World Trade Organisation is located?

Options :

1. ✘ Canada
2. ✘ France
3. ✔ Switzerland
4. ✘ Japan

Question Number : 34 Question Id : 99836721166 Question Type : MCQ Option Shuffling : Yes Display Question Number : Yes
Single Line Question Option : No Option Orientation : Vertical

Correct Marks : 1 Wrong Marks : 0.25

विश्व व्यापार संगठन का मुख्यालय किस देश में स्थित है?

Options :

1. ✘ कनाडा
2. ✘ फ्रांस
3. ✔ स्विट्जरलैंड
4. ✘ जापान

Question Number : 35 Question Id : 99836721167 Question Type : MCQ Option Shuffling : Yes Display Question Number : Yes
Single Line Question Option : No Option Orientation : Vertical

Correct Marks : 1 Wrong Marks : 0.25

Which movie won the best motion picture Oscar in 2019?

Options :

1. ✘ Black Panther
2. ✔ Green Book
3. ✘ A Star Is Born
4. ✘ Vice

Question Number : 35 Question Id : 99836721167 Question Type : MCQ Option Shuffling : Yes Display Question Number : Yes
Single Line Question Option : No Option Orientation : Vertical

Correct Marks : 1 Wrong Marks : 0.25

2019 में सर्वश्रेष्ठ मोशन पिक्चर ऑस्कर किस फिल्म ने जीता?

Options :

1. ✘ ब्लैक पैन्थर
2. ✔ ग्रीन बुक
3. ✘ ए स्टार इज बॉर्न
4. ✘ वाईस

Question Number : 36 Question Id : 99836721168 Question Type : MCQ Option Shuffling : Yes Display Question Number : Yes
Single Line Question Option : No Option Orientation : Vertical

Correct Marks : 1 Wrong Marks : 0.25

Which of the following is the official language of India?

Options :

1. ✘ Nepali
2. ✔ Urdu
3. ✘ Arabic
4. ✘ Persian

Question Number : 36 Question Id : 99836721168 Question Type : MCQ Option Shuffling : Yes Display Question Number : Yes
Single Line Question Option : No Option Orientation : Vertical

Correct Marks : 1 Wrong Marks : 0.25

निम्नलिखित में से कौन भारत की आधिकारिक भाषा है?

Options :

1. ✘ नेपाली
2. ✔ उर्दू
3. ✘ अरबी
4. ✘ फ़ारसी

Question Number : 37 Question Id : 99836721169 Question Type : MCQ Option Shuffling : Yes Display Question Number : Yes
Single Line Question Option : No Option Orientation : Vertical

Correct Marks : 1 Wrong Marks : 0.25

Who appoints the Governor of States?

Options :

1. ✘ Chief Minister
2. ✘ Prime Minister
3. ✔ President
4. ✘ Vice President

Question Number : 37 Question Id : 99836721169 Question Type : MCQ Option Shuffling : Yes Display Question Number : Yes
Single Line Question Option : No Option Orientation : Vertical

Correct Marks : 1 Wrong Marks : 0.25

राज्यों के राज्यपाल की नियुक्ति कौन करता है?

Options :

1. ✘ मुख्यमंत्री
2. ✘ प्रधान मंत्री
3. ✔ राष्ट्रपति
4. ✘ उपाध्यक्ष

Question Number : 38 Question Id : 99836721170 Question Type : MCQ Option Shuffling : Yes Display Question Number : Yes
Single Line Question Option : No Option Orientation : Vertical

Correct Marks : 1 Wrong Marks : 0.25

Which is the apex body of Panchayats at the District Level?

Options :

1. ✘ Gram Panchayat
2. ✔ Zila Panchayat
3. ✘ Gram Sabha
4. ✘ State Government

Question Number : 38 Question Id : 99836721170 Question Type : MCQ Option Shuffling : Yes Display Question Number : Yes
Single Line Question Option : No Option Orientation : Vertical

Correct Marks : 1 Wrong Marks : 0.25

जिला स्तर पर पंचायतों की शीर्ष निकाय कौन सी है?

Options :

1. ✘ ग्राम पंचायत
2. ✔ जिला पंचायत
3. ✘ ग्राम सभा

4. ✘ राज्य सरकार

Question Number : 39 Question Id : 99836721171 Question Type : MCQ Option Shuffling : Yes Display Question Number : Yes
Single Line Question Option : No Option Orientation : Vertical

Correct Marks : 1 Wrong Marks : 0.25

_____ ने कॉमनवेल्थ गेम्स 2018 में भारत को पहला पदक दिलाया था।

Options :

1. ✔ पी. गुरुराजा
2. ✘ पी वी सिंधु
3. ✘ शेखोम मीराबाई चानू
4. ✘ नीरज चोपड़ा

Question Number : 39 Question Id : 99836721171 Question Type : MCQ Option Shuffling : Yes Display Question Number : Yes
Single Line Question Option : No Option Orientation : Vertical

Correct Marks : 1 Wrong Marks : 0.25

_____ bagged India's first medal in Commonwealth Games 2018.

Options :

1. ✔ P. Gururaja
2. ✘ P V Sindhu
3. ✘ Saikhom Mirabai chanu
4. ✘ Neeraj Chopra

Question Number : 40 Question Id : 99836721172 Question Type : MCQ Option Shuffling : Yes Display Question Number : Yes
Single Line Question Option : No Option Orientation : Vertical

Correct Marks : 1 Wrong Marks : 0.25

En Passant is related to _____ game.

Options :

1. ✘ Carrom
2. ✔ Chess
3. ✘ Hockey
4. ✘ Ludo

Question Number : 40 Question Id : 99836721172 Question Type : MCQ Option Shuffling : Yes Display Question Number : Yes
Single Line Question Option : No Option Orientation : Vertical

Correct Marks : 1 Wrong Marks : 0.25

एन पासंत, _____ खेल से संबंधित है।

Options :

1. ✘ कैरम
2. ✔ शतरंज
3. ✘ हॉकी
4. ✘ लूडो

Arithmetic Ability

Group Number :	3
Group Id :	998367792
Group Maximum Duration :	0
Group Minimum Duration :	0

Revisit allowed for view? :	No
Revisit allowed for edit? :	No
Break time:	0
Group Marks:	20
Revisit allowed for group Instructions? :	Yes
Maximum Instruction Time:	0
Minimum Instruction Time:	0

Arithmetic Ability

Section Id :	998367913
Section Number :	1
Section type :	Online
Mandatory or Optional:	Mandatory
Number of Questions:	20
Number of Questions to be attempted:	20
Section Marks:	20
Display Number Panel:	Yes
Group All Questions:	No

Sub-Section Number:	1
Sub-Section Id:	9983671153
Question Shuffling Allowed :	Yes

Question Number : 41 Question Id : 99836721173 Question Type : MCQ Option Shuffling : Yes Display Question Number : Yes
 Single Line Question Option : No Option Orientation : Vertical
 Correct Marks : 1 Wrong Marks : 0.25

What is the value of: $81^{\frac{2}{3}} \div 9^{\frac{5}{6}} \times \sqrt{27}$

Options :

1. $\frac{1}{9}$
2. $3^{\frac{5}{2}}$
3. 18
4. $9^{\frac{1}{3}}$

Question Number : 41 Question Id : 99836721173 Question Type : MCQ Option Shuffling : Yes Display Question Number : Yes
 Single Line Question Option : No Option Orientation : Vertical
 Correct Marks : 1 Wrong Marks : 0.25

$81^{\frac{2}{3}} \div 9^{\frac{5}{6}} \times \sqrt{27}$ का मान क्या है?

Options :

1. ✘ $\frac{1}{9}$

2. ✔ $3^{\frac{5}{2}}$

3. ✘ 18

4. ✘ $9^{\frac{1}{3}}$

Question Number : 42 Question Id : 99836721174 Question Type : MCQ Option Shuffling : Yes Display Question Number : Yes
Single Line Question Option : No Option Orientation : Vertical

Correct Marks : 1 Wrong Marks : 0.25

Which of the following has the least value?

Options :

1. ✔ $0.1^{0.1}$

2. ✘ 0.001

3. ✘ $\sqrt{0.001}$

4. ✘ $\frac{1}{105}$

Question Number : 42 Question Id : 99836721174 Question Type : MCQ Option Shuffling : Yes Display Question Number : Yes
Single Line Question Option : No Option Orientation : Vertical

Correct Marks : 1 Wrong Marks : 0.25

निम्नलिखित में से सबसे कम मान किसका है?

Options :

1. ✔ $0.1^{0.1}$

2. ✘ 0.001

3. ✘ $\sqrt{0.001}$

4. ✘ $\frac{1}{105}$

Question Number : 43 Question Id : 99836721175 Question Type : MCQ Option Shuffling : Yes Display Question Number : Yes
Single Line Question Option : No Option Orientation : Vertical

Correct Marks : 1 Wrong Marks : 0.25

What is the smallest 4 digit number which gives remainder of 2, 4 and 5 when divided by 13, 15 and 16 respectively?

Options :

1. ✘ 4625
2. ✘ 1209
3. ✔ 3109
4. ✘ 3209

Question Number : 43 Question Id : 99836721175 Question Type : MCQ Option Shuffling : Yes Display Question Number : Yes Single Line Question Option : No Option Orientation : Vertical

Correct Marks : 1 Wrong Marks : 0.25

4 अंकों की सबसे छोटी संख्या क्या है, जो 13, 15 तथा 16 से विभाजित होने पर क्रमशः 2, 4 तथा 5 शेषफल देगी?

Options :

1. ✘ 4625
2. ✘ 1209
3. ✔ 3109
4. ✘ 3209

Question Number : 44 Question Id : 99836721176 Question Type : MCQ Option Shuffling : Yes Display Question Number : Yes Single Line Question Option : No Option Orientation : Vertical

Correct Marks : 1 Wrong Marks : 0.25

The marked price of an article is Rs. 1250 and a discount of 20% is given on it. What is the selling price of the article?

Options :

1. ✘ Rs. 1100
2. ✔ Rs. 1000
3. ✘ Rs. 900
4. ✘ Rs. 1050

Question Number : 44 Question Id : 99836721176 Question Type : MCQ Option Shuffling : Yes Display Question Number : Yes Single Line Question Option : No Option Orientation : Vertical

Correct Marks : 1 Wrong Marks : 0.25

एक वस्तु का अंकित मूल्य 1250 रुपये है तथा उस पर 20% की छूट दी गई है। वस्तु का विक्रय मूल्य क्या है?

Options :

1. ✘ 1100 रुपये
2. ✔ 1000 रुपये
3. ✘ 900 रुपये
4. ✘ 1050 रुपये

Question Number : 45 Question Id : 99836721177 Question Type : MCQ Option Shuffling : Yes Display Question Number : Yes Single Line Question Option : No Option Orientation : Vertical

Correct Marks : 1 Wrong Marks : 0.25

A vendor buys an article for Rs. 840 and wants to gain 15% after selling it at a discount of 8%. What should be the marked price of the article?

Options :

1. ✘ Rs. 1000
2. ✘ Rs. 1100
3. ✔ Rs. 1050

4. ✖ Rs. 980

Question Number : 45 Question Id : 99836721177 Question Type : MCQ Option Shuffling : Yes Display Question Number : Yes
Single Line Question Option : No Option Orientation : Vertical

Correct Marks : 1 Wrong Marks : 0.25

एक विक्रेता एक वस्तु को 840 रुपये का खरीदता है तथा उसे 8% की छूट पर के पश्चात, 15% लाभ कमाना चाहता है। वस्तु का अंकित मूल्य क्या होना चाहिए?

Options :

1. ✖ 1000 रुपये
2. ✖ 1100 रुपये
3. ✔ 1050 रुपये
4. ✖ 980 रुपये

Question Number : 46 Question Id : 99836721178 Question Type : MCQ Option Shuffling : Yes Display Question Number : Yes
Single Line Question Option : No Option Orientation : Vertical

Correct Marks : 1 Wrong Marks : 0.25

If A's marks are 12.5% of B's marks, then B's marks are what percent of A's marks?

Options :

1. ✖ 105 percent
2. ✔ 800 percent
3. ✖ 85 percent
4. ✖ 100 percent

Question Number : 46 Question Id : 99836721178 Question Type : MCQ Option Shuffling : Yes Display Question Number : Yes
Single Line Question Option : No Option Orientation : Vertical

Correct Marks : 1 Wrong Marks : 0.25

यदि A के अंक, B के अंक के 12.5% हैं, तो B के अंक A के अंक के कितने प्रतिशत हैं?

Options :

1. ✖ 105 प्रतिशत
2. ✔ 800 प्रतिशत
3. ✖ 85 प्रतिशत
4. ✖ 100 प्रतिशत

Question Number : 47 Question Id : 99836721179 Question Type : MCQ Option Shuffling : Yes Display Question Number : Yes
Single Line Question Option : No Option Orientation : Vertical

Correct Marks : 1 Wrong Marks : 0.25

If 70 is subtracted from 70% of a number, then result will be 420. What is the number?

Options :

1. ✖ 560
2. ✔ 700
3. ✖ 490
4. ✖ 600

Question Number : 47 Question Id : 99836721179 Question Type : MCQ Option Shuffling : Yes Display Question Number : Yes
Single Line Question Option : No Option Orientation : Vertical

Correct Marks : 1 Wrong Marks : 0.25

यदि एक संख्या के 70% में से 70 को घटा दिया जाए, तो परिणाम 420 होगा। संख्या क्या है?

Options :

1. ✖ 560

2. ✓ 700
3. ✗ 490
4. ✗ 600

Question Number : 48 Question Id : 99836721180 Question Type : MCQ Option Shuffling : Yes Display Question Number : Yes Single Line Question Option : No Option Orientation : Vertical

Correct Marks : 1 Wrong Marks : 0.25

A student got 22% marks in an exam and failed by 55 marks. Another student got 35% marks and his marks are 10 more than the minimum passing marks. What is the percentage for minimum passing marks and what is the maximum marks for the exam?

Options :

1. ✗ 25%, 600
2. ✗ 30%, 400
3. ✓ 33%, 500
4. ✗ 30%, 500

Question Number : 48 Question Id : 99836721180 Question Type : MCQ Option Shuffling : Yes Display Question Number : Yes Single Line Question Option : No Option Orientation : Vertical

Correct Marks : 1 Wrong Marks : 0.25

एक छात्र परीक्षा में 22% अंक प्राप्त करता है तथा 55 अंक से अनुत्तीर्ण हो जाता है। दूसरा छात्र 35% अंक प्राप्त करता है तथा उसके अंक न्यूनतम उत्तीर्ण अंक से 10 अधिक है। न्यूनतम उत्तीर्ण अंक की प्रतिशत क्या है तथा परीक्षा के लिए अधिकतम अंक क्या है?

Options :

1. ✗ 25%, 600
2. ✗ 30%, 400
3. ✓ 33%, 500
4. ✗ 30%, 500

Question Number : 49 Question Id : 99836721181 Question Type : MCQ Option Shuffling : Yes Display Question Number : Yes Single Line Question Option : No Option Orientation : Vertical

Correct Marks : 1 Wrong Marks : 0.25

Anil sold a table and a chair each for Rs. 1000 each. He incurred 10% loss on the table and earned 10% profit on the chair. What is his overall profit / loss percentage?

Options :

1. ✗ 10% profit
2. ✗ 0.1% loss
3. ✓ 1% loss
4. ✗ 1.1% profit

Question Number : 49 Question Id : 99836721181 Question Type : MCQ Option Shuffling : Yes Display Question Number : Yes Single Line Question Option : No Option Orientation : Vertical

Correct Marks : 1 Wrong Marks : 0.25

अनिल एक मेज़ तथा कुर्सी प्रत्येक को 1000 रुपये की बेचता है। उसे मेज़ पर 10% की हानि तथा कुर्सी पर 10% का लाभ होता है। उसका लाभ/हानि प्रतिशत क्या है?

Options :

1. ✗ 10% लाभ
2. ✗ 0.1% हानि
3. ✓ 1% हानि
4. ✗ 1.1% लाभ

Question Number : 50 Question Id : 99836721182 Question Type : MCQ Option Shuffling : Yes Display Question Number : Yes
Single Line Question Option : No Option Orientation : Vertical

Correct Marks : 1 Wrong Marks : 0.25

Two numbers are in the ratio 3 : 4. If their difference is 7, then what is their sum?

Options :

1. ✓ 49

2. ✗ 56

3. ✗ 35

4. ✗ 50

Question Number : 50 Question Id : 99836721182 Question Type : MCQ Option Shuffling : Yes Display Question Number : Yes
Single Line Question Option : No Option Orientation : Vertical

Correct Marks : 1 Wrong Marks : 0.25

दो संख्याएँ 3 : 4 के अनुपात में हैं। यदि उनका अंतर 7 है, तो उनका योग क्या है?

Options :

1. ✓ 49

2. ✗ 56

3. ✗ 35

4. ✗ 50

Question Number : 51 Question Id : 99836721183 Question Type : MCQ Option Shuffling : Yes Display Question Number : Yes
Single Line Question Option : No Option Orientation : Vertical

Correct Marks : 1 Wrong Marks : 0.25

The ratio of two numbers is 6 : 11. If 5 is subtracted from each number, their ratio becomes 1:2. What is their difference?

Options :

1. ✓ 25

2. ✗ 30

3. ✗ 20

4. ✗ 28

Question Number : 51 Question Id : 99836721183 Question Type : MCQ Option Shuffling : Yes Display Question Number : Yes
Single Line Question Option : No Option Orientation : Vertical

Correct Marks : 1 Wrong Marks : 0.25

दो संख्याओं का अनुपात 6 : 11 है। यदि प्रत्येक संख्या से 5 घटा दिया जाए तो उनका अनुपात 1 : 2 हो जाता है। उनका अंतर क्या है?

Options :

1. ✓ 25

2. ✗ 30

3. ✗ 20

4. ✗ 28

Question Number : 52 Question Id : 99836721184 Question Type : MCQ Option Shuffling : Yes Display Question Number : Yes
Single Line Question Option : No Option Orientation : Vertical

Correct Marks : 1 Wrong Marks : 0.25

A, B and C have money in the ratio of 6 : 6 : 7 respectively. Total money of A and B is 20 more than the C's money. How much money does B have?

Options :

1. ✓ 24

2. ✗ 36

3. ✖ 60
4. ✖ 54

Question Number : 52 Question Id : 99836721184 Question Type : MCQ Option Shuffling : Yes Display Question Number : Yes Single Line Question Option : No Option Orientation : Vertical

Correct Marks : 1 Wrong Marks : 0.25

A, B तथा C के पास क्रमशः 6 : 6 : 7 के अनुपात में धन है। A तथा B का कुल धन, C के धन से 20 अधिक है। B के पास कितना धन है?

Options :

1. ✔ 24
2. ✖ 36
3. ✖ 60
4. ✖ 54

Question Number : 53 Question Id : 99836721185 Question Type : MCQ Option Shuffling : Yes Display Question Number : Yes Single Line Question Option : No Option Orientation : Vertical

Correct Marks : 1 Wrong Marks : 0.25

What will be the simple interest on a sum of Rs. 9000 for 3 years at the rate of 10% per annum?

Options :

1. ✖ Rs. 2100
2. ✖ Rs. 2500
3. ✖ Rs. 2400
4. ✔ Rs. 2700

Question Number : 53 Question Id : 99836721185 Question Type : MCQ Option Shuffling : Yes Display Question Number : Yes Single Line Question Option : No Option Orientation : Vertical

Correct Marks : 1 Wrong Marks : 0.25

एक 9000 रुपये की राशि पर 10% प्रति वर्ष की ब्याज दर से 3 वर्षों का साधारण ब्याज क्या होगा?

Options :

1. ✖ 2100 रुपये
2. ✖ 2500 रुपये
3. ✖ 2400 रुपये
4. ✔ 2700 रुपये

Question Number : 54 Question Id : 99836721186 Question Type : MCQ Option Shuffling : Yes Display Question Number : Yes Single Line Question Option : No Option Orientation : Vertical

Correct Marks : 1 Wrong Marks : 0.25

A person covers first 1500 metres of his journey in 500 second and he covers next 2500 metres in 1500 seconds. What is the average speed of the person for the journey?

Options :

1. ✖ 8.2 km/hr
2. ✖ 6.5 km/hr
3. ✔ 7.2 km/hr
4. ✖ 6.6 km/hr

Question Number : 54 Question Id : 99836721186 Question Type : MCQ Option Shuffling : Yes Display Question Number : Yes Single Line Question Option : No Option Orientation : Vertical

Correct Marks : 1 Wrong Marks : 0.25

एक व्यक्ति अपनी यात्रा का पहला 1500 मीटर, 500 सेकण्ड में तय करता है तथा वह अगला 2500 मीटर, 1500 सेकण्ड में तय करता है। यात्रा के लिए व्यक्ति की औसत गति क्या है?

Options :

- ✘ 8.2 कि.मी./घंटा
- ✘ 6.5 कि.मी./घंटा
- ✔ 7.2 कि.मी./घंटा
- ✘ 6.6 कि.मी./घंटा

Question Number : 55 Question Id : 99836721187 Question Type : MCQ Option Shuffling : Yes Display Question Number : Yes
Single Line Question Option : No Option Orientation : Vertical

Correct Marks : 1 Wrong Marks : 0.25

Disha can do $\frac{2}{5}$ th part of a work in 4 days. In how many days can she complete the total work?

Options :

- ✘ 20 days
- ✔ 10 days
- ✘ 15 days
- ✘ 25 days

Question Number : 55 Question Id : 99836721187 Question Type : MCQ Option Shuffling : Yes Display Question Number : Yes
Single Line Question Option : No Option Orientation : Vertical

Correct Marks : 1 Wrong Marks : 0.25

दिशा एक कार्य का $\frac{2}{5}$ वाँ भाग 4 दिन में पूरा कर सकती है। वह कुल कार्य कितने दिन में पूरा कर सकती है?

Options :

- ✘ 20 दिन
- ✔ 10 दिन
- ✘ 15 दिन
- ✘ 25 दिन

Question Number : 56 Question Id : 99836721188 Question Type : MCQ Option Shuffling : Yes Display Question Number : Yes
Single Line Question Option : No Option Orientation : Vertical

Correct Marks : 1 Wrong Marks : 0.25

A can do $\frac{1}{4}$ th part of a work in 8 days. B can do $\frac{2}{3}$ rd part of same work in 12 days. If they both work together and earn a total amount of Rs. 1000, then what is the difference between the profit share of A and B?

Options :

- ✘ Rs. 360
- ✘ Rs. 250
- ✔ Rs. 280
- ✘ Rs. 180

Question Number : 56 Question Id : 99836721188 Question Type : MCQ Option Shuffling : Yes Display Question Number : Yes
Single Line Question Option : No Option Orientation : Vertical

Correct Marks : 1 Wrong Marks : 0.25

A एक कार्य का $\frac{1}{4}$ वाँ भाग 8 दिन में कर सकता है। B समान कार्य का $\frac{2}{3}$ वाँ भाग 12 दिन में कर सकता है। यदि वे दोनों साथ कार्य करते हैं तथा कुल 1000 रुपये की राशि प्राप्त करते हैं, तो A तथा B के लाभ के हिस्से के बीच का अंतर क्या है?

Options :

- ✘ 360 रुपये
- ✘ 250 रुपये
- ✔ 280 रुपये
- ✘ 180 रुपये

Question Number : 57 Question Id : 99836721189 Question Type : MCQ Option Shuffling : Yes Display Question Number : Yes
Single Line Question Option : No Option Orientation : Vertical

Correct Marks : 1 Wrong Marks : 0.25

The length, breadth and height of a box are 12 cm, 10 cm and 6 cm respectively. What is the cost of painting the box on all its faces at the rate of Rs. 12 cm²?

Options :

1. ✘ Rs. 5500
2. ✔ Rs. 6048
3. ✘ Rs. 6280
4. ✘ Rs. 6560

Question Number : 57 Question Id : 99836721189 Question Type : MCQ Option Shuffling : Yes Display Question Number : Yes
Single Line Question Option : No Option Orientation : Vertical

Correct Marks : 1 Wrong Marks : 0.25

एक बक्से की लंबाई, चौड़ाई तथा ऊँचाई क्रमशः 12 से.मी., 10 से.मी. तथा 6 से.मी. है। 12 से.मी.² रुपयों की दर से बक्से के सभी फलकों को रंगाने की लागत क्या है?

Options :

1. ✘ 5500 रुपये
2. ✔ 6048 रुपये
3. ✘ 6280 रुपये
4. ✘ 6560 रुपये

Question Number : 58 Question Id : 99836721190 Question Type : MCQ Option Shuffling : Yes Display Question Number : Yes
Single Line Question Option : No Option Orientation : Vertical

Correct Marks : 1 Wrong Marks : 0.25

The ratio of surface area of two sphere is 81 : 1. What is ratio of the radii of the spheres?

Options :

1. ✘ 3 : 1
2. ✔ 9 : 1
3. ✘ 27 : 1
4. ✘ 21 : 1

Question Number : 58 Question Id : 99836721190 Question Type : MCQ Option Shuffling : Yes Display Question Number : Yes
Single Line Question Option : No Option Orientation : Vertical

Correct Marks : 1 Wrong Marks : 0.25

दो गोलों के पृष्ठीय क्षेत्रफल का अनुपात 81 : 1 है। इनकी त्रिज्यों का अनुपात क्या है?

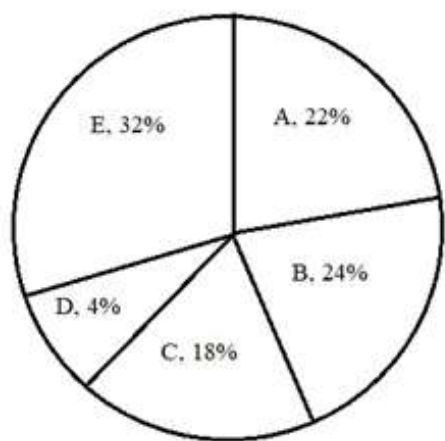
Options :

1. ✘ 3 : 1
2. ✔ 9 : 1
3. ✘ 27 : 1
4. ✘ 21 : 1

Question Number : 59 Question Id : 99836721191 Question Type : MCQ Option Shuffling : Yes Display Question Number : Yes
Single Line Question Option : No Option Orientation : Vertical

Correct Marks : 1 Wrong Marks : 0.25

The pie chart given below shows the percentage of matches played by different teams in a world cup.



If the total matches played in a world cup is 200, then what is the number of matches played by team B?

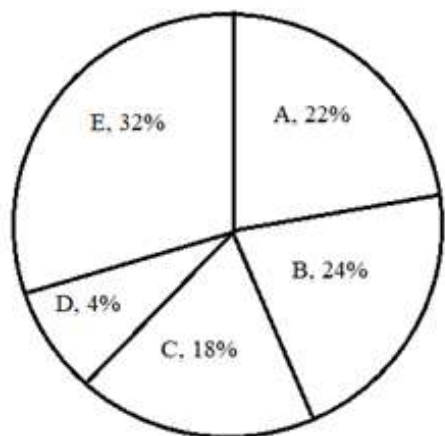
Options :

1. ✘ 24
2. ✘ 42
3. ✔ 48
4. ✘ 32

Question Number : 59 Question Id : 99836721191 Question Type : MCQ Option Shuffling : Yes Display Question Number : Yes Single Line Question Option : No Option Orientation : Vertical

Correct Marks : 1 Wrong Marks : 0.25

नीचे दिया वृत्त चित्र विश्व कप में विभिन्न टीम द्वारा खेले गए मैचों की प्रतिशत को दर्शाता है।



यदि विश्व कप में कुल 200 मैच खेले गए हैं, तो टीम B द्वारा खेले गए मैचों की संख्या क्या है?

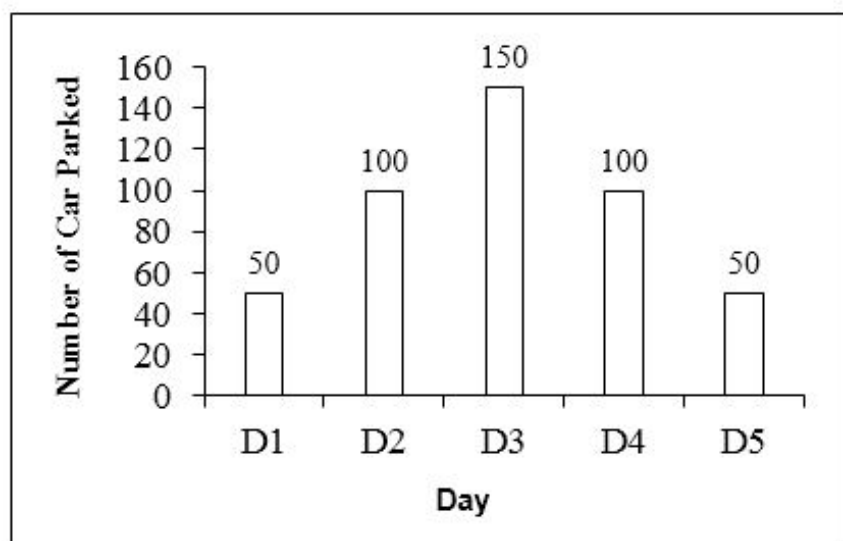
Options :

1. ✘ 24
2. ✘ 42
3. ✔ 48
4. ✘ 32

Question Number : 60 Question Id : 99836721192 Question Type : MCQ Option Shuffling : Yes Display Question Number : Yes Single Line Question Option : No Option Orientation : Vertical

Correct Marks : 1 Wrong Marks : 0.25

The bar graph given below shows the number of cars parked for five days.



What is the sum total number of cars parked on all the days?

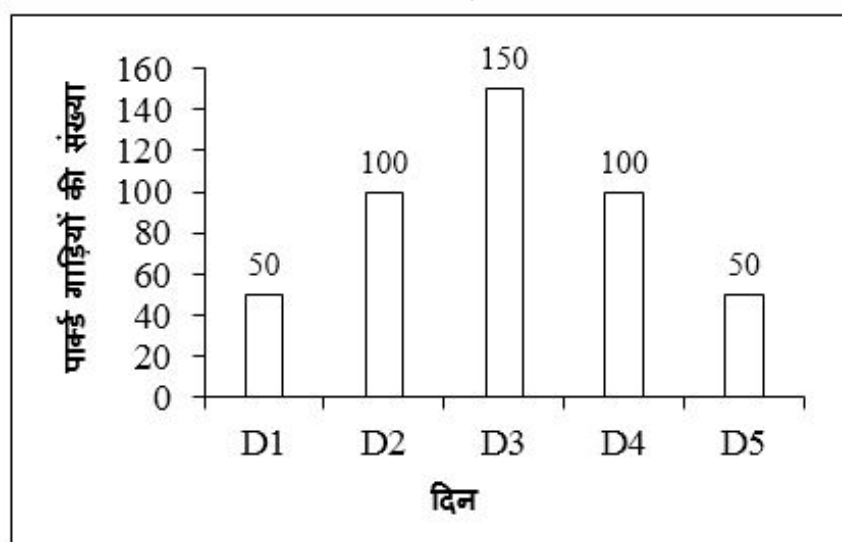
Options :

- ✘ 350
- ✘ 375
- ✘ 400
- ✔ 450

Question Number : 60 Question Id : 99836721192 Question Type : MCQ Option Shuffling : Yes Display Question Number : Yes Single Line Question Option : No Option Orientation : Vertical

Correct Marks : 1 Wrong Marks : 0.25

नीचे दिया गया दण्ड चित्र पाँच दिन के लिए खड़ी की गई कारों की संख्या को दर्शाता है।



सभी दिन पर खड़ी की गई कारों की कुल संख्या का योग क्या है?

Options :

- ✘ 350
- ✘ 375
- ✘ 400
- ✔ 450

General English

Group Number :	4
Group Id :	998367793
Group Maximum Duration :	0
Group Minimum Duration :	0
Revisit allowed for view? :	No
Revisit allowed for edit? :	No
Break time:	0
Group Marks:	20
Revisit allowed for group Instructions? :	Yes
Maximum Instruction Time:	0
Minimum Instruction Time:	0

General English

Section Id :	998367914
Section Number :	1
Section type :	Online
Mandatory or Optional:	Mandatory
Number of Questions:	16
Number of Questions to be attempted:	16
Section Marks:	20
Display Number Panel:	Yes
Group All Questions:	No

Sub-Section Number:	1
Sub-Section Id:	9983671154
Question Shuffling Allowed :	Yes

Question Number : 61 Question Id : 99836721193 Question Type : MCQ Option Shuffling : Yes Display Question Number : Yes
Single Line Question Option : No Option Orientation : Vertical
Correct Marks : 1 Wrong Marks : 0.25

Find the part of the given sentence that has an error in it. If there is no error, choose 'No error'.

Ten thousand (1) / rupees are (2) / a large sum (3) /. NE (4)

Options :

1. ✘ 1

2. ✔ 2

3. ✘ 3

4. ✘ 4

Question Number : 61 Question Id : 99836721193 Question Type : MCQ Option Shuffling : Yes Display Question Number : Yes
Single Line Question Option : No Option Orientation : Vertical
Correct Marks : 1 Wrong Marks : 0.25

Find the part of the given sentence that has an error in it. If there is no error, choose 'No error'.

Ten thousand (1) / rupees are (2) / a large sum (3) /. NE (4)

Options :

1. ✘ 1

2. ✔ 2

3. ✖ 3

4. ✖ 4

Question Number : 62 Question Id : 99836721194 Question Type : MCQ Option Shuffling : Yes Display Question Number : Yes
Single Line Question Option : No Option Orientation : Vertical

Correct Marks : 1 Wrong Marks : 0.25

Identify a statement that contains an error.

Options :

1. ✖ The orator and the statesman are dead

2. ✔ Each boy and girl were given a try

3. ✖ Either you or he is to blame

4. ✖ The United States has a big navy

Question Number : 62 Question Id : 99836721194 Question Type : MCQ Option Shuffling : Yes Display Question Number : Yes
Single Line Question Option : No Option Orientation : Vertical

Correct Marks : 1 Wrong Marks : 0.25

Identify a statement that contains an error.

Options :

1. ✖ The orator and the statesman are dead

2. ✔ Each boy and girl were given a try

3. ✖ Either you or he is to blame

4. ✖ The United States has a big navy

Question Number : 63 Question Id : 99836721195 Question Type : MCQ Option Shuffling : Yes Display Question Number : Yes
Single Line Question Option : No Option Orientation : Vertical

Correct Marks : 1 Wrong Marks : 0.25

Improve the bracketed part of the sentence.

She has decided to resign and work (for her own).

Options :

1. ✖ for his own

2. ✖ for himself

3. ✔ for herself

4. ✖ No improvement

Question Number : 63 Question Id : 99836721195 Question Type : MCQ Option Shuffling : Yes Display Question Number : Yes
Single Line Question Option : No Option Orientation : Vertical

Correct Marks : 1 Wrong Marks : 0.25

Improve the bracketed part of the sentence.

She has decided to resign and work (for her own).

Options :

1. ✖ for his own

2. ✖ for himself

3. ✔ for herself

4. ✖ No improvement

Question Number : 64 Question Id : 99836721196 Question Type : MCQ Option Shuffling : Yes Display Question Number : Yes
Single Line Question Option : No Option Orientation : Vertical

Correct Marks : 1 Wrong Marks : 0.25

Improve the bracketed part of the sentence.

I want to write some letters (so) I don't have a paper to write on.

Options :

1. ✓ but
2. ✗ since
3. ✗ as
4. ✗ No improvement

Question Number : 64 Question Id : 99836721196 Question Type : MCQ Option Shuffling : Yes Display Question Number : Yes
Single Line Question Option : No Option Orientation : Vertical

Correct Marks : 1 Wrong Marks : 0.25

Improve the bracketed part of the sentence.

I want to write some letters (so) I don't have a paper to write on.

Options :

1. ✓ but
2. ✗ since
3. ✗ as
4. ✗ No improvement

Question Number : 65 Question Id : 99836721197 Question Type : MCQ Option Shuffling : Yes Display Question Number : Yes
Single Line Question Option : No Option Orientation : Vertical

Correct Marks : 1 Wrong Marks : 0.25

Improve the bracketed part of the sentence.

We enjoyed a very good weather while we were (to) holiday.

Options :

1. ✗ in
2. ✓ on
3. ✗ over
4. ✗ No improvement

Question Number : 65 Question Id : 99836721197 Question Type : MCQ Option Shuffling : Yes Display Question Number : Yes
Single Line Question Option : No Option Orientation : Vertical

Correct Marks : 1 Wrong Marks : 0.25

Improve the bracketed part of the sentence.

We enjoyed a very good weather while we were (to) holiday.

Options :

1. ✗ in
2. ✓ on
3. ✗ over
4. ✗ No improvement

Question Number : 66 Question Id : 99836721198 Question Type : MCQ Option Shuffling : Yes Display Question Number : Yes
Single Line Question Option : No Option Orientation : Vertical

Correct Marks : 1 Wrong Marks : 0.25

The question below consists of a set of labeled sentences. Out of the four options given, select the most logical order of the sentences to form a coherent paragraph.

P: As a result some people may see a doctor with the complaint of headache.

Q: Everyone develops headache.

R: Whereas, some people may apply a balm on the forehead to remove the pain.

S: Thereupon, headache causes a lot of inconvenience.

Options :

1. ✘ PQRS

2. ✘ QSRP

3. ✔ QSPR

4. ✘ QPSR

Question Number : 66 Question Id : 99836721198 Question Type : MCQ Option Shuffling : Yes Display Question Number : Yes Single Line Question Option : No Option Orientation : Vertical

Correct Marks : 1 Wrong Marks : 0.25

The question below consists of a set of labeled sentences. Out of the four options given, select the most logical order of the sentences to form a coherent paragraph.

P: As a result some people may see a doctor with the complaint of headache.

Q: Everyone develops headache.

R: Whereas, some people may apply a balm on the forehead to remove the pain.

S: Thereupon, headache causes a lot of inconvenience.

Options :

1. ✘ PQRS

2. ✘ QSRP

3. ✔ QSPR

4. ✘ QPSR

Question Number : 67 Question Id : 99836721199 Question Type : MCQ Option Shuffling : Yes Display Question Number : Yes Single Line Question Option : No Option Orientation : Vertical

Correct Marks : 1 Wrong Marks : 0.25

Choose the word that means the same as the given word.

Vacant

Options :

1. ✘ Comforting

2. ✘ Applaud

3. ✔ Desolate

4. ✘ Restored

Question Number : 67 Question Id : 99836721199 Question Type : MCQ Option Shuffling : Yes Display Question Number : Yes Single Line Question Option : No Option Orientation : Vertical

Correct Marks : 1 Wrong Marks : 0.25

Choose the word that means the same as the given word.

Vacant

Options :

1. ✘ Comforting

2. ✘ Applaud

3. ✔ Desolate

4. ✘ Restored

Question Number : 68 Question Id : 99836721200 Question Type : MCQ Option Shuffling : Yes Display Question Number : Yes
Single Line Question Option : No Option Orientation : Vertical

Correct Marks : 1 Wrong Marks : 0.25

Choose the word that is opposite in meaning to the given word.

Radical

Options :

1. ✘ Organic
2. ✘ Basal
3. ✘ Natural
4. ✔ Moderate

Question Number : 68 Question Id : 99836721200 Question Type : MCQ Option Shuffling : Yes Display Question Number : Yes
Single Line Question Option : No Option Orientation : Vertical

Correct Marks : 1 Wrong Marks : 0.25

Choose the word that is opposite in meaning to the given word.

Radical

Options :

1. ✘ Organic
2. ✘ Basal
3. ✘ Natural
4. ✔ Moderate

Question Number : 69 Question Id : 99836721201 Question Type : MCQ Option Shuffling : Yes Display Question Number : Yes
Single Line Question Option : No Option Orientation : Vertical

Correct Marks : 1 Wrong Marks : 0.25

In the given question, four words are given out of which one word is correctly spelt. Choose the correctly spelt word.

Options :

1. ✔ Ambiguity
2. ✘ Embiguity
3. ✘ Ambeguity
4. ✘ Ambiguety

Question Number : 69 Question Id : 99836721201 Question Type : MCQ Option Shuffling : Yes Display Question Number : Yes
Single Line Question Option : No Option Orientation : Vertical

Correct Marks : 1 Wrong Marks : 0.25

In the given question, four words are given out of which one word is correctly spelt. Choose the correctly spelt word.

Options :

1. ✔ Ambiguity
2. ✘ Embiguity
3. ✘ Ambeguity
4. ✘ Ambiguety

Question Number : 70 Question Id : 99836721202 Question Type : MCQ Option Shuffling : Yes Display Question Number : Yes
Single Line Question Option : No Option Orientation : Vertical

Correct Marks : 1 Wrong Marks : 0.25

In the given question, four words are given out of which one word is correctly spelt. Choose the correctly spelt word.

Options :

1. ✘ Restriketd
2. ✔ Subtle
3. ✘ Cunfinement
4. ✘ Domastic

Question Number : 70 Question Id : 99836721202 Question Type : MCQ Option Shuffling : Yes Display Question Number : Yes Single Line Question Option : No Option Orientation : Vertical

Correct Marks : 1 Wrong Marks : 0.25

In the given question, four words are given out of which one word is correctly spelt. Choose the correctly spelt word.

Options :

1. ✘ Restriketd
2. ✔ Subtle
3. ✘ Cunfinement
4. ✘ Domastic

Question Number : 71 Question Id : 99836721203 Question Type : MCQ Option Shuffling : Yes Display Question Number : Yes Single Line Question Option : No Option Orientation : Vertical

Correct Marks : 1 Wrong Marks : 0.25

In the given question, four words are given out of which one word is correctly spelt. Choose the correctly spelt word.

Options :

1. ✘ Mispell
2. ✘ Supercede
3. ✔ Severely
4. ✘ Utrance

Question Number : 71 Question Id : 99836721203 Question Type : MCQ Option Shuffling : Yes Display Question Number : Yes Single Line Question Option : No Option Orientation : Vertical

Correct Marks : 1 Wrong Marks : 0.25

In the given question, four words are given out of which one word is correctly spelt. Choose the correctly spelt word.

Options :

1. ✘ Mispell
2. ✘ Supercede
3. ✔ Severely
4. ✘ Utrance

Question Number : 72 Question Id : 99836721204 Question Type : MCQ Option Shuffling : Yes Display Question Number : Yes Single Line Question Option : No Option Orientation : Vertical

Correct Marks : 1 Wrong Marks : 0.25

In the following question, out of the given four alternatives, select the alternative which best expresses the meaning of the Idiom / Phrase.

To put cart before the house

Options :

1. ✓ To do things in the reverse/wrong order
2. ✗ To dream of big things about the future
3. ✗ To infuriate someone
4. ✗ Right to the end despite difficulties

Question Number : 72 Question Id : 99836721204 Question Type : MCQ Option Shuffling : Yes Display Question Number : Yes
Single Line Question Option : No Option Orientation : Vertical

Correct Marks : 1 Wrong Marks : 0.25

In the following question, out of the given four alternatives, select the alternative which best expresses the meaning of the Idiom / Phrase.

To put cart before the house

Options :

1. ✓ To do things in the reverse/wrong order
2. ✗ To dream of big things about the future
3. ✗ To infuriate someone
4. ✗ Right to the end despite difficulties

Question Number : 73 Question Id : 99836721205 Question Type : MCQ Option Shuffling : Yes Display Question Number : Yes
Single Line Question Option : No Option Orientation : Vertical

Correct Marks : 1 Wrong Marks : 0.25

Fill in the blank with the best option.

Sanya is _____ with her friends.

Options :

1. ✓ building castles in the air
2. ✗ making one blood boil
3. ✗ blessing in disguise
4. ✗ break a leg

Question Number : 73 Question Id : 99836721205 Question Type : MCQ Option Shuffling : Yes Display Question Number : Yes
Single Line Question Option : No Option Orientation : Vertical

Correct Marks : 1 Wrong Marks : 0.25

Fill in the blank with the best option.

Sanya is _____ with her friends.

Options :

1. ✓ building castles in the air
2. ✗ making one blood boil
3. ✗ blessing in disguise
4. ✗ break a leg

Question Number : 74 Question Id : 99836721206 Question Type : MCQ Option Shuffling : Yes Display Question Number : Yes
Single Line Question Option : No Option Orientation : Vertical

Correct Marks : 1 Wrong Marks : 0.25

Choose the word that can substitute the given sentence.

Done at the same time

Options :

1. ✗ Fatalism

2. ✘ Brittle
3. ✔ Simultaneous
4. ✘ Rhetoric

Question Number : 74 Question Id : 99836721206 Question Type : MCQ Option Shuffling : Yes Display Question Number : Yes
Single Line Question Option : No Option Orientation : Vertical

Correct Marks : 1 Wrong Marks : 0.25

Choose the word that can substitute the given sentence.

Done at the same time

Options :

1. ✘ Fatalism
2. ✘ Brittle
3. ✔ Simultaneous
4. ✘ Rhetoric

Question Number : 75 Question Id : 99836721207 Question Type : MCQ Option Shuffling : Yes Display Question Number : Yes
Single Line Question Option : No Option Orientation : Vertical

Correct Marks : 1 Wrong Marks : 0.25

Choose the word that can substitute the given sentence.

A speech delivered for the first time.

Options :

1. ✔ Maiden
2. ✘ Cascade
3. ✘ Olfactory
4. ✘ Anarchist

Question Number : 75 Question Id : 99836721207 Question Type : MCQ Option Shuffling : Yes Display Question Number : Yes
Single Line Question Option : No Option Orientation : Vertical

Correct Marks : 1 Wrong Marks : 0.25

Choose the word that can substitute the given sentence.

A speech delivered for the first time.

Options :

1. ✔ Maiden
2. ✘ Cascade
3. ✘ Olfactory
4. ✘ Anarchist

Sub-Section Number:	2
Sub-Section Id:	9983671155
Question Shuffling Allowed :	Yes

Question Id : 99836721208 Question Type : COMPREHENSION Sub Question Shuffling Allowed : Yes Group Comprehension
Questions : No

Question Numbers : (76 to 80)

Question Label : Comprehension

Read the following information carefully and answer the given questions:

Susan Diane Wojcicki is a Polish–American technology executive. She has been the CEO of YouTube since February 2014. Wojcicki was involved in the founding of Google and became Google's first marketing manager in 1999. She was in charge of Google's original video service, and after observing the success of YouTube, she proposed the acquisition of YouTube by Google in 2006.

Wojcicki has an estimated net worth of nearly \$500 million. Wojcicki is the daughter of Esther Wojcicki, an educator of Russian–Jewish descent, and Stanley Wojcicki, a Polish American physics professor at Stanford University. She has two sisters: Janet Wojcicki, (Ph.D., anthropologist and epidemiologist) and Anne Wojcicki, founder of 23andMe. She grew up on the Stanford campus with George Dantzig as a neighbour. She attended Gunn High School in Palo Alto, California, and wrote for the school newspaper.

Wojcicki's first business was selling "spice ropes" door-to-door at age 11. A humanities major in college, she took her first computer science class as a senior. Wojcicki studied history and literature at Harvard University and graduated with honors in 1990. She originally planned on getting a Ph.D. in economics and pursuing a career in academia but changed her plans when she discovered an interest in technology.

She also received her Master's of Science in economics from the University of California, Santa Cruz in 1993 and a Master of Business Administration from the UCLA Anderson School of Management in 1998. In September 1998, the same month that Google was incorporated, its founders Larry Page and Sergey Brin set up an office in Wojcicki's garage in Menlo Park. Before becoming Google's first marketing manager in 1999, Wojcicki worked in marketing at Intel Corporation in Santa Clara, California, and was a management consultant at Bain & Company and R.B. Webber & Company. At Google, she worked on the initial viral marketing programs, as well as the first Google Doodles. Wojcicki also took part in the development of successful contributions to Google such as Google Images and Google Books.

Sub questions

Question Number : 76 Question Id : 99836721209 Question Type : MCQ Option Shuffling : Yes Display Question Number : Yes Single Line Question Option : No Option Orientation : Vertical

Correct Marks : 1 Wrong Marks : 0.25

For how many years has Susan been the CEO of You Tube, now?

Options :

- ✘ 4
- ✔ 5
- ✘ 6
- ✘ 7

Question Number : 77 Question Id : 99836721210 Question Type : MCQ Option Shuffling : Yes Display Question Number : Yes Single Line Question Option : No Option Orientation : Vertical

Correct Marks : 1 Wrong Marks : 0.25

In which year did she become the first marketing manager of Google?

Options :

- ✘ 2014
- ✘ 1990
- ✘ 1998
- ✔ 1999

Question Number : 78 Question Id : 99836721211 Question Type : MCQ Option Shuffling : Yes Display Question Number : Yes Single Line Question Option : No Option Orientation : Vertical

Correct Marks : 1 Wrong Marks : 0.25

What is her father's profession?

Options :

- ✘ Founder of 23 and Me.
- ✘ Ph.D., anthropologist
- ✔ Polish American biology professor
- ✘ No option is correct

Question Number : 79 Question Id : 99836721212 Question Type : MCQ Option Shuffling : Yes Display Question Number : Yes Single Line Question Option : No Option Orientation : Vertical

Correct Marks : 1 Wrong Marks : 0.25

The word acquisition is similar in meaning to:

Options :

1. ✘ Forfeit
2. ✘ Surrender
3. ✔ Recover
4. ✘ Need

Question Number : 80 Question Id : 99836721213 Question Type : MCQ Option Shuffling : Yes Display Question Number : Yes Single Line Question Option : No Option Orientation : Vertical

Correct Marks : 1 Wrong Marks : 0.25

Substitute the sentence with the best suitable word from the passage.

Public health professionals who investigate patterns of disease.

Options :

1. ✘ Anthropologist
2. ✔ Epidemiologist
3. ✘ Academia
4. ✘ No option is correct

Question Id : 99836721208 Question Type : COMPREHENSION Sub Question Shuffling Allowed : Yes Group Comprehension Questions : No

Question Numbers : (76 to 80)

Question Label : Comprehension

Read the following information carefully and answer the given questions:

Susan Diane Wojcicki is a Polish-American technology executive. She has been the CEO of YouTube since February 2014. Wojcicki was involved in the founding of Google and became Google's first marketing manager in 1999. She was in charge of Google's original video service, and after observing the success of YouTube, she proposed the acquisition of YouTube by Google in 2006.

Wojcicki has an estimated net worth of nearly \$500 million. Wojcicki is the daughter of Esther Wojcicki, an educator of Russian-Jewish descent, and Stanley Wojcicki, a Polish American physics professor at Stanford University. She has two sisters: Janet Wojcicki, (Ph.D., anthropologist and epidemiologist) and Anne Wojcicki, founder of 23andMe. She grew up on the Stanford campus with George Dantzig as a neighbour. She attended Gunn High School in Palo Alto, California, and wrote for the school newspaper.

Wojcicki's first business was selling "spice ropes" door-to-door at age 11. A humanities major in college, she took her first computer science class as a senior. Wojcicki studied history and literature at Harvard University and graduated with honors in 1990. She originally planned on getting a Ph.D. in economics and pursuing a career in academia but changed her plans when she discovered an interest in technology.

She also received her Master's of Science in economics from the University of California, Santa Cruz in 1993 and a Master of Business Administration from the UCLA Anderson School of Management in 1998. In September 1998, the same month that Google was incorporated, its founders Larry Page and Sergey Brin set up an office in Wojcicki's garage in Menlo Park. Before becoming Google's first marketing manager in 1999, Wojcicki worked in marketing at Intel Corporation in Santa Clara, California, and was a management consultant at Bain & Company and R.B. Webber & Company. At Google, she worked on the initial viral marketing programs, as well as the first Google Doodles. Wojcicki also took part in the development of successful contributions to Google such as Google Images and Google Books.

Sub questions

Question Number : 76 Question Id : 99836721209 Question Type : MCQ Option Shuffling : Yes Display Question Number : Yes Single Line Question Option : No Option Orientation : Vertical

Correct Marks : 1 Wrong Marks : 0.25

For how many years has Susan been the CEO of You Tube, now?

Options :

1. ✘ 4
2. ✔ 5
3. ✘ 6
4. ✘ 7

Question Number : 77 Question Id : 99836721210 Question Type : MCQ Option Shuffling : Yes Display Question Number : Yes
Single Line Question Option : No Option Orientation : Vertical

Correct Marks : 1 Wrong Marks : 0.25

In which year did she become the first marketing manager of Google?

Options :

1. ✘ 2014
2. ✘ 1990
3. ✘ 1998
4. ✔ 1999

Question Number : 78 Question Id : 99836721211 Question Type : MCQ Option Shuffling : Yes Display Question Number : Yes
Single Line Question Option : No Option Orientation : Vertical

Correct Marks : 1 Wrong Marks : 0.25

What is her father's profession?

Options :

1. ✘ Founder of 23 and Me.
2. ✘ Ph.D., anthropologist
3. ✔ Polish American biology professor
4. ✘ No option is correct

Question Number : 79 Question Id : 99836721212 Question Type : MCQ Option Shuffling : Yes Display Question Number : Yes
Single Line Question Option : No Option Orientation : Vertical

Correct Marks : 1 Wrong Marks : 0.25

The word acquisition is similar in meaning to:

Options :

1. ✘ Forfeit
2. ✘ Surrender
3. ✔ Recover
4. ✘ Need

Question Number : 80 Question Id : 99836721213 Question Type : MCQ Option Shuffling : Yes Display Question Number : Yes
Single Line Question Option : No Option Orientation : Vertical

Correct Marks : 1 Wrong Marks : 0.25

Substitute the sentence with the best suitable word from the passage.

Public health professionals who investigate patterns of disease.

Options :

1. ✘ Anthropologist
2. ✔ Epidemiologist
3. ✘ Academia
4. ✘ No option is correct

General Hindi

Group Number :	5
Group Id :	998367794
Group Maximum Duration :	0
Group Minimum Duration :	0
Revisit allowed for view? :	No
Revisit allowed for edit? :	No
Break time:	0
Group Marks:	20
Revisit allowed for group Instructions? :	Yes
Maximum Instruction Time:	0
Minimum Instruction Time:	0

General Hindi

Section Id :	998367915
Section Number :	1
Section type :	Online
Mandatory or Optional:	Mandatory
Number of Questions:	16
Number of Questions to be attempted:	16
Section Marks:	20
Display Number Panel:	Yes
Group All Questions:	No

Sub-Section Number:	1
Sub-Section Id:	9983671156
Question Shuffling Allowed :	Yes

Question Number : 81 Question Id : 99836721214 Question Type : MCQ Option Shuffling : Yes Display Question Number : Yes
Single Line Question Option : No Option Orientation : Vertical

Correct Marks : 1 Wrong Marks : 0.25

दिए गए शब्द के प्रत्यय का चयन कीजिए।

पठनीय

Options :

1. ✘ इय
2. ✔ अनीय
3. ✘ नीय
4. ✘ ईया

Question Number : 81 Question Id : 99836721214 Question Type : MCQ Option Shuffling : Yes Display Question Number : Yes
Single Line Question Option : No Option Orientation : Vertical

Correct Marks : 1 Wrong Marks : 0.25

दिए गए शब्द के प्रत्यय का चयन कीजिए।

पठनीय

Options :

1. ✘ इय
2. ✔ अनीय
3. ✘ नीय
4. ✘ ईया

Question Number : 82 Question Id : 99836721215 Question Type : MCQ Option Shuffling : Yes Display Question Number : Yes
Single Line Question Option : No Option Orientation : Vertical

Correct Marks : 1 Wrong Marks : 0.25

दिए गए शब्द के समास का चयन कीजिए।

प्रतिमान

Options :

1. ✘ तत्पुरुष
2. ✔ अव्ययाभाव
3. ✘ द्वंद्व
4. ✘ द्विगु

Question Number : 82 Question Id : 99836721215 Question Type : MCQ Option Shuffling : Yes Display Question Number : Yes
Single Line Question Option : No Option Orientation : Vertical

Correct Marks : 1 Wrong Marks : 0.25

दिए गए शब्द के समास का चयन कीजिए।

प्रतिमान

Options :

1. ✘ तत्पुरुष
2. ✔ अव्ययाभाव
3. ✘ द्वंद्व
4. ✘ द्विगु

Question Number : 83 Question Id : 99836721216 Question Type : MCQ Option Shuffling : Yes Display Question Number : Yes
Single Line Question Option : No Option Orientation : Vertical

Correct Marks : 1 Wrong Marks : 0.25

दिए गए शब्दों की सही संधि ज्ञात कीजिए।

प्राक् + मुख

Options :

1. ✘ प्रमुख
2. ✘ प्राकमुख
3. ✘ प्रागमुख
4. ✔ प्राडःमुख

Question Number : 83 Question Id : 99836721216 Question Type : MCQ Option Shuffling : Yes Display Question Number : Yes
Single Line Question Option : No Option Orientation : Vertical

Correct Marks : 1 Wrong Marks : 0.25

दिए गए शब्दों की सही संधि ज्ञात कीजिए।

प्राक् + मुख

Options :

1. ✘ प्रमुख
2. ✘ प्राकमुख

3. ✘ प्रागमुख
4. ✔ प्राडःमुख

Question Number : 84 Question Id : 99836721217 Question Type : MCQ Option Shuffling : Yes Display Question Number : Yes
Single Line Question Option : No Option Orientation : Vertical

Correct Marks : 1 Wrong Marks : 0.25

दिए गए वाक्य के रेखांकित भाग किस प्रकार का अव्यय है ज्ञात कीजिए।

वाह! वाह! कितना सुंदर दृश्य है

Options :

1. ✘ शोकबोधक अव्यय
2. ✘ सम्बोधित अव्यय
3. ✘ तिरस्कार बोधक अव्यय
4. ✔ हर्षबोधक अव्यय

Question Number : 84 Question Id : 99836721217 Question Type : MCQ Option Shuffling : Yes Display Question Number : Yes
Single Line Question Option : No Option Orientation : Vertical

Correct Marks : 1 Wrong Marks : 0.25

दिए गए वाक्य के रेखांकित भाग किस प्रकार का अव्यय है ज्ञात कीजिए।

वाह! वाह! कितना सुंदर दृश्य है

Options :

1. ✘ शोकबोधक अव्यय
2. ✘ सम्बोधित अव्यय
3. ✘ तिरस्कार बोधक अव्यय
4. ✔ हर्षबोधक अव्यय

Question Number : 85 Question Id : 99836721218 Question Type : MCQ Option Shuffling : Yes Display Question Number : Yes
Single Line Question Option : No Option Orientation : Vertical

Correct Marks : 1 Wrong Marks : 0.25

निम्नलिखित में से कौन सा शब्द 'तप' का समानार्थी नहीं है?

Options :

1. ✘ साधना
2. ✔ शिव
3. ✘ गर्मी
4. ✘ धूप

Question Number : 85 Question Id : 99836721218 Question Type : MCQ Option Shuffling : Yes Display Question Number : Yes
Single Line Question Option : No Option Orientation : Vertical

Correct Marks : 1 Wrong Marks : 0.25

निम्नलिखित में से कौन सा शब्द 'तप' का समानार्थी नहीं है?

Options :

1. ✘ साधना
2. ✔ शिव
3. ✘ गर्मी
4. ✘ धूप

Question Number : 86 Question Id : 99836721219 Question Type : MCQ Option Shuffling : Yes Display Question Number : Yes
Single Line Question Option : No Option Orientation : Vertical

Correct Marks : 1 Wrong Marks : 0.25

शुद्ध वर्तनी का चयन कीजिए।

Options :

1. ✘ पुरस्कार
2. ✘ पुस्कार
3. ✘ पुररुस्कर
4. ✔ पुरस्कार

Question Number : 86 Question Id : 99836721219 Question Type : MCQ Option Shuffling : Yes Display Question Number : Yes
Single Line Question Option : No Option Orientation : Vertical

Correct Marks : 1 Wrong Marks : 0.25

शुद्ध वर्तनी का चयन कीजिए।

Options :

1. ✘ पुरस्कार
2. ✘ पुस्कार
3. ✘ पुररुस्कर
4. ✔ पुरस्कार

Question Number : 87 Question Id : 99836721220 Question Type : MCQ Option Shuffling : Yes Display Question Number : Yes
Single Line Question Option : No Option Orientation : Vertical

Correct Marks : 1 Wrong Marks : 0.25

दिए गए शब्द का पर्यायवाची ज्ञात कीजिए।

महादेव

Options :

1. ✘ गरुडध्वज
2. ✘ नारायण
3. ✔ चन्द्रशेखर
4. ✘ विश्वाम्भ

Question Number : 87 Question Id : 99836721220 Question Type : MCQ Option Shuffling : Yes Display Question Number : Yes
Single Line Question Option : No Option Orientation : Vertical

Correct Marks : 1 Wrong Marks : 0.25

दिए गए शब्द का पर्यायवाची ज्ञात कीजिए।

महादेव

Options :

1. ✘ गरुडध्वज
2. ✘ नारायण
3. ✔ चन्द्रशेखर
4. ✘ विश्वाम्भ

Question Number : 88 Question Id : 99836721221 Question Type : MCQ Option Shuffling : Yes Display Question Number : Yes
Single Line Question Option : No Option Orientation : Vertical

Correct Marks : 1 Wrong Marks : 0.25

दिए गए वाक्य में रिक्त स्थान की पूर्ति कीजिए।

महाराज पृथु ने _____ का गोरूप में दोहन कर औषधियाँ रूपी अमृत तैयार किया था।

Options :

1. ✘ धरित्री
2. ✔ धात्री

3. ✘ जननी
4. ✘ पयस्वनी

Question Number : 88 Question Id : 99836721221 Question Type : MCQ Option Shuffling : Yes Display Question Number : Yes
Single Line Question Option : No Option Orientation : Vertical

Correct Marks : 1 Wrong Marks : 0.25

दिए गए वाक्य में रिक्त स्थान की पूर्ति कीजिए।

महाराज पृथु ने _____ का गोरूप में दोहन कर औषधियाँ रूपी अमृत तैयार किया था।

Options :

1. ✘ धरित्री
2. ✔ धात्री
3. ✘ जननी
4. ✘ पयस्वनी

Question Number : 89 Question Id : 99836721222 Question Type : MCQ Option Shuffling : Yes Display Question Number : Yes
Single Line Question Option : No Option Orientation : Vertical

Correct Marks : 1 Wrong Marks : 0.25

दिए गए शब्द का बहुवचन ज्ञात कीजिए।

प्रति

Options :

1. ✔ प्रतियाँ
2. ✘ प्रति
3. ✘ प्रतिवर्ग
4. ✘ प्रतिजन

Question Number : 89 Question Id : 99836721222 Question Type : MCQ Option Shuffling : Yes Display Question Number : Yes
Single Line Question Option : No Option Orientation : Vertical

Correct Marks : 1 Wrong Marks : 0.25

दिए गए शब्द का बहुवचन ज्ञात कीजिए।

प्रति

Options :

1. ✔ प्रतियाँ
2. ✘ प्रति
3. ✘ प्रतिवर्ग
4. ✘ प्रतिजन

Question Number : 90 Question Id : 99836721223 Question Type : MCQ Option Shuffling : Yes Display Question Number : Yes
Single Line Question Option : No Option Orientation : Vertical

Correct Marks : 1 Wrong Marks : 0.25

निम्नलिखित वाक्यों में से अशुद्ध वाक्य का चयन कीजिए।

Options :

1. ✔ वह अनेकों मामलों में गवाह था।
2. ✘ मेज़ पर पुस्तकें रखी है।
3. ✘ मुझे पढ़ना है।
4. ✘ मेरी माता जी आई है।

Question Number : 90 Question Id : 99836721223 Question Type : MCQ Option Shuffling : Yes Display Question Number : Yes
Single Line Question Option : No Option Orientation : Vertical

Correct Marks : 1 Wrong Marks : 0.25

निम्नलिखित वाक्यों में से अशुद्ध वाक्य का चयन कीजिए।

Options :

- ✓ वह अनेकों मामलों में गवाह था।
- ✗ मेज़ पर पुस्तकें रखी हैं।
- ✗ मुझे पढ़ना है।
- ✗ मेरी माता जी आई हैं।

Question Number : 91 Question Id : 99836721224 Question Type : MCQ Option Shuffling : Yes Display Question Number : Yes
Single Line Question Option : No Option Orientation : Vertical

Correct Marks : 1 Wrong Marks : 0.25

निम्नलिखित में से कौन सा वाक्य कर्तृवाच्य है?

Options :

- ✗ माँ से फल लाए गये।
- ✗ बच्चों से शांत नहीं रहा जाता।
- ✓ मैं ठंडे पानी से नहाया।
- ✗ गीता से पढ़ा नहीं जाता।

Question Number : 91 Question Id : 99836721224 Question Type : MCQ Option Shuffling : Yes Display Question Number : Yes
Single Line Question Option : No Option Orientation : Vertical

Correct Marks : 1 Wrong Marks : 0.25

निम्नलिखित में से कौन सा वाक्य कर्तृवाच्य है?

Options :

- ✗ माँ से फल लाए गये।
- ✗ बच्चों से शांत नहीं रहा जाता।
- ✓ मैं ठंडे पानी से नहाया।
- ✗ गीता से पढ़ा नहीं जाता।

Question Number : 92 Question Id : 99836721225 Question Type : MCQ Option Shuffling : Yes Display Question Number : Yes
Single Line Question Option : No Option Orientation : Vertical

Correct Marks : 1 Wrong Marks : 0.25

निम्नलिखित में से कौन सा वाक्य अपूर्ण वर्तमान काल का है?

Options :

- ✓ शेर जंगल में शिकार कर रहा है।
- ✗ पक्षी पेड़ पर बैठा है।
- ✗ माँ आ रही होगी।
- ✗ बच्चे पार्क में खेलते हैं।

Question Number : 92 Question Id : 99836721225 Question Type : MCQ Option Shuffling : Yes Display Question Number : Yes
Single Line Question Option : No Option Orientation : Vertical

Correct Marks : 1 Wrong Marks : 0.25

निम्नलिखित में से कौन सा वाक्य अपूर्ण वर्तमान काल का है?

Options :

- ✓ शेर जंगल में शिकार कर रहा है।
- ✗ पक्षी पेड़ पर बैठा है।
- ✗ माँ आ रही होगी।
- ✗ बच्चे पार्क में खेलते हैं।

Question Number : 93 Question Id : 99836721226 Question Type : MCQ Option Shuffling : Yes Display Question Number : Yes
Single Line Question Option : No Option Orientation : Vertical

Correct Marks : 1 Wrong Marks : 0.25

निम्नलिखित प्रश्न में, दिए गए चार विकल्पों में से, उस विकल्प का चयन करें जो दिए गए मुहावरे के अर्थ को सर्वश्रेष्ठ रूप से व्यक्त करता है।

आग में घी डालना

Options :

1. ✘ आग बढ़ाना
2. ✘ आग लगाना
3. ✔ झगड़ा बढ़ाना
4. ✘ झगड़ा खत्म करना

Question Number : 93 Question Id : 99836721226 Question Type : MCQ Option Shuffling : Yes Display Question Number : Yes
Single Line Question Option : No Option Orientation : Vertical

Correct Marks : 1 Wrong Marks : 0.25

निम्नलिखित प्रश्न में, दिए गए चार विकल्पों में से, उस विकल्प का चयन करें जो दिए गए मुहावरे के अर्थ को सर्वश्रेष्ठ रूप से व्यक्त करता है।

आग में घी डालना

Options :

1. ✘ आग बढ़ाना
2. ✘ आग लगाना
3. ✔ झगड़ा बढ़ाना
4. ✘ झगड़ा खत्म करना

Question Number : 94 Question Id : 99836721227 Question Type : MCQ Option Shuffling : Yes Display Question Number : Yes
Single Line Question Option : No Option Orientation : Vertical

Correct Marks : 1 Wrong Marks : 0.25

निम्नलिखित प्रश्न में, दिए गए चार विकल्पों में से, उस विकल्प का चयन करें जो दिए गए मुहावरे के अर्थ को सर्वश्रेष्ठ रूप से व्यक्त करता है।

कोयले की दलाली में मुँह काला

Options :

1. ✘ कोयले का व्यापार नहीं करना चाहिए
2. ✔ बुरे के साथ रहने पर बुराई ही मिलती है
3. ✘ बुरे का साथ देना चाहिए
4. ✘ बुरा व्यक्ति कोयला लगा लेता है

Question Number : 94 Question Id : 99836721227 Question Type : MCQ Option Shuffling : Yes Display Question Number : Yes
Single Line Question Option : No Option Orientation : Vertical

Correct Marks : 1 Wrong Marks : 0.25

निम्नलिखित प्रश्न में, दिए गए चार विकल्पों में से, उस विकल्प का चयन करें जो दिए गए मुहावरे के अर्थ को सर्वश्रेष्ठ रूप से व्यक्त करता है।

कोयले की दलाली में मुँह काला

Options :

1. ✘ कोयले का व्यापार नहीं करना चाहिए
2. ✔ बुरे के साथ रहने पर बुराई ही मिलती है
3. ✘ बुरे का साथ देना चाहिए
4. ✘ बुरा व्यक्ति कोयला लगा लेता है

Question Number : 95 Question Id : 99836721228 Question Type : MCQ Option Shuffling : Yes Display Question Number : Yes
Single Line Question Option : No Option Orientation : Vertical

Correct Marks : 1 Wrong Marks : 0.25

दिए गए विराम चिह्न का सही चयन कीजिए

(-)

Options :

1. ✘ योजक
2. ✘ कोष्ठक
3. ✘ निर्देशक
4. ✔ विवरण

Question Number : 95 Question Id : 99836721228 Question Type : MCQ Option Shuffling : Yes Display Question Number : Yes
Single Line Question Option : No Option Orientation : Vertical

Correct Marks : 1 Wrong Marks : 0.25

दिए गए विराम चिह्न का सही चयन कीजिए

(-)

Options :

1. ✘ योजक
2. ✘ कोष्ठक
3. ✘ निर्देशक
4. ✔ विवरण

Sub-Section Number: 2
Sub-Section Id: 9983671157
Question Shuffling Allowed : Yes

Question Id : 99836721229 Question Type : COMPREHENSION Sub Question Shuffling Allowed : Yes Group Comprehension
Questions : No

Question Numbers : (96 to 100)

Question Label : Comprehension

नीचे दिए गए गद्यांश को ध्यानपूर्वक पढ़ें तथा प्रत्येक प्रश्न में चार विकल्पों में से सही विकल्प चुनें:

भ्रष्टाचार शब्द 'भ्रष्ट और आचार' दो शब्दों के मेल से बना है, जिसका अर्थ है 'बुरा व्यवहार' अर्थात् मार्ग से भटका आचरण। आधुनिक युग में मनुष्य स्वार्थी बन कर रह गया है। उसके प्रत्येक कार्य में अपना अपनों का स्वार्थ छिपा होता है। आज जहां भी दृष्टि जाती है, हम अपने चारों ओर उसी स्वार्थ की संतान - भ्रष्टाचार को फैला पाते हैं। भ्रष्टाचार के कारण ही समाज, सरकार, कार्यालय आदी में बेईमानी, मिलावट, छल रिश्ततखोरी आदि का बोलबाला है। वर्तमान युग में भ्रष्टाचार ने अपने पैर चारों ओर पसार लिए हैं। बड़े-बड़े उद्योगपतियों और राजनेताओं ने सामाजिक, आर्थिक व राजनीतिक व्यवस्था को अपने हाथों में बनाए रखने के लिए भ्रष्टाचार रूपी दानव को जन्म दिया है और उसे पाल - पोस रहे हैं। इसी कारणवश आज हर क्षेत्र में भ्रष्टाचार के अनेक रूप देखे जा सकते हैं। इनमें से मुख्य रूप से राजनीतिक भ्रष्टाचार, व्यवसायिक भ्रष्टाचार तथा प्रशासनिक भ्रष्टाचार चिंता के विषय हैं। बढ़ती महंगाई भी भ्रष्टाचार का प्रमुख कारण है। आज हमने अपनी आवश्यकताओं को इतना बढ़ा लिया है कि उन्हें पूरा करने के लिए चाहे कुछ भी करना पड़े, हम करने को तैयार रहते हैं। झूठा दिखावा, एक दूसरे से आगे बढ़ने की होड़ ने तो भ्रष्टाचार रूपी दानव को और पुष्ट किया है। बढ़ती बेरोजगारी और गरीबी ने आज मनुष्य को हर नैतिक - अनैतिक कार्य करने पर विवश कर दिया है।

Sub questions

Question Number : 96 Question Id : 99836721230 Question Type : MCQ Option Shuffling : Yes Display Question Number : Yes
Single Line Question Option : No Option Orientation : Vertical

Correct Marks : 1 Wrong Marks : 0.25

भ्रष्टाचार का प्रमुख कारण क्या है?

Options :

1. ✔ बढ़ती महंगाई
2. ✘ आधुनिक युग
3. ✘ फैशन व जवानी

4. ✖ मोबाइल फोन

Question Number : 97 Question Id : 99836721231 Question Type : MCQ Option Shuffling : Yes Display Question Number : Yes
Single Line Question Option : No Option Orientation : Vertical

Correct Marks : 1 Wrong Marks : 0.25

इनमें से कौन सा विकल्प भ्रष्टाचार का मुख्य रूप नहीं है?

Options :

1. ✖ राजनीतिक
2. ✔ धार्मिकता
3. ✖ प्रशासनिक
4. ✖ व्यावयिक

Question Number : 98 Question Id : 99836721232 Question Type : MCQ Option Shuffling : Yes Display Question Number : Yes
Single Line Question Option : No Option Orientation : Vertical

Correct Marks : 1 Wrong Marks : 0.25

उपर्युक्त गद्यांश का शीर्षक क्या है?

Options :

1. ✖ रिश्तत का पौधा
2. ✖ स्वार्थ की संतान
3. ✖ खोखला समाज
4. ✔ भ्रष्टाचार: एक विराट समस्या

Question Number : 99 Question Id : 99836721233 Question Type : MCQ Option Shuffling : Yes Display Question Number : Yes
Single Line Question Option : No Option Orientation : Vertical

Correct Marks : 1 Wrong Marks : 0.25

उपर्युक्त गद्यांश के आधार पर बताएँ स्वार्थ की संतान का क्या अभिप्राय है?

Options :

1. ✖ अपने फायदे के लिए बेटा बनाना
2. ✔ अपने फायदे के लिए फैलाना
3. ✖ बुढ़ापे के लिए फैलाना
4. ✖ संतान का सुख पाना

Question Number : 100 Question Id : 99836721234 Question Type : MCQ Option Shuffling : Yes Display Question Number : Yes
Single Line Question Option : No Option Orientation : Vertical

Correct Marks : 1 Wrong Marks : 0.25

किसने भ्रष्टाचार रूपी दानव को और बढ़ावा दिया है?

Options :

1. ✖ फैशन, बेरोजगारी
2. ✖ औरते, व्यापारी
3. ✖ नेता, सरकारी कर्मचारी
4. ✔ झूठा, दिखावा, एक दूसरे से आगे बढ़ने की होड़

Question Id : 99836721229 Question Type : COMPREHENSION Sub Question Shuffling Allowed : Yes Group Comprehension
Questions : No

Question Numbers : (96 to 100)

Question Label : Comprehension

नीचे दिए गए गद्यांश को ध्यानपूर्वक पढ़ें तथा प्रत्येक प्रश्न में चार विकल्पों में से सही विकल्प चुने:

भ्रष्टाचार शब्द 'भ्रष्ट और आचार' दो शब्दों के मेल से बना है, जिसका अर्थ है 'बुरा व्यवहार' अर्थात् मार्ग से भटका आचरण। आधुनिक युग में मनुष्य स्वार्थी बन कर रह गया है। उसके प्रत्येक कार्य में अपना अपनों का स्वार्थ छिपा होता है। आज जहाँ भी दृष्टि जाती है, हम अपने चारों ओर उसी स्वार्थ की संतान - भ्रष्टाचार को फैला पाते हैं। भ्रष्टाचार के कारण ही समाज, सरकार, कार्यालय आदी में बेईमानी, मिलावट, छल रिश्ततखोरी आदि का बोलबाला है। वर्तमान युग में भ्रष्टाचार ने अपने पैर चारों ओर पसार लिए हैं। बड़े-बड़े उद्योगपतियों और राजनेताओं ने सामाजिक, आर्थिक व राजनीतिक व्यवस्था को अपने हाथों में बनाए रखने के लिए भ्रष्टाचार रूपी दानव को जन्म दिया है और उसे पाल - पोस रहे हैं। इसी कारणवश आज हर क्षेत्र में भ्रष्टाचार के अनेक रूप देखे जा सकते हैं। इनमें से मुख्य रूप से राजनीतिक भ्रष्टाचार, व्यवसायिक भ्रष्टाचार तथा प्रशासनिक भ्रष्टाचार चिंता के विषय हैं। बढ़ती महंगाई भी भ्रष्टाचार का प्रमुख कारण है। आज हमने अपनी आवश्यकताओं को इतना बढ़ा लिया है कि उन्हें पूरा करने के लिए चाहे कुछ भी करना पड़े, हम करने को तैयार रहते हैं। झूठा दिखावा, एक दूसरे से आगे बढ़ने की होड़ ने तो भ्रष्टाचार रूपी दानव को और पुष्ट किया है। बढ़ती बेरोजगारी और गरीबी ने आज मनुष्य को हर नैतिक - अनैतिक कार्य करने पर विवश कर दिया है।

Sub questions

Question Number : 96 Question Id : 99836721230 Question Type : MCQ Option Shuffling : Yes Display Question Number : Yes
Single Line Question Option : No Option Orientation : Vertical

Correct Marks : 1 Wrong Marks : 0.25

भ्रष्टाचार का प्रमुख कारण क्या है?

Options :

1. ✓ बढ़ती महंगाई
2. ✗ आधुनिक युग
3. ✗ फैशन व जवानी
4. ✗ मोबाइल फोन

Question Number : 97 Question Id : 99836721231 Question Type : MCQ Option Shuffling : Yes Display Question Number : Yes
Single Line Question Option : No Option Orientation : Vertical

Correct Marks : 1 Wrong Marks : 0.25

इनमें से कौन सा विकल्प भ्रष्टाचार का मुख्य रूप नहीं है?

Options :

1. ✗ राजनीतिक
2. ✓ धार्मिकता
3. ✗ प्रशासनिक
4. ✗ व्यावसायिक

Question Number : 98 Question Id : 99836721232 Question Type : MCQ Option Shuffling : Yes Display Question Number : Yes
Single Line Question Option : No Option Orientation : Vertical

Correct Marks : 1 Wrong Marks : 0.25

उपर्युक्त गद्यांश का शीर्षक क्या है?

Options :

1. ✗ रिश्तत का पौधा
2. ✗ स्वार्थ की संतान
3. ✗ खोखला समाज
4. ✓ भ्रष्टाचार: एक विराट समस्या

Question Number : 99 Question Id : 99836721233 Question Type : MCQ Option Shuffling : Yes Display Question Number : Yes
Single Line Question Option : No Option Orientation : Vertical

Correct Marks : 1 Wrong Marks : 0.25

उपर्युक्त गद्यांश के आधार पर बताएँ स्वार्थ की संतान का क्या अभिप्राय है?

Options :

1. ✗ अपने फायदे के लिए बेटा बनाना
2. ✓ अपने फायदे के लिए फैलाना
3. ✗ बुढ़ापे के लिए फैलाना

4. ✖ संतान का सुख पाना

Question Number : 100 Question Id : 99836721234 Question Type : MCQ Option Shuffling : Yes Display Question Number : Yes
Single Line Question Option : No Option Orientation : Vertical

Correct Marks : 1 Wrong Marks : 0.25

किसने भ्रष्टाचार रूपी दानव को और बढ़ावा दिया है?

Options :

1. ✖ फैशन, बेरोजगारी
2. ✖ औरते, व्यापारी
3. ✖ नेता, सरकारी कर्मचारी
4. ✔ झूठा, दिखावा, एक दूसरे से आगे बढ़ने की होड़

Discipline1

Group Number :	6
Group Id :	998367795
Group Maximum Duration :	0
Group Minimum Duration :	0
Revisit allowed for view? :	No
Revisit allowed for edit? :	No
Break time:	0
Group Marks:	20
Revisit allowed for group Instructions? :	Yes
Maximum Instruction Time:	0
Minimum Instruction Time:	0

Discipline1

Section Id :	998367916
Section Number :	1
Section type :	Online
Mandatory or Optional:	Mandatory
Number of Questions:	20
Number of Questions to be attempted:	20
Section Marks:	20
Display Number Panel:	Yes
Group All Questions:	No

Sub-Section Number:	1
Sub-Section Id:	9983671158
Question Shuffling Allowed :	Yes

Question Number : 101 Question Id : 99836721235 Question Type : MCQ Option Shuffling : Yes Display Question Number : Yes
Single Line Question Option : No Option Orientation : Vertical

Correct Marks : 1 Wrong Marks : 0.25

The volume of amniotic fluid at term is:

Options :

1. ✖ 200 – 300 ml

2. ✓ 600 – 800 ml

3. ✗ 1 litre

4. ✗ 1.5 litre

Question Number : 101 Question Id : 99836721235 Question Type : MCQ Option Shuffling : Yes Display Question Number : Yes
Single Line Question Option : No Option Orientation : Vertical

Correct Marks : 1 Wrong Marks : 0.25

गर्भकाल में गर्भोदक (एम्नियोटिक) द्रव की मात्रा कितनी होती है?

Options :

1. ✗ 200 - 300 मिली लीटर

2. ✓ 600 - 800 मिली लीटर

3. ✗ 1 लीटर

4. ✗ 1.5 लीटर

Question Number : 102 Question Id : 99836721236 Question Type : MCQ Option Shuffling : Yes Display Question Number : Yes
Single Line Question Option : No Option Orientation : Vertical

Correct Marks : 1 Wrong Marks : 0.25

The length of the umbilical cord is around:

Options :

1. ✗ 10 cm

2. ✗ 15 cm

3. ✗ 20 cm

4. ✓ 40 cm

Question Number : 102 Question Id : 99836721236 Question Type : MCQ Option Shuffling : Yes Display Question Number : Yes
Single Line Question Option : No Option Orientation : Vertical

Correct Marks : 1 Wrong Marks : 0.25

गर्भनाल की लंबाई लगभग कितनी होती है?

Options :

1. ✗ 10 cm

2. ✗ 15 cm

3. ✘ 20 cm

4. ✔ 40 cm

Question Number : 103 Question Id : 99836721237 Question Type : MCQ Option Shuffling : Yes Display Question Number : Yes
Single Line Question Option : No Option Orientation : Vertical

Correct Marks : 1 Wrong Marks : 0.25

All of the following coagulation factor levels increase during pregnancy, except:

Options :

1. ✘ factor VIII

2. ✘ factor IX

3. ✘ factor X

4. ✔ factor XI

Question Number : 103 Question Id : 99836721237 Question Type : MCQ Option Shuffling : Yes Display Question Number : Yes
Single Line Question Option : No Option Orientation : Vertical

Correct Marks : 1 Wrong Marks : 0.25

गर्भावस्था के दौरान निम्नलिखित में से किस के अतिरिक्त स्कंदन (कोएगुलेशन) कारक स्तरों में वृद्धि होती है?

Options :

1. ✘ कारक VIII

2. ✘ कारक IX

3. ✘ कारक X

4. ✔ कारक XI

Question Number : 104 Question Id : 99836721238 Question Type : MCQ Option Shuffling : Yes Display Question Number : Yes
Single Line Question Option : No Option Orientation : Vertical

Correct Marks : 1 Wrong Marks : 0.25

Goodell's sign is:

Options :

1. ✔ softening of the uterus

2. ✘ contraction of the uterus

3. ✘ asymmetric enlargement of the uterus

4. ✘ blue colouration

Question Number : 104 Question Id : 99836721238 Question Type : MCQ Option Shuffling : Yes Display Question Number : Yes
Single Line Question Option : No Option Orientation : Vertical

Correct Marks : 1 Wrong Marks : 0.25

गुडेल्लस का संकेत क्या होता है?

Options :

1. ✔ गर्भाशय का मृदुलन (सॉफ्टनिंग)

2. ✘ गर्भाशय का आकुंचन

3. ✘ गर्भाशय की असममित वृद्धि

4. ✘ नीला रंग होना

Question Number : 105 Question Id : 99836721239 Question Type : MCQ Option Shuffling : Yes Display Question Number : Yes
Single Line Question Option : No Option Orientation : Vertical

Correct Marks : 1 Wrong Marks : 0.25

The product of conception is called an embryo between:

Options :

1. ✘ 0 –14 days

2. ✔ 3 – 10 weeks

3. ✘ 12 – 18 weeks

4. ✘ 19 – 23 weeks

Question Number : 105 Question Id : 99836721239 Question Type : MCQ Option Shuffling : Yes Display Question Number : Yes
Single Line Question Option : No Option Orientation : Vertical

Correct Marks : 1 Wrong Marks : 0.25

किस अवधि के बीच के गर्भाधान के उत्पाद को एक भ्रूण कहा जाता है?

Options :

1. ✘ 0 -14 दिन

2. ✔ 3 - 10 सप्ताह

3. ✘ 12 - 18 सप्ताह

4. ✘ 19 - 23 सप्ताह

Question Number : 106 Question Id : 99836721240 Question Type : MCQ Option Shuffling : Yes Display Question Number : Yes
Single Line Question Option : No Option Orientation : Vertical

Correct Marks : 1 Wrong Marks : 0.25

Which of the following is NOT increased in pregnancy?

Options :

1. ✔ total lung capacity

2. ✘ blood volume

3. ✘ Extra cellular Fluid (ECF)

4. ✘ weight

Question Number : 106 Question Id : 99836721240 Question Type : MCQ Option Shuffling : Yes Display Question Number : Yes
Single Line Question Option : No Option Orientation : Vertical

Correct Marks : 1 Wrong Marks : 0.25

इनमें से किस में गर्भावस्था में वृद्धि नहीं होती है?

Options :

1. ✔ फेफड़ों की कुल क्षमता में

2. ✘ रक्त की मात्रा में

3. ✘ अतिरिक्त कोशिकीय द्रव (एक्स्ट्रा सेलुलर फ्लुइड/ई.सी.एफ.) में

4. ✘ भार में

Question Number : 107 Question Id : 99836721241 Question Type : MCQ Option Shuffling : Yes Display Question Number : Yes
Single Line Question Option : No Option Orientation : Vertical

Correct Marks : 1 Wrong Marks : 0.25

In obstetric grip, the 3rd Leopold maneuver is:

Options :

1. ✘ fundal grip

2. ✘ umbilical grip

3. ✔ pawlik's grip

4. ✘ pelvic grip

Question Number : 107 Question Id : 99836721241 Question Type : MCQ Option Shuffling : Yes Display Question Number : Yes
Single Line Question Option : No Option Orientation : Vertical

Correct Marks : 1 Wrong Marks : 0.25

प्रसूति (ऑब्स्टेट्रिक) पकड़ में, तीसरी लियोपोल्ड युक्ति क्या है?

Options :

1. ✘ बुध्नपरक (फंडल) पकड़
2. ✘ गर्भनाल (अंबिलिकल) पकड़
3. ✔ पॉलिक्स पकड़
4. ✘ श्रोणिक (पेल्विक) पकड़

Question Number : 108 Question Id : 99836721242 Question Type : MCQ Option Shuffling : Yes Display Question Number : Yes
Single Line Question Option : No Option Orientation : Vertical

Correct Marks : 1 Wrong Marks : 0.25

Progression of labour is best assessed by:

Options :

1. ✔ partograph
2. ✘ cervical dilation
3. ✘ fetal monitoring
4. ✘ status of membrane

Question Number : 108 Question Id : 99836721242 Question Type : MCQ Option Shuffling : Yes Display Question Number : Yes
Single Line Question Option : No Option Orientation : Vertical

Correct Marks : 1 Wrong Marks : 0.25

प्रसव की प्रगति का सर्वोत्तम मूल्यांकन निम्नलिखित में से किस के द्वारा किया जाता है?

Options :

1. ✔ प्रसव के दौरान सांख्यिकीय अभिलेख (पर्टोग्राफ)
2. ✘ गर्भाशय ग्रीवा का फैलाव
3. ✘ भ्रूण की निगरानी

4. ✘ झिल्ली की स्थिति

Question Number : 109 Question Id : 99836721243 Question Type : MCQ Option Shuffling : Yes Display Question Number : Yes
Single Line Question Option : No Option Orientation : Vertical
Correct Marks : 1 Wrong Marks : 0.25

The most common presentation of the foetus at term is:

Options :

1. ✘ occipito posterior
2. ✘ breech
3. ✔ vertex
4. ✘ brow

Question Number : 109 Question Id : 99836721243 Question Type : MCQ Option Shuffling : Yes Display Question Number : Yes
Single Line Question Option : No Option Orientation : Vertical
Correct Marks : 1 Wrong Marks : 0.25

गर्भकाल में भ्रूण का सर्वाधिक सामान्य प्रकटन क्या है?

Options :

1. ✘ पश्चकपाल (ऑक्सिपिटो पोस्टीरियर)
2. ✘ शरीर का निचला भाग (ब्रीच)
3. ✔ शीर्ष (वर्टेक्स)
4. ✘ मस्तक (ब्रो)

Question Number : 110 Question Id : 99836721244 Question Type : MCQ Option Shuffling : Yes Display Question Number : Yes
Single Line Question Option : No Option Orientation : Vertical
Correct Marks : 1 Wrong Marks : 0.25

The maximum diameter of the cervical canal after full dilatation is:

Options :

1. ✘ 6 cm
2. ✘ 8 cm
3. ✔ 10 cm
4. ✘ 14 cm

Question Number : 110 Question Id : 99836721244 Question Type : MCQ Option Shuffling : Yes Display Question Number : Yes
Single Line Question Option : No Option Orientation : Vertical

Correct Marks : 1 Wrong Marks : 0.25

पूर्ण फैलाव के बाद गर्भाशय ग्रीवा नाल का अधिकतम व्यास कितना होता है?

Options :

1. ✘ 6 cm
2. ✘ 8 cm
3. ✔ 10 cm
4. ✘ 14 cm

Question Number : 111 Question Id : 99836721245 Question Type : MCQ Option Shuffling : Yes Display Question Number : Yes
Single Line Question Option : No Option Orientation : Vertical

Correct Marks : 1 Wrong Marks : 0.25

Lochia rubra occurs in:

Options :

1. ✔ 1 – 4 days
2. ✘ 5 – 9 days
3. ✘ 10 – 15 days
4. ✘ 20 – 30 days

Question Number : 111 Question Id : 99836721245 Question Type : MCQ Option Shuffling : Yes Display Question Number : Yes
Single Line Question Option : No Option Orientation : Vertical

Correct Marks : 1 Wrong Marks : 0.25

लोचिया रूब्रा (प्रसव पश्चात् प्रथम योनि-स्राव) कौनसे दिनों में होता है?

Options :

1. ✔ 1 - 4 दिनों में
2. ✘ 5 - 9 दिनों में
3. ✘ 10 - 15 दिनों में
4. ✘ 20 - 30 दिनों में

Question Number : 112 Question Id : 99836721246 Question Type : MCQ Option Shuffling : Yes Display Question Number : Yes
Single Line Question Option : No Option Orientation : Vertical

Correct Marks : 1 Wrong Marks : 0.25

The most common site of ectopic pregnancy is:

Options :

1. ✘ isthmus
2. ✔ ampulla
3. ✘ infundibulum
4. ✘ interstitium

Question Number : 112 Question Id : 99836721246 Question Type : MCQ Option Shuffling : Yes Display Question Number : Yes
Single Line Question Option : No Option Orientation : Vertical

Correct Marks : 1 Wrong Marks : 0.25

अस्थानिक (एक्टॉपिक) गर्भावस्था का सर्वाधिक सामान्य स्थल कौन सा है?

Options :

1. ✘ गलतोरणिका (इस्थमस)
2. ✔ तुम्बिका (एम्पुला)
3. ✘ वायुकोष्ठिका (इन्फंडिबुलम)
4. ✘ अंतरालीय (इंटरसस्टीशियम)

Question Number : 113 Question Id : 99836721247 Question Type : MCQ Option Shuffling : Yes Display Question Number : Yes
Single Line Question Option : No Option Orientation : Vertical

Correct Marks : 1 Wrong Marks : 0.25

Spiegelberg's criteria is used in the diagnosis of:

Options :

1. ✘ cervical pregnancy
2. ✘ corneal pregnancy
3. ✘ tubal pregnancy
4. ✔ ovarian pregnancy

Question Number : 113 Question Id : 99836721247 Question Type : MCQ Option Shuffling : Yes Display Question Number : Yes
Single Line Question Option : No Option Orientation : Vertical

Correct Marks : 1 Wrong Marks : 0.25

निम्नलिखित में से किस के निदान में स्पाइजेलबर्ग मानदंड का प्रयोग किया जाता है?

Options :

1. ✘ ग्रीवा संबंधी (सर्वाइकल) गर्भावस्था
2. ✘ नेत्र-पटलीय (कॉर्नियल) गर्भावस्था
3. ✘ डिंब वाहिनीय (ट्यूबल) गर्भावस्था
4. ✔ डिंब ग्रंथि (ओवेरियन) गर्भावस्था

Question Number : 114 Question Id : 99836721248 Question Type : MCQ Option Shuffling : Yes Display Question Number : Yes
Single Line Question Option : No Option Orientation : Vertical

Correct Marks : 1 Wrong Marks : 0.25

The most common infection resulting in ectopic pregnancy is:

Options :

1. ✔ chlamydia
2. ✘ candida
3. ✘ syphilis
4. ✘ gonorrhoea

Question Number : 114 Question Id : 99836721248 Question Type : MCQ Option Shuffling : Yes Display Question Number : Yes
Single Line Question Option : No Option Orientation : Vertical

Correct Marks : 1 Wrong Marks : 0.25

अस्थानिक (एक्टॉपिक) गर्भावस्था में होने वाला सर्वाधिक सामान्य संक्रमण क्या है?

Options :

1. ✔ एक यौन संचरित संक्रमण (क्लेमाइडिया)
2. ✘ एक फफूंद (कैंडिडा)
3. ✘ उपदंश (सिफिलिस)
4. ✘ प्रमेह (गोनोरिया)

Question Number : 115 Question Id : 99836721249 Question Type : MCQ Option Shuffling : Yes Display Question Number : Yes
Single Line Question Option : No Option Orientation : Vertical

Correct Marks : 1 Wrong Marks : 0.25

Babies of diabetic mothers are:

Options :

1. ✘ small
2. ✔ big
3. ✘ cyanosed
4. ✘ hypoxic

Question Number : 115 Question Id : 99836721249 Question Type : MCQ Option Shuffling : Yes Display Question Number : Yes
Single Line Question Option : No Option Orientation : Vertical

Correct Marks : 1 Wrong Marks : 0.25

मधुमेहग्रस्त माताओं के बच्चे कैसे होते हैं?

Options :

1. ✘ छोटे
2. ✔ बड़े
3. ✘ नीलिमाग्रस्त (सायानोजड)
4. ✘ ऑक्सीजन अल्पता (हाइपोक्सिक)

Question Number : 116 Question Id : 99836721250 Question Type : MCQ Option Shuffling : Yes Display Question Number : Yes
Single Line Question Option : No Option Orientation : Vertical

Correct Marks : 1 Wrong Marks : 0.25

Eclampsia can be prevented by:

Options :

1. ✘ Diazepam
2. ✘ Alpha methyl dopa
3. ✔ magnesium sulphate
4. ✘ termination of pregnancy

Question Number : 116 Question Id : 99836721250 Question Type : MCQ Option Shuffling : Yes Display Question Number : Yes
Single Line Question Option : No Option Orientation : Vertical

Correct Marks : 1 Wrong Marks : 0.25

गर्भावस्था रक्त संक्रमण (एक्लैम्पसिया) को निम्नलिखित में से किस के द्वारा रोका जा सकता है?

Options :

1. ✘ डायज़ेपाम
2. ✘ अल्फा मिथाइल्डोपा
3. ✔ मैग्नीशियम सल्फेट
4. ✘ गर्भपात

Question Number : 117 Question Id : 99836721251 Question Type : MCQ Option Shuffling : Yes Display Question Number : Yes
Single Line Question Option : No Option Orientation : Vertical

Correct Marks : 1 Wrong Marks : 0.25

Most common type of eclampsia is:

Options :

1. ✘ intercurrent
2. ✔ antepartum
3. ✘ intrapartum
4. ✘ postpartum

Question Number : 117 Question Id : 99836721251 Question Type : MCQ Option Shuffling : Yes Display Question Number : Yes
Single Line Question Option : No Option Orientation : Vertical

Correct Marks : 1 Wrong Marks : 0.25

गर्भाक्षेप (एक्लैम्पसिया) का सर्वाधिक सामान्य प्रकार क्या है?

Options :

1. ✘ मध्यवर्ती (इंटरकरेंट)
2. ✔ प्रसवपूर्व (एंटेपार्टम)
3. ✘ अंतर्गर्भाशयी (इंट्रापार्टम)
4. ✘ प्रसवोत्तर (पोस्टपार्टम)

Question Number : 118 Question Id : 99836721252 Question Type : MCQ Option Shuffling : Yes Display Question Number : Yes
Single Line Question Option : No Option Orientation : Vertical

Correct Marks : 1 Wrong Marks : 0.25

The following are the major renal birth defects in infants of diabetic mothers, except:

Options :

1. ✘ renal agenesis
2. ✔ renal failure
3. ✘ hydronephrosis
4. ✘ polycystic kidney

Question Number : 118 Question Id : 99836721252 Question Type : MCQ Option Shuffling : Yes Display Question Number : Yes
Single Line Question Option : No Option Orientation : Vertical

Correct Marks : 1 Wrong Marks : 0.25

मधुमेहग्रस्त माता के शिशुओं में निम्नलिखित में से किस के अतिरिक्त अन्य में प्रमुख वृक्कीय जन्म दोष हैं?

Options :

1. ✘ वृक्कीय अजनन (रीनल एजेनेसिस)
2. ✔ वृक्कीय विफलता (रीनल फेल्योर)
3. ✘ जलवृक्कता (हाइड्रोनेफ्रोसिस)
4. ✘ बहुकोषी वृक्क (पॉलीसिस्टिक किडनी)

Question Number : 119 Question Id : 99836721253 Question Type : MCQ Option Shuffling : Yes Display Question Number : Yes
Single Line Question Option : No Option Orientation : Vertical

Correct Marks : 1 Wrong Marks : 0.25

The following vaccines are contraindicated during pregnancy, except:

Options :

1. ✘ rubella
2. ✘ yellow fever
3. ✘ measles
4. ✔ tetanus

Question Number : 119 Question Id : 99836721253 Question Type : MCQ Option Shuffling : Yes Display Question Number : Yes
Single Line Question Option : No Option Orientation : Vertical

Correct Marks : 1 Wrong Marks : 0.25

निम्नलिखित में से किस वैक्सीन के अतिरिक्त अन्य गर्भावस्था के दौरान उपचार हेतु निषिद्ध (कंटाइंडिकेटेड) होते हैं?

Options :

1. ✘ रूबेला
2. ✘ पीत ज्वर
3. ✘ खसरा
4. ✔ धनुस्तंभ (टिटनेस)

Question Number : 120 Question Id : 99836721254 Question Type : MCQ Option Shuffling : Yes Display Question Number : Yes
Single Line Question Option : No Option Orientation : Vertical

Correct Marks : 1 Wrong Marks : 0.25

The normal heart rate in a new born is:

Options :

1. ✘ 60 – 80/min
2. ✘ 100 – 110/min
3. ✔ 120 – 140/min
4. ✘ 180 – 200/min

Question Number : 120 Question Id : 99836721254 Question Type : MCQ Option Shuffling : Yes Display Question Number : Yes
Single Line Question Option : No Option Orientation : Vertical

Correct Marks : 1 Wrong Marks : 0.25

नवजात शिशु की सामान्य हृदय गति कितनी होती है?

Options :

1. ✘ 60 - 80/min
2. ✘ 100 - 110/min
3. ✔ 120 - 140/min
4. ✘ 180 - 200/min

Discipline2

Group Number :

7

Group Id :

998367796

Group Maximum Duration :	0
Group Minimum Duration :	0
Revisit allowed for view? :	No
Revisit allowed for edit? :	No
Break time:	0
Group Marks:	20
Revisit allowed for group Instructions? :	Yes
Maximum Instruction Time:	0
Minimum Instruction Time:	0

Discipline2

Section Id :	998367917
Section Number :	1
Section type :	Online
Mandatory or Optional:	Mandatory
Number of Questions:	20
Number of Questions to be attempted:	20
Section Marks:	20
Display Number Panel:	Yes
Group All Questions:	No

Sub-Section Number:	1
Sub-Section Id:	9983671159
Question Shuffling Allowed :	Yes

Question Number : 121 Question Id : 99836721255 Question Type : MCQ Option Shuffling : Yes Display Question Number : Yes
Single Line Question Option : No Option Orientation : Vertical

Correct Marks : 1 Wrong Marks : 0.25

Phototherapy is used in:

Options :

1. neonatal jaundice
2. neonatal meningitis
3. neonatal tetanus
4. Hypoxic ischemic encephalopathy (HIE)

Question Number : 121 Question Id : 99836721255 Question Type : MCQ Option Shuffling : Yes Display Question Number : Yes
Single Line Question Option : No Option Orientation : Vertical

Correct Marks : 1 Wrong Marks : 0.25

प्रकाश-चिकित्सा (फोटोथेरेपी) का प्रयोग किस में किया जाता है?

Options :

1. नवजात शिशु संबंधी पीलिया में

2. ✘ नवजात शिशु संबंधी मस्तिष्क ज्वर (मेनिन्जाइटिस) में

3. ✘ नवजात धनुस्तंभ (टिटनेस) में

4. ✘ ऑक्सीजन अल्पतायुक्त स्थानिक अरक्तता संबंधी मस्तिष्क विकृति (हाइपोक्सिक इस्केमिक इंसिफैलोपैथी/HIE)

Question Number : 122 Question Id : 99836721256 Question Type : MCQ Option Shuffling : Yes Display Question Number : Yes
Single Line Question Option : No Option Orientation : Vertical

Correct Marks : 1 Wrong Marks : 0.25

Breast feeding for a new born should be started:

Options :

1. ✔ as soon as possible

2. ✘ after 6 hours

3. ✘ after 1 day

4. ✘ after meconium is passed

Question Number : 122 Question Id : 99836721256 Question Type : MCQ Option Shuffling : Yes Display Question Number : Yes
Single Line Question Option : No Option Orientation : Vertical

Correct Marks : 1 Wrong Marks : 0.25

नवजात शिशु को स्तनपान कब से आरंभ कराना चाहिए?

Options :

1. ✔ यथाशीघ्र

2. ✘ 6 घंटे के बाद

3. ✘ 1 दिन के बाद

4. ✘ जातविष्ठा (मेकोनियम) त्यागने के बाद

Question Number : 123 Question Id : 99836721257 Question Type : MCQ Option Shuffling : Yes Display Question Number : Yes
Single Line Question Option : No Option Orientation : Vertical

Correct Marks : 1 Wrong Marks : 0.25

Which of the following does NOT come under APGAR (Appearance, Pulse, Grimace, Activity, and Respiration score) score?

Options :

1. ✘ Colour

2. ✘ Muscle tone
3. ✘ Heart rate
4. ✔ Meconium

Question Number : 123 Question Id : 99836721257 Question Type : MCQ Option Shuffling : Yes Display Question Number : Yes
Single Line Question Option : No Option Orientation : Vertical

Correct Marks : 1 Wrong Marks : 0.25

निम्नलिखित में से क्या APGAR गणन (Appearance, Pulse, Grimace, Activity, and Respiration score/ प्रतीति, नाड़ी-स्पंदन, मुख-भंगिमा, गतिविधि और श्वसन गणन) के अंतर्गत नहीं आता है?

Options :

1. ✘ रंग
2. ✘ मांसपेशीय गठन (मसल टोन)
3. ✘ हृदय दर
4. ✔ जातविष्ठा (मेकोनियम)

Question Number : 124 Question Id : 99836721258 Question Type : MCQ Option Shuffling : Yes Display Question Number : Yes
Single Line Question Option : No Option Orientation : Vertical

Correct Marks : 1 Wrong Marks : 0.25

Stadiometer is used to measure:

Options :

1. ✔ the height of a child
2. ✘ the weight of a child
3. ✘ the mid arm circumference
4. ✘ the skin fold thickness

Question Number : 124 Question Id : 99836721258 Question Type : MCQ Option Shuffling : Yes Display Question Number : Yes
Single Line Question Option : No Option Orientation : Vertical

Correct Marks : 1 Wrong Marks : 0.25

स्टैडियोमीटर का प्रयोग निम्नलिखित क्या मापने के लिए किया जाता है?

Options :

1. ✔ बच्चे की ऊँचाई

2. ✘ बच्चे का भार
3. ✘ हाथ के मध्य भाग (मिड आर्म) की परिधि
4. ✘ चर्मावलि (स्किनफोल्ड) की मोटाई

Question Number : 125 Question Id : 99836721259 Question Type : MCQ Option Shuffling : Yes Display Question Number : Yes
Single Line Question Option : No Option Orientation : Vertical

Correct Marks : 1 Wrong Marks : 0.25

Undescend of testis is called:

Options :

1. ✘ Klinefelter's syndrome
2. ✔ cryptorchidism
3. ✘ hydrocele
4. ✘ varicocele

Question Number : 125 Question Id : 99836721259 Question Type : MCQ Option Shuffling : Yes Display Question Number : Yes
Single Line Question Option : No Option Orientation : Vertical

Correct Marks : 1 Wrong Marks : 0.25

वृषण के अप्रकटन को क्या कहा जाता है?

Options :

1. ✘ क्लइनफेल्टर्स सहलक्षण (सिंड्रोम)
2. ✔ गुप्तवृषणता (क्रिप्टॉर्किडिज़्म)
3. ✘ जलवृषण (हाइड्रोसील)
4. ✘ वृषण-शिरापस्फीति (वैरिकोसील)

Question Number : 126 Question Id : 99836721260 Question Type : MCQ Option Shuffling : Yes Display Question Number : Yes
Single Line Question Option : No Option Orientation : Vertical

Correct Marks : 1 Wrong Marks : 0.25

The weight of a new-born increases by four times by the age of:

Options :

1. ✘ 9 months

2. ✘ 1 year
3. ✔ 2 years
4. ✘ 3 years

Question Number : 126 Question Id : 99836721260 Question Type : MCQ Option Shuffling : Yes Display Question Number : Yes
Single Line Question Option : No Option Orientation : Vertical

Correct Marks : 1 Wrong Marks : 0.25

नवजात शिशु का भार किस समयावधि/आयु में चार गुना बढ़ जाता है?

Options :

1. ✘ 9 महीने में
2. ✘ 1 वर्ष में
3. ✔ 2 वर्ष में
4. ✘ 3 वर्ष में

Question Number : 127 Question Id : 99836721261 Question Type : MCQ Option Shuffling : Yes Display Question Number : Yes
Single Line Question Option : No Option Orientation : Vertical

Correct Marks : 1 Wrong Marks : 0.25

ORS (Oral Rehydration Solution) once prepared should be used within:

Options :

1. ✘ 1 hour
2. ✘ 6 hours
3. ✘ 12 hours
4. ✔ 24 hours

Question Number : 127 Question Id : 99836721261 Question Type : MCQ Option Shuffling : Yes Display Question Number : Yes
Single Line Question Option : No Option Orientation : Vertical

Correct Marks : 1 Wrong Marks : 0.25

एक बार मौखिक पुनर्जलीकरण विलयन (ओरल रिहाइड्रेशन सॉल्यूशन/ORS) तैयार करने के बाद इसका _____ के अंदर उपयोग कर लेना चाहिए।

Options :

1. ✘ 1 घंटे

2. ✘ 6 घंटे

3. ✘ 12 घंटे

4. ✔ 24 घंटे

Question Number : 128 Question Id : 99836721262 Question Type : MCQ Option Shuffling : Yes Display Question Number : Yes
Single Line Question Option : No Option Orientation : Vertical

Correct Marks : 1 Wrong Marks : 0.25

In Gomez's classification, a child with 88% of normal weight for age will be classified as having:

Options :

1. ✔ mild malnutrition

2. ✘ moderate malnutrition

3. ✘ severe malnutrition

4. ✘ no malnutrition

Question Number : 128 Question Id : 99836721262 Question Type : MCQ Option Shuffling : Yes Display Question Number : Yes
Single Line Question Option : No Option Orientation : Vertical

Correct Marks : 1 Wrong Marks : 0.25

गोमेज़ के वर्गीकरण में, आयु के लिए 88% सामान्य भार वाले बच्चे को किस से ग्रसित रूप में वर्गीकृत किया जाएगा?

Options :

1. ✔ हल्का कुपोषण

2. ✘ मध्यम कुपोषण

3. ✘ गंभीर कुपोषण

4. ✘ कोई कुपोषण नहीं

Question Number : 129 Question Id : 99836721263 Question Type : MCQ Option Shuffling : Yes Display Question Number : Yes
Single Line Question Option : No Option Orientation : Vertical

Correct Marks : 1 Wrong Marks : 0.25

Ferric chloride test is used to diagnose:

Options :

1. ✔ phenylketonuria

2. ✘ alkaptanuria
3. ✘ hartnup disease
4. ✘ cystinuria

Question Number : 129 Question Id : 99836721263 Question Type : MCQ Option Shuffling : Yes Display Question Number : Yes
Single Line Question Option : No Option Orientation : Vertical

Correct Marks : 1 Wrong Marks : 0.25

इनमें से किसके निदान के लिए फेरिक क्लोराइड परीक्षण किया जाता है?

Options :

1. ✔ फ़ेनिलकीटोन्यूरिया
2. ✘ एल्केप्टान्यूरिया
3. ✘ हार्टनअप रोग
4. ✘ सिस्टीन्यूरिया

Question Number : 130 Question Id : 99836721264 Question Type : MCQ Option Shuffling : Yes Display Question Number : Yes
Single Line Question Option : No Option Orientation : Vertical

Correct Marks : 1 Wrong Marks : 0.25

Menkes syndrome is a disorder of:

Options :

1. ✔ copper transport
2. ✘ iron transport
3. ✘ sodium transport
4. ✘ potassium transport

Question Number : 130 Question Id : 99836721264 Question Type : MCQ Option Shuffling : Yes Display Question Number : Yes
Single Line Question Option : No Option Orientation : Vertical

Correct Marks : 1 Wrong Marks : 0.25

मेंक्स सहलक्षण (सिंड्रोम) इनमें से किसका एक विकार है?

Options :

1. ✔ ताम्र अपवाहन

2. ✘ लौह अपवाहन

3. ✘ सोडियम अपवाहन

4. ✘ पोटैशियम अपवाहन

Question Number : 131 Question Id : 99836721265 Question Type : MCQ Option Shuffling : Yes Display Question Number : Yes
Single Line Question Option : No Option Orientation : Vertical

Correct Marks : 1 Wrong Marks : 0.25

1 gm of haemoglobin contains _____ of bilirubin.

Options :

1. ✘ 25 mg

2. ✔ 35 mg

3. ✘ 45 mg

4. ✘ 55 mg

Question Number : 131 Question Id : 99836721265 Question Type : MCQ Option Shuffling : Yes Display Question Number : Yes
Single Line Question Option : No Option Orientation : Vertical

Correct Marks : 1 Wrong Marks : 0.25

1 gm हीमोग्लोबिन में _____ बिलिरुबिन होता है।

Options :

1. ✘ 25 mg

2. ✔ 35 mg

3. ✘ 45 mg

4. ✘ 55 mg

Question Number : 132 Question Id : 99836721266 Question Type : MCQ Option Shuffling : Yes Display Question Number : Yes
Single Line Question Option : No Option Orientation : Vertical

Correct Marks : 1 Wrong Marks : 0.25

Myotonic dystrophy is a:

Options :

1. ✔ autosomal dominant

2. ✘ autosomal recessive
3. ✘ XP-linked recessive
4. ✘ Xq28-linked recessive

Question Number : 132 Question Id : 99836721266 Question Type : MCQ Option Shuffling : Yes Display Question Number : Yes
Single Line Question Option : No Option Orientation : Vertical
Correct Marks : 1 Wrong Marks : 0.25

पेशीतानतायिक दुर्विकास (मायोटोनिक डिस्ट्रॉफी) क्या है?

Options :

1. ✔ अलिंगी-गुणसूत्री प्रभावी (ऑटोसोमल डॉमिनेंट)
2. ✘ अलिंगी-गुणसूत्री अप्रभावी (ऑटोसोमल रेसेसिव)
3. ✘ XP-बद्ध (लिंकड) अप्रभावी (रेसेसिव)
4. ✘ Xq28-बद्ध (लिंकड) अप्रभावी (रेसेसिव)

Question Number : 133 Question Id : 99836721267 Question Type : MCQ Option Shuffling : Yes Display Question Number : Yes
Single Line Question Option : No Option Orientation : Vertical
Correct Marks : 1 Wrong Marks : 0.25

Wilson disease is an inborn error of:

Options :

1. ✘ aluminium metabolism
2. ✘ zinc metabolism
3. ✔ copper metabolism
4. ✘ sodium metabolism

Question Number : 133 Question Id : 99836721267 Question Type : MCQ Option Shuffling : Yes Display Question Number : Yes
Single Line Question Option : No Option Orientation : Vertical
Correct Marks : 1 Wrong Marks : 0.25

विल्सन रोग इनमें से किसका एक जन्मजात दोष है?

Options :

1. ✘ एल्युमिनियम चयापचय

2. ✘ जस्ता चयापचय

3. ✔ ताम्र चयापचय

4. ✘ सोडियम चयापचय

Question Number : 134 Question Id : 99836721268 Question Type : MCQ Option Shuffling : Yes Display Question Number : Yes
Single Line Question Option : No Option Orientation : Vertical

Correct Marks : 1 Wrong Marks : 0.25

Deficiency of vitamin D in children causes:

Options :

1. ✘ xerophthalmus

2. ✘ scurvy

3. ✘ beriberi

4. ✔ rickets

Question Number : 134 Question Id : 99836721268 Question Type : MCQ Option Shuffling : Yes Display Question Number : Yes
Single Line Question Option : No Option Orientation : Vertical

Correct Marks : 1 Wrong Marks : 0.25

बच्चों में विटामिन D की कमी से क्या होता है?

Options :

1. ✘ शुष्काक्षिपाक (ज़ेराफ़्थैल्मस)

2. ✘ स्कर्वी

3. ✘ बेरीबेरी

4. ✔ सूखा रोग (रिकेट्स)

Question Number : 135 Question Id : 99836721269 Question Type : MCQ Option Shuffling : Yes Display Question Number : Yes
Single Line Question Option : No Option Orientation : Vertical

Correct Marks : 1 Wrong Marks : 0.25

The amount of iron in human milk is:

Options :

1. ✘ 0.01 – 0.20 mg/dl

2. ✓ 0.029 – 0.49 mg/dl

3. ✘ 0.51 – 0.63 mg/dl

4. ✘ 0.83 – 0.93 mg/dl

Question Number : 135 Question Id : 99836721269 Question Type : MCQ Option Shuffling : Yes Display Question Number : Yes
Single Line Question Option : No Option Orientation : Vertical

Correct Marks : 1 Wrong Marks : 0.25

मानव दूध में लौह (आयरन) की मात्रा कितनी होती है?

Options :

1. ✘ 0.01 - 0.20 mg/dl

2. ✓ 0.029 - 0.49 mg/dl

3. ✘ 0.51 - 0.63 mg/dl

4. ✘ 0.83 - 0.93 mg/dl

Question Number : 136 Question Id : 99836721270 Question Type : MCQ Option Shuffling : Yes Display Question Number : Yes
Single Line Question Option : No Option Orientation : Vertical

Correct Marks : 1 Wrong Marks : 0.25

Who demonstrated the presence of bacteria in air?

Options :

1. ✘ Robert Koch

2. ✘ Lambel Shattuck

3. ✘ Chadwick

4. ✓ Louis Pasteur

Question Number : 136 Question Id : 99836721270 Question Type : MCQ Option Shuffling : Yes Display Question Number : Yes
Single Line Question Option : No Option Orientation : Vertical

Correct Marks : 1 Wrong Marks : 0.25

हवा में बैक्टीरिया की उपस्थिति को किसने प्रदर्शित किया था?

Options :

1. ✘ रॉबर्ट कोच ने

2. ✘ लैम्बेल शैटक ने
3. ✘ चैडविक ने
4. ✔ लुई पास्चर ने

Question Number : 137 Question Id : 99836721271 Question Type : MCQ Option Shuffling : Yes Display Question Number : Yes
Single Line Question Option : No Option Orientation : Vertical

Correct Marks : 1 Wrong Marks : 0.25

A state of physical, mental and social wellbeing and NOT merely an absence of disease or infirmity is called:

Options :

1. ✘ community
2. ✔ health
3. ✘ disease
4. ✘ prevention

Question Number : 137 Question Id : 99836721271 Question Type : MCQ Option Shuffling : Yes Display Question Number : Yes
Single Line Question Option : No Option Orientation : Vertical

Correct Marks : 1 Wrong Marks : 0.25

शारीरिक, मानसिक और सामाजिक कल्याण की वह अवस्था जिसमें रोग या दुर्बलता की केवल अनुपस्थिति मात्र नहीं होती, क्या कहलाती है?

Options :

1. ✘ समुदाय
2. ✔ स्वास्थ्य
3. ✘ रोग
4. ✘ रोकथाम

Question Number : 138 Question Id : 99836721272 Question Type : MCQ Option Shuffling : Yes Display Question Number : Yes
Single Line Question Option : No Option Orientation : Vertical

Correct Marks : 1 Wrong Marks : 0.25

The following are characteristics of health care, except:

Options :

1. ✘ adequacy

2. ✘ appropriateness

3. ✔ relevance

4. ✘ availability

Question Number : 138 Question Id : 99836721272 Question Type : MCQ Option Shuffling : Yes Display Question Number : Yes
Single Line Question Option : No Option Orientation : Vertical

Correct Marks : 1 Wrong Marks : 0.25

निम्नलिखित में से किस के अतिरिक्त शेष स्वास्थ्य देखभाल की विशेषताएँ हैं?

Options :

1. ✘ पर्याप्तता

2. ✘ उपयुक्तता

3. ✔ प्रासंगिकता

4. ✘ उपलब्धता

Question Number : 139 Question Id : 99836721273 Question Type : MCQ Option Shuffling : Yes Display Question Number : Yes
Single Line Question Option : No Option Orientation : Vertical

Correct Marks : 1 Wrong Marks : 0.25

Epidemiological triad is:

Options :

1. ✔ environment, agent, host

2. ✘ environment, disease, host

3. ✘ disease agent, man, host

4. ✘ disease agent, host , environment

Question Number : 139 Question Id : 99836721273 Question Type : MCQ Option Shuffling : Yes Display Question Number : Yes
Single Line Question Option : No Option Orientation : Vertical

Correct Marks : 1 Wrong Marks : 0.25

महामारी विज्ञान का त्रय (एपिडेमियोलॉजिकल ट्रायड) क्या है?

Options :

1. ✔ वातावरण, अभिकर्ता, पोषक

2. ✘ वातावरण, रोग, पोषक
3. ✘ रोग अभिकर्ता, व्यक्ति, पोषक
4. ✘ रोग अभिकर्ता, पोषक, वातावरण

Question Number : 140 Question Id : 99836721274 Question Type : MCQ Option Shuffling : Yes Display Question Number : Yes
Single Line Question Option : No Option Orientation : Vertical

Correct Marks : 1 Wrong Marks : 0.25

Action taken prior to the onset of a disease, which removes the possibility that a disease will ever occur is called:

Options :

1. ✘ primordial prevention
2. ✔ primary prevention
3. ✘ secondary prevention
4. ✘ tertiary prevention

Question Number : 140 Question Id : 99836721274 Question Type : MCQ Option Shuffling : Yes Display Question Number : Yes
Single Line Question Option : No Option Orientation : Vertical

Correct Marks : 1 Wrong Marks : 0.25

एक रोग के आरंभ होने से पहले की गई कार्रवाई, जो आगे कभी भी रोग होने की संभावना को दूर करती है, क्या कहलाती है?

Options :

1. ✘ आरंभिक रोकथाम
2. ✔ प्राथमिक रोकथाम
3. ✘ द्वितीयक रोकथाम
4. ✘ तृतीयक रोकथाम

Discipline3

Group Number :	8
Group Id :	998367797
Group Maximum Duration :	0
Group Minimum Duration :	0
Revisit allowed for view? :	No

Revisit allowed for edit? :	No
Break time:	0
Group Marks:	20
Revisit allowed for group Instructions? :	Yes
Maximum Instruction Time:	0
Minimum Instruction Time:	0

	Discipline3
Section Id :	998367918
Section Number :	1
Section type :	Online
Mandatory or Optional:	Mandatory
Number of Questions:	20
Number of Questions to be attempted:	20
Section Marks:	20
Display Number Panel:	Yes
Group All Questions:	No

Sub-Section Number:	1
Sub-Section Id:	9983671160
Question Shuffling Allowed :	Yes

Question Number : 141 Question Id : 99836721275 Question Type : MCQ Option Shuffling : Yes Display Question Number : Yes
Single Line Question Option : No Option Orientation : Vertical
Correct Marks : 1 Wrong Marks : 0.25

An example of primordial prevention is:

Options :

1. physical exercise
2. hand wash
3. screening test
4. case-finding programmes

Question Number : 141 Question Id : 99836721275 Question Type : MCQ Option Shuffling : Yes Display Question Number : Yes
Single Line Question Option : No Option Orientation : Vertical
Correct Marks : 1 Wrong Marks : 0.25

निम्नलिखित में से क्या आरंभिक रोकथाम का एक उदाहरण है?

Options :

1. शारीरिक व्यायाम
2. हाथ धोना

3. ✘ अनुवीक्षण (स्क्रीनिंग) परीक्षण

4. ✘ प्रकरण-अन्वेषण (केस-फ़ाइंडिंग) कार्यक्रम

Question Number : 142 Question Id : 99836721276 Question Type : MCQ Option Shuffling : Yes Display Question Number : Yes
Single Line Question Option : No Option Orientation : Vertical

Correct Marks : 1 Wrong Marks : 0.25

Epidemiology is the:

Options :

1. ✘ basic science of disease and prevention

2. ✘ basic science of community and disease

3. ✘ basic science of preventive and disease modification

4. ✔ basic science of preventive and social medicine

Question Number : 142 Question Id : 99836721276 Question Type : MCQ Option Shuffling : Yes Display Question Number : Yes
Single Line Question Option : No Option Orientation : Vertical

Correct Marks : 1 Wrong Marks : 0.25

महामारी विज्ञान (एपिडेमियोलॉजी) क्या है?

Options :

1. ✘ रोग और उसकी रोकथाम का मूलभूत विज्ञान

2. ✘ समुदाय और रोग का मूलभूत विज्ञान

3. ✘ निवारक और रोग संशोधन का मूलभूत विज्ञान

4. ✔ निवारक और सामाजिक चिकित्सा का मूलभूत विज्ञान

Question Number : 143 Question Id : 99836721277 Question Type : MCQ Option Shuffling : Yes Display Question Number : Yes
Single Line Question Option : No Option Orientation : Vertical

Correct Marks : 1 Wrong Marks : 0.25

The number of deaths per 1000 estimated midyear population in a year, at a given place is called:

Options :

1. ✘ specific death rate

2. ✘ case fatality rate
3. ✔ crude death rate
4. ✘ proportional mortality rate

Question Number : 143 Question Id : 99836721277 Question Type : MCQ Option Shuffling : Yes Display Question Number : Yes
Single Line Question Option : No Option Orientation : Vertical

Correct Marks : 1 Wrong Marks : 0.25

किसी प्रदत्त स्थान पर, एक वर्ष में प्रति 1000 की अनुमानित मध्य-वर्ष जनसंख्या (मिडइयर पॉपुलेशन) में होने वाली मृत्यु की संख्या को क्या कहा जाता है?

Options :

1. ✘ विशिष्ट मृत्यु दर
2. ✘ परिस्थिति मृत्यु दर
3. ✔ अशोधित (कूड) मृत्यु दर
4. ✘ आनुपातिक मृत्यु दर

Question Number : 144 Question Id : 99836721278 Question Type : MCQ Option Shuffling : Yes Display Question Number : Yes
Single Line Question Option : No Option Orientation : Vertical

Correct Marks : 1 Wrong Marks : 0.25

The number of new cases occurring in a defined population during a specified period of time is called:

Options :

1. ✘ prevalence
2. ✔ incidence
3. ✘ survival rate
4. ✘ death rate

Question Number : 144 Question Id : 99836721278 Question Type : MCQ Option Shuffling : Yes Display Question Number : Yes
Single Line Question Option : No Option Orientation : Vertical

Correct Marks : 1 Wrong Marks : 0.25

किसी विशिष्ट कालखंड में परिभाषित जनसंख्या में होने वाले नए प्रकरणों की संख्या को क्या कहा जाता है?

Options :

1. ✘ प्रसार (प्रीवैलेंस)

2. ✓ घटना (इंसिडेन्स)
3. ✘ उत्तरजीविता (सर्वाइवल) दर
4. ✘ मृत्यु दर

Question Number : 145 Question Id : 99836721279 Question Type : MCQ Option Shuffling : Yes Display Question Number : Yes
Single Line Question Option : No Option Orientation : Vertical

Correct Marks : 1 Wrong Marks : 0.25

Case control study is a type of:

Options :

1. ✘ descriptive study
2. ✘ community trials
3. ✓ analytical study
4. ✘ field trials

Question Number : 145 Question Id : 99836721279 Question Type : MCQ Option Shuffling : Yes Display Question Number : Yes
Single Line Question Option : No Option Orientation : Vertical

Correct Marks : 1 Wrong Marks : 0.25

प्रकरण नियंत्रण (केस कंट्रोल) अध्ययन एक प्रकार का _____ है।

Options :

1. ✘ वर्णनात्मक अध्ययन
2. ✘ सामुदायिक परीक्षण
3. ✓ विश्लेषणात्मक अध्ययन
4. ✘ क्षेत्र (फील्ड) परीक्षण

Question Number : 146 Question Id : 99836721280 Question Type : MCQ Option Shuffling : Yes Display Question Number : Yes
Single Line Question Option : No Option Orientation : Vertical

Correct Marks : 1 Wrong Marks : 0.25

The following are the other names of cohort study, except:

Options :

1. ✘ prospective study

2. ✘ longitudinal study
3. ✔ retrospective study
4. ✘ incidence study

Question Number : 146 Question Id : 99836721280 Question Type : MCQ Option Shuffling : Yes Display Question Number : Yes
Single Line Question Option : No Option Orientation : Vertical

Correct Marks : 1 Wrong Marks : 0.25

निम्नलिखित में से किस के अतिरिक्त, अन्य कोहर्ट अध्ययन के नाम हैं?

Options :

1. ✘ पुरोगामी (प्रॉस्पेक्टिव) अध्ययन
2. ✘ अनुदैर्घ्य (लॉन्गिट्यूडिनल) अध्ययन
3. ✔ पूर्वव्यापी (रेट्रोस्पेक्टिव) अध्ययन
4. ✘ घटना (इंसिडेन्स) अध्ययन

Question Number : 147 Question Id : 99836721281 Question Type : MCQ Option Shuffling : Yes Display Question Number : Yes
Single Line Question Option : No Option Orientation : Vertical

Correct Marks : 1 Wrong Marks : 0.25

An epidemic of disease in bird population is called:

Options :

1. ✘ epizootic
2. ✘ enzootic
3. ✘ exotic
4. ✔ epornithic

Question Number : 147 Question Id : 99836721281 Question Type : MCQ Option Shuffling : Yes Display Question Number : Yes
Single Line Question Option : No Option Orientation : Vertical

Correct Marks : 1 Wrong Marks : 0.25

पक्षी-समुदाय में रोग की महामारी को क्या कहा जाता है?

Options :

1. ✘ जंतुमारी (एपिज़ोओटिक)

2. ✘ पशुस्थानिक (एंज़ोओटिक)

3. ✘ विदेशज (एक्ज़ॉटिक)

4. ✔ एपॉर्निथिक

Question Number : 148 Question Id : 99836721282 Question Type : MCQ Option Shuffling : Yes Display Question Number : Yes
Single Line Question Option : No Option Orientation : Vertical

Correct Marks : 1 Wrong Marks : 0.25

निम्नलिखित में से किस के अतिरिक्त अन्य सजीव तनुकृत (एटेन्युएटेड) टीके हैं?

Options :

1. ✘ बी.सी.जी.(BCG)

2. ✘ खसरा

3. ✔ टाइफ़ॉइड

4. ✘ रोटोवायरस

Question Number : 148 Question Id : 99836721282 Question Type : MCQ Option Shuffling : Yes Display Question Number : Yes
Single Line Question Option : No Option Orientation : Vertical

Correct Marks : 1 Wrong Marks : 0.25

The following are live attenuated vaccines, except:

Options :

1. ✘ BCG

2. ✘ measles

3. ✔ typhoid

4. ✘ rotavirus

Question Number : 149 Question Id : 99836721283 Question Type : MCQ Option Shuffling : Yes Display Question Number : Yes
Single Line Question Option : No Option Orientation : Vertical

Correct Marks : 1 Wrong Marks : 0.25

A polio vaccine is stored at:

Options :

1. ✘ 0 °C

2. ✓ $-20\text{ }^{\circ}\text{C}$

3. ✗ $-30\text{ }^{\circ}\text{C}$

4. ✗ $-40\text{ }^{\circ}\text{C}$

Question Number : 149 Question Id : 99836721283 Question Type : MCQ Option Shuffling : Yes Display Question Number : Yes
Single Line Question Option : No Option Orientation : Vertical

Correct Marks : 1 Wrong Marks : 0.25

पोलियो के टीके को किस तापमान पर भंडारित किया जाता है?

Options :

1. ✗ $0\text{ }^{\circ}\text{C}$

2. ✓ $-20\text{ }^{\circ}\text{C}$

3. ✗ $-30\text{ }^{\circ}\text{C}$

4. ✗ $-40\text{ }^{\circ}\text{C}$

Question Number : 150 Question Id : 99836721284 Question Type : MCQ Option Shuffling : Yes Display Question Number : Yes
Single Line Question Option : No Option Orientation : Vertical

Correct Marks : 1 Wrong Marks : 0.25

In PHC's, the deep freezer's cabinet temperature is maintained between:

Options :

1. ✓ $-15\text{ }^{\circ}\text{C}$ to $-25\text{ }^{\circ}\text{C}$

2. ✗ $-30\text{ }^{\circ}\text{C}$ to $-40\text{ }^{\circ}\text{C}$

3. ✗ $-45\text{ }^{\circ}\text{C}$ to $-55\text{ }^{\circ}\text{C}$

4. ✗ $-60\text{ }^{\circ}\text{C}$ to $-70\text{ }^{\circ}\text{C}$

Question Number : 150 Question Id : 99836721284 Question Type : MCQ Option Shuffling : Yes Display Question Number : Yes
Single Line Question Option : No Option Orientation : Vertical

Correct Marks : 1 Wrong Marks : 0.25

प्राथमिक स्वास्थ्य केंद्रों (PHC) में, गहन हिमित्रीकारक प्रकोष्ठ (डीप फ्रीज़र कैबिनेट) के तापमान को निम्नलिखित में से किस के बीच बनाए रखा जाता है?

Options :

1. ✓ $-15\text{ }^{\circ}\text{C}$ से $-25\text{ }^{\circ}\text{C}$

2. ✗ $-30\text{ }^{\circ}\text{C}$ से $-40\text{ }^{\circ}\text{C}$

3. ✘ -45 °C से -55 °C

4. ✘ -60 °C से -70 °C

Question Number : 151 Question Id : 99836721285 Question Type : MCQ Option Shuffling : Yes Display Question Number : Yes
Single Line Question Option : No Option Orientation : Vertical

Correct Marks : 1 Wrong Marks : 0.25

The immunoglobulin which is transported across the placenta is:

Options :

1. ✘ IgA

2. ✘ IgM

3. ✘ IgD

4. ✔ IgG

Question Number : 151 Question Id : 99836721285 Question Type : MCQ Option Shuffling : Yes Display Question Number : Yes
Single Line Question Option : No Option Orientation : Vertical

Correct Marks : 1 Wrong Marks : 0.25

_____ वह इम्युनोग्लोबुलिन है जिसे संपूर्ण गर्भनाल में पहुँचाया जाता है।

Options :

1. ✘ IgA

2. ✘ IgM

3. ✘ IgD

4. ✔ IgG

Question Number : 152 Question Id : 99836721286 Question Type : MCQ Option Shuffling : Yes Display Question Number : Yes
Single Line Question Option : No Option Orientation : Vertical

Correct Marks : 1 Wrong Marks : 0.25

At what age, according to WHO classification of immunization, is the measles vaccine administered?

Options :

1. ✘ As soon as possible after birth

2. ✘ 6 –10 weeks

3. ✘ 4 – 5 months

4. ✔ 9 – 15 months

Question Number : 152 Question Id : 99836721286 Question Type : MCQ Option Shuffling : Yes Display Question Number : Yes
Single Line Question Option : No Option Orientation : Vertical

Correct Marks : 1 Wrong Marks : 0.25

इन्टरनेशनल हेल्थ ऑर्गेनाइजेशन (WHO) द्वारा किये गए प्रतिरक्षाकरण के वर्गीकरण के अनुसार, किस आयु में खसरे का टीका लगाया जाता है?

Options :

1. ✘ जन्म के बाद यथाशीघ्र

2. ✘ 6 -10 सप्ताह में

3. ✘ 4 - 5 महीने में

4. ✔ 9 - 15 महीने में

Question Number : 153 Question Id : 99836721287 Question Type : MCQ Option Shuffling : Yes Display Question Number : Yes
Single Line Question Option : No Option Orientation : Vertical

Correct Marks : 1 Wrong Marks : 0.25

Which of the following is a commonly used disinfectant for hand washing?

Options :

1. ✘ Bleaching powder

2. ✔ Ethyl alcohol

3. ✘ Peracetic acid

4. ✘ Phenol

Question Number : 153 Question Id : 99836721287 Question Type : MCQ Option Shuffling : Yes Display Question Number : Yes
Single Line Question Option : No Option Orientation : Vertical

Correct Marks : 1 Wrong Marks : 0.25

इनमें से क्या हाथ धोने के लिए सामान्यतः प्रयोग किया जाने वाला विसंक्रामक (डिसिंफैक्टेंट) है?

Options :

1. ✘ ब्लीचिंग पाउडर

2. ✔ इथाइल एल्कोहल

3. ✘ पेरसेटिक अम्ल

4. ✘ फेनॉल

Question Number : 154 Question Id : 99836721288 Question Type : MCQ Option Shuffling : Yes Display Question Number : Yes
Single Line Question Option : No Option Orientation : Vertical

Correct Marks : 1 Wrong Marks : 0.25

Which of the following is an example of mass screening?

Options :

1. ✘ Diabetes

2. ✔ Tuberculosis

3. ✘ Hypertension

4. ✘ Breast cancer

Question Number : 154 Question Id : 99836721288 Question Type : MCQ Option Shuffling : Yes Display Question Number : Yes
Single Line Question Option : No Option Orientation : Vertical

Correct Marks : 1 Wrong Marks : 0.25

इनमें से क्या व्यापक पैमाने (मास) पर अनुवीक्षण (स्क्रीनिंग) का एक उदाहरण है?

Options :

1. ✘ मधुमेह (डायबिटीज़)

2. ✔ तपेदिक (ट्यूबरक्युलोसिस/टी.बी.)

3. ✘ उच्च रक्तचाप (हाइपरटेंशन)

4. ✘ स्तन कैंसर

Question Number : 155 Question Id : 99836721289 Question Type : MCQ Option Shuffling : Yes Display Question Number : Yes
Single Line Question Option : No Option Orientation : Vertical

Correct Marks : 1 Wrong Marks : 0.25

The following are the uses of screening, except:

Options :

1. ✘ case detection

2. ✘ control of disease

3. ✓ multiphasic screening

4. ✘ educational opportunities

Question Number : 155 Question Id : 99836721289 Question Type : MCQ Option Shuffling : Yes Display Question Number : Yes
Single Line Question Option : No Option Orientation : Vertical

Correct Marks : 1 Wrong Marks : 0.25

निम्नलिखित में से किस के अतिरिक्त अन्य स्क्रीनिंग के प्रयोग हैं?

Options :

1. ✘ प्रकरण का पता लगाना

2. ✘ रोग का नियंत्रण

3. ✓ बहुचरणीय अनुवीक्षण

4. ✘ शिक्षा के अवसर

Question Number : 156 Question Id : 99836721290 Question Type : MCQ Option Shuffling : Yes Display Question Number : Yes
Single Line Question Option : No Option Orientation : Vertical

Correct Marks : 1 Wrong Marks : 0.25

The World Health Assembly confirmed the global eradication of small pox in the year:

Options :

1. ✘ 1970

2. ✓ 1980

3. ✘ 1990

4. ✘ 2000

Question Number : 156 Question Id : 99836721290 Question Type : MCQ Option Shuffling : Yes Display Question Number : Yes
Single Line Question Option : No Option Orientation : Vertical

Correct Marks : 1 Wrong Marks : 0.25

विश्व स्वास्थ्य सभा ने किस वर्ष चेचक (स्मॉल पॉक्स) के वैश्विक उन्मूलन की पुष्टि की?

Options :

1. ✘ 1970 में

2. ✓ 1980 में

3. ✘ 1990 में

4. ✘ 2000 में

Question Number : 157 Question Id : 99836721291 Question Type : MCQ Option Shuffling : Yes Display Question Number : Yes
Single Line Question Option : No Option Orientation : Vertical

Correct Marks : 1 Wrong Marks : 0.25

The incubation period for chicken pox is:

Options :

1. ✘ 0 – 5 days

2. ✔ 7 – 12 days

3. ✘ 25 – 28 days

4. ✘ After 1 month

Question Number : 157 Question Id : 99836721291 Question Type : MCQ Option Shuffling : Yes Display Question Number : Yes
Single Line Question Option : No Option Orientation : Vertical

Correct Marks : 1 Wrong Marks : 0.25

छोटी चेचक (चिकन पॉक्स) के लिए ऊष्मायन (इंक्यूबेशन) अवधि क्या है?

Options :

1. ✘ 0 - 5 दिन

2. ✔ 7 - 12 दिन

3. ✘ 25 - 28 दिन

4. ✘ 1 महीने बाद

Question Number : 158 Question Id : 99836721292 Question Type : MCQ Option Shuffling : Yes Display Question Number : Yes
Single Line Question Option : No Option Orientation : Vertical

Correct Marks : 1 Wrong Marks : 0.25

The most life-threatening complication of measles is:

Options :

1. ✔ pneumonia

2. ✘ skin infection

3. ✘ pharyngitis

4. ✘ jaundice

Question Number : 158 Question Id : 99836721292 Question Type : MCQ Option Shuffling : Yes Display Question Number : Yes
Single Line Question Option : No Option Orientation : Vertical

Correct Marks : 1 Wrong Marks : 0.25

खसरे से होने वाली की सर्वाधिक प्राणघातक जटिलता क्या है?

Options :

1. ✔ निमोनिया

2. ✘ त्वचा का संक्रमण

3. ✘ ग्रसनीशोथ (फैरिंजाइटिस)

4. ✘ पीलिया (जॉन्डिस)

Question Number : 159 Question Id : 99836721293 Question Type : MCQ Option Shuffling : Yes Display Question Number : Yes
Single Line Question Option : No Option Orientation : Vertical

Correct Marks : 1 Wrong Marks : 0.25

Hepatitis C is transmitted through:

Options :

1. ✘ touch

2. ✘ sharing food

3. ✘ faeces

4. ✔ blood

Question Number : 159 Question Id : 99836721293 Question Type : MCQ Option Shuffling : Yes Display Question Number : Yes
Single Line Question Option : No Option Orientation : Vertical

Correct Marks : 1 Wrong Marks : 0.25

हेपेटाइटिस C निम्नलिखित में से किस माध्यम से संचरित होता है?

Options :

1. ✘ स्पर्श द्वारा

2. ✘ खाद्य-पदार्थ साझा करने से

3. ✘ मल द्वारा

4. ✔ रक्त द्वारा

Question Number : 160 Question Id : 99836721294 Question Type : MCQ Option Shuffling : Yes Display Question Number : Yes
Single Line Question Option : No Option Orientation : Vertical

Correct Marks : 1 Wrong Marks : 0.25

The lymphatic filariasis covers infection with the following three closely related nematode worms, except:

Options :

1. ✔ P. sergenti

2. ✘ W. bancrofti

3. ✘ B. malayi

4. ✘ B. timoli

Question Number : 160 Question Id : 99836721294 Question Type : MCQ Option Shuffling : Yes Display Question Number : Yes
Single Line Question Option : No Option Orientation : Vertical

Correct Marks : 1 Wrong Marks : 0.25

लसीका फ़ाइलेरिया निम्नलिखित में से किस के अतिरिक्त तीन निकटस्थ सूत्रकृमियों (निमैटोइस) से संक्रमण को आवृत करता है?

Options :

1. ✔ पी. सर्जेंटी

2. ✘ डब्ल्यू. बैन्क्रॉफ़्टी

3. ✘ बी. मलायी

4. ✘ बी. टिमोली

Discipline4

Group Number :	9
Group Id :	998367798
Group Maximum Duration :	0
Group Minimum Duration :	0
Revisit allowed for view? :	No
Revisit allowed for edit? :	No
Break time:	0
Group Marks:	20
Revisit allowed for group Instructions? :	Yes

Maximum Instruction Time: 0
Minimum Instruction Time: 0

Discipline4
Section Id : 998367919
Section Number : 1
Section type : Online
Mandatory or Optional: Mandatory
Number of Questions: 20
Number of Questions to be attempted: 20
Section Marks: 20
Display Number Panel: Yes
Group All Questions: No

Sub-Section Number: 1
Sub-Section Id: 9983671161
Question Shuffling Allowed : Yes

Question Number : 161 Question Id : 99836721295 Question Type : MCQ Option Shuffling : Yes Display Question Number : Yes
Single Line Question Option : No Option Orientation : Vertical

Correct Marks : 1 Wrong Marks : 0.25

Which of the following is NOT a Madrid classification of leprosy?

Options :

1. ✘ Indeterminate
2. ✘ Tuberculoid
3. ✘ Border-lined
4. ✔ Pure neuritic

Question Number : 161 Question Id : 99836721295 Question Type : MCQ Option Shuffling : Yes Display Question Number : Yes
Single Line Question Option : No Option Orientation : Vertical

Correct Marks : 1 Wrong Marks : 0.25

इनमें से क्या कुष्ठ रोग का मैड्रिड वर्गीकरण नहीं है?

Options :

1. ✘ अनियत (इंडिटर्मिनेट)
2. ✘ गुलिकाभ (ट्यूबरक्युलॉइड)
3. ✘ सीमा-रेखीय (बॉर्डर-लाइंड)

4. ✓ विशुद्ध तंत्रिकाशोथीय न्यूराइटिक

Question Number : 162 Question Id : 99836721296 Question Type : MCQ Option Shuffling : Yes Display Question Number : Yes
Single Line Question Option : No Option Orientation : Vertical

Correct Marks : 1 Wrong Marks : 0.25

The following are sexually transmitted diseases, except:

Options :

1. ✗ gonorrhoea

2. ✓ leprosy

3. ✗ granuloma

4. ✗ AIDS

Question Number : 162 Question Id : 99836721296 Question Type : MCQ Option Shuffling : Yes Display Question Number : Yes
Single Line Question Option : No Option Orientation : Vertical

Correct Marks : 1 Wrong Marks : 0.25

निम्नलिखित में से किस के अतिरिक्त अन्य यौन संचारित रोग हैं?

Options :

1. ✗ प्रमेह (गोनोरिया)

2. ✓ कुष्ठ रोग

3. ✗ कणिकागुल्म (ग्रैन्युलोमा)

4. ✗ एड्स

Question Number : 163 Question Id : 99836721297 Question Type : MCQ Option Shuffling : Yes Display Question Number : Yes
Single Line Question Option : No Option Orientation : Vertical

Correct Marks : 1 Wrong Marks : 0.25

In which year was the National AIDS Control Programme launched in India?

Options :

1. ✗ 1980

2. ✗ 1983

3. ✓ 1987

4. ✘ 1990

Question Number : 163 Question Id : 99836721297 Question Type : MCQ Option Shuffling : Yes Display Question Number : Yes
Single Line Question Option : No Option Orientation : Vertical

Correct Marks : 1 Wrong Marks : 0.25

भारत में राष्ट्रीय एड्स नियंत्रण कार्यक्रम किस वर्ष आरंभ किया गया था?

Options :

1. ✘ 1980 में

2. ✘ 1983 में

3. ✔ 1987 में

4. ✘ 1990 में

Question Number : 164 Question Id : 99836721298 Question Type : MCQ Option Shuffling : Yes Display Question Number : Yes
Single Line Question Option : No Option Orientation : Vertical

Correct Marks : 1 Wrong Marks : 0.25

BMI 30.00 – 34.99 belongs to a classification of:

Options :

1. ✘ pre-obese

2. ✔ obese class I

3. ✘ obese class II

4. ✘ obese class III

Question Number : 164 Question Id : 99836721298 Question Type : MCQ Option Shuffling : Yes Display Question Number : Yes
Single Line Question Option : No Option Orientation : Vertical

Correct Marks : 1 Wrong Marks : 0.25

बी.एम.आई.(BMI) 30.00 - 34.99 इनमें से किस वर्गीकरण से संबंधित है?

Options :

1. ✘ मोटापे की पूर्वावस्था

2. ✔ मोटापा वर्ग I

3. ✘ मोटापा वर्ग II

4. ✘ मोटापा वर्ग III

Question Number : 165 Question Id : 99836721299 Question Type : MCQ Option Shuffling : Yes Display Question Number : Yes
Single Line Question Option : No Option Orientation : Vertical

Correct Marks : 1 Wrong Marks : 0.25

The national Maternity Benefit Scheme has been modified into a new scheme called JSY, which is:

Options :

1. ✔ Janani Suraksha Yojana

2. ✘ Janaki Suraksha Yojana

3. ✘ Janani Subah Yojana

4. ✘ Janani Subash Yojana

Question Number : 165 Question Id : 99836721299 Question Type : MCQ Option Shuffling : Yes Display Question Number : Yes
Single Line Question Option : No Option Orientation : Vertical

Correct Marks : 1 Wrong Marks : 0.25

राष्ट्रीय मातृत्व लाभ योजना को जे.एस.वाई.(JSY) नामक एक नई योजना के रूप में संशोधित किया गया है, वह क्या है?

Options :

1. ✔ जननी सुरक्षा योजना

2. ✘ जानकी सुरक्षा योजना

3. ✘ जननी सुबह योजना

4. ✘ जननी सुभाष योजना

Question Number : 166 Question Id : 99836721300 Question Type : MCQ Option Shuffling : Yes Display Question Number : Yes
Single Line Question Option : No Option Orientation : Vertical

Correct Marks : 1 Wrong Marks : 0.25

Swachh Bharat Abhiyan was launched in:

Options :

1. ✘ October 2013

2. ✘ November 2013

3. ✔ October 2014

4. ✘ November 2014

Question Number : 166 Question Id : 99836721300 Question Type : MCQ Option Shuffling : Yes Display Question Number : Yes
Single Line Question Option : No Option Orientation : Vertical

Correct Marks : 1 Wrong Marks : 0.25

स्वच्छ भारत अभियान कब आरंभ किया गया था?

Options :

1. ✘ अक्टूबर 2013 में

2. ✘ नवंबर 2013 में

3. ✔ अक्टूबर 2014 में

4. ✘ नवंबर 2014 में

Question Number : 167 Question Id : 99836721301 Question Type : MCQ Option Shuffling : Yes Display Question Number : Yes
Single Line Question Option : No Option Orientation : Vertical

Correct Marks : 1 Wrong Marks : 0.25

Which of the following is a terminal contraceptive method?

Options :

1. ✘ Barrier method

2. ✘ Hormonal method

3. ✔ Sterilization

4. ✘ Post-conceptional method

Question Number : 167 Question Id : 99836721301 Question Type : MCQ Option Shuffling : Yes Display Question Number : Yes
Single Line Question Option : No Option Orientation : Vertical

Correct Marks : 1 Wrong Marks : 0.25

इनमें से क्या एक अंतक (टर्मिनल) गर्भनिरोधक विधि है?

Options :

1. ✘ अवरोधक (बैरियर) विधि

2. ✘ हार्मोनल विधि

3. ✔ बंध्यकरण (स्टेरिलाइज़ेशन)

4. ✘ गर्भाधानोत्तर विधि (पोस्ट-कन्सेप्शनल मेथड)

Question Number : 168 Question Id : 99836721302 Question Type : MCQ Option Shuffling : Yes Display Question Number : Yes
Single Line Question Option : No Option Orientation : Vertical

Correct Marks : 1 Wrong Marks : 0.25

Copper-T belongs to:

Options :

1. ✘ First generation IUCDs
2. ✔ Second generation IUCDs
3. ✘ Third generation IUCDs
4. ✘ Fourth generation IUCDs

Question Number : 168 Question Id : 99836721302 Question Type : MCQ Option Shuffling : Yes Display Question Number : Yes
Single Line Question Option : No Option Orientation : Vertical

Correct Marks : 1 Wrong Marks : 0.25

कॉपर-टी इनमें से किससे संबंधित है?

Options :

1. ✘ पहली पीढ़ी के आई.यू.सी.डी.(IUCDs) से
2. ✔ दूसरी पीढ़ी के आई.यू.सी.डी.(IUCDs) से
3. ✘ तीसरी पीढ़ी के आई.यू.सी.डी.(IUCDs) से
4. ✘ चौथी पीढ़ी के आई.यू.सी.डी.(IUCDs) से

Question Number : 169 Question Id : 99836721303 Question Type : MCQ Option Shuffling : Yes Display Question Number : Yes
Single Line Question Option : No Option Orientation : Vertical

Correct Marks : 1 Wrong Marks : 0.25

Postcoital contraception is recommended _____ of unprotected intercourse.

Options :

1. ✘ within 24 hours
2. ✘ within 48 hours
3. ✔ within 72 hours

4. ✘ within 5 days

Question Number : 169 Question Id : 99836721303 Question Type : MCQ Option Shuffling : Yes Display Question Number : Yes
Single Line Question Option : No Option Orientation : Vertical

Correct Marks : 1 Wrong Marks : 0.25

असुरक्षित संभोग के _____ मैथुनोत्तर (पोस्टकोइटल) गर्भनिरोधक लेने की संस्तुति की जाती है।

Options :

1. ✘ 24 घंटे के अंदर

2. ✘ 48 घंटे के अंदर

3. ✔ 72 घंटे के अंदर

4. ✘ 5 दिनों के अंदर

Question Number : 170 Question Id : 99836721304 Question Type : MCQ Option Shuffling : Yes Display Question Number : Yes
Single Line Question Option : No Option Orientation : Vertical

Correct Marks : 1 Wrong Marks : 0.25

Breast milk contains _____ amount of iron.

Options :

1. ✘ 0.1 to 0.3 mg

2. ✔ 0.4 to 1.5 mg

3. ✘ 1.6 to 2.0 mg

4. ✘ 2 to 4 mg

Question Number : 170 Question Id : 99836721304 Question Type : MCQ Option Shuffling : Yes Display Question Number : Yes
Single Line Question Option : No Option Orientation : Vertical

Correct Marks : 1 Wrong Marks : 0.25

स्तनीय दूध में लौह (आयरन) की मात्रा _____ होती है।

Options :

1. ✘ 0.1 से 0.3 mg

2. ✔ 0.4 से 1.5 mg

3. ✘ 1.6 से 2.0 mg

4. ✘ 2 से 4 mg

Question Number : 171 Question Id : 99836721305 Question Type : MCQ Option Shuffling : Yes Display Question Number : Yes
Single Line Question Option : No Option Orientation : Vertical

Correct Marks : 1 Wrong Marks : 0.25

The following are body-building foods, except:

Options :

1. ✘ milk

2. ✘ meat

3. ✘ eggs

4. ✔ sugar

Question Number : 171 Question Id : 99836721305 Question Type : MCQ Option Shuffling : Yes Display Question Number : Yes
Single Line Question Option : No Option Orientation : Vertical

Correct Marks : 1 Wrong Marks : 0.25

निम्नलिखित में से किस के अतिरिक्त अन्य शरीर गठन करने वाले खाद्य पदार्थ हैं?

Options :

1. ✘ दूध

2. ✘ मांस

3. ✘ अंडा

4. ✔ शर्करा

Question Number : 172 Question Id : 99836721306 Question Type : MCQ Option Shuffling : Yes Display Question Number : Yes
Single Line Question Option : No Option Orientation : Vertical

Correct Marks : 1 Wrong Marks : 0.25

Which of the following is an essential amino acid?

Options :

1. ✘ Arginine

2. ✘ Serine

3. ✔ Lysine

4. ✘ Glycine

Question Number : 172 Question Id : 99836721306 Question Type : MCQ Option Shuffling : Yes Display Question Number : Yes
Single Line Question Option : No Option Orientation : Vertical

Correct Marks : 1 Wrong Marks : 0.25

इनमें से क्या एक अनिवार्य अमीनो अम्ल है?

Options :

1. ✘ आर्जिनिन
2. ✘ सेरीन
3. ✔ लाइसिन
4. ✘ ग्लाइसिन

Question Number : 173 Question Id : 99836721307 Question Type : MCQ Option Shuffling : Yes Display Question Number : Yes
Single Line Question Option : No Option Orientation : Vertical

Correct Marks : 1 Wrong Marks : 0.25

Arachidonic acid is abundantly found in:

Options :

1. ✘ vegetable oil
2. ✘ palm oil
3. ✔ meat
4. ✘ fish oil

Question Number : 173 Question Id : 99836721307 Question Type : MCQ Option Shuffling : Yes Display Question Number : Yes
Single Line Question Option : No Option Orientation : Vertical

Correct Marks : 1 Wrong Marks : 0.25

ऐराकिडॉनिक अम्ल _____ में प्रचुर मात्रा में पाया जाता है।

Options :

1. ✘ वनस्पति तेल
2. ✘ ताड़ के तेल
3. ✔ मांस
4. ✘ मछली के तेल

Question Number : 174 Question Id : 99836721308 Question Type : MCQ Option Shuffling : Yes Display Question Number : Yes
Single Line Question Option : No Option Orientation : Vertical

Correct Marks : 1 Wrong Marks : 0.25

Vitamin B3 is also called:

Options :

1. ✘ riboflavin
2. ✔ niacin
3. ✘ pyridoxine
4. ✘ pantothenic acid

Question Number : 174 Question Id : 99836721308 Question Type : MCQ Option Shuffling : Yes Display Question Number : Yes
Single Line Question Option : No Option Orientation : Vertical

Correct Marks : 1 Wrong Marks : 0.25

विटामिन B3 को _____ भी कहा जाता है।

Options :

1. ✘ राइबोफ्लेविन
2. ✔ नियासिन
3. ✘ पायरिडॉक्सिन
4. ✘ पैंटोथेनिक अम्ल

Question Number : 175 Question Id : 99836721309 Question Type : MCQ Option Shuffling : Yes Display Question Number : Yes
Single Line Question Option : No Option Orientation : Vertical

Correct Marks : 1 Wrong Marks : 0.25

The richest source of Vitamin C is:

Options :

1. ✔ amla
2. ✘ milk
3. ✘ fish
4. ✘ curd

Question Number : 175 Question Id : 99836721309 Question Type : MCQ Option Shuffling : Yes Display Question Number : Yes
Single Line Question Option : No Option Orientation : Vertical

Correct Marks : 1 Wrong Marks : 0.25

विटामिन C का सर्वाधिक समृद्ध स्रोत क्या है?

Options :

1. ✓ आँवला
2. ✗ दूध
3. ✗ मछली
4. ✗ दही

Question Number : 176 Question Id : 99836721310 Question Type : MCQ Option Shuffling : Yes Display Question Number : Yes
Single Line Question Option : No Option Orientation : Vertical

Correct Marks : 1 Wrong Marks : 0.25

_____ milk is rich in calcium.

Options :

1. ✓ Buffalo
2. ✗ Cow
3. ✗ Goat
4. ✗ Human

Question Number : 176 Question Id : 99836721310 Question Type : MCQ Option Shuffling : Yes Display Question Number : Yes
Single Line Question Option : No Option Orientation : Vertical

Correct Marks : 1 Wrong Marks : 0.25

_____ के दूध में कैल्शियम भरपूर होता है।

Options :

1. ✓ भैंस
2. ✗ गाय
3. ✗ बकरी
4. ✗ मानव

Question Number : 177 Question Id : 99836721311 Question Type : MCQ Option Shuffling : Yes Display Question Number : Yes
Single Line Question Option : No Option Orientation : Vertical

Correct Marks : 1 Wrong Marks : 0.25

Milk ejection reflex is also called:

Options :

1. ✘ prolactin reflex
2. ✔ oxytocin reflex
3. ✘ progesterone reflex
4. ✘ estrogen reflex

Question Number : 177 Question Id : 99836721311 Question Type : MCQ Option Shuffling : Yes Display Question Number : Yes
Single Line Question Option : No Option Orientation : Vertical

Correct Marks : 1 Wrong Marks : 0.25

दुग्ध निःसारण प्रतिवर्त (मिल्क इजेक्शन रिफ्लेक्स) को _____ भी कहा जाता है।

Options :

1. ✘ प्रोलैक्टिन प्रतिवर्त
2. ✔ ऑक्सीटोसिन प्रतिवर्त
3. ✘ प्रोजेस्टेरॉन प्रतिवर्त
4. ✘ एस्ट्रोजेन प्रतिवर्त

Question Number : 178 Question Id : 99836721312 Question Type : MCQ Option Shuffling : Yes Display Question Number : Yes
Single Line Question Option : No Option Orientation : Vertical

Correct Marks : 1 Wrong Marks : 0.25

Occupational disease due to cotton dust is called:

Options :

1. ✘ anthracosis
2. ✘ bagassosis
3. ✔ byssinosis
4. ✘ farmer's lung

Question Number : 178 Question Id : 99836721312 Question Type : MCQ Option Shuffling : Yes Display Question Number : Yes
Single Line Question Option : No Option Orientation : Vertical

Correct Marks : 1 Wrong Marks : 0.25

कपास धूल के कारण होने वाले व्यवसायजनित रोग को क्या कहा जाता है?

Options :

1. ✘ फुफुसकालिमा (एन्थेकोसिस)
2. ✘ ईखधूलिमयता (बैगेसोसिस)
3. ✔ फुफुस-कार्पासता (बाइसिनोसिस)
4. ✘ कृषक फुफुस (फ़ार्मर्स लंग)

Question Number : 179 Question Id : 99836721313 Question Type : MCQ Option Shuffling : Yes Display Question Number : Yes
 Single Line Question Option : No Option Orientation : Vertical
 Correct Marks : 1 Wrong Marks : 0.25

The following are the autosomal dominant traits, except:

Options :

1. ✘ achondroplasia
2. ✔ Tay-Sachs disease
3. ✘ Huntington's chorea
4. ✘ Marfan syndrome

Question Number : 179 Question Id : 99836721313 Question Type : MCQ Option Shuffling : Yes Display Question Number : Yes
 Single Line Question Option : No Option Orientation : Vertical
 Correct Marks : 1 Wrong Marks : 0.25

निम्नलिखित में से किस के अतिरिक्त अन्य अलिंगसूत्री प्रधान विशेषताएँ (ऑटोसोमल डॉमिनेंट ट्रेट्स) हैं?

Options :

1. ✘ भ्रूणास्थिशोथ (एकॉण्ड्रोप्लासिया)
2. ✔ टे-सैक्स (Tay-Sachs) रोग
3. ✘ हंटिंगटन काकोरिया (Huntington's Chorea)
4. ✘ मार्फन सहलक्षण (सिंड्रोम)

Question Number : 180 Question Id : 99836721314 Question Type : MCQ Option Shuffling : Yes Display Question Number : Yes
 Single Line Question Option : No Option Orientation : Vertical
 Correct Marks : 1 Wrong Marks : 0.25

District hospitals and community health centres are under:

Options :

1. ✘ primary care level
2. ✔ secondary care level
3. ✘ tertiary care level
4. ✘ basic care level

Question Number : 180 Question Id : 99836721314 Question Type : MCQ Option Shuffling : Yes Display Question Number : Yes
Single Line Question Option : No Option Orientation : Vertical

Correct Marks : 1 Wrong Marks : 0.25

ज़िला चिकित्सालय और सामुदायिक स्वास्थ्य केंद्र निम्नलिखित में से किस के अंतर्गत आते हैं?

Options :

1. ✘ प्राथमिक देखभाल स्तर
2. ✔ द्वितीयक देखभाल स्तर
3. ✘ तृतीयक देखभाल स्तर
4. ✘ मूलभूत देखभाल स्तर

Discipline5

Group Number :	10
Group Id :	998367799
Group Maximum Duration :	0
Group Minimum Duration :	120
Revisit allowed for view? :	No
Revisit allowed for edit? :	No
Break time:	0
Group Marks:	20
Revisit allowed for group Instructions? :	Yes
Maximum Instruction Time:	0
Minimum Instruction Time:	0

Discipline5

Section Id :	998367920
Section Number :	1
Section type :	Online
Mandatory or Optional:	Mandatory
Number of Questions:	20

Number of Questions to be attempted:	20
Section Marks:	20
Display Number Panel:	Yes
Group All Questions:	No

Sub-Section Number:	1
Sub-Section Id:	9983671162
Question Shuffling Allowed :	Yes

Question Number : 181 Question Id : 99836721315 Question Type : MCQ Option Shuffling : Yes Display Question Number : Yes
Single Line Question Option : No Option Orientation : Vertical

Correct Marks : 1 Wrong Marks : 0.25

Nischay is a:

Options :

1. ✓ pregnancy test kit
2. ✗ STD test kit
3. ✗ kit for rapid malaria diagnosis
4. ✗ spot test for HIV

Question Number : 181 Question Id : 99836721315 Question Type : MCQ Option Shuffling : Yes Display Question Number : Yes
Single Line Question Option : No Option Orientation : Vertical

Correct Marks : 1 Wrong Marks : 0.25

निश्चय क्या है?

Options :

1. ✓ गर्भावस्था परीक्षण किट
2. ✗ एस.टी.डी.(STD) परीक्षण किट
3. ✗ मलेरिया के तीव्र निदान के लिए किट
4. ✗ एच.आई.वी.(HIV) के लिए स्थानिक (स्पॉट) टेस्ट

Question Number : 182 Question Id : 99836721316 Question Type : MCQ Option Shuffling : Yes Display Question Number : Yes
Single Line Question Option : No Option Orientation : Vertical

Correct Marks : 1 Wrong Marks : 0.25

The most common occupational cancer is:

Options :

1. ✓ skin cancer

2. ✘ lung cancer
3. ✘ bladder cancer
4. ✘ leukaemia

Question Number : 182 Question Id : 99836721316 Question Type : MCQ Option Shuffling : Yes Display Question Number : Yes
Single Line Question Option : No Option Orientation : Vertical

Correct Marks : 1 Wrong Marks : 0.25

सर्वाधिक सामान्य व्यवसायजन्य कैंसर कौन सा है?

Options :

1. ✔ त्वचा कैंसर
2. ✘ फेफड़ों का कैंसर
3. ✘ मूत्राशय (ब्लैडर) का कैंसर
4. ✘ श्वेत रक्तता (ल्यूकेमिया)

Question Number : 183 Question Id : 99836721317 Question Type : MCQ Option Shuffling : Yes Display Question Number : Yes
Single Line Question Option : No Option Orientation : Vertical

Correct Marks : 1 Wrong Marks : 0.25

Category 5 of biomedical waste indicates:

Options :

1. ✘ waste sharps
2. ✔ cytotoxic waste
3. ✘ human anatomical waste
4. ✘ biotechnology waste

Question Number : 183 Question Id : 99836721317 Question Type : MCQ Option Shuffling : Yes Display Question Number : Yes
Single Line Question Option : No Option Orientation : Vertical

Correct Marks : 1 Wrong Marks : 0.25

जैव चिकित्सा अपशिष्ट की श्रेणी 5 क्या इंगित करती है?

Options :

1. ✘ अपशिष्ट पदार्थों का ढेर

2. ✓ कोशिकाविषी (साइटोटॉक्सिक) अपशिष्ट

3. ✘ मानव शरीर-रचनागत अपशिष्ट

4. ✘ जैव-प्रौद्योगिकी अपशिष्ट

Question Number : 184 Question Id : 99836721318 Question Type : MCQ Option Shuffling : Yes Display Question Number : Yes
Single Line Question Option : No Option Orientation : Vertical

Correct Marks : 1 Wrong Marks : 0.25

The study of the physical, social and cultural history of man is called:

Options :

1. ✘ sociology

2. ✘ social medicine

3. ✘ social psychology

4. ✓ anthropology

Question Number : 184 Question Id : 99836721318 Question Type : MCQ Option Shuffling : Yes Display Question Number : Yes
Single Line Question Option : No Option Orientation : Vertical

Correct Marks : 1 Wrong Marks : 0.25

मनुष्य के शारीरिक, सामाजिक और सांस्कृतिक इतिहास के अध्ययन को क्या कहते हैं?

Options :

1. ✘ समाज शास्त्र

2. ✘ सामाजिक चिकित्सा

3. ✘ सामाजिक मनोविज्ञान

4. ✓ नृविज्ञान (एंथ्रोपोलॉजी)

Question Number : 185 Question Id : 99836721319 Question Type : MCQ Option Shuffling : Yes Display Question Number : Yes
Single Line Question Option : No Option Orientation : Vertical

Correct Marks : 1 Wrong Marks : 0.25

Peptic ulcer is associated with which of the following blood groups:

Options :

1. ✓ O

2. ✘ A

3. ✘ B

4. ✘ AB

Question Number : 185 Question Id : 99836721319 Question Type : MCQ Option Shuffling : Yes Display Question Number : Yes
Single Line Question Option : No Option Orientation : Vertical

Correct Marks : 1 Wrong Marks : 0.25

आमाशयी व्रण (पेप्टिक अल्सर) इनमें से किस रक्त समूह से संबंधित है?

Options :

1. ✔ O

2. ✘ A

3. ✘ B

4. ✘ AB

Question Number : 186 Question Id : 99836721320 Question Type : MCQ Option Shuffling : Yes Display Question Number : Yes
Single Line Question Option : No Option Orientation : Vertical

Correct Marks : 1 Wrong Marks : 0.25

The process of burning solid waste is called:

Options :

1. ✘ burial

2. ✘ manure pits

3. ✔ incineration

4. ✘ controlled tipping

Question Number : 186 Question Id : 99836721320 Question Type : MCQ Option Shuffling : Yes Display Question Number : Yes
Single Line Question Option : No Option Orientation : Vertical

Correct Marks : 1 Wrong Marks : 0.25

ठोस अपशिष्ट के दहन की प्रक्रिया को क्या कहा जाता है?

Options :

1. ✘ मिट्टी में दबाना (बरियल)

2. ✘ खाद के गड्ढे (मैन्योर पिट्स)

3. ✓ भस्मीकरण (इन्सिनरेशन)

4. ✘ नियंत्रित क्षेपण (टिपिंग)

Question Number : 187 Question Id : 99836721321 Question Type : MCQ Option Shuffling : Yes Display Question Number : Yes
Single Line Question Option : No Option Orientation : Vertical

Correct Marks : 1 Wrong Marks : 0.25

The preparation of ORS (Oral Rehydration Solution) technique can be effectively taught by:

Options :

1. ✘ chalk and talk

2. ✘ individual approach

3. ✘ mass media

4. ✓ demonstration

Question Number : 187 Question Id : 99836721321 Question Type : MCQ Option Shuffling : Yes Display Question Number : Yes
Single Line Question Option : No Option Orientation : Vertical

Correct Marks : 1 Wrong Marks : 0.25

मौखिक पुनर्जलीकरण विलयन (ओरल रिहाइड्रेशन सॉल्यूशन/ORS) निर्माण तकनीक को प्रभावी ढंग से किसके द्वारा सिखाया जा सकता है?

Options :

1. ✘ खड़िया द्वारा रेखांकन और वार्तालाप द्वारा (चॉक एंड टॉक)

2. ✘ व्यक्तिगत संपर्क द्वारा

3. ✘ संचार माध्यम द्वारा

4. ✓ प्रदर्शन द्वारा

Question Number : 188 Question Id : 99836721322 Question Type : MCQ Option Shuffling : Yes Display Question Number : Yes
Single Line Question Option : No Option Orientation : Vertical

Correct Marks : 1 Wrong Marks : 0.25

The prevention of scurvy using citrus fruit was discovered by:

Options :

1. ✘ John Snow

2. ✓ James Lind

3. ✘ Louis Pasteur

4. ✘ Hippocrates

Question Number : 188 Question Id : 99836721322 Question Type : MCQ Option Shuffling : Yes Display Question Number : Yes
Single Line Question Option : No Option Orientation : Vertical

Correct Marks : 1 Wrong Marks : 0.25

खट्टे फल का उपयोग कर के स्कर्वी की रोकथाम की खोज किसके द्वारा की गई थी?

Options :

1. ✘ जॉन स्नो द्वारा

2. ✔ जेम्स लिंड द्वारा

3. ✘ लुई पास्चर द्वारा

4. ✘ हिप्पोक्रेट्स द्वारा

Question Number : 189 Question Id : 99836721323 Question Type : MCQ Option Shuffling : Yes Display Question Number : Yes
Single Line Question Option : No Option Orientation : Vertical

Correct Marks : 1 Wrong Marks : 0.25

An example of propagative transmission is:

Options :

1. ✘ malaria

2. ✔ plague

3. ✘ filariasis

4. ✘ schistosomiasis

Question Number : 189 Question Id : 99836721323 Question Type : MCQ Option Shuffling : Yes Display Question Number : Yes
Single Line Question Option : No Option Orientation : Vertical

Correct Marks : 1 Wrong Marks : 0.25

प्रसारात्मक (प्रोपगेटिव) संचरण का एक उदाहरण क्या है?

Options :

1. ✘ मलेरिया

2. ✔ प्लेग

3. ✘ फाइलेरिया

4. ✘ शंबूक/घोंघा ज्वर (शिस्टोसोमियासिस)

Question Number : 190 Question Id : 99836721324 Question Type : MCQ Option Shuffling : Yes Display Question Number : Yes
Single Line Question Option : No Option Orientation : Vertical

Correct Marks : 1 Wrong Marks : 0.25

At PHC level, all the Universal Immunisation Programme (UIP) vaccines are stored in:

Options :

1. ✘ walk-in cold rooms

2. ✘ deep freezers

3. ✔ ice-lined refrigerators

4. ✘ cold boxes

Question Number : 190 Question Id : 99836721324 Question Type : MCQ Option Shuffling : Yes Display Question Number : Yes
Single Line Question Option : No Option Orientation : Vertical

Correct Marks : 1 Wrong Marks : 0.25

प्राथमिक स्वास्थ्य केंद्र (PHC) के स्तर पर, वैश्विक टीकाकरण कार्यक्रम (UIP) से संबंधित सभी टीकों को कहाँ भंडारित किया जाता है?

Options :

1. ✘ चल-प्रशीतन कक्ष में

2. ✘ गहन हिमित्रीकारक (डीप फ्रीज़र) में

3. ✔ हिम-रेखीय प्रशीतक (आइस-लाइंड रेफ्रिजरेटर) में

4. ✘ शीतल पेटिका (कोल्ड बॉक्स) में

Question Number : 191 Question Id : 99836721325 Question Type : MCQ Option Shuffling : Yes Display Question Number : Yes
Single Line Question Option : No Option Orientation : Vertical

Correct Marks : 1 Wrong Marks : 0.25

The colour of the box for DOTS category I treatment is:

Options :

1. ✔ red

2. ✘ blue

3. ✘ yellow

4. ✘ orange

Question Number : 191 Question Id : 99836721325 Question Type : MCQ Option Shuffling : Yes Display Question Number : Yes
Single Line Question Option : No Option Orientation : Vertical

Correct Marks : 1 Wrong Marks : 0.25

डॉट्स (DOTS) श्रेणी। उपचार की पेटिका का रंग कैसा होता है?

Options :

1. ✔ लाल

2. ✘ नीला

3. ✘ पीला

4. ✘ नारंगी

Question Number : 192 Question Id : 99836721326 Question Type : MCQ Option Shuffling : Yes Display Question Number : Yes
Single Line Question Option : No Option Orientation : Vertical

Correct Marks : 1 Wrong Marks : 0.25

The important vector for urban malaria is:

Options :

1. ✘ *Anopheles culicifacies*

2. ✘ *Anopheles fluviatilis*

3. ✔ *Anopheles stephensi*

4. ✘ *Anopheles sundaicus*

Question Number : 192 Question Id : 99836721326 Question Type : MCQ Option Shuffling : Yes Display Question Number : Yes
Single Line Question Option : No Option Orientation : Vertical

Correct Marks : 1 Wrong Marks : 0.25

शहरी मलेरिया का महत्वपूर्ण रोगवाहक (वेक्टर) कौन है?

Options :

1. ✘ एनोफ़ेलीज़ क्यूलिसिफ़ेसीज़ (*Anopheles Culicifacies*)

2. ✘ एनोफ़ेलीज़ फ्लूवियाटिलिस (*Anopheles Fluviatilis*)

3. ✓ एनोफ़ेलीज़ स्टेफ़ेंसी (Anopheles Stephensi)

4. ✗ एनोफ़ेलीज़ संडाइकस (Anopheles Sundaicus)

Question Number : 193 Question Id : 99836721327 Question Type : MCQ Option Shuffling : Yes Display Question Number : Yes
Single Line Question Option : No Option Orientation : Vertical

Correct Marks : 1 Wrong Marks : 0.25

Calculate the BMI of a person whose weight is 64 kg and height 160 cm.

Options :

1. ✗ 20

2. ✗ 24

3. ✓ 25

4. ✗ 32

Question Number : 193 Question Id : 99836721327 Question Type : MCQ Option Shuffling : Yes Display Question Number : Yes
Single Line Question Option : No Option Orientation : Vertical

Correct Marks : 1 Wrong Marks : 0.25

64 kg भार और 160 cm ऊँचाई वाले व्यक्ति के बी.एम.आई. (BMI) की गणना करें।

Options :

1. ✗ 20

2. ✗ 24

3. ✓ 25

4. ✗ 32

Question Number : 194 Question Id : 99836721328 Question Type : MCQ Option Shuffling : Yes Display Question Number : Yes
Single Line Question Option : No Option Orientation : Vertical

Correct Marks : 1 Wrong Marks : 0.25

National Cancer Awareness Day is observed on:

Options :

1. ✓ 7th November

2. ✗ 1st December

3. ✗ 4th April

4. ✘ 25th July

Question Number : 194 Question Id : 99836721328 Question Type : MCQ Option Shuffling : Yes Display Question Number : Yes
Single Line Question Option : No Option Orientation : Vertical

Correct Marks : 1 Wrong Marks : 0.25

राष्ट्रीय कैंसर जागरूकता दिवस कब मनाया जाता है?

Options :

1. ✔ 7 नवंबर को

2. ✘ 1 दिसंबर को

3. ✘ 4 अप्रैल को

4. ✘ 25 जुलाई को

Question Number : 195 Question Id : 99836721329 Question Type : MCQ Option Shuffling : Yes Display Question Number : Yes
Single Line Question Option : No Option Orientation : Vertical

Correct Marks : 1 Wrong Marks : 0.25

IQ in mild mental retardation is:

Options :

1. ✘ 20 – 34

2. ✘ 35 – 49

3. ✔ 50 – 70

4. ✘ 70 – 90

Question Number : 195 Question Id : 99836721329 Question Type : MCQ Option Shuffling : Yes Display Question Number : Yes
Single Line Question Option : No Option Orientation : Vertical

Correct Marks : 1 Wrong Marks : 0.25

हल्की मानसिक मंदता का आई.क्यू.(IQ) कितना होता है?

Options :

1. ✘ 20 - 34

2. ✘ 35 - 49

3. ✔ 50 - 70

4. ✘ 70 - 90

Question Number : 196 Question Id : 99836721330 Question Type : MCQ Option Shuffling : Yes Display Question Number : Yes
Single Line Question Option : No Option Orientation : Vertical

Correct Marks : 1 Wrong Marks : 0.25

The most common cause of perinatal mortality is:

Options :

1. ✔ birth asphyxia

2. ✘ birth injury

3. ✘ intrauterine infection

4. ✘ neonatal infection

Question Number : 196 Question Id : 99836721330 Question Type : MCQ Option Shuffling : Yes Display Question Number : Yes
Single Line Question Option : No Option Orientation : Vertical

Correct Marks : 1 Wrong Marks : 0.25

प्रसवकालीन मृत्यु दर का सर्वाधिक सामान्य कारण क्या है?

Options :

1. ✔ जन्म श्वासावरोध (बर्थ एस्फिक्सिया)

2. ✘ जन्मगत चोट

3. ✘ अंतर्गर्भाशयी संक्रमण

4. ✘ नवजात संक्रमण

Question Number : 197 Question Id : 99836721331 Question Type : MCQ Option Shuffling : Yes Display Question Number : Yes
Single Line Question Option : No Option Orientation : Vertical

Correct Marks : 1 Wrong Marks : 0.25

Colostrum is rich in:

Options :

1. ✔ immunoglobulin

2. ✘ iron

3. ✘ calcium

4. ✘ sodium

Question Number : 197 Question Id : 99836721331 Question Type : MCQ Option Shuffling : Yes Display Question Number : Yes
Single Line Question Option : No Option Orientation : Vertical

Correct Marks : 1 Wrong Marks : 0.25

_____ में कोलोस्ट्रम भरपूर मात्रा में पाया जाता है।

Options :

1. इम्यूनोग्लोब्युलिन
2. आयरन
3. कैल्शियम
4. सोडियम

Question Number : 198 Question Id : 99836721332 Question Type : MCQ Option Shuffling : Yes Display Question Number : Yes
Single Line Question Option : No Option Orientation : Vertical

Correct Marks : 1 Wrong Marks : 0.25

Down's syndrome is:

Options :

1. trisomy 13
2. trisomy 18
3. trisomy 21
4. trisomy 22

Question Number : 198 Question Id : 99836721332 Question Type : MCQ Option Shuffling : Yes Display Question Number : Yes
Single Line Question Option : No Option Orientation : Vertical

Correct Marks : 1 Wrong Marks : 0.25

इनमें से डाउनस सहलक्षण (सिंड्रोम) कौन सा है?

Options :

1. त्रिगुणसूत्रता (ट्राइसोमी) 13
2. त्रिगुणसूत्रता (ट्राइसोमी) 18
3. त्रिगुणसूत्रता (ट्राइसोमी) 21

4. ✖ त्रिगुणसूत्रता (ट्राइसोमी) 22

Question Number : 199 Question Id : 99836721333 Question Type : MCQ Option Shuffling : Yes Display Question Number : Yes
Single Line Question Option : No Option Orientation : Vertical

Correct Marks : 1 Wrong Marks : 0.25

When the uterus continues to contract until the placenta and membranes deliver, it is called the:

Options :

1. ✖ first stage of labour
2. ✖ second stage of labour
3. ✔ third stage of labour
4. ✖ fourth stage of labour

Question Number : 199 Question Id : 99836721333 Question Type : MCQ Option Shuffling : Yes Display Question Number : Yes
Single Line Question Option : No Option Orientation : Vertical

Correct Marks : 1 Wrong Marks : 0.25

जब गर्भनाल (प्लेसेंटा) और झिल्लियों की प्रसूति होने तक गर्भाशय संकुचित होता रहता है, तो इसे क्या कहते हैं?

Options :

1. ✖ प्रसव का पहला चरण
2. ✖ प्रसव का दूसरा चरण
3. ✔ प्रसव का तीसरा चरण
4. ✖ प्रसव का चौथा चरण

Question Number : 200 Question Id : 99836721334 Question Type : MCQ Option Shuffling : Yes Display Question Number : Yes
Single Line Question Option : No Option Orientation : Vertical

Correct Marks : 1 Wrong Marks : 0.25

In spinal cord injury, paralysis below the waist causes injury at the level of:

Options :

1. ✖ C4
2. ✖ C6
3. ✖ T4
4. ✔ L1

Question Number : 200 Question Id : 99836721334 Question Type : MCQ Option Shuffling : Yes Display Question Number : Yes
Single Line Question Option : No Option Orientation : Vertical

Correct Marks : 1 Wrong Marks : 0.25

मेरुदंड की चोट में, कटि प्रदेश के नीचे का पक्षाघात _____ के स्तर पर चोट का कारण बनता है।

Options :

1. ✘ C4

2. ✘ C6

3. ✘ T4

4. ✔ L1