

## Education Consultant India Ltd.

### Notations :

- 1.Options shown in green color and with ✓ icon are correct.
- 2.Options shown in red color and with ✖ icon are incorrect.

|   |                     |
|---|---------------------|
| <b>Question Paper Name:</b>                   | Assistant OT CSSD   |
| <b>Subject Name:</b>                          | Assistant OT CSSD   |
| <b>Creation Date:</b>                         | 2019-08-28 09:47:51 |
| <b>Duration:</b>                              | 120                 |
| <b>Total Marks:</b>                           | 200                 |
| <b>Display Marks:</b>                         | Yes                 |
| <b>Share Answer Key With Delivery Engine:</b> | No                  |
| <b>Actual Answer Key:</b>                     | Yes                 |
| <b>Calculator:</b>                            | None                |
| <b>Magnifying Glass Required?:</b>            | No                  |
| <b>Ruler Required?:</b>                       | No                  |
| <b>Eraser Required?:</b>                      | No                  |
| <b>Scratch Pad Required?:</b>                 | No                  |
| <b>Rough Sketch/Notepad Required?:</b>        | No                  |
| <b>Protractor Required?:</b>                  | No                  |
| <b>Show Watermark on Console?:</b>            | Yes                 |
| <b>Highlighter:</b>                           | No                  |
| <b>Auto Save on Console?:</b>                 | No                  |

### Mental Ability

|  |           |
|--|-----------|
| <b>Group Number :</b>                            | 1         |
| <b>Group Id :</b>                                | 509647392 |
| <b>Group Maximum Duration :</b>                  | 0         |
| <b>Group Minimum Duration :</b>                  | 0         |
| <b>Revisit allowed for view? :</b>               | No        |
| <b>Revisit allowed for edit? :</b>               | No        |
| <b>Break time:</b>                               | 0         |
| <b>Group Marks:</b>                              | 20        |
| <b>Revisit allowed for group Instructions? :</b> | Yes       |
| <b>Maximum Instruction Time:</b>                 | 0         |
| <b>Minimum Instruction Time:</b>                 | 0         |

### Mental Ability

|   |           |
|---|-----------|
| <b>Section Id :</b>                         | 509647552 |
| <b>Section Number :</b>                     | 1         |
| <b>Section type :</b>                       | Online    |
| <b>Mandatory or Optional:</b>               | Mandatory |
| <b>Number of Questions:</b>                 | 20        |
| <b>Number of Questions to be attempted:</b> | 20        |
| <b>Section Marks:</b>                       | 20        |

Display Number Panel: Yes  
Group All Questions: No

Sub-Section Number: 1  
Sub-Section Id: 509647744  
Question Shuffling Allowed : Yes

Question Number : 1 Question Id : 50964713867 Question Type : MCQ Option Shuffling : Yes Display Question Number : Yes  
Single Line Question Option : No Option Orientation : Vertical

Correct Marks : 1 Wrong Marks : 0.25

From the given alternatives, select the word which CAN be formed using the letters of the given word.

SENATORING

Options :

1. ✘ SANGUR
2. ✔ SENIOR
3. ✘ TORPEN
4. ✘ MORPHING

Question Number : 1 Question Id : 50964713867 Question Type : MCQ Option Shuffling : Yes Display Question Number : Yes  
Single Line Question Option : No Option Orientation : Vertical

Correct Marks : 1 Wrong Marks : 0.25

दिए गए विकल्पों में से वह शब्द चुनिए जो दिए गए शब्द के अक्षरों का प्रयोग करके बनाया जा सकता है।

SENATORING

Options :

1. ✘ SANGUR
2. ✔ SENIOR
3. ✘ TORPEN
4. ✘ MORPHING

Question Number : 2 Question Id : 50964713868 Question Type : MCQ Option Shuffling : Yes Display Question Number : Yes  
Single Line Question Option : No Option Orientation : Vertical

Correct Marks : 1 Wrong Marks : 0.25

In the following question, select the odd letter /letters from the given alternatives.

Options :

1. ✘ PT
2. ✘ BF
3. ✔ JM
4. ✘ RV

Question Number : 2 Question Id : 50964713868 Question Type : MCQ Option Shuffling : Yes Display Question Number : Yes  
Single Line Question Option : No Option Orientation : Vertical

Correct Marks : 1 Wrong Marks : 0.25

निम्नलिखित प्रश्न में दिए गए विकल्पों में से विषम अक्षर/अक्षरों को चुनिए।

Options :

1. ✘ PT
2. ✘ BF
3. ✔ JM

4. ✘ RV

Question Number : 3 Question Id : 50964713869 Question Type : MCQ Option Shuffling : Yes Display Question Number : Yes  
Single Line Question Option : No Option Orientation : Vertical

Correct Marks : 1 Wrong Marks : 0.25

In the following question, select the related letters from the given alternatives.

JKL : MHO :: PSB : ?

Options :

1. ✔ SPE
2. ✘ TQF
3. ✘ SPF
4. ✘ TQE

Question Number : 3 Question Id : 50964713869 Question Type : MCQ Option Shuffling : Yes Display Question Number : Yes  
Single Line Question Option : No Option Orientation : Vertical

Correct Marks : 1 Wrong Marks : 0.25

निम्नलिखित प्रश्न में दिए गए विकल्पों में से संबंधित अक्षरों को चुनिए

JKL : MHO :: PSB : ?

Options :

1. ✔ SPE
2. ✘ TQF
3. ✘ SPF
4. ✘ TQE

Question Number : 4 Question Id : 50964713870 Question Type : MCQ Option Shuffling : Yes Display Question Number : Yes  
Single Line Question Option : No Option Orientation : Vertical

Correct Marks : 1 Wrong Marks : 0.25

In a certain code language, 'ROM' is written as '46', 'FIN' is written as '29'. What is the code for 'PAL' in that code language?

Options :

1. ✘ 39
2. ✔ 29
3. ✘ 28
4. ✘ 34

Question Number : 4 Question Id : 50964713870 Question Type : MCQ Option Shuffling : Yes Display Question Number : Yes  
Single Line Question Option : No Option Orientation : Vertical

Correct Marks : 1 Wrong Marks : 0.25

एक विशिष्ट कोड भाषा में, 'ROM' को '46' लिखा जाता है, 'FIN' को '29' लिखा जाता है। इस कोड भाषा में 'PAL' का कोड क्या है?

Options :

1. ✘ 39
2. ✔ 29
3. ✘ 28
4. ✘ 34

Question Number : 5 Question Id : 50964713871 Question Type : MCQ Option Shuffling : Yes Display Question Number : Yes  
Single Line Question Option : No Option Orientation : Vertical

Correct Marks : 1 Wrong Marks : 0.25

S is the mother of X. U is the husband of S. Y is the son of W. Z is the daughter of X. W is the husband of X. How is Z related to W?

Options :

- ✘ Son
- ✔ Daughter
- ✘ Father
- ✘ Mother

Question Number : 5 Question Id : 50964713871 Question Type : MCQ Option Shuffling : Yes Display Question Number : Yes Single Line Question Option : No Option Orientation : Vertical

Correct Marks : 1 Wrong Marks : 0.25

S, X की माता है U, S का पति है Y, W का पुत्र है Z, X की पुत्री है W, X का पति है Z, W से किस प्रकार संबंधित है?

Options :

- ✘ पुत्र
- ✔ पुत्री
- ✘ पिता
- ✘ माता

Question Number : 6 Question Id : 50964713872 Question Type : MCQ Option Shuffling : Yes Display Question Number : Yes Single Line Question Option : No Option Orientation : Vertical

Correct Marks : 1 Wrong Marks : 0.25

Six teachers B, L, N, S, T and U are sitting in a row facing towards north (Not necessarily in the same order). T is third to the right of L. S is third to the left of B. U is not towards the right of S. Only one teacher is sitting between L and N respectively. B is to the immediate right of T.

How many teachers are sitting between L and B?

Options :

- ✘ 2
- ✘ 4
- ✔ 3
- ✘ 5

Question Number : 6 Question Id : 50964713872 Question Type : MCQ Option Shuffling : Yes Display Question Number : Yes Single Line Question Option : No Option Orientation : Vertical

Correct Marks : 1 Wrong Marks : 0.25

छह: अध्यापक B, L, N, S, T तथा U एक पंक्ति में उत्तर की ओर मुख करके बैठे हुए हैं (जरूरी नहीं की इसी क्रम में हो)। T, L के दायी ओर तीसरा है S, B के बायी ओर तीसरा है U, S के दायी ओर नहीं है क्रमशः L तथा N के मध्य केवल एक अध्यापक बैठा हुआ है B, T के तुरंत दायी ओर है L तथा B के मध्य कितने अध्यापक बैठे हुए हैं?

Options :

- ✘ 2
- ✘ 4
- ✔ 3
- ✘ 5

Question Number : 7 Question Id : 50964713873 Question Type : MCQ Option Shuffling : Yes Display Question Number : Yes Single Line Question Option : No Option Orientation : Vertical

Correct Marks : 1 Wrong Marks : 0.25

Six surgeons F, H, J, L, N and P are sitting around a circular table facing towards the centre (Not necessarily in the same order). H is second to the left of F. L is to the immediate left of H. P is third to the right of J. P is second to the right of F.

Who is sitting second to the left of L?

Options :

1. ✘ F
2. ✔ N
3. ✘ P
4. ✘ J

**Question Number : 7 Question Id : 50964713873 Question Type : MCQ Option Shuffling : Yes Display Question Number : Yes Single Line Question Option : No Option Orientation : Vertical**

**Correct Marks : 1 Wrong Marks : 0.25**

छह: सर्जन F, H, J, L, N तथा P केन्द्र की ओर मुख करके एक वृत्ताकार मेज के इर्द - गिर्द बैठे हुए है (जरूरी नहीं की इसी क्रम में हो)। H, F के बायीं ओर दूसरा है L, H के तुरंत बायीं ओर है P, J के दायीं ओर तीसरा है P, F के दायीं ओर दूसरा है L के बायीं ओर दूसरा कौन बैठा हुआ है?

**Options :**

1. ✘ F
2. ✔ N
3. ✘ P
4. ✘ J

**Question Number : 8 Question Id : 50964713874 Question Type : MCQ Option Shuffling : Yes Display Question Number : Yes Single Line Question Option : No Option Orientation : Vertical**

**Correct Marks : 1 Wrong Marks : 0.25**

In the following question below are given some statements followed by some conclusions based on those statements. Taking the given statements to be true even if they seem to be at variance from commonly known facts. Read all the conclusions and then decide which of the given conclusion logically follows the given statements.

**Statements:**

- I. All P are M.
- II. Some T are M.
- III. No T is K.

**Conclusions:**

- I. Some K are P.
- II. Some T are P.
- III. Some M are not K.

**Options :**

1. ✘ Only conclusion I follow
2. ✘ Both conclusion II and III follow
3. ✘ Both conclusion I and III follow
4. ✔ Only conclusion III follow

**Question Number : 8 Question Id : 50964713874 Question Type : MCQ Option Shuffling : Yes Display Question Number : Yes Single Line Question Option : No Option Orientation : Vertical**

**Correct Marks : 1 Wrong Marks : 0.25**

नीचे दिए गए प्रश्न में कुछ कथन और उनके बाद उन कथनों पर आधारित कुछ निष्कर्ष दिए गए हैं। दिए गए कथनों को सही माने, चाहे उनमें सामान्य ज्ञात तथ्यों से भिन्नता हो। सभी निष्कर्ष पढ़ें और फिर निर्धारित करें कि दिए गए कौन से निष्कर्ष, दिए गए कथनों के आधार पर युक्तिसंगत हैं।

**कथन:**

- I. सभी P, M हैं।
- II. कुछ T, M हैं।
- III. कोई T, K नहीं है।

**निष्कर्ष:**

- I. कुछ K, P हैं।
- II. कुछ T, P हैं।
- III. कुछ M, K नहीं हैं।

Options :

- ✘ केवल निष्कर्ष I अनुसरण करता है
- ✘ दोनों निष्कर्ष II तथा III अनुसरण करते हैं
- ✘ दोनों निष्कर्ष I तथा III अनुसरण करते हैं
- ✔ केवल निष्कर्ष III अनुसरण करता है

Question Number : 9 Question Id : 50964713875 Question Type : MCQ Option Shuffling : Yes Display Question Number : Yes  
Single Line Question Option : No Option Orientation : Vertical

Correct Marks : 1 Wrong Marks : 0.25

In the following question, select the missing number from the given series.

39, 50, 62, 75, 89, ?

Options :

- ✘ 103
- ✔ 104
- ✘ 102
- ✘ 105

Question Number : 9 Question Id : 50964713875 Question Type : MCQ Option Shuffling : Yes Display Question Number : Yes  
Single Line Question Option : No Option Orientation : Vertical

Correct Marks : 1 Wrong Marks : 0.25

निम्नलिखित प्रश्न में दी गई श्रृंखला में से लुप्त अंक ज्ञात कीजिए।

39, 50, 62, 75, 89, ?

Options :

- ✘ 103
- ✔ 104
- ✘ 102
- ✘ 105

Question Number : 10 Question Id : 50964713876 Question Type : MCQ Option Shuffling : Yes Display Question Number : Yes  
Single Line Question Option : No Option Orientation : Vertical

Correct Marks : 1 Wrong Marks : 0.25

In the following question, select the related number from the given alternatives.

12 : 157 :: 14 : ?

Options :

- ✘ 201
- ✘ 245
- ✘ 221
- ✔ 211

Question Number : 10 Question Id : 50964713876 Question Type : MCQ Option Shuffling : Yes Display Question Number : Yes  
Single Line Question Option : No Option Orientation : Vertical

Correct Marks : 1 Wrong Marks : 0.25

निम्नलिखित प्रश्न में दिए गए विकल्पों में से संबंधित संख्या को चुनिए।

12 : 157 :: 14 : ?

Options :

- ✘ 201

2. ✖ 245
3. ✖ 221
4. ✔ 211

Question Number : 11 Question Id : 50964713877 Question Type : MCQ Option Shuffling : Yes Display Question Number : Yes  
Single Line Question Option : No Option Orientation : Vertical

Correct Marks : 1 Wrong Marks : 0.25

By interchanging which two signs the equation will be correct?

$$14 + 11 - 36 \times 9 \div 2 = 17$$

Options :

1. ✖ + and  $\times$
2. ✔  $\times$  and  $\div$
3. ✖  $\div$  and -
4. ✖ + and -

Question Number : 11 Question Id : 50964713877 Question Type : MCQ Option Shuffling : Yes Display Question Number : Yes  
Single Line Question Option : No Option Orientation : Vertical

Correct Marks : 1 Wrong Marks : 0.25

किन दो चिह्नों को आपस में परस्पर बदलने पर समीकरण सही हो जाएगा?

$$14 + 11 - 36 \times 9 \div 2 = 17$$

Options :

1. ✖ + तथा  $\times$
2. ✔  $\times$  तथा  $\div$
3. ✖  $\div$  तथा -
4. ✖ + तथा -

Question Number : 12 Question Id : 50964713878 Question Type : MCQ Option Shuffling : Yes Display Question Number : Yes  
Single Line Question Option : No Option Orientation : Vertical

Correct Marks : 1 Wrong Marks : 0.25

In the following question, select the number which can be placed at the sign of question mark (?) from the given alternatives.

|   |   |    |
|---|---|----|
| 4 | 3 | 19 |
| 6 | 2 | 20 |
| 8 | 5 | ?  |

Options :

1. ✖ 48
2. ✔ 53
3. ✖ 57
4. ✖ 52

Question Number : 12 Question Id : 50964713878 Question Type : MCQ Option Shuffling : Yes Display Question Number : Yes  
Single Line Question Option : No Option Orientation : Vertical

Correct Marks : 1 Wrong Marks : 0.25

निम्नलिखित प्रश्न में दिए गए विकल्पों में से प्रश्न चिन्ह (?) के स्थान पर आने वाली संख्या को चुनिए।

|   |   |    |
|---|---|----|
| 4 | 3 | 19 |
| 6 | 2 | 20 |
| 8 | 5 | ?  |

Options :

- ✘ 48
- ✔ 53
- ✘ 57
- ✘ 52

Question Number : 13 Question Id : 50964713879 Question Type : MCQ Option Shuffling : Yes Display Question Number : Yes  
Single Line Question Option : No Option Orientation : Vertical

Correct Marks : 1 Wrong Marks : 0.25

If 'R' means '×', 'Q' means '÷', 'P' means '+' and 'S' means '-', then which of the following equation is true?

Options :

- ✘  $13P9R7S2 = 76$
- ✔  $14Q13R26P12 = 40$
- ✘  $13P2R16Q4 = 23$
- ✘  $9P5R6S13 = 36$

Question Number : 13 Question Id : 50964713879 Question Type : MCQ Option Shuffling : Yes Display Question Number : Yes  
Single Line Question Option : No Option Orientation : Vertical

Correct Marks : 1 Wrong Marks : 0.25

यदि 'R' का अर्थ '×', 'Q' का अर्थ '÷', 'P' का अर्थ '+' तथा 'S' का अर्थ '-' हो, तो निम्नलिखित में से कौन सा समीकरण सही है?

Options :

- ✘  $13P9R7S2 = 76$
- ✔  $14Q13R26P12 = 40$
- ✘  $13P2R16Q4 = 23$
- ✘  $9P5R6S13 = 36$

Question Number : 14 Question Id : 50964713880 Question Type : MCQ Option Shuffling : Yes Display Question Number : Yes  
Single Line Question Option : No Option Orientation : Vertical

Correct Marks : 1 Wrong Marks : 0.25

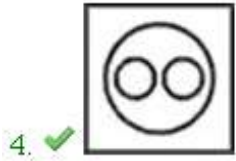
Identify the diagram that best represents the relationship among the given classes.

Animal, Lion, Wolf

Options :







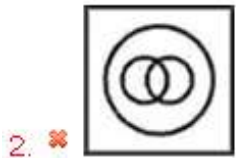
Question Number : 14 Question Id : 50964713880 Question Type : MCQ Option Shuffling : Yes Display Question Number : Yes  
Single Line Question Option : No Option Orientation : Vertical

Correct Marks : 1 Wrong Marks : 0.25

वह आरेख चुनिए जो नीचे दिए गए वर्गों के बीच के संबंध का सही निरूपण करता है।

जानवर, सिंह, भेड़िया

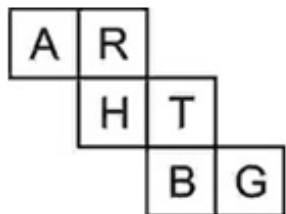
Options :



Question Number : 15 Question Id : 50964713881 Question Type : MCQ Option Shuffling : Yes Display Question Number : Yes  
Single Line Question Option : No Option Orientation : Vertical

Correct Marks : 1 Wrong Marks : 0.25

By folding the given paper, what will come on the face opposite to the face containing 'H'?



Options :

1. ✔ G

2. ✘ A

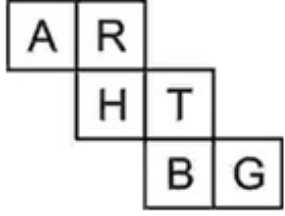
3. ✘ B

4. ✘ T

Question Number : 15 Question Id : 50964713881 Question Type : MCQ Option Shuffling : Yes Display Question Number : Yes Single Line Question Option : No Option Orientation : Vertical

Correct Marks : 1 Wrong Marks : 0.25

दिये गए कागज को मोड़ने पर, 'H' युक्त फलक के विपरीत फलक पर क्या आयेगा?



Options :

1. ✔ G

2. ✘ A

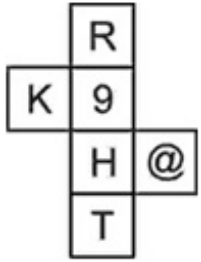
3. ✘ B

4. ✘ T

Question Number : 16 Question Id : 50964713882 Question Type : MCQ Option Shuffling : Yes Display Question Number : Yes Single Line Question Option : No Option Orientation : Vertical

Correct Marks : 1 Wrong Marks : 0.25

By folding the given paper, which of the following cube cannot be formed?



Options :

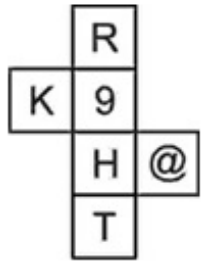




Question Number : 16 Question Id : 50964713882 Question Type : MCQ Option Shuffling : Yes Display Question Number : Yes Single Line Question Option : No Option Orientation : Vertical

Correct Marks : 1 Wrong Marks : 0.25

दिये गए कागज को मोड़ने पर, निम्नलिखित में से कौन सा घन नहीं बनाया जा सकता है?



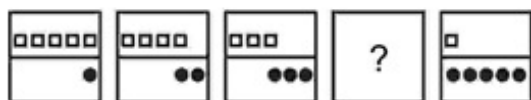
Options :



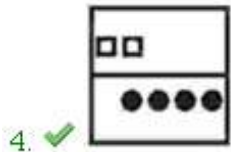
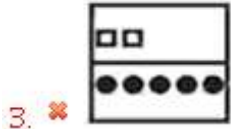
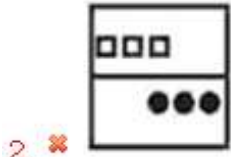
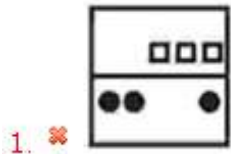
Question Number : 17 Question Id : 50964713883 Question Type : MCQ Option Shuffling : Yes Display Question Number : Yes Single Line Question Option : No Option Orientation : Vertical

Correct Marks : 1 Wrong Marks : 0.25

In the following question, select the figure which can be placed at the sign of question mark (?) from the given alternatives.



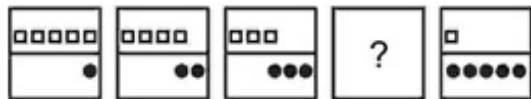
Options :



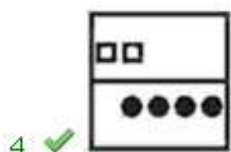
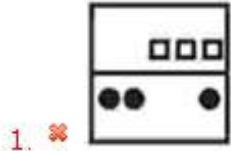
Question Number : 17 Question Id : 50964713883 Question Type : MCQ Option Shuffling : Yes Display Question Number : Yes  
Single Line Question Option : No Option Orientation : Vertical

Correct Marks : 1 Wrong Marks : 0.25

निम्नलिखित प्रश्न में दिए गए विकल्पों में से प्रश्न चिन्ह (?) के स्थान पर आने वाली आकृति को चुनिए।



Options :



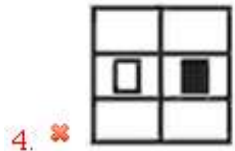
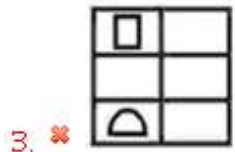
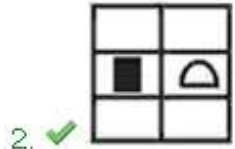
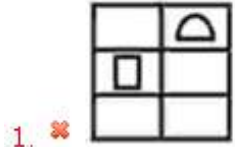
Question Number : 18 Question Id : 50964713884 Question Type : MCQ Option Shuffling : Yes Display Question Number : Yes  
Single Line Question Option : No Option Orientation : Vertical

Correct Marks : 1 Wrong Marks : 0.25

In the following question, select the figure which can be placed at the sign of question mark (?) from the given alternatives.



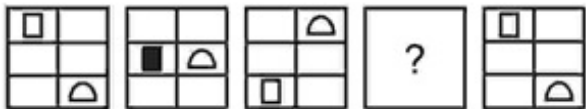
Options :



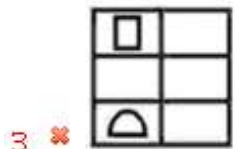
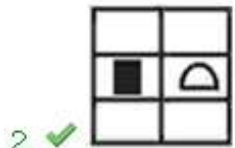
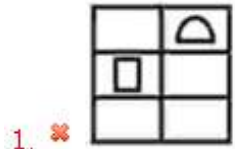
Question Number : 18 Question Id : 50964713884 Question Type : MCQ Option Shuffling : Yes Display Question Number : Yes Single Line Question Option : No Option Orientation : Vertical

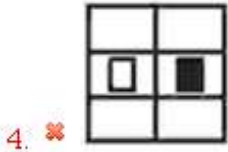
Correct Marks : 1 Wrong Marks : 0.25

निम्नलिखित प्रश्न में दिए गए विकल्पों में से प्रश्न चिन्ह (?) के स्थान पर आने वाली आकृति को चुनिए।



Options :

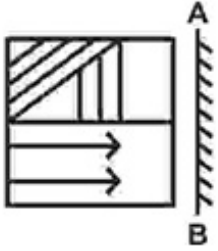




Question Number : 19 Question Id : 50964713885 Question Type : MCQ Option Shuffling : Yes Display Question Number : Yes Single Line Question Option : No Option Orientation : Vertical

Correct Marks : 1 Wrong Marks : 0.25

If a mirror is placed on the line AB, then which of the answer figures is the right image of the given figure?



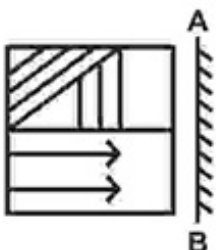
Options :



Question Number : 19 Question Id : 50964713885 Question Type : MCQ Option Shuffling : Yes Display Question Number : Yes Single Line Question Option : No Option Orientation : Vertical

Correct Marks : 1 Wrong Marks : 0.25

यदि एक दर्पण को AB रेखा पर रखा जाए, तो दी गई उत्तर आकृतियों में से कौन सी आकृति प्रश्न आकृति की सही प्रतिबिंब होगी?



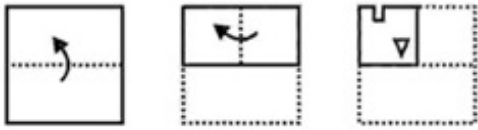
Options :



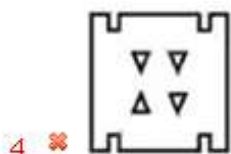
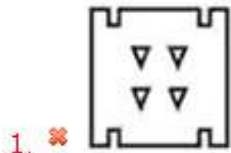
Question Number : 20 Question Id : 50964713886 Question Type : MCQ Option Shuffling : Yes Display Question Number : Yes Single Line Question Option : No Option Orientation : Vertical

Correct Marks : 1 Wrong Marks : 0.25

A piece of paper is folded and punched as shown below in the question figures. From the given answer figures, indicate how it will appear when opened?



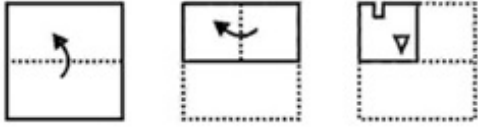
Options :



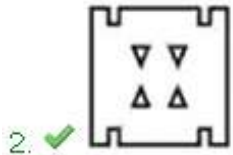
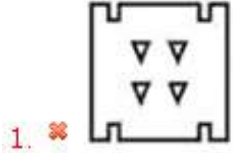
Question Number : 20 Question Id : 50964713886 Question Type : MCQ Option Shuffling : Yes Display Question Number : Yes  
Single Line Question Option : No Option Orientation : Vertical

Correct Marks : 1 Wrong Marks : 0.25

नीचे के प्रश्न आकृतियों में दिखाए अनुसार कागज को मोड़कर छेदने तथा खोलने के बाद वह किस उत्तर आकृति जैसा दिखाई देगा?



Options :



### General Awareness

|   |           |
|---|-----------|
| Group Number :                            | 2         |
| Group Id :                                | 509647393 |
| Group Maximum Duration :                  | 0         |
| Group Minimum Duration :                  | 0         |
| Revisit allowed for view? :               | No        |
| Revisit allowed for edit? :               | No        |
| Break time:                               | 0         |
| Group Marks:                              | 20        |
| Revisit allowed for group Instructions? : | Yes       |
| Maximum Instruction Time:                 | 0         |
| Minimum Instruction Time:                 | 0         |

### General Awareness

|                                      |           |
|--------------------------------------|-----------|
| Section Id :                         | 509647553 |
| Section Number :                     | 1         |
| Section type :                       | Online    |
| Mandatory or Optional:               | Mandatory |
| Number of Questions:                 | 20        |
| Number of Questions to be attempted: | 20        |



|                       |     |
|-----------------------|-----|
| Section Marks:        | 20  |
| Display Number Panel: | Yes |
| Group All Questions:  | No  |

|                              |           |
|------------------------------|-----------|
| Sub-Section Number:          | 1         |
| Sub-Section Id:              | 509647745 |
| Question Shuffling Allowed : | Yes       |

Question Number : 21 Question Id : 50964713887 Question Type : MCQ Option Shuffling : Yes Display Question Number : Yes  
Single Line Question Option : No Option Orientation : Vertical

Correct Marks : 1 Wrong Marks : 0.25

Kuchipudi, dance form originated in \_\_\_\_\_.

Options :

- Andhra Pradesh
- Maharashtra
- Jammu & Kashmir
- Karnataka

Question Number : 21 Question Id : 50964713887 Question Type : MCQ Option Shuffling : Yes Display Question Number : Yes  
Single Line Question Option : No Option Orientation : Vertical

Correct Marks : 1 Wrong Marks : 0.25

कुचिपुड़ी नृत्य शैली की उत्पत्ति \_\_\_\_\_ में हुई थी।

Options :

- आंध्र प्रदेश
- महाराष्ट्र
- जम्मू और कश्मीर
- कर्नाटक

Question Number : 22 Question Id : 50964713888 Question Type : MCQ Option Shuffling : Yes Display Question Number : Yes  
Single Line Question Option : No Option Orientation : Vertical

Correct Marks : 1 Wrong Marks : 0.25

Which of the following is an essential musical instrument in the music of traditional Kathak?

- I. Tabla
- II. Sarangi

Options :

- Only I
- Only II
- Both I and II
- Neither I nor II

Question Number : 22 Question Id : 50964713888 Question Type : MCQ Option Shuffling : Yes Display Question Number : Yes  
Single Line Question Option : No Option Orientation : Vertical

Correct Marks : 1 Wrong Marks : 0.25

निम्नलिखित में से कौन सा पारंपरिक कथक के संगीत में आवश्यक संगीत वाद्ययंत्र है?

- I. तबला
- II. सारंगी

Options :

- केवल I

2. ✘ केवल II
3. ✔ I तथा II दोनों
4. ✘ न तो I न तो II

Question Number : 23 Question Id : 50964713889 Question Type : MCQ Option Shuffling : Yes Display Question Number : Yes  
Single Line Question Option : No Option Orientation : Vertical

Correct Marks : 1 Wrong Marks : 0.25

Who is the chairperson of GST Council?

Options :

1. ✘ Prime Minister of India
2. ✔ Union Finance Minister
3. ✘ President of India
4. ✘ Chief Minister of state

Question Number : 23 Question Id : 50964713889 Question Type : MCQ Option Shuffling : Yes Display Question Number : Yes  
Single Line Question Option : No Option Orientation : Vertical

Correct Marks : 1 Wrong Marks : 0.25

जी.एस.टी. परिषद का अध्यक्ष कौन है?

Options :

1. ✘ भारत के प्रधान मंत्री
2. ✔ केंद्रीय वित्त मंत्री
3. ✘ भारत के राष्ट्रपति
4. ✘ राज्य के मुख्यमंत्री

Question Number : 24 Question Id : 50964713890 Question Type : MCQ Option Shuffling : Yes Display Question Number : Yes  
Single Line Question Option : No Option Orientation : Vertical

Correct Marks : 1 Wrong Marks : 0.25

Why was the Economic Survey of 2017-18 printed in pink colour?

Options :

1. ✘ To start pink revolution in the economy
2. ✘ To highlight women's role in parliament
3. ✘ To underline the importance of public health
4. ✔ To underline the importance of gender issues

Question Number : 24 Question Id : 50964713890 Question Type : MCQ Option Shuffling : Yes Display Question Number : Yes  
Single Line Question Option : No Option Orientation : Vertical

Correct Marks : 1 Wrong Marks : 0.25

2017-18 का आर्थिक सर्वेक्षण गुलाबी रंग में क्यों छपा था?

Options :

1. ✘ अर्थव्यवस्था में गुलाबी क्रांति शुरू करने के लिए
2. ✘ संसद में महिलाओं की भूमिका पर प्रकाश डालने के लिए
3. ✘ सार्वजनिक स्वास्थ्य के महत्व को रेखांकित करने के लिए
4. ✔ लैंगिक मुद्दों के महत्व को रेखांकित करने के लिए

Question Number : 25 Question Id : 50964713891 Question Type : MCQ Option Shuffling : Yes Display Question Number : Yes  
Single Line Question Option : No Option Orientation : Vertical

Correct Marks : 1 Wrong Marks : 0.25

Animals on the verge of extinction are called \_\_\_\_\_ species.

Options :

1. ✘ extinct
2. ✔ endangered
3. ✘ abundant
4. ✘ native

Question Number : 25 Question Id : 50964713891 Question Type : MCQ Option Shuffling : Yes Display Question Number : Yes  
Single Line Question Option : No Option Orientation : Vertical

Correct Marks : 1 Wrong Marks : 0.25

विलुप्त होने के कगार पर मौजूद जानवरों को \_\_\_\_\_ प्रजातियां कहा जाता है।

Options :

1. ✘ विलुप्त
2. ✔ लुप्तप्राय
3. ✘ प्रचुर
4. ✘ जन्मज

Question Number : 26 Question Id : 50964713892 Question Type : MCQ Option Shuffling : Yes Display Question Number : Yes  
Single Line Question Option : No Option Orientation : Vertical

Correct Marks : 1 Wrong Marks : 0.25

Which of the following does NOT contribute to the weather of a place?

Options :

1. ✔ Soil
2. ✘ Windspeed
3. ✘ Rainfall
4. ✘ Humidity

Question Number : 26 Question Id : 50964713892 Question Type : MCQ Option Shuffling : Yes Display Question Number : Yes  
Single Line Question Option : No Option Orientation : Vertical

Correct Marks : 1 Wrong Marks : 0.25

निम्नलिखित में से कौन एक स्थान के मौसम में योगदान नहीं करता है?

Options :

1. ✔ मृदा
2. ✘ वायु की गति
3. ✘ वर्षा
4. ✘ आर्द्रता

Question Number : 27 Question Id : 50964713893 Question Type : MCQ Option Shuffling : Yes Display Question Number : Yes  
Single Line Question Option : No Option Orientation : Vertical

Correct Marks : 1 Wrong Marks : 0.25

Ph value of pure distilled water is \_\_\_\_\_.

Options :

1. ✘ 0.5
2. ✘ 1.5
3. ✔ 7.4
4. ✘ 14

Question Number : 27 Question Id : 50964713893 Question Type : MCQ Option Shuffling : Yes Display Question Number : Yes  
Single Line Question Option : No Option Orientation : Vertical

Correct Marks : 1 Wrong Marks : 0.25

शुद्ध आसुत जल का Ph मान \_\_\_\_\_ होता है।

Options :

1. ✘ 0.5
2. ✘ 1.5
3. ✔ 7.4
4. ✘ 14

Question Number : 28 Question Id : 50964713894 Question Type : MCQ Option Shuffling : Yes Display Question Number : Yes  
Single Line Question Option : No Option Orientation : Vertical

Correct Marks : 1 Wrong Marks : 0.25

A bicycle bell acts as a \_\_\_\_\_.

Options :

1. ✔ Convex mirror
2. ✘ Concave mirror
3. ✘ Convex lens
4. ✘ Concave lens

Question Number : 28 Question Id : 50964713894 Question Type : MCQ Option Shuffling : Yes Display Question Number : Yes  
Single Line Question Option : No Option Orientation : Vertical

Correct Marks : 1 Wrong Marks : 0.25

एक साइकिल की घंटी एक \_\_\_\_\_ के रूप में कार्य करती है।

Options :

1. ✔ उत्तल दर्पण
2. ✘ अवतल दर्पण
3. ✘ उत्तल लेंस
4. ✘ अवतल लेंस

Question Number : 29 Question Id : 50964713895 Question Type : MCQ Option Shuffling : Yes Display Question Number : Yes  
Single Line Question Option : No Option Orientation : Vertical

Correct Marks : 1 Wrong Marks : 0.25

Where does Eastern and Western ghats meet?

Options :

1. ✔ Nilgiri Hills
2. ✘ Aravalli Hills
3. ✘ Nallamala Hills
4. ✘ Javadi Hills

Question Number : 29 Question Id : 50964713895 Question Type : MCQ Option Shuffling : Yes Display Question Number : Yes  
Single Line Question Option : No Option Orientation : Vertical

Correct Marks : 1 Wrong Marks : 0.25

पूर्वी और पश्चिमी घाट कहाँ मिलते हैं?

Options :

1. ✔ नीलगिरि पहाड़ियाँ
2. ✘ अरावली पहाड़ियाँ
3. ✘ नल्लामाला पहाड़ियाँ
4. ✘ जावड़ी पहाड़ियाँ

Question Number : 30 Question Id : 50964713896 Question Type : MCQ Option Shuffling : Yes Display Question Number : Yes  
Single Line Question Option : No Option Orientation : Vertical

Correct Marks : 1 Wrong Marks : 0.25

Which soil is also known as Regur Soil?

Options :

1. ✘ Red Soil
2. ✘ Peaty Soil
3. ✔ Black Soil
4. ✘ Laterite Soil

Question Number : 30 Question Id : 50964713896 Question Type : MCQ Option Shuffling : Yes Display Question Number : Yes  
Single Line Question Option : No Option Orientation : Vertical

Correct Marks : 1 Wrong Marks : 0.25

किस मृदा को रेगुर मृदा के रूप में भी जाना जाता है?

Options :

1. ✘ लाल मृदा
2. ✘ पीटमय मृदा
3. ✔ काली मृदा
4. ✘ लैटेराइट मृदा

Question Number : 31 Question Id : 50964713897 Question Type : MCQ Option Shuffling : Yes Display Question Number : Yes  
Single Line Question Option : No Option Orientation : Vertical

Correct Marks : 1 Wrong Marks : 0.25

Which of the following country does not share land border with India?

Options :

1. ✘ Pakistan
2. ✘ Afghanistan
3. ✘ China
4. ✔ Iran

Question Number : 31 Question Id : 50964713897 Question Type : MCQ Option Shuffling : Yes Display Question Number : Yes  
Single Line Question Option : No Option Orientation : Vertical

Correct Marks : 1 Wrong Marks : 0.25

निम्नलिखित में से कौन सा देश भारत के साथ भूमि सीमा साझा नहीं करता है?

Options :

1. ✘ पाकिस्तान
2. ✘ अफगानिस्तान
3. ✘ चीन
4. ✔ ईरान

Question Number : 32 Question Id : 50964713898 Question Type : MCQ Option Shuffling : Yes Display Question Number : Yes  
Single Line Question Option : No Option Orientation : Vertical

Correct Marks : 1 Wrong Marks : 0.25

How many Mahajanpadas existed during lifetime of Lord Buddha in 7th and early 6th century BC?

Options :

1. ✘ 19
2. ✔ 16
3. ✘ 11
4. ✘ 5

Question Number : 32 Question Id : 50964713898 Question Type : MCQ Option Shuffling : Yes Display Question Number : Yes  
Single Line Question Option : No Option Orientation : Vertical

Correct Marks : 1 Wrong Marks : 0.25

7वीं तथा शुरुआती 6वीं शताब्दी ईसा पूर्व में भगवान बुद्ध के जीवनकाल के दौरान कितने महाजनपद मौजूद थे?

Options :

1. ✘ 19
2. ✔ 16
3. ✘ 11
4. ✘ 5

Question Number : 33 Question Id : 50964713899 Question Type : MCQ Option Shuffling : Yes Display Question Number : Yes  
Single Line Question Option : No Option Orientation : Vertical

Correct Marks : 1 Wrong Marks : 0.25

Which dynasty belonged to Karnataka?

Options :

1. ✘ Pala
2. ✘ Chola
3. ✔ Rashtrakuta
4. ✘ Sena

Question Number : 33 Question Id : 50964713899 Question Type : MCQ Option Shuffling : Yes Display Question Number : Yes  
Single Line Question Option : No Option Orientation : Vertical

Correct Marks : 1 Wrong Marks : 0.25

कौन सा राजवंश कर्नाटक का था?

Options :

1. ✘ पाल
2. ✘ चोला
3. ✔ राष्ट्रकूट
4. ✘ सेन

Question Number : 34 Question Id : 50964713900 Question Type : MCQ Option Shuffling : Yes Display Question Number : Yes  
Single Line Question Option : No Option Orientation : Vertical

Correct Marks : 1 Wrong Marks : 0.25

Where are the rock cut caves of Ajanta situated?

Options :

1. ✘ Madhya Pradesh
2. ✘ Gujarat
3. ✘ Karnataka
4. ✔ Maharashtra

Question Number : 34 Question Id : 50964713900 Question Type : MCQ Option Shuffling : Yes Display Question Number : Yes  
Single Line Question Option : No Option Orientation : Vertical

Correct Marks : 1 Wrong Marks : 0.25

अजंता की रॉक कट गुफाएँ कहाँ स्थित हैं?

Options :

1. ✘ मध्य प्रदेश
2. ✘ गुजरात
3. ✘ कर्नाटक
4. ✔ महाराष्ट्र

Question Number : 35 Question Id : 50964713901 Question Type : MCQ Option Shuffling : Yes Display Question Number : Yes  
Single Line Question Option : No Option Orientation : Vertical

Correct Marks : 1 Wrong Marks : 0.25

Which of the following is the highest award for military services in India?

Options :

1. ✘ Padma Vibhushan
2. ✔ Param Vir Chakra
3. ✘ Arjuna Award
4. ✘ Vir Chakra

Question Number : 35 Question Id : 50964713901 Question Type : MCQ Option Shuffling : Yes Display Question Number : Yes  
Single Line Question Option : No Option Orientation : Vertical

Correct Marks : 1 Wrong Marks : 0.25

निम्नलिखित में से कौन सा भारत में सैन्य सेवाओं के लिए सर्वोच्च पुरस्कार है?

Options :

1. ✘ पद्म विभूषण
2. ✔ परमवीर चक्र
3. ✘ अर्जुन पुरस्कार
4. ✘ वीर चक्र

Question Number : 36 Question Id : 50964713902 Question Type : MCQ Option Shuffling : Yes Display Question Number : Yes  
Single Line Question Option : No Option Orientation : Vertical

Correct Marks : 1 Wrong Marks : 0.25

The book 'Game Changer' is an autobiography of \_\_\_\_\_.

Options :

1. ✘ Sachin Tendulkar
2. ✔ Shahid Afridi
3. ✘ Shoaib Malik
4. ✘ Virat Kohli

Question Number : 36 Question Id : 50964713902 Question Type : MCQ Option Shuffling : Yes Display Question Number : Yes  
Single Line Question Option : No Option Orientation : Vertical

Correct Marks : 1 Wrong Marks : 0.25

'गेम चेंजर' पुस्तक \_\_\_\_\_ की आत्मकथा है।

Options :

1. ✘ सचिन तेंदुलकर
2. ✔ शाहिद अफरीदी
3. ✘ शोएब मलिक
4. ✘ विराट कोहली

Question Number : 37 Question Id : 50964713903 Question Type : MCQ Option Shuffling : Yes Display Question Number : Yes  
Single Line Question Option : No Option Orientation : Vertical

Correct Marks : 1 Wrong Marks : 0.25

The International Atomic Energy Agency (IAEA) was established in year \_\_\_\_\_.

Options :

1. ✔ 1957
2. ✘ 1995
3. ✘ 1971
4. ✘ 1982

Question Number : 37 Question Id : 50964713903 Question Type : MCQ Option Shuffling : Yes Display Question Number : Yes  
Single Line Question Option : No Option Orientation : Vertical

Correct Marks : 1 Wrong Marks : 0.25

अंतरराष्ट्रीय परमाणु ऊर्जा अभिकरण (IAEA) की स्थापना वर्ष \_\_\_\_\_ में हुई थी

Options :

1. ✓ 1957
2. ✗ 1995
3. ✗ 1971
4. ✗ 1982

Question Number : 38 Question Id : 50964713904 Question Type : MCQ Option Shuffling : Yes Display Question Number : Yes  
Single Line Question Option : No Option Orientation : Vertical

Correct Marks : 1 Wrong Marks : 0.25

The 124th amendment of Indian constitution deals with \_\_\_\_\_.

Options :

1. ✓ Economically backward sections
2. ✗ Fundamental rights
3. ✗ Reservation for OBC's
4. ✗ Creation of new states

Question Number : 38 Question Id : 50964713904 Question Type : MCQ Option Shuffling : Yes Display Question Number : Yes  
Single Line Question Option : No Option Orientation : Vertical

Correct Marks : 1 Wrong Marks : 0.25

भारतीय संविधान का 124वाँ संशोधन \_\_\_\_\_ से संबंधित है

Options :

1. ✓ आर्थिक रूप से पिछड़े हुए वर्ग
2. ✗ मौलिक अधिकार
3. ✗ ओबीसी के लिए आरक्षण
4. ✗ नए राज्यों का निर्माण

Question Number : 39 Question Id : 50964713905 Question Type : MCQ Option Shuffling : Yes Display Question Number : Yes  
Single Line Question Option : No Option Orientation : Vertical

Correct Marks : 1 Wrong Marks : 0.25

Which of the following word is not mentioned in the Preamble of the Indian constitution?

Options :

1. ✗ Democartic
2. ✓ Empowerment
3. ✗ Socialist
4. ✗ Republic

Question Number : 39 Question Id : 50964713905 Question Type : MCQ Option Shuffling : Yes Display Question Number : Yes  
Single Line Question Option : No Option Orientation : Vertical

Correct Marks : 1 Wrong Marks : 0.25

निम्नलिखित में से किस शब्द का उल्लेख भारतीय संविधान की उद्देशिका में नहीं है?

Options :

1. ✗ लोकतंत्रात्मक
2. ✓ सशक्तिकरण
3. ✗ समाजवादी



4. ✘ गणराज्य

Question Number : 40 Question Id : 50964713906 Question Type : MCQ Option Shuffling : Yes Display Question Number : Yes  
Single Line Question Option : No Option Orientation : Vertical

Correct Marks : 1 Wrong Marks : 0.25

2019 IAAF World Relays was organised in \_\_\_\_\_.

Options :

1. ✘ Doha, Qatar
2. ✘ Nanjing, China
3. ✘ New Delhi, India
4. ✔ Yokohama, Japan

Question Number : 40 Question Id : 50964713906 Question Type : MCQ Option Shuffling : Yes Display Question Number : Yes  
Single Line Question Option : No Option Orientation : Vertical

Correct Marks : 1 Wrong Marks : 0.25

2019 IAAF विश्व रिले \_\_\_\_\_ में आयोजित किया गया था।

Options :

1. ✘ दोहा, कतार
2. ✘ नानजिंग, चीन
3. ✘ नई दिल्ली, भारत
4. ✔ योकोहामा, जापान

Arithmetic Ability

|   |           |
|---|-----------|
| Group Number :                            | 3         |
| Group Id :                                | 509647394 |
| Group Maximum Duration :                  | 0         |
| Group Minimum Duration :                  | 0         |
| Revisit allowed for view? :               | No        |
| Revisit allowed for edit? :               | No        |
| Break time:                               | 0         |
| Group Marks:                              | 20        |
| Revisit allowed for group Instructions? : | Yes       |
| Maximum Instruction Time:                 | 0         |
| Minimum Instruction Time:                 | 0         |

Arithmetic Ability

|                                      |           |
|--------------------------------------|-----------|
| Section Id :                         | 509647554 |
| Section Number :                     | 1         |
| Section type :                       | Online    |
| Mandatory or Optional:               | Mandatory |
| Number of Questions:                 | 20        |
| Number of Questions to be attempted: | 20        |
| Section Marks:                       | 20        |
| Display Number Panel:                | Yes       |
| Group All Questions:                 | No        |

Sub-Section Number: 1  
Sub-Section Id: 509647746  
Question Shuffling Allowed : Yes

Question Number : 41 Question Id : 50964713907 Question Type : MCQ Option Shuffling : Yes Display Question Number : Yes  
Single Line Question Option : No Option Orientation : Vertical  
Correct Marks : 1 Wrong Marks : 0.25

What is the value of:  $\frac{6 \times 6 \times 6 + 7 \times 7 \times 7}{(36 - 42 + 49)}$

Options :

1. ✘ 15
2. ✘ 1
3. ✔ 13
4. ✘ 12

Question Number : 41 Question Id : 50964713907 Question Type : MCQ Option Shuffling : Yes Display Question Number : Yes  
Single Line Question Option : No Option Orientation : Vertical  
Correct Marks : 1 Wrong Marks : 0.25

$\frac{6 \times 6 \times 6 + 7 \times 7 \times 7}{(36 - 42 + 49)}$  का मान क्या है?

Options :

1. ✘ 15
2. ✘ 1
3. ✔ 13
4. ✘ 12

Question Number : 42 Question Id : 50964713908 Question Type : MCQ Option Shuffling : Yes Display Question Number : Yes  
Single Line Question Option : No Option Orientation : Vertical  
Correct Marks : 1 Wrong Marks : 0.25

What is the value of:  $34^2 - 18^2 - 16^2$ ?

Options :

1. ✘ 648
2. ✔ 576
3. ✘ 625
4. ✘ 548

Question Number : 42 Question Id : 50964713908 Question Type : MCQ Option Shuffling : Yes Display Question Number : Yes  
Single Line Question Option : No Option Orientation : Vertical  
Correct Marks : 1 Wrong Marks : 0.25

$34^2 - 18^2 - 16^2$  का मान क्या है?

Options :

1. ✘ 648
2. ✔ 576
3. ✘ 625

4. ✖ 548

Question Number : 43 Question Id : 50964713909 Question Type : MCQ Option Shuffling : Yes Display Question Number : Yes  
Single Line Question Option : No Option Orientation : Vertical

Correct Marks : 1 Wrong Marks : 0.25

What is the value of  $((0.2)^{0.1})^2$ ?

Options :

1. ✖ 1

2. ✖  $\frac{1}{0.2}$

3. ✖  $5\frac{1}{2}$

4. ✔  $\left(\frac{1}{5}\right)^{\frac{1}{5}}$

Question Number : 43 Question Id : 50964713909 Question Type : MCQ Option Shuffling : Yes Display Question Number : Yes  
Single Line Question Option : No Option Orientation : Vertical

Correct Marks : 1 Wrong Marks : 0.25

$((0.2)^{0.1})^2$  का मान क्या है?

Options :

1. ✖ 1

2. ✖  $\frac{1}{0.2}$

3. ✖  $5\frac{1}{2}$

4. ✔  $\left(\frac{1}{5}\right)^{\frac{1}{5}}$

Question Number : 44 Question Id : 50964713910 Question Type : MCQ Option Shuffling : Yes Display Question Number : Yes  
Single Line Question Option : No Option Orientation : Vertical

Correct Marks : 1 Wrong Marks : 0.25

The Least Common Multiple of three numbers is 5096. Which of the following number cannot be their Highest Common Factor?

Options :

1. ✖ 13

2. ✔ 16

3. ✖ 28

4. ✖ 14

Question Number : 44 Question Id : 50964713910 Question Type : MCQ Option Shuffling : Yes Display Question Number : Yes  
Single Line Question Option : No Option Orientation : Vertical

Correct Marks : 1 Wrong Marks : 0.25

तीन संख्याओं का लघुत्तम समापवर्त्य 5096 है। निम्नलिखित में से कौन सा उनका महत्तम समापवर्तक नहीं हो सकता है?

Options :

1. ✖ 13
2. ✔ 16
3. ✖ 28
4. ✖ 14

Question Number : 45 Question Id : 50964713911 Question Type : MCQ Option Shuffling : Yes Display Question Number : Yes  
Single Line Question Option : No Option Orientation : Vertical

Correct Marks : 1 Wrong Marks : 0.25

How many numbers between 2 and 700 are divisible by both 3 and 4 but not divisible by 24?

Options :

1. ✖ 28
2. ✖ 27
3. ✔ 29
4. ✖ 30

Question Number : 45 Question Id : 50964713911 Question Type : MCQ Option Shuffling : Yes Display Question Number : Yes  
Single Line Question Option : No Option Orientation : Vertical

Correct Marks : 1 Wrong Marks : 0.25

2 तथा 700 के बीच सभी कितनी संख्याएँ हैं, जो 3 तथा 4 से विभाज्य है परंतु 24 से विभाज्य नहीं है?

Options :

1. ✖ 28
2. ✖ 27
3. ✔ 29
4. ✖ 30

Question Number : 46 Question Id : 50964713912 Question Type : MCQ Option Shuffling : Yes Display Question Number : Yes  
Single Line Question Option : No Option Orientation : Vertical

Correct Marks : 1 Wrong Marks : 0.25

If in a group of 18 men, two men of an average age of 58 years are replaced by two new men, then the average age of the group decreases by 2 years. What is the average age of 2 new men?

Options :

1. ✖ 36 years
2. ✖ 38 years
3. ✔ 40 years
4. ✖ 42 years

Question Number : 46 Question Id : 50964713912 Question Type : MCQ Option Shuffling : Yes Display Question Number : Yes  
Single Line Question Option : No Option Orientation : Vertical

Correct Marks : 1 Wrong Marks : 0.25

यदि 18 पुरुषों के समूह में, 58 वर्ष औसत आयु वाले दो पुरुषों को दो नए पुरुषों से बदल दिया जाता है, तो समूह की औसत आयु 2 वर्ष से कम हो जाता है। दो नए पुरुषों की औसत आयु क्या है?

Options :

1. ✖ 36 वर्ष
2. ✖ 38 वर्ष
3. ✔ 40 वर्ष
4. ✖ 42 वर्ष

Question Number : 47 Question Id : 50964713913 Question Type : MCQ Option Shuffling : Yes Display Question Number : Yes  
Single Line Question Option : No Option Orientation : Vertical

Correct Marks : 1 Wrong Marks : 0.25

65 cm is what percent of 260 m?

Options :

- ✘ 25 percent
- ✔ 0.25 percent
- ✘ 0.025 percent
- ✘ 0.0025 percent

Question Number : 47 Question Id : 50964713913 Question Type : MCQ Option Shuffling : Yes Display Question Number : Yes  
Single Line Question Option : No Option Orientation : Vertical

Correct Marks : 1 Wrong Marks : 0.25

65 सें.मी., 260 मीटर का कितना प्रतिशत है?

Options :

- ✘ 25 प्रतिशत
- ✔ 0.25 प्रतिशत
- ✘ 0.025 प्रतिशत
- ✘ 0.0025 प्रतिशत

Question Number : 48 Question Id : 50964713914 Question Type : MCQ Option Shuffling : Yes Display Question Number : Yes  
Single Line Question Option : No Option Orientation : Vertical

Correct Marks : 1 Wrong Marks : 0.25

The cost price of an article is Rs. 1250 and its selling price is Rs. 1500. What is the profit percentage?

Options :

- ✘ 33.33 percent
- ✔ 20 percent
- ✘ 16.66 percent
- ✘ 15 percent

Question Number : 48 Question Id : 50964713914 Question Type : MCQ Option Shuffling : Yes Display Question Number : Yes  
Single Line Question Option : No Option Orientation : Vertical

Correct Marks : 1 Wrong Marks : 0.25

एक वस्तु का क्रय मूल्य 1250 रुपये है तथा इसका विक्रय मूल्य 1500 रुपये है। लाभ प्रतिशत क्या है?

Options :

- ✘ 33.33 प्रतिशत
- ✔ 20 प्रतिशत
- ✘ 16.66 प्रतिशत
- ✘ 15 प्रतिशत

Question Number : 49 Question Id : 50964713915 Question Type : MCQ Option Shuffling : Yes Display Question Number : Yes  
Single Line Question Option : No Option Orientation : Vertical

Correct Marks : 1 Wrong Marks : 0.25

On selling a car for Rs. 45000, a dealer incurs a loss of 10%. At what price should he sell the car to gain 20%?

Options :

- ✘ Rs. 50000
- ✘ Rs. 55000
- ✔ Rs. 60000

4. ✖ Rs. 70000

Question Number : 49 Question Id : 50964713915 Question Type : MCQ Option Shuffling : Yes Display Question Number : Yes Single Line Question Option : No Option Orientation : Vertical

Correct Marks : 1 Wrong Marks : 0.25

एक कार को 45000 रुपये की बेचने पर एक विक्रेता को 10% की हानि होती है। 20% का लाभ कमाने के लिए उसे कार को कितने मूल्य पर बेचना चाहिए?

Options :

1. ✖ 50000 रुपये
2. ✖ 55000 रुपये
3. ✔ 60000 रुपये
4. ✖ 70000 रुपये

Question Number : 50 Question Id : 50964713916 Question Type : MCQ Option Shuffling : Yes Display Question Number : Yes Single Line Question Option : No Option Orientation : Vertical

Correct Marks : 1 Wrong Marks : 0.25

$a : b = 2 : 3$  and  $b : c = 4 : 3$ . If  $a = 32$ , then what is the value of  $c$ ?

Options :

1. ✖ 27
2. ✔ 36
3. ✖ 45
4. ✖ 54

Question Number : 50 Question Id : 50964713916 Question Type : MCQ Option Shuffling : Yes Display Question Number : Yes Single Line Question Option : No Option Orientation : Vertical

Correct Marks : 1 Wrong Marks : 0.25

$a : b = 2 : 3$  तथा  $b : c = 4 : 3$  है। यदि  $a = 32$  है, तो  $c$  का मान क्या है?

Options :

1. ✖ 27
2. ✔ 36
3. ✖ 45
4. ✖ 54

Question Number : 51 Question Id : 50964713917 Question Type : MCQ Option Shuffling : Yes Display Question Number : Yes Single Line Question Option : No Option Orientation : Vertical

Correct Marks : 1 Wrong Marks : 0.25

A sum of Rs. 380 is divided among P, Q, R and S in the ratio of 8 : 9 : 10 : 11. How much money should be taken from each of them so that the ratio of their sum becomes 6 : 7 : 8 : 9?

Options :

1. ✖ Rs. 10
2. ✔ Rs. 20
3. ✖ Rs. 15
4. ✖ Rs. 18

Question Number : 51 Question Id : 50964713917 Question Type : MCQ Option Shuffling : Yes Display Question Number : Yes Single Line Question Option : No Option Orientation : Vertical

Correct Marks : 1 Wrong Marks : 0.25

एक 380 रुपये की राशि को P, Q, R तथा S के बीच 8 : 9 : 10 : 11 के अनुपात में बाँटा जाता है। उनमें से प्रत्येक से कितने रुपये लेने चाहिए ताकि उनकी राशि का अनुपात 6 : 7 : 8 : 9 हो जाए?

Options :

1. ✘ 10 रुपये
2. ✔ 20 रुपये
3. ✘ 15 रुपये
4. ✘ 18 रुपये

Question Number : 52 Question Id : 50964713918 Question Type : MCQ Option Shuffling : Yes Display Question Number : Yes  
Single Line Question Option : No Option Orientation : Vertical

Correct Marks : 1 Wrong Marks : 0.25

What will be the simple interest on a sum of Rs. 8400 for 2 years at the rate of 12% per annum?

Options :

1. ✘ Rs. 3024
2. ✔ Rs. 2016
3. ✘ Rs. 1054
4. ✘ Rs. 1512

Question Number : 52 Question Id : 50964713918 Question Type : MCQ Option Shuffling : Yes Display Question Number : Yes  
Single Line Question Option : No Option Orientation : Vertical

Correct Marks : 1 Wrong Marks : 0.25

एक 8400 रुपये की राशि पर 12% प्रति वर्ष की ब्याज दर से 2 वर्षों का साधारण ब्याज क्या होगा?

Options :

1. ✘ 3024 रुपये
2. ✔ 2016 रुपये
3. ✘ 1054 रुपये
4. ✘ 1512 रुपये

Question Number : 53 Question Id : 50964713919 Question Type : MCQ Option Shuffling : Yes Display Question Number : Yes  
Single Line Question Option : No Option Orientation : Vertical

Correct Marks : 1 Wrong Marks : 0.25

If the compound interest (compounding annually) on a sum of Rs. 1200 for two years is Rs. 528, then what is the rate of interest per annum?

Options :

1. ✘ 26 percent
2. ✘ 25 percent
3. ✘ 22 percent
4. ✔ 20 percent

Question Number : 53 Question Id : 50964713919 Question Type : MCQ Option Shuffling : Yes Display Question Number : Yes  
Single Line Question Option : No Option Orientation : Vertical

Correct Marks : 1 Wrong Marks : 0.25

यदि एक 1200 रुपये की राशि पर दो वर्षों का चक्रवृद्धि ब्याज (वार्षिक संयोजन से) 528 रुपये है, तो प्रति वर्ष ब्याज की दर क्या है?

Options :

1. ✘ 26 प्रतिशत
2. ✘ 25 प्रतिशत
3. ✘ 22 प्रतिशत
4. ✔ 20 प्रतिशत

Question Number : 54 Question Id : 50964713920 Question Type : MCQ Option Shuffling : Yes Display Question Number : Yes  
Single Line Question Option : No Option Orientation : Vertical

Correct Marks : 1 Wrong Marks : 0.25

A car moves at a speed of 360 km/h. How much distance will it cover in 1 hour 50 minutes?

Options :

- ✘ 540 km
- ✘ 600km
- ✔ 660 km
- ✘ 460 km

Question Number : 54 Question Id : 50964713920 Question Type : MCQ Option Shuffling : Yes Display Question Number : Yes  
Single Line Question Option : No Option Orientation : Vertical

Correct Marks : 1 Wrong Marks : 0.25

एक कार 360 कि.मी. / घंटा की गति से चलती है वह 1 घंटे 50 मिनट में कितनी दूरी तय कर लेगी?

Options :

- ✘ 540 कि.मी.
- ✘ 600 कि.मी.
- ✔ 660 कि.मी.
- ✘ 460 कि.मी.

Question Number : 55 Question Id : 50964713921 Question Type : MCQ Option Shuffling : Yes Display Question Number : Yes  
Single Line Question Option : No Option Orientation : Vertical

Correct Marks : 1 Wrong Marks : 0.25

A train of length 600 m moves at speed of 60 m/s. How long will it take to cross another train of length 1200 m moving in opposite direction at a speed of 90 m/s?

Options :

- ✔ 12 sec
- ✘ 15 sec
- ✘ 20 sec
- ✘ 18 sec

Question Number : 55 Question Id : 50964713921 Question Type : MCQ Option Shuffling : Yes Display Question Number : Yes  
Single Line Question Option : No Option Orientation : Vertical

Correct Marks : 1 Wrong Marks : 0.25

A 600 मीटर लंबी रेलगाड़ी, 60 मीटर / सेकण्ड की गति से चलती है विपरीत दिशा में 90 मीटर/सेकण्ड की गति से चल रही 1200 मीटर लंबी रेलगाड़ी को पार करने में वह कितना समय लेगी?

Options :

- ✔ 12 सेकण्ड
- ✘ 15 सेकण्ड
- ✘ 20 सेकण्ड
- ✘ 18 सेकण्ड

Question Number : 56 Question Id : 50964713922 Question Type : MCQ Option Shuffling : Yes Display Question Number : Yes  
Single Line Question Option : No Option Orientation : Vertical

Correct Marks : 1 Wrong Marks : 0.25

A and B can do a work in 20 days, B and C can do it in 24 days and A and C can do it in 30 days. How many more days will C alone take to complete the same work than A?

Options :

- ✘ 24 days
- ✘ 16 days
- ✔ 32 days
- ✘ 25 days



Question Number : 56 Question Id : 50964713922 Question Type : MCQ Option Shuffling : Yes Display Question Number : Yes  
Single Line Question Option : No Option Orientation : Vertical

Correct Marks : 1 Wrong Marks : 0.25

A तथा B एक कार्य को 20 दिन में कर सकते हैं, B तथा C इसी कार्य को 24 दिन में कर सकते हैं और A तथा C इसी कार्य को 30 दिन में कर सकते हैं। इसी कार्य को पूरा करने के लिए C अकेला, A से कितने अधिक दिन लेगा?

Options :

- ✘ 24 दिन
- ✘ 16 दिन
- ✔ 32 दिन
- ✘ 25 दिन

Question Number : 57 Question Id : 50964713923 Question Type : MCQ Option Shuffling : Yes Display Question Number : Yes  
Single Line Question Option : No Option Orientation : Vertical

Correct Marks : 1 Wrong Marks : 0.25

The ratio of length, breadth and height of a cuboid is 3 : 2 : 1. If the total surface area of the cuboid is 792  $\text{cm}^2$ , then what is the volume of the cuboid?

Options :

- ✘ 1440  $\text{cm}^3$
- ✔ 1296  $\text{cm}^3$
- ✘ 512  $\text{cm}^3$
- ✘ 200  $\text{cm}^3$

Question Number : 57 Question Id : 50964713923 Question Type : MCQ Option Shuffling : Yes Display Question Number : Yes  
Single Line Question Option : No Option Orientation : Vertical

Correct Marks : 1 Wrong Marks : 0.25

एक घनाभ की लंबाई, चौड़ाई तथा ऊँचाई का अनुपात 3 : 2 : 1 है। यदि घनाभ का कुल पृष्ठीय क्षेत्रफल 792  $\text{से.मी.}^2$  है, तो घनाभ का आयतन क्या है?

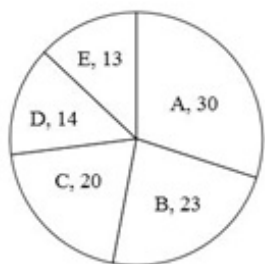
Options :

- ✘ 1440  $\text{से.मी.}^3$
- ✔ 1296  $\text{से.मी.}^3$
- ✘ 512  $\text{से.मी.}^3$
- ✘ 200  $\text{से.मी.}^3$

Question Number : 58 Question Id : 50964713924 Question Type : MCQ Option Shuffling : Yes Display Question Number : Yes  
Single Line Question Option : No Option Orientation : Vertical

Correct Marks : 1 Wrong Marks : 0.25

The pie chart given below shows the various expenses incurred by a family. The various expenses are shown as the percentage of total expenses incurred.



If the total expenses incurred by the family is Rs. 36000, then how much amount is spent by the family on A?

Options :

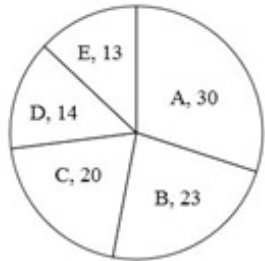
- ✘ Rs. 12400

2. ✓ Rs. 10800
3. ✗ Rs. 11600
4. ✗ Rs. 7200

Question Number : 58 Question Id : 50964713924 Question Type : MCQ Option Shuffling : Yes Display Question Number : Yes Single Line Question Option : No Option Orientation : Vertical

Correct Marks : 1 Wrong Marks : 0.25

नीचे दिया गया वृत्त चित्र में एक परिवार द्वारा किए गए कई प्रकार के खर्चों को दर्शाता है। विभिन्न प्रकार के खर्चों को कुल किए गए खर्चों के प्रतिशत के रूप में दर्शाया गया है।



यदि परिवार द्वारा किया गया कुल खर्चा 36000 रुपये है, तो परिवार द्वारा A पर कितना खर्चा किया गया है?

Options :

1. ✗ 12400 रुपये
2. ✓ 10800 रुपये
3. ✗ 11600 रुपये
4. ✗ 7200 रुपये

Question Number : 59 Question Id : 50964713925 Question Type : MCQ Option Shuffling : Yes Display Question Number : Yes Single Line Question Option : No Option Orientation : Vertical

Correct Marks : 1 Wrong Marks : 0.25

The table given below shows the number of cars and bikes sold by a company in five years.

| Year | Car | Bike |
|------|-----|------|
| Y1   | 360 | 280  |
| Y2   | 420 | 120  |
| Y3   | 340 | 160  |
| Y4   | 530 | 420  |
| Y5   | 240 | 340  |

What is the difference between the number of bikes sold in year Y4 and the number of cars sold in year Y5?

Options :

1. ✗ 240
2. ✓ 180
3. ✗ 160
4. ✗ 220

Question Number : 59 Question Id : 50964713925 Question Type : MCQ Option Shuffling : Yes Display Question Number : Yes Single Line Question Option : No Option Orientation : Vertical

Correct Marks : 1 Wrong Marks : 0.25

नीचे दी गई तालिका एक कंपनी द्वारा पांच वर्षों में बेची गई कारों तथा बाइकों की संख्या को दर्शाता है।

| वर्ष | कार | बाइक |
|------|-----|------|
| Y1   | 360 | 280  |
| Y2   | 420 | 120  |
| Y3   | 340 | 160  |
| Y4   | 530 | 420  |
| Y5   | 240 | 340  |

वर्ष Y4 में बेची गई बाइकों की संख्या तथा वर्ष Y5 में बेची गई कारों की संख्या के बीच का अंतर क्या है?

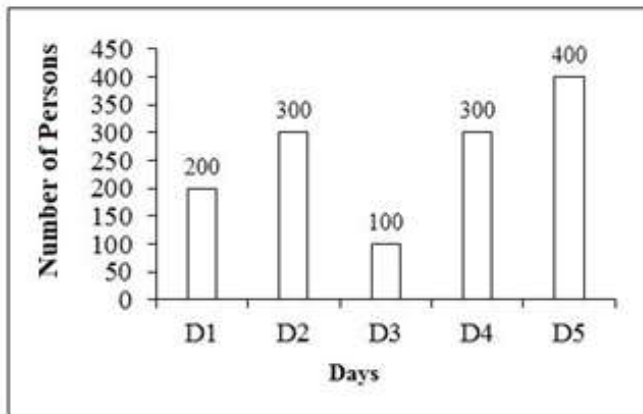
Options :

- ✘ 240
- ✔ 180
- ✘ 160
- ✘ 220

Question Number : 60 Question Id : 50964713926 Question Type : MCQ Option Shuffling : Yes Display Question Number : Yes Single Line Question Option : No Option Orientation : Vertical

Correct Marks : 1 Wrong Marks : 0.25

The bar graph given below shows the number of persons visited mall on the 5 days.



What is the ratio of the number of persons visited mall on day D2 and the total number of persons visited mall during all the five days?

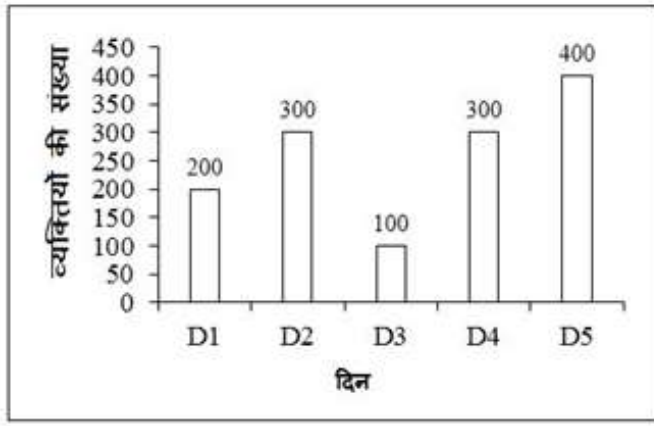
Options :

- ✔ 3 : 13
- ✘ 1 : 2
- ✘ 1 : 5
- ✘ 1 : 3

Question Number : 60 Question Id : 50964713926 Question Type : MCQ Option Shuffling : Yes Display Question Number : Yes Single Line Question Option : No Option Orientation : Vertical

Correct Marks : 1 Wrong Marks : 0.25

नीचे दिया गया दण्ड चित्र एक मॉल में 5 दिनों के लिए भ्रमण करने वाले व्यक्तियों की संख्या को दर्शाता है।



D2 दिन पर मॉल भ्रमण करने वाले व्यक्तियों की संख्या तथा सभी पाँच दिनों में मॉल भ्रमण करने वाले व्यक्तियों की कुल संख्या का अनुपात क्या है?

Options :

1. ✓ 3 : 13
2. ✗ 1 : 2
3. ✗ 1 : 5
4. ✗ 1 : 3

#### General English

|   |           |
|---|-----------|
| Group Number :                            | 4         |
| Group Id :                                | 509647395 |
| Group Maximum Duration :                  | 0         |
| Group Minimum Duration :                  | 0         |
| Revisit allowed for view? :               | No        |
| Revisit allowed for edit? :               | No        |
| Break time:                               | 0         |
| Group Marks:                              | 20        |
| Revisit allowed for group Instructions? : | Yes       |
| Maximum Instruction Time:                 | 0         |
| Minimum Instruction Time:                 | 0         |

#### General English

|                                      |           |
|--------------------------------------|-----------|
| Section Id :                         | 509647555 |
| Section Number :                     | 1         |
| Section type :                       | Online    |
| Mandatory or Optional:               | Mandatory |
| Number of Questions:                 | 16        |
| Number of Questions to be attempted: | 16        |
| Section Marks:                       | 20        |
| Display Number Panel:                | Yes       |
| Group All Questions:                 | No        |

|                     |           |
|---------------------|-----------|
| Sub-Section Number: | 1         |
| Sub-Section Id:     | 509647747 |

Question Shuffling Allowed :

Yes

Question Number : 61 Question Id : 50964713927 Question Type : MCQ Option Shuffling : Yes Display Question Number : Yes  
Single Line Question Option : No Option Orientation : Vertical

Correct Marks : 1 Wrong Marks : 0.25

Which of the following sentences contain an error?

Options :

1. ✘ Ram is playing football
2. ✘ Karan was eating an apple yesterday
3. ✔ Tell the truths always
4. ✘ Honesty is the best policy

Question Number : 61 Question Id : 50964713927 Question Type : MCQ Option Shuffling : Yes Display Question Number : Yes  
Single Line Question Option : No Option Orientation : Vertical

Correct Marks : 1 Wrong Marks : 0.25

Which of the following sentences contain an error?

Options :

1. ✘ Ram is playing football
2. ✘ Karan was eating an apple yesterday
3. ✔ Tell the truths always
4. ✘ Honesty is the best policy

Question Number : 62 Question Id : 50964713928 Question Type : MCQ Option Shuffling : Yes Display Question Number : Yes  
Single Line Question Option : No Option Orientation : Vertical

Correct Marks : 1 Wrong Marks : 0.25

Find the part of the given sentence that has an error in it. If there is no error, choose 'No error'.

There was (1) / too many sheep (2) / in the animal market (3) /No error (4)

Options :

1. ✔ 1
2. ✘ 2
3. ✘ 3
4. ✘ 4

Question Number : 62 Question Id : 50964713928 Question Type : MCQ Option Shuffling : Yes Display Question Number : Yes  
Single Line Question Option : No Option Orientation : Vertical

Correct Marks : 1 Wrong Marks : 0.25

Find the part of the given sentence that has an error in it. If there is no error, choose 'No error'.

There was (1) / too many sheep (2) / in the animal market (3) /No error (4)

Options :

1. ✔ 1
2. ✘ 2
3. ✘ 3
4. ✘ 4

Question Number : 63 Question Id : 50964713929 Question Type : MCQ Option Shuffling : Yes Display Question Number : Yes  
Single Line Question Option : No Option Orientation : Vertical

Correct Marks : 1 Wrong Marks : 0.25

Improve the bracketed part of the sentence.

The tigers and lions (sat) together during the circus show tomorrow.

Options :

1. ✘ sits
2. ✔ will sit
3. ✘ was sitting
4. ✘ No improvement

Question Number : 63 Question Id : 50964713929 Question Type : MCQ Option Shuffling : Yes Display Question Number : Yes  
Single Line Question Option : No Option Orientation : Vertical

Correct Marks : 1 Wrong Marks : 0.25

Improve the bracketed part of the sentence.

The tigers and lions (sat) together during the circus show tomorrow.

Options :

1. ✘ sits
2. ✔ will sit
3. ✘ was sitting
4. ✘ No improvement

Question Number : 64 Question Id : 50964713930 Question Type : MCQ Option Shuffling : Yes Display Question Number : Yes  
Single Line Question Option : No Option Orientation : Vertical

Correct Marks : 1 Wrong Marks : 0.25

Improve the bracketed part of the sentence.

We saw a cat (into) that house.

Options :

1. ✘ to
2. ✘ with
3. ✔ inside
4. ✘ No improvement

Question Number : 64 Question Id : 50964713930 Question Type : MCQ Option Shuffling : Yes Display Question Number : Yes  
Single Line Question Option : No Option Orientation : Vertical

Correct Marks : 1 Wrong Marks : 0.25

Improve the bracketed part of the sentence.

We saw a cat (into) that house.

Options :

1. ✘ to
2. ✘ with
3. ✔ inside
4. ✘ No improvement

Question Number : 65 Question Id : 50964713931 Question Type : MCQ Option Shuffling : Yes Display Question Number : Yes  
Single Line Question Option : No Option Orientation : Vertical

Correct Marks : 1 Wrong Marks : 0.25

A sentence has been given with a blank to be filled with an appropriate word.

----- good child will always obey his parents.

Options :

1. ✓ A
2. ✗ An
3. ✗ The
4. ✗ No article is required

Question Number : 65 Question Id : 50964713931 Question Type : MCQ Option Shuffling : Yes Display Question Number : Yes  
Single Line Question Option : No Option Orientation : Vertical

Correct Marks : 1 Wrong Marks : 0.25

A sentence has been given with a blank to be filled with an appropriate word.

----- good child will always obey his parents.

Options :

1. ✓ A
2. ✗ An
3. ✗ The
4. ✗ No article is required

Question Number : 66 Question Id : 50964713932 Question Type : MCQ Option Shuffling : Yes Display Question Number : Yes  
Single Line Question Option : No Option Orientation : Vertical

Correct Marks : 1 Wrong Marks : 0.25

A sentence has been given with a blank to be filled with an appropriate word.

Many children did not ----- the promotion at all.

Options :

1. ✗ got
2. ✗ is getting
3. ✓ get
4. ✗ are getting

Question Number : 66 Question Id : 50964713932 Question Type : MCQ Option Shuffling : Yes Display Question Number : Yes  
Single Line Question Option : No Option Orientation : Vertical

Correct Marks : 1 Wrong Marks : 0.25

A sentence has been given with a blank to be filled with an appropriate word.

Many children did not ----- the promotion at all.

Options :

1. ✗ got
2. ✗ is getting
3. ✓ get
4. ✗ are getting

Question Number : 67 Question Id : 50964713933 Question Type : MCQ Option Shuffling : Yes Display Question Number : Yes  
Single Line Question Option : No Option Orientation : Vertical

Correct Marks : 1 Wrong Marks : 0.25

The question below consists of a set of labeled parts. Out of the four options given, select the most logical order of the parts to form a coherent sentence.

P: the rainy season  
Q: You should always  
R: With you during  
S: Carry an umbrella

Options :

1. ✘ PQRS
2. ✘ QRPS
3. ✔ QSRP
4. ✘ QSPR

Question Number : 67 Question Id : 50964713933 Question Type : MCQ Option Shuffling : Yes Display Question Number : Yes  
Single Line Question Option : No Option Orientation : Vertical

Correct Marks : 1 Wrong Marks : 0.25

The question below consists of a set of labeled parts. Out of the four options given, select the most logical order of the parts to form a coherent sentence.

P: the rainy season  
Q: You should always  
R: With you during  
S: Carry an umbrella

Options :

1. ✘ PQRS
2. ✘ QRPS
3. ✔ QSRP
4. ✘ QSPR

Question Number : 68 Question Id : 50964713934 Question Type : MCQ Option Shuffling : Yes Display Question Number : Yes  
Single Line Question Option : No Option Orientation : Vertical

Correct Marks : 1 Wrong Marks : 0.25

The question below consists of a set of labeled parts. Out of the four options given, select the most logical order of the parts to form a coherent sentence.

P: college in  
Q: in an Engineering  
R: Martin is studying  
S: the first year

Options :

1. ✘ PQRS
2. ✔ RQPS
3. ✘ RPQS
4. ✘ RSQP

Question Number : 68 Question Id : 50964713934 Question Type : MCQ Option Shuffling : Yes Display Question Number : Yes  
Single Line Question Option : No Option Orientation : Vertical

Correct Marks : 1 Wrong Marks : 0.25



The question below consists of a set of labeled parts. Out of the four options given, select the most logical order of the parts to form a coherent sentence.

P: college in  
Q: in an Engineering  
R: Martin is studying  
S: the first year

Options :

1. ✘ PQRS
2. ✔ RQPS
3. ✘ RPQS
4. ✘ RSQP

Question Number : 69 Question Id : 50964713935 Question Type : MCQ Option Shuffling : Yes Display Question Number : Yes  
Single Line Question Option : No Option Orientation : Vertical

Correct Marks : 1 Wrong Marks : 0.25

Choose the word that means the same as the given word.

Sympathy

Options :

1. ✘ Blame
2. ✘ Pitilessness
3. ✘ Distant
4. ✔ Compassion

Question Number : 69 Question Id : 50964713935 Question Type : MCQ Option Shuffling : Yes Display Question Number : Yes  
Single Line Question Option : No Option Orientation : Vertical

Correct Marks : 1 Wrong Marks : 0.25

Choose the word that means the same as the given word.

Sympathy

Options :

1. ✘ Blame
2. ✘ Pitilessness
3. ✘ Distant
4. ✔ Compassion

Question Number : 70 Question Id : 50964713936 Question Type : MCQ Option Shuffling : Yes Display Question Number : Yes  
Single Line Question Option : No Option Orientation : Vertical

Correct Marks : 1 Wrong Marks : 0.25

Choose the word that is opposite in meaning to the given word.

Disapprove

Options :

1. ✔ Accede
2. ✘ Expand
3. ✘ Reject
4. ✘ Cheerful

Question Number : 70 Question Id : 50964713936 Question Type : MCQ Option Shuffling : Yes Display Question Number : Yes  
Single Line Question Option : No Option Orientation : Vertical

Correct Marks : 1 Wrong Marks : 0.25

Choose the word that is opposite in meaning to the given word.

Disapprove

Options :

1. ✓ Accede
2. ✗ Expand
3. ✗ Reject
4. ✗ Cheerful

Question Number : 71 Question Id : 50964713937 Question Type : MCQ Option Shuffling : Yes Display Question Number : Yes  
Single Line Question Option : No Option Orientation : Vertical

Correct Marks : 1 Wrong Marks : 0.25

In the given question, four words are given out of which one word is correctly spelt. Choose the correctly spelt word.

Options :

1. ✗ Ecentric
2. ✓ Eccentric
3. ✗ Essentrik
4. ✗ Essentrk

Question Number : 71 Question Id : 50964713937 Question Type : MCQ Option Shuffling : Yes Display Question Number : Yes  
Single Line Question Option : No Option Orientation : Vertical

Correct Marks : 1 Wrong Marks : 0.25

In the given question, four words are given out of which one word is correctly spelt. Choose the correctly spelt word.

Options :

1. ✗ Ecentric
2. ✓ Eccentric
3. ✗ Essentrik
4. ✗ Essentrk

Question Number : 72 Question Id : 50964713938 Question Type : MCQ Option Shuffling : Yes Display Question Number : Yes  
Single Line Question Option : No Option Orientation : Vertical

Correct Marks : 1 Wrong Marks : 0.25

In the given question, four words are given out of which one word is incorrectly spelt. Choose the incorrectly spelt word.

Options :

1. ✗ Acculturate
2. ✗ Diminish
3. ✓ Aproachable
4. ✗ Barbaric

Question Number : 72 Question Id : 50964713938 Question Type : MCQ Option Shuffling : Yes Display Question Number : Yes  
Single Line Question Option : No Option Orientation : Vertical

Correct Marks : 1 Wrong Marks : 0.25

In the given question, four words are given out of which one word is incorrectly spelt. Choose the incorrectly spelt word.

Options :

1. ✗ Acculturate

2. ✘ Diminish
3. ✔ Aproachable
4. ✘ Barbaric

Question Number : 73 Question Id : 50964713939 Question Type : MCQ Option Shuffling : Yes Display Question Number : Yes  
Single Line Question Option : No Option Orientation : Vertical

Correct Marks : 1 Wrong Marks : 0.25

In the following question, out of the given four alternatives, select the alternative which best expresses the meaning of the Idiom / Phrase.

Hard core

Options :

1. ✔ Determined
2. ✘ At full speed
3. ✘ An undesirable company
4. ✘ At a close distance

Question Number : 73 Question Id : 50964713939 Question Type : MCQ Option Shuffling : Yes Display Question Number : Yes  
Single Line Question Option : No Option Orientation : Vertical

Correct Marks : 1 Wrong Marks : 0.25

In the following question, out of the given four alternatives, select the alternative which best expresses the meaning of the Idiom / Phrase.

Hard core

Options :

1. ✔ Determined
2. ✘ At full speed
3. ✘ An undesirable company
4. ✘ At a close distance

Question Number : 74 Question Id : 50964713940 Question Type : MCQ Option Shuffling : Yes Display Question Number : Yes  
Single Line Question Option : No Option Orientation : Vertical

Correct Marks : 1 Wrong Marks : 0.25

In the following question, out of the given four alternatives, select the alternative which best expresses the meaning of the Idiom / Phrase.

To burn one's boats

Options :

1. ✘ In a perfectly healthy condition
2. ✘ A real loved one
3. ✔ To do something which cannot be reversed
4. ✘ To be humble and beg

Question Number : 74 Question Id : 50964713940 Question Type : MCQ Option Shuffling : Yes Display Question Number : Yes  
Single Line Question Option : No Option Orientation : Vertical

Correct Marks : 1 Wrong Marks : 0.25

In the following question, out of the given four alternatives, select the alternative which best expresses the meaning of the Idiom / Phrase.

To burn one's boats

Options :

- ✘ In a perfectly healthy condition
- ✘ A real loved one
- ✔ To do something which cannot be reversed
- ✘ To be humble and beg

Question Number : 75 Question Id : 50964713941 Question Type : MCQ Option Shuffling : Yes Display Question Number : Yes  
Single Line Question Option : No Option Orientation : Vertical

Correct Marks : 1 Wrong Marks : 0.25

Choose the word that can substitute the given sentence.

Public merry making and procession.

Options :

- ✘ Zigzag
- ✔ Carnival
- ✘ Abdomen
- ✘ Abbot

Question Number : 75 Question Id : 50964713941 Question Type : MCQ Option Shuffling : Yes Display Question Number : Yes  
Single Line Question Option : No Option Orientation : Vertical

Correct Marks : 1 Wrong Marks : 0.25

Choose the word that can substitute the given sentence.

Public merry making and procession.

Options :

- ✘ Zigzag
- ✔ Carnival
- ✘ Abdomen
- ✘ Abbot

|                              |           |
|------------------------------|-----------|
| Sub-Section Number:          | 2         |
| Sub-Section Id:              | 509647748 |
| Question Shuffling Allowed : | Yes       |

Question Id : 50964713942 Question Type : COMPREHENSION Sub Question Shuffling Allowed : Yes Group Comprehension  
Questions : No

Question Numbers : (76 to 80)

Question Label : Comprehension

Read the following information carefully and answer the given questions:

Sofia Margarita Vergara is a Colombian-American actress and model. Vergara rose to prominence while co-hosting two television shows for Spanish-language television network Univisión in the late 1990s. Her first notable acting job in English was in the film Chasing Papi(2003). Subsequently, she appeared in other films, including Four Brothers (2005) and two Tyler Perry films: Meet the Browns (2008) and Madea Goes to Jail (2009), receiving an ALMA Award nomination for the latter. Vergara's success on television has earned her roles in films The Smurfs (2011), New Year's Eve (2011), The Three Stooges(2012), Machete Kills (2013), Chef (2014), and Hot Pursuit (2015); and voice-over roles in Happy Feet Two (2011), Escape from Planet Earth (2013) and The Emoji Movie (2017). In 2012, 2013, and 2016, she was the top-earning actress on US television. Vergara stars on the ABC series Modern Family as Gloria Delgado-Pritchett, for which she has been nominated for four Golden Globe Awards, four Primetime Emmy Awards, and seven Screen Actors Guild Awards.

Vergara was born to a Roman Catholic family in Barranquilla. Her mother, Margarita Vergara de Vergara, was a homemaker, and her father, Julio Enrique Vergara Robayo, was a cattle rancher for the meat industry. She was nicknamed "Toti" by her five siblings and many cousins. Vergara initially studied three years of dentistry at a university in Colombia but left two semesters away from her degree to pursue opportunities in modeling and show business. She subsequently moved to Miami, Florida, leaving behind the unrest in Colombia, where her older brother Rafael was murdered in 1998 during an attempt to kidnap him. Her cousin and adopted sister, Sandra, is also a television actress in the United States.

### Sub questions

**Question Number : 76 Question Id : 50964713943 Question Type : MCQ Option Shuffling : Yes Display Question Number : Yes Single Line Question Option : No Option Orientation : Vertical**

**Correct Marks : 1 Wrong Marks : 0.25**

For which movie did Sofia receive an ALMA Award nomination?

**Options :**

1. ✘ Chasing Papi
2. ✔ Madea goes to Jail
3. ✘ Meet the browns
4. ✘ Four Brothers

**Question Number : 77 Question Id : 50964713944 Question Type : MCQ Option Shuffling : Yes Display Question Number : Yes Single Line Question Option : No Option Orientation : Vertical**

**Correct Marks : 1 Wrong Marks : 0.25**

In which film she did not play a voice - over role?

**Options :**

1. ✘ The Emoji Movie
2. ✘ Happy feet two
3. ✘ Escape from Planet Earth
4. ✔ Chef

**Question Number : 78 Question Id : 50964713945 Question Type : MCQ Option Shuffling : Yes Display Question Number : Yes Single Line Question Option : No Option Orientation : Vertical**

**Correct Marks : 1 Wrong Marks : 0.25**

Which word from the passage mean the same as EMINENT?

**Options :**

1. ✔ Notable
2. ✘ Appeared
3. ✘ Prominence
4. ✘ Adopted

**Question Number : 79 Question Id : 50964713946 Question Type : MCQ Option Shuffling : Yes Display Question Number : Yes Single Line Question Option : No Option Orientation : Vertical**

Correct Marks : 1 Wrong Marks : 0.25

The word SUBSEQUENTLY is opposite in meaning to:

Options :

- ✘ Latter
- ✘ Infra
- ✔ Former
- ✘ Consequently

Question Number : 80 Question Id : 50964713947 Question Type : MCQ Option Shuffling : Yes Display Question Number : Yes  
Single Line Question Option : No Option Orientation : Vertical

Correct Marks : 1 Wrong Marks : 0.25

Why did she not complete her course of dentistry?

- I. To pursue opportunities in modeling
- II. To try show business

Options :

- ✘ Only I
- ✘ Only II
- ✔ Both I and II
- ✘ Neither I nor II

Question Id : 50964713942 Question Type : COMPREHENSION Sub Question Shuffling Allowed : Yes Group Comprehension  
Questions : No

Question Numbers : (76 to 80)

Question Label : Comprehension

Read the following information carefully and answer the given questions:

Sofia Margarita Vergara is a Colombian-American actress and model. Vergara rose to prominence while co-hosting two television shows for Spanish-language television network Univisión in the late 1990s. Her first notable acting job in English was in the film Chasing Papi(2003). Subsequently, she appeared in other films, including Four Brothers (2005) and two Tyler Perry films: Meet the Browns (2008) and Madea Goes to Jail (2009), receiving an ALMA Award nomination for the latter. Vergara's success on television has earned her roles in films The Smurfs (2011), New Year's Eve (2011), The Three Stooges(2012), Machete Kills (2013), Chef (2014), and Hot Pursuit (2015); and voice-over roles in Happy Feet Two (2011), Escape from Planet Earth (2013) and The Emoji Movie (2017). In 2012, 2013, and 2016, she was the top-earning actress on US television. Vergara stars on the ABC series Modern Family as Gloria Delgado-Pritchett, for which she has been nominated for four Golden Globe Awards, four Primetime Emmy Awards, and seven Screen Actors Guild Awards.

Vergara was born to a Roman Catholic family in Barranquilla. Her mother, Margarita Vergara de Vergara, was a homemaker, and her father, Julio Enrique Vergara Robayo, was a cattle rancher for the meat industry. She was nicknamed "Toti" by her five siblings and many cousins. Vergara initially studied three years of dentistry at a university in Colombia but left two semesters away from her degree to pursue opportunities in modeling and show business. She subsequently moved to Miami, Florida, leaving behind the unrest in Colombia, where her older brother Rafael was murdered in 1998 during an attempt to kidnap him. Her cousin and adopted sister, Sandra, is also a television actress in the United States.

Sub questions

Question Number : 76 Question Id : 50964713943 Question Type : MCQ Option Shuffling : Yes Display Question Number : Yes  
Single Line Question Option : No Option Orientation : Vertical

Correct Marks : 1 Wrong Marks : 0.25

For which movie did Sofia receive an ALMA Award nomination?

Options :

- ✘ Chasing Papi
- ✔ Madea goes to Jail

3. ✘ Meet the browns
4. ✘ Four Brothers

Question Number : 77 Question Id : 50964713944 Question Type : MCQ Option Shuffling : Yes Display Question Number : Yes  
Single Line Question Option : No Option Orientation : Vertical

Correct Marks : 1 Wrong Marks : 0.25

In which film she did not play a voice – over role?

Options :

1. ✘ The Ermoji Movie
2. ✘ Happy feet two
3. ✘ Escape from Planet Earth
4. ✔ Chef

Question Number : 78 Question Id : 50964713945 Question Type : MCQ Option Shuffling : Yes Display Question Number : Yes  
Single Line Question Option : No Option Orientation : Vertical

Correct Marks : 1 Wrong Marks : 0.25

Which word from the passage mean the same as EMINENT?

Options :

1. ✔ Notable
2. ✘ Appeared
3. ✘ Prominence
4. ✘ Adopted

Question Number : 79 Question Id : 50964713946 Question Type : MCQ Option Shuffling : Yes Display Question Number : Yes  
Single Line Question Option : No Option Orientation : Vertical

Correct Marks : 1 Wrong Marks : 0.25

The word SUBSEQUENTLY is opposite in meaning to:

Options :

1. ✘ Latter
2. ✘ Infra
3. ✔ Former
4. ✘ Consequently

Question Number : 80 Question Id : 50964713947 Question Type : MCQ Option Shuffling : Yes Display Question Number : Yes  
Single Line Question Option : No Option Orientation : Vertical

Correct Marks : 1 Wrong Marks : 0.25

Why did she not complete her course of dentistry?

- I. To pursue opportunities in modeling
- II. To try show business

Options :

1. ✘ Only I
2. ✘ Only II
3. ✔ Both I and II
4. ✘ Neither I nor II

|   |           |
|---|-----------|
| Group Number :                            | 5         |
| Group Id :                                | 509647396 |
| Group Maximum Duration :                  | 0         |
| Group Minimum Duration :                  | 0         |
| Revisit allowed for view? :               | No        |
| Revisit allowed for edit? :               | No        |
| Break time:                               | 0         |
| Group Marks:                              | 20        |
| Revisit allowed for group Instructions? : | Yes       |
| Maximum Instruction Time:                 | 0         |
| Minimum Instruction Time:                 | 0         |

### General Hindi

|                                      |           |
|--------------------------------------|-----------|
| Section Id :                         | 509647556 |
| Section Number :                     | 1         |
| Section type :                       | Online    |
| Mandatory or Optional:               | Mandatory |
| Number of Questions:                 | 16        |
| Number of Questions to be attempted: | 16        |
| Section Marks:                       | 20        |
| Display Number Panel:                | Yes       |
| Group All Questions:                 | No        |

|                              |           |
|------------------------------|-----------|
| Sub-Section Number:          | 1         |
| Sub-Section Id:              | 509647749 |
| Question Shuffling Allowed : | Yes       |

Question Number : 81 Question Id : 50964713948 Question Type : MCQ Option Shuffling : Yes Display Question Number : Yes  
Single Line Question Option : No Option Orientation : Vertical

Correct Marks : 1 Wrong Marks : 0.25

दिए गए शब्दों की सही संधि ज्ञात कीजिए।

सत्य + अर्थ

Options :

1. ✓ सत्यार्थ
2. ✗ सत्यअर्थ
3. ✗ सतार्थ
4. ✗ सत्यर्थ

Question Number : 81 Question Id : 50964713948 Question Type : MCQ Option Shuffling : Yes Display Question Number : Yes  
Single Line Question Option : No Option Orientation : Vertical

Correct Marks : 1 Wrong Marks : 0.25

दिए गए शब्दों की सही संधि ज्ञात कीजिए।

सत्य + अर्थ

Options :

1. ✓ सत्यार्थ
2. ✗ सत्यअर्थ
3. ✗ सतार्थ



4. ✖ सत्यर्थ

Question Number : 82 Question Id : 50964713949 Question Type : MCQ Option Shuffling : Yes Display Question Number : Yes  
Single Line Question Option : No Option Orientation : Vertical

Correct Marks : 1 Wrong Marks : 0.25

दिए गए शब्द के उपसर्ग का चयन कीजिए।

अनादर

Options :

1. ✖ अन
2. ✔ अन्
3. ✖ दर
4. ✖ अ

Question Number : 82 Question Id : 50964713949 Question Type : MCQ Option Shuffling : Yes Display Question Number : Yes  
Single Line Question Option : No Option Orientation : Vertical

Correct Marks : 1 Wrong Marks : 0.25

दिए गए शब्द के उपसर्ग का चयन कीजिए।

अनादर

Options :

1. ✖ अन
2. ✔ अन्
3. ✖ दर
4. ✖ अ

Question Number : 83 Question Id : 50964713950 Question Type : MCQ Option Shuffling : Yes Display Question Number : Yes  
Single Line Question Option : No Option Orientation : Vertical

Correct Marks : 1 Wrong Marks : 0.25

इनमें से कौन सा शब्द 'आका' प्रत्यय का नहीं है?

Options :

1. ✖ लड़ाका
2. ✖ धमाका
3. ✖ पढ़ाका
4. ✔ जिमाका

Question Number : 83 Question Id : 50964713950 Question Type : MCQ Option Shuffling : Yes Display Question Number : Yes  
Single Line Question Option : No Option Orientation : Vertical

Correct Marks : 1 Wrong Marks : 0.25

इनमें से कौन सा शब्द 'आका' प्रत्यय का नहीं है?

Options :

1. ✖ लड़ाका
2. ✖ धमाका
3. ✖ पढ़ाका
4. ✔ जिमाका

Question Number : 84 Question Id : 50964713951 Question Type : MCQ Option Shuffling : Yes Display Question Number : Yes  
Single Line Question Option : No Option Orientation : Vertical

Correct Marks : 1 Wrong Marks : 0.25

दिए गए शब्द के समास विग्रह का चयन कीजिए

मृत्युञ्जय

Options :

1. ✓ मृत्यु को जीता है जिसने
2. ✗ मृत्यु के अनुसार
3. ✗ मृत्यु का समूह
4. ✗ मृत्यु और अजया

Question Number : 84 Question Id : 50964713951 Question Type : MCQ Option Shuffling : Yes Display Question Number : Yes  
Single Line Question Option : No Option Orientation : Vertical

Correct Marks : 1 Wrong Marks : 0.25

दिए गए शब्द के समास विग्रह का चयन कीजिए

मृत्युञ्जय

Options :

1. ✓ मृत्यु को जीता है जिसने
2. ✗ मृत्यु के अनुसार
3. ✗ मृत्यु का समूह
4. ✗ मृत्यु और अजया

Question Number : 85 Question Id : 50964713952 Question Type : MCQ Option Shuffling : Yes Display Question Number : Yes  
Single Line Question Option : No Option Orientation : Vertical

Correct Marks : 1 Wrong Marks : 0.25

निम्नलिखित में से कौन सा शब्द 'पाथिक' का सामानार्थी शब्द नहीं है?

Options :

1. ✗ राही
2. ✗ बरोही
3. ✓ शमशीर
4. ✗ बराऊ

Question Number : 85 Question Id : 50964713952 Question Type : MCQ Option Shuffling : Yes Display Question Number : Yes  
Single Line Question Option : No Option Orientation : Vertical

Correct Marks : 1 Wrong Marks : 0.25

निम्नलिखित में से कौन सा शब्द 'पाथिक' का सामानार्थी शब्द नहीं है?

Options :

1. ✗ राही
2. ✗ बरोही
3. ✓ शमशीर
4. ✗ बराऊ

Question Number : 86 Question Id : 50964713953 Question Type : MCQ Option Shuffling : Yes Display Question Number : Yes  
Single Line Question Option : No Option Orientation : Vertical

Correct Marks : 1 Wrong Marks : 0.25

दिए गए शब्द का विलोम शब्द ज्ञात कीजिए

निंदा

Options :

1. ✓ स्तुति
2. ✗ अराधना

3. ✘ प्रवृत्ति
4. ✘ आकांक्षा

Question Number : 86 Question Id : 50964713953 Question Type : MCQ Option Shuffling : Yes Display Question Number : Yes  
Single Line Question Option : No Option Orientation : Vertical

Correct Marks : 1 Wrong Marks : 0.25

दिए गए शब्द का विलोम शब्द ज्ञात कीजिए।

निंदा

Options :

1. ✔ स्तुति
2. ✘ अराधना
3. ✘ प्रवृत्ति
4. ✘ आकांक्षा

Question Number : 87 Question Id : 50964713954 Question Type : MCQ Option Shuffling : Yes Display Question Number : Yes  
Single Line Question Option : No Option Orientation : Vertical

Correct Marks : 1 Wrong Marks : 0.25

शुद्ध वर्तनी का चयन कीजिए।

Options :

1. ✘ सौन्दर्यवर्द्धक
2. ✘ सौन्दर्यवर्दक्य
3. ✘ सौन्दर्यवधक
4. ✔ सौन्दर्यवर्धक

Question Number : 87 Question Id : 50964713954 Question Type : MCQ Option Shuffling : Yes Display Question Number : Yes  
Single Line Question Option : No Option Orientation : Vertical

Correct Marks : 1 Wrong Marks : 0.25

शुद्ध वर्तनी का चयन कीजिए।

Options :

1. ✘ सौन्दर्यवर्द्धक
2. ✘ सौन्दर्यवर्दक्य
3. ✘ सौन्दर्यवधक
4. ✔ सौन्दर्यवर्धक

Question Number : 88 Question Id : 50964713955 Question Type : MCQ Option Shuffling : Yes Display Question Number : Yes  
Single Line Question Option : No Option Orientation : Vertical

Correct Marks : 1 Wrong Marks : 0.25

दिए गए शब्द समूह के लिए उचित शब्द का चयन कीजिए।

पैर से सिर तक

Options :

1. ✘ शिख - नख
2. ✘ पादमस्तक
3. ✔ आपादमस्तक
4. ✘ शिरोपर

Question Number : 88 Question Id : 50964713955 Question Type : MCQ Option Shuffling : Yes Display Question Number : Yes  
Single Line Question Option : No Option Orientation : Vertical

Correct Marks : 1 Wrong Marks : 0.25

दिए गए शब्द समूह के लिए उचित शब्द का चयन कीजिए।

पैर से सिर तक

Options :

1. ✘ शिख - नख
2. ✘ पादमस्तक
3. ✔ आपादमस्तक
4. ✘ शिरोपर

Question Number : 89 Question Id : 50964713956 Question Type : MCQ Option Shuffling : Yes Display Question Number : Yes  
Single Line Question Option : No Option Orientation : Vertical

Correct Marks : 1 Wrong Marks : 0.25

इनमें से कौन सा वाक्य सरल वाक्य नहीं है?

Options :

1. ✘ वह लड़का दौड़ता है।
2. ✘ बंदर पेड़ पर चढ़ रहे हैं।
3. ✘ मैंने लड़के को बुलाया।
4. ✔ बादल गरजे और वर्षा आ गई।

Question Number : 89 Question Id : 50964713956 Question Type : MCQ Option Shuffling : Yes Display Question Number : Yes  
Single Line Question Option : No Option Orientation : Vertical

Correct Marks : 1 Wrong Marks : 0.25

इनमें से कौन सा वाक्य सरल वाक्य नहीं है?

Options :

1. ✘ वह लड़का दौड़ता है।
2. ✘ बंदर पेड़ पर चढ़ रहे हैं।
3. ✘ मैंने लड़के को बुलाया।
4. ✔ बादल गरजे और वर्षा आ गई।

Question Number : 90 Question Id : 50964713957 Question Type : MCQ Option Shuffling : Yes Display Question Number : Yes  
Single Line Question Option : No Option Orientation : Vertical

Correct Marks : 1 Wrong Marks : 0.25

दिए गए वाक्य में रिक्त स्थान की पूर्ति कीजिए।

बारह वर्ष के परिश्रम \_\_\_\_\_ पानी फिर गया।

Options :

1. ✘ से
2. ✔ पर
3. ✘ के लिए
4. ✘ द्वारा

Question Number : 90 Question Id : 50964713957 Question Type : MCQ Option Shuffling : Yes Display Question Number : Yes  
Single Line Question Option : No Option Orientation : Vertical

Correct Marks : 1 Wrong Marks : 0.25

दिए गए वाक्य में रिक्त स्थान की पूर्ति कीजिए।

बारह वर्ष के परिश्रम \_\_\_\_\_ पानी फिर गया।

Options :

1. ✘ से
2. ✔ पर

3. ✖ के लिए

4. ✖ द्वारा

Question Number : 91 Question Id : 50964713958 Question Type : MCQ Option Shuffling : Yes Display Question Number : Yes  
Single Line Question Option : No Option Orientation : Vertical

Correct Marks : 1 Wrong Marks : 0.25

दिए गए शब्द का बहुवचन ज्ञात कीजिए।

बिजली

Options :

1. ✖ बिजलीयाँ

2. ✖ बिजलियों

3. ✔ बिजलियाँ

4. ✖ बिजलिऐँ

Question Number : 91 Question Id : 50964713958 Question Type : MCQ Option Shuffling : Yes Display Question Number : Yes  
Single Line Question Option : No Option Orientation : Vertical

Correct Marks : 1 Wrong Marks : 0.25

दिए गए शब्द का बहुवचन ज्ञात कीजिए।

बिजली

Options :

1. ✖ बिजलीयाँ

2. ✖ बिजलियों

3. ✔ बिजलियाँ

4. ✖ बिजलिऐँ

Question Number : 92 Question Id : 50964713959 Question Type : MCQ Option Shuffling : Yes Display Question Number : Yes  
Single Line Question Option : No Option Orientation : Vertical

Correct Marks : 1 Wrong Marks : 0.25

दिए गए वाक्यों के शुद्ध रूप का चयन कीजिए।

Options :

1. ✔ जिनमें नम्रता नहीं आती, वे विद्या का पूरा सदुपयोग नहीं कर सकते

2. ✖ जिनमें नम्र नहीं आता वे विद्या का पूरा सदुपयोग नहीं कर सकते

3. ✖ जिनमें नम्रता नहीं ती वे विद्या का पूरा प्रयोग नहीं कर सकते

4. ✖ जिनमें नम्रता नहीं आती वे विद्या का पूरा प्रयोग कर सकते हैं

Question Number : 92 Question Id : 50964713959 Question Type : MCQ Option Shuffling : Yes Display Question Number : Yes  
Single Line Question Option : No Option Orientation : Vertical

Correct Marks : 1 Wrong Marks : 0.25

दिए गए वाक्यों के शुद्ध रूप का चयन कीजिए।

Options :

1. ✔ जिनमें नम्रता नहीं आती, वे विद्या का पूरा सदुपयोग नहीं कर सकते

2. ✖ जिनमें नम्र नहीं आता वे विद्या का पूरा सदुपयोग नहीं कर सकते

3. ✖ जिनमें नम्रता नहीं ती वे विद्या का पूरा प्रयोग नहीं कर सकते

4. ✖ जिनमें नम्रता नहीं आती वे विद्या का पूरा प्रयोग कर सकते हैं

Question Number : 93 Question Id : 50964713960 Question Type : MCQ Option Shuffling : Yes Display Question Number : Yes  
Single Line Question Option : No Option Orientation : Vertical

Correct Marks : 1 Wrong Marks : 0.25

निम्नलिखित प्रश्न में, दिए गए चार विकल्पों में से, उस विकल्प का चयन करें जो दिए गए मुहावरे के अर्थ को सर्वश्रेष्ठ रूप से व्यक्त करता है।

काम शुरू होते ही बाधा आना।

Options :

- ❌ सिर पर पाँव रख कर भाग जाना।
- ✅ सिर मुँडाने ही ओले पड़ना।
- ❌ आसमान सिर पर उठाना।
- ❌ सिर खपाना।

Question Number : 93 Question Id : 50964713960 Question Type : MCQ Option Shuffling : Yes Display Question Number : Yes  
Single Line Question Option : No Option Orientation : Vertical

Correct Marks : 1 Wrong Marks : 0.25

निम्नलिखित प्रश्न में, दिए गए चार विकल्पों में से, उस विकल्प का चयन करें जो दिए गए मुहावरे के अर्थ को सर्वश्रेष्ठ रूप से व्यक्त करता है।

काम शुरू होते ही बाधा आना।

Options :

- ❌ सिर पर पाँव रख कर भाग जाना।
- ✅ सिर मुँडाने ही ओले पड़ना।
- ❌ आसमान सिर पर उठाना।
- ❌ सिर खपाना।

Question Number : 94 Question Id : 50964713961 Question Type : MCQ Option Shuffling : Yes Display Question Number : Yes  
Single Line Question Option : No Option Orientation : Vertical

Correct Marks : 1 Wrong Marks : 0.25

दिए गए चिह्न के प्रतीक का चयन कीजिए।

(=)

Options :

- ❌ विवरण चिह्न।
- ❌ लाघव चिह्न।
- ❌ संयोजन चिह्न।
- ✅ तुल्यातासूचक।

Question Number : 94 Question Id : 50964713961 Question Type : MCQ Option Shuffling : Yes Display Question Number : Yes  
Single Line Question Option : No Option Orientation : Vertical

Correct Marks : 1 Wrong Marks : 0.25

दिए गए चिह्न के प्रतीक का चयन कीजिए।

(=)

Options :

- ❌ विवरण चिह्न।
- ❌ लाघव चिह्न।
- ❌ संयोजन चिह्न।
- ✅ तुल्यातासूचक।

Question Number : 95 Question Id : 50964713962 Question Type : MCQ Option Shuffling : Yes Display Question Number : Yes  
Single Line Question Option : No Option Orientation : Vertical

Correct Marks : 1 Wrong Marks : 0.25

निम्नलिखित प्रश्न में, दिए गए चार विकल्पों में से, उस विकल्प का चयन करें जो दिए गए मुहावरे के अर्थ को सर्वश्रेष्ठ रूप से व्यक्त करता है।

अकेला चना भाड़ नहीं फोड़ता।

Options :

1. ✓ अकेला व्यक्ति कुछ नहीं कर सकता
2. ✗ अकेला व्यक्ति सब कुछ कर सकता
3. ✗ अकेला व्यक्ति भाड़ नहीं फोड़ सकता
4. ✗ अकेला व्यक्ति चान भून सकता है

Question Number : 95 Question Id : 50964713962 Question Type : MCQ Option Shuffling : Yes Display Question Number : Yes  
Single Line Question Option : No Option Orientation : Vertical

Correct Marks : 1 Wrong Marks : 0.25

निम्नलिखित प्रश्न में, दिए गए चार विकल्पों में से, उस विकल्प का चयन करें जो दिए गए मुहावरे के अर्थ को सर्वश्रेष्ठ रूप से व्यक्त करता है।

अकेला चना भाड़ नहीं फोड़ता

Options :

1. ✓ अकेला व्यक्ति कुछ नहीं कर सकता
2. ✗ अकेला व्यक्ति सब कुछ कर सकता
3. ✗ अकेला व्यक्ति भाड़ नहीं फोड़ सकता
4. ✗ अकेला व्यक्ति चान भून सकता है

Sub-Section Number: 2  
Sub-Section Id: 509647750  
Question Shuffling Allowed : Yes

Question Id : 50964713963 Question Type : COMPREHENSION Sub Question Shuffling Allowed : Yes Group Comprehension  
Questions : No

Question Numbers : (96 to 100)

Question Label : Comprehension

दिए गए गद्यांश को ध्यानपूर्वक पढ़ें और दिए गए प्रश्नों के उत्तर दें:

देश के किसी कोने में चले जाइए भिखारी आपको अवश्य मिल जाएंगे भिक्षावृत्ति हमारे देश और समाज के लिए एक बहुत बड़ी समस्या बन गई है। सड़क के किनारे फुटपाथों पर, चौराहों, पर बाजारों में, घर-घर जाकर भी माँगते भिखारी हर जगह दिखाई देते हैं विशेषकर तीर्थ स्थलों, पर्यटन स्थलों पर यह समस्या गंभीर रूप धारण कर चुकी है जब कोई विदेशी दिखाई दे जाता है, तब भिखारी उसे इस प्रकार घेर लेते हैं, जैसे गुड पर मक्खियाँ भिनभिनाती हैं। उस समय ये भिखारी हमारे देश का सिर शर्म से नीचे झुका देते हैं ऐसा अनुभव होता है, मानो संपूर्ण देश ही भिखारी बन गया हो भिखारियों की समस्या देश के लिए एक कलंक बन चुकी है ऐसा नहीं है कि भिखारी बना प्रत्येक व्यक्ति शारीरिक रूप से अपंग है। स्वस्थ व्यक्ति को भी भीख मांगते हुए देखा जा सकता है। परिश्रम करके रोज़ी कमाना जिन्हें कठिन मालूम होता है, वह भीख मांगने का सरल मार्ग अपना लेते हैं। कई बार तो जेब कतरे, चोर, लुटेरे ठग आदि भिखारी का भेष बनाकर भीख मांगते हैं और अवसर पाते ही अपना हाथ साफ कर लेते हैं। यदि भिखारियों को काम करने के लिए कहा जाए तो वे कभी तैयार नहीं होते, क्योंकि जब उन्हें सरलता से पैसे मिल जाते हैं तब वे परिश्रम क्यों करें?

Sub questions

Question Number : 96 Question Id : 50964713964 Question Type : MCQ Option Shuffling : Yes Display Question Number : Yes  
Single Line Question Option : No Option Orientation : Vertical

Correct Marks : 1 Wrong Marks : 0.25

हमारे देश की सबसे बड़ी समस्या क्या है?

Options :

1. ✓ भिक्षावृत्ति
2. ✗ नेतागण
3. ✗ मज़दूर
4. ✗ मक्खियाँ

Question Number : 97 Question Id : 50964713965 Question Type : MCQ Option Shuffling : Yes Display Question Number : Yes  
Single Line Question Option : No Option Orientation : Vertical

Correct Marks : 1 Wrong Marks : 0.25

भिखारी को रोजी रोटी कमाना कठिन लगता है क्योंकि \_\_\_\_\_।

Options :

1. ✓ वह परिश्रम नहीं करना चाहता है
2. ✗ वह मौज मस्ती करना चाहता है
3. ✗ वह हवा में बैठना चाहता है
4. ✗ उसे भीख माँगने में मजा आता है।

Question Number : 98 Question Id : 50964713966 Question Type : MCQ Option Shuffling : Yes Display Question Number : Yes  
Single Line Question Option : No Option Orientation : Vertical

Correct Marks : 1 Wrong Marks : 0.25

उपर्युक्त गद्यांश के लिए उचित शीर्षक बताइए।

Options :

1. ✗ भिक्षावृत्ति : आसान काम
2. ✗ परिश्रम का महत्व
3. ✗ भिखारी वर्ग
4. ✓ भिक्षावृत्ति : एक अभिशाप

Question Number : 99 Question Id : 50964713967 Question Type : MCQ Option Shuffling : Yes Display Question Number : Yes  
Single Line Question Option : No Option Orientation : Vertical

Correct Marks : 1 Wrong Marks : 0.25

कौन से लोग भिखारी का वेश बना लेते हैं?

Options :

1. ✗ जेबकतरे, दर्जी, लुटेरे
2. ✗ ठग, चोर, खिलाड़ी
3. ✓ जेबकतरे, चोर, लुटेरे
4. ✗ ठग, चोर, क्रिकेटर

Question Number : 100 Question Id : 50964713968 Question Type : MCQ Option Shuffling : Yes Display Question Number : Yes  
Single Line Question Option : No Option Orientation : Vertical

Correct Marks : 1 Wrong Marks : 0.25

उपर्युक्त गद्यांश में 'गुड पर मक्खियाँ भिनभिनाती है' का क्या अर्थ है?

Options :

1. ✗ विदेशी को गुड देना।
2. ✗ विदेशी पर मक्खियाँ डालना।
3. ✗ विदेशी के साथ गुड खाना।
4. ✓ विदेशी से जबरदस्ती घेराव करके भीख माँगना।

Question Id : 50964713963 Question Type : COMPREHENSION Sub Question Shuffling Allowed : Yes Group Comprehension  
Questions : No

Question Numbers : (96 to 100)

Question Label : Comprehension



दिए गए गद्यांश को ध्यानपूर्वक पढ़ें और दिए गए प्रश्नों के उत्तर दें:

देश के किसी कोने में चले जाइए भिखारी आपको अवश्य मिल जाएँगे भिक्षावृत्ति हमारे देश और समाज के लिए एक बहुत बड़ी समस्या बन गई है। सड़क के किनारे फुटपाथों पर, चौराहों, पर बाजारों में, घर-घर जाकर भी माँगते भिखारी हर जगह दिखाई देते हैं विशेषकर तीर्थ स्थलों, पर्यटन स्थलों पर यह समस्या गंभीर रूप धारण कर चुकी है जब कोई विदेशी दिखाई दे जाता है, तब भिखारी उसे इस प्रकार घेर लेते हैं, जैसे गुड पर मक्खियाँ भिनभिनाती हैं उस समय ये भिखारी हमारे देश का सिर शर्म से नीचे झुका देते हैं ऐसा अनुभव होता है, मानो संपूर्ण देश ही भिखारी बन गया हो भिखारियों की समस्या देश के लिए एक कलंक बन चुकी है ऐसा नहीं है कि भिखारी बना प्रत्येक व्यक्ति शारीरिक रूप से अपंग है। स्वस्थ व्यक्ति को भी भीख माँगते हुए देखा जा सकता है। परिश्रम करके रोज़ी कमाना जिन्हें कठिन मालूम होता है, वह भीख माँगने का सरल मार्ग अपना लेते हैं। कई बार तो जेब कतरे, चोर, लुटेरे ठग आदि भिखारी का भेष बनाकर भीख माँगते हैं और अवसर पाते ही अपना हाथ साफ कर लेते हैं। यदि भिखारियों को काम करने के लिए कहा जाए तो वे कभी तैयार नहीं होते, क्योंकि जब उन्हें सरलता से पैसे मिल जाते हैं तब वे परिश्रम क्यों करें?

**Sub questions**

**Question Number : 96 Question Id : 50964713964 Question Type : MCQ Option Shuffling : Yes Display Question Number : Yes Single Line Question Option : No Option Orientation : Vertical**

**Correct Marks : 1 Wrong Marks : 0.25**

हमारे देश की सबसे बड़ी समस्या क्या है?

**Options :**

1.  भिक्षावृत्ति
2.  नेतागण
3.  मज़दूर
4.  मक्खियाँ

**Question Number : 97 Question Id : 50964713965 Question Type : MCQ Option Shuffling : Yes Display Question Number : Yes Single Line Question Option : No Option Orientation : Vertical**

**Correct Marks : 1 Wrong Marks : 0.25**

भिखारी को रोज़ी रोटी कमाना कठिन लगता है क्योंकि \_\_\_\_\_।

**Options :**

1.  वह परिश्रम नहीं करना चाहता है
2.  वह मौज मस्ती करना चाहता है
3.  वह हवा में बैठना चाहता है
4.  उसे भीख माँगने में मजा आता है

**Question Number : 98 Question Id : 50964713966 Question Type : MCQ Option Shuffling : Yes Display Question Number : Yes Single Line Question Option : No Option Orientation : Vertical**

**Correct Marks : 1 Wrong Marks : 0.25**

उपर्युक्त गद्यांश के लिए उचित शीर्षक बताइए।

**Options :**

1.  भिक्षावृत्ति : आसान काम
2.  परिश्रम का महत्व
3.  भिखारी वर्ग
4.  भिक्षावृत्ति : एक अभिशाप

**Question Number : 99 Question Id : 50964713967 Question Type : MCQ Option Shuffling : Yes Display Question Number : Yes Single Line Question Option : No Option Orientation : Vertical**

**Correct Marks : 1 Wrong Marks : 0.25**

कौन से लोग भिखारी का वेश बना लेते हैं?

**Options :**

1.  जेबकतरे, दर्जी, लुटेरे
2.  ठग, चोर, खिलाड़ी
3.  जेबकतरे, चोर, लुटेरे
4.  ठग, चोर, क्रिकेटर

Question Number : 100 Question Id : 50964713968 Question Type : MCQ Option Shuffling : Yes Display Question Number : Yes  
Single Line Question Option : No Option Orientation : Vertical

Correct Marks : 1 Wrong Marks : 0.25

उपर्युक्त गद्यांश में 'गुड पर मक्खियाँ भिनभिनाती है' का क्या अर्थ है?

Options :

- ❌ विदेशी को गुड देना
- ❌ विदेशी पर मक्खियाँ डालना
- ❌ विदेशी के साथ गुड खाना
- ✅ विदेशी से जबरदस्ती घेराव करके भीख माँगना

#### Discipline1

|   |           |
|---|-----------|
| Group Number :                            | 6         |
| Group Id :                                | 509647397 |
| Group Maximum Duration :                  | 0         |
| Group Minimum Duration :                  | 0         |
| Revisit allowed for view? :               | No        |
| Revisit allowed for edit? :               | No        |
| Break time:                               | 0         |
| Group Marks:                              | 20        |
| Revisit allowed for group Instructions? : | Yes       |
| Maximum Instruction Time:                 | 0         |
| Minimum Instruction Time:                 | 0         |

#### Discipline1

|                                      |           |
|--------------------------------------|-----------|
| Section Id :                         | 509647557 |
| Section Number :                     | 1         |
| Section type :                       | Online    |
| Mandatory or Optional:               | Mandatory |
| Number of Questions:                 | 20        |
| Number of Questions to be attempted: | 20        |
| Section Marks:                       | 20        |
| Display Number Panel:                | Yes       |
| Group All Questions:                 | No        |

|                              |           |
|------------------------------|-----------|
| Sub-Section Number:          | 1         |
| Sub-Section Id:              | 509647751 |
| Question Shuffling Allowed : | Yes       |

Question Number : 101 Question Id : 50964713969 Question Type : MCQ Option Shuffling : Yes Display Question Number : Yes  
Single Line Question Option : No Option Orientation : Vertical

Correct Marks : 1 Wrong Marks : 0.25

Pharmacokinetics is defined as:

Options :

- ❌ the study of biological and therapeutic effects of drugs

2. ✓ the study of absorption, distribution, metabolism and excretion of drugs
3. ✘ the study of mechanisms of drug action
4. ✘ the study of methods of new drug development

Question Number : 101 Question Id : 50964713969 Question Type : MCQ Option Shuffling : Yes Display Question Number : Yes  
Single Line Question Option : No Option Orientation : Vertical

Correct Marks : 1 Wrong Marks : 0.25

फ़ार्माकोकाइनेटिक्स को निम्नलिखित रूप में परिभाषित किया जाता है:

Options :

1. ✘ दवाओं के जैविक और चिकित्सीय प्रभावों का अध्ययन
2. ✓ दवाओं के अवशोषण, वितरण, चयापचय और उत्सर्जन का अध्ययन
3. ✘ दवाओं की क्रिया की कार्यप्रणाली का अध्ययन
4. ✘ नई दवा की विकास-संबंधी पद्धतियों का अध्ययन

Question Number : 102 Question Id : 50964713970 Question Type : MCQ Option Shuffling : Yes Display Question Number : Yes  
Single Line Question Option : No Option Orientation : Vertical

Correct Marks : 1 Wrong Marks : 0.25

Which of the following drugs is obtained from synthetic sources?

Options :

1. ✘ kaolin
2. ✘ heparin
3. ✓ aspirin
4. ✘ morphine

Question Number : 102 Question Id : 50964713970 Question Type : MCQ Option Shuffling : Yes Display Question Number : Yes  
Single Line Question Option : No Option Orientation : Vertical

Correct Marks : 1 Wrong Marks : 0.25

इनमें से कौन सी औषधि संश्लिष्ट (सिंथेटिक) स्रोतों से प्राप्त होती है?

Options :

1. ✘ केओलिन

2. ✘ हिपैरिन
3. ✔ एस्पिरिन
4. ✘ मॉर्फिन

Question Number : 103 Question Id : 50964713971 Question Type : MCQ Option Shuffling : Yes Display Question Number : Yes  
Single Line Question Option : No Option Orientation : Vertical

Correct Marks : 1 Wrong Marks : 0.25

In which part of the cell are drug receptors generally found?

Options :

1. ✘ Nucleus
2. ✘ Cytoplasm
3. ✔ Plasma membrane
4. ✘ Mitochondria

Question Number : 103 Question Id : 50964713971 Question Type : MCQ Option Shuffling : Yes Display Question Number : Yes  
Single Line Question Option : No Option Orientation : Vertical

Correct Marks : 1 Wrong Marks : 0.25

आमतौर पर कोशिका के किस भाग में औषधि अभिग्राहक (ड्रग रिसेप्टर) पाए जाते हैं?

Options :

1. ✘ नाभिक (न्यूक्लियस) में
2. ✘ कोशिका द्रव्य (साइटोप्लाज़्म) में
3. ✔ प्लाज़्मा झिल्ली में
4. ✘ सूत्र कणिका (माइटोकॉन्ड्रिया) में

Question Number : 104 Question Id : 50964713972 Question Type : MCQ Option Shuffling : Yes Display Question Number : Yes  
Single Line Question Option : No Option Orientation : Vertical

Correct Marks : 1 Wrong Marks : 0.25

Majority of drugs cross biological membranes primarily by:

Options :

1. ✔ passive diffusion

2. ✘ facilitated diffusion

3. ✘ active transport

4. ✘ pinocytosis

Question Number : 104 Question Id : 50964713972 Question Type : MCQ Option Shuffling : Yes Display Question Number : Yes  
Single Line Question Option : No Option Orientation : Vertical

Correct Marks : 1 Wrong Marks : 0.25

इनमें से किस माध्यम से अधिकांश दवाइयाँ मुख्य रूप से जैविक झिल्ली से गुजरती हैं?

Options :

1. ✔ निष्क्रिय विसरण (पैसिव डिफ्यूजन) से

2. ✘ सुगम विसरण (फैसिलिटेड डिफ्यूजन) से

3. ✘ सक्रिय परिवहन (एक्टिव ट्रांसपोर्ट) से

4. ✘ कोशिका-पायन (पिनोसायटोसिस) से

Question Number : 105 Question Id : 50964713973 Question Type : MCQ Option Shuffling : Yes Display Question Number : Yes  
Single Line Question Option : No Option Orientation : Vertical

Correct Marks : 1 Wrong Marks : 0.25

Which organ contains the most important enzyme system for metabolizing drugs?

Options :

1. ✘ Lungs

2. ✘ Heart

3. ✘ Kidneys

4. ✔ Liver

Question Number : 105 Question Id : 50964713973 Question Type : MCQ Option Shuffling : Yes Display Question Number : Yes  
Single Line Question Option : No Option Orientation : Vertical

Correct Marks : 1 Wrong Marks : 0.25

किस अंग में दवाओं के चयापचय के लिए सर्वाधिक महत्वपूर्ण एंजाइम प्रणाली होती है?

Options :

1. ✘ फेफड़े



2. ✘ हृदय
3. ✘ वृक्क (किडनी)
4. ✔ यकृत (लिवर)

Question Number : 106 Question Id : 50964713974 Question Type : MCQ Option Shuffling : Yes Display Question Number : Yes  
Single Line Question Option : No Option Orientation : Vertical

Correct Marks : 1 Wrong Marks : 0.25

Bioavailability of drugs refers to:

Options :

1. ✔ the percentage of an administered dose that reaches the systemic circulation in an unchanged form.
2. ✘ the ratio of drugs excreted unchanged in the urine to that excreted as metabolites.
3. ✘ the ratio of oral to parenteral dose.
4. ✘ the ratio of orally administered drugs to that excreted.

Question Number : 106 Question Id : 50964713974 Question Type : MCQ Option Shuffling : Yes Display Question Number : Yes  
Single Line Question Option : No Option Orientation : Vertical

Correct Marks : 1 Wrong Marks : 0.25

दवाओं की जैव उपलब्धता से क्या आशय है?

Options :

1. ✔ दी गई खुराक का वह प्रतिशत जो अपरिवर्तित रूप में प्रणालीगत संचलन तक पहुँचता है।
2. ✘ दवाओं का वह अनुपात जो उपापचयकों (मेटाबोलाइट्स) के रूप में उत्सर्जन की तुलना में मूत्र में अपरिवर्तित रूप में उत्सर्जित होता है।
3. ✘ मौखिक (ओरल) और आंत्रेतर (पैरेंटरल) खुराक का अनुपात।
4. ✘ उत्सर्जित दवाओं की तुलना में मौखिक रूप से ली गई दवाओं का अनुपात।

Question Number : 107 Question Id : 50964713975 Question Type : MCQ Option Shuffling : Yes Display Question Number : Yes  
Single Line Question Option : No Option Orientation : Vertical

Correct Marks : 1 Wrong Marks : 0.25

Which term is described as rapid development of drug tolerance?

Options :

1. ✓ Tachyphylaxis
2. ✗ Cellular tolerance
3. ✗ Immune tolerance
4. ✗ Distribution tolerance

Question Number : 107 Question Id : 50964713975 Question Type : MCQ Option Shuffling : Yes Display Question Number : Yes  
Single Line Question Option : No Option Orientation : Vertical

Correct Marks : 1 Wrong Marks : 0.25

किस शब्द को दवा सहिष्णुता (ड्रग टॉलरेंस) के त्वरित विकास के रूप में वर्णित किया जाता है?

Options :

1. ✓ दवा की प्रतिक्रिया में तीव्र, आकस्मिक कमी (टैकीफाइलैक्सिस)
2. ✗ कोशिकीय (सेलुलर) सहिष्णुता
3. ✗ प्रतिरक्षा (इम्यून) सहिष्णुता
4. ✗ वितरण (डिस्ट्रीब्यूशन) सहिष्णुता

Question Number : 108 Question Id : 50964713976 Question Type : MCQ Option Shuffling : Yes Display Question Number : Yes  
Single Line Question Option : No Option Orientation : Vertical

Correct Marks : 1 Wrong Marks : 0.25

Biotransformation of drugs is primarily directed to:

Options :

1. ✗ activate the drug
2. ✗ inactivate the drug
3. ✓ convert lipid soluble drugs into non-lipid soluble metabolites
4. ✗ convert non-lipid soluble drugs into lipid soluble metabolites

Question Number : 108 Question Id : 50964713976 Question Type : MCQ Option Shuffling : Yes Display Question Number : Yes  
Single Line Question Option : No Option Orientation : Vertical

Correct Marks : 1 Wrong Marks : 0.25

दवाओं के जैव रूपांतरण को मुख्यतः निर्देशित किया जाता है:

Options :

1. ✘ दवा को सक्रिय करना
2. ✘ दवा को निष्क्रिय करना
3. ✔ वसाभ (लिपिड) घुलनशील दवाओं को गैर-वसाभ (लिपिड) घुलनशील उपापचयकों (मेटाबोलाइट्स) में परिवर्तित करना
4. ✘ गैर-वसाभ (लिपिड) घुलनशील दवाओं को वसाभ (लिपिड) घुलनशील उपापचयकों (मेटाबोलाइट्स) में परिवर्तित करना

Question Number : 109 Question Id : 50964713977 Question Type : MCQ Option Shuffling : Yes Display Question Number : Yes  
Single Line Question Option : No Option Orientation : Vertical

Correct Marks : 1 Wrong Marks : 0.25

Which is the major organ of drug excretion?

Options :

1. ✘ Skin
2. ✘ Liver
3. ✘ Lungs
4. ✔ Kidneys

Question Number : 109 Question Id : 50964713977 Question Type : MCQ Option Shuffling : Yes Display Question Number : Yes  
Single Line Question Option : No Option Orientation : Vertical

Correct Marks : 1 Wrong Marks : 0.25

दवा उत्सर्जन का प्रमुख अंग कौन सा है?

Options :

1. ✘ त्वचा
2. ✘ यकृत (लिवर)
3. ✘ फेफड़े
4. ✔ वृक्क (किडनी)

Question Number : 110 Question Id : 50964713978 Question Type : MCQ Option Shuffling : Yes Display Question Number : Yes  
Single Line Question Option : No Option Orientation : Vertical

Correct Marks : 1 Wrong Marks : 0.25

The therapeutic index of a drug is a measure of its:

Options :



1. ✓ safety
2. ✗ potency
3. ✗ efficacy
4. ✗ dose variability

Question Number : 110 Question Id : 50964713978 Question Type : MCQ Option Shuffling : Yes Display Question Number : Yes  
Single Line Question Option : No Option Orientation : Vertical

Correct Marks : 1 Wrong Marks : 0.25

एक दवा का चिकित्सीय सूचकांक उसकी \_\_\_\_\_ का मापन होता है।

Options :

1. ✓ सुरक्षा
2. ✗ सामर्थ्य
3. ✗ प्रभावोत्पादकता
4. ✗ खुराक परिवर्तनशीलता

Question Number : 111 Question Id : 50964713979 Question Type : MCQ Option Shuffling : Yes Display Question Number : Yes  
Single Line Question Option : No Option Orientation : Vertical

Correct Marks : 1 Wrong Marks : 0.25

Which of the following is true of 'placebos'?

Options :

1. ✓ A placebo is a dummy medication.
2. ✗ A placebo is the inert material added to the drug for making tablets.
3. ✗ Placebos do not produce any effect.
4. ✗ All patients respond to placebos.

Question Number : 111 Question Id : 50964713979 Question Type : MCQ Option Shuffling : Yes Display Question Number : Yes  
Single Line Question Option : No Option Orientation : Vertical

Correct Marks : 1 Wrong Marks : 0.25

इनमें से कौन सा विकल्प 'प्लेसिबो' के लिए सत्य है?

Options :

1. ✓ प्लेसिबो एक प्रतिरूपी (डमी) दवा है।
2. ✘ प्लेसिबो दवा की टिकियाँ (टैबलेट्स) बनाने के लिए दवा में मिलाया जाने वाला अक्रिय पदार्थ है।
3. ✘ प्लेसिबो कोई प्रभाव पैदा नहीं करती/ता है।
4. ✘ सभी रोगी प्लेसिबो पर प्रतिक्रिया देते हैं।

Question Number : 112 Question Id : 50964713980 Question Type : MCQ Option Shuffling : Yes Display Question Number : Yes  
Single Line Question Option : No Option Orientation : Vertical

Correct Marks : 1 Wrong Marks : 0.25

Which enzyme facilitates the breakdown of a specific neurotransmitter into choline and acetate?

Options :

1. ✘ Monoamine oxidase
2. ✓ Acetylcholinesterase
3. ✘ Hexokinase
4. ✘ Phosphatase

Question Number : 112 Question Id : 50964713980 Question Type : MCQ Option Shuffling : Yes Display Question Number : Yes  
Single Line Question Option : No Option Orientation : Vertical

Correct Marks : 1 Wrong Marks : 0.25

किस एंजाइम की सहायता से एक विशिष्ट तंत्रिकासंचारक (न्यूरोट्रांसमिटर) कोलीन और एसीटेट में अपघटित होता है?

Options :

1. ✘ मोनोअमाइन ऑक्सीडेज़
2. ✓ एसिटाइलकोलीनेस्टरेज़
3. ✘ हेक्सोकाइनेज़
4. ✘ फॉस्फेट

Question Number : 113 Question Id : 50964713981 Question Type : MCQ Option Shuffling : Yes Display Question Number : Yes  
Single Line Question Option : No Option Orientation : Vertical

Correct Marks : 1 Wrong Marks : 0.25

A 'toxic effect' differs from a 'side effect' in that:

Options :

- ✘ it is not a pharmacological effect of the drug.
- ✔ it is a more intense pharmacological effect that occurs at a high dose or after prolonged medication.
- ✘ it must involve drug induced cellular injury.
- ✘ it involves host defence mechanisms.

Question Number : 113 Question Id : 50964713981 Question Type : MCQ Option Shuffling : Yes Display Question Number : Yes  
Single Line Question Option : No Option Orientation : Vertical

Correct Marks : 1 Wrong Marks : 0.25

एक 'विषाक्त प्रभाव' (टॉक्सिक इफेक्ट) किस दृष्टि से 'दुष्प्रभाव' (साइड इफेक्ट) से भिन्न है?

Options :

- ✘ यह दवा का औषधीय प्रभाव नहीं है।
- ✔ यह अधिक गहन औषधीय प्रभाव है, जो उच्च खुराक पर या दीर्घकालिक औषधि-प्रयोग के बाद होता है।
- ✘ इसमें दवा प्रेरित कोशिकीय चोट (सेलुलर इंज्युरी) सम्मिलित अवश्य होनी चाहिए।
- ✘ इसमें पोषक रक्षा क्रियाविधि सम्मिलित है।

Question Number : 114 Question Id : 50964713982 Question Type : MCQ Option Shuffling : Yes Display Question Number : Yes  
Single Line Question Option : No Option Orientation : Vertical

Correct Marks : 1 Wrong Marks : 0.25

The smooth muscle structure that is relaxed by cholinergic drugs is:

Options :

- ✘ colon
- ✘ gastric fundus
- ✘ major bronchi
- ✔ bladder trigone

Question Number : 114 Question Id : 50964713982 Question Type : MCQ Option Shuffling : Yes Display Question Number : Yes  
Single Line Question Option : No Option Orientation : Vertical

Correct Marks : 1 Wrong Marks : 0.25

वह स्निग्ध मांसपेशी संरचना कौन सी है जो कोलीनर्जिक दवाओं द्वारा शिथिल होती है?

Options :

1. ✘ मलाशय (कोलन)
2. ✘ जठरीय बुध्न (गैस्ट्रिक फंडस)
3. ✘ प्रमुख श्वास-नली (ब्रॉन्काई)
4. ✔ मूत्राशय त्रिकोण (ब्लैडर ट्रिगोन)

Question Number : 115 Question Id : 50964713983 Question Type : MCQ Option Shuffling : Yes Display Question Number : Yes  
Single Line Question Option : No Option Orientation : Vertical

Correct Marks : 1 Wrong Marks : 0.25

The following organism is notorious for developing antimicrobial resistance rapidly:

Options :

1. ✘ Streptococcus pyogenes
2. ✘ Meningo coccus
3. ✘ Treponema pallidum
4. ✔ Escherichia coli

Question Number : 115 Question Id : 50964713983 Question Type : MCQ Option Shuffling : Yes Display Question Number : Yes  
Single Line Question Option : No Option Orientation : Vertical

Correct Marks : 1 Wrong Marks : 0.25

निम्नलिखित जीव (ऑर्गेनिज़्म) त्वरित गति से रोगाणुरोधी (एंटीमाइक्रोबियल) प्रतिरोध के विकास के लिए कुख्यात है:

Options :

1. ✘ स्ट्रेप्टोकोकस पायोजीन्स
2. ✘ मेनिंगो कॉकस
3. ✘ ट्रेपोनेमा पैलिडम
4. ✔ एस्चेरिचिया कोलाई

Question Number : 116 Question Id : 50964713984 Question Type : MCQ Option Shuffling : Yes Display Question Number : Yes  
Single Line Question Option : No Option Orientation : Vertical

Correct Marks : 1 Wrong Marks : 0.25

A prodrug is:

Options :



1. ✘ the prototype member of a class of drugs
2. ✘ the oldest member of a class of drugs
3. ✔ an inactive drug that is transformed in the body to an active metabolite
4. ✘ a drug that is stored in body tissues and is then gradually released in the circulation

Question Number : 116 Question Id : 50964713984 Question Type : MCQ Option Shuffling : Yes Display Question Number : Yes  
Single Line Question Option : No Option Orientation : Vertical

Correct Marks : 1 Wrong Marks : 0.25

एक प्रोड्रग क्या होती है?

Options :

1. ✘ दवाओं के एक वर्ग की प्रतिमान (प्रोटोटाइप) इकाई
2. ✘ दवाओं के एक वर्ग की सर्वाधिक प्राचीन इकाई
3. ✔ एक निष्क्रिय दवा जो शरीर में सक्रिय उपापचयक (मेटाबोलाइट) में परिवर्तित हो जाती है
4. ✘ एक दवा जो शरीर के ऊतकों में संग्रहीत होती है, और फिर धीरे-धीरे परिसंचरण में स्रावित होती है

Question Number : 117 Question Id : 50964713985 Question Type : MCQ Option Shuffling : Yes Display Question Number : Yes  
Single Line Question Option : No Option Orientation : Vertical

Correct Marks : 1 Wrong Marks : 0.25

Which of the following neurotransmitters bind to nicotinic receptors?

Options :

1. ✘ Histamine
2. ✘ Dopamine
3. ✘ Glutamate
4. ✔ Acetylcholine

Question Number : 117 Question Id : 50964713985 Question Type : MCQ Option Shuffling : Yes Display Question Number : Yes  
Single Line Question Option : No Option Orientation : Vertical

Correct Marks : 1 Wrong Marks : 0.25

इनमें से कौन सा तंत्रिकासंचरक (न्यूरोट्रांसमिटर) निकोटिन युक्त (निकोटिनिक) अभिग्राहियों (रिसेप्टर्स) से आबद्ध होता है?

Options :

1. ✘ हिस्टामिन
2. ✘ डोपामाइन
3. ✘ ग्लूटामेट
4. ✔ एसिटाइलकोलीन

Question Number : 118 Question Id : 50964713986 Question Type : MCQ Option Shuffling : Yes Display Question Number : Yes  
Single Line Question Option : No Option Orientation : Vertical

Correct Marks : 1 Wrong Marks : 0.25

Local anaesthetics work by:

Options :

1. ✘ blocking calcium ion channels to prevent depolarization
2. ✘ blocking potassium ion channels to prevent depolarisation
3. ✔ blocking sodium ion channels to prevent depolarisation
4. ✘ blocking magnesium ion channels to prevent depolarisation

Question Number : 118 Question Id : 50964713986 Question Type : MCQ Option Shuffling : Yes Display Question Number : Yes  
Single Line Question Option : No Option Orientation : Vertical

Correct Marks : 1 Wrong Marks : 0.25

स्थानीय निश्चेतक (लोकल एनेस्थेटिक्स) किसके द्वारा कार्य करता है?

Options :

1. ✘ विध्रुवण (डिपोलराइज़ेशन) को रोकने के लिए कैल्शियम आयन माध्यमों (चैनल्स) को अवरुद्ध द्वारा
2. ✘ विध्रुवण (डिपोलराइज़ेशन) को रोकने के लिए पोटैशियम आयन माध्यमों (चैनल्स) को अवरुद्ध द्वारा
3. ✔ विध्रुवण (डिपोलराइज़ेशन) को रोकने के लिए सोडियम आयन माध्यमों (चैनल्स) को अवरुद्ध द्वारा
4. ✘ विध्रुवण (डिपोलराइज़ेशन) को रोकने के लिए मैग्नीशियम आयन माध्यमों (चैनल्स) को अवरुद्ध द्वारा

Question Number : 119 Question Id : 50964713987 Question Type : MCQ Option Shuffling : Yes Display Question Number : Yes  
Single Line Question Option : No Option Orientation : Vertical

Correct Marks : 1 Wrong Marks : 0.25

What is used to determine the loading dose necessary for a desired blood concentration of drugs?

Options :

1. ✘ Clearance
2. ✘ Efficacy
3. ✘ Potency
4. ✔ Volume of distribution

Question Number : 119 Question Id : 50964713987 Question Type : MCQ Option Shuffling : Yes Display Question Number : Yes  
Single Line Question Option : No Option Orientation : Vertical

Correct Marks : 1 Wrong Marks : 0.25

दवाओं के वांछित रक्त सांद्रण के लिए आवश्यक भारित खुराक निर्धारित करने के लिए इनमें से किसका प्रयोग किया जाता है?

Options :

1. ✘ निकासी (क्लियरेंस) का
2. ✘ प्रभावोत्पादकता का
3. ✘ सामर्थ्य का
4. ✔ वितरण की मात्रा का

Question Number : 120 Question Id : 50964713988 Question Type : MCQ Option Shuffling : Yes Display Question Number : Yes  
Single Line Question Option : No Option Orientation : Vertical

Correct Marks : 1 Wrong Marks : 0.25

The ability for a drug once bound to activate the receptor and produce a response is:

Options :

1. ✘ affinity
2. ✘ agonist
3. ✔ efficacy
4. ✘ potency

Question Number : 120 Question Id : 50964713988 Question Type : MCQ Option Shuffling : Yes Display Question Number : Yes  
Single Line Question Option : No Option Orientation : Vertical

Correct Marks : 1 Wrong Marks : 0.25

किसी अभिग्राही (रिसेप्टर) को सक्रिय करने और प्रतिक्रिया उत्पन्न करने के लिए किसी दवा को एक बार परिबंधित (बाउंड) करने की क्षमता को क्या कहते हैं?

Options :

1. ✘ बंधुता (एफ़िनिटी)
2. ✘ उत्प्रेरक (एगोनिस्ट)
3. ✔ प्रभावोत्पादकता
4. ✘ सामर्थ्य

#### Discipline2

|   |           |
|---|-----------|
| Group Number :                            | 7         |
| Group Id :                                | 509647398 |
| Group Maximum Duration :                  | 0         |
| Group Minimum Duration :                  | 0         |
| Revisit allowed for view? :               | No        |
| Revisit allowed for edit? :               | No        |
| Break time:                               | 0         |
| Group Marks:                              | 20        |
| Revisit allowed for group Instructions? : | Yes       |
| Maximum Instruction Time:                 | 0         |
| Minimum Instruction Time:                 | 0         |

#### Discipline2

|                                      |           |
|--------------------------------------|-----------|
| Section Id :                         | 509647558 |
| Section Number :                     | 1         |
| Section type :                       | Online    |
| Mandatory or Optional:               | Mandatory |
| Number of Questions:                 | 20        |
| Number of Questions to be attempted: | 20        |
| Section Marks:                       | 20        |
| Display Number Panel:                | Yes       |
| Group All Questions:                 | No        |

|                              |           |
|------------------------------|-----------|
| Sub-Section Number:          | 1         |
| Sub-Section Id:              | 509647752 |
| Question Shuffling Allowed : | Yes       |

Question Number : 121 Question Id : 50964713989 Question Type : MCQ Option Shuffling : Yes Display Question Number : Yes  
Single Line Question Option : No Option Orientation : Vertical

Correct Marks : 1 Wrong Marks : 0.25

Which equation is used to predict the stability of a drug product at room temperature from experiments at accelerated temperature?

Options :



1. ✘ The Stokes equation
2. ✘ The Yong equation
3. ✔ The Arrhenius equation
4. ✘ The Michaelis–Menten equation

Question Number : 121 Question Id : 50964713989 Question Type : MCQ Option Shuffling : Yes Display Question Number : Yes  
Single Line Question Option : No Option Orientation : Vertical

Correct Marks : 1 Wrong Marks : 0.25

त्वरित (एक्सिलरेटेड) तापमान पर प्रयोगों द्वारा कमरे के तापमान पर किसी दवा उत्पाद की स्थिरता का अनुमान लगाने के लिए किस समीकरण का प्रयोग किया जाता है?

Options :

1. ✘ स्टोक्स समीकरण का
2. ✘ योंग समीकरण का
3. ✔ आर्हेनियस समीकरण का
4. ✘ माइकलिस-मेंटेन समीकरण का

Question Number : 122 Question Id : 50964713990 Question Type : MCQ Option Shuffling : Yes Display Question Number : Yes  
Single Line Question Option : No Option Orientation : Vertical

Correct Marks : 1 Wrong Marks : 0.25

The route of drug administration that gives the most rapid onset of the pharmacological effect is:

Options :

1. ✘ intramuscular injection
2. ✔ intravenous injection
3. ✘ intradermal injection
4. ✘ peroral administration

Question Number : 122 Question Id : 50964713990 Question Type : MCQ Option Shuffling : Yes Display Question Number : Yes  
Single Line Question Option : No Option Orientation : Vertical

Correct Marks : 1 Wrong Marks : 0.25

दवा देने का वह अनुमार्ग जो औषधीय प्रभाव सर्वाधिक तीव्र गति से दर्शाता है, वह क्या है?

Options :

1. ✘ अंतर्पेशीय (इंट्रामस्कूलर) इंजेक्शन
2. ✔ अंतःशिरा (इंट्रावीनस) इंजेक्शन
3. ✘ अंतर्त्वचीय (इंट्राडर्मल) इंजेक्शन
4. ✘ मुखमार्गीय (पेरोरल) क्षेपण (एडमिनिस्ट्रेशन)

Question Number : 123 Question Id : 50964713991 Question Type : MCQ Option Shuffling : Yes Display Question Number : Yes  
Single Line Question Option : No Option Orientation : Vertical

Correct Marks : 1 Wrong Marks : 0.25

Which of the following is a G protein-coupled receptor?

Options :

1. ✔ Muscarinic cholinergic receptor
2. ✘ Nicotinic cholinergic receptor
3. ✘ Glucocorticoid receptor
4. ✘ Insulin receptor

Question Number : 123 Question Id : 50964713991 Question Type : MCQ Option Shuffling : Yes Display Question Number : Yes  
Single Line Question Option : No Option Orientation : Vertical

Correct Marks : 1 Wrong Marks : 0.25

इनमें से क्या G प्रोटीन-युग्मी (कपल्ड) अभिग्राही है?

Options :

1. ✔ मस्केरिनिक कोलीनर्जिक अभिग्राही
2. ✘ निकोटिनिक कोलीनर्जिक अभिग्राही
3. ✘ ग्लूकोकार्टीकोइड अभिग्राही
4. ✘ इंसुलिन अभिग्राही

Question Number : 124 Question Id : 50964713992 Question Type : MCQ Option Shuffling : Yes Display Question Number : Yes  
Single Line Question Option : No Option Orientation : Vertical

Correct Marks : 1 Wrong Marks : 0.25

Creatinine clearance is used as a measurement of:

Options :

1. ✘ renal excretion rate
2. ✔ glomerular filtration rate
3. ✘ active renal secretion
4. ✘ passive renal absorption

Question Number : 124 Question Id : 50964713992 Question Type : MCQ Option Shuffling : Yes Display Question Number : Yes  
Single Line Question Option : No Option Orientation : Vertical

Correct Marks : 1 Wrong Marks : 0.25

निम्नलिखित में से किस के मापन के लिए क्रिएटिनिन निकासी (क्लियरेंस) का प्रयोग किया जाता है?

Options :

1. ✘ वृक्कीय उत्सर्जन दर
2. ✔ ग्लोमेरुलर निस्पंदन दर
3. ✘ सक्रिय वृक्कीय साव
4. ✘ निष्क्रिय वृक्कीय अवशोषण

Question Number : 125 Question Id : 50964713993 Question Type : MCQ Option Shuffling : Yes Display Question Number : Yes  
Single Line Question Option : No Option Orientation : Vertical

Correct Marks : 1 Wrong Marks : 0.25

The disease in which haemoglobin is defective is:

Options :

1. ✘ haematoma
2. ✘ haematuria
3. ✘ haemophilia
4. ✔ sickle cell anaemia

Question Number : 125 Question Id : 50964713993 Question Type : MCQ Option Shuffling : Yes Display Question Number : Yes  
Single Line Question Option : No Option Orientation : Vertical

Correct Marks : 1 Wrong Marks : 0.25

किस रोग में हीमोग्लोबिन दोषपूर्ण होता है?

Options :

1. ✘ रक्तगुल्म (हीमाटोमा)
2. ✘ रक्तमेह (हीमाटूरिया)
3. ✘ अति रक्तस्राव (हीमोफीलिया)
4. ✔ हँसिया रक्ताल्पता (सिकल सेल एनीमिया)

Question Number : 126 Question Id : 50964713994 Question Type : MCQ Option Shuffling : Yes Display Question Number : Yes  
Single Line Question Option : No Option Orientation : Vertical

Correct Marks : 1 Wrong Marks : 0.25

A disease of the large and intermediate-sized arteries in which fatty lesions are found is called:

Options :

1. ✘ Stokes–Adams Syndrome
2. ✔ atherosclerosis
3. ✘ osteoporosis
4. ✘ osteoarthritis

Question Number : 126 Question Id : 50964713994 Question Type : MCQ Option Shuffling : Yes Display Question Number : Yes  
Single Line Question Option : No Option Orientation : Vertical

Correct Marks : 1 Wrong Marks : 0.25

बड़े और मध्यवर्ती आकार की धमनियों का एक रोग जिसमें बसायुक्त घाव पाए जाते हैं, उसे क्या कहा जाता है?

Options :

1. ✘ स्टोक्स-एडम्स रोग-लक्षण (सिंड्रोम)
2. ✔ धमनीकाठिन्य (ऐथिरोस्क्लेरोसिस)
3. ✘ अस्थिसुषिरता (ऑस्टियोपोरोसिस)
4. ✘ अस्थिसंधिशोथ (ऑस्टियोआर्थराइटिस)

Question Number : 127 Question Id : 50964713995 Question Type : MCQ Option Shuffling : Yes Display Question Number : Yes  
Single Line Question Option : No Option Orientation : Vertical

Correct Marks : 1 Wrong Marks : 0.25

Which of the following organelle is responsible for energy production in cells?

Options :



1. ✓ Mitochondria
2. ✗ Nucleus
3. ✗ Rough endoplasmic reticulum
4. ✗ Smooth endoplasmic reticulum

Question Number : 127 Question Id : 50964713995 Question Type : MCQ Option Shuffling : Yes Display Question Number : Yes  
Single Line Question Option : No Option Orientation : Vertical

Correct Marks : 1 Wrong Marks : 0.25

निम्नलिखित में से कौन सा उपांग (ऑर्गनेल) कोशिकाओं में ऊर्जा उत्पादन के लिए उत्तरदायी है?

Options :

1. ✓ सूत्र कणिका (माइटोकॉन्ड्रिया)
2. ✗ नाभिक (न्यूक्लियस)
3. ✗ अपरिष्कृत अंतः प्रद्वययी जालिका (रफ़ एंडोप्लाज़्मिक रेटिकुलम)
4. ✗ परिष्कृत अंतः प्रद्वययी जालिका (स्मूथ एंडोप्लाज़्मिक रेटिकुलम)

Question Number : 128 Question Id : 50964713996 Question Type : MCQ Option Shuffling : Yes Display Question Number : Yes  
Single Line Question Option : No Option Orientation : Vertical

Correct Marks : 1 Wrong Marks : 0.25

Which chamber of the human heart has the thickest muscular wall?

Options :

1. ✗ Right ventricle
2. ✗ Left auricle
3. ✓ Left ventricle
4. ✗ Right auricle

Question Number : 128 Question Id : 50964713996 Question Type : MCQ Option Shuffling : Yes Display Question Number : Yes  
Single Line Question Option : No Option Orientation : Vertical

Correct Marks : 1 Wrong Marks : 0.25

मानव हृदय के किस प्रकोष्ठ में सर्वाधिक स्थूल मांसपेशीय भित्ति (मस्क्युलर वॉल) होती है?

Options :

1. ✘ दायाँ निलय (वेंट्रिकल)
2. ✘ बायाँ अलिंद (ऑरिकल)
3. ✔ बायाँ निलय (वेंट्रिकल)
4. ✘ दायाँ अलिंद (ऑरिकल)

Question Number : 129 Question Id : 50964713997 Question Type : MCQ Option Shuffling : Yes Display Question Number : Yes  
Single Line Question Option : No Option Orientation : Vertical

Correct Marks : 1 Wrong Marks : 0.25

Arteries and veins are:

Options :

1. ✘ muscles
2. ✘ glands
3. ✔ blood vessels
4. ✘ chambers

Question Number : 129 Question Id : 50964713997 Question Type : MCQ Option Shuffling : Yes Display Question Number : Yes  
Single Line Question Option : No Option Orientation : Vertical

Correct Marks : 1 Wrong Marks : 0.25

धमनियाँ और शिराएँ क्या हैं?

Options :

1. ✘ मांसपेशियाँ
2. ✘ ग्रंथियाँ
3. ✔ रक्तवाहिकाएँ
4. ✘ प्रकोष्ठ

Question Number : 130 Question Id : 50964713998 Question Type : MCQ Option Shuffling : Yes Display Question Number : Yes  
Single Line Question Option : No Option Orientation : Vertical

Correct Marks : 1 Wrong Marks : 0.25

Gastric juice contains:

Options :

1. ✓ pepsin, lipase and rennin
2. ✘ trypsin, lipase and rennin
3. ✘ trypsin, pepsin and lipase
4. ✘ trypsin, pepsin and renin

Question Number : 130 Question Id : 50964713998 Question Type : MCQ Option Shuffling : Yes Display Question Number : Yes  
Single Line Question Option : No Option Orientation : Vertical

Correct Marks : 1 Wrong Marks : 0.25

आमाशयी रस (गैस्ट्रिक जूस) में क्या सम्मिलित होते हैं?

Options :

1. ✓ पेप्सिन, लाइपेज़ और रेनिन
2. ✘ ट्रिप्सिन, लाइपेज़ और रेनिन
3. ✘ ट्रिप्सिन, पेप्सिन और लाइपेज़
4. ✘ ट्रिप्सिन, पेप्सिन और रेनिन

Question Number : 131 Question Id : 50964713999 Question Type : MCQ Option Shuffling : Yes Display Question Number : Yes  
Single Line Question Option : No Option Orientation : Vertical

Correct Marks : 1 Wrong Marks : 0.25

Succus entericus is the name given to:

Options :

1. ✘ a junction between the ileum and the large intestines
2. ✓ intestinal juice
3. ✘ a swelling in the gut
4. ✘ appendix

Question Number : 131 Question Id : 50964713999 Question Type : MCQ Option Shuffling : Yes Display Question Number : Yes  
Single Line Question Option : No Option Orientation : Vertical

Correct Marks : 1 Wrong Marks : 0.25

आंत्र रस (सक्स एंटरिकस) नाम किसे प्रदान किया गया है?

Options :

1. ✘ शेशांत्र (इलियम) और बड़ी आंतों के संधि स्थान को
2. ✔ आंत्रिय रस को
3. ✘ आंत्र-मार्ग में सूजन को
4. ✘ परिशेषिका (अपेंडिक्स) को

Question Number : 132 Question Id : 50964714000 Question Type : MCQ Option Shuffling : Yes Display Question Number : Yes  
Single Line Question Option : No Option Orientation : Vertical

Correct Marks : 1 Wrong Marks : 0.25

What will be the  $pO_2$  and  $pCO_2$  in the atmospheric air compared to those in the alveolar air?

Options :

1. ✘  $pO_2$  lesser,  $pCO_2$  higher
2. ✔  $pO_2$  higher,  $pCO_2$  lesser
3. ✘  $pO_2$  higher,  $pCO_2$  higher
4. ✘  $pO_2$  lesser,  $pCO_2$  lesser

Question Number : 132 Question Id : 50964714000 Question Type : MCQ Option Shuffling : Yes Display Question Number : Yes  
Single Line Question Option : No Option Orientation : Vertical

Correct Marks : 1 Wrong Marks : 0.25

वायुकोशीय हवा की तुलना में वायुमंडलीय हवा में  $pO_2$  और  $pCO_2$  क्या होंगे?

Options :

1. ✘  $pO_2$  कम,  $pCO_2$  अधिक
2. ✔  $pO_2$  अधिक,  $pCO_2$  कम
3. ✘  $pO_2$  अधिक,  $pCO_2$  अधिक
4. ✘  $pO_2$  कम,  $pCO_2$  कम

Question Number : 133 Question Id : 50964714001 Question Type : MCQ Option Shuffling : Yes Display Question Number : Yes  
Single Line Question Option : No Option Orientation : Vertical

Correct Marks : 1 Wrong Marks : 0.25

The principal hypoglycaemic hormone released from the pancreas is:

Options :



1. ✘ glucagon
2. ✔ insulin
3. ✘ adrenaline
4. ✘ growth

Question Number : 133 Question Id : 50964714001 Question Type : MCQ Option Shuffling : Yes Display Question Number : Yes  
Single Line Question Option : No Option Orientation : Vertical

Correct Marks : 1 Wrong Marks : 0.25

अग्न्याशय (पैंक्रियाज़) द्वारा स्रावित मुख्य हाइपोग्लाइसेमिक हॉर्मोन क्या है?

Options :

1. ✘ ग्लूकागॉन
2. ✔ इंसुलिन
3. ✘ एड्रीनलिन
4. ✘ ग्रोथ

Question Number : 134 Question Id : 50964714002 Question Type : MCQ Option Shuffling : Yes Display Question Number : Yes  
Single Line Question Option : No Option Orientation : Vertical

Correct Marks : 1 Wrong Marks : 0.25

Which type of white blood cells are concerned with the release of histamine and the natural anticoagulant heparin?

Options :

1. ✘ Monocytes
2. ✘ Neutrophils
3. ✔ Basophils
4. ✘ Eosinophils

Question Number : 134 Question Id : 50964714002 Question Type : MCQ Option Shuffling : Yes Display Question Number : Yes  
Single Line Question Option : No Option Orientation : Vertical

Correct Marks : 1 Wrong Marks : 0.25

हिस्टामिन और प्राकृतिक थक्कारोधी (एंटीकोएगुलेंट) हेपैरिन के स्राव से किस प्रकार की श्वेत रक्त कोशिकाएँ संबंधित हैं?

Options :

1. ✘ मोनोसाइट्स
2. ✘ न्यूट्रोफिल्स
3. ✔ बेसोफिल्स
4. ✘ इओसिनोफिल्स

Question Number : 135 Question Id : 50964714003 Question Type : MCQ Option Shuffling : Yes Display Question Number : Yes  
Single Line Question Option : No Option Orientation : Vertical

Correct Marks : 1 Wrong Marks : 0.25

The thin protein filaments found in skeletal muscles are called:

Options :

1. ✘ titin
2. ✘ myosin
3. ✘ troponin
4. ✔ actin

Question Number : 135 Question Id : 50964714003 Question Type : MCQ Option Shuffling : Yes Display Question Number : Yes  
Single Line Question Option : No Option Orientation : Vertical

Correct Marks : 1 Wrong Marks : 0.25

कंकालीय (स्केलेटल) मांसपेशियों में पाए जाने वाले पतले प्रोटीन तंतु क्या कहलाते हैं?

Options :

1. ✘ टाइटिन
2. ✘ मायोसिन
3. ✘ ट्रोपोनिन
4. ✔ एक्टिन

Question Number : 136 Question Id : 50964714004 Question Type : MCQ Option Shuffling : Yes Display Question Number : Yes  
Single Line Question Option : No Option Orientation : Vertical

Correct Marks : 1 Wrong Marks : 0.25

The thoracic cage of man is formed of:

Options :

1. ✓ ribs, sternum and thoracic vertebrae
2. ✗ ribs and thoracic vertebrae
3. ✗ ribs, sternum and lumbar vertebrae
4. ✗ ribs and sternum

Question Number : 136 Question Id : 50964714004 Question Type : MCQ Option Shuffling : Yes Display Question Number : Yes  
Single Line Question Option : No Option Orientation : Vertical

Correct Marks : 1 Wrong Marks : 0.25

पुरुष का वक्ष पिंजर इनमें से किस से निर्मित होता है?

Options :

1. ✓ पसलियों, उरोस्थि और वक्षीय कशेरुकाओं से
2. ✗ पसलियों और वक्षीय कशेरुकाओं से
3. ✗ पसलियों, उरोस्थि और कटि-कशेरुकाओं से
4. ✗ पसलियों और उरोस्थि से

Question Number : 137 Question Id : 50964714005 Question Type : MCQ Option Shuffling : Yes Display Question Number : Yes  
Single Line Question Option : No Option Orientation : Vertical

Correct Marks : 1 Wrong Marks : 0.25

Relaxation of arteriolar smooth muscles leads to:

Options :

1. ✓ vasodilation
2. ✗ vasoconstriction
3. ✗ decreased blood flow
4. ✗ increased pressure

Question Number : 137 Question Id : 50964714005 Question Type : MCQ Option Shuffling : Yes Display Question Number : Yes  
Single Line Question Option : No Option Orientation : Vertical

Correct Marks : 1 Wrong Marks : 0.25

धमनिका (आर्टिरियोलर) की स्निग्ध मांसपेशियों की शिथिलता से क्या होता है?

Options :

1. ✓ वाहिकाप्रसरण (रक्तवाहिका नलियों का फैलाव)
2. ✗ वाहिकासंकीर्णन (रक्तवाहिका नलियों में संकुचन)
3. ✗ रक्त प्रवाह में कमी
4. ✗ दबाव में वृद्धि

Question Number : 138 Question Id : 50964714006 Question Type : MCQ Option Shuffling : Yes Display Question Number : Yes  
Single Line Question Option : No Option Orientation : Vertical

Correct Marks : 1 Wrong Marks : 0.25

The lifespan of an erythrocyte is approximately:

Options :

1. ✗ 50 days
2. ✗ 100 days
3. ✓ 120 days
4. ✗ 200 days

Question Number : 138 Question Id : 50964714006 Question Type : MCQ Option Shuffling : Yes Display Question Number : Yes  
Single Line Question Option : No Option Orientation : Vertical

Correct Marks : 1 Wrong Marks : 0.25

एरिथ्रोसाइट का जीवनकाल लगभग कितना होता है?

Options :

1. ✗ 50 दिन
2. ✗ 100 दिन
3. ✓ 120 दिन
4. ✗ 200 दिन

Question Number : 139 Question Id : 50964714007 Question Type : MCQ Option Shuffling : Yes Display Question Number : Yes  
Single Line Question Option : No Option Orientation : Vertical

Correct Marks : 1 Wrong Marks : 0.25

The maximum volume of air contained in the lungs by a full forced inhalation is called:

Options :

1. ✘ vital capacity
2. ✘ tidal volume
3. ✔ total lung capacity
4. ✘ inspiratory capacity

Question Number : 139 Question Id : 50964714007 Question Type : MCQ Option Shuffling : Yes Display Question Number : Yes  
Single Line Question Option : No Option Orientation : Vertical

Correct Marks : 1 Wrong Marks : 0.25

बलपूर्वक अधिकतम अंतःश्वसन द्वारा फेफड़ों में निहित हवा की अधिकतम मात्रा को क्या कहा जाता है?

Options :

1. ✘ प्राणाधार (वाइटल) क्षमता
2. ✘ ज्वारीय (टाइडल) मात्रा
3. ✔ फेफड़ों की कुल क्षमता
4. ✘ श्वसनीय क्षमता

Question Number : 140 Question Id : 50964714008 Question Type : MCQ Option Shuffling : Yes Display Question Number : Yes  
Single Line Question Option : No Option Orientation : Vertical

Correct Marks : 1 Wrong Marks : 0.25

The main physiological stimulus for vasopressin release is:

Options :

1. ✘ blood volume
2. ✔ plasma osmolality
3. ✘ blood pressure
4. ✘ stroke volume

Question Number : 140 Question Id : 50964714008 Question Type : MCQ Option Shuffling : Yes Display Question Number : Yes  
Single Line Question Option : No Option Orientation : Vertical

Correct Marks : 1 Wrong Marks : 0.25

वैसोप्रेसिन साव के लिए मुख्य शारीरिक उद्दीपन (स्टिमुलस) क्या होता है?

Options :

1. ✘ रक्त की मात्रा
2. ✔ प्लाज़्मा परासरणीयता (ऑस्मोलैलिटी)
3. ✘ रक्तचाप (ब्लड प्रेशर)
4. ✘ आघात परिमाण (स्ट्रोक वॉल्यूम)

#### Discipline3

|   |           |
|---|-----------|
| Group Number :                            | 8         |
| Group Id :                                | 509647399 |
| Group Maximum Duration :                  | 0         |
| Group Minimum Duration :                  | 0         |
| Revisit allowed for view? :               | No        |
| Revisit allowed for edit? :               | No        |
| Break time:                               | 0         |
| Group Marks:                              | 20        |
| Revisit allowed for group Instructions? : | Yes       |
| Maximum Instruction Time:                 | 0         |
| Minimum Instruction Time:                 | 0         |

#### Discipline3

|                                      |           |
|--------------------------------------|-----------|
| Section Id :                         | 509647559 |
| Section Number :                     | 1         |
| Section type :                       | Online    |
| Mandatory or Optional:               | Mandatory |
| Number of Questions:                 | 20        |
| Number of Questions to be attempted: | 20        |
| Section Marks:                       | 20        |
| Display Number Panel:                | Yes       |
| Group All Questions:                 | No        |

|                              |           |
|------------------------------|-----------|
| Sub-Section Number:          | 1         |
| Sub-Section Id:              | 509647753 |
| Question Shuffling Allowed : | Yes       |

Question Number : 141 Question Id : 50964714009 Question Type : MCQ Option Shuffling : Yes Display Question Number : Yes  
Single Line Question Option : No Option Orientation : Vertical

Correct Marks : 1 Wrong Marks : 0.25

A reduction in blood pH due to a panic attack can be classified as a:

Options :

1. ✘ metabolic acidosis



2. ✓ respiratory alkalosis
3. ✗ metabolic alkalosis
4. ✗ respiratory acidosis

Question Number : 141 Question Id : 50964714009 Question Type : MCQ Option Shuffling : Yes Display Question Number : Yes  
Single Line Question Option : No Option Orientation : Vertical

Correct Marks : 1 Wrong Marks : 0.25

भययुक्त आकस्मिक आक्षेप (पैनिक अटैक) के कारण रक्त के pH में कमी को इनमें से किस रूप में वर्गीकृत किया जा सकता है?

Options :

1. ✗ चयाचपयी अम्लरक्तता (मेटाबोलिक एसिडोसिस)
2. ✓ श्वसनगत् क्षारमयता (रेस्पिरेटरी एल्केलोसिस)
3. ✗ चयाचपयी क्षारमयता (मेटाबोलिक एल्केलोसिस)
4. ✗ श्वसनगत् अम्लरक्तता (रेस्पिरेटरी एसिडोसिस)

Question Number : 142 Question Id : 50964714010 Question Type : MCQ Option Shuffling : Yes Display Question Number : Yes  
Single Line Question Option : No Option Orientation : Vertical

Correct Marks : 1 Wrong Marks : 0.25

Which of the following factors would reduce the affinity of oxygen for haemoglobin?

Options :

1. ✗ Increased plasma pH
2. ✗ Decreased 2, 3 DPG
3. ✓ Decreased pH
4. ✗ Increased plasma concentration of calcium

Question Number : 142 Question Id : 50964714010 Question Type : MCQ Option Shuffling : Yes Display Question Number : Yes  
Single Line Question Option : No Option Orientation : Vertical

Correct Marks : 1 Wrong Marks : 0.25

निम्नलिखित में से कौन सा कारक हीमोग्लोबिन के लिए ऑक्सीजन की सादृश्यता (एफिनिटी) को कम करेगा?

Options :

1. ✗ प्लाज़्मा pH में वृद्धि

2. ✘ 2, 3 DPG में कमी

3. ✔ pH में कमी

4. ✘ कैल्शियम के प्लाज़्मा सांद्रण में वृद्धि

Question Number : 143 Question Id : 50964714011 Question Type : MCQ Option Shuffling : Yes Display Question Number : Yes  
Single Line Question Option : No Option Orientation : Vertical

Correct Marks : 1 Wrong Marks : 0.25

In what order are free fatty acids, monoglycerol and cholesterol packaged into, to be absorbed via diffusion?

Options :

1. ✘ Chylomicrons

2. ✘ Apolipoproteins

3. ✔ Mixed micelles

4. ✘ Low density lipoproteins

Question Number : 143 Question Id : 50964714011 Question Type : MCQ Option Shuffling : Yes Display Question Number : Yes  
Single Line Question Option : No Option Orientation : Vertical

Correct Marks : 1 Wrong Marks : 0.25

विसरण (डिफ्यूज़न) के माध्यम से अवशोषित करने के लिए, मुक्त वसा अम्ल (फ्री फैटी एसिड्स), मोनोग्लिसरॉल और कोलेस्टेरॉल को किस क्रम में समेकित किया जाता है?

Options :

1. ✘ वसालसीकाणु (काइलोमाइक्रॉन)

2. ✘ एपोलिपोप्रोटीन

3. ✔ मिश्रित मिसेल्स

4. ✘ कम घनत्व वाले लाइपोप्रोटीन

Question Number : 144 Question Id : 50964714012 Question Type : MCQ Option Shuffling : Yes Display Question Number : Yes  
Single Line Question Option : No Option Orientation : Vertical

Correct Marks : 1 Wrong Marks : 0.25

The main symptoms of irritable bowel syndrome are abdominal pain and:

Options :

1. ✘ blood in the stool



2. ✓ a change in bowel habits

3. ✗ inflammation

4. ✗ passing of mucus

Question Number : 144 Question Id : 50964714012 Question Type : MCQ Option Shuffling : Yes Display Question Number : Yes  
Single Line Question Option : No Option Orientation : Vertical

Correct Marks : 1 Wrong Marks : 0.25

उद्दीप्य आंत्र सहलक्षण (इरिटेबल बॉवेल सिंड्रोम) के मुख्य लक्षण पेट में दर्द और \_\_\_\_\_ हैं।

Options :

1. ✗ मल में रक्त आना

2. ✓ आंत्र प्रकृति (बॉवेल हैबिट) में परिवर्तन होना

3. ✗ जलन

4. ✗ श्लेषमल आना

Question Number : 145 Question Id : 50964714013 Question Type : MCQ Option Shuffling : Yes Display Question Number : Yes  
Single Line Question Option : No Option Orientation : Vertical

Correct Marks : 1 Wrong Marks : 0.25

Signals for parturition originate from:

Options :

1. ✗ the placenta only

2. ✗ a fully developed foetus only

3. ✓ both placenta as well as a fully developed foetus

4. ✗ oxytocin released from maternal pituitary

Question Number : 145 Question Id : 50964714013 Question Type : MCQ Option Shuffling : Yes Display Question Number : Yes  
Single Line Question Option : No Option Orientation : Vertical

Correct Marks : 1 Wrong Marks : 0.25

प्रसव (पार्टुरिशन) के संकेत कहाँ से उत्पन्न होते हैं?

Options :

1. ✗ केवल गर्भनाल से

2. ✘ केवल पूर्ण विकसित भ्रूण से

3. ✔ गर्भनाल और पूर्ण विकसित भ्रूण दोनों से

4. ✘ माता की पीयूष ग्रंथि (मैटर्नल पिट्यूटरी) से स्रावित ऑक्सीटोसिन से

Question Number : 146 Question Id : 50964714014 Question Type : MCQ Option Shuffling : Yes Display Question Number : Yes  
Single Line Question Option : No Option Orientation : Vertical

Correct Marks : 1 Wrong Marks : 0.25

Spermiation is the process of the release of sperms from the:

Options :

1. ✔ seminiferous tubules

2. ✘ vas deferens

3. ✘ epididymis

4. ✘ prostate gland

Question Number : 146 Question Id : 50964714014 Question Type : MCQ Option Shuffling : Yes Display Question Number : Yes  
Single Line Question Option : No Option Orientation : Vertical

Correct Marks : 1 Wrong Marks : 0.25

\_\_\_\_\_ से शुक्राणुओं के निकास की प्रक्रिया को शुक्राणुयन (स्पर्मिएशन) कहा जाता है।

Options :

1. ✔ वीर्योत्पादक नलिकाओं (सेमिनिफेरस ट्यूब्युल्स)

2. ✘ शुक्रवाहिकाओं (वास डेफरेंस)

3. ✘ अधिवृषण (एपिडिडाइमिस)

4. ✘ पुरस्थ (प्रोस्टेट) ग्रंथि

Question Number : 147 Question Id : 50964714015 Question Type : MCQ Option Shuffling : Yes Display Question Number : Yes  
Single Line Question Option : No Option Orientation : Vertical

Correct Marks : 1 Wrong Marks : 0.25

Which of the following hormones is NOT secreted by the human placenta?

Options :

1. ✘ hCG
2. ✘ Estrogens
3. ✘ Progesterone
4. ✔ LH

Question Number : 147 Question Id : 50964714015 Question Type : MCQ Option Shuffling : Yes Display Question Number : Yes  
Single Line Question Option : No Option Orientation : Vertical

Correct Marks : 1 Wrong Marks : 0.25

निम्नलिखित में से कौन सा हॉर्मोन मानव नाल द्वारा स्रावित नहीं होता है?

Options :

1. ✘ hCG
2. ✘ एस्ट्रोजेन्स
3. ✘ प्रोजेस्टेरॉन
4. ✔ LH

Question Number : 148 Question Id : 50964714016 Question Type : MCQ Option Shuffling : Yes Display Question Number : Yes  
Single Line Question Option : No Option Orientation : Vertical

Correct Marks : 1 Wrong Marks : 0.25

A surge in the levels of which hormone is responsible for ovulation?

Options :

1. ✔ LH
2. ✘ FSH
3. ✘ Oestradiol
4. ✘ Progesterone

Question Number : 148 Question Id : 50964714016 Question Type : MCQ Option Shuffling : Yes Display Question Number : Yes  
Single Line Question Option : No Option Orientation : Vertical

Correct Marks : 1 Wrong Marks : 0.25

किस हॉर्मोन के स्तरों में आवेश के कारण अंडोत्सर्ग होता है?

Options :

1. ✔ LH

2. ✘ FSH

3. ✘ एस्ट्राडाइऑल

4. ✘ प्रोजेस्टेरॉन

Question Number : 149 Question Id : 50964714017 Question Type : MCQ Option Shuffling : Yes Display Question Number : Yes  
Single Line Question Option : No Option Orientation : Vertical

Correct Marks : 1 Wrong Marks : 0.25

A Body Mass Index (BMI) of  $27.2 \text{ kg/m}^2$  would be classified as:

Options :

1. ✘ underweight

2. ✘ normal weight

3. ✔ overweight

4. ✘ obese

Question Number : 149 Question Id : 50964714017 Question Type : MCQ Option Shuffling : Yes Display Question Number : Yes  
Single Line Question Option : No Option Orientation : Vertical

Correct Marks : 1 Wrong Marks : 0.25

$27.2 \text{ kg/m}^2$  के बाँडी मास इंडेक्स (BMI) को किस रूप में वर्गीकृत किया जाएगा?

Options :

1. ✘ सामान्य से कम भार

2. ✘ सामान्य भार

3. ✔ सामान्य से अधिक भार

4. ✘ मोटापा

Question Number : 150 Question Id : 50964714018 Question Type : MCQ Option Shuffling : Yes Display Question Number : Yes  
Single Line Question Option : No Option Orientation : Vertical

Correct Marks : 1 Wrong Marks : 0.25

During exercise, what form of heat transfer is most affected?

Options :

1. ✔ Evaporation

2. ✘ Conduction

3. ✘ Convection

4. ✘ Radiation

Question Number : 150 Question Id : 50964714018 Question Type : MCQ Option Shuffling : Yes Display Question Number : Yes  
Single Line Question Option : No Option Orientation : Vertical

Correct Marks : 1 Wrong Marks : 0.25

व्यायाम के दौरान, ऊष्मा अंतरण (हीट ट्रांसफर) का कौन सा स्वरूप सर्वाधिक प्रभावित होता है?

Options :

1. ✔ वाष्पीकरण (इवैपोरेशन)

2. ✘ चालन (कंडक्शन)

3. ✘ संवहन (कंवेक्शन)

4. ✘ विकिरण (रेडिएशन)

Question Number : 151 Question Id : 50964714019 Question Type : MCQ Option Shuffling : Yes Display Question Number : Yes  
Single Line Question Option : No Option Orientation : Vertical

Correct Marks : 1 Wrong Marks : 0.25

Which of the following is used for counting of erythrocytes and leukocytes?

Options :

1. ✘ Hand-held refractometer

2. ✘ Dynamometer

3. ✘ Oximeter

4. ✔ Hemocytometer

Question Number : 151 Question Id : 50964714019 Question Type : MCQ Option Shuffling : Yes Display Question Number : Yes  
Single Line Question Option : No Option Orientation : Vertical

Correct Marks : 1 Wrong Marks : 0.25

रक्ताणुओं (एरिथ्रोसाइट्स) और श्वेत कोशिकाओं (ल्यूकोसाइट्स) की गणना करने के लिए इनमें से किसका प्रयोग किया जाता है?

Options :

1. ✘ हैंड-हेल्ड रिफ्रैक्टोमीटर



2. ✘ डायनमोमीटर

3. ✘ ऑक्सीमीटर

4. ✔ हीमोसाइटोमीटर

Question Number : 152 Question Id : 50964714020 Question Type : MCQ Option Shuffling : Yes Display Question Number : Yes  
Single Line Question Option : No Option Orientation : Vertical

Correct Marks : 1 Wrong Marks : 0.25

What type of instrument is a haemostat?

Options :

1. ✔ Clamping instrument

2. ✘ Holding instrument

3. ✘ Grasping instrument

4. ✘ Dissecting instrument

Question Number : 152 Question Id : 50964714020 Question Type : MCQ Option Shuffling : Yes Display Question Number : Yes  
Single Line Question Option : No Option Orientation : Vertical

Correct Marks : 1 Wrong Marks : 0.25

हीमोस्टैट किस प्रकार का उपकरण है?

Options :

1. ✔ बंधन (क्लैपिंग) उपकरण

2. ✘ धारक (होल्डिंग) उपकरण

3. ✘ ग्राही (ग्रास्पिंग) उपकरण

4. ✘ विच्छेदक (डिसेक्टिंग) उपकरण

Question Number : 153 Question Id : 50964714021 Question Type : MCQ Option Shuffling : Yes Display Question Number : Yes  
Single Line Question Option : No Option Orientation : Vertical

Correct Marks : 1 Wrong Marks : 0.25

What type of instrument is a speculum?

Options :

1. ✘ Clamping instrument

2. ✘ Grasping instrument
3. ✔ Viewing instrument
4. ✘ Dissecting instrument

Question Number : 153 Question Id : 50964714021 Question Type : MCQ Option Shuffling : Yes Display Question Number : Yes  
Single Line Question Option : No Option Orientation : Vertical

Correct Marks : 1 Wrong Marks : 0.25

कुलम किस प्रकार का उपकरण है?

Options :

1. ✘ बंधन (क्लैपिंग) उपकरण
2. ✘ ग्राही (ग्रास्पिंग) उपकरण
3. ✔ प्रदर्शक (व्यूइंग) उपकरण
4. ✘ विच्छेदक (डिसेक्टिंग) उपकरण

Question Number : 154 Question Id : 50964714022 Question Type : MCQ Option Shuffling : Yes Display Question Number : Yes  
Single Line Question Option : No Option Orientation : Vertical

Correct Marks : 1 Wrong Marks : 0.25

Which material is mostly used for making modern surgical instruments?

Options :

1. ✘ Bronze
2. ✔ Stainless steel
3. ✘ Wood
4. ✘ Aluminium

Question Number : 154 Question Id : 50964714022 Question Type : MCQ Option Shuffling : Yes Display Question Number : Yes  
Single Line Question Option : No Option Orientation : Vertical

Correct Marks : 1 Wrong Marks : 0.25

आधुनिक शल्य क्रिया संबंधी उपकरणों का निर्माण करने के लिए अधिकांशतः किस सामग्री का प्रयोग किया जाता है?

Options :

1. ✘ काँस्य

2. ✓ जंगरोधी इस्पात (स्टेनलेस स्टील)

3. ✗ लकड़ी

4. ✗ एल्युमिनियम

Question Number : 155 Question Id : 50964714023 Question Type : MCQ Option Shuffling : Yes Display Question Number : Yes  
Single Line Question Option : No Option Orientation : Vertical

Correct Marks : 1 Wrong Marks : 0.25

All are classifications of surgical instruments except:

Options :

1. ✗ cutting instruments

2. ✗ dilating instruments

3. ✓ sliding instruments

4. ✗ grasping instruments

Question Number : 155 Question Id : 50964714023 Question Type : MCQ Option Shuffling : Yes Display Question Number : Yes  
Single Line Question Option : No Option Orientation : Vertical

Correct Marks : 1 Wrong Marks : 0.25

निम्नलिखित में से किस के अतिरिक्त अन्य सभी शल्यक (सर्जिकल) उपकरणों के वर्गीकरण हैं?

Options :

1. ✗ कर्तन (कटिंग) उपकरण

2. ✗ विस्तारक (डाइलेटिंग) उपकरण

3. ✓ अपसर्पी (स्लाइडिंग) उपकरण

4. ✗ ग्राही (ग्रास्पिंग) उपकरण

Question Number : 156 Question Id : 50964714024 Question Type : MCQ Option Shuffling : Yes Display Question Number : Yes  
Single Line Question Option : No Option Orientation : Vertical

Correct Marks : 1 Wrong Marks : 0.25

Which of the following is NOT a tissue forceps?

Options :

1. ✗ DeBakey forceps



2. ✘ Thumb forceps
3. ✘ Pick-ups
4. ✔ Plumbs

Question Number : 156 Question Id : 50964714024 Question Type : MCQ Option Shuffling : Yes Display Question Number : Yes  
Single Line Question Option : No Option Orientation : Vertical

Correct Marks : 1 Wrong Marks : 0.25

निम्नलिखित में से क्या एक ऊतक संदंश (टिशू फॉर्सिप्स) नहीं है?

Options :

1. ✘ डीबेकी संदंश
2. ✘ थंब संदंश
3. ✘ पिक-अप्स
4. ✔ प्लम्ब्स

Question Number : 157 Question Id : 50964714025 Question Type : MCQ Option Shuffling : Yes Display Question Number : Yes  
Single Line Question Option : No Option Orientation : Vertical

Correct Marks : 1 Wrong Marks : 0.25

Insufflators are used to push:

Options :

1. ✘ nitrous oxide
2. ✔ carbon dioxide
3. ✘ air
4. ✘ argon

Question Number : 157 Question Id : 50964714025 Question Type : MCQ Option Shuffling : Yes Display Question Number : Yes  
Single Line Question Option : No Option Orientation : Vertical

Correct Marks : 1 Wrong Marks : 0.25

इंसफ्लेटर्स का प्रयोग किसे प्रेरित करने के लिए किया जाता है?

Options :

1. ✘ नाइट्रस ऑक्साइड को

2. ✓ कार्बन डाइऑक्साइड को

3. ✗ हवा को

4. ✗ आर्गन को

Question Number : 158 Question Id : 50964714026 Question Type : MCQ Option Shuffling : Yes Display Question Number : Yes  
Single Line Question Option : No Option Orientation : Vertical

Correct Marks : 1 Wrong Marks : 0.25

Which of the following speciality scopes is used for exploration of the biliary system?

Options :

1. ✗ Fetoscope

2. ✗ Angioscope

3. ✗ Ureteroscope

4. ✓ Cholechoscope

Question Number : 158 Question Id : 50964714026 Question Type : MCQ Option Shuffling : Yes Display Question Number : Yes  
Single Line Question Option : No Option Orientation : Vertical

Correct Marks : 1 Wrong Marks : 0.25

पैत्तिक प्रणाली (बिलियरी सिस्टम) के अन्वेषण के लिए इनमें से किस विशेषता स्कोप का प्रयोग किया जाता है?

Options :

1. ✗ फेटोस्कोप

2. ✗ एंजियोस्कोप

3. ✗ यूरिटेरोस्कोप

4. ✓ कोलेडोकोस्कोप

Question Number : 159 Question Id : 50964714027 Question Type : MCQ Option Shuffling : Yes Display Question Number : Yes  
Single Line Question Option : No Option Orientation : Vertical

Correct Marks : 1 Wrong Marks : 0.25

Power tools are powered by all of the following, except:

Options :

1. ✗ nitrogen

2. ✓ carbon dioxide

3. ✗ electricity

4. ✗ batteries

Question Number : 159 Question Id : 50964714027 Question Type : MCQ Option Shuffling : Yes Display Question Number : Yes  
Single Line Question Option : No Option Orientation : Vertical

Correct Marks : 1 Wrong Marks : 0.25

शक्ति उपकरण (पावर टूल्स) निम्नलिखित में से किस के अतिरिक्त अन्य सभी के द्वारा संचालित होते हैं?

Options :

1. ✗ नाइट्रोजन

2. ✓ कार्बन डाइऑक्साइड

3. ✗ विद्युत्

4. ✗ बैटरी

Question Number : 160 Question Id : 50964714028 Question Type : MCQ Option Shuffling : Yes Display Question Number : Yes  
Single Line Question Option : No Option Orientation : Vertical

Correct Marks : 1 Wrong Marks : 0.25

Which of the following is NOT one of the most important properties of suture materials?

Options :

1. ✗ Physical properties

2. ✗ Application properties

3. ✗ Biological properties

4. ✓ Chemical properties

Question Number : 160 Question Id : 50964714028 Question Type : MCQ Option Shuffling : Yes Display Question Number : Yes  
Single Line Question Option : No Option Orientation : Vertical

Correct Marks : 1 Wrong Marks : 0.25

निम्नलिखित में से क्या सीवन सामग्रियों के सर्वाधिक महत्वपूर्ण गुणों में से एक नहीं है?

Options :

1. ✗ भौतिक गुण

2. ✘ अनुप्रयोग गुण

3. ✘ जैविक गुण

4. ✔ रासायनिक गुण

#### Discipline4

|   |           |
|---|-----------|
| Group Number :                            | 9         |
| Group Id :                                | 509647400 |
| Group Maximum Duration :                  | 0         |
| Group Minimum Duration :                  | 0         |
| Revisit allowed for view? :               | No        |
| Revisit allowed for edit? :               | No        |
| Break time:                               | 0         |
| Group Marks:                              | 20        |
| Revisit allowed for group Instructions? : | Yes       |
| Maximum Instruction Time:                 | 0         |
| Minimum Instruction Time:                 | 0         |

#### Discipline4

|                                      |           |
|--------------------------------------|-----------|
| Section Id :                         | 509647560 |
| Section Number :                     | 1         |
| Section type :                       | Online    |
| Mandatory or Optional:               | Mandatory |
| Number of Questions:                 | 20        |
| Number of Questions to be attempted: | 20        |
| Section Marks:                       | 20        |
| Display Number Panel:                | Yes       |
| Group All Questions:                 | No        |

|                              |           |
|------------------------------|-----------|
| Sub-Section Number:          | 1         |
| Sub-Section Id:              | 509647754 |
| Question Shuffling Allowed : | Yes       |

Question Number : 161 Question Id : 50964714029 Question Type : MCQ Option Shuffling : Yes Display Question Number : Yes  
Single Line Question Option : No Option Orientation : Vertical

Correct Marks : 1 Wrong Marks : 0.25

The most frequently used Beaver blade is blade:

Options :

1. ✔ No.69

2. ✘ No.10

3. ✖ No.24

4. ✖ No.22

Question Number : 161 Question Id : 50964714029 Question Type : MCQ Option Shuffling : Yes Display Question Number : Yes  
Single Line Question Option : No Option Orientation : Vertical

Correct Marks : 1 Wrong Marks : 0.25

बारंबार सर्वाधिक प्रयोग किया जाने वाला बीवर ब्लेड कौन सा है?

Options :

1. ✔ नं.69

2. ✖ नं.10

3. ✖ नं.24

4. ✖ नं.22

Question Number : 162 Question Id : 50964714030 Question Type : MCQ Option Shuffling : Yes Display Question Number : Yes  
Single Line Question Option : No Option Orientation : Vertical

Correct Marks : 1 Wrong Marks : 0.25

What are malleable, wire like instruments used for the exploration of a structure such as a fistula or duct called?

Options :

1. ✖ Dilators

2. ✔ Probes

3. ✖ Sutures

4. ✖ Scissors

Question Number : 162 Question Id : 50964714030 Question Type : MCQ Option Shuffling : Yes Display Question Number : Yes  
Single Line Question Option : No Option Orientation : Vertical

Correct Marks : 1 Wrong Marks : 0.25

उन आघातवर्धनीय (मैलिएबल), तार सदृश उपकरणों को क्या कहा जाता है जिन्हें नालव्रण (फिस्टुला) या नाल (डक्ट) जैसी किसी संरचना की खोज के लिए प्रयोग किया जाता है?

Options :

1. ✖ विस्तारक (डाइलेटर्स)

2. ✔ सलाई (प्रोब्स)

3. ✘ सीवन तंतु (सूचर्स)

4. ✘ कर्तनी (सीज़र्स)

Question Number : 163 Question Id : 50964714031 Question Type : MCQ Option Shuffling : Yes Display Question Number : Yes  
Single Line Question Option : No Option Orientation : Vertical

Correct Marks : 1 Wrong Marks : 0.25

The source of the most surgical site infections is:

Options :

1. ✔ the patient's own flora

2. ✘ personnel objects

3. ✘ inanimate objects

4. ✘ airborne contaminants

Question Number : 163 Question Id : 50964714031 Question Type : MCQ Option Shuffling : Yes Display Question Number : Yes  
Single Line Question Option : No Option Orientation : Vertical

Correct Marks : 1 Wrong Marks : 0.25

शल्य-क्रिया (सर्जरी) वाले सर्वाधिक स्थानों पर संक्रमण का स्रोत क्या है?

Options :

1. ✔ रोगी की स्वयं की वनस्पति (फ़्लोरा)

2. ✘ कर्मियों की वस्तुएँ

3. ✘ निर्जीव वस्तुएँ

4. ✘ वायुजनित संदूषक

Question Number : 164 Question Id : 50964714032 Question Type : MCQ Option Shuffling : Yes Display Question Number : Yes  
Single Line Question Option : No Option Orientation : Vertical

Correct Marks : 1 Wrong Marks : 0.25

The process which includes all those procedures, activities and behaviours designed to keep away the micro-organisms (bacteria, fungi, viruses) from a patient's body and the surgical wound is known as:

Options :

1. ✘ disinfection



2. ✘ antiseptis
3. ✔ asepsis
4. ✘ sterilization

Question Number : 164 Question Id : 50964714032 Question Type : MCQ Option Shuffling : Yes Display Question Number : Yes  
Single Line Question Option : No Option Orientation : Vertical

Correct Marks : 1 Wrong Marks : 0.25

उस प्रक्रिया को क्या कहते हैं जिसमें किसी रोगी के शरीर और शल्यक (सर्जिकल) घाव से सूक्ष्मजीवों (जीवाणु, कवक, विषाणु) को दूर रखने के लिए तैयार की गई सभी क्रिया-विधियों, गतिविधियों और व्यवहारों को सम्मिलित किया जाता है?

Options :

1. ✘ विसंक्रमण (डिसइंफेक्शन)
2. ✘ पूतिरोध (एंटीसेप्सिस)
3. ✔ अप्यून (असेप्सिस)
4. ✘ कीटाणुशोधन (स्टेराइलिज़ेशन)

Question Number : 165 Question Id : 50964714033 Question Type : MCQ Option Shuffling : Yes Display Question Number : Yes  
Single Line Question Option : No Option Orientation : Vertical

Correct Marks : 1 Wrong Marks : 0.25

The chemical name of betadine is:

Options :

1. ✔ povidone-iodine
2. ✘ isopropanol
3. ✘ chlorhexidine
4. ✘ iodine

Question Number : 165 Question Id : 50964714033 Question Type : MCQ Option Shuffling : Yes Display Question Number : Yes  
Single Line Question Option : No Option Orientation : Vertical

Correct Marks : 1 Wrong Marks : 0.25

बीटाडीन का रासायनिक नाम क्या है?

Options :

1. ✔ पोवीडोन-आयोडीन

2. ✘ आइसोप्रोपेनॉल

3. ✘ क्लोरहेक्सिडीन

4. ✘ आयोडीन

Question Number : 166 Question Id : 50964714034 Question Type : MCQ Option Shuffling : Yes Display Question Number : Yes  
Single Line Question Option : No Option Orientation : Vertical

Correct Marks : 1 Wrong Marks : 0.25

Which machine uses the temperature and pressure of steam for disinfection?

Options :

1. ✘ Laminar Airflow

2. ✔ Autoclave

3. ✘ Oven

4. ✘ Water Jet

Question Number : 166 Question Id : 50964714034 Question Type : MCQ Option Shuffling : Yes Display Question Number : Yes  
Single Line Question Option : No Option Orientation : Vertical

Correct Marks : 1 Wrong Marks : 0.25

विसंक्रमण (डिसइंफेक्शन) के लिए कौन सी मशीन वाष्प के तापमान और दबाव का प्रयोग करती है?

Options :

1. ✘ लैमिनार एयरफ्लो

2. ✔ ऑटोक्लेव

3. ✘ ओवन

4. ✘ वॉटर जेट

Question Number : 167 Question Id : 50964714035 Question Type : MCQ Option Shuffling : Yes Display Question Number : Yes  
Single Line Question Option : No Option Orientation : Vertical

Correct Marks : 1 Wrong Marks : 0.25

D-value is the amount of time required at any temperature to kill:

Options :

1. ✔ 90% of the microbes

2. ✘ 50% of the microbes



3. ✘ 20% of the microbes

4. ✘ 100% of the microbes

Question Number : 167 Question Id : 50964714035 Question Type : MCQ Option Shuffling : Yes Display Question Number : Yes  
Single Line Question Option : No Option Orientation : Vertical

Correct Marks : 1 Wrong Marks : 0.25

D-वैल्यू किसी भी तापमान पर निम्नलिखित में \_\_\_\_\_ को मारने के लिए अपेक्षित समय राशि है।

Options :

1. ✔ 90% रोगाणु

2. ✘ 50% रोगाणु

3. ✘ 20% रोगाणु

4. ✘ 100% रोगाणु

Question Number : 168 Question Id : 50964714036 Question Type : MCQ Option Shuffling : Yes Display Question Number : Yes  
Single Line Question Option : No Option Orientation : Vertical

Correct Marks : 1 Wrong Marks : 0.25

Which of the following is a highly resistant, non-pathogenic microorganism used as a biological indicator for steam sterilization?

Options :

1. ✘ Bacillus subtilis

2. ✔ Bacillus stearothermophilus

3. ✘ Bacillus clausii

4. ✘ Bacillus anthracis

Question Number : 168 Question Id : 50964714036 Question Type : MCQ Option Shuffling : Yes Display Question Number : Yes  
Single Line Question Option : No Option Orientation : Vertical

Correct Marks : 1 Wrong Marks : 0.25

निम्नलिखित में से क्या एक उच्च प्रतिरोधी, गैर-रोगजनक सूक्ष्मजीव है जिसका प्रयोग वाष्प कीटाणुशोधन (स्टीम स्टेरिलाइजेशन) के लिए जैविक संकेतक के रूप में किया जाता है?

Options :

1. ✘ बैसिलस सबटिलिस

2. ✔ बैसिलस स्टीरोथर्मोफिलस

3. ✘ बैसिलस क्लाँसी

4. ✘ बैसिलस एंथ्रेसिस

Question Number : 169 Question Id : 50964714037 Question Type : MCQ Option Shuffling : Yes Display Question Number : Yes  
Single Line Question Option : No Option Orientation : Vertical

Correct Marks : 1 Wrong Marks : 0.25

Which of the following is the best method of sterilization of surgical supplies and drugs after they have been packaged?

Options :

1. ✘ Ultrasonic waves

2. ✔ Electron-beam radiation

3. ✘ Gamma rays

4. ✘ UV rays

Question Number : 169 Question Id : 50964714037 Question Type : MCQ Option Shuffling : Yes Display Question Number : Yes  
Single Line Question Option : No Option Orientation : Vertical

Correct Marks : 1 Wrong Marks : 0.25

शल्यक (सर्जिकल) आपूर्ति और दवाओं का समेकन किए जाने के बाद उनके कीटाणुशोधन (स्टेरिलाइज़ेशन) के लिए निम्नलिखित में से कौन सी विधि सर्वोत्तम है?

Options :

1. ✘ अल्ट्रासोनिक तरंगें

2. ✔ इलेक्ट्रॉन-किरण विकिरण

3. ✘ गामा किरणें

4. ✘ पराबैंगनी (UV) किरणें

Question Number : 170 Question Id : 50964714038 Question Type : MCQ Option Shuffling : Yes Display Question Number : Yes  
Single Line Question Option : No Option Orientation : Vertical

Correct Marks : 1 Wrong Marks : 0.25

Bandages that are applied on wounds contain:

Options :

1. ✘ copper sulphate

2. ✘ iodine/silver nitrate

3. ✓ benzalkonium chloride

4. ✗ crystal violet

Question Number : 170 Question Id : 50964714038 Question Type : MCQ Option Shuffling : Yes Display Question Number : Yes  
Single Line Question Option : No Option Orientation : Vertical

Correct Marks : 1 Wrong Marks : 0.25

घावों पर लगाई जाने वाली पट्टियों (बैंडेज) में क्या होता है?

Options :

1. ✗ कॉपर सल्फेट

2. ✗ आयोडीन/सिल्वर नाइट्रेट

3. ✓ बेन्ज़लकोनियम क्लोराइड

4. ✗ क्रिस्टल वायलेट

Question Number : 171 Question Id : 50964714039 Question Type : MCQ Option Shuffling : Yes Display Question Number : Yes  
Single Line Question Option : No Option Orientation : Vertical

Correct Marks : 1 Wrong Marks : 0.25

Which of the following is used to sterilize operation theatres in hospitals?

Options :

1. ✗ Washing with Dettol

2. ✗ Carboic acid spraying

3. ✓ Formaldehyde fumigation

4. ✗ Ethylene oxide

Question Number : 171 Question Id : 50964714039 Question Type : MCQ Option Shuffling : Yes Display Question Number : Yes  
Single Line Question Option : No Option Orientation : Vertical

Correct Marks : 1 Wrong Marks : 0.25

चिकित्सालयों में शल्य-क्रिया कक्ष (ऑपरेशन थिएटर) को कीटाणुशोधित (स्टेरिलाइज़) करने के लिए इनमें से किसका प्रयोग किया जाता है?

Options :

1. ✗ डेटॉल से धोना

2. ✗ कार्बोलिक एसिड का छिड़काव

3. ✓ फॉर्मल्डिहाइड का धुआँ देना

4. ✗ एथिलीन ऑक्साइड

Question Number : 172 Question Id : 50964714040 Question Type : MCQ Option Shuffling : Yes Display Question Number : Yes  
Single Line Question Option : No Option Orientation : Vertical

Correct Marks : 1 Wrong Marks : 0.25

Sharp instruments should NOT be sterilized by:

Options :

1. ✗ chemical disinfectants

2. ✓ boiling

3. ✗ autoclaving

4. ✗ hot air ovens

Question Number : 172 Question Id : 50964714040 Question Type : MCQ Option Shuffling : Yes Display Question Number : Yes  
Single Line Question Option : No Option Orientation : Vertical

Correct Marks : 1 Wrong Marks : 0.25

धारदार उपकरणों को किसके द्वारा कीटाणुशोधित (स्टेरिलाइज़) नहीं किया जाना चाहिए?

Options :

1. ✗ रासायनिक विसंक्रामक (डिसइंफैक्टेंट) द्वारा

2. ✓ उबाल कर

3. ✗ वाष्पदावी विसंक्रमण (ऑटोक्लेविंग) द्वारा

4. ✗ तप्त वायु भट्टी (हॉट एयर ओवन) द्वारा

Question Number : 173 Question Id : 50964714041 Question Type : MCQ Option Shuffling : Yes Display Question Number : Yes  
Single Line Question Option : No Option Orientation : Vertical

Correct Marks : 1 Wrong Marks : 0.25

Which of the following is NOT a feature of aldehydes as a disinfectant?

Options :

1. ✗ They kill all microorganisms, including spores

2. ✗ Poor penetration



3. ✓ Dehydrate cells

4. ✘ Act through alkylation of amino-carboxyl or hydroxyl group

Question Number : 173 Question Id : 50964714041 Question Type : MCQ Option Shuffling : Yes Display Question Number : Yes  
Single Line Question Option : No Option Orientation : Vertical

Correct Marks : 1 Wrong Marks : 0.25

इनमें से क्या विसंक्रामक (डिसइंफैक्टेंट) के रूप में एल्डीहाइड्स की विशेषता नहीं है?

Options :

1. ✘ वे बीजाणुओं (स्पोर्स) के साथ साथ सभी सूक्ष्मजीवों को नष्ट करते हैं

2. ✘ सही ढंग से भेदन न कर पाना

3. ✓ कोशिकाओं को निर्जल (डिहाइड्रेट) करना

4. ✘ अमीनो-कार्बोक्सिल या हाइड्रॉक्सिल समूह के एल्काइलेशन के माध्यम से कार्य करना

Question Number : 174 Question Id : 50964714042 Question Type : MCQ Option Shuffling : Yes Display Question Number : Yes  
Single Line Question Option : No Option Orientation : Vertical

Correct Marks : 1 Wrong Marks : 0.25

Which of the following is used topically to help to prevent colonization and infection of burn tissues?

Options :

1. ✘ Merthiolate

2. ✘ Copper salts

3. ✘ Mercurials

4. ✓ Silver sulfadiazine

Question Number : 174 Question Id : 50964714042 Question Type : MCQ Option Shuffling : Yes Display Question Number : Yes  
Single Line Question Option : No Option Orientation : Vertical

Correct Marks : 1 Wrong Marks : 0.25

जले हुए ऊतकों के उपनिवेशन (कॉलोनाइज़ेशन) और संक्रमण को रोकने में सहायता करने के लिए इनमें से किसका स्थानिक तौर पर प्रयोग किया जाता है?

Options :

1. ✘ मेथियोलेट

2. ✘ कॉपर सॉल्ट्स

3. ✘ मर्क्युरीअल्स

4. ✔ सिल्वर सल्फाडायज़ीन

Question Number : 175 Question Id : 50964714043 Question Type : MCQ Option Shuffling : Yes Display Question Number : Yes  
Single Line Question Option : No Option Orientation : Vertical

Correct Marks : 1 Wrong Marks : 0.25

The sterilization strength of disinfectants is determined by the:

Options :

1. ✘ dilution test

2. ✔ phenol coefficient test

3. ✘ decimal death value

4. ✘ concentration gradient test

Question Number : 175 Question Id : 50964714043 Question Type : MCQ Option Shuffling : Yes Display Question Number : Yes  
Single Line Question Option : No Option Orientation : Vertical

Correct Marks : 1 Wrong Marks : 0.25

विसंक्रामक (डिसइंफैक्टेंट) की कीटाणुशोधन (स्टेरिलाइज़ेशन) सामर्थ्य निम्नलिखित में से किस के द्वारा निर्धारित की जाती है?

Options :

1. ✘ तनुकरण परीक्षण (डाइल्यूशन टेस्ट) द्वारा

2. ✔ फिनोल गुणांक परीक्षण (फिनोल कोएफिसिएंट टेस्ट) द्वारा

3. ✘ दशमलव अंत मान (डेसिमल डेथ वैल्यू) द्वारा

4. ✘ संकेंद्रण प्रवणता परीक्षण (कन्सेंट्रेशन ग्रेडिएंट टेस्ट) द्वारा

Question Number : 176 Question Id : 50964714044 Question Type : MCQ Option Shuffling : Yes Display Question Number : Yes  
Single Line Question Option : No Option Orientation : Vertical

Correct Marks : 1 Wrong Marks : 0.25

Cholecystectomy is:

Options :

1. ✘ a surgical procedure to remove blockage from carotid arteries

2. ✓ a surgery to remove the gallbladder
3. ✘ a surgical removal of a woman's uterus
4. ✘ a removal of a part of or the entire breast

Question Number : 176 Question Id : 50964714044 Question Type : MCQ Option Shuffling : Yes Display Question Number : Yes  
Single Line Question Option : No Option Orientation : Vertical

Correct Marks : 1 Wrong Marks : 0.25

कोलेसिस्टेक्टॉमी (पित्ताशय-उच्छेदन) क्या है?

Options :

1. ✘ ग्रीवा धमनियों से अवरोध को दूर करने के लिए एक शल्यक (सर्जिकल) प्रक्रिया
2. ✓ पित्ताशय की थैली को निकालने के लिए शल्य-क्रिया (सर्जरी)
3. ✘ शल्यक (सर्जिकल) प्रक्रिया द्वारा महिला का गर्भाशय निकालना
4. ✘ स्तन को आंशिक या पूर्ण रूप से निकालना

Question Number : 177 Question Id : 50964714045 Question Type : MCQ Option Shuffling : Yes Display Question Number : Yes  
Single Line Question Option : No Option Orientation : Vertical

Correct Marks : 1 Wrong Marks : 0.25

Which of the following is true with regard to hereditary pancreatitis?

Options :

1. ✘ Autosomal recessive disorder
2. ✓ Has 80% penetrance
3. ✘ Accounts for about 30% of cases of chronic pancreatitis
4. ✘ IgG4 concentrations are elevated

Question Number : 177 Question Id : 50964714045 Question Type : MCQ Option Shuffling : Yes Display Question Number : Yes  
Single Line Question Option : No Option Orientation : Vertical

Correct Marks : 1 Wrong Marks : 0.25

वंशानुगत अग्नाशयशोथ (पैंक्रिएटाइटिस) के संबंध में इनमें से कौन सा विकल्प सत्य है?

Options :

1. ✘ अलिंगी गुणसूत्रीय अप्रभावी विकार (ऑटोसोमल रिसेसिव डिसऑर्डर)



2. ✓ इसमें 80% अंतर्वेधन (पेनिट्रेंस) होता है

3. ✗ चिरकालिक अग्न्याशयशोथ के लगभग 30% मामलों में इसकी भूमिका देखी जाती है

4. ✗ IgG4 सांद्रता बढ़ी हुई होती है

Question Number : 178 Question Id : 50964714046 Question Type : MCQ Option Shuffling : Yes Display Question Number : Yes  
Single Line Question Option : No Option Orientation : Vertical

Correct Marks : 1 Wrong Marks : 0.25

Abdominal approach is used in:

Options :

1. ✗ Thiersch operation

2. ✗ Delorme's operation

3. ✗ Altemier's procedure

4. ✓ Ripstein's operation

Question Number : 178 Question Id : 50964714046 Question Type : MCQ Option Shuffling : Yes Display Question Number : Yes  
Single Line Question Option : No Option Orientation : Vertical

Correct Marks : 1 Wrong Marks : 0.25

निम्नलिखित में से किस में उदरीय उपागम (एब्डॉमिनल अप्रोच) का प्रयोग किया जाता है?

Options :

1. ✗ थीर्श शल्य-चिकित्सा (थीर्श ऑपरेशन)

2. ✗ डेलोर्मे शल्य-चिकित्सा (डेलोर्मे ऑपरेशन)

3. ✗ अल्टेमीर क्रिया-विधि (अल्टेमीर प्रोसीज़र)

4. ✓ रिपस्टीन शल्य-चिकित्सा (रिपस्टीन ऑपरेशन)

Question Number : 179 Question Id : 50964714047 Question Type : MCQ Option Shuffling : Yes Display Question Number : Yes  
Single Line Question Option : No Option Orientation : Vertical

Correct Marks : 1 Wrong Marks : 0.25

Stemmer's sign is due to:

Options :

1. ✗ lipodystrophy

2. ✘ retroperitoneal fibrosis
3. ✔ subcutaneous fibrosis
4. ✘ deep vein thrombosis

Question Number : 179 Question Id : 50964714047 Question Type : MCQ Option Shuffling : Yes Display Question Number : Yes  
Single Line Question Option : No Option Orientation : Vertical

Correct Marks : 1 Wrong Marks : 0.25

स्टेमर्स संकेत निम्नलिखित में से किस के कारण होता है?

Options :

1. ✘ वसा ऊतक विकार (लाइपोडिस्ट्रॉफी)
2. ✘ पूर्वव्यापी आंत्रगुहा तंतुमयता (रेट्रोपेरिटोनियल फाइब्रोसिस)
3. ✔ अधस्त्वचीय तंतुमयता (सबक्युटेनियस फाइब्रोसिस)
4. ✘ गहरी शिरा घनास्त्रता (डीप वेन थ्रॉम्बोसिस)

Question Number : 180 Question Id : 50964714048 Question Type : MCQ Option Shuffling : Yes Display Question Number : Yes  
Single Line Question Option : No Option Orientation : Vertical

Correct Marks : 1 Wrong Marks : 0.25

Which of the following is true regarding type III neuroendocrine tumour of the stomach?

Options :

1. ✘ Most frequent neuroendocrine tumour of the stomach
2. ✔ Serum gastrin is normal
3. ✘ High grade malignant tumour
4. ✘ Endoscopic resection is the treatment of choice

Question Number : 180 Question Id : 50964714048 Question Type : MCQ Option Shuffling : Yes Display Question Number : Yes  
Single Line Question Option : No Option Orientation : Vertical

Correct Marks : 1 Wrong Marks : 0.25

आमाशय के टाइप III तंत्रिकीय अंतःस्रावी रसौली (न्यूरोएंडोक्राइन ट्यूमर) के बारे में इनमें से क्या सत्य है?

Options :

1. ✘ आमाशय की सर्वाधिक बारंबारता वाली तंत्रिकीय अंतःस्रावी रसौली (न्यूरोएंडोक्राइन ट्यूमर)

2. ✓ रक्तोद (सीरम) गैस्ट्रिन सामान्य होता है
3. ✘ उच्च श्रेणी की घातक रसौली (ट्यूमर)
4. ✘ अंतर्दर्शी उच्छेदन (एंडोस्कोपिक रिसेक्शन) वैकल्पिक उपचार है

#### Discipline5

|   |           |
|---|-----------|
| Group Number :                            | 10        |
| Group Id :                                | 509647401 |
| Group Maximum Duration :                  | 0         |
| Group Minimum Duration :                  | 120       |
| Revisit allowed for view? :               | No        |
| Revisit allowed for edit? :               | No        |
| Break time:                               | 0         |
| Group Marks:                              | 20        |
| Revisit allowed for group Instructions? : | Yes       |
| Maximum Instruction Time:                 | 0         |
| Minimum Instruction Time:                 | 0         |

#### Discipline5

|                                      |           |
|--------------------------------------|-----------|
| Section Id :                         | 509647561 |
| Section Number :                     | 1         |
| Section type :                       | Online    |
| Mandatory or Optional:               | Mandatory |
| Number of Questions:                 | 20        |
| Number of Questions to be attempted: | 20        |
| Section Marks:                       | 20        |
| Display Number Panel:                | Yes       |
| Group All Questions:                 | No        |

|                              |           |
|------------------------------|-----------|
| Sub-Section Number:          | 1         |
| Sub-Section Id:              | 509647755 |
| Question Shuffling Allowed : | Yes       |

Question Number : 181 Question Id : 50964714049 Question Type : MCQ Option Shuffling : Yes Display Question Number : Yes  
 Single Line Question Option : No Option Orientation : Vertical  
 Correct Marks : 1 Wrong Marks : 0.25

The most urgent aspect in treatment of arterial embolism is:

Options :

1. ✘ digitalis
2. ✓ heparin

3. ✘ morphine

4. ✘ diuretics

Question Number : 181 Question Id : 50964714049 Question Type : MCQ Option Shuffling : Yes Display Question Number : Yes  
Single Line Question Option : No Option Orientation : Vertical

Correct Marks : 1 Wrong Marks : 0.25

धमनी वाहिकारोध (आर्टेरियल एम्बोलिज़्म) के उपचार में सर्वाधिक आवश्यक पक्ष क्या है?

Options :

1. ✘ डिजिटेलिस

2. ✔ हेपैरिन

3. ✘ मॉर्फ़ीन

4. ✘ डाइयूरेटिक्स

Question Number : 182 Question Id : 50964714050 Question Type : MCQ Option Shuffling : Yes Display Question Number : Yes  
Single Line Question Option : No Option Orientation : Vertical

Correct Marks : 1 Wrong Marks : 0.25

Which of the following is NOT a complication of an inguinal hernia?

Options :

1. ✘ Inflammation

2. ✘ Strangulation

3. ✘ Obstruction

4. ✔ Bleeding

Question Number : 182 Question Id : 50964714050 Question Type : MCQ Option Shuffling : Yes Display Question Number : Yes  
Single Line Question Option : No Option Orientation : Vertical

Correct Marks : 1 Wrong Marks : 0.25

इनमें से क्या वंक्षण (इंगुइनल) हर्निया की जटिलता नहीं है?

Options :

1. ✘ जलन (इन्फ्लेमेशन)

2. ✘ श्वास-अवरोध (स्ट्रैंगुलेशन)

3. ✘ अवरोध (ऑब्सट्रक्शन)

4. ✔ रक्तस्राव (ब्लीडिंग)

Question Number : 183 Question Id : 50964714051 Question Type : MCQ Option Shuffling : Yes Display Question Number : Yes  
Single Line Question Option : No Option Orientation : Vertical

Correct Marks : 1 Wrong Marks : 0.25

Which of the following treatments require Kasai operation?

Options :

1. ✘ Intrahepatic biliary atresia

2. ✔ Extrahepatic biliary atresia

3. ✘ Caroli's disease

4. ✘ Choledochal cyst

Question Number : 183 Question Id : 50964714051 Question Type : MCQ Option Shuffling : Yes Display Question Number : Yes  
Single Line Question Option : No Option Orientation : Vertical

Correct Marks : 1 Wrong Marks : 0.25

इनमें से किसके उपचार के लिए कसाई शल्य-चिकित्सा की आवश्यकता होती है?

Options :

1. ✘ अंतःयकृत पैल्लिक नलिकारोध (इंट्राहेपैटिक बिलियरी आट्रेसिया)

2. ✔ बहिर्यकृत पैल्लिक नलिकारोध (एक्स्ट्राहेपैटिक बिलियरी आट्रेसिया)

3. ✘ कैरोली रोग (कैरोली'ज़ डिजीज़)

4. ✘ पित्त वाहिका कोष (कोलेडोकल सिस्ट)

Question Number : 184 Question Id : 50964714052 Question Type : MCQ Option Shuffling : Yes Display Question Number : Yes  
Single Line Question Option : No Option Orientation : Vertical

Correct Marks : 1 Wrong Marks : 0.25

Which of the following is NOT part of a patient's history?

Options :

1. ✘ Primary complaint

2. ✘ Review of body systems



3. ✘ Family history

4. ✔ Name and date of birth

Question Number : 184 Question Id : 50964714052 Question Type : MCQ Option Shuffling : Yes Display Question Number : Yes  
Single Line Question Option : No Option Orientation : Vertical

Correct Marks : 1 Wrong Marks : 0.25

इनमें से क्या रोगी के इतिहास का भाग नहीं है?

Options :

1. ✘ प्राथमिक शिकायत

2. ✘ शरीर प्रणालियों की समीक्षा

3. ✘ पारिवारिक इतिहास

4. ✔ नाम और जन्म-तिथि

Question Number : 185 Question Id : 50964714053 Question Type : MCQ Option Shuffling : Yes Display Question Number : Yes  
Single Line Question Option : No Option Orientation : Vertical

Correct Marks : 1 Wrong Marks : 0.25

In hospital emergency codes, what does blue colour mean?

Options :

1. ✘ Fire

2. ✔ Heart or respiratory arrest

3. ✘ Infant and child abduction

4. ✘ A combative person

Question Number : 185 Question Id : 50964714053 Question Type : MCQ Option Shuffling : Yes Display Question Number : Yes  
Single Line Question Option : No Option Orientation : Vertical

Correct Marks : 1 Wrong Marks : 0.25

चिकित्सालय के आपात्कालीन कूटों (इमरजेंसी कोड) में, नीले रंग का क्या अर्थ है?

Options :

1. ✘ आग

2. ✔ हृदय या श्वास का रुक जाना

3. ✘ शिशु और बच्चे का अपहरण

4. ✘ लड़ाकू व्यक्ति

Question Number : 186 Question Id : 50964714054 Question Type : MCQ Option Shuffling : Yes Display Question Number : Yes  
Single Line Question Option : No Option Orientation : Vertical

Correct Marks : 1 Wrong Marks : 0.25

Which of the following positions of the patient is most commonly used for surgery on the lower abdomen and pelvis?

Options :

1. ✔ Trendelenburg position

2. ✘ Reverse Trendelenburg position

3. ✘ Fowler's position and sitting position

4. ✘ Supine position

Question Number : 186 Question Id : 50964714054 Question Type : MCQ Option Shuffling : Yes Display Question Number : Yes  
Single Line Question Option : No Option Orientation : Vertical

Correct Marks : 1 Wrong Marks : 0.25

उदर के निचले भाग में और नितंब (पेल्विस) की शल्य-चिकित्सा के लिए, इनमें से रोगी की किस स्थिति का सर्वाधिक प्रयोग किया जाता है?

Options :

1. ✔ ट्रेंडेलेंबर्ग स्थिति का

2. ✘ विपरीत ट्रेंडेलेंबर्ग स्थिति का

3. ✘ फ़ाउलर स्थिति और बैठी हुई स्थिति का

4. ✘ उत्तान (सुपाइन) स्थिति

Question Number : 187 Question Id : 50964714055 Question Type : MCQ Option Shuffling : Yes Display Question Number : Yes  
Single Line Question Option : No Option Orientation : Vertical

Correct Marks : 1 Wrong Marks : 0.25

Which of the following are the major modes of heat loss to the patient, accounting for up to 80% of the total body heat lost intraoperative?

Options :

1. ✘ Radiation and evaporation



2. ✓ Radiation and convection
3. ✘ Convection and conduction
4. ✘ Convection and evaporation

Question Number : 187 Question Id : 50964714055 Question Type : MCQ Option Shuffling : Yes Display Question Number : Yes  
Single Line Question Option : No Option Orientation : Vertical

Correct Marks : 1 Wrong Marks : 0.25

इनमें से क्या रोगी में ऊष्मा-क्षय की प्रमुख विधि है, जिससे अंतर शल्य-चिकित्सा (इंट्राऑपरेटिव) होने पर शरीर की 80% तक ऊष्मा का क्षय हो जाता है?

Options :

1. ✘ विकिरण और वाष्पीकरण
2. ✓ विकिरण और संवहन
3. ✘ संवहन और चालन
4. ✘ संवहन और वाष्पीकरण

Question Number : 188 Question Id : 50964714056 Question Type : MCQ Option Shuffling : Yes Display Question Number : Yes  
Single Line Question Option : No Option Orientation : Vertical

Correct Marks : 1 Wrong Marks : 0.25

Which of the following is NOT a common nursing medication error?

Options :

1. ✘ Wrong time
2. ✘ Wrong rate
3. ✘ Wrong dose
4. ✓ Wrong order

Question Number : 188 Question Id : 50964714056 Question Type : MCQ Option Shuffling : Yes Display Question Number : Yes  
Single Line Question Option : No Option Orientation : Vertical

Correct Marks : 1 Wrong Marks : 0.25

इनमें से क्या एक सामान्य उपचर्या दवा (नर्सिंग मेडिकेशन) त्रुटि नहीं है?

Options :

1. ✘ ग़लत समय

2. ✘ ग़लत दर

3. ✘ ग़लत ख़ुराक

4. ✔ ग़लत क्रम

Question Number : 189 Question Id : 50964714057 Question Type : MCQ Option Shuffling : Yes Display Question Number : Yes  
Single Line Question Option : No Option Orientation : Vertical

Correct Marks : 1 Wrong Marks : 0.25

What is incorrect installation of equipment in the hospital known as?

Options :

1. ✘ Latent error

2. ✘ Potential adverse error

3. ✘ Sentinel error

4. ✔ Both latent and potential adverse error

Question Number : 189 Question Id : 50964714057 Question Type : MCQ Option Shuffling : Yes Display Question Number : Yes  
Single Line Question Option : No Option Orientation : Vertical

Correct Marks : 1 Wrong Marks : 0.25

चिकित्सालय में उपकरण का ग़लत संस्थापन (इंस्टॉलेशन) क्या कहलाता है?

Options :

1. ✘ अप्रकट (लेटेंट) त्रुटि

2. ✘ संभावित प्रतिकूल त्रुटि

3. ✘ प्रहरी (सेंटिनल) त्रुटि

4. ✔ अप्रकट और संभावित प्रतिकूल त्रुटि दोनों

Question Number : 190 Question Id : 50964714058 Question Type : MCQ Option Shuffling : Yes Display Question Number : Yes  
Single Line Question Option : No Option Orientation : Vertical

Correct Marks : 1 Wrong Marks : 0.25

Sterile technique is essential during catheter insertion to prevent which of the following major nosocomial infections?

Options :

1. ✔ Urinary tract infections

2. ✘ Blood infections
3. ✘ Septicaemia
4. ✘ Urethral injury

Question Number : 190 Question Id : 50964714058 Question Type : MCQ Option Shuffling : Yes Display Question Number : Yes  
Single Line Question Option : No Option Orientation : Vertical

Correct Marks : 1 Wrong Marks : 0.25

इनमें से किस प्रमुख चिकित्सालयीय (नोसोकोमियल) संक्रमण को रोकने के लिए कैथिटर प्रविष्ट कराने के दौरान जीवाणुरहित (स्टेराइल) तकनीक अनिवार्य है?

Options :

1. ✔ मूत्र मार्ग में संक्रमण
2. ✘ रक्त में संक्रमण
3. ✘ घाव का सड़ना (सेप्टिसीमिया)
4. ✘ मूत्रमार्गीय (यूरेथ्रल) चोट

Question Number : 191 Question Id : 50964714059 Question Type : MCQ Option Shuffling : Yes Display Question Number : Yes  
Single Line Question Option : No Option Orientation : Vertical

Correct Marks : 1 Wrong Marks : 0.25

Which position is ideal for catheterization of male patients?

Options :

1. ✘ Trendelenburg position
2. ✘ Reverse Trendelenburg position
3. ✘ Fowler's position and sitting position
4. ✔ Supine position

Question Number : 191 Question Id : 50964714059 Question Type : MCQ Option Shuffling : Yes Display Question Number : Yes  
Single Line Question Option : No Option Orientation : Vertical

Correct Marks : 1 Wrong Marks : 0.25

पुरुष रोगियों के नालशलाका प्रवेशन (कैथिटराइज़ेशन) के लिए कौन सी स्थिति आदर्श है?

Options :

1. ✘ ट्रेडेलेबर्ग स्थिति
2. ✘ विपरीत ट्रेडेलेनबर्ग स्थिति
3. ✘ फाउलर स्थिति और बैठी हुई स्थिति
4. ✔ उत्तान (सुपाइन) स्थिति

Question Number : 192 Question Id : 50964714060 Question Type : MCQ Option Shuffling : Yes Display Question Number : Yes  
Single Line Question Option : No Option Orientation : Vertical

Correct Marks : 1 Wrong Marks : 0.25

Which is the most common method of transmission of pathogens?

Options :

1. ✘ Moisture droplets
2. ✔ Direct contact
3. ✘ Air currents
4. ✘ Contaminated linen or clothing

Question Number : 192 Question Id : 50964714060 Question Type : MCQ Option Shuffling : Yes Display Question Number : Yes  
Single Line Question Option : No Option Orientation : Vertical

Correct Marks : 1 Wrong Marks : 0.25

रोगजनकों (पैथोजेन्स) के संचरण की सर्वाधिक सामान्य विधि क्या है?

Options :

1. ✘ नमी की बूंदें
2. ✔ प्रत्यक्ष संपर्क
3. ✘ वायु प्रवाह
4. ✘ दूषित लिनेन या वस्त्र

Question Number : 193 Question Id : 50964714061 Question Type : MCQ Option Shuffling : Yes Display Question Number : Yes  
Single Line Question Option : No Option Orientation : Vertical

Correct Marks : 1 Wrong Marks : 0.25

Which of the following is NOT the phase of POMR (problem-oriented medical record)?

Options :

1. ✘ Formation of a database
2. ✘ Development of a current problem list
3. ✘ Identification of a specific treatment plan
4. ✔ Assessment of the operation theatre

Question Number : 193 Question Id : 50964714061 Question Type : MCQ Option Shuffling : Yes Display Question Number : Yes  
Single Line Question Option : No Option Orientation : Vertical

Correct Marks : 1 Wrong Marks : 0.25

निम्नलिखित में से क्या POMR (समस्या-उन्मुख चिकित्सा अभिलेख) का चरण नहीं है?

Options :

1. ✘ डेटाबेस का निर्माण
2. ✘ वर्तमान समस्या सूची का विकास
3. ✘ एक विशिष्ट उपचार योजना की पहचान
4. ✔ शल्य-क्रिया कक्ष (ऑपरेशन थियेटर) का आकलन

Question Number : 194 Question Id : 50964714062 Question Type : MCQ Option Shuffling : Yes Display Question Number : Yes  
Single Line Question Option : No Option Orientation : Vertical

Correct Marks : 1 Wrong Marks : 0.25

The most common type of seizure is the:

Options :

1. ✔ grand mal seizure
2. ✘ petit mal seizure
3. ✘ focal seizure
4. ✘ psychomotor seizure

Question Number : 194 Question Id : 50964714062 Question Type : MCQ Option Shuffling : Yes Display Question Number : Yes  
Single Line Question Option : No Option Orientation : Vertical

Correct Marks : 1 Wrong Marks : 0.25

दौरे (सीज़र) का सर्वाधिक सामान्य प्रकार क्या है?

Options :



1. ✓ तीव्र अपस्मार दौरा (ग्रैंड माल सीज़र)
2. ✘ मृदु अपस्मार दौरा (पेटिट माल सीज़र)
3. ✘ केंद्रिक दौरा (फ़ोकल सीज़र)
4. ✘ मनःप्रेरक दौरा (साइकोमोटर सीज़र)

Question Number : 195 Question Id : 50964714063 Question Type : MCQ Option Shuffling : Yes Display Question Number : Yes  
Single Line Question Option : No Option Orientation : Vertical

Correct Marks : 1 Wrong Marks : 0.25

Which of the following is a first-line drug in the treatment of severe anaphylactic reaction?

Options :

1. ✘ Steroids
2. ✘ Intravenous fluids and plasma
3. ✓ Epinephrine
4. ✘ Levophed

Question Number : 195 Question Id : 50964714063 Question Type : MCQ Option Shuffling : Yes Display Question Number : Yes  
Single Line Question Option : No Option Orientation : Vertical

Correct Marks : 1 Wrong Marks : 0.25

इनमें से क्या गंभीर अतिसुग्राहिता संबंधी (एनाफिलेक्टिक) प्रतिक्रिया के उपचार में प्राथमिक दवा है?

Options :

1. ✘ स्टीरॉएड्स
2. ✘ अंतःशिराभ (इंट्रावीनस) द्रव (फ़्लूइड) और प्लाज़्मा
3. ✓ एपिनेफ़्रीन
4. ✘ लेवोफ़ेड

Question Number : 196 Question Id : 50964714064 Question Type : MCQ Option Shuffling : Yes Display Question Number : Yes  
Single Line Question Option : No Option Orientation : Vertical

Correct Marks : 1 Wrong Marks : 0.25

Information about the patient and the plan of care is contained in the status notes, which is written in the following format:

Options :

1. ✓ Subjective, Objective, Assessment and Plan (SOAP)
2. ✘ Objective, Subjective, Plan and Assessment (OSPA)
3. ✘ Plan, Objective, Assessment and Subjective (POAS)
4. ✘ Objective, Subjective, Assessment and Plan (OSAP)

Question Number : 196 Question Id : 50964714064 Question Type : MCQ Option Shuffling : Yes Display Question Number : Yes  
Single Line Question Option : No Option Orientation : Vertical

Correct Marks : 1 Wrong Marks : 0.25

रोगी और उसकी देखभाल की योजना के बारे में जानकारी स्थितिगत टिप्पणियों (स्टेटस नोट्स) में होती है, जिसे निम्नलिखित में से किस प्रारूप में लिखा जाता है?

Options :

1. ✓ सब्जेक्टिव, ऑब्जेक्टिव, असेसमेंट और प्लान (SOAP)
2. ✘ ऑब्जेक्टिव, सब्जेक्टिव, प्लान और असेसमेंट (OSPA)
3. ✘ प्लान, ऑब्जेक्टिव, असेसमेंट और सब्जेक्टिव (POAS)
4. ✘ ऑब्जेक्टिव, सब्जेक्टिव, असेसमेंट और प्लान (OSAP)

Question Number : 197 Question Id : 50964714065 Question Type : MCQ Option Shuffling : Yes Display Question Number : Yes  
Single Line Question Option : No Option Orientation : Vertical

Correct Marks : 1 Wrong Marks : 0.25

Which of the following is the most commonly used in a thermal haemostatic device?

Options :

1. ✓ Electro cautery
2. ✘ Bipolar cautery
3. ✘ Lasers
4. ✘ Tourniquet

Question Number : 197 Question Id : 50964714065 Question Type : MCQ Option Shuffling : Yes Display Question Number : Yes  
Single Line Question Option : No Option Orientation : Vertical

Correct Marks : 1 Wrong Marks : 0.25



इनमें से किस को एक तापीय रक्तस्थैतिकीय उपकरण (थर्मल हीमोस्टैटिक डिवाइस) में सबसे अधिक उपयोग किया जाता है?

Options :

1. ✓ वैद्युत् स्कंदन (इलेक्ट्रो कॉटरी)
2. ✗ द्वि-ध्रुवीय स्कंदन (बाइपोलर कॉटरी)
3. ✗ लेज़र
4. ✗ रक्तबंध (Tourniquet/टर्निके)

Question Number : 198 Question Id : 50964714066 Question Type : MCQ Option Shuffling : Yes Display Question Number : Yes  
Single Line Question Option : No Option Orientation : Vertical

Correct Marks : 1 Wrong Marks : 0.25

How many elements are there in a cycle of infection?

Options :

1. ✗ 2
2. ✗ 4
3. ✓ 6
4. ✗ 8

Question Number : 198 Question Id : 50964714066 Question Type : MCQ Option Shuffling : Yes Display Question Number : Yes  
Single Line Question Option : No Option Orientation : Vertical

Correct Marks : 1 Wrong Marks : 0.25

संक्रमण के एक चक्र में कितने तत्व होते हैं?

Options :

1. ✗ 2
2. ✗ 4
3. ✓ 6
4. ✗ 8

Question Number : 199 Question Id : 50964714067 Question Type : MCQ Option Shuffling : Yes Display Question Number : Yes  
Single Line Question Option : No Option Orientation : Vertical

Correct Marks : 1 Wrong Marks : 0.25

Patients are always requested NOT to take aspirin for a week prior to surgery because:

Options :

1. ✘ of its hypoglycaemic property.
2. ✘ of its role as coagulant.
3. ✔ of its anticoagulant properties.
4. ✘ it increases the blood pressure.

Question Number : 199 Question Id : 50964714067 Question Type : MCQ Option Shuffling : Yes Display Question Number : Yes  
Single Line Question Option : No Option Orientation : Vertical

Correct Marks : 1 Wrong Marks : 0.25

रोगियों से सदैव अनुरोध किया जाता है कि वे शल्य-क्रिया (सर्जरी) से एक सप्ताह पूर्व तक एस्पिरिन न लें क्योंकि:

Options :

1. ✘ इसमें अधो-मधुरक्तता (हाइपोग्लाइकीमिक) गुण होता है।
2. ✘ यह स्कंदक (कोएगुलेंट) के रूप में भूमिका निभाता है।
3. ✔ इसमें थक्कारोधी (एंटीकोएगुलेंट) गुण पाए जाते हैं।
4. ✘ यह रक्तचाप को बढ़ाता है।

Question Number : 200 Question Id : 50964714068 Question Type : MCQ Option Shuffling : Yes Display Question Number : Yes  
Single Line Question Option : No Option Orientation : Vertical

Correct Marks : 1 Wrong Marks : 0.25

After treating a patient in protective isolation, personal protective equipment should be removed in the following order:

Options :

1. ✔ gloves, goggles, gown, mask
2. ✘ mask, gloves, goggles, gown
3. ✘ gown, mask, gloves, goggles
4. ✘ goggles, gown, mask, gloves

Question Number : 200 Question Id : 50964714068 Question Type : MCQ Option Shuffling : Yes Display Question Number : Yes  
Single Line Question Option : No Option Orientation : Vertical

Correct Marks : 1 Wrong Marks : 0.25

एक रोगी का सुरक्षात्मक पृथक्करण (आइसोलेशन) में उपचार करने के बाद, व्यक्तिगत सुरक्षात्मक उपकरण को निम्नलिखित में से किस क्रम में उतारना चाहिए?

Options :

1. ✓ दस्ताने, चश्मे, गाउन, मास्क
2. ✗ मास्क, दस्ताने, चश्मे, गाउन
3. ✗ गाउन, मास्क, दस्ताने, चश्मे
4. ✗ चश्मे, गाउन, मास्क, दस्ताने