

Education Consultant India Ltd.

Notations :

1.Options shown in green color and with ✓ icon are correct.

2.Options shown in red color and with ✖ icon are incorrect.

Question Paper Name:	FOOT CONSTABLE 18th June Shift1
Subject Name:	FOOT CONSTABLE
Creation Date:	2019-06-18 15:12:49
Duration:	120
Total Marks:	200
Display Marks:	Yes
Share Answer Key With Delivery Engine:	No
Actual Answer Key:	Yes
Calculator:	None
Magnifying Glass Required?:	No
Ruler Required?:	No
Eraser Required?:	No
Scratch Pad Required?:	No
Rough Sketch/Notepad Required?:	No
Protractor Required?:	No
Show Watermark on Console?:	Yes
Highlighter:	No
Auto Save on Console?:	No

Mental Ability1

Group Number :	1
Group Id :	99836737
Group Maximum Duration :	0
Group Minimum Duration :	0
Show Attended Group? :	No
Edit Attended Group? :	No
Break time:	0
Group Marks:	20
Is this Group for Examiner?:	No
Revisit allowed for group Instructions? :	Yes
Maximum Instruction Time:	0
Minimum Instruction Time:	0

Mental Ability1

Section Id :	99836743
Section Number :	1

Section type :	Online
Mandatory or Optional:	Mandatory
Number of Questions:	20
Number of Questions to be attempted:	20
Section Marks:	20

Sub-Section Number:	1
Sub-Section Id:	99836781
Question Shuffling Allowed :	Yes

Question Number : 1 Question Id : 9983671527 Question Type : MCQ Option Shuffling : Yes

Correct Marks : 1 Wrong Marks : 0.25

Select the option that is related to the third word in the same way as the second word is related to the first word.

Never : Always :: Up : ?

Options :

1. ✖ Drown

2. ✖ Dry

3. ✖ Dead

4. ✔ Down

Question Number : 1 Question Id : 9983671527 Question Type : MCQ Option Shuffling : Yes

Correct Marks : 1 Wrong Marks : 0.25

वह विकल्प चुनें जो तीसरे शब्द से उसी भांति संबंधित है जिस तरह से दूसरा शब्द, पहले शब्द से संबंधित है।

कभी नहीं : सदैव :: ऊपर : ?

Options :

1. ✖ डूबा

2. ✖ सूखा

3. ✘ मृत

4. ✔ नीचे

Question Number : 2 Question Id : 9983671528 Question Type : MCQ Option Shuffling : Yes

Correct Marks : 1 Wrong Marks : 0.25

Select the option that is related to the third number in the same way as the second number is related to the first number.

45 : 140 :: 70 : ?

Options :

1. ✘ 180

2. ✘ 195

3. ✔ 215

4. ✘ 305

Question Number : 2 Question Id : 9983671528 Question Type : MCQ Option Shuffling : Yes

Correct Marks : 1 Wrong Marks : 0.25

वह विकल्प चुनें जो तीसरी संख्या से उसी भांति संबंधित है जिस तरह से दूसरी संख्या, पहली संख्या से संबंधित है।

45 : 140 :: 70 : ?

Options :

1. ✘ 180

2. ✘ 195

3. ✔ 215

4. ✖ 305

Question Number : 3 Question Id : 9983671529 Question Type : MCQ Option Shuffling : Yes
Correct Marks : 1 Wrong Marks : 0.25

Select the option that is related to the three given interrelated words.

Jawaharlal Nehru, Morarji Desai, Narendra Modi

Options :

1. ✖ K R Narayanan

2. ✔ V P Singh

3. ✖ Lal Krishna Advani

4. ✖ Rahul Gandhi

Question Number : 3 Question Id : 9983671529 Question Type : MCQ Option Shuffling : Yes
Correct Marks : 1 Wrong Marks : 0.25

वह विकल्प चुनें जो तीन दिए गए परस्पर संबंधित शब्दों से संबंधित है।

जवाहरलाल नेहरू, मोरारजी देसाई, नरेंद्र मोदी

Options :

1. ✖ के आर नारायणन

2. ✔ वी पी सिंह

3. ✖ लालकृष्ण आडवाणी

4. ✖ राहुल गांधी

Question Number : 4 Question Id : 9983671530 Question Type : MCQ Option Shuffling : Yes
Correct Marks : 1 Wrong Marks : 0.25

Select the option that is related to the three given interrelated numbers.

17, 19, 23

Options :

1. ✖ 15

2. ✖ 45

3. ✔ 29

4. ✖ 36

Question Number : 4 Question Id : 9983671530 Question Type : MCQ Option Shuffling : Yes
Correct Marks : 1 Wrong Marks : 0.25

वह विकल्प चुनें जो दी गई तीन परस्पर संबंधित संख्याओं से संबंधित है।

17, 19, 23

Options :

1. ✖ 15

2. ✖ 45

3. ✔ 29

4. ✖ 36

Question Number : 5 Question Id : 9983671531 Question Type : MCQ Option Shuffling : Yes
Correct Marks : 1 Wrong Marks : 0.25

Select the option that is related to the three given interrelated words.

Lion, Buffalo, Rat

Options :

1. ✖ Hen

2. ✖ Jelly fish

3. ✖ Shark

4. ✔ Whale

Question Number : 5 Question Id : 9983671531 Question Type : MCQ Option Shuffling : Yes
Correct Marks : 1 Wrong Marks : 0.25

वह विकल्प चुनें जो तीन दिए गए परस्पर संबंधित शब्दों से संबंधित है।

शेर, भैंस, चूहा

Options :

1. ✖ मुर्गी

2. ✖ जेलीफ़िश

3. ✖ शार्क

4. ✓ व्हेल

Question Number : 6 Question Id : 9983671532 Question Type : MCQ Option Shuffling : Yes

Correct Marks : 1 Wrong Marks : 0.25

Four pairs of words are given below out of which the words in three pairs bear a certain common relationship. Choose the pair in which the words are differently related.

Options :

1. ✘ Sailor : Crew

2. ✘ Singer : Corus

3. ✘ Cattle : Herd

4. ✓ Sheep : Crowd

Question Number : 6 Question Id : 9983671532 Question Type : MCQ Option Shuffling : Yes

Correct Marks : 1 Wrong Marks : 0.25

नीचे शब्दों के चार जोड़े दिए गए हैं जिनमें से तीन जोड़ों के शब्दों में एक निश्चित साझा संबंध है। वह जोड़ा चुनें जिसमें शब्द भिन्न प्रकार से संबंधित हैं।

Options :

1. ✘ नाविक : क्रियू

2. ✘ गायक : कोरस

3. ✘ मवेशी : झुंड

4. ✓ भेड़ : भीड़

Question Number : 7 Question Id : 9983671533 Question Type : MCQ Option Shuffling : Yes

Correct Marks : 1 Wrong Marks : 0.25

Four pairs of numbers are given below out of which the numbers in three pairs bear a certain common relationship.

Choose the pair in which the numbers are differently related.

Options :

1. ✘ 3, 27

2. ✔ 8, 64

3. ✘ 5, 125

4. ✘ 6, 216

Question Number : 7 Question Id : 9983671533 Question Type : MCQ Option Shuffling : Yes

Correct Marks : 1 Wrong Marks : 0.25

नीचे संख्याओं के चार जोड़े दिए गए हैं जिनमें से तीन जोड़ों की संख्याओं में एक निश्चित साझा संबंध है। वह जोड़ा चुनें जिसमें संख्याएं भिन्न प्रकार से संबंधित हैं।

Options :

1. ✘ 3, 27

2. ✔ 8, 64

3. ✘ 5, 125

4. ✘ 6, 216

Question Number : 8 Question Id : 9983671534 Question Type : MCQ Option Shuffling : Yes

Correct Marks : 1 Wrong Marks : 0.25

In the morning, Dev was standing facing the North. He took a right turn and walked for a distance of 15 m. Then, he took a left turn and walked for a distance of 20 m. Which direction was he finally facing?

Options :

1. ✖ East

2. ✔ North

3. ✖ South

4. ✖ West

Question Number : 8 Question Id : 9983671534 Question Type : MCQ Option Shuffling : Yes

Correct Marks : 1 Wrong Marks : 0.25

सुबह के समय, देव उत्तर की ओर मुंह करके खड़ा था। वह दायीं ओर मुड़ा और 15 m की दूरी तक चला। फिर वह बाएं मुड़ा और 20 m की दूरी तक चला। अब वह किस दिशा में खड़ा है?

Options :

1. ✖ पूर्व

2. ✔ उत्तर

3. ✖ दक्षिण

4. ✖ पश्चिम

Question Number : 9 Question Id : 9983671535 Question Type : MCQ Option Shuffling : Yes

Correct Marks : 1 Wrong Marks : 0.25

Ramesh walked 28 m towards the East. Then, he turned left and walked 30 m. Then, he turned to his left and walked 20 m. Finally, he turned left and walked 45 m. How far was he from his starting point?

Options :

1. ✖ 15 m

2. ✓ 17 m

3. ✗ 22 m

4. ✗ 19 m

Question Number : 9 Question Id : 9983671535 Question Type : MCQ Option Shuffling : Yes

Correct Marks : 1 Wrong Marks : 0.25

रमेश, पूर्व की ओर 28 m चला। फिर वह बाएं मुड़ा और 30 m चला। फिर वह बाएं मुड़ा और 20 m चला। अंत में वह बाएं मुड़ा और 45 m चला। वह अपने आरंभिक स्थान से कितनी दूर था।

Options :

1. ✗ 15 m


2. ✓ 17 m

3. ✗ 22 m

4. ✗ 19 m


Question Number : 10 Question Id : 9983671536 Question Type : MCQ Option Shuffling : Yes

Correct Marks : 1 Wrong Marks : 0.25

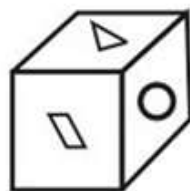
Three different positions of the same dice are shown. Find which one is opposite the face showing  ?



1





2




3

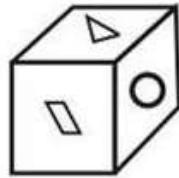


Options :




Question Number : 10 Question Id : 9983671536 Question Type : MCQ Option Shuffling : Yes

Correct Marks : 1 Wrong Marks : 0.25

एक ही पासे की तीन विभिन्न स्थितियां प्रदर्शित हैं। ज्ञात करें कि विपरीत फलक पर कौन सी आकृति है  ?



Options :





Question Number : 11 Question Id : 9983671537 Question Type : MCQ Option Shuffling : Yes

Correct Marks : 1 Wrong Marks : 0.25

Six children A, B, C, D, E and F are standing in a line. F is standing second to the right of E and immediately to the left of C. B is between D and C. Who is standing at the extreme right?

Options :

1. ✘ C

2. ✘ A

3. ✘ E

4. ✔ D

Question Number : 11 Question Id : 9983671537 Question Type : MCQ Option Shuffling : Yes

Correct Marks : 1 Wrong Marks : 0.25

छह बच्चे A, B, C, D, E और F एक पंक्ति में खड़े हैं। F, E के दाएं दूसरे स्थान पर और C के एकदम बाएं हैं। B, D और C के बीच में है। एकदम दाएं कौन खड़ा है?

Options :

1. ✘ C

2. ✘ A

3. ✖ E

4. ✔ D

Question Number : 12 Question Id : 9983671538 Question Type : MCQ Option Shuffling : Yes

Correct Marks : 1 Wrong Marks : 0.25

S, T, U, V, X, Y and Z are sitting around a round table for a group discussion. Y is sitting third to the right of Z and between S and X. Z is sitting second to the right of U. V is sitting third to the left of X. Who is sitting to the right of S?

Options :

1. ✖ T

2. ✔ U

3. ✖ V

4. ✖ X

Question Number : 12 Question Id : 9983671538 Question Type : MCQ Option Shuffling : Yes

Correct Marks : 1 Wrong Marks : 0.25

S, T, U, V, X, Y और Z एक सामूहिक चर्चा के लिए एक गोल मेज के आस-पास बैठे हैं। Y, Z के दाएं तीसरे स्थान पर और S और X के बीच में बैठा है। Z, U के दाएं दूसरे स्थान पर है। V, X के बाएं तीसरे स्थान पर है। S के दायीं ओर कौन बैठा है?

Options :

1. ✖ T

2. ✔ U

3. ✖ V

4. ✖ X

Question Number : 13 Question Id : 9983671539 Question Type : MCQ Option Shuffling : Yes
Correct Marks : 1 Wrong Marks : 0.25

- I. Sahil is Salil's brother.
- II. Shreya is Shyam's daughter and Salil's elder sister.
- III. Sahil is Shreya's brother.

If the first two statements are true, the third statement _____.

Options :

1. ✔ is true

2. ✖ is false

3. ✖ may be true

4. ✖ is undeterminable

Question Number : 13 Question Id : 9983671539 Question Type : MCQ Option Shuffling : Yes
Correct Marks : 1 Wrong Marks : 0.25

- I. साहिल, सलिल का भाई है।
- II. श्रेया, श्याम की पुत्री और सलिल की बड़ी बहन है।
- III. साहिल, श्रेया का भाई है।

यदि प्रथम दो कथन सही हों, तो तीसरा कथन _____।

Options :

1. ✔ सही है

2. ✖ गलत है

3. ✖ सही हो सकता है

4. ✖ निर्धारित नहीं किया जा सकता है

Question Number : 14 Question Id : 9983671540 Question Type : MCQ Option Shuffling : Yes

Correct Marks : 1 Wrong Marks : 0.25

A farmer has 25 buffalos. All died except 7. How many buffalos was he left with?

Options :

1. ✖ 0

2. ✔ 7

3. ✖ 18

4. ✖ 32

Question Number : 14 Question Id : 9983671540 Question Type : MCQ Option Shuffling : Yes

Correct Marks : 1 Wrong Marks : 0.25

एक किसान के पास 25 भैंसें थीं। 7 छोड़ कर सभी मर गईं। उसके पास कितनी भैंसें बचीं?

Options :

1. ✖ 0

2. ✔ 7

3. ✖ 18

4. ✖ 32

Question Number : 15 Question Id : 9983671541 Question Type : MCQ Option Shuffling : Yes

Correct Marks : 1 Wrong Marks : 0.25

A company is hiring for the post of Tech Expert. Following are the criteria that the candidate must meet.

The candidate must:

- I. be an Engineering graduate with at least 70% marks.
- II. not be less than 23 years and not more than 30 years of age on 1st July 2019.
- III. have passed the selection test with at least 60% marks.
- IV. be willing to join immediately for training.

The details of a candidate are given below. You have to read the information provided and decide his/her status based on the conditions given above.

Ravish is an IT engineer who passed his graduation with 73% marks. After getting the engineering degree he completed his MCA. He cleared the selection test with 70% marks.

He is ready to join immediately. His date of birth is 2nd October 1993.

Options :

1. ✔ The candidate is to be selected.

2. ✖ The candidate is not to be selected.

3. ✖ The candidate is to be rejected on the basis of age.

4. ✖ The candidate is to be rejected on the basis of marks obtained in the selection test.

Question Number : 15 Question Id : 9983671541 Question Type : MCQ Option Shuffling : Yes

Correct Marks : 1 Wrong Marks : 0.25

एक कंपनी, तकनीकी विशेषज्ञ के पद पर नियुक्ति कर रही है। अभ्यर्थी द्वारा अनिवार्य रूप से पूरे किए जाने वाले मापदंड नीचे दिए गए हैं।

अभ्यर्थी के लिए अनिवार्य है कि:

- I. कम से कम 70% अंकों के साथ इंजीनियरिंग स्नातक हो।
- II. 1 जुलाई 2019 को न्यूनतम आयु 23 वर्ष और अधिकतम 30 वर्ष हो।
- III. कम से कम 60% अंकों के साथ चयन परीक्षा उत्तीर्ण की हो।
- IV. प्रशिक्षण हेतु तत्काल योगदान करने का इच्छुक हो।

एक अभ्यर्थी के विवरण नीचे दिए गए हैं। आपको दी गई जानकारी पढ़नी है और उक्त शर्तों के आधार पर उसकी स्थिति निर्धारित करनी है।

रविश एक आईटी इंजीनियर है जिसने 73% अंकों के साथ स्नातक किया है। इंजीनियरिंग की डिग्री लेने के पश्चात उसने एमसीए पूरा किया। उसने 70% अंकों के साथ चयन परीक्षा उत्तीर्ण की है।

वह तत्काल योगदान करने के लिए तैयार है। उसकी जन्मतिथि 2 अक्टूबर 1993 है।

Options :

1. ✓ अभ्यर्थी का चयन हो जाएगा।
2. ✗ अभ्यर्थी का चयन नहीं होगा।
3. ✗ अभ्यर्थी को आयु के आधार पर अस्वीकृत कर दिया जाएगा।
4. ✗ अभ्यर्थी को चयन परीक्षा में प्राप्त अंकों के आधार पर अस्वीकृत कर दिया जाएगा।

Question Number : 16 Question Id : 9983671542 Question Type : MCQ Option Shuffling : Yes

Correct Marks : 1 Wrong Marks : 0.25

A reputable school wants to hire a teacher. Following are the criteria that the candidate must meet.

The applicant:

- I. must be a Social Science graduate with 75% marks.
- II. should be between 21 to 30 years as on 31st May 2019.
- III. must have a post graduate degree/three years diploma or must have completed B.Ed. with more than 65% marks.
- IV. must have a minimum of three years' experience in teaching.
- V. must be ready to join on a two-year probation.

If a candidate satisfies all the criteria except:

- but is an Arts with Mathematics graduate with minimum 72% marks and has an experience of more than 5 years and more, her/his case is to be referred to the Vice Principal.
- but has a master degree's with minimum 60% marks, her/his case is to be referred to the Principal.

Details of a candidate are given below. You have to read the information provided and decide what must be done based on the conditions given above.

Anush has a B.A. degree in Political Science with 80% marks and has completed his post graduation in History. He completed 28 years of age in 2019 and has four years' experience as a faculty member. He is ready to join for a probation period of two years.

Options :

1. ✘ His case is to be referred to the Principal.
2. ✘ His case is to be referred to the Vice Principal.
3. ✔ The candidate must be selected.
4. ✘ Information is inadequate to take a decision.

Question Number : 16 Question Id : 9983671542 Question Type : MCQ Option Shuffling : Yes
Correct Marks : 1 Wrong Marks : 0.25

एक प्रतिष्ठित स्कूल, एक शिक्षक को नियुक्त करना चाहता है। अभ्यर्थी द्वारा अनिवार्य रूप से पूरे किए जाने वाले मापदंड नीचे दिए गए हैं।

आवेदक को:

- I. 75% अंकों के साथ सामाजिक विज्ञान में स्नातक होना चाहिए।
- II. 31 मई 2019 को आयु 21 से 30 वर्ष के बीच होनी चाहिए।
- III. परास्नातक डिग्री/तीन वर्ष का डिप्लोमा होना चाहिए अथवा 65% से अधिक अंकों के साथ बी.एड. उत्तीर्ण होना चाहिए।
- IV. शिक्षण कार्य में कम से कम तीन वर्ष का अनुभव होना चाहिए।
- V. दो वर्ष की परिवीक्षा पर योगदान करने हेतु तैयार होना चाहिए।

यदि कोई अभ्यर्थी, सभी शर्तों को संतुष्ट करता है, सिवाय:

- के, लेकिन कला और गणित के साथ न्यूनतम 72% अंकों के साथ स्नातक है और 5 वर्ष या अधिक का अनुभव है, तो उसका मामला उप-प्रधानाध्यापक को संदर्भित किया जाएगा।
- के, लेकिन न्यूनतम 60% अंकों के साथ मास्टर डिग्री है, तो उसका मामला प्रधानाध्यापक को संदर्भित किया जाएगा।

एक अभ्यर्थी के विवरण नीचे दिए गए हैं। आपको दी गई जानकारी पढ़नी है और उक्त शर्तों के आधार पर की जाने वाली कार्यवाही निर्धारित करनी है।

अनुष के पास 80% अंकों के साथ राजनैतिक विज्ञान में स्नातक डिग्री है, और उसने इतिहास में परास्नातक पूरा किया है। 2019 में उसने 28 वर्ष आयु पूरी की है और फैकल्टी सदस्य के रूप में उसे चार वर्ष का अनुभव है। वह दो वर्ष की परिवीक्षा पर योगदान करने हेतु तैयार है।

Options :

1. ✘ उसका मामला प्रधानाध्यापक को संदर्भित किया जाएगा।
2. ✘ उसका मामला उप-प्रधानाध्यापक को संदर्भित किया जाएगा।
3. ✔ अभ्यर्थी का चयन कर लिया जाना चाहिए।
4. ✘ निर्णय लेने के लिए जानकारी अपर्याप्त है।

Question Number : 17 Question Id : 9983671543 Question Type : MCQ Option Shuffling : Yes
Correct Marks : 1 Wrong Marks : 0.25

The statement given below is followed by two decisions labeled I and II. You have to assume everything in the statement to be true, and then decide which of the two suggested decisions logically follows.

Statement:

Air pressure horns in vehicle are the cause of noise pollution in traffic.

Decisions:

- I. Use of air pressure horns should be banned.
- II. Normal horns should not be promoted.

Options :

1. ✓ Only I follows

2. ✘ Both I and II follow

3. ✘ Either I or II follow

4. ✘ Only II follows

Question Number : 17 Question Id : 9983671543 Question Type : MCQ Option Shuffling : Yes

Correct Marks : 1 Wrong Marks : 0.25

नीचे दिए कथन के बाद दो निष्कर्ष I और II दिए गए हैं। आपको कथन को पूरी तरह से सत्य मानते हुए, ज्ञात करना है कि सुझाए गए दोनों निष्कर्षों में से कौन तार्किक रूप से सही है।

कथन:

वाहनों में एयर प्रेशर हार्न, यातायात में ध्वनि प्रदूषण का कारण हैं।

निष्कर्ष:

- I. एयर प्रेशर हार्न का उपयोग प्रतिबंधित कर दिया जाना चाहिए।
- II. सामान्य हार्न को बढ़ावा नहीं दिया जाना चाहिए।

Options :

1. ✓ केवल I सही है।

2. ✖ I और II दोनों सही हैं।

3. ✖ I अथवा II सही है।

4. ✖ केवल II सही है।

Question Number : 18 Question Id : 9983671544 Question Type : MCQ Option Shuffling : Yes

Correct Marks : 1 Wrong Marks : 0.25

The statement given below is followed by two decisions labeled I and II. You have to assume everything in the statement to be true, and then decide which of the two suggested decisions logically follows.

Statement:

A large number of college students failed in the annual examination.

Decisions:

- I. There should be an enquiry put into place to find out the reason.
- II. Administration should inform their parents.

Options :

1. ✔ Only I follows.

2. ✖ Both I and II follow.

3. ✖ Either I or II follow.

4. ✖ Only II follow.

Question Number : 18 Question Id : 9983671544 Question Type : MCQ Option Shuffling : Yes

Correct Marks : 1 Wrong Marks : 0.25

नीचे दिए कथन के बाद दो निष्कर्ष I और II दिए गए हैं। आपको कथन को पूरी तरह से सत्य मानते हुए, ज्ञात करना है कि सुझाए गए दोनों निष्कर्षों में से कौन तार्किक रूप से सही है।

कथन:

कॉलेज के बड़ी संख्या में विद्यार्थी, वार्षिक परीक्षा में अनुत्तीर्ण हो गए।

निष्कर्ष:

- I. इसका कारण ज्ञात करने के लिए जांच की जानी चाहिए।
- II. प्रशासन द्वारा अभिभावकों को सूचित किया जाना चाहिए।

Options :

1. ✓ केवल I सही है।

2. ✗ I और II दोनों सही हैं।

3. ✗ I अथवा II सही है।

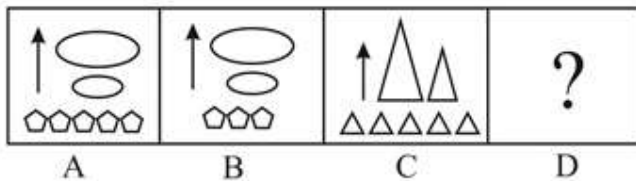
4. ✗ केवल II सही है।

Question Number : 19 Question Id : 9983671545 Question Type : MCQ Option Shuffling : Yes

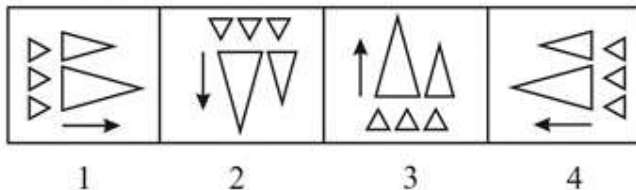
Correct Marks : 1 Wrong Marks : 0.25

Select the option that is related to the third figure in the Problem Figure in the same way as the second figure is related to the first figure.

Problem Fig.



Answer Fig.



Options :

1. ✖ 1

2. ✖ 2

3. ✔ 3

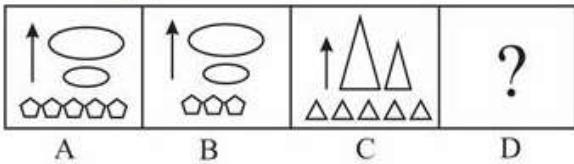
4. ✖ 4

Question Number : 19 Question Id : 9983671545 Question Type : MCQ Option Shuffling : Yes

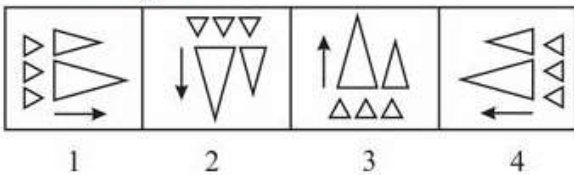
Correct Marks : 1 Wrong Marks : 0.25

प्रश्न वाले चित्र में तीसरी आकृति से उसी भांति संबंधित है जिस तरह से दूसरी आकृति, पहली आकृति से संबंधित है।

प्रश्न आकृति:



उत्तर आकृति:



Options :

1. ✖ 1

2. ✖ 2

3. ✔ 3

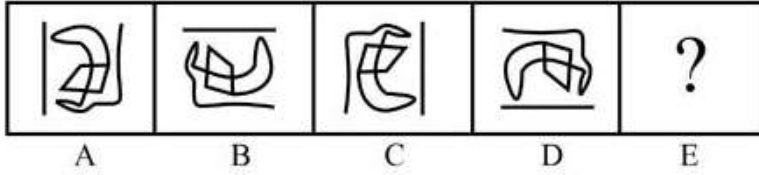
4. ✖ 4

Question Number : 20 Question Id : 9983671546 Question Type : MCQ Option Shuffling : Yes

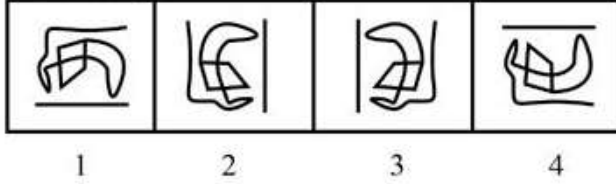
Correct Marks : 1 Wrong Marks : 0.25

Select the option from among the Answer Figures that continues the series established by the four Problem Figures.

Problem Fig.



Answer Fig.



Options :

1. ✖ 1

2. ✖ 2

3. ✔ 3

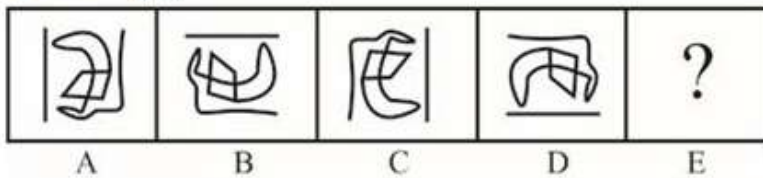
4. ✖ 4

Question Number : 20 Question Id : 9983671546 Question Type : MCQ Option Shuffling : Yes

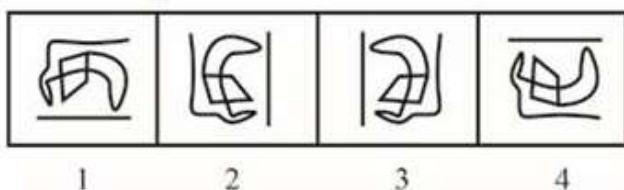
Correct Marks : 1 Wrong Marks : 0.25

उत्तर आकृतियों में से वह विकल्प चुनें जो प्रश्न में चार आकृतियों द्वारा निर्मित श्रृंखला को आगे बढ़ाता है।

प्रश्न आकृति:



उत्तर आकृति:



Options :

1. ✘ 1

2. ✘ 2

3. ✔ 3

4. ✘ 4

Mental Ability2

Group Number :	2
Group Id :	99836738
Group Maximum Duration :	0
Group Minimum Duration :	0
Show Attended Group? :	No
Edit Attended Group? :	No
Break time:	0
Group Marks:	20
Is this Group for Examiner?:	No
Revisit allowed for group Instructions? :	Yes
Maximum Instruction Time:	0
Minimum Instruction Time:	0

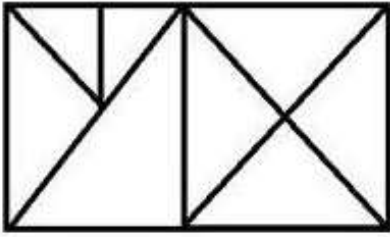
Mental Ability2

Section Id :	99836744
Section Number :	1
Section type :	Online
Mandatory or Optional:	Mandatory
Number of Questions:	20
Number of Questions to be attempted:	20
Section Marks:	20

Sub-Section Number:	1
Sub-Section Id:	99836782
Question Shuffling Allowed :	Yes

Question Number : 21 Question Id : 9983671547 Question Type : MCQ Option Shuffling : Yes
Correct Marks : 1 Wrong Marks : 0.25

How many triangles are there in the figure?



Options :

1. ✖ 13

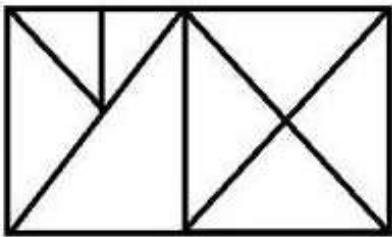
2. ✖ 14

3. ✔ 15

4. ✖ 18

Question Number : 21 Question Id : 9983671547 Question Type : MCQ Option Shuffling : Yes
Correct Marks : 1 Wrong Marks : 0.25

चित्र में कितने त्रिभुज हैं?



Options :

1. ✖ 13

2. ✖ 14

3. ✓ 15

4. ✗ 18


Question Number : 22 Question Id : 9983671548 Question Type : MCQ Option Shuffling : Yes

Correct Marks : 1 Wrong Marks : 0.25

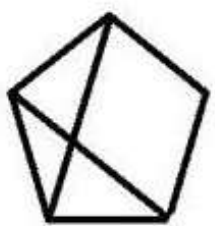
Four figures are given in the options, out of which three figures bear a certain common relationship. Choose the figure which is different from the others.

Options :


1. ✗

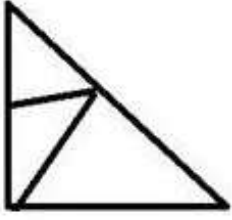


2. ✗



3. ✗






4. ✓

Question Number : 22 Question Id : 9983671548 Question Type : MCQ Option Shuffling : Yes

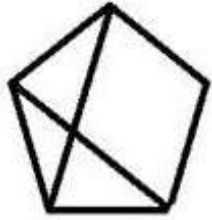
Correct Marks : 1 Wrong Marks : 0.25

विकल्पों में चार चित्र दिए गए हैं, जिनमें से तीन चित्रों में एक निश्चित साझा संबंध है। वह आकृति चुनें जो अन्य से भिन्न है।

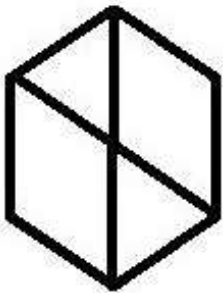
Options :



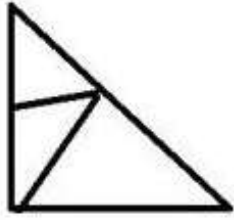
1. ✘



2. ✘



3. ✘



4. ✓

Question Number : 23 Question Id : 9983671549 Question Type : MCQ Option Shuffling : Yes

Correct Marks : 1 Wrong Marks : 0.25

Four letter clusters are given in the options, out of which three letter clusters bear a certain common relationship. Choose the option in which the letter clusters are differently related.

Options :

1. ✗ BDYW

2. ✓ HJTP

3. ✗ JLQO

4. ✗ FHUS

Question Number : 23 Question Id : 9983671549 Question Type : MCQ Option Shuffling : Yes

Correct Marks : 1 Wrong Marks : 0.25

विकल्पों में चार अक्षर समूह दिए गए हैं, जिनमें से तीन अक्षर समूहों में एक निश्चित साझा संबंध है। वह विकल्प चुनें जिसमें अक्षर समूह भिन्न प्रकार से संबंधित है।

Options :

1. ✗ BDYW

2. ✓ HJTP

3. ✗ JLQO

4. ✖ FHUS

Question Number : 24 Question Id : 9983671550 Question Type : MCQ Option Shuffling : Yes

Correct Marks : 1 Wrong Marks : 0.25

Four numbers are given in the options, out of which three numbers bear a certain common relationship. Choose the number which is different from the others.

Options :

1. ✖ 135

2. ✖ 75

3. ✔ 95

4. ✖ 195

Question Number : 24 Question Id : 9983671550 Question Type : MCQ Option Shuffling : Yes

Correct Marks : 1 Wrong Marks : 0.25

विकल्पों में चार संख्याएं दी गई हैं, जिनमें से तीन संख्याओं के बीच एक निश्चित साझा संबंध है। वह संख्या चुनें जो अन्य से भिन्न है।

Options :

1. ✖ 135

2. ✖ 75

3. ✔ 95

4. ✖ 195

Question Number : 25 Question Id : 9983671551 Question Type : MCQ Option Shuffling : Yes

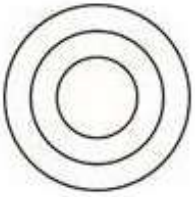
Correct Marks : 1 Wrong Marks : 0.25

Select the Venn diagram that best represents the relationship among the given set of classes.

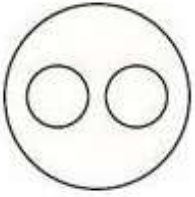
Food, Vegetables, Eggplants

Options :

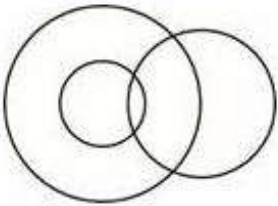
1. ✓




2. ✗



3. ✗



4. ✗



Question Number : 25 Question Id : 9983671551 Question Type : MCQ Option Shuffling : Yes

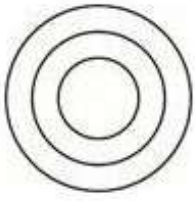
Correct Marks : 1 Wrong Marks : 0.25

वह वेन आरेख चुनें, जो वर्गों के दिए गए सेट के बीच संबंध को सर्वोत्तम निरूपित करता है।


भोजन, सब्जियां, बैंगन

Options :

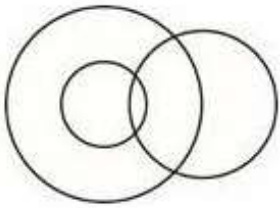
1. ✓



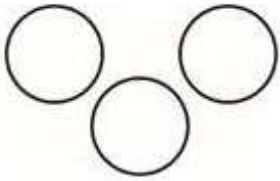
2. ✗



3. ✗



4. ✗



Question Number : 26 Question Id : 9983671552 Question Type : MCQ Option Shuffling : Yes

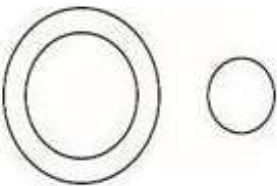
Correct Marks : 1 Wrong Marks : 0.25


Select the Venn diagram that best represents the relationship among the given set of classes.

Rats, Cats, Mammals

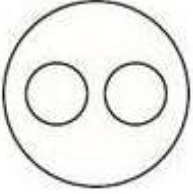
Options :

1. ✗

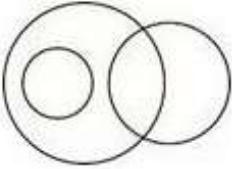




2. ✖



3. ✔



4. ✖

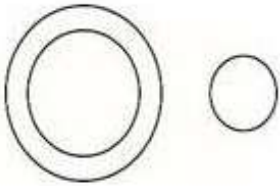
Question Number : 26 Question Id : 9983671552 Question Type : MCQ Option Shuffling : Yes

Correct Marks : 1 Wrong Marks : 0.25


वह वेन आरेख चुनें, जो वर्गों के दिए गए सेट के बीच संबंध को सर्वोत्तम निरूपित करता है।

चूहे, बिल्लियां, स्तनपायी


Options :



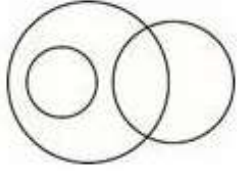
1. ✖



2. ✖



3. ✓



4. ✗

Question Number : 27 Question Id : 9983671553 Question Type : MCQ Option Shuffling : Yes

Correct Marks : 1 Wrong Marks : 0.25

Ram is Mohan's son and Ramesh's brother. Shreya is Shweta's daughter and Ram's sister. How is Shweta related to Mohan?

Options :

1. ✗ Sister

2. ✗ Daughter

3. ✗ Father

4. ✓ Wife

Question Number : 27 Question Id : 9983671553 Question Type : MCQ Option Shuffling : Yes

Correct Marks : 1 Wrong Marks : 0.25

राम, मोहन का पुत्र और रमेश का भाई है। श्रेया, श्वेता की पुत्री और राम की बहन है। श्वेता, मोहन से किस प्रकार संबंधित है?

Options :

1. ✗ बहन

2. ✖ बेटी

3. ✖ पिता

4. ✔ पत्नी

Question Number : 28 Question Id : 9983671554 Question Type : MCQ Option Shuffling : Yes
Correct Marks : 1 Wrong Marks : 0.25

Read the following information and answer the question that follows.

- 'A - B' means A is the mother of B
- 'A \$ B' means A is the sister of B
- 'A @ B' means A is the father of B
- 'A=B' means A is the son of B.

If $R = S \$ O \$ P$, then how is O related to R?

Options :

1. ✖ Daughter

2. ✖ Son

3. ✔ Aunt

4. ✖ Niece

Question Number : 28 Question Id : 9983671554 Question Type : MCQ Option Shuffling : Yes
Correct Marks : 1 Wrong Marks : 0.25

निम्नलिखित जानकारी पढ़ें और दिए गए प्रश्न का उत्तर दें:

- 'A - B' का अर्थ है कि A, B की मां है।
- 'A \$ B' का अर्थ है कि A, B की बहन है।
- 'A @ B' का अर्थ है कि A, B का पिता है।
- 'A = B' का अर्थ है कि A, B का पुत्र है।

यदि $R = S \$ O \$ P$, तो O, R से किस प्रकार संबंधित है?

Options :

1. ✘ बेटी

2. ✘ बेटा

3. ✔ चाची

4. ✘ भ्रांजी

Question Number : 29 Question Id : 9983671555 Question Type : MCQ Option Shuffling : Yes

Correct Marks : 1 Wrong Marks : 0.25

In a certain code language, EARTH is written as GCRRF. How will VENUS be written in the same code language?

Options :

1. ✘ XGNQS

2. ✘ XGNSP

3. ✔ XGNSQ

4. ✖ XGNSZ

Question Number : 29 Question Id : 9983671555 Question Type : MCQ Option Shuffling : Yes

Correct Marks : 1 Wrong Marks : 0.25

एक निश्चित कूट भाषा में, EARTH को GCRRF लिखा जाता है। उसी कूट भाषा में VENUS को किस प्रकार लिखा जाएगा?

Options :

1. ✖ XGNQS

2. ✖ XGNSP

3. ✔ XGNSQ

4. ✖ XGNSZ

Question Number : 30 Question Id : 9983671556 Question Type : MCQ Option Shuffling : Yes

Correct Marks : 1 Wrong Marks : 0.25

In a certain code language PAY is written as 42. How will EAT be written in the same code language?

Options :

1. ✖ 15

2. ✔ 26

3. ✖ 37

4. ✖ 45

Question Number : 30 Question Id : 9983671556 Question Type : MCQ Option Shuffling : Yes

Correct Marks : 1 Wrong Marks : 0.25

एक निश्चित कूट भाषा में PAY को 42 लिखा जाता है। उसी कूट भाषा में EAT को किस प्रकार लिखा जाएगा?

Options :

1. ✖ 15

2. ✔ 26

3. ✖ 37

4. ✖ 45

Question Number : 31 Question Id : 9983671557 Question Type : MCQ Option Shuffling : Yes

Correct Marks : 1 Wrong Marks : 0.25

In a certain code language INDIA is written as EJDME. Which of the following words would be coded as JAPEP?

Options :

1. ✖ DELHI

2. ✖ NEWPEL

3. ✖ BENGAL

4. ✔ NEPAL

Question Number : 31 Question Id : 9983671557 Question Type : MCQ Option Shuffling : Yes

Correct Marks : 1 Wrong Marks : 0.25

एक निश्चित कूट भाषा में INDIA को EJDME लिखा जाता है। निम्न में से किस शब्द का कूट JAPEP के रूप में लिखा जाएगा?

Options :

1. ✘ DELHI

2. ✘ NEWPEL

3. ✘ BENGAL

4. ✔ NEPAL

Question Number : 32 Question Id : 9983671558 Question Type : MCQ Option Shuffling : Yes

Correct Marks : 1 Wrong Marks : 0.25

Fourteen teams take part in a cricket tournament. Each team has to play every other team. How many games must they play?

Options :

1. ✘ 44

2. ✘ 140

3. ✘ 196

4. ✔ 91

Question Number : 32 Question Id : 9983671558 Question Type : MCQ Option Shuffling : Yes

Correct Marks : 1 Wrong Marks : 0.25

एक क्रिकेट टूर्नामेंट में चौदह टीमों ने भाग लिया। प्रत्येक टीम को प्रत्येक अन्य टीम के साथ खेलना है। उनको कितने गेम खेलने होंगे?

Options :

1. ✘ 44

2. ✖ 140

3. ✖ 196

4. ✔ 91

Question Number : 33 Question Id : 9983671559 Question Type : MCQ Option Shuffling : Yes

Correct Marks : 1 Wrong Marks : 0.25

Which of the following pairs of signs, when their positions are interchanged, will correctly solve the given mathematical equation?

$$16 + 4 - 22 \div 2 \times 5 = 58$$

Options :

1. ✖ \div and \times

2. ✖ \div and $+$

3. ✔ $+$ and \times

4. ✖ $+$ and $-$

Question Number : 33 Question Id : 9983671559 Question Type : MCQ Option Shuffling : Yes

Correct Marks : 1 Wrong Marks : 0.25

निम्न में से किस चिन्ह युग्म में, उनकी स्थितियां परस्पर परिवर्तित कर दिए जाने पर दिया गया गणितीय समीकरण सही प्रकार से हल हो जाएगा?

$$16 + 4 - 22 \div 2 \times 5 = 58$$

Options :

1. ✖ \div और \times

2. ✖ ÷ और +

3. ✔ + और ×

4. ✖ + और -

Question Number : 34 Question Id : 9983671560 Question Type : MCQ Option Shuffling : Yes

Correct Marks : 1 Wrong Marks : 0.25

Which of the following pairs of numbers and signs, when their positions are interchanged, will correctly solve the given mathematical equation?

$$6 \div 3 \times 2 + 4 - 7 = 26.5$$

Options :

1. ✖ 6 and 2, + and -

2. ✔ 3 and 6, - and ×

3. ✖ 4 and 7, × and ÷

4. ✖ 3 and 7, + and -

Question Number : 34 Question Id : 9983671560 Question Type : MCQ Option Shuffling : Yes

Correct Marks : 1 Wrong Marks : 0.25

संख्याओं और प्रतीकों का निम्न में से किस युग्म में, उनकी स्थितियां परस्पर परिवर्तित कर दिए जाने पर दिया गया गणितीय समीकरण सही प्रकार से हल हो जाएगा?

$$6 \div 3 \times 2 + 4 - 7 = 26.5$$

Options :

1. ✖ 6 और 2, + और -

2. ✓ 3 और 6, - और ×

3. ✗ 4 और 7, × और ÷


4. ✗ 3 और 7, + और -

Question Number : 35 Question Id : 9983671561 Question Type : MCQ Option Shuffling : Yes

Correct Marks : 1 Wrong Marks : 0.25

Three of the four figures marked 1, 2, 3 and 4 are similar in a certain manner. However, one figure is not like the other three. Choose the figure that is different from the rest.

Answer Fig.



Options :

1. ✗ 1

2. ✗ 2

3. ✗ 3

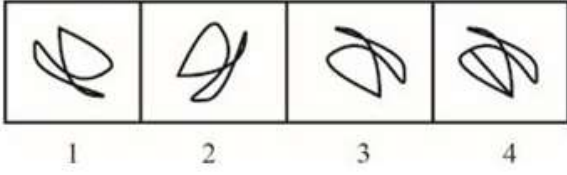
4. ✓ 4

Question Number : 35 Question Id : 9983671561 Question Type : MCQ Option Shuffling : Yes

Correct Marks : 1 Wrong Marks : 0.25

चार आकृतियों, 1, 2, 3 और 4 में से तीन, एक निश्चित प्रकार से समान हैं। हालांकि एक आकृति शेष तीन के समान नहीं है। वह आकृति चुनें जो शेष से भिन्न है।

उत्तर आकृति:



Options :

1. ✘ 1

2. ✘ 2

3. ✘ 3

4. ✔ 4

Question Number : 36 Question Id : 9983671562 Question Type : MCQ Option Shuffling : Yes

Correct Marks : 1 Wrong Marks : 0.25

Four words have been given in the options, out of which three are alike in some manner, while the fourth one is different. Pick out the odd one.

Options :

1. ✘ Square

2. ✘ Rectangle

3. ✔ Cube

4. ✘ Rhombus

Question Number : 36 Question Id : 9983671562 Question Type : MCQ Option Shuffling : Yes

Correct Marks : 1 Wrong Marks : 0.25

विकल्पों में चार शब्द दिए गए हैं, जिनमें से तीन, किसी प्रकार से समान हैं, जबकि चौथा भिन्न है। असंगत को चुनें।

Options :

1. ✖ वर्ग

2. ✖ आयत

3. ✔ घन


4. ✖ समचतुर्भुज

Question Number : 37 Question Id : 9983671563 Question Type : MCQ Option Shuffling : Yes

Correct Marks : 1 Wrong Marks : 0.25

Three of the four figures marked 1, 2, 3 and 4 are similar in a certain manner. However, one figure is not like the other three. Choose the figure that is different from the rest.

Answer Fig.



Options :

1. ✖ 2

2. ✔ 3

3. ✖ 4

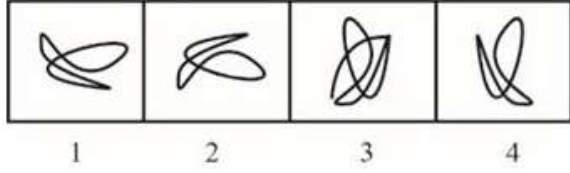
4. ✖ 1

Question Number : 37 Question Id : 9983671563 Question Type : MCQ Option Shuffling : Yes

Correct Marks : 1 Wrong Marks : 0.25

चार आकृतियों, 1, 2, 3 और 4 में से तीन, एक निश्चित प्रकार से समान हैं। हालांकि एक आकृति शेष तीन के समान नहीं है। वह आकृति चुनें जो शेष से भिन्न है।

उत्तर आकृति:



Options :

1. ✘ 2

2. ✔ 3

3. ✘ 4

4. ✘ 1

Question Number : 38 Question Id : 9983671564 Question Type : MCQ Option Shuffling : Yes

Correct Marks : 1 Wrong Marks : 0.25

Select the option that will correctly replace the question mark (?) in the given series.

BD, DF, FH, HJ, ?

Options :

1. ✘ LJ

2. ✘ IJ

3. ✘ HJ

4. ✔ JL

Question Number : 38 Question Id : 9983671564 Question Type : MCQ Option Shuffling : Yes

Correct Marks : 1 Wrong Marks : 0.25

वह विकल्प चुनें जो दी गई श्रृंखला में प्रश्न चिन्ह (?) को सही प्रतिस्थापित करेगा।

BD, DF, FH, HJ, ?

Options :

1. ✘ LJ

2. ✘ IJ

3. ✘ HJ

4. ✔ JL

Question Number : 39 Question Id : 9983671565 Question Type : MCQ Option Shuffling : Yes

Correct Marks : 1 Wrong Marks : 0.25

Select the option that will correctly replace the question mark (?) in the given series.

15, 21, 33, 51, ?

Options :

1. ✘ 64

2. ✘ 67

3. ✔ 75

4. ✘ 76

Question Number : 39 Question Id : 9983671565 Question Type : MCQ Option Shuffling : Yes

Correct Marks : 1 Wrong Marks : 0.25

वह विकल्प चुनें जो दी गई श्रृंखला में प्रश्न चिन्ह (?) को सही प्रतिस्थापित करेगा।

15, 21, 33, 51, ?

Options :

1. ✘ 64

2. ✘ 67

3. ✔ 75

4. ✘ 76

Question Number : 40 Question Id : 9983671566 Question Type : MCQ Option Shuffling : Yes

Correct Marks : 1 Wrong Marks : 0.25

Select the option that will correctly replace the question mark (?) in the given series.

12, 16, 20, 28, 36, 48, ?

Options :

1. ✘ 62

2. ✔ 60

3. ✘ 72

4. ✘ 64

Question Number : 40 Question Id : 9983671566 Question Type : MCQ Option Shuffling : Yes

Correct Marks : 1 Wrong Marks : 0.25

वह विकल्प चुनें जो दी गई श्रृंखला में प्रश्न चिन्ह (?) को सही प्रतिस्थापित करेगा।

12, 16, 20, 28, 36, 48, ?

Options :

1. ✘ 62

2. ✔ 60

3. ✘ 72

4. ✘ 64

General Awareness1

Group Number :	3
Group Id :	99836739
Group Maximum Duration :	0
Group Minimum Duration :	0
Show Attended Group? :	No
Edit Attended Group? :	No
Break time:	0
Group Marks:	20
Is this Group for Examiner?:	No
Revisit allowed for group Instructions? :	Yes
Maximum Instruction Time:	0
Minimum Instruction Time:	0

General Awareness1

Section Id :	99836745
Section Number :	1
Section type :	Online
Mandatory or Optional:	Mandatory
Number of Questions:	20
Number of Questions to be attempted:	20
Section Marks:	20

Sub-Section Number: 1
Sub-Section Id: 99836783
Question Shuffling Allowed : Yes

Question Number : 41 Question Id : 9983671567 Question Type : MCQ Option Shuffling : Yes
Correct Marks : 1 Wrong Marks : 0.25

Usage of which one of the following insecticides for decades has affected calcium metabolism in birds leading to thinning of egg shells and premature hatching of eggs and thereby causing extinction of some birds?

Options :

1. ✓ DDT
2. ✗ Aldrin
3. ✗ Dieldrin
4. ✗ Endosulfan

Question Number : 41 Question Id : 9983671567 Question Type : MCQ Option Shuffling : Yes
Correct Marks : 1 Wrong Marks : 0.25

निम्नलिखित में से किस कीटनाशक के दशकों के प्रयोग ने पक्षियों में कैल्शियम उपापचय को प्रभावित किया जिससे अंडों के खोल पतले होने और समयपूर्व अंडे फूटने के कारण कुछ पक्षी विलुप्त हो गए?

Options :

1. ✓ डीडीटी
2. ✗ एल्ड्रिन
3. ✗ डाइएल्ड्रिन
4. ✗ एंडोसल्फान

Question Number : 42 Question Id : 9983671568 Question Type : MCQ Option Shuffling : Yes
Correct Marks : 1 Wrong Marks : 0.25

Which one of the following diseases caused by water pollution affects bones and teeth?

Options :

1. ✘ Arsenicosis

2. ✔ Fluorosis

3. ✘ Trachoma

4. ✘ Schistosomiasis

Question Number : 42 Question Id : 9983671568 Question Type : MCQ Option Shuffling : Yes

Correct Marks : 1 Wrong Marks : 0.25

जल प्रदूषण से उत्पन्न निम्न में से कौन सा रोग, हड्डियों और दांतों को प्रभावित करता है?

Options :

1. ✘ आर्सेनिकोसिस

2. ✔ फ्लुओरोसिस

3. ✘ ट्राकोमा

4. ✘ शिस्टोसोमियासिस

Question Number : 43 Question Id : 9983671569 Question Type : MCQ Option Shuffling : Yes

Correct Marks : 1 Wrong Marks : 0.25

What is 'El Nino'?

Options :

1. ✘ It is a type of air pollutant

2. ✓ It is an abnormal weather pattern formed by warming of Pacific Ocean

3. ✘ It is a type of hurricane in the US

4. ✘ It is a drastic fall in pH of soil due to acid rain

Question Number : 43 Question Id : 9983671569 Question Type : MCQ Option Shuffling : Yes

Correct Marks : 1 Wrong Marks : 0.25

'अल-नीनो' क्या है?

Options :

1. ✘ यह एक प्रकार का वायु प्रदूषक है।

2. ✓ यह प्रशांत महासागर के गर्म होने से बना एक असामान्य मौसम पैटर्न है।

3. ✘ यह अमेरिका में एक प्रकार का चक्रवात है।

4. ✘ यह अम्लीय वर्षा के कारण मृदा के पीएच (pH) मान में गंभीर गिरावट है।

Question Number : 44 Question Id : 9983671570 Question Type : MCQ Option Shuffling : Yes

Correct Marks : 1 Wrong Marks : 0.25

Which one of the following air pollutants is a type of bio-aerosol?

Options :

1. ✓ Pollen

2. ✘ Sulphur dioxide

3. ✖ Hydrogen sulphide

4. ✖ Carbon monoxide

Question Number : 44 Question Id : 9983671570 Question Type : MCQ Option Shuffling : Yes

Correct Marks : 1 Wrong Marks : 0.25

निम्नलिखित में से कौन वायु प्रदूषक एक प्रकार का जैव-वतिलयन (बायो-ऐरोसॉल) है?

Options :

1. ✔ परागकण

2. ✖ सल्फर डाइऑक्साइड

3. ✖ हाइड्रोजन सल्फाइड

4. ✖ कार्बन मोनोऑक्साइड

Question Number : 45 Question Id : 9983671571 Question Type : MCQ Option Shuffling : Yes

Correct Marks : 1 Wrong Marks : 0.25

For his contribution towards saving the environment, Alfred Brownell of Liberia has been awarded _____ for the year 2019.

Options :

1. ✖ Kew International Medal

2. ✖ Champions of the Earth

3. ✔ Goldman Environmental Prize

4. ✖ Blue Planet Prize

Question Number : 45 Question Id : 9983671571 Question Type : MCQ Option Shuffling : Yes

Correct Marks : 1 Wrong Marks : 0.25

लाइबेरिया के अल्फ्रेड ब्राउनल को पर्यावरण की रक्षा में योगदान करने के लिए 2019 में _____ पुरस्कार से सम्मानित किया गया।

Options :

1. ✖ कियू अंतर्राष्ट्रीय पदक

2. ✖ चैम्पियंस ऑफ दि अर्थ

3. ✔ गोल्डमैन पर्यावरणीय पुरस्कार

4. ✖ ब्ल्यू प्लैनेट पुरस्कार

Question Number : 46 Question Id : 9983671572 Question Type : MCQ Option Shuffling : Yes

Correct Marks : 1 Wrong Marks : 0.25

Which team has won the La Liga 2019 title?

Options :

1. ✔ FC Barcelona

2. ✖ Real Madrid

3. ✖ Sevilla FC

4. ✖ Real Betis

Question Number : 46 Question Id : 9983671572 Question Type : MCQ Option Shuffling : Yes

Correct Marks : 1 Wrong Marks : 0.25

किस टीम ने ला लीगा 2019 का खिताब जीता?

Options :

1. ✓ एफसी बार्सिलोना

2. ✗ रियल मैड्रिड

3. ✗ सेविला एफसी

4. ✗ रियल बेटिस

Question Number : 47 Question Id : 9983671573 Question Type : MCQ Option Shuffling : Yes

Correct Marks : 1 Wrong Marks : 0.25

In May 2019, Vice President M Venkaiah Naidu released a postage stamp to commemorate the 750th birth anniversary of _____.

Options :

1. ✓ Sri Vedanta Desikan

2. ✗ Adi Shankara Charya

3. ✗ Krishnadeva Raya

4. ✗ Tenali Rama Krishna

Question Number : 47 Question Id : 9983671573 Question Type : MCQ Option Shuffling : Yes

Correct Marks : 1 Wrong Marks : 0.25

मई 2019 में, उपराष्ट्रपति एम वेंकैया नायडू ने _____ के 750वें जन्मदिवस के उपलक्ष्य में एक डाक टिकट जारी किया।

Options :

1. ✓ श्री वेदांत दसीकन

2. ✘ आदि शंकराचार्य

3. ✘ कृष्णदेव राय

4. ✘ तेनालीराम कृष्णा

Question Number : 48 Question Id : 9983671574 Question Type : MCQ Option Shuffling : Yes
Correct Marks : 1 Wrong Marks : 0.25

What is the name of the Indo-French joint naval exercise, the 17th edition of which was held in May 2019?

Options :

1. ✓ Varuna

2. ✘ Yamuna

3. ✘ Akash

4. ✘ Nipuna

Question Number : 48 Question Id : 9983671574 Question Type : MCQ Option Shuffling : Yes
Correct Marks : 1 Wrong Marks : 0.25

मई 2019 में आयोजित किए गए, भारत-फ्रांस संयुक्त नौसैन्य अभ्यास के 17वें संस्करण का क्या नाम है?

Options :

1. ✓ वरुण

2. ✖ यमुना

3. ✖ आकाश

4. ✖ निपुण

Question Number : 49 Question Id : 9983671575 Question Type : MCQ Option Shuffling : Yes
Correct Marks : 1 Wrong Marks : 0.25

The Anglo-Maratha Battle of Wadgaon took place in the year:

Options :

1. ✔ 1779

2. ✖ 1879

3. ✖ 1679

4. ✖ 1579

Question Number : 49 Question Id : 9983671575 Question Type : MCQ Option Shuffling : Yes
Correct Marks : 1 Wrong Marks : 0.25

वडगांव का आंग्ल-मराठा युद्ध निम्नलिखित वर्ष में हुआ:

Options :

1. ✔ 1779

2. ✖ 1879

3. ✖ 1679

4. ✖ 1579

Question Number : 50 Question Id : 9983671576 Question Type : MCQ Option Shuffling : Yes

Correct Marks : 1 Wrong Marks : 0.25

In Chhatrapati Shivaji's 'Ashta Pradhan' (Council of Eight) what role did Amatya play?

Options :

1. ✖ Incharge of religious affairs

2. ✖ Master of Ceremonies

3. ✖ Incharge of army administration

4. ✔ Accountant General

Question Number : 50 Question Id : 9983671576 Question Type : MCQ Option Shuffling : Yes

Correct Marks : 1 Wrong Marks : 0.25

छत्रपति शिवाजी की अष्टप्रधान (आठ लोगों की परिषद) में अमात्य की क्या भूमिका थी?

Options :

1. ✖ धार्मिक मामलों का प्रभारी

2. ✖ प्रमुख पुरोहित

3. ✖ सैन्य प्रशासन का प्रभारी

4. ✓ महालेखाकार

Question Number : 51 Question Id : 9983671577 Question Type : MCQ Option Shuffling : Yes

Correct Marks : 1 Wrong Marks : 0.25

Who among the following was associated with the famous 'Black Hole' tragedy of Calcutta?

Options :

1. ✓ Siraj ud-Daulah

2. ✗ Mir Qasim

3. ✗ Mir Jafar

4. ✗ Bahadur Shah

Question Number : 51 Question Id : 9983671577 Question Type : MCQ Option Shuffling : Yes

Correct Marks : 1 Wrong Marks : 0.25

निम्नलिखित में से किसका संबंध कलकत्ता की प्रसिद्ध 'ब्लैक होल' त्रासदी से था?

Options :

1. ✓ सिराज उद-दौला

2. ✗ मीर कासिम

3. ✗ मीर जाफर

4. ✗ बहादुर शाह

Question Number : 52 Question Id : 9983671578 Question Type : MCQ Option Shuffling : Yes

Correct Marks : 1 Wrong Marks : 0.25

Who among the following founded the Nirankari Movement?

Options :

1. ✖ Feroz Shah Mehta
2. ✖ Guru Ram Das
3. ✔ Baba Dayal Das
4. ✖ N D Mujumdar

Question Number : 52 Question Id : 9983671578 Question Type : MCQ Option Shuffling : Yes

Correct Marks : 1 Wrong Marks : 0.25

निम्नलिखित में से किसने निरंकारी आंदोलन की स्थापना की?

Options :

1. ✖ फ़िरोज़ शाह मेहता
2. ✖ गुरु राम दास
3. ✔ बाबा दयाल दास
4. ✖ एन डी मजूमदार

Question Number : 53 Question Id : 9983671579 Question Type : MCQ Option Shuffling : Yes

Correct Marks : 1 Wrong Marks : 0.25

What is the sanctioned strength of judges for Supreme Court of India?

Options :

1. ✖ 21

2. ✓ 31

3. ✖ 41

4. ✖ 51

Question Number : 53 Question Id : 9983671579 Question Type : MCQ Option Shuffling : Yes
Correct Marks : 1 Wrong Marks : 0.25

भारत के सर्वोच्च न्यायालय में न्यायाधीशों की स्वीकृत संख्या कितनी है?

Options :

1. ✖ 21

2. ✓ 31

3. ✖ 41

4. ✖ 51

Question Number : 54 Question Id : 9983671580 Question Type : MCQ Option Shuffling : Yes
Correct Marks : 1 Wrong Marks : 0.25

The members of Rajya Sabha are elected by _____ vote system.

Options :

1. ✖ Double transferable

2. ✖ Single non-transferable

3. ✘ Cumulative

4. ✔ Single transferable

Question Number : 54 Question Id : 9983671580 Question Type : MCQ Option Shuffling : Yes
Correct Marks : 1 Wrong Marks : 0.25

राज्य सभा के सदस्य _____ मतदान प्रणाली द्वारा निर्वाचित होते हैं।

Options :

1. ✘ दोहरी हस्तांतरणीय

2. ✘ एकल अहस्तांतरणीय

3. ✘ क्रमसंचयी

4. ✔ एकल हस्तांतरणीय

Question Number : 55 Question Id : 9983671581 Question Type : MCQ Option Shuffling : Yes
Correct Marks : 1 Wrong Marks : 0.25

Which parliament constituency in India is the largest in terms of number of electors?

Options :

1. ✘ Kishanganj, Bihar

2. ✘ Varanasi, Uttar Pradesh

3. ✔ Malkajgiri, Telangana

4. ✖ Vellore, Tamil Nadu

Question Number : 55 Question Id : 9983671581 Question Type : MCQ Option Shuffling : Yes

Correct Marks : 1 Wrong Marks : 0.25

निर्वाचकों की संख्या के आधार पर, भारत में कौन सा संसदीय क्षेत्र सबसे बड़ा है?

Options :

1. ✖ किशनगंज, बिहार

2. ✖ वाराणसी, उत्तर प्रदेश

3. ✔ मल्काजगिरी, तेलंगाना

4. ✖ वेल्लोर, तमिलनाडु

Question Number : 56 Question Id : 9983671582 Question Type : MCQ Option Shuffling : Yes

Correct Marks : 1 Wrong Marks : 0.25

According to which article of the Constitution of India shall the state take steps to organise village panchayats?

Options :

1. ✖ Article 34

2. ✖ Article 24

3. ✔ Article 40

4. ✖ Article 30

Question Number : 56 Question Id : 9983671582 Question Type : MCQ Option Shuffling : Yes

Correct Marks : 1 Wrong Marks : 0.25

भारतीय संविधान के किस अनुच्छेद के अनुसार राज्यों को ग्राम पंचायतों के गठन हेतु कदम उठाने चाहिए?

Options :

1. ✘ अनुच्छेद 34

2. ✘ अनुच्छेद 24

3. ✔ अनुच्छेद 40

4. ✘ अनुच्छेद 30

Question Number : 57 Question Id : 9983671583 Question Type : MCQ Option Shuffling : Yes

Correct Marks : 1 Wrong Marks : 0.25

In the process of framing the Constitution of India, several committees were appointed by the constituent assembly. Who was the chairman of the 'Order of Business' committee?

Options :

1. ✘ G V Mavalankar

2. ✔ K M Munshi

3. ✘ Gopinath Bardoloi

4. ✘ A V Thakkar

Question Number : 57 Question Id : 9983671583 Question Type : MCQ Option Shuffling : Yes

Correct Marks : 1 Wrong Marks : 0.25

भारतीय संविधान की रूपरेखा तैयार करने की प्रक्रिया में, संविधान सभा द्वारा अनेक समितियां नियुक्त की गई थीं। 'कार्य संचालन' समिति का अध्यक्ष कौन था?

Options :

1. ✘ जी वी मावलंकर

2. ✔ के एम मुंशी

3. ✘ गोपीनाथ बारदोलोई

4. ✘ ए वी ठक्कर

Question Number : 58 Question Id : 9983671584 Question Type : MCQ Option Shuffling : Yes
Correct Marks : 1 Wrong Marks : 0.25

The feature 'Concurrent List' in the Constitution of India is derived from the constitution of:

Options :

1. ✘ France

2. ✘ Ireland

3. ✔ Australia

4. ✘ USA

Question Number : 58 Question Id : 9983671584 Question Type : MCQ Option Shuffling : Yes
Correct Marks : 1 Wrong Marks : 0.25

भारतीय संविधान में 'समवर्ती सूची' को निम्न में संविधान से लिया गया है:

Options :

1. ✘ फ्रांस

2. ✖ आयरलैंड

3. ✔ ऑस्ट्रेलिया

4. ✖ यूएसए

Question Number : 59 Question Id : 9983671585 Question Type : MCQ Option Shuffling : Yes
Correct Marks : 1 Wrong Marks : 0.25

With which sport is Wanamaker Trophy associated?

Options :

1. ✔ Golf

2. ✖ Squash

3. ✖ Badminton

4. ✖ Table Tennis

Question Number : 59 Question Id : 9983671585 Question Type : MCQ Option Shuffling : Yes
Correct Marks : 1 Wrong Marks : 0.25

वानमेकर ट्रॉफी किस खेल से संबंधित है?

Options :

1. ✔ गोल्फ

2. ✖ स्क्वैश

3. ✖ बैडमिंटन

4. ✖ टेबल टेनिस

Question Number : 60 Question Id : 9983671586 Question Type : MCQ Option Shuffling : Yes

Correct Marks : 1 Wrong Marks : 0.25

Who won the 'Player of the Tournament' title in the 1999 World Cup cricket (ODI) championship?

Options :

1. ✖ Sanath Jayasuriya

2. ✖ Sachin Tendulkar

3. ✔ Lance Klusener

4. ✖ Glenn McGrath

Question Number : 60 Question Id : 9983671586 Question Type : MCQ Option Shuffling : Yes

Correct Marks : 1 Wrong Marks : 0.25

1999 विश्व कप क्रिकेट (ओडीआई) चैम्पियनशिप में 'प्लेयर ऑफ दि टूर्नामेंट' का खिताब किसने जीता?

Options :

1. ✖ सनथ जयसूर्या

2. ✖ सचिन तेंदुलकर

3. ✔ लांस क्लूज़नर

4. ✖ गलेन मैक्ग्राथ

General Awareness2

Group Number :	4
Group Id :	99836740
Group Maximum Duration :	0
Group Minimum Duration :	0
Show Attended Group? :	No
Edit Attended Group? :	No
Break time:	0
Group Marks:	20
Is this Group for Examiner?:	No
Revisit allowed for group Instructions? :	Yes
Maximum Instruction Time:	0
Minimum Instruction Time:	0

General Awareness2

Section Id :	99836746
Section Number :	1
Section type :	Online
Mandatory or Optional:	Mandatory
Number of Questions:	20
Number of Questions to be attempted:	20
Section Marks:	20

Sub-Section Number:	1
Sub-Section Id:	99836784
Question Shuffling Allowed :	Yes

Question Number : 61 Question Id : 9983671587 Question Type : MCQ Option Shuffling : Yes
Correct Marks : 1 Wrong Marks : 0.25

‘Pato’ is the national sport of which one of the following countries?

Options :

1. ✖ Finland

2. ✖ Cuba

3. ✓ Argentina

4. ✘ Mongolia

Question Number : 61 Question Id : 9983671587 Question Type : MCQ Option Shuffling : Yes
Correct Marks : 1 Wrong Marks : 0.25

'पाटो' निम्न में से किस देश का राष्ट्रीय खेल है?

Options :

1. ✘ फिनलैंड

2. ✘ क्यूबा

3. ✓ अर्जेंटीना

4. ✘ मंगोलिया

Question Number : 62 Question Id : 9983671588 Question Type : MCQ Option Shuffling : Yes
Correct Marks : 1 Wrong Marks : 0.25

The ritual dance 'Theyyam' is popular in the state of _____.

Options :

1. ✘ Karnataka

2. ✓ Kerala

3. ✘ Tamil Nadu

4. ✘ Andhra Pradesh

Question Number : 62 Question Id : 9983671588 Question Type : MCQ Option Shuffling : Yes

Correct Marks : 1 Wrong Marks : 0.25

पौराणिक नृत्य 'थेय्यम' _____ राज्य में लोकप्रिय है।

Options :

1. ✘ कर्नाटक
2. ✔ केरल
3. ✘ तमिलनाडु
4. ✘ आंध्र प्रदेश

Question Number : 63 Question Id : 9983671589 Question Type : MCQ Option Shuffling : Yes

Correct Marks : 1 Wrong Marks : 0.25

The carnatic raga 'Hindolam' is equivalent to which raga of Hindustani music?

Options :

1. ✔ Malkauns
2. ✘ Khamaj
3. ✘ Mand
4. ✘ Madhuvanti

Question Number : 63 Question Id : 9983671589 Question Type : MCQ Option Shuffling : Yes

Correct Marks : 1 Wrong Marks : 0.25

कर्नाटक राग 'हिंडोलम' हिंदुस्तानी संगीत के किस राग के समकक्ष है?

Options :

1. ✓ मालकौंस

2. ✘ खमज

3. ✘ मंद

4. ✘ मधुवंती

Question Number : 64 Question Id : 9983671590 Question Type : MCQ Option Shuffling : Yes
Correct Marks : 1 Wrong Marks : 0.25

How many classical dance forms of India are recognised by Sangeet Natak Akademi?

Options :

1. ✘ 12

2. ✓ 8

3. ✘ 15

4. ✘ 5

Question Number : 64 Question Id : 9983671590 Question Type : MCQ Option Shuffling : Yes
Correct Marks : 1 Wrong Marks : 0.25

संगीत नाटक अकादमी द्वारा भारत के कितने शास्त्रीय नृत्य स्वरूपों को मान्यता दी गई है?

Options :

1. ✘ 12

2. ✓ 8

3. ✘ 15

4. ✘ 5

Question Number : 65 Question Id : 9983671591 Question Type : MCQ Option Shuffling : Yes

Correct Marks : 1 Wrong Marks : 0.25

Which of the following countries is the most linguistically diverse country in the world?

Options :

1. ✓ Papua New Guinea

2. ✘ Comoros

3. ✘ India

4. ✘ Finland

Question Number : 65 Question Id : 9983671591 Question Type : MCQ Option Shuffling : Yes

Correct Marks : 1 Wrong Marks : 0.25

निम्न में से कौन सा देश, विश्व में सर्वाधिक भाषाई विविधता वाला देश है?

Options :

1. ✓ पापुआ न्यू गिनी

2. ✘ कोमोरोस

3. ✖ भारत

4. ✖ फिनलैंड

Question Number : 66 Question Id : 9983671592 Question Type : MCQ Option Shuffling : Yes
Correct Marks : 1 Wrong Marks : 0.25

Jejepla, Nathula, Zojila and Patkai are the names of:

Options :

1. ✔ passes in Himalayas

2. ✖ rivers flowing in Himalayas

3. ✖ medicinal plants in Himalayas

4. ✖ active volcanoes in Himalayas

Question Number : 66 Question Id : 9983671592 Question Type : MCQ Option Shuffling : Yes
Correct Marks : 1 Wrong Marks : 0.25

जेलेपला, नाथूला, ज़ोजीला और पटकई निम्नलिखित में से किसके नाम हैं?

Options :

1. ✔ हिमालय में दर्रे

2. ✖ हिमालय में प्रवाहित नदियां

3. ✖ हिमालय में औषधीय पौधे

4. ✖ हिमालय में सक्रिय ज्वालामुखी

Question Number : 67 Question Id : 9983671593 Question Type : MCQ Option Shuffling : Yes

Correct Marks : 1 Wrong Marks : 0.25

In September 2016, _____ was the first island in India to be made into a district.

Options :

1. ✖ Bhavani Island, Andhra Pradesh

2. ✖ Srirangam, Tamil Nadu

3. ✔ Majuli, Assam

4. ✖ Srirangapatna, Karnataka

Question Number : 67 Question Id : 9983671593 Question Type : MCQ Option Shuffling : Yes

Correct Marks : 1 Wrong Marks : 0.25

सितम्बर 2016 में, _____ जिला बनने वाला भारत का प्रथम द्वीप था।

Options :

1. ✖ भवानी द्वीप, आंध्र प्रदेश

2. ✖ श्रीरंगम, तमिलनाडु

3. ✔ माजुली, असम

4. ✖ श्रीरंगपटना, कर्नाटक

Question Number : 68 Question Id : 9983671594 Question Type : MCQ Option Shuffling : Yes

Correct Marks : 1 Wrong Marks : 0.25

The Planning Commission was set up according to the directive principles laid out in _____ of the Constitution of India.

Options :

1. ✓ Article 39

2. ✘ Article 43

3. ✘ Article 36

4. ✘ Article 40

Question Number : 68 Question Id : 9983671594 Question Type : MCQ Option Shuffling : Yes

Correct Marks : 1 Wrong Marks : 0.25

भारतीय संविधान के _____ में निर्धारित निर्देशक सिद्धांतों के अनुरूप, योजना आयोग की स्थापना की गई।

Options :

1. ✓ अनुच्छेद 39

2. ✘ अनुच्छेद 43

3. ✘ अनुच्छेद 36

4. ✘ अनुच्छेद 40

Question Number : 69 Question Id : 9983671595 Question Type : MCQ Option Shuffling : Yes

Correct Marks : 1 Wrong Marks : 0.25

The maximum foreign exchange of India is spent on import of:

Options :

1. ✘ electronics
2. ✘ iron and steel
3. ✘ food grains
4. ✔ petroleum products

Question Number : 69 Question Id : 9983671595 Question Type : MCQ Option Shuffling : Yes

Correct Marks : 1 Wrong Marks : 0.25

भारत की अधिकतम विदेशी मुद्रा, निम्नलिखित में से किसके आयात पर व्यय होती है:

Options :

1. ✘ इलेक्ट्रॉनिक्स
2. ✘ लोहा और इस्पात
3. ✘ खाद्यान्न
4. ✔ पेट्रोलियम उत्पाद

Question Number : 70 Question Id : 9983671596 Question Type : MCQ Option Shuffling : Yes

Correct Marks : 1 Wrong Marks : 0.25

In which year was Bombay Stock Exchange (BSE) established?

Options :

1. ✔ 1875

2. ✖ 1975

3. ✖ 1953

4. ✖ 1959

Question Number : 70 Question Id : 9983671596 Question Type : MCQ Option Shuffling : Yes
Correct Marks : 1 Wrong Marks : 0.25

बम्बई शेयर बाज़ार (बीएसई) किस वर्ष स्थापित हुआ?

Options :

1. ✔ 1875

2. ✖ 1975

3. ✖ 1953

4. ✖ 1959

Question Number : 71 Question Id : 9983671597 Question Type : MCQ Option Shuffling : Yes
Correct Marks : 1 Wrong Marks : 0.25

Deficiency of which hormone in the human body causes 'Cretinism'?

Options :

1. ✖ Adrenaline

2. ✖ Oxytocin

3. ✓ Thyroxine

4. ✘ Progesterone

Question Number : 71 Question Id : 9983671597 Question Type : MCQ Option Shuffling : Yes
Correct Marks : 1 Wrong Marks : 0.25

मानव शरीर में किस हार्मोन की कमी, 'क्रेटिनिज्म' उत्पन्न करती है?

Options :

1. ✘ एड्रिनलीन

2. ✘ ऑक्सिटोसिन

3. ✓ थायरॉक्सिन

4. ✘ प्रोजेस्टेरोन

Question Number : 72 Question Id : 9983671598 Question Type : MCQ Option Shuffling : Yes
Correct Marks : 1 Wrong Marks : 0.25

दो प्रकार की वैक्सीन होती हैं, किल्ड वैक्सीन और लाइव वैक्सीन। निम्न में से कौनसी, लाइव वैक्सीन नहीं है?

Options :

1. ✘ पोलियो वैक्सीन

2. ✘ पीले बुखार की वैक्सीन

3. ✘ तपेदिक की वैक्सीन

4. ✓ रैबीज की वैक्सीन

Question Number : 72 Question Id : 9983671598 Question Type : MCQ Option Shuffling : Yes

Correct Marks : 1 Wrong Marks : 0.25

There are two types of vaccines, killed vaccines and live vaccines. Which one of the following is NOT a live vaccine?

Options :

1. ✘ Polio vaccine

2. ✘ Yellow fever vaccine

3. ✘ Tuberculosis vaccine

4. ✓ Rabies vaccine

Question Number : 73 Question Id : 9983671599 Question Type : MCQ Option Shuffling : Yes

Correct Marks : 1 Wrong Marks : 0.25

Lucimeter is used for measuring _____.

Options :

1. ✓ intensity of light

2. ✘ specific gravity

3. ✘ degree of rusting

4. ✘ degree of acid rain

Question Number : 73 Question Id : 9983671599 Question Type : MCQ Option Shuffling : Yes

Correct Marks : 1 Wrong Marks : 0.25

लूसीमीटर का _____ मापने के लिए प्रयोग किया जाता है।

Options :

1. ✓ प्रकाश की तीव्रता
2. ✘ विशिष्ट गुरुत्व
3. ✘ जंग लगने की कोटि
4. ✘ अम्ल वर्षा की कोटि

Question Number : 74 Question Id : 9983671600 Question Type : MCQ Option Shuffling : Yes
Correct Marks : 1 Wrong Marks : 0.25

Which one of the following acids is known as 'Muriatic Acid'?

Options :

1. ✘ Sulphuric acid
2. ✓ Hydrochloric acid
3. ✘ Acetic acid
4. ✘ Nitric acid

Question Number : 74 Question Id : 9983671600 Question Type : MCQ Option Shuffling : Yes
Correct Marks : 1 Wrong Marks : 0.25

निम्न में से कौन सा अम्ल, 'म्यूरिएटिक एसिड' कहलाता है?

Options :

1. ✘ सल्फ्यूरिक अम्ल

2. ✓ हाइड्रोक्लोरिक अम्ल

3. ✗ ऐसिटिक अम्ल

4. ✗ नाइट्रिक अम्ल

Question Number : 75 Question Id : 9983671601 Question Type : MCQ Option Shuffling : Yes

Correct Marks : 1 Wrong Marks : 0.25

Which Indian astrophysicist developed the 'Saha equation' that explains chemical and physical conditions in stars?

Options :

1. ✗ Subrahmanyan Chandrasekhar

2. ✓ Meghnad

3. ✗ Birbal Sahani

4. ✗ P C Mahalanobis

Question Number : 75 Question Id : 9983671601 Question Type : MCQ Option Shuffling : Yes

Correct Marks : 1 Wrong Marks : 0.25

किस भारतीय खगोल भौतिकविद् ने 'साहा समीकरण' प्रतिपादित किया, जो तारों में रासायनिक और भौतिक दशाओं की व्याख्या करता है?

Options :

1. ✗ सुब्रह्मण्यन चंद्रशेखर

2. ✓ मेघनाद

3. ✖ बीरबल साहनी

4. ✖ पी सी महालबोनिस

Question Number : 76 Question Id : 9983671602 Question Type : MCQ Option Shuffling : Yes
Correct Marks : 1 Wrong Marks : 0.25

Vijay Pandurang Bhatkar is popularly known as:

Options :

1. ✔ Father of Indian supercomputers

2. ✖ Father of Indian medical research

3. ✖ Father of Indian surgery

4. ✖ Father of Aeronautical Engineering

Question Number : 76 Question Id : 9983671602 Question Type : MCQ Option Shuffling : Yes
Correct Marks : 1 Wrong Marks : 0.25

विजय पांडुरंग भटकर, किस रूप में लोकप्रिय हैं:

Options :

1. ✔ भारतीय सुपरकम्प्यूटर्स के जनक

2. ✖ भारतीय चिकित्सा अनुसंधान के जनक

3. ✖ भारतीय शल्य चिकित्सा के जनक

4. ✖ विमानन अभियांत्रिकी के जनक

Question Number : 77 Question Id : 9983671603 Question Type : MCQ Option Shuffling : Yes
Correct Marks : 1 Wrong Marks : 0.25

Which one of the following is India's first operational remote sensing satellite?

Options :

1. ✔ IRS-1A

2. ✖ INSAT-1A

3. ✖ GSAT-1

4. ✖ PSLV-D3

Question Number : 77 Question Id : 9983671603 Question Type : MCQ Option Shuffling : Yes
Correct Marks : 1 Wrong Marks : 0.25

निम्न में से कौन, भारत का प्रथम संचालित सुदूर संवेदन उपग्रह है?

Options :

1. ✔ IRS-1A

2. ✖ INSAT-1A

3. ✖ GSAT-1

4. ✖ PSLV-D3

Question Number : 78 Question Id : 9983671604 Question Type : MCQ Option Shuffling : Yes
Correct Marks : 1 Wrong Marks : 0.25

Where is the headquarters of International Monetary Fund located?

Options :

1. ✓ Washington D.C., US
2. ✘ Geneva, Switzerland
3. ✘ Vienna, Austria
4. ✘ Jakarta, Indonesia

Question Number : 78 Question Id : 9983671604 Question Type : MCQ Option Shuffling : Yes

Correct Marks : 1 Wrong Marks : 0.25

अंतर्राष्ट्रीय मुद्रा कोष का मुख्यालय कहाँ स्थित है?

Options :

1. ✓ वाशिंगटन डी.सी., यू.एस.
2. ✘ जिनेवा, स्विट्जरलैंड
3. ✘ वियना, ऑस्ट्रिया
4. ✘ जकार्ता, इंडोनेशिया

Question Number : 79 Question Id : 9983671605 Question Type : MCQ Option Shuffling : Yes

Correct Marks : 1 Wrong Marks : 0.25

Who was the prime minister of India when South Asian Association for Regional Cooperation (SAARC) was established?

Options :

1. ✘ P V Narasimha Rao

2. ✖ I K Gujral

3. ✖ H D Deve Gowda

4. ✔ Rajiv Gandhi

Question Number : 79 Question Id : 9983671605 Question Type : MCQ Option Shuffling : Yes

Correct Marks : 1 Wrong Marks : 0.25

दक्षिण एशियाई क्षेत्रीय सहयोग संगठन (SAARC) की स्थापना के समय भारत का प्रधानमंत्री कौन था?

Options :

1. ✖ पी.वी. नरसिंह राव

2. ✖ आई के गुजराल

3. ✖ एच डी देवगौड़ा

4. ✔ राजीव गांधी

Question Number : 80 Question Id : 9983671606 Question Type : MCQ Option Shuffling : Yes

Correct Marks : 1 Wrong Marks : 0.25

C-DAC develops super computers in India. The full form of C-DAC is:

Options :

1. ✔ Centre for Development of Advanced Computing

2. ✖ Centre for Development of Augmented Computing

3. ✖ Centre for Digital Augmented Computing

4. ✖ Centre for Development of Allied Computers

Question Number : 80 Question Id : 9983671606 Question Type : MCQ Option Shuffling : Yes
Correct Marks : 1 Wrong Marks : 0.25

सी-डैक, भारत में सुपर कम्प्यूटर विकसित करता है। सी-डैक का पूरा नाम है:

Options :

1. ✔ प्रगत संगणन विकास केंद्र

2. ✖ संवर्धित संगणन विकास केंद्र

3. ✖ डिजिटल संवर्धित संगणन केंद्र

4. ✖ सहायक संगणक विकास केंद्र

Arithmetic Ability1

Group Number :	5
Group Id :	99836741
Group Maximum Duration :	0
Group Minimum Duration :	0
Show Attended Group? :	No
Edit Attended Group? :	No
Break time:	0
Group Marks:	20
Is this Group for Examiner? :	No
Revisit allowed for group Instructions? :	Yes
Maximum Instruction Time:	0
Minimum Instruction Time:	0

Arithmetic Ability1

Section Id :	99836747
Section Number :	1
Section type :	Online
Mandatory or Optional:	Mandatory
Number of Questions:	20
Number of Questions to be attempted:	20
Section Marks:	20

Sub-Section Number:	1
Sub-Section Id:	99836785
Question Shuffling Allowed :	Yes

Question Number : 81 Question Id : 9983671607 Question Type : MCQ Option Shuffling : Yes
Correct Marks : 1 Wrong Marks : 0.25

What should come in the place of question mark in the following number series?

30, 34, 43, 59, 84, 120, ?

Options :

1. ✓ 169

2. ✗ 135

3. ✗ 185

4. ✗ 145

Question Number : 81 Question Id : 9983671607 Question Type : MCQ Option Shuffling : Yes
Correct Marks : 1 Wrong Marks : 0.25

नीचे दी गई श्रृंखला में प्रश्न चिह्न (?) के स्थान पर निम्नलिखित में से कौन सा विकल्प आएगा?

30, 34, 43, 59, 84, 120, ?

Options :

1. ✓ 169

2. ✖ 135

3. ✖ 185

4. ✖ 145

Question Number : 82 Question Id : 9983671608 Question Type : MCQ Option Shuffling : Yes
Correct Marks : 1 Wrong Marks : 0.25

Find the value of: $\sqrt{128 + \sqrt{260 - \sqrt{16}}}$

Options :

1. ✖ $\sqrt{136}$

2. ✔ $\sqrt{144}$

3. ✖ $\sqrt{152}$

4. ✖ $\sqrt{178}$

Question Number : 82 Question Id : 9983671608 Question Type : MCQ Option Shuffling : Yes
Correct Marks : 1 Wrong Marks : 0.25

$\sqrt{128 + \sqrt{260 - \sqrt{16}}}$ का मान कितना होगा?

Options :

1. ✖ $\sqrt{136}$

2. ✔ $\sqrt{144}$

3. ✖ $\sqrt{152}$

4. ✖ $\sqrt{178}$

Question Number : 83 Question Id : 9983671609 Question Type : MCQ Option Shuffling : Yes
Correct Marks : 1 Wrong Marks : 0.25

Simplify: $\left(\frac{81}{16}\right)^{\frac{-3}{4}} \times \left[\left(\frac{25}{9}\right)^{\frac{-3}{2}} \div \left(\frac{5}{2}\right)^{-3}\right]$

Options :

1. ✖ 3

2. ✖ 2

3. ✔ 1

4. ✖ 8

Question Number : 83 Question Id : 9983671609 Question Type : MCQ Option Shuffling : Yes
Correct Marks : 1 Wrong Marks : 0.25

$\left(\frac{81}{16}\right)^{\frac{-3}{4}} \times \left[\left(\frac{25}{9}\right)^{\frac{-3}{2}} \div \left(\frac{5}{2}\right)^{-3}\right]$ को हल करें।

Options :

1. ✖ 3

2. ✖ 2

3. ✓ 1

4. ✗ 8

Question Number : 84 Question Id : 9983671610 Question Type : MCQ Option Shuffling : Yes
Correct Marks : 1 Wrong Marks : 0.25

Solve: $6 \times 0.6 \times 0.06 \times 0.006 \times 60 = ?$

Options :

1. ✓ 0.07776

2. ✗ 7.7760

3. ✗ 0.007776

4. ✗ 0.7776

Question Number : 84 Question Id : 9983671610 Question Type : MCQ Option Shuffling : Yes
Correct Marks : 1 Wrong Marks : 0.25

$6 \times 0.6 \times 0.06 \times 0.006 \times 60 = ?$ को हल करें।

Options :

1. ✓ 0.07776

2. ✗ 7.7760

3. ✗ 0.007776

4. ✖ 0.7776

Question Number : 85 Question Id : 9983671611 Question Type : MCQ Option Shuffling : Yes
Correct Marks : 1 Wrong Marks : 0.25

If $\frac{x}{y} = 0.3$, then find the value of $\frac{2x-y}{2x+y}$.

Options :

1. ✖ 0.75

2. ✔ 0.25

3. ✖ 0.35

4. ✖ 0.45

Question Number : 85 Question Id : 9983671611 Question Type : MCQ Option Shuffling : Yes
Correct Marks : 1 Wrong Marks : 0.25

अगर $\frac{x}{y} = 0.3$ हो, तो $\frac{2x-y}{2x+y}$ का मान कितना होगा?

Options :

1. ✖ 0.75

2. ✔ 0.25

3. ✖ 0.35

4. ✖ 0.45

Question Number : 86 Question Id : 9983671612 Question Type : MCQ Option Shuffling : Yes

Correct Marks : 1 Wrong Marks : 0.25

Find: $\frac{\left(\frac{3}{7}\right)^3 - \left(\frac{1}{7}\right)^3}{\left(\frac{3}{7}\right)^2 - \left(\frac{1}{7}\right)^2}$

Options :

1. ✖ $\frac{16}{34}$

2. ✖ $\frac{15}{36}$

3. ✖ $\frac{11}{42}$

4. ✔ $\frac{13}{28}$

Question Number : 86 Question Id : 9983671612 Question Type : MCQ Option Shuffling : Yes

Correct Marks : 1 Wrong Marks : 0.25

$\frac{\left(\frac{3}{7}\right)^3 - \left(\frac{1}{7}\right)^3}{\left(\frac{3}{7}\right)^2 - \left(\frac{1}{7}\right)^2}$ का मान कितना होगा?

Options :

1. ✖ $\frac{16}{34}$

2. ✖ $\frac{15}{36}$

3. ✖ $\frac{11}{42}$

13

28

4. ✓

Question Number : 87 Question Id : 9983671613 Question Type : MCQ Option Shuffling : Yes

Correct Marks : 1 Wrong Marks : 0.25

Find the ratio of the LCM and HCF of the numbers 28 and 42.

Options :

1. ✓ 6 : 1

2. ✗ 5 : 4

3. ✗ 2 : 3

4. ✗ 4 : 9

Question Number : 87 Question Id : 9983671613 Question Type : MCQ Option Shuffling : Yes

Correct Marks : 1 Wrong Marks : 0.25

संख्या 28 और 42 के लघुत्तम समापवर्तक और महत्तम समपवर्तक का अनुपात क्या होगा?

Options :

1. ✓ 6 : 1

2. ✗ 5 : 4

3. ✗ 2 : 3

4. ✗ 4 : 9

Question Number : 88 Question Id : 9983671614 Question Type : MCQ Option Shuffling : Yes

Correct Marks : 1 Wrong Marks : 0.25

The LCM and HCF of two numbers is 630 and 9 respectively. If the sum of the numbers is 153 then their difference is _____.

Options :

1. ✖ 23

2. ✖ 33

3. ✖ 17

4. ✔ 27

Question Number : 88 Question Id : 9983671614 Question Type : MCQ Option Shuffling : Yes

Correct Marks : 1 Wrong Marks : 0.25

दो संख्याओं का लघुत्तम समापवर्तक और महत्तम समपवर्तक क्रमशः 630 और 9 है। यदि संख्याओं का योग 153 है तो उनके बीच का अंतर कितना होगा?

Options :

1. ✖ 23

2. ✖ 33

3. ✖ 17

4. ✔ 27

Question Number : 89 Question Id : 9983671615 Question Type : MCQ Option Shuffling : Yes

Correct Marks : 1 Wrong Marks : 0.25

The sum of two numbers is 40 and their difference is 4. Then, the ratio of the numbers is:

Options :

1. ✓ 11 : 9

2. ✘ 22 : 10

3. ✘ 21 : 19

4. ✘ 11 : 18

Question Number : 89 Question Id : 9983671615 Question Type : MCQ Option Shuffling : Yes

Correct Marks : 1 Wrong Marks : 0.25

दो संख्याओं का योग 40 है और उनके बीच का अंतर 4 है। इन दोनों संख्याओं का अनुपात कितना होगा?

Options :

1. ✓ 11 : 9

2. ✘ 22 : 10

3. ✘ 21 : 19

4. ✘ 11 : 18

Question Number : 90 Question Id : 9983671616 Question Type : MCQ Option Shuffling : Yes

Correct Marks : 1 Wrong Marks : 0.25

The incomes of Satish and Vishal are in the ratio 5 : 3 and their expenditures are in the ratio 7 : 4. If savings of Satish is equal to 30% of his income, then what is the savings of Vishal?

Options :

1. ✘ 28%

2. ✘ $32\frac{1}{3}\%$

3. ✘ 32%

4. ✔ $33\frac{1}{3}\%$

Question Number : 90 Question Id : 9983671616 Question Type : MCQ Option Shuffling : Yes

Correct Marks : 1 Wrong Marks : 0.25

सतीश और विशाल की आय का अनुपात 5 : 3 है और उनके व्यय का अनुपात 7 : 4 हैं। यदि सतीश की बचत उसकी आय के 30% के बराबर है, तो विशाल की बचत कितनी है?

Options :

1. ✘ 28%

2. ✘ $32\frac{1}{3}\%$

3. ✘ 32%

4. ✔ $33\frac{1}{3}\%$

Question Number : 91 Question Id : 9983671617 Question Type : MCQ Option Shuffling : Yes

Correct Marks : 1 Wrong Marks : 0.25

Rajesh starts a business with a capital of ₹ 3 lakhs. Rucha and Anupama join the business after 6 months and 8 months respectively from the start of the business. At the end of the year, if the profit was shared between Rajesh, Rucha and Anupama in the ratio 5 : 8 : 2, then what is the amount (in ₹ lakhs) put in the business by Rucha and Anupama together?

Options :

1. ✘ 9.6

2. ✖ 10.8

3. ✖ 12.4

4. ✔ 13.2

Question Number : 91 Question Id : 9983671617 Question Type : MCQ Option Shuffling : Yes

Correct Marks : 1 Wrong Marks : 0.25

राजेश ने ₹ 3 लाख की पूंजी के साथ एक व्यवसाय शुरू किया। रुचा और अनुपमा वह व्यवसाय शुरू होने के क्रमशः 6 महीने और 8 महीने के बाद शामिल होते हैं। वर्ष के अंत में, अगर प्राप्त कुल लाभ को राजेश, रुचा और अनुपमा के बीच 5 : 8 : 2 के अनुपात में साझा किया गया था, तो रुचा और अनुपमा द्वारा व्यवसाय में कुल कितनी राशि (₹ लाख में) निवेशित की गई?

Options :

1. ✖ 9.6

2. ✖ 10.8

3. ✖ 12.4

4. ✔ 13.2

Question Number : 92 Question Id : 9983671618 Question Type : MCQ Option Shuffling : Yes

Correct Marks : 1 Wrong Marks : 0.25

A is 20% more than B, B is 40% more than C and C is 60% less than D. Which one of the following is correct?

Options :

1. ✖ B is 11.2% more than A.

2. ✖ C is 27.2% less than A.

3. ✓ A is 32.8% less than D.

4. ✘ B is 16% more than B.

Question Number : 92 Question Id : 9983671618 Question Type : MCQ Option Shuffling : Yes

Correct Marks : 1 Wrong Marks : 0.25

A, B से 20% अधिक है, B, C से 40% अधिक है और C, D से 60% कम है। इस प्रकार निम्न में से कौन सा सही है?

Options :

1. ✘ B, A की तुलना में 11.2% अधिक है।

2. ✘ C, A की तुलना में 27.2% कम है।

3. ✓ A, D से 32.8% कम है।

4. ✘ B, B से 16% अधिक है।

Question Number : 93 Question Id : 9983671619 Question Type : MCQ Option Shuffling : Yes

Correct Marks : 1 Wrong Marks : 0.25

X and Y started their journeys from place A to B and B to A respectively at the same time on the same day. After

crossing each other, they completed their remaining journey in $12\frac{1}{4}$ h and 16 h respectively. The ratio of speeds of X and Y is:

Options :

1. ✘ 7 : 6

2. ✓ 8 : 7

3. ✘ 4 : 3

4. ✖ 3 : 2

Question Number : 93 Question Id : 9983671619 Question Type : MCQ Option Shuffling : Yes

Correct Marks : 1 Wrong Marks : 0.25

X और Y ने एक ही दिन और समान समय पर क्रमशः A से B और B से A तक की अपनी यात्रा शुरू की। एक दूसरे को पार करने के बाद, उन्होंने क्रमशः $12\frac{1}{4}$ h और 16 h में अपनी शेष यात्रा पूरी की। X और Y की गति का अनुपात कितना है?

Options :

1. ✖ 7 : 6

2. ✔ 8 : 7

3. ✖ 4 : 3

4. ✖ 3 : 2

Question Number : 94 Question Id : 9983671620 Question Type : MCQ Option Shuffling : Yes

Correct Marks : 1 Wrong Marks : 0.25

The average weight of Amit, Vinit and Sumeet is 56.25 kg. Both, Vinit and Sumeet have the same weight. If Amit's weight is 72.75 kg, then Sumeet's weight will be:

Options :

1. ✖ 40 kg

2. ✔ 48 kg

3. ✖ 50 kg

4. ✖ 58 kg

Question Number : 94 Question Id : 9983671620 Question Type : MCQ Option Shuffling : Yes

Correct Marks : 1 Wrong Marks : 0.25

अमित, विनीत और सुमीत का औसत वजन 56.25 kg है। विनीत और सुमीत दोनों का वजन समान है। अगर अमित का वजन 72.75 kg है, तो सुमीत का वजन कितना होगा?

Options :

1. ✘ 40 kg

2. ✔ 48 kg

3. ✘ 50 kg

4. ✘ 58 kg

Question Number : 95 Question Id : 9983671621 Question Type : MCQ Option Shuffling : Yes

Correct Marks : 1 Wrong Marks : 0.25

If 9.6% of x is equal to 48% of y , then what percent of x is equal to the sum of x and y ?

Options :

1. ✘ 75

2. ✘ 100

3. ✔ 120

4. ✘ 125

Question Number : 95 Question Id : 9983671621 Question Type : MCQ Option Shuffling : Yes

Correct Marks : 1 Wrong Marks : 0.25

अगर x का 9.6%, y के 48% के बराबर है, तो x का कितना प्रतिशत x और y के योग के बराबर है?

Options :

1. ✖ 75

2. ✖ 100

3. ✔ 120

4. ✖ 125

Question Number : 96 Question Id : 9983671622 Question Type : MCQ Option Shuffling : Yes

Correct Marks : 1 Wrong Marks : 0.25

In a class of 80 students, 60% are girls and the rest are boys. If the average marks of the girls is 75 and that of the boys is 65, what is the average marks of the whole class?

Options :

1. ✖ 69

2. ✔ 71

3. ✖ 71.5

4. ✖ 72.5

Question Number : 96 Question Id : 9983671622 Question Type : MCQ Option Shuffling : Yes

Correct Marks : 1 Wrong Marks : 0.25

80 छात्रों की कक्षा में, 60% लड़कियां हैं और बाकी लड़के हैं। यदि लड़कियों का औसत अंक 75 है और लड़कों का 65 है, तो पूरी कक्षा का औसत अंक कितना है?

Options :

1. ✖ 69

2. ✓ 71

3. ✗ 71.5

4. ✗ 72.5

Question Number : 97 Question Id : 9983671623 Question Type : MCQ Option Shuffling : Yes

Correct Marks : 1 Wrong Marks : 0.25

The average of first 25 prime numbers is:

Options :

1. ✓ 42.4

2. ✗ 38.4

3. ✗ 52.6

4. ✗ 24.8

Question Number : 97 Question Id : 9983671623 Question Type : MCQ Option Shuffling : Yes

Correct Marks : 1 Wrong Marks : 0.25

प्रथम 25 अभाज्य संख्याओं का औसत कितना होगा?

Options :

1. ✓ 42.4

2. ✗ 38.4

3. ✖ 52.6

4. ✖ 24.8

Question Number : 98 Question Id : 9983671624 Question Type : MCQ Option Shuffling : Yes

Correct Marks : 1 Wrong Marks : 0.25

If the cost price of a book is ₹ 1250 and its loss percentage is 15% then its Selling price is _____. (in ₹)

Options :

1. ✖ 1100

2. ✖ 1200

3. ✔ 1062.50

4. ✖ 1050.50

Question Number : 98 Question Id : 9983671624 Question Type : MCQ Option Shuffling : Yes

Correct Marks : 1 Wrong Marks : 0.25

यदि किसी पुस्तक की लागत मूल्य ₹ 1250 हैं और इसपर होने वाली हानि 15% है, तो पुस्तक का विक्रय मूल्य (₹ में) कितना होगा?

Options :

1. ✖ 1100

2. ✖ 1200

3. ✔ 1062.50

4. ✖ 1050.50

Question Number : 99 Question Id : 9983671625 Question Type : MCQ Option Shuffling : Yes

Correct Marks : 1 Wrong Marks : 0.25

Viraj sells one headphone for ₹ 840 at a gain of 20% and another for ₹ 960 at a loss of 4%. His total gain or loss percent is:

Options :

1. ✖ $5\frac{15}{17}\%$ loss

2. ✔ $5\frac{15}{17}\%$ gain

3. ✖ $6\frac{2}{3}\%$ gain

4. ✖ $6\frac{2}{3}\%$ loss

Question Number : 99 Question Id : 9983671625 Question Type : MCQ Option Shuffling : Yes

Correct Marks : 1 Wrong Marks : 0.25

विराज ₹ 840 में 20% के लाभ पर एक हेडफोन बेचता है और दूसरा हेडफोन ₹ 960 में 4% की हानि पर बेचता है। उसे कुल कितने प्रतिशत की लाभ या हानि हुई?

Options :

1. ✖ $5\frac{15}{17}\%$ हानि

2. ✔ $5\frac{15}{17}\%$ लाभ

3. ✖ $6\frac{2}{3}\%$ लाभ

4. ✖ $6\frac{2}{3}\%$ हानि

Question Number : 100 Question Id : 9983671626 Question Type : MCQ Option Shuffling : Yes

Correct Marks : 1 Wrong Marks : 0.25

By selling 40 pens a shopkeeper gains cost price of 4 pens. What is his gain percent?

Options :

1. ✖ $\frac{100}{11}\%$

2. ✔ 10%

3. ✖ $\frac{100}{9}\%$

4. ✖ 20%

Question Number : 100 Question Id : 9983671626 Question Type : MCQ Option Shuffling : Yes

Correct Marks : 1 Wrong Marks : 0.25

40 पेन बेचकर एक दुकानदार को 4 पेन की लागत मूल्य प्राप्त होती है। उसका लाभ प्रतिशत कितना है?

Options :

1. ✖ $\frac{100}{11}\%$

2. ✔ 10%

3. ✖ $\frac{100}{9}\%$

4. ✖ 20%

Arithmetic Ability2

Group Number :	6
Group Id :	99836742
Group Maximum Duration :	0
Group Minimum Duration :	0
Show Attended Group? :	No
Edit Attended Group? :	No
Break time:	0
Group Marks:	20
Is this Group for Examiner?:	No
Revisit allowed for group Instructions? :	Yes
Maximum Instruction Time:	0
Minimum Instruction Time:	0

Arithmetic Ability2

Section Id :	99836748
Section Number :	1
Section type :	Online
Mandatory or Optional:	Mandatory
Number of Questions:	20
Number of Questions to be attempted:	20
Section Marks:	20

Sub-Section Number:	1
Sub-Section Id:	99836786
Question Shuffling Allowed :	Yes

Question Number : 101 Question Id : 9983671627 Question Type : MCQ Option Shuffling : Yes
Correct Marks : 1 Wrong Marks : 0.25

The price of a television is ₹ 14000 inclusive GST. If the GST is 12%, find the basic price of the television. (in ₹)

Options :

1. ✓ 12500

2. ✘ 12000

3. ✘ 11500

4. ✖ 11000

Question Number : 101 Question Id : 9983671627 Question Type : MCQ Option Shuffling : Yes

Correct Marks : 1 Wrong Marks : 0.25

एक टेलीविजन की कीमत GST सहित ₹ 14000 है। यदि GST 12% है, तो टेलीविजन का मूल मूल्य (₹ में) कितना है?

Options :

1. ✔ 12500

2. ✖ 12000

3. ✖ 11500

4. ✖ 11000

Question Number : 102 Question Id : 9983671628 Question Type : MCQ Option Shuffling : Yes

Correct Marks : 1 Wrong Marks : 0.25

A street food vendor bought 100 samosas for ₹ 250. He sells 20 of them at a gain of 5%. At what gain % should he sell the remaining samosas so as to gain 20% on the whole?

Options :

1. ✔ 23.75%

2. ✖ 22.75%

3. ✖ 20.25%

4. ✖ 25.50%

Question Number : 102 Question Id : 9983671628 Question Type : MCQ Option Shuffling : Yes

Correct Marks : 1 Wrong Marks : 0.25

एक स्ट्रीट फूड विक्रेता ने ₹ 250 में 100 समोसे खरीदे। वह 5% के लाभ पर 20 समोसे बेचता है। उसे कुल समोसे पर 20% का लाभ प्राप्त करने के लिए बाकी बचे समोसे को कितने % लाभ पर बेचना होगा?

Options :

1. ✓ 23.75%

2. ✗ 22.75%

3. ✗ 20.25%

4. ✗ 25.50%

Question Number : 103 Question Id : 9983671629 Question Type : MCQ Option Shuffling : Yes

Correct Marks : 1 Wrong Marks : 0.25

An article is marked at a price which gives a profit of 20%. After allowing a certain discount, the profit reduces to 10%. The discount percentage is:

Options :

1. ✗ 10%

2. ✓ $8\frac{1}{3}\%$

3. ✗ $8\frac{2}{3}\%$

4. ✗ 12%

Question Number : 103 Question Id : 9983671629 Question Type : MCQ Option Shuffling : Yes

Correct Marks : 1 Wrong Marks : 0.25

एक सामान का अंकित मूल्य 20% के लाभ पर चिन्हित किया गया है। सामान पर एक निश्चित छूट देने के बाद, लाभ 10% तक कम हो जाता है। सामान पर कुल कितने प्रतिशत की छूट दी गई?

Options :

1. ✘ 10%

2. ✔ $8\frac{1}{3}\%$

3. ✘ $8\frac{2}{3}\%$

4. ✘ 12%

Question Number : 104 Question Id : 9983671630 Question Type : MCQ Option Shuffling : Yes

Correct Marks : 1 Wrong Marks : 0.25

A sum of ₹ 30,000 becomes ₹ 42,147.84 in 3 years, if interest is compounded annually. What will be the simple interest on the same sum at same rate of interest for 3 years?

Options :

1. ✘ ₹ 8,100

2. ✘ ₹ 9,000

3. ✘ ₹ 9,900

4. ✔ ₹ 10,800

Question Number : 104 Question Id : 9983671630 Question Type : MCQ Option Shuffling : Yes

Correct Marks : 1 Wrong Marks : 0.25

यदि ब्याज वार्षिक चक्रवृद्धि ब्याज के रूप में है, तो 3 वर्षों में ₹ 30,000 की धनराशि ₹ 42,147.84 हो जाती है। इस समान धनराशि पर 3 वर्ष के लिए समान ब्याज पर दर कुल साधारण ब्याज कितना होगा?

Options :

1. ✘ ₹ 8,100

2. ✘ ₹ 9,000

3. ✘ ₹ 9,900

4. ✔ ₹ 10,800

Question Number : 105 Question Id : 9983671631 Question Type : MCQ Option Shuffling : Yes

Correct Marks : 1 Wrong Marks : 0.25

What is the approximate interest on ₹ 800 for $2\frac{1}{3}$ years at the rate of 8% per annum compounded annually?

Options :

1. ✘ ₹ 133.12

2. ✔ ₹ 158.00

3. ✘ ₹ 160.20

4. ✘ ₹ 165.32

Question Number : 105 Question Id : 9983671631 Question Type : MCQ Option Shuffling : Yes

Correct Marks : 1 Wrong Marks : 0.25

8% वार्षिक चक्रवृद्धि ब्याज दर पर $2\frac{1}{3}$ वर्षों के लिए ₹ 800 की धनराशि पर कुल कितना ब्याज प्राप्त होगा?

Options :

1. ✘ ₹ 133.12

2. ✓ ₹ 158.00

3. ✗ ₹ 160.20

4. ✗ ₹ 165.32

Question Number : 106 Question Id : 9983671632 Question Type : MCQ Option Shuffling : Yes

Correct Marks : 1 Wrong Marks : 0.25

Which sum amounts to ₹ 2,188.68 in 8 years at 7% simple interest per annum?

Options :

1. ✓ 1403

2. ✗ 1800

3. ✗ 1500

4. ✗ 1303

Question Number : 106 Question Id : 9983671632 Question Type : MCQ Option Shuffling : Yes

Correct Marks : 1 Wrong Marks : 0.25

एक निश्चित धनराशि प्रति वर्ष 7% साधारण ब्याज दर पर 8 वर्षों में ₹ 2,188.68 हो जाती है। मूल धनराशि कितनी है?

Options :

1. ✓ 1403

2. ✗ 1800

3. ✖ 1500

4. ✖ 1303

Question Number : 107 Question Id : 9983671633 Question Type : MCQ Option Shuffling : Yes

Correct Marks : 1 Wrong Marks : 0.25

If the cost price of 64 articles is equal to the selling price of 48 articles, find the gain percentage.

Options :

1. ✖ 25

2. ✖ $25\frac{1}{3}$

3. ✖ 33

4. ✔ $33\frac{1}{3}$

Question Number : 107 Question Id : 9983671633 Question Type : MCQ Option Shuffling : Yes

Correct Marks : 1 Wrong Marks : 0.25

यदि 64 सामानों की क्रय मूल्य 48 सामानों के विक्रय मूल्य के बराबर है, तो लाभ का प्रतिशत कुल कितना होगा?

Options :

1. ✖ 25

2. ✖ $25\frac{1}{3}$

3. ✖ 33

4. ✓ $33\frac{1}{3}$

Question Number : 108 Question Id : 9983671634 Question Type : MCQ Option Shuffling : Yes

Correct Marks : 1 Wrong Marks : 0.25

The simple interest for a sum of ₹ 3,100 for four years is ₹ 80 more than the simple interest for ₹ 3,000 for the same period. Find the rate of interest.

Options :

1. ✗ 10%

2. ✗ 15%

3. ✓ 20%

4. ✗ 8%

Question Number : 108 Question Id : 9983671634 Question Type : MCQ Option Shuffling : Yes

Correct Marks : 1 Wrong Marks : 0.25

चार वर्षों के लिए ₹ 3,100 की राशि पर मिलने वाला साधारण ब्याज, समान अवधि के लिए ₹ 3,000 की राशि पर मिलने वाले ब्याज से ₹ 80 अधिक है। ब्याज की दर कितनी है?

Options :

1. ✗ 10%

2. ✗ 15%

3. ✓ 20%

4. ✗ 8%

Question Number : 109 Question Id : 9983671635 Question Type : MCQ Option Shuffling : Yes

Correct Marks : 1 Wrong Marks : 0.25

The perimeter of a triangular park is 400 m. Its one side is 180 m and the difference between its other two sides is 20 m.

Its area (in m^2) is:

Options :

1. ✘ $2000\sqrt{2}$

2. ✔ $4000\sqrt{2}$

3. ✘ $6000\sqrt{2}$

4. ✘ $8000\sqrt{2}$

Question Number : 109 Question Id : 9983671635 Question Type : MCQ Option Shuffling : Yes

Correct Marks : 1 Wrong Marks : 0.25

एक त्रिभुजाकार पार्क की परिधि 400 m है। इसके एक भुजा की लंबाई 180 m है और इसके अन्य दोनों भुजाओं की लंबाई के बीच का अंतर 20 m है। इस पार्क का क्षेत्रफल (m^2 में) कितना होगा?

Options :

1. ✘ $2000\sqrt{2}$

2. ✔ $4000\sqrt{2}$

3. ✘ $6000\sqrt{2}$

4. ✘ $8000\sqrt{2}$

Question Number : 110 Question Id : 9983671636 Question Type : MCQ Option Shuffling : Yes

Correct Marks : 1 Wrong Marks : 0.25

A 12 m deep well with diameter 3.5 m is dug up and the earth taken out from it is spread evenly to form a platform of length 10.5 m and breadth 8 m. The height (in m) of the platform is: (Use $\pi = \frac{22}{7}$)

Options :

1. ✘ 1.125

2. ✘ 1.25

3. ✔ 1.375

4. ✘ 2.5

Question Number : 110 Question Id : 9983671636 Question Type : MCQ Option Shuffling : Yes

Correct Marks : 1 Wrong Marks : 0.25

3.5 m की व्यास वाला एक 12 m गहरा कुआं खोदा गया है और इससे निकाली गई मिट्टी को 10.5 m लंबाई और 8 m चौड़ाई वाला एक प्लेटफॉर्म बनाने के लिए समान रूप से फैलाया गया है। प्लेटफॉर्म की ऊंचाई (m में) कितनी होगी? ($\pi = \frac{22}{7}$ प्रयोग करें)

Options :

1. ✘ 1.125

2. ✘ 1.25

3. ✔ 1.375

4. ✘ 2.5

Question Number : 111 Question Id : 9983671637 Question Type : MCQ Option Shuffling : Yes

Correct Marks : 1 Wrong Marks : 0.25

If the perimeter of a rectangle is 56 m and its area is 160 sq.m. Find its length.

Options :

1. ✓ 20 m

2. ✘ 15 m

3. ✘ 10 m

4. ✘ 8 m

Question Number : 111 Question Id : 9983671637 Question Type : MCQ Option Shuffling : Yes

Correct Marks : 1 Wrong Marks : 0.25

यदि किसी आयत की परिधि 56 m है और इसका क्षेत्रफल 160 sq.m. है, तो इसकी लंबाई कितनी होगी?

Options :

1. ✓ 20 m

2. ✘ 15 m

3. ✘ 10 m

4. ✘ 8 m

Question Number : 112 Question Id : 9983671638 Question Type : MCQ Option Shuffling : Yes

Correct Marks : 1 Wrong Marks : 0.25

Area of a square shaped field is 36450 Sq.m. What is the length of the diagonal of the field?

Options :

1. ✘ 135

2. ✓ 270

3. ✖ $135\sqrt{2}$

4. ✖ $270\sqrt{2}$

Question Number : 112 Question Id : 9983671638 Question Type : MCQ Option Shuffling : Yes
Correct Marks : 1 Wrong Marks : 0.25

एक वर्गाकार मैदान का क्षेत्रफल 36450 sq.m. है। मैदान के विकर्ण की लंबाई कितनी है?

Options :

1. ✖ 135

2. ✔ 270

3. ✖ $135\sqrt{2}$

4. ✖ $270\sqrt{2}$

Question Number : 113 Question Id : 9983671639 Question Type : MCQ Option Shuffling : Yes
Correct Marks : 1 Wrong Marks : 0.25

Sunil alone can do the work in 24 days, Kunal alone can do the work in 36 days. Together they undertake a work for ₹ 48,000. With the help of Anand they finished the work in 12 days. How much is to be Anand must be paid?

Options :

1. ✖ ₹ 6000

2. ✖ ₹ 12000

3. ✖ ₹ 16000

4. ✓ ₹ 8000

Question Number : 113 Question Id : 9983671639 Question Type : MCQ Option Shuffling : Yes

Correct Marks : 1 Wrong Marks : 0.25

सुनील अकेले एक काम को 24 दिनों में कर सकता है और कुनाल अकेले 36 दिनों में कर सकता है। दोनों एक साथ मिलकर उस काम को ₹ 48,000 में तय करते हैं। आनंद की मदद से उन्होंने 12 दिनों में काम खत्म कर दिया। आनंद को कुल कितनी राशि का भुगतान किया जाएगा?

Options :

1. ✗ ₹ 6000

2. ✗ ₹ 12000

3. ✗ ₹ 16000

4. ✓ ₹ 8000

Question Number : 114 Question Id : 9983671640 Question Type : MCQ Option Shuffling : Yes

Correct Marks : 1 Wrong Marks : 0.25

Vimal alone can do a job in 6 days and Suraj alone in 12 days. They involve Punit and all three finish the job in 3 days. If Punit alone has to do a job then how many days will he take?

Options :

1. ✗ 10

2. ✓ 12

3. ✗ 14

4. ✗ 15

Question Number : 114 Question Id : 9983671640 Question Type : MCQ Option Shuffling : Yes

Correct Marks : 1 Wrong Marks : 0.25

विमल अकेले एक काम को 6 दिन में पूरा कर सकता है और सूरज 12 दिन में पूरा कर सकता है। वे पुनीत को शामिल करते हैं और तीनों मिलकर उस काम को 3 दिनों में खत्म कर देते हैं। पुनीत को अकेले उस काम को पूरा करने में कुल कितने दिन लगेंगे?

Options :

1. ✘ 10

2. ✔ 12

3. ✘ 14

4. ✘ 15

Question Number : 115 Question Id : 9983671641 Question Type : MCQ Option Shuffling : Yes

Correct Marks : 1 Wrong Marks : 0.25

Excluding stoppages, the speed of a bus is 45 kmph and including stoppages it is 36 kmph. For how many minutes does the bus stop per hour?

Options :

1. ✘ 9

2. ✘ 10

3. ✔ 12

4. ✘ 20

Question Number : 115 Question Id : 9983671641 Question Type : MCQ Option Shuffling : Yes

Correct Marks : 1 Wrong Marks : 0.25

स्टॉपेज को छोड़कर, एक बस की गति 45 kmph है और स्टॉपेज सहित बस की गति 36 kmph है। तो यह बताएं कि बस प्रति घंटे कुल कितने मिनट के लिए रुकती है?

Options :

1. ✖ 9

2. ✖ 10

3. ✔ 12

4. ✖ 20

Question Number : 116 Question Id : 9983671642 Question Type : MCQ Option Shuffling : Yes

Correct Marks : 1 Wrong Marks : 0.25

A 320 m long train, travelling at a uniform speed, crosses a platform in 60 s and a man standing on the platform in 24 s.

The length (in m) of the platform is:

Options :

1. ✖ 430

2. ✔ 480

3. ✖ 530

4. ✖ 580

Question Number : 116 Question Id : 9983671642 Question Type : MCQ Option Shuffling : Yes

Correct Marks : 1 Wrong Marks : 0.25

एक 320 m लंबी ट्रेन, एक समान गति से यात्रा करते हुए, 60 s में एक प्लेटफॉर्म को और उस प्लेटफॉर्म पर खड़े एक आदमी को 24 s में पार करती है। प्लेटफॉर्म की लंबाई (m में) कितनी है?

Options :

1. ✖ 430

2. ✔ 480

3. ✖ 530

4. ✖ 580

Question Number : 117 Question Id : 9983671643 Question Type : MCQ Option Shuffling : Yes

Correct Marks : 1 Wrong Marks : 0.25

Study the following table carefully and answer the following question.

The following tables gives the information of sales of sports kits by the company “XYZ” over past five years (numbers in lakhs)

Year	Cricket	Hockey	Football	Tennis
2011	40	32	58	68
2012	48	32	71	19
2013	31	32	18	19
2014	30	19	16	18
2015	72	68	51	36

For cricket what is total sales for past five years?

Options :

1. ✔ 221

2. ✖ 183

3. ✖ 214

4. ✖ 160

Question Number : 117 Question Id : 9983671643 Question Type : MCQ Option Shuffling : Yes

Correct Marks : 1 Wrong Marks : 0.25

नीचे दी गई तालिका को ध्यानपूर्वक अध्ययन करें और निम्नलिखित प्रश्न का उत्तर दें।

निम्नलिखित तालिका पिछले पांच वर्षों में कंपनी "XYZ" द्वारा स्पोर्ट्स किट की बिक्री की जानकारी देती है (संख्या लाखों में है)।

वर्ष	क्रिकेट	हॉकी	फुटबॉल	टेनिस
2011	40	32	58	68
2012	48	32	71	19
2013	31	32	18	19
2014	30	19	16	18
2015	72	68	51	36

पिछले पांच वर्षों में कुल कितने क्रिकेट किट की बिक्री हुई है?

Options :

1. ✓ 221

2. ✗ 183

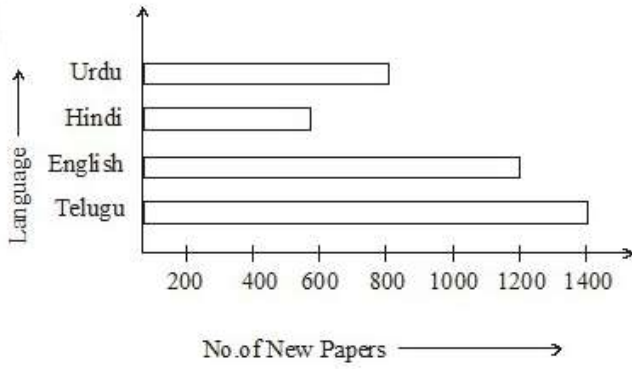
3. ✗ 214

4. ✗ 160

Question Number : 118 Question Id : 9983671644 Question Type : MCQ Option Shuffling : Yes

Correct Marks : 1 Wrong Marks : 0.25

The bar graph below represents the circulation of newspapers in different languages in a city. Study the bar graph and answer the following question:



What is the circulation of English newspaper?

Options :

1. ✓ 1200

2. ✗ 1400

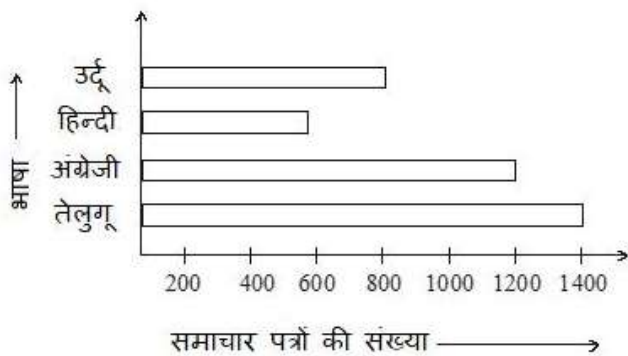
3. ✗ 800

4. ✗ 600

Question Number : 118 Question Id : 9983671644 Question Type : MCQ Option Shuffling : Yes

Correct Marks : 1 Wrong Marks : 0.25

नीचे दिया गया बार ग्राफ एक शहर में विभिन्न भाषाओं में समाचार पत्रों की खपत को दर्शाता है। बार ग्राफ को ध्यान से पढ़ें और निम्नलिखित प्रश्न का उत्तर दें:



अंग्रेजी के समाचार पत्रों की खपत कितनी है?

Options :

1. ✓ 1200

2. ✗ 1400

3. ✗ 800

4. ✗ 600

Question Number : 119 Question Id : 9983671645 Question Type : MCQ Option Shuffling : Yes

Correct Marks : 1 Wrong Marks : 0.25

Reshma purchased a mobile for ₹ 16,100 including GST. If the list price of mobile is ₹ 14,000. Find the rate of GST.

Options :

1. ✓ 15%

2. ✗ 16%

3. ✗ 15.5%

4. ✗ 16.5%

Question Number : 119 Question Id : 9983671645 Question Type : MCQ Option Shuffling : Yes

Correct Marks : 1 Wrong Marks : 0.25

रेशमा ने GST सहित ₹ 16,100 में एक मोबाइल खरीदा। अगर मोबाइल की सूची मूल्य ₹ 14,000 है, तो GST की दर कितनी होगी?

Options :

1. ✓ 15%

2. ✖ 16%

3. ✖ 15.5%

4. ✖ 16.5%

Question Number : 120 Question Id : 9983671646 Question Type : MCQ Option Shuffling : Yes

Correct Marks : 1 Wrong Marks : 0.25

The following table gives the stamps collected by Ramu and Situ during 6 months. Read the table and answer the following questions.

Month	March	April	May	June	July	August
Ramu	140	120	100	160	140	140
Situ	180	140	100	140	130	210

The collection of stamps of Ramu for the month of April is what percent of total collection of stamps of Ramu of all 6 months?

Options :

1. ✖ 12%

2. ✔ 15%

3. ✖ 15.4%

4. ✖ 16%

Question Number : 120 Question Id : 9983671646 Question Type : MCQ Option Shuffling : Yes

Correct Marks : 1 Wrong Marks : 0.25

निम्नलिखित तालिका 6 महीने के दौरान रामू और सीटू द्वारा एकत्र किए गए स्टैम्प को दर्शाती है। इस तालिका को ध्यान से पढ़ें और निम्नलिखित प्रश्नों के उत्तर दें।

महीना	मार्च	अप्रैल	मई	जून	जुलाई	अगस्त
रामू	140	120	100	160	140	140
सीटू	180	140	100	140	130	210

अप्रैल महीने के रामू के स्टैम्प का संग्रह, 6 महीनों के रामू के स्टैम्प के कुल संग्रह का कितना प्रतिशत है?

Options :

1. ✘ 12%

2. ✔ 15%

3. ✘ 15.4%

4. ✘ 16%

General English1

Group Number :	7
Group Id :	99836743
Group Maximum Duration :	0
Group Minimum Duration :	0
Show Attended Group? :	No
Edit Attended Group? :	No
Break time:	0
Group Marks:	20
Is this Group for Examiner?:	No
Revisit allowed for group Instructions? :	Yes
Maximum Instruction Time:	0
Minimum Instruction Time:	0

General English1

Section Id :	99836749
Section Number :	1
Section type :	Online

Mandatory or Optional:	Mandatory
Number of Questions:	20
Number of Questions to be attempted:	20
Section Marks:	20

Sub-Section Number:	1
Sub-Section Id:	99836787
Question Shuffling Allowed :	Yes

Question Number : 121 Question Id : 9983671647 Question Type : MCQ Option Shuffling : Yes
Correct Marks : 1 Wrong Marks : 0.25

Select the option that can be used as a one-word substitute for the given group of words/phrase.

A person who acts against religion.

Options :

1. ✘ Atheist

2. ✘ Atheitard

3. ✘ Theist

4. ✔ Heretic

Question Number : 121 Question Id : 9983671647 Question Type : MCQ Option Shuffling : Yes
Correct Marks : 1 Wrong Marks : 0.25

Select the option that can be used as a one-word substitute for the given group of words/phrase.

A person who acts against religion.

Options :

1. ✘ Atheist

2. ✘ Atheitard

3. ✘ Theist

4. ✔ Heretic

Question Number : 122 Question Id : 9983671648 Question Type : MCQ Option Shuffling : Yes

Correct Marks : 1 Wrong Marks : 0.25

Select the option that can be used as a one-word substitute for the given group of words/phrase.

An emotional disorder characterized by an obsessive desire to lose weight by refusing to eat.

Options :

1. ✘ Altophobia

2. ✔ Anorexia

3. ✘ Cacophobia

4. ✘ Graphophobia

Question Number : 122 Question Id : 9983671648 Question Type : MCQ Option Shuffling : Yes

Correct Marks : 1 Wrong Marks : 0.25

Select the option that can be used as a one-word substitute for the given group of words/phrase.

An emotional disorder characterized by an obsessive desire to lose weight by refusing to eat.

Options :

1. ✘ Altophobia

2. ✔ Anorexia

3. ✘ Cacophobia

4. ✘ Graphophobia

Question Number : 123 Question Id : 9983671649 Question Type : MCQ Option Shuffling : Yes

Correct Marks : 1 Wrong Marks : 0.25

Select the most appropriate option that can substitute the underlined idiom in the given sentence.

Don't beat around the bush, just tell me the truth.

Options :

1. ✘ To do Something horrible

2. ✘ To keep complaining

3. ✔ To stall

4. ✘ To disclose secrets

Question Number : 123 Question Id : 9983671649 Question Type : MCQ Option Shuffling : Yes

Correct Marks : 1 Wrong Marks : 0.25

Select the most appropriate option that can substitute the underlined idiom in the given sentence.

Don't beat around the bush, just tell me the truth.

Options :

1. ✘ To do Something horrible

2. ✘ To keep complaining

3. ✓ To stall

4. ✗ To disclose secrets

Question Number : 124 Question Id : 9983671650 Question Type : MCQ Option Shuffling : Yes

Correct Marks : 1 Wrong Marks : 0.25

Select the most appropriate option that can substitute the underlined idiom in the given sentence.

I don't know what your favourite color is, but if I were to take a shot in the dark, I would say it's yellow.

Options :

1. ✗ A dangerous task

2. ✗ A wrong move

3. ✗ A lucky deed

4. ✓ A complete guess

Question Number : 124 Question Id : 9983671650 Question Type : MCQ Option Shuffling : Yes

Correct Marks : 1 Wrong Marks : 0.25

Select the most appropriate option that can substitute the underlined idiom in the given sentence.

I don't know what your favourite color is, but if I were to take a shot in the dark, I would say it's yellow.

Options :

1. ✗ A dangerous task

2. ✗ A wrong move

3. ✘ A lucky deed

4. ✔ A complete guess

Question Number : 125 Question Id : 9983671651 Question Type : MCQ Option Shuffling : Yes
Correct Marks : 1 Wrong Marks : 0.25

Select the most appropriate idiom to fill in the blank.

By agreeing to work in an office and also continue to study, he put himself _____.

Options :

1. ✔ in a tight spot

2. ✘ under the weather

3. ✘ to fish in troubled waters

4. ✘ high and dry

Question Number : 125 Question Id : 9983671651 Question Type : MCQ Option Shuffling : Yes
Correct Marks : 1 Wrong Marks : 0.25

Select the most appropriate idiom to fill in the blank.

By agreeing to work in an office and also continue to study, he put himself _____.

Options :

1. ✔ in a tight spot

2. ✘ under the weather

3. ✘ to fish in troubled waters

4. ✘ high and dry

Question Number : 126 Question Id : 9983671652 Question Type : MCQ Option Shuffling : Yes

Correct Marks : 1 Wrong Marks : 0.25

Select the most appropriate preposition to fill in the blank.

_____ a 14-hour flight from New York, I land in Seoul and discover that South Korea is in a state of shock.

Options :

1. ✘ From

2. ✘ With

3. ✔ After

4. ✘ Before

Question Number : 126 Question Id : 9983671652 Question Type : MCQ Option Shuffling : Yes

Correct Marks : 1 Wrong Marks : 0.25

Select the most appropriate preposition to fill in the blank.

_____ a 14-hour flight from New York, I land in Seoul and discover that South Korea is in a state of shock.

Options :

1. ✘ From

2. ✘ With

3. ✓ After

4. ✘ Before

Question Number : 127 Question Id : 9983671653 Question Type : MCQ Option Shuffling : Yes
Correct Marks : 1 Wrong Marks : 0.25

Select the most appropriate preposition to fill in the blank.

Korea's top Go champion, a complex strategic board game, is shown endlessly _____ monitors in the Seoul underground railway.

Options :

1. ✘ through

2. ✘ in

3. ✘ above

4. ✓ on

Question Number : 127 Question Id : 9983671653 Question Type : MCQ Option Shuffling : Yes
Correct Marks : 1 Wrong Marks : 0.25

Select the most appropriate preposition to fill in the blank.

Korea's top Go champion, a complex strategic board game, is shown endlessly _____ monitors in the Seoul underground railway.

Options :

1. ✘ through

2. ✘ in

3. ✘ above

4. ✔ on

Question Number : 128 Question Id : 9983671654 Question Type : MCQ Option Shuffling : Yes
Correct Marks : 1 Wrong Marks : 0.25

Select the most appropriate option to fill in the blank.

I am all _____ trying to find ways to save money for the future.

Options :

1. ✔ in favour of

2. ✘ in course of

3. ✘ in consideration of

4. ✘ in consequence of

Question Number : 128 Question Id : 9983671654 Question Type : MCQ Option Shuffling : Yes
Correct Marks : 1 Wrong Marks : 0.25

Select the most appropriate option to fill in the blank.

I am all _____ trying to find ways to save money for the future.

Options :

1. ✔ in favour of

2. ✘ in course of

3. ✘ in consideration of

4. ✘ in consequence of

Question Number : 129 Question Id : 9983671655 Question Type : MCQ Option Shuffling : Yes

Correct Marks : 1 Wrong Marks : 0.25

Select the most appropriate prepositions to fill in the blanks.

Thirty years after being adopted _____ an Australian family and raised _____ Melbourne, Joel de Carteret has come back to his country, where he was born.

Options :

1. ✘ with; into

2. ✔ by; in

3. ✘ by; with

4. ✘ in; in

Question Number : 129 Question Id : 9983671655 Question Type : MCQ Option Shuffling : Yes

Correct Marks : 1 Wrong Marks : 0.25

Select the most appropriate prepositions to fill in the blanks.

Thirty years after being adopted _____ an Australian family and raised _____ Melbourne, Joel de Carteret has come back to his country, where he was born.

Options :

1. ✘ with; into

2. ✔ by; in

3. ✘ by; with

4. ✘ in: in

Question Number : 130 Question Id : 9983671656 Question Type : MCQ Option Shuffling : Yes
Correct Marks : 1 Wrong Marks : 0.25

Select the most appropriate option that can substitute the underlined idiom in the given sentence.

I used to try to strike while the iron was hot but barely ever succeeded.

Options :

1. ✘ To act on an opportunity in anger

2. ✔ To act on an opportunity promptly while favorable conditions exist

3. ✘ To act on an opportunity when its summer

4. ✘ To act on an opportunity to make a profit

Question Number : 130 Question Id : 9983671656 Question Type : MCQ Option Shuffling : Yes
Correct Marks : 1 Wrong Marks : 0.25

Select the most appropriate option that can substitute the underlined idiom in the given sentence.

I used to try to strike while the iron was hot but barely ever succeeded.

Options :

1. ✘ To act on an opportunity in anger

2. ✔ To act on an opportunity promptly while favorable conditions exist

3. ✘ To act on an opportunity when its summer

4. ✘ To act on an opportunity to make a profit

Question Number : 131 Question Id : 9983671657 Question Type : MCQ Option Shuffling : Yes

Correct Marks : 1 Wrong Marks : 0.25

Select the most appropriate articles to fill in the blanks.

Fifty years ago, Korea was among _____ poorest on _____ earth but today it feels like an outpost from the future.

Options :

1. ✘ a; the

2. ✘ a; an

3. ✔ the; the

4. ✘ a; a

Question Number : 131 Question Id : 9983671657 Question Type : MCQ Option Shuffling : Yes

Correct Marks : 1 Wrong Marks : 0.25

Select the most appropriate articles to fill in the blanks.

Fifty years ago, Korea was among _____ poorest on _____ earth but today it feels like an outpost from the future.

Options :

1. ✘ a; the

2. ✘ a; an

3. ✔ the; the

4. ✘ a; a

Question Number : 132 Question Id : 9983671658 Question Type : MCQ Option Shuffling : Yes

Correct Marks : 1 Wrong Marks : 0.25

Select the most appropriate preposition to fill in the blank.

Seoul is a place that veers _____ utopia and dystopia with alarming speed and sleeps less than even New York.

Options :

1. ✘ off

2. ✘ from

3. ✘ among

4. ✔ between

Question Number : 132 Question Id : 9983671658 Question Type : MCQ Option Shuffling : Yes

Correct Marks : 1 Wrong Marks : 0.25

Select the most appropriate preposition to fill in the blank.

Seoul is a place that veers _____ utopia and dystopia with alarming speed and sleeps less than even New York.

Options :

1. ✘ off

2. ✘ from

3. ✘ among

4. ✓ between

Question Number : 133 Question Id : 9983671659 Question Type : MCQ Option Shuffling : Yes

Correct Marks : 1 Wrong Marks : 0.25

Select the most appropriate preposition to fill in the blank.

Freshwrap aluminium foil preserves the taste and flavours _____ your food, keeping it fresh long after you have packed it.

Options :

1. ✓ of

2. ✗ for

3. ✗ in

4. ✗ with

Question Number : 133 Question Id : 9983671659 Question Type : MCQ Option Shuffling : Yes

Correct Marks : 1 Wrong Marks : 0.25

Select the most appropriate preposition to fill in the blank.

Freshwrap aluminium foil preserves the taste and flavours _____ your food, keeping it fresh long after you have packed it.

Options :

1. ✓ of

2. ✗ for

3. ✗ in

4. ✘ with

Question Number : 134 Question Id : 9983671660 Question Type : MCQ Option Shuffling : Yes

Correct Marks : 1 Wrong Marks : 0.25

Select the most appropriate option to fill in the blank.

As soon as the clock struck 12:00, Cinderella _____ down the stairs to reach her carriage, but she was late.

Options :

1. ✘ running

2. ✘ is running

3. ✘ run

4. ✔ ran

Question Number : 134 Question Id : 9983671660 Question Type : MCQ Option Shuffling : Yes

Correct Marks : 1 Wrong Marks : 0.25

Select the most appropriate option to fill in the blank.

As soon as the clock struck 12:00, Cinderella _____ down the stairs to reach her carriage, but she was late.

Options :

1. ✘ running

2. ✘ is running

3. ✘ run

4. ✓ ran

Question Number : 135 Question Id : 9983671661 Question Type : MCQ Option Shuffling : Yes

Correct Marks : 1 Wrong Marks : 0.25

Select the grammatically correct sentence from the given options.

Options :

1. ✖

I woke in a panic and gasping for a deep breath, but the air that swirled around my constricted body was humid and dense.

2. ✖

Trying to remain calm, I took several slow and methodical breaths while my wheezing lungs brake the stillness inside the dark bedroom.

3. ✓

Oxygen passed into my respiratory system like it was travelling through a tiny, plastic straw.

4. ✖

But it was enough for me to relaxing slightly and try to untangle my thoughts and surroundings.

Question Number : 135 Question Id : 9983671661 Question Type : MCQ Option Shuffling : Yes

Correct Marks : 1 Wrong Marks : 0.25

Select the grammatically correct sentence from the given options.

Options :

1. ✖

I woke in a panic and gasping for a deep breath, but the air that swirled around my constricted body was humid and dense.

2. ✖

Trying to remain calm, I took several slow and methodical breaths while my wheezing lungs brake the stillness inside the dark bedroom.

3. ✓

Oxygen passed into my respiratory system like it was travelling through a tiny, plastic straw.

4. ✗

But it was enough for me to relaxing slightly and try to untangle my thoughts and surroundings.

Question Number : 136 Question Id : 9983671662 Question Type : MCQ Option Shuffling : Yes

Correct Marks : 1 Wrong Marks : 0.25

Select the grammatically correct sentence from the given options.

Options :

1. ✗

Many Icelanders still believe in supernatural creatures, this otherworldly land would have to be it and if there were a place where elves, dwarves and gnomes surreptitiously roamed.

2. ✗

This otherworldly land would have to be it and if there were a place where elves, dwarves and gnomes surreptitiously roamed, many Icelanders still believe in supernatural creatures.

3. ✓

Many Icelanders still believe in supernatural creatures, and if there were a place where elves, dwarves and gnomes surreptitiously roamed, this otherworldly land would have to be it.

4. ✗

Many Icelanders still believe in elves, dwarves and gnomes supernatural creatures, and if there were a place where surreptitiously roamed, this otherworldly land would have to be it.

Question Number : 136 Question Id : 9983671662 Question Type : MCQ Option Shuffling : Yes

Correct Marks : 1 Wrong Marks : 0.25

Select the grammatically correct sentence from the given options.

Options :

1. ✖

Many Icelanders still believe in supernatural creatures, this otherworldly land would have to be it and if there were a place where elves, dwarves and gnomes surreptitiously roamed.

2. ✖

This otherworldly land would have to be it and if there were a place where elves, dwarves and gnomes surreptitiously roamed, many Icelanders still believe in supernatural creatures.

3. ✔

Many Icelanders still believe in supernatural creatures, and if there were a place where elves, dwarves and gnomes surreptitiously roamed, this otherworldly land would have to be it.

4. ✖

Many Icelanders still believe in elves, dwarves and gnomes supernatural creatures, and if there were a place where surreptitiously roamed, this otherworldly land would have to be it.

Question Number : 137 Question Id : 9983671663 Question Type : MCQ Option Shuffling : Yes

Correct Marks : 1 Wrong Marks : 0.25

Select the sentence from the given options that has used the correct form of verbs.

Options :

1. ✖ The swaying balloons looking like lotuses floating on a mountain lake.

2. ✖ There is hundreds of them, both plastic and rubber.

3. ✔ In front of them, with an intent to paint words and pictures, sat scores of children.

4. ✖ Not really 'sat'; the children had to stand to demonstrating their artistic skills.

Question Number : 137 Question Id : 9983671663 Question Type : MCQ Option Shuffling : Yes

Correct Marks : 1 Wrong Marks : 0.25

Select the sentence from the given options that has used the correct form of verbs.

Options :

1. ✘ The swaying balloons looking like lotuses floating on a mountain lake.
2. ✘ There is hundreds of them, both plastic and rubber.
3. ✔ In front of them, with an intent to paint words and pictures, sat scores of children.
4. ✘ Not really 'sat'; the children had to stand to demonstrating their artistic skills.

Question Number : 138 Question Id : 9983671664 Question Type : MCQ Option Shuffling : Yes
Correct Marks : 1 Wrong Marks : 0.25

Select the grammatically correct sentence from the given options.

Options :

1. ✘ The case is so urgent that it is postponed.
2. ✔ The case is too urgent to be postponed.
3. ✘ The case is so urgent not to be postponed.
4. ✘ The case is too urgent not to be postponed.

Question Number : 138 Question Id : 9983671664 Question Type : MCQ Option Shuffling : Yes
Correct Marks : 1 Wrong Marks : 0.25

Select the grammatically correct sentence from the given options.

Options :

1. ✘ The case is so urgent that it is postponed.

2. ✓ The case is too urgent to be postponed.
3. ✗ The case is so urgent not to be postponed.
4. ✗ The case is too urgent not to be postponed.

Question Number : 139 Question Id : 9983671665 Question Type : MCQ Option Shuffling : Yes

Correct Marks : 1 Wrong Marks : 0.25

Select the option that correctly expresses the given sentence in passive voice. His conduct displeased his mother.

Options :

1. ✗ His mother get displeased at his conduct.
2. ✗ His mother got displeased on his conduct.
3. ✗ His mother was displeased on his conduct.
4. ✓ His mother was displeased by his conduct.

Question Number : 139 Question Id : 9983671665 Question Type : MCQ Option Shuffling : Yes

Correct Marks : 1 Wrong Marks : 0.25

Select the option that correctly expresses the given sentence in passive voice. His conduct displeased his mother.

Options :

1. ✗ His mother get displeased at his conduct.
2. ✗ His mother got displeased on his conduct.

3. ✘ His mother was displeased on his conduct.

4. ✔ His mother was displeased by his conduct.

Question Number : 140 Question Id : 9983671666 Question Type : MCQ Option Shuffling : Yes
Correct Marks : 1 Wrong Marks : 0.25

Select the option that correctly expresses the given sentence in active voice.
I expect the work to be done by Mohan.

Options :

1. ✘ I expects Mohan to do the work.

2. ✔ I expect Mohan to do the work.

3. ✘ The work expects to be done by Mohan.

4. ✘ I am expecting Mohan does the work.

Question Number : 140 Question Id : 9983671666 Question Type : MCQ Option Shuffling : Yes
Correct Marks : 1 Wrong Marks : 0.25

Select the option that correctly expresses the given sentence in active voice.
I expect the work to be done by Mohan.

Options :

1. ✘ I expects Mohan to do the work.

2. ✔ I expect Mohan to do the work.

3. ✘ The work expects to be done by Mohan.

4. ✖ I am expecting Mohan does the work.

General English2

Group Number :	8
Group Id :	99836744
Group Maximum Duration :	0
Group Minimum Duration :	0
Show Attended Group? :	No
Edit Attended Group? :	No
Break time:	0
Group Marks:	20
Is this Group for Examiner?:	No
Revisit allowed for group Instructions? :	Yes
Maximum Instruction Time:	0
Minimum Instruction Time:	0

General English2

Section Id :	99836750
Section Number :	1
Section type :	Online
Mandatory or Optional:	Mandatory
Number of Questions:	12
Number of Questions to be attempted:	12
Section Marks:	20

Sub-Section Number:	1
Sub-Section Id:	99836788
Question Shuffling Allowed :	Yes

Question Number : 141 Question Id : 9983671667 Question Type : MCQ Option Shuffling : Yes
Correct Marks : 1 Wrong Marks : 0.25

Select the most appropriate synonym of the given word.

SOOTHE

Options :

1. ✓ Pacify

2. ✖ Aggravate

3. ✖ Agitate

4. ✖ Incite

Question Number : 141 Question Id : 9983671667 Question Type : MCQ Option Shuffling : Yes

Correct Marks : 1 Wrong Marks : 0.25

Select the most appropriate synonym of the given word.

SOOTHE

Options :

1. ✔ Pacify

2. ✖ Aggravate

3. ✖ Agitate

4. ✖ Incite

Question Number : 142 Question Id : 9983671668 Question Type : MCQ Option Shuffling : Yes

Correct Marks : 1 Wrong Marks : 0.25

Select the most appropriate synonym of the given word.

INCRIMINATE

Options :

1. ✔ Prosecute

2. ✖ Exonerate

3. ✖ Pardon

4. ✖ Exculpate

Question Number : 142 Question Id : 9983671668 Question Type : MCQ Option Shuffling : Yes
Correct Marks : 1 Wrong Marks : 0.25

Select the most appropriate synonym of the given word.

INCRIMINATE

Options :

1. ✔ Prosecute

2. ✖ Exonerate

3. ✖ Pardon

4. ✖ Exculpate

Question Number : 143 Question Id : 9983671669 Question Type : MCQ Option Shuffling : Yes
Correct Marks : 1 Wrong Marks : 0.25

Select the most appropriate synonym of the given word.

CLAMOROUS

Options :

1. ✖ Monotonous

2. ✖ Motionless

3. ✖ Placid

4. ✓ Boisterous

Question Number : 143 Question Id : 9983671669 Question Type : MCQ Option Shuffling : Yes
Correct Marks : 1 Wrong Marks : 0.25

Select the most appropriate synonym of the given word.

CLAMOROUS

Options :

1. ✗ Monotonous

2. ✗ Motionless

3. ✗ Placid

4. ✓ Boisterous

Question Number : 144 Question Id : 9983671670 Question Type : MCQ Option Shuffling : Yes
Correct Marks : 1 Wrong Marks : 0.25

Select the most appropriate synonym of the given word.

PLIABLE

Options :

1. ✗ Obstinate

2. ✓ Flexible

3. ✗ Keen

4. ✗ Huge

Question Number : 144 Question Id : 9983671670 Question Type : MCQ Option Shuffling : Yes

Correct Marks : 1 Wrong Marks : 0.25

Select the most appropriate synonym of the given word.

PLIABLE

Options :

1. ✘ Obstinate

2. ✔ Flexible

3. ✘ Keen

4. ✘ Huge

Question Number : 145 Question Id : 9983671671 Question Type : MCQ Option Shuffling : Yes

Correct Marks : 1 Wrong Marks : 0.25

Select the most appropriate synonym of the given word.

IMPETUOUS

Options :

1. ✘ Cautious

2. ✘ Leisurely

3. ✔ Impulsive

4. ✘ Lucky

Question Number : 145 Question Id : 9983671671 Question Type : MCQ Option Shuffling : Yes

Correct Marks : 1 Wrong Marks : 0.25

Select the most appropriate synonym of the given word.

IMPETUOUS

Options :

1. ✘ Cautious
2. ✘ Leisurely
3. ✔ Impulsive
4. ✘ Lucky

Question Number : 146 Question Id : 9983671672 Question Type : MCQ Option Shuffling : Yes
Correct Marks : 1 Wrong Marks : 0.25

Select the most appropriate ANTONYM of the given word.

FAWNING

Options :

1. ✘ Flattering
2. ✔ Disinterested
3. ✘ Bootlicking
4. ✘ Sycophantic

Question Number : 146 Question Id : 9983671672 Question Type : MCQ Option Shuffling : Yes
Correct Marks : 1 Wrong Marks : 0.25

Select the most appropriate ANTONYM of the given word.

FAWNING

Options :

1. ✘ Flattering
2. ✔ Disinterested
3. ✘ Bootlicking
4. ✘ Sycophantic

Question Number : 147 Question Id : 9983671673 Question Type : MCQ Option Shuffling : Yes
Correct Marks : 1 Wrong Marks : 0.25

Select the most appropriate ANTONYM of the underlined word.

After a tedious day at office I went to café coffee day to relax.

Options :

1. ✔ exciting
2. ✘ drab
3. ✘ poky
4. ✘ irksome

Question Number : 147 Question Id : 9983671673 Question Type : MCQ Option Shuffling : Yes
Correct Marks : 1 Wrong Marks : 0.25

Select the most appropriate ANTONYM of the underlined word.

After a tedious day at office I went to café coffee day to relax.

Options :

1. ✓ exciting

2. ✗ drab

3. ✗ poky

4. ✗ irksome

Question Number : 148 Question Id : 9983671674 Question Type : MCQ Option Shuffling : Yes
Correct Marks : 1 Wrong Marks : 0.25

Select the most appropriate ANTONYM of the underlined word.

Yatin is a person of noble nature and unsullied character.

Options :

1. ✗ immaculate

2. ✗ pristine

3. ✓ defiled

4. ✗ spotless

Question Number : 148 Question Id : 9983671674 Question Type : MCQ Option Shuffling : Yes
Correct Marks : 1 Wrong Marks : 0.25

Select the most appropriate ANTONYM of the underlined word.

Yatin is a person of noble nature and unsullied character.

Options :

1. ✘ immaculate

2. ✘ pristine

3. ✔ defiled

4. ✘ spotless

Question Number : 149 Question Id : 9983671675 Question Type : MCQ Option Shuffling : Yes

Correct Marks : 1 Wrong Marks : 0.25

Select the most appropriate ANTONYM of the underlined word.

Since Tarun was fretting a little too much while running a race, he fell down again.

Options :

1. ✘ anguished

2. ✘ agonized

3. ✘ grieving

4. ✔ calm

Question Number : 149 Question Id : 9983671675 Question Type : MCQ Option Shuffling : Yes

Correct Marks : 1 Wrong Marks : 0.25

Select the most appropriate ANTONYM of the underlined word.

Since Tarun was fretting a little too much while running a race, he fell down again.

Options :

1. ✘ anguished

2. ✘ agonized

3. ✘ grieving

4. ✔ calm

Question Number : 150 Question Id : 9983671676 Question Type : MCQ Option Shuffling : Yes
Correct Marks : 1 Wrong Marks : 0.25

Select the most appropriate ANTONYM of the underlined word.

For days Sangeeta was morose, and Deepak could do nothing to cheer her up.

Options :

1. ✘ crabby

2. ✔ cheerful

3. ✘ grouchy

4. ✘ melancholy

Question Number : 150 Question Id : 9983671676 Question Type : MCQ Option Shuffling : Yes
Correct Marks : 1 Wrong Marks : 0.25

Select the most appropriate ANTONYM of the underlined word.

For days Sangeeta was morose, and Deepak could do nothing to cheer her up.

Options :

1. ✘ crabby

2. ✔ cheerful

3. ✘ grouchy

4. ✘ melancholy

Sub-Section Number: 2
Sub-Section Id: 99836789
Question Shuffling Allowed : Yes

Question Id : 9983671677 Question Type : COMPREHENSION Sub Question Shuffling Allowed : Yes Group Comprehension Questions : No

Question Numbers : (151 to 155)

Read the following passage and answer the questions given after it.

Ever since we began barging into their spaces, wild animals have had to either flee deeper into the forests or adapt and learn to live with us. Animals like elephants and tigers use forest corridors to get from one forest to another and we have encroached on these, building expressways or setting up tea and coffee plantations. Still, elephants will use these traditional routes, even if a little warily, and, of course, sometimes, there is trouble. Roads and highways running through wildlife territories pose a grave danger: because we drive recklessly, an inordinately high number of animals get run over and killed.

In Gujarat's Gir forest, the problem seems to be developing the other way around, not that we have left the National Park and Sanctuary sacrosanct. The lions are now bursting out of the protected area into the southern regions of the forest and into what we see as "our" space. While, generally, both humans and lions are learning to live with each other, you really wonder how tenable this situation will be in the future: we are turning increasingly intolerant and lynch-loving, and as the lion population grows, so will hostile interactions.

Leopards, too, have quickly learned to adapt to semi-urban living. As long as they have a forest to take cover in, they're quite happy to be living on the edges of urban areas, taking dogs, pigs and goats (and tragically, the odd child). Gurugram and Borivali (in Mumbai) are prime examples. But leopards frequently land in trouble, somehow finding themselves in someone's bathroom or at the bottom of a well. The hysteria displayed by us in these situations is, to say the least, totally unedifying.

Sub questions

Question Number : 151 Question Id : 9983671678 Question Type : MCQ Option Shuffling : Yes

Correct Marks : 1 Wrong Marks : 0.25

How have we encroached the forest space that is meant for animals?

Options :

1. ✖ We haven't encroached the forest and it's corridors.
2. ✖ By visiting the forest frequently.
3. ✖ By starting to live in the forest.

By building expressways, setting up tea and coffee

4. ✓ plantations.

Question Number : 152 Question Id : 9983671679 Question Type : MCQ Option Shuffling : Yes

Correct Marks : 1 Wrong Marks : 0.25

Why is it dangerous to drive on roads and highways through forest areas?

Options :

1. ✘ Roads and highways are not constructed for us.

When driving recklessly, animals get run over and

2. ✓ killed.

3. ✘ Animals provide the key to safety but only in forests.

4. ✘ Because we don't like to drive through jungles.

Question Number : 153 Question Id : 9983671680 Question Type : MCQ Option Shuffling : Yes

Correct Marks : 1 Wrong Marks : 0.25

Based on the passage which of the following is NOT true.

Options :

Roads and highways running through wildlife

1. ✓ territories pose no danger to wild animals.

Animals like elephants and tigers use forest corridors to get from one forest to another and we have

2. ✘ encroached on these.

Leopards, too, have quickly learned to adapt to semi-

3. ✘ urban living.

The lions are now bursting out of the protected area into the southern regions of the forest and into what

4. ✖ we see as “our” space.

Question Number : 154 Question Id : 9983671681 Question Type : MCQ Option Shuffling : Yes

Correct Marks : 1 Wrong Marks : 0.25

According to the passage what are we, as humans, increasingly turning into?

Options :

1. ✖ Tolerant and peace loving

2. ✖ Intolerant and peace loving

3. ✔ Intolerant and lynch loving

4. ✖ Tolerant and lynch loving

Question Number : 155 Question Id : 9983671682 Question Type : MCQ Option Shuffling : Yes

Correct Marks : 1 Wrong Marks : 0.25

Select the option that can be used as a one-word substitute for the given group of words.

Behavior exhibiting excessive or uncontrollable emotions such as fear or panic.

Options :

1. ✖ Warily

2. ✖ Inordinate

3. ✖ Unedifying

4. ✓ Hysteria

Question Id : 9983671677 Question Type : COMPREHENSION Sub Question Shuffling Allowed : Yes Group Comprehension Questions : No

Question Numbers : (151 to 155)

Read the following passage and answer the questions given after it.

Ever since we began barging into their spaces, wild animals have had to either flee deeper into the forests or adapt and learn to live with us. Animals like elephants and tigers use forest corridors to get from one forest to another and we have encroached on these, building expressways or setting up tea and coffee plantations. Still, elephants will use these traditional routes, even if a little warily, and, of course, sometimes, there is trouble. Roads and highways running through wildlife territories pose a grave danger: because we drive recklessly, an inordinately high number of animals get run over and killed.

In Gujarat's Gir forest, the problem seems to be developing the other way around, not that we have left the National Park and Sanctuary sacrosanct. The lions are now bursting out of the protected area into the southern regions of the forest and into what we see as "our" space. While, generally, both humans and lions are learning to live with each other, you really wonder how tenable this situation will be in the future: we are turning increasingly intolerant and lynch-loving, and as the lion population grows, so will hostile interactions.

Leopards, too, have quickly learned to adapt to semi-urban living. As long as they have a forest to take cover in, they're quite happy to be living on the edges of urban areas, taking dogs, pigs and goats (and tragically, the odd child). Gurugram and Borivali (in Mumbai) are prime examples. But leopards frequently land in trouble, somehow finding themselves in someone's bathroom or at the bottom of a well. The hysteria displayed by us in these situations is, to say the least, totally unedifying.

Sub questions

Question Number : 151 Question Id : 9983671678 Question Type : MCQ Option Shuffling : Yes Correct Marks : 1 Wrong Marks : 0.25

How have we encroached the forest space that is meant for animals?

Options :

1. ✘ We haven't encroached the forest and it's corridors.

2. ✘ By visiting the forest frequently.

3. ✘ By starting to live in the forest.

4. ✔ By building expressways, setting up tea and coffee plantations.

Question Number : 152 Question Id : 9983671679 Question Type : MCQ Option Shuffling : Yes

Correct Marks : 1 Wrong Marks : 0.25

Why is it dangerous to drive on roads and highways through forest areas?

Options :

1. ✘ Roads and highways are not constructed for us.

2. ✔ When driving recklessly, animals get run over and killed.

3. ✘ Animals provide the key to safety but only in forests.

4. ✘ Because we don't like to drive through jungles.

Question Number : 153 Question Id : 9983671680 Question Type : MCQ Option Shuffling : Yes

Correct Marks : 1 Wrong Marks : 0.25

Based on the passage which of the following is NOT true.

Options :

Roads and highways running through wildlife territories pose no danger to wild animals.

1. ✓

Animals like elephants and tigers use forest corridors to get from one forest to another and we have encroached on these.

2. ✗

Leopards, too, have quickly learned to adapt to semi-urban living.

3. ✗

The lions are now bursting out of the protected area into the southern regions of the forest and into what we see as “our” space.

4. ✗

Question Number : 154 Question Id : 9983671681 Question Type : MCQ Option Shuffling : Yes
Correct Marks : 1 Wrong Marks : 0.25

According to the passage what are we, as humans, increasingly turning into?

Options :

1. ✗ Tolerant and peace loving

2. ✗ Intolerant and peace loving

3. ✓ Intolerant and lynch loving

4. ✗ Tolerant and lynch loving

Question Number : 155 Question Id : 9983671682 Question Type : MCQ Option Shuffling : Yes

Correct Marks : 1 Wrong Marks : 0.25

Select the option that can be used as a one-word substitute for the given group of words.

Behavior exhibiting excessive or uncontrollable emotions such as fear or panic.

Options :

1. ✘ Warily

2. ✘ Inordinate

3. ✘ Unedifying

4. ✔ Hysteria

Sub-Section Number:	3
Sub-Section Id:	99836790
Question Shuffling Allowed :	Yes

Question Id : 9983671683 Question Type : COMPREHENSION Sub Question Shuffling Allowed : Yes Group Comprehension Questions : No

Question Numbers : (156 to 160)

Read the following passage and answer the questions given after it.

From texts as dissimilar as the 1968 cult classic *Night of the Living Dead* and the comparatively sophisticated *Andromeda Strain*, which was published the following year and made Michael Crichton's reputation, popular culture has generally held bugs from space responsible for the plagues of humankind. Nothing less would seem to account for their cataclysmic arrival, seemingly out of nowhere. The truth is completely prosaic, though — plagues are anthropogenic, and break out when humans alter ecosystems to favour a particular organism, or wipe out the competition to create greenfield spaces for hardy organisms. Such is the story of the superfungus *Candida auris*, which was discovered only in 2009 and has spread to 32 countries, causing deaths and alarms and excursions in hospitals on three continents.

The rise of *C. auris*, which may have lurked unnoticed for millennia, owes entirely to human intervention — the massive use of fungicides in agriculture and on farm animals which winnowed away more vulnerable species, giving the last bug standing a free run. Sensitised to clinical fungicides, *C. auris* has proved to be difficult to extirpate, and culls infected humans who cannot fight diseases very effectively — infants, the old, diabetics, people with immune suppression, either because of diseases like HIV or the use of steroids. The new superfungus has the makings of a future plague, one of several which may cumulatively surpass cancer as a leading killer in a few decades.

Sub questions

Question Number : 156 Question Id : 9983671684 Question Type : MCQ Option Shuffling : Yes
Correct Marks : 1 Wrong Marks : 0.25

In which year was *Andromeda Strain* published?

Options :

1. ✘ 1967

2. ✔ 1969

3. ✘ 1978

4. ✘ 2009

Question Number : 157 Question Id : 9983671685 Question Type : MCQ Option Shuffling : Yes
Correct Marks : 1 Wrong Marks : 0.25

To how many continents did C. Auris spread during 2009?

Options :

1. ✘ Two

2. ✔ Three

3. ✘ Four

4. ✘ Five

Question Number : 158 Question Id : 9983671686 Question Type : MCQ Option Shuffling : Yes

Correct Marks : 1 Wrong Marks : 0.25

The main cause of rise of C. Auris was _____.

Options :

1. ✘ Not using fungicides in agriculture to keep from fungus and other insects

2. ✘ Less than required use of fungicides

3. ✘ Massive use of medicines over people

4. ✔ Massive use of fungicides in agriculture

Question Number : 159 Question Id : 9983671687 Question Type : MCQ Option Shuffling : Yes

Correct Marks : 1 Wrong Marks : 0.25

Select the option that can be used as a one-word substitute for the given group of words.

Causing great destruction

Options :

1. ✖ Prosaic
2. ✖ Alarum
3. ✔ Cataclysmic
4. ✖ Suppressive

Question Number : 160 Question Id : 9983671688 Question Type : MCQ Option Shuffling : Yes

Correct Marks : 1 Wrong Marks : 0.25

Select the most appropriate synonym of the given word.

EXTIRPATE

Options :

1. ✔ Annihilate
2. ✖ Generate
3. ✖ Spawn
4. ✖ Deposit

Question Id : 9983671683 Question Type : COMPREHENSION Sub Question Shuffling Allowed : Yes Group Comprehension Questions : No

Question Numbers : (156 to 160)

Read the following passage and answer the questions given after it.

From texts as dissimilar as the 1968 cult classic *Night of the Living Dead* and the comparatively sophisticated *Andromeda Strain*, which was published the following year and made Michael Crichton's reputation, popular culture has generally held bugs from space responsible for the plagues of humankind. Nothing less would seem to account for their cataclysmic arrival, seemingly out of nowhere. The truth is completely prosaic, though — plagues are anthropogenic, and break out when humans alter ecosystems to favour a particular organism, or wipe out the competition to create greenfield spaces for hardy organisms. Such is the story of the superfungus *Candida auris*, which was discovered only in 2009 and has spread to 32 countries, causing deaths and alarms and excursions in hospitals on three continents.

The rise of *C. auris*, which may have lurked unnoticed for millennia, owes entirely to human intervention — the massive use of fungicides in agriculture and on farm animals which winnowed away more vulnerable species, giving the last bug standing a free run. Sensitised to clinical fungicides, *C. auris* has proved to be difficult to extirpate, and culls infected humans who cannot fight diseases very effectively — infants, the old, diabetics, people with immune suppression, either because of diseases like HIV or the use of steroids. The new superfungus has the makings of a future plague, one of several which may cumulatively surpass cancer as a leading killer in a few decades.

Sub questions

Question Number : 156 Question Id : 9983671684 Question Type : MCQ Option Shuffling : Yes
Correct Marks : 1 Wrong Marks : 0.25

In which year was *Andromeda Strain* published?

Options :

1. ✘ 1967

2. ✔ 1969

3. ✘ 1978

4. ✘ 2009

Question Number : 157 Question Id : 9983671685 Question Type : MCQ Option Shuffling : Yes

Correct Marks : 1 Wrong Marks : 0.25

To how many continents did C. Auris spread during 2009?

Options :

1. ✘ Two

2. ✔ Three

3. ✘ Four

4. ✘ Five

Question Number : 158 Question Id : 9983671686 Question Type : MCQ Option Shuffling : Yes

Correct Marks : 1 Wrong Marks : 0.25

The main cause of rise of C. Auris was _____.

Options :

1. ✘ Not using fungicides in agriculture to keep from fungus and other insects

2. ✘ Less than required use of fungicides

3. ✘ Massive use of medicines over people

4. ✔ Massive use of fungicides in agriculture

Question Number : 159 Question Id : 9983671687 Question Type : MCQ Option Shuffling : Yes

Correct Marks : 1 Wrong Marks : 0.25

Select the option that can be used as a one-word substitute for the given group of words.

Causing great destruction

Options :

1. ✘ Prosaic
2. ✘ Alarum
3. ✔ Cataclysmic
4. ✘ Suppressive

Question Number : 160 Question Id : 9983671688 Question Type : MCQ Option Shuffling : Yes

Correct Marks : 1 Wrong Marks : 0.25

Select the most appropriate synonym of the given word.

EXTIRPATE

Options :

1. ✔ Annihilate
2. ✘ Generate
3. ✘ Spawn
4. ✘ Deposit

General Hindi1

Group Number :	9
Group Id :	99836745
Group Maximum Duration :	0
Group Minimum Duration :	0
Show Attended Group? :	No
Edit Attended Group? :	No
Break time:	0
Group Marks:	20
Is this Group for Examiner?:	No
Revisit allowed for group Instructions? :	Yes
Maximum Instruction Time:	0
Minimum Instruction Time:	0

General Hindi1

Section Id :	99836751
Section Number :	1
Section type :	Online
Mandatory or Optional:	Mandatory
Number of Questions:	20
Number of Questions to be attempted:	20
Section Marks:	20

Sub-Section Number:	1
Sub-Section Id:	99836791
Question Shuffling Allowed :	Yes

Question Number : 161 Question Id : 9983671689 Question Type : MCQ Option Shuffling : Yes
Correct Marks : 1 Wrong Marks : 0.25

वर्तनी की दृष्टि से सही शब्द कौन सा है?

Options :

1. ✘ अस्पृश्यता

2. ✔ अस्पृश्यता

3. ✘ अस्पृश्यता

4. ✖ अस्पृश्यता

Question Number : 161 Question Id : 9983671689 Question Type : MCQ Option Shuffling : Yes
Correct Marks : 1 Wrong Marks : 0.25

वर्तनी की दृष्टि से सही शब्द कौन सा है?

Options :

1. ✖ अस्पृश्यता

2. ✔ अस्पृश्यता

3. ✖ अस्पृश्यता

4. ✖ अस्पृश्यता

Question Number : 162 Question Id : 9983671690 Question Type : MCQ Option Shuffling : Yes
Correct Marks : 1 Wrong Marks : 0.25

किस शब्द की वर्तनी मानक है?

Note: For this question, discrepancy is found in question/answer. So, this question is ignored for all candidates.

Options :

1. शूश्रूषा

2. शूश्रुषा

3. सुश्रूषा

4. शुश्रूसा

Question Number : 162 Question Id : 9983671690 Question Type : MCQ Option Shuffling : Yes
Correct Marks : 1 Wrong Marks : 0.25

किस शब्द की वर्तनी मानक है?

Note: For this question, discrepancy is found in question/answer. So, this question is ignored for all candidates.

Options :

1. श्रूषा
2. श्रुषा
3. सुश्रूषा
4. शुश्रूसा

Question Number : 163 Question Id : 9983671691 Question Type : MCQ Option Shuffling : Yes
Correct Marks : 1 Wrong Marks : 0.25

जिसका आदर न किया गया हो, उसके लिए कौन सा शब्द प्रयुक्त होगा?

Options :

1. * अपमानित
2. * अपेक्षित
3. ✓ अनादृत
4. * अनाहूत

Question Number : 163 Question Id : 9983671691 Question Type : MCQ Option Shuffling : Yes
Correct Marks : 1 Wrong Marks : 0.25

जिसका आदर न किया गया हो, उसके लिए कौन सा शब्द प्रयुक्त होगा?

Options :

1. ✘ अपमानित

2. ✘ अपेक्षित

3. ✔ अनादृत

4. ✘ अनाहूत

Question Number : 164 Question Id : 9983671692 Question Type : MCQ Option Shuffling : Yes
Correct Marks : 1 Wrong Marks : 0.25

‘दशानन’ शब्द की व्याकरणिक कोटि क्या है?

Options :

1. ✔ योग रूढ़

2. ✘ रूढ़

3. ✘ भौगिक

4. ✘ संकर

Question Number : 164 Question Id : 9983671692 Question Type : MCQ Option Shuffling : Yes
Correct Marks : 1 Wrong Marks : 0.25

‘दशानन’ शब्द की व्याकरणिक कोटि क्या है?

Options :

1. ✔ योग रूढ़

2. ✖ रूढ़

3. ✖ भौगिक

4. ✖ संकर

Question Number : 165 Question Id : 9983671693 Question Type : MCQ Option Shuffling : Yes

Correct Marks : 1 Wrong Marks : 0.25

‘औरत’ शब्द किस भाषा का है?

Options :

1. ✖ उर्दू

2. ✔ अरबी

3. ✖ तुर्की

4. ✖ फ़ारसी

Question Number : 165 Question Id : 9983671693 Question Type : MCQ Option Shuffling : Yes

Correct Marks : 1 Wrong Marks : 0.25

‘औरत’ शब्द किस भाषा का है?

Options :

1. ✖ उर्दू

2. ✔ अरबी

3. ✖ तुर्की

4. ✖ फ़ारसी

Question Number : 166 Question Id : 9983671694 Question Type : MCQ Option Shuffling : Yes
Correct Marks : 1 Wrong Marks : 0.25

'मिलनसार' शब्द किस व्याकरणिक कोटि में आता है?

Options :

1. ✖ क्रिया विशेषण

2. ✖ गुणवाचक संज्ञा

3. ✖ भाववाचक संज्ञा

4. ✔ विशेषण

Question Number : 166 Question Id : 9983671694 Question Type : MCQ Option Shuffling : Yes
Correct Marks : 1 Wrong Marks : 0.25

'मिलनसार' शब्द किस व्याकरणिक कोटि में आता है?

Options :

1. ✖ क्रिया विशेषण

2. ✖ गुणवाचक संज्ञा

3. ✖ भाववाचक संज्ञा

4. ✓ विशेषण

Question Number : 167 Question Id : 9983671695 Question Type : MCQ Option Shuffling : Yes
Correct Marks : 1 Wrong Marks : 0.25

अनिश्चयवाचक सर्वनाम कौन से है?

Options :

1. ✓ कुछ, कोई, किसी

2. ✗ हम, हमारा, हमें

3. ✗ कौन, किसे, किसने

4. ✗ यह, वह, उन्हें

Question Number : 167 Question Id : 9983671695 Question Type : MCQ Option Shuffling : Yes
Correct Marks : 1 Wrong Marks : 0.25

अनिश्चयवाचक सर्वनाम कौन से है?

Options :

1. ✓ कुछ, कोई, किसी

2. ✗ हम, हमारा, हमें

3. ✗ कौन, किसे, किसने

4. ✗ यह, वह, उन्हें

Question Number : 168 Question Id : 9983671696 Question Type : MCQ Option Shuffling : Yes
Correct Marks : 1 Wrong Marks : 0.25

प-वर्ग (प, फ, ब, भ, म) का उच्चारण स्थल कौन सा है?

Options :

1. ✘ तालु

2. ✘ दंत

3. ✔ ओष्ठ

4. ✘ कंठ

Question Number : 168 Question Id : 9983671696 Question Type : MCQ Option Shuffling : Yes
Correct Marks : 1 Wrong Marks : 0.25

प-वर्ग (प, फ, ब, भ, म) का उच्चारण स्थल कौन सा है?

Options :

1. ✘ तालु

2. ✘ दंत

3. ✔ ओष्ठ

4. ✘ कंठ

Question Number : 169 Question Id : 9983671697 Question Type : MCQ Option Shuffling : Yes
Correct Marks : 1 Wrong Marks : 0.25

कक्षा, दल, सभा और सेना शब्द किस प्रकार की संज्ञा के परिचायक हैं?

Options :

1. ✖ जातिवाचक

2. ✔ समूहवाचक

3. ✖ भाववाचक

4. ✖ व्यक्तिवाचक

Question Number : 169 Question Id : 9983671697 Question Type : MCQ Option Shuffling : Yes
Correct Marks : 1 Wrong Marks : 0.25

कक्षा, दल, सभा और सेना शब्द किस प्रकार की संज्ञा के परिचायक हैं?

Options :

1. ✖ जातिवाचक

2. ✔ समूहवाचक

3. ✖ भाववाचक

4. ✖ व्यक्तिवाचक

Question Number : 170 Question Id : 9983671698 Question Type : MCQ Option Shuffling : Yes
Correct Marks : 1 Wrong Marks : 0.25

'अपनी ढपली, अपना राग' कथन का सटीक अर्थ है:

Options :

1. ✖ अपने-अपने लोगों को उपकृत करना।

2. ✓ किसी नियम या व्यवस्था को न मानकर मनमानी करना।

3. ✘ बिना विचारे कार्य करना।

4. ✘ अपना गीत, अपना संगीत सुनाना।

Question Number : 170 Question Id : 9983671698 Question Type : MCQ Option Shuffling : Yes

Correct Marks : 1 Wrong Marks : 0.25

‘अपनी ढपली, अपना राग’ कथन का सटीक अर्थ है:

Options :

1. ✘ अपने-अपने लोगों को उपकृत करना।

2. ✓ किसी नियम या व्यवस्था को न मानकर मनमानी करना।

3. ✘ बिना विचारे कार्य करना।

4. ✘ अपना गीत, अपना संगीत सुनाना।

Question Number : 171 Question Id : 9983671699 Question Type : MCQ Option Shuffling : Yes

Correct Marks : 1 Wrong Marks : 0.25

इस गंभीर समस्या का समाधान राहुल नहीं कर सका, जबकि उसने:

Options :

1. ✘ आग में खूब घी डाला

2. ✘ घी के चिराग खूब जलाए

3. ✖ खूब गाल बजाए

4. ✔ अकल के घोड़े खूब दौड़ाए

Question Number : 171 Question Id : 9983671699 Question Type : MCQ Option Shuffling : Yes
Correct Marks : 1 Wrong Marks : 0.25

इस गंभीर समस्या का समाधान राहुल नहीं कर सका, जबकि उसने:

Options :

1. ✖ आग में खूब घी डाला

2. ✖ घी के चिराग खूब जलाए

3. ✖ खूब गाल बजाए

4. ✔ अकल के घोड़े खूब दौड़ाए

Question Number : 172 Question Id : 9983671700 Question Type : MCQ Option Shuffling : Yes
Correct Marks : 1 Wrong Marks : 0.25

कुल के लिए उचित अनेकार्थी शब्द हैं:

Options :

1. ✖ जोड़ना, साथ

2. ✔ सब, वंश

3. ✖ सभी, मिलना

4. ✖ घटा, अनेक

Question Number : 172 Question Id : 9983671700 Question Type : MCQ Option Shuffling : Yes
Correct Marks : 1 Wrong Marks : 0.25

कुल के लिए उचित अनेकार्थी शब्द हैं:

Options :

1. ✖ जोड़ना, साथ

2. ✔ सब, वंश

3. ✖ सभी, मिलना

4. ✖ घटा, अनेक

Question Number : 173 Question Id : 9983671701 Question Type : MCQ Option Shuffling : Yes
Correct Marks : 1 Wrong Marks : 0.25

किस चिह्न को अल्पविराम के नाम से जाना जाता है?

Options :

1. ✔ (,)

2. ✖ (;)

3. ✖ (!)

4. ✖ (l)

Question Number : 173 Question Id : 9983671701 Question Type : MCQ Option Shuffling : Yes
Correct Marks : 1 Wrong Marks : 0.25

किस चिह्न को अल्पविराम के नाम से जाना जाता है?

Options :

1. ✓ (,)

2. ✗ (;)

3. ✗ (!)

4. ✗ (l)

Question Number : 174 Question Id : 9983671702 Question Type : MCQ Option Shuffling : Yes

Correct Marks : 1 Wrong Marks : 0.25

कौन सा वाक्य संयुक्त वाक्य है?

Options :

1. ✗ वह मेरे बिना पढ़ नहीं सकती है।

2. ✗ जो साधना करता है, वही फल पाता है।

3. ✗ परिश्रमी विद्यार्थी ही सफलता प्राप्त करते हैं।

4. ✓ मैं पढ़ाता हूँ और वह पढ़ता है।

Question Number : 174 Question Id : 9983671702 Question Type : MCQ Option Shuffling : Yes

Correct Marks : 1 Wrong Marks : 0.25

कौन सा वाक्य संयुक्त वाक्य है?

Options :

1. ✖ वह मेरे बिना पढ़ नहीं सकती है।
2. ✖ जो साधना करता है, वही फल पाता है।
3. ✖ परिश्रमी विद्यार्थी ही सफलता प्राप्त करते हैं।
4. ✔ मैं पढ़ाता हूँ और वह पढ़ता है।

Question Number : 175 Question Id : 9983671703 Question Type : MCQ Option Shuffling : Yes
Correct Marks : 1 Wrong Marks : 0.25

स्वर संधि के कुल कितने भेद माने गए हैं?

Options :

1. ✖ तीन
2. ✔ पाँच
3. ✖ सात
4. ✖ नौ

Question Number : 175 Question Id : 9983671703 Question Type : MCQ Option Shuffling : Yes
Correct Marks : 1 Wrong Marks : 0.25

स्वर संधि के कुल कितने भेद माने गए हैं?

Options :

1. ✖ तीन

2. ✓ पाँच

3. ✗ सात

4. ✗ नौ

Question Number : 176 Question Id : 9983671704 Question Type : MCQ Option Shuffling : Yes

Correct Marks : 1 Wrong Marks : 0.25

अर्थ के आधार पर वाक्य के कुल कितने भेद किए जाते हैं?

Options :

1. ✗ छह

2. ✓ आठ

3. ✗ सात

4. ✗ पाँच

Question Number : 176 Question Id : 9983671704 Question Type : MCQ Option Shuffling : Yes

Correct Marks : 1 Wrong Marks : 0.25

अर्थ के आधार पर वाक्य के कुल कितने भेद किए जाते हैं?

Options :

1. ✗ छह

2. ✓ आठ

3. ✖ सात

4. ✖ पाँच

Question Number : 177 Question Id : 9983671705 Question Type : MCQ Option Shuffling : Yes
Correct Marks : 1 Wrong Marks : 0.25

वाक्य के प्रत्येक पद (शब्द) का व्याकरणिक परिचय कहलाता है:

Options :

1. ✖ शब्द-परिचय

2. ✖ पदबंध-परिचय

3. ✔ पद-परिचय

4. ✖ संरचना-परिचय

Question Number : 177 Question Id : 9983671705 Question Type : MCQ Option Shuffling : Yes
Correct Marks : 1 Wrong Marks : 0.25

वाक्य के प्रत्येक पद (शब्द) का व्याकरणिक परिचय कहलाता है:

Options :

1. ✖ शब्द-परिचय

2. ✖ पदबंध-परिचय

3. ✔ पद-परिचय

4. ✖ संरचना-परिचय

Question Number : 178 Question Id : 9983671706 Question Type : MCQ Option Shuffling : Yes

Correct Marks : 1 Wrong Marks : 0.25

वाक्य के अंतर्गत शब्दों के लिंग, वचन, पुरुष, कारक तथा क्रिया आदि के उचित मेल को क्या कहा जाता है?

Options :

1. ✖ अन्विति

2. ✖ आनुपातिक व्यवस्था

3. ✖ पदक्रम

4. ✔ अन्वय

Question Number : 178 Question Id : 9983671706 Question Type : MCQ Option Shuffling : Yes

Correct Marks : 1 Wrong Marks : 0.25

वाक्य के अंतर्गत शब्दों के लिंग, वचन, पुरुष, कारक तथा क्रिया आदि के उचित मेल को क्या कहा जाता है?

Options :

1. ✖ अन्विति

2. ✖ आनुपातिक व्यवस्था

3. ✖ पदक्रम

4. ✔ अन्वय

Question Number : 179 Question Id : 9983671707 Question Type : MCQ Option Shuffling : Yes

Correct Marks : 1 Wrong Marks : 0.25

'अनेकों लोगों ने कार्यक्रम में भाग लिया'- इस वाक्य में कौन-सा व्याकरणिक दोष है?

Options :

1. ✘ संज्ञा दोष

2. ✘ सर्वनाम विषयक दोष

3. ✔ वचन दोष

4. ✘ लिंग दोष

Question Number : 179 Question Id : 9983671707 Question Type : MCQ Option Shuffling : Yes

Correct Marks : 1 Wrong Marks : 0.25

'अनेकों लोगों ने कार्यक्रम में भाग लिया'- इस वाक्य में कौन-सा व्याकरणिक दोष है?

Options :

1. ✘ संज्ञा दोष

2. ✘ सर्वनाम विषयक दोष

3. ✔ वचन दोष

4. ✘ लिंग दोष

Question Number : 180 Question Id : 9983671708 Question Type : MCQ Option Shuffling : Yes

Correct Marks : 1 Wrong Marks : 0.25

आश्चर्य, घृणा, प्रसन्नता आदि भावों को व्यक्त करने के लिए प्रयुक्त होने वाले चिह्नों को क्या कहते हैं?

Options :

1. ✘ लाघव चिह्न

2. ✘ अल्प विराम चिह्न

3. ✘ प्रश्नवाचक चिह्न

4. ✔ विस्मयादिबोधक चिह्न

Question Number : 180 Question Id : 9983671708 Question Type : MCQ Option Shuffling : Yes

Correct Marks : 1 Wrong Marks : 0.25

आश्चर्य, घृणा, प्रसन्नता आदि भावों को व्यक्त करने के लिए प्रयुक्त होने वाले चिह्नों को क्या कहते हैं?

Options :

1. ✘ लाघव चिह्न

2. ✘ अल्प विराम चिह्न

3. ✘ प्रश्नवाचक चिह्न

4. ✔ विस्मयादिबोधक चिह्न

General Hindi2

Group Number :	10
Group Id :	99836746
Group Maximum Duration :	0
Group Minimum Duration :	120
Show Attended Group? :	No
Edit Attended Group? :	No
Break time:	0
Group Marks:	20

Is this Group for Examiner?:	No
Revisit allowed for group Instructions? :	Yes
Maximum Instruction Time:	0
Minimum Instruction Time:	0

General Hindi2

Section Id :	99836752
Section Number :	1
Section type :	Online
Mandatory or Optional:	Mandatory
Number of Questions:	12
Number of Questions to be attempted:	12
Section Marks:	20

Sub-Section Number:	1
Sub-Section Id:	99836792
Question Shuffling Allowed :	Yes

Question Number : 181 Question Id : 9983671709 Question Type : MCQ Option Shuffling : Yes
Correct Marks : 1 Wrong Marks : 0.25

‘शार्दूल’ शब्द का पर्यायवाची शब्द क्या है:

Options :

1. ✓ सिंह

2. ✘ अश्म

3. ✘ दविप

4. ✘ हिरण्य

Question Number : 181 Question Id : 9983671709 Question Type : MCQ Option Shuffling : Yes
Correct Marks : 1 Wrong Marks : 0.25

‘शार्दूल’ शब्द का पर्यायवाची शब्द क्या है:

Options :

1. ✓ सिंह

2. ✗ अश्म

3. ✗ द्विप

4. ✗ हिरण्य

Question Number : 182 Question Id : 9983671710 Question Type : MCQ Option Shuffling : Yes

Correct Marks : 1 Wrong Marks : 0.25

'द्विरद' शब्द का पर्यायवाची शब्द क्या है:

Options :

1. ✗ भृत्य

2. ✗ उपल

3. ✗ विधु

4. ✓ गज

Question Number : 182 Question Id : 9983671710 Question Type : MCQ Option Shuffling : Yes

Correct Marks : 1 Wrong Marks : 0.25

'द्विरद' शब्द का पर्यायवाची शब्द क्या है:

Options :

1. ✗ भृत्य

2. ✖ उपल

3. ✖ विधु

4. ✔ गज

Question Number : 183 Question Id : 9983671711 Question Type : MCQ Option Shuffling : Yes
Correct Marks : 1 Wrong Marks : 0.25

'शक्र' शब्द का पर्यायवाची शब्द क्या है:

Options :

1. ✔ इन्द्र

2. ✖ पंचबाण

3. ✖ असुरारी

4. ✖ अनंग

Question Number : 183 Question Id : 9983671711 Question Type : MCQ Option Shuffling : Yes
Correct Marks : 1 Wrong Marks : 0.25

'शक्र' शब्द का पर्यायवाची शब्द क्या है:

Options :

1. ✔ इन्द्र

2. ✖ पंचबाण

3. ✖ असुरारी

4. ✖ अनंग

Question Number : 184 Question Id : 9983671712 Question Type : MCQ Option Shuffling : Yes
Correct Marks : 1 Wrong Marks : 0.25

‘प्रस्तर’ शब्द का पर्यायवाची शब्द नहीं है:

Options :

1. ✖ शैल

2. ✔ वारि

3. ✖ पाषाण

4. ✖ अश्म

Question Number : 184 Question Id : 9983671712 Question Type : MCQ Option Shuffling : Yes
Correct Marks : 1 Wrong Marks : 0.25

‘प्रस्तर’ शब्द का पर्यायवाची शब्द नहीं है:

Options :

1. ✖ शैल

2. ✔ वारि

3. ✖ पाषाण

4. ✘ अश्म

Question Number : 185 Question Id : 9983671713 Question Type : MCQ Option Shuffling : Yes
Correct Marks : 1 Wrong Marks : 0.25

‘सारंग’ शब्द का पर्यायवाची शब्द क्या है?

Options :

1. ✔ मृग

2. ✘ अश्व

3. ✘ करि

4. ✘ कृशानु

Question Number : 185 Question Id : 9983671713 Question Type : MCQ Option Shuffling : Yes
Correct Marks : 1 Wrong Marks : 0.25

‘सारंग’ शब्द का पर्यायवाची शब्द क्या है?

Options :

1. ✔ मृग

2. ✘ अश्व

3. ✘ करि

4. ✘ कृशानु

Question Number : 186 Question Id : 9983671714 Question Type : MCQ Option Shuffling : Yes

Correct Marks : 1 Wrong Marks : 0.25

‘निर्मल’ शब्द का विलोम शब्द क्या है?

Options :

1. ✘ धवल

2. ✘ प्रज्वल

3. ✔ मलिन

4. ✘ उज्ज्वल

Question Number : 186 Question Id : 9983671714 Question Type : MCQ Option Shuffling : Yes

Correct Marks : 1 Wrong Marks : 0.25

‘निर्मल’ शब्द का विलोम शब्द क्या है?

Options :

1. ✘ धवल

2. ✘ प्रज्वल

3. ✔ मलिन

4. ✘ उज्ज्वल

Question Number : 187 Question Id : 9983671715 Question Type : MCQ Option Shuffling : Yes

Correct Marks : 1 Wrong Marks : 0.25

‘सुषुप्ति’ शब्द का विलोम शब्द क्या है?

Options :

1. ✖ निवृत्ति

2. ✖ तृप्ति

3. ✖ प्रवृत्ति

4. ✔ जागृति

Question Number : 187 Question Id : 9983671715 Question Type : MCQ Option Shuffling : Yes

Correct Marks : 1 Wrong Marks : 0.25

‘सुषुप्ति’ शब्द का विलोम शब्द क्या है?

Options :

1. ✖ निवृत्ति

2. ✖ तृप्ति

3. ✖ प्रवृत्ति

4. ✔ जागृति

Question Number : 188 Question Id : 9983671716 Question Type : MCQ Option Shuffling : Yes

Correct Marks : 1 Wrong Marks : 0.25

‘विषण्ण’ शब्द का विलोम शब्द क्या है?

Options :

1. ✖ निष्पण्ण

2. ✓ सम्पन्न

3. ✘ आसन्न

4. ✘ विषण्ण

Question Number : 188 Question Id : 9983671716 Question Type : MCQ Option Shuffling : Yes
Correct Marks : 1 Wrong Marks : 0.25

'विपन्न' शब्द का विलोम शब्द क्या है?

Options :

1. ✘ निष्पन्न

2. ✓ सम्पन्न

3. ✘ आसन्न

4. ✘ विषण्ण

Question Number : 189 Question Id : 9983671717 Question Type : MCQ Option Shuffling : Yes
Correct Marks : 1 Wrong Marks : 0.25

'विकर्षण' शब्द का विलोम शब्द क्या होगा?

Options :

1. ✓ आकर्षण

2. ✘ अपकर्षण

3. ✖ घृणा

4. ✖ वितृष्णा

Question Number : 189 Question Id : 9983671717 Question Type : MCQ Option Shuffling : Yes
Correct Marks : 1 Wrong Marks : 0.25

'विकर्षण' शब्द का विलोम शब्द क्या होगा?

Options :

1. ✔ आकर्षण

2. ✖ अपकर्षण

3. ✖ घृणा

4. ✖ वितृष्णा

Question Number : 190 Question Id : 9983671718 Question Type : MCQ Option Shuffling : Yes
Correct Marks : 1 Wrong Marks : 0.25

कौन-सा युग्म परस्पर विलोम शब्दों का नहीं है?

Options :

1. ✖ यश-अपयश

2. ✖ कुटिल-सरल

3. ✖ सुधा-गरल

4. ✓ उत्कर्ष-उन्नयन

Question Number : 190 Question Id : 9983671718 Question Type : MCQ Option Shuffling : Yes
Correct Marks : 1 Wrong Marks : 0.25

कौन-सा युग्म परस्पर विलोम शब्दों का नहीं है?

Options :

1. ✗ यश-अपयश

2. ✗ कुटिल-सरल

3. ✗ सुधा-गरल

4. ✓ उत्कर्ष-उन्नयन

Sub-Section Number: 2
Sub-Section Id: 99836793
Question Shuffling Allowed : Yes

Question Id : 9983671719 Question Type : COMPREHENSION Sub Question Shuffling Allowed : Yes Group Comprehension
Questions : No

Question Numbers : (191 to 195)

निम्नलिखित गद्यंश को पढ़कर उसका सही उत्तर दीजिये।

भारत एक विशाल देश है। जलवायु में स्थान-भेद के कारण यहाँ पर्याप्त भिन्नता भी है। जलवायु का असर यहाँ के निवासियों के शरीर और मस्तिष्क पर भी पड़ता है। इसी के कारण रहन-सहन में चुनौतियाँ भी आती हैं। पहाड़ की अलग और रेगिस्तान की चुनौतियाँ अलग। जिंदगी कठिन बन जाती है। मराठाओं और राजपूतों के शरीर सशक्त बन जाते हैं। पठारों की ज़मीन उपजाऊ होती है। वहाँ अधिक ताकत नहीं लगानी पड़ती। इस विविधता का एक प्रमाण भाषाओं की भिन्नता भी है। वेशभूषा, खानपान की भिन्न-भिन्न हो जाते हैं। विज्ञान ने देश की समस्याओं और चुनौतियों को कम तो किया है। भाषाओं के बीच भी एकता और स्वीकृति बनी है। मंदिर, पूजा-पद्धति, धार्मिक एकता, सांस्कृतिक एकता मिलकर पूरे भारत की ताकत बनाते हैं। देश के भूगोल ने भी सीमाबद्ध कर एकता को ताकत प्रदान की है।

Sub questions

Question Number : 191 Question Id : 9983671720 Question Type : MCQ Option Shuffling : Yes Correct Marks : 1 Wrong Marks : 0.25

भारत में एकता के बावजूद भिन्नता क्यों है?

Options :

1. ✓ जलवायु में स्थान भेद के कारण
2. ✘ नागरिकों की वैचारिक एकता के कारण
3. ✘ प्राकृतिक आपदाओं के कारण
4. ✘ कार्य करने की क्षमताओं में अंतर के कारण

Question Number : 192 Question Id : 9983671721 Question Type : MCQ Option Shuffling : Yes Correct Marks : 1 Wrong Marks : 0.25

जलवायु का असर देशवासियों पर कैसे दिखाई देता है?

Options :

1. ✖ देशवासियों की आर्थिक स्थिति पर दिखाई देता है
2. ✖ देशवासियों की धार्मिक भावनाओं पर दिखाई देता है
3. ✔ देशवासियों के शरीर और मस्तिष्क पर दिखाई देता है
4. ✖ देशवासियों की आय पर दिखाई देता है

Question Number : 193 Question Id : 9983671722 Question Type : MCQ Option Shuffling : Yes
Correct Marks : 1 Wrong Marks : 0.25

भारतीय भिन्नताओं के प्रमाण कहाँ-कहाँ दिखाई देते हैं?

Options :

1. ✖ पढ़ाई-लिखाई के क्षेत्र में
2. ✔ भाषा, वेशभूषा और खान-पान के क्षेत्र में
3. ✖ कामकाज के क्षेत्र में
4. ✖ जीवन-स्तर के क्षेत्र में

Question Number : 194 Question Id : 9983671723 Question Type : MCQ Option Shuffling : Yes
Correct Marks : 1 Wrong Marks : 0.25

पूरे भारत की ताकत क्या बनते हैं?

Options :

1. ✖ खान-पान के आस्वाद आदि।
2. ✖ वेशभूषा के तरीके एवं पद्धति आदि।
3. ✖ कामकाज के तरीके आदि।

भाषाई एकता, मंदिर, पूजा-पद्धति धार्मिक एकता

4. ✔ आदि।

Question Number : 195 Question Id : 9983671724 Question Type : MCQ Option Shuffling : Yes
Correct Marks : 1 Wrong Marks : 0.25

“शरीर-सशक्त बन जाते हैं” में सशक्त से क्या
अभिप्राय है?

Options :

1. ✖ ढीले-ढाले बन जाते हैं।
2. ✖ आलसी बन जाते हैं।
3. ✔ शक्तिशाली बन जाते हैं।
4. ✖ अकर्मव्य बन जाते हैं।

Question Id : 9983671719 Question Type : COMPREHENSION Sub Question Shuffling Allowed : Yes Group Comprehension
Questions : No

Question Numbers : (191 to 195)

निम्नलिखित गद्यंश को पढ़कर उसका सही उत्तर दीजिये।

भारत एक विशाल देश है। जलवायु में स्थान-भेद के कारण यहाँ पर्याप्त भिन्नता भी है। जलवायु का असर यहाँ के निवासियों के शरीर और मस्तिष्क पर भी पड़ता है। इसी के कारण रहन-सहन में चुनौतियाँ भी आती हैं। पहाड़ की अलग और रेगिस्तान की चुनौतियाँ अलग। जिंदगी कठिन बन जाती है। मराठाओं और राजपूतों के शरीर सशक्त बन जाते हैं। पठारों की ज़मीन उपजाऊ होती है। वहाँ अधिक ताकत नहीं लगानी पड़ती। इस विविधता का एक प्रमाण भाषाओं की भिन्नता भी है। वेशभूषा, खानपान की भिन्न-भिन्न हो जाते हैं। विज्ञान ने देश की समस्याओं और चुनौतियों को कम तो किया है। भाषाओं के बीच भी एकता और स्वीकृति बनी है। मंदिर, पूजा-पद्धति, धार्मिक एकता, सांस्कृतिक एकता मिलकर पूरे भारत की ताकत बनाते हैं। देश के भूगोल ने भी सीमाबद्ध कर एकता को ताकत प्रदान की है।

Sub questions

Question Number : 191 Question Id : 9983671720 Question Type : MCQ Option Shuffling : Yes Correct Marks : 1 Wrong Marks : 0.25

भारत में एकता के बावजूद भिन्नता क्यों है?

Options :

1. ✓ जलवायु में स्थान भेद के कारण
2. ✗ नागरिकों की वैचारिक एकता के कारण
3. ✗ प्राकृतिक आपदाओं के कारण
4. ✗ कार्य करने की क्षमताओं में अंतर के कारण

Question Number : 192 Question Id : 9983671721 Question Type : MCQ Option Shuffling : Yes Correct Marks : 1 Wrong Marks : 0.25

जलवायु का असर देशवासियों पर कैसे दिखाई देता है?

Options :

1. ✘ देशवासियों की आर्थिक स्थिति पर दिखाई देता है
2. ✘ देशवासियों की धार्मिक भावनाओं पर दिखाई देता है
3. ✔ देशवासियों के शरीर और मस्तिष्क पर दिखाई देता है
4. ✘ देशवासियों की आय पर दिखाई देता है

Question Number : 193 Question Id : 9983671722 Question Type : MCQ Option Shuffling : Yes
Correct Marks : 1 Wrong Marks : 0.25

भारतीय भिन्नताओं के प्रमाण कहाँ-कहाँ दिखाई देते हैं?

Options :

1. ✘ पढ़ाई-लिखाई के क्षेत्र में
2. ✔ भाषा, वेशभूषा और खान-पान के क्षेत्र में
3. ✘ कामकाज के क्षेत्र में
4. ✘ जीवन-स्तर के क्षेत्र में

Question Number : 194 Question Id : 9983671723 Question Type : MCQ Option Shuffling : Yes

Correct Marks : 1 Wrong Marks : 0.25

पूरे भारत की ताकत क्या बनते हैं?

Options :

1. ✘ खान-पान के आस्वाद आदि।

2. ✘ वेशभूषा के तरीके एवं पद्धति आदि।

3. ✘ कामकाज के तरीके आदि।

4. ✔ भाषाई एकता, मंदिर, पूजा-पद्धति धार्मिक एकता आदि।

Question Number : 195 Question Id : 9983671724 Question Type : MCQ Option Shuffling : Yes

Correct Marks : 1 Wrong Marks : 0.25

“शरीर-सशक्त बन जाते हैं” में सशक्त से क्या अभिप्राय है?

Options :

1. ✘ ढीले-ढाले बन जाते हैं।

2. ✘ आलसी बन जाते हैं।

3. ✔ शक्तिशाली बन जाते हैं।

4. ✘ अकर्मव्य बन जाते हैं।

Sub-Section Number:	3
Sub-Section Id:	99836794
Question Shuffling Allowed :	Yes

Question Id : 9983671725 Question Type : COMPREHENSION Sub Question Shuffling Allowed : Yes Group Comprehension Questions : No

Question Numbers : (196 to 200)

निम्नलिखित गद्यंश को पढ़कर उसका सही उत्तर दीजिये।

भारत देश नदियों का, जल संपदा का सम्मान करने वाला देश रहा है। यहाँ जल की पूजा होती है। यहाँ जल से पूजा का भी विधान रहा है। नदियों को माँ कहा जाता है। किंतु विज्ञान, आधुनिकता और उद्योगों के कारण नदियाँ अपना महत्त्व खो रही हैं। नदियों से ही वन बचते हैं। नदी सूखी, दूषित हुई तो पूरी वन-संपदा संकट में उग जाती है। नदियों के तटों पर देश में अनेक तीर्थस्थल, पूजास्थल, अंतिम संस्कार स्थल आदि बने हुए हैं। गंगा, यमुना, गोदावरी, सरस्वती, नर्मदा, सिंधु, कावेरी, ब्रह्मपुत्र आदि नदियों से विश्व में भारत की पहचान बनी हुई है। नदियों को भारत में देवियों की तरह पूजा भी जाता है। देशभर के नागरिकों की गंदगी और मेल को, दूषण और कालुष्य को ये नदियाँ ही धारण करती हैं और फिर उसे समुद्र में ले जाकर छोड़ती हैं। इनका उपकार अविस्मरणीय है। इनकी कृपा स्तुत्य है। पर हम इन नदियों की रक्षा नहीं कर पा रहे। ये हमें समृद्ध करती हैं। हमें जल देकर जीवनदान करती हैं, किंतु हम इन्हें दूषित कर रहे हैं, विषाक्त कर रहे हैं। औद्योगिक विकास नदियों के लिए खतरा बन गया है। आज आवश्यक है कि जल-प्रदूषण को तत्काल रोका जाए। प्रदूषित जल ही हैजा, पीलिया, टाइफाइड जैसे रोगों का कारण बनता है। जल के जीव-जंतु नष्ट हो जाते हैं। नदियाँ जल-स्रोत हैं, कूड़े-कचरे आदि का नदियों में जाना अभिशाप बनता जा रहा है।

Sub questions

Question Number : 196 Question Id : 9983671726 Question Type : MCQ Option Shuffling : Yes Correct Marks : 1 Wrong Marks : 0.25

भारत में नदियों का सम्मान किस-किस रूप में होता रहा है?

Options :

1. ✖ खेतों-खलिहानों को सींचकर होता रहा है।
2. ✖ उद्योगों में जल-स्रोत की मदद के कारण हुआ है।
3. ✖ हमारे कूड़े-कचरे को आत्मसात् करने के कारण हुआ है।
4. ✔ पूज्य रही हैं, माँ और देवी के रूप में देखा जाता रहा है।

Question Number : 197 Question Id : 9983671727 Question Type : MCQ Option Shuffling : Yes

Correct Marks : 1 Wrong Marks : 0.25

विश्व में भारत की पहचान बनने वाली नदियाँ, दूषित कैसे हो गई हैं?

Options :

1. ✖ नदियों में स्नान आदि करने से।
2. ✔ देशभर की गंदगी, मैल और दूषण के नदियों में जाने से।
3. ✖ नदियों की पूजा कम कर देने से।
4. ✖ नदियों में रहने वाले जीव-जंतुओं से।

Question Number : 198 Question Id : 9983671728 Question Type : MCQ Option Shuffling : Yes

Correct Marks : 1 Wrong Marks : 0.25

नदियाँ सूखने से क्या नुकसान हो रहा है?

Options :

1. ✓ पूरी वन-सम्पदा संकट में आ रही है।

2. ✘ पानी खरीद कर पीना पड़ रहा है।

3. ✘ पानी के लिए दूर जाना पड़ रहा है।

4. ✘ जीव-जंतु जलाभाव से मर रहे हैं।

Question Number : 199 Question Id : 9983671729 Question Type : MCQ Option Shuffling : Yes
Correct Marks : 1 Wrong Marks : 0.25

नदियाँ अपना महत्त्व क्यों खोती जा रही हैं?

Options :

1. ✓ विज्ञान, आधुनिकता और उद्योगों के कारण

2. ✘ पूजा पाठ आदि गतिविधियों में कमी के कारण

3. ✘ बढ़ते अविश्वास के कारण

4. ✘ तीर्थ स्थलों पर जाने में आने वाली कमी के कारण

Question Number : 200 Question Id : 9983671730 Question Type : MCQ Option Shuffling : Yes
Correct Marks : 1 Wrong Marks : 0.25

जल-प्रदूषण के कारण क्या संकट खड़े हो रहे हैं?

Options :

1. ✘ साफ पानी खरीदना पड़ रहा है।

2. ✖ पानी की सफाई पर धन खर्च करना पड़ रहा है।

3. ✔ हैजा, पीलिया, टाइफाइड आदि रोग बढ़ रहे हैं।

4. ✖ देश की छवि सुदर रही है।

Question Id : 9983671725 Question Type : COMPREHENSION Sub Question Shuffling Allowed : Yes Group Comprehension Questions : No

Question Numbers : (196 to 200)

निम्नलिखित गद्यश्लोक को पढ़कर उसका सही उत्तर दीजिये।

भारत देश नदियों का, जल संपदा का सम्मान करने वाला देश रहा है। यहाँ जल की पूजा होती है। यहाँ जल से पूजा का भी विधान रहा है। नदियों को माँ कहा जाता है। किंतु विज्ञान, आधुनिकता और उद्योगों के कारण नदियाँ अपना महत्त्व खो रही हैं। नदियों से ही वन बचते हैं। नदी सूखी, दूषित हुई तो पूरी वन-संपदा संकट में उग जाती है। नदियों के तटों पर देश में अनेक तीर्थस्थल, पूजास्थल, अंतिम संस्कार स्थल आदि बने हुए हैं। गंगा, यमुना, गोदावरी, सरस्वती, नर्मदा, सिंधु, कावेरी, ब्रह्मपुत्र आदि नदियों से विश्व में भारत की पहचान बनी हुई है। नदियों को भारत में देवियों की तरह पूजा भी जाता है। देशभर के नागरिकों की गंदगी और मल को, दूषण और कालुष्य को ये नदियाँ ही धारण करती हैं और फिर उसे समुद्र में ले जाकर छोड़ती हैं। इनका उपकार अविस्मरणीय है। इनकी कृपा स्तुत्य है। पर हम इन नदियों की रक्षा नहीं कर पा रहे। ये हमें समृद्ध करती हैं। हमें जल देकर जीवनदान करती हैं, किंतु हम इन्हें दूषित कर रहे हैं, विषाक्त कर रहे हैं। औद्योगिक विकास नदियों के लिए खतरा बन गया है। आज आवश्यक है कि जल-प्रदूषण को तत्काल रोका जाए। प्रदूषित जल ही हैजा, पीलिया, टाइफाइड जैसे रोगों का कारण बनता है। जल के जीव-जंतु नष्ट हो जाते हैं। नदियाँ जल-स्रोत हैं, कूड़े-कचरे आदि का नदियों में जाना अभिशाप बनता जा रहा है।

Sub questions

Question Number : 196 Question Id : 9983671726 Question Type : MCQ Option Shuffling : Yes Correct Marks : 1 Wrong Marks : 0.25

भारत में नदियों का सम्मान किस-किस रूप में होता रहा है?

Options :

1. ✖ खेतों-खलिहानों को सींचकर होता रहा है।

2. ✖ उद्योगों में जल-स्रोत की मदद के कारण हुआ है।

3. ✖ हमारे कूड़े-कचरे को आत्मसात् करने के कारण हुआ है।

4. ✔ पूज्य रही हैं, माँ और देवी के रूप में देखा जाता रहा है।

Question Number : 197 Question Id : 9983671727 Question Type : MCQ Option Shuffling : Yes
Correct Marks : 1 Wrong Marks : 0.25

विश्व में भारत की पहचान बनने वाली नदियाँ, दूषित कैसे हो गई हैं?

Options :

1. ✖ नदियों में स्नान आदि करने से।

2. ✔ देशभर की गंदगी, मैल और दूषण के नदियों में जाने से।

3. ✖ नदियों की पूजा कम कर देने से।

4. ✖ नदियों में रहने वाले जीव-जंतुओं से।

Question Number : 198 Question Id : 9983671728 Question Type : MCQ Option Shuffling : Yes
Correct Marks : 1 Wrong Marks : 0.25

नदियाँ सूखने से क्या नुकसान हो रहा है?

Options :

1. ✔ पूरी वन-सम्पदा संकट में आ रही है।

2. ✖ पानी खरीद कर पीना पड़ रहा है।

3. ✖ पानी के लिए दूर जाना पड़ रहा है।

4. ✖ जीव-जंतु जलाभाव से मर रहे हैं।

Question Number : 199 Question Id : 9983671729 Question Type : MCQ Option Shuffling : Yes
Correct Marks : 1 Wrong Marks : 0.25

नदियाँ अपना महत्त्व क्यों खोती जा रही हैं?

Options :

1. ✔ विज्ञान, आधुनिकता और उद्योगों के कारण

2. ✖ पूजा पाठ आदि गतिविधियों में कमी के कारण

3. ✖ बढ़ते अविश्वास के कारण

4. ✖ तीर्थ स्थलों पर जाने में आने वाली कमी के कारण

Question Number : 200 Question Id : 9983671730 Question Type : MCQ Option Shuffling : Yes
Correct Marks : 1 Wrong Marks : 0.25

जल-प्रदूषण के कारण क्या संकट खड़े हो रहे हैं?

Options :

1. ✖ साफ पानी खरीदना पड़ रहा है।

2. ✖ पानी की सफाई पर धन खर्च करना पड़ रहा है।

3. ✔ हैजा, पीलिया, टाइफाइड आदि रोग बढ़ रहे हैं।

4. ✖ देश की छवि सुदर रही है।