

Education Consultant India Ltd.

Notations :

1.Options shown in green color and with ✓ icon are correct.

2.Options shown in red color and with ✖ icon are incorrect.

Question Paper Name:	MATRON FEMALE Shift 2
Subject Name:	MATRON FEMALE
Creation Date:	2019-03-29 15:50:10
Duration:	120
Total Marks:	200
Display Marks:	Yes
Share Answer Key With Delivery Engine:	Yes
Actual Answer Key:	Yes
Calculator:	None
Magnifying Glass Required?:	No
Ruler Required?:	No
Eraser Required?:	No
Scratch Pad Required?:	No
Rough Sketch/Notepad Required?:	No
Protractor Required?:	No
Show Watermark on Console?:	Yes
Highlighter:	No
Auto Save on Console?:	No

Mental Ability1

Group Number :	1
Group Id :	4028175
Group Maximum Duration :	0
Group Minimum Duration :	0
Show Attended Group? :	No
Edit Attended Group? :	No
Break time:	0
Group Marks:	20
Is this Group for Examiner?:	No
Revisit allowed for group Instructions? :	Yes
Maximum Instruction Time:	0
Minimum Instruction Time:	0

Mental Ability1

Section Id :	40281721
Section Number :	1

Section type :	Online
Mandatory or Optional:	Mandatory
Number of Questions:	20
Number of Questions to be attempted:	20
Section Marks:	20

Sub-Section Number:	1
Sub-Section Id:	40281721
Question Shuffling Allowed :	Yes

Question Number : 1 Question Id : 402817401 Question Type : MCQ Option Shuffling : Yes

Correct Marks : 1 Wrong Marks : 0.25

Select the term that is related to the third term in the same way as the second term is related to the first term.

Cashier : Bank : : Curator : ?

Options :

1. ✓ Museum
2. ✗ Restaurant
3. ✗ Hospital
4. ✗ Laboratory

Question Number : 1 Question Id : 402817401 Question Type : MCQ Option Shuffling : Yes

Correct Marks : 1 Wrong Marks : 0.25

उस पद का चयन करें जो तीसरे पद से ठीक उसी तरह संबंधित है जिस प्रकार दूसरा पद पहले पद से संबंधित है।

कैशियर : बैंक : : क्यूरेटर : ?

Options :

1. ✓ म्यूजियम
2. ✗ रेस्टॉरेंट

3. ✖ हॉस्पिटल

4. ✖ लेबोरेटरी

Question Number : 2 Question Id : 402817402 Question Type : MCQ Option Shuffling : Yes

Correct Marks : 1 Wrong Marks : 0.25

Select the number that is related to the third number in the same way as the second number is related to the first number.

72 : 16 :: 56 : ?

Options :

1. ✖ 45

2. ✔ 32

3. ✖ 24

4. ✖ 63

Question Number : 2 Question Id : 402817402 Question Type : MCQ Option Shuffling : Yes

Correct Marks : 1 Wrong Marks : 0.25

उस अंक का चयन करें जो तीसरे अंक से ठीक उसी तरह संबंधित है जिस प्रकार दूसरा अंक पहले अंक से संबंधित है।

72 : 16 :: 56 : ?

Options :

1. ✖ 45

2. ✔ 32

3. ✖ 24

4. ✖ 63

Question Number : 3 Question Id : 402817403 Question Type : MCQ Option Shuffling : Yes

Correct Marks : 1 Wrong Marks : 0.25

Select the term that is related to the third term in the same way as the second term is related to the first term.

MARCH : ODVHN :: APRIL : ?

Options :

1. ✖ TSHQF

2. ✖ SPDLZ

3. ✖ ISKGY

4. ✔ CSVNR

Question Number : 3 Question Id : 402817403 Question Type : MCQ Option Shuffling : Yes

Correct Marks : 1 Wrong Marks : 0.25

उस पद का चयन करें जो तीसरे पद से ठीक उसी तरह संबंधित है जिस प्रकार दूसरा पद पहले पद से संबंधित है।

MARCH : ODVHN :: APRIL : ?

Options :

1. ✖ TSHQF

2. ✖ SPDLZ

3. ✖ ISKGY

4. ✔ CSVNR

Question Number : 4 Question Id : 402817404 Question Type : MCQ Option Shuffling : Yes
Correct Marks : 1 Wrong Marks : 0.25

Pick the odd one out.

Options :

1. ✖ WD

2. ✖ QJ

3. ✖ PK

4. ✔ SE

Question Number : 4 Question Id : 402817404 Question Type : MCQ Option Shuffling : Yes
Correct Marks : 1 Wrong Marks : 0.25

निम्नलिखित में से विषम चुनें।

Options :

1. ✖ WD

2. ✖ QJ

3. ✖ PK

4. ✓ SE

Question Number : 5 Question Id : 402817405 Question Type : MCQ Option Shuffling : Yes
Correct Marks : 1 Wrong Marks : 0.25

Pick the odd one out.

Options :

1. ✘ Feeble

2. ✓ Robust

3. ✘ Fragile

4. ✘ Delicate

Question Number : 5 Question Id : 402817405 Question Type : MCQ Option Shuffling : Yes
Correct Marks : 1 Wrong Marks : 0.25

निम्नलिखित में से विषम चुनें।

Options :

1. ✘ Feeble

2. ✓ Robust

3. ✘ Fragile

4. ✘ Delicate

Question Number : 6 Question Id : 402817406 Question Type : MCQ Option Shuffling : Yes
Correct Marks : 1 Wrong Marks : 0.25

Pick the odd one out.

Options :

1. ✘ Uttar Pradesh

2. ✘ Assam

3. ✔ Puducherry

4. ✘ Kerala

Question Number : 6 Question Id : 402817406 Question Type : MCQ Option Shuffling : Yes

Correct Marks : 1 Wrong Marks : 0.25

निम्नलिखित में से विषम चुनें।

Options :

1. ✘ उत्तर प्रदेश

2. ✘ असम

3. ✔ पुडुचेरी

4. ✘ केरल

Question Number : 7 Question Id : 402817407 Question Type : MCQ Option Shuffling : Yes

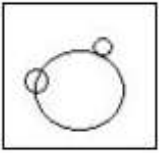
Correct Marks : 1 Wrong Marks : 0.25

Select the Venn diagram that best represents the relationship among the given set of classes.

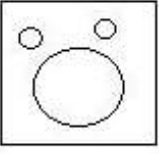
Mammals, Birds, Fish

Options :

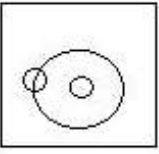
1. ✖



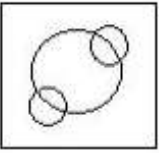
2. ✔



3. ✖



4. ✖



Question Number : 7 Question Id : 402817407 Question Type : MCQ Option Shuffling : Yes

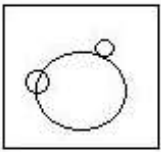
Correct Marks : 1 Wrong Marks : 0.25

उस वेन आरेख का चयन करें जो दिये गये वर्गों के समुच्चय के बीच संबंध सबसे अच्छी तरह दर्शाता है।

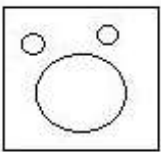
स्तनपायी, पक्षी, मछली

Options :

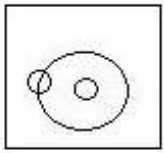
1. ✖



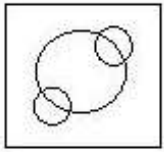
2. ✔



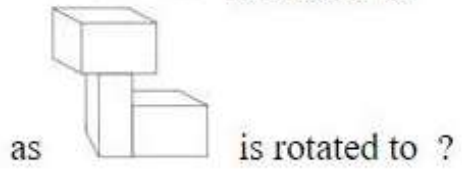
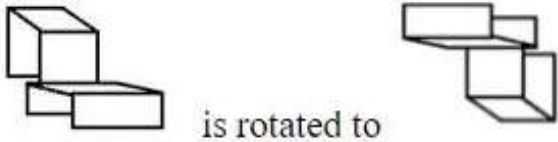
3. ✖



4. ✖

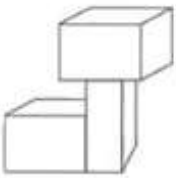


Question Number : 8 Question Id : 402817408 Question Type : MCQ Option Shuffling : Yes Correct Marks : 1 Wrong Marks : 0.25

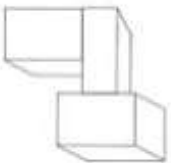


Options :

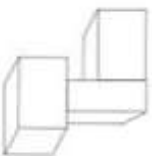
1. ✖



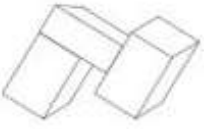
2. ✔



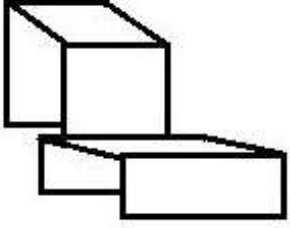
3. ✖



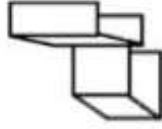
4. ✖



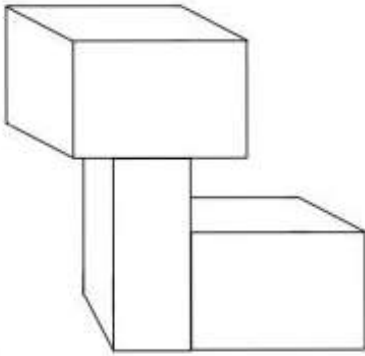
Question Number : 8 Question Id : 402817408 Question Type : MCQ Option Shuffling : Yes
Correct Marks : 1 Wrong Marks : 0.25



को घूमाकर



बनाया जाता है।

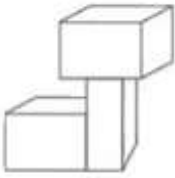


उसी तरह

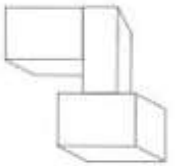
को घूमाकर क्या बनेगा ?

Options :

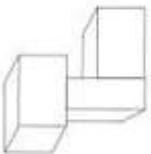
1. ✖



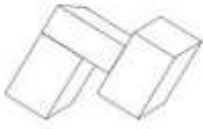
2. ✔



3. ✖



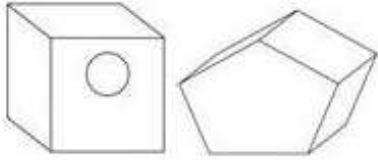
4. ✖



Question Number : 9 Question Id : 402817409 Question Type : MCQ Option Shuffling : Yes

Correct Marks : 1 Wrong Marks : 0.25

Which shape will be formed if the two given shapes are combined?



Options :



1. ✖



2. ✔



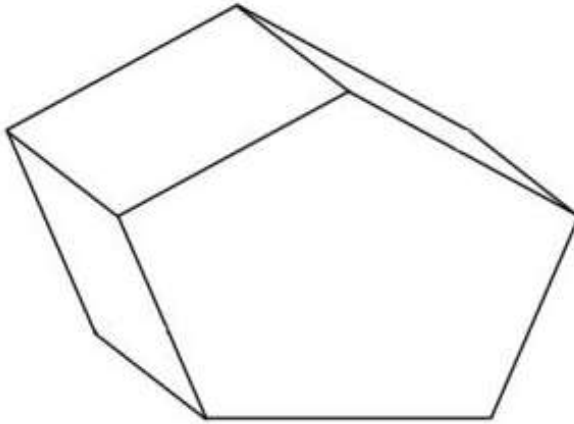
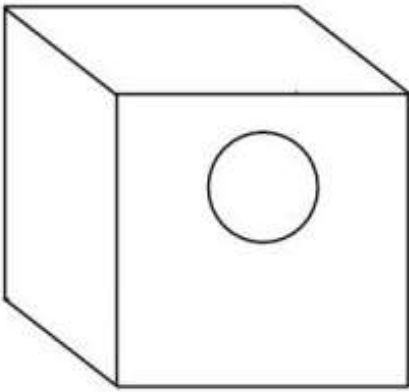
3. ✖



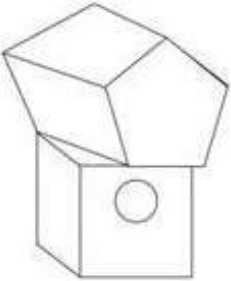
4. ✖

Question Number : 9 Question Id : 402817409 Question Type : MCQ Option Shuffling : Yes
Correct Marks : 1 Wrong Marks : 0.25

यदि दी गयी दो आकृतियों को यथावत जोड़ दिया जाता है, तो कौन सी आकृति बनेगी?



Options :



1. ✖



2. ✔



3. ✖



4. ✖

Question Number : 10 Question Id : 402817410 Question Type : MCQ Option Shuffling : Yes

Correct Marks : 1 Wrong Marks : 0.25

A recruitment firm has determined the following criteria for selection for a job. The candidate must have obtained at least 85% marks in Class 12th and graduation. She must be 30-45 years of age as on 12 March 2019. The person should have a diploma certificate in a particular course as a regular student. She should clear four rounds of group discussion (GD) before the interview.

The details of Clara, a candidate, are given below. She was not selected for the job. Due to which of the following reason/s was she NOT selected for the job?

- (i) She cleared the first two GD rounds but did not make it past the third round.
- (ii) She joined that particular course on 4 April 2004 as a distant education student.
- (iii) She scored 85% marks in Class 12 and completed her graduation in 2016 with 82.2% marks.
- (iv) She was born on 10 January 1980.

Options :

1. ✖ (i), (ii)

2. ✖ (ii), (iii)

3. ✔ (i), (ii), (iii)

4. ✖ (ii), (iv)

Question Number : 10 Question Id : 402817410 Question Type : MCQ Option Shuffling : Yes

Correct Marks : 1 Wrong Marks : 0.25

एक भर्ती (रिक्रूटमेंट) फर्म ने नौकरी पर नियुक्ति के लिए निम्नलिखित मानदंड निर्धारित किए हैं। अभ्यर्थी को कक्षा 12 वीं और स्नातक में कम से कम 85% अंक प्राप्त होने चाहिए। 12 मार्च 2019 को उसकी आयु 30-45 वर्ष होनी चाहिए। व्यक्ति के पास नियमित छात्र के रूप में किसी विशेष पाठ्यक्रम में डिप्लोमा प्रमाण पत्र होना चाहिए। साक्षात्कार से पहले सामूहिक चर्चा (जीडी) के चार राउंड में उत्तीर्ण होना चाहिए।

एक अभ्यर्थी क्लैरा का विवरण नीचे दिया गया है। वह नौकरी के लिए नहीं चुनी गई थी। निम्नलिखित में से कौन से कारण की वजह से वह नौकरी के लिए नहीं चुनी गई?

- उसने जीडी के पहले दो राउंड उत्तीर्ण कर लिये लेकिन तीसरे राउंड से आगे नहीं बढ़ पाई।
- उसने 4 अप्रैल 2004 को उस विशिष्ट पाठ्यक्रम में एक दूरस्थ शिक्षा छात्रा के रूप में प्रवेश लि थी।
- उसने कक्षा 12 वीं में 85% अंक प्राप्त किए थे और 2016 में 82.2% अंकों के साथ स्नातक की पढ़ाई पूरी की थी।
- उसका जन्म 10 जनवरी 1980 को हुआ था।

Options :

1. ✘ (i), (ii)

2. ✘ (ii), (iii)

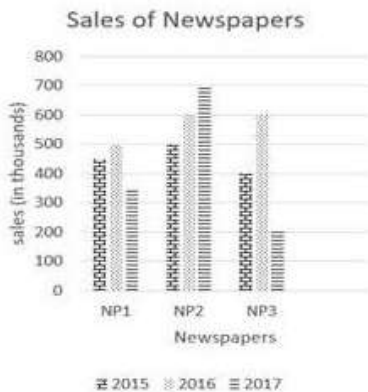
3. ✔ (i), (ii), (iii)

4. ✘ (ii), (iv)

Question Number : 11 Question Id : 402817411 Question Type : MCQ Option Shuffling : Yes

Correct Marks : 1 Wrong Marks : 0.25

The bar graph given below shows the sales of three newspapers in a city during three consecutive years 2015, 2016 and 2017. Which newspapers, according to the given graph, had the highest and the lowest sales in 2017?



Options :

1. ✓ NP2 and NP3 respectively

2. ✘ NP1 and NP3 respectively

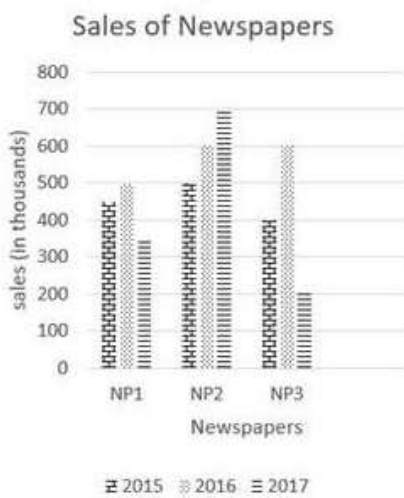
3. ✘ NP2 and NP1 respectively

4. ✘ NP3 and NP1 respectively

Question Number : 11 Question Id : 402817411 Question Type : MCQ Option Shuffling : Yes

Correct Marks : 1 Wrong Marks : 0.25

नीचे दिया गया बार ग्राफ निरंतर तीन वर्षों 2015, 2016 और 2017 के दौरान एक शहर में तीन समाचार पत्रों की बिक्री को दर्शाता है। दिए गए ग्राफ के अनुसार, 2017 में कौन से अखबार की बिक्री सबसे अधिक और सबसे कम हुई थी?



Options :

1. ✓ क्रमशः NP2 और NP3

2. ✘ क्रमशः NP1 और NP3

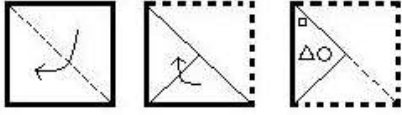
3. ✘ क्रमशः NP2 और NP1

4. ✖ क्रमशः NP3 और NP1

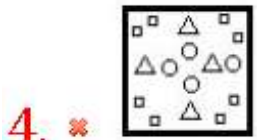
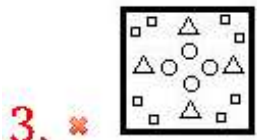
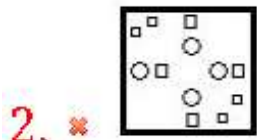
Question Number : 12 Question Id : 402817412 Question Type : MCQ Option Shuffling : Yes

Correct Marks : 1 Wrong Marks : 0.25

Given below is a piece of paper that has been folded twice as shown in the first two figures. Then the folded paper is cut as shown in the third figure. How will the paper appear when it is unfolded?



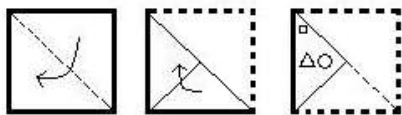
Options :



Question Number : 12 Question Id : 402817412 Question Type : MCQ Option Shuffling : Yes

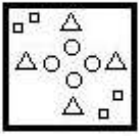
Correct Marks : 1 Wrong Marks : 0.25

नीचे कागज का एक टुकड़ा दिया गया है जिसे पहली दो आकृतियों में दिखाये अनुसार दो बार मोड़ा गया है। उसके बाद मोड़े गये कागज को काटा जाता है जैसा कि तीसरी आकृति में दिखाया गया है। जब पेपर को खोला जाता है, तो पेपर कैसा दिखाई देगा?

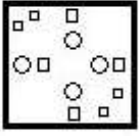


Options :

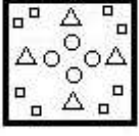
1. ✓



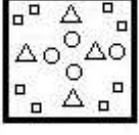
2. ✗



3. ✗



4. ✗



Question Number : 13 Question Id : 402817413 Question Type : MCQ Option Shuffling : Yes

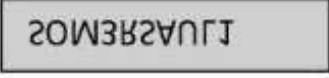
Correct Marks : 1 Wrong Marks : 0.25

Identify the correct water image of the given word.

SOMERSAULT

Options :


1. ✗



2. ✗



3. ✓



4. ✖

ТГПВЗРЗМОЗ

Question Number : 13 Question Id : 402817413 Question Type : MCQ Option Shuffling : Yes Correct Marks : 1 Wrong Marks : 0.25

दिये गये शब्द के लिए सही जलीय छवि चुनें।

SOMERSAULT

Options :

1. ✖

ЗОМЗРЗСАПТ

2. ✖

ТГПВЗРЕМОЗ

3. ✔

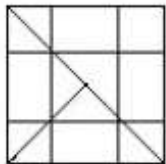
ЗОМЕРЗСАПТ

4. ✖

ТГПВЗРЗМОЗ

Question Number : 14 Question Id : 402817414 Question Type : MCQ Option Shuffling : Yes Correct Marks : 1 Wrong Marks : 0.25

Count the number of triangles in the figure below.



Options :

1. ✖ 12

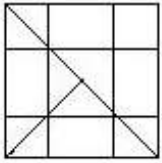
2. ✖ 14

3. ✓ 16

4. ✘ 18

Question Number : 14 Question Id : 402817414 Question Type : MCQ Option Shuffling : Yes
Correct Marks : 1 Wrong Marks : 0.25

नीचे दी गयी आकृति में त्रिभुजों की संख्या ज्ञात कीजिए।



Options :

1. ✘ 12

2. ✘ 14

3. ✓ 16

4. ✘ 18

Question Number : 15 Question Id : 402817415 Question Type : MCQ Option Shuffling : Yes
Correct Marks : 1 Wrong Marks : 0.25

D has only one child G. B marries G and has a daughter C. E is the brother of B and the uncle of C. A is the grandson of D. How is E related to A?

Options :

1. ✘ Sister

2. ✘ Brother

3. ✓ Uncle

4. ✘ Cousin

Question Number : 15 Question Id : 402817415 Question Type : MCQ Option Shuffling : Yes

Correct Marks : 1 Wrong Marks : 0.25

G, D का एकमात्र बच्चा है। B का विवाह G से हुआ है और उसकी एक बेटी C है। E, B का भाई है और C का चाचा/मामा है। A, D का पोता है। E का A से क्या संबंध है?

Options :

1. ✘ बहन

2. ✘ भाई

3. ✓ चाचा/मामा

4. ✘ चचेरी/ममेरी बहन; चचेरा/ममेरा भाई

Question Number : 16 Question Id : 402817416 Question Type : MCQ Option Shuffling : Yes

Correct Marks : 1 Wrong Marks : 0.25

The only son-in-law of Y's maternal grandmother has three sisters O, E and R. S got married to O and has a daughter Q. How is Q related to Y?

Options :

1. ✘ Niece

2. ✘ Wife

3. ✘ Granddaughter

4. ✓ Cousin

Question Number : 16 Question Id : 402817416 Question Type : MCQ Option Shuffling : Yes

Correct Marks : 1 Wrong Marks : 0.25

Y की नानी के इकलौते दामाद की तीन बहनें O, E और R हैं। S का विवाह O से हुआ है और उनकी एक बेटी Q है। Q का Y क्या संबंध है?

Options :

1. ✗ भांजी

2. ✗ पत्नि

3. ✗ पोती

4. ✓ चचेरी/ममेरी बहन

Question Number : 17 Question Id : 402817417 Question Type : MCQ Option Shuffling : Yes

Correct Marks : 1 Wrong Marks : 0.25

The sister of Z's uncle is the only daughter of F. How is Z related to F?

Options :

1. ✓ Grandchild

2. ✗ Sibling

3. ✗ Step-aunt

4. ✗ Grandparent

Question Number : 17 Question Id : 402817417 Question Type : MCQ Option Shuffling : Yes

Correct Marks : 1 Wrong Marks : 0.25

Z के चाचा की बहन F की इकलौती बेटी है। Z का F से क्या संबंध है?

Options :

1. ✓ पोता/पोती
2. ✗ भाई/बहन
3. ✗ चचेरी चाची (Step-aunt)
4. ✗ दादा/दादी

Question Number : 18 Question Id : 402817418 Question Type : MCQ Option Shuffling : Yes

Correct Marks : 1 Wrong Marks : 0.25

An examinee must score 55% marks to pass an entrance exam. He scored 184 marks and failed to pass the exam. Had he scored 146 more marks he would have got the passing 55% marks. What were the maximum marks?

Options :

1. ✗ 300
2. ✓ 600
3. ✗ 450
4. ✗ 550

Question Number : 18 Question Id : 402817418 Question Type : MCQ Option Shuffling : Yes

Correct Marks : 1 Wrong Marks : 0.25

एक परीक्षार्थी को प्रवेश परीक्षा में उत्तीर्ण होने के लिए 55% अंक प्राप्त होने चाहिए। उसने 184 अंक प्राप्त किए और परीक्षा उत्तीर्ण करने में असफल रहा। यदि उसने 146 अंक अधिक प्राप्त किए होते तो वह 55% अंकों से उत्तीर्ण होता। परीक्षा के अधिकतम अंक कितने हैं?

Options :

1. ✘ 300

2. ✔ 600

3. ✘ 450

4. ✘ 550

Question Number : 19 Question Id : 402817419 Question Type : MCQ Option Shuffling : Yes

Correct Marks : 1 Wrong Marks : 0.25

In a science class of 10 students, the teacher asked each student to pair with another student exactly once. They are allowed to change partners only after a week. After how many weeks can no more new groups be formed in the class?

Options :

1. ✔ 45

2. ✘ 27

3. ✘ 54

4. ✘ 100

Question Number : 19 Question Id : 402817419 Question Type : MCQ Option Shuffling : Yes

Correct Marks : 1 Wrong Marks : 0.25

10 छात्रों की विज्ञान कक्षा में, शिक्षक ने प्रत्येक छात्र को एक अन्य छात्र के साथ जोड़ी बनाने के लिए कहा। उन्हें साथी को बदलने की अनुमति एक सप्ताह के बाद ही है। कक्षा में कितने सप्ताह के बाद और नए समूह नहीं बन सकते हैं?

Options :

1. ✔ 45

2. ✖ 27

3. ✖ 54

4. ✖ 100

Question Number : 20 Question Id : 402817420 Question Type : MCQ Option Shuffling : Yes

Correct Marks : 1 Wrong Marks : 0.25

Sonali made 88 kg of lentil soup for an NGO. The ratio of soup to water was 7 : 1, so that every child could get a share. More water was later on added making the ratio 7 : 3. How much water was added afterwards?

Options :

1. ✖ 12 kg

2. ✔ 22 kg

3. ✖ 34 kg

4. ✖ 46 kg

Question Number : 20 Question Id : 402817420 Question Type : MCQ Option Shuffling : Yes

Correct Marks : 1 Wrong Marks : 0.25

सोनाली ने एक एनजीओ के लिए 88 किलोग्राम दाल का सूप बनाया। सूप का पानी से अनुपात 7 : 1 था, ताकि प्रत्येक बच्चे को उसका हिस्सा मिल सके। इसमें और पानी मिलाने के बाद अनुपात 7 : 3 हो जाता है। बाद में कितना पानी मिलाया गया है?

Options :

1. ✖ 12 kg

2. ✔ 22 kg

3. ✖ 34 kg

4. ✖ 46 kg

Mental Ability2

Group Number :	2
Group Id :	4028176
Group Maximum Duration :	0
Group Minimum Duration :	0
Show Attended Group? :	No
Edit Attended Group? :	No
Break time:	0
Group Marks:	20
Is this Group for Examiner? :	No
Revisit allowed for group Instructions? :	Yes
Maximum Instruction Time:	0
Minimum Instruction Time:	0

Mental Ability2

Section Id :	40281722
Section Number :	1
Section type :	Online
Mandatory or Optional:	Mandatory
Number of Questions:	20
Number of Questions to be attempted:	20
Section Marks:	20

Sub-Section Number:	1
Sub-Section Id:	40281722
Question Shuffling Allowed :	Yes

Question Number : 21 Question Id : 402817421 Question Type : MCQ Option Shuffling : Yes
Correct Marks : 1 Wrong Marks : 0.25

Pick the odd one out.

Options :

1. ✖ Incisors

2. ✖ Canines

3. ✖ Molars

4. ✔ Dentine

Question Number : 21 Question Id : 402817421 Question Type : MCQ Option Shuffling : Yes
Correct Marks : 1 Wrong Marks : 0.25

निम्नलिखित में से विषम चुनें।

Options :

1. ✖ Incisors

2. ✖ Canines

3. ✖ Molars

4. ✔ Dentine

Question Number : 22 Question Id : 402817422 Question Type : MCQ Option Shuffling : Yes
Correct Marks : 1 Wrong Marks : 0.25

Pick the odd one out.

Options :

1. ✖ Wimbledon

2. ✖ The US Open

3. ✔ UEFA Champions League

4. ✖ Australian Open

Question Number : 22 Question Id : 402817422 Question Type : MCQ Option Shuffling : Yes
Correct Marks : 1 Wrong Marks : 0.25

निम्नलिखित में से विषम चुनें।

Options :

1. ✖ विंबलडन

2. ✖ दी यू.एस. ओपन

3. ✔ यूईएफए चैंपियंस लीग

4. ✖ ऑस्ट्रेलियन ओपन

Question Number : 23 Question Id : 402817423 Question Type : MCQ Option Shuffling : Yes
Correct Marks : 1 Wrong Marks : 0.25

Select the term that will replace (?) in the following series.

7, 14, 98, 5, 12, 60, 8, ?, 112

Options :

1. ✖ 16

2. ✖ 11

3. ✔ 14

4. ✖ 22

Question Number : 23 Question Id : 402817423 Question Type : MCQ Option Shuffling : Yes
Correct Marks : 1 Wrong Marks : 0.25

उस पद का चयन करें, जो निम्नलिखित श्रृंखला में (?) का स्थान लेगा।

7, 14, 98, 5, 12, 60, 8, ?, 112

Options :

1. ✘ 16

2. ✘ 11

3. ✔ 14

4. ✘ 22

Question Number : 24 Question Id : 402817424 Question Type : MCQ Option Shuffling : Yes
Correct Marks : 1 Wrong Marks : 0.25

Select the term that will replace (?) in the following series.

V, W, R, X, ?, Y, J, Z, F

Options :

1. ✔ N

2. ✘ P

3. ✘ T

4. ✘ W

Question Number : 24 Question Id : 402817424 Question Type : MCQ Option Shuffling : Yes
Correct Marks : 1 Wrong Marks : 0.25

उस पद का चयन करें, जो निम्नलिखित श्रृंखला में (?) का स्थान लेगा।

V, W, R, X, ?, Y, J, Z, F

Options :

1. ✓ N

2. ✗ P

3. ✗ T

4. ✗ W

Question Number : 25 Question Id : 402817425 Question Type : MCQ Option Shuffling : Yes

Correct Marks : 1 Wrong Marks : 0.25

Select the term that will replace (?) in the following series.

64, 71, 85, ?, 134, 169, 211

Options :

1. ✗ 91

2. ✓ 106

3. ✗ 97

4. ✗ 108

Question Number : 25 Question Id : 402817425 Question Type : MCQ Option Shuffling : Yes

Correct Marks : 1 Wrong Marks : 0.25

उस पद का चयन करें, जो निम्नलिखित श्रृंखला में (?) का स्थान लेगा।

64, 71, 85, ?, 134, 169, 211

Options :

1. ✘ 91

2. ✔ 106

3. ✘ 97

4. ✘ 108

Question Number : 26 Question Id : 402817426 Question Type : MCQ Option Shuffling : Yes

Correct Marks : 1 Wrong Marks : 0.25

Select the term that is related to the third term in the same way as the second term is related to the first term.

Shoe : Cobbler : : Eye : ?

Options :

1. ✔ Ophthalmologist

2. ✘ Orthopaedician

3. ✘ Neurosurgeon

4. ✘ Orthodontist

Question Number : 26 Question Id : 402817426 Question Type : MCQ Option Shuffling : Yes

Correct Marks : 1 Wrong Marks : 0.25

उस पद का चयन करें जो तीसरे पद से ठीक उसी तरह संबंधित है जिस प्रकार दूसरा पद पहले पद से संबंधित है।

जूता : मोची :: नेत्र : ?

Options :

1. ✓ औपथालमोलोजिस्ट

2. ✗ और्थोपेडेसियन

3. ✗ न्यूरोसर्जन

4. ✗ ऑर्थोडॉटिस्ट

Question Number : 27 Question Id : 402817427 Question Type : MCQ Option Shuffling : Yes

Correct Marks : 1 Wrong Marks : 0.25

Select the term that is related to the third term in the same way as the second term relates to the first term.

MORON : NQUSS :: HUNGER : ?

Options :

1. ✗ IMRVTT

2. ✗ IWPKIW

3. ✓ IWQKJX

4. ✗ JXRLKY

Question Number : 27 Question Id : 402817427 Question Type : MCQ Option Shuffling : Yes

Correct Marks : 1 Wrong Marks : 0.25

उस पद का चयन करें जो तीसरे पद से ठीक उसी तरह संबंधित है जिस प्रकार दूसरा पद पहले पद से संबंधित है।

MORON : NQUSS : : HUNGER : ?

Options :

1. ✘ IMRVTT

2. ✘ IWPKIW

3. ✔ IWQKJX

4. ✘ JXRLKY

Question Number : 28 Question Id : 402817428 Question Type : MCQ Option Shuffling : Yes

Correct Marks : 1 Wrong Marks : 0.25

Pick the odd one out.

Options :

1. ✔ XB

2. ✘ VE

3. ✘ UF

4. ✘ OL

Question Number : 28 Question Id : 402817428 Question Type : MCQ Option Shuffling : Yes

Correct Marks : 1 Wrong Marks : 0.25

निम्नलिखित में से विषम चुनें।

Options :

1. ✓ XB

2. ✗ VE

3. ✗ UF

4. ✗ OL

Question Number : 29 Question Id : 402817429 Question Type : MCQ Option Shuffling : Yes
Correct Marks : 1 Wrong Marks : 0.25

Pick the odd one out.

Options :

1. ✗ Screwdriver

2. ✓ Rake

3. ✗ Spanner

4. ✗ Hammer

Question Number : 29 Question Id : 402817429 Question Type : MCQ Option Shuffling : Yes
Correct Marks : 1 Wrong Marks : 0.25

निम्नलिखित में से विषम चुनें।

Options :

1. ✗ पेंचकस

2. ✓ रेक

3. ✗ स्पैनर

4. ✗ हथौड़ा

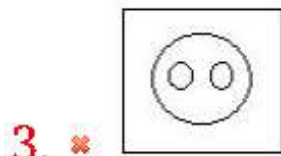
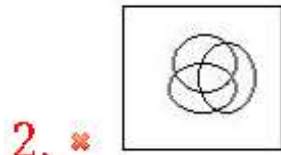
Question Number : 30 Question Id : 402817430 Question Type : MCQ Option Shuffling : Yes

Correct Marks : 1 Wrong Marks : 0.25

Select the Venn diagram that best represents the relationship among the given set of classes.

Fruit, Mango, Food

Options :



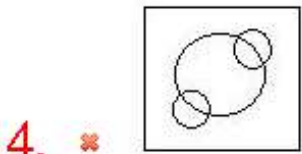
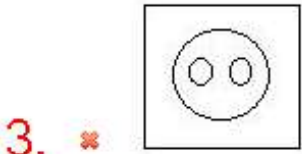
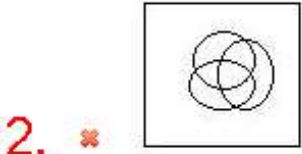
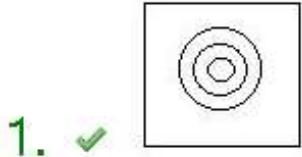
Question Number : 30 Question Id : 402817430 Question Type : MCQ Option Shuffling : Yes

Correct Marks : 1 Wrong Marks : 0.25

उस वेन आरेख का चयन करें जो दिये गये वर्गों के समुच्चय के बीच संबंध सबसे अच्छी तरह दर्शाता है:

फल, आम, भोजन


Options :



Question Number : 31 Question Id : 402817431 Question Type : MCQ Option Shuffling : Yes

Correct Marks : 1 Wrong Marks : 0.25

According to the given pie chart, how many willow trees exist in XYZ village if the total number of trees in the village is 200 lakh.



Options :

1. ✗ 50 lakh

2. ✘ 16 lakh

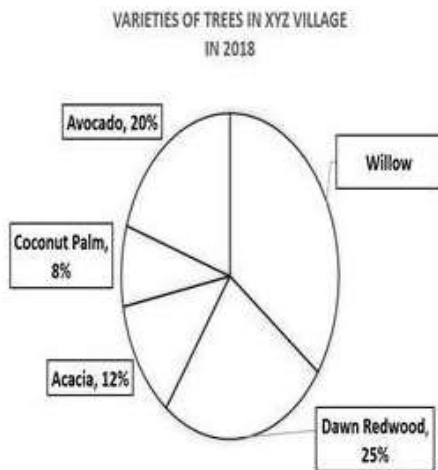
3. ✘ 40 lakh

4. ✔ 70 lakh

Question Number : 31 Question Id : 402817431 Question Type : MCQ Option Shuffling : Yes

Correct Marks : 1 Wrong Marks : 0.25

दिए गए पाई चार्ट के अनुसार, XYZ गाँव में कितने विलो (Willow) के वृक्ष मौजूद हैं, यदि गाँव में कुल पेड़ों की संख्या 200 लाख है।



Options :

1. ✘ 50 लाख

2. ✘ 16 लाख

3. ✘ 40 लाख

4. ✔ 70 लाख

Question Number : 32 Question Id : 402817432 Question Type : MCQ Option Shuffling : Yes

Correct Marks : 1 Wrong Marks : 0.25

Identify the correct mirror image of the given text when the mirror is placed to its right side.

ROB3RTFROS1

Options :

1. ✘

2. ✘

3. ✘

4. ✔

Question Number : 32 Question Id : 402817432 Question Type : MCQ Option Shuffling : Yes

Correct Marks : 1 Wrong Marks : 0.25

जब दर्पण को दिये गये शब्द के दाईं ओर रखा जाता है, तब विकल्पों में से दिए गए शब्द की सही दर्पण छवि को पहचानें।

ROB3RTFROS1

Options :

1. ✘

2. ✘

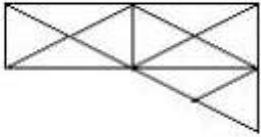
3. ✘

4. ✓

ROB3RTRFR021

Question Number : 33 Question Id : 402817433 Question Type : MCQ Option Shuffling : Yes
Correct Marks : 1 Wrong Marks : 0.25

Count the number of triangles in the figure below.



Options :

1. ✓ 23

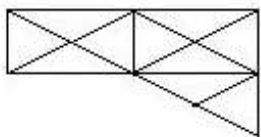
2. ✗ 28

3. ✗ 15

4. ✗ 10

Question Number : 33 Question Id : 402817433 Question Type : MCQ Option Shuffling : Yes
Correct Marks : 1 Wrong Marks : 0.25

नीचे दी गयी आकृति में त्रिभुजों की संख्या ज्ञात कीजिए।



Options :

1. ✓ 23

2. ✗ 28

3. ✖ 15

4. ✖ 10

Question Number : 34 Question Id : 402817434 Question Type : MCQ Option Shuffling : Yes

Correct Marks : 1 Wrong Marks : 0.25

O has a brother X. S is the nephew of O. X married N who is the twin sister of R. R and N are the only children of their parents. M and S are twin biological sons of R and L. How is L related to X in the nearest manner?

Options :

1. ✖ Maternal Uncle

2. ✖ Brother-in-law

3. ✔ Brother

4. ✖ Cousin

Question Number : 34 Question Id : 402817434 Question Type : MCQ Option Shuffling : Yes

Correct Marks : 1 Wrong Marks : 0.25

O का एक भाई X है। S, O का भतीजा है। X का विवाह N से हुआ है जो R की जुड़वां बहन है। R और N, अपने माता-पिता के केवल दो ही बच्चे हैं। M और S, R और L के जुड़वां जैविक पुत्र हैं। L का X से निकटतम तरीके से क्या संबंध है?

Options :

1. ✖ मामा/चाचा

2. ✖ साला

3. ✔ भाई

4. ✘ चचेरा/ममेरा भाई

Question Number : 35 Question Id : 402817435 Question Type : MCQ Option Shuffling : Yes
Correct Marks : 1 Wrong Marks : 0.25

M is the grandmother of Z and the aunt of C's father E. How is C related to Z?

Options :

1. ✔ Cousin

2. ✘ Nephew

3. ✘ Aunt

4. ✘ Husband

Question Number : 35 Question Id : 402817435 Question Type : MCQ Option Shuffling : Yes
Correct Marks : 1 Wrong Marks : 0.25

M, Z की दादी है और C के पिता E की चाची है। Z का C से क्या संबंध है?

Options :

1. ✔ चचेरी/ममेरी बहन; चचेरा/ममेरा भाई

2. ✘ भतीजी/भतीजा

3. ✘ चाची/मामी

4. ✘ पति

Question Number : 36 Question Id : 402817436 Question Type : MCQ Option Shuffling : Yes
Correct Marks : 1 Wrong Marks : 0.25

In a group of 20 boys and 28 girls, the average age of boys and girls is 15 years and 13 years, respectively. What is the average age of the whole group?

Options :

1. ✓ 13.83 years

2. ✗ 11.50 years

3. ✗ 13.02 years

4. ✗ 14 years

Question Number : 36 Question Id : 402817436 Question Type : MCQ Option Shuffling : Yes

Correct Marks : 1 Wrong Marks : 0.25

20 लड़कों और 28 लड़कियों के एक समूह में, लड़कों और लड़कियों की औसत आयु क्रमशः 15 वर्ष और 13 वर्ष है। पूरे समूह की औसत आयु कितनी है?

Options :

1. ✓ 13.83 वर्ष

2. ✗ 11.50 वर्ष

3. ✗ 13.02 वर्ष

4. ✗ 14 वर्ष

Question Number : 37 Question Id : 402817437 Question Type : MCQ Option Shuffling : Yes

Correct Marks : 1 Wrong Marks : 0.25

Raman distributed ₹7,800 among his three employees A, B, C in such a way that one-fourth of A's share, one-fifth of B's share and one-sixth of C's share are equal. What is B's share?

Options :

1. ✘ ₹1,300

2. ✘ ₹2,100

3. ✔ ₹2,600

4. ✘ ₹3,900

Question Number : 37 Question Id : 402817437 Question Type : MCQ Option Shuffling : Yes

Correct Marks : 1 Wrong Marks : 0.25

रमन ने अपने तीन कर्मचारियों A, B, C के बीच ₹7,800 इस तरह से विभाजित किये कि A के हिस्से का एक-चौथाई भाग B के हिस्से का पांचवां भाग और C के हिस्से का छठा भाग बराबर है। B का हिस्सा कितना है?

Options :

1. ✘ ₹1,300

2. ✘ ₹2,100

3. ✔ ₹2,600

4. ✘ ₹3,900

Question Number : 38 Question Id : 402817438 Question Type : MCQ Option Shuffling : Yes

Correct Marks : 1 Wrong Marks : 0.25

Pick the odd one out.

Options :

1. ✘ Brasilia

2. ✖ Canberra

3. ✖ Kabul

4. ✔ Costa Rica

Question Number : 38 Question Id : 402817438 Question Type : MCQ Option Shuffling : Yes

Correct Marks : 1 Wrong Marks : 0.25

निम्नलिखित में से विषम चुनें।

Options :

1. ✖ ब्रासीलिया

2. ✖ कैनबरा

3. ✖ काबुल

4. ✔ कोस्टा रिका

Question Number : 39 Question Id : 402817439 Question Type : MCQ Option Shuffling : Yes

Correct Marks : 1 Wrong Marks : 0.25

Select the term that will replace (?) in the following series.

82, ?, 738, 2214

Options :

1. ✖ 104

2. ✖ 264

3. ✖ 228

4. ✔ 246

Question Number : 39 Question Id : 402817439 Question Type : MCQ Option Shuffling : Yes
Correct Marks : 1 Wrong Marks : 0.25

उस पद का चयन करें, जो निम्नलिखित श्रृंखला में (?) का स्थान लेगा।

82, ?, 738, 2214

Options :

1. ✖ 104

2. ✖ 264

3. ✖ 228

4. ✔ 246

Question Number : 40 Question Id : 402817440 Question Type : MCQ Option Shuffling : Yes
Correct Marks : 1 Wrong Marks : 0.25

Select the term that will come next in the following series.

16, 43, 17, 55, 18, 68, 19, ?

Options :

1. ✔ 82

2. ✖ 78

3. ✖ 86

4. ✖ 92

Question Number : 40 Question Id : 402817440 Question Type : MCQ Option Shuffling : Yes
Correct Marks : 1 Wrong Marks : 0.25

उस पद का चयन करें, जो निम्नलिखित श्रृंखला में अगला होगा।

16, 43, 17, 55, 18, 68, 19, ?

Options :

1. ✔ 82

2. ✖ 78

3. ✖ 86

4. ✖ 92

General Awareness1

Group Number :	3
Group Id :	4028177
Group Maximum Duration :	0
Group Minimum Duration :	0
Show Attended Group? :	No
Edit Attended Group? :	No
Break time:	0
Group Marks:	20
Is this Group for Examiner?:	No
Revisit allowed for group Instructions? :	Yes
Maximum Instruction Time:	0
Minimum Instruction Time:	0

General Awareness1

Section Id :	40281723
Section Number :	1
Section type :	Online
Mandatory or Optional:	Mandatory
Number of Questions:	20
Number of Questions to be attempted:	20
Section Marks:	20

Sub-Section Number:	1
Sub-Section Id:	40281723
Question Shuffling Allowed :	Yes

Question Number : 41 Question Id : 402817441 Question Type : MCQ Option Shuffling : Yes
Correct Marks : 1 Wrong Marks : 0.25

Which of the following logos does NOT provide consumers with assurance of quality?

Options :

1. ✘ ISI

2. ✘ Agmark

3. ✘ Hallmark

4. ✔ Watermark

Question Number : 41 Question Id : 402817441 Question Type : MCQ Option Shuffling : Yes
Correct Marks : 1 Wrong Marks : 0.25

निम्नलिखित में से कौन सा प्रतीक चिह्न (लोगो) उपभोक्ताओं को गुणवत्ता का आश्वासन प्रदान नहीं करता है?

Options :

1. ✘ आई.एस.आई

2. ✘ एगमार्क

3. ✘ हॉलमार्क

4. ✔ वाटरमार्क

Question Number : 42 Question Id : 402817442 Question Type : MCQ Option Shuffling : Yes

Correct Marks : 1 Wrong Marks : 0.25

Which key feature is NOT used to compare countries in the Human Development Report published by UNDP (United Nations Development Programme)?

Options :

1. ✘ Educational level of the people

2. ✘ Health status

3. ✔ GDP growth rate

4. ✘ Per capita income

Question Number : 42 Question Id : 402817442 Question Type : MCQ Option Shuffling : Yes

Correct Marks : 1 Wrong Marks : 0.25

यूएनडीपी (संयुक्त राष्ट्र विकास कार्यक्रम) द्वारा प्रकाशित मानव विकास रिपोर्ट में कौन सी प्रमुख विशेषता का उपयोग देशों की तुलना करने के लिए नहीं किया जाता है?

Options :

1. ✘ जनता का शैक्षिक स्तर

2. ✘ स्वास्थ्य की स्थिति

3. ✔ जीडीपी विकास दर

4. ✖ प्रति व्यक्ति आय

Question Number : 43 Question Id : 402817443 Question Type : MCQ Option Shuffling : Yes
Correct Marks : 1 Wrong Marks : 0.25

What is the full form of DBT?

Options :

1. ✖ Direct Bank Transfer
2. ✖ Direct Balance Transfer
3. ✔ Direct Benefit Transfer
4. ✖ Direct Benefit Transaction

Question Number : 43 Question Id : 402817443 Question Type : MCQ Option Shuffling : Yes
Correct Marks : 1 Wrong Marks : 0.25

डी.बी.टी का पूर्ण विस्तार क्या है?

Options :

1. ✖ डायरेक्ट बैंक ट्रांसफर
2. ✖ डायरेक्ट बैलेंस ट्रांसफर
3. ✔ डायरेक्ट बेंनेफिट ट्रांसफर
4. ✖ डायरेक्ट बेंनेफिट ट्रांज़ैक्शन

Question Number : 44 Question Id : 402817444 Question Type : MCQ Option Shuffling : Yes
Correct Marks : 1 Wrong Marks : 0.25

_____ revolves around goods produced from agriculture, dairy, fishing and forestry.

Options :

1. ✘ Secondary sector
2. ✔ Primary sector
3. ✘ Tertiary sector
4. ✘ All the sectors

Question Number : 44 Question Id : 402817444 Question Type : MCQ Option Shuffling : Yes

Correct Marks : 1 Wrong Marks : 0.25

_____ कृषि, डेयरी, मत्स्य पालन और वानिकी से उत्पादित वस्तुओं से जुड़ा हुआ है।

Options :

1. ✘ द्वितीयक क्षेत्र
2. ✔ प्राथमिक क्षेत्र
3. ✘ तृतीयक क्षेत्र
4. ✘ सभी क्षेत्र

Question Number : 45 Question Id : 402817445 Question Type : MCQ Option Shuffling : Yes

Correct Marks : 1 Wrong Marks : 0.25

In India, which organisation issues currency notes on behalf of the central government?

Options :

1. ✘ State Bank of India

2. ✓ Reserve Bank of India

3. ✘ Finance Ministry

4. ✘ NITI Aayog

Question Number : 45 Question Id : 402817445 Question Type : MCQ Option Shuffling : Yes

Correct Marks : 1 Wrong Marks : 0.25

भारत में, कौन सी संस्था केंद्र सरकार की ओर से मुद्रा नोट जारी करती है?

Options :

1. ✘ भारतीय स्टेट बैंक

2. ✓ भारतीय रिजर्व बैंक

3. ✘ वित्त मंत्रालय

4. ✘ नीति (NITI) आयोग

Question Number : 46 Question Id : 402817446 Question Type : MCQ Option Shuffling : Yes

Correct Marks : 1 Wrong Marks : 0.25

Professor Muhammad Yunus, the founder of Grameen Bank, hails from which country?

Options :

1. ✘ India

2. ✓ Bangladesh

3. ✖ Pakistan

4. ✖ Malaysia

Question Number : 46 Question Id : 402817446 Question Type : MCQ Option Shuffling : Yes
Correct Marks : 1 Wrong Marks : 0.25

ग्रामीण बैंक के संस्थापक प्रोफेसर मुहम्मद यूनुस किस देश जुड़े हैं?

Options :

1. ✖ भारत

2. ✔ बांग्लादेश

3. ✖ पाकिस्तान

4. ✖ मलेशिया

Question Number : 47 Question Id : 402817447 Question Type : MCQ Option Shuffling : Yes
Correct Marks : 1 Wrong Marks : 0.25

Which international body establishes rules regarding international trade?

Options :

1. ✖ IMF

2. ✖ UN

3. ✖ G-7

4. ✓ WTO

Question Number : 47 Question Id : 402817447 Question Type : MCQ Option Shuffling : Yes

Correct Marks : 1 Wrong Marks : 0.25

अंतर्राष्ट्रीय व्यापार के संबंध में कौन सा अंतर्राष्ट्रीय निकाय नियम स्थापित करता है?

Options :

1. ✗ आई.एम.एफ.

2. ✗ यू.एन.

3. ✗ G-7

4. ✓ डब्ल्यू.टी.ओ.

Question Number : 48 Question Id : 402817448 Question Type : MCQ Option Shuffling : Yes

Correct Marks : 1 Wrong Marks : 0.25

In which year was the Rio de Janeiro Earth Summit held?

Options :

1. ✓ 1992

2. ✗ 1887

3. ✗ 1975

4. ✗ 1995

Question Number : 48 Question Id : 402817448 Question Type : MCQ Option Shuffling : Yes

Correct Marks : 1 Wrong Marks : 0.25

रियो डी जनेरियो पृथ्वी शिखर सम्मेलन किस वर्ष आयोजित किया गया था?

Options :

1. ✓ 1992

2. ✗ 1887

3. ✗ 1975

4. ✗ 1995

Question Number : 49 Question Id : 402817449 Question Type : MCQ Option Shuffling : Yes

Correct Marks : 1 Wrong Marks : 0.25

In which of the following states is the medicinal plant, Himalayan Yew, found?

Options :

1. ✗ Jammu and Kashmir

2. ✓ Arunachal Pradesh

3. ✗ Manipur

4. ✗ Meghalaya

Question Number : 49 Question Id : 402817449 Question Type : MCQ Option Shuffling : Yes

Correct Marks : 1 Wrong Marks : 0.25

निम्नलिखित में से किस राज्य में औषधीय पौधा, हिमालयन सदाबहार (Himalayan Yew) पाया जाता है?

Options :

1. ✗ जम्मू व कश्मीर

2. ✓ अरूणाचल प्रदेश

3. ✘ मणिपुर

4. ✘ मेघालय

Question Number : 50 Question Id : 402817450 Question Type : MCQ Option Shuffling : Yes

Correct Marks : 1 Wrong Marks : 0.25

Snake boat race is a traditional event of which of the following states?

Options :

1. ✘ Goa

2. ✘ Odisha

3. ✘ Jammu and Kashmir

4. ✓ Kerala

Question Number : 50 Question Id : 402817450 Question Type : MCQ Option Shuffling : Yes

Correct Marks : 1 Wrong Marks : 0.25

स्नेक बोट रेस निम्नलिखित में से किस राज्य का पारंपरिक प्रतियोगिता है?

Options :

1. ✘ गोवा

2. ✘ ओडिशा

3. ✖ जम्मू व कश्मीर

4. ✔ केरल

Question Number : 51 Question Id : 402817451 Question Type : MCQ Option Shuffling : Yes

Correct Marks : 1 Wrong Marks : 0.25

What is the percentage of fresh water available in the total volume of the world's water resources?

Options :

1. ✖ 97.5%

2. ✔ 2.5%

3. ✖ 0.5%

4. ✖ 2.1%

Question Number : 51 Question Id : 402817451 Question Type : MCQ Option Shuffling : Yes

Correct Marks : 1 Wrong Marks : 0.25

पूरे विश्व के जल संसाधनों की कुल मात्रा में ताजे पानी का प्रतिशत कितना है?

Options :

1. ✖ 97.5%

2. ✔ 2.5%

3. ✖ 0.5%

4. ✖ 2.1%

Question Number : 52 Question Id : 402817452 Question Type : MCQ Option Shuffling : Yes
Correct Marks : 1 Wrong Marks : 0.25

Kuchipudi is a famous dance form of which state?

Options :

1. ✔ Andhra Pradesh

2. ✖ Odisha

3. ✖ Manipur

4. ✖ Kerala

Question Number : 52 Question Id : 402817452 Question Type : MCQ Option Shuffling : Yes
Correct Marks : 1 Wrong Marks : 0.25

कुचिपुड़ी किस राज्य का प्रसिद्ध नृत्य है?

Options :

1. ✔ आंध्र प्रदेश

2. ✖ ओडिशा

3. ✖ मणिपुर

4. ✖ केरल

Question Number : 53 Question Id : 402817453 Question Type : MCQ Option Shuffling : Yes

Correct Marks : 1 Wrong Marks : 0.25

Who was imprisoned for opposing the apartheid regime in his country?

Options :

1. ✘ Mahatma Gandhi
2. ✘ Martin Luther King, Jr.
3. ✔ Nelson Mandela
4. ✘ Mao Zedong

Question Number : 53 Question Id : 402817453 Question Type : MCQ Option Shuffling : Yes

Correct Marks : 1 Wrong Marks : 0.25

अपने देश में रंगभेद (apartheid) शासन का विरोध करने के लिए किसे कैद किया गया था?

Options :

1. ✘ महात्मा गांधी
2. ✘ मार्टिन लूथर किंग जूनियर
3. ✔ नेल्सन मंडेला
4. ✘ माओ ज़ेडॉन्ग

Question Number : 54 Question Id : 402817454 Question Type : MCQ Option Shuffling : Yes

Correct Marks : 1 Wrong Marks : 0.25

Who was the head of the Congress leaders that drafted a Constitution of India in 1928?

Options :

1. ✘ Vallabhbhai Patel

2. ✖ Subhash Chandra Bose

3. ✖ Jawaharlal Nehru

4. ✔ Motilal Nehru

Question Number : 54 Question Id : 402817454 Question Type : MCQ Option Shuffling : Yes

Correct Marks : 1 Wrong Marks : 0.25

1928 में भारतीय संविधान का मसौदा तैयार करने वाले कांग्रेस नेताओं का प्रमुख कौन था?

Options :

1. ✖ वल्लभभाई पटेल

2. ✖ सुभाष चंद्र बोस

3. ✖ जवाहरलाल नेहरू

4. ✔ मोतीलाल नेहरू

Question Number : 55 Question Id : 402817455 Question Type : MCQ Option Shuffling : Yes

Correct Marks : 1 Wrong Marks : 0.25

When did the Constituent Assembly of India adopt the Constitution of India?

Options :

1. ✖ 26 December 1949

2. ✖ 26 January 1950

3. ✓ 26 November 1949

4. ✘ 22 February 1949

Question Number : 55 Question Id : 402817455 Question Type : MCQ Option Shuffling : Yes
Correct Marks : 1 Wrong Marks : 0.25

भारत की संविधान सभा ने भारतीय संविधान को कब अपनाया था?

Options :

1. ✘ 26 दिसम्बर 1949

2. ✘ 26 जनवरी 1950

3. ✓ 26 नवंबर 1949

4. ✘ 22 फरवरी 1949

Question Number : 56 Question Id : 402817456 Question Type : MCQ Option Shuffling : Yes
Correct Marks : 1 Wrong Marks : 0.25

Who among the following leaders published the magazine 'Young India'?

Options :

1. ✘ Subhash Chandra Bose

2. ✘ Jawaharlal Nehru

3. ✘ Bal Gangadhar Tilak

4. ✓ Mahatma Gandhi

Question Number : 56 Question Id : 402817456 Question Type : MCQ Option Shuffling : Yes

Correct Marks : 1 Wrong Marks : 0.25

निम्नलिखित नेताओं में से किसने 'यंग इंडिया' पत्रिका का प्रकाशन किया था?

Options :

1. ✘ सुभाष चंद्र बोस
2. ✘ जवाहरलाल नेहरू
3. ✘ बाल गंगाधर तिलक
4. ✔ महात्मा गांधी

Question Number : 57 Question Id : 402817457 Question Type : MCQ Option Shuffling : Yes

Correct Marks : 1 Wrong Marks : 0.25

Which of the following options is NOT a part of The Preamble to the Constitution of India?

Options :

1. ✘ Fraternity
2. ✘ Equality
3. ✘ Liberty
4. ✔ Morality

Question Number : 57 Question Id : 402817457 Question Type : MCQ Option Shuffling : Yes

Correct Marks : 1 Wrong Marks : 0.25

निम्नलिखित में से कौन सा विकल्प भारतीय संविधान की प्रस्तावना का हिस्सा नहीं है?

Options :

1. ✖ बंधुत्व

2. ✖ समानता

3. ✖ स्वतंत्रता

4. ✔ नैतिकता

Question Number : 58 Question Id : 402817458 Question Type : MCQ Option Shuffling : Yes
Correct Marks : 1 Wrong Marks : 0.25

Which of the following is NOT a minimum condition of a democratic election?

Options :

1. ✖ Everyone should have one vote.

2. ✖ Elections must be held regularly.

3. ✖ Elections should be free and fair.

4. ✔ Only those above the age of 21 years can vote.

Question Number : 58 Question Id : 402817458 Question Type : MCQ Option Shuffling : Yes
Correct Marks : 1 Wrong Marks : 0.25

निम्नलिखित में से कौन सी लोकतांत्रिक चुनाव की एक न्यूनतम शर्त नहीं है?

Options :

1. ✖ प्रत्येक के पास केवल एक मत होना चाहिए।

2. ✖ चुनाव नियमित रूप से होने चाहिए।

3. ✖ चुनाव स्वतंत्र और निष्पक्ष होने चाहिए।

4. ✔ 21 वर्ष से अधिक आयु के व्यक्ति ही मतदान कर सकते हैं।

Question Number : 59 Question Id : 402817459 Question Type : MCQ Option Shuffling : Yes
Correct Marks : 1 Wrong Marks : 0.25

What is the number of Lok Sabha constituencies in Maharashtra?

Options :

1. ✖ 42

2. ✔ 48

3. ✖ 39

4. ✖ 28

Question Number : 59 Question Id : 402817459 Question Type : MCQ Option Shuffling : Yes
Correct Marks : 1 Wrong Marks : 0.25

महाराष्ट्र में लोकसभा निर्वाचन क्षेत्रों की संख्या कितनी है?

Options :

1. ✖ 42

2. ✔ 48

3. ✖ 39

4. ✖ 28

Question Number : 60 Question Id : 402817460 Question Type : MCQ Option Shuffling : Yes
Correct Marks : 1 Wrong Marks : 0.25

Who is the supreme commander of the Indian Armed Forces?

Options :

1. ✖ The Prime Minister of India

2. ✖ The Chief of Indian Army Staff

3. ✔ The President of India

4. ✖ The Defense Minister of India

Question Number : 60 Question Id : 402817460 Question Type : MCQ Option Shuffling : Yes
Correct Marks : 1 Wrong Marks : 0.25

भारतीय सशस्त्र बल का सर्वोच्च कमांडर कौन होता है?

Options :

1. ✖ भारत के प्रधानमंत्री

2. ✖ भारत का थलसेना अध्यक्ष

3. ✔ भारत के राष्ट्रपति

4. ✖ भारत के रक्षामंत्री

General Awareness2

Group Number :	4
Group Id :	4028178
Group Maximum Duration :	0
Group Minimum Duration :	0
Show Attended Group? :	No
Edit Attended Group? :	No
Break time:	0
Group Marks:	20
Is this Group for Examiner?:	No
Revisit allowed for group Instructions? :	Yes
Maximum Instruction Time:	0
Minimum Instruction Time:	0

General Awareness2

Section Id :	40281724
Section Number :	1
Section type :	Online
Mandatory or Optional:	Mandatory
Number of Questions:	20
Number of Questions to be attempted:	20
Section Marks:	20

Sub-Section Number:	1
Sub-Section Id:	40281724
Question Shuffling Allowed :	Yes

Question Number : 61 Question Id : 402817461 Question Type : MCQ Option Shuffling : Yes
Correct Marks : 1 Wrong Marks : 0.25

International Day of Yoga is observed on:

Options :

1. ✔ 21 June

2. ✖ 5 September

3. ✖ 19 August

4. ✖ 1 December

Question Number : 61 Question Id : 402817461 Question Type : MCQ Option Shuffling : Yes
Correct Marks : 1 Wrong Marks : 0.25

अंतर्राष्ट्रीय योग दिवस कब मनाया जाता है?

Options :

1. ✔ 21 जून

2. ✖ 5 सितंबर

3. ✖ 19 अगस्त

4. ✖ 1 दिसंबर

Question Number : 62 Question Id : 402817462 Question Type : MCQ Option Shuffling : Yes
Correct Marks : 1 Wrong Marks : 0.25

Tashkent is the capital of which of the following countries?

Options :

1. ✖ Kyrgyzstan

2. ✖ Tajikistan

3. ✖ Turkmenistan

4. ✔ Uzbekistan

Question Number : 62 Question Id : 402817462 Question Type : MCQ Option Shuffling : Yes

Correct Marks : 1 Wrong Marks : 0.25

ताशकंद निम्नलिखित में से किस देश की राजधानी है?

Options :

1. ✘ किर्गिजस्तान

2. ✘ ताजीकिस्तान

3. ✘ तुर्कमेनिस्तान

4. ✔ उज़्बेकिस्तान

Question Number : 63 Question Id : 402817463 Question Type : MCQ Option Shuffling : Yes

Correct Marks : 1 Wrong Marks : 0.25

In which of the following cities is the World Health Organization's (WHO) headquarters?

Options :

1. ✔ Geneva

2. ✘ Paris

3. ✘ Washington DC

4. ✘ London

Question Number : 63 Question Id : 402817463 Question Type : MCQ Option Shuffling : Yes

Correct Marks : 1 Wrong Marks : 0.25

विश्व स्वास्थ्य संगठन (WHO) का मुख्यालय निम्नलिखित में से किस शहर में स्थित है?

Options :

1. ✓ जिनेवा

2. ✗ पेरिस

3. ✗ वाशिंगटन डी सी

4. ✗ लंदन

Question Number : 64 Question Id : 402817464 Question Type : MCQ Option Shuffling : Yes
Correct Marks : 1 Wrong Marks : 0.25

From which country does UN General Secretary António Guterres hail?

Options :

1. ✗ Brazil

2. ✓ Portugal

3. ✗ Spain

4. ✗ Mexico

Question Number : 64 Question Id : 402817464 Question Type : MCQ Option Shuffling : Yes
Correct Marks : 1 Wrong Marks : 0.25

संयुक्त राष्ट्र महासचिव एंटोनियो गुटेरेस किस देश के नागरिक हैं?

Options :

1. ✗ ब्राज़ील

2. ✓ पुर्तगाल

3. ✘ स्पेन

4. ✘ मेक्सिको

Question Number : 65 Question Id : 402817465 Question Type : MCQ Option Shuffling : Yes

Correct Marks : 1 Wrong Marks : 0.25

As of March 2019, who is the chief economist of International Monetary Fund (IMF)?

Options :

1. ✘ Indra Nooyi

2. ✓ Gita Gopinath

3. ✘ Raghuram Rajan

4. ✘ Christine Lagarde

Question Number : 65 Question Id : 402817465 Question Type : MCQ Option Shuffling : Yes

Correct Marks : 1 Wrong Marks : 0.25

मार्च 2019 तक, अंतर्राष्ट्रीय मुद्रा कोष (आईएमएफ) का मुख्य अर्थशास्त्री कौन है?

Options :

1. ✘ इंदिरा नुई

2. ✓ गीता गोपीनाथ

3. ✖ रघुराम राजन

4. ✖ क्रिस्टीन लेगार्ड

Question Number : 66 Question Id : 402817466 Question Type : MCQ Option Shuffling : Yes
Correct Marks : 1 Wrong Marks : 0.25

Mithali Raj is associated with which sport?

Options :

1. ✖ Tennis

2. ✖ Wrestling

3. ✖ Badminton

4. ✔ Cricket

Question Number : 66 Question Id : 402817466 Question Type : MCQ Option Shuffling : Yes
Correct Marks : 1 Wrong Marks : 0.25

मित्तली राज किस खेल से जुड़ी हुई है?

Options :

1. ✖ टेनिस

2. ✖ कुश्ती

3. ✖ बैडमिंटन

4. ✓ क्रिकेट

Question Number : 67 Question Id : 402817467 Question Type : MCQ Option Shuffling : Yes

Correct Marks : 1 Wrong Marks : 0.25

OPEC (Organization of the Petroleum Exporting Countries), an intergovernmental organisation of 14 nations, was founded in the year:

Options :

1. ✓ 1960

2. ✘ 1954

3. ✘ 1949

4. ✘ 1963

Question Number : 67 Question Id : 402817467 Question Type : MCQ Option Shuffling : Yes

Correct Marks : 1 Wrong Marks : 0.25

ओपेक (पेट्रोलियम निर्यातक देशों का संगठन), 14 देशों का एक अन्तरशासकीय संगठन, कब स्थापित किया गया था?

Options :

1. ✓ 1960

2. ✘ 1954

3. ✘ 1949

4. ✘ 1963

Question Number : 68 Question Id : 402817468 Question Type : MCQ Option Shuffling : Yes

Correct Marks : 1 Wrong Marks : 0.25

The World Economic Forum, which was founded in 1971, is located in:

Options :

1. ✖ Kiev

2. ✖ Madrid

3. ✖ Paris

4. ✔ Geneva

Question Number : 68 Question Id : 402817468 Question Type : MCQ Option Shuffling : Yes

Correct Marks : 1 Wrong Marks : 0.25

विश्व आर्थिक मंच, जिसकी स्थापना 1971 में की गई थी, कहां स्थित है?

Options :

1. ✖ कीव

2. ✖ मैड्रिड

3. ✖ पेरिस

4. ✔ जिनेवा

Question Number : 69 Question Id : 402817469 Question Type : MCQ Option Shuffling : Yes

Correct Marks : 1 Wrong Marks : 0.25

Lesotho is surrounded by which of the following countries?

Options :

1. ✔ South Africa

2. ✖ Angola

3. ✖ Libya

4. ✖ Gabon

Question Number : 69 Question Id : 402817469 Question Type : MCQ Option Shuffling : Yes

Correct Marks : 1 Wrong Marks : 0.25

लेसोथो निम्नलिखित में से किस देश से घिरा हुआ है?

Options :

1. ✔ दक्षिण अफ्रीका

2. ✖ अंगोला

3. ✖ लीबिया

4. ✖ गबोन

Question Number : 70 Question Id : 402817470 Question Type : MCQ Option Shuffling : Yes

Correct Marks : 1 Wrong Marks : 0.25

Which of the following is the best extinguisher of fires involving electrical equipment?

Options :

1. ✖ Oxygen

2. ✖ Sand

3. ✖ Water

4. ✔ Carbon Dioxide

Question Number : 70 Question Id : 402817470 Question Type : MCQ Option Shuffling : Yes

Correct Marks : 1 Wrong Marks : 0.25

निम्नलिखित में से कौन सा विद्युत उपकरण से युक्त आग बुझाने वाला सबसे अच्छा अग्निशामक है?

Options :

1. ✖ ऑक्सीजन

2. ✖ रेत

3. ✖ पानी

4. ✔ कार्बन डाइऑक्साइड

Question Number : 71 Question Id : 402817471 Question Type : MCQ Option Shuffling : Yes

Correct Marks : 1 Wrong Marks : 0.25

Acid rain is a form of precipitation with acidic components of:

Options :

1. ✖ oxides of sulphur

2. ✖ oxides of nitrogen

3. ✔ oxides of sulphur and nitrogen

4. ✖ nitrogen and magnesium

Question Number : 71 Question Id : 402817471 Question Type : MCQ Option Shuffling : Yes

Correct Marks : 1 Wrong Marks : 0.25

अम्लीय वर्षा निम्नलिखित में से किसके अम्लीय घटकों के साथ होने वाली वर्षा का एक रूप है?

Options :

1. ✖ सल्फर आक्साइड

2. ✖ नाइट्रोजन आक्साइड

3. ✔ सल्फर और नाइट्रोजन के ऑक्साइड

4. ✖ नाइट्रोजन और मैग्नीशियम

Question Number : 72 Question Id : 402817472 Question Type : MCQ Option Shuffling : Yes

Correct Marks : 1 Wrong Marks : 0.25

In which state is the Pachmarhi Biosphere Reserve located?

Options :

1. ✖ Uttar Pradesh

2. ✔ Madhya Pradesh

3. ✖ Maharashtra

4. ✖ Gujarat

Question Number : 72 Question Id : 402817472 Question Type : MCQ Option Shuffling : Yes

Correct Marks : 1 Wrong Marks : 0.25

पचमढी बायोस्फीयर रिजर्व किस राज्य में स्थित है?

Options :

1. ✘ उत्तर प्रदेश
2. ✔ मध्य प्रदेश
3. ✘ महाराष्ट्र
4. ✘ गुजरात

Question Number : 73 Question Id : 402817473 Question Type : MCQ Option Shuffling : Yes

Correct Marks : 1 Wrong Marks : 0.25

Which of the following books keeps a record of all the endangered animals and plants in the world?

Options :

1. ✘ Green Data Book
2. ✘ Black Data Book
3. ✘ Yellow Data Book
4. ✔ Red Data Book

Question Number : 73 Question Id : 402817473 Question Type : MCQ Option Shuffling : Yes

Correct Marks : 1 Wrong Marks : 0.25

निम्नलिखित में से कौन सी पुस्तक में विश्व के सभी लुप्तप्राय जन्तुओं और पौधों का रिकॉर्ड रखा जाता है?

Options :

1. ✘ ग्रीन डाटा बुक

2. ✖ ब्लैक डाटा बुक

3. ✖ येलो डाटा बुक

4. ✔ रेड डाटा बुक

Question Number : 74 Question Id : 402817474 Question Type : MCQ Option Shuffling : Yes

Correct Marks : 1 Wrong Marks : 0.25

Which of the following hormones helps the body adjust to stress?

Options :

1. ✖ Thyroxine

2. ✖ Insulin

3. ✔ Adrenalin

4. ✖ Oxytocin

Question Number : 74 Question Id : 402817474 Question Type : MCQ Option Shuffling : Yes

Correct Marks : 1 Wrong Marks : 0.25

निम्नलिखित में से कौन सा हार्मोन शरीर को तनाव के प्रति अनुकूलित करने में मदद करता है?

Options :

1. ✖ थाइरोक्सिन

2. ✖ इंसुलिन

3. ✓ एड्रेनालाईन

4. ✘ ऑक्सीटोसिन

Question Number : 75 Question Id : 402817475 Question Type : MCQ Option Shuffling : Yes
Correct Marks : 1 Wrong Marks : 0.25

Petroleum and its derivatives are called:

Options :

1. ✓ Black gold

2. ✘ Brown gold

3. ✘ Yellow gold

4. ✘ Red gold

Question Number : 75 Question Id : 402817475 Question Type : MCQ Option Shuffling : Yes
Correct Marks : 1 Wrong Marks : 0.25

पेट्रोलियम और इसके यौगिकों को क्या कहा जाता है?

Options :

1. ✓ काला सोना

2. ✘ भूरा सोना

3. ✘ पीला सोना

4. ✖ लाल सोना

Question Number : 76 Question Id : 402817476 Question Type : MCQ Option Shuffling : Yes
Correct Marks : 1 Wrong Marks : 0.25

What is the full form of CNG?

Options :

1. ✖ Composite natural gas
2. ✖ Compacted natural gas
3. ✖ Condensed natural gas
4. ✔ Compressed natural gas

Question Number : 76 Question Id : 402817476 Question Type : MCQ Option Shuffling : Yes
Correct Marks : 1 Wrong Marks : 0.25

सी.एन.जी का पूर्ण विस्तार क्या है?

Options :

1. ✖ कम्पोजिट नेचुरल गैस
2. ✖ कोम्पक्टेड नेचुरल गैस
3. ✖ कन्डेन्सड नेचुरल गैस
4. ✔ कंप्रेस्ड नेचुरल गैस

Question Number : 77 Question Id : 402817477 Question Type : MCQ Option Shuffling : Yes

Correct Marks : 1 Wrong Marks : 0.25

The nuclear power station of Kalpakkam is located in the state of:

Options :

1. ✘ Rajasthan
2. ✔ Tamil Nadu
3. ✘ Andhra Pradesh
4. ✘ Gujarat

Question Number : 77 Question Id : 402817477 Question Type : MCQ Option Shuffling : Yes

Correct Marks : 1 Wrong Marks : 0.25

कलपक्कम परमाणु ऊर्जा केंद्र किस राज्य में स्थित है?

Options :

1. ✘ राजस्थान
2. ✔ तमिलनाडु
3. ✘ आंध्र प्रदेश
4. ✘ गुजरात

Question Number : 78 Question Id : 402817478 Question Type : MCQ Option Shuffling : Yes

Correct Marks : 1 Wrong Marks : 0.25

Mughal emperor Aurangzeb died in the year:

Options :

1. ✘ 1607

2. ✓ 1707

3. ✘ 1705

4. ✘ 1710

Question Number : 78 Question Id : 402817478 Question Type : MCQ Option Shuffling : Yes

Correct Marks : 1 Wrong Marks : 0.25

मुगल बादशाह औरंगजेब की मृत्यु कब हुई थी?

Options :

1. ✘ 1607

2. ✓ 1707

3. ✘ 1705

4. ✘ 1710

Question Number : 79 Question Id : 402817479 Question Type : MCQ Option Shuffling : Yes

Correct Marks : 1 Wrong Marks : 0.25

Queen Elizabeth I gave a charter to the East India Company to trade with the East Indies in the year:

Options :

1. ✓ 1600

2. ✘ 1604

3. ✖ 1610

4. ✖ 1611

Question Number : 79 Question Id : 402817479 Question Type : MCQ Option Shuffling : Yes

Correct Marks : 1 Wrong Marks : 0.25

क्वीन एलिजाबेथ-I ने ईस्ट इंडिया कंपनी को किस वर्ष में ईस्ट इंडीज के साथ व्यापार करने के लिए एक चार्टर प्रदान किया था?

Options :

1. ✔ 1600

2. ✖ 1604

3. ✖ 1610

4. ✖ 1611

Question Number : 80 Question Id : 402817480 Question Type : MCQ Option Shuffling : Yes

Correct Marks : 1 Wrong Marks : 0.25

The Battle of Buxar was fought in the year:

Options :

1. ✖ 1757

2. ✖ 1761

3. ✖ 1763

4. ✓ 1764

Question Number : 80 Question Id : 402817480 Question Type : MCQ Option Shuffling : Yes
Correct Marks : 1 Wrong Marks : 0.25

बक्सर का युद्ध किस वर्ष लड़ा गया था?

Options :

1. ✗ 1757

2. ✗ 1761

3. ✗ 1763

4. ✓ 1764

Arithmetic Ability1

Group Number :	5
Group Id :	4028179
Group Maximum Duration :	0
Group Minimum Duration :	0
Show Attended Group? :	No
Edit Attended Group? :	No
Break time:	0
Group Marks:	20
Is this Group for Examiner?:	No
Revisit allowed for group Instructions? :	Yes
Maximum Instruction Time:	0
Minimum Instruction Time:	0

Arithmetic Ability1

Section Id :	40281725
Section Number :	1
Section type :	Online

Mandatory or Optional:	Mandatory
Number of Questions:	20
Number of Questions to be attempted:	20
Section Marks:	20

Sub-Section Number:	1
Sub-Section Id:	40281725
Question Shuffling Allowed :	Yes

Question Number : 81 Question Id : 402817481 Question Type : MCQ Option Shuffling : Yes
Correct Marks : 1 Wrong Marks : 0.25

Which of the following statements is correct?

Options :

1. ✓ All positive integers are natural numbers.
2. ✘ Real numbers do not include irrational numbers.
3. ✘ 'Zero' is not part of whole numbers.
4. ✘ 2 is not a prime number.

Question Number : 81 Question Id : 402817481 Question Type : MCQ Option Shuffling : Yes
Correct Marks : 1 Wrong Marks : 0.25

निम्नलिखित में से कौन सा कथन सही है?

Options :

1. ✓ सभी धनात्मक पूर्णांक प्राकृतिक संख्या होते हैं।
2. ✘ वास्तविक संख्याओं में अपरिमेय संख्याएं शामिल नहीं हैं।
3. ✘ 'शून्य' पूर्ण संख्याओं का हिस्सा नहीं है।

4. ✖ 2 एक अभाज्य संख्या नहीं है।

Question Number : 82 Question Id : 402817482 Question Type : MCQ Option Shuffling : Yes

Correct Marks : 1 Wrong Marks : 0.25

By mistake, when a given number was multiplied by $\frac{4}{3}$ instead of $\frac{3}{4}$, the result was 476 more than the correct figure. Find the correct figure.

Options :

1. ✔ 612

2. ✖ 816

3. ✖ 1088

4. ✖ 792

Question Number : 82 Question Id : 402817482 Question Type : MCQ Option Shuffling : Yes

Correct Marks : 1 Wrong Marks : 0.25

गलती से जब किसी दी गयी संख्या को $\frac{3}{4}$ की अपेक्षा $\frac{4}{3}$ से गुणा कर दिया गया था, तो परिणाम सही आंकड़ों से 476 अधिक प्राप्त हुआ था। सही आंकड़ें ज्ञात कीजिए।

Options :

1. ✔ 612

2. ✖ 816

3. ✖ 1088

4. ✖ 792

Question Number : 83 Question Id : 402817483 Question Type : MCQ Option Shuffling : Yes

Correct Marks : 1 Wrong Marks : 0.25

A two-digit positive integer and the sum of the two digits are in the ratio 3 : 1. The difference between the digits is 5. Find the integer.

Options :

1. ✓ 27

2. ✗ 38

3. ✗ 49

4. ✗ 83

Question Number : 83 Question Id : 402817483 Question Type : MCQ Option Shuffling : Yes

Correct Marks : 1 Wrong Marks : 0.25

एक दो अंकों वाले एक धनात्मक पूर्णांक और दोनों अंकों के योग का अनुपात 3 : 1 है। अंकों के बीच अंतर 5 है। पूर्णांक ज्ञात कीजिए।

Options :

1. ✓ 27

2. ✗ 38

3. ✗ 49

4. ✗ 83

Question Number : 84 Question Id : 402817484 Question Type : MCQ Option Shuffling : Yes

Correct Marks : 1 Wrong Marks : 0.25

A number when divided by 612 gives 30 as remainder. If the same number is divided by 12, what would be the remainder?

Options :

1. ✓ 6

2. ✗ 7

3. ✗ 8

4. ✗ 9

Question Number : 84 Question Id : 402817484 Question Type : MCQ Option Shuffling : Yes

Correct Marks : 1 Wrong Marks : 0.25

एक संख्या को 612 से विभाजित करने पर शेषफल 30 प्राप्त होता है। यदि इसी संख्या को 12 से विभाजित किया जाता है, तो शेषफल क्या होगा?

Options :

1. ✓ 6

2. ✗ 7

3. ✗ 8

4. ✗ 9

Question Number : 85 Question Id : 402817485 Question Type : MCQ Option Shuffling : Yes

Correct Marks : 1 Wrong Marks : 0.25

Find the value of '?'.

$$(320 \div 8) + (765 \div 15) - ? + (31 \times 4) = (1120 \div 16) \times (111 \div 37)$$

Options :

1. ✓ 5

2. ✖ 10

3. ✖ 7

4. ✖ 11

Question Number : 85 Question Id : 402817485 Question Type : MCQ Option Shuffling : Yes

Correct Marks : 1 Wrong Marks : 0.25

'?' का मान ज्ञात कीजिए।

$$(320 \div 8) + (765 \div 15) - ? + (31 \times 4) = (1120 \div 16) \times (111 \div 37)$$

Options :

1. ✔ 5

2. ✖ 10

3. ✖ 7

4. ✖ 11

Question Number : 86 Question Id : 402817486 Question Type : MCQ Option Shuffling : Yes

Correct Marks : 1 Wrong Marks : 0.25

Find the value of '?'.

$$(0.1^4 + 0.11^4) \div (0.2^4 + 0.22^4) = ?$$

Options :

1. ✔ 0.0625

2. ✖ 0.033

3. ✖ 0.067

4. ✖ 0.222

Question Number : 86 Question Id : 402817486 Question Type : MCQ Option Shuffling : Yes

Correct Marks : 1 Wrong Marks : 0.25

'?' का मान ज्ञात कीजिए।

$$(0.1^4 + 0.11^4) \div (0.2^4 + 0.22^4) = ?$$

Options :

1. ✔ 0.0625

2. ✖ 0.033

3. ✖ 0.067

4. ✖ 0.222

Question Number : 87 Question Id : 402817487 Question Type : MCQ Option Shuffling : Yes

Correct Marks : 1 Wrong Marks : 0.25

Find the value of '?'.

$$6\frac{1}{4} + 24 + 3\frac{1}{3} + 8\left(\frac{5}{6}\right) - 6\left(\frac{5}{8}\right) \times \frac{1}{3} - 39 = ?$$

Options :

1. ✔ 0

2. ✖ -15

3. ✖ 15

4. ✖ 22

Question Number : 87 Question Id : 402817487 Question Type : MCQ Option Shuffling : Yes

Correct Marks : 1 Wrong Marks : 0.25

'?' का मान ज्ञात कीजिए।

$$6\frac{1}{4} + 24 + 3\frac{1}{3} + 8\left(\frac{5}{6}\right) - 6\left(\frac{5}{8}\right) \times \frac{1}{3} - 39 = ?$$

Options :

1. ✔ 0

2. ✖ -15

3. ✖ 15

4. ✖ 22

Question Number : 88 Question Id : 402817488 Question Type : MCQ Option Shuffling : Yes

Correct Marks : 1 Wrong Marks : 0.25

Solve the below equation using the BODMAS rule.

$$\frac{39}{4} \div \frac{9}{4} \times \frac{30}{13} \div \left[\left(\frac{5}{9} + \frac{95}{18} \right) \div \frac{7}{2} \right] - \frac{3}{4} \text{ of } \frac{8}{3}$$

Options :

1. ✔ 4

2. ✖ 2

3. ✖ 6

4. ✖ 7

Question Number : 88 Question Id : 402817488 Question Type : MCQ Option Shuffling : Yes

Correct Marks : 1 Wrong Marks : 0.25

नीचे दिए गए समीकरण को बोडमास (BODMAS) नियम का पालन करते हल करें।

$$\frac{39}{4} \div \frac{9}{4} \times \frac{30}{13} \div \left[\left(\frac{5}{9} + \frac{95}{18} \right) \div \frac{7}{2} \right] - \frac{3}{4} \text{ of } \frac{8}{3}$$

Options :

1. ✔ 4

2. ✖ 2

3. ✖ 6

4. ✖ 7

Question Number : 89 Question Id : 402817489 Question Type : MCQ Option Shuffling : Yes

Correct Marks : 1 Wrong Marks : 0.25

Two of the twelve boys, who had decided to share the cost of dinner equally, did not turn up for dinner. By what fraction did the share of each boy increase?

Options :

1. ✔ $\frac{1}{5}$

2. ✘ $\frac{1}{4}$

3. ✘ $\frac{2}{5}$

4. ✘ $\frac{2}{3}$

Question Number : 89 Question Id : 402817489 Question Type : MCQ Option Shuffling : Yes

Correct Marks : 1 Wrong Marks : 0.25

बारह लड़कों ने रात्रि भोजन की लागत को समान रूप से साझा करने का फैसला किया था, उन में से दो नहीं आये। प्रत्येक लड़के की हिस्सेदारी में कितने भाग की वृद्धि हुई?

Options :

1. ✔ $\frac{1}{5}$

2. ✘ $\frac{1}{4}$

3. ✘ $\frac{2}{5}$

4. ✘ $\frac{2}{3}$

Question Number : 90 Question Id : 402817490 Question Type : MCQ Option Shuffling : Yes

Correct Marks : 1 Wrong Marks : 0.25

Find the value of '?'.

$$(0.39 \times 0.39) + (0.23 \times 0.23) \times (1.24 \times 1.24) = ?$$

Options :

1. ✘ 0.25

2. ✖ 0.50

3. ✖ 0.62

4. ✔ 0.16

Question Number : 90 Question Id : 402817490 Question Type : MCQ Option Shuffling : Yes

Correct Marks : 1 Wrong Marks : 0.25

'?' का मान ज्ञात कीजिए।

$$(0.39 \times 0.39) + (0.23 \times 0.23) \times (1.24 \times 1.24) = ?$$

Options :

1. ✖ 0.25

2. ✖ 0.50

3. ✖ 0.62

4. ✔ 0.16

Question Number : 91 Question Id : 402817491 Question Type : MCQ Option Shuffling : Yes

Correct Marks : 1 Wrong Marks : 0.25

Which of the following fractions will be 4th from the left in the following series, if the fractions are arranged in the descending order?

$$\frac{3}{7}, \frac{6}{7}, \frac{3}{5}, \frac{2}{3}, \frac{4}{9}, \frac{2}{5}$$

Options :

1. ✔ $\frac{4}{9}$

2. ✘ $\frac{6}{7}$

3. ✘ $\frac{3}{7}$

4. ✘ $\frac{2}{3}$

Question Number : 91 Question Id : 402817491 Question Type : MCQ Option Shuffling : Yes

Correct Marks : 1 Wrong Marks : 0.25

निम्नलिखित में से कौन सी भिन्न निम्नलिखित श्रृंखला में से बाईं ओर से चौथी होगी, यदि भिन्नों को अवरोही क्रम में व्यवस्थित किया जाता है?

$\frac{3}{7}, \frac{6}{7}, \frac{3}{5}, \frac{2}{3}, \frac{4}{9}, \frac{2}{5}$

Options :

1. ✔ $\frac{4}{9}$

2. ✘ $\frac{6}{7}$

3. ✘ $\frac{3}{7}$

4. ✘ $\frac{2}{3}$

Question Number : 92 Question Id : 402817492 Question Type : MCQ Option Shuffling : Yes

Correct Marks : 1 Wrong Marks : 0.25

A bookseller announced the sale of 4 types of books, i.e. 91 books on fiction, 11 dozen on non-fiction, 10 dozen on craft and 9 dozen on school textbooks. Two-sevenths, one-sixths, three-fifths and three-fourths respectively of the 4 types of books were sold immediately. What is the total number of the remaining books?

Options :

1. ✔ 250

2. ✖ 172

3. ✖ 317

4. ✖ 288

Question Number : 92 Question Id : 402817492 Question Type : MCQ Option Shuffling : Yes

Correct Marks : 1 Wrong Marks : 0.25

एक पुस्तक विक्रेता ने 4 प्रकार की पुस्तकों की बिक्री करने की घोषणा की अर्थात 91 पुस्तकें कथा साहित्य पर, 11 दर्जन कथेतर साहित्य पर, 10 दर्जन शिल्प पर और 9 दर्जन विद्यालय पुस्तकें। 4 प्रकार की पुस्तकें क्रमशः $\frac{2}{7}$, $\frac{1}{6}$, $\frac{3}{5}$ और $\frac{3}{4}$ तुरंत बिक गयीं। शेष पुस्तकों की कुल संख्या क्या है?

Options :

1. ✔ 250

2. ✖ 172

3. ✖ 317

4. ✖ 288

Question Number : 93 Question Id : 402817493 Question Type : MCQ Option Shuffling : Yes

Correct Marks : 1 Wrong Marks : 0.25

In a grocery shop, same type of containers for three categories of spices A, B and C are to be stacked category-wise in identical shelves. The number of containers for A, B and C are 144, 360 and 480 respectively. Find the number of shelves required for stacking the containers of (i) C, (ii) B and (iii) A.

Options :

1. ✔ (i) 20 (ii) 15 (iii) 6

2. ✖ (i) 15 (ii) 8 (iii) 4

3. ✖ (i) 18 (ii) 15 (iii) 12

4. ✖ (i) 6 (ii) 15 (iii) 20

Question Number : 93 Question Id : 402817493 Question Type : MCQ Option Shuffling : Yes

Correct Marks : 1 Wrong Marks : 0.25

एक किराने की दुकान में, तीन तरह के मसालों A, B और C के लिए एक ही प्रकार के कंटेनरों को समान शेल्वों में श्रेणी के अनुसार रखा जाता है। A, B और C के लिए कंटेनरों की संख्या क्रमशः 144, 360 और 480 है। (i) C (ii) B और (iii) A के कंटेनरों को रखने के लिए आवश्यक शेल्वों की संख्या ज्ञात कीजिए।

Options :

1. ✔ (i) 20 (ii) 15 (iii) 6

2. ✖ (i) 15 (ii) 8 (iii) 4

3. ✖ (i) 18 (ii) 15 (iii) 12

4. ✖ (i) 6 (ii) 15 (iii) 20

Question Number : 94 Question Id : 402817494 Question Type : MCQ Option Shuffling : Yes

Correct Marks : 1 Wrong Marks : 0.25

Find the smallest number which when increased by 13 is exactly divisible by both 390 and 351.

Options :

1. ✔ 3497

2. ✖ 3510

3. ✖ 3947

4. ✖ 4793

Question Number : 94 Question Id : 402817494 Question Type : MCQ Option Shuffling : Yes

Correct Marks : 1 Wrong Marks : 0.25

वह छोटी से छोटी संख्या ज्ञात करें जिसमें 13 की वृद्धि करने पर यह 390 और 351 दोनों से पूर्णतः विभाजित हो जाती है।

Options :

1. ✔ 3497

2. ✖ 3510

3. ✖ 3947

4. ✖ 4793

Question Number : 95 Question Id : 402817495 Question Type : MCQ Option Shuffling : Yes

Correct Marks : 1 Wrong Marks : 0.25

Find the least number which when divided by 9, 12, 18, 22, 36 and 60 will leave in each case a remainder of 6.

Options :

1. ✔ 1986

2. ✖ 1896

3. ✖ 1698

4. ✖ 1734

Question Number : 95 Question Id : 402817495 Question Type : MCQ Option Shuffling : Yes

Correct Marks : 1 Wrong Marks : 0.25

वह छोटी से छोटी संख्या ज्ञात करें जिसे 9, 12, 18, 22, 36 और 60 से विभाजित करने पर प्रत्येक मामले में शेष 6 बचता है।

Options :

1. ✔ 1986

2. ✖ 1896

3. ✖ 1698

4. ✖ 1734

Question Number : 96 Question Id : 402817496 Question Type : MCQ Option Shuffling : Yes

Correct Marks : 1 Wrong Marks : 0.25

If the HCF and LCM of two numbers are 9 and 90 respectively and the sum of the numbers is 63, find the sum of their reciprocals.

Options :

1. ✔ $\frac{7}{90}$

2. ✖ $\frac{1}{10}$

3. ✖ $\frac{1}{7}$

4. ✖ $\frac{7}{10}$

Question Number : 96 Question Id : 402817496 Question Type : MCQ Option Shuffling : Yes

Correct Marks : 1 Wrong Marks : 0.25

यदि दो संख्याओं के म.स. और ल.स. क्रमशः 9 और 90 हैं और संख्याओं का योग 63 है, तो उनके व्युत्क्रमों का योग ज्ञात कीजिए।

Options :

1. ✓ $\frac{7}{90}$

2. ✗ $\frac{1}{10}$

3. ✗ $\frac{1}{7}$

4. ✗ $\frac{7}{10}$

Question Number : 97 Question Id : 402817497 Question Type : MCQ Option Shuffling : Yes

Correct Marks : 1 Wrong Marks : 0.25

The product of two numbers is 1920 and their HCF is 8. Which of the following is NOT a possible pair of these numbers?

(80, 24), (40, 48), (36, 45), (16, 120)

Options :

1. ✓ (36, 45)

2. ✗ (80, 24)

3. ✗ (40, 48)

4. ✗ (16, 120)

Question Number : 97 Question Id : 402817497 Question Type : MCQ Option Shuffling : Yes

Correct Marks : 1 Wrong Marks : 0.25

दो संख्याओं का गुणनफल 1920 है और उनका म.स. 8 है। निम्नलिखित में से कौन इन संख्याओं का एक संभावित युग्म नहीं है?

(80, 24), (40, 48), (36, 45), (16, 120)

Options :

1. ✓ (36, 45)

2. ✗ (80, 24)

3. ✗ (40, 48)

4. ✗ (16, 120)

Question Number : 98 Question Id : 402817498 Question Type : MCQ Option Shuffling : Yes

Correct Marks : 1 Wrong Marks : 0.25

If the length and breadth of a rectangle are increased by 10%, find the percentage increase in its area.

Options :

1. ✓ 21%

2. ✗ 17%

3. ✗ 13%

4. ✗ 23%

Question Number : 98 Question Id : 402817498 Question Type : MCQ Option Shuffling : Yes

Correct Marks : 1 Wrong Marks : 0.25

यदि किसी आयत की लंबाई और चौड़ाई में 10% की वृद्धि की जाती है, तो उसके क्षेत्रफल में वृद्धि का प्रतिशत ज्ञात करें।

Options :

1. ✓ 21%

2. ✗ 17%

3. ✗ 13%

4. ✗ 23%

Question Number : 99 Question Id : 402817499 Question Type : MCQ Option Shuffling : Yes

Correct Marks : 1 Wrong Marks : 0.25

If the income of T is 120% of the income of S, find the percentage by which the income of S is less than that of T.

Options :

1. ✓ 16.67%

2. ✗ 18.33%

3. ✗ 20%

4. ✗ 25%

Question Number : 99 Question Id : 402817499 Question Type : MCQ Option Shuffling : Yes

Correct Marks : 1 Wrong Marks : 0.25

यदि T की आय S की आय का 120% है, तो वह प्रतिशत ज्ञात कीजिए जिसके द्वारा S की आय T से कम है।

Options :

1. ✓ 16.67%

2. ✖ 18.33%

3. ✖ 20%

4. ✖ 25%

Question Number : 100 Question Id : 402817500 Question Type : MCQ Option Shuffling : Yes
Correct Marks : 1 Wrong Marks : 0.25

Find the mean proportional between 0.12 and 0.27.

Options :

1. ✔ 0.18

2. ✖ 0.12

3. ✖ 0.15

4. ✖ 0.16

Question Number : 100 Question Id : 402817500 Question Type : MCQ Option Shuffling : Yes
Correct Marks : 1 Wrong Marks : 0.25

0.12, और 0.27 के मध्यानुपात ज्ञात कीजिए।

Options :

1. ✔ 0.18

2. ✖ 0.12

3. ✖ 0.15

4. ✖ 0.16

Arithmetic Ability2

Group Number :	6
Group Id :	40281710
Group Maximum Duration :	0
Group Minimum Duration :	0
Show Attended Group? :	No
Edit Attended Group? :	No
Break time:	0
Group Marks:	20
Is this Group for Examiner? :	No
Revisit allowed for group Instructions? :	Yes
Maximum Instruction Time:	0
Minimum Instruction Time:	0

Arithmetic Ability2

Section Id :	40281726
Section Number :	1
Section type :	Online
Mandatory or Optional:	Mandatory
Number of Questions:	20
Number of Questions to be attempted:	20
Section Marks:	20

Sub-Section Number:	1
Sub-Section Id:	40281726
Question Shuffling Allowed :	Yes

Question Number : 101 Question Id : 402817501 Question Type : MCQ Option Shuffling : Yes
Correct Marks : 1 Wrong Marks : 0.25

If $p : q = 2 : 3$, then $(3p + 4q) : (4p - 2q) = ?$

Options :

1. ✔ 9 : 1

2. ✖ 8 : 3

3. ✖ 7 : 5

4. ✖ 5 : 4

Question Number : 101 Question Id : 402817501 Question Type : MCQ Option Shuffling : Yes
Correct Marks : 1 Wrong Marks : 0.25

यदि $p : q = 2 : 3$ है, तो $(3p + 4q) : (4p - 2q) = ?$

Options :

1. ✔ 9 : 1

2. ✖ 8 : 3

3. ✖ 7 : 5

4. ✖ 5 : 4

Question Number : 102 Question Id : 402817502 Question Type : MCQ Option Shuffling : Yes
Correct Marks : 1 Wrong Marks : 0.25

A person's salary is increased at the end of every year by 10% for 4 years. If his salary at the end of 4th year is ₹14,641, find his initial salary.

Options :

1. ✔ ₹10,000

2. ✖ ₹11,500

3. ✖ ₹9,750

4. ✖ ₹10,600

Question Number : 102 Question Id : 402817502 Question Type : MCQ Option Shuffling : Yes

Correct Marks : 1 Wrong Marks : 0.25

एक व्यक्ति का वेतन प्रत्येक वर्ष के अंत में 4 वर्ष तक 10% बढ़ाया जाता है। यदि चौथे वर्ष के अंत में उसका वेतन ₹14,641 है, तो उसका प्रारंभिक वेतन ज्ञात कीजिए।

Options :

1. ✔ ₹10,000

2. ✖ ₹11,500

3. ✖ ₹9,750

4. ✖ ₹10,600

Question Number : 103 Question Id : 402817503 Question Type : MCQ Option Shuffling : Yes

Correct Marks : 1 Wrong Marks : 0.25

The average marks of 10 boys increased by 4 when 4 boys with 40 marks each were removed and 4 new boys were added to the list. Find the average marks of the 4 new boys.

Options :

1. ✔ 50

2. ✖ 48

3. ✖ 44

4. ✖ 52

Question Number : 103 Question Id : 402817503 Question Type : MCQ Option Shuffling : Yes

Correct Marks : 1 Wrong Marks : 0.25

10 लड़कों के औसत अंकों में 4 की वृद्धि होती है, जब 40 अंक वाले 4 लड़कों को हटा दिया जाता और 4 नए लड़कों को सूची में जोड़ा जाता है। 4 नए लड़कों के औसत अंक ज्ञात करें।

Options :

1. ✔ 50

2. ✖ 48

3. ✖ 44

4. ✖ 52

Question Number : 104 Question Id : 402817504 Question Type : MCQ Option Shuffling : Yes

Correct Marks : 1 Wrong Marks : 0.25

A person ran 27 km in the first week and an average of 34 km in the next 4 weeks and 64 and 46 km each in last two weeks. How many km per week did he run on an average?

Options :

1. ✔ 39 km

2. ✖ 41 km

3. ✖ 40 km

4. ✖ 38 km

Question Number : 104 Question Id : 402817504 Question Type : MCQ Option Shuffling : Yes

Correct Marks : 1 Wrong Marks : 0.25

एक व्यक्ति ने पहले सप्ताह में 27 किमी और अगले 4 सप्ताहों में औसतन 34 किमी और अंतिम दो सप्ताह में 64 और 46 किमी दौड़ा है। वह प्रति सप्ताह औसतन कितने किमी दौड़ा?

Options :

1. ✓ 39 किमी

2. ✗ 41 किमी

3. ✗ 40 किमी

4. ✗ 38 किमी

Question Number : 105 Question Id : 402817505 Question Type : MCQ Option Shuffling : Yes

Correct Marks : 1 Wrong Marks : 0.25

In a joint family G is elder to M by 5 years. W is 5 years younger to H. S is younger by 4 years to D whose age is 19. If the ages of S and H are one-fifth and three-fifths of the ages of G and M respectively find the average age of all the members of the family.

Options :

1. ✓ 43 years

2. ✗ 45 years

3. ✗ 49 years

4. ✗ 38 years

Question Number : 105 Question Id : 402817505 Question Type : MCQ Option Shuffling : Yes

Correct Marks : 1 Wrong Marks : 0.25

एक संयुक्त परिवार में G, M से 5 वर्ष बड़ा है। W, H से 5 वर्ष छोटा है। S, D से 4 वर्ष छोटा है, जिसकी आयु 19 वर्ष है। यदि S और H की आयु क्रमशः G और M की आयु का क्रमशः $\frac{1}{5}$ और $\frac{3}{5}$ वां भाग है, तो परिवार के सभी सदस्यों की औसत आयु ज्ञात करें।

Options :

1. ✓ 43 वर्ष

2. ✗ 45 वर्ष

3. ✗ 49 वर्ष

4. ✗ 38 वर्ष

Question Number : 106 Question Id : 402817506 Question Type : MCQ Option Shuffling : Yes

Correct Marks : 1 Wrong Marks : 0.25

An article was marked 10% above the cost price. Due to slump in the market, it was sold at a discount of 20% on the marked price. Find the profit or loss percentage.

Options :

1. ✓ Loss 12%

2. ✗ Profit 12%

3. ✗ Loss 10%

4. ✗ Profit 10%

Question Number : 106 Question Id : 402817506 Question Type : MCQ Option Shuffling : Yes

Correct Marks : 1 Wrong Marks : 0.25

एक वस्तु पर उसके क्रय मूल्य से 10% अधिक मूल्य अंकित किया गया था। बाजार में मंदी के कारण, इसे अंकित मूल्य पर 20% की छूट देकर बेचा गया था। लाभ या हानि प्रतिशत ज्ञात कीजिए।

Options :

1. ✓ हानि 12%

2. ✗ लाभ 12%

3. ✗ हानि 10%

4. ✗ लाभ 10%

Question Number : 107 Question Id : 402817507 Question Type : MCQ Option Shuffling : Yes

Correct Marks : 1 Wrong Marks : 0.25

What will be the net loss percentage if the price of an article is reduced twice successively by 20% and then increased by 25%?

Options :

1. ✓ 20%

2. ✗ 25%

3. ✗ 35%

4. ✗ 30%

Question Number : 107 Question Id : 402817507 Question Type : MCQ Option Shuffling : Yes

Correct Marks : 1 Wrong Marks : 0.25

यदि किसी वस्तु की कीमत क्रमागत रूप से दो बार 20% घटा दी जाए और उसके बाद 25% बढ़ा दी जाए तो शुद्ध हानि प्रतिशत क्या होगा?

Options :

1. ✓ 20%

2. ✖ 25%

3. ✖ 35%

4. ✖ 30%

Question Number : 108 Question Id : 402817508 Question Type : MCQ Option Shuffling : Yes

Correct Marks : 1 Wrong Marks : 0.25

Two different articles P and Q whose total cost was ₹1,800 were sold at the same price. However, P was sold at a loss of 10% and Q at a profit of 10%. Find the cost price of Q.

Options :

1. ✔ ₹810

2. ✖ ₹990

3. ✖ ₹1,010

4. ✖ ₹930

Question Number : 108 Question Id : 402817508 Question Type : MCQ Option Shuffling : Yes

Correct Marks : 1 Wrong Marks : 0.25

दो अलग-अलग वस्तुओं P और Q जिनकी कुल क्रय मूल्य ₹1,800 था, को उसी कीमत पर बेचा गया था। हालांकि, P को 10% हानि और Q को 10% लाभ पर बेचा गया था। Q का क्रय मूल्य ज्ञात कीजिए।

Options :

1. ✔ ₹810

2. ✖ ₹990

3. ✘ ₹1,010

4. ✘ ₹930

Question Number : 109 Question Id : 402817509 Question Type : MCQ Option Shuffling : Yes

Correct Marks : 1 Wrong Marks : 0.25

A shopkeeper gave a discount of ₹60 on the marked price of an article whose cost price was ₹500 and still sold it at a profit of 20%. What would have been his profit percentage if he had sold it at the marked price?

Options :

1. ✔ 32%

2. ✘ 30%

3. ✘ 25%

4. ✘ 28%

Question Number : 109 Question Id : 402817509 Question Type : MCQ Option Shuffling : Yes

Correct Marks : 1 Wrong Marks : 0.25

एक दुकानदार ने एक वस्तु के अंकित मूल्य पर ₹60 की छूट देता है, जिसकी क्रय मूल्य ₹500 था और उसके बाद भी 20% का लाभ अर्जित करता है। यदि वह इस वस्तु को अंकित मूल्य पर बेचता तो उसका लाभ प्रतिशत क्या होता?

Options :

1. ✔ 32%

2. ✘ 30%

3. ✘ 25%

4. ✖ 28%

Question Number : 110 Question Id : 402817510 Question Type : MCQ Option Shuffling : Yes

Correct Marks : 1 Wrong Marks : 0.25

Calculate the corresponding amount of simple interest, if the compound interest on a certain sum at 4% p.a. for 2 years is ₹571.20.

Options :

1. ✔ ₹560

2. ✖ ₹552.40

3. ✖ ₹548.80

4. ✖ ₹563

Question Number : 110 Question Id : 402817510 Question Type : MCQ Option Shuffling : Yes

Correct Marks : 1 Wrong Marks : 0.25

साधारण ब्याज की राशि की गणना करें, यदि एक धनराशि पर 2 वर्ष के लिए 4% वार्षिक दर पर चक्रवृद्धि ब्याज ₹571.20 है।

Options :

1. ✔ ₹560

2. ✖ ₹552.40

3. ✖ ₹548.80

4. ✖ ₹563

Question Number : 111 Question Id : 402817511 Question Type : MCQ Option Shuffling : Yes

Correct Marks : 1 Wrong Marks : 0.25

Find the principal amount if the difference between the amounts of compound and simple interest on the principal is ₹12 at 2% p.a. in 2 years.

Options :

1. ✓ ₹30,000

2. ✗ ₹24,000

3. ✗ ₹29,000

4. ✗ ₹32,000

Question Number : 111 Question Id : 402817511 Question Type : MCQ Option Shuffling : Yes

Correct Marks : 1 Wrong Marks : 0.25

मूलधन राशि ज्ञात कीजिए, यदि मूलधन पर 2 वर्ष में ब्याज की 2% दर से प्राप्त होने वाले चक्रवृद्धि ब्याज और साधारण ब्याज के बीच अंतर ₹12 है।

Options :

1. ✓ ₹30,000

2. ✗ ₹24,000

3. ✗ ₹29,000

4. ✗ ₹32,000

Question Number : 112 Question Id : 402817512 Question Type : MCQ Option Shuffling : Yes

Correct Marks : 1 Wrong Marks : 0.25

What will be the difference in the maturity value, if deposits of ₹7,500 each are made for 2 years at 12% p.a. compounded annually and at simple interest?

Options :

1. ✓ ₹108

2. ✘ ₹75

3. ✘ ₹112

4. ✘ ₹94

Question Number : 112 Question Id : 402817512 Question Type : MCQ Option Shuffling : Yes

Correct Marks : 1 Wrong Marks : 0.25

परिपक्वता राशि में अंतर क्या होगा, यदि ₹7,500 की दो समान धनराशियों को 2 वर्ष के लिए चक्रवृद्धि ब्याज और साधारण ब्याज की 12% वार्षिक दर पर जमा किया जाता है?

Options :

1. ✓ ₹108

2. ✘ ₹75

3. ✘ ₹112

4. ✘ ₹94

Question Number : 113 Question Id : 402817513 Question Type : MCQ Option Shuffling : Yes

Correct Marks : 1 Wrong Marks : 0.25

What will be the maturity value at the end of the second year, if ₹6,000 is deposited at the beginning of each year at 10% p.a. compounded annually?

Options :

1. ✓ ₹13,860

2. ✘ ₹12,640

3. ✘ ₹14,410

4. ✘ ₹11,500

Question Number : 113 Question Id : 402817513 Question Type : MCQ Option Shuffling : Yes

Correct Marks : 1 Wrong Marks : 0.25

दूसरे वर्ष के अंत में परिपक्वता मूल्य क्या होगा, यदि ₹6,000 प्रत्येक वर्ष की शुरुआत में ब्याज की 10% वार्षिक दर पर जमा किये जाता है और ब्याज वार्षिक रूप से संयोजित होता है?

Options :

1. ✔ ₹13,860

2. ✘ ₹12,640

3. ✘ ₹14,410

4. ✘ ₹11,500

Question Number : 114 Question Id : 402817514 Question Type : MCQ Option Shuffling : Yes

Correct Marks : 1 Wrong Marks : 0.25

What will be the cost of plastering the walls and the bottom of a tank, whose length, breadth and height are 18 m, 15 m and 9 m respectively, at ₹21 per m²?

Options :

1. ✔ ₹18,144

2. ✘ ₹19,236

3. ✖ ₹18,128

4. ✖ ₹19,576

Question Number : 114 Question Id : 402817514 Question Type : MCQ Option Shuffling : Yes

Correct Marks : 1 Wrong Marks : 0.25

एक टैंक की दीवारों और तल को लेपने की लागत क्या होगी, जिसकी लंबाई, चौड़ाई और ऊंचाई क्रमशः 18 मीटर, 15 मीटर और 9 मीटर है तथा लेपने की लागत ₹21 प्रति मी² है?

Options :

1. ✔ ₹18,144

2. ✖ ₹19,236

3. ✖ ₹18,128

4. ✖ ₹19,576

Question Number : 115 Question Id : 402817515 Question Type : MCQ Option Shuffling : Yes

Correct Marks : 1 Wrong Marks : 0.25

When a steel wire is bent in the form of a square, its area is 484 cm². If the same wire is bent in the form of a circle, what will be the area of the circle?

$$\pi = \left(\frac{22}{7}\right)$$

Options :

1. ✔ 616 cm²

2. ✖ 576 cm²

3. ✖ 484 cm²

4. ✖ 518 cm²

Question Number : 115 Question Id : 402817515 Question Type : MCQ Option Shuffling : Yes

Correct Marks : 1 Wrong Marks : 0.25

जब एक स्टील को तार को मोड़कर एक वर्ग बनाया जाता है, तो इसका क्षेत्रफल 484 सेमी² प्राप्त होता है। यदि इसी तार को मोड़कर एक वृत्त बनाया जाये, तो वृत्त का क्षेत्रफल कितना होगा? $\pi = \left(\frac{22}{7}\right)$

Options :

1. ✔ 616 सेमी²

2. ✖ 576 सेमी²

3. ✖ 484 सेमी²

4. ✖ 518 सेमी²

Question Number : 116 Question Id : 402817516 Question Type : MCQ Option Shuffling : Yes

Correct Marks : 1 Wrong Marks : 0.25

The maximum possible circular area is shaded inside a square of side 28 cm. Approximately, what percentage of the square is the unshaded portion?

$$\pi = \left(\frac{22}{7}\right)$$

Options :

1. ✔ 21.4%

2. ✖ 24.1%

3. ✖ 14.2%

4. ✖ 18.6%

Question Number : 116 Question Id : 402817516 Question Type : MCQ Option Shuffling : Yes

Correct Marks : 1 Wrong Marks : 0.25

28 सेमी की भुजा वाले एक वर्ग के अंदर निर्मित वृत्त का अधिकतम क्षेत्र छायांकित किया गया है। वर्ग का लगभग कितने प्रतिशत भाग छायांकित नहीं है? $\pi = \left(\frac{22}{7}\right)$

Options :

1. ✔ 21.4%

2. ✖ 24.1%

3. ✖ 14.2%

4. ✖ 18.6%

Question Number : 117 Question Id : 402817517 Question Type : MCQ Option Shuffling : Yes

Correct Marks : 1 Wrong Marks : 0.25

The perimeter of a square is the same as that of a rectangle whose length and breadth are in the ratio 7 : 5. If the breadth of the rectangle measures 30 m, then find the difference in their areas.

Options :

1. ✔ 36 m²

2. ✖ 48 m²

3. ✖ 72 m²

4. ✖ 96 m²

Question Number : 117 Question Id : 402817517 Question Type : MCQ Option Shuffling : Yes

Correct Marks : 1 Wrong Marks : 0.25

एक वर्ग का परिमाण एक आयत के समान है, जिसकी लंबाई और चौड़ाई का अनुपात 7 : 5 है। यदि आयत की चौड़ाई 30 मीटर मापी जाती है, तो उनके क्षेत्रफलों में अंतर ज्ञात करें।

Options :

1. ✓ 36 मी²

2. ✗ 48 मी²

3. ✗ 72 मी²

4. ✗ 96 मी²

Question Number : 118 Question Id : 402817518 Question Type : MCQ Option Shuffling : Yes

Correct Marks : 1 Wrong Marks : 0.25

A train leaves the place P at 11.45 a.m. and runs at an average speed of 64 km/h towards the place Q. Another train leaves Q at 12.15 p.m. and runs at an average speed of 72 km/h towards P. If they meet each other at 1.30 p.m., find the distance between P and Q.

Options :

1. ✓ 202 km

2. ✗ 174 km

3. ✗ 112 km

4. ✗ 158 km

Question Number : 118 Question Id : 402817518 Question Type : MCQ Option Shuffling : Yes

Correct Marks : 1 Wrong Marks : 0.25

एक रेलगाड़ी P प्रातः 11.45 बजे एक स्थान से निकलती है और स्थान Q की ओर 64 किमी/घंटा की औसत चाल से चलती है। एक अन्य रेलगाड़ी Q से दोपहर 12.15 बजे निकलती है। और P की ओर 72 किमी/घंटा की औसत चाल से चलती है। यदि वे दोपहर 1.30 बजे एक दूसरे से मिलती हैं, तो P और Q के बीच की दूरी ज्ञात करें।

Options :

1. ✓ 202 किमी

2. ✗ 174 किमी

3. ✗ 112 किमी

4. ✗ 158 किमी

Question Number : 119 Question Id : 402817519 Question Type : MCQ Option Shuffling : Yes

Correct Marks : 1 Wrong Marks : 0.25

Pump P can fill a tank in $2\frac{1}{2}$ h and Pump Q can fill the same tank in $1\frac{1}{4}$ h. Three-fifths of the tank is already filled up. If P and Q start filling the rest of the tank at 7.52 a.m., when will the tank become full?

Options :

1. ✓ 8.12 a.m.

2. ✗ 8.07 a.m.

3. ✗ 8.15 a.m.

4. ✗ 8.23 a.m.

Question Number : 119 Question Id : 402817519 Question Type : MCQ Option Shuffling : Yes

Correct Marks : 1 Wrong Marks : 0.25

पम्प P एक टैंक को $2\frac{1}{2}$ घंटों में भर सकता है और पम्प Q उसी टैंक को $1\frac{1}{4}$ घंटों में भर सकता है। टैंक का $\frac{3}{5}$ हिस्सा पहले से ही भरा हुआ है। यदि P और Q शेष टैंक को सुबह 7.52 बजे भरना शुरू करते हैं, तो टैंक कब पूरा भर जाएगा?

Options :

1. ✓ प्रातः 8.12

2. ✗ प्रातः 8.07

3. ✗ प्रातः 8.15

4. ✗ प्रातः 8.23

Question Number : 120 Question Id : 402817520 Question Type : MCQ Option Shuffling : Yes

Correct Marks : 1 Wrong Marks : 0.25

A boat takes 1 h less to travel 24 km downstream than to travel the same distance upstream. If the speed of the boat in still waters is 10 km/h, find the speed of the stream.

Options :

1. ✓ 2 km/h

2. ✗ 3 km/h

3. ✗ 1.5 km/h

4. ✗ 2.5 km/h

Question Number : 120 Question Id : 402817520 Question Type : MCQ Option Shuffling : Yes

Correct Marks : 1 Wrong Marks : 0.25

एक नाव धारा की अनुकूल दिशा में 24 किमी की दूरी तय करने में धारा की प्रतिकूल दिशा में उतनी ही दूरी तय करने से 1 घंटे कम समय लेती है। यदि शांत जल में नाव की चाल 10 किमी/घंटा है, तो धारा की चाल ज्ञात कीजिए।

Options :

1. ✓ 2 किमी/घंटा

2. ✖ 3 किमी/घंटा

3. ✖ 1.5 किमी/घंटा

4. ✖ 2.5 किमी/घंटा

General English1

Group Number :	7
Group Id :	40281711
Group Maximum Duration :	0
Group Minimum Duration :	0
Show Attended Group? :	No
Edit Attended Group? :	No
Break time:	0
Group Marks:	20
Is this Group for Examiner?:	No
Revisit allowed for group Instructions? :	Yes
Maximum Instruction Time:	0
Minimum Instruction Time:	0

General English1

Section Id :	40281727
Section Number :	1
Section type :	Online
Mandatory or Optional:	Mandatory
Number of Questions:	20
Number of Questions to be attempted:	20
Section Marks:	20

Sub-Section Number:	1
Sub-Section Id:	40281727
Question Shuffling Allowed :	Yes

Question Number : 121 Question Id : 402817521 Question Type : MCQ Option Shuffling : Yes
Correct Marks : 1 Wrong Marks : 0.25

Which one of the following options means the same as the highlighted phrase below:

She heard of his offer to buy her business, but told him that she would **sleep on it** before she decided.

Options :

1. ✘ She wanted to sleep.
2. ✔ She wanted to think about the offer a little more
3. ✘ She wanted to be alone as she was tired.
4. ✘ She was fed up of offers for her business.

Question Number : 121 Question Id : 402817521 Question Type : MCQ Option Shuffling : Yes

Correct Marks : 1 Wrong Marks : 0.25

Which one of the following options means the same as the highlighted phrase below:

She heard of his offer to buy her business, but told him that she would **sleep on it** before she decided.

Options :

1. ✘ She wanted to sleep.
2. ✔ She wanted to think about the offer a little more
3. ✘ She wanted to be alone as she was tired.
4. ✘ She was fed up of offers for her business.

Question Number : 122 Question Id : 402817522 Question Type : MCQ Option Shuffling : Yes

Correct Marks : 1 Wrong Marks : 0.25

Which one of the following options means the same as the highlighted phrase below:

Vijay Mallya never stayed **under the radar** while running his many businesses.

Options :

1. ✘ He bought over airport radars.
2. ✘ He stayed close to Air Traffic control towers.
3. ✔ He could not stop himself from attracting notice.
4. ✘ His businesses were all about radars.

Question Number : 122 Question Id : 402817522 Question Type : MCQ Option Shuffling : Yes

Correct Marks : 1 Wrong Marks : 0.25

Which one of the following options means the same as the highlighted phrase below:

Vijay Mallya never stayed **under the radar** while running his many businesses.

Options :

1. ✘ He bought over airport radars.
2. ✘ He stayed close to Air Traffic control towers.
3. ✔ He could not stop himself from attracting notice.
4. ✘ His businesses were all about radars.

Question Number : 123 Question Id : 402817523 Question Type : MCQ Option Shuffling : Yes

Correct Marks : 1 Wrong Marks : 0.25

Select the most appropriate synonym of the given word.

LAVISH

Options :

1. ✘ Slave

2. ✔ Luxurious

3. ✘ Colourful

4. ✘ Creamy

Question Number : 123 Question Id : 402817523 Question Type : MCQ Option Shuffling : Yes

Correct Marks : 1 Wrong Marks : 0.25

Select the most appropriate synonym of the given word.

LAVISH

Options :

1. ✘ Slave

2. ✔ Luxurious

3. ✘ Colourful

4. ✘ Creamy

Question Number : 124 Question Id : 402817524 Question Type : MCQ Option Shuffling : Yes

Correct Marks : 1 Wrong Marks : 0.25

Select the most appropriate ANTONYM of the given word.

CRITICAL

Options :

1. ✘ Criticising
2. ✔ Safe
3. ✘ Unnecessary
4. ✘ Judgmental

Question Number : 124 Question Id : 402817524 Question Type : MCQ Option Shuffling : Yes
Correct Marks : 1 Wrong Marks : 0.25

Select the most appropriate ANTONYM of the given word.

CRITICAL

Options :

1. ✘ Criticising
2. ✔ Safe
3. ✘ Unnecessary
4. ✘ Judgmental

Question Number : 125 Question Id : 402817525 Question Type : MCQ Option Shuffling : Yes
Correct Marks : 1 Wrong Marks : 0.25

Select the most appropriate ANTONYM of the given word.

ABSURD

Options :

1. ✘ Ludicrous

2. ✘ Crazy

3. ✘ Ridiculous

4. ✔ Reasonable

Question Number : 125 Question Id : 402817525 Question Type : MCQ Option Shuffling : Yes
Correct Marks : 1 Wrong Marks : 0.25

Select the most appropriate ANTONYM of the given word.

ABSURD

Options :

1. ✘ ludicrous

2. ✘ Crazy

3. ✘ Ridiculous

4. ✔ reasonable

Question Number : 126 Question Id : 402817526 Question Type : MCQ Option Shuffling : Yes
Correct Marks : 1 Wrong Marks : 0.25

Select the most appropriate synonym of the given word.

LOOSE

Options :

1. ✘ Watery

2. ✘ Tight

3. ✘ Rigid

4. ✔ Slack

Question Number : 126 Question Id : 402817526 Question Type : MCQ Option Shuffling : Yes

Correct Marks : 1 Wrong Marks : 0.25

Select the most appropriate synonym of the given word.

LOOSE

Options :

1. ✘ Watery

2. ✘ Tight

3. ✘ Rigid

4. ✔ Slack

Question Number : 127 Question Id : 402817527 Question Type : MCQ Option Shuffling : Yes

Correct Marks : 1 Wrong Marks : 0.25

Select the most appropriate options to fill in the blank.

“_____ car is parked so close to _____?” she snapped at the guards.

Options :

1. ✘ This; this
2. ✔ Whose; mine
3. ✘ What; which
4. ✘ Its; that

Question Number : 127 Question Id : 402817527 Question Type : MCQ Option Shuffling : Yes
Correct Marks : 1 Wrong Marks : 0.25

Select the most appropriate options to fill in the blank.

“_____ car is parked so close to _____?” she snapped at the guards.

Options :

1. ✘ This; this
2. ✔ Whose; mine
3. ✘ What; which
4. ✘ Its; that

Question Number : 128 Question Id : 402817528 Question Type : MCQ Option Shuffling : Yes
Correct Marks : 1 Wrong Marks : 0.25

Select the most appropriate options to fill in the blanks.

“_____ mother is out of _____ mind,” my father told me angrily.

Options :

1. ✓ Your; her

2. ✗ His; his

3. ✗ Which; its

4. ✗ This; your

Question Number : 128 Question Id : 402817528 Question Type : MCQ Option Shuffling : Yes

Correct Marks : 1 Wrong Marks : 0.25

Select the most appropriate options to fill in the blanks.

“_____ mother is out of _____ mind,” my father told me angrily.

Options :

1. ✓ Your; her

2. ✗ His; his

3. ✗ Which: its

4. ✗ This; your

Question Number : 129 Question Id : 402817529 Question Type : MCQ Option Shuffling : Yes

Correct Marks : 1 Wrong Marks : 0.25

Choose the option to fill the blank in the following sentence:

I want _____ flowers to be given to that girl.

Options :

1. ✘ their

2. ✔ these

3. ✘ themselves

4. ✘ what

Question Number : 129 Question Id : 402817529 Question Type : MCQ Option Shuffling : Yes

Correct Marks : 1 Wrong Marks : 0.25

Choose the option to fill the blank in the following sentence:

I want _____ flowers to be given to that girl.

Options :

1. ✘ their

2. ✔ these

3. ✘ themselves

4. ✘ what

Question Number : 130 Question Id : 402817530 Question Type : MCQ Option Shuffling : Yes

Correct Marks : 1 Wrong Marks : 0.25

Choose the options to fill the blanks in the following sentence:

_____ started the rumour is the mastermind of _____ scam.

Options :

1. ✓ Whoever; that

2. ✗ Which; yours

3. ✗ What; that

4. ✗ Whom; those

Question Number : 130 Question Id : 402817530 Question Type : MCQ Option Shuffling : Yes

Correct Marks : 1 Wrong Marks : 0.25

Choose the options to fill the blanks in the following sentence:

_____ started the rumour is the mastermind of _____ scam.

Options :

1. ✓ Whoever; that

2. ✗ Which; yours

3. ✗ What; that

4. ✗ Whom; those

Question Number : 131 Question Id : 402817531 Question Type : MCQ Option Shuffling : Yes

Correct Marks : 1 Wrong Marks : 0.25

Select the appropriate word to complete the sentence:

The earthquake affected a large _____ of the Himalayan foothills.

Options :

1. ✘ bit

2. ✘ room

3. ✔ extent

4. ✘ more

Question Number : 131 Question Id : 402817531 Question Type : MCQ Option Shuffling : Yes

Correct Marks : 1 Wrong Marks : 0.25

Select the appropriate word to complete the sentence:

The earthquake affected a large _____ of the Himalayan foothills.

Options :

1. ✘ bit

2. ✘ room

3. ✔ extent

4. ✘ more

Question Number : 132 Question Id : 402817532 Question Type : MCQ Option Shuffling : Yes

Correct Marks : 1 Wrong Marks : 0.25

Select the appropriate word to complete the sentence:

Both the airstrips at Mumbai will be closed during the afternoon for _____.

Options :

1. ✘ renovate

2. ✘ birds

3. ✔ repairs

4. ✘ sides

Question Number : 132 Question Id : 402817532 Question Type : MCQ Option Shuffling : Yes

Correct Marks : 1 Wrong Marks : 0.25

Select the appropriate word to complete the sentence:

Both the airstrips at Mumbai will be closed during the afternoon for _____.

Options :

1. ✘ renovate

2. ✘ birds

3. ✔ repairs

4. ✘ sides

Question Number : 133 Question Id : 402817533 Question Type : MCQ Option Shuffling : Yes

Correct Marks : 1 Wrong Marks : 0.25

The passage consists of six sentences. The first and sixth sentences (S1 and S6) are in the correct order; but the four sentences in the middle (P, Q, R, S) are jumbled up. Find out the proper order of the four sentences.

S1. Shatrughan Sinha said: "I am not making fun of the #Me Too movement. Don't take it otherwise. Do take it with a sense of humour."

P. "It's a book launch event and we should not cross our limits."

Q. "Believe me, I highly appreciate and applaud the women, who, better late than never, have come forward. I salute their courage and guts."

R. Sinha had previously told IANS that the #Me Too movement has been 'blown out of proportion'.

S. "But having said this, I understand what you are saying and I am highly supportive of what you said," he added.

S6. He had stated that he would work with the accused director Subhash Ghai even if allegations against him were proved to be true.

Options :

1. ✘ Q, P, S, R

2. ✘ R, S, Q, P

3. ✘ P, Q, R, S

4. ✔ Q, S, R, P

Question Number : 133 Question Id : 402817533 Question Type : MCQ Option Shuffling : Yes

Correct Marks : 1 Wrong Marks : 0.25

The passage consists of six sentences. The first and sixth sentences (S1 and S6) are in the correct order; but the four sentences in the middle (P, Q, R, S) are jumbled up. Find out the proper order of the four sentences.

S1. Shatrughan Sinha said: "I am not making fun of the #Me Too movement. Don't take it otherwise. Do take it with a sense of humour."

P. "It's a book launch event and we should not cross our limits."

Q. "Believe me, I highly appreciate and applaud the women, who, better late than never, have come forward. I salute their courage and guts."

R. Sinha had previously told IANS that the #Me Too movement has been 'blown out of proportion'.

S. "But having said this, I understand what you are saying and I am highly supportive of what you said," he added.

S6. He had stated that he would work with the accused director Subhash Ghai even if allegations against him were proved to be true.

Options :

1. ✘ Q, P, S, R

2. ✘ R, S, Q, P

3. ✘ P, Q, R, S

4. ✔ Q, S, R, P

Question Number : 134 Question Id : 402817534 Question Type : MCQ Option Shuffling : Yes
Correct Marks : 1 Wrong Marks : 0.25

Given below are six sentences. The first and the sixth sentences (S1 and S6) are in the correct order, while the four sentences in the middle (P, Q, R, S) are jumbled. Find out the proper order of the four sentences.

S1. Even if this is an election year, the story has been the same for a long time now.

P. But equally, it is also a reality that India lives in a precarious neighbourhood with two hostile nuclear powers.

Q. It is tough to make a case for higher defence allocations without hiving-off resources from some other programmes, which, too, require urgent funds.

R. The reality is that India is a developing country with multiple competing demands over scarce capital.

S. One aims to be a global hegemon and the other is a breeding ground for terrorists.

S6. So what can be done?

Options :

1. ✘ R, P, S, Q

2. ✔ R, Q, P, S

3. ✘ P, S, R, Q

4. ✘ S, Q, R, P

Question Number : 134 Question Id : 402817534 Question Type : MCQ Option Shuffling : Yes

Correct Marks : 1 Wrong Marks : 0.25

Given below are six sentences. The first and sixth sentences (S1 and S6) are in the correct order. The four sentence in the middle (P, Q, R, S) are jumbled. Find out the proper order of the four sentences.

S1. Even if this is an election year, the story has been the same for a long time now.

P. But equally, it is also a reality that India lives in a precarious neighbourhood with two hostile nuclear powers.

Q. It is tough to make a case for higher defence allocations without hiving-off resources from some other programmes, which, too, require urgent funds.

R. The reality is that India is a developing country with multiple competing demands over scarce capital.

S. One who aims to be a global hegemon and the other is a breeding ground for terrorists.

S6. So what can be done?

Options :

1. ✘ R, P, S, Q

2. ✔ R, Q, P, S

3. ✘ P, S, R, Q

4. ✘ S, Q, R, P

Question Number : 135 Question Id : 402817535 Question Type : MCQ Option Shuffling : Yes

Correct Marks : 1 Wrong Marks : 0.25

Identify the meaning of the highlighted idiom.

Bob could sit and **chew the fat** with me for hours.

Options :

1. ✔ To gossip or have friendly talks

2. ✘ To have tea or coffee together

3. ✘ To argue on a topic

4. ✘ To discuss a serious business matter

Question Number : 135 Question Id : 402817535 Question Type : MCQ Option Shuffling : Yes

Correct Marks : 1 Wrong Marks : 0.25

Identify the meaning of the highlighted idiom.

Bob could sit and **chew the fat** with me for hours.

Options :

1. ✔ To gossip or have friendly talks

2. ✘ To have tea or coffee together

3. ✘ To argue on a topic

4. ✘ To discuss a serious business matter

Question Number : 136 Question Id : 402817536 Question Type : MCQ Option Shuffling : Yes

Correct Marks : 1 Wrong Marks : 0.25

Select the most appropriate ANTONYM of the given word.

SERIOUS

Options :

1. ✘ Important

2. ✖ Series

3. ✖ Significant

4. ✔ Half-hearted

Question Number : 136 Question Id : 402817536 Question Type : MCQ Option Shuffling : Yes

Correct Marks : 1 Wrong Marks : 0.25

Select the most appropriate ANTONYM of the given word.

SERIOUS

Options :

1. ✖ Important

2. ✖ Series

3. ✖ Significant

4. ✔ Half-hearted

Question Number : 137 Question Id : 402817537 Question Type : MCQ Option Shuffling : Yes

Correct Marks : 1 Wrong Marks : 0.25

Choose the most appropriate option to fill in the blank:

This second victory, _____ the one in Australia, has given Kohli an unbeatable edge.

Options :

1. ✖ in

2. ✓ following

3. ✘ for

4. ✘ before

Question Number : 137 Question Id : 402817537 Question Type : MCQ Option Shuffling : Yes

Correct Marks : 1 Wrong Marks : 0.25

Choose the most appropriate option to fill in the blank:

This second victory, _____ the one in Australia, has given Kohli an unbeatable edge.

Options :

1. ✘ in

2. ✓ following

3. ✘ for

4. ✘ before

Question Number : 138 Question Id : 402817538 Question Type : MCQ Option Shuffling : Yes

Correct Marks : 1 Wrong Marks : 0.25

Select the option that gives the correct singular form of the word.

Options :

1. ✘ Knives

2. ✘ Shelves

3. ✖ Boards

4. ✔ Ladle

Question Number : 138 Question Id : 402817538 Question Type : MCQ Option Shuffling : Yes
Correct Marks : 1 Wrong Marks : 0.25

Select the option that gives the correct singular form of the word.

Options :

1. ✖ Knives

2. ✖ Shelves

3. ✖ Boards

4. ✔ Ladle

Question Number : 139 Question Id : 402817539 Question Type : MCQ Option Shuffling : Yes
Correct Marks : 1 Wrong Marks : 0.25

Select the option that gives the correct plural form of the word.

Options :

1. ✔ Sheep

2. ✖ Sheeps

3. ✖ Sheepes

4. ✖ Sheepest

Question Number : 139 Question Id : 402817539 Question Type : MCQ Option Shuffling : Yes

Correct Marks : 1 Wrong Marks : 0.25

Select the option that gives the correct plural form of the word.

Options :

1. ✓ Sheep
2. ✗ Sheeps
3. ✗ Sheepes
4. ✗ Sheepess

Question Number : 140 Question Id : 402817540 Question Type : MCQ Option Shuffling : Yes

Correct Marks : 1 Wrong Marks : 0.25

Select the grammatically correct sentence from the given options.

Options :

1. ✓ He did not wait for the crisis to escalate any more.
2. ✗ He has not wait for the crisis to escalate any more.
3. ✗ He is not waited for the crisis to escalate any more.
4. ✗ He did not wait for the crisis to escalates any mores.

Question Number : 140 Question Id : 402817540 Question Type : MCQ Option Shuffling : Yes

Correct Marks : 1 Wrong Marks : 0.25

Select the grammatically correct sentence from the given options.

Options :

1. ✓ He did not wait for the crisis to escalate any more.
2. ✘ He has not wait for the crisis to escalate any more.
3. ✘ He is not waited for the crisis to escalate any more.
4. ✘ He did not wait for the crisis to escalates any mores.

General English2

Group Number :	8
Group Id :	40281712
Group Maximum Duration :	0
Group Minimum Duration :	0
Show Attended Group? :	No
Edit Attended Group? :	No
Break time:	0
Group Marks:	20
Is this Group for Examiner?:	No
Revisit allowed for group Instructions? :	Yes
Maximum Instruction Time:	0
Minimum Instruction Time:	0

General English2

Section Id :	40281728
Section Number :	1
Section type :	Online
Mandatory or Optional:	Mandatory
Number of Questions:	20
Number of Questions to be attempted:	20
Section Marks:	20

Sub-Section Number:	1
Sub-Section Id:	40281728
Question Shuffling Allowed :	Yes

Question Number : 141 Question Id : 402817541 Question Type : MCQ Option Shuffling : Yes

Correct Marks : 1 Wrong Marks : 0.25

Select the grammatically correct sentence from the given options.

Options :

1. ✓ It is believed that the Seer had extraordinary powers and used them to help his followers.

2. ✘ Its belief that the Seer had extraordinary powers and used them to help his followers.

3. ✘ It is believed that the Seer is extraordinary powers and used them to help his followers

4. ✘ It is believed that the Seer has extraordinary powers and used it to helps his followers.

Question Number : 141 Question Id : 402817541 Question Type : MCQ Option Shuffling : Yes

Correct Marks : 1 Wrong Marks : 0.25

Select the grammatically correct sentence from the given options.

Options :

1. ✓

It is believed that the Seer had extraordinary powers and used them to help his followers.

2. ✘

Its belief that the Seer had extraordinary powers and used them to help his followers.

3. ✘

It is believed that the Seer is extraordinary powers and used them to help his followers

4. ✘

It is believed that the Seer has extraordinary powers and used it to helps his followers.

Question Number : 142 Question Id : 402817542 Question Type : MCQ Option Shuffling : Yes

Correct Marks : 1 Wrong Marks : 0.25

Choose the substitute word which best replaces the sentence fragment below without losing any meaning.

A place where one lives permanently

Options :

1. ✘ Hospital

2. ✔ Domicile

3. ✘ Home

4. ✘ Tent

Question Number : 142 Question Id : 402817542 Question Type : MCQ Option Shuffling : Yes

Correct Marks : 1 Wrong Marks : 0.25

Choose the substitute word which best replaces the sentence fragment below without losing any meaning.

A place where one lives permanently

Options :

1. ✘ Hospital

2. ✔ Domicile

3. ✘ Home

4. ✘ Tent

Question Number : 143 Question Id : 402817543 Question Type : MCQ Option Shuffling : Yes

Correct Marks : 1 Wrong Marks : 0.25

Choose the substitute word which best replaces the sentence fragment below without losing any meaning.

One who journeys to offer prayers at a holy place

Options :

1. ✖ Tourist

2. ✔ Pilgrim

3. ✖ Traveler

4. ✖ Journalist

Question Number : 143 Question Id : 402817543 Question Type : MCQ Option Shuffling : Yes

Correct Marks : 1 Wrong Marks : 0.25

Choose the substitute word which best replaces the sentence fragment below without losing any meaning.

One who journeys to offer prayers at a holy place

Options :

1. ✖ Tourist

2. ✔ Pilgrim

3. ✖ Traveler

4. ✖ Journalist

Question Number : 144 Question Id : 402817544 Question Type : MCQ Option Shuffling : Yes

Correct Marks : 1 Wrong Marks : 0.25

Choose the most appropriate options to fill in the blank.

I was very shy _____ my school years.

Options :

1. ✘ from

2. ✘ with

3. ✔ throughout

4. ✘ underneath

Question Number : 144 Question Id : 402817544 Question Type : MCQ Option Shuffling : Yes
Correct Marks : 1 Wrong Marks : 0.25

Choose the most appropriate options to fill in the blank.

I was very shy _____ my school years.

Options :

1. ✘ from

2. ✘ with

3. ✔ throughout

4. ✘ underneath

Question Number : 145 Question Id : 402817545 Question Type : MCQ Option Shuffling : Yes
Correct Marks : 1 Wrong Marks : 0.25

Choose the most appropriate option to fill in the blanks :

The project fell through, as it was handled _____ by the Project Head.

Options :

1. ✘ messy

2. ✘ bad

3. ✔ carelessly

4. ✘ facile

Question Number : 145 Question Id : 402817545 Question Type : MCQ Option Shuffling : Yes

Correct Marks : 1 Wrong Marks : 0.25

Choose the most appropriate option to fill in the blanks :

The project fell through, as it was handled _____ by the Project Head.

Options :

1. ✘ messy

2. ✘ bad

3. ✔ carelessly

4. ✘ facile

Question Number : 146 Question Id : 402817546 Question Type : MCQ Option Shuffling : Yes

Correct Marks : 1 Wrong Marks : 0.25

Choose the most appropriate option to fill in the blank.

There is no _____ improvement in my health, he said.

Options :

1. ✘ all

2. ✘ total

3. ✔ significant

4. ✘ different

Question Number : 146 Question Id : 402817546 Question Type : MCQ Option Shuffling : Yes
Correct Marks : 1 Wrong Marks : 0.25

Choose the most appropriate option to fill in the blank.

There is no _____ improvement in my health, he said.

Options :

1. ✘ all

2. ✘ total

3. ✔ significant

4. ✘ different

Question Number : 147 Question Id : 402817547 Question Type : MCQ Option Shuffling : Yes
Correct Marks : 1 Wrong Marks : 0.25

Choose the most appropriate option to fill in the blank.

He went to the barber and _____ himself a crew-cut.

Options :

1. ✘ get

2. ✘ go

3. ✔ got

4. ✘ going

Question Number : 147 Question Id : 402817547 Question Type : MCQ Option Shuffling : Yes
Correct Marks : 1 Wrong Marks : 0.25

Choose the most appropriate option to fill in the blank.

He went to the barber and _____ himself a crew-cut.

Options :

1. ✘ get

2. ✘ go

3. ✔ got

4. ✘ going

Question Number : 148 Question Id : 402817548 Question Type : MCQ Option Shuffling : Yes
Correct Marks : 1 Wrong Marks : 0.25

Select the most appropriate preposition to fill in the blank.

The cats hid _____ the bed all night.

Options :

1. ✓ underneath

2. ✗ to

3. ✗ with

4. ✗ for

Question Number : 148 Question Id : 402817548 Question Type : MCQ Option Shuffling : Yes
Correct Marks : 1 Wrong Marks : 0.25

Select the most appropriate preposition to fill in the blank.

The cats hid _____ the bed all night.

Options :

1. ✓ underneath

2. ✗ to

3. ✗ with

4. ✗ for

Question Number : 149 Question Id : 402817549 Question Type : MCQ Option Shuffling : Yes
Correct Marks : 1 Wrong Marks : 0.25

Select the most appropriate verb form to fill in the blank.

I am tired of _____ in front of the computer all day.

Options :

1. ✘ sat

2. ✔ sitting

3. ✘ sit

4. ✘ sits

Question Number : 149 Question Id : 402817549 Question Type : MCQ Option Shuffling : Yes
Correct Marks : 1 Wrong Marks : 0.25

Select the most appropriate verb form to fill in the blank.

I am tired of _____ in front of the computer all day.

Options :

1. ✘ sat

2. ✔ sitting

3. ✘ sit

4. ✘ sits

Question Number : 150 Question Id : 402817550 Question Type : MCQ Option Shuffling : Yes
Correct Marks : 1 Wrong Marks : 0.25

Choose the most appropriate options to fill in the blanks.

I will not go to the game _____ my classmates _____ their families also join us.

Options :

1. ✓ unless; and

2. ✗ and; but

3. ✗ neither; so

4. ✗ neither; nor

Question Number : 150 Question Id : 402817550 Question Type : MCQ Option Shuffling : Yes

Correct Marks : 1 Wrong Marks : 0.25

Choose the most appropriate options to fill in the blanks.

I will not go to the game _____ my classmates _____ their families also join us.

Options :

1. ✓ unless; and

2. ✗ and; but

3. ✗ neither; so

4. ✗ neither; nor

Question Number : 151 Question Id : 402817551 Question Type : MCQ Option Shuffling : Yes

Correct Marks : 1 Wrong Marks : 0.25

Identify the word that is wrongly spelt.

“We must reject the politics of revenge, resistance, and retribution—and embrace the boundless potential of cooperation, compromise, and the common good,” Trump said at one point.

Options :

1. ✘ Retribution

2. ✔ Coperation

3. ✘ Compromise

4. ✘ Politics

Question Number : 151 Question Id : 402817551 Question Type : MCQ Option Shuffling : Yes

Correct Marks : 1 Wrong Marks : 0.25

Identify the word that is wrongly spelt.

“We must reject the politics of revenge, resistance, and retribution—and embrace the boundless potential of cooperation, compromise, and the common good,” Trump said at one point.

Options :

1. ✘ Retribution

2. ✔ Coperation

3. ✘ Compromise

4. ✘ Politics

Question Number : 152 Question Id : 402817552 Question Type : MCQ Option Shuffling : Yes

Correct Marks : 1 Wrong Marks : 0.25

Choose the most appropriate option to fill in the blank.

They were _____ unaware that a bitter war was being waged just miles away from their hotel.

Options :

1. ✘ not

2. ✔ blissfully

3. ✘ little

4. ✘ quiet

Question Number : 152 Question Id : 402817552 Question Type : MCQ Option Shuffling : Yes

Correct Marks : 1 Wrong Marks : 0.25

Choose the most appropriate option to fill in the blank.

They were _____ unaware that a bitter war was being waged just miles away from their hotel.

Options :

1. ✘ not

2. ✔ blissfully

3. ✘ little

4. ✘ quiet

Question Number : 153 Question Id : 402817553 Question Type : MCQ Option Shuffling : Yes

Correct Marks : 1 Wrong Marks : 0.25

Select the most appropriate synonym of the given word.

VAGRANT

Options :

1. ✘ Aimless

2. ✔ Nomad

3. ✘ Winner

4. ✘ Settled

Question Number : 153 Question Id : 402817553 Question Type : MCQ Option Shuffling : Yes

Correct Marks : 1 Wrong Marks : 0.25

Select the most appropriate synonym of the given word.

VAGRANT

Options :

1. ✘ Aimless

2. ✔ Nomad

3. ✘ Winner

4. ✘ Settled

Question Number : 154 Question Id : 402817554 Question Type : MCQ Option Shuffling : Yes

Correct Marks : 1 Wrong Marks : 0.25

Choose the most appropriate option to fill up the blank.

The Kashmiri _____ spread out on the living room floor had all the colours of the rainbow.

Options :

1. ✓ carpet

2. ✗ boy

3. ✗ terrorist

4. ✗ border

Question Number : 154 Question Id : 402817554 Question Type : MCQ Option Shuffling : Yes

Correct Marks : 1 Wrong Marks : 0.25

Choose the most appropriate option to fill up the blank.

The Kashmiri _____ spread out on the living room floor had all the colours of the rainbow.

Options :

1. ✓ carpet

2. ✗ boy

3. ✗ terrorist

4. ✗ border

Question Number : 155 Question Id : 402817555 Question Type : MCQ Option Shuffling : Yes

Correct Marks : 1 Wrong Marks : 0.25

Select the most appropriate ANTONYM of the given word.

SECRET

Options :

1. ✘ Hidden

2. ✘ Story

3. ✔ Open

4. ✘ Huddle

Question Number : 155 Question Id : 402817555 Question Type : MCQ Option Shuffling : Yes
Correct Marks : 1 Wrong Marks : 0.25

Select the most appropriate ANTONYM of the given word.

SECRET

Options :

1. ✘ Hidden

2. ✘ Story

3. ✔ Open

4. ✘ Huddle

Question Number : 156 Question Id : 402817556 Question Type : MCQ Option Shuffling : Yes
Correct Marks : 1 Wrong Marks : 0.25

Select the most appropriate option to fill in the blank.

No sooner had we heard the noise _____.

Options :

1. ✘ so we rushed to the spot

2. ✔ than we rushed to the spot

3. ✘ when we rushed to the spot

4. ✘ and we rushed to the spot

Question Number : 156 Question Id : 402817556 Question Type : MCQ Option Shuffling : Yes

Correct Marks : 1 Wrong Marks : 0.25

Select the most appropriate option to fill in the blank.

No sooner had we heard the noise _____.

Options :

1. ✘ so we rushed to the spot

2. ✔ than we rushed to the spot

3. ✘ when we rushed to the spot

4. ✘ and we rushed to the spot

Question Number : 157 Question Id : 402817557 Question Type : MCQ Option Shuffling : Yes

Correct Marks : 1 Wrong Marks : 0.25

Select the most appropriate option to fill in the blank.

Scarcely had I reached the station _____.

Options :

1. ✘ than the train arrived
2. ✘ therefore the train arrived
3. ✔ when the train arrived
4. ✘ and the train arrived

Question Number : 157 Question Id : 402817557 Question Type : MCQ Option Shuffling : Yes
Correct Marks : 1 Wrong Marks : 0.25

Select the most appropriate option to fill in the blank.

Scarcely had I reached the station _____.

Options :

1. ✘ than the train arrived
2. ✘ therefore the train arrived
3. ✔ when the train arrived
4. ✘ and the train arrived

Question Number : 158 Question Id : 402817558 Question Type : MCQ Option Shuffling : Yes
Correct Marks : 1 Wrong Marks : 0.25

Select the most appropriate preposition to fill in the blank.

Heavy snowfalls brought chaos to parts of Germany and Sweden _____ Friday, leaving roads blocked, trains halted and schools shut.

Options :

1. ✘ into

2. ✘ in

3. ✔ on

4. ✘ from

Question Number : 158 Question Id : 402817558 Question Type : MCQ Option Shuffling : Yes

Correct Marks : 1 Wrong Marks : 0.25

Select the most appropriate preposition to fill in the blank.

Heavy snowfalls brought chaos to parts of Germany and Sweden _____ Friday, leaving roads blocked, trains halted and schools shut.

Options :

1. ✘ into

2. ✘ in

3. ✔ on

4. ✘ from

Question Number : 159 Question Id : 402817559 Question Type : MCQ Option Shuffling : Yes

Correct Marks : 1 Wrong Marks : 0.25

Select the most appropriate prepositions to fill in the blanks.

Every Christmas Eve, hundreds of people _____ all over the world gather outside the octagonal-shaped chapel _____ Oberndorf, Austria, to sing Christmas carols.

Options :

1. ✘ in; from

2. ✘ from; on

3. ✘ in; before

4. ✔ from; in

Question Number : 159 Question Id : 402817559 Question Type : MCQ Option Shuffling : Yes

Correct Marks : 1 Wrong Marks : 0.25

Select the most appropriate prepositions to fill in the blanks.

Every Christmas Eve, hundreds of people _____ all over the world gather outside the octagonal-shaped chapel _____ Oberndorf, Austria, to sing Christmas carols.

Options :

1. ✘ in; from

2. ✘ from; on

3. ✘ in; before

4. ✔ from; in

Question Number : 160 Question Id : 402817560 Question Type : MCQ Option Shuffling : Yes

Correct Marks : 1 Wrong Marks : 0.25

Select the most appropriate dependent clause to fill in the blank.

_____, she started working on the next.

Options :

1. ✘ When she finishes one project
2. ✘ No sooner did she finished one project
3. ✘ Hardly she finished one project
4. ✔ As soon as she finished one project

Question Number : 160 Question Id : 402817560 Question Type : MCQ Option Shuffling : Yes
Correct Marks : 1 Wrong Marks : 0.25

Select the most appropriate dependent clause to fill in the blank.

_____, she started working on the next.

Options :

1. ✘ When she finishes one project
2. ✘ No sooner did she finished one project
3. ✘ Hardly she finished one project
4. ✔ As soon as she finished one project

Group Number :	9
Group Id :	40281713
Group Maximum Duration :	0
Group Minimum Duration :	0
Show Attended Group? :	No
Edit Attended Group? :	No
Break time:	0
Group Marks:	20
Is this Group for Examiner?:	No
Revisit allowed for group Instructions? :	Yes
Maximum Instruction Time:	0
Minimum Instruction Time:	0

General Hindi1

Section Id :	40281729
Section Number :	1
Section type :	Online
Mandatory or Optional:	Mandatory
Number of Questions:	20
Number of Questions to be attempted:	20
Section Marks:	20

Sub-Section Number:	1
Sub-Section Id:	40281729
Question Shuffling Allowed :	Yes

Question Number : 161 Question Id : 402817561 Question Type : MCQ Option Shuffling : Yes
Correct Marks : 1 Wrong Marks : 0.25

निम्न में से कौन सा शब्द तद्भव है?

Options :

1. ✘ पंक्ति

2. ✘ पत्रिका

3. ✔ पाँव

4. ✘ पर्ण

Question Number : 161 Question Id : 402817561 Question Type : MCQ Option Shuffling : Yes
Correct Marks : 1 Wrong Marks : 0.25

निम्न में से कौन सा शब्द तद्भव है?

Options :

1. ✘ पंक्ति

2. ✘ पत्रिका

3. ✔ पाँव

4. ✘ पर्ण

Question Number : 162 Question Id : 402817562 Question Type : MCQ Option Shuffling : Yes

Correct Marks : 1 Wrong Marks : 0.25

निम्न में से कौन सा शब्द तद्भव नहीं है?

Options :

1. ✘ पानी

2. ✘ पापड़

3. ✘ पास

4. ✔ पाषाण

Question Number : 162 Question Id : 402817562 Question Type : MCQ Option Shuffling : Yes

Correct Marks : 1 Wrong Marks : 0.25

निम्न में से कौन सा शब्द तद्भव नहीं है?

Options :

1. ✘ पानी

2. ✖ पापड़

3. ✖ पास

4. ✔ पाषाण

Question Number : 163 Question Id : 402817563 Question Type : MCQ Option Shuffling : Yes
Correct Marks : 1 Wrong Marks : 0.25

निम्न में से कौन सा शब्द तत्सम है?

Options :

1. ✖ पिटारा

2. ✔ पृष्ठ

3. ✖ पीपल

4. ✖ पुजारी

Question Number : 163 Question Id : 402817563 Question Type : MCQ Option Shuffling : Yes
Correct Marks : 1 Wrong Marks : 0.25

निम्न में से कौन सा शब्द तत्सम है?

Options :

1. ✖ पिटारा

2. ✔ पृष्ठ

3. ✖ पीपल

4. ✖ पुजारी

Question Number : 164 Question Id : 402817564 Question Type : MCQ Option Shuffling : Yes
Correct Marks : 1 Wrong Marks : 0.25

निम्न में से कौन सा शब्द तत्सम नहीं है?

Options :

1. ✔ पुराना

2. ✖ पूरक

3. ✖ पुष्कर

4. ✖ पुस्तिका

Question Number : 164 Question Id : 402817564 Question Type : MCQ Option Shuffling : Yes
Correct Marks : 1 Wrong Marks : 0.25

निम्न में से कौन सा शब्द तत्सम नहीं है?

Options :

1. ✔ पुराना

2. ✖ पूरक

3. ✖ पुष्कर

4. ✖ पुस्तिका

Question Number : 165 Question Id : 402817565 Question Type : MCQ Option Shuffling : Yes

Correct Marks : 1 Wrong Marks : 0.25

निम्न में से कौन सा शब्द अर्द्धतत्सम है?

Options :

1. ✖ अक्षर

2. ✔ अच्छर

3. ✖ आखर

4. ✖ अक्ख

Question Number : 165 Question Id : 402817565 Question Type : MCQ Option Shuffling : Yes

Correct Marks : 1 Wrong Marks : 0.25

निम्न में से कौन सा शब्द अर्द्धतत्सम है?

Options :

1. ✖ अक्षर

2. ✔ अच्छर

3. ✖ आखर

4. ✖ अक्ख

Question Number : 166 Question Id : 402817566 Question Type : MCQ Option Shuffling : Yes

Correct Marks : 1 Wrong Marks : 0.25

निम्न में से कौन सा शब्द देशज है?

Options :

1. ✓ चिड़िया

2. ✗ वचन

3. ✗ पुष्प

4. ✗ अग्नि

Question Number : 166 Question Id : 402817566 Question Type : MCQ Option Shuffling : Yes

Correct Marks : 1 Wrong Marks : 0.25

निम्न में से कौन सा शब्द देशज है?

Options :

1. ✓ चिड़िया

2. ✗ वचन

3. ✗ पुष्प

4. ✗ अग्नि

Question Number : 167 Question Id : 402817567 Question Type : MCQ Option Shuffling : Yes

Correct Marks : 1 Wrong Marks : 0.25

निम्न में से कौन सा शब्द विदेशी है?

Options :

1. ✖ आम

2. ✖ ऊँट

3. ✔ बाल्टी

4. ✖ खप्पर

Question Number : 167 Question Id : 402817567 Question Type : MCQ Option Shuffling : Yes
Correct Marks : 1 Wrong Marks : 0.25

निम्न में से कौन सा शब्द विदेशी है?

Options :

1. ✖ आम

2. ✖ ऊँट

3. ✔ बाल्टी

4. ✖ खप्पर

Question Number : 168 Question Id : 402817568 Question Type : MCQ Option Shuffling : Yes
Correct Marks : 1 Wrong Marks : 0.25

निम्न में से कौन सा शब्द विदेशी नहीं है?

Options :

1. ✖ अक्ल

2. ✖ चश्मा

3. ✖ कैची

4. ✔ पगड़ी

Question Number : 168 Question Id : 402817568 Question Type : MCQ Option Shuffling : Yes

Correct Marks : 1 Wrong Marks : 0.25

निम्न में से कौन सा शब्द विदेशी नहीं है?

Options :

1. ✖ अक्ल

2. ✖ चश्मा

3. ✖ कैची

4. ✔ पगड़ी

Question Number : 169 Question Id : 402817569 Question Type : MCQ Option Shuffling : Yes

Correct Marks : 1 Wrong Marks : 0.25

‘सज्जन’ का संधि विच्छेद होगा:

Options :

1. ✔ सत् + जन

2. ✖ सत + जन

3. ✖ सज् + जन

4. ✖ सज + जन

Question Number : 169 Question Id : 402817569 Question Type : MCQ Option Shuffling : Yes
Correct Marks : 1 Wrong Marks : 0.25

‘सज्जन’ का संधि विच्छेद होगा:

Options :

1. ✔ सत् + जन

2. ✖ सत + जन

3. ✖ सज् + जन

4. ✖ सज + जन

Question Number : 170 Question Id : 402817570 Question Type : MCQ Option Shuffling : Yes
Correct Marks : 1 Wrong Marks : 0.25

‘बंदरगाह’ में कौन सा समास है?

Options :

1. ✖ अव्ययी भाव

2. ✔ तत्पुरुष

3. ✖ द्वंद्व

4. ✖ द्विगु

Question Number : 170 Question Id : 402817570 Question Type : MCQ Option Shuffling : Yes

Correct Marks : 1 Wrong Marks : 0.25

‘बंदरगाह’ में कौन सा समास है?

Options :

1. ✖ अव्ययी भाव

2. ✔ तत्पुरुष

3. ✖ द्वंद्व

4. ✖ द्विगु

Question Number : 171 Question Id : 402817571 Question Type : MCQ Option Shuffling : Yes

Correct Marks : 1 Wrong Marks : 0.25

‘चतुराई’ किस प्रकार की संज्ञा है?

Options :

1. ✖ व्यक्तिवाचक

2. ✖ जातिवाचक

3. ✖ पदार्थवाचक

4. ✔ भाववाचक

Question Number : 171 Question Id : 402817571 Question Type : MCQ Option Shuffling : Yes

Correct Marks : 1 Wrong Marks : 0.25

‘चतुराई’ किस प्रकार की संज्ञा है?

Options :

1. ✘ व्यक्तिवाचक

2. ✘ जातिवाचक

3. ✘ पदार्थवाचक

4. ✔ भाववाचक

Question Number : 172 Question Id : 402817572 Question Type : MCQ Option Shuffling : Yes

Correct Marks : 1 Wrong Marks : 0.25

‘नुकीला’ किस प्रकार का विशेषण है?

Options :

1. ✘ सार्वनामिक

2. ✘ परिमाण बोधक

3. ✔ गुणवाचक

4. ✘ संख्यावाचक

Question Number : 172 Question Id : 402817572 Question Type : MCQ Option Shuffling : Yes

Correct Marks : 1 Wrong Marks : 0.25

‘नुकीला’ किस प्रकार का विशेषण है?

Options :

1. ✖ सार्वनामिक

2. ✖ परिमाण बोधक

3. ✔ गुणवाचक

4. ✖ संख्यावाचक

Question Number : 173 Question Id : 402817573 Question Type : MCQ Option Shuffling : Yes

Correct Marks : 1 Wrong Marks : 0.25

निम्न में से प्रेरणार्थक क्रिया कौन सी है?

Options :

1. ✔ पढ़ाना

2. ✖ सुनना

3. ✖ जीना

4. ✖ धोना

Question Number : 173 Question Id : 402817573 Question Type : MCQ Option Shuffling : Yes

Correct Marks : 1 Wrong Marks : 0.25

निम्न में से प्रेरणार्थक क्रिया कौन सी है?

Options :

1. ✔ पढ़ाना

2. ✖ सुनना

3. ✖ जीना

4. ✖ धोना

Question Number : 174 Question Id : 402817574 Question Type : MCQ Option Shuffling : Yes
Correct Marks : 1 Wrong Marks : 0.25

‘यह’ क्या है?

Options :

1. ✖ संज्ञा

2. ✖ विशेषण

3. ✔ सर्वनाम

4. ✖ अव्यय

Question Number : 174 Question Id : 402817574 Question Type : MCQ Option Shuffling : Yes
Correct Marks : 1 Wrong Marks : 0.25

‘यह’ क्या है?

Options :

1. ✖ संज्ञा

2. ✖ विशेषण

3. ✓ सर्वनाम

4. ✗ अव्यय

Question Number : 175 Question Id : 402817575 Question Type : MCQ Option Shuffling : Yes
Correct Marks : 1 Wrong Marks : 0.25

‘उपनिवेश’ में किस उपसर्ग का प्रयोग हुआ है?

Options :

1. ✗ उ

2. ✓ उप

3. ✗ वेश

4. ✗ निवेश

Question Number : 175 Question Id : 402817575 Question Type : MCQ Option Shuffling : Yes
Correct Marks : 1 Wrong Marks : 0.25

‘उपनिवेश’ में किस उपसर्ग का प्रयोग हुआ है?

Options :

1. ✗ उ

2. ✓ उप

3. ✗ वेश

4. ✖ निवेश

Question Number : 176 Question Id : 402817576 Question Type : MCQ Option Shuffling : Yes
Correct Marks : 1 Wrong Marks : 0.25

‘खिलाड़ी’ में किस प्रत्यय का प्रयोग हुआ है?

Options :

1. ✖ खि

2. ✖ ई

3. ✖ डी

4. ✔ आड़ी

Question Number : 176 Question Id : 402817576 Question Type : MCQ Option Shuffling : Yes
Correct Marks : 1 Wrong Marks : 0.25

‘खिलाड़ी’ में किस प्रत्यय का प्रयोग हुआ है?

Options :

1. ✖ खि

2. ✖ ई

3. ✖ डी

4. ✔ आड़ी

Question Number : 177 Question Id : 402817577 Question Type : MCQ Option Shuffling : Yes
Correct Marks : 1 Wrong Marks : 0.25

‘लोचन’ किसका पर्यायवाची है?

Options :

1. ✘ इन्द्र

2. ✔ आँख

3. ✘ सोना

4. ✘ कपड़ा

Question Number : 177 Question Id : 402817577 Question Type : MCQ Option Shuffling : Yes
Correct Marks : 1 Wrong Marks : 0.25

‘लोचन’ किसका पर्यायवाची है?

Options :

1. ✘ इन्द्र

2. ✔ आँख

3. ✘ सोना

4. ✘ कपड़ा

Question Number : 178 Question Id : 402817578 Question Type : MCQ Option Shuffling : Yes
Correct Marks : 1 Wrong Marks : 0.25

निम्नलिखित में से कौन सा शब्द ‘आकाश’ का पर्यायवाची है?

Options :

1. ✘ पुरन्दर

2. ✘ वसन

3. ✔ व्योम

4. ✘ नलिन

Question Number : 178 Question Id : 402817578 Question Type : MCQ Option Shuffling : Yes
Correct Marks : 1 Wrong Marks : 0.25

निम्नलिखित में से कौन सा शब्द 'आकाश' का पर्यायवाची है?

Options :

1. ✘ पुरन्दर

2. ✘ वसन

3. ✔ व्योम

4. ✘ नलिन

Question Number : 179 Question Id : 402817579 Question Type : MCQ Option Shuffling : Yes
Correct Marks : 1 Wrong Marks : 0.25

निम्नलिखित में से कौन सा शब्द 'किरण' का पर्यायवाची नहीं है?

Options :

1. ✔ दामिनी

2. ✖ अंशु

3. ✖ रश्मि

4. ✖ प्रभा

Question Number : 179 Question Id : 402817579 Question Type : MCQ Option Shuffling : Yes
Correct Marks : 1 Wrong Marks : 0.25

निम्नलिखित में से कौन सा शब्द 'किरण' का पर्यायवाची नहीं है?

Options :

1. ✔ दामिनी

2. ✖ अंशु

3. ✖ रश्मि

4. ✖ प्रभा

Question Number : 180 Question Id : 402817580 Question Type : MCQ Option Shuffling : Yes
Correct Marks : 1 Wrong Marks : 0.25

'निलय' किसका पर्यायवाची है?

Options :

1. ✖ अग्नि

2. ✖ कमल

3. ✘ जल

4. ✔ घर

Question Number : 180 Question Id : 402817580 Question Type : MCQ Option Shuffling : Yes
Correct Marks : 1 Wrong Marks : 0.25

‘निलय’ किसका पर्यायवाची है?

Options :

1. ✘ अग्नि

2. ✘ कमल

3. ✘ जल

4. ✔ घर

General Hindi2

Group Number :	10
Group Id :	40281714
Group Maximum Duration :	0
Group Minimum Duration :	120
Show Attended Group? :	No
Edit Attended Group? :	No
Break time:	0
Group Marks:	20
Is this Group for Examiner?:	No
Revisit allowed for group Instructions? :	Yes
Maximum Instruction Time:	0
Minimum Instruction Time:	0

General Hindi2

Section Id :	40281730
Section Number :	1
Section type :	Online
Mandatory or Optional:	Mandatory
Number of Questions:	20
Number of Questions to be attempted:	20
Section Marks:	20

Sub-Section Number:	1
Sub-Section Id:	40281730
Question Shuffling Allowed :	Yes

Question Number : 181 Question Id : 402817581 Question Type : MCQ Option Shuffling : Yes
Correct Marks : 1 Wrong Marks : 0.25

निम्नलिखित में से कौन सा शब्द 'नदी' का पर्यायवाची है?

Options :

1. ✘ तरिणी

2. ✘ वनिता

3. ✔ सरिता

4. ✘ चपला

Question Number : 181 Question Id : 402817581 Question Type : MCQ Option Shuffling : Yes
Correct Marks : 1 Wrong Marks : 0.25

निम्नलिखित में से कौन सा शब्द 'नदी' का पर्यायवाची है?

Options :

1. ✘ तरिणी

2. ✘ वनिता

3. ✓ सरिता

4. ✗ चपला

Question Number : 182 Question Id : 402817582 Question Type : MCQ Option Shuffling : Yes
Correct Marks : 1 Wrong Marks : 0.25

निम्नलिखित में से कौन सा शब्द 'अल्पज्ञ' का सही विलोम है?

Options :

1. ✗ सर्वज्ञ

2. ✓ बहुज्ञ

3. ✗ अज्ञ

4. ✗ भिन्न

Question Number : 182 Question Id : 402817582 Question Type : MCQ Option Shuffling : Yes
Correct Marks : 1 Wrong Marks : 0.25

निम्नलिखित में से कौन सा शब्द 'अल्पज्ञ' का सही विलोम है?

Options :

1. ✗ सर्वज्ञ

2. ✓ बहुज्ञ

3. ✗ अज्ञ

4. ✖ भिन्न

Question Number : 183 Question Id : 402817583 Question Type : MCQ Option Shuffling : Yes
Correct Marks : 1 Wrong Marks : 0.25

निम्नलिखित में से कौन सा शब्द 'अमृत' का विलोम है?

Options :

1. ✔ विष

2. ✖ अमर

3. ✖ उज्ज्वल

4. ✖ मलिन

Question Number : 183 Question Id : 402817583 Question Type : MCQ Option Shuffling : Yes
Correct Marks : 1 Wrong Marks : 0.25

निम्नलिखित में से कौन सा शब्द 'अमृत' का विलोम है?

Options :

1. ✔ विष

2. ✖ अमर

3. ✖ उज्ज्वल

4. ✖ मलिन

Question Number : 184 Question Id : 402817584 Question Type : MCQ Option Shuffling : Yes

Correct Marks : 1 Wrong Marks : 0.25

‘विराग’ किसका विलोम शब्द है?

Options :

1. ✘ सुहाग

2. ✘ पराग

3. ✘ विहाग

4. ✔ अनुराग

Question Number : 184 Question Id : 402817584 Question Type : MCQ Option Shuffling : Yes

Correct Marks : 1 Wrong Marks : 0.25

‘विराग’ किसका विलोम शब्द है?

Options :

1. ✘ सुहाग

2. ✘ पराग

3. ✘ विहाग

4. ✔ अनुराग

Question Number : 185 Question Id : 402817585 Question Type : MCQ Option Shuffling : Yes

Correct Marks : 1 Wrong Marks : 0.25

‘प्रतिकूल’ किसका विलोम शब्द है?

Options :

1. ✖ समर्थन

2. ✔ अनुकूल

3. ✖ दुकूल

4. ✖ समकूल

Question Number : 185 Question Id : 402817585 Question Type : MCQ Option Shuffling : Yes
Correct Marks : 1 Wrong Marks : 0.25

‘प्रतिकूल’ किसका विलोम शब्द है?

Options :

1. ✖ समर्थन

2. ✔ अनुकूल

3. ✖ दुकूल

4. ✖ समकूल

Question Number : 186 Question Id : 402817586 Question Type : MCQ Option Shuffling : Yes
Correct Marks : 1 Wrong Marks : 0.25

वाक्य में प्रयुक्त पदों या शब्दों की विधिवत स्थापना को क्या कहते हैं?

Options :

1. ✖ आकांछा

2. ✖ योग्यता

3. ✔ क्रम

4. ✖ पदबन्ध

Question Number : 186 Question Id : 402817586 Question Type : MCQ Option Shuffling : Yes
Correct Marks : 1 Wrong Marks : 0.25

वाक्य में प्रयुक्त पदों या शब्दों की विधिवत स्थापना को क्या कहते हैं?

Options :

1. ✖ आकांक्षा

2. ✖ योग्यता

3. ✔ क्रम

4. ✖ पदबन्ध

Question Number : 187 Question Id : 402817587 Question Type : MCQ Option Shuffling : Yes
Correct Marks : 1 Wrong Marks : 0.25

‘चाँद से भी प्यारा’ किस पदबंध का उदाहरण है?

Options :

1. ✖ संज्ञा पदबन्ध

2. ✖ सर्वनाम पदबन्ध

3. ✖ क्रिया पदबन्ध

4. ✔ विशेषण पदबन्ध

Question Number : 187 Question Id : 402817587 Question Type : MCQ Option Shuffling : Yes
Correct Marks : 1 Wrong Marks : 0.25

‘चाँद से भी प्यारा’ किस पदबंध का उदाहरण है?

Options :

1. ✖ संज्ञा पदबन्ध

2. ✖ सर्वनाम पदबन्ध

3. ✖ क्रिया पदबन्ध

4. ✔ विशेषण पदबन्ध

Question Number : 188 Question Id : 402817588 Question Type : MCQ Option Shuffling : Yes
Correct Marks : 1 Wrong Marks : 0.25

‘मैं नहीं जानता कि वह कहाँ है’ वाक्य में ‘वह कहाँ है’ किस प्रकार का उपवाक्य है?

Options :

1. ✔ संज्ञा उपवाक्य

2. ✖ विशेषण उपवाक्य

3. ✖ क्रिया उपवाक्य

4. ✖ क्रिया विशेषण उपवाक्य

Question Number : 188 Question Id : 402817588 Question Type : MCQ Option Shuffling : Yes

Correct Marks : 1 Wrong Marks : 0.25

‘मैं नहीं जानता कि वह कहाँ है’ वाक्य में ‘वह कहाँ है’ किस प्रकार का उपवाक्य है?

Options :

1. ✔ संज्ञा उपवाक्य

2. ✖ विशेषण उपवाक्य

3. ✖ क्रिया उपवाक्य

4. ✖ क्रिया विशेषण उपवाक्य

Question Number : 189 Question Id : 402817589 Question Type : MCQ Option Shuffling : Yes

Correct Marks : 1 Wrong Marks : 0.25

अर्थ के अनुसार वाक्य कितने प्रकार का होता है?

Options :

1. ✖ 2

2. ✖ 4

3. ✖ 6

4. ✔ 8

Question Number : 189 Question Id : 402817589 Question Type : MCQ Option Shuffling : Yes

Correct Marks : 1 Wrong Marks : 0.25

अर्थ के अनुसार वाक्य कितने प्रकार का होता है?

Options :

1. ✖ 2

2. ✖ 4

3. ✖ 6

4. ✔ 8

Question Number : 190 Question Id : 402817590 Question Type : MCQ Option Shuffling : Yes
Correct Marks : 1 Wrong Marks : 0.25

‘पानी बरसा।’ किस प्रकार का वाक्य है?

Options :

1. ✖ उपवाक्य

2. ✔ सरल वाक्य

3. ✖ मिश्र वाक्य

4. ✖ संयुक्त वाक्य

Question Number : 190 Question Id : 402817590 Question Type : MCQ Option Shuffling : Yes
Correct Marks : 1 Wrong Marks : 0.25

‘पानी बरसा।’ किस प्रकार का वाक्य है?

Options :

1. ✘ उपवाक्य
2. ✔ सरल वाक्य
3. ✘ मिश्र वाक्य
4. ✘ संयुक्त वाक्य

Question Number : 191 Question Id : 402817591 Question Type : MCQ Option Shuffling : Yes
Correct Marks : 1 Wrong Marks : 0.25

‘मैंने कहा होगा।’ किस प्रकार का वाक्य है?

Options :

1. ✔ संदेहवाचक
2. ✘ इच्छावाचक
3. ✘ प्रश्नवाचक
4. ✘ विस्मयवाचक

Question Number : 191 Question Id : 402817591 Question Type : MCQ Option Shuffling : Yes
Correct Marks : 1 Wrong Marks : 0.25

‘मैंने कहा होगा।’ किस प्रकार का वाक्य है?

Options :

1. ✔ संदेहवाचक

2. ✖ इच्छावाचक

3. ✖ प्रश्नवाचक

4. ✖ विस्मयवाचक

Question Number : 192 Question Id : 402817592 Question Type : MCQ Option Shuffling : Yes

Correct Marks : 1 Wrong Marks : 0.25

पदक्रम की दृष्टि से कौन सा वाक्य शुद्ध है?

Options :

1. ✖ मोहन ने किया भोजन ।

2. ✖ भोजन किया मोहन ने ।

3. ✔ मोहन ने भोजन किया ।

4. ✖ भोजन मोहन ने किया ।

Question Number : 192 Question Id : 402817592 Question Type : MCQ Option Shuffling : Yes

Correct Marks : 1 Wrong Marks : 0.25

पदक्रम की दृष्टि से कौन सा वाक्य शुद्ध है?

Options :

1. ✖ मोहन ने किया भोजन ।

2. ✖ भोजन किया मोहन ने ।

3. ✓ मोहन ने भोजन किया ।

4. ✘ भोजन मोहन ने किया ।

Question Number : 193 Question Id : 402817593 Question Type : MCQ Option Shuffling : Yes

Correct Marks : 1 Wrong Marks : 0.25

अन्वय की दृष्टि से कौन सा वाक्य शुद्ध है?

Options :

1. ✘ नर – नारी गयी।

2. ✘ नर – नारी गयीं।

3. ✘ नर – नारी गया।

4. ✓ नर – नारी गये।

Question Number : 193 Question Id : 402817593 Question Type : MCQ Option Shuffling : Yes

Correct Marks : 1 Wrong Marks : 0.25

अन्वय की दृष्टि से कौन सा वाक्य शुद्ध है?

Options :

1. ✘ नर - नारी गयी।

2. ✘ नर - नारी गयीं।

3. ✘ नर - नारी गया।

4. ✓ नर - नारी गये।

Question Number : 194 Question Id : 402817594 Question Type : MCQ Option Shuffling : Yes
Correct Marks : 1 Wrong Marks : 0.25

निम्न में से किस शब्द की वर्तनी शुद्ध है?

Options :

1. ✘ श्रीमति

2. ✘ शारिरिक

3. ✓ हितैषी

4. ✘ हासील

Question Number : 194 Question Id : 402817594 Question Type : MCQ Option Shuffling : Yes
Correct Marks : 1 Wrong Marks : 0.25

निम्न में से किस शब्द की वर्तनी शुद्ध है?

Options :

1. ✘ श्रीमति

2. ✘ शारिरिक

3. ✓ हितैषी

4. ✘ हासील

Question Number : 195 Question Id : 402817595 Question Type : MCQ Option Shuffling : Yes

Correct Marks : 1 Wrong Marks : 0.25

निम्न में से किस शब्द की वर्तनी अशुद्ध है?

Options :

1. ✖ आवश्यक

2. ✔ सप्ताहिक

3. ✖ दायित्व

4. ✖ उत्कर्ष

Question Number : 195 Question Id : 402817595 Question Type : MCQ Option Shuffling : Yes

Correct Marks : 1 Wrong Marks : 0.25

निम्न में से किस शब्द की वर्तनी अशुद्ध है?

Options :

1. ✖ आवश्यक

2. ✔ सप्ताहिक

3. ✖ दायित्व

4. ✖ उत्कर्ष

Question Number : 196 Question Id : 402817596 Question Type : MCQ Option Shuffling : Yes

Correct Marks : 1 Wrong Marks : 0.25

निम्न में से किस शब्द का प्रयोग स्त्रीलिंग में होता है?

Options :

1. ✓ तबीयत

2. ✘ तकिया

3. ✘ तनाव

4. ✘ तराजू

Question Number : 196 Question Id : 402817596 Question Type : MCQ Option Shuffling : Yes
Correct Marks : 1 Wrong Marks : 0.25

निम्न में से किस शब्द का प्रयोग स्त्रीलिंग में होता है?

Options :

1. ✓ तबीयत

2. ✘ तकिया

3. ✘ तनाव

4. ✘ तराजू

Question Number : 197 Question Id : 402817597 Question Type : MCQ Option Shuffling : Yes
Correct Marks : 1 Wrong Marks : 0.25

निम्न में से किस शब्द का प्रयोग पुल्लिंग में होता है?

Options :

1. ✘ दरार

2. ✓ दमन

3. ✘ दस्तक

4. ✘ दुनिया

Question Number : 197 Question Id : 402817597 Question Type : MCQ Option Shuffling : Yes

Correct Marks : 1 Wrong Marks : 0.25

निम्न में से किस शब्द का प्रयोग पुलिंग में होता है?

Options :

1. ✘ दरार

2. ✓ दमन

3. ✘ दस्तक

4. ✘ दुनिया

Question Number : 198 Question Id : 402817598 Question Type : MCQ Option Shuffling : Yes

Correct Marks : 1 Wrong Marks : 0.25

‘अवयव-अव्यय’ शब्द युग्म का सही अर्थ क्या है?

Options :

1. ✘ शरीर – अविकारी शब्द

2. ✘ अविकारी शब्द – अंग

3. ✓ अंग – अविकारी शब्द

4. ✘ पदार्थ – अपव्यय

Question Number : 198 Question Id : 402817598 Question Type : MCQ Option Shuffling : Yes
Correct Marks : 1 Wrong Marks : 0.25

‘अवयव-अव्यय’ शब्द युग्म का सही अर्थ क्या है?

Options :

1. ✘ शरीर - अविकारी शब्द

2. ✘ अविकारी शब्द - अंग

3. ✓ अंग - अविकारी शब्द

4. ✘ पदार्थ - अपव्यय

Question Number : 199 Question Id : 402817599 Question Type : MCQ Option Shuffling : Yes
Correct Marks : 1 Wrong Marks : 0.25

‘जो निगाह से परे हो’ अर्थ के लिए सही शब्द क्या होगा?

Options :

1. ✓ परोक्ष

2. ✘ प्रत्यक्ष

3. ✘ अदृश्य

4. ✖ उपेक्षित

Question Number : 199 Question Id : 402817599 Question Type : MCQ Option Shuffling : Yes
Correct Marks : 1 Wrong Marks : 0.25

‘जो निगाह से परे हो’ अर्थ के लिए सही शब्द क्या होगा?

Options :

1. ✔ परोक्ष

2. ✖ प्रत्यक्ष

3. ✖ अदृश्य

4. ✖ उपेक्षित

Question Number : 200 Question Id : 402817600 Question Type : MCQ Option Shuffling : Yes
Correct Marks : 1 Wrong Marks : 0.25

‘आग में कूदना’ मुहावरे का सही प्रयोग किस अर्थ में होता है?

Options :

1. ✖ मूर्ख होना

2. ✖ आत्महत्या करना

3. ✖ साहसी होना

4. ✔ जान जोखिम में डालना

Question Number : 200 Question Id : 402817600 Question Type : MCQ Option Shuffling : Yes

Correct Marks : 1 Wrong Marks : 0.25

'आग में कूदना' मुहावरे का सही प्रयोग किस अर्थ में होता है?

Options :

1. ✘ मूर्ख होना

2. ✘ आत्महत्या करना

3. ✘ साहसी होना

4. ✔ जान जोखिम में डालना